

TÜRKÇE TESTİ

SORU- 1

Aşağıdaki kelime çiftlerinden hangisi, aralarındaki anlam ilişkisi bakımından diğerlerinden farklıdır?

- A) Açık - kapalı B) Ağır - hafif
C) Güzel - iyi D) Taze - bayat

SORU- 2

“Kestirmek” kelimesi, aşağıdaki cümlelerin hangisinde diğerlerinden farklı bir anlamda kullanılmıştır?

- A) Okul açılmadan saçlarımı kestirdim.
B) Kurbanlık koyunu kasaba kestirdim.
C) Odunları kısa kısa kestirdim.
D) Yemekten sonra biraz kestirdim.

SORU- 3

Aşağıdaki cümlelerin hangisinde mecazlı bir anlatım vardır?

- A) Yeni kravatu da elbisesine uyum sağlamıştı.
B) Bu araba yıllardır onun ekmek teknesiydi.
C) Kitap elimde uyuyakalmıştım.
D) Bu yol yıllardır toz toprak ile kaplıydı.

SORU- 4

Ana dilim, güzel dilim,
Atamın anamın dili
Dünyada çok şeyler öğrendim
Senin sayende.
İlk önce bu dilde annem
Beşiğimi salladı,
Sonra geceler boyunca
Ninem masal anlattı.

Şiirde, dil ile ilgili olarak aşağıdakilerden hangisi söylenmemiştir?

- A) Öğrenme aracı olduğu
B) Köklü bir geçmişi olduğu
C) Anlaşmayı sağladığı
D) Kolayca öğrenildiği

SORU- 5

Aşağıdakilerden hangisi beş duyumuzla algıladığımız bir varlık adı değildir?

- A) Isı B) Sevgi C) Ses D) Toz

SORU- 6

Aşağıdaki cümlelerin hangisinde yazım yanlışı vardır?

- A) 3 Ekim 1993 pazartesi günü dünyaya geldi.
B) Tatilini Uludağ'da mı geçirecekmış?
C) Vali, okul müdürleriyle bir toplantı yaptı.
D) Kardeşim, Cumhuriyet Anadolu Lisesi'nde okuyor.

SORU- 7

(1)Küçükken en tatlı eğlencem, resimli kitapların yapraklarını çevirmektir. (2)Her resimli sayfa, beni dakikalarca oyalardı. (3)Kitapların resimlerinden çok, içinde anlatılanlar hoşuma giderdi. (4)Resimle anlatılan hayatı, daha çekici bulurdum.

Hangi cümle, paragrafın anlam bütünlüğünü bozmaktadır?

- A) 1 B) 2 C) 3 D) 4

SORU- 8

Aşağıdakilerden hangisi, “Kel ölür, sırma saçlı olur; kör ölür, badem gözlü olur.” atasözünü yakın anlamdadır?

- A) Kaçan balık büyük olur.
B) Her işte bir hayır vardır.
C) Her çok, azdan olur.
D) Büyük başın derdi büyük olur.

SORU- 9

Aşağıdaki cümlelerin hangisinde kişileştirme yoktur?

- A) Kitaplar dedikodu yapmayı bilmezler.
B) Konuşmadan konuşur kitaplar.
C) Güldürseler bile gülmez kitaplar.
D) Güneş doğar kimi sayfalarında.

SORU- 10

Aşağıdakilerden hangisi soru cümlesidir?

- A) Dinlenme nedir bilmiyorum
B) Nedense bize hiç uğramıyor
C) Bize yarın erken gelecek misin
D) Bu sene de hiç mi hiç kar yağmadı

SORU- 11

Dörtlüğün hangi mısraında, ünsüz yumuşamasına uğrayan bir kelime vardır?

TÜRKÇE TESTİ

- A) Ey ana toprağı, ey Anadolu,
B) Açıldı önünde yükselme yolu.
C) Çok şükür her yanın bereket dolu,
D) Cennette bir yeşil meydan gibisin.

SORU- 12

Kimsenin zevkine karışılmaz, kedileri ille herkes sevsin demeyeceğim, ama ben, kedi sevmeyenlerle anlaşamam. "Kiminle anlaşırın ki?..." diyeceksiniz. O da yalan değil: Bu yaşa geldim, büyüğü ile de, küçüğü ile de çekişmeyi bir türlü bırakmadım.

Yazarla ilgili olarak aşağıdakilerden hangisi söylenemez?

- A) Huysuz
B) Kayıtsız
C) Geçimsiz
D) Uyumsuz

SORU- 13

Aşağıdaki cümlelerden hangisinin öznesini bulmak için, yüklemine "ne" sorusu sorulur?

- A) Kendini tutamayarak gülmeye başladı.
B) Soğuk bir kış günü Bolu'dan geldim.
C) Ahmet dayının tarlası karla kaplıydı.
D) İhtiyar, bir şey söylemeden evine gitti.

SORU- 14

"Huzur istersen, o, zahmetle birlikte gelir; sevinç istersen, o, kaygıyla birlikte bulunur." sözü ile anlatılmak istenen, aşağıdaki seçeneklerin hangisinde verilmiştir?

- A) Kaygı duymayan sevinç duyamaz.
B) Her şeyin bir bedeli vardır.
C) Zahmet çekmeyen huzura kavuşamaz.
D) Sevinç ve huzur, zahmet ve kaygıyı unutturur.

SORU- 15

Aşağıdaki cümlelerin hangisinde sebep-sonuç ilişkisi vardır?

- A) Nelerle karşılaştığını bir bir anlattı.
B) Büyüdüğümde askere gideceğim.
C) Onu son gördüğümde bir hayli şişmanlamıştı.
D) Onun bağırmasıyla hepimiz dışarı çıktık.

SORU- 16

"Uyurken üzerine güneş doğmamış." sözüyle anlatılmak istenen nedir?

- A) Gündüzleri hiç uyunmadığı

- B) Uykunun sevilmediği
C) Sabahları güneş doğmadan kalkıldığı
D) Güneşin geç doğduğu

SORU- 17

"Bir şey dikkatimi çekti () Nerede çift sürülüyorsa () orada öküzlerin ardından birkaç tane de leylek gidiyor ()"

Parçada parantezlerin bulunduğu yerlere hangi seçenekteki noktalama işaretleri konulmalıdır?

- A) (.) (,) (!)
B) (:) (,) (.)
C) (!) (;) (...)
D) (;) (,) (.)

SORU- 18

Bir yer düşünüyorum yemyeşil
Bilmem, neresinde yurdun.
Bir ev günlük güneşlik,
Çiçekler içinde memnun.

Aşağıdakilerden hangisi, şiirde sözü edilen yerin özelliği değildir?

- A) Yeşilliklerle kaplı olması
B) Çiçeklerle dolu olması
C) Açık ve aydınlık olması
D) Şairin yaşadığı yer olması

SORU- 19

Hangi cümledeki altı çizili kelime sıfat değildir?

- A) Bu kalem benim, şu senin olsun.
B) Güneşli havada gezmeyi çok severim.
C) Daldaki iri elmalardan da al.
D) Q yolculuk hepimizi yormuştu.

SORU- 20

- işler
- yapılmazsa
- olur
- zamanında
- giderek
- kalkılamaz
- altından

Yukarıdaki kelimelerle anlamlı ve kurallı bir cümle oluşturulduğunda sıralama nasıl olur?

- A) 4-2-1-7-6-3-5
B) 6-3-1-5-2-7-4
C) 5-7-6-3-1-4-2
D) 1-4-2-5-7-6-3

SORU- 21

Aşağıdaki kelimelerden hangisi çoğul eki almıştır?

- A) Sızlar
B) Güler
C) Bulutlar
D) Parlar

TÜRKÇE TESTİ

SORU- 22

Aşağıdakilerden hangisi, yüklemine göre isim cümlesidir?

- A) Dikkat edilirse trafik kazaları azalabilir.
- B) En kıymet verdiği şeyler kitaplarıydı.
- C) Azmin elinden hiçbir şey kurtulamaz.
- D) İnsan zekâsı her güçlüğü yener.

SORU- 23

“Milletler için tarih ne ise kişiler için de odur.” cümlesinde boş bırakılan yere, aşağıdakilerden hangisinin getirilmesi uygundur?

- A) eğitim B) kültür C) bilim D) hatıra

SORU- 24

Aşağıdakilerden hangisi kurallı cümledir?

- A) Babam, en çok çiçekleri severdi.
- B) Akşamüzeri ince bir duman çöktü yaylaya.
- C) Güneş iyice aydınlattı karşı dağları.
- D) Yine mi rahatsız edeceğiz Eda'yı?

SORU- 25

Aşağıdakilerden hangisi, büyük ünlü uyumu kuralına uymaz?

- A) Merdiven B) Fırçası
- C) Binaları D) Boyacı

SORU- 26

“Bazen bir mısraı değişik şekilde birçok defalar söyledikten sonra, yine de dilime takılan bir kelime yüzünden huzursuz olur, bütün yazdıklarımı yırtar atarım.” diyen bir kişi için aşağıdakilerden hangisi söylenebilir?

- A) Telâşlı B) Başarısız
- C) Bilgisiz D) Titiz

SORU- 27

Aşağıdaki deyimlerden hangisinde tamlama yoktur?

SORU- 1

Aşağıdaki taralı bölgelerden hangisi $(A \cup B) \cap C$ kümesini gösterir?

- A) El ayak çekilmek.
- B) El kesesinden sultan olmak.
- C) El üstünde tutmak.
- D) El ağızıyla çorba içmek.

SORU- 28

Aşağıdaki cümlelerin hangisinde gereksiz bir kelime vardır?

- A) Her okuyan, şiirde ayrı bir mana bulmalıdır.
- B) Okuyan, düşünen insanın ufku geniş olur.
- C) Her mevsimin kendine özgü iyi ve güzel yönleri vardır.
- D) Kardeşim, nihayet sonunda gerçeği anladı.

SORU- 29

Aşağıdaki cümlelerin hangisinde deyim yoktur?

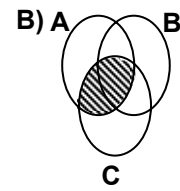
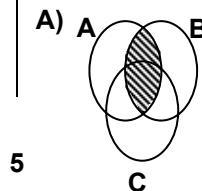
- A) Yarışmalardaki başarısıyla göğsümüzü kabarttı.
- B) Çocuğun badem gibi iri gözleri vardı.
- C) Sen her zaman ipe un serersin.
- D) Sözlerin yüreğime su serpti.

SORU- 30

Aşağıdaki kelimelerden hangisi, sözlükteki gibi sıralandığında en sonda yer alır?

- A) Saygılı B) Saygın C) Saygıdan D) Saygısız

TÜRKÇE TESTİ BİTTİ.
MATEMATİK TESTİNE GEÇİNİZ.



MATEMATİK TESTİ

C) D)

SORU-2

Alt küme sayısı 16 olan kümenin eleman sayısı kaçtır?

A) 1 B) 2 C) 3 D) 4

SORU-3

Bir yükü, 6 kişi eşit miktarlarda taşıyacaktı. 2 kişi gelmeyince diğerleri 15'er kg fazla yük taşıdığına göre, yükün tamamı kaç kg dır?

A) 90 B) 120 C) 180 D) 240

SORU-4

İki basamaklı ve basamaklarındaki rakamları aynı olan, tek doğal sayıların toplamı ile çift doğal sayıların toplamı arasındaki fark kaçtır?

A) 35 B) 45 C) 55 D) 65

SORU-5

$$\begin{array}{r} a \quad | \quad 13 \\ - \quad | \quad b \\ \hline 8 \end{array}$$

Verilen bölme işleminde, a ve b doğal sayılardır. Bölüneni değiştirmemek şartıyla, a ya en az kaç eklenirse bölüm (b+1) olur?

A) 3 B) 5 C) 18 D) 21

SORU-6

Amcam, annem ve babamın yaşları, ardışık tek doğal sayılar olup toplamı 153 tür. Amcam en küçükleri olup halamdan da 2 yaş büyüktür. Buna göre, halamın yaşı kaç olur?

A) 53 B) 51 C) 49 D) 47

SORU-7

5 ve 2 ile tam olarak bölünebilen üç basamaklı doğal sayıların, en büyüğü ile en küçüğü arasındaki fark kaçtır?

A) 870 B) 880 C) 890 D) 900

SORU-8

Aşağıdaki sıralamalardan hangisi doğrudur?

A) $\frac{3}{2} < \frac{7}{6} < \frac{5}{4}$ B) $\frac{7}{6} < \frac{5}{4} < \frac{3}{2}$
C) $\frac{3}{2} < \frac{5}{4} < \frac{7}{6}$ D) $\frac{5}{4} < \frac{7}{6} < \frac{3}{2}$

SORU-9

$\frac{35}{40}$ i 1,75 olan sayının tamamı nedir?

A) 20 B) 2 C) 0,2 D) 0,02

SORU-10

$(\frac{3}{8} : \frac{1}{8}) - (2 - \frac{1}{4})$ işleminin sonucu kaçtır?

A) $\frac{1}{2}$ B) $\frac{5}{4}$ C) $\frac{32}{25}$ D) $\frac{11}{8}$

SORU-11

225,45 metre kumaşın $\frac{4}{15}$ ini Ali, $\frac{3}{5}$ ini Hasan alıyor. Geriye kaç metre kumaş kalmıştır?

A) 30,06 B) 30,6 C) 40,12 D) 50,127

SORU-12

Aşağıdakilerden hangisi 67,016 ya eşittir?

A) $\frac{1671}{25}$ B) $\frac{1500}{13}$ C) $\frac{8377}{125}$ D) $\frac{8375}{13}$

SORU-13

Aşağıdaki sıralamalardan hangisi doğrudur?

A) $(0,71 \times 0,58) > 1$ B) $(1,55 \times 0,35) > 1$
C) $(0,17 \times 0,85) > 1$ D) $(0,73 \times 1,8) > 1$

SORU-14

$\frac{0,021}{0,007} + \frac{8,001}{80,01} = \frac{A}{10} + 3$ eşitliğinde A ne olmalıdır?

A) 0,01 B) 0,1 C) 1 D) 10

SORU-15

MATEMATİK TESTİ

$\frac{3,9}{0,013} + \frac{0,02}{0,002} - \frac{1}{0,01}$ işleminin sonucu aşağıdaki-
lerden hangisidir?

- A) 310 B) 280 C) 240 D) 210

SORU- 16

Üç sayının aritmetik ortalamasının yarısı 25 tir.
Küçük sayı 30, büyük sayı 80 ise ortadaki sayı
kaçtır?

- A) 35 B) 40 C) 45 D) 55

SORU- 17

Yıllık %70 faizle bankaya yatırılan bir miktar para,
bir yıl sonunda faizi ile birlikte 850000 lira oluyor.
Bankaya yatırılan para kaç liradır?

- A) 350000 B) 500000 C) 595000 D) 660000

SORU- 18

Bir bakkal, 25 kilogramlık pirincin %13 ünü evine
götürüyor, 17 kilogramını da satıyor. Geriye pirincin
yüzde kaçı kalmıştır?

- A) 15 B) 17 C) 19 D) 21

SORU- 19

Bir malın maliyet fiyatı üzerinden %10 kârla satışı ile
%5 zararla satışı arasındaki fark 15000 liradır. Bu
malın maliyet fiyatı kaç liradır?

- A) 110000 B) 100000 C) 90000 D) 80000

SORU- 20

4 tanesini 30000 liraya aldığı defterlerin tanesini
6000 liradan satan bir kırtasiyeci, yüzde kaç iskonto
yapmıştır?

- A) 20 B) 25 C) 30 D) 35

SORU- 21

Verilen eşitliklerden hangisi yanlıştır?

- A) 12,05 lt=1205 cl
B) 13,27 lt=132,7 dl
C) 0,023 lt=23 cl
D) 2570 cl=25,7 lt

SORU- 22

Kilosu 30 000 lira olan 24 kg un ile, kilosunu 40 000 lira
olan 16 kg un karıştırıldığında, karışımın kilogramı
kaç lira olur?

- A) 32 000 B) 34 000 C) 36 000 D) 38 000

SORU- 23

Aşağıdakilerden hangisi yanlıştır?

- A) 2,76 ar=276 m² B) 0,25 dekar=25 ar
C) 5 dekar=0,5 hektar D) 0,00125 hektar=12,5 m²

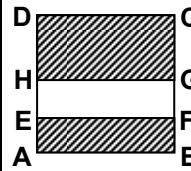
SORU- 24



Şekildeki daire grafiğinde, Nisan ayına ait hava
durumu gösterilmiştir. Buna göre, kaç gün yağmurlu
geçmiştir?

- A) 6 B) 8 C) 10 D) 12

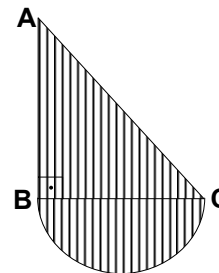
SORU- 25



Şekildeki EFGH dikdörtgeninin
köşeleri, ABCD karesinin
kenarları üzerindedir. Karenin
alanı 25 cm² ve EFGH
dikdörtgeninin alanı 10 cm² ise,
taralı bölgelerin çevreleri
toplamı kaç cm dir?

- A) 32 B) 30 C) 26 D) 16

SORU- 26

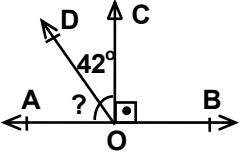


Şekildeki taralı bölge, ABC
ikizkenar dik üçgeniyle, BC
çaplı yarım daireden oluşmak-
tadır. BC nin uzunluğu 6 cm
olduğuna göre, taralı bölgenin
alanı kaç cm² dir? ($\pi=3$ alınız.)

- A) 34,6 B) 31,5 C) 29 D) 25

MATEMATİK TESTİ

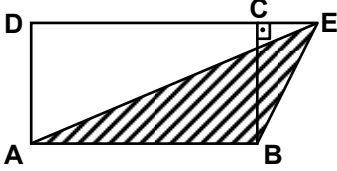
SORU- 27



Şekilde AB doğrusu ile OC ışını birbirine diktir. COD açısının ölçüsü 42° olduğuna göre, AOD açısının ölçüsü kaç derecedir?

- A) 40 B) 42 C) 44 D) 48

SORU- 28



Şekildeki ABCD dikdörtgeninin çevresi 36 cm dir. BC kenarının uzunluğu, AB kenarının uzunluğunun $\frac{1}{2}$ si kadar olduğuna göre, EAB üçgeninin alanı kaç cm^2 dir?

- A) 18 B) 24 C) 30 D) 36

SORU- 29

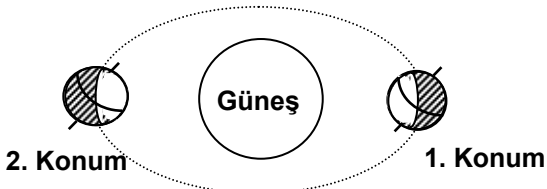
Yarıçapı 3 dm ve yüksekliği 15 dm olan silindir şeklindeki bir su deposu kaç litre su alır? ($\pi=3,14$ alınız.)

- A) 413,9 B) 423,9 C) 432,4 D) 432,9

SORU- 30

Boyu 50 metre, eni 25 metre olan dikdörtgenler prizması şeklindeki bir havuzun $\frac{2}{3}$ si 6250 m^3 su aldığına göre, havuzun yüksekliği kaç metredir?

SORU- 1



- A) 2,5 B) 5 C) 7,5 D) 8

MATEMATİK TESTİ BİTTİ.
FEN BİLGİSİ TESTİNE GEÇİNİZ.

Dünya'nın şekildeki konumları için aşağıdaki bilgilerden hangileri doğrudur?

- I- 1. konumda kuzey yarım küre, 2. konumda güney yarım küre daha fazla Güneş ışığı alır.

FEN BİLGİSİ TESTİ

- II- Güneş ışınları 1. konumda kuzey yarım küreye,
2. konumda güney yarım küreye daha dik gelir.
III- 1. konumda güney yarım kürede, 2. konumda
kuzey yarım kürede yaz mevsimi yaşanmaktadır.

- A) Yalnız I
B) Yalnız III
C) I-II
D) II-III

SORU- 2

Aşağıdakilerin hangisinde suların etkisi yoktur?

- A) Toprak aşınmasında
B) Toprak kaymasında
C) Yanardağ oluşumunda
D) Yer altı mağaralarının oluşumunda

SORU- 3

Aşağıdakilerden hangisi saydam özelliindedir?

- A) Hava
B) Yağlı kağıt
C) Buzlu cam
D) Çok derin su

SORU- 4

Aşağıdakilerden hangisi doğal ışık kaynağıdır?

- A) Mum
B) Güneş
C) Fener
D) Ay

SORU- 5

Hava ile dolu lâstik balon bir ışık kaynağının önüne konulup ekran üzerine gölgesi düşürülüyor. Aşağıdakilerden hangileri yapıldığında gölgenin büyüklüğü değişir?

- I- Işık kaynağı balona yaklaştırıldığında
II- Balonun içindeki havanın büyük bir kısmı boşaltıldığında
III- Balon ışık kaynağından uzaklaştırıldığında

- A) I-II
B) I-III
C) II-III
D) I-II-III

SORU- 6

Aşağıdakilerden hangisi elektriği iletir?

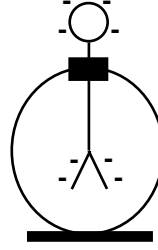
- A) Cam çubuk
B) Kuru tahta
C) Tuzlu su
D) Plâstik tarak

SORU- 7

Aşağıdakilerden hangisi hareket enerjisini elektrik enerjisine çevirir?

- A) Transformatör
B) Akümülatör
C) Jeneratör
D) Pil

SORU- 8



Şekildeki elektroskoba + yüklü bir cisim yeterince yaklaştırıldığında, aşağıdakilerden hangisi meydana gelir?

- A) Yapraklar durumunu korur.
B) Yapraklar arasındaki açı küçülür.
C) Yapraklar ve topuz + yükle yüklenir.
D) Yapraklar +, topuz - yükle yüklenir.

SORU- 9

Aşağıdakilerden hangisi doğal çevreyi bozucu bir davranıştır?

- A) Petrol ürünlerinin akarsulara bırakılması
B) Isınmada kömür yerine elektrik kullanılması
C) Hayvanların kuluçka dönemlerinde avlanmasının yasaklanması
D) Metal atıkların tekrar kullanıma hazır hâle getirilmesi

SORU- 10

Aşağıdakilerden hangisi cisim değildir?

- A) Tuğla
B) Tebeşir
C) Bardak
D) Un

SORU- 11

Aşağıdakilerden hangilerinin iç sıcaklığı genleşme - büzülme esasına göre çalışan âletle ayarlanır?

- I- Radyo
II- Otomatik çamaşır makinesi
III- Buz dolabı

- A) Yalnız III
B) I-II
C) II-III
D) I-II-III

SORU- 12

Hangisinden kaynaklanan hava kirliliği mevsimlere göre değişir?

- A) Evsel atıklardan
B) Katı yakıtlardan
C) Egzoz gazlarından
D) Hayvansal atıklardan

SORU- 13

Aşağıdakilerden hangisi bir yerdeki bitki ve hayvan çeşitliliğini olumsuz yönde etkilemez?

- A) Kuraklık
B) Asit yağmuru
C) Hava kirliliği
D) Bataklık

FEN BİLGİSİ TESTİ

SORU- 14

Yumurtadan yeni çıkan kurbağa yavrusu için aşağıdakilerden hangisi doğrudur?

- A) Ana canlıya benzer.
- B) Zamanla şekli değişir.
- C) Arka üyeleri gelişmiştir.
- D) Akciğer solunumu yapar.

SORU- 15

Aşağıdakilerden hangisi geviş getirmez?

- A) İnek
- B) Eşek
- C) Koyun
- D) Deve

SORU- 16

Aşağıdakilerden hangisi perde ayaklı olup, suda yaşayan canlılarla da beslenir?

- A) Güvercin
- B) Martı
- C) Ağaçkakan
- D) Baykuş

SORU- 17

Hangisinde verilenlerin her ikisi de vücuttaki sıvı artık maddelerin dışarı atılmasını sağlar?

- A) Böbrek - Akciğer
- B) Akciğer - Deri
- C) Deri - Böbrek
- D) Akciğer - Kalın bağırsak

SORU- 18

Çok hücreli bir organizmada aşağıdakilerden hangileri bulunur?

- I- Dokular
- II- Organlar
- III- Sistemler

- A) Yalnız II
- B) Yalnız III

SORU- 1

Bir milletin fertlerinin, anlaşılabilir kaynaşmasını ve gelecekle ilgili düşüncelerinin aynı olmasını sağlayan faktörler aşağıdakilerin hangisinde birlikte verilmiştir?

- A) Kültür-Yurt
- B) Tarih-Kültür
- C) Ülkü-Yurt
- D) Dil-Ülkü

C) I-II

D) I-II-III

SORU- 19

Aşağıdakilerin hangisinde verilenler yarı oynar eklem oluşturur?

- A) Omur kemiği - Omur kemiği
- B) Uyluk kemiği - Kalça kemiği
- C) Pazı kemiği - Dirsek kemiği
- D) Uyluk kemiği - Kaval kemiği

SORU- 20

Vitaminler hangi besin grubunda yer alır?

- A) Sadece yapıcı - onarıcı
- B) Sadece düzenleyici
- C) Hem düzenleyici hem de yapıcı - onarıcı
- D) Hem yapıcı - onarıcı hem de enerji verici

FEN BİLGİSİ TESTİ BİTTİ.
SOSYAL BİLGİLER-DİN KÜLTÜRÜ ve AHLÂK
BİLGİSİ TESTİNE GEÇİNİZ.

SORU- 2

İnsanlarımızın, aynı türkülerle ve oyunlarla coşup, aynı olaylar karşısında üzülmeleri aşağıdakilerden hangisinin sonucudur?

- A) Yurt birliğinin
- B) Kültür birliğinin
- C) Ülkü birliğinin
- D) Tarih birliğinin

SOSYAL BİLGİLER-DİN KÜLTÜRÜ ve AHLÂK BİLGİSİ TESTİ

SORU- 3

Aşağıdakilerden hangisi, Amasya Genelgesi'nde yer almaz?

- A) Türk Milleti'nin işgâlcî devletlere karşı mücadelesi gerektiği
- B) Kurtuluş Savaşı'nın milletin gücü ile kazanılabileceği
- C) TBMM'nin Ankara'da toplanacağı
- D) İstanbul Hükümeti'nin görevini yerine getiremediği

SORU- 4

Sivas Kongresi'ni, Erzurum Kongresi'nden ayıran özellik aşağıdakilerden hangisidir?

- A) İstanbul Hükümeti'nin görevini yeterince yerine getiremediğinin açıklanması
- B) Sivas Kongresi'nde, yurdun tamamının temsil edilmesi
- C) Vatanın bütünlüğü ve parçalanmazlığının dile getirilmesi
- D) Yabancı işgallere karşı mücadele düşüncesi üzerinde durulması

SORU- 5

İtilâf devletlerinin İstanbul'u işgal etmelerine neden olan olay, aşağıdakilerden hangisidir?

- A) Sivas Kongresi'nin toplanması
- B) Amasya Görüşmeleri'nin yapılması
- C) Misak-ı Millî'nin kabul edilmesi
- D) Anadolu'da ayaklanmaların başlaması

SORU- 6

TBMM'nin imzalamış olduğu ilk antlaşma, aşağıdakilerden hangisidir?

- A) Moskova
- B) Kars
- C) Mudanya
- D) Gümrü

SORU- 7

Aşağıda verilenlerden hangisi, Lozan Barış Antlaşması'nın hükümleri arasında yer almaz?

- A) Doğu Trakya Türkiye'ye bırakıldı.
- B) Bozcaada ve Gökçeada Türkiye'ye verildi.
- C) Boğazlar üzerinde Türk hâkimiyeti sağlandı.
- D) Kapitülasyonlar kaldırıldı.

SORU- 8

- I- Kabotaj kanunu çıkarıldı
- II- Yerli malı kullanılması teşvik edildi
- III- Bankacılık geliştirildi

Yukarıda verilen bilgiler, hangi alandaki gelişmeye bir örnektir?

- A) Eğitim
- B) Ekonomi
- C) Sağlık
- D) Hukuk

SORU- 9

Halifeliğin babadan oğula geçerek saltanat haline gelmesi hangi dönemde olmuştur?

- A) Hz.Muhammed
- B) Hz.Ebubekir
- C) Emevîler
- D) Abbasîler

SORU- 10

İslâm devlet yönetiminde "ilk il teşkilâtı", hangi dönemde olmuştur?

- A) Hz.Muhammed
- B) Dört Halife
- C) Emeviler
- D) Abbasiler

SORU- 11

- I- Tuzluluk oranı diğer denizlerimizden azdır.
- II- Balık çeşidi bakımından zengindir.
- III- Çok sayıda akarsu tarafından beslenir.
- IV- Buharlaştırma oranı azdır.

Yukarıdaki özellikler hangi denizimize aittir?

- A) Akdeniz
- B) Marmara
- C) Ege
- D) Karadeniz

SORU- 12

Aşağıda, bazı ovalar ile bu ovalardan geçen akarsular verilmiştir. Yanlış olanı hangisidir?

- A) Çarşamba-Yeşilirmak
- B) Çukurova-Seyhan
- C) Gediz-Gediz
- D) Silifke-Meriç

SORU- 13

Aşağıdakilerden hangisi Akdeniz ve Ege kıyılarımızda etkili olan "Akdeniz ikliminin" özelliklerinden biri değildir?

- A) Yazlar sıcak ve kurak
- B) Kışlar ılık ve yağışlı
- C) Don ve kar olaylarına az rastlanır
- D) Her mevsim yağışlıdır

SOSYAL BİLGİLER-DİN KÜLTÜRÜ ve AHLAK BİLGİSİ TESTİ

SORU- 14

Aşağıdakilerden hangisi, dağlarla çevrili çukurlukların alüvyonla dolması sonucu oluşmuş bir iç ovadır?

- A) Bafra Ovası B) Gediz Ovası
C) Çarşamba Ovası D) Bursa Ovası

SORU- 15

Aşağıdaki bölgelerimizden hangisinde kapalı havza bulunmaz?

- A) Marmara B) Akdeniz
C) İç Anadolu D) Doğu Anadolu

DİN KÜLTÜRÜ ve AHLAK BİLGİSİ DERSİ OKUYANLAR AŞAĞIDAKİ SORULARI CEVAPLAYACAKLAR. OKUMAYANLAR BUNUN YERİNE, AYNI NUMARALI SOSYAL BİLGİLER SORULARINI CEVAPLAYACAKLAR.

SORU- 16

Allah'a karşı görevlerimizin en kapsamlısı hangisidir?

- A) Emirlerini yerine getirmek
B) Verdiği nimetlere şükretmek
C) Gönderdiği peygamberlere inanmak
D) İndirdiği kutsal kitaplara inanmak

SORU- 17

Kur'an-ı Kerim'in Peygamberimiz(s.a.v)'e indirilişi yaklaşık kaç yılda tamamlanmıştır?

- A) 23 B) 32 C) 40 D) 63

SORU- 18

Aşağıdakilerden hangisi Peygamberimiz'in (s.a.v.) öğütlerine uymaz?

- A) Ders çalışmak
B) İnsanlara faydalı olmak
C) Hak etmeden kazanmak
D) Ailenin geçimine katkıda bulunmak

SORU- 19

İlişkilerinde, karşılıklı sevgi ve saygıya önem veren bir toplumda aşağıdakilerden hangisi yaygınlaşmaz?

- A) Yardımseverlik B) Büyüklere saygı
C) Toplumsal barış D) Bencil davranma

SORU- 20

Aşağıdaki davranışlardan hangisi manevî temizliğe aykırıdır?

- A) Dürüst olmak
B) Hoşgörülü olmak
C) Dedikodu yapmak
D) Allahın varlığına inanmak

DİN KÜLTÜRÜ ve AHLAK BİLGİSİ DERSİ OKUYANLAR, AŞAĞIDAKİ SOSYAL BİLGİLER SORULARINA CEVAP VERECEKLER. OKUYANLAR CEVAP VERMEYECEK.

SORU- 16

Milleti oluşturan fertlerin gelecekle ilgili amaç ve isteklerinin aynı olmasını aşağıdakilerden hangisi sağlar?

- A) Ülkü birliği B) Yurt birliği
C) Kültür birliği D) Tarih birliği

SORU- 17

Atatürk'ün en büyük eserim dediği cumhuriyetin ilân edilmesi, hangi alanda yapılan bir inkılâptır?

- A) Siyasal B) Ekonomik
C) Hukuk D) Kültür

SORU- 18

Atatürk'ün, Türkiye Cumhuriyeti'nde hiçbir zümre, sınıf ve gruba ayrıcalık tanımaması, aşağıdaki hangi ilkesinde ifade edilmiştir?

- A) Devletçilik'te B) Lâiklik'te
C) Halkçılık'ta D) İnkılâpçılık'ta

SORU- 19

Aşağıdaki gümrük kapılarımızdan hangisi Irak sınırımızda bulunmaktadır?

- A) Sarp B) Gürbulak
C) Kapıkule D) Habur

SORU- 20

Kış mevsiminde ölçülen en düşük sıcaklıklar, hangi bölgemizde görülür?

- A) İç Anadolu B) Marmara
C) Doğu Anadolu D) Güneydoğu Anadolu

SOSYAL BİLGİLER-DİN KÜLTÜRÜ ve AHLÂK BİLGİSİ TESTİ

SOSYAL BİLGİLER-DİN KÜLTÜRÜ ve AHLÂK
BİLGİSİ TESTİ BİTTİ.
CEVAPLARINIZI KONTROL EDİNİZ.

