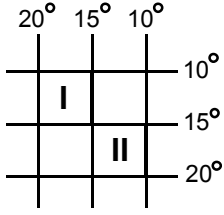


65.



Şekilde coğrafi koordinatları gösterilen I ve II numaralı bölgelerle ilgili aşağıdaki yargılardan hangisi yanlıştır?

- A) Gerçek yüzölçümleri birbirine eşittir.
- B) Oğlak Dönencesi ile ekvator arasında yer alırlar.
- C) İkinin de doğusu ile batısı arasında zaman farkı 20 dakikadır.
- D) Başlangıç meridyeninin batısında yer alırlar.
- E) İkinin de güneş ışınları yılda iki kez dik gelir.

66. Aşağıdakilerden hangisinde enlemin etkili olduğu savunulamaz?

- A) İç Anadolu Bölgesi'nde kuzey sektörlü rüzgârların sıcaklığı düşürmesi
- B) Antalya'da deniz turizmi mevsiminin Samsun'dakinden önce başlaması
- C) Ege Bölgesi'nden İç Anadolu Bölgesi'ne doğru sıcaklığın düşmesi
- D) Akdeniz Bölgesi'nden Marmara Bölgesi'ne doğru maki üst sınırının alçalması
- E) Yaz mevsiminde, Karadeniz Bölgesi'nde gündüz sürelerinin Akdeniz Bölgesi'ndekinden uzun olması

67. Bir haritada yer alan

- I. bir yolun eğimi,
- II. bir ilin izdüşümsel alanı,
- III. bir akarsuyun uzunluğu

niceliklerinden hangileri haritanın ölçeğinden yararlanılarak hesaplanabilir?

- A) Yalnız I
- B) Yalnız II
- C) Yalnız III
- D) I ve II
- E) II ve III

68. Yeryüzünden yükseldikçe, sıcaklık her 100 metrede 0,5 °C azalır. Deniz seviyesine indirgenmiş sıcaklıklar bu ilkeden yararlanılarak hesaplanır.

Aşağıdaki tabloda, beş merkezin aynı gün ve saatteki gerçek sıcaklıkları ile deniz seviyesine indirgenmiş sıcaklıkları verilmiştir.

Merkez	Gerçek sıcaklık (°C)	İndirgenmiş sıcaklık (°C)
I	-10	-5
II	-5	5
III	0	8
IV	5	12
V	6	12

Tablodaki bilgilere göre, bu merkezlerden hangisinin yükseltisi en fazladır?

- A) I
- B) II
- C) III
- D) IV
- E) V

Diğer sayfaya geçiniz.

69. Afrika Kıtası'nın hem kuzeyinde hem de güneyinde, Akdeniz iklimi görülen yerlerin olması aşağıdakilerden hangisine bağlanabilir?

- A) Ortalama yükseltisinin fazla olmasına
- B) Her iki yarımkürede, orta kuşakta topraklarının bulunmasına
- C) Akarsu havzalarının geniş olmasına
- D) Okyanus kıyılarında hem sıcak hem de soğuk su akıntılarının etkili olmasına
- E) Kıyılarında girinti ve çıkıntıların az olmasına

70. Yeryüzünde, genel hava dolaşımının yanı sıra, yerel basınç koşullarındaki değişmelere bağlı olarak gün içinde kara ile deniz, dağ ile vadi arasında yerel rüzgârlar da eser.

Buna göre, yerel rüzgârlarla ilgili olarak aşağıdakilerden hangisi söylenemez?

- A) Esiş sürelerinin genellikle kısa olduğu
- B) Etki alanlarının dar olduğu
- C) Gün içerisinde esiş yönlerinin değişebileceği
- D) Gün içerisinde sıcaklık değişikliğine yol açtıkları
- E) İklim özelliklerinin oluşmasında ana etken oldukları

71. Günlük sıcaklık farkının fazlalığı ve donma - çözülme olaylarının sıklığı mekanik çözülmeyi hızlandırır.

Buna göre, aşağıdaki yerlerin hangisinde mekanik çözülmenin en az olması beklenir?

- A) Ekvatorial ormanlar
- B) Çöller
- C) Kutup altı bölgeler
- D) Dağların yüksek kesimleri
- E) Orta kuşak karalarının iç kesimleri

72. Bir akarsuyun ağzında delta bulunması, bu akarsuyla ilgili olarak aşağıdakilerden hangisinin göstergesi olamaz?

- A) Su toplama havzasında erozyonun şiddetli olduğunun
- B) Yatağı boyunca, çözünebilen kayaların yaygın olduğunun
- C) Denize döküldüğü yerde akıntıların zayıf olduğunun
- D) Denize döküldüğü yerde deniz derinliğinin az olduğunun
- E) Taşıma gücünün fazla olduğunun

Diğer sayfaya geçiniz.

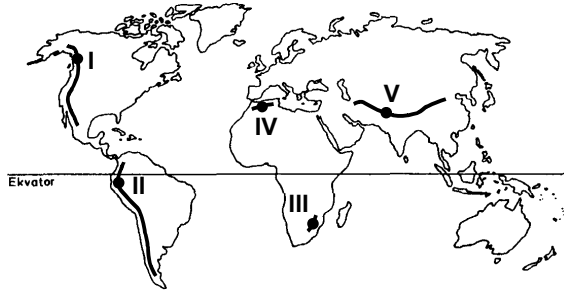
73. Bir ülkenin birbirini izleyen yıllardaki kırsal ve kentsel nüfusunu gösteren bir grafiğe bakılarak, bu ülkenin nüfusuyla ilgili aşağıdaki bilgilerden hangisine ulaşamaz?

- A) Kırsal nüfusun kentsel nüfusa oranı
- B) Verilen yıllarda, kentsel nüfusun artıp artmadığı
- C) Verilen yıllarda, kırsal nüfustaki değişme hızı
- D) Verilen yıllarda, kırsal nüfusta dalgalanma olup olmadığı
- E) Kentsel nüfusta, kırsal kesimden gelen göçün payı

74.

GÖZLEM: Dağlarda yükseklik arttıkça sıcaklık ve nem miktarı azalır.

SONUÇ: Dağların yüksek kesimlerinde, yaşam koşulları alçak kesimlerdeki göre daha elverişsizdir.



Haritada gösterilen dağlar üzerinde numaralanmış yerlerin hangisinde yaşam koşulları, yukarıdaki sonuç yargısının aksine, 2000 metre dolayında, çevresindeki daha düşük yükseltilerdeki göre daha elverişlidir?

- A) I
- B) II
- C) III
- D) IV
- E) V

75. Herhangi bir bölgede tarım ve hayvancılıkla geçinen nüfusun o bölgedeki tarım alanlarının yüzölçümüne bölünmesiyle elde edilen nüfus yoğunluğuna tarımsal nüfus yoğunluğu denir.



Buna göre, yukarıdaki haritada numaralanmış yerlerin hangisinde tarım alanları dar; ancak tarımsal nüfus yoğunluğu fazladır?

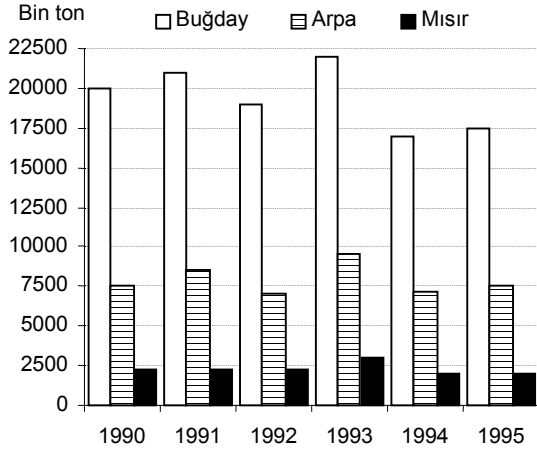
- A) I
- B) II
- C) III
- D) IV
- E) V

76. Türkiye’de tarımda görülen aşağıdaki gelişmelerden hangisi, sulanabilen alanların genişletilmesine bağlı değildir?

- A) Ürüne uygun gübre kullanımının yaygınlaşması
- B) Birim alandan elde edilen ürün miktarının artması
- C) Yılda birden fazla ürün alınan tarım alanlarının genişlemesi
- D) Nadasa ayrılan toprakların azalması
- E) Sebze ve endüstri bitkileri üretiminin yaygınlaşması

Diğer sayfaya geçiniz.

77. Aşağıdaki grafikte Türkiye’de 1990 – 1995 yılları arasında üretilen buğday, arpa ve mısır miktarları gösterilmiştir.



Aşağıdakilerden hangisi bu grafikten ulaşılabilecek bilgilerden biri değildir?

- A) Verilen yıllardaki toplam mısır üretimi, bir yıllık buğday üretiminden azdır.
 B) Üç ürünün de en fazla üretildiği yıl 1993’tür.
 C) Her yıl, buğday üretimi arpa üretiminin iki katından fazladır.
 D) Birim alanda en fazla üretim buğdaydan elde edilmektedir.
 E) Her yıl, arpa ve mısır üretimlerinin toplamı buğday üretiminden azdır.

78. Aşağıdaki tabloda Türkiye’de 1991 – 1995 yılları arasında dört hayvan türündeki hayvan sayıları (bin adet) verilmiştir.

	1991	1992	1993	1994	1995
Sığır	12 000	11 950	11 910	11 900	11 850
Manda	370	350	320	300	250
Koyun	40 500	39 500	37 500	35 600	34 000
Keçi	10 800	10 500	10 150	9 600	9 100

Yalnızca tablodaki bilgilere dayanarak aşağıdaki yargılardan hangisine ulaşılabılır?

- A) Sığır sayısında bir önceki yıla göre azalmanın en çok olduğu yıl 1993’tür.
 B) Manda sayısı 1991 yılına göre 1995 yılında % 50 azalmıştır.
 C) Verilen yıllarda, dört türün tümünde hayvan sayıları sürekli azalmıştır.
 D) Bazı yıllar, keçi sayısı sığır sayısı ile aynıdır.
 E) 1992 ile 1993 yılları arasında, keçi sayısındaki azalma koyun sayısındakinden fazladır.

79. Her tür ulaşım olanağı bulunan bir ülkede demir cevheri, kömür gibi madenlerin dışalım ve dışa-tımında yararlanılan,

- I. demiryolu,
 II. karayolu,
 III. denizyolu

taşımacılıkları, aşağıdakilerin hangisinde taşıma maliyeti en yüksek olandan en düşük olana doğru sıralanmıştır?

- A) I, II, III B) I, III, II C) II, I, III
 D) II, III, I E) III, I, II

80. Türkiye’nin dışalımının giderek büyümesine karşın, dışsatımı istenilen düzeye henüz ulaşamamıştır.

Dış ticaretin sürekli açık vermesinde aşağıdaki-lerden hangisinin etkili olduğu savunulamaz?

- A) Dış pazarlarda rekabet güçlüklerinin yaşanması
 B) Dışsatımda tarım ürünlerinin payının fazla ol-ması
 C) Üretimdeki artışın nüfus artış hızından düşük ol-ması
 D) Bazı sanayi ürünleri için yapılan dış ödemelerin dışsatım gelirinden yüksek olması
 E) Transit taşımacılığın gelişmiş olması

Diğer sayfaya geçiniz.

ÖSS 2002
BASIN KOPYASI CEVAP ANAHTARI

SÖZEL BÖLÜM

1. C	31. B	61. D
2. E	32. E	62. C
3. A	33. C	63. E
4. D	34. A	64. A
5. B	35. D	65. A
6. A	36. C	66. C
7. E	37. A	67. E
8. D	38. B	68. B
9. B	39. E	69. B
10. B	40. D	70. E
11. C	41. B	71. A
12. E	42. E	72. B
13. D	43. A	73. E
14. A	44. D	74. B
15. C	45. C	75. D
16. E	46. C	76. A
17. A	47. E	77. D
18. B	48. A	78. C
19. D	49. D	79. C
20. C	50. E	80. E
21. E	51. B	81. B
22. D	52. C	82. E
23. A	53. B	83. A
24. C	54. A	84. D
25. B	55. E	85. C
26. A	56. C	86. D
27. E	57. E	87. C
28. C	58. A	88. E
29. A	59. B	89. C
30. D	60. E	90. A

SAYISAL BÖLÜM

1. C	31. D	61. B
2. A	32. E	62. D
3. E	33. D	63. A
4. B	34. A	64. C
5. D	35. B	65. B
6. C	36. E	66. E
7. A	37. B	67. C
8. C	38. D	68. B
9. B	39. B	69. A
10. E	40. A	70. B
11. A	41. E	71. E
12. B	42. C	72. A
13. D	43. D	73. D
14. A	44. B	74. E
15. E	45. D	75. A
16. D	46. D	76. D
17. B	47. B	77. C
18. C	48. A	78. B
19. E	49. E	79. D
20. A	50. D	80. E
21. C	51. A	81. D
22. D	52. E	82. B
23. C	53. E	83. C
24. B	54. C	84. B
25. C	55. D	85. A
26. E	56. E	86. C
27. C	57. B	87. A
28. A	58. E	88. C
29. E	59. C	89. D
30. B	60. B	90. E