

A

GENEL YETENEK VE GENEL KÜLTÜR TESTİ

Ad. Bak. İcra Md. ve Md. Yard. / 2006

1. Aşağıdaki cümlelerin hangisinde "eritmek" sözcüğü, ayraç içindeki açıklamasına uygun olarak kullanılmamıştır?

- A) Her sabah bir saat yürüyor, fazla yağlarını eritmeye çalışıyordu. (sağlıklı olmak)
- B) Bu karışımı hazırlarken önce şekeri suda eritmenez gerekiyor. (katı maddeyi bir sıvıda çözmek)
- C) Tereyağını eritmek için ocağı yaktım. (bir maddeyi ısıtarak sıvı duruma getirmek)
- D) Biriktirdiği paraları birkaç ay içinde eritti. (harca-yıp tüketmek)
- E) Bu hastalık yavrucağı eritti, iğne ipliğe döndürdü. (zayıflatmak)

2. "Ziya Osman için ne söylersiniz üstat?" dedim. "Benim hocamdır, kendisine çok şey borçluyum." dedi Behçet Necatigil. "Geçmişle bugünün duygusal sar-sıntıları üzerine kurmuştur şiirlerini." "Kusura bakma ama biraz fazla mezarlık kokmuyor mu?" dedim. "Ölüm teması, her şairin su içtiği çeşmedir." dedi Behçet Necatigil.

Bu parçadaki altı çizili sözle anlatılmak istenen aşağıdakilerden hangisidir?

- A) Bütün şairlerin ölüm temasından yararlandığı
- B) Ölüm temasının, şairlerin aklına gelen ilk tema olduğu
- C) Deneyimli şairlerin en az bir kez ölüm temasını işlediği
- D) Yoğun bir anlam taşıdığı için şairlerin ölüm temasını çokça ele aldığı
- E) Her şairin ölüm temasını farklı biçimde işlediği

3. Aşağıdaki betimleyici cümlelerin hangisinde insana ait özellik cansız varlığa aktarılmamıştır?

- A) İnceburun, sipsivri burnunu, o boncuk mavisi sulara batırılmış bir türlü çıkaramıyor.
- B) Ak köpükler içindeki deniz feneri, kimsesizliğine aldırmandan gülümsüyordu, uyku mahmurluğu içindeki maviliklere.
- C) Akdeniz, menekşe morunu andıran ışıl ışıl, maviş gözleriyle birden görünürüyor herkese.
- D) Ege ile Akdeniz'in birleştiği bu yerde, kayalara tünemiş süt mavisi bir martı, yontu gibi durmuş, bize bakıyor, biz de ona bakıyoruz.
- E) Yatımız Datça Koyu'na girdiğinde ihlamur rengi denizde sular, günün son ışıklarıyla vedalaşı-yordu.

4. (I) Anavarza Kalesi, gördüğüm en büyük ören yerlerinden biri. (II) Kilisesi, hamamı ve su kanallarıyla görünümlü bakımından ilginç bir yer. (III) Ne var ki kaleye çıkmak çok da kolay değil. (IV) Buna karşılık ova, kavurucu sıcaklarla insanı bunaltırken kalenin zirvesinde serinlik sarıp sarmalıyor bedenimizi. (V) Anavarza Kalesi'nde kazılar tamamlanıp turizm açısından gerekli düzenlemeler yapılırsa Türkiye, önemli bir ören yeri kazanmış olacak. (VI) Taş merdivenleri, taşla çizilen resimleri, kaya mezarlarını görmek istiyorsanız Anavarza'ya gitmelisiniz.

Bu parçadaki numaralanmış cümlelerin hangisinde hem olumlu hem de olumsuz bir durumdan söz edilmektedir?

- A) II. B) III. C) IV. D) V. E) VI.

Diğer sayfaya geçiniz.

A

5. Güz geleli epeyce olmuştu. Ancak, yel estikce yaprakların hışirtısının biraz daha artmasından başka bir değişiklik yoktu henüz ağaçlarda; ne bir sarartı, ne bir kuruma, ne de dökülme... Bu kavak ülkesinde fıstık çamları çok gibi görünmesine karşın yine de azınlığı oluşturuyordu.

Bu parçadaki numaralanmış sözcüklerin hangisinde bir yazım yanlışı vardır?

- A) I. B) II. C) III. D) IV. E) V.

6. Aşağıdaki cümlelerin hangisinde bir yazım yanlışı vardır?

- A) Ülkeler arasındaki ekonomik rekabet günden güne büyüyor.
B) Benzin istasyonumuzdan evlere de yakıt servisi yapılıyor.
C) Telefonla konuşan kişi, dileğini kısa ve anlaşılır bir biçimde dile getirmeli.
D) Araştırmalar gösteriyor ki cep telefonunun uzun süre kullanılması sağlığı olumsuz yönde etkiliyor.
E) Toplu taşıma araçlarını kullanırken belli kurallara uymak gerekiyor.

Ad. Bak. İcra Md. ve Md. Yard. / 2006

7. Aşağıdaki cümlelerin hangisindeki virgül (,) ötekilerden farklı bir görevde kullanılmıştır?

- A) Alışveriş aceleyle getirilmemeli, enine boyuna düşünülerek yapılmalıdır.
B) Alışveriş öncesinde iyi bir piyasa araştırması yapılmalı, fiyatlar karşılaştırılmalıdır.
C) Yetkili satıcılardan alışveriş yapılmalı, bozuk ya da hatalı malın değiştirilmesi için girişimde bulunmalıdır.
D) Satın alınan ürünlerde görülen bozukluklar, kusurlar hemen satıcıya bildirilmelidir.
E) Alışverişte tartı ve ölçü aletlerinin kullanımına dikkat edilmeli, tanımadık kişi ve yerlerden alışveriş yapılmamalıdır.

8. Aşağıdaki cümlelerin hangisinde bir anlatım bozukluğu vardır?

- A) Bilim adamları doğanın sırlarını çözüp hepimizin anlayabileceğimiz duruma getiriyorlar.
B) Bazı hayvanların renkleri algılayışı insanlarınkinden farklıdır.
C) Sinema dili görselliğe dayanan etkili bir dildir.
D) Son yıllarda, insanın kalıtsal özelliklerine yönelik çalışmalar artıyor.
E) İnsanlar, yüzyıllar boyunca olduğu gibi bugün de genç kalmanın yollarını arıyorlar.

Diğer sayfaya geçiniz.

A

Ad. Bak. İcra Md. ve Md. Yard. / 2006

9. İki insan tipinin karşılaştırıldığı bu öyküde, her iki
I II III IV

birey kendi ağzından kendisini anlatıyor.
V

Bu cümledeki anlatım bozukluğunu gidermek için numaralanmış sözlerden hangisi atılmalıdır?

- A) I. B) II. C) III. D) IV. E) V.

10. Bu konuşma, beş aşağı beş yukarı kadınların çoğuyla yapıldı.

Bu cümledeki anlatım bozukluğu aşağıdakilerin hangisiyle giderilebilir?

- A) "konuşma" yerine "sohbet" sözcüğü getirilerek
B) "çoğuyla" yerine "hepsiyle" sözcüğü getirilerek
C) "beş aşağı beş yukarı" yerine "üç aşağı beş yukarı" sözü getirilerek
D) "kadınların" yerine "çalışanların" sözcüğü getirilerek
E) "kadınların" sözcüğünden önce "bütün" sözcüğü getirilerek

11. Karşımda şeftali ağacı... Sayısız arı kıpırdıyor dalları arasında. Arı değil, diyor bir dostum, onlar sinek. Her biri kocaman birer uçak. Sokmazlarmış insanı, ısırılarmış. Şeftali ağacı bağına basıyor hepsini. Çünkü doğada bireycilik yok, herkes her şeyden payını alıyor. Şeftali ağacı, çocukluğumun erik ağacını anımsattı bana. Bozdoğan Kemerinin bittiği yerdeydi bahçemiz. Kuyu çıkırığının ince sesini duyar gibiyim şimdi.

Bu parçada aşağıdakilerden hangisi yoktur?

- A) Benzetmeden yararlanma
B) Görme duyusuyla algılanan ayrıntılara yer verme
C) Geçmişin güzellikleriyle övünme
D) Bir durumla ilgili yorum yapma
E) Açıklamaya yer verme

12. Bir dağın yamaçlarından birinde rüzgârla devinip duran bir çiçek hayal edin. Kırmızı saplı, beyaz, minik bir dağ kuruğu ya da dağ kekiği... Taç yapraklarına kelebekleri, böcekleri çeken, arkadaşlarıyla bir arada tarlalar oluşturan binlerce çiçekten sadece biri. Ayrıca destanlarda adı geçen, yüzyıllarca sonra hâlâ o yamaçta bulunabilen özel bir çiçek. Öyle ki bugüne dek sadece Kaz Dağları'nda yaşamak isteyecek kadar özel...

Bu parçada sözü edilen çiçeği ayrıcalıklı kılan en belirgin özellik aşağıdakilerden hangisidir?

- A) Çok yüksek yerlerde bulunması
B) Güzelliğiyle dikkat çekmesi
C) Çok eskiden beri bilinmesi
D) Yalnızca bir yerde yetişmesi
E) Geçmişteki güzelliğini günümüzde de koruması

Diğer sayfaya geçiniz.

13. Neredeyse hepimiz masallarla başladık kitap okuma-ya. Benim okuduğum ilk kitap Grimm Kardeşler'in masallarıydı. Onu başka dünya masalları izledi. Edebiyatın kapıları Andersen masallarıyla aralandı. Çocukluktan gençliğe adımımı atarken Pardayanlar, Jules Verne'in yapıtları beni kendine çekti. Bunları Orhan Kemal'ler, John Steinbeck'ler, Ernest Hemingway'ler izledi. Böylece gençlik kitaplarına yönelmiş-tim. Daha sonra Faulkner ve Sartre'a merak sarmış-tım. Şimdi düşünüyorum da kitap okumayı sevmem-de, onun bir alışkanlık hâline gelmesinde basamak-ları teker teker tırmanmamın büyük payı vardı.

Bu parçada anlatılmak istenen aşağıdakilerden hangisidir?

- A) Bireyin gelişim aşamalarıyla okunan kitaplar ara-sındaki uyumun önemi
- B) Bilinçli okurların klasikleşmiş yapıtları okuduğu
- C) Ünlü yapıtların her dönemde, her okuru etkilediği
- D) Masalların, okuma alışkanlığı kazandıran ilk ki-taplar olduğu
- E) Bireyin, yaşına ve beğenisine göre kitap seçme-de özgür bırakılması gerektiği

14. Elleri Var Özgürlüğün'deki şiirler aslında biçim ola-rak Perçemli Sokak dönemindekilerden çok ayrı de-ğildir. Onlardaki fark, özdeki değişimdir. Bu şiirlerde Oktay Rifat'ın dünyayı algılayışındaki değişiklikler ve bu doğrultuda yaşama bakış açısı açık açık görü-lür. Gerçekçiliğinin yanında önceki şiirlerine oranla daha mutsuz ve karamsar bir hali vardır. Yalnızlığı hisseder, paylaşır. Önceki şiirlerinde yer alan yaşa-ma sevincinin yerini, yaşamı sorgulama ve ilk kez ölüm olgusunun da varlığının fark edilmesi alır.

Bu parçada Oktay Rifat'ın "Elleri Var Özgürlüğün" kitabıyla ilgili olarak aşağıdakilerden hangisi söy-lenemez?

- A) Biçimce, öncekilerle ortak birçok yönünün olduğu
- B) Yaşamla ilgili değerlendirmeler yaptığı
- C) Yalnızlık duygusunu ele aldığı
- D) Ölüm korkusuna yer verdiği
- E) Kötümser duygular yansıttığı

15. Koleksiyonunuza koymak istediğiniz pulları elle tut-mamalısınız. Elle tuttuğunuz anda pulun zamkına parmak izi geçer ve değeri kaybolur. Pulun dantel-lerinin tam olması gerek. Bir danteli bile eksik olsa değerli bir koleksiyonda yer alamaz. Güneşte kalma-ması, nemli yerde durmaması gerekir. Eğer koleksi-yonun saklandığı ortam nemliyse, pul gazete kâğıdı-na sarılmalıdır. Bir de albümler asla yatay konma-malı, her zaman dikey durmalı ve üzerinde herhangi bir ağırlık bulunmamalıdır.

Bu parçada aşağıdaki sorulardan hangisinin ce-vabı yoktur?

- A) Koleksiyonda yer alan pullar nasıl korunmalıdır?
- B) Koleksiyonda yer alan pullar hangi özellikleri taşımaktadır?
- C) Pul koleksiyonculuğu zor bir uğraş mıdır?
- D) Pul koleksiyonculuğunun incelikleri nelerdir?
- E) Pulların değerini belirleyen özellikler nelerdir?

A

Ad. Bak. İcra Md. ve Md. Yard. / 2006

16.

$$\frac{26}{7} : \left(\frac{1}{4} + \frac{3}{14} \right)$$

işleminin sonucu kaçtır?

- A) $\frac{1}{7}$ B) $\frac{2}{7}$ C) $\frac{1}{14}$ D) 4 E) 8

17.

$$\sqrt[3]{9 \cdot \sqrt{x}} = 3\sqrt{3}$$

olduğuna göre, x kaçtır?

- A) 3^2 B) 3^3 C) 3^4 D) 3^5 E) 3^6

18.

$$\frac{0,75 \cdot x}{375} = 0,01$$

olduğuna göre, x kaçtır?

- A) $\frac{1}{5}$ B) $\frac{1}{15}$ C) 5 D) 15 E) 20

19.

$$\frac{0,2}{a} = \frac{0,4}{b}$$

olduğuna göre, $\frac{6a+2b}{2b-a}$ ifadesinin değeri aşağıdakilerden hangisidir?

- A) 2 B) 3 C) $\frac{5}{2}$ D) $\frac{7}{2}$ E) $\frac{10}{3}$

20. Toplamları 33 olan iki sayıdan birinin 7 katı, öbürünün 4 katına eşittir.

Bu sayılardan küçük olanı kaçtır?

- A) 11 B) 12 C) 13 D) 14 E) 15

Diğer sayfaya geçiniz.

A

Ad. Bak. İcra Md. ve Md. Yard. / 2006

21.

$$\frac{5x+4}{x^2+2x} = \frac{A}{x} + \frac{B}{x+2}$$

olduğuna göre, A+B toplamı kaçtır?

- A) 11 B) 9 C) 7 D) 5 E) 3

22.

$$\frac{5}{x} - \frac{4}{y} = 3$$

$$\frac{1}{x} + \frac{1}{y} = \frac{3}{2}$$

olduğuna göre, x+y toplamı kaçtır?

- A) 2 B) 3 C) 4 D) 5 E) 6

23.

$$x+3|x|=16$$

denklemini sağlayan x gerçel sayılarının çarpımı kaçtır?

- A) -32 B) -16 C) 16 D) 32 E) 64

24. Bir öğrenci, 1 den n ye kadar olan doğal sayıları toplarken bir sayıyı yanlışlıkla iki kez topluyor ve sonucu 52 buluyor.

Bu öğrencinin iki kez topladığı sayı nedir?

- A) 4 B) 5 C) 6 D) 7 E) 8

25. Bir satıcı A ve B mallarını satın alırken, A ya, B ye ödediği paranın $\frac{1}{2}$ si kadar para ödüyor. A malını % 10 zararla, B malını % 50 kârla satıyor.

Bu satıcının tüm malın satışından elde ettiği kâr yüzde kaçtır?

- A) 15 B) 25 C) 30 D) 45 E) 55

Diğer sayfaya geçiniz.

26. Bir anne ile kızının yaşları toplamı 54 tür. Annenin yaşı, kızının yaşının 3 katından 6 fazladır.

Buna göre, kızının yaşı kaçtır?

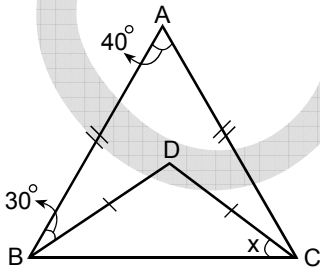
- A) 18 B) 16 C) 15 D) 14 E) 12

27. 85 kişilik bir sınıfta kız öğrencilerin $\frac{1}{4}$ ü ile erkek öğrencilerin $\frac{1}{3}$ ü alınarak bir grup oluşturuluyor.

Oluşturulan grupta erkek öğrencilerin kız öğrencilere oranı $\frac{3}{2}$ olduğuna göre, bu grupta kaç kişi vardır?

- A) 25 B) 30 C) 35 D) 40 E) 45

28.



ABC bir üçgen

$$|AB| = |AC|$$

$$|BD| = |DC|$$

$$m(\widehat{ABD}) = 30^\circ$$

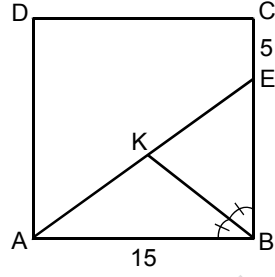
$$m(\widehat{BAC}) = 40^\circ$$

$$m(\widehat{BCD}) = x$$

Yukarıdaki verilere göre, x kaç derecedir?

- A) 25 B) 30 C) 35 D) 40 E) 45

29.



ABCD bir kare

K noktası AE

doğrusu üzerinde

$$m(\widehat{ABK}) = m(\widehat{KBE})$$

$$|AB| = 15 \text{ cm}$$

$$|CE| = 5 \text{ cm}$$

Yukarıdaki verilere göre, KEB üçgeninin alanı kaç cm^2 dir?

- A) 15 B) 20 C) 30 D) 40 E) 60

30. $x + y = 4$ doğrusu üzerinde bulunan ve $A(4, 4)$ noktasına en yakın olan noktanın apsisi kaçtır?

- A) 0 B) 1 C) 2 D) $\frac{1}{2}$ E) $\frac{3}{2}$

A

Ad. Bak. İcra Md. ve Md. Yard. / 2006

31. Birinci Dünya Savaşı'nda, halifenin "cihat" ilan etmesine rağmen Arapların İngilizlerle işbirliğine girmesi aşağıdakilerden hangisinin göstergesidir?

- A) Milliyetçiliğin ön plana çıktığının
- B) İngilizlerle Almanların görüş birliğinde olduğunun
- C) Uluslararası bloklaşmalara verilen önemin giderek arttığının
- D) Arapların savaşa katılmak istemediklerinin
- E) Arapların azınlık olmak istediklerinin

32. Sivas Kongresi'nde "Temsilciler Kurulu vatanın tamamını temsil eder." kararı alınmıştır.

- I. Anadolu ve Rumeli Müdafaa-i Hukuk Cemiyeti
- II. Amasya Görüşmeleri
- III. İstanbul Hükümeti

Bu kararın, yukarıdakilerden hangilerine tepki olduğu savunulabilir?

- A) Yalnız I
- B) Yalnız II
- C) Yalnız III
- D) I ve II
- E) II ve III

33.

- I. Kars
- II. Hatay
- III. Batı Trakya

Misak-ı Milli'de yukarıdaki illerin hangilerinde halkoyuna başvurulmasıyla ilgili karar yoktur?

- A) Yalnız I
- B) Yalnız II
- C) Yalnız III
- D) I ve II
- E) II ve III

34. TBMM Hükümeti, Kurtuluş Savaşı'nda Fransa ile anlaşma yapmak istemiştir.

TBMM'nin bu isteği,

- I. müttefik cephesini bölmek,
- II. Sovyet Rusya'nın para ve silah desteğini sağlamak,
- III. tüm gücü Batı Cephesi'nde kullanmak

durumlarından hangilerini amaçladığını gösterir?

- A) Yalnız I
- B) Yalnız II
- C) Yalnız III
- D) I ve III
- E) I, II ve III

Diğer sayfaya geçiniz.

35. Kurtuluş Savaşı'nda, TBMM Hükümeti'ni tanıyan devletlerin tanıma sırası, ilk tanıyandan son tanıyana doğru aşağıdakilerden hangisidir?

- A) Afganistan – Sovyet Rusya – Fransa
- B) Sovyet Rusya – Fransa – Afganistan
- C) Fransa – Sovyet Rusya – Afganistan
- D) Fransa – Afganistan – Sovyet Rusya
- E) Sovyet Rusya – Afganistan – Fransa

36.

- I. Batı Trakya'daki Türkler
- II. İstanbul'daki Rumlar
- III. İzmir'deki Rumlar

Lozan Antlaşması'na göre Yunanistan ile yapılacak nüfus değişimi, yukarıdakilerden hangilerini kapsamamaktadır?

- A) Yalnız I
- B) Yalnız II
- C) Yalnız III
- D) I ve II
- E) II ve III

37. Öğretim Birliği Kanunu'na (Tevhid-i Tedrisat) göre,

- I. eğitim ve öğretimin laikleşmesi,
- II. öğretim kurumlarının içerikte ve amaçta birbirine zıt bölünmüşlüğü'nün son bulması,
- III. tüm okulların Milli Eğitim Bakanlığına bağlanması

durumlarından hangilerinde ulusal kültür birliğini sağlama amacı olduğu savunulabilir?

- A) Yalnız I
- B) Yalnız II
- C) Yalnız III
- D) I ve II
- E) I, II ve III

38. Cumhuriyet Döneminde görülen dilde Türkçe'ye dönüş, Türk dilini geliştirme, özbenliğine kavuşturma atılımının,

- I. cumhuriyetçilik,
- II. ulusçuluk,
- III. devletçilik

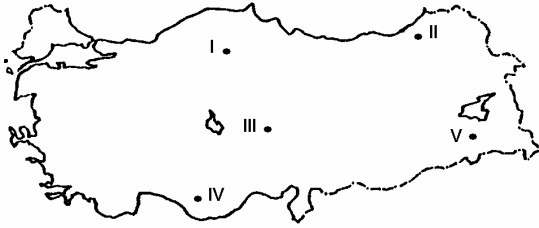
ilkelerinden hangilerinin gereği olduğu savunulabilir?

- A) Yalnız I
- B) Yalnız II
- C) Yalnız III
- D) I ve III
- E) I, II ve III

39. Türkiye'deki en uzun gündüz süresi aşağıda verilen yer ve tarihlerin hangisinde yaşanır?

Yer	Tarih
A) Anamur	24 Ekim
B) Dilucu	31 Aralık
C) Topraktutan	21 Mart
D) İnceburun	21 Haziran
E) Bababurnu	5 Şubat

40. Türkiye'de yamaçların fazla eğimli olduğu yörelerde, erozyon tehlikeli boyutlara ulaşan bir çevre sorunu-
dur.



Haritada numaralanmış yörelerin yer şekilleri göz önüne alındığında, hangisinde eğime bağlı erozyonun etkisi diğerlerinden daha azdır?

- A) I B) II C) III D) IV E) V

41.

- I. Akarsu boyunca vadi tabanları çok geniştir.
- II. Genellikle ulaşım elverişlidir.
- III. Enerji potansiyelleri yüksektir.
- IV. Genellikle aşındırma güçleri fazladır.

Yukarıda verilen akarsulara ait özelliklerden hangileri, Doğu Anadolu Bölgesi'ndeki akarsulara ait özellikler değildir?

- A) Yalnız I B) Yalnız II C) I ve II
D) II ve III E) III ve IV

42.

- I. Pamuk
- II. Elma
- III. Çay
- IV. Mısır

Yukarıdaki ürünlerden hangilerinin aynı iklim bölgesinde doğal olarak yetişmesi zordur?

- A) I ve II B) I ve III C) II ve III
D) II ve IV E) III ve IV

43. Marmara Bölgesi'nde nüfus artışını aşağıdakilerden hangisi en az etkiler?

- A) Yer altı kaynaklarının çeşitliliği
- B) Endüstri kuruluşlarının çeşitliliği
- C) Turizm etkinliklerinin yoğunluğu
- D) Ulaşım olanaklarının fazlalığı
- E) İç göçlerin fazlalığı

44. Aşağıdaki endüstri kollarından hangisi, Karadeniz Bölgesi'nde yoktur?

- A) Sigara B) Şeker C) Bakır işleme
D) Petrokimya E) Demir-çelik

A

Ad. Bak. İcra Md. ve Md. Yard. / 2006

45. 1982 Anayasası'na göre, Bakanlar Kuruluna belli bir konuda kanun hükmünde kararname çıkarma yetkisi veren yetki kanununda aşağıdakilerden hangisi gösterilmez?

- A) Çıkarılacak kanun hükmünde kararnamenin amacı
- B) Çıkarılacak kanun hükmünde kararnamenin kapsamı
- C) Kanun hükmünde kararnamenin yürürlükten kaldıracağı kanun hükümleri
- D) Birden fazla kanun hükmünde kararname çıkarılıp çıkarılmayacağı
- E) Kanun hükmünde kararname çıkarılabilme süresi

46. 1982 Anayasası'na göre, Cumhurbaşkanlığına bağlı olarak kurulan Devlet Denetleme Kurulu aşağıdakilerin hangisinde inceleme, araştırma ve denetleme yapamaz?

- A) Kamuya yararlı dernekler
- B) İşçi sendikaları
- C) Rekabet Kurumu
- D) Türkiye Barolar Birliği
- E) Genelkurmay Başkanlığı

47. 1982 Anayasası'na göre, bir siyasi partinin TBMM'de grup kurabilmesi için en az kaç milletvekiline sahip olması gerekir?

- A) 10 milletvekili
- B) 20 milletvekili
- C) 25 milletvekili
- D) TBMM üye tam sayısının onda biri tutarında milletvekili
- E) TBMM üye tam sayısının yüzde beşi tutarında milletvekili

48. 1982 Anayasası'na göre, aşağıdakilerden hangisi TBMM'nin yetkileri arasında yer almaz?

- A) Milletlerarası antlaşmaları onaylamak
- B) Savaş ilanına karar vermek
- C) Para basılmasına karar vermek
- D) Kesin hesap kanun tasarılarını kabul etmek
- E) Bakanlar Kuruluna belli konularda kanun hükmünde kararname çıkarma yetkisi vermek

49. 1982 Anayasası'na göre, TBMM genel seçimlerinden önce görevden çekilen bakanlar aşağıdakilerin hangisinde birlikte verilmiştir?

- A) Adalet, Milli Savunma, Ulaştırma
- B) Adalet, İçişleri, Milli Savunma
- C) Adalet, İçişleri, Maliye
- D) Adalet, İçişleri, Ulaştırma
- E) İçişleri, Dışişleri, Milli Savunma

50. 1982 Anayasası'na göre, aşağıdakilerden hangisi Cumhurbaşkanına, Anayasa Mahkemesi üyeliğine atanmak üzere aday önerme yetkisine sahip değildir?

- A) Sayıştay
- B) Askeri Yargıtay
- C) Askeri Yüksek İdare Mahkemesi
- D) Yükseköğretim Kurulu
- E) Türkiye Barolar Birliği

**GENEL YETENEK VE GENEL KÜLTÜR
TESTİ BİTTİ.**

ALAN BİLGİSİ TESTİNE GEÇİNİZ.

T.C. ADALET BAKANLIĞI
İCRA MÜDÜR VE İCRA MÜDÜR YARDIMCILARINI SEÇME SINAVI

01 EKİM 2006

GENEL YETENEK VE GENEL KÜLTÜR TESTİ – ALAN BİLGİSİ TESTİ
A KİTAPÇIĞI

- | | | | |
|-------|-------|-------|--------|
| 1. A | 26. E | 51. B | 76. E |
| 2. A | 27. A | 52. E | 77. B |
| 3. D | 28. D | 53. D | 78. D |
| 4. C | 29. C | 54. B | 79. A |
| 5. B | 30. C | 55. E | 80. E |
| 6. E | 31. A | 56. C | 81. C |
| 7. D | 32. C | 57. A | 82. D |
| 8. A | 33. B | 58. D | 83. D |
| 9. E | 34. D | 59. B | 84. C |
| 10. B | 35. A | 60. C | 85. A |
| 11. C | 36. D | 61. B | 86. E |
| 12. D | 37. E | 62. B | 87. B |
| 13. A | 38. B | 63. E | 88. C |
| 14. D | 39. D | 64. C | 89. A |
| 15. C | 40. C | 65. A | 90. D |
| 16. E | 41. C | 66. A | 91. E |
| 17. D | 42. B | 67. D | 92. C |
| 18. C | 43. A | 68. A | 93. C |
| 19. E | 44. D | 69. C | 94. C |
| 20. B | 45. C | 70. D | 95. E |
| 21. D | 46. E | 71. A | 96. D |
| 22. B | 47. B | 72. C | 97. A |
| 23. A | 48. A | 73. C | 98. A |
| 24. D | 49. D | 74. B | 99. C |
| 25. C | 50. E | 75. D | 100. E |