

GENEL KÜLTÜR TESTİ

KPSS/1-GYGK-CS/2006

1. Aşağıdaki alfabelerden hangisi Türklere özgüdür?

- A) Sogd B) Kiril C) Orhon
D) Latin E) Sanskrit

2.

- I. Çini
II. Taş
III. Ahşap

Anadolu Selçukluları mimari yapıların iç ve dış süslemelerinde yukarıdakilerden hangilerini kullanmıştır?

- A) Yalnız I B) Yalnız II C) Yalnız III
D) I ve II E) I, II ve III

3. Batman yakınındaki Hasankeyf'te aşağıdakilerden hangisine ait eserler bulunmaktadır?

- A) Artukoğulları B) Germiyanoğulları
C) Karamanoğulları D) Candaroğulları
E) Aydınoğulları

4. Osmanlı Devleti'nde, aşağıdakilerden hangisi hiyerarşik sıralamada diğerlerinden yüksektir?

- A) Nişancı B) Defterdar
C) Kazasker D) Sadrazam
E) Reisülküttap

5. Osmanlı Devleti'nde, 18. yüzyılda Avrupa'dan getirilen uzmanlardan yararlanılarak askeri alanda ıslahat yapılması aşağıdakilerden hangisini gösterir?

- A) Avrupa'dan ilk kez borç para alındığını
B) Avrupa'yla ekonomik ilişkilerin iyi olduğunu
C) Avrupa'nın teknik alandaki üstünlüğünün kabul edildiğini
D) Müslüman olmayanlara tanınan hakların genişletildiğini
E) Saltanat sisteminde değişiklik yapıldığını

Diğer sayfaya geçiniz.

6. **Kitab-ı Bahriye** adlı eseri ve yaptığı haritalarla ünlü denizci aşağıdakilerden hangisidir?

- A) Kılıç Ali Reis B) Piri Reis
C) Murat Reis D) Seydi Ali Reis
E) Barbaros Hayrettin

7. Osmanlı Devleti'nde, devlet memurlarına setre, pantolon ve fes giyme zorunluluğu hangi padişah döneminde getirilmiştir?

- A) II. Mahmut B) III. Selim
C) Abdülmecit D) I. Abdülhamit
E) IV. Murat

8. Aşağıdakilerden hangisi Osmanlı Devleti'nde, Tanzimat Dönemi'nde görülen gelişmelerden biridir?

- A) İlk Osmanlı matbaasının açılması
B) Müslüman olmayanların askerlik yapabilmesi
C) İlk resmi gazetenin çıkarılması
D) Yeniçeri Ocağı'nın kurulması
E) Nizam-ı Cedit Ordusu'nun kurulması

9. Mustafa Kemal'in komutanlığını yaptığı,

- I. Derne,
II. Anafartalar,
III. Conkbayırı

savaşlarından hangilerinin kazanılması İstanbul'un işgalini önlemiştir?

- A) Yalnız I B) Yalnız II C) Yalnız III
D) I ve III E) II ve III

10. Aşağıdakilerden hangisinin gerçekleştirilmesiyle ilgili kararlar Sivas Kongresi'nde alınmıştır?

- A) Batı Cephesi'nin ikiye ayrılması
B) Anadolu ve Rumeli Müdafaa-i Hukuk Cemiyeti'nin kurulması
C) Temsilciler Kurulu merkezinin Ankara'ya taşınması
D) Mustafa Kemal'in meclis başkanı seçilmesi
E) Milletvekili seçimlerinin iki yılda bir yapılması

11. Son Osmanlı Mebuslar Meclisi'nin toplanmasında,

- I. Sivas Kongresi kararları,
- II. Erzurum Kongresi kararları,
- III. TBMM'nin açılması

gelişmelerinden hangilerinin hızlandırıcı etkisi olduğu savunulabilir?

- A) Yalnız I B) Yalnız II C) Yalnız III
D) I ve II E) II ve III

12. Amasya Görüşmelerine katılan Salih Paşa'nın alınan kararların resmi nitelikte olmadığını Temsilciler Kurulu'na söylemesi, kendisiyle ilgili olarak aşağıdakilerden hangisini gösterir?

- A) Tutuklanmaktan korktuğunu
- B) Alınan kararlarda etkili olduğunu
- C) Görüşmelere hükümetten gizli katıldığını
- D) Anadolu'daki ulusal harekete katılacağını
- E) Kararları, hükümetinin kabul etmemesinden endişe duyduğunu

13. Aşağıdaki ayaklanmalardan hangisi, Kurtuluş Savaşı'nda çıkan ayaklanmalardan biri değildir?

- A) Menemen Ayaklanması
- B) Delibaş Mehmet Ayaklanması
- C) Çopur Musa Ayaklanması
- D) Şeyh Recep Ayaklanması
- E) Cemil Çeto Ayaklanması

14. Kurtuluş Savaşı'nda,

- I. Güney Cephesi'nin kapanması,
- II. Anlaşma Devletleri arasında görüş ayrılığının ortaya çıkması,
- III. Londra Konferansı'nın toplanması

gelişmelerinden hangileri Ankara Antlaşması'nın sonuçları arasındadır?

- A) Yalnız I B) Yalnız II C) Yalnız III
D) I ve II E) I, II ve III

15. 13 Ekim 1921 tarihinde yapılan Kars Antlaşması'nda aşağıdakilerden hangisinin etkisi yoktur?

- A) Gümrü Antlaşması
- B) Yunanlılara karşı kazanılan Sakarya Savaşı
- C) Başkomutanlık Meydan Savaşı
- D) Moskova Antlaşması
- E) Kafkas cumhuriyetlerinin Sovyet Rusya'ya bağlı olması

17. Şapka İnkılabı,

- I. toplumda kadın-erkek eşitliğini sağlamak,
- II. topluma çağdaş görünüm kazandırmak,
- III. resmi işlemlerin takibini kolaylaştırmak

amaçlarından hangilerine yöneliktir?

- A) Yalnız I
- B) Yalnız II
- C) Yalnız III
- D) I ve II
- E) II ve III

16.

- I. Yabancı şirketler tarafından çalıştırılan bazı demiryollarının devletleştirilmesi
- II. Türk karasularında gemi işletme hakkının yalnız Türkiye'ye ait olması
- III. Kooperatifleşmenin yurt çapında yaygınlaştırılması

Yukarıdaki gelişmelerin hangilerinde ulusallaştırma amacı vardır?

- A) Yalnız I
- B) Yalnız II
- C) Yalnız III
- D) I ve II
- E) II ve III

18.

- I. Kadınlara oy hakkının verilmesi
- II. Toplumsal ayrıcalık ifade eden unvanların kaldırılması
- III. Tek kadınla evlilik esasının getirilmesi

Yukarıdakilerden hangileri, 1926 yılında çıkarılan Medeni Kanun'un kapsamındadır?

- A) Yalnız I
- B) Yalnız II
- C) Yalnız III
- D) I ve II
- E) I, II ve III

19. Şeyh Sait Ayaklanması'ndan sonra,

- I. Firariler,
- II. Takrir-i Sükûn,
- III. Başkomutanlık

kanunlarından hangileriyle hükümete, Cumhuriyet rejimini yerleştirmek amacıyla, gerekli önlemleri alması için özel yetki verilmiştir?

- A) Yalnız I B) Yalnız II C) Yalnız III
D) I ve II E) I, II ve III

20. Batılı devletlerle ticaretin kolaylaşmasında,

- I. arşın ve endaze yerine metrenin kullanılması,
- II. hafta tatilinin cumadan pazar gününe alınması,
- III. herkesin resmi bir soyadının olması

konularından hangileriyle ilgili kanunların çıkarılmasının etkili olduğu savunulabilir?

- A) Yalnız I B) Yalnız II C) Yalnız III
D) I ve II E) I, II ve III

21.

- I. Halkevlerinin kurulması
- II. Köy Enstitülerinin açılması
- III. Millet Mekteplerinin açılması

uygulamalarından hangileri, halkın kültürel gelişmesini sağlamaya yöneliktir?

- A) Yalnız I B) Yalnız II C) I ve III
D) II ve III E) I, II ve III

22.

- I. Misak-ı Milli
- II. Mudanya Ateşkes Anlaşması
- III. Tevhid-i Tedrisat Kanunu (Öğretim Birliği)

Yukarıdakilerin hangilerinde yabancı okulların bağımsız kurumlar gibi hareket etmesini önlemeyi amaçlayan hükümler vardır?

- A) Yalnız I B) Yalnız II C) Yalnız III
D) I ve II E) I, II ve III

23. Türkçe'de yazı dili ile konuşma dili arasındaki uyumsuzluk,

- I. Türk Tarih Kurumu'nun kurulması,
- II. Harf İnkılabı'nın yapılması,
- III. medreselerin kapatılması

gelişmelerinden hangileriyle giderilmiştir?

- A) Yalnız I B) Yalnız II C) Yalnız III
D) I ve II E) II ve III

24.

- I. Devletçilik ilkesinin uygulanması
- II. İzmir'de İktisat Kongresi'nin toplanması
- III. Milletler Cemiyeti'ne üye olunması

Türkiye Cumhuriyeti'nde özel girişimde sermaye birikiminin ve gerekli kadronun yeterli olmamasının yukarıdakilerden hangilerini gerekli hale getirdiği savunulabilir?

- A) Yalnız I B) Yalnız II C) Yalnız III
D) I ve II E) I, II ve III

25.

- I. Boğazlar sorunu
- II. Borçlar sorunu
- III. Nüfus değişimi (mübadele)

Yukarıdakilerden hangilerine Atatürk döneminde çözüm getirilmiştir?

- A) Yalnız I B) Yalnız II C) Yalnız III
D) I ve II E) I, II ve III

26.

- I. Türk Parasını Koruma Kanunu'nun çıkarılması
- II. Âşar Vergisi'nin kaldırılması
- III. Ziraat Bankası'ndan kredi verilmesi

Yukarıdakilerden hangileri, tarım kesimini rahatlatma ve üretimi artırma amacıyla doğrudan ilgilidir?

- A) Yalnız I B) Yalnız II C) Yalnız III
D) II ve III E) I, II ve III

27. Musul, 1926 yılında aşağıdakilerin hangisiyle Irak'a bırakılmıştır?

- A) Ankara Antlaşması
- B) Lozan Antlaşması
- C) Mudanya Ateşkes Anlaşması
- D) Misak-ı Milli
- E) Mondros Ateşkes Anlaşması

28.

- I. Halk Partisi
- II. Terakkiperver Cumhuriyet Partisi
- III. Serbest Cumhuriyet Partisi

Atatürk döneminde, yukarıdakilerden hangileri muhalefet partisi olarak kurulmuştur?

- A) Yalnız I
- B) Yalnız II
- C) Yalnız III
- D) I ve II
- E) II ve III

29. Afganistan, İran, Türkiye ve Irak devletleri Sadabat Paktı'nı kurmuştur.

Bu paktın kurulmasında,

- I. uyuşmazlıkların barışçı yoldan çözülmesi,
- II. katılımcı devletlerin bağımsız ve egemen olduklarını vurgulama,
- III. Irak'ta Arap milliyetçiliğinin güçlenmesini engelleme

İsteklerinden hangilerinin etkili olduğu savunulabilir?

- A) Yalnız I
- B) Yalnız II
- C) Yalnız III
- D) I ve II
- E) I, II ve III

30. Türkiye'nin Boğazların güvenliğini sağlamak gereksinimiyle Milletler Cemiyeti'ne başvurmasına, aşağıdaki devletlerden hangisinin Birinci Dünya Savaşı'ndan sonra dünya barışını tehdit eden eylemleri neden olmuştur?

- A) Fransa
- B) Almanya
- C) Sovyet Rusya
- D) İngiltere
- E) İspanya

31. Türkiye’de iklimin aşağıdakilerden hangisi üzerinde etkisi olduğu söylenemez?

- A) Tarımsal etkinliklerin çeşitlilik göstermesi
- B) Akarsu rejimlerinin düzensiz olması
- C) Deniz turizmine elverişli sürenin bölgeler arasında farklılık göstermesi
- D) Bitki örtüsünün çeşitlilik göstermesi
- E) Jeolojik yapının çeşitlilik göstermesi

32. İklimleri göz önüne alındığında, aşağıdaki bölümlerin hangisinde nemli bölge toprakları görülmesi beklenir?

- A) Orta Fırat
- B) Orta Kızılırmak
- C) Ege
- D) Doğu Karadeniz
- E) Erzurum – Kars

33. Aşağıdaki göllerden hangisi, bir koy önünün dalgalarla taşınan kumlar tarafından kapatılması sonucu oluşmuştur?

- A) Beyşehir Gölü
- B) Tortum Gölü
- C) Büyük Çekmece Gölü
- D) İznik Gölü
- E) Kuş Gölü

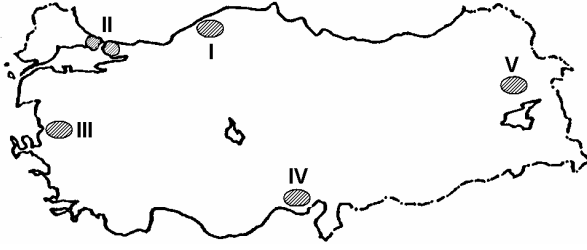
34. Aşağıdakilerden hangisi, Türkiye’de nüfus dağılışı üzerinde en az etkilidir?

- A) Ulaşımın gelişmişliği
- B) Endüstri kuruluşlarının dağılışı
- C) Enerji üretim merkezlerine yakınlık
- D) Ticaretin gelişmişliği
- E) Verimli tarım alanlarının genişliği

35. Türkiye’de kırsal nüfus oranı azalırken kentsel nüfus oranının artmasında aşağıdakilerden hangisi etkili değildir?

- A) Tarımda makineleşmenin hızlanması
- B) Tarım gelirlerinin artması
- C) Kentlerde iş olanaklarının fazla olması
- D) Kentlerde eğitim ve sağlık kuruluşlarının fazla olması
- E) Arazinin miras yoluyla parçalanması

36.



Haritada numaralarla gösterilen yerlerin hangisinde doğurganlık oranı diğerlerinden daha yüksektir?

- A) I B) II C) III D) IV E) V

37. Akdeniz Bölgesi'nin kıyı kesiminde bazı yıllar tarımsal üretimin az olmasında,

- I. don olaylarının olması,
- II. yağışların sellere yol açması,
- III. en yağışlı mevsimin kış olması,
- IV. yaz sıcaklıklarının yüksek olması

nedenlerinden hangileri etkilidir?

- A) I ve II B) I ve III C) II ve III
D) II ve IV E) III ve IV

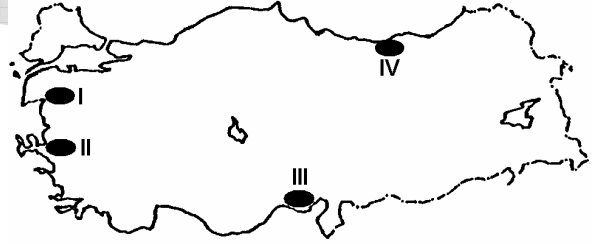
38. Türkiye'nin kıyı bölgelerinin tarımsal özellikleriyle ilgili aşağıdaki ifadelerden hangisi yanlıştır?

- A) Dışsatımda önemli payı olan tarımsal ürünlerin bir bölümü kıyı bölgelerde üretilmektedir.
- B) Tarımsal sulamaya, Akdeniz Bölgesi'nde Ege Bölgesi'nden daha fazla ihtiyaç duyulmaktadır.
- C) Tarımsal etkinliklerin yıl boyunca en uzun süre yapıldığı yerler Akdeniz Bölgesi'nin kıyı kesimleridir.
- D) Kıyı bölgelerin tümünde, kuzey yamaçlardaki tarım alanlarının oranı güney yamaçlara göre daha azdır.
- E) Bölge yüzölçümlerine göre ekili dikili alanlar oranının en fazla olduğu bölge Marmara Bölgesi'dir.

39. Güneydoğu Anadolu Bölgesi'nde sulu tarımın yaygınlaşmasının aşağıdakilerden hangisi üzerinde etkili olması beklenmez?

- A) Tarımda makine kullanımının artmasında
- B) Nüfusun bölge içinde dengeli dağılmasında
- C) Tarım ürünlerinin çeşitlenmesinde
- D) Tarımsal üretimin artmasında
- E) Bölgeye göçün artmasında

40.



Haritada numaralarla gösterilen yerlerde yetiştirilen ve Türkiye ekonomisinde önemli yeri olan tarım ürünleri aşağıdakilerin hangisinde doğru olarak verilmiştir?

	I	II	III	IV
A)	Üzüm	Zeytin	Pamuk	Fındık
B)	Zeytin	Pamuk	Fındık	Üzüm
C)	Pamuk	Fındık	Zeytin	Üzüm
D)	Zeytin	Üzüm	Pamuk	Fındık
E)	Fındık	Pamuk	Üzüm	Zeytin

41. Doğu Karadeniz ve Erzurum-Kars bölümlerinde büyükbaş hayvancılığın yaygın olarak yapılmasında aşağıdakilerden hangisinin etkili olduğu söylenebilir?

- A) Elverişli çayırların bulunması
- B) Nüfus yoğunluğunun fazla olması
- C) Tarım alanlarının sınırlı olması
- D) Kente göçün fazla olması
- E) Akarsu ağının sık olması

42. Türkiye'de bazı balıklar mevsimine göre Karadeniz ile Ege Denizi arasındaki göçleri sırasında avlanmaktadır.

Coğrafi konumları göz önüne alındığında, aşağıdaki yerlerin hangisinde mevsimlik göçleri sırasında avlanan balık miktarının diğerlerinden daha fazla olması beklenir?

- A) Yalova
- B) Mudanya
- C) Gelibolu
- D) Gemlik
- E) Bandırma

43. Türkiye'de endüstri ürünleri dışsatımı yıldan yıla artmaktadır.

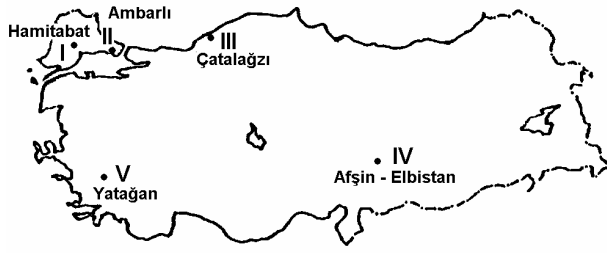
Bu durumun temel nedeni aşağıdakilerden hangisidir?

- A) Yurtiçi tüketimin azalması
- B) Taşımacılığın hızlı ve gelişmiş olması
- C) Kalifiye işçi sayısının artması
- D) Hammadde üretiminde artış olması
- E) Ürünlerin uluslararası standartlara ulaşması

44. Karadeniz ve Akdeniz bölgelerini iç kesimlere bağlayan karayollarının yapım maliyetinin yüksek olmasında aşağıdakilerden hangisinin etkili olduğu söylenebilir?

- A) Yerleşim merkezlerinin çokluğu
- B) Bitki örtüsünün çeşitliliği
- C) Kar yağışlarının çokluğu
- D) Tarım etkinliklerinin fazlalığı
- E) Engebenin fazlalığı

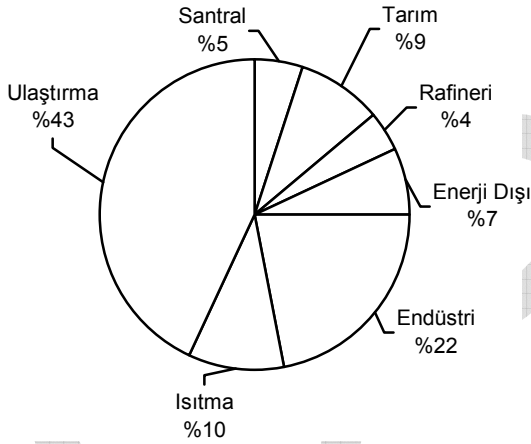
45.



Haritada numaralarla gösterilen yerlerin hangilerinde doğal gazla çalışan termik santral vardır?

- A) I ve II B) I ve V C) II ve III
D) III ve IV E) IV ve V

46. Aşağıdaki grafikte, 2000 yılında Türkiye'deki petrol tüketiminin sektörlere dağılışı gösterilmiştir.



Yalnızca bu grafikteki bilgilere dayanarak aşağıdaki yargılardan hangisine ulaşamaz?

- A) Tüketilen petrolün yarısına yakını ulaştırma sektöründe kullanılmaktadır.
B) Tüketilen petrolün bir kısmı yerli kaynaklardan sağlanmaktadır.
C) Petrolden elektrik enerjisi sağlanmaktadır.
D) Petrolün bir kısmı ham petrol arıtımında kullanılmaktadır.
E) Isıtmada tüketilen petrol miktarı, tarım sektöründe tüketilene yakındır.

47. Aşağıdaki körfezlerin hangisinde, endüstri kuruluşlarının oluşturduğu çevre kirliliği nedeniyle deniz turizmi diğerlerinden daha az gelişmiştir?

- A) İzmit B) Gökova C) Edremit
D) Antalya E) İskenderun

48. Aşağıdaki ören yerlerinden hangisi, İç Anadolu Bölgesi'nde yer almaz?

- A) Çatalhöyük B) Gordion C) Göreme
D) Perge E) Kültepe

49.

- I. Anayasa Mahkemesi Başkanı
- II. TBMM Başkanı
- III. Başbakan
- IV. Cumhurbaşkanı

1982 Anayasası'na göre, yukarıdakilerden hangilerini doğrudan TBMM seçer?

- A) Yalnız I B) Yalnız III C) I ve II
D) II ve IV E) III ve IV

50. 1982 Anayasası'na göre, suç ve cezalarla ilgili aşağıdaki ifadelerden hangisi yanlıştır?

- A) Ölüm cezası ve genel müsadere cezası verilemez.
- B) Suçluluğu hükmen sabit oluncaya kadar kimse suçlu sayılamaz.
- C) Ceza sorumluluğu şahsidir.
- D) Kimse, işlendiği zaman yürürlükte bulunan kanunun suç saymadığı bir fiilden dolayı cezalandırılmaz.
- E) Bir kimse yalnızca sözleşmeden doğan bir yükümlülüğü yerine getirememekten dolayı da özgürlüğünden alıkonulabilir.

51.

- I. Cumhurbaşkanı
- II. TBMM Başkanı
- III. Başbakan
- IV. Bakanlar Kurulu

1982 Anayasası'na göre, yukarıdakilerden hangileri tatil veya ara verme sırasında TBMM'yi doğrudan doğruya toplantıya çağırabilir?

- A) I ve II B) I ve III C) II ve III
D) II ve IV E) III ve IV

52. 1982 Anayasası'na göre, aşağıdakilerden hangisi tüzük çıkarabilir?

- A) Bakanlar Kurulu
- B) Sayıştay
- C) Bakanlıklar
- D) Cumhurbaşkanı
- E) Kamu tüzel kişileri

53. 1982 Anayasası'na göre, Devlet Denetleme Kurulu Başkanı aşağıdakilerden hangisi tarafından atanır?

- A) TBMM Başkanı
- B) Başbakan
- C) Cumhurbaşkanı
- D) Hâkimler ve Savcılar Yüksek Kurulu
- E) Anayasa Mahkemesi Başkanı

54. Aşağıdakilerden hangisi, yerel yönetimler içinde yer almaz?

- A) İl özel idaresi
- B) İlçe idaresi
- C) Belediye idaresi
- D) Büyükşehir belediyesi
- E) Köy idaresi

55. Bir ülkede belli bir zamanda yürürlükte olan hukuk kurallarından sadece yazılı olanlara ne ad verilir?

- A) Kamusal hukuk
- B) Tarihi hukuk
- C) Dogmatik hukuk
- D) Tabii hukuk
- E) Mevzu hukuk

56. 1982 Anayasası'na göre, Türk vatandaşlığıyla ilgili aşağıdaki ifadelerden hangisi yanlıştır?

- A) Türk Devleti'ne vatandaşlık bağı ile bağlı olan herkes Türk'tür.
- B) Türk babanın veya Türk ananın çocuğu Türk'tür.
- C) Hiçbir Türk, vatana bağlılıkla bağdaşmayan bir eylemde bulunmadıkça vatandaşlıktan çıkarılmaz.
- D) Vatandaşlıktan çıkarmayla ilgili karar ve işlemlere karşı yargı yolu kapalıdır.
- E) Vatandaşlık, kanunun gösterdiği şartlarla kazanılır ve ancak kanunda belirtilen hallerde kaybedilir.

57. Aşağıdakilerden hangisi hukuk devletinin şartlarından biri değildir?

- A) Temel hak ve özgürlüklerin güvence altına alınması
- B) Kanunların anayasaya uygunluğunun denetimi
- C) Devlet başkanının yasama organınca seçilmesi
- D) İdarenin yargısal denetiminin yapılması
- E) Yargı bağımsızlığı

A

KPSS/1-GYGK-CS/2006

58. Aşağıdakilerden hangisi Türkiye'den beyin göçünü önlemek için alınması gereken önlemlerden biri değildir?

- A) Bilimsel araştırmalara daha fazla önem verilmesi
- B) Ücretlerin artırılması
- C) Çalışma koşullarının iyileştirilmesi
- D) Üniversitelerin geliştirilmesi
- E) Yabancı ülkelere bilim adamları getirilmesi

60. Avrupa Birliği (AB) üyesi olan aşağıdaki ülkelerden hangisi, AB'nin ortak para birimi olan Avro'yu kabul etmeyerek kendi ulusal para birimini kullanmaya devam etmektedir?

- A) Almanya
- B) Yunanistan
- C) İngiltere
- D) İtalya
- E) Belçika

59. Aşağıdakilerden hangisi Birleşmiş Milletler'e bağlı kuruluşlardan biri değildir?

- A) Gıda ve Tarım Örgütü (FAO)
- B) Ekonomik İşbirliği ve Kalkınma Teşkilatı (OECD)
- C) Dünya Sağlık Örgütü (WHO)
- D) Kalkınma Programı (UNDP)
- E) Uluslararası Çalışma Örgütü (ILO)

TEST BİTTİ.

CEVAPLARINIZI KONTROL EDİNİZ.

KAMU PERSONEL SEÇME SINAVI/1(KPSS/1)

01 TEMMUZ 2006

GENEL KÜLTÜR TESTİ

A KİTAPÇIĞI

- | | | |
|-------|-------|-------|
| 1. C | 21. E | 41. A |
| 2. E | 22. C | 42. C |
| 3. A | 23. B | 43. E |
| 4. D | 24. A | 44. E |
| 5. C | 25. E | 45. A |
| 6. B | 26. D | 46. B |
| 7. A | 27. A | 47. A |
| 8. B | 28. E | 48. D |
| 9. E | 29. D | 49. D |
| 10. B | 30. B | 50. E |
| 11. D | 31. E | 51. A |
| 12. E | 32. D | 52. A |
| 13. A | 33. C | 53. C |
| 14. D | 34. C | 54. B |
| 15. C | 35. B | 55. E |
| 16. D | 36. E | 56. D |
| 17. B | 37. A | 57. C |
| 18. C | 38. D | 58. E |
| 19. B | 39. B | 59. B |
| 20. D | 40. D | 60. C |