

# A

## GENEL KÜLTÜR TESTİ

JOK Astsb / 2008

81. Orta Asya'da Türk boyları arasındaki siyasi anlaşmazlıklar ve bunun yol açtığı savaşlar Türk göçlerine neden olan olaylardan biridir.

**Yalnız bu bilgiyle aşağıdakilerden hangisine ulaşılamaz?**

- A) Göçlere Türk boylarının hepsinin katıldığına
- B) Türk göçlerinde kültürel etkileşim olduğuna
- C) Boylar arasında çıkar çatışmaları olduğuna
- D) Savaşı kaybeden tarafın egemenlik altına girmek istemediğine
- E) Orta Asya'da kurulan Türk devletlerinin boylar hâlinde yaşadığına

82. **Orhun Anıtlarında**, “--- başka kağanlı uluslar arasında onları (Türk ulusu) pek üstün kıldım. Dört bucaktaki bütün ulusları hep barışa mecbur ettim ve düşmanlıktan vazgeçirdim.” **bilgisini veren Bilge Kağan,**

- I. döneminin güçlü olduğu,
- II. diplomatik ilişkilerin çok yoğun olduğu,
- III. diğer ulusların kendisini savaşmak zorunda bıraktığı

**durumlarından hangilerini dile getirmiştir?**

- A) Yalnız I
- B) Yalnız II
- C) Yalnız III
- D) I ve III
- E) I, II ve III

83.

- I. Yönetici aile bireylerinin devleti yönetme hakkının olması
- II. Hükümdarlığın babadan oğula geçmesi
- III. Hükümdarların bilim adamlarının yanında eğitim görerek yetişmesi

**Yukarıdakilerden hangilerinin, Anadolu Selçukluları'nda saltanat kavgalarına neden olduğu savunulabilir?**

- A) Yalnız I
- B) Yalnız II
- C) I ve II
- D) I ve III
- E) I, II ve III

84. Avrupa'da sanayi devrimi sonunda görülen ekonomik gelişmeler Osmanlı Devleti'ni olumsuz etkilemiştir.

**Aşağıdakilerden hangisi, bu durumun sonuçlarından biri değildir?**

- A) Avrupa'da üretilen ürünlerin kolayca Osmanlı pazarına girmesi
- B) Osmanlı Devleti'nde siyasi çöküşün hızlanması
- C) Avrupa'daki teknolojik gelişmelerin hızlanmasına bağlı olarak, Osmanlı ordusunun savaşlarda yenilmesi
- D) Avrupa'daki askerî gelişmelerden yararlanma gereksiniminin ortaya çıkması
- E) Yabancılara ayrıcalıkların verilmesine başlanması

85. Osmanlı toplumu sosyal bakımdan yönetenler (askeriler) ve yönetilenler (reaya) olarak ikiye ayrılır.

**Yönetilenlerden İlimiye sınıfına mensup olanların bir kısmı aşağıdakilerin hangisinde verilmiştir?**

- A) Defterdarlar ve nişancı
- B) Kadılar ve müderrisler
- C) Sadrazam ve beylerbeyi
- D) Sübaşılar ve kapı kulu askerleri
- E) Sancak beyleri ve kale koruyucuları

*Diğer sayfaya geçiniz.*

86. Wilson (Vilson) ilkelerinin Osmanlı Devleti'ni ilgilendiren maddesiyle; Osmanlı Devleti'nde Türklerin oturdukları bölgelere kesin egemenlik hakkı tanınmış ve Türk egemenliği altında bulunan diğer milletlere de kendi kendini yönetme hakkı verilmiştir.

**Bu durumun,**

- I. Osmanlı Devleti'nin parçalanmak istendiği,
- II. Osmanlı Devleti'nin rejim değişikliğine zorlandığı,
- III. gizli anlaşmaların açıklandığı

**durumlarından hangilerini gösterdiği savunulur?**

- A) Yalnız I      B) Yalnız II      C) Yalnız III  
D) I ve II      E) I, II ve III

87. Seçimlerden sonra Vahidettin çoğunluğu Müdafaa-ı Hukuk'a dayanan Mebuslar Meclisinin toplanmasını geciktirmiştir.

**Bu geciktirmede gerekçe olarak aşağıdakilerden hangisini kullanmıştır?**

- A) İstanbul'un resmen işgal edilmesini
- B) Seçimleri ittihatçıların kazandığı iddiasını
- C) Mustafa Kemal'in Meclise katılmamasını
- D) Padişahın Meclisi istediği taktirde kapatma yetkisini
- E) Mustafa Kemal'in Temsilciler Kurulu Başkanı seçilmesini

88. Müdafaa-i Hukuk Cemiyetleri aşağıdakilerden hangisinden sonra kurulmuştur?

- A) TBMM'nin açılması
- B) Misakımillî'nin ilân edilmesi
- C) İstanbul'un resmen işgal edilmesi
- D) Son Mebuslar Meclisinin dağıtılması
- E) Mondros Mütarekesi'nin imzalanması

- 89.

- I. İstanbul
- II. Doğu Trakya
- III. Batı Trakya

**Misakımillî'yle yukarıdakilerden hangilerinin geleceğinin belirlenmesi için halkın oylaması istenmiştir?**

- A) Yalnız I      B) Yalnız II      C) Yalnız III  
D) I ve II      E) II ve III

90. İlk TBMM'de bakanların nasıl seçileceklerine ilişkin yasada yer alan,

- I. her bakanın üzerine aldığı işleri görürken ilgili Meclis komisyonunun görüşünü alabilmesi,
- II. bakanlar arasında çıkacak anlaşmazlıkları Meclisin çözmesi,
- III. her bakanlık için Mecliste ayrı ayrı oylama yapılması

**hükümlerinden hangileri Hükümetin Meclise karşı sorumlu olduğunu gösterir?**

- A) Yalnız I      B) Yalnız II      C) Yalnız III  
D) I ve II      E) I, II ve III

*Diğer sayfaya geçiniz.*

91. Mustafa Kemal, TBMM tarafından başkomutan olarak seçildikten sonra, TBMM'ye 4 Ağustos 1921 tarihinde bir önerge vermiştir. Bu önergede, TBMM'nin sahip olduğu yetkileri fiilen kullanmak koşuluyla başkomutanlık görevini üzerine aldığını ve bu yetkinin üç ay gibi bir süre ile sınırlandırılmasını istemiştir.

**Mustafa Kemal'in bu önergeyle aşağıdakilerden hangisini vurguladığı savunulabilir?**

- A) TBMM'nin kurucu Meclis olduğunu
- B) Başkomutan olmasına karşı çıkanların bulunduğunu
- C) Ulusal egemenliğin gerçek temsilcisinin TBMM olduğuna inandığını
- D) TBMM'nin yetkilerini kullanma süresinin tespitini kendisine bıraktığını
- E) TBMM'nin yetkilerini kullanırken TBMM'ye danışmak zorunda olduğunu

92. **Sovyet Rusya'nın Kafkas Cumhuriyetlerine (Ermenistan-Gürcistan-Azerbaycan) Türkiye ile antlaşma yapmasını önermesi, aşağıdakilerden hangisini gösterir?**

- A) Kafkas Cumhuriyetlerinin dış işlerinde kendisine bağımlı olduğunu
- B) Sovyet Rusya ile Türkiye arasında barış yapıldığını
- C) Kafkas Cumhuriyetleriyle Türkiye'nin komşu olduğunu
- D) Sovyet Rusya'nın Türkiye'deki siyasi rejime karşı olduğunu
- E) Ermenistan ile yapılan Gümrü Antlaşması'nın hükümsüz olduğunu

93. **Kurtuluş Savaşı'nda Anlaşma Devletlerinin,**

- I. ayaklanmaları desteklemesi,
- II. Sivas Kongresi'nin toplanmasını engellemeye çalışması,
- III. Sevr Anlaşması'nın yeniden gözden geçirilmesi amacıyla Londra Konferansı'nı düzenlemesi

**durumlarından hangileri, TBMM'yi istedikleri doğrultuda barış yapmaya zorladıklarını gösterir?**

- A) Yalnız I
- B) Yalnız II
- C) Yalnız III
- D) I ve II
- E) I, II ve III

94. **Halifeliğin kaldırılmasının, aşağıdakilerden hangisinin gerçekleştirilmesinde etkili olduğu savunulamaz?**

- A) Arap alfabesi yerine Latin alfabesinin kabul edilmesi
- B) Şapka giyilmesi hakkında kanun çıkarılması
- C) Tekke ve türbelerin kapatılması
- D) Saltanatın kaldırılması
- E) Medreselerin kapatılması

95.

- I. Karaağaç
- II. Musul
- III. Kapitülasyonlar

**Yukarıdaki konulardan hangilerinin çözümü Lozan'dan daha sonraya bırakılmıştır?**

- A) Yalnız I
- B) Yalnız II
- C) I ve II
- D) I ve III
- E) II ve III

# A

JOK Astsb / 2008

96. Atatürk döneminde çok partili hayata geçiş amacıyla kurulan Serbest Cumhuriyet Partisi, aşağıdaki ilkelerden hangisini programına almamıştır?

- A) Milliyetçilik  
B) Cumhuriyetçilik  
C) Devletçilik  
D) Halkçılık  
E) Laiklik

97. Kabotaj Kanunu'nun kabul edilmesi aşağıdakilerden hangisinin doğrudan bir sonucudur?

- A) Bağımsızlık  
B) Devletçilik  
C) İnkılapçılık  
D) Laiklik  
E) Halkçılık

98. Atatürk döneminde Yugoslavya, İngiltere ve İran devlet başkanları Türkiye'yi ziyaret etmiştir.

**Yalnız bu durumun, aşağıdakilerden hangisinin göstergesi olduğu savunulabilir?**

- A) Geçmişte birlikte yaşanmışlığın  
B) Uluslararası ilişkilerde yakınlaşmanın önem taşıdığıının  
C) Devlet yönetmede aynı rejimlerin benimsendiğinin  
D) Uluslararası ilişkilerde iç işlerine karışmamaya özen gösterildiğinin  
E) Uluslararasıında büyük devletlerden biri olmanın

99. 1935 yılında Pazar gününü resmî tatil kabul eden bir kanun çıkarılmıştır.

**Bu kanunla,**

- I. askerlik,  
II. ekonomik,  
III. politik

**alanlarının hangilerinde Türk milletinin medeni ülkelerle ortak yaşaması ve çalışmasının kolaylaştırılması amaçlanmıştır?**

- A) Yalnız I  
B) Yalnız II  
C) I ve II  
D) I ve III  
E) II ve III

100. Atatürk döneminde Türkiye'nin,

- I. Yunanistan  
II. Ermenistan  
III. Suriye  
IV. Irak

**ülkelerinden hangileriyle sınırları kesinlik kazanmıştır?**

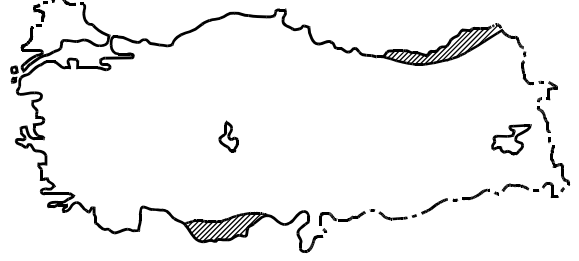
- A) I ve II  
B) II ve III  
C) III ve IV  
D) I, II ve IV  
E) II, III ve IV

*Diğer sayfaya geçiniz.*

101. Aynı coğrafi bölgede bulunmasına karşın, Trabzon'da yerel saatin Kastamonu'dan ileri olmasında, Trabzon'un aşağıdaki özelliklerinden hangisi etkilidir?

- A) Kıyıda yer alması
- B) Daha doğuda olması
- C) Ortalama yükseltisinin daha az olması
- D) Yüz ölçümünün daha küçük olması
- E) Güneyinde sıradağların olması

103.



Haritadaki taralı alanlarda yılın belirli dönemlerinde yaşanan nüfus hareketliliğinin temel nedeni aşağıdakilerden hangisidir?

- A) Hayvan otlatmak amacıyla yaylalara çıkılması
- B) Tarımsal etkinliklerde iş gücüne ihtiyaç duyulması
- C) Sosyal ve kültürel hizmetlerden yararlanma isteği
- D) Deniz turizminden yararlanma isteği
- E) İnşaat sektöründe çalışmak amacıyla kent merkezlerine gidilmesi

102. Dağların denize dik olarak uzanması Ege Bölgesi kıyılarında aşağıdaki özelliklerden hangisini en az etkilemiştir?

- A) Kıyı uzunluğu
- B) Yarımada ve ada sayısı
- C) Doğal bitki örtüsünün türü
- D) İç kesimlerle ulaşım
- E) Doğal limanların sayısı

104. Türkiye'de aşağıdaki tarım ürünlerinden hangisinin üretim alanı diğerlerinden daha geniştir?

- A) Muz
- B) Zeytin
- C) Haşhaş
- D) Fındık
- E) Çay

*Diğer sayfaya geçiniz.*

# A

JOK Astsb / 2008

105. Yaz aylarının yağışlı geçtiği yerlerde buğdaydan alınan verim düşük olmaktadır.

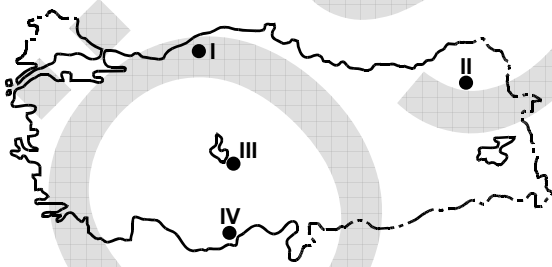
**Buna göre, aşağıda verilen illerden hangi ikisinde buğdaydan alınan verim diğerlerinden daha düşüktür?**

- A) Giresun – Gümüşhane
- B) Sinop – Samsun
- C) Kastamonu – Artvin
- D) Rize – Trabzon
- E) Bartın – Zonguldak

107. Aşağıdakilerden hangisi, üç tarafı denizlerle çevrili olmasına karşın, Türkiye’de deniz balıkçılığının gelişmemesinin nedenlerinden biri değildir?

- A) Açık deniz balıkçılığı yerine kıyı balıkçılığının yapılması
- B) Balık tüketiminin az olması
- C) Balıkların göç ettiği önemli su yollarının bulunması
- D) Denizlerin kirlenmesi sonucunda balık varlığının azalması
- E) Zamansız ve aşırı avlanma yapılması

106.



İklim koşulları göz önüne alındığında yukarıdaki haritada gösterilen merkezlerden hangi ikisinde yazın tarımda sulama gereksiniminin diğerlerinden daha fazla olması beklenir?

- A) I ve II
- B) I ve III
- C) II ve III
- D) II ve IV
- E) III ve IV

108.

- I. Bayburt
- II. Zonguldak
- III. Amasya
- IV. Giresun

Doğal bitki örtüleri göz önüne alındığında, yukarıdaki illerin hangilerinde ormancılık etkinlikleri ve ormana dayalı endüstrinin diğerlerinden daha fazla gelişmiş olması beklenir?

- A) I ve II
- B) I ve III
- C) II ve III
- D) II ve IV
- E) III ve IV

*Diğer sayfaya geçiniz.*

# A

JOK Astsb / 2008

109. Türkiye’de aşağıdaki enerji kaynaklarından hangisi elektrik üretiminde kullanılmamaktadır?

- A) Jeotermal kaynaklar      B) Radyoaktif mineraller  
C) Doğal gaz                      D) Akarsu  
E) Rüzgâr

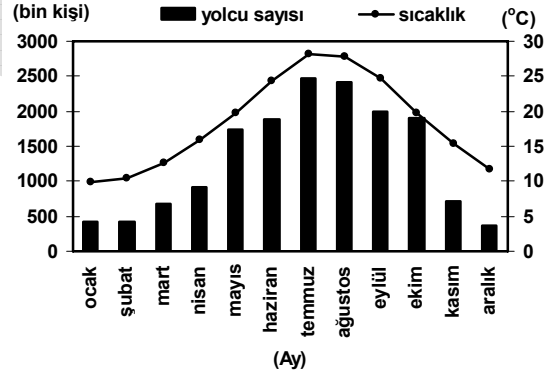
111. Türkiye’de, aşağıdaki endüstri kollarından hangisi diğerlerinden daha yaygındır?

- A) Çay işleme                      B) Otomotiv  
C) Cam                                D) Demir-çelik  
E) Çimento

110. Ege Bölgesi’nde yer alan aşağıdaki endüstri kuruluşlarından hangisinin ham maddesi çoğunlukla yurt dışından karşılanır?

- A) Pamuklu dokuma              B) Şeker  
C) Petrol arıtma                    D) Bitkisel yağ  
E) Konserve

112. Aşağıdaki grafikte Antalya Hava Limanı’na 2007 yılında gelen-giden yolcu sayısı ve Antalya’nın aylık ortalama sıcaklık değerleri verilmiştir.



**Yalnızca grafikteki bilgilerden yararlanarak aşağıdaki yorumlardan hangisi yapılabilir?**

- A) Yolcu sayısındaki değişim sıcaklıktaki değişimle uyum göstermiştir.  
B) Yaz mevsiminde çoğunlukla soğuk iklimlerden turist gelmiştir.  
C) Sonbahar mevsiminde giden yolcu sayısı gelenlerden fazla olmuştur.  
D) Kış mevsiminde hava yolunu kullanan yolcular genellikle kış sporları yapmak için gelmiştir.  
E) Yıl boyunca hava yolunu kullanan yolcuların büyük bir kısmı yurt dışından gelmiştir.

*Diğer sayfaya geçiniz.*

# A

JOK Astsb / 2008

113. 1982 Anayasası'na göre, aşağıdakilerden hangisi sosyal ve ekonomik haklardan biri değildir?

- A) Çalışma  
B) Haberleşme hürriyeti  
C) Sosyal güvenlik  
D) Toplu iş sözleşmesi  
E) Sendika kurma

115. Aşağıdakilerden hangisi TBMM'nin görev ve yetkileri arasında yer almaz?

- A) Kanun yapmak  
B) Güvensizlik oyuyla Bakanlar Kurulunu düşürmek  
C) Türk Silahlı Kuvvetlerinin yabancı ülkelere gönderilmesine karar vermek  
D) Başbakana veya bakanlara belli bir konuda soru sormak  
E) Anayasa Mahkemesine üye seçmek

114. Aşağıdakilerden hangisi hukuk devleti ilkesinin unsurlarından biri değildir?

- A) Yönetimin eylem ve işlemlerinin yargı denetimine tabi olması  
B) Yasaların Anayasa'ya uygunluğunun sağlanması  
C) Cumhurbaşkanının halk tarafından seçilmesi  
D) Suç ve cezaların yasayla düzenlenmesi  
E) Yasa önünde eşitlik ilkesinin benimsenmesi

116. Sayıştayın görev ve yetkileriyle ilgili aşağıdaki ifadelerden hangisi doğrudur?

- A) Genel ve katma bütçeli kuruluşların gelir ve giderlerini TBMM adına denetler.  
B) Hukuk davalarının temyiz merciidir.  
C) Yasaların Anayasa'ya uygunluğunu denetler.  
D) İdari eylem ve işlemlerden kaynaklanan uyuşmazlıklara bakar.  
E) Hâkim ve savcılarının disiplin işlerine bakar.

*Diğer sayfaya geçiniz.*



# A

JOK Astsb / 2008

117. Aşağıdakilerden hangisi Cumhurbaşkanının görev ve yetkileri arasında yer almaz?

- A) Yasaları bir kez daha görüşülmek üzere TBMM'ye geri göndermek
- B) Millî Güvenlik Kuruluna başkanlık etmek
- C) Bakanlar Kurulu kararlarını imzalamak
- D) Gerekli gördüğünde Bakanlar Kurulunun görevine son vermek
- E) Başbakanı atamak

118. Aşağıdaki mahkemelerden hangisi Bakanlar Kurulu üyelerini görevleriyle ilgili işledikleri suçlardan dolayı Yüce Divan sıfatıyla yargılar?

- A) Yargıtay
- B) Danıştay
- C) Anayasa Mahkemesi
- D) Uyuşmazlık Mahkemesi
- E) Sayıştay

119. 1982 Anayasası'na göre, sıkıyönetim hâlinde sıkıyönetim komutanları aşağıdakilerden hangisine bağlı olarak görev yapar?

- A) Genelkurmay Başkanlığı
- B) Emniyet Genel Müdürlüğü
- C) Millî Savunma Bakanlığı
- D) İç İşleri Bakanlığı
- E) Millî Güvenlik Kurulu

120. Aşağıdakilerden hangisi TBMM'nin hükümeti denetleme araçlarından biri değildir?

- A) Bakanlara soru sormak
- B) Belli bir konuda bilgi edinmek amacıyla özel bir komisyon kurup inceleme yapmak
- C) Bakanlar Kurulu üyelerini görevleriyle ilgili olarak işledikleri bir suçtan dolayı Yüce Divana yollamak
- D) Toplum ya da Devlet faaliyetlerini ilgilendiren bir konuyu Genel Kurulda görüşmek
- E) Cumhurbaşkanını güvensizlik oyuyla düşürmek

**TEST BİTTİ.**

**CEVAPLARINIZI KONTROL EDİNİZ.**