

31. Aşağıdakilerden hangisi Türkiye'nin Kuzey Yarımküre'de yer aldığı bir göstergesi olamaz?

- A) Akdeniz Bölgesi'ndeki akarsuların kuzeyden güneye doğru akması
- B) Karadeniz Bölgesi'nde, aralık ayında, gündüz süresinin İç Anadolu Bölgesi'nden daha kısa olması
- C) Marmara Bölgesi'nin yıl boyunca güneş ışınlarını Ege Bölgesi'nden daha eğik alması
- D) Toros Dağları'nın güneye bakan yamaçlarının kuzey yamaçlarından daha sıcak olması
- E) Coğrafi bölgelerin tümünde kuzey sektörlü rüzgârların sıcaklığı düşürmesi

32.

- I. Yamaç eğiminin fazlalığı
- II. Orman üst sınırı
- III. Yıllık yağış tutarı
- IV. Körfez ve yarımada sayısı

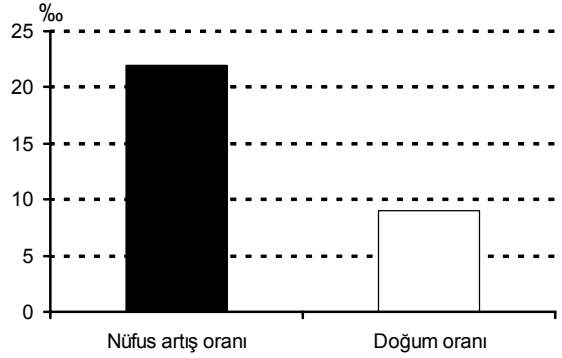
Dağların kıyıya göre uzanışlarının farklı olması, Ege Bölümü kıyılarıyla Doğu Karadeniz Bölümü kıyılarının yukarıdakilerden hangileri bakımından farklı olmasında etkilidir?

- A) I ve II
- B) I ve III
- C) II ve III
- D) II ve IV
- E) III ve IV

33. Türkiye'nin kıyı ovalarında aşağıdaki toprak türlerinden hangisi yaygın olarak görülür?

- A) Tüflü topraklar
- B) Kırmızı topraklar
- C) Alüvyal topraklar
- D) Kahverengi topraklar
- E) Lösler

34. Aşağıdaki grafik, Türkiye'deki bir coğrafi bölgenin iki sayım dönemi arasındaki nüfus artış ve doğum oranlarını göstermektedir.



Buna göre, bu bölgeyle ilgili olarak aşağıdaki yorumlardan hangisine kesin olarak gidilebilir?

- A) Bölge dışından göç almıştır.
- B) Nüfus yoğunluğu Türkiye ortalaması üzerine çıkmıştır.
- C) Okur yazar nüfus oranı yükselmiştir.
- D) Kadın nüfus oranı erkekten fazladır.
- E) Genç nüfus oranı yükselmiştir.

35. Aşağıdakilerin hangisinde verilen bölge özellikleri o bölgenin nüfusunu artırıcı rol oynar?

- A) Doğu Anadolu Bölgesi'nde volkanik dağların geniş alan kaplaması
- B) Karadeniz Bölgesi'nde engebenin fazla olması
- C) Güneydoğu Anadolu Bölgesi'nde yaz kuraklığının şiddetli olması
- D) Akdeniz Bölgesi'nde karstik alanların yaygın olması
- E) Ege Bölgesi'nde akarsuların vadi tabanlarının geniş olması

Diğer sayfaya geçiniz.

36. Aşağıdakilerden hangisi Türkiye’de köy altı yerleşmelerinin özelliklerinden biri değildir?



- A) Ekonomik etkinliklerinin tarım ve hayvancılığa dayalı olması
- B) Dağınık tip yerleşmenin yaygın olması
- C) Su kaynaklarına yakın olması
- D) Genellikle küçük ve az nüfuslu olması
- E) Kent merkezlerine yakın olması

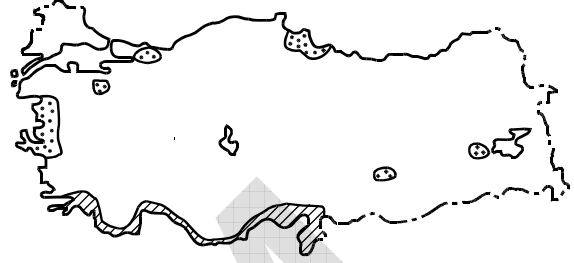
37.

- Toprağı işlemeye ve ekime elverişli süre uzundur.
- Aynı yıl içinde iki kez ürün alma olanağı vardır.
- Elde edilen ürünlerin çeşidi fazla, ekonomik değeri yüksektir.

Tarımla ilgili bu özellikler, aşağıdaki coğrafi bölümlerden hangisine aittir?

- A) Yukarı Fırat
- B) Adana
- C) Konya
- D) Orta Kızılırmak
- E) Ergene

38. Aşağıdaki haritada iki farklı tarım ürününün Türkiye’de yetiştirildiği belli başlı yöreler  ve  işaretleriyle gösterilmiştir.



Bu işaretler hangi tarım ürünlerine ait olabilir?

- | | |
|--|---|
| A)  Turunçgil |  Tütün |
| B) Zeytin | Fındık |
| C) Tütün | Zeytin |
| D) Pamuk | Mısır |
| E) Soya fasulyesi | Turunçgil |

39. Karadeniz Bölgesi’nde fındık ve çay tarımı genelde 500–600 metrelerden daha yüksekte yapılmamaktadır.

Bu durumun temel nedeni aşağıdakilerden hangisidir?

- A) Farklı tarım ürünlerinin yetiştirilmesi
- B) Ormanların sıklaşması
- C) Yerleşim yerlerinin seyrekleşmesi
- D) Sıcaklık ve yağış koşullarının değişmesi
- E) Ulaşım koşullarının zorlaşması

Diğer sayfaya geçiniz.

40. İklim özellikleri göz önüne alındığında, aşağıdaki ovalardan hangisinde, tarımsal ürün çeşidinin diğerlerinden daha az olması beklenir?

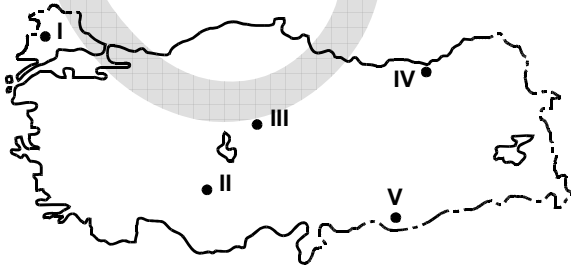
- A) Gediz B) Bursa C) Konya
D) Çarşamba E) Çukurova

41. Buğday, Akdeniz kıyılarında Doğu Anadolu platolarından daha erken hasat edilir.

**Bu durum üzerinde etkili olan etmenler aşağıdaki-
lerin hangisinde birlikte verilmiştir?**

- A) Yağış tutarı – Enlem
B) Enlem – Yükselti
C) Yağış tutarı – Bakı
D) Bakı – Enlem
E) Yükselti – Bakı

42. Türkiye’de koyun, kısa boylu otluk alanların bulunduğu düzlüklerde yaygın olarak yetiştirilir.



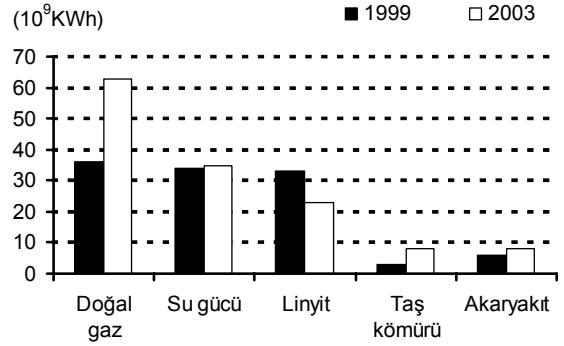
Buna göre, yukarıdaki haritada numaralarla gösterilen yerlerin hangisi koyun yetiştirilmesi için daha az elverişlidir?

- A) I B) II C) III D) IV E) V

43. Aşağıdaki endüstri kuruluşlarından hangisi Türkiye’nin kıyı bölgelerinin tümünde vardır?

- A) Otomotiv B) Çimento
C) Petrokimya D) Demir-çelik
E) Seramik

44. Aşağıdaki grafikte, Türkiye’de 1999 ve 2003 yıllarında üretilen elektriğin enerji kaynaklarına göre dağılışı gösterilmiştir.



Yalnızca grafikteki bilgilerden yararlanarak aşağıdaki yorumlardan hangisine ulaşamaz?

- A) 1999 yılında doğal gaz, su gücü ve linyitten elde edilen enerji miktarları birbirine yakındır.
B) En büyük artış miktarı doğal gazla üretilen enerjide olmuştur.
C) Su gücünden elde edilen enerji miktarındaki artış, taş kömüründen elde edilenden fazladır.
D) 2003 yılında, yalnızca linyitten elde edilen enerji üretiminde azalma olmuştur.
E) 2003 yılında, taş kömürü ve akaryakıt kullanılarak elde edilen enerji miktarı birbirine yakındır.

Diğer sayfaya geçiniz.

45. Aşağıdakilerin hangisinde bir bölüm, yer aldığı bölgenin ekonomisine katkısı az olan bir etkinlikle birlikte verilmiştir?

- A) Ege Bölümü – Ticaret
- B) Antalya Bölümü – Turizm
- C) Çatalca-Kocaeli Bölümü – Endüstri
- D) Konya Bölümü – Madencilik
- E) Hakkâri Bölümü – Hayvancılık

46. Türkiye'nin doğal koşulları düşünüldüğünde, ulaşım sektörüyle ilgili aşağıda verilen karşılaştırmalardan hangisi yanlıştır?

- A) Doğu Anadolu Bölgesi'nde kış aylarında kar yüzünden kapanan kara yolu sayısı, Güneydoğu Anadolu Bölgesi'nden fazladır.
- B) Karadeniz Bölgesi'nde havaalanı yapımı için uygun alanlar, Ege Bölgesi'nden fazladır.
- C) Akdeniz Bölgesi'nde kara yollarında tünel ve köprü yapma zorunluluğu, Güneydoğu Anadolu Bölgesi'nden fazladır.
- D) Marmara Bölgesi'ndeki doğal limanların sayısı, Karadeniz Bölgesi'nden fazladır.
- E) Akdeniz Bölgesi'nde demir yollarının kilometre başına yapım maliyeti, İç Anadolu Bölgesi'nden fazladır.

47. Sinop, doğal bir limana sahip olmasına karşın, Samsun liman kenti olarak daha gelişmiştir.

Bu durum, bu iki kentin aşağıdakilerin hangisi bakımından farklı olmasına bağlanabilir?

- A) Çevresinde yetişen tarım ürünlerinin çeşitliliği
- B) Deniz turizmine uygun alanların çokluğu
- C) İç kesimlerle ulaşımın kolaylığı
- D) Balıkçılık etkinliğinin yoğunluğu
- E) Tarım alanlarının genişliği

48. Türkiye'de iç turizme katılan kişi sayısı 1950 yılından günümüze yaklaşık 30 kat artmıştır.

Aşağıdakilerden hangisinin bu artış üzerindeki etkisi en azdır?

- A) Ulaşım olanaklarının artması
- B) Turistik değerlerin tanıtımının artması
- C) Eğitim düzeyinin yükselmesi
- D) Kişi başına düşen ulusal gelirin yükselmesi
- E) Sağlık hizmetlerinin gelişmesi

**KAMU PERSONEL SEÇME SINAVI (KPSS)
LİSANS**

28 HAZİRAN 2008

**GENEL KÜLTÜR TESTİ
A KİTAPÇIĞI**

- | | | |
|-------|-------|-------|
| 1. C | 21. A | 41. B |
| 2. E | 22. D | 42. D |
| 3. B | 23. E | 43. B |
| 4. A | 24. C | 44. C |
| 5. D | 25. B | 45. D |
| 6. A | 26. D | 46. B |
| 7. D | 27. C | 47. C |
| 8. E | 28. E | 48. E |
| 9. C | 29. D | 49. D |
| 10. A | 30. A | 50. A |
| 11. B | 31. A | 51. E |
| 12. E | 32. E | 52. B |
| 13. C | 33. C | 53. D |
| 14. B | 34. A | 54. C |
| 15. A | 35. E | 55. B |
| 16. E | 36. E | 56. E |
| 17. B | 37. B | 57. A |
| 18. D | 38. A | 58. D |
| 19. C | 39. D | 59. C |
| 20. B | 40. C | 60. A |