

A

GENEL KÜLTÜR TESTİ

KPSS-GYGK-CS / 2008

1. İlk Türk devletlerinde yabgu iç işlerinde serbest, dış işlerinde doğudaki hakana bağlıydı.

Bu durumun aşağıdakilerden hangisine kanıt olduğu savunulabilir?

- A) Hakanın iç işlerine, dış işlerinden daha az önem verdiğine
B) Komşu devletlerin güçlü olduğuna
C) Ülkenin federal bir yapıya sahip olduğuna
D) Hakandan sonra tahta çıkma hakkının yabguya ait olduğuna
E) Türklerin Gök-Tanrı inancının dışındaki inançlara da açık olduğuna

2. Müslüman Türk devletlerinde devlet memurluğu çoğunlukla babadan oğula geçer, iktidar değişimlerinde de iktidar çoğu kez aynı ailede kalırdı.

Aşağıdakilerden hangisi bu durumun sonuçlarından biridir?

- A) Devletin iyi yönetilmesi
B) İşsizliğin önünün kapanması
C) Başarılı bir dış siyaset izlenmesi
D) Yeni mesleklerin önünün kapanması
E) Bürokraside egemen bir sınıfın ortaya çıkması

3. Anadolu Selçuklu Devleti'nde büyük kervansarayların hemen hepsi XIII. yüzyıla aittir.

Bu durumun,

- I. sanat,
II. ticaret,
III. askerlik

alanlarının hangilerinde görülen gereksinimin bir sonucu olduğu savunulabilir?

- A) Yalnız I B) Yalnız II C) Yalnız III
D) I ve II E) II ve III

4. Avrupa XVII. yüzyıl boyunca daha büyük boyutlu bir sanayiye geçmek ve lonca düzeyindeki üretimi aşmak için uğraşmış ve XVIII. yüzyılda bunu gerçekleştirmiştir. Avrupa, sanayi toplumuna doğru yol alırken tarım üretimi azalmış Osmanlı Devleti'nden tarım ürünleri almaya başlamıştır.

Bu durumun Osmanlı Devleti'nde aşağıdakilerden hangisine neden olduğu savunulamaz?

- A) Elinde bulunan ipek ve baharat yollarının önem kazanmasına
B) İpekli sanayinin ham ipeğe, sof sanayinin yapağıya dönüşmesine
C) Tarım üretiminin geçimlik düzeyden pazar ekonomisi düzeyine gelmesine
D) Esnaf gruplarının kendi aralarında paylaşması gereken ham maddenin yurt dışına çıkmasına
E) Sanayinin ham maddesi olan pamuk ve tütün gibi ürünlerin üretiminin yoğunluk kazanmasına

Diğer sayfaya geçiniz.

5. Osmanlı Devleti'nde,

- I. divanın sarayda değil Babıali'de yani sadrazam kapısında toplanmaya başlaması,
- II. şehzadelerin sancağa gönderilmesi uygulamasına son verilmesi,
- III. Osmanlı ailesinin en yaşlı ve olgun üyesinin tahta geçmesi kuralının getirilmesi

durumlarından hangileri, padişahların yetişme biçiminde değişiklik olduğunu gösterir?

- A) Yalnız I B) Yalnız II C) Yalnız III
D) II ve III E) I, II ve III

6.

- I. Osmanlı
- II. Memluk
- III. Selçuklu

Yukarıdaki devletlerin hangilerinde saltanat makamı içinde halifelik anlayışı uygulanmıştır?

- A) Yalnız I B) Yalnız II C) Yalnız III
D) I ve II E) II ve III

7. Osmanlı Devleti'nde eski ve yeni kurumlar işlevlerini bir arada yürütmüştür.

Bu durum aşağıdaki dönemlerden hangisiyle başlamıştır?

- A) Kuruluş B) Yükselme C) Duraklama
D) Tanzimat E) Meşrutiyet

8. Aşağıdakilerden hangisi XIX. yüzyılda Osmanlı Devleti'nde yapılan ıslahat hareketlerinin özelliklerinden biri değildir?

- A) Avrupa devletlerinin, Osmanlı Devleti'nin iç işlerine karışmasını önleme amaçlı olması
B) Müslüman olmayanları memnun edecek çeşitli düzenlemeleri içermesi
C) Avrupa devletlerinin desteğinin sağlanmasının amaçlanması
D) Avrupa kültürünün etkisinde hazırlanması
E) Sadece askerlik alanında yapılması

9. Osmanlı Devleti aşağıdakilerden hangisiyle Avrupa devletlerinin pazarı hâline gelmiştir?

- A) Paris Antlaşması
B) Boğazlar Sözleşmesi
C) Balta Limanı Ticaret Sözleşmesi
D) Hünkâr İskeleyi Antlaşması
E) Meşrutiyetin ilan edilmesi

10. Erzurum Kongresi kararlarının aşağıdakilerin hangisinde etkili olduğu savunulamaz?

- A) Sivil ve askerî yöneticilerin işgallere karşı mitingler düzenlemeleri için genelgeler yayımlanması
- B) Lozan Antlaşması'nın bağımsızlığı savunan ruhu
- C) TBMM'nin toplanış ve açılış gerekçesi
- D) Sivas Kongresi kararları
- E) Amasya Protokolleri

11. Sivas Kongresi'nden sonra, Temsilciler Kurulunun girişimleriyle Damat Ferit Paşa Kabinesi düşürülmüş ve Kabineyi Ali Rıza Paşa kurmuştur.

Bu duruma göre aşağıdakilerden hangisi söylenemez?

- A) İstanbul Hükümeti ile Anadolu arasında ilişkilerin yeniden kurulduğu
- B) Padişahın Anlaşma Devletlerinin etkisinden kurulduğu
- C) İstanbul Hükümetinin Anadolu'nun gücünü tanıdığı
- D) Damat Ferit Paşa Kabinesinin Temsilciler Kurulu çalışmalarına karşı olduğu
- E) Ali Rıza Paşa Kabinesinin Sivas Kongresi'nde seçilen Temsilciler Kurulunun isteklerine uymak zorunda kalabileceği

12. Kurtuluş Savaşı'nda Gürcistan, Ermenistan Hükümetleriyle Kars Antlaşması yapılmıştır.

Bu antlaşmanın yapılmasında aşağıdakilerin hangisinin etkili olduğu savunulabilir?

- A) Anlaşma Devletlerinin 22 Mart 1922'de barış için yeni koşullar önermesi
- B) Rodos ve On İki Ada'nın İtalya'ya bırakılması
- C) Mudanya Antlaşması'nın imzalanması
- D) Musul'un Irak'a bırakılması
- E) Sakarya Savaşı'nın kazanılması

13. Amasya Görüşmelerinde yapılan üçüncü protokolle, Ermeni göçü sırasında suç işleyenlerin mebus seçimlerine katılmalarının önlenmesi istenmiş, siyasi partilerin ve Hristiyan toplulukların seçime katılmalarının sağlanması için çaba gösterileceği belirtilmiştir.

Bu durumun aşağıdakilerden hangisinin göstergesi olduğu savunulamaz?

- A) Meclise ülkeyi temsil eden tüm siyasi görüşlerin girmesi gereğine inanıldığıının
- B) Seçimlerin yapılması için huzurlu bir ortamın sağlanmaya çalışıldığıının
- C) Seçimlerin erken yapılmasının zaman kazandıracağıının
- D) Uygulamalarda adil davranılmasının gereğine inanıldığıının
- E) Birlik ve beraberliğin sağlanmasına gerek görülmediğünün

14. Batı Cephesinde Yunanistan'la yapılan aşağıdaki savaşlardan hangilerinin sonunda, Anlaşma Devletleri Yunan ordusunu güçlendirmek amacıyla TBMM'yle ilişki kurarak Sevr Antlaşması'nın koşullarını değiştirmek istemiştir?

- A) Birinci İnönü – İkinci İnönü
- B) Birinci İnönü – Sakarya
- C) Sakarya – Büyük Taarruz
- D) İkinci İnönü – Kütahya-Eskişehir
- E) Kütahya-Eskişehir – Büyük Taarruz

15. Aşağıdakilerden hangisi TBMM'ye karşı başlatılan ayaklanmaların nedenlerinden biri değildir?

- A) Seçim çalışmalarının başlaması
- B) Azınlıkların devlet kurmak istemesi
- C) İstanbul Hükümetince halkın dinî duygularının kötüye kullanılması
- D) Osmanlı Devleti'nin zayıflığından yararlanarak bazı ailelerin otoriteyi ellerine geçirmesi
- E) Bazı Kuvayımiliye birliklerinin yeni orduya katılmaya ve devlet düzenine girmeye karşı olması

16. Atatürk'ün 1925 yılında, "... Artık hükümet ile millet arasında geçmişteki ayrılık kalmamıştır. Hükümet millettir ve millet hükümettir. Artık hükümet ve hükümet üyeleri kendilerinin millettan ayrı olmadıklarını ve milletin efendi olduğunu anlamışlardır." şeklindeki anlatımıyla,

- I. milletin yönetime katıldığı,
- II. millete değerinin verildiği,
- III. hükümetlerin demokrasinin önemini kavradığı

durumlarından hangilerine ulaşıldığı savunulabilir?

- A) Yalnız I
- B) Yalnız II
- C) Yalnız III
- D) I ve II
- E) I, II ve III

17. 20 Ocak 1921 tarihli anayasa'da yer alan bazı maddeler şunlardır:

- Egemenlik kayıtsız şartsız millettir.
- Türk Devleti TBMM tarafından idare olunur.
- Kanun yapma ve kanunları yürütme gücü Mecliste toplanmıştır.

Bu maddelere göre aşağıdakilerden hangisi yönünde yargıya varılamaz?

- A) Padişah hukuki ve siyasi yetkilerinden yoksun bırakılmıştır.
- B) Yeni Türk Devleti'nin siyasi yapısı tamamlanmıştır.
- C) Yeni Türk Devleti'nin siyasal yapısının ilkeleri belirlenmiştir.
- D) Osmanlı Devleti fiilen yok sayılmıştır.
- E) Halk egemenliği önemsenmiştir.

18. İsmet İnönü, Lozan Antlaşması'nı imzaladıktan sonra İstanbul Üniversitesinde başarının sırrını: "Yaşamaya yetecek güçte olduğumuzu belirtmeye gitmiştik ... kuvvetli durumdaydık. Reddediyoruz dediğimiz zaman ulusun da reddedeceğini biliyorduk." şeklinde açıklamıştır.

İsmet İnönü'nün bu açıklamasıyla,

- I. laiklik,
- II. bağımsızlık,
- III. ulus egemenliği

ilkelerinden hangilerini vurguladığı savunulabilir?

- A) Yalnız I B) Yalnız II C) Yalnız III
D) II ve III E) I, II ve III

19. Soyadı Kanunu'yla tüm vatandaşlara, aile ismi olarak öz adları yanında soyadı kullanma zorunluluğu getirilmiştir.

Bu zorunluluğun,

- I. sınıf farklılıklarının isim olarak kullanılması,
- II. isim benzerliklerinin bazı karışıklıklara neden olması,
- III. toplumda azınlık olan Türkiye Cumhuriyeti vatandaşlarının bulunması

durumlarının hangilerinden kaynaklandığı savunulabilir?

- A) Yalnız I B) Yalnız II C) I ve II
D) I ve III E) II ve III

20. Atatürkçü milliyetçilik anlayışı laiktir.

Bu yargıyı aşağıdakilerden hangisi destekler?

- A) Milleti oluşturan unsurlar arasında ırk ve köken birliğinin temel alınması
- B) Vatandaşların istedikleri dini ve mezhebi seçmesi
- C) Toplumun ırk, din ve mezhep çizgileriyle bölünmesi
- D) Devletin resmî bir dininin olması
- E) Ümmetçi düşünce yapısı

21. TBMM'de öğretimin birleştirilmesine ilişkin öneri aşağıdakilerden hangisiyle birlikte görüşülerek yasalaştırılmıştır?

- A) Halifeliğin kaldırılması
- B) Cumhuriyetin ilanı
- C) Saltanatın kaldırılması
- D) 1921 Anayasası'nın yapılması
- E) Tekke ve türbelerin kapatılması

22. Halkçılık ilkesinin demokratik olma özelliğini,

- I. ayrıcalıklara karşı olması,
- II. egemenliğin halkın bir kesimine ait olması,
- III. herkesin kanun önünde eşit kabul edilmesi

durumlarından hangileri destekler?

- A) Yalnız I B) Yalnız II C) I ve II
D) I ve III E) II ve III

23. Cumhuriyet Döneminde kalkınmada sanayileşmeye önem vermek amacıyla Teşviki Sanayi Kanunu çıkarılmıştır. Bu Kanun'la sanayi kuruluşlarına üretecekleri malların değerine göre %10 prim verilmiş ve ithal ürünlerinden %10 daha pahalı da olsa devlet kurumlarına bunları kullanma zorunluluğu getirilmiştir.

Bu durumun,

- I. üretimin artırılmak istendiği,
- II. ithalatın kısıtlanmak istendiği,
- III. sermaye birikimine devlet desteği sağlandığı

durumlarından hangilerinin göstergesi olduğu savunulabilir?

- A) Yalnız I B) Yalnız II C) Yalnız III
D) I ve II E) I, II ve III

24. 1923-1928 yılları arasında önemli atılımlar yapıldığı hâlde, harf inkılabı ancak 1928 yılında gerçekleştirilebilmiştir.

Bu gecikmede,

- I. harf inkılabına çok önem verilmesi ve başarısının rastlantıya bırakılmak istenmemesi,
- II. daha önce bu konuda yapılmış olan çalışmaların sonuçsuz kalması,
- III. Arap alfabesinin harf sayısının sayıca fazla olması

durumlarından hangilerinin etkili olduğu savunulabilir?

- A) Yalnız I B) Yalnız II C) I ve II
D) I ve III E) I, II ve III

- 25.

- Halifeliğin kaldırılmasıyla şeriatı aykırı olduğu yolunda fetva vermeye kalkışan fetva makamının ortadan kaldırılması
- Siyasal amaçlarla sömürülebilir olan Terakkîperver Cumhuriyet Partisinin kapatılması

Yukarıdaki gelişmelerin aşağıdakilerden hangisine ortam hazırladığı savunulabilir?

- A) Cumhuriyetin ilan edilmesi ve cumhurbaşkanının seçilmesi
B) Anayasadan laikliğe aykırı hükümlerin çıkarılması
C) Ulus egemenliğine dayalı yeni bir anayasa yapılması
D) Hıyanet-i Vataniye Kanunu'nun çıkarılması
E) Saltanatın kaldırılması

26. Cumhuriyet'in ilk on beş yılında kurulan bankalar arasında Türkiye Cumhuriyeti Merkez Bankasının önemli yeri olmasında,

- I. çiftçiye kredi verilmesi,
- II. ulusal bankalara destek verilmesi,
- III. Osmanlı Bankasına verilmiş olan kâğıt para çıkarma ayrıcalığının giderilmesi

görevlerinden hangilerini üstlenmiş bir kuruluş olmasının etkisi vardır?

- A) Yalnız I B) Yalnız II C) Yalnız III
D) II ve III E) I, II ve III

27. 1923 yılında, 1921 Anayasası'nda yapılan değişikliklerle Türkiye Devleti'nin,

- I. siyasi rejimi,
- II. hükümetin oluşturulma biçimi,
- III. seçim sistemi

konularından hangileri belirlenmiştir?

- A) Yalnız I B) Yalnız II C) I ve II
D) I ve III E) I, II ve III

28. Atatürk Döneminde çok partili hayata geçiş amacıyla kurulan partilerden Serbest Cumhuriyet Partisinin programında,

- I. cumhuriyetçilik,
- II. devletçilik,
- III. laiklik

ilkelerinden hangileri yer almıştır?

- A) Yalnız I B) Yalnız II C) Yalnız III
D) I ve II E) I ve III

29.

- I. Boğazların Türk egemenliğine geçmesi
- II. İtalya'nın Rodos ve On İki Ada'yı Yunanistan'a bırakması
- III. Ege adalarının silahsızlandırılması

Yukarıdakilerden hangileri Atatürk Dönemi gelişmeleri arasındadır?

- A) Yalnız I B) Yalnız II C) Yalnız III
D) I ve III E) I, II ve III

30. Aşağıdakilerden hangisi Sadabad Paktının kurulmasına neden olan gelişmelerden biridir?

- A) İtalya'nın Asya ve Afrika'ya doğru yayılma siyaseti izlemesi
- B) Boğazlardan geçmek isteyen yabancı savaş gemilerinin Türkiye'den izin almak durumunda olması
- C) 1929 yılında Amerika'nın ekonomik kriz yaşaması
- D) Birleşmiş Milletler Teşkilatının kurulması
- E) İngiltere'nin Kıbrıs'ı işgal etmesi

31. Aşağıdakilerden hangisi Türkiye'nin Kuzey Yarım Küre'de yer aldığı bir göstergesi olamaz?

- A) Akdeniz Bölgesi'ndeki akarsuların kuzeyden güneye doğru akması
- B) Karadeniz Bölgesi'nde, aralık ayında, gündüz süresinin İç Anadolu Bölgesi'nden daha kısa olması
- C) Marmara Bölgesi'nin yıl boyunca güneş ışınlarını Ege Bölgesi'nden daha eğik alması
- D) Toros Dağları'nın güneye bakan yamaçlarının kuzey yamaçlarından daha sıcak olması
- E) Coğrafi bölgelerin tümünde kuzey sektörlü rüzgârların sıcaklığı düşürmesi

32.

- I. Yamaç eğiminin fazlalığı
- II. Orman üst sınırı
- III. Yıllık yağış tutarı
- IV. Körfez ve yarımada sayısı

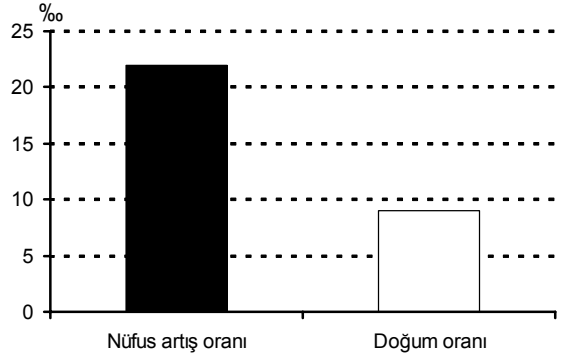
Dağların kıyıya göre uzanışlarının farklı olması, Ege Bölümü kıyılarıyla Doğu Karadeniz Bölümü kıyılarının yukarıdakilerden hangileri bakımından farklı olmasında etkilidir?

- A) I ve II
- B) I ve III
- C) II ve III
- D) II ve IV
- E) III ve IV

33. Türkiye'nin kıyı ovalarında aşağıdaki toprak türlerinden hangisi yaygın olarak görülür?

- A) Tüflü topraklar
- B) Kırmızı topraklar
- C) Alüvyal topraklar
- D) Kahverengi topraklar
- E) Lösler

34. Aşağıdaki grafik, Türkiye'deki bir coğrafi bölgenin iki sayım dönemi arasındaki nüfus artış ve doğum oranlarını göstermektedir.



Buna göre, bu bölgeyle ilgili olarak aşağıdaki yorumlardan hangisine kesin olarak gidilebilir?

- A) Bölge dışından göç almıştır.
- B) Nüfus yoğunluğu Türkiye ortalaması üzerine çıkmıştır.
- C) Okur yazar nüfus oranı yükselmiştir.
- D) Kadın nüfus oranı erkekten fazladır.
- E) Genç nüfus oranı yükselmiştir.

35. Aşağıdakilerin hangisinde verilen bölge özellikleri o bölgenin nüfusunu artırıcı rol oynar?

- A) Doğu Anadolu Bölgesi'nde volkanik dağların geniş alan kaplaması
- B) Karadeniz Bölgesi'nde engebenin fazla olması
- C) Güneydoğu Anadolu Bölgesi'nde yaz kuraklığının şiddetli olması
- D) Akdeniz Bölgesi'nde karstik alanların yaygın olması
- E) Ege Bölgesi'nde akarsuların vadi tabanlarının geniş olması

Diğer sayfaya geçiniz.

36. Aşağıdakilerden hangisi Türkiye’de köy altı yerleşmelerinin özelliklerinden biri değildir?



- A) Ekonomik etkinliklerinin tarım ve hayvancılığa dayalı olması
- B) Dağınık tip yerleşmenin yaygın olması
- C) Su kaynaklarına yakın olması
- D) Genellikle küçük ve az nüfuslu olması
- E) Kent merkezlerine yakın olması

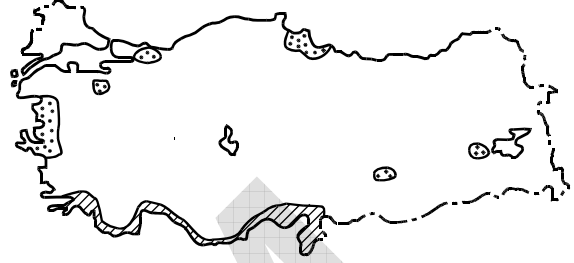
37.

- Toprağı işlemeye ve ekime elverişli süre uzundur.
- Aynı yıl içinde iki kez ürün alma olanağı vardır.
- Elde edilen ürünlerin çeşidi fazla, ekonomik değeri yüksektir.

Tarımla ilgili bu özellikler, aşağıdaki coğrafi bölgelerden hangisine aittir?

- A) Yukarı Fırat
- B) Adana
- C) Konya
- D) Orta Kızılırmak
- E) Ergene

38. Aşağıdaki haritada iki farklı tarım ürününün Türkiye’de yetiştirildiği belli başlı yöreler  ve  işaretleriyle gösterilmiştir.



Bu işaretler hangi tarım ürünlerine ait olabilir?

- | | |
|--|---|
| A)  Turunçgil |  Tütün |
| B) Zeytin | Fındık |
| C) Tütün | Zeytin |
| D) Pamuk | Mısır |
| E) Soya fasulyesi | Turunçgil |

39. Karadeniz Bölgesi’nde fındık ve çay tarımı genelde 500–600 metrelerden daha yüksekte yapılmamaktadır.

Bu durumun temel nedeni aşağıdakilerden hangisidir?

- A) Farklı tarım ürünlerinin yetiştirilmesi
- B) Ormanların sıklaşması
- C) Yerleşim yerlerinin seyrekleşmesi
- D) Sıcaklık ve yağış koşullarının değişmesi
- E) Ulaşım koşullarının zorlaşması

Diğer sayfaya geçiniz.

40. İklim özellikleri göz önüne alındığında, aşağıdaki ovalardan hangisinde, tarımsal ürün çeşidinin diğerlerinden daha az olması beklenir?

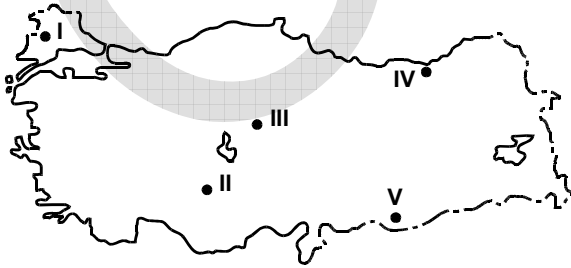
- A) Gediz B) Bursa C) Konya
D) Çarşamba E) Çukurova

41. Buğday, Akdeniz kıyılarında Doğu Anadolu platolarından daha erken hasat edilir.

Bu durum üzerinde etkili olan etmenler aşağıdaki-lerin hangisinde birlikte verilmiştir?

- A) Yağış tutarı – Enlem
B) Enlem – Yükselti
C) Yağış tutarı – Bakı
D) Bakı – Enlem
E) Yükselti – Bakı

42. Türkiye’de koyun, kısa boylu otluk alanların bulunduğu düzlüklerde yaygın olarak yetiştirilir.



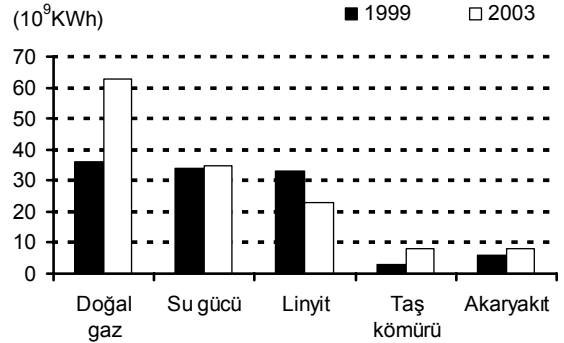
Buna göre, yukarıdaki haritada numaralarla gösterilen yerlerin hangisi koyun yetiştirilmesi için daha az elverişlidir?

- A) I B) II C) III D) IV E) V

43. Aşağıdaki endüstri kuruluşlarından hangisi Türkiye’nin kıyı bölgelerinin tümünde vardır?

- A) Otomotiv B) Çimento
C) Petrokimya D) Demir-çelik
E) Seramik

44. Aşağıdaki grafikte, Türkiye’de 1999 ve 2003 yıllarında üretilen elektriğin enerji kaynaklarına göre dağılışı gösterilmiştir.



Yalnızca grafikteki bilgilerden yararlanarak aşağıdaki yorumlardan hangisine ulaşamaz?

- A) 1999 yılında doğal gaz, su gücü ve linyitten elde edilen enerji miktarları birbirine yakındır.
B) En büyük artış miktarı doğal gazla üretilen enerjide olmuştur.
C) Su gücünden elde edilen enerji miktarındaki artış, taş kömüründen elde edilenden fazladır.
D) 2003 yılında, yalnızca linyitten elde edilen enerji üretiminde azalma olmuştur.
E) 2003 yılında, taş kömürü ve akaryakıt kullanılarak elde edilen enerji miktarı birbirine yakındır.

Diğer sayfaya geçiniz.

45. Aşağıdakilerin hangisinde bir bölüm, yer aldığı bölgenin ekonomisine katkısı az olan bir etkinlikle birlikte verilmiştir?

- A) Ege Bölümü – Ticaret
- B) Antalya Bölümü – Turizm
- C) Çatalca-Kocaeli Bölümü – Endüstri
- D) Konya Bölümü – Madencilik
- E) Hakkâri Bölümü – Hayvancılık

46. Türkiye'nin doğal koşulları düşünüldüğünde, ulaşım sektörüyle ilgili aşağıda verilen karşılaştırmalardan hangisi yanlıştır?

- A) Doğu Anadolu Bölgesi'nde kış aylarında kar yüzünden kapanan kara yolu sayısı, Güneydoğu Anadolu Bölgesi'nden fazladır.
- B) Karadeniz Bölgesi'nde havaalanı yapımı için uygun alanlar, Ege Bölgesi'nden fazladır.
- C) Akdeniz Bölgesi'nde kara yollarında tünel ve köprü yapma zorunluluğu, Güneydoğu Anadolu Bölgesi'nden fazladır.
- D) Marmara Bölgesi'ndeki doğal limanların sayısı, Karadeniz Bölgesi'nden fazladır.
- E) Akdeniz Bölgesi'nde demir yollarının kilometre başına yapım maliyeti, İç Anadolu Bölgesi'nden fazladır.

47. Sinop, doğal bir limana sahip olmasına karşın, Samsun liman kenti olarak daha gelişmiştir.

Bu durum, bu iki kentin aşağıdakilerin hangisi bakımından farklı olmasına bağlanabilir?

- A) Çevresinde yetişen tarım ürünlerinin çeşitliliği
- B) Deniz turizmine uygun alanların çokluğu
- C) İç kesimlerle ulaşımın kolaylığı
- D) Balıkçılık etkinliğinin yoğunluğu
- E) Tarım alanlarının genişliği

48. Türkiye'de iç turizme katılan kişi sayısı 1950 yılından günümüze yaklaşık 30 kat artmıştır.

Aşağıdakilerden hangisinin bu artış üzerindeki etkisi en azdır?

- A) Ulaşım olanaklarının artması
- B) Turistik değerlerin tanıtımının artması
- C) Eğitim düzeyinin yükselmesi
- D) Kişi başına düşen ulusal gelirin yükselmesi
- E) Sağlık hizmetlerinin gelişmesi

A

KPSS-GYGK-CS / 2008

49. Bir ülkede, yetkili bir makam tarafından konulan ve hâlen yürürlükte bulunan hukuk kurallarının tümüne ne ad verilir?

- A) Pozitif hukuk B) Tabii hukuk
C) İdeal hukuk D) Mevzu hukuk
E) Objektif hukuk

50. Bir somut olaya uygulanacak yazılı ya da yazılı olmayan bir hukuk kuralının bulunmaması durumuna ne ad verilir?

- A) Hukuk boşluğu B) Kural içi boşluk
C) Örtülü boşluk D) Kanun boşluğu
E) Açık boşluk

51. Hakların kullanılması ve borçların yerine getirilmesinde geçerli olan ana ilke aşağıdakilerden hangisidir?

- A) Genellik
B) Eşitlik
C) Özerklik
D) Subjektif iyi niyet
E) Dürüstlük (Objektif iyi niyet)

52. 1982 Anayasası'na göre, suç ve cezalarla ilgili aşağıdaki ifadelerden hangisi yanlıştır?

- A) Ceza ve ceza yerine geçen güvenlik tedbirleri ancak kanunla konulabilir.
B) Vatandaş hiçbir durumda suç sebebiyle yabancı bir ülkeye verilemez.
C) Suçluluğu hükmen sabit oluncaya kadar hiç kimse suçlu sayılamaz.
D) Ceza sorumluluğu şahsidir.
E) Kanuna aykırı olarak elde edilmiş bulgular delil olarak kabul edilemez.

53.

- I. Tutuklular
II. Askerî öğrenciler
III. Yurt dışında çalışan Türk vatandaşları
IV. Silah altında bulunan er ve erbaşlar
V. Taksirli suçlardan hüküm giyenler hariç ceza infaz kurumlarında bulunan hükümlüler

1982 Anayasası'na göre, yukarıdakilerden hangileri seçimlerde oy kullanamaz?

- A) I, II ve V B) I, IV ve V C) II, III ve IV
D) II, IV ve V E) III, IV ve V

Diğer sayfaya geçiniz.

A

KPSS-GYGK-CS / 2008

54. 1982 Anayasası'na göre, aşağıdakilerden hangisi TBMM üyeliğinin sona erme nedenlerinden biridir?

- A) Bakanlar Kurulunda bakan olarak görev almak
- B) TBMM Başkanı sıfatıyla Cumhurbaşkanına vekillik etmek
- C) Meclis çalışmalarına özürsüz veya izinsiz olarak 1 ay içinde toplam 5 birleşim günü katılmamak
- D) TBMM komisyonlarında görev almak
- E) Cumhurbaşkanınca Başbakan olarak atanmak

56. 1982 Anayasası'na göre, uygulanmakta olan olağanüstü hâlin, Bakanlar Kurulunun istemi üzerine her defasında 4 ayı geçmemek üzere uzatılmasına karar vermeye aşağıdakilerden hangisi yetkilidir?

- A) Cumhurbaşkanı
- B) Millî Güvenlik Kurulu
- C) Genelkurmay Başkanı
- D) İçişleri Bakanı
- E) TBMM

55. Hâkimler ve Savcılar Yüksek Kuruluyla ilgili aşağıdaki ifadelerden hangisi yanlıştır?

- A) Anayasa'da açıkça düzenlenmiştir.
- B) Kurulun başkanı, Adalet Bakanlığı müsteşarıdır.
- C) Adli ve idari yargı hâkim ve savcılarını mesleğe kabul etme, Kurulun yetkilerindedir.
- D) Kurul, seçimle gelen asıl üyeleri arasından bir başkan vekili seçer.
- E) Üyeler 4 yıl için seçilirler ve süresi biten üye yeniden seçilebilir.

57. 1982 Anayasası'na göre, aşağıdakilerden hangisi Anayasa Mahkemesinin görevlerinden biridir?

- A) Uyuşmazlık Mahkemesinin başkanını seçmek
- B) Yüksek Seçim Kuruluna üye seçmek
- C) Hâkimler ve Savcılar Yüksek Kuruluna üye seçmek
- D) Vatandaşların, Anayasa şikâyeti yoluyla yaptıkları başvuruları inceleyip karara bağlamak
- E) Başbakan ve Bakanlar Kurulunca gönderilen kanun tasarıları hakkında düşüncesini bildirmek

Diğer sayfaya geçiniz.

A

KPSS-GYGK-CS / 2008

58. Türkiye'de 2008 yılında Sosyal Sigortalar ve Genel Sağlık Sigortası Kanunu'nda yapılan değişikliklere göre, emeklilik yaşı kademeli olarak artarak 2048 yılından itibaren kaç olacaktır?

- A) 58 B) 60 C) 61 D) 65 E) 67

60. 2008 Yaz Olimpiyatları aşağıdaki şehirlerden hangisinde yapılacaktır?

- A) Pekin B) Atina C) Atlanta
D) Barselona E) Sidney

59. 2008 yılında bağımsızlığını ilan eden Balkan ülkesi aşağıdakilerden hangisi?

- A) Sırbistan B) Makedonya C) Kosova
D) Hırvatistan E) Bosna-Hersek

TEST BİTTİ.

CEVAPLARINIZI KONTROL EDİNİZ.

**KAMU PERSONEL SEÇME SINAVI (KPSS)
LİSANS**

28 HAZİRAN 2008

**GENEL KÜLTÜR TESTİ
A KİTAPÇIĞI**

- | | | |
|-------|-------|-------|
| 1. C | 21. A | 41. B |
| 2. E | 22. D | 42. D |
| 3. B | 23. E | 43. B |
| 4. A | 24. C | 44. C |
| 5. D | 25. B | 45. D |
| 6. A | 26. D | 46. B |
| 7. D | 27. C | 47. C |
| 8. E | 28. E | 48. E |
| 9. C | 29. D | 49. D |
| 10. A | 30. A | 50. A |
| 11. B | 31. A | 51. E |
| 12. E | 32. E | 52. B |
| 13. C | 33. C | 53. D |
| 14. B | 34. A | 54. C |
| 15. A | 35. E | 55. B |
| 16. E | 36. E | 56. E |
| 17. B | 37. B | 57. A |
| 18. D | 38. A | 58. D |
| 19. C | 39. D | 59. C |
| 20. B | 40. C | 60. A |