

A

KPSS-ÖNLİSANS / 2008

38. Türkiye'nin özel konumunun aşağıdakilerden hangisi üzerinde etkili olduğu söylenemez?

- A) Yerel saat B) Deniz ulaşımı
C) Turizm etkinlikleri D) İklim koşulları
E) Transit taşımacılık

40. Marmara Bölgesi'nde görülen iklim çeşitliliğinin aşağıdakilerden hangisi üzerinde en az etkili olduğu söylenebilir?

- A) Endüstri kuruluşları
B) Doğal bitki örtüsü
C) Deniz turizmine elverişli süre
D) Yetiştirilen tarım ürünleri
E) Toprak türleri

39. Aşağıdakilerden hangisi, Türkiye'nin kıyı bölgelerinin ortak özelliklerinden biri değildir?

- A) Bölümleri arasında ortalama yükselti bakımından fark olması
B) Akarsu ağızlarında delta ovalarının olması
C) Karstik göllerin yaygın olarak görülmesi
D) Dağların uzanışının kıyıların şekillenmesinde etkili olması
E) Alp orojenezinde oluşmuş sıradağların bulunması

41. Aşağıdaki merkezlerin hangisinde gerçek sıcaklık ile indirgenmiş sıcaklık arasındaki fark diğerlerinden daha fazladır?

- A) Edirne B) Samsun C) Sivas
D) Kars E) Adana

Diğer sayfaya geçiniz.

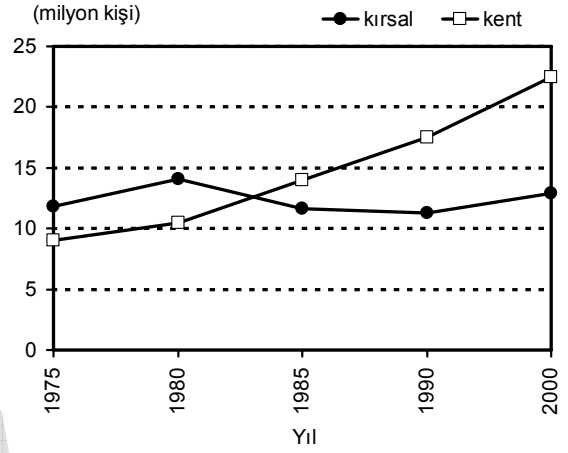
42. Türkiye’de nüfusun düzensiz dağılışında etkili olan etmenlerden ikisi aşağıdakilerin hangisinde birlikte verilmiştir?

- A) Enlem – Yağış biçimi
- B) Toprak türü – Jeolojik yapı
- C) Yükselti – Yer şekilleri
- D) Yağış biçimi – Bitki örtüsü
- E) Yer şekilleri – Enlem

43. Türkiye’de, kentsel nüfusun yaklaşık % 40’ının İstanbul, Ankara ve İzmir illerinde toplanmasında aşağıdakilerden hangisinin etkisi en azdır?

- A) Ulaşım olanaklarının fazla olması
- B) Yerli üretimi tanıtıcı fuarların kurulması
- C) Ticaret hacminin büyük olması
- D) Çeşitli endüstri kuruluşlarının bulunması
- E) Sağlık ve eğitim olanaklarının fazla olması

44. Aşağıdaki grafik, Türkiye’de 1975-2000 sayım yılları arasında kentlerde ve kırsal kesimde yaşayan erkek nüfusun değişimini göstermektedir.



Bu grafikten aşağıdaki sonuçlardan hangisi çıkarılamaz?

- A) Yalnızca 1975-1980 döneminde, hem kentsel hem de kırsal kesimde erkek nüfus artmıştır.
- B) Kırsal kesimdeki erkek nüfusun en fazla olduğu yıl 1980’dir.
- C) Kentlerdeki erkek nüfusun artış hızı kırsal kesimdekinden daha fazladır.
- D) Kırsal kesim ve kentlerde yaşayan erkek nüfus miktarı arasındaki en büyük fark 2000 yılındadır.
- E) 1980-1985 döneminde kentlerdeki erkek nüfus artarken, kırsal kesimdeki azalmıştır.

45. Aşağıdaki bölgelerin hangisinde, endüstride çalışan kişi sayısı diğerlerinden daha fazladır?

- A) Akdeniz
- B) Marmara
- C) İç Anadolu
- D) Ege
- E) Karadeniz

Diğer sayfaya geçiniz.

46. Aşağıdaki platolardan hangisinin bölge ekonomisine katkısında büyükbaş hayvancılık ilk sıradadır?

- A) Çatalca-Kocaeli B) Erzurum-Kars
C) Taşeli D) Cihanbeyli
E) Gaziantep

48.

- I. Bakır
II. Taş kömürü
III. Linyit
IV. Demir

Yukarıdaki madenlerden hangilerinin Türkiye'deki üretiminin tümü Karadeniz Bölgesi'nden elde edilir?

- A) Yalnız I B) Yalnız II C) I ve II
D) II ve III E) III ve IV

47. Türkiye'deki bazı fabrikaların kuruluş yerleriyle ilgili aşağıdaki genellemelerden hangisi doğrudur?

- A) Bitkisel yağ fabrikaları, ham maddeye yakın yerlerde kurulmuştur.
B) Seramik fabrikaları, inşaat sektörünün geliştiği yerlerde kurulmuştur.
C) Demir-çelik fabrikaları, demir cevherinin çıkarıldığı yerlerde kurulmuştur.
D) Otomobil fabrikaları, termik santrallere yakın yerlerde kurulmuştur.
E) Deri konfeksiyon fabrikaları, hayvancılığın yaygın olarak yapıldığı yerlerde kurulmuştur.

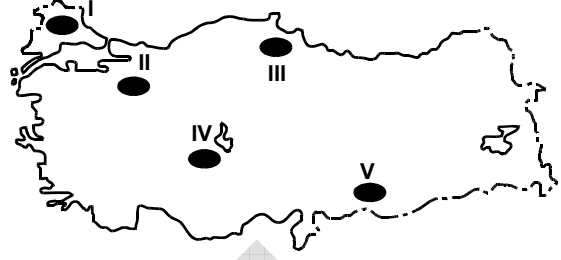
49. Türkiye'nin, ekonomisi gelişen bir ülke olmasında aşağıdakilerden hangisinin en az etkili olduğu söylenebilir?

- A) Nüfusun genç ve dinamik olması
B) Fiziki ve beşerî özellikleri farklı coğrafi bölgelerin olması
C) Yer altı ve yer üstü kaynaklarının çeşitli olması
D) Avrupa'yla Asya, özellikle Orta Doğu ülkeleri arasında köprü görevi görmesi
E) Topraklarının büyük bir bölümünün Anadolu Yarımadası'nda olması

50. Doğu Karadeniz Bölümü'nde çay üretiminin yapıldığı kuşağa ekilecek aşağıdaki bitkilerin hangisinden ürün almak daha zordur?

- A) Fındık B) Tütün C) Pamuk
D) Turunçgiller E) Mısır

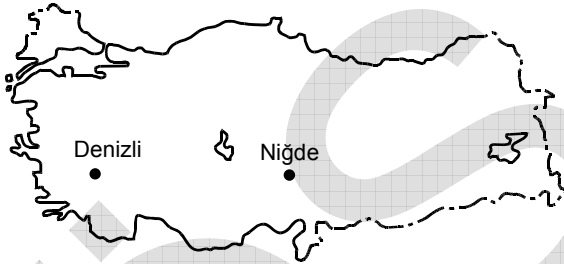
52.



İklim koşulları göz önüne alındığında, yukarıdaki haritada numaralarla gösterilen tarım alanlarının hangilerinde, sulamaya diğerlerinden daha fazla gereksinim duyulması beklenir?

- A) I ve II B) II ve III C) II ve V
D) III ve IV E) IV ve V

51.



Haritada gösterilen iki kentin çevresinde yetiştirilen tarım ürünlerinin farklı olmasında, aşağıdakilerden hangisinin etkisi yoktur?

- A) Tarım alanlarının genişliklerinin farklı olması
B) Dağların kıyı çizgisine göre uzanış yönünün farklı olması
C) Toprak türlerinin farklı olması
D) Yıllık yağış tutarlarının farklı olması
E) Yükseltilerinin farklı olması

53. Aşağıdakilerden hangisi, hem Güneydoğu Anadolu Bölgesi'nde hem de İç Anadolu Bölgesi'nde yaygın olarak yetiştirilen bir tarım ürünü değildir?

- A) Buğday B) Tütün C) Elma
D) Üzüm E) Mercimek

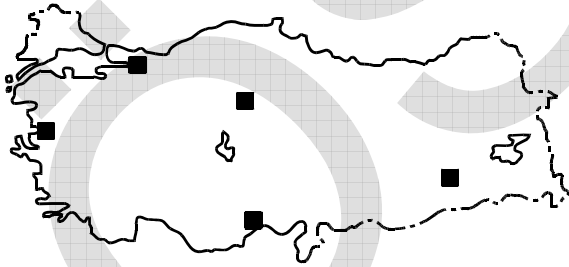
54.

- I. Daha çok baraj ve akarsularda yapılmaktadır.
- II. Deniz balıkçılığına göre daha gelişmiştir.
- III. En fazla alabalık üretilmektedir.

Türkiye’de tatlı su balıkçılığıyla ilgili yukarıdaki özelliklerden hangileri doğrudur?

- A) Yalnız I
- B) Yalnız II
- C) Yalnız III
- D) I ve III
- E) II ve III

55.



Haritada işaretlenmiş merkezlerin beşinde de yapılan ve Türkiye ekonomisine önemli bir katkı sağlayan etkinlik aşağıdakilerden hangisidir?

- A) Zeytin üretimi
- B) Yayla turizmi
- C) Petrol arıtımı
- D) Linyit çıkarımı
- E) Sigara üretimi

56. Türkiye’de elektrik enerjisi üretimine jeotermal kaynaklarıyla en çok katkıda bulunan bölüm aşağıdakilerden hangisidir?

- A) Ege
- B) Orta Karadeniz
- C) Yukarı Kızılırmak
- D) Adana
- E) Orta Fırat

57. Adana, Ege ve Çatalca-Kocaeli Bölgeleri, aşağıdakilerin hangisi bakımından benzerlik gösterir?

- A) Yüz ölçümlerinin büyüklüğü
- B) Seracılığın gelişmişliği
- C) Tarım yapılan alanların genişliği
- D) Endüstri gelirlerinin yüksekliği
- E) Yer altı kaynaklarının zenginliği

58. Aşağıdaki etkinliklerden hangisinin Güney Marmara Bölümü'nün ekonomisindeki payı diğerlerinden daha azdır?

- A) Seramik endüstrisi
- B) Turizm
- C) Otomotiv endüstrisi
- D) Bitkisel yağ üretimi
- E) Hidroelektrik üretim

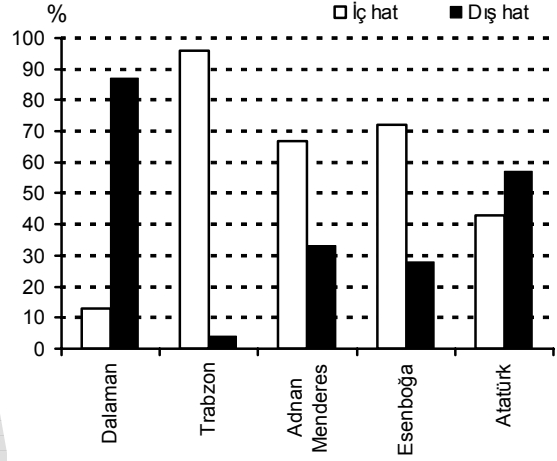
59. Akdeniz Bölgesi'ndeki,

- I. enerji üretimi,
- II. endüstri,
- III. ulaşım,
- IV. ticaret

sektörlerinden hangileri turizmin gelişmesine bağlı olarak daha çok canlılık kazanmıştır?

- A) I ve II
- B) I ve IV
- C) II ve III
- D) II ve IV
- E) III ve IV

60. Aşağıdaki grafikte, 2006 yılında Türkiye'nin bazı havaalanlarına gelen ve giden yolcuların iç ve dış hatlara göre oransal dağılımı gösterilmiştir.



Yalnızca bu grafikteki bilgilerden yararlanarak aşağıdakilerin hangisine ulaşılabilir?

- A) İç hatlarda Atatürk Havaalanı'na gelen ve giden yolcu sayıları birbirine yakındır.
- B) Adnan Menderes Havaalanı'ndaki iç hat yolcu sayısı Atatürk Havaalanı'ndakinden fazladır.
- C) Dalaman ve Trabzon Havaalanlarının dış hat oranları birbirine yakındır.
- D) İç hat yolcu oranları birbirine en yakın olan havaalanları Adnan Menderes ve Esenboğa'dır.
- E) İç ve dış hatlar arasındaki oransal farkın en fazla olduğu havaalanı Dalaman'dır.

KAMU PERSONEL SEÇME SINAVI (KPSS)

21 EYLÜL 2008

ÖNLİSANS

GENEL KÜLTÜR TESTİ

A KİTAPÇIĞI

- | | | |
|-------|-------|-------|
| 1. C | 26. E | 51. A |
| 2. E | 27. D | 52. E |
| 3. A | 28. C | 53. B |
| 4. B | 29. E | 54. D |
| 5. C | 30. B | 55. C |
| 6. D | 31. A | 56. A |
| 7. C | 32. D | 57. D |
| 8. B | 33. B | 58. E |
| 9. A | 34. E | 59. E |
| 10. B | 35. A | 60. D |
| 11. D | 36. C | 61. C |
| 12. A | 37. D | 62. A |
| 13. E | 38. A | 63. E |
| 14. B | 39. C | 64. E |
| 15. C | 40. A | 65. B |
| 16. B | 41. D | 66. B |
| 17. C | 42. C | 67. C |
| 18. E | 43. B | 68. D |
| 19. D | 44. A | 69. A |
| 20. A | 45. B | 70. E |
| 21. E | 46. B | 71. D |
| 22. D | 47. A | 72. B |
| 23. A | 48. B | 73. C |
| 24. C | 49. E | 74. D |
| 25. D | 50. C | 75. E |