

# A

KPSS-ORTAÖĞR. / 2008

38. Türkiye'nin kara sınırlarıyla ilgili aşağıdaki ifadelerden hangisi yanlıştır?

- A) Kuzeybatıda Bulgaristan'la sınırı vardır.
- B) Yunanistan'la olan sınırının çoğunu Meriç Nehri oluşturur.
- C) Suriye'yle olan sınırının tamamında demir yolu vardır.
- D) İran dışındaki diğer sınırlar Millî Mücadele sırasında ya da sonrasında imzalanan antlaşmalarla belirlenmiştir.
- E) En fazla ülkeyle doğu sınırında komşudur.

40. Aşağıdaki ovalardan hangisi, karşısında verilen bölgede yer almaz?

<u>Ova</u>	<u>Bölge</u>
A) Altınbaşak	Güneydoğu Anadolu
B) Amik	Akdeniz
C) Erbaa	İç Anadolu
D) Ergene	Marmara
E) Gediz	Ege

39. Kızılırmak, aşağıdaki özelliklerin hangisi bakımından Türkiye'nin diğer akarsularından ayrılır?

- A) Çok fazla miktarda alüvyon taşıması
- B) Enerji potansiyelinin yüksek olması
- C) Geniş bir su toplama alanına sahip olması
- D) Tümüyle ülke sınırları içinde yer alan en uzun akarsu olması
- E) İç su balıkçılığı yönünden önemli bir potansiyele sahip olması

41. Türkiye'de etkin olan yerel rüzgârlardan hangisinin esiş yönü yanlış verilmiştir?

<u>Rüzgâr adı</u>	<u>Esiş yönü</u>
A) Poyraz	Kuzeydoğu
B) Keşişleme	Güneydoğu
C) Yıldız	Kuzey
D) Karayel	Kuzeybatı
E) Lodos	Batı

*Diğer sayfaya geçiniz.*

42. Türkiye'nin coğrafi bölgelerinde kar yağışının ve karın yerde kalma süresinin farklı olmasında,

- I. deniz etkisi,
- II. yükselti,
- III. boylam,
- IV. bitki örtüsü

etmenlerinden hangilerinin etkisi vardır?

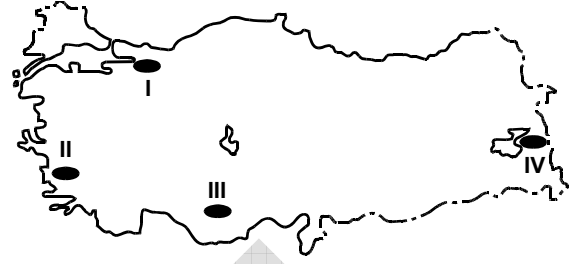
- A) I ve II                      B) I ve III                      C) II ve III  
D) II ve IV                      E) III ve IV

43. Tarım, ticaret, turizm, endüstri ve ulaşım, kentlerin büyümesinde etkilidir.

Buna göre, aşağıdaki kıyı kentlerinden hangisinin gelişmesinde bu etkenlerin daha az etkili olduğu söylenebilir?

- A) İzmir                      B) İstanbul                      C) Zonguldak  
D) İskenderun                      E) Antalya

44.



Haritada numaralanmış dört yöreden hangisi en sık, hangisi en seyrek nüfusludur?

- |    | En sık | En seyrek |
|----|--------|-----------|
| A) | I      | II        |
| B) | I      | III       |
| C) | II     | III       |
| D) | II     | IV        |
| E) | III    | IV        |

45. Aşağıdakilerden hangisi Türkiye'deki nüfus dağılışı üzerinde etkili değildir?

- A) Ekonomik etkinliklerin farklı olması
- B) Toprak verimliliğinin farklı olması
- C) Geniş deltaların bulunması
- D) İki kıtada topraklarının bulunması
- E) Yer şekillerinin çeşitlilik göstermesi

Diğer sayfaya geçiniz.

46.

- I. Üretimi yalnız Akdeniz Bölgesi'nde yapılır.
- II. Türkiye'nin önemli dış satım ürünlerinden biridir.
- III. Portakal ve mandalina üretimi diğerlerinden fazladır.
- IV. Dünya üretiminin yarısından fazlasını Türkiye karşılar.

**Türkiye'de turuncgil üretimiyle ilgili yukarıdaki özelliklerden hangileri doğrudur?**

- A) I ve II                      B) I ve III                      C) II ve III  
D) II ve IV                      E) III ve IV

47.



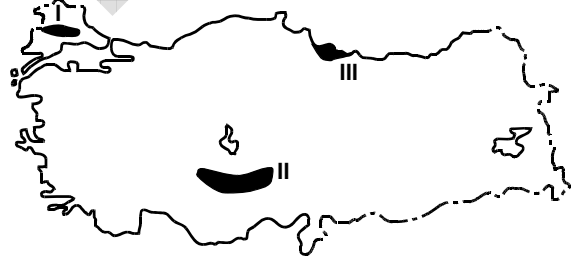
**Yukarıdaki Karadeniz Bölgesi haritasında numaralanmış beş merkezden hangisinde buğday üretimi yapmak diğerlerinden daha zordur?**

- A) I      B) II      C) III      D) IV      E) V

**48. Çukurova'yla Konya Ovası arasında yapılan aşağıdaki karşılaştırmalardan hangisi doğrudur?**

- A) Seracılık etkinlikleri Konya Ovası'nda daha yaygındır.
- B) Yetiştirilebilen tarım ürünü çeşidi Konya Ovası'nda daha fazladır.
- C) Toprağı nadasa bırakma uygulaması Çukurova'da daha yaygındır.
- D) Endüstriyel tarım ürünlerinin yetiştirilmesi bakımından Konya Ovası daha elverişlidir.
- E) Aynı tarihte ekilen buğday Çukurova'da daha erken hasat edilir.

49.

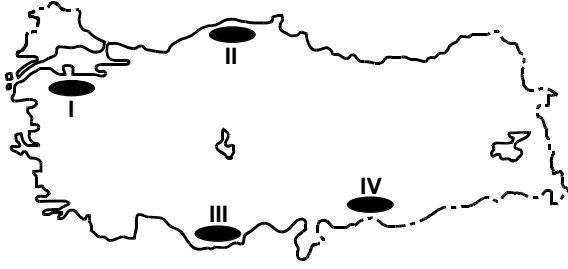


**Haritada gösterilen üç yörede yoğun olarak yetiştirilen ürünler aşağıdakilerin hangisinde doğru olarak verilmiştir?**

	I	II	III
A) Ayçiçeği		Buğday	Fındık
B) Portakal		Şeker pancarı	Mısır
C) Pamuk		Buğday	Mısır
D) Pamuk		Mercimek	Fındık
E) Ayçiçeği		Şeker pancarı	Çay

*Diğer sayfaya geçiniz.*

50.



Türkiye'nin yüzey şekilleri göz önüne alındığında, haritada gösterilen tarım alanlarının hangi ikisinde, traktör ve biçerdöver gibi tarım aletlerinin kullanımının diğerlerinden daha az olması beklenir?

- A) I ve II      B) I ve III      C) II ve III  
D) II ve IV      E) III ve IV

51.

- I. Mersin  
II. Sivas  
III. Muğla  
IV. Sinop

Kışın serin ve yağışlı, yazın sıcak ve kurak iklim isteyen bir tarım ürünü, yukarıdaki illerin hangilerinde daha kolay yetiştirilebilir?

- A) I ve II      B) I ve III      C) II ve III  
D) II ve IV      E) III ve IV

52. Aşağıdakilerin hangisinde bir tarım ürünü, üretim miktarının ve dış satımdaki payının en fazla olduğu ille birlikte verilmiştir?

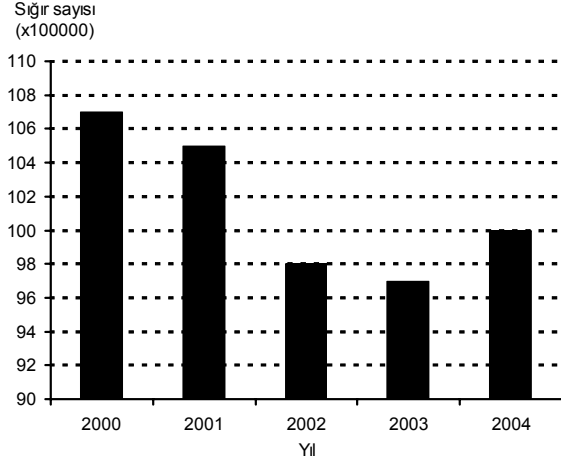
- A) İncir – Aydın  
B) Zeytin – Hatay  
C) Elma – Kastamonu  
D) Mandalina – Rize  
E) Üzüm – Adana

53. Türkiye'deki kümes hayvancılığı ve arıcılık etkinliklerinde önemli bir yere sahip olan iller aşağıdakilerin hangisinde verilmiştir?

<u>Kümes hayvancılığı</u>	<u>Arıcılık</u>
A) Mardin	Artvin
B) Uşak	Samsun
C) Erzurum	Çanakkale
D) Rize	Antalya
E) Bolu	Muğla

*Diğer sayfaya geçiniz.*

54. Aşağıdaki grafik Türkiye’de 2000-2004 yılları arasındaki siğir sayısını göstermektedir.



**Yalnızca bu grafiğe dayanarak aşağıdaki bilgilerden hangisine ulaşılabilir?**

- A) Verilen yıllardaki kesim hayvanı sayısına  
B) Verilen yıllarda siğir sayıları arasındaki değişim oranına  
C) Verilen yıllarda et üretimi arasındaki değişime  
D) Verilen yıllardaki süt üretimi miktarına  
E) Sağımlik hayvan sayısı ile et üretilen hayvan sayısı arasındaki orana

55. Aşağıdaki limanlardan hangisinin demir yoluyla bağlantısı yoktur?

- A) İskenderun B) Mersin  
C) Zonguldak D) Samsun  
E) Trabzon

56. Türkiye’de çeşitli nedenlerle tahrip edilen orman örtüsünün kendini yenilemesi en kolay olan bölge aşağıdakilerden hangisidir?

- A) Akdeniz B) Güneydoğu Anadolu  
C) İç Anadolu D) Karadeniz  
E) Ege

- 57.

- I. Toplam rezervi daha zengindir.  
II. Termik santrallerde kullanımı daha yaygındır.  
III. Çıkartma maliyeti daha yüksektir.

**Taş kömürü ile karşılaştırıldığında, Türkiye’de linyitle ilgili yukarıdaki ifadelerden hangileri doğrudur?**

- A) Yalnız I B) Yalnız III C) I ve II  
D) I ve III E) II ve III

*Diğer sayfaya geçiniz.*

58. Türkiye'nin hidroelektrik enerji üretimine, aşağıdaki bölümlerden hangisinin katkısı en azdır?

- A) Konya  
B) Orta Karadeniz  
C) Ege  
D) Adana  
E) Yukarı Fırat

60. Türkiye'de dış turizmin gelişmesinde aşağıdakilerden hangisinin etkisi en azdır?

- A) Bazı turistik yörelere havaalanı yapılması  
B) Kıyı yerleşmelerinde modern yat limanlarının yapılması  
C) Konaklama hizmeti veren yerlerin sayı ve niteliklerinin artması  
D) Tarihî ve doğal güzelliklere sahip alanların tanımlarının yapılması  
E) Turizm merkezleri çevresinde turfanda sebze ve meyvecilik yapılması

59.

- I. Petrol  
II. Radyoaktif elementler  
III. Su gücü  
IV. Taş kömürü

**Güneydoğu Anadolu Bölgesi, yukarıda verilen enerji kaynaklarının hangileri bakımından Türkiye'de önemli bir yere sahiptir?**

- A) I ve II  
B) I ve III  
C) I ve IV  
D) II ve III  
E) II ve IV

**KAMU PERSONEL SEÇME SINAVI (KPSS)**

21 EYLÜL 2008

**ORTAÖĞRETİM  
GENEL KÜLTÜR TESTİ**

**A KİTAPÇIĞI**

- |       |       |       |
|-------|-------|-------|
| 1. A  | 26. E | 51. B |
| 2. C  | 27. B | 52. A |
| 3. E  | 28. D | 53. E |
| 4. B  | 29. B | 54. B |
| 5. A  | 30. C | 55. E |
| 6. C  | 31. E | 56. D |
| 7. E  | 32. C | 57. C |
| 8. B  | 33. D | 58. A |
| 9. C  | 34. A | 59. B |
| 10. E | 35. E | 60. E |
| 11. D | 36. A | 61. B |
| 12. B | 37. D | 62. E |
| 13. A | 38. C | 63. E |
| 14. D | 39. D | 64. C |
| 15. E | 40. C | 65. B |
| 16. C | 41. E | 66. E |
| 17. B | 42. A | 67. A |
| 18. E | 43. C | 68. B |
| 19. A | 44. B | 69. C |
| 20. C | 45. D | 70. A |
| 21. D | 46. C | 71. D |
| 22. A | 47. D | 72. D |
| 23. B | 48. E | 73. B |
| 24. C | 49. A | 74. E |
| 25. D | 50. C | 75. C |