

## 1. Atatürk'ün;

- Türk Tarih Kurumunu açması,
- Arkeolojik kazıları başlatması

gibi uygulamaları, aşağıdaki bilim dallarından hangisini geliştirmeye yöneliktir?

- A) Dinî bilimleri B) Fen bilimlerini  
C) Matematiği D) Sosyal bilimleri

## 2.

Bütün sultan ve emirlerin bu kitabın içindekileri bilmekten başka çaresi yoktur. Dikkatlice okuyup anladıklarında dost ve düşmanın durumunu daha iyi fark edecekler, doğru tedbir almaları daha da kolaylaşacaktır. Çünkü burada verilen bilgiler sayesinde dergâh, bargâh, divan, meydan, meclis, mal ve vergi işlerini, halk ve ordunun durumunu anlayacaklardır...



Nizamülmülk

Nizamülmülk'ün "Siyasetname" adlı eserinden bir bölüm okudunuz.

Buna göre Siyasetname'nin konusu, aşağıdakilerden hangisi olabilir?

- A) Devlet yönetimi B) Sanatı geliştirme  
C) Kültürel gelişme D) Bayındırlık

## 3.



Ülkemin bilgileri Ay ve Güneş tutulmasını, Ay yılı takvimini hesapladı. Güneş sistemindeki beş gezegeni ve burçları buldu. Ziggurat adını verdiğimiz tapınaklar aynı zamanda birer gözlem eviydi.

Sümerli çocuğun bu anlatımına göre, Sümerlilerin dünya uygarlığına katkısı hangi alanda olmuştur?

- A) Matematik B) Astronomi  
C) Tarih D) Tıp

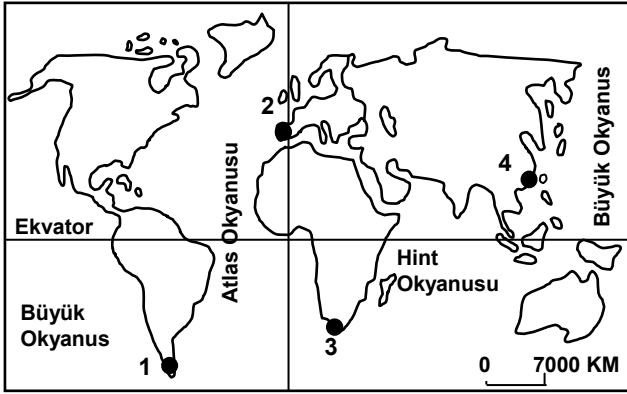
## 4.

Frigler	→	Başkentleri, Polatlı yakınlarındaki Gordion'dur.
Sümerler	→	Yazıyı icat ettiler.
.....?.....	→	Parayı ilk defa onlar kullandılar.
Hititler	→	Tarihte ilk yazılı antlaşmayı imzaladılar.

Verilen eşleştirme tablosundaki boş yer, aşağıdakilerden hangisiyle tamamlanmalıdır?

- A) İyonlar B) Asurlular  
C) Lidyalılar D) Urartular

5.



Merhaba ben Zelda,  
Ekvator'un kuzeyinde Büyük Okyanus'un kıyısında küçük bir sahil şehrinde yaşıyorum. Yaşadığım yer haritada kaç numaralı nokta ile gösterilmiştir?



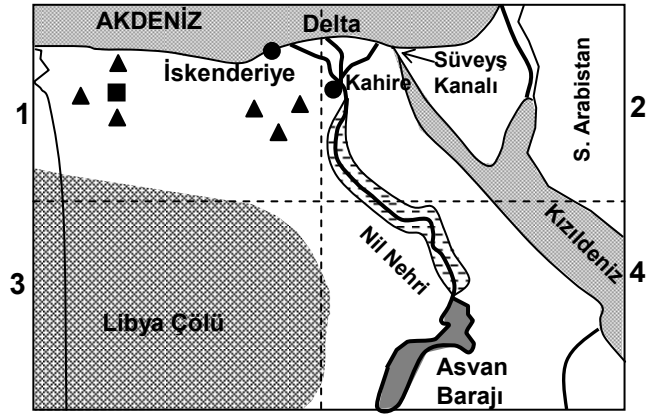
- A) 1      B) 2      C) 3      D) 4

6. Öğretmeni Ayşe'ye, Türkiye'nin yer şekilleri ile ilgili araştırma ödevi verip, belirlediği dağ ve akarsu isimlerini listelemesini istemiştir. Ancak öğretmeni 1:500.000 ölçeğindeki Türkiye fiziki haritasından yararlanan Ayşe'nin listesindeki isim sayısını az bulmuştur.

Buna göre, Ayşe'nin ödevine daha fazla dağ ve akarsu ismi yazabilmesi için aşağıdaki hangi ölçeğe sahip Türkiye fiziki haritasına bakması gerekir?

- A) 1: 100.000      B) 1: 600.000  
C) 1: 800.000      D) 1: 10.000.000

7.



----- Bölge sınırları

▲ ■ Petrol ve Doğalgaz

○ Tarım alanı

Yukarıda, Mısır ülkesinin haritası 4 bölgeye ayrılarak gösterilmiştir.

Nüfusu en az olan bölge ve bunun nedeni aşağıdakilerin hangisinde doğru verilmiştir?

- A) 1 numaralı bölgedir, çünkü zengin petrol ve doğalgaz üretim alanıdır.  
B) 2 numaralı bölgedir, çünkü Nil Nehri'nin verimli deltası ve Süveyş Kanalı buradadır.  
C) 3 numaralı bölgedir, çünkü büyük bir çölle kaplıdır.  
D) 4 numaralı bölgedir, çünkü Nil Nehri ve Asvan barajının suladığı tarım alanları bulunmaktadır.

8. Babamın anlattıklarına hâlâ inanamıyorum. Bugün yaşadığımız şehir, 30 yıl önce balıkçılık ve hayvancılıkla geçinen, kendi ihtiyaçlarına yönelik sebze ve meyve yetiştiren küçük bir sahil kasabasıymış. Etrafı dağlık olduğu için yolu da yokmuş elektriği de. Çevresindeki dağlarda bakır yataklarının bulunmasıyla kaderi değişmiş! Bakırı işleyen tesisler, modern yollar yapılmış. Başka yerlerden de kasabaya çok sayıda insan yerleşmiş. Ticaret hayatı canlanmış. Eskiden 2.000 kişiyi aşmayan nüfusu bugün 200.000 kişiye yükselmiş.

Metne göre kasabanın gelişmesini sağlayan temel unsur aşağıdakilerden hangisidir?


- A) Bakır madeninin bulunması
- B) Modern yolların yapılması
- C) Kasabanın göç alması
- D) Ticaret hayatının gelişmesi

9. 2007 yılının Ağustos ayında, Yunanistan'ın çeşitli yerlerinde, birbirine yakın zamanlarda büyük orman yangınları çıkmıştı. Yunanistan tarafından büyük mücadeleler yapılmasına rağmen, araç ve personel yetmediği için günlerce söndürülemeyen orman yangınları, pek çok insanın ölümüne ve evsiz kalmasına sebep olmuştu. Doğal dengeyi bozan yangınlar çevre ülkeleri de tehdit etmişti.


Böyle bir durumda, komşu ülkelerin yapması gereken aşağıdakilerden hangisidir?

- A) Yangınların çıkış sebebini araştırmak.
- B) O ülkeyle olan ticareti kesmek.
- C) Araç, gereç ve personel yardımında bulunmak.
- D) Yangınları, o ülkenin kendi imkânlarıyla söndürmesini beklemek.

10.



I. Şekil (1995)



II. Şekil (2008)

I. şekilde gösterilen yamaç, gür ve sık ağaçlarla kaplı iken yoğun ağaç kesimi sonucu yapılan tahribatla II. şekildeki duruma gelmiştir.

Bu değişimle beraber resimdeki köy, aşağıda verilen doğal afetlerden hangisinin tehlikesi altına girmiştir?

- A) Yangınların
- B) Depremin
- C) Volkanik patlamanın
- D) Sel ve heyelanın

11.



Yukarıdaki şemada soru işareti olan kutuya aşağıdakilerden hangisi yazılamaz?

- A) Bütün mesleklerde başarılı olur.  
 B) Ülke ekonomisinin gelişmesine katkı sağlar.  
 C) Çalışma verimliliği artar.  
 D) Kendine güven duyar.

12. Aşağıdaki öğrenciler farklı yönetim biçimlerini anlatmaktadırlar.

Devleti kral, hükümdar gibi unvanlar verilen tek bir kişi yönetir. Kral verdiği kararlar nedeniyle sorgulanamaz.

Devlet yöneticileri, belli bir süre için halkın oylarıyla seçilir ve halk adına ülkeyi idare eder. Yöneticilerin uygulamaları eleştirilebilir.

Burak

Elif

Yöneticiler, devleti dinî kurallara dayanarak yönetir ve bu yönetim biçimi asla eleştiri kabul etmez.

Devlet yöneticileri, bir grup azınlık tarafından seçilerek göreve getirilir. Yöneticiler halka değil, azınlık gruba karşı sorumludur.

Ahmet

Damla

Hangi öğrencinin anlattığı yönetim biçimi demokrasinin temel ilkelerine uygundur?

- A) Burak B) Elif C) Ahmet D) Damla

13. Aşağıdaki kişilerden hangisinin davranışı, karşılaştığı bir sorunu hak ve sorumlulukları doğrultusunda çözdüğüne örnek olmaz?

- A) Maddi durumu iyi olmayan Mert'in, istediği eğitimi alabilmek için yardım derneklerine başvurması  
 B) Aldığı bilgisayar bozuk çıkan Ayşe Hanım'ın, bozuk bilgisayar sattığını kabul etmeyen mağaza sahibini yetkili birimlere dilekçeyle şikâyet etmesi  
 C) Marketten yeni satın aldığı bir ürünün tüketim tarihinin geçmiş olduğunu fark eden Murat Bey'in, o ürünü çöpe atması  
 D) Ses sanatçısı Gülay'ın, çıkardığı albümün korsan satışını yapanları mahkemeye vermesi

**DİN KÜLTÜRÜ ve AHLAK BİLGİSİ DERSİNİ OKUYANLAR AŞAĞIDAKİ SORULARI CEVAPLAYACAKLAR. OKUMAYANLAR BUNUN YERİNE, AYNI NUMARALI SOSYAL BİLGİLER SORULARINI CEVAPLAYACAKLAR.**

14.



Karatay Medresesi



İbni Sina



Süleymaniye Külliyesi



Köprülü Kütüphanesi



Katip Çelebi'nin Cihannüma'sı

**Göksel, ödevi için yukarıdaki resimleri kullanarak bir afiş hazırladı. Şimdi de bu resimlerin tümünü kapsayan bir değerlendirme yazısı yazmak istiyor. Ona aşağıdakilerden hangisini yazmasını önerirsiniz?**

- A) Türkler en çok cami mimarisine önem vermiştir.
- B) Türkler Kur'an'ın açıklamasını konu alan önemli kitaplar yazmışlardır.
- C) Türkler ilim ve medeniyet alanında önemli katkılarda bulunmuşlardır.
- D) Türkler arasından önemli ressamlar çıkmıştır.

**15. Zehra ve Gülçin peygamberler hakkında babaları ile konuşuyorlardı. Babaları:**

— Peygamberlerin ortak özellikleri nelerdir? diye sordu.

Zehra, peygamberlerin üç ortak özelliğini sıraladı. Gülçin de bunlara bir madde daha ilave etti. Beşinci özelliği de hatırlamalarını sağlamak için babaları onlara şöyle sordu:

— Peygamberler, insanların düşünmeleri, doğruyu kavramaları ve iyiliğe yönelmeleri için çalışırlar. Peki, sağlıklı bir zihin ve zekâya sahip olmayan biri, peygamberlik görevini yapabilir mi?

**Babaları bu soruyla peygamberlerin hangi özelliğine ilişkin bir ipucu vermiş olabilir?**

- A) Güvenilir olmak
- B) Akıllı ve zeki olmak
- C) Doğruluk
- D) Allah'tan aldığı mesajları aynen insanlara iletmek

16.



**Yukarıdaki kavram haritasında anlatılan kötü davranış aşağıdakilerden hangisidir?**

- A) Kötü zanda bulunmak
- B) Hile yapmak
- C) Gıybet
- D) İftira

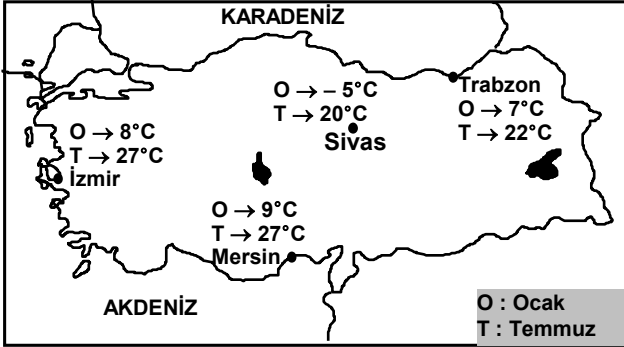
**DİN KÜLTÜRÜ ve AHLAK BİLGİSİ DERSİNİ OKUMAYANLAR, AŞAĞIDAKİ SOSYAL BİLGİLER SORULARINI CEVAPLAYACAKLAR. DİN KÜLTÜRÜ ve AHLAK BİLGİSİ DERSİNİ OKUYANLAR CEVAPLAMAYACAKLAR.**

14. Uygurlardan günümüze mal edinme, satış protokolü, ipotek senedi, ortaklık kurma, evlatlık verme, iş sözleşmesi, vasiyetname, vakıfname gibi hukuki konuları kapsayan belgeler kalmıştır.

Buna göre Uygurlarla ilgili olarak aşağıdaki-lerden hangisi söylenemez?

- A) Ekonomik yaşam yasalarla düzenlenmiştir.  
B) Zamanlarına göre çok ileri ve uygar bir toplumdurlar.  
C) Çin'den ipek ve tarım ürünleri almış, canlı hayvan ihraç etmişlerdir.  
D) Yönetim anlayışlarında hukuki düzenlemelerin önemli bir yeri vardır.

15.



Karasal iklimin özelliklerinden biri de yaz ve kış mevsimleri arasındaki sıcaklık farkının yüksek olmasıdır.

Buna göre, haritada gösterilen şehirlerden hangisi karasal iklimin etkisi altındadır?

- A) İzmir  
B) Sivas  
C) Mersin  
D) Trabzon

16. “Bir araştırmaya başlamadan önce neyin araştırılacağından emin olunmalıdır. Araştırılacak problemin sınırları belirlenmelidir.”

Yukarıda, bilimsel araştırma basamaklarından öncelikle hangisine yönelik bir açıklama yapılmaktadır?

- A) Konuyla ilgili kaynakların incelenmesi  
B) Problemin çözümüne yönelik varsayımların oluşturulması  
C) Araştırma metninin oluşturulması  
D) Araştırma konusunun belirlenmesi

**SOSYAL BİLGİLER TESTİ BİTTİ.  
YABANCI DİL TESTİNE GEÇİNİZ.**