

1. MÖ 2000'lerde Anadolu'ya gelerek Kızılırmak yayı içine yerleşen Hititler, bu topraklar üzerinde MÖ 7. yüzyıla kadar siyasi varlıklarını korumuşlardır. Hitit kralları başkomutan, başyargıç ve aynı zamanda başrahiptiler. Asillerden oluşan Pankuş Meclisi gerektiğinde kralı yargılama ve cezalandırma yetkisine sahipti.

Bu bilgilere dayanarak Hititlerle ilgili;

- I- Anadolu'nun bir bölümünde güçlü bir devlet kurmuşlardır.
 II- Din ve devlet işlerini birbirinden ayırmışlardır.
 III- Krallarının yetkileri sınırlıdır.
 IV- Krallarını seçimle belirlemişlerdir.

Yargılarından hangilerine ulaşamaz?

- A) Yalnız I
 B) Yalnız III
 C) II – IV
 D) II – III – IV

2. "Hun Devleti zayıflayıp askerî ve ekonomik gücünü kaybettiği sırada Ho-Han-Yeh hükümdar oldu. Ho-Han-Yeh, Çin himayesinde yaşamak isteyince kardeşi Çi-Çi ona karşı çıktı. Çi-Çi ve taraftarları özgürlüğün feda edilmesini utanç verici buldular."

Bu parçaya göre Çi-Çi için, aşağıdakilerden hangisinin vazgeçilmez bir öneme sahip olduğu söylenebilir?

- A) Bağımsız yaşama
 B) Ekonomik kalkınma
 C) Askerî güç
 D) Kültürel gelişme

3. Bedir Savaşı'nın;

- I- Müslümanların kendilerine olan güvenleri artmıştır.
 II- İslam savaş hukukunun temeli atılmıştır.
 III- Müslümanlar ilk zaferlerini kazanmışlardır.
 IV- Suriye ticaret yolunun denetimi Müslümanların eline geçmiştir.

Sonuçlarından hangileri, Mekkelilerin ekonomik çıkarlarına zarar verdiği için Uhut'ta Müslümanlara saldırmalarında etkili olmuştur?

- A) Yalnız II
 B) Yalnız IV
 C) I – III
 D) II – III – IV

4. Türk – İslam devletlerinde, hükümdar öldüğünde hanedanın bütün erkek üyelerinin tahta geçme hakkı vardı.

Bu durumun aşağıdakilerden hangisine neden olması beklenebilir?

- A) Taht kavgalarının yaşanmasına
 B) Merkezî otoritenin güçlenmesine
 C) Askerî gücün artmasına
 D) Hanedan üyelerinin iş birliği yapmasına

5. Sanayi İnkılabı ile sanayileşmeyi gerçekleştiren ülkelerde büyük fabrikalar kuruldu. Böylece mallar hızlı ve ucuz üretilmeye başlandı. Üretimdeki artışa bağlı olarak ham madde ve pazar ihtiyacı ortaya çıktı. Sanayileşmiş ülkeler bu ihtiyaçlarını karşılamak için dünyanın geri kalmış ülkelerini, siyasi ve ekonomik egemenlikleri altına almaya yöneldiler. Bu durum devletlerarası ekonomik rekabete ve gruplaşmalara neden oldu.

Verilen bilgilere göre Sanayi İnkılabı, aşağıdakilerden hangisine neden olmamıştır?

- A) Sömürgeciliğin yaygınlaşmasına
 B) Uluslararası ticaretin gelişmesine
 C) Küçük atölyelerin giderek önem kazanmasına
 D) Sanayileşen ülkeler arasındaki çıkar çatışmalarına

6. • Osmanlı Devleti'nin Anadolu ve Rumeli'deki toprakları arasında yer alması,
• Bizans'ın, Anadolu Türk beyliklerini ve şehzadeleri Osmanlı Devleti'ne karşı kışkırtması,
• Önemli kara ve deniz ticaret yolları üzerinde bulunması,
• Bizans'ın, Osmanlı'nın Rumeli'deki topraklarının güvenliğini tehlikeye düşürmesi

gibi nedenlerle İstanbul fethedilmiştir.

Buna göre aşağıdakilerden hangisi İstanbul'un fethiyle elde edilen bir sonuç değildir?

- A) Anadolu Türk birliğinin gerçekleştirilmesi
B) Osmanlı ekonomisinin güçlenmesi
C) Osmanlı toprak bütünlüğünün sağlanması
D) Türklerin, Avrupa içlerine kadar ilerlemesinin kolaylaşması

7. Osmanlı Devleti'nin Yükselme Döneminde;

- Suriye ve Mısır fethedilmiş,
- Kıbrıs Adası Venediklilerden alınmıştır.

Bu bilgiye göre;

- I- Karadeniz'de Türk egemenliği sağlanmıştır.
II- Memlük Devleti yıkılmıştır.
III- Baharat Yolu Osmanlıların eline geçmiştir.
IV- Doğu Akdeniz ticaret yolunun güvenliği sağlanmıştır.

Yargılarından hangilerine ulaşamaz?

- A) Yalnız I
B) Yalnız III
C) II – IV
D) I – III – IV

8. Atatürk, "Bizim düşüncemizde; çiftçi, çoban, işçi, tüccar, sanatkâr, asker, doktor, kısaca herhangi bir toplumsal kurumda çalışan bir vatandaşın hak, çıkar ve hürriyeti eşittir." sözü ile halkçılık ilkesinin;

- I- Sınıf ve zümre ayrımına karşı olması,
II- Eğitim birliğini esas alması,
III- Kanun önünde eşitliği öngörmesi

özelliklerinden hangisinin önemini vurgulamıştır?

- A) Yalnız II
B) I – III
C) I – II
D) II – III

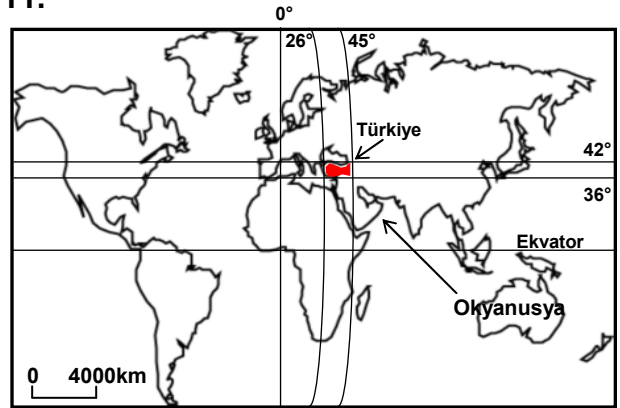
9. Atatürk'ün "Medeniyet yolunda başarı, yenileşmeye bağlıdır. Sosyal hayatta, ilim ve fen sahasında başarılı olmak için tek gelişme ve ilerleme yolu budur." sözü, onun hangi özelliğini yansıtır?

- A) İdealistliğini
B) Sanatseverliğini
C) Açık sözlülüğünü
D) İnkılapçılığını

10. "Tarihte birçok defa tartışma ve tutku sebebi olan Boğazlar, artık tam anlamı ile Türk egemenliği altında, yalnız ticaret ve dostluk ilişkilerinin ulaşım yolu hâline girmiştir." diyen Atatürk bu sözü ile Cumhuriyet Döneminde yaşanan aşağıdaki dış politika gelişmelerinden hangisini vurgulamıştır?

- A) Balkan Antantı
B) Montrö Sözleşmesi
C) Sâdâbat Paktı
D) Musul Sorunu

11.



Okyanusya kıtasından hareket eden bir uçak, Türkiye'ye en kısa yoldan ulaşabilmek için hangi yönde uçmalıdır?

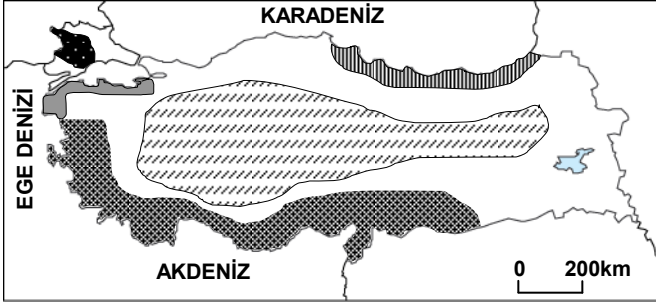
- A) Kuzeybatı
B) Batı
C) Kuzey
D) Kuzeydoğu






12. Ziyaret ettiği ülkeye alışkanlıklarını ve deneyimlerini götürürken turist, tarihi eserlere ve doğaya zarar da verebilir. Buna rağmen ülkeler günümüzde "bacasız sanayi" diye adlandırılan turizmi geliştirmeye çalışmaktadırlar. Örneğin Çin, geçmişte ülkeyi korumak için yaptığı Çin Seddi'ni günümüzde turist çekmek için kullanmaktadır.

Metinden aşağıdakilerden hangisi çıkarılamaz?

- A) Turizm, ülkeler arası kültür alışverişine katkıda bulunur.
B) Turizm, günümüzde önemli bir ekonomik faaliyettir.
C) Çin, Dünya'da en fazla turist çeken ülkedir.
D) Geçmişe ait yapılar önemli turizm değerleridir.

13.



-  Tahıl + şeker pancarı
 Çay + fındık
 Zeytin
 Turunçgil + üzüm + pamuk
 Ayçiçeği

Yukarıdaki haritada ülkemizdeki bazı tarım bitkilerinin en önemli üretim alanları gösterilmiştir.

Harita incelenerek varılan aşağıdaki yargılardan hangisi doğrudur?

- A) Güney kıyılarımızda çay ve fındık yetiştirilir.
B) Trakya yarımadasında zeytin üretimi yaygındır.
C) İç Anadolu Bölgesinde tahıl ve şeker pancarı üretimi önem kazanmıştır.
D) Karadeniz kıyılarında ayçiçeği üretimi yaygındır.

14. Kuzey Anadolu fay hattı, Gelibolu Yarımadası'nın kuzeyindeki Saroz Körfezi'nden başlayıp, Marmara Denizi'nin derin çukurluklarını takip ederek; İzmit, Adapazarı, Bolu, Kastamonu, Erbaa, Niksar, Erzincan ve Bingöl üzerinden Van Gölü'nün kuzeyine ulaşır.

Buna göre Kuzey Anadolu fayı aşağıdaki coğrafi bölgelerin hangisinden geçmez?

- A) Marmara Bölgesi
B) Karadeniz Bölgesi
C) Doğu Anadolu Bölgesi
D) Akdeniz Bölgesi

15. Pamuk tarımı yapmak isteyen Fikret Bey'e, yardımcıları, Adana, Aydın, Erzurum ve İzmir'de eşit büyüklükte birer tarım arazisi bulmuşlar; ancak Fikret Bey bu yatırım için Erzurum ilini uygun görmemiştir.

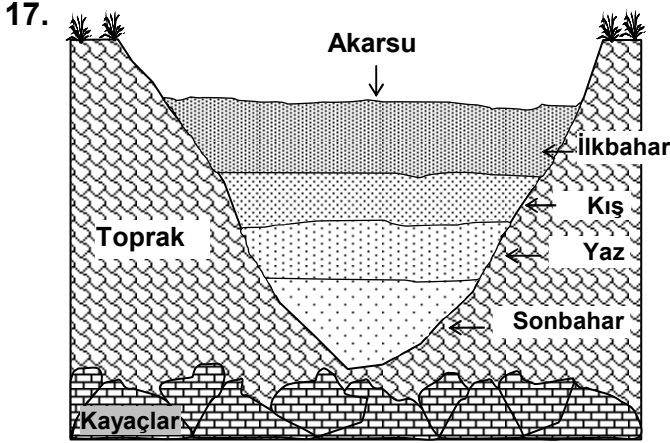
Fikret Bey'in bu kararında etkili olan faktör aşağıdakilerden hangisidir?

- A) Erzurum'da hayvancılığın ön planda olması
B) Erzurum'da iklim koşullarının pamuk tarımı için uygun olmaması
C) Erzurum'da genç nüfus oranının fazla olması
D) Erzurum'un su kaynakları bakımından zengin olması

16. Gelişmiş ülkeler ile gelişmemiş ülkeler arasında önemli farklılıklar bulunur. Gelişmiş ülkeler, gelişmemiş ülkelere satın aldıkları ham maddeyi işleyip, onlara sanayi ürünü olarak satarlar. Ayrıca gelişmiş ülkelerde tarım, modern yöntemlerle yapılarak yüksek verim sağlar. Bu ülkelerde kırsal nüfus oranı ve nüfus artış hızı düşüktür.

Metinde gelişmiş ve gelişmemiş ülkeler arasındaki farklılıklardan hangisi vurgulanmamıştır?

- A) Teknoloji
B) Tarım
C) Nüfus
D) Turizm



Yukarıda verilen şekilde (kesitte) bir akarsuyun yatağındaki mevsimlik su seviyelerindeki değişim gösterilmiştir.

Buna göre akarsuyun enerji potansiyelinin en yüksek olduğu mevsim hangisidir?

- A) Yaz
B) İlkbahar
C) Sonbahar
D) Kış

18.

YILLAR	Faaliyet Sektörleri		
	Tarım (%)	Sanayi (%)	Hizmet (%)
1927	89	6	5
1960	75	8	17
2000	35	18	47

Tabloda, bazı yıllar itibarıyla Türkiye’de çalışan nüfusun faaliyet kollarına (sektörlerine) oransal dağılışı gösterilmiştir.

Tabloya bakarak aşağıdaki sorulardan hangisine cevap alınmaz?

- A) 1927 yılında sanayi sektöründe kaç kişi çalışmıştır?
B) 2000 yılında en fazla çalışana sahip sektör hangisidir?
C) En önemli gelişme hangi sektörde yaşanmıştır?
D) Hangi sektörde çalışan nüfus oranı azalmıştır?

19. “Demokratik yönetimlerde herkes dil, ırk, cinsiyet, siyasi düşünce, felsefi inanç, din ve benzeri sebeplerle ayırım gözetilmeksizin kanun önünde eşittir.”

Aşağıdakilerden hangisi, demokrasinin bu ilkesinin gereği olan bir uygulama değildir?

- A) Benzer suçlu işleyen kişilere aynı cezanın verilmesi
B) Yönetimde çoğunluğun düşüncesinden farklı olan görüşlere de söz hakkı verilmesi
C) Kadınların ve erkeklerin aynı haklara sahip olması
D) Bütün vatandaşlardan gelirene bakılmaksızın aynı miktarda vergi alınması

20. • Millî Eğitim Vakfı, çok sayıda okul ve eğitim kurumunun onarım ve donanımını yapmaktadır.

• TEMA Vakfı, erozyonu önlemek amacıyla büyük bir ağaçlandırma kampanyası yürütmektedir.

• Lösemili Çocuklar Vakfı, lösemili çocuklar okulunu açarak onları yaşama bağlamaktadır.

Bu açıklamalar sivil toplum kuruluşlarının, aşağıdaki durumların hangisinde etkili olduğuna örnek oluşturur?

- A) Toplumdaki ihtiyaç ve sorunların giderilmesinde
B) Vatandaşlara toplumsal kurallara uyma bilincinin kazandırılmasında
C) Toplumsal görüş ayrılıklarının azalmasında
D) Kamu düzeninin sağlanmasında

21. Hak, insanlar arası ilişkilerde ortaya çıkan bir kavramdır. Çünkü tek başına yaşayan bir insanın başkalarının ve yasalarca tanınan bir yetkiye ihtiyacı yoktur.

Bu açıklamada aşağıdaki yargılardan öncelikle hangisi vurgulanmaktadır?

- A) Haklar, toplumdaki farklılıkları gösterir.
B) Haklar, hukuk kurallarıyla düzenlenir.
C) Hak, toplum hâlinde bir arada yaşayan insanlar için gereklidir.
D) Doğal haklar, kişinin doğuştan sahip olduğu haklardır.

DİN KÜLTÜRÜ ve AHLAK BİLGİSİ DERSİNİ OKUYANLAR AŞAĞIDAKİ SORULARI CEVAPLAYACAKLAR. OKUMAYANLAR BUNUN YERİNE, AYNI NUMARALI SOSYAL BİLGİLER SORULARINI CEVAPLAYACAKLAR.

22. “İnsan, aklını ve iradesini iyi kullanmalı, sonuçlarını düşünerek hareket etmelidir. O, bilgisizlik, ihmâl ve vurdumduymazlık (duyarsızlık) sonucunda ortaya çıkan olumsuzluklara kader diyerek sorumluluktan kaçınmaz.”

Aşağıdakilerden hangisi bu bilgi ile çelişir?

- A) İnsan, iyi ile kötüyü ayırt edebilecek bir akla sahiptir.
 B) İnsanın davranışlarından sorumlu tutulması, irade sahibi olmasından dolayıdır.
 C) İnsan, davranışlarını kendi bilgisi ile belirler.
 D) İnsanın kötü yolu benimsemesi alın yazısının böyle yazılmış olmasındandır.

23. Hz. Muhammed ve arkadaşları bir yolculuk sırasında mola verdiler. Bir sahâbi, mola yerinde bulunan bir kuş yuvasındaki yumurtaları aldı. Yumurtaları alınan kuş da korku ve üzüntü içinde kanatlarını çırpmaya başladı. Bunun üzerine Hz. Muhammed yumurtaları alan adama onları aldığı yere koymasını söyledi.

Bu olay Peygamberimizin hangi ahlaki özelliğini ön plana çıkartmaktadır?

- A) Hoşgörülü oluşunu B) Hakkı gözetmesini
 C) Hayvan sevgisini D) İnsan sevgisini

24. Bir adam Hz. Muhammed'e gelerek şu soruyu yöneltti:

– Ey Allah'ın elçisi! Devemi bağlayarak mı yoksa serbest bırakarak mı Allah'a tevekkül edeyim?

Peygamberimiz de:

– Deveni bağlayarak tevekkül et, diye buyurdu.

Bu hadise göre, aşağıdakilerden hangisinin tevekkül ettiğini söylemesi anlamsızdır?

- A) Tedavi yollarına başvurmadan hastalığına şifa bekleyen hastanın
 B) Bol ürün elde etmek için tarlasının her türlü bakımını yapan çiftçinin
 C) Sınavda yüksek puan almak için çalışan öğrencinin
 D) Maçı kazanmak için gerekli antrenmanları yapan sporcunun

25. Din anlayışındaki yorum farklılıklarının nedenleri iki grupta incelenir:

I- İnsan unsuru ile ilgili nedenler

II- Toplumsal değişimle ilgili nedenler

Buna göre aşağıdakilerden hangisi II. grupta yer alır?

- A) İnsanların zekâ düzeylerinin farklı farklı olması
 B) Toplumun kültür ve değer yargılarının değişmesi
 C) Her bireyin değişik ilgi ve yeteneklere sahip olması
 D) Eğitim düzeyinin bireyden bireye değişiklik göstermesi

DİN KÜLTÜRÜ ve AHLAK BİLGİSİ DERSİNİ OKUMAYANLAR, AŞAĞIDAKİ SOSYAL BİLGİLER SORULARINA CEVAP VERECEKLER. OKUYANLAR CEVAP VERMEYECEK.

22. Osmanlı Devleti'nde bugünkü Bakanlar Kuruluna benzer bir teşkilat olan Divanihümayunda siyasi, adli, askerî ve mali konularla ilgili her türlü mesele görüşülüp karara bağlanırdı. Alınan kararlarda son söz padişaha aitti. Hangi din ve milletten olursa olsun haksızlığa uğrayan herkes Divana bizzat başvurabilirdi.

Verilen bilgiye göre, Divanihümayun ile ilgili aşağıdakilerden hangisi söylenemez?

- A) Savaş ve barış konularının görüşüldüğü
- B) Alınan kararların geçerliliğinin padişahın onayına bağlı olduğu
- C) Şikâyeti olan herkesin başvurabildiği
- D) Karar sürecinin demokratik olduğu

23. Cumhuriyet Döneminde gerçekleştirilen;

- Takvim, saat ve ölçülerde değişiklik yapılması,
- Soyadı Kanunu'nun çıkarılması,
- Kılık kıyafette değişiklik yapılması

gibi yeniliklerin ortak amacı aşağıdakilerden hangisidir?

- A) Eğitim ve öğretimde birliği sağlamak
- B) Millî birlik duygusunu güçlendirmek
- C) Toplumsal alanda çağdaşlaşmayı sağlamak
- D) Ekonomiyi millî temeller üzerinde geliştirmek

24. Dağlar, insan yaşamı için çeşitli olumsuz yön- lere sahip olsa da ülkemizin doğal zenginlikle- rindedir. Ormanlarımızın çok büyük kısmı dağlarda bulunur. Dağlardaki kar örtüsü yavaş yavaş eriyerek akarsuların beslenmesini sağlar. Dağlar, yabani hayvanların da en önemli yaşam alanıdır. Ayrıca insanların ziyaret ettiği eğlenme ve dinlenme yerlerindedir.

Metinden yararlanarak dağlar için aşağıdaki- lerden hangisi söylenemez?

- A) Madenlerin büyük kısmı dağlarda bulunur.
- B) Doğal dengenin korunmasını sağlar.
- C) Dağlar büyük su depoları gibidir.
- D) Turistik öneme sahip yerlerdir.

25. "Çocuk Hakları Sözleşmesi"ne taraf olan devletler, çocuğun bedensel, ruhsal, ahlaksal ve toplumsal gelişimini engelleyen tehlikeli ve yaşına uygun olmayan işlerde çalıştırılmasını önlerler."

Çocuk Hakları Sözleşmesi'nde yer alan bu hükümlerle çocukların aşağıdakilerden öncelikle hangisine karşı korunması amaçlanmıştır?

- A) Aile bağlarının koparılmasına
- B) Ekonomik alanda sömürülmesine
- C) Özel yaşamına müdahale edilmesine
- D) Düşünce ve inançlarından dolayı ayrıma uğramasına

TEST BİTTİ.

CEVAPLARINIZI KONTROL EDİNİZ.