

# A

## JANDARMA OKULLAR KOMUTANLIĞI JANDARMA ASTSUBAY TEMEL KURSU GİRİŞ SINAVI

2 Mayıs 2009

ADI	:	.....
SOYADI	:	.....
T.C. KİMLİK NUMARASI	:	.....
SALON NUMARASI	:	.....

### GENEL AÇIKLAMA

1. Bu test için verilen toplam cevaplama süresi **120 dakikadır (2 saat)**.
2. Bu sınavda A ve B olmak üzere iki tür soru kitapçığı vardır.
3. Bu soru kitapçığının türü **A**'dır. Bunu cevap kâğıdınız-  
daki ilgili alana kodlayınız.  
**Bu kodlamayı cevap kâğıdınıza yapmadığınız ve-  
ya yanlış yaptığınız takdirde, sınavınızın değer-  
lendirilmesi mümkün değildir.**
4. Cevaplamaya istediğiniz sorudan başlayabilirsiniz.
5. Test kitapçığındaki her sorunun yalnızca bir doğru  
cevabı vardır. Bir soru için birden çok cevap yeri işa-  
retlenmişse o soru yanlış cevaplanmış sayılacaktır.
6. Değiştirmek istediğiniz bir cevabı, yumuşak bir sil-  
giyle, cevap kâğıdını örselemeden, temizce siliniz ve  
yeni cevabınızı işaretlemeyi unutmayınız.
7. Cevap kâğıdınızı buruşturmayınız, katlamayınız ve  
üzerine gereksiz hiçbir işaret koymayınız.
8. **Test puanlanırken her bölümdeki doğru cevap-  
larınızın sayısından yanlış cevaplarınızın sayısı-  
nın dörtte biri düşülecek ve kalan sayı o testle  
ilgili ham puanınız olacaktır. Bu nedenle bir soru  
hakkında hiçbir fikriniz yoksa o soruyu boş bira-  
kınız. Ancak, soruda verilen seçeneklerden bir-  
kaçını eleyebiliyorsanız kalanlar arasından doğru  
cevabı kestirmeniz yararınıza olabilir.**
9. Sınavda uyulacak diğer kurallar bu kitapçığın arka  
kapağında belirtilmiştir.

*Bu testin her hakkı saklıdır. Hangi amaçla olursa olsun, testlerin tamamının veya bir kısmının Merkezimizin yazılı izni olmadan kopya edilmesi, fotoğrafının çekilmesi, herhangi bir yolla çoğaltılması, yayımlanması ya da kullanılması yasaktır. Bu yasağa uymayanlar gerekli cezai sorumluluğu ve testlerin hazırlanmasındaki mali külfeti peşinen kabullenmiş sayılır.*

1. Bu sorunuz üzerine, öykünün kişilerle ilgili geniş çaplı açıklamalar yapmayı düşünmüyorum. Sizin, öykünün içinde kalmak koşuluyla bu sorunun yanıtını bulmanızı istiyorum. Sorunuzun, benimkinden başka yanıtları da olabilir, bunun farkındayım.

**Bu parçada geçen "öykünün içerisinde kalmak" sözüyle anlatılmak istenen aşağıdakilerden hangisidir?**

- A) Yorum yapmadan, yazarca düşünüleni yansıtmak  
B) Anlatılanları, değişik açılardan değerlendirmek  
C) Her öyküyü diğerlerinden bağımsız olarak yorumlamak  
D) Öykü kişilerinin kimliğini, öykünün olay örgüsüyle uyumlu hâle getirmek  
E) Teknik olanakları sınırlı biçimde kullanmak

2. Bir dilin zenginliğini, bir kavramla, bir durumla ilgili, eş anlamlı sayılan sözcüklerin, deyimlerin bolluğu gösterir.

**Aşağıdakilerin hangisinde verilen sözler, bu cümlede belirtilmek istenene anlam bakımından örnek oluşturmaz?**

- A) Az kalsın, neredeyse  
B) Baştan savma, üstünkörü  
C) Etekleri tutuşmak, küçük dilini yutmak  
D) Kırılmak, gönül koymak  
E) Ruhunu teslim etmek, gözlerini kapamak

3. Yapıtlarında anlattıkları okurlarda yaşanmışlık duygusu uyandırıyor o yazar başarıya ulaşmış sayılır.

**Bu cümleye göre yazarın başarısında önemli olan aşağıdakilerden hangisidir?**

- A) Okur sayısının çok olması  
B) İlginç konular seçmesi  
C) Düş gücüne seslenmesi  
D) Amacın belirlenmesi  
E) Gerçekmiş gibi algılanması

4. (I) Romanlar, yaşamın çeşitli yanlarını bir bir ortaya koydular. (II) Örneğin Cervantes'le Don Kişot dünyaya gerçek bir katkıda bulunması için yaşamda kahramanca bir yolculuğa çıkarıldı. (III) Samuel Richardson'la insanın iç dünyasında olup bitenler irdelenmeye başlandı. (IV) Balzac'la insanın tarihle olan derin bağları keşfedildi. (V) Flaubert'le günlük yaşamdaki ilişkilerin o döneme değin bilinmeyen yönleri araştırıldı. (VI) Yine romanlarda Thomas Mann'la uzak çağlardan gelen mitlerin yaşamımızdaki rolü gösterildi.

**Bu parçadaki numaralanmış cümlelerden hangisinde insanın ruhsal yapısını incelemiş bir romancıdan söz edilmektedir?**

- A) II. B) III. C) IV. D) V. E) VI.

5. (I) Püren, makiliklerde ve kalkerli toprakların güneş gören yerlerinde yetişen, 50 ile 80 cm boyunda, çalı görünümü bir bitkidir. (II) Ucu sivri, küçük koyu yeşil, çam iğnesine benzeyen yaprakları vardır. (III) Püren, kışın yapraklarını dökmez ama mevsim sonunda bronzlaşır ve bu rengi çiçek açma zamanına kadar korur. (IV) Aykırı bir bitkidir püren, diğerleri kış uykusuna yatarken o uyanır ve kasım sonlarına doğru sanki baharı müjdeliyormuş gibi açık pembe çiçek açar. (V) Çan şeklindeki kokulu çiçeklerinin ucu dört parçalıdır ve bunların da ortasında ince, mor bir uzantı bulunur.

**Bu parçadaki numaralanmış cümlelerin hangisinde öznel bir değerlendirme söz konusudur?**

- A) I. B) II. C) III. D) IV. E) V.

6. (I) Ortalama sıcaklığın yükselmesiyle, biyolojik çeşitlilikte de büyük değişiklikler oluyor. (II) Hayvanların kısıtlı da olsa yer değiştirme olanağı varken bitkilerin yerlerini değiştirememesi, bu tür değişimlerin etkilerinin bitkilerde daha kolay izlenebilmesini sağlıyor. (III) Bilim insanlarının yaptığı bitki örtüsü modellemelerine göre, sıcaklıkların yükselmesiyle dünya genelinde kurakçıl bitkilerin yaygınlaşacağı düşünülüyor. (IV) Örneğin, son Buzul Çağı'nda Anadolu toprakları ibrelili (çam, selvi) ve geniş yapraklı ağaçlardan oluşan ormanlarla kaplıydı. (V) Daha sonra iklimin yumuşamasıyla bu bitki örtüsü ortadan kalktı ve yerini subtropik bölgelerden gelen daha kurakçıl bitkilere bıraktı.

**Bu parçadaki numaralanmış cümlelerin hangisinde tahmin söz konusudur?**

- A) I. B) II. C) III. D) IV. E) V.

*Diğer sayfaya geçiniz.*

7. (I) Trenin penceresinden, geçtiğimiz yerlere dikkatle bakıyordum; bütün gün bozkırlar içinden geçmiştik, karanlık çökmüş, akşam olmuştu. (II) Ertesi sabah ortalık ağarınca pencereye doğrulduğumda gördüğüm manzara beni büyülemişti. (III) Her yer öyle güzel öyle yemyeşildi ki... (IV) Sanırım Arifiye'ye ya da Sapanca'ya ilerliyorduk. (V) Trenimizin kıvrıla dolana ilerlediği vadi ve iki yanından yükselen sırtlar, yamaçları örten ağaçların, çalılarının yeşilliği, bir gün önceki bozkırlar gibi değildi hiç. (VI) Sabahın ilk ışıkları arasında birden karşıma çıkıveren bu yeşil dünyanın bendeki şaşırtıcı izlerini hâlâ hoş bir ürperti ile hatırlarım.

**Bu parçadaki numaralanmış cümlelerin hangisinde ikinci cümlede belirtilen durumun nedenlerinden söz edilmiştir?**

- A) I. ve III.                      B) I. ve IV.                      C) III. ve V.  
D) III. ve VI.                      E) IV. ve V.

8. (I) Çocukluğumda müziğe ve resme ilgim vardı. (II) Ancak, öğrencilik yıllarımda mühendislik çok istenen bir meslekti ve ben de buna yönlendirildim. (III) Besteci olmayı istediysem de bunun için geç kalmıştım. (IV) Ne var ki çok sesli müziğin derinliği beni çok etkiliyordu. (V) İşte fotoğraflarımda müzikle bu bağlamda bir paralellik yakalamaya çalışıyorum.

**Bu parçadaki numaralanmış cümlelerle ilgili olarak aşağıda verilenlerden hangisi yanlıştır?**

- A) I. cümlede yakınlık duyulan güzel sanatlardan söz edilmiştir.  
B) II. cümlede yapılan seçimle ilgili bilgi verilmiştir.  
C) III. cümlede artık mümkün olmayan bir durumdan söz edilmiştir.  
D) IV. cümlede yaygın bir durum dile getirilmiştir.  
E) V. cümlede amaç belirtilmiştir.

9. (I) Kışın Burgazada da yakınındaki kardeş adalar gibi fazla konuşmuyor. (II) Ama bu sessizlik bir boşluk, eksiklik, cansızlık yaratmıyor adada. (III) Bence nasıl olması gerekiyorsa öyle bu ada kışın. (IV) Onun bu ağırbaşlı hâlinde bir hoşluk, görmüş-geçirmişlik var. (V) Adalılar belki de en çok yılın bu zamanlarında kendini adalı hissediyordur.

**Bu parçadaki numaralanmış cümlelerle ilgili olarak aşağıda verilenlerden hangisi yanlıştır?**

- A) I. cümlede, cansız bir varlığa insana özgü nitelik yüklenmiştir.  
B) II. cümlede, I. cümleyle ilgili bir yorum yapılmıştır.  
C) III. cümlede, kişisel görüş belirtilmiştir.  
D) IV. cümlede, saptama yapılmıştır.  
E) V. cümlede, koşul dile getirilmiştir.

10. Şairlerin günün birinde şiir yazmaktan vazgeçmelerinin nedenini hep merak etmişimdir. Bir söyleşimizde bu konuyu usta şairimize açtım ve ona ( ) "Yoksa siz de mi ilham perisini darılttınız ( )" dedim. Rahmetli, "Ah ( )" dedi, "Onu elime bir geçirsem bırakır mıyım hiç ( )" "

**Bu parçadaki ayraçlarla ( ) belirtilen yerlere aşağıdakilerin hangisinde verilen noktalama işaretleri sırasıyla getirilmelidir?**

- A) (: ) (?) (!) (?)                      B) (,) (.) (...) (?)  
C) (!) (...) (.) (.)                      D) (;) (:) (...) (.)  
E) (:) (!) (.) (...)

11. Aşağıdaki cümlelerin hangisinde ayraçla ( ) belirtilen yere virgül (,) getirilmesi yanlıştır?

- A) Evet ( ) ben de senin gibi düşünüyorum.  
B) Çocuklar ( ) hadi bakalım, dinlenme zamanı bitti.  
C) Sınıfta tek başına oturan çocuğun ( ) başını sevgiyle okşadı.  
D) Nasıl olduğunu anlayamadım ( ) birdenbire gözlerim kararı, olduğum yere yığıldım.  
E) Bundan böyle ben bu evde hiçbir şeye karışmayacağım ( ) diye söylenmeye başladı.

12. Bozcaada'nın güneydoğusunda bulunan Batıburnu  
I II

Feneri, 1851 yılında yapılmıştır. Fenerin kule yük-  
seklği yirmi metredir. Yanında, on yedi tane rüzgâr  
III

tribünü yer almaktadır. Polente Feneri olarakta  
IV

bilinen fenere, yaz aylarında gün batımı turları  
V

düzenlenmektedir.

**Bu parçadaki numaralanmış sözlerin hangisinde bir yazım yanlışı vardır?**

- A) I. B) II. C) III. D) IV. E) V.

13. Osmanlı İmparatorluğu'nun yirmi sekizinci padişahı  
I

olan III. Selim, ölümünün 200. yılı dolayısıyla Topkapı  
Sarayı müzesinde düzenlenen bir sergiyle anılıyor.  
II

Sergide, 20. yüzyıl başlarına kadar süren yenileşme  
hareketlerinin önemli öncülerinden III. Selim'e ve  
III

dönemine ait yaklaşık 150 eser yer alıyor. Bu dönem-

de mimaride kullanılan resim ve süslemelerde görü-

len barok ve rokoko üslupları, mimariye yeni yorum-  
IV

lar kazandırmış, minyatürden Batılı anlamda tuval  
V

resmine geçilmiştir.

**Bu parçadaki numaralanmış sözlerin hangisinde bir yazım yanlışı vardır?**

- A) I. B) II. C) III. D) IV. E) V.

14. **Aşağıdaki cümlelerin hangisinde bir anlatım bozukluğu vardır?**

- A) Bu toplantıyı, ülkemizde özellikle son yıllarda gündeme getirilen sağlık sorunlarını tartışmayı amaçlıyoruz.  
B) Bugün sizlerle bu konuyu tartışabilmek, benim için büyük bir mutluluktur.  
C) Kütüphanemize başılayacağınız kitapları aşağıdaki adrese gönderebilirsiniz.  
D) Bu derginin, bazı konularda bilgi eksiği olan okurlar için çok yararlı olacağını düşünüyorum.  
E) Kurumumuzun yeniden yapılanması konusundaki çabalarınızı dikkatle izliyorum.

15. İstenen her yerde tesis kurma olanağı bulunmadığı için bu da ilçemiz için büyük şanstır.

**Bu cümledeki anlatım bozukluğu aşağıdaki değişikliklerden hangisiyle giderilebilir?**

- A) "istenen her yerde" yerine "istediği her yerde" sözü getirilerek  
B) "tesis" yerine "kuruluş" sözcüğü getirilerek  
C) "olanağı" yerine "olasılığı" sözcüğü getirilerek  
D) "bulunmadığı için bu da" yerine "bulunmaması" sözcüğü getirilerek  
E) "ilçemiz için" yerine "ilçemiz açısından" sözü getirilerek

16. Aşağıdaki cümlelerin hangisinde altı çizili sözcüğün yerinde kullanılmamasından kaynaklanan bir anlatım bozukluğu vardır?

- A) Su kaynaklarının yetersizliği, ülkeler arasında kimi zaman savaş nedeni olmuştur.
- B) Teknolojideki hızlı ilerleme, suyun daha akılcı, daha verimli ve planlı bir biçimde kullanılmasını sağlayacaktır.
- C) Teknoloji geliştikçe su sıkıntısının azalacağı düşüncesi, tartışılması gerektiğine inandığım yaklaşımlardan biridir.
- D) Su kaynaklarının temiz tutulması ve verimli kullanılması konusunda herkes bilinçlendirilmelidir.
- E) İnsanoğlu, son yarım yüzyılda, su kaynaklarının tükenmesine, doğal dengenin bozulmasına katkıda bulunmuştur.

17. Bursa yakınlarında, tarihle doğanın kaynaştığı ve bir kuş cenneti olan Ulubat Gölü, görenleri kendisine hayran bırakacak kadar güzel. Ağaçlar, ilkbaharda yağış miktarının artması nedeniyle yarısına kadar sular içinde. Gölün kıyısı, ağlarını, kerevit sepetlerini eşleriyle beraber onaran balıkçılarla dolu. Bu göle yakın Gölyazı Köyü'nün Arnavut kaldırımli dar sokakları, tarihî kent duvarları geçmişin izlerini yansıtıyor.

**Bu parçanın anlatımında aşağıdakilerin hangisi ağır basmaktadır?**

- A) Karşılaştırma                      B) Örnek verme
- C) Betimleme                            D) Tartışma
- E) Öyküleme

18. (I) Her roman biraz da otobiyografidir. (II) Yazdığınız bir roman, Orta Çağ'daki gezgin ozanlar üzerine bile olsa oradaki karakterlerin hepsi siz olursunuz. (III) Bir otobiyografiyi okurken yapıtta satırlar arasına gizlenmiş yazarı, yazara ilişkin ipuçlarını bulursunuz. (IV) Pek çok karakteri içinizde yaşar, yaşatırsınız. (V) Onları ete kemiğe büründürebilmek için onlarla bütünleşirsiniz. (VI) Bütün bunları başarabilmek içinse yazar olarak titiz bir çalışmayı göze almanız gerekir.

**Bu parçadaki numaralanmış cümlelerin hangisi düşüncenin akışını bozmaktadır?**

- A) II.      B) III.      C) IV.      D) V.      E) VI.

19. Şairin şiirini, kendine özgü imgeler, duygular, gözlemlerle oluşturması, onun başarılı olmasında etkilidir. Ancak bunların dizelere dökülmesindeki başarısının asıl payı anlatımındadır: Rahat, yalın, içten, konuşulan dilden seçtiği sözlerle oluşturulmuş bir anlatım; süslemelerden, zorlamalardan uzak bir söyleyiş... Şiir, eski dönemlerde büyük önem verilen ses öğelerinden yoksun olsa da bu özellikler şairin anlatımında bir eksiklik yaratmamaktadır. Yani, ----.

**Bu parçada boş bırakılan yere, düşüncenin akışına göre aşağıdakilerden hangisi getirilmelidir?**

- A) şiiri güçlü kılan en önemli öge, anlatımdaki güzelliğidir
- B) şiirin etkili olması birçok özelliğin bir arada olmasını gerektirmektedir
- C) günümüz şiirinde aranan nitelikler kesin olarak belirlenmemiştir
- D) şiirde en belirleyici etken kendine özgülüktür
- E) eski şiir anlayışı, kimi şairlerce başarıyla sürdürülmektedir

20. İnsanoğlu bencildir, yalnız kendisiyle ilgilenir, başkalarının gerçekliğini kavrayamaz. Kendi benliğinin içine kapanıp kalır. Başkalarıyla ilişkiler içinde olmayı engelleyen bu kabuğu, ancak edebiyat, gerçekçi edebiyat kırabilir. Hani şiir okumayı, öykü okumayı boş bir iş sayıp da kendilerine yakıştıramayan kimseler vardır. Siz onların arasında başkalarını iyi anlayan, başkalarının dertlerine, kaygılarına ortak olan birini gördünüz mü hiç? Bunu ancak edebiyat sağlar.

**Bu parçada asıl anlatılmak istenen aşağıdakilerden hangisidir?**

- A) İnsanın, kendini hep başkalarından üstün tutması gerektiği
- B) Kimilerinin edebiyat ürünlerine ön yargılı yaklaştığı
- C) Başkalarıyla iyi ilişkiler kurmanın önemli olduğu
- D) Edebiyatın insana olumlu nitelikler kazandırdığı
- E) Edebiyatla ilgilenmenin yetenek gerektirmediği

21. Daha önce hakkında yazı yazdığım öykülerine göre "Mendil Altında" onun en kısa öyküsü. Ama bu öykünün içeriği kâğıt üzerinde kapladığı alanla karşılaştırılmayacak kadar geniş. Tam olarak çözümlendiğinde sınırları nerelere kadar dayanır kestirmek zor. O kadar geniş bir alana hâkim olamayacağım için ben de yoklayabildiğim alanlarda dolaşmayı yeğledim.

**Bu parçada sözü edilen öykünün vurgulanan yönü aşağıdakilerden hangisidir?**

- A) Değerinin ilk bakışta görülemeyeceği
- B) Okunmasını kolaylaştıran bir yapısının olduğu
- C) Yazarın başka öyküleriyle benzerlikler taşıdığı
- D) Farklı bakış açılarıyla incelenmeye uygun olduğu
- E) Yoğun bir anlatımla oluşturulduğu

22. Marmara Denizi'nde, Bostancı'dan Kartal'a uzanan kıyı şeridinin karşısında Kaşıkadası, Tavşanadası, Yassıada ve Sivriada bulunuyor. Bu adalar, tarih sahnesine çok çıktı ama önemli merkezler olarak sivilmedi. Bunu değiştiren, 19. yüzyılın ortalarında Şirket-i Hayriye'nin başlattığı vapur seferleri oldu. Bu seferlerle adalar kısa sürede İstanbul'un gözde sayfiye yerlerine dönüştü ve nüfusları arttı. Dört bir yanı köşklerle, mimari anıtlarla donatıldı. Bugün hâlâ büyük ölçüde ayakta olan bir tarihî miras var elimizde.

**Bu parçada sözü edilen adalarla ilgili olarak aşağıdakilerin hangisine değinilmemiştir?**

- A) Büyüklükleriyle ilgili bilgiye
- B) Ne zaman önem kazandıklarına
- C) Kalabalıklaşmalarının nedenine
- D) Ne tür tarihî yapılar barındırdıklarına
- E) Günümüzde ne bakımdan önem taşıdıklarına

23. Arkadaşlarımla "Dünyanın en büyük kardan adamını biz yapalım." dedik. Benim görevim, evden atkı, havuç, kömür, bere getirmek ve bunları yerleştirmektir. Eser ortaya çıkmaya başladıkça, birbirimize kimi zaman emirler, kimi zaman da azarlar yağdırmaya başlamıştık. Tamamlandığından hiçbir zaman emin olmadığımız kardan adamın vücudu oluştu sonunda. Ardından, kardan adamın boynuna kaşkolunu, başına beresini takıp ince işçiliğe yani yüzünü süslemeye gelmişti sıra. Bir taraftan yüzü kendimize benzetmeyi denerken bir taraftan da kaş ve dudak olarak kullanılan kömürlerle "konumlandırma" biçimine göre yüze farklı ifadeler kazandırmaya çalıştık. Son parça da konduğunda kardan adam erimeye başlamıştı. Birlikte, uzun bir çalışma sonucu, doğaya hiçbir zarar vermeden yaptığımız eserle, kendi çapımızda birer sanatçı olmuştuk belki ama bunun farkına varamamıştık.

**Bu parçada sözü edilen kardan adamla ilgili olarak aşağıdakilerden hangisine değinilmemiştir?**

- A) Yapılışı sırasında neler yaşandığına
- B) İşten anlayan kişilerin bilinçli çalışmalarıyla oluşturulduğuna
- C) Çevreye olumsuz bir etkisinin bulunmadığına
- D) Yapan kişilerden izler taşıdığına
- E) Emek isteyen bir grup çalışması gerektirdiğine

24. Cep telefonlarının benzin istasyonlarında kullanılması ölümlerle sonuçlanabilecek felaketlere yol açabilir. En büyük tehlike, telefon pillerinin petrol ürünlerini tutuşturma olasılığıdır. Başka bir tehlike de radyo frekans sinyalinin çevredeki metallerde elektrik akımı yaratmasıdır. Çünkü bir cep telefonunun ürettiği 5 wattlık sinyal, buharlaşmış yakıtı tutuşturmaya yetebilir. Şunu da ekleyelim: Benzin pompalarının üzerindeki sayaçlar, cep telefonlarından etkilenerek yavaşlayabilir, bazen de durabilir.

**Bu parçada cep telefonlarıyla ilgili olarak aşağıdaki sorulardan hangisinin yanıtı yoktur?**

- A) Benzin istasyonlarında niçin kullanılmamalıdır?
- B) Benzin istasyonlarında kullanılması tehlikeli midir?
- C) Yayımladığı radyo frekans sinyali neye yol açabilir?
- D) Ürettiği sinyalin gücü nasıl bir tehlikeye neden olabilir?
- E) Benzin pompalarındaki sayaçların hangi bölümünü bozmaktadır?

*Diğer sayfaya geçiniz.*

25. Çocuklar için hazırlanmış çizgi filmler, büyüklerin izledikleri programlara göre daha fazla şiddet içeriyor. Üstelik bu şiddet, komik, esprili bir biçimde yansıtılıyor. Böylece şiddet, hayatın doğal bir parçası gibi gösteriliyor. Çocuklarsa artık şiddete karşı duyarsızlaşıyor. Çocukların şiddete karşı duyarsızlaştığını da şöyle anlıyoruz: Normal koşullarda bir çocuk, şiddet içeren bir sahneyi izlerken kaşlarını çatıyor, gözlerini kırıyor, çocuğun kas geriliminde bir artış gözleniyor. Buna empati diyoruz. Bu tür sahneleri çok fazla izleyen çocuklar, bunu hayatın doğal bir parçası olarak görüyorlar. Ayrıca bu tür sahneler, çocukların acıma duygularını örseliyor. Dahası, yardıma ihtiyaç duyan insanlara yardım etme isteğini azaltıyor.

**Bu parçada aşağıdakilerden hangisine değinilmemiştir?**

- A) Çocuk programlarının büyüklerinkilerden farkına
- B) Çok karşılaşılan olumsuz bir durumun çocuklarca normal kabul edilebildiğine
- C) Çocukların izleyeceği programların nasıl olması gerektiğine
- D) Çocuklarda ortaya çıkabilecek kimi değişimlere
- E) Kimi durumlarda çocukların gösterdiği tepkilere

26. Sahte tablo ticareti yapanlar, geliştirdikleri birtakım eskitme yöntemleriyle sahte tablolara, gerçeğine yakın bir görünüm kazandırıyorlar. Ama X-ray ve infrared gibi teknolojiler sayesinde bir yapıtın, tüm katmanlarına inilebiliyor. Tuval bezi, şasi, pigment gibi özellikleri incelenerek ve ait olduğu söylenen dönemin malzemelerine uygunluğu karşılaştırılarak tablonun özgün olup olmadığı anlaşılabilir.

**Bu parçada tablolarla ilgili olarak aşağıdakilerden hangisine değinilmemiştir?**

- A) Gerçek olmadıklarını gizlemek için kimi yollara başvurulduğuna
- B) Niteliğini belirlemede teknolojiden yararlanıldığına
- C) Orijinal olduğunun nasıl ortaya konduğuna
- D) Hangi özellikleri açısından denetimden geçirildiğine
- E) Giderek daha fazla araştırmaya konu olduğuna

27. Saygı ve ilgi görmesi, çocukların ruhsal ve bedensel gelişimi açısından son derece önemlidir. Ama ne yazık ki toplumumuzda çocuğu sevmek, ona saygı duymanın önüne geçmiştir. Yalnızca büyüklere saygı gösterileceği, çocuklara saygı duymak gerekmediği, onları sevmenin yeterli olduğu düşünülür. Oysa her insan gibi çocuk da kendisine saygı duyulmasını ister. Evet, sevgi önemlidir ama saygısız sevgi yetersizdir. Çocuk, küçük, güçsüz bir varlık olarak değil, sevilip saygı duyulacak bir birey olarak görülmelidir.

**Bu parçada aşağıdakilerden hangisine değinilmemiştir?**

- A) Çocuk gelişiminde etkili olan öğelere
- B) Çocukların büyüklerce nasıl algılandığına
- C) İnsanların ortak bir yönüne
- D) Kimi değerlerin çocukken kazanılacağına
- E) Çocuklara nasıl davranılması gerektiğine

28. İyi bir eleştirmen, eserle ilgili düşüncelerimizi zenginleştirebilir. Eserin öğeleri arasında daha önce görmediğimiz birtakım ilişkileri kavramamızı sağlayabilir. Bunların oluşturduğu bir dokuyu bize fark ettirebilir. Bazı toplumsal sorunlara dikkatimizi çekebilir. Böylece o, esere bakışını bize aktarabilmişse, yani biz esere o açıdan bakmakla bir şeyler kazanmışsak eleştirmen görevini yapmış demektir.

**Bu parçaya göre eleştirmenden beklenen, aşağıdakilerden hangisi olamaz?**

- A) Öğretici olmayı ilke edinme
- B) Kişisel görüşlerini okurla paylaşma
- C) Yaşamdaki kimi olaylar üzerinde düşündürme
- D) Okurun ayırımına varamadığı bağlantıları gösterme
- E) Okurun düşünce dünyasını geliştirme

29. Çoğu kişi televizyondaki dizilere ön yargılı yaklaşıyor. Kimileri benzer konuların işlendiğini ileri sürerek, kimileri uzatmaları bahane ederek... Bu gerekçelerde haklılık payı yok değil; kullandıkları dil ve estetik bakımından, algılamaları allak bullak eden dizilerin zararı saymakla bitmez. Ama yine de kişisel yargının yerini hoşgörü alırsa sanırım dizilerin arasında iyilerinin ayırt edilmesi kolaylaşacaktır.

**Bu parçada, televizyonda yayımlanan dizi filmlerle ilgili olarak aşağıdakilerden hangisi yoktur?**

- A) Genelleme yaparak konuya girme
- B) Beğenilerin kişiden kişiye değiştiğini vurgulama
- C) Eleştirilere katılarak eklemeler yapma
- D) Sorunun çözümü için öneride bulunma
- E) Eleştirilerin dayanaklarını açıklama

30. Aşırı derecede hareketli ve atak olan, dikkat toplama güçlüğü çeken çocuklara hiperaktif deniyor. Bu durum, kızlara oranla erkek çocuklarda daha çok görülüyor ve dikkat dağınıklığı genellikle üç yaşında ortaya çıkıyor. Bu dönemde önemsenmezse çocuğun sonraki yaşamını olumsuz yönde etkileyecek sorunlar ortaya çıkıyor. Bu da çocuğun özellikle ergenliği, daha çalkantılı ve başarısız bir dönem olarak geçirmesine yol açıyor.

**Bu parçada hiperaktiflikle ilgili olarak aşağıdakilerden hangisine değginilmemiştir?**

- A) Belirtilerinin neler olduğuna
- B) Gelişme çağında nasıl bir etki yarattığına
- C) Ortaya çıkmaması için alınacak önlemlere
- D) Kimlerde sıklıkla ortaya çıktığına
- E) Önlem almamanın yarattığı sonuçlara

31.

$$\frac{6}{1000} + \frac{4}{10}$$

**işleminin sonucu kaçtır?**

- A) 0,0064
- B) 0,046
- C) 0,064
- D) 0,406
- E) 0,604

32.

$$\frac{16 \cdot (0,25)^3}{(0,5)^3}$$

**işleminin sonucu kaçtır?**

- A) 0,5
- B) 1
- C) 1,25
- D) 1,5
- E) 2

33.

$$4^x < 8^5$$

**eşitsizliğini sağlayan en büyük x tam sayısı kaçtır?**

- A) 8
- B) 7
- C) 6
- D) 5
- E) 4

*Diğer sayfaya geçiniz.*



34.

$$\sqrt[x]{a} \cdot \sqrt[y]{a}$$

ifadesi aşağıdakilerden hangisine eşittir?

- A)  $\sqrt[xy]{a}$       B)  $\sqrt[xy]{a^2}$       C)  $\sqrt[xy]{a^{xy+1}}$   
 D)  $\sqrt[xy]{a^{x+y}}$       E)  $\sqrt[xy]{2a}$

35.

$$\sum_{k=1}^{10} (k+2) = (1+2) + (2+2) + \dots + (10+2)$$

toplamının değeri kaçtır?

- A) 75      B) 80      C) 85      D) 90      E) 95

36.  $460^3$  sayısını kalansız olarak bölen en büyük asal sayı kaçtır?

- A) 11      B) 13      C) 19      D) 23      E) 29

37. a, b ve c gerçel sayıları için

$$a - 2b - 2c = 7$$

$$2a + b + c = 4$$

olduğuna göre, a kaçtır?

- A) 2      B) 3      C) 4      D) 5      E) 6

38.

$$2x + 1 \equiv 6 \pmod{13}$$

denkliğini sağlayan en küçük pozitif tam sayı kaçtır?

- A) 8      B) 9      C) 10      D) 11      E) 12

Diğer sayfaya geçiniz.

39.

$$a < 0 < c$$

$$a \cdot c < b \cdot c$$

olduğuna göre, aşağıdakilerden hangisi her zaman doğrudur?

- A)  $a < b$       B)  $b < a$       C)  $0 < b$   
D)  $b < 0$       E)  $c < b$

40.  $x$  ve  $y$  birer gerçel sayı olmak üzere,

$$-1 < x < 3$$

$$0 < y < 2$$

olduğuna göre,  $x \cdot y$  çarpımı hangi aralıkta değer alır?

- A)  $(-3, 3)$       B)  $(-2, 3)$       C)  $(-2, 6)$   
D)  $(0, 2)$       E)  $(0, 6)$

41.  $a$ ,  $b$  ve  $c$  birer pozitif tam sayı olmak üzere,

$$\frac{a}{b} = 2$$

$$\frac{b}{c} = \frac{3}{7}$$

olduğuna göre,  $a + b + c$  toplamının en küçük değeri kaçtır?

- A) 12      B) 16      C) 19      D) 21      E) 23

42.

$$\left. \begin{aligned} \frac{1}{x} + \frac{2}{y} &= 0 \\ \frac{-1}{x} + \frac{1}{y} &= 3 \end{aligned} \right\}$$

denklem sistemi veriliyor.

Buna göre,  $x + y$  toplamı kaçtır?

- A)  $\frac{-3}{2}$       B)  $\frac{1}{2}$       C)  $\frac{4}{3}$       D) 2      E) 3

43.

$$\frac{ax^2 - bx + 3}{x^2 - 1}$$

kesrinin sadeleştirilmiş biçimi  $\frac{x-3}{x+1}$  olduğuna göre,  $a + b$  toplamı kaçtır?

- A) 5      B) 6      C) 7      D) 8      E) 9

*Diğer sayfaya geçiniz.*

44.

$$s(A) = 5$$

$$s(B) = 9$$

ve evrensel kümenin eleman sayısı olan  $s(E) = 20$  olarak veriliyor.

**A' ve B' sırasıyla A ve B kümelerinin tümleyeni olduğuna göre,  $s[(A' \cap B) \cup (A' \cap B')]$  kaçtır?**

- A) 11    B) 12    C) 14    D) 15    E) 16

45.  **$A = \{a, b, c, d, e, f, g\}$  kümesinin dört elemanlı alt kümelerinin kaç tanesinde a bulunur; fakat c bulunmaz?**

- A) 9    B) 10    C) 12    D) 14    E) 15

46. Dört basamaklı 5A68 sayısı 9 a kalansız olarak bölünebilmektedir.

**Buna göre, A rakamı kaçtır?**

- A) 4    B) 5    C) 6    D) 7    E) 8

47. Bir astsubay 6 günde bir nöbet tutuyor.

**Birinci nöbetini pazar günü tutan bu astsubay dördüncü nöbetini hangi gün tutar?**

- A) Salı    B) Çarşamba  
C) Perşembe    D) Cuma  
E) Cumartesi

48. Bir üretici, maliyeti üzerinden % 14 kâr elde ederek sattığı bir malın satış fiyatını değiştirmeden maliyet fiyatını düşürerek bu malın satışından % 20 kâr elde etmek istiyor.

**Bu üretici malın maliyetini % kaç düşürmelidir?**

- A) 3    B) 4    C) 5    D) 6    E) 8

*Diğer sayfaya geçiniz.*

49. Bir aracın deposunda belirli miktarda yakıt vardır. Bu yakıtın % 60 ı harcadığında deponun doluluk oranı % 30 a düşüyor.

**Buna göre, başlangıçta aracın deposunun doluluk oranı % kaçtır?**

- A) 45    B) 60    C) 70    D) 75    E) 90

51. Üçü kız, dördü erkek olan yedi öğrenci yan yana olacak biçimde rastgele sıralanmıştır.

**Buna göre, bu sıralanışta kız öğrencilerin üçünün de yan yana olma olasılığı kaçtır?**

- A)  $\frac{5}{14}$     B)  $\frac{3}{14}$     C)  $\frac{1}{14}$   
D)  $\frac{2}{7}$     E)  $\frac{1}{7}$

50.

$$C_n = \frac{1}{n+1} \binom{2n}{n}$$

biçiminde tanımlanan sayılara "Catalan sayıları" adı verilmektedir.

**Buna göre, 5. ve 4. Catalan sayılarının bölümü**

**olan  $\frac{C_5}{C_4}$  kaçtır?**

- A) 3    B) 4    C) 5    D) 6    E) 9

52.  $\mathbb{R}$  den  $\mathbb{R}$  ye tanımlı  $f$  ve  $g$  fonksiyonları için

$$f(x) = 3x + 2$$

$$g(x) = 2(x - 1)$$

**olduğuna göre,  $f(a+b) + g(a-b)$  değeri kaçtır?**

- A)  $a + 3b$     B)  $2a - 4b$     C)  $5a + b$   
D)  $2a + b + 1$     E)  $2a - b - 1$

*Diğer sayfaya geçiniz.*

53. a ve b birer tam sayı olmak üzere  $\oplus$  işlemi,

$$a \oplus b = 3a + b + ab + 2$$

biçiminde tanımlanıyor.

**Buna göre,  $(1 \oplus (-1)) \oplus 0$  işleminin sonucu kaçtır?**

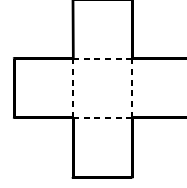
- A) 6      B) 8      C) 9      D) 10      E) 11

54. Bir fabrikada üretilen ürünler için, maliyet fiyatı m TL ve satış fiyatı s TL olmak üzere, s ile m arasında  $s = \frac{4}{3}m + 10$  bağıntısı vardır.

**Buna göre, bu fabrikada üretilen ve maliyeti 60 TL olan bir ürünün satışından % kaç kâr elde edilmektedir?**

- A) 25      B) 30      C) 40      D) 50      E) 75

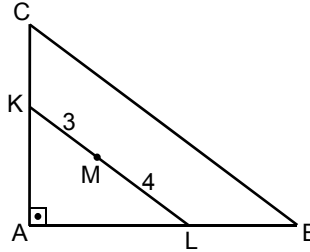
55. Aşağıda koyu çizgilerle belirtilen artı biçimindeki şekil, beş eş kareden oluşmaktadır.



**Bu şeklin çevre uzunluğu, eş karelerden birinin çevre uzunluğunun kaç katıdır?**

- A) 2      B) 3      C)  $\frac{8}{3}$       D)  $\frac{16}{3}$       E)  $\frac{15}{4}$

- 56.



ABC bir dik üçgen

$CA \perp AB$

$|KM| = 3$  cm

$|ML| = 4$  cm

Şekildeki M noktası, ABC dik üçgeninin iç teğet çemberinin merkezidir.

**Buna göre, ABC üçgeninin iç teğet çemberinin yarıçap uzunluğu kaç cm dir?**

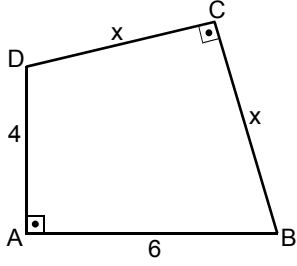
- A)  $\frac{5}{2}$       B)  $\frac{7}{2}$       C)  $\frac{9}{4}$   
D)  $\frac{7}{6}$       E)  $\frac{12}{5}$

*Diğer sayfaya geçiniz.*

# A

2009 - JANA

57.

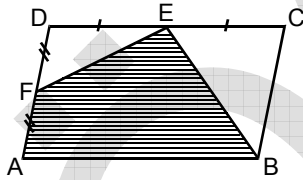


$$\begin{aligned} m(\widehat{DAB}) &= 90^\circ \\ m(\widehat{DCB}) &= 90^\circ \\ |AD| &= 4 \text{ cm} \\ |AB| &= 6 \text{ cm} \\ |DC| &= |CB| = x \text{ cm} \end{aligned}$$

Yukarıdaki verilere göre,  $x$  kaçtır?

- A)  $\sqrt{10}$       B)  $\sqrt{15}$       C)  $\sqrt{26}$   
D)  $\sqrt{32}$       E)  $\sqrt{41}$

58.

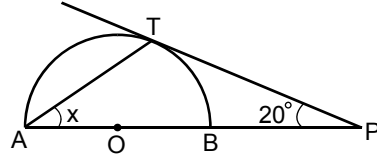


ABCD bir paralelkenar  
 $|DE| = |EC|$   
 $|AF| = |FD|$

Yukarıdaki ABEF taralı dörtgeninin alanı  $25 \text{ cm}^2$  olduğuna göre, ABCD paralelkenarının alanı kaç  $\text{cm}^2$  dir?

- A) 36      B) 38      C) 39      D) 40      E) 42

59.



$$\begin{aligned} m(\widehat{APT}) &= 20^\circ \\ m(\widehat{TAP}) &= x \end{aligned}$$

Şekildeki PT doğrusu, O merkezli yarım çembere T noktasında teğettir.

Yukarıdaki verilere göre,  $x$  kaç derecedir?

- A) 25      B) 30      C) 35      D) 40      E) 45

60.

$$\begin{aligned} x - y + 1 &= 0 \\ x + y - 5 &= 0 \\ ax - 2y - 2 &= 0 \end{aligned}$$

doğrularının bir tane ortak noktası olduğuna göre,  $a$  kaçtır?

- A) 4      B) 5      C) 6      D) 7      E) 8

Diğer sayfaya geçiniz.

61. İslamiyetten önce Türk devletlerinde halkın,

- I. mülk edinebilmesi,
- II. kullandığı otlaklar ve yaylalar için devlete vergi ödemesi,
- III. genelde soy ve dil birliğine sahip boylar hâlinde yaşaması

**durumlarından hangileri toprağın devlete ait olduğunu gösterir?**

- A) Yalnız I      B) Yalnız II      C) Yalnız III  
D) I ve II      E) I, II ve III

62.

- I. Cami
- II. Darüşşifa
- III. Medrese

**Yukarıdaki yapı türlerinden hangileri külliye yer alır?**

- A) Yalnız I      B) Yalnız II      C) Yalnız III  
D) I ve II      E) I, II ve III

63.

- I. Değerli madenlerden kesilmesi
- II. Belirli ağırlıklarda olması
- III. Tüm para birimlerinin aynı değerinde olması

**Yukarıdakilerden hangileri Selçuklu paralarının özelliklerindedir?**

- A) Yalnız I      B) Yalnız II      C) Yalnız III  
D) I ve II      E) I, II ve III

64. Osmanlı Devleti'nde yabancı okulların,

- I. zararlı cemiyetlerin kurulması,
- II. Batı eğitim sisteminin tanınması,
- III. sıbyan mekteplerinin kurulması

**durumlarından hangilerinde etkili olduğu savunulabilir?**

- A) Yalnız I      B) Yalnız II      C) Yalnız III  
D) I ve II      E) I, II ve III

65.

- I. Resmî yazı ve yazışmalarda Müslüman olmayanlar için aşağılayıcı sözler kullanılmaması
- II. İşkence, dayak ve angaryanın kaldırılması
- III. Müsadere Usulü'nün kaldırılması

**Yukarıdakilerden hangileri, Islahat Fermanı'nda yer alan hükümler arasındadır?**

- A) Yalnız I      B) Yalnız II      C) I ve II  
D) II ve III      E) I, II ve III

66. Mondros Ateşkes Anlaşması'na göre, Osmanlı Devleti'nin elindeki bütün savaş esirleri serbest bırakılacak, buna karşılık Osmanlı esirleri Anlaşma Devletlerinin denetiminde kalacaktı.

**Bu hükmün,**

- I. taraflar arasında eşitlik,
- II. farklı etnik grupları barındırma,
- III. Sevr Antlaşması'nı imzalama

**durumlarından hangilerine karşı bir tutumun göstergesi olduğu savunulabilir?**

- A) Yalnız I      B) Yalnız II      C) Yalnız III  
D) I ve II      E) I, II ve III

*Diğer sayfaya geçiniz.*

67. İzmir'in Yunanistan'a verilmesini engellemek amacıyla kurulan cemiyetin adının "İzmir Osmanlı Haklarını Savunma Cemiyeti" olması,

- I. bölgesel nitelikli olma,
- II. bölgenin Türklere ait olduğunu kanıtlama,
- III. İstanbul'un resmen işgalinden sonra kurulma

durumlarından hangilerini gösterir?

- A) Yalnız I      B) Yalnız II      C) Yalnız III  
D) I ve II      E) I, II ve III

68.

- I. Amasya Genelgesi
- II. Sivas Kongresi
- III. Erzurum Kongresi

Batı Cephesi Umum Kuvayimillîye Komutanlığına atama yapılmasıyla ilgili karar yukarıdakilerden hangilerinin kapsamındadır?

- A) Yalnız I      B) Yalnız II      C) Yalnız III  
D) I ve II      E) II ve III

69. Amasya Görüşmelerinde,

- I. Mebuslar Meclisinin toplanacağı yer,
- II. azınlıklara ayrıcalıklar tanınmaması,
- III. Anadolu ve Rumeli Müdafaa-i Hukuk Cemiyeti'nin tanınması

konularından hangileri kesinlik kazanmıştır?

- A) Yalnız I      B) Yalnız II      C) Yalnız III  
D) I ve II      E) II ve III

70. Misakımillî'nin,

- I. azınlıklara millî bütünlüğü bozacak ayrıcalıklar verilmemesi,
- II. Batı Trakya'da halkoyu yapılması,
- III. Boğazların güvenliğinin sağlanmasından sonra ticaret gemilerine açılması

kararlarından hangileri, Erzurum ve Sivas Kongresi kararlarında da yer almıştır?

- A) Yalnız I      B) Yalnız II      C) Yalnız III  
D) I ve II      E) II ve III

71. Birinci İnönü Savaşı'nın kazanılması,

- I. Sovyet Rusya ile Moskova Antlaşması'nın yapılması,
- II. TBMM'ye duyulan güvenin artması,
- III. TBMM'nin imzaladığı ilk antlaşmaya ortam hazırlaması

durumlarından hangileri bakımından önemlidir?

- A) Yalnız I      B) Yalnız II      C) Yalnız III  
D) I ve II      E) II ve III



72. Aşağıdakilerden hangisi Ankara Antlaşması'nın imzalanmasından sonraki gelişmelerden biridir?

- A) İstiklal Marşı'nın kabul edilmesi
- B) Londra Konferansı'nın düzenlenmesi
- C) İzmir İktisat Kongresi'nin düzenlenmesi
- D) Gümrü Antlaşması'nın imzalanması
- E) Ordunun Sakarya'nın doğusuna çekilmesi

73.

- I. Kars, Iğdır, Sarıkamış ve yöresinin geri alınması
- II. Nahçıvan bölgesinin özerk bir yönetime sahip olması
- III. Boğazların ticarete açılması

Yukarıdakilerden hangileri Kars Antlaşması'nın kapsamındadır?

- A) Yalnız I
- B) Yalnız II
- C) Yalnız III
- D) I ve II
- E) II ve III

74. Lozan Antlaşması'nda aşağıdaki konulardan hangisi, Türkiye ile İngiltere arasında daha sonra çözümlenmek üzere ertelenmiştir?

- A) Boğazlar
- B) Irak sınırı
- C) Osmanlı borçları
- D) Batı sınırı
- E) Azınlık hakları

75. 1921 Anayasası'nı kabul eden TBMM, bu Anayasa ile egemenliği millete verdiği hâlde, hedeflerinden birinin saltanat ve hilafeti kurtarmak olduğunu açıklamıştır.

TBMM'nin bu tutumundaki amacın aşağıdakilerden hangisi olduğu savunulabilir?

- A) Meclis içinde birlik ve beraberliği korumak
- B) Devlet başkanlığının sorun olmasını engellemek
- C) Padişahın yetkilerini sınırlandırmak
- D) Kanunuesasi'yi yürürlükten kaldırmak
- E) Mebuslar Meclisinin açılmasını sağlamak

76. Aşağıdakilerden hangisi, sanayileşmeyi desteklemek amacıyla doğrudan yapılan uygulamalardan biri değildir?

- A) Sanayii Teşvik Kanunu'nun çıkarılması
- B) Ziraat ve veteriner fakültelerinin açılması
- C) MTA'nın kurulması
- D) Etibank'ın kurulması
- E) Sümerbank'ın kurulması

77.

- I. Uygulamada birlik sağlamak
- II. Öğretimde laikliği esas almak
- III. Ulusal bilinci güçlendirmek

**Öğretimin Birleştirilmesi Kanunu'yla (Tevhid-i Tedrisat) eğitim ve öğretimde, yukarıdakilerden hangilerinin amaçlandığı savunulabilir?**

- A) Yalnız I      B) Yalnız II      C) Yalnız III  
D) I ve II      E) I, II ve III

78. Atatürk: "...medeniyet yolunda başarı yenileşmeye bağlıdır. ...medeniyetlerin buluşları, fennin harikaları cihani değişmeyen değişmeye uğrattığı bir devirde yüzyıllık köhne zihniyetlerle, maziperestlikle var olmak mümkün değildir." demiştir.

**Atatürk bu sözüyle,**

- I. inkılapçılık,
- II. halkçılık,
- III. cumhuriyetçilik

**ilkelerinden hangilerini doğrudan vurguladığı savunulabilir?**

- A) Yalnız I      B) Yalnız II      C) Yalnız III  
D) I ve II      E) I, II ve III

79. **Parti kurucularının yapılacak inkılaplara bağlı kalacaklarını belirtmelerine rağmen; Terakkiperver Cumhuriyet Partisinin programında yer alan aşağıdaki konulardan hangisi, Cumhuriyet karşıtlarının partiye girmelerine neden olmuştur?**

- A) Yerel yönetimlere ağırlık verileceği
- B) Serbest ekonomi politikasının izleneceği
- C) Cumhurbaşkanı olan kişinin milletvekilliğinin kaldırılacağı
- D) Dinî düşünce ve inançlara saygılı olunacağı
- E) Hükümete ait çiftliklerle arazilerin topraksız köylülere verileceği

80. **1928 yılında anayasada,**

- I. milletvekillerinin yemin etme biçimi,
- II. laiklik ilkesinin anayasada yer alması,
- III. kadınların milletvekili seçme ve seçilme hakkı

**konularından hangilerinde değişiklik yapılmıştır?**

- A) Yalnız I      B) Yalnız II      C) Yalnız III  
D) I ve II      E) I, II ve III

81. **Aşağıdakilerden hangisi, 21 haziranda Türkiye'nin en kuzey noktası ile en güney noktasındaki gündüz uzunlukları arasında yaklaşık yarım saatlik zaman farkı olmasının nedenlerinden biridir?**

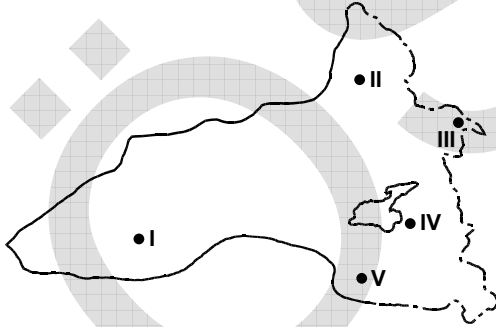
- A) Yerin eksenini etrafındaki dönüş hızının ekvatorunda fazla olması
- B) Yerin eksenini etrafında dönmesi
- C) Yerin şeklinin tam küre olmaması
- D) Yer yörüngesinin elips şeklinde olması
- E) Yer eksenini ile ekliptik arasında bir açının olması

*Diğer sayfaya geçiniz.*

82. Aşağıdakilerin hangisinde birlikte verilen coğrafi bölümlerde, çok sayıda doğal gölün bir arada bulunduğu yöreler vardır?

- A) Güney Marmara – Antalya  
B) Ege – İç Batı Anadolu  
C) Dicle – Güney Marmara  
D) Antalya – Ege  
E) İç Batı Anadolu – Dicle

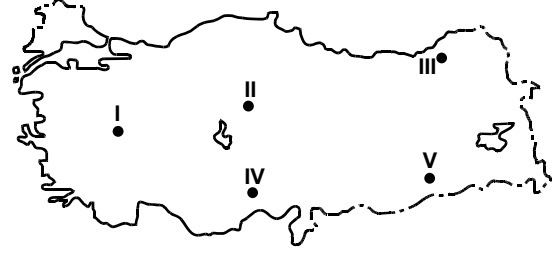
83.



Yukarıdaki Doğu Anadolu Bölgesi haritasında gösterilen il merkezlerinin hangisinde kış sıcaklıkları ortalaması diğerlerinden daha düşüktür?

- A) I B) II C) III D) IV E) V

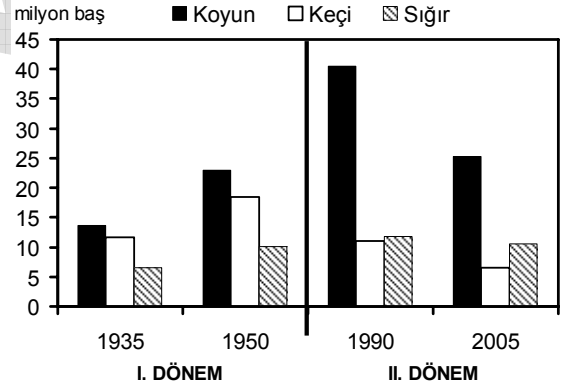
84.



Yukarıdaki haritada numaralarla gösterilen otlakların hangisinde, kurak dönemde olmamasından dolayı otlak veriminin daha yüksek olması beklenir?

- A) I B) II C) III D) IV E) V

85. Aşağıdaki grafik, on beşer yıllık aralığa sahip iki farklı dönemde, Türkiye'deki koyun, keçi ve sığır sayısını göstermektedir.



Buna göre, grafikte verilen dönemlerle ilgili olarak aşağıdakilerden hangisi kesinlikle doğrudur?

- A) II. dönemde hayvancılıkla uğraşan kişi sayısı, I. dönemdekinden fazladır.  
B) I. dönemde keçi ve sığır yetiştirilen alanlarda, II. dönemde sığır yetiştiriciliği ağırlık kazanmıştır.  
C) II. dönemde otlakların kapladığı alan, I. dönemdekinden fazladır.  
D) Dönemler arasında en fazla değişim koyun sayısında olmuştur.  
E) I. dönemde otlak, II. dönemde ise ahır hayvancılığı daha yaygındır.

Diğer sayfaya geçiniz.

86. Türkiye'deki iç göçlerle ilgili olarak aşağıdaki yargılardan hangisi doğrudur?

- A) Göç hareketi genellikle batıdan doğuya doğrudur.
- B) En fazla göç eden grup 45 yaş üzeri erkeklerdir.
- C) Doğu Anadolu Bölgesi'nde göçler çoğunlukla bölge içinde olmaktadır.
- D) Kentten kente olan göçlerin oranı artmaktadır.
- E) Mevsimlik iç göç en fazla İç Anadolu Bölgesi'ne olmaktadır.

87. Aşağıdakilerden hangisi, Güneydoğu Anadolu Projesi'nin hayata geçirilmesiyle bu bölgede meydana gelen değişikliklerden biri değildir?

- A) Tarımsal üretim ve verimin artması
- B) Kentsel nüfus oranının artması
- C) İş olanaklarının çeşitlenmesi
- D) Tarıma dayalı endüstrinin gelişmesi
- E) Bölge dışına göçlerin artması

88. İç Anadolu Bölgesi'nin dağlarla çevrili olmasının aşağıdakilerden hangisi üzerinde etkili olduğu söylenemez?

- A) Toplu yerleşmelerin yaygın olması
- B) Kapalı havzaların oluşması
- C) Yıllık yağış miktarının az olması
- D) Gece gündüz sıcaklık farkının fazla olması
- E) Bozkırların geniş yer kaplaması

89. Aşağıdakilerden hangisi aynı coğrafi bölgede yer almalarına karşın ticaretin Bursa'da, Kırklareli'nden daha fazla gelişmesinin nedenlerinden biri değildir?

- A) Üretimin fazla olması
- B) Ulaşım ağının çeşitli olması
- C) Sermaye birikiminin fazla olması
- D) Yer altı kaynaklarının çeşitli olması
- E) Nüfusun fazla olması

90. Türkiye'de Akdeniz Bölgesi'nin Çukurova Yöresi dışındaki kesimiyle, Güneybatı Anadolu'da ve Doğu Karadeniz Bölümü'nde demir yolu ulaşımının gelişmemesinin nedeni aşağıdakilerden hangisidir?

- A) Engebenin fazla olması
- B) Yerleşim yerlerinin birbirine yakın olması
- C) Yıllık yağış miktarının fazla olması
- D) Doğal bitki örtüsünün yoğun olması
- E) Kara yolu ulaşımının gelişmiş olması

91. Aşağıdaki körfezlerden hangisinde deniz kirliliğinin diğerlerinden daha az olması beklenir?

- A) İzmit
- B) Saros
- C) İskenderun
- D) İzmir
- E) Gemlik

92. Aşağıdakilerden hangisi Türkiye’de turizmin gelişmesi için devlet tarafından desteklenen uygulamalardan biri değildir?

- A) Yerli seyahat acenteleri ve tur organizasyonlarının uluslararası standartlara uygun hâle getirilmesi
- B) Küçük kapasiteli tesislerin ve aile işletmeciliğinin teşvik edilmesi
- C) Millî parklarda turistik tesis yapımına ağırlık verilmesi
- D) Mevcut turistik tesislerde etkinlik sürelerini uzatıcı çalışmalar yapılması
- E) Yatak kapasiteleri ve nitelikleri yüksek yeni tesislere kredi sağlanması

93. 1982 Anayasası’na göre, Bakanlar Kurulu üyelerini görevleri sırasında işledikleri suçlardan dolayı Yüce Divan sıfatıyla aşağıdakilerden hangisi yargılar?

- A) Danıştay
- B) Yargıtay
- C) Anayasa Mahkemesi
- D) TBMM
- E) Sayıştay

94. 1982 Anayasası’na göre, Başbakan veya bakanların görevleriyle ilgili suçlardan dolayı yargılanmak üzere Yüce Divana sevkine aşağıdakilerden hangisi karar verebilir?

- A) Adalet Bakanı
- B) TBMM Genel Kurulu
- C) Yargıtay Genel Kurulu
- D) TBMM Başkanlık Divanı
- E) Yargıtay Cumhuriyet Başsavcısı

95. Aşağıdakilerden hangisi Anayasa Mahkemesinde doğrudan doğruya iptal davası açabilme hakkına sahiptir?

- A) Başbakan
- B) TBMM Başkanı
- C) Yargıtay Başkanı
- D) Danıştay Başkanı
- E) TBMM üye tam sayısının en az beşte biri tutarındaki milletvekili

96. 1982 Anayasası’na göre, aşağıdakilerden hangisi TBMM’nin yetkileri arasında yer almaz?

- A) Savaş ilanına karar vermek
- B) Para basılmasına karar vermek
- C) Milletlerarası antlaşmaların onaylanmasını uygun bulmak
- D) Kesin hesap kanun tasarısını karara bağlamak
- E) Anayasa Mahkemesi Başkanını seçmek

97. TBMM'nin üye sayısının belirlenmesiyle ilgili aşağıdaki ifadelerden hangisi doğrudur?

- A) TBMM'nin üye sayısı, Anayasa'da değişmez (sabit) sayı yöntemi ile 550 olarak belirlenmiştir.
- B) TBMM'nin üye sayısı, Anayasa'da değişmez (sabit) sayı yöntemi ile 450 olarak belirlenmiştir.
- C) Anayasa gereğince, TBMM'nin üye sayısı genel seçimlerden önce genel nüfus sayımı sonuçlarına göre her 100 000 Türk vatandaşı için bir milletvekili esas alınarak Yüksek Seçim Kurulu tarafından belirlenmektedir.
- D) Anayasa gereğince, TBMM'nin üye sayısı genel seçimlerden önce genel nüfus sayımı sonuçlarına göre her 110 000 Türk vatandaşı için bir milletvekili esas alınarak Yüksek Seçim Kurulu tarafından belirlenmektedir.
- E) Anayasa gereğince, TBMM'nin üye sayısı genel seçimlerden önce genel nüfus sayımı sonuçlarına göre TBMM Başkanlığınca belirlenmektedir.

98. 1982 Anayasası'na göre, aşağıdakilerden hangisi Cumhurbaşkanının yetkileri arasında yer almaz?

- A) Kanun teklif etmek
- B) Kanunları yayımlamak
- C) Kanunları tekrar görüşülmek üzere TBMM'ye geri göndermek
- D) Başbakanı atamak ve istifasını kabul etmek
- E) Millî Güvenlik Kuruluna başkanlık etmek

99.

- I. Seçimler ve halk oylaması genel oy esasına göre yapılır.
- II. Seçimler ve halk oylaması açık sayım ve döküm esasına göre yapılır.
- III. Seçimler ve halk oylaması tek turlu seçim esasına göre yapılır.
- IV. Seçimler ve halk oylaması tek dereceli seçim esasına göre yapılır.
- V. Seçimler ve halk oylaması İçişleri Bakanlığının gözetim ve denetimi altında yapılır.

**Yukarıdaki ifadelerden hangileri 1982 Anayasası'nın seçimler ve halk oylaması hakkında öngördüğü ilkeler arasında yer alır?**

- A) I, II ve III
- B) I, II ve IV
- C) I, III ve V
- D) II, IV ve V
- E) III, IV ve V

100. Aşağıdakilerden hangisi Anayasa'da yargı organlarının bağımsız ve serbestçe çalışabilmeleri için alınmış önlemlerden biri değildir?

- A) Hâkimler görevlerinde bağımsızdırlar.
- B) Hiçbir organ, makam, merci veya kişi yargı yetkisinin kullanılmasında mahkemelere ve hâkimlere emir ve talimat veremez.
- C) Görülmekte olan bir dava hakkında Yasama Meclisinde yargı yetkisinin kullanılmasıyla ilgili görüşme yapılamaz.
- D) Asker kişileri ilgilendiren ve askerî hizmete ilişkin idari işlem ve eylemlerden doğan uyuşmazlıklar, Askerî Yüksek İdare Mahkemesince karara bağlanır.
- E) Hâkimler ve savcılar azlolunamaz ve aylık, ödenek ve diğer özlük haklarından yoksun bırakılmaz.

**TEST BİTTİ.**

**CEVAPLARINIZI KONTROL EDİNİZ.**

# SINAVDA UYULACAK KURALLAR

1. Cep telefonu ile sınava girmek kesinlikle yasaktır. Çağrı cihazı, telsiz vb. haberleşme araçları ile cep bilgisayar, saat fonksiyonu dışında fonksiyonu olan saat vb. her türlü bilgisayar özelliği bulunan cihazlarla; silah ve benzeri teçhizatla; müsvedde kâğıdı, defter, kitap, sözlük, sözlük işlevi olan elektronik aygıt, hesap cetveli, hesap makinesi, pergel, açılıçer, cetvel vb. araçlarla da girmek yasaktır. Bu araçlarla sınava girmiş adaylar mutlaka Salon Sınav Tutanağına yazılacak, bu adayların sınavları geçersiz sayılacaktır.
2. Bu sınavda verilen toplam cevaplama süresi **120 dakikadır (2 saat)**. Sınavın **ilk 60 ve son 15** dakikası içinde hiçbir aday dışarı çıkarılmayacaktır. Cevaplamayı süre bitmeden tamamlarsanız, cevap kâğıdınızı ve soru kitapçığınızı salon görevlilerine teslim ederek salonu terk edebilirsiniz. Sınav süresinin bittiği ilan edilip cevap kâğıtları ve soru kitapçıkları salon görevlileri tarafından toplanıncaya kadar yerlerinizde kalınız.
3. Sınav evrakını teslim ederek salonu terk eden aday, her ne sebeple olursa olsun tekrar sınava alınmayacaktır.
4. Sınav süresince görevlilerle konuşmak ve soru sormak yasaktır. Aynı şekilde görevlilerin de adaylarla yakından ve alçak sesle konuşmaları; ayrıca, adayların birbirinden kalem, silgi vb. şeyleri istemeleri kesinlikle yasaktır.
5. Sınav sırasında kopya çeken, çekmeye girişen, kopya veren, kopya çekilmesine yardım edenlerin kimlikleri, Salon Sınav Tutanağına yazılacak ve bu adayların sınavları geçersiz sayılacaktır. Görevliler kopya çekmeye veya vermeye kalkışanları uyararak zorunda değildir, sorumluluk size aittir.

Adayların test sorularına verdikleri cevapların dağılımları bilgi işlem yöntemleriyle incelenecek; bu incelemelerden elde edilen bulgular bireysel veya toplu olarak kopya girişiminde bulunulduğunu gösterirse, kopya eylemine katılan adayların cevaplarının bir kısmı veya tamamı geçersiz sayılacaktır. Cevap kâğıdınızı başkaları tarafından görülmeyecek şekilde tutmanız gerekmektedir. Bu durum sizin için son derece önemlidir.

ÖSYM Temsilcisi bir salondaki sınavın, kurallara uygun biçimde yapılmadığını, toplu kopya girişiminde bulunulduğunu raporunda bildirdiği takdirde, ÖSYM takdir hakkını kullanarak bu salonda sınava giren adayların tümünün sınavını geçersiz sayabilir.
6. Adaylar, görevlilerin her türlü uyarılarına uymak zorundadır. Görevliler, gerektiğinde oturduğunuz yerleri de değiştirebilir. Sınavınızın geçerli sayılması, her şeyden önce sınav kurallarına uymanıza bağlıdır.

Kurallara aykırı davranışta bulunanların ve yapılacak uyarılara uymayanların kimlikleri tutanağa yazılacak ve sınavları geçersiz sayılacaktır.
7. Cevap kâğıdında doldurmanız gereken alanlar bulunmaktadır. Bu alanları eksiksiz doldurunuz. Cevap kâğıdına yazılacak her türlü yazıda ve yapılacak bütün işaretlemelelerde kurşun kalem kullanılacaktır. Tükenmez kalem ve dolma kalem kesinlikle kullanılmayacaktır.

Cevapların cevap kâğıdına işaretlenmiş olması gerekir. Soru kitapçığına işaretlenen cevaplar geçerli değildir.
8. Soru kitapçığınızı alır almaz, sayfaların eksik olup olmadığını, kitapçıkta basım hatalarının bulunup bulunmadığını kontrol ediniz. Soru kitapçığının sayfaları eksik veya basımı hatalı ise değiştirilmesi için derhâl Salon Başkanına başvurunuz.

Soru kitapçığında her sayfanın tepesinde basılı bulunan soru kitapçığı türünün, kitapçığın ön kapağında basılı soru kitapçığı türüyle aynı olup olmadığını kontrol ediniz. Farklı olması durumunda Salon Başkanından yeni bir soru kitapçığı isteyiniz. Soru kitapçığının türünün değişik olduğunu daha sonra fark ederseniz, size o zamana kadar cevaplama yaptığınızı türden, hatasız bir soru kitapçığı verilmesi için Salon Başkanına başvurunuz.

Cevap kâğıdınızda, size verilen soru kitapçığının türünü "Soru Kitapçığı Türü" alanında ilgili yuvarlağı doldurarak belirtiniz. Cevap kâğıdınızda işaretlediğiniz Soru Kitapçığı Türü salon görevlileri tarafından sınav öncesi kontrol edilerek paraflanacaktır. Sizin işaretlediğiniz ve salon görevlilerinin parafladıkları kitapçık türü arasında fark olması hâlinde salon görevlilerinin parafladıkları kitapçık türü dikkate alınacaktır.
9. Cevaplamaya geçmeden önce size verilecek soru kitapçığı üzerinde ayrılan yere adınızı, soyadınızı, T.C. Kimlik Numaranızı ve bu salonun salon numarasını yazınız. Sınav sonunda soru kitapçıkları toplanacak ve ÖSYM'de tek tek incelenecektir. Soru kitapçığının bir tek sayfası bile eksik çıkarsa sınavınız geçersiz sayılacaktır.
10. Soru kitapçığının sayfalarındaki boş yerleri müsvedde için kullanabilirsiniz.
11. Sınav süresince, görevliler dahil, salonda kimse sigara, pipo, puro vb. şeyleri içmeyecektir.
12. Soruları ve bu sorulara verdiğiniz cevapları ayrı bir kâğıda yazıp bu kâğıdı dışarı çıkarmanız kesinlikle yasaktır.
13. Sınav salonundan ayrılmadan önce, soru kitapçığınızı cevap kâğıdınızı ve Sınav Giriş ve Kimlik Belgenizi salon görevlilerine teslim etmeyi unutmayınız.
14. Sınav sonuçları 30 gün içinde Jandarma Okullar Komutanlığına gönderilecek, ayrıca adresinize de postalanacaktır.

JANDARMA OKULLAR KOMUTANLIĞI JANDARMA ASTSUBAY TEMEL KURSU

GİRİŞ SINAVI

2 MAYIS 2009

A KİTAPÇIĞI

- |       |       |       |        |
|-------|-------|-------|--------|
| 1. A  | 26. E | 51. E | 76. B  |
| 2. C  | 27. D | 52. C | 77. E  |
| 3. E  | 28. A | 53. E | 78. A  |
| 4. B  | 29. B | 54. D | 79. D  |
| 5. D  | 30. C | 55. B | 80. A  |
| 6. C  | 31. D | 56. E | 81. E  |
| 7. C  | 32. E | 57. C | 82. A  |
| 8. D  | 33. B | 58. D | 83. B  |
| 9. E  | 34. D | 59. C | 84. C  |
| 10. A | 35. A | 60. A | 85. D  |
| 11. C | 36. D | 61. B | 86. D  |
| 12. D | 37. B | 62. E | 87. E  |
| 13. B | 38. B | 63. D | 88. A  |
| 14. A | 39. A | 64. D | 89. D  |
| 15. D | 40. C | 65. C | 90. A  |
| 16. E | 41. B | 66. A | 91. B  |
| 17. C | 42. B | 67. D | 92. C  |
| 18. B | 43. A | 68. B | 93. C  |
| 19. A | 44. D | 69. E | 94. B  |
| 20. D | 45. B | 70. A | 95. E  |
| 21. E | 46. E | 71. D | 96. E  |
| 22. A | 47. C | 72. C | 97. A  |
| 23. B | 48. C | 73. E | 98. A  |
| 24. E | 49. D | 74. B | 99. B  |
| 25. C | 50. A | 75. A | 100. D |