

A

KAMU PERSONEL SEÇME SINAVI (A GRUBU VE ÖĞRETMENLİK)

27 Haziran 2009

GENEL YETENEK TESTİ - GENEL KÜLTÜR TESTİ

DİKKAT!

SINAVA BAŞLAMADAN ÖNCE AŞAĞIDAKİ UYARILARI MUTLAKA OKUYUNUZ.

1. Adınızı, soyadınızı, T.C. Kimlik Numaranızı ve sınav salon numaranızı aşağıya yazınız.

ADINIZ	:
SOYADINIZ	:
T.C. KİMLİK NUMARANIZ	:
SINAV SALON NO.	:

2. Soru kitapçığının türü **A** dır. Bunu cevap kâğıdınızdaki ilgili alana kodlayınız.

Bu kodlamayı cevap kâğıdınıza yapmadığınız veya yanlış yaptığınız takdirde sınavınızın değerlendirilmesi mümkün değildir.

3. Genel Yetenek ve Genel Kültür Testi için verilen **toplam** cevaplama süresi **120 dakikadır (2 saat)**.
4. Genel Yetenek ve Genel Kültür Testlerinin her birinde **60 soru** vardır.

Bu testlerin başladıkları sayfalar şöyledir:

Genel Yetenek Testi	1
Genel Kültür Testi	15

5. Cevaplamaya istediğiniz testten ve sorudan başlayabilirsiniz. Her soru ile ilgili cevabınızı, cevap kâğıdında o soru için ayrılmış olan yere işaretlemeyi unutmayınız.
6. Testler puanlanırken her testteki **doğru cevaplarınızın sayısından yanlış cevaplarınızın sayısının dörtte biri düşülecek ve kalan sayı o testle ilgili ham puanınız olacaktır. Bu nedenle hakkında hiçbir fikrinizin olmadığı soruları boş bırakınız. Ancak, soruda verilen seçeneklerden birkaçını eleyebiliyorsanız kalanlar arasından doğru cevabı kestirmeye çalışmanız yararınıza olabilir.**
7. Sınavda uyulacak diğer kurallar bu kitapçığın arka kapağında verilmiştir.

Bu testlerin her hakkı saklıdır. Hangi amaçla olursa olsun, testlerin tamamının veya bir kısmının Merkezimizin yazılı izni olmadan kopya edilmesi, fotoğrafının çekilmesi, herhangi bir yolla çoğaltılması, yayımlanması ya da kullanılması yasaktır. Bu yasağa uymayanlar gerekli cezai sorumluluğu ve testlerin hazırlanmasındaki mali külfeti peşinen kabullenmiş sayılır.

A

GENEL KÜLTÜR TESTİ

2009 - KPSS / GYGK-CS

1. Göktürk Devleti'nde, Bilge Kağan'ın Budist tapınağı yaptırmaya isteğine Vezir Tonyukuk, Budizm'i benimsemenin Türklerin mücadeleci ruhunu kaybetmelerine neden olacağı düşüncesiyle karşı çıkmıştır.

Yalnız bu bilgiyle,

- I. toplumun dinî arayış içerisinde olduğu,
- II. kağanın kararlarının sorgulanabildiği,
- III. din değiştirmenin yaşam biçimini etkilediği

durumlarından hangilerine ulaşılabilir?

- A) Yalnız I B) Yalnız II C) I ve II
D) II ve III E) I, II ve III

2. Türklerin İslamiyet'e geçmeleriyle aşağıdakilerden hangisi kültürel hayatlarında bir sanat kolu oluşturacak derecede önem kazanmıştır?

- A) Hat B) Maden işçiliği
C) Heykel D) Oyma
E) Dokuma

3. Selçuklularda,

- I. hükümdarın Tanrı adına insanları yönetmekle görevli olması,
- II. ülkenin, hanedan üyelerinin ortak malı sayılması,
- III. din işlerinin halifeye, dünya işlerinin sultana ait olması

durumlarından hangilerinin taht kavgalarına neden olduğu savunulabilir?

- A) Yalnız I B) Yalnız II C) Yalnız III
D) I ve II E) II ve III

4. Orhan Bey zamanında,

- I. ilk Osmanlı medresesinin açılması,
- II. Rumeli'ye geçilmesi,
- III. yaya ve atlı düzenli bir ordunun kurulması

gelişmelerinden hangileri Osmanlı Devleti'nin bu dönemde teşkilatlanmaya başladığının bir göstergesi olduğu savunulabilir?

- A) Yalnız I B) Yalnız II C) I ve III
D) II ve III E) I, II ve III

5. XVII. yüzyılın başlarında Osmanlı Devleti'nin 32 eyaleti varken bu yüzyılın ortalarında 25'i timar sistemi-ne dahil, 9'u sâlyâneli olmak üzere toplam eyalet sayısı 34'ü bulmuştur.

Bu durumla ilgili olarak,

- I. İlk kez toprak kaybedilmiştir.
- II. Beylerbeyi sayısı artmıştır.
- III. Timar sistemi bozulmuştur.

yargılarından hangilerine ulaşılabilir?

- A) Yalnız I B) Yalnız II C) Yalnız III
D) I ve II E) I, II ve III

Diğer sayfaya geçiniz.

6. Osmanlı Devleti'nde,

- I. Avrupa mallarının ülkeye girmesi,
- II. ticaret yollarının değişmesi,
- III. esnaf teşkilatının bozulması

durumlarından hangilerinin ekonomiyi olumsuz yönde etkilediği savunulabilir?

- A) Yalnız I B) Yalnız II C) Yalnız III
D) I ve II E) I, II ve III

7. XIX. yüzyılda Osmanlı Devleti'nde dağılmayı önlemek amacıyla birtakım düşünce akımları ortaya çıkmıştır.

Bu düşünce akımlarından Osmanlıcılık düşüncesinin önemini kaybetmesinde,

- I. Avrupa'da ulus devletlerin ortaya çıkması,
- II. Meşrutiyet'in ilanına rağmen azınlıkların ayrılıkçı hareketlerini sürdürmesi,
- III. Yeniçeri Ocağı'nın kaldırılması

durumlarından hangilerinin etkili olduğu savunulabilir?

- A) Yalnız I B) Yalnız II C) Yalnız III
D) I ve II E) II ve III

8. Osmanlı Devleti'nde gerekli görüldüğünde herhangi bir yöneticinin mal varlığına el konulabilmesi (müsadere) usulü Tanzimat Fermanı'yla kaldırılmıştır.

Bu usulün kaldırılmasıyla yöneticinin,

- I. Devlete olan güveni artmıştır.
- II. Özel mülkiyet hakkına güvence getirilmiştir.
- III. Yöneticilik yetkileri artırılmıştır.

yargılarından hangilerine ulaşılabilir?

- A) Yalnız I B) Yalnız II C) I ve II
D) I ve III E) II ve III

9. Osmanlı Devleti'nde,

- I. Tanzimat'ın ilanı,
- II. Meşrutiyet'in ilanı,
- III. Islahat Fermanı'nın ilanı

gelişmelerinin hangilerinde Avrupa'da görülen 1848 ihtilallerinin etkisi olduğu savunulabilir?

- A) Yalnız I B) Yalnız II C) Yalnız III
D) I ve II E) II ve III

10. Kurtuluş Savaşı'nda, TBMM Hükümetinin yarı resmî yayın organı hâline gelen gazete aşağıdakilerden hangisidir?

- A) Hakimiyet-i Milliye
B) Peyam-ı Sabah
C) İrade-i Milliye
D) Yenigün
E) İkdam

11. Kurtuluş Savaşı'nda,

- Birinci İnönü Zaferi'nden sonra Anlaşma Devletlerinin Londra'da konferans düzenlemesi ve TBMM'yi davet etmesi
- Sakarya Zaferi'nden sonra Fransa'nın TBMM'yle Ankara Antlaşması'nı yapması

gelişmeleriyle aşağıdakilerden hangisine ulaşıldığı savunulabilir?

- A) Anlaşma Devletlerinin TBMM'yi Sakarya Savaşı'ndan sonra tanıdığına
- B) İngiltere'nin savaşın sonuna kadar Yunanlıları desteklediğine
- C) Halkların dış politikada etkili olduğuna
- D) Uluslararası antlaşmaları uygulamak zorunluluğu olduğuna
- E) Askerî başarıların Anlaşma Devletlerini TBMM'yle antlaşma yapmaya zorladığına

12. Türkiye Büyük Millet Meclisi, 11 Mayıs 1920 tarihinde Bekir Sami Bey'in başkanlığında bir heyeti, Moskova'ya Sovyetler Birliği'yle bağlantı kurmak ve dostluk antlaşması ortamı hazırlamak amacıyla göndermiştir.

TBMM'nin, Sovyetler Birliği'yle antlaşma yapma gereği duymasındaki amacın aşağıdakilerden hangisi olduğu savunulabilir?

- A) Londra Konferansı'nın yapılmasını geciktirmek
- B) Sovyetler Birliği'ndeki yeni rejimin ülkede yayılmasını önlemek
- C) Kafkasya Cumhuriyetlerinin kurulmasını engellemek
- D) Düşmanları aynı olan iki ülke arasında siyasi ve askerî güç birliği sağlamak
- E) Mecliste birlikte hareket edilmesini sağlayarak gruplaşmaları önlemek

13. Kurtuluş Savaşı'nın bütün şiddetiyle devam ettiği bir ortamda ara seçimlere gidilerek TBMM'nin çalışmalarını sürdürmesi sağlanmıştır.

Bu bilgiyle aşağıdakilerden hangisine ulaşılabılır?

- A) Halk egemenliğinin sürekliliğine önem verildiğine
- B) TBMM Hükûmetiyle İstanbul Hükûmeti arasında görüş ayrılığı olduğuna
- C) TBMM'ye Mebuslar Meclisinden katılım olduğuna
- D) Ulusal güçlerin birleştirilmek istendiğine
- E) Mecliste görüş ayrılıklarının olduğuna

14. Türkiye, Musul'un Misakımillî sınırları içinde olduğuna aşağıdakilerden hangisini gerekçe olarak göstermiştir?

- A) Türklerden başka ulusların da yaşamasını
- B) Sykes-Picot Antlaşması'na göre Fransızlara verilmiş olmasını
- C) Mondros Mütarekesi'nin imzalandığı tarihte Osmanlı sınırları içinde olmasını
- D) Petrol bakımından zengin olmasını
- E) İngiltere'nin mandası olmasını

15. Lozan Antlaşması'yla,

- I. Boğazlar Komisyonunun kurulması,
- II. İstanbul'daki Rumlarla Batı Trakya'daki Türklerin mübadele dışında bırakılması,
- III. Yunanistan'ın savaş tazminatı karşılığı Karaağaç'ı, Türkiye'ye vermesi

konularından hangileri Türk-Yunan ilişkilerinde uygulamalardan kaynaklanan sorunlara neden olmuştur?

- A) Yalnız I B) Yalnız II C) I ve II
D) II ve III E) I, II ve III

16. Türkiye Cumhuriyeti'nde Türk kadını erkekle eşit olarak,

- I. mirastan aynı oranda pay alma ve tanık olma,
- II. milletvekili seçme ve seçilme,
- III. belediye seçimlerine katılma

haklarını kazanmıştır.

Bu kazanımların kronolojik sıralaması aşağıdakilerden hangisidir?

- A) I, II, III B) I, III, II C) II, I, III
D) II, III, I E) III, I, II

17.

- Kapitülasyonların kaldırılması
- Kabotaj Kanunu'nun çıkarılması

Yukarıdaki gelişmelerde aşağıdaki ilkelerden hangisinin temel alındığı savunulabilir?

- A) Bağımsızlık B) Laiklik C) Halkçılık
D) Devletçilik E) İnkılapçılık

18. Atatürk'ün milliyetçilik anlayışının ırk, mezhep ve sınıf ayrılıklarına karşı olması,

- I. millî birlik ve beraberlik,
- II. kültürel birlik,
- III. sosyal dayanışma

durumlarından hangilerini desteklediğini gösterir?

- A) Yalnız I B) Yalnız II C) Yalnız III
D) I ve II E) I, II ve III

Diğer sayfaya geçiniz.

19. Atatürk, "Ülkeler çeşitlidir, fakat uygarlık birdir ve bir milletin kalkınması için de bu tek uygarlığa katılması gerekir. Osmanlı Devleti'nin düşüşü Batı'ya karşı elde ettiği başarılarından çok, mağrur olarak kendisini Avrupa milletlerine bağlayan ilişkileri kestiği gün başlamıştır." demiştir.

Atatürk'ün bu anlatımıyla aşağıdakilerden hangisine vurgu yaptığı söylenebilir?

- A) Eski bir tarih mirasına sahip olunduğuna
B) Batı'nın yayılmacı siyaset izlediğine
C) Çağdaşlaşmanın gereğine
D) İmparatorlukların siyasi varlıklarını korumalarının güçlüğüne
E) Batı uygarlığının kendisinden önceki uygarlıklardan yararlandığına

20.

- I. Hilafet
II. Şeriye ve Evkâf Bakanlığı
III. Erkânı Harbiye Bakanlığı

1924 yılında, yukarıdakilerden hangilerinin yönetim birliğini güçlendirmek amacıyla kaldırıldığı savunulabilir?

- A) Yalnız I B) Yalnız II C) Yalnız III
D) I ve II E) I, II ve III

21. Osmanlı Döneminde XIX. yüzyılın ilk yarısında sarık ve kavuk yerine fesin giyilmesine, Cumhuriyet Döneminin ilk yıllarında ise fesin yerine şapkanın giyilmesine karşı çıkmıştır.

Bu iki duruma göre,

- I. Yenilikler anlayış değişikliğinin sonucudur.
II. Yenilikler tepkiyle karşılanmıştır.
III. Yeniliklerin benimsenmesi belli bir süreci gerektirmiştir.

yargılarından hangilerine ulaşılabilir?

- A) Yalnız I B) Yalnız II C) Yalnız III
D) II ve III E) I, II ve III

22. **Aşağıdakilerden hangisi, cumhuriyetin ilanının doğurduğu sonuçlardan biri değildir?**

- A) Hükümet kurmanın yeni yöntemle bağlanması
B) Devletin rejiminin adının konması
C) İstiklal Marşı'nın kabul edilmesi
D) Devletin başkanının belirlenmesi
E) Halifeliğin kaldırılması

23. TBMM, aşağıdakilerden hangisiyle padişah ve halifenin siyasi ve hukuki yetkilerini üstlenmiştir?

- A) Teşkilat-ı Esâsiye Kanunu'nun kabul edilmesi
- B) Tekâlif-i Milliye Buyrukları'nın çıkarılması
- C) İstanbul'un resmen işgal edilmesi
- D) Lozan Antlaşması'nın imzalanması
- E) Hıyanet-i Vataniye Kanunu'nun çıkarılması

24. Aşağıdakilerden hangisi demokratik devlet anlayışıyla bağdaşmaz?

- A) Seçimlerin düzenli aralıklarla tekrarlanması
- B) Gelir ve servet ediniminin kısıtlanması
- C) Etkin siyasi makama seçimle gelinmesi
- D) Siyasi partilerin serbestçe kurulması
- E) İktidarın el değiştirebilmesi

25. Atatürk Dönemi ekonomisinde,

- I. Türkiye'nin ulusal çıkarlarına aykırı olmayan yabancı sermayeden yararlanma,
- II. âşar vergisini kaldırma,
- III. ekonomik politikaların uygulanmasında bilim ve teknolojiyi temel alma

durumlarından hangileriyle üretimi artırmanın amaçlandığı savunulabilir?

- A) Yalnız I
- B) Yalnız II
- C) Yalnız III
- D) I ve II
- E) I, II ve III

26. 1929'da başlayan dünya ekonomik bunalımıyla dünya ticaretinde bir düşüş olmuştur.

Aşağıdakilerden hangisi bu durumla ortaya çıkan sonuçlardan biri değildir?

- A) Yaşamsal ham madde ihtiyacının artması
- B) Sömürge edinme yarışının başlaması
- C) Halkın alım gücünün azalması
- D) Para değerlerinin düşmesi
- E) İşsizliğin artması

27. Ülkedeki tüm siyasi görüşlerin yönetime yansıtılması amacıyla,

- I. Terakkiperver Cumhuriyet Partisinin kurulması,
- II. Serbest Cumhuriyet Partisinin kurulması,
- III. Demokrat Partinin kurulması

gelişmelerinden hangileri Atatürk Döneminde gerçekleşmiştir?

- A) Yalnız I B) Yalnız II C) Yalnız III
D) I ve II E) I, II ve III

28. Atatürk Döneminde Türk hakimiyetinin sağlandığı Boğazların stratejik öneminin günümüzde daha da artmasında, aşağıdakilerden hangisinin etkisi olduğu savunulamaz?

- A) Eski Doğu Bloku Ülkelerinin Batı ile ilişkilerinin yoğunlaşmaya başlaması
- B) Varşova Paktı'nın dağılması
- C) Boğazların Batı'ya açılan en önemli kapı olma özelliğini koruması
- D) Kafkaslardaki devletler arasında sınır sorunlarının yaşanması
- E) Rusya Federasyonu'nun Kafkas devletleri üzerinde etkinliğini korumaya çalışması

29.

- I. Atatürk ilkelerinin Türkiye Devleti'nin temel nitelikleri olarak kabul edilmesi
- II. Milletvekili yeminlerinin "Vallahi." yerine "Namusum üzerine söz veriyorum." şeklinde değiştirilmesi
- III. Anayasa Mahkemesinin kurulması

Yukarıdakilerden hangileri Atatürk Dönemi gelişmeleri arasındadır?

- A) Yalnız I B) Yalnız II C) I ve II
D) I ve III E) I, II ve III

30. Balkan Devletleri arasında yakınlaşma başlaması ve Balkan Paktı'nın kurulmasında aşağıdakilerden hangisinin etkisi olduğu savunulamaz?

- A) Birleşmiş Milletler Teşkilatının kurulmuş olması
- B) İtalya'nın Doğu Akdeniz'e egemen olmak istemesi
- C) Almanya'da Nazi Partisinin iktidara gelmesi
- D) Silahlanma yarışının hızlanması
- E) İtalya'da faşizmin güçlenmesi

Diğer sayfaya geçiniz.

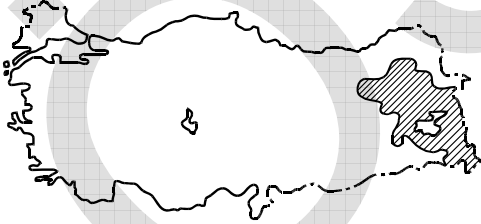
31. Bir Türkiye fiziki haritasında kahverengi tonlarının fazla olduğu yerlerle ilgili olarak aşağıdakilerden hangisi söylenemez?

- A) Karın yerde kalma süresinin uzun olduğu
- B) Yıllık sıcaklık farkının az olduğu
- C) Gerçek alanla iz düşümsel alan arasındaki farkın fazla olduğu
- D) Akarsuların çağlayanlar oluşturduğu
- E) Ulaşımında güçlüklerle karşılaşıldığı

32. Aşağıdakilerden hangisinin Akdeniz Bölgesi'yle Karadeniz Bölgesi arasında farklılık göstermesi enlem etkisine bağlanamaz?

- A) Orman üst sınırı
- B) Deniz turizmine uygun sürenin uzunluğu
- C) Yağışın mevsimlere göre dağılışı
- D) Tarım ürünlerinin olgunlaşma süresi
- E) Gündüz süresinin uzunluğu

33.



Yukarıdaki Türkiye haritasındaki taralı alanda yıl içinde çığ olasılığının fazla olmasında,

- I. mutlak nem oranının az olması,
- II. arazinin eğimli olması,
- III. ortalama yükseltinin fazla olması,
- IV. kar yağışının fazla olması

etmenlerinden hangileri etkilidir?

- A) I ve II
- B) I ve III
- C) II ve III
- D) II ve IV
- E) III ve IV

34. Aşağıdaki tabloda 1950 ve 2000 yıllarında Türkiye'nin aritmetik, fizyolojik ve tarımsal nüfus yoğunlukları verilmiştir.

	1950	2000
Aritmetik nüfus yoğunluğu	26	89
Fizyolojik nüfus yoğunluğu	131	282
Tarımsal nüfus yoğunluğu	107	98

Bu tablodaki bilgiler,

- I. 2000 yılında kırsal kesimde yaşayan insan sayısı 1950 yılındakinden azdır.
- II. 1950 - 2000 yılları arasında Türkiye'nin nüfusu üç kattan fazla artmıştır.
- III. 2000 yılında tarım alanlarının toplam yüz ölçümü, 1950 yılındakinden daha azdır.

yargılarından hangilerine ulaşmak için yeterlidir?

- A) Yalnız I
- B) Yalnız II
- C) Yalnız III
- D) I ve II
- E) II ve III

35. Aşağıdakilerden hangisi, Güneydoğu Anadolu Bölgesi'nde nüfusun yoğun olduğu alanlar arasında yer almaz?

- A) Su kaynaklarına yakın alanlar
- B) Sulama olanakları iyileşen ovalar
- C) Ulaşım açısından önemli kavşaklar
- D) Endüstrinin yoğun olduğu yerler
- E) Hidroelektrik enerjinin üretildiği yerler

36. Türkiye'de, çalışan nüfus içinde tarım sektörünün oranı 1980 yılında % 60 iken, bu oran 2000 yılında % 48'e düşmüştür.

Aşağıdakilerden hangisinin bu azalmaya neden olduğu söylenebilir?

- A) Dış satımda tarım ürünleri payının azalması
B) Tarımda makineleşmenin artması
C) Kent sayısının artması
D) Ulaşım olanaklarının artması
E) Yetiştirilen tarım ürünü çeşidinin artması

37. Aşağıdaki tabloda dört bölgede yetiştirilen dört farklı tarım ürününün, Türkiye üretimindeki payları verilmiştir.

Bölgeler	Oran (%)
Akdeniz	100
Güneydoğu Anadolu	93
Marmara	77
Doğu Anadolu	64

Bu bilgilere göre tabloda, aşağıdaki ürünlerden hangisine verilmemiştir?

- A) Tütün
B) Kırmızı mercimek
C) Muz
D) Ayçiçeği
E) Kayısı

38. Türkiye'nin tarım politikalarıyla ilgili önemli uygulamalarından biri de destekleme alımlarıdır. Bu politikanın temeli, devletin üreticiye önceden ilan ettiği taban fiyattan ürününü satın alma garantisi vermesidir.

Buna göre, aşağıdakilerden hangisi destekleme alımlarının amaçlarından biri değildir?

- A) Üreticinin ürettiği ürünlerin elde kalmasını engellemesi
B) Üreticinin fiyatlardaki ani iniş ve çıkışlardan zarar görmesini engellemesi
C) Ürünlerin uygun fiyatlarla piyasaya sunulması ve keyfi fiyat artışlarının önüne geçmesi
D) Aynı tarım ürünlerinin ülke genelinde benzer fiyatlarla satılmasını sağlaması
E) Pazarlarda belli tarımsal ürünlere olan talebin artırılması

39. Türkiye'nin büyükbaş hayvancılığıyla ilgili olarak aşağıdaki bilgilerden hangisi doğrudur?

- A) Et ve süt verimleri yüksek olan ırklar çoğunluktadır.
B) Büyükbaş hayvancılık için uygun otlaklar giderek artmaktadır.
C) Küçükbaş hayvancılığa göre daha yaygın bir etkinliktir.
D) Besicilik ve ahır hayvancılığı, kentlerin yakın çevresinde gelişmiştir.
E) Dış satımda canlı büyükbaş hayvanların payı fazladır.

Diğer sayfaya geçiniz.

40. Akdeniz Bölgesi'nin ekonomik bakımdan gelişmesinde aşağıdakilerden hangisinin etkisi diğerlerinden daha azdır?

- A) Kıyı balıkçılığının yapılması
- B) Tarıma dayalı endüstri kuruluşlarının bulunması
- C) Turfanda meyve ve sebze üretiminin fazla olması
- D) Turizm etkinliği ve potansiyeli bakımından zengin olması
- E) Dış ticarete önemli yeri olan büyük limanlara sahip olması

41. Türkiye'de aşağıdakilerden hangisinin ormana verdiği zararın diğerlerinden daha az olduğu söylenebilir?

- A) Tarım alanı açma
- B) Keçi otlatma
- C) Yangınlar
- D) Heyelan
- E) Kaçak kesim

42. Doğu Karadeniz ve Hakkâri bölümlerinde,

- I. akarsuların akış hızının yüksek olması,
- II. tarımsal ürün çeşidinin az olması,
- III. yayla ve dağ turizminin gelişmiş olması,
- IV. bölüm dışına göçün fazla olması

özelliklerinden hangileri ortaktır?

- A) I ve II
- B) I ve III
- C) I ve IV
- D) II ve III
- E) III ve IV

43. Türkiye'de tarımsal etkinliklerin zorlaşmasında,

- I. eğimin fazla olması,
 - II. ortalama yükseltinin fazla olması,
 - III. şiddetli yaz kuraklığı yaşanması
- etkili olmaktadır.

Buna göre, I, II ve III numaralı etmenlerin daha çok etkili olduğu iller aşağıdakilerin hangisinde verilmiştir?

- | | I | II | III |
|----|-------|-------|-------|
| A) | Kars | Konya | Rize |
| B) | Konya | Rize | Kars |
| C) | Rize | Kars | Konya |
| D) | Kars | Rize | Konya |
| E) | Rize | Konya | Kars |

44.

- I. Afyonkarahisar – Et ve süt ürünleri
- II. Kırıkkale – Petrokimya
- III. Zonguldak – Orman ürünleri
- IV. İstanbul – Pamuklu dokuma

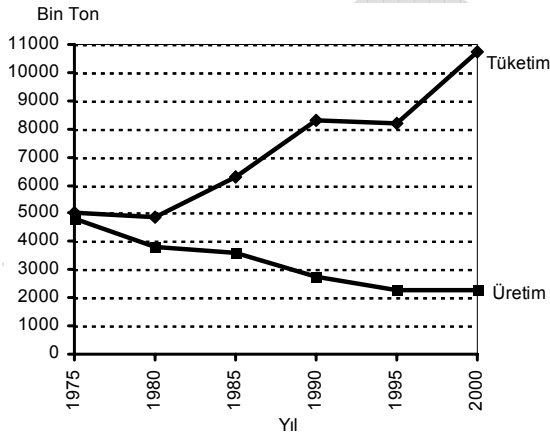
Yukarıdaki illerden hangileri, birlikte verilen endüstri kolu için gerekli ham madde bakımından zengindir?

- A) I ve II
- B) I ve III
- C) II ve III
- D) II ve IV
- E) III ve IV

45. Türkiye'nin ekonomik etkinliklerine ait aşağıdaki bilgilerden hangisi doğrudur?

- A) Elektrik enerjisinin büyük bir kısmı yenilenebilir enerji kaynaklarından elde edilir.
- B) Kırsal kesimde en yaygın hayvancılık etkinliği arıcılık ve balıkçılıktır.
- C) Tarım sektörünün millî gelirdeki payı diğer sektörlerden fazladır.
- D) Dış ticarete ilk sırada yer alan ülke Amerika Birleşik Devletleri'dir.
- E) Gıda endüstrisinde ham maddenin büyük bir kısmı ülke içinden karşılanmaktadır.

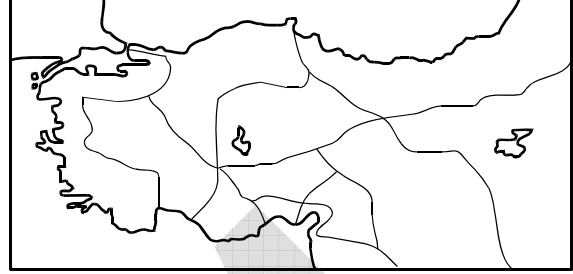
46. Aşağıdaki grafikte Türkiye'de 1975 - 2000 yılları arasındaki taş kömürü üretim ve tüketim miktarları gösterilmiştir.



Yalnızca grafikten yararlanılarak aşağıdaki sonuçlardan hangisine ulaşılabilir?

- A) Taş kömürü rezervinde azalma olmuştur.
- B) Taş kömürü üretim teknolojisinde değişme olmuştur.
- C) Tüketimde diğer kömür türlerinin payı artmıştır.
- D) Üretimin tüketimi karşılama oranı düşmüştür.
- E) Taş kömürünün kullanım alanları artmıştır.

47. Aşağıdaki haritada, Selçuklu Döneminde Anadolu'daki kervan ticaretinin yapıldığı yollar gösterilmiştir.



Bu haritadaki yollar dikkate alındığında, Anadolu'daki ulaşım ile ilgili aşağıdaki sonuçlardan hangisine ulaşılabilir?

- A) Akdeniz kıyılarına ulaşmada Toroslar üzerindeki doğal geçitlerin kullanıldığı
- B) Kıtalar arasında ulaşımın gelişmiş olduğu
- C) Deniz taşımacılığında Ege limanlarının kullanıldığı
- D) Kıyı boyunca ulaşımın gelişmiş olduğu
- E) Tüm yolların akarsu vadilerini izlediği

48. **Menteşe Yöresi'nin turizm merkezlerinde, aşağıdakilerden hangisinde yıl içerisinde diğerlerinden daha büyük oranda değişiklik görülür?**

- A) Yaz aylarının sıcaklık değerlerinde
- B) Deniz suyu sıcaklığında
- C) Aritmetik nüfus yoğunluğunda
- D) Tarımsal etkinliklerde
- E) Kültür balıkçılığında

49. Aşağıdakilerden hangisi sosyal hayatı düzenleyen kurallardan biri değildir?

- A) Din kuralları B) Fizik kuralları
C) Görgü kuralları D) Ahlak kuralları
E) Hukuk kuralları

50. Kullanıldıkları zaman mevcut bir hukuki durumu tamamen ortadan kaldıran haklara ne ad verilir?

- A) Kişilik hakları
B) Kurucu yenilik doğuran haklar
C) Alelade haklar
D) Bozucu yenilik doğuran haklar
E) Değiştirici yenilik doğuran haklar

51. Aşağıdakilerden hangisi borçlar hukukuna hakim olan ilkelerden biri değildir?

- A) Sözleşme özgürlüğü ilkesi
B) Eşitlik ilkesi
C) Zaman aşımı ve hak düşürücü süreye uğramama ilkesi
D) Nispiyet ilkesi
E) Üçüncü kişi aleyhine borç kurulamaması ilkesi

52. 1982 Anayasası'na göre, TBMM'nin seçim dönemi ile ilgili aşağıdaki ifadelerden hangisi doğrudur?

- A) 2007 yılında gerçekleştirilen Anayasa değişikliği uyarınca TBMM seçimleri 5 yılda bir yapılır.
B) Meclis, seçim dönemi dolmadan üye tam sayısının en az salt çoğunluğunun oyu ile erken seçim kararı alabilir.
C) Meclisin, seçim dönemi dolmadan erken seçim kararı alması üzerine yapılan seçime ara seçim denir.
D) Cumhurbaşkanı, ülkenin herhangi bir nedenle siyasi bunalıma girdiğini düşündüğü her durumda, bu bunalımı çözmeye amacıyla TBMM seçimlerinin yenilenmesine karar verebilir.
E) TBMM Genel Kurulu veya Cumhurbaşkanı tarafından yenilenmesine karar verilen Meclisin yetkileri, yeni Meclisin seçilmesine kadar devam eder.

53. Türkiye'de Anayasa Mahkemesi ilk kez hangi anayasal düzenlemede yer almıştır?

- A) 1921 Anayasası'nda Cumhuriyetin ilanı için yapılan değişikliklerle birlikte
B) 1924 Anayasası döneminde çok partili yaşama geçiş için yapılan değişikliklerle birlikte
C) 1961 Anayasası'nda
D) 1961 Anayasası'nda 1971 yılında yapılan kapsamlı değişikliklerle birlikte
E) 1982 Anayasası'nda

54. 1982 Anayasası'nın değiştirilmesi ile ilgili aşağıdaki ifadelerden hangisi yanlıştır?

- A) Anayasa'nın değiştirilmesi, TBMM üye tam sayısının en az üçte biri tarafından yazıyla teklif edilebilir.
- B) TBMM Genel Kurulu, Anayasa değişikliğine ilişkin kanunların kabulü sırasında, bu kanunun halkoyuna sunulması hâlinde, Anayasa'nın değiştirilen hükümlerinden hangilerinin birlikte, hangilerinin ayrı ayrı oylanacağını da karara bağlar.
- C) Anayasa'nın değiştirilmesi hakkındaki tekliflerin kabulü, Meclisin üye tam sayısının en az beşte üç çoğunluğunun gizli oyuyla mümkün olabilir.
- D) TBMM Genel Kurulu tarafından üye tam sayısının en az üçte iki çoğunluğu ile kabul edilen bir Anayasa değişikliğini, Cumhurbaşkanı dilerse halkoyuna sunabilir, dilerse yürürlüğe girmesi için Resmî Gazete'de yayımlanmasına karar verebilir.
- E) TBMM Genel Kurulu acil hâllerde Anayasa değişikliğine ilişkin tekliflerin bir kez oylanmasının yeterli olacağına karar verebilir. Ancak, böyle bir kararın alınabilmesi, TBMM üye tam sayısının en az üçte iki çoğunluğunun oyu ile mümkün olabilir.

55. Aşağıdakilerden hangisi idari yargı kuruluşları arasında yer alır?

- A) Vergi mahkemeleri
- B) Yargıtay
- C) Anayasa Mahkemesi
- D) Sulh hukuk mahkemeleri
- E) Asliye ceza mahkemeleri

56.

- I. Başarılı Sporculara Aylık Bağlanması ile Devlet Sporcusu Unvanı Verilmesi Hakkında Kanun
- II. Sakarya İlinde Büyükşehir Belediyesi Kurulması Hakkında Kanun Hükmünde Kararname
- III. Tapu Planları Tüzüğü

Yukarıdakilerden hangileri Bakanlar Kurulu tarafından yapılan işlemlerden biridir?

- A) Yalnız II
- B) Yalnız III
- C) I ve II
- D) II ve III
- E) I, II ve III

57. Aşağıdakilerden hangisi yerel yönetimler arasında yer almaz?

- A) Ankara Büyükşehir Belediyesi
- B) İzmir İl Özel İdaresi
- C) İstanbul Ticaret Odası
- D) Bandırma Belediyesi
- E) Kozaklı Köyü

A

2009 - KPSS / GYGK-CS

58. 2008 yılında dünya ekonomisindeki toplam dış borcun yaklaşık % 60'ı aşağıdaki ülke gruplarından hangisine aittir?

- A) Çin, Japonya, Rusya
- B) Kanada, Brezilya, Arjantin
- C) Türkiye, Brezilya, İspanya, Endonezya
- D) İngiltere, Fransa, Kanada, İtalya
- E) ABD, İngiltere, Fransa, Almanya

60. Dünya Ticaret Örgütü'nün 2008 Dünya Ticareti Raporu'na göre en çok ithalat ve ihracat yapan 30 ülke listesinde Türkiye'nin sıralamadaki yerile ilgili aşağıdaki bilgilerden hangisi doğrudur?

	<u>İthalat</u>	<u>İhracat</u>
A)	25. sırada	25. sırada
B)	20. sırada	İlk 30'a giremedi.
C)	İlk 30'a giremedi.	10. sırada
D)	20. sırada	20. sırada
E)	10. sırada	10. sırada

59. Dünyada Türkiye'nin de dahil olduğu gelişmiş ve gelişmekte olan 20 ülkenin oluşturduğu G-20 toplantısı, 2009 yılı Nisan ayında hangi şehirde yapılmıştır?

- A) Londra
- B) Paris
- C) Berlin
- D) Strasbourg
- E) Roma

TEST BİTTİ.

CEVAPLARINIZI KONTROL EDİNİZ.

KAMU PERSONEL SEÇME SINAVI
(A GRUBU VE ÖĞRETMENLİK)

27 HAZİRAN 2009

GENEL KÜLTÜR TESTİ

A KİTAPÇIĞI

- | | | |
|-------|-------|-------|
| 1. D | 21. E | 41. D |
| 2. A | 22. C | 42. C |
| 3. B | 23. A | 43. C |
| 4. C | 24. B | 44. B |
| 5. B | 25. E | 45. E |
| 6. E | 26. B | 46. D |
| 7. D | 27. D | 47. A |
| 8. C | 28. B | 48. C |
| 9. E | 29. C | 49. B |
| 10. A | 30. A | 50. D |
| 11. E | 31. B | 51. C |
| 12. D | 32. C | 52. E |
| 13. A | 33. D | 53. C |
| 14. C | 34. B | 54. E |
| 15. B | 35. E | 55. A |
| 16. B | 36. B | 56. D |
| 17. A | 37. A | 57. C |
| 18. E | 38. E | 58. E |
| 19. C | 39. D | 59. A |
| 20. D | 40. A | 60. B |