

1.

Biz Lidyalılar, Kral Yolu'nu açtık.
İlk kez madenî parayı kullandık.
Büyük Menderes ve Gediz
ırmakları çevresindeki verimli
topraklarda da her çeşit sebze
ve meyveyi yetiştirdik.



Bu bilgiye göre Lidyalılarla ilgili olarak;

I- Tarım başlıca geçim kaynaklarından biridir.

II- Ticaretle ileri gitmişlerdir.

III- Bilimsel çalışmalara öncülük etmişlerdir.

IV- Madencilikle uğraşmışlardır.

yargılarından hangilerine ulaşılabilir?

- A) I - II B) II - III
C) I - II - IV D) I - II - III - IV

2.

Çocuklar, bu durum İslamiyetin aşağıdakilerden hangisine büyük önem verdiğini gösterir?



Bedir Savaşı'nda esir düşen Mekkelilerden okuma - yazma bilenler, on Müslümana okuma yazma öğretilmeleri karşılığında serbest bırakıldılar.

- A) Eğitime B) Adalete
C) İbadete D) Yardımlaşmaya

3. Aşağıda ilk Türk devletlerine ait bazı bilgiler sembollerle verilmiştir:

- ▲ → Tarihte bilinen ilk Türk devletidir.
◆ → Yerleşik hayata geçen ilk Türk devletidir.
■ → Avrupa'da kurulan ilk Türk devletidir.
★ → Tarihte "Türk" adıyla kurulan ilk devlettir.

Buna göre Kök Türklere ait bilgi hangi sembole gösterilmiştir?

- A) ▲ B) ◆ C) ■ D) ★

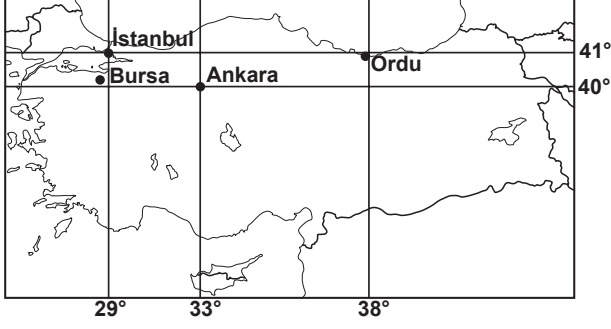
4. Karahanlılar Döneminde;

- İslamiyet resmî din, Türkçe resmî dil olarak benimsenmiş,
- Kaşgarlı Mahmut, Divan-ü Lügati't-Türk adlı eserini yazmış,
- Yusuf Has Hacip, Kutadgu Bilig adlı eserini Karahanlı hükümdarı Tabgaç Buğra Han'a sunmuştur.

Bu bilgilere göre Karahanlılarla ilgili olarak varılabilecek ortak yargı aşağıdakilerden hangisidir?

- A) Karahanlılar Döneminde yazılan Divan-ü Lügati't-Türk, millî kültürümüzün temel eserlerinden biridir.
B) Türk-İslam kültürünün temelleri Karahanlılar Döneminde atılmıştır.
C) Karahanlılar Türkçeyi resmî dil olarak benimseyen Türk devletlerindedir.
D) Karahanlılar ilk Müslüman Türk devletidir.

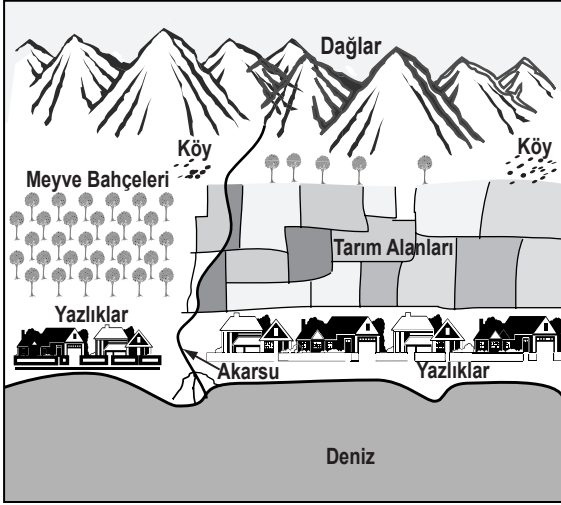
5. Bora: Yaz tatilini geçireceğim şehir, 29° doğu meridyeni ile 40° kuzey paralelinin kesiştiği yere en yakın konumdadır.



Bu şehir aşağıdakilerden hangisidir?

- A) Ordu
B) İstanbul
C) Ankara
D) Bursa

6.



Resimdeki akarsu, yılın belli dönemlerinde taşarak su baskınlarına sebep olmakta, çevresindeki tarım alanlarına ve konutlara büyük zararlar vermektedir. Yaz döneminde ise kuruyarak yöreyi susuz bırakmaktadır.

Bu durumda yapılması gereken en doğru uygulama aşağıdakilerden hangisidir?

- A) Dağlık bölgeye baraj yapmak.
B) Akarsuyun yatağını değiştirmek.
C) Tarım arazilerine sanayi tesisleri kurmak.
D) Yörede ekonomik faaliyetlere son vermek.

7. Fabrika, ev ve arabalarda petrol ve kömür gibi yakıtların kullanımının artması atmosferdeki gazların oranlarında değişimlere neden olmaktadır. Buna bağlı olarak dünya genelinde iklim özelliklerinde önemli değişiklikler ortaya çıkmıştır. İklim değişiklikleri bu şekilde devam ederse bir çok bitki ve hayvan türü buna uyum sağlayamayacak ve yok olacaktır.

Aşağıdakilerden hangisi bu sorunu önlemeye yönelik bir uygulama olamaz?

- A) Enerji kullanımında tasarrufa yönelmek.
B) Petrol ve kömür tüketimini arttırmak.
C) Fabrikalarda arıtma tesislerini yaygınlaştırmak.
D) Doğal çevreye daha az zarar veren enerji kaynaklarına yönelmek.


8. Dağ tırmanışı yapan bir araştırma grubu 3 gün boyunca aynı saatte yükselti ve sıcaklığı ölçmüşlerdir.

Günler	Yükselti (m)	Sıcaklık (°C)
1. Gün	2.000	5
2. Gün	3.000	0
3. Gün	4.000	-5

Tabloda verilen bu ölçümler göz önüne alınarak aşağıdaki yargılardan hangisine ulaşılabilir?

- A) Dağda bitki örtüsü yoktur.
B) Dağda ekonomik faaliyet yapılamaz.
C) Yükselti arttıkça hava sıcaklığı düşer.
D) Dağda kayak tesisleri bulunmaktadır.

9.



Resimdeki kişi, iklim özelliklerindeki değişimden yakınmaktadır.

Buna göre konuşma balonuna aşağıdakilerden hangisi gelmelidir?

- A) Denizlerde eskisi kadar bol balık yok. Bu yüzden gemiyi satışa çıkardım.
- B) Son yıllarda kuraklık öyle bir hâl aldı ki, gölde bu gemiyi yüzdürecek su kalmadı.
- C) Buraya bir deniz feneri inşa etmek gerekiyor, çünkü gemiler karanlıkta karaya oturabilir.
- D) Şimdi daha büyük ve gelişmiş gemiler taşımacılıkta kullanılıyor. Eskisi kadar para kazanamıyorum.

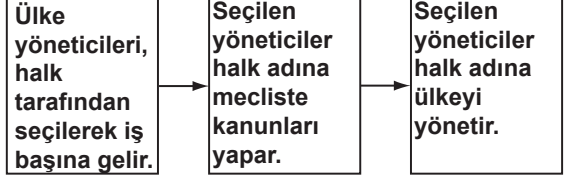
10.



Resimde gösterilen yerin aşağıdaki iklim bölgelerinden hangisinde yer aldığı söylenmez?

- A) Akdeniz iklimi
- B) Muson iklimi
- C) Ekvatorial iklim
- D) Kutup iklimi

11.



Bu diyagram için en uygun başlık aşağıdakilerden hangisi olur?

- A) Tarihte görülen yönetim şekilleri
- B) Monarşi yönetiminin özellikleri
- C) İnsan haklarının gelişim süreci
- D) Demokratik devletlerde ülke yönetim şekli

12. Üç yılda bir düzenlenen "Dünya Su Forumu" bu yıl İstanbul'da yapıldı. Dünyanın hemen her ülkesinden pek çok devlet ve hükümet başkanının katıldığı forumun amacı, suyla ilgili problemlere çözümler bulabilmektir.

Bu açıklama aşağıdaki kavramlardan öncelikle hangisine örnek olur?

- A) Uluslararası işbirliği
- B) Teknolojik gelişme
- C) Toplumsal güvenlik
- D) Kültürel değişim

13.

Bu ay telefonla az konuşmuş olmama rağmen telefon faturamın yüksek gelmesinden şikâyetçiyim.



Beyefendi, lütfen kurumumuza ile başvurarak bu şikâyetinizi bildiriniz.



Yukarıdaki boşluğa hangisi getirilmelidir?

- A) Gazete ilanı
- B) Dilekçe
- C) Nüfus cüzdanı
- D) Telefon cihazı

DİN KÜLTÜRÜ VE AHLAK BİLGİSİ DERSİNİ OKUYANLAR AŞAĞIDAKİ SORULARI CEVAPLAYACAKLAR. OKUMAYANLAR BUNUN YERİNE AYNI NUMARALI SOSYAL BİLGİLER SORULARINI CEVAPLAYACAKLAR.

14.

Birer insan olarak peygamberler, insanların duygularını, düşünce biçimlerini ve ihtiyaçlarını iyi bilirler. Bu yüzden insanlarla iyi iletişim kurar ve ilahî mesajın anlaşılmasını kolaylaştırırlar. Ayrıca bir insanın, Allah'ın buyruklarını en iyi nasıl yerine getirebileceğini uygulamalı olarak gösterirler.



Yukarıdaki bilgileri veren öğretmen hangi konuyu açıklamaktadır?

- A) Peygamberlere imanın davranışlar üzerindeki etkisi
- B) Peygamberlerin niteliklerini bilmenin önemi
- C) Peygamberlerin insanlar arasından seçilme nedenleri
- D) Peygamberlere gelen mesajların ortak amaçları

15.

MEDİNE SÖZLEŞMESİ'NDEN

- * Müslümanlarla Yahudiler ve Puta tapıcılar barış içinde yaşayacaklar.
- * Medine'deki her topluluk kendi dinini serbestçe yaşayabilecek.
- * Dışarıdan gelen saldırılara karşı Medine birlikte savunulacak.
- * İnsanlar arasında çıkacak problemlerde Hz. Muhammed hakem olacak.

Medine'ye hicretten sonra imzalanan yukarıdaki sözleşme, Hz. Muhammed'in en çok hangi özelliğinin sonucudur?

- A) Toplumsal barışa verdiği önemin
- B) Müslümanlar arasında kardeşliğe verdiği önemin
- C) İnsanların can ve mal güvenliğini koruma isteğinin
- D) İnsanlar arasındaki anlaşmazlıkları çözüme kavuşturma yeteneğinin

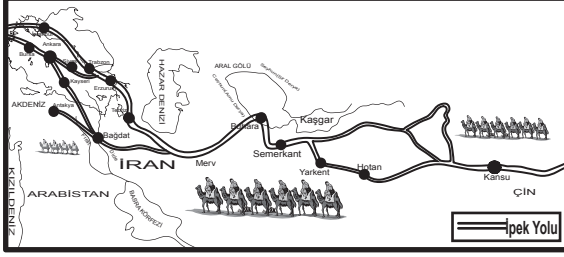
- 16. • Birbirine küskün iki arkadaşı barıştırmak**
• Dedikodu yapan ve insanların kusurlu yönlerini bulmaya çalışan arkadaşımızı uarmak
• Toplumdaki olumsuzlukların giderilmesi için çalışmak
• İnsanları küçümseyen ve onlarla alay eden birine bu davranışın doğru olmadığını açıklamak

Bu davranışların tümünü aşağıdakilerden hangisine örnek gösterebiliriz?

- A) Her zaman doğru sözlü ve dürüst olmaya
- B) Kötü davranışlar karşısında duyarlı olmaya
- C) Başkalarında var olan güzellikleri saygıyla kabullenmeye
- D) İnsanların kusurlarını dile dolayıp onları küçük düşürmekten kaçınmaya

DİN KÜLTÜRÜ VE AHLAK BİLGİSİ DERSİNİ OKUMAYANLAR AŞAĞIDAKİ SOSYAL BİLGİLER SORULARINI CEVAPLAYACAKLAR.

14.



İpek Yolu'nda ipeğin yanı sıra el dokumaları, değerli taşlar, kürk, tahıl, cam, yağ, bal, fil dişi gibi ürünler de kervanlar aracılığıyla taşınıyordu.

Bu bilgiye göre İpek Yolu'nun devletler arası ilişkilerde öncelikle hangi alanda bir köprü oluşturduğu söylenebilir?


- A) Kültürel
B) Siyasi
C) Ekonomik
D) Sosyal

15. Güneydoğu Anadolu Projesi (GAP), ülkemizin güneydoğusunda yer alan illeri kapsayan büyük bir projedir. Proje kapsamında Fırat ve Dicle nehirleri üzerinde çok sayıda baraj ve hidroelektrik santrallerinin yapımı, 1.7 milyon hektar alanın sulı tarıma kavuşturulması planlanmaktadır. Bunun sonucunda bölgede, enerjide ve tarım alanlarında üretim artışı amaçlanmaktadır.

Metne göre GAP'ın temel hedefi aşağıdakilerden hangisidir?

- A) Bölgede enerji ve tarımsal üretimi arttırmak.
B) Bölgenin haberleşme altyapısını geliştirmek.
C) Bölgede ulaşım faaliyetlerinin gelişmesini sağlamak.
D) Fırat ve Dicle nehirlerinin taşkın yapmasını engellemek.

16.



Yukarıdaki resimlerde görülen mesleklerin gerektirdiği ortak beceri hangisidir?

- A) Elektronik aletleri tamir edebilmek.
B) İnsanlarla başarılı iletişim kurabilmek.
C) Herhangi bir müzik aleti çalabilmek.
D) Çizim ve tasarım yapabilmek.

SOSYAL BİLGİLER TESTİ BİTTİ.
YABANCI DİL TESTİNE GEÇİNİZ.