

1. Türk - İslam mimarisinde görülen;

- I- darüşşifa
- II- kervansaray
- III- medrese

gibi yapılardan hangisi ya da hangileri ticareti geliştirme amacıyla yapılmıştır?

- A) Yalnız I
- B) Yalnız II
- C) I - II
- D) II - III

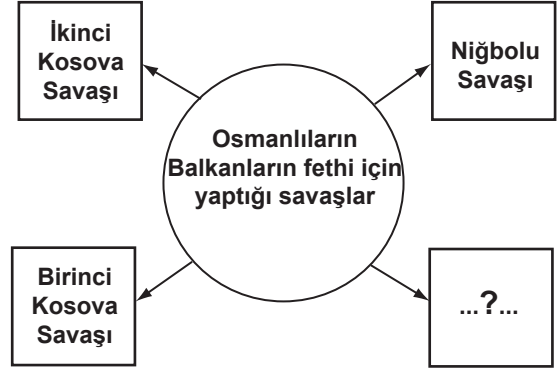
2. Osmanlı Beyliği'nin kısa sürede genişlemesinin sebeplerinden bazıları şunlardır:

- ① Moğollardan kaçan birçok Oğuz boyunun Osmanlılara katılması
- ② Komşu Türk beylikleriyle barış içinde kalmaya önem vermesi
- ③ Yöneticilerinin yetenekli olması
- ④ Taht kavgaları ve iç karışıklıklar içinde bulunan Bizans sınırında kurulması

Kaç numaralı kutuda verilen bilgi ile Osmanlı Beyliği'nin kısa sürede genişlemesinde coğrafi konumunun önemi belirtilmiştir?

- A) 1
- B) 2
- C) 3
- D) 4

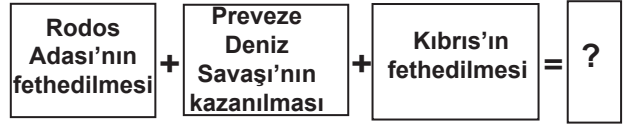
3.



Yukarıda verilen şemada “?” ile gösterilen yere, aşağıdakilerden hangisi yazılabilir?

- A) Maltepe (Pelekanon) Savaşı
- B) Varna Savaşı
- C) Ankara Savaşı
- D) Otlukbeli Savaşı

4.



Verilen diyagramda “?” ile gösterilen yere aşağıdakilerden hangisi getirilebilir?

- A) Boğazlar Türk egemenliğine girmiştir.
- B) Haçlılar Türkleri yenilgiye uğratmıştır.
- C) Akdeniz'de Türk egemenliği güçlenmiştir.
- D) Barbaros Hayrettin Paşa Kaptanıderya olmuştur.

8.

Mustafa Kemal, askerî hayatı boyunca birçok savaşa katılıp kahramanlıklar gösterdi. Ancak askerî yeteneğinin ön plana çıkmasını ve Kurtuluş Savaşı'nın önderi olmasını sağlayan başarılarını kazandı.



Parçada boş bırakılan yere aşağıdakilerden hangisi getirilmelidir?

- A) Suriye - Filistin Cephesi'nde
- B) Trablusgarp Cephesi'nde
- C) Çanakkale Cephesi'nde
- D) Kafkasya Cephesi'nde

9.

Almanya'dan gelen iş teklifini kabul etsem mi bilemiyorum!... Hastanenin çok gelişmiş cihaz ve makinelerden oluşan büyük bir araştırma merkezi varmış, alanında çok ünlü uzman doktorlar çalışıyormuş. Onların mesleki bilgilerinden de yararlanabilirim. Ayrıca maaşı da çok iyi!...



Doktor Gökalp çalışmak için Almanya'ya giderse bu hangi göç türüne girer?

- A) İç göç
- B) Zorunlu göç
- C) İşçi göçü
- D) Beyin göçü

10.

İller	Nüfus	Nüfus artış hızı (%)	Yüzölçüm (km ²)
Ağrı	529.000	-1	11.315
Antalya	1.719.000	4.2	20.599
Kocaeli	1.206.000	2.7	3.635
Konya	2.192.000	2.2	40.824



Dilay'ın ev ödevi, bilgisayardaki tabloda yer alan bilgilerden yararlanarak illerin nüfus yoğunluklarını bulmaktır.

Bunun için aşağıdakilerden hangisini yapmalıdır?

- A) İleri nüfus büyüklüklerine göre sıralamalıdır.
- B) Nüfus artış hızı ile il nüfusunu çarpmalıdır.
- C) İlin nüfusunu yüzölçümüne bölmelidir.
- D) İl nüfusundan yüzölçümünü çıkarmalıdır.

11.

Yüzümüz kara ama içimiz pırlı pırlı. Çünkü; eskiden bir köy olan Zonguldak'ın bugün on binlerce nüfuslu kocaman bir şehir hâline gelmesini sağlayan kara elması çıkarıyoruz. Biliyor musunuz, kara elmas Türkiye sanayisinin can damarı olan demir-çelik fabrikalarının enerji kaynağıdır.



Zonguldak'ın gelişmesini sağlayan sektör aşağıdakilerden hangisidir?

- A) Tarım
B) Madencilik
C) Ormancılık
D) Ulaştırma

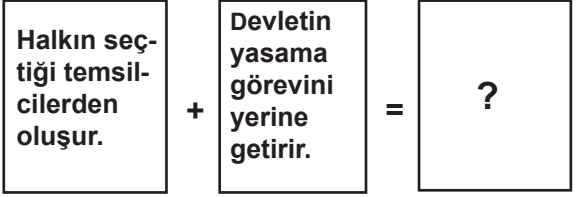
12. Aşağıda bazı Sivil Toplum Kuruluş (STK)ların amaçları verilmiştir.

1. STK'nin amacı; Ülkelerin tarımsal faaliyetlerini geliştirmek.
2. STK'nin amacı; Toprağın aşınmasını ve çölleşmesini önlemek.
3. STK'nin amacı; Temiz içme suyu sorununa çözüm bulmak.
4. STK'nin amacı; Sulak yerlerde yaşayan canlı türlerini korumak.

Yaşadıkları bölgede erozyon sorunu ile karşılaşan bir köy halkı, bu sorunu çözebilmek için öncelikle yukarıda verilen STK'lerden hangisine başvurmalıdır?

- A) 1. B) 2. C) 3. D) 4.

13.



Soru işareti olan yere aşağıdakilerden hangisi yazılmalıdır?

- A) Meclis
B) Hükûmet
C) Cumhurbaşkanı
D) Anayasa Mahkemesi

14. Unesco tarafından hazırlanan "Somut Olmayan Kültürel Mirasın Korunması Sözleşmesi"ne onay veren devletler, kendilerine özgü olan ve kaybolmaya yüz tutmuş meslekleri, sanatları ve gelenekleri ders olarak okutmaya başlayacak, kuşaktan kuşağa aktarılmasını sağlayacaktır.

Bu çalışmaların, aşağıdaki amaçlardan hangisini gerçekleştirmeye yönelik olduğu söylenebilir?

- A) Yeni kültürel değerler oluşturmaya
B) Uluslararası kültürel etkinlikleri artırmaya
C) Ulusların geleneksel kültürlerini yaşatmaya
D) Ulusların benzer kültürel değerlerini belirlemeye

15. Ayla : Hadi bahçeye çıkıp oyun oynayalım.

Seray : Çok hastayım, çıkamayacağım.

Ayla : Hadi çikalım ...

Seray : Oyun oynayacak hâlim yok.

Ayla : Bir daha seninle oynamayacağım.

Seray : Ben de seninle oynamayacağım.

Verilen diyalogda yapılan iletişim hatası öncelikle aşağıdakilerden hangisidir?

- A) Beden dilini kullanmama
B) Empati kuramama
C) Eleştiriye açık olmama
D) Kendini doğru ifade edememe

DİN KÜLTÜRÜ VE AHLAK BİLGİSİ DERSİNİ OKUYANLAR AŞAĞIDAKİ SORULARI CEVAPLAYACAKLAR. OKUMAYANLAR BUNUN YERİNE AYNI NUMARALI SOSYAL BİLGİLER SORULARINI CEVAPLAYACAKLAR.

16. Kur'an ayetleriyle Allah'ın neyi amaçladığını insanlar arasında en iyi bilen Hz. Muhammed'dir. O, gerektiğinde ayetleri açıklayarak İslam'ın doğru anlaşılmasını sağlamıştır.

Bu paragrafta ortaya konan düşünceyi hangi öğrenci tam olarak dile getirmiştir?

A)

Hz. Muhammed insanlık için uyarıcıdır.



B)

Hz. Muhammed yaşadığı toplumun en bilginiydi.



C)

Hz. Muhammed vahyi insanlığa eksiksiz aktarmıştır.



D)

Hz. Muhammed Kur'an'ı açıklayıcıdır.



17.



Yukarıdaki şemaya ramazan ayının başta gelen üç özelliğini yazmamız gerekiyor. Aşağıdaki seçeneklerden hangisini şemanın dışında bırakabiliriz?

- A) Farz orucun bu ayda tutulması
B) Camilerin mahyalarla süslenmesi
C) Teravih namazının bu aya özgü olması
D) Kur'an'ın indirilmeye başlandığı Kadir Gecesi'nin bu ayda bulunması

18. İlkay, alkollü içeceklerin zararlarını okudu ve alkol kullanmaya başlayan kişinin durumunu anlatan yandaki resmi çizdi. Bu resmin altına aşağıdaki yazılardan hangisini yazması daha doğrudur?



- A) Alkole alışmak kolay, bırakmak zordur; çünkü bağımlılık yapar.
B) Hamilelikte alkol kullanımı bebekte zekâ geriliğine yol açabilir.
C) Alkol kullanımı trafik kazalarının başlıca nedenlerindedir.
D) Alkollü içecekler, karaciğere büyük zarar verir.

DİN KÜLTÜRÜ VE AHLAK BİLGİSİ DERSİNİ
OKUMAYANLAR AŞAĞIDAKİ SOSYAL
BİLGİLER SORULARINI CEVAPLAYACAKLAR.

16.

Ben Martin Luther!
Matbaanın icat edilmesiyle
çok sayıda İncil basıldı ve
birçok dile çevrildi. İncil'i
okuyunca rahiplerin bize dayattığı
birçok inancın İncil'de olmadığını
öğrendik.



Martin Luther'in sözünü ettiği durum,
Avrupa'da meydana gelen;

- I- Coğrafi keşifler
- II- Reform
- III- Rönesans
- IV- Sanayi İnkılabı

gibi gelişmelerden hangisinin ya da hangi-
lerinin ortaya çıkmasında doğrudan etkili
olmuştur?

- A) I - II - IV
- B) III - IV
- C) Yalnız I
- D) Yalnız II

17.

Nüfus Sayım Formu

Adınız - Soyadınız?.....
Cinsiyetiniz?.....
Bitirdiğiniz yaş nedir?.....
Okuma ve yazma biliyormusunuz?.....
En son hangi okulu bitirdiniz?.....
Medeni durumunuz nedir?.....
Doğum yeriniz?.....

Yukarıda Türkiye'de yapılan Genel Nüfus
Sayımlarında yöneltilen sorulardan bazıları
verilmiştir.

Bu sorulardan yararlanarak aşağıdakiler-
den hangisine ulaşamaz?

- A) Türkiye'deki kadın-erkek sayısına
- B) Kişilerin aylık gelir miktarına
- C) Türkiye'deki okur-yazar oranına
- D) Nüfusun yaş gruplarına göre dağılımına

18. Aşağıdakilerden hangisi kitle iletişim özgür-
lüğünün gereği olan bir durumdur?

- A) Her türlü haber ve düşüncenin serbestçe
açıklanması
- B) Basın-yayın organlarının taraflı haber yap-
ması
- C) Doğruluğundan emin olunmayan bilgilerin
açıklanması
- D) İnsanların düşüncelerini açıklamaya zorlan-
ması

SOSYAL BİLGİLER TESTİ BİTTİ.
YABANCI DİL TESTİNE GEÇİNİZ.