

A

JANDARMA OKULLAR KOMUTANLIĞI
UZMAN JANDARMA OKULU GİRİŞ SINAVI
25 Nisan 2010

ADI :
SOYADI :
T.C. KİMLİK NUMARASI :
SALON NUMARASI :

GENEL AÇIKLAMA

1. Bu kitapçıkta, Genel Yetenek Testi ve Genel Kültür Testi bulunmaktadır. Bu iki test için verilen toplam cevaplama süresi **120 dakikadır (2 saat)**.
Bu testlerin başladıkları sayfalar şöyledir:
Genel Yetenek Testi 1
Genel Kültür Testi 14
2. Bu sınavda A ve B olmak üzere iki tür soru kitapçığı vardır.
3. Bu soru kitapçığının türü **A**'dır. Bunu cevap kâğıdınızdaki ilgili alana kodlayınız.
Bu kodlamayı cevap kâğıdınıza yapmadığınız ve ya yanlış yaptığınız takdirde, sınavınızın değerlendirilmesi mümkün değildir.
4. Cevaplamaya istediğiniz sorudan başlayabilirsiniz.
5. Test kitapçığındaki her sorunun sadece bir doğru cevabı vardır. Bir soru için birden çok cevap yeri işaretlenmişse o soru yanlış cevaplanmış sayılacaktır.
6. Değiştirmek istediğiniz bir cevabı, yumuşak bir silgiyle, cevap kâğıdını örselemeden, temizce siliniz ve yeni cevabınızı işaretlemeyi unutmayınız.
7. Cevap kâğıdınızı buruşturmayınız, katlamayınız ve üzerine gereksiz hiçbir işaret koymayınız.
8. **Test puanlanırken her bölümdeki doğru cevaplarınızın sayısından yanlış cevaplarınızın sayısının dörtte biri düşülecek ve kalan sayı o testle ilgili ham puanınız olacaktır. Bu nedenle bir soru hakkında hiçbir fikriniz yoksa o soruyu boş bırakınız. Ancak, soruda verilen seçeneklerden birkaçını eleyebiliyorsanız kalanlar arasından doğru cevabı kestirmeniz yararınıza olabilir.**
9. Sınavda uyulacak diğer kurallar bu kitapçığın arka kapağında belirtilmiştir.

Bu testlerin her hakkı saklıdır. Hangi amaçla olursa olsun, testlerin tamamının veya bir kısmının Merkezimizin yazılı izni olmadan kopya edilmesi, fotoğrafının çekilmesi, herhangi bir yolla çoğaltılması, yayımlanması ya da kullanılması yasaktır. Bu yasağa uymayanlar gerekli cezai sorumluluğu ve testlerin hazırlanmasındaki mali külfeti peşinen kabullenmiş sayılır.

GENEL YETENEK TESTİ

2010 - JANU

1. Türkiye'nin ---- bir toplum olma yönündeki ---- incelendiğinde, ---- tüm ---- temelini oluşturduğu görülür.

Bu cümlede boş bırakılan yerlere sırasıyla aşağıdakilerden hangisi getirilmelidir?

- A) gelişmiş – çabaları – eğitimin – atılımların
B) ileri – buluşları – çalışmanın – gayretlerin
C) çağdaş – davranışları – öğretimin – isteklerin
D) sevilen – aşamaları – bilimin – adımların
E) beğenilen – istekleri – beklentilerin – görüşlerin

2.

- I. Bu iş bitince tatile çıkacağım. (güçsüz kalmak)
II. Çay bitti, isterseniz kahve yapayım. (tükenmek)
III. Yorgunluktan bittim. (sona ermek)

Yukarıdaki numaralanmış cümlelerin hangisinde "bitmek" sözcüğü araç içinde verilen anlamıyla kullanılmıştır?

- A) Yalnız I. B) Yalnız II. C) I. ve II.
D) I. ve III. E) II. ve III.

3. Aşağıdaki cümlelerden hangisi, araç içinde verilen açıklamayla anlamca ilişkili değildir?

- A) Denizi, deniz olmaktan çıkardık. (yapısına zarar vermek)
B) Balıkların kökünü kuruttuk. (soyunu tüketmek)
C) Havayı mazot kokusuyla doldurduk. (görüntüsünü bozmak)
D) Çayırları tarlaya dönüştürdük. (işlevini değiştirmek)
E) Ormanları yakıp kül ettik. (yok etmek)

4. Ünlü şair, gazetede yazılarını överek, "Sen öykü yazmalısın." dedi. "Öykü yazmayı ben de isterim ama önce gazeteciliğimi geliştirmem gerek." diye yanıt verdim. O ise, "Yok yok, zaten gazetecilikte insanlarla iç içesin, onlarla ilgili haberleri yazıyorsun. Haberini yaptığın bu insanların bir de öyküsünü yaz." diye yol gösterdi. "Evet, denemek isterim." gibisinden bir şeyler söyledim. O, "Hayır, hemen, bu akşam yapmalısın bunu." diye zorladı beni. Ben ise ünlü şairin bu önerisini ne o akşam yerine getirebildim ne daha sonra. Ama bu konuşma aklıma geldikçe hep pişmanlığa benzer bir duygu sarar beni.

Bu parçadaki altı çizili cümleyle anlatılmak istenen aşağıdakilerden hangisi olabilir?

- A) Mesleğinde mutlu olmama
B) Ünlü olamamanın sıkıntısını yaşama
C) Gazeteciliğin zor bir uğraş olduğunu belirtme
D) Kendisine öneride bulunulmasından hoşlanmama
E) Önerileni yapamamanın üzüntüsünü duyma

5. Yeterince emek harcamayıp zihninizdeki tarlayı sürmezseniz hiçbir işte başarılı olamazsınız.

Bu cümlede geçen "zihnindeki tarlayı sürmek" sözüyle anlatılmak istenen aşağıdakilerden hangisidir?

- A) Ne istediğini bilmek
B) Farklı türde ürünler ortaya koymak
C) Hatalarını düzeltmeye çalışmak
D) Belleğine işlerlik kazandırarak onu geliştirmek
E) Yitirdiği saygınlığı yeniden kazanmak

Diğer sayfaya geçiniz.

6. (I) Muğla'dan sonra denize ulaşma özlemi içinde ilerlerken yol dikleşir, tepeye vardığınızda deniz birden karşınıza çıkar. (II) Masmavi deniz kıyısında renk renk tarlalar... (III) Gökova, görkemli deniziyle, doğasıyla sizi kendine çeker. (IV) Orada durur, serinliği hisseder, uzun uzun bakarsınız aşağıdaki manzaraya. (V) Gökova'ya inmeden önce, düzlükten geçerek Sakar Dağı'nın tepesine çıkarsanız hem Gökova Körfezi hem de Akyaka önünüze serilir.

Bu parçadaki numaralanmış cümlelerin hangisinde "ansızın" anlamı vardır?

- A) I. B) II. C) III. D) IV. E) V.

7. **Aşağıdaki cümlelerin hangisinde "abartı" söz konusudur?**

- A) Her gün aksatmadan üç öğün yemek yedik.
B) Sıcaktan kavrulanlar kendilerini denize atıyorlardı.
C) Bahçedeki çocukların üstü başı çamur olmuştu.
D) Getirdiğim elmaların hepsini yediler.
E) Sağanak yağış çeşitli bölgelerde sele neden oldu.

8. **Aşağıdaki cümlelerin hangisinde "beceri kazanma" anlamı vardır?**

- A) Yakında hizmete açılacak olan 200 yataklı hastanemiz, salt mahallemize değil, öteki yerleşim birimlerine de hizmet sunacak.
B) Aranılan dosya ve belgelerin kolayca bulunabilmesi için okulumuzda, bunların günü gününe kaydedildiği bir arşiv oluşturuldu.
C) Mahallemizde çöplerin zamanında alınması, cadde ve sokakların süpürülmesi işleri titizlikle yerine getiriliyor.
D) Okulumuzun öğrencilerinden bir bölümü, mahallemizdeki boş alanları ağaçlandırarak fidan dikmeyi de öğrendi.
E) Mahallemizde kurulan tiyatro topluluğunun sunduğu kültürel ve sanatsal etkinlikleri bugüne değin beş yüz bin kişi izledi.

9. (I) Anadolu'da yetişen günlük ağacının yaşam alanı, iklimin sertleşmesi, taban suyunun azalması, çevre kirliliğinin artması ve benzeri nedenlerle giderek daraldı. (II) Günümüzde yaklaşık 5000 hektarlık bir alanda görülen bu bitki, bitki biliminde "relikt" olarak nitelendiriliyor. (III) "Eskiden kalan" anlamındaki relikt sözcüğü, iklim koşullarının değişmesi üzerine günümüzde zorlukla yaşamını sürdüren bitkiler için kullanılıyor. (IV) Bu bitki aynı zamanda yalnızca ülkemizde yetişiyor yani endemik bir tür. (V) Buna ek olarak bu ağaçtan elde edilen ve tıp, kozmetik alanlarında kullanılan sığla yağı da dünya üzerinde yine yalnızca Türkiye'de üretiliyor. (VI) Bu da Anadolu'daki günlük ağacının değerini artırıyor.

Bu parçadaki numaralanmış cümlelerden hangisi kendinden önceki cümlede belirtilenlerin sonucunu içermektedir?

- A) II. B) III. C) IV. D) V. E) VI.

10. (I) Gün ortasında çıplak gözle bakıldığında güneş beyaz görünür. (II) Ama bu beyaz ışık, prizmadan geçirilirse çok farklı renklere ayrılabilir. (III) Demek ki güneş ışığı birçok rengi içinde barındırıyor. (IV) Eğer atmosferde nem miktarı çok fazlaysa küçük su damlacıkları birer prizma görevi yaparak güneş ışığını renklere ayırır ve böylece gökkuşağı oluşur. (V) Gökkuşağında yedi renk olduğu bilgisi yaygındır, bu renkler gözle de fark edilebilir.

Bu parçadaki numaralanmış cümlelerin hangisinde bir çıkarım söz konusudur?

- A) I. B) II. C) III. D) IV. E) V.

11. (I) Bugün onlarla ilgili hiçbir şey anımsamasak da gençken okuduğumuz klasik kitaplar bizi bir yönüyle etkilemiştir. (II) Aynı kitabı yetişkinlik çağımızda yeniden okuduğumuzda unuttuğumuz yönlerini yeniden hatırlarız. (III) Çünkü klasik yapıtların, kendini unutturma, buna karşılık, tohumunu bırakma gibi özel bir gücü vardır. (IV) Yapıtın klasikleşmesini sağlayan özelliği de budur. (V) Bu nedenle olgunluk çağındaki herkesin, gençliğinde okuduğu kimi yapıtları yeniden okuması yerinde olur.

Bu parçadaki numaralanmış cümlelerin hangisinde bir öneri vardır?

- A) I. B) II. C) III. D) IV. E) V.

12. Fikret Mualla'nın ölümünün 40'inci yıl dönümü anısına İstanbul'da düzenlenen Sergiye yirmisi Türk,

yirmisi yabancı olmak üzere kırk ressam katılmış.

Bu cümledeki numaralanmış sözlerin hangisinde bir yazım yanlışı vardır?

- A) I. B) II. C) III. D) IV. E) V.

13. Bildiğiniz her şeyin yanlış olduğunu farz edin (I) Örneğin dokunduğunuz maddelerle ilgili edindiğiniz bilgiler yanlış (II) Duygularınız, tepkileriniz, başınıza gelenler, istekleriniz, beklentileriniz, diğer canlılara bakışınız (III) Hatta tüm ön yargılarınız ve beğenileriniz de (IV) Her şey yalnızca büyük bir illüzyondan ibaret (V) Böyle bir durumu kaldırabilir miydiniz (VI)

Bu parçadaki numaralanmış yerlerden hangilerine üç nokta (...) getirilmelidir?

- A) I. ve II. B) II. ve III. C) III. ve IV.
D) IV. ve VI. E) V. ve VI.

14. Mart sonu ya da nisan ortalarında bu kente gidip

bakımlı kiraz ağaçlarının çiçek açmasını izleyebilir,
I

kent içinde büyük, yeşil bir ada görünümündeki im-
II III

paratorluk sarayının ziyarete açık bölmelerini geze-
IV

bilir, ünlü tapınakları ziyaret edebilirsiniz.
V

Bu cümledeki numaralanmış sözcüklerden hangisi niteleme amacıyla kullanılmamıştır?

- A) I. B) II. C) III. D) IV. E) V.

15. Aşağıdaki cümlelerin hangisinde bir anlatım bozukluğu vardır?

- A) Son günlerde iştahı iyice kapanmıştı, gayret etse de tabağındaki yemeği bitiremiyordu.
B) Araba kullanırken bütün dikkatini toplar, hiç kimseyle konuşmazdı.
C) Sabahları kuş civıltısıyla uyandıkları eski köy evini özlemişti.
D) Zaman zaman çocukluğumda okuduğum masal kitaplarını karıştırır, o günlere dönerim.
E) Tatil yeri konusundaki isteklerinin farklı olması tartışma nedenine yol açmış.

16. Aşağıdaki cümlelerin hangisinde bir anlatım bozukluğu vardır?

- A) Arkadaşlarımızdan biri, Türk öykücülüğünün evrelerini akıcı bir dille anlattı.
B) Ünlü dil bilimcilerden biri bu konudaki düşüncelerini açıkça belirtti.
C) Bir dili zenginleştirip yeni kavramlar kazandırmakla olanaklıdır.
D) Her öğrenci kendi dilini, onun kurallarını eksiksiz olarak öğrenmelidir.
E) Yabancı kökenli kimi sözcüklere karşılık olarak önerilen sözcükler artık benimsendi.

17. Aşağıdaki cümlelerin hangisinde bir anlatım bozukluğu vardır?

- A) Bir yabancı dil öğrenmek istemez misin?
B) Yemekten sonra kahve içmek bana zevk verir.
C) Ara sıra eski arkadaşlarıyla buluşup tiyatroya gider.
D) Burada İngilizce dili kursları verilir.
E) Akşam yemeğini arkadaşınla mı yiyeceksin?

18. Safakta gökyüzü önce kıpkırmızı oluyor, daha sonra turuncuya çalıyor, sararıyor, pembeleşiyor, mavileşiyor. Dakikalar geçtikçe sanki renkler birbirinin içine akıyor, yavaş yavaş birbirinin içinde eriyor. Anlatılması güç bir güzellik kaplıyor göğü.
I II III IV V

Yukarıdaki numaralanmış sözlerden hangisi çıkarılırsa cümlelerin anlamında daralma olmaz?

- A) I. B) II. C) III. D) IV. E) V.

19. (I) Yörede dikkat çeken tarihsel kalıntılardan biri de su kemerleri. (II) İstanbul'un su ihtiyacını karşılamak için Istrancalardaki derelerden, ilk olarak Bizans İmparatoru Konstantin zamanında yararlanılmaya başlanır. (III) Tepeden tepeye su aktaran bu kemerler birer sanat eseri niteliğinde. (IV) Yemyeşil vadilerin ortasında manzarayı tamamlayan bir gerdanlık gibi duruyor. (V) Bunlardan, Karamandere ile Gümüşpınar arasındaki vadiye bulunan iki katlı, yedi gözlü Kurşun Germe günümüze kadar ulaşmış en büyük ve sağlam su kemeri olarak biliniyor.

Bu parçadaki numaralanmış cümlelerden hangisi düşüncenin akışını bozmaktadır?

- A) I. B) II. C) III. D) IV. E) V.

20. Deniz kıyısındaki bu ünlü kasabaya gelinir de balık yemeden dönülür mü? Bize salık verilen kıyıda balık lokantalarından birine geldik. Lokanta tıklım tıklım dolu. Garsonlar bizi bir odaya aldılar. Biraz beklememiz gerekiyormuş. Bir masa boşalınca salona buyur ettiler. Oturduğumuz yer, pencereden kolumuzuz uzatsak suya değecek kadar denizle iç içeydi. Oh, dünya varmış!.. Yapay olmayan bir saygıyla önerilerde bulunan garsonların da yardımıyla balıklarımızı ismarladık.

Bu parçanın anlatımıyla ilgili olarak aşağıdakilerden hangisi söylenemez?

- A) Karşılaştırma yapıldığı
B) Anlatıcının duygularına yer verildiği
C) Kimi değerlendirmelerde bulunulduğu
D) Olayların oluş sırasına göre anlatıldığı
E) Söyleşi havası taşıdığı

21. Burası mimarisiyle, atmosferiyle, bulunduğu coğrafyayla, ülkedeki en güzel kentti. Özellikle eski yapıların, mimariye özgü ayrıntılar içeren ilginç kapı ve pencereleri, büyük bir çeşitlilik gösteriyordu. Bütün bunlar, tarihî liman kentinin geçmişten gelen sözcüleri gibiydi. Bana da onları fotoğraflamak düştü.

Bu sözler aşağıdaki sorulardan hangisine karşılık olarak söylenmiş olabilir?

- A) Bu kentin fotoğraflarını çekmek size neler kazandırdı?
B) Fotoğraf çekmek için niye bu kenti seçtiniz?
C) Mimari açıdan zengin kentlerde fotoğraf çekmek nasıl bir duygu?
D) Fotoğraflarını çekeceğiniz kentin tarihiyle ilgili yeterince bilgi edinir misiniz?
E) Kentteki tarihî yapılar sizi hangi açıdan ilgilendiriyor?

22. Topkapı Sarayı Müzesi, bugünlerde "On Bin Yıllık İran Medeniyeti İki Bin Yıllık Ortak Miras" sergisine ev sahipliği yapıyor. Sergilenen eserler, "İslamiyet öncesi" ve "İslamiyet sonrası" olarak sınıflandırılmış. Sergide İran coğrafyasında yaşanan Eski Taş Çağı, Yeni Taş Çağı, Bakır Çağı gibi dönemlere ait eserler kronolojik olarak sergileniyor. Yaklaşık 300 parça yapıt, İran Ulusal Müzesi, Topkapı Sarayı Müzesi, İstanbul Türk ve İslam Eserleri Müzesi, Askerî Müze, Sadberk Hanım Müzesi gibi müzelerden seçildi. Bir ay boyunca gezilebilecek olan sergi, Topkapı Sarayı Has Ahırlar bölümünde yer alıyor.

Bu parçada, söz konusu sergiyle ilgili olarak aşağıdakilerin hangisine değinilmiştir?

- A) Hangi tarihten başlayarak gezilebileceğine
B) Sergilenecek yerin ne gibi özellikler taşıması gerektiğine
C) Belirli dönemlerden kalma yapıtlar bulunduğuna
D) Kimlerin ilgisini çekmesi beklendiğine
E) Amacının söz konusu ülkeyi tanıtmak olduğuna

Diğer sayfaya geçiniz.

23. Çocuk eğitiminde dayanın doğru bir yöntem olmadığı artık biliniyor, yani dayak hiçbir işe yaramıyor. Peki neden? Çünkü, dayak yiyen çocuk, yaptığına karşılığını ödediğini düşünüyor. "Yaramazlık yaptım, dayak yedim, ödeştik, konu kapandı." diyor. Oysa ----.

Bu parçada boş bırakılan yere düşüncenin akışına göre aşağıdakilerin hangisi getirilebilir?

- A) bir daha öyle bir duruma düşmek istemiyor
B) kendisini suçlu görmüyor, aksine döveni suçluyor
C) kendisine savunma hakkı verilmesini istiyor
D) cezasını çekmiş ve sorun çözülmüş oluyor
E) dayak yemesine neden olan davranışının niçin yanlış olduğunu öğrenmesi gerekiyor

24. Türkçemiz, insanı bedensel ve ruhsal yönleriyle yansıtan bir ayna gibidir. Bunu, insana özgü birçok durumun anlatıldığı, yüz sözcüğüyle kurulmuş sözsel bağdaştırmalarla örneklendirebiliriz. Söz gelimi, ----.

Bu parçanın son cümlesi aşağıdakilerden hangisiyle tamamlanırsa deyim yerinde kullanılmamış olur?

- A) o güne dek gösterilen ilgiyi, yakınlığı kesme durumu, "yüz çevirmek" sözüyle belirtilmiştir
B) utanılacak bir durum söz konusuysa bu durum "yüz karası" diye adlandırılmıştır
C) bir kimsenin güzelliğini anlatmak için "yüzüne bakmaya kıyamamak" sözü kullanılmıştır
D) sevilmeyen bir kimseye karşı duyulan nefreti belirtmek için "yüzünü kara çıkarmak" sözü kullanılmıştır
E) öfke ya da küskünlükten ileri gelen can sıkıntısı "yüzünden düşen bin parça olmak" sözüyle anlatılmıştır

25. Şiir ne bir şeyler öğreten manzume ne de anlamsız dizeler toplamıdır. Şiir, yeni anlamlara bürünen sözcüklerle kurulmuş bir dünya. İnsanın öz varlığında tutkuların, duyguların hamuruyla yoğrulmuş oluşun, yüreği tutuşturan evrensel bir meşale. Şiir, ister bireysel duygulara yaslanın ister toplumsal bir çizgide olsun, toplumun vicdanında büyür, değerlenir. Şiirin ne olduğu üzerinde birçok şair ve düşünür kafa yormuş, kendi birikimine, deneyimlerine uygun biçimde tanımlamıştır onu.

Bu parçadan şiirle ilgili olarak aşağıdakilerin hangisi çıkarılamaz?

- A) Yazmak için yetenek gerektirdiği
B) Çok değişik konularda yazılabildiği
C) Tanımlarının kişiden kişiye değiştiği
D) Okuyana bilgi verme amacı taşımadığı
E) Sözcüklerin farklı anlamlarda kullanıldığı

26. Fazla kiloların en büyük düşmanlarından biri fiziksel aktivitedir. Son zamanlarda, teknolojik gelişmelere bağlı olarak fiziksel aktivitemizin çok azalmış olması da kilo almanın temel nedenlerindedir. Fiziksel aktivite ve egzersiz, günlük enerji kaybını artırarak kilo vermeyi kolaylaştırır. Günde yarım saat hızlı, tempolu yürüme kilo vermede büyük yarar sağlar. Fakat "vitrin yürüyüşü" yapmamaya yani ağır adımlarla değil, hızlı tempoda yürümeye dikkat etmemiz gerekir.

Fiziksel aktivitenin konu edildiği bu parçada aşağıdakilerin hangisine değinilmemiştir?

- A) Fazla kilolarla arasındaki ilişkiye
B) Çağa ilişkin değişikliklerle nasıl bir bağı olduğuna
C) Vücudu nasıl etkilediğine
D) Nelere dikkat edilerek yapılması gerektiğine
E) Ne kadar zamanda ne kadar kilo vermeyi sağladığına

27. İnsanoğlu güzele olan düşkünlüğünün de etkisiyle sedefi binlerce yıl önce keşfetti. Eski Mısır'da, sedefin süs eşyalarında bir bezeme malzemesi olarak kullanıldığını gösteren bulgular var. Mezopotamya'daki Sümer mezarlarında da sedef süslemeciliği örnekleri bulundu. Eski Çin ve Hindistan'da sedef işçiliği yüzyıllar boyunca gelişti ve sedef işlemeli sayısız eşya üretildi. Sedefin Türkler tarafından benimsenmesiyse Osmanlı Dönemine rastlar. On beşinci yüzyıldan itibaren klasik Osmanlı eserlerinde sedef oldukça fazla kullanılmaya başlandı. Denilebilir ki sedef en yaygın ve en gelişmiş şekliyle Türk-Osmanlı sanatında boy gösterdi. Öyle ki önceleri, ahşaba söz geçiren ustaların sanatı olan künde-kârî ile birlikte anılırken zamanla sedef kakmacılığı onun önüne geçti ve o dönemde başlı başına bir sanat hâline geldi.

Bu parçada sedefle ilgili olarak aşağıdakilerin hangisine değinilmemiştir?

- A) Bulunmasında neyin etkili olduğuna
- B) Hangi ülkelerde kullanıldığına
- C) Benzerlik gösterdiği maddeye
- D) Osmanlı'da ne zaman çok kullanıldığına
- E) Giderek bağımsız bir sanata dönüştüğüne

28. Bazıları ellerini kullanmayı sevdikleri için heykeltıraş olur, şu ya da bu malzemeye karşı bir eğilimleri vardır; işte ben onlardanım. Ben demirle kendimi çok iyi ifade edebildiğimi düşünüyorum. Bu malzemeyi işlerken ortaya çıkacak sorunlarla baş etmeye çalışmanın çok ilginç olacağına inanıyorum. Kütleye hacim, ışıkla form ya da boşlukla hacim arasındaki ilişki; formları ve yapıyı anlayabilmek için daha da ileri gidebilmenin yollarını aramak, bu yolla uzay gerçeğini az çok anlayabilmek... İşte benim heykelle ilgili meselelerim bunlar aşağı yukarı.

Bu parçada sözü edilen heykeltıraşla ilgili olarak aşağıdakilerden hangisi söylenemez?

- A) Kendi özelliklerini bilmektedir.
- B) Mücadeleyi seven biridir.
- C) Araştırmacı bir yapısı vardır.
- D) Savunmacı bir tutum içindedir.
- E) Kullandığı malzemeyi bilinçli olarak seçmiştir.

29. Pompei, MS 79'da Vezüv Yanardağı'nın patlamasıyla küller altında kaldı. Yıkıntıları kaldıran arkeologlar Roma kent yaşamının donmuş bir anını ortaya çıkardı. Evler sıkışık olarak bir aradaydı. Odaların dışarı açılan penceresi yoktu. Odalar, iç avluların ya da içeriye güneş ışığını ve yağmur suyunu alan açıklıkları bulunan atriumların çevresine dizilmişti. Arkadaki avlular bahçe düzenlemesi yapılmış aile mezarlıklarıydı.

Bu parçada Pompei'yle ilgili olarak aşağıdakilerin hangisine değinilmemiştir?

- A) Arkeolojik çalışmaların ne kadar sürdüğüne
- B) Hangi devlete ait bir kent olduğuna
- C) Evlerin yerleşim biçimine
- D) Kentte ölülerin nereye gömüldüğüne
- E) Ne zaman toprak altında kaldığına

30. Mısırlılar Nil Nehri kıyısında kentler kurarken bugünkü Irak'ta, Dicle ve Fırat Nehirlerinin arasındaki bölgede bir başka kent uygarlığı geliyordu. Mezopotamya olarak bilinen bu bölgede yayılan kültür Sümer kültürüydü. Sümerlerde kentler kerpiç yapılardan oluşuyordu. Daha sonra, kerpici fırınlarda pişirme yöntemi kullanılmaya başlanınca daha sert ve dayanıklı yapı malzemeleri ortaya çıktı.

Bu parçada Sümerlerle ilgili olarak aşağıdakilerin hangisine değinilmemiştir?

- A) Yaşadıkları, Mezopotamya adı verilen yerin konumuna
- B) Tarihe en önemli katkılarının ne olduğuna
- C) Kentlerinde inşa ettikleri yapıların kimi özelliklerine
- D) Onlarla aynı dönemde yaşayan bir başka topluluğa
- E) Zamanla daha sağlam yapı malzemesi üretmeye başladıklarına

Diğer sayfaya geçiniz.

31.

$$3 - \left(\frac{1}{3} : \frac{1}{6} \right)$$

işleminin sonucu kaçtır?

- A) 1 B) 2 C) $\frac{1}{2}$ D) $\frac{3}{2}$ E) $\frac{5}{2}$

32.

$$\frac{0,028}{0,7} : \frac{1}{25}$$

işleminin sonucu kaçtır?

- A) 0,04 B) 0,4 C) 1 D) 5 E) 20

33.

$$0,000072 = K \cdot 10^{-5}$$

olduğuna göre, K kaçtır?

- A) 0,72 B) 7,2 C) 72
D) 720 E) 7200

34.

$$\sqrt{27} - \sqrt{108} + \frac{18}{\sqrt{3}}$$

işleminin sonucu kaçtır?

- A) $\sqrt{3}$ B) $2\sqrt{3}$ C) $3\sqrt{3}$ D) 3 E) 6

35.

$$5\sqrt{2} \cdot \sqrt{8} - 3$$

işleminin sonucu kaçtır?

- A) 13 B) 14 C) 15 D) 16 E) 17

36. $\sqrt[3]{2}$ sayısının yaklaşık değeri 1,26'dır.Buna göre $\sqrt[3]{54}$ 'ün yaklaşık değeri kaçtır?

- A) 2,56 B) 3,58 C) 3,68 D) 3,78 E) 5,04

Diğer sayfaya geçiniz.

37.

$$x \cdot y > 0$$

$$y \cdot z < 0$$

$$x \cdot y \cdot z < 0$$

olduğuna göre, x, y ve z'nin işaretleri sırasıyla aşağıdakilerden hangisidir?

- A) +,+,- B) +,-,- C) -,-,-
D) -,+,- E) -,+,+

38. Gerçek sayılar kümesi üzerinde f fonksiyonu

$$f(x) = x^3 + 2x^2$$

biçiminde tanımlanıyor.

Buna göre, $f(2) - f(-1)$ değeri kaçtır?

- A) 15 B) 13 C) 9 D) 8 E) 7

39.

$$\frac{ax+b}{x^2-9} = \frac{2}{x-3} - \frac{1}{x+3}$$

olduğuna göre, a + b toplamı kaçtır?

- A) 8 B) 9 C) 10 D) 11 E) 12

40.

$$p = \frac{3k-2}{2}$$

eşitliği veriliyor.

Buna göre, k'nin p türünden değeri aşağıdakilerden hangisidir?

- A) p+2 B) p+3 C) 2p+2
D) $\frac{p+2}{3}$ E) $\frac{2p+2}{3}$

41. Bir sayı 12 ile bölündüğünde elde edilen bölüm 11 olduğuna göre, bu sayı en çok kaç olabilir?

- A) 141 B) 142 C) 143 D) 144 E) 145

42. Rakamları toplamının 7 katı kendisine eşit olan iki basamaklı sayının onlar basamağındaki rakam 6'dır.

Buna göre, bu sayının birler basamağındaki rakam kaçtır?

- A) 2 B) 3 C) 4 D) 5 E) 6

Diğer sayfaya geçiniz.

43. a, b, c birer negatif tam sayı ve

$$\frac{a}{2} = \frac{b}{5} = \frac{c}{3}$$

olduğuna göre, aşağıdaki sıralamalardan hangisi doğrudur?

- A) $a < b < c$ B) $b < a < c$ C) $b < c < a$
 D) $c < a < b$ E) $c < b < a$

44.

$$\frac{4}{x} - \frac{2}{y} = \frac{4}{3}$$

$$\frac{1}{x} + \frac{1}{y} = \frac{5}{6}$$

olduğuna göre, x kaçtır?

- A) 1 B) 2 C) 3 D) 4 E) 5

45.

$$x^2 - 3x + m$$

ifadesinin bir tam kare olması için m kaç olmalıdır?

- A) $\frac{9}{4}$ B) $\frac{3}{4}$ C) $\frac{1}{3}$
 D) $\frac{9}{2}$ E) $\frac{3}{2}$

46.

$$|3x - 2| = x$$

denklemini sağlayan x değerlerinin toplamı kaçtır?

- A) 1 B) 2 C) $\frac{1}{2}$ D) $\frac{3}{2}$ E) $\frac{5}{2}$

47.

$$x^2 - 3x - 28 < 0$$

eşitsizliğini sağlayan tam sayıların toplamı kaçtır?

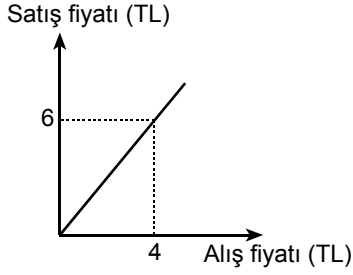
- A) 12 B) 13 C) 14 D) 15 E) 16

48. 57 634 sayısının 5 ile bölümünden kalan m, 9 ile bölümünden kalan n olduğuna göre, m+n toplamı kaçtır?

- A) 8 B) 10 C) 11 D) 12 E) 13

Diğer sayfaya geçiniz.

49. Aşağıdaki doğrusal grafik bir malın alış fiyatı ile satış fiyatı arasındaki bağıntıyı göstermektedir.



Alış fiyatı 10 TL olduğunda bu malın satışından kaç TL kâr elde edilir?

- A) 2 B) 3 C) 4 D) 5 E) 6

50. Bir berber ustası günde 10 kişiyi, kalfası ise 6 kişiyi tıraş edebiliyor.

İkisi beraber belli bir süre sonunda 176 kişiyi tıraş ettiklerine göre, kalfanın tıraş ettiği kişi sayısı kaçtır?

- A) 66 B) 77 C) 88 D) 99 E) 110

51. Bir manav, domatesin kilogramını % 20 kârla 60 kuruşa, biberin kilogramını ise % 25 zararla 90 kuruşa satıyor.

Bu manav, 1 kg domates ve 1 kg biberi toplam kaç kuruşa almıştır?

- A) 120 B) 135 C) 155 D) 165 E) 170

52. Bir baba 54, çocukları ise 10, 12 ve 20 yaşındadır.

Kaç yıl sonra babanın yaşı çocukların yaşları toplamına eşit olur?

- A) 5 B) 6 C) 7 D) 8 E) 9

Diğer sayfaya geçiniz.

53. Yeliz bir işi yalnız başına x günde, Beliz ise yalnız başına 9 günde bitiriyor.

İkisi birlikte çalışırsa aynı işi 6 günde bitirdiklerine göre, x kaçtır?

- A) 18 B) 16 C) 14 D) 12 E) 10

54. Bazı kuru yemişlerin belirli miktarlarının fiyatları aşağıdaki tabloda verilmiştir.

Kuru yemiş	Miktar (gram)	Fiyat (TL)
Leblebi	200	3
Fındık	300	x
Fıstık	250	8
Badem	100	y

600 gram leblebi, 600 gram fındık, 125 gram fıstık ve 200 gram bademden oluşan karışık kuru yemiş paketi 35 TL'dir.

Buna göre, $x + y$ toplamı kaçtır?

- A) 11 B) 13 C) 15 D) 17 E) 19

55. Boyu 160 cm olan bir kişi, tepesinde sokak lambası bulunan 10 metre uzunluğundaki bir direkten kaç metre uzakta durursa gölgesinin uzunluğu boyunun yarısına eşit olur?

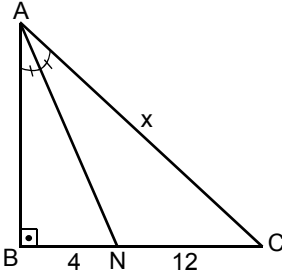
- A) 9,2 B) 8,4 C) 6,4 D) 4,2 E) 3,8

56. Uzun kenarı kısa kenarının $\frac{5}{3}$ katı olan dikdörtgen şeklindeki bir tarlanın etrafına toplam 1200 TL'lik tek sıra tel çekilmiştir.

Telin metresi 2,5 TL olduğuna göre, tarlanın kısa kenarının uzunluğu kaç metredir?

- A) 150 B) 120 C) 100 D) 90 E) 85

57.

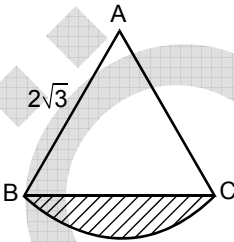


ABC bir dik üçgen
AN açıortay
 $m(\widehat{ABC}) = 90^\circ$
 $|BN| = 4 \text{ cm}$
 $|NC| = 12 \text{ cm}$
 $|AC| = x$

Yukarıdaki verilere göre, x kaç cm'dir?

- A) 18 B) 20 C) $8\sqrt{2}$ D) $10\sqrt{2}$ E) $12\sqrt{2}$

58.



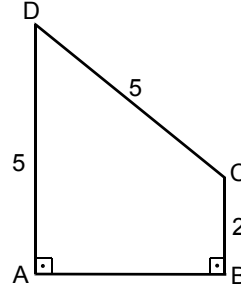
ABC bir eşkenar üçgen
 $|AB| = 2\sqrt{3} \text{ cm}$

Şekilde A merkezli $[AB]$ yarıçaplı daire dilimi verilmiştir.

ABC bir eşkenar üçgen olduğuna göre, taralı bölgenin alanı kaç cm^2 dir?

- A) $\pi - \sqrt{3}$ B) $\pi - 2\sqrt{3}$ C) $2\pi - \sqrt{3}$
D) $2\pi - 2\sqrt{3}$ E) $2\pi - 3\sqrt{3}$

59.



ABCD bir dik yamuk
 $|BC| = 2 \text{ cm}$
 $|AD| = |DC| = 5 \text{ cm}$

Şekilde verilen ABCD yamuğu BC kenarı etrafında 360 derece döndürüldüğünde oluşan cismin hacmi kaç cm^3 tür?

- A) 36π B) 40π C) 48π D) 60π E) 64π

60. Köşelerinin koordinatları $A(4, 0)$, $B(0, 0)$ ve $C(-2, 5)$ olan ABC üçgeninin alanı kaç birim karedir?

- A) 8 B) 10 C) 12 D) 16 E) 20

GENEL YETENEK TESTİ BİTTİ.

GENEL KÜLTÜR TESTİNE GEÇİNİZ.

GENEL KÜLTÜR TESTİ

2010 - JANU

61. Uygurlar Döneminde ticari ilişkilerin gelişmesi sonucu, kişiler arasındaki anlaşmaların yazılı hâle getirilmesi, aşağıdaki alanlardan hangisiyle ilgili yazılı belgelerin hazırlanmasına neden olmuştur?

- A) Hukuk B) Siyaset C) Sanat
D) Edebiyat E) Askerlik

62. Türk devletlerinden Hazar Hakanlığı aşağıdaki dinlerden hangisini benimsemiştir?

- A) Hıristiyanlık B) Musevilik C) Budizm
D) Şamanizm E) Naturizm

63. Anadolu Selçuklularında,

- I. kervansaray,
II. bedesten,
III. imaret

kuruluşlarından hangilerinde fakir halka yemek yardımı yapılırdı?

- A) Yalnız I B) Yalnız II C) Yalnız III
D) I ve II E) II ve III

64. Osmanlı Devleti'nde,

- I. askerlik,
II. ticaret,
III. sanat

alanlarının hangilerinde timarlı sipahiden yararlanılmıştır?

- A) Yalnız I B) Yalnız II C) Yalnız III
D) I ve II E) I, II ve III

65. Aşağıdakilerden hangisi ilmiye sınıfının üyelerinden biri değildir?

- A) Kazasker B) Şeyhülislam C) Kadı
D) Müderris E) Yeniçeri

66. Birinci Dünya Savaşı'nda Rusya'nın savaştan çekilmesiyle,

- I. Doğu Anadolu,
II. Irak,
III. Boğazlar,
IV. Suriye

bölgelerinden hangileri gündeme gelmiştir?

- A) I ve II B) I ve III C) II ve III
D) III ve IV E) I, II ve IV

67. Aşağıdakilerden hangisi, Osmanlı Devleti'nin Birinci Dünya Savaşı'nda aynı safta savaştığı devletlerden biri değildir?

- A) Almanya B) İtalya
C) Bulgaristan D) Avusturya-Macaristan
E) Romanya

68. Kurtuluş Savaşı'nda TBMM temsilcilerinin Londra Konferansı'na çağırılması ve onların Londra'ya götürülmesinde aşağıdaki devletlerden hangisi etkili olmuştur?

- A) Sovyet Rusya B) Fransa
C) ABD D) İtalya
E) İngiltere

Diğer sayfaya geçiniz.

69. Erzurum Kongresi'nin,

- I. Temsilciler Kurulunun oluşturulması,
- II. Mustafa Kemal'in kongre başkanlığına seçilmesi,
- III. vatanın parçalanmaz bir bütün olduğunun belirtilmesi

kararlarından hangileri Misakımillî'de yer almıştır?

- A) Yalnız I B) Yalnız II C) Yalnız III
D) I ve II E) I, II ve III

70.

- I. TBMM'nin kurulması
- II. Erzurum Kongresi
- III. Amasya Genelgesi

Yukarıdakilerden hangileriyle İstanbul Hükûmeti açıkça yok sayılmıştır?

- A) Yalnız I B) Yalnız II C) Yalnız III
D) I ve II E) I, II ve III

71. Kurtuluş Savaşı'nda TBMM Hükûmetinin Sovyet Rusya ile yakınlaşmasında, aşağıdakilerden hangisinin etkisi olduğu savunulamaz?

- A) Cephane ve silah gereksiniminin olması
- B) Boğazların ve Anadolu'nun bir bölümünün Anlaşma Devletlerinin eline geçmesi
- C) Sovyet Rusya ile TBMM Hükûmetinin düşmanlarının aynı olması
- D) Sovyetlerden gelebilecek tehlike ve saldırının önlenmesine gerek görülmesi
- E) Anlaşma Devletlerinin Sovyet Rusya'daki Bolşevik rejiminden tedirgin olması

72. Kurtuluş Savaşı'nda,

- I. Artvin,
- II. Ardahan,
- III. Batum

şehirlerinden hangileri sınırlarımız dışında kalmıştır?

- A) Yalnız I B) Yalnız II C) Yalnız III
D) I ve II E) II ve III

73. Kurtuluş Savaşı sırasında imzalanan Moskova Antlaşması'yla,

- I. Batı Cephesi'nin güney ve batı olarak ikiye ayrılması,
- II. Misakımillî'nin büyük bir devletçe tanınmış olması,
- III. Çarlık Rusya'sıyla Osmanlı Devleti arasındaki antlaşmaların geçersiz kılınması

durumlarından hangileri sağlanmıştır?

- A) Yalnız I B) Yalnız II C) Yalnız III
D) II ve III E) I, II ve III

74. Fransa'nın,

- I. TBMM Hükûmetiyle Ankara Antlaşması'nı yapması,
- II. Sykes-Picot Antlaşması'nı imzalaması,
- III. Paris Barış Konferansı'na katılması

gelişmelerinden hangilerinin Kurtuluş Savaşı'nda Fransa'nın müttefikleriyle görüş ayrılığına düştüğü ve TBMM'yi tanıdığına bir kanıt olduğu savunulabilir?

- A) Yalnız I B) Yalnız II C) Yalnız III
D) I ve II E) I, II ve III

Diğer sayfaya geçiniz.

75.

- I. Kıbrıs'ın İngiltere'ye bırakılması
- II. Doğu Trakya'dan düşman kuvvetlerinin çekilmesi
- III. Karaağaç'ın tazminat karşılığı Türkiye'ye bırakılması

Yukarıdakilerden hangileri, Mudanya Anlaşması'nın koşulları arasındadır?

- A) Yalnız I B) Yalnız II C) Yalnız III
D) I ve II E) I, II ve III

76.

- I. Midilli, Sisam
- II. Sakız, Nikarya
- III. Rodos ve Oniki Ada

Lozan Konferansı'nda, yukarıdaki adalardan hangileri İtalya'ya bırakılmıştır?

- A) Yalnız I B) Yalnız II C) Yalnız III
D) I ve II E) I, II ve III

77. Aşağıdakilerden hangisi Birinci TBMM Dönemi gelişmelerinden biridir?

- A) Serbest Cumhuriyet Partisinin kurulması
- B) Lozan Antlaşması'nın onaylanması
- C) Halifeliğin kaldırılması
- D) Cumhuriyetin ilanı
- E) Saltanatın kaldırılması

78.

- I. Valilerin Türkiye Büyük Millet Meclisi Hükümeti tarafından atanması
- II. Yargı gücünün Mecliste olması
- III. Seçimlerin iki yılda bir yapılması

Yeni Türk Devleti'nin ilk anayasası olan Teşkilatı Esasiye Kanunu'nun yukarıdaki hükümlerinden hangilerinin TBMM'nin gücünü koruma amaçlı olduğu savunulabilir?

- A) Yalnız I B) Yalnız II C) Yalnız III
D) I ve II E) I, II ve III

79.

- I. Çok partili sisteme geçilmesi
- II. Öğretimin Birleştirilmesi Yasası'nın çıkarılması
- III. Medeni Kanun'un kabul edilmesi

Yukarıdakilerden hangilerinin laikliğe geçiş aşamaları arasında olduğu savunulabilir?

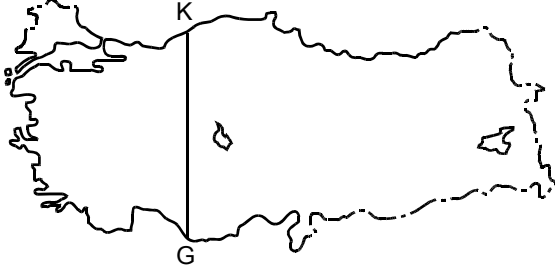
- A) Yalnız I B) Yalnız II C) Yalnız III
D) I ve II E) II ve III

80. Aşağıdakilerden hangisi, 17 Şubat 1926 tarihinde kabul edilen Medeni Kanun'un kapsamında değildir?

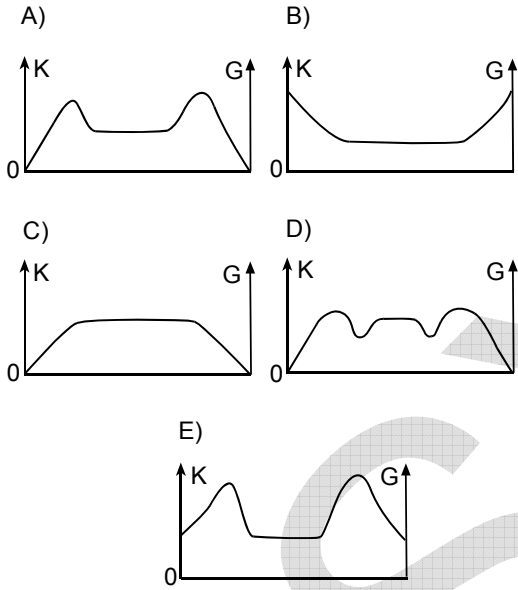
- A) Tek eşli evlilik esasının getirilmesi
- B) Kadınlara muhtar seçme ve seçilme hakkının verilmesi
- C) Aile birliğinin devlet güvencesi altına alınması
- D) Mirasta kız ve erkek çocuklar arasında eşitlik getirilmesi
- E) Kadınlara çalışma hakkı tanınması

Diğer sayfaya geçiniz.

81.



Türkiye'nin yer şekilleri göz önüne alındığında, haritadaki K-G doğrultusunun profili aşağıdakilerden hangisiyle benzerlik gösterir?



82. Türkiye'de,

- temmuz ve ağustos aylarının çok sıcak olması,
- dağların güneye bakan yamaçlarının kuzey yamaçlarından daha sıcak olması,
- kuzeyden esen rüzgârların hava sıcaklığını düşürmesi

aşağıdakilerden hangisinin sonucudur?

- A) Topraklarının iki yarımada üzerinde yer alması
 B) Çeşitli yer şekillerine sahip olması
 C) Ortalama yükseltisinin fazla olması
 D) Kuzey Yarım Küre'nin orta kuşağında yer alması
 E) Üç tarafının denizlerle çevrili olması

83. Türkiye'deki yağış dağılışında,

- I. boylam,
- II. denizellik,
- III. yükselti,
- IV. enlem

etmenlerinden hangileri etkilidir?

- A) Yalnız I B) Yalnız II C) I ve IV
 D) II ve III E) III ve IV

84. Çok geniş bir havzada akan, bazı kolları yağmur sularıyla, bazıları da eriyen kar, buz ve kaynak sularıyla beslenen akarsulara karma rejimli akarsular denir.

Buna göre, aşağıdaki akarsulardan hangisinin karma rejimli olduğu söylenebilir?

- A) Kızılırmak B) Manavgat C) Bakıçay
 D) Filyos E) Dalaman

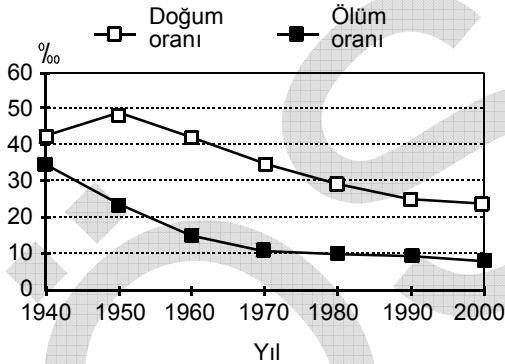
Diğer sayfaya geçiniz.

85. Göç, insanların doğal, ekonomik, toplumsal ya da siyasal nedenlerle yaşadıkları yerleri geçici ya da sürekli olarak değiştirmesidir.

Buna göre, aşağıdakilerden hangisi geçici göçlere örnek gösterilebilir?

- A) Emekli olan Oktay Öğretmenin Kırşehir'den ayrılarak İzmir'e yerleşmesi
 B) Adapazarı'nda yaşayan Cengiz'in ailesinin deprem nedeniyle Ankara'ya yerleşmesi
 C) Topraklarının miras yoluyla bölünmesi sonucu geçim sıkıntısı çeken Serkan'ın ailesiyle birlikte İstanbul'a gitmesi
 D) Heyelanda ev ve iş yerini kaybeden Ecem'in ailesinin yeni bir yaşam kurmak için Trabzon'dan Bursa'ya yerleşmesi
 E) Yaz tatilinde dinlenmek amacıyla Murat'ın ailesiyle birlikte Bodrum'daki evlerine gitmesi

86. Aşağıdaki grafikte 1940-2000 yılları arasında Türkiye'de doğum ve ölüm oranları gösterilmiştir.



Bu grafikteki bilgilere göre aşağıdaki yargılardan hangisi doğrudur?

- A) Doğum oranı sürekli olarak azalmıştır.
 B) Doğum oranının en yüksek olduğu yıl 1960'tır.
 C) Doğal nüfus artışının en düşük olduğu yıl 1940'tır.
 D) Ölüm oranının en yüksek olduğu yıl 1950'dir.
 E) Doğum oranı 1980'den sonra ‰ 20'nin altına düşmüştür.

87. Geçtikleri arazinin coğrafi yapısı göz önüne alındığında, aşağıdaki akarsulardan hangisinin üzerinde yapılan barajlardan sulama alanında daha az yararlanılması beklenir?

- A) Çoruh
 B) Gediz
 C) Kızılırmak
 D) Dicle
 E) Büyük Menderes

88. İncir, kireç oranı yüksek alüvyal topraklarda, yıllık ortalama sıcaklığın yüksek olduğu yerlerde yetiştirilir. Meyve verme döneminde kuraklık ister. Soğuğa ve don olayına karşı çok duyarlıdır.

Coğrafi koşulları göz önüne alındığında, aşağıdaki ovalardan hangisinde yetiştirilecek incirden daha yüksek verim alınması beklenir?

- A) Çarşamba
 B) Silifke
 C) Bursa
 D) Adapazarı
 E) Altınbaşak

Diğer sayfaya geçiniz.

89. İç Anadolu Bölgesi'ndeki en yaygın tarımsal etkinliğin tahıl üretimi olmasında aşağıdakilerden hangisi temel etkindir?

- A) Kapalı havzaların genişliği
- B) Tarım topraklarının verimliliği
- C) Yağışın mevsimlere dağılışı
- D) Akarsu ağının seyrekliği
- E) Bozkır bitki örtüsünün yaygınlığı

90. Türkiye'de bazı ham maddelerden yarı mamul ve mamul madde üretimi sırasında ortaya çıkan atık maddelerden başka ürünler elde edilmektedir.

Buna göre, aşağıdakilerin hangisinde bir ham madde, atıklarından elde edilen bir ürünle birlikte verilmiştir?

Ham madde	Ürün
A) Pamuk	İplik
B) Şeker pancarı	Hayvan yemi
C) Petrol	Benzin
D) Buğday	Un
E) Boksit	Alüminyum

91. Türkiye'de,

- I. heyelan olayı,
- II. kar kalınlığının fazlalığı ve karın yerde kalma süresinin uzunluğu

nedenlerine bağlı olarak kara yolu ulaşımında aksamalar görülen iller aşağıdakilerin hangisinde doğru olarak verilmiştir?

I	II
A) Kırşehir	Erzurum
B) Konya	Sivas
C) Zonguldak	Muğla
D) Trabzon	Kilis
E) Rize	Ardahan

92.

- I. Milattan önce 10. yüzyılda Küçük Menderes Nehri'nin Ege Denizi'ne döküldüğü yerde kurulmuş Ege Bölgesi'ndeki antik kent
- II. Yapımına 1685 yılında başlanan ve 99 yılda tamamlanan Doğu Anadolu Bölgesi'ndeki saray
- III. Göçmen kuşlar için önemli bir yaşam alanı oluşturan gölü ile ünlü Marmara Bölgesi'ndeki millî park

Bu üç turizm merkezinin adları aşağıdakilerin hangisinde doğru olarak verilmiştir?

I	II	III
A) Milet	Gazi Ahmet Paşa	Manyas Gölü
B) Efes	İshak Paşa	Gala Gölü
C) Efes	İshak Paşa	Manyas Gölü
D) Efes	Gazi Ahmet Paşa	Manyas Gölü
E) Milet	İshak Paşa	Gala Gölü

Diğer sayfaya geçiniz.

93. Aşağıdakilerden hangisi hukuk devleti ilkesinin unsurlarından biri değildir?

- A) Yönetimin eylem ve işlemlerinin yargı denetimine tabi olması
- B) Yasaların Anayasa'ya uygunluğunun sağlanması
- C) Cumhurbaşkanının halk tarafından seçilmesi
- D) Suç ve cezaların yasayla düzenlenmesi
- E) Yasa önünde eşitlik ilkesinin benimsenmesi

94. 1982 Anayasası'na göre, seçimlerin genel yönetim ve denetimi aşağıdaki organlardan hangisi tarafından yapılır?

- A) Yargıtay
- B) Anayasa Mahkemesi
- C) Danıştay
- D) Millî Güvenlik Kurulu
- E) Yüksek Seçim Kurulu

95. 1982 Anayasası'na göre, aşağıdakilerden hangisi TBMM'nin yetkileri arasında yer almaz?

- A) Savaş ilanına karar vermek
- B) Para basılmasına karar vermek
- C) Bakanlar Kurulunu denetlemek
- D) Kesin hesap kanun tasarısını karara bağlamak
- E) Gerektiğinde yurdun bütününde veya bir yerinde sıkıyönetim veya olağanüstü hâl ilan etmek

96. 1982 Anayasası'na göre, aşağıdakilerden hangisi TBMM'nin bilgi edinme ve denetim yollarından biri değildir?

- A) Gensoru
- B) Soru
- C) Ferdi sorumluluk
- D) Meclis soruşturması
- E) Genel görüşme

97. 1982 Anayasası'na göre, sıkıyönetim hâlinde sıkıyönetim komutanları aşağıdakilerden hangisine bağlı olarak görev yapar?

- A) Genelkurmay Başkanlığı
- B) Emniyet Genel Müdürlüğü
- C) Millî Savunma Bakanlığı
- D) İçişleri Bakanlığı
- E) Millî Güvenlik Kurulu

98. 1982 Anayasası'nda 2007 yılında yapılan değişikliğe göre Cumhurbaşkanının görev süresi kaç yıldır?

- A) 4
- B) 5
- C) 7
- D) 8
- E) 12

99. 1982 Anayasası'na göre, Başbakanı atamak ve istifasını kabul etmek görevi aşağıdakilerden hangisine aittir?

- A) Yüce Divan
- B) Bakanlar Kurulu
- C) TBMM Başkanı
- D) Cumhurbaşkanı
- E) Yargıtay Başkanı

100. 1982 Anayasası'na göre, Yüce Divan sıfatıyla yapılan yargılamada aşağıdakilerden hangisi başkanlık yapar?

- A) Anayasa Mahkemesi Başkanı
- B) Yargıtay Başkanı
- C) TBMM Başkanı
- D) Sayıştay Başkanı
- E) Cumhurbaşkanı

TEST BİTTİ.

CEVAPLARINIZI KONTROL EDİNİZ.

SINAVDA UYULACAK KURALLAR

1. Cep telefonu ile sınava girmek kesinlikle yasaktır. Çağrı cihazı, telsiz vb. haberleşme araçları ile cep bilgisayarını, saat fonksiyonu dışında fonksiyonu olan saat vb. her türlü bilgisayar özelliği bulunan cihazlarla; silah ve benzeri teçhizatla; müsvedde kâğıdı, defter, kitap, sözlük, sözlük işlevi olan elektronik aygıt, hesap cetveli, hesap makinesi, pergel, açılçer, cetvel vb. araçlarla da girmek yasaktır. Bu araçlarla sınava girmiş adayların kimlikleri mutlaka Salon Sınav Tutanağına yazılacak, bu adayların sınavları geçersiz sayılacaktır.
2. Bu sınavda verilen toplam cevaplama süresi **120 dakikadır (2 saat)**. Sınavın **ilk 60 ve son 15** dakikası içinde hiçbir aday dışarı çıkarılmayacaktır. Cevaplamayı süre bitmeden tamamlarsanız, cevap kâğıdınızı ve soru kitapçığınızı salon görevlilerine teslim ederek salonu terk edebilirsiniz. Sınav süresinin bittiği ilan edilip cevap kâğıtları ve soru kitapçıkları salon görevlileri tarafından toplanıncaya kadar yerlerinizde kalınız.
3. Sınav evrakını teslim ederek salonu terk eden aday, her ne sebeple olursa olsun tekrar sınava alınmayacaktır.
4. Sınav süresince görevlilerle konuşmak ve soru sormak yasaktır. Aynı şekilde görevlilerin de adaylarla yakından ve alçak sesle konuşmaları; ayrıca, adayların birbirinden kalem, silgi vb. şeyleri istemeleri kesinlikle yasaktır.
5. Sınav sırasında kopya çeken, çekmeye girişen, kopya veren, kopya çekilmesine yardım edenlerin kimlikleri, Salon Sınav Tutanağına yazılacak ve bu adayların sınavları geçersiz sayılacaktır. Görevliler kopya çekmeye veya vermeye kalkışanları uyarmak zorunda değildir, sorumluluk size aittir.

Adayların test sorularına verdikleri cevapların dağılımları bilgi işlem yöntemleriyle incelenecek; bu incelemelerden elde edilen bulgular bireysel veya toplu olarak kopya girişiminde bulunduğu gösterirse, kopya eylemine katılan adayların cevaplarının bir kısmı veya tamamı geçersiz sayılacaktır. Cevap kâğıdınızı başkaları tarafından görülmeyecek şekilde tutmanız gerekmektedir. Bu durum sizin için son derece önemlidir.

ÖSYM Temsilcisi bir salondaki sınavın, kurallara uygun biçimde yapılmadığını, toplu kopya girişiminde bulunduğu raporunda bildirdiği takdirde, ÖSYM takdir hakkını kullanarak bu salonda sınava giren adayların tümünün sınavını geçersiz sayabilir.
6. Adaylar, görevlilerin her türlü uyarılarına uymak zorundadır. Görevliler, gerektiğinde oturduğunuz yerleri de değiştirebilir. Sınavınızın geçerli sayılması, her şeyden önce sınav kurallarına uymanıza bağlıdır.

Kurallara aykırı davranışta bulunanların ve yapılacak uyarılara uymayanların kimlikleri tutanağa yazılacak ve sınavları geçersiz sayılacaktır.
7. Cevap kâğıdında doldurmanız gereken alanlar bulunmaktadır. Bu alanları eksiksiz doldurunuz. Cevap kâğıdına yazılacak her türlü yazıda ve yapılacak bütün işaretlemelerde kurşun kalem kullanılacaktır. Tükenmez kalem ve dolma kalem kesinlikle kullanılmayacaktır.
8. Cevapların cevap kâğıdına işaretlenmiş olması gerekir. Soru kitapçığına işaretlenen cevaplar geçerli değildir.
9. Soru kitapçığınızı alır almaz, sayfaların eksik olup olmadığını, kitapçıkta basım hatalarının bulunup bulunmadığını kontrol ediniz. Soru kitapçığının sayfası eksik veya basımı hatalı ise değiştirilmesi için derhâl Salon Başkanına başvurunuz.

Soru kitapçığında her sayfada basılı bulunan soru kitapçığı türünün, kitapçığın ön kapağında basılı soru kitapçığı türüyle aynı olup olmadığını kontrol ediniz. Farklı olması durumunda Salon Başkanından yeni bir soru kitapçığı isteyiniz. Soru kitapçığının türünün değişik olduğunu daha sonra fark ederseniz, size o zamana kadar cevaplama yaptığınız türden, hatasız bir soru kitapçığı verilmesi için Salon Başkanına başvurunuz.

Cevap kâğıdınızda, size verilen soru kitapçığının türünü "Soru Kitapçığı Türü" alanında ilgili yuvarlağı doldurarak belirtiniz. Cevap kâğıdınızda işaretlediğiniz Soru Kitapçığı Türü salon görevlileri tarafından sınav öncesi kontrol edilerek paraflanacaktır. Sizin işaretlediğiniz ve salon görevlilerinin parafladıkları kitapçık türü arasında fark olması hâlinde salon görevlilerinin parafladıkları kitapçık türü dikkate alınacaktır.
10. Cevaplamaya geçmeden önce size verilecek soru kitapçığı üzerinde ayrılan yere adınızı, soyadınızı, T.C. Kimlik Numaranızı ve bu salonun salon numarasını yazınız. Sınav sonunda soru kitapçıkları toplanacak ve ÖSYM'de tek tek incelenecektir. Soru kitapçığının bir tek sayfası bile eksik çıkarsa sınavınız geçersiz sayılacaktır.
11. Soru kitapçığının sayfalarındaki boş yerleri müsvedde için kullanabilirsiniz.
12. Soruları ve bu sorulara verdiğiniz cevapları ayrı bir kâğıda yazıp bu kâğıdı dışarı çıkarmanız kesinlikle yasaktır.
13. Sınav salonundan ayrılmadan önce, soru kitapçığınızı, cevap kâğıdınızı ve Sınava Giriş ve Kimlik Belgenizi salon görevlilerine teslim etmeyi unutmayınız.
14. Sınav sonuçları 30 gün içinde Jandarma Okullar Komutanlığına gönderilecek, ayrıca adresinize de postalanacaktır.

JANDARMA OKULLAR KOMUTANLIĞI UZMAN JANDARMA OKULU
GİRİŞ SINAVI

25 NİSAN 2010

A KİTAPÇIĞI

- | | | | |
|-------|-------|-------|--------|
| 1. A | 26. E | 51. E | 76. C |
| 2. B | 27. C | 52. B | 77. E |
| 3. C | 28. D | 53. A | 78. D |
| 4. E | 29. A | 54. A | 79. E |
| 5. D | 30. B | 55. D | 80. B |
| 6. A | 31. A | 56. D | 81. A |
| 7. B | 32. C | 57. E | 82. D |
| 8. D | 33. B | 58. E | 83. D |
| 9. E | 34. C | 59. E | 84. A |
| 10. C | 35. E | 60. B | 85. E |
| 11. E | 36. D | 61. A | 86. C |
| 12. D | 37. A | 62. B | 87. A |
| 13. C | 38. A | 63. C | 88. B |
| 14. D | 39. C | 64. A | 89. C |
| 15. E | 40. E | 65. E | 90. B |
| 16. C | 41. C | 66. B | 91. E |
| 17. D | 42. B | 67. E | 92. C |
| 18. B | 43. C | 68. D | 93. C |
| 19. B | 44. B | 69. C | 94. E |
| 20. A | 45. A | 70. A | 95. E |
| 21. B | 46. D | 71. D | 96. C |
| 22. C | 47. D | 72. C | 97. A |
| 23. E | 48. C | 73. D | 98. B |
| 24. D | 49. D | 74. A | 99. D |
| 25. A | 50. A | 75. B | 100. A |