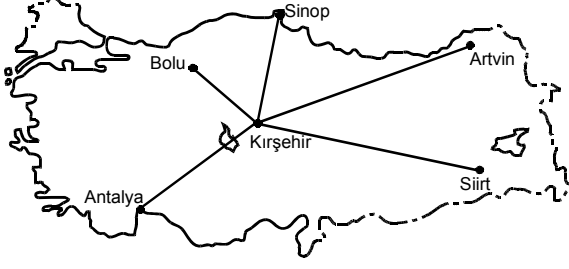


31.



21 haziranda, haritada gösterilen kentlerin hangisinde, Kırşehir'e göre hem gündüz süresi daha kısadır hem de güneş daha erken doğar?

- A) Bolu B) Sinop C) Artvin
D) Siirt E) Antalya

32. Devlet Meteoroloji İşleri Genel Müdürlüğünden "İstanbul'da yarın kuvvetli kara yel ve şiddetli kar yağışı beklenmektedir." uyarısı yapılmıştır.

Bu uyarının,

- I. İstanbul'da kuzey sektörlü rüzgârların egemen olması,
- II. kış mevsiminin yaşanması,
- III. kuzeybatı yönünden gelen bir hava kütlesi olması

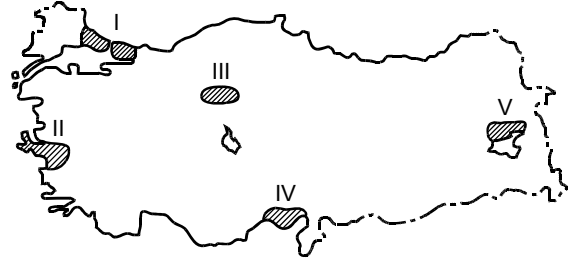
verilerinden hangilerine dayanarak yapılmış olması beklenir?

- A) Yalnız I B) Yalnız II C) I ve II
D) I ve III E) II ve III

33. Türkiye'nin aşağıdaki özelliklerinden hangisi, yükseltinin fazla olmasının sonucu **değildir**?

- A) Bitki türleri bakımından zengin olması
- B) Kara yolu ve demir yolu yapım maliyetinin yüksek olması
- C) Sıra dağların genelde doğu batı yönünde uzanması
- D) Nüfus dağılışının düzensiz olması
- E) Yaylacılığın önemli bir etkinlik olması

34.



Yukarıdaki haritada gösterilen alanların hangisinde, nüfus artışının temel nedeni doğurganlığın yüksek olmasıdır?

- A) I B) II C) III D) IV E) V

Diğer sayfaya geçiniz.

35. Çalışma çağında (15-64 yaş arası) olan ve bir işte çalışan nüfusa aktif nüfus denir. Türkiye’de 1955 yılında nüfusun % 82’si aktifken bu oran 2005 yılında % 45’e düşmüştür.

Türkiye’de, kalkınma hızının ve kişi başına düşen ulusal gelirin artmasına karşın aktif nüfusun azalmasında aşağıdakilerden hangisinin etkisi olduğu savunulamaz?

- A) Kadınların çalışma hayatında daha fazla yer alması
 B) Nüfusun bir kısmının çalışmak üzere yurt dışına göç etmesi
 C) 15-25 arası yaş grubundaki öğrenci sayısının artması
 D) İş olanaklarındaki artışın nüfus artışından az olması
 E) Makineli tarıma geçilmesiyle tarımda çalışan kişi sayısının azalması

36. Benzer topoğrafik ve iklimik özelliklere sahip olmasına karşın İstanbul ilinin nüfus yoğunluğu Çanakkale ilinin 50 katıdır.

Bu yoğunluk farkının oluşmasında aşağıdakilerden hangisinin etkisi diğerlerinden daha fazladır?

- A) İstanbul’un kapladığı alanın daha küçük olması
 B) İstanbul’da ticaret ve endüstrinin çok gelişmiş olması
 C) Çanakkale Boğazı’nın batı yakasını oluşturan Gelibolu Yarımadası’nın millî park olması
 D) İstanbul’da kültür ve sanat etkinliklerinin daha fazla olması
 E) Çanakkale’de tarım alanlarının geniş yer tutması

37.

- Turizm geliri en yüksektir.
- Endüstri kolu çeşitliliği en fazladır.
- Enerji tüketimi en fazladır.
- Okullaşma oranı en yüksektir.

Bu özelliklerin tümüne sahip olan bölge aşağıdakilerden hangisidir?

- A) Akdeniz
 B) Karadeniz
 C) Marmara
 D) İç Anadolu
 E) Ege

38. **Aşağıdakilerden hangisi Orta Karadeniz ve İç Batı Anadolu bölümlerinin ortak özelliği değildir?**

- A) Termal kaynakların yaygın olması
 B) Fındık, mısır ve tütün üretiminin fazla olması
 C) Linyit rezervlerinin zengin olması
 D) Büyükbaş hayvancılığın yaygın olması
 E) Kara yolu ulaşımında önemli kavşak noktalarına sahip olması

Diğer sayfaya geçiniz.

39. Türkiye'nin orta kuşakta bulunması, aşağıdaki ekonomik özelliklerinden hangisini etkilemiştir?

- A) Tarihi eserlerin ve doğal güzelliklerin olması
- B) Kişi başına düşen ulusal gelirin büyük kentlerde daha yüksek olması
- C) İşletilen ve işletmeye açılacak çeşitli madenlerin olması
- D) Çeşitli tarım ürünlerinin yetiştirilmesi
- E) Kara yolu ve deniz yolu transit taşımacılığının gelişmiş olması

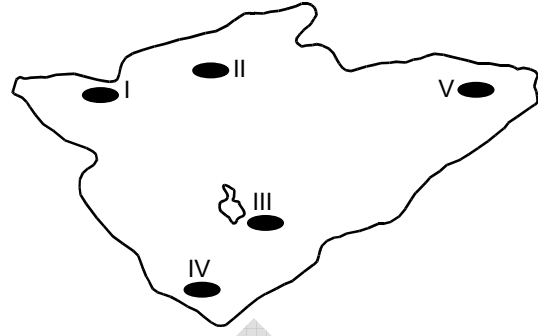
40. Türkiye'de bir yıla ait buğday ve arpa üretim miktarları ile ekim alanlarının illere göre dağılımını gösteren bir grafikten yararlanılarak aşağıdakilerden hangisine ulaşamaz?

- A) Buğdaydan en yüksek verimin hangi ilden alındığına
- B) Türkiye'nin yıllık toplam arpa üretimine
- C) Buğday üretimi için hangi illerin daha uygun iklim koşullarına sahip olduğuna
- D) Buğday ve arpanın hangisinden daha yüksek verim alındığına
- E) Arpa üretim miktarının en fazla olduğu ile

41. Son yıllarda, Türkiye'de, tarımdaki gelişmelere bağlı olarak aşağıdakilerin hangisinde azalma olduğu söylenebilir?

- A) Tarımsal etkinliklerin iklime bağımlılığında
- B) Tarımsal ürünleri pazarlama olanaklarında
- C) Tarımsal ürünlerin tüketiminde
- D) Tarıma dayalı endüstri kuruluşlarının sayısında
- E) Tarımdan elde edilen gelirden

42.



Yukarıdaki İç Anadolu Bölgesi haritasında numaralarla gösterilen alanların hangisinde, çoraklaşma nedeniyle tarımda yüksek verim almak daha zordur?

- A) I
- B) II
- C) III
- D) IV
- E) V

43. Türkiye'de zeytinliklerin çıkabildiği yükselti sınırı kuzeye bakan yamaçlarda genelde 200-250 metreyken güneye bakan yamaçlarda 500-600 metredir.

Bu duruma neden olan etmen aşağıdakilerden hangisidir?

- A) Bakı durumu
- B) Bağıl nem oranı
- C) Gündüz süresi
- D) Toprak türü
- E) Su kaynakları

Diğer sayfaya geçiniz.

44. Aşağıdakilerden hangisi, Türkiye’de tarımsal etkinliklerle ilgili doğru bir bilgidir?

- A) Üretimi fazla olduğundan tahıl ürünlerinin çoğu dış ülkelere satılır.
- B) Sulama olanaklarının artmasıyla birlikte pamuk üretiminde Güneydoğu Anadolu Bölgesi’nin payı artmıştır.
- C) İklim koşulları nedeniyle şeker pancarı yalnızca iç bölgelerde yetiştirilir.
- D) Tarımda makineleşmenin en yaygın olduğu alan Karadeniz Bölgesi’dir.
- E) İklimi uygun olduğu için incir üretiminde Akdeniz Bölgesi ilk sıradadır.

45. İskenderun’un, bir liman kenti olarak Sinop ve Trabzon’a göre daha fazla gelişmesindeki temel neden aşağıdakilerden hangisidir?

- A) Korunaklı liman olması
- B) Eski bir yerleşim yeri olması
- C) Gelişmiş ulaşım ağının olması
- D) Ağır endüstri kuruluşlarının bulunması
- E) Verimli tarım alanlarının bulunması

46. Bir yerde endüstrinin gelişebilmesi, ham maddenin varlığı, enerji kaynaklarına yakınlık, iş gücü temininin kolaylığı, ulaşımın kolaylığı, üretim araçları ve ham maddenin getirilmesinin kolaylığı gibi etmenlere bağlıdır.

Buna göre, aşağıdakilerin hangisinde verilen yerdeki endüstri kolu diğerlerinden farklı bir etmene bağlı olarak gelişmiştir?

- A) Adana ve çevresinde dokuma endüstrisi
- B) Edremit-Ayvalık ve çevresinde sıvı yağ endüstrisi
- C) Çanakkale’de konserve balık endüstrisi
- D) Seydişehir’de alüminyum endüstrisi
- E) Bursa ve çevresinde otomotiv endüstrisi

47. Aşağıdakilerden hangisi, son yıllarda Türkiye’ye gelen yabancı turist sayısının artmasında etkili olmamıştır?

- A) Birinci sınıf turistik tesislerin yaygınlaşması
- B) Metropol kentlerde uluslararası kongre ve fuarların düzenlenmesi
- C) Turistik bölgelerdeki nüfusun iç göçlerle artması
- D) Formula 1 gibi tekrarlanan büyük spor organizasyonlarının yapılması
- E) Yamaç paraşütü, rafting, kano gibi etkinliklerin yaygınlaşması

48. Aşağıdakilerden hangisi, Türkiye’de ekolojik dengeyi bozan etkenlerden biri değildir?

- A) Tarımda göl sularının aşırı kullanılması
- B) Birçok hayvan türünün bilinçsiz avlanması
- C) Kentlerin hızlı ve plansız büyümesi
- D) Yer altı sularının kontrolsüz bir şekilde çekilmesi
- E) Akarsu ağzlarındaki deltaların genişlemesi

Diğer sayfaya geçiniz.

KAMU PERSONEL SEÇME SINAVI

LİSANS

10 TEMMUZ 2010

GENEL KÜLTÜR TESTİ

A KİTAPÇIĞI

- | | | |
|-------|-------|-------|
| 1. E | 21. D | 41. A |
| 2. A | 22. B | 42. C |
| 3. B | 23. D | 43. A |
| 4. D | 24. E | 44. B |
| 5. E | 25. D | 45. D |
| 6. A | 26. A | 46. E |
| 7. C | 27. D | 47. C |
| 8. A | 28. B | 48. E |
| 9. E | 29. E | 49. B |
| 10. C | 30. C | 50. A |
| 11. D | 31. D | 51. A |
| 12. B | 32. E | 52. B |
| 13. E | 33. C | 53. D |
| 14. B | 34. E | 54. E |
| 15. C | 35. A | 55. C |
| 16. A | 36. B | 56. C |
| 17. C | 37. C | 57. D |
| 18. D | 38. B | 58. A |
| 19. A | 39. D | 59. E |
| 20. C | 40. C | 60. B |