

GENEL KÜLTÜR TESTİ

2010 – KPSS / GYGK-CS

1. Aşağıdakilerden hangisi, Türklerin İslam toplumuna katılmasından sonra uyguladıkları arasında **değildir**?

- A) Ahilik teşkilatı
B) Kümbet mimarisi
C) Arap alfabesi
D) Vakıf sistemi
E) Veraset sistemi

2. Türk Devletlerinde,

- I. taht kavgalarının ortaya çıkması,
II. toprakların, gelirlerine göre bölümlere ayrılması,
III. çeşitli dinlere inanılması

durumlarından hangileri “ülkenin hükümdar ailesinin ortak malı olması” **töresinin sonuçları arasındadır**?

- A) Yalnız I
B) Yalnız II
C) Yalnız III
D) I ve III
E) I, II ve III

3. Türk-İslam mimarisinin temelleri aşağıdaki devletlerden hangisinin zamanında atılmıştır?

- A) Memlükler
B) Karahanlılar
C) Eyyûbiler
D) Gazneliler
E) Selçuklular

4. Osmanlı İmparatorluğu 17. yüzyılda gerileme dönemine girmiş, bu gerileme başlangıçtaki duraklamadan sonra yıllar geçtikçe hızlanmıştır.

Bu hızlanmayla birlikte Osmanlı İmparatorluğu'nda,

- I. sınırlar,
II. nüfus,
III. teokratik yapı

konularından hangilerinde değişme olmuştur?

- A) Yalnız I
B) Yalnız II
C) Yalnız III
D) I ve II
E) I, II ve III

5. Osmanlı Devleti'nde resmî tarih yazarlarına verilen ad aşağıdakilerden hangisidir?

- A) Mültezim
B) Müteveli
C) Nişancı
D) Reisülküttap
E) Vakanüvis

Diğer sayfaya geçiniz.

6. Osmanlılar zamanında Kitab-ı Bahriye adlı eseriyle ve haritacılık çalışmalarıyla ünlü bilim adamı aşağıdakilerden hangisidir?

- A) Piri Reis
B) Ali Kuşçu
C) Seydi Ali Reis
D) Matrakçı Nasuh
E) Sabuncuoğlu Şerafeddin

7. Rusya, Tanzimat Fermanı ve Islahat Fermanı'nda cinsiyet ve din farkı gözetilmeksizin, kanunlar önünde eşit bir Osmanlı tebaası meydana getirmesi için konmuş olan ilkeleri yeterli bulmamış; cemaatlerin, mevcut imtiyazları göz önünde tutularak milliyet esaslarına göre teşkilatlandırılmasını istemiştir.

Rusya'nın bu tutumuyla, Osmanlı Devleti'nin,

- I. toprak bütünlüğünü korumak,
II. rejimini değiştirmeye çalışmak,
III. bünyesindeki etnik unsurlardan yararlanmak

amaçlarından hangilerini gözettiği savunulabilir?

- A) Yalnız I
B) Yalnız II
C) Yalnız III
D) I ve II
E) I, II ve III

8. XIX. yüzyılın ortalarından itibaren Sanayi İnkılabı, Osmanlı Devleti'nde esnaf teşkilatını etkilemiş ve esnaf üretimindeki önemi azalmıştır.

Aşağıdakilerden hangisinin bu durumla ilgili gelişmelerden biri olduğu savunulamaz?

- A) İthalatın azalması
B) İşsizliğin artması
C) Paranın değerinin düşmesi
D) Yerli malın iç pazarda sürümünün azalması
E) Üretimde kullanılan ham maddenin dışarıya çıkması

9. Aşağıdakilerden hangisi, Birinci Meşrutiyet Döneminin özelliklerinden biri değildir?

- A) Mebusan Meclisi üyelerinin dört yılda bir seçilmesi
B) Âyan Meclisi üyelerinin padişah tarafından belirlenmesi
C) Mebusan Meclisinin padişahın izniyle kanun teklifi hazırlaması
D) Mebusan Meclisi üyelerinin halk tarafından seçilmiş olması
E) Birden fazla siyasi parti (fırka) kurulması

Diğer sayfaya geçiniz.

10. Aşağıdakilerden hangisi Misakımillî’de yer alan konulardan biridir?

- A) Batı cephesinin açılması
- B) Düzenli ordunun kurulması gereği
- C) Batı Trakya’nın geleceğinin halkoyuyla belirlenmesi
- D) Temsilciler Kurulunun seçilmesi
- E) Anadolu ve Trakya’daki Müdafai Hukuk Cemiyetlerinin birleştirilmesi

11. Aşağıdakilerden hangisi, Erzurum ve Sivas Kongresi’nin ortak kararlarından biri değildir?

- A) Mustafa Kemal’in kongre başkanlığına getirilmesi
- B) Millî kuvvetlerin etken, millî iradenin hâkim kılınması
- C) Vatanın parçalanmaz bir bütün olduğunun dile getirilmesi
- D) Temsilciler Kurulunun doğu illerinin tamamını temsil ettiğinin kabul edilmesi
- E) Azınlıklara, siyasi egemenliği ve sosyal dengeyi bozacak imtiyazlar verilmesine karşı çıkılması

12. Moskova Antlaşması’nda yer alan “İki taraftan birinin tanımadığı uluslararası hiçbir antlaşmayı, diğeri de tanımayacaktır.” maddesiyle aşağıdaki antlaşmalardan hangisinin kastedildiği savunulabilir?

- A) Ankara
- B) Sevr
- C) Kars
- D) Gümrü
- E) Brest-Litowsk

13.

- I. Anadolu Ajansı
- II. İradeimilliyе gazetesi
- III. Hâkimiyetimilliyе gazetesi
- IV. Peyamısabah gazetesi

Yukarıdakilerden hangileri, Kurtuluş Savaşı’nda millî birliği tehlikeye düşürecek iç ve dış yayınlara karşı milleti uyarma görevini yapmıştır?

- A) Yalnız I
- B) Yalnız II
- C) Yalnız IV
- D) III ve IV
- E) I, II ve III

Diğеr sayfaya geçiniz.

14. **Mustafa Kemal**, "Hattı müdafaa yoktur; sathı müdafaa vardır. O sathı bütün vatandır. Vatanın her karış toprağı, vatandaşın kanıyla ıslanmadıkça terk olunmaz." emriyle aşağıdaki savaşlardan hangisinin kaderini belirlemiştir?

- A) I. İnönü
B) Sakarya
C) II. İnönü
D) Eskişehir ve Kütahya
E) Başkomutanlık

15.

- Mondros Ateşkes Anlaşması'nın geçersiz kılması,
- Doğu Trakya topraklarının savaşız alınması,
- Kurtuluş Savaşı'nın askerî bölümünün sona ermesi

gelişmeleri aşağıdakilerden hangisinin kazanımları arasındadır?

- A) Gümrü Antlaşması
B) Kars Antlaşması
C) Mudanya Antlaşması
D) Moskova Antlaşması
E) Ankara Antlaşması

16.

- I. Menemen olayı
II. Atatürk'e suikast girişimi
III. İslam Teali Cemiyetinin kurulması
IV. Anzavur Ayaklanması

Ulus egemenliğine dayalı rejime karşı bir tepki niteliğinde olan yukarıdaki gelişmelerden hangileri, cumhuriyetin ilanından sonra gerçekleşmiştir?

- A) I ve II
B) I ve IV
C) II ve III
D) III ve IV
E) I, II ve III

17. Atatürkçü düşüncede, vicdan özgürlüğü bir haktır.

Bu yargının, bireyin,

- I. kendine özgü siyasal ve felsefi bir düşünceye sahip olduğunu açıklayabilmesi,
II. bağlı olduğu dinin gereklerini yerine getirmesi ya da getirmemesi,
III. kendi etnik kökenini diğer etnik kökenlerden üstün gördüğünü açıklayabilmesi

görüplerinden hangilerini desteklediği savunulabilir?

- A) Yalnız I
B) Yalnız II
C) I ve II
D) II ve III
E) I, II ve III

Diğer sayfaya geçiniz.

18. **Türk Devriminin** “Cumhuriyetçilik ilkesi saltanat ve hilafete karşıdır.” **yargısının,**

- I. egemenliğin millete ait olması,
- II. yönetimin din kurallarına dayandırılmaması,
- III. azınlık okullarının öğretime devam etmesine izin verilmesi

durumlarından hangileriyle ilgili olduğu savunulabilir?

- A) Yalnız I B) Yalnız II C) Yalnız III
D) I ve II E) II ve III

19. 1961 Anayasası’nda Türk milletini, bütün fertleriyle kaderde, kıvançta ve tasada ortak kılmak, bölünmez bir bütün hâlinde millî bilinç ve ülkü etrafında toplamak biçiminde ifade edilen ilke, aşağıdakilerden hangisidir?

- A) Milliyetçilik B) Halkçılık C) Laiklik
D) Devletçilik E) Cumhuriyetçilik

20. **Yeni Türk Devleti’nin,**

- I. bağımsızlık,
- II. barışseverlik,
- III. devletçilik

ilkelerinden hangilerini uluslararası ilişkilerde temel aldığı savunulabilir?

- A) Yalnız I B) Yalnız II C) I ve II
D) II ve III E) I, II ve III

21. 1929-1930 yılları arasında dünyada ekonomik bunalım baş göstermiş, bu durum Türk Devleti’nin ekonomisine yeni bir yön vermesini gerektirmiştir.

Bu gereksinim,

- I. devletçilik ilkesinin uygulanması,
- II. ilk beş yıllık sanayi planının hazırlanması,
- III. Teşvik-i Sanayi Kanunu’nun çıkarılması

gelişmelerinden hangilerini sağlamıştır?

- A) Yalnız I B) Yalnız II C) Yalnız III
D) I ve II E) II ve III

22. **Yeni Türk Devleti’nde aşağıdakilerden hangisiyle yaşanan sorunun, egemenlik anlayışından kaynaklandığı savunulamaz?**

- A) Yabancı okullar B) Osmanlı borçları
C) Kabotaj hakkı D) Boğazlar
E) Kapitülasyonlar

Diğer sayfaya geçiniz.

23.

- I. Türk Tarih Kurumunun kurulması
- II. Türk Dil Kurumunun açılması
- III. Şapka giyilmesi hakkında kanun çıkarılması

Yukarıdaki gelişmelerden hangilerinin, Atatürk milliyetçiliğinin gelişmesinde ve hızlanmasında etkili olduğu savunulabilir?

- A) Yalnız I
- B) Yalnız II
- C) Yalnız III
- D) I ve II
- E) I, II ve III

24. Atatürk: "Şimdiye kadar izlenen eğitim ve öğretim yöntemlerinin ulusumuzun geri kalmasında en önemli etken olduğu kanısındayım. Onun için bir ulusal eğitim programından söz ederken eski dönemin boş inanlarından ve doğuştan getirdiğimiz niteliklerimizle hiçbir ilişkisi olmayan yabancı düşüncelerden, Doğu'dan ve Batı'dan gelebilen tüm etkilerden uzak, ulusal kimliğimiz ve tarihimizle uyuşan bir kültürü kastediyorum." demiştir.

Atatürk'ün bu sözleriyle aşağıdakilerden hangisine vurgu yaptığı savunulamaz?

- A) Ulusal değerleri korumaya
- B) Eğitim ve öğretimde çağdaşlaşmaya
- C) Ulusal değerlere uygun eğitim modeli seçmeye
- D) Toplumsal yapımızın ihtiyaçlarını karşılamaya
- E) Geçmişteki eğitim sistemini devam ettirmeye

25.

- I. Seçmen yaşının 18'den 22'ye çıkarılması
- II. Kadınlara seçme ve seçilme hakkının verilmesi
- III. Tek dereceli seçim sistemine geçilmesi

Yukarıdakilerden hangileri Atatürk döneminde yapılan değişiklikler arasındadır?

- A) Yalnız I
- B) Yalnız II
- C) Yalnız III
- D) I ve II
- E) I, II ve III

26.

- I. Nüfus mübadelesi
- II. Kardak kayalıkları
- III. Kara sularının 6 milden 12 mile çıkarılması

Türkiye ile Yunanistan arasında yukarıdaki konulardan hangileriyle ilgili olarak yaşanan sorun Atatürk zamanındadır?

- A) Yalnız I
- B) Yalnız III
- C) I ve II
- D) II ve III
- E) I, II ve III

Diğer sayfaya geçiniz.

27. Bulgaristan, Balkan ülkesi olmasına rağmen Balkan Antantı'na girmemiştir.

Bulgaristan'ın, Balkan Antantı'na girmemesinde,

- I. Romanya'dan Dobruca'yı almak istemesi,
- II. Ege Denizi'ne inmeyi amaçlaması,
- III. yeni bir savaşın Balkanlara sıçramasından endişe duyması

durumlarından hangilerinin etkili olduğu savunulabilir?

- A) Yalnız I B) Yalnız II C) Yalnız III
D) I ve II E) I, II ve III

28.

- I. Köylüden ağır vergilerin kaldırılması
- II. Köylünün üretim becerilerinin artırılması
- III. Köylünün bilgi ve görüşünü artıracak önlemlerin alınması
- IV. Toprağı olmayan köylülere toprak verilmesi

Köycülük siyasetinin yukarıdaki esaslarından hangilerinin, köylerde açılan köy enstitülerinin amaçları arasında olduğu savunulabilir?

- A) I ve II B) II ve III C) III ve IV
D) I, II ve III E) II, III ve IV

29. Aşağıdakilerden hangisi Atatürk döneminde yaşanan dış olaylardan biri değildir?

- A) Türk-Amerikan ilişkilerinin gelişmesi
- B) Mısır'ın İngiliz yönetimine geçmiş olduğunun kabul edilmesi
- C) Türkiye'nin Milletler Cemiyetine üye olması
- D) Boğazların Türk egemenliğine girmesi
- E) Türkiye'nin Kore Savaşı'na asker göndermesi

30. Türkiye'de demokrasinin yerleşmesi amacıyla,

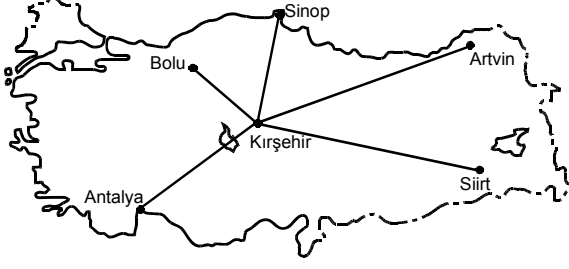
- I. Atatürk ilkelerinin Anayasa'ya girmesi,
- II. Demokrat Partinin kurulması,
- III. Terakkiperver Cumhuriyet Fırkasının kurulması

gelişmelerinden hangileri Atatürk döneminde sağlanmıştır?

- A) Yalnız I B) Yalnız II C) I ve III
D) II ve III E) I, II ve III

Diğer sayfaya geçiniz.

31.



21 haziranda, haritada gösterilen kentlerin hangisinde, Kırşehir'e göre hem gündüz süresi daha kısadır hem de güneş daha erken doğar?

- A) Bolu B) Sinop C) Artvin
D) Siirt E) Antalya

32. Devlet Meteoroloji İşleri Genel Müdürlüğünden "İstanbul'da yarın kuvvetli kara yel ve şiddetli kar yağışı beklenmektedir." uyarısı yapılmıştır.

Bu uyarının,

- I. İstanbul'da kuzey sektörlü rüzgârların egemen olması,
- II. kış mevsiminin yaşanması,
- III. kuzeybatı yönünden gelen bir hava kütlesi olması

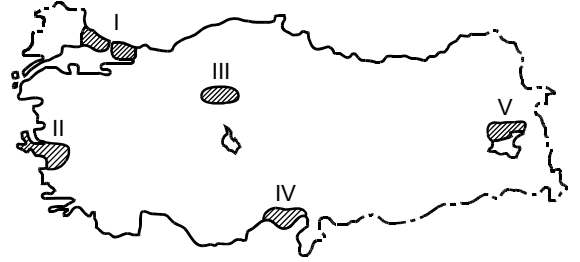
verilerinden hangilerine dayanarak yapılmış olması beklenir?

- A) Yalnız I B) Yalnız II C) I ve II
D) I ve III E) II ve III

33. Türkiye'nin aşağıdaki özelliklerinden hangisi, yükseltinin fazla olmasının sonucu **değildir**?

- A) Bitki türleri bakımından zengin olması
- B) Kara yolu ve demir yolu yapım maliyetinin yüksek olması
- C) Sıra dağların genelde doğu batı yönünde uzanması
- D) Nüfus dağılışının düzensiz olması
- E) Yaylacılığın önemli bir etkinlik olması

34.



Yukarıdaki haritada gösterilen alanların hangisinde, nüfus artışının temel nedeni doğurganlığın yüksek olmasıdır?

- A) I B) II C) III D) IV E) V

Diğer sayfaya geçiniz.

35. Çalışma çağında (15-64 yaş arası) olan ve bir işte çalışan nüfusa aktif nüfus denir. Türkiye’de 1955 yılında nüfusun % 82’si aktifken bu oran 2005 yılında % 45’e düşmüştür.

Türkiye’de, kalkınma hızının ve kişi başına düşen ulusal gelirin artmasına karşın aktif nüfusun azalmasında aşağıdakilerden hangisinin etkisi olduğu savunulamaz?

- A) Kadınların çalışma hayatında daha fazla yer alması
 B) Nüfusun bir kısmının çalışmak üzere yurt dışına göç etmesi
 C) 15-25 arası yaş grubundaki öğrenci sayısının artması
 D) İş olanaklarındaki artışın nüfus artışından az olması
 E) Makineli tarıma geçilmesiyle tarımda çalışan kişi sayısının azalması

36. Benzer topoğrafik ve iklimik özelliklere sahip olmasına karşın İstanbul ilinin nüfus yoğunluğu Çanakkale ilinin 50 katıdır.

Bu yoğunluk farkının oluşmasında aşağıdakilerden hangisinin etkisi diğerlerinden daha fazladır?

- A) İstanbul’un kapladığı alanın daha küçük olması
 B) İstanbul’da ticaret ve endüstrinin çok gelişmiş olması
 C) Çanakkale Boğazı’nın batı yakasını oluşturan Gelibolu Yarımadası’nın millî park olması
 D) İstanbul’da kültür ve sanat etkinliklerinin daha fazla olması
 E) Çanakkale’de tarım alanlarının geniş yer tutması

37.

- Turizm geliri en yüksektir.
- Endüstri kolu çeşitliliği en fazladır.
- Enerji tüketimi en fazladır.
- Okullaşma oranı en yüksektir.

Bu özelliklerin tümüne sahip olan bölge aşağıdakilerden hangisidir?

- A) Akdeniz
 B) Karadeniz
 C) Marmara
 D) İç Anadolu
 E) Ege

38. **Aşağıdakilerden hangisi Orta Karadeniz ve İç Batı Anadolu bölümlerinin ortak özelliği değildir?**

- A) Termal kaynakların yaygın olması
 B) Fındık, mısır ve tütün üretiminin fazla olması
 C) Linyit rezervlerinin zengin olması
 D) Büyükbaş hayvancılığın yaygın olması
 E) Kara yolu ulaşımında önemli kavşak noktalarına sahip olması

Diğer sayfaya geçiniz.

39. Türkiye'nin orta kuşakta bulunması, aşağıdaki ekonomik özelliklerinden hangisini etkilemiştir?

- A) Tarihi eserlerin ve doğal güzelliklerin olması
- B) Kişi başına düşen ulusal gelirin büyük kentlerde daha yüksek olması
- C) İşletilen ve işletmeye açılacak çeşitli madenlerin olması
- D) Çeşitli tarım ürünlerinin yetiştirilmesi
- E) Kara yolu ve deniz yolu transit taşımacılığının gelişmiş olması

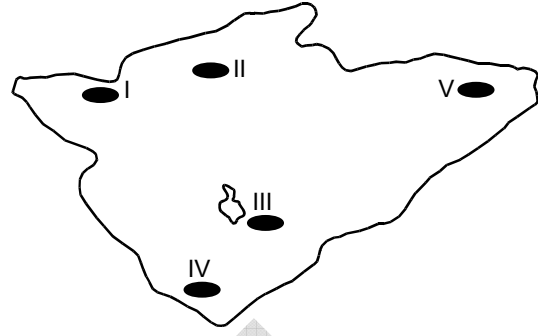
40. Türkiye'de bir yıla ait buğday ve arpa üretim miktarları ile ekim alanlarının illere göre dağılımını gösteren bir grafikten yararlanılarak aşağıdakilerden hangisine ulaşamaz?

- A) Buğdaydan en yüksek verimin hangi ilden alındığına
- B) Türkiye'nin yıllık toplam arpa üretimine
- C) Buğday üretimi için hangi illerin daha uygun iklim koşullarına sahip olduğuna
- D) Buğday ve arpanın hangisinden daha yüksek verim alındığına
- E) Arpa üretim miktarının en fazla olduğu ile

41. Son yıllarda, Türkiye'de, tarımdaki gelişmelere bağlı olarak aşağıdakilerin hangisinde azalma olduğu söylenebilir?

- A) Tarımsal etkinliklerin iklime bağımlılığında
- B) Tarımsal ürünleri pazarlama olanaklarında
- C) Tarımsal ürünlerin tüketiminde
- D) Tarıma dayalı endüstri kuruluşlarının sayısında
- E) Tarımdan elde edilen gelirden

42.



Yukarıdaki İç Anadolu Bölgesi haritasında numaralarla gösterilen alanların hangisinde, çoraklaşma nedeniyle tarımda yüksek verim almak daha zordur?

- A) I
- B) II
- C) III
- D) IV
- E) V

43. Türkiye'de zeytinliklerin çıkabildiği yükselti sınırı kuzeye bakan yamaçlarda genelde 200-250 metreyken güneye bakan yamaçlarda 500-600 metredir.

Bu duruma neden olan etmen aşağıdakilerden hangisidir?

- A) Bakı durumu
- B) Bağıl nem oranı
- C) Gündüz süresi
- D) Toprak türü
- E) Su kaynakları

Diğer sayfaya geçiniz.

44. Aşağıdakilerden hangisi, Türkiye’de tarımsal etkinliklerle ilgili doğru bir bilgidir?

- A) Üretimi fazla olduğundan tahıl ürünlerinin çoğu dış ülkelere satılır.
- B) Sulama olanaklarının artmasıyla birlikte pamuk üretiminde Güneydoğu Anadolu Bölgesi’nin payı artmıştır.
- C) İklim koşulları nedeniyle şeker pancarı yalnızca iç bölgelerde yetiştirilir.
- D) Tarımda makineleşmenin en yaygın olduğu alan Karadeniz Bölgesi’dir.
- E) İklimi uygun olduğu için incir üretiminde Akdeniz Bölgesi ilk sıradadır.

45. İskenderun’un, bir liman kenti olarak Sinop ve Trabzon’a göre daha fazla gelişmesindeki temel neden aşağıdakilerden hangisidir?

- A) Korunaklı liman olması
- B) Eski bir yerleşim yeri olması
- C) Gelişmiş ulaşım ağının olması
- D) Ağır endüstri kuruluşlarının bulunması
- E) Verimli tarım alanlarının bulunması

46. Bir yerde endüstrinin gelişebilmesi, ham maddenin varlığı, enerji kaynaklarına yakınlık, iş gücü temininin kolaylığı, ulaşımın kolaylığı, üretim araçları ve ham maddenin getirilmesinin kolaylığı gibi etmenlere bağlıdır.

Buna göre, aşağıdakilerin hangisinde verilen yerdeki endüstri kolu diğerlerinden farklı bir etmene bağlı olarak gelişmiştir?

- A) Adana ve çevresinde dokuma endüstrisi
- B) Edremit-Ayvalık ve çevresinde sıvı yağ endüstrisi
- C) Çanakkale’de konserve balık endüstrisi
- D) Seydişehir’de alüminyum endüstrisi
- E) Bursa ve çevresinde otomotiv endüstrisi

47. Aşağıdakilerden hangisi, son yıllarda Türkiye’ye gelen yabancı turist sayısının artmasında etkili olmamıştır?

- A) Birinci sınıf turistik tesislerin yaygınlaşması
- B) Metropol kentlerde uluslararası kongre ve fuarların düzenlenmesi
- C) Turistik bölgelerdeki nüfusun iç göçlerle artması
- D) Formula 1 gibi tekrarlanan büyük spor organizasyonlarının yapılması
- E) Yamaç paraşütü, rafting, kano gibi etkinliklerin yaygınlaşması

48. Aşağıdakilerden hangisi, Türkiye’de ekolojik dengeyi bozan etkenlerden biri değildir?

- A) Tarımda göl sularının aşırı kullanılması
- B) Birçok hayvan türünün bilinçsiz avlanması
- C) Kentlerin hızlı ve plansız büyümesi
- D) Yer altı sularının kontrolsüz bir şekilde çekilmesi
- E) Akarsu ağzlarındaki deltaların genişlemesi

Diğer sayfaya geçiniz.

49. Aralarında var olan borç ilişkisi dolayısıyla alacaklının borçludan isteyebileceği, borçlunun da yerine getirmekle yükümlü bulunduğu davranış biçimine ne ad verilir?

- A) İş B) Edim C) Çalışma
D) Alacak E) Sözleşme

50. Bir gerçek kişinin doğumu ve soybağıyla ilgili kayıtları içeren kütüğe ne ad verilir?

- A) Doğum kütüğü B) Evlenme kütüğü
C) Boşanma kütüğü D) Ölüm kütüğü
E) Yer değiştirme kütüğü

51. Henüz ergin olmamış veya ergin olmakla birlikte kısıtlanmış olan çocukların üzerinde Medeni Kanun tarafından ana ve babaya tanınan hakka ne ad verilir?

- A) Velayet B) Vesayet C) Veraset
D) Soybağı E) Evlat edinme

52. 1982 Anayasası'na göre, TBMM Başkanlık Divanı için bir yasama döneminde kaç seçim yapılır?

- A) 1 B) 2 C) 3 D) 4 E) 6

53. 1982 Anayasası'na göre, aşağıdakilerden hangisi Anayasa metnine dâhil değildir?

- A) Başlangıç kısmı
B) Anayasa'nın ilk dört maddesi
C) Anayasa'nın geçici maddeleri
D) Anayasa'da bulunan madde kenar başlıkları
E) Anayasa'nın 175. maddesi

Diğer sayfaya geçiniz.

54. 1982 Anayasası'na göre, aşağıdakilerin hangisinde hükümetin (Bakanlar Kurulunun) görevi sona erer?

- A) Adalet Bakanının istifası hâlinde
- B) Cumhurbaşkanının görevden ayrılması hâlinde
- C) Millî Savunma Bakanının istifası hâlinde
- D) Genelkurmay Başkanının istifası hâlinde
- E) Başbakanın ölümü hâlinde

56. 1982 Anayasası'na göre, aşağıdaki idari birimlerden hangisi mahalli idareler içerisinde yer alır?

- A) Mahalle
- B) Bucak
- C) Köy
- D) İlçe
- E) Bölge

55. Tüzüklerle ilgili aşağıdaki ifadelerden hangisi doğrudur?

- A) Tüzükler, kanun ve yönetmeliklerin uygulanmasını sağlamak üzere çıkarılırlar.
- B) Hangi tüzüklerin Resmî Gazete'de yayımlanacağı kanunla belirtilir.
- C) Tüzük çıkarma yetkisi yalnızca Bakanlar Kuruluna tanınmıştır.
- D) Tüzüklerin Anayasa'ya ve kanunlara uygunluğunun denetimi Anayasa Mahkemesi tarafından yapılır.
- E) Tüzük tasarıları hakkında düşüncesini bildirmek Danıştayın idari görevleri arasında yer alır.

57.

- I. Cumhurbaşkanının tek başına yaptığı işlemler
- II. Hâkimler ve Savcılar Yüksek Kurulu kararları
- III. Genelkurmay Başkanının tek başına yaptığı işlemler
- IV. Yüksek Askerî Şûra kararları

Yukarıdaki idari işlemlerden hangilerine karşı Anayasa ile yargı yolu kapatılmıştır?

- A) I ve II
- B) II ve IV
- C) III ve IV
- D) I, II ve IV
- E) I, II, III ve IV

Diğer sayfaya geçiniz.

58. 12 Mayıs 2010 tarihinde Türkiye ile imzalanan bir anlaşmayla 30 günü geçmeyen seyahatlerde ve 180 gün içerisinde 90 günü aşmayacak şekilde vize uygulamasını karşılıklı olarak kaldıran ülke aşağıdakilerden hangisidir?

- A) Rusya B) Yunanistan C) Brezilya
D) Almanya E) İran

60. Avrupa Merkez Bankası Başkanı aşağıdakilerden hangisidir?

- A) Ben Bernanke
B) Jean-Claude Trichet
C) Paul Wolfowitz
D) Rodrigo de Rato
E) Dominique Strauss-Kahn

59. Aşağıdakilerden hangisi Türkiye'nin de üyesi olduğu Ekonomik İşbirliği Teşkilatı (EİT) üyelerinden biri değildir?

- A) Azerbaycan B) Afganistan
C) Tacikistan D) İran
E) Irak

TEST BİTTİ.

CEVAPLARINIZI KONTROL EDİNİZ.

KAMU PERSONEL SEÇME SINAVI

LİSANS

10 TEMMUZ 2010

GENEL KÜLTÜR TESTİ

A KİTAPÇIĞI

- | | | |
|-------|-------|-------|
| 1. E | 21. D | 41. A |
| 2. A | 22. B | 42. C |
| 3. B | 23. D | 43. A |
| 4. D | 24. E | 44. B |
| 5. E | 25. D | 45. D |
| 6. A | 26. A | 46. E |
| 7. C | 27. D | 47. C |
| 8. A | 28. B | 48. E |
| 9. E | 29. E | 49. B |
| 10. C | 30. C | 50. A |
| 11. D | 31. D | 51. A |
| 12. B | 32. E | 52. B |
| 13. E | 33. C | 53. D |
| 14. B | 34. E | 54. E |
| 15. C | 35. A | 55. C |
| 16. A | 36. B | 56. C |
| 17. C | 37. C | 57. D |
| 18. D | 38. B | 58. A |
| 19. A | 39. D | 59. E |
| 20. C | 40. C | 60. B |