

31. Aşağıdakilerden hangisi, sıcaklık dağılışında bakımın etkisine örnek olarak gösterilebilir?

- A) Mersin'de yıllık sıcaklık ortalamasının Sinop'tan yüksek olması
- B) Antalya kıyılarında deniz suyu sıcaklığının Samsun kıyılarındakinden yüksek olması
- C) Edirne'de karın yerde kalma süresinin İstanbul'dan fazla olması
- D) Kışın İzmir'den Afyonkarahisar'a gidildikçe yağmurun yerini kar yağışının alması
- E) Giresun'da dağların güney yamaçlarında kar erimelerinin kuzeydekenden erken başlaması

32. Karadeniz Bölgesi'nin jeolojik ve jeomorfolojik özellikleri göz önüne alındığında, bölgede aşağıdaki göl tiplerinden hangisine rastlanması beğlenmez?

- A) Krater
- B) Heyelan set
- C) Buzul
- D) Alüvyal set
- E) Kıyı set

33. Aşağıdakilerden hangisi Türkiye'de toprak erozyonunun fazla olduğu bölgelerde ortaya çıkan sorunlardan biri değildir?

- A) Toprak kalınlığının azalması
- B) Baraj tabanında biriken materyalin artması
- C) Delta alanlarının genişlemesi
- D) Çayır ve mera alanlarının azalması
- E) Tarımsal verimin ve üretimin düşmesi

34. Türkiye'deki bir yörede, geçim kaynakları sınırlı, enerji tüketimi az, tarımla uğraşan kişi sayısı fazla ve doğum oranı yüksektir.

Buna göre, bu yöre için aşağıdakilerden hangisi kesin olarak söylenebilir?

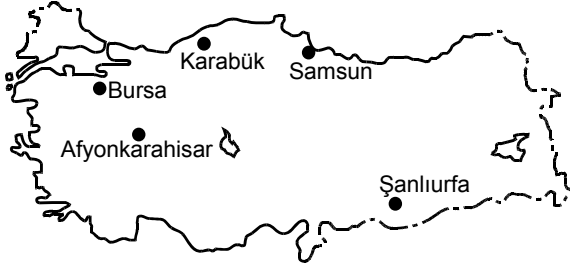
- A) Nitelsiz iş gücü fazladır.
- B) Ulaşım olanakları gelişmiştir.
- C) Ahır hayvancılığı yaygındır.
- D) Okullaşma oranı yüksektir.
- E) Nüfus yoğunluğu fazladır.

35. Türkiye'de yaşanan sürekli iç göçlerle ilgili olarak aşağıdaki genellemelerden hangisi yapılamaz?

- A) En çok kırsal kesimden kentlere göç olmaktadır.
- B) Endüstrinin geliştiği yerler daha fazla göç almaktadır.
- C) Marmara Bölgesi kıyı kentlerine olan göçlerle Akdeniz ve Güney Ege kıyı kentlerine olan göçlerin nedeni farklıdır.
- D) Tarımsal etkinliklerin çeşitlenmesi kıyılardan iç bölgelere olan göçü artırmıştır.
- E) Küçük kentlerden metropollere olan göçlerde temel neden işsizliktir.

Diğer sayfaya geçiniz.

36. Aşağıda, haritada beş kent gösterilmiş ve bu kentlerden dördünün gelişmesinde etkili olan etmenler verilmiştir.



- Geniş art bölgesi sayesinde gelişen liman kenti
- Tarım ve turizm fonksiyonlarının etkisiyle gelişen kent
- Kara yolu ve demir yolu ulaşımında önemli kavşak noktası olan kent
- Tarımsal endüstri ve otomotiv endüstrisiyle gelişen kent

Buna göre, yukarıda hangi kentin gelişmesinde etkili olan etmen yoktur?

- A) Bursa B) Afyonkarahisar C) Şanlıurfa
D) Samsun E) Karabük

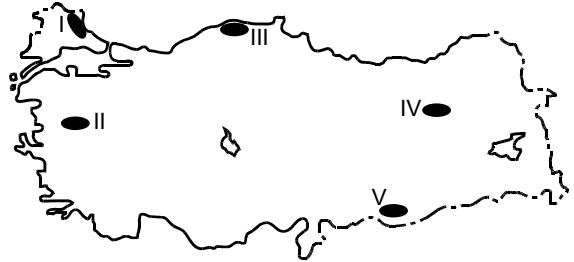
37. Türkiye'nin yüksek ve engebeli bir ülke olmasının aşağıdaki ekonomik etkinliklerden hangisi üzerinde etkisi yoktur?

- A) Kış turizmi B) Büyükbaş hayvancılık
C) Yayılacılık D) Madencilik
E) Orman işletmeciliği

38. Türkiye'deki tarımsal etkinliklerle ilgili olarak aşağıdakilerden hangisi doğrudur?

- A) İklim koşullarının uygun olması nedeniyle pirinç yalnız iç bölgelerde yetiştirilir.
B) İklim koşulları benzer olmasına karşın Ege Bölgesi'ndeki zeytin üretimi Akdeniz Bölgesi'nden daha fazladır.
C) İç Anadolu Bölgesi'nde yetiştirilebilen tarım ürünü çeşidi, Marmara Bölgesi'nde yetiştirilebilenlerden daha fazladır.
D) İç bölgeler arasında sulama gereksiniminin en fazla olduğu bölge Doğu Anadolu'dur.
E) Kırsal nüfusun fazla olduğu yerler aynı zamanda tarımda makine kullanımının da fazla olduğu yerlerdir.

39.



Doğal koşulları göz önüne alındığında haritada numaralarla gösterilen yerlerin hangisinde ekilen aynı tür buğdaydan, yıl içinde birim alandan daha yüksek verim alınması beklenir?

- A) I B) II C) III D) IV E) V

Diğer sayfaya geçiniz.

40. Yıllık sıcaklık ortalamasının yüksek olduğu yerlerde yetişen, meyve verme döneminde yüksek sıcaklık ve kuraklık isteyen, soğuğa ve don olayına çok duyarlı olan bir bitkinin aşağıdaki yerlerden hangisinde yetiştirilmesi daha kolaydır?

- A) Ergani B) İskenderun C) Amasra
D) Tatvan E) Gemlik

41. Türkiye’de çay ve muz üretimi için,

- I. üretilebilecek alanların sınırlı olması,
II. her mevsim yağış istemesi,
III. hasadının iş gücü gerektirmesi,
IV. üretimin tüketimi karşılaması

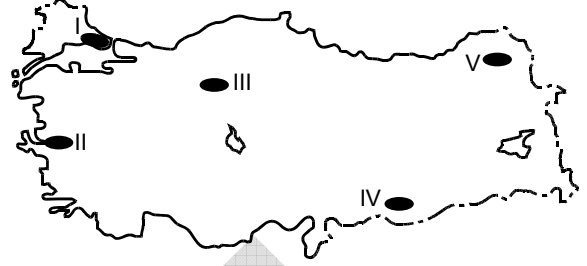
özelliklerinden hangileri ortaktır?

- A) I ve II B) I ve III C) II ve III
D) II ve IV E) III ve IV

42. Türkiye’de, aşağıdakilerin hangisinde verilen ekonomik etkinliklerin aynı yörede ve bir arada yürütülmesi daha zordur?

- A) Büyükbaş hayvancılık – Şeker pancarı tarımı
B) Balıkçılık – Buğday tarımı
C) Fındık tarımı – Pamuk tarımı
D) Küçükbaş hayvancılık – İpek böcekçiliği
E) Mısır tarımı – Zeytin tarımı

43. Kösele imalatı yapan bir yatırımcı, yeni fabrikasını bu iş için gerekli olan büyükbaş hayvan derisinin kolay ve ucuza temin edildiği bir yere kurmak istemektedir.



Buna göre, bu yatırımcının fabrikayı haritada numaralarla gösterilen yerlerden hangisine kurması maliyetin yükselmesine neden olur?

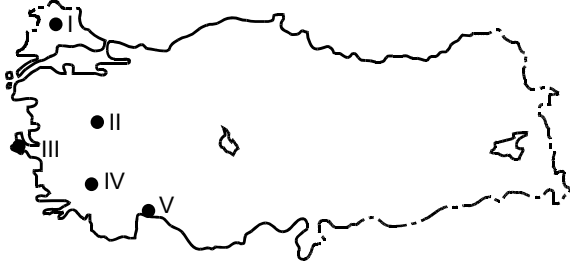
- A) I B) II C) III D) IV E) V

44. Aşağıdaki ürünlerden hangisi Türkiye için hem dış alım hem de dış satımda diğerlerinden daha önemli bir yer tutar?

- A) Petrol B) Doğal gaz C) Kahve
D) Üzüm E) Beyaz eşya

Diğer sayfaya geçiniz.

45.



Haritada numaralarla gösterilen yerlerdeki enerji kaynaklarıyla ilgili olarak aşağıdaki bilgilerden hangisi **yanlıştır**?

- A) I numaralı yer, Türkiye'deki doğal gaz üretiminde büyük paya sahiptir.
- B) II numaralı yerdeki barajlardan hidroelektrik enerji üretilmektedir.
- C) III numaralı yerde, rüzgâr enerjisinden yararlanmak amacıyla rüzgâr santralleri kurulmuştur.
- D) IV numaralı yerde, jeotermal enerjiyi elektrik enerjisine dönüştüren santraller bulunmaktadır.
- E) V numaralı yerde, güneşlenme süresi ve güneşli gün sayısı fazla olduğundan güneş enerjisinden yararlanılmaktadır.

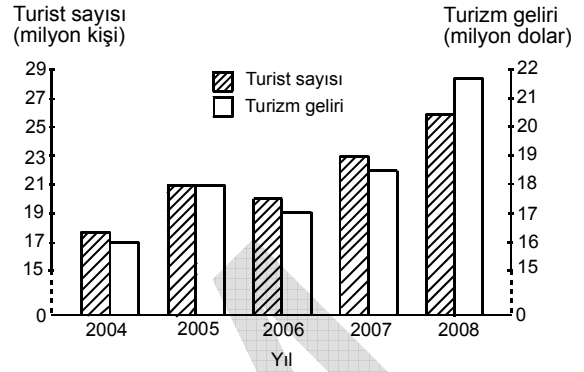
46. Aşağıdaki limanlardan hangisinin gelişmesinde,

- hem kara yolu hem de demir yoluyla ulaşımın mümkün olması,
- çevresinde önemli endüstri kuruluşlarının bulunması,
- serbest ticaret bölgesinin bulunması

özelliklerinin üçü de etkili olmuştur?

- A) Mersin B) Tekirdağ C) Trabzon
D) Antalya E) Çanakkale

47. Aşağıdaki grafikte, 2004-2008 yılları arasında Türkiye'ye gelen turist sayısı ve bu yıllarda elde edilen turizm gelirleri gösterilmiştir.



Bu grafikten aşağıdaki sonuçlardan hangisi çıkarılabilir?

- A) 2008 yılında elde edilen turizm geliri 25 milyon doların üzerindedir.
- B) 2005 ve 2007 yıllarında turist başına elde edilen gelir birbirine eşittir.
- C) 2004 ve 2006 yıllarında elde edilen toplam turizm geliri 2008'dekinden fazladır.
- D) 2004-2008 yılları arasında gelen turist sayısı düzenli olarak artmıştır.
- E) Turistik tesis sayısının artmasıyla gelen turist sayısı da artmıştır.

48. Aşağıdakilerden hangisi, Türkiye'deki inanç turizmi merkezlerinden biri **değildir**?

- A) Mevlana Türbesi – Konya
B) Meryem Ana – Selçuk
C) Cennet-Cehennem – Silifke
D) Akdamar Kilisesi – Van
E) Sümela Manastırı – Trabzon

Diğer sayfaya geçiniz.

KAMU PERSONEL SEÇME SINAVI (ÖN LİSANS)

28 KASIM 2010

GENEL KÜLTÜR TESTİ

A KİTAPÇIĞI

- | | | |
|-------|-------|-------|
| 1. A | 21. C | 41. B |
| 2. D | 22. E | 42. C |
| 3. B | 23. B | 43. D |
| 4. C | 24. D | 44. E |
| 5. B | 25. C | 45. B |
| 6. A | 26. D | 46. A |
| 7. C | 27. B | 47. C |
| 8. E | 28. D | 48. C |
| 9. C | 29. A | 49. E |
| 10. D | 30. D | 50. D |
| 11. B | 31. E | 51. B |
| 12. D | 32. A | 52. C |
| 13. E | 33. C | 53. E |
| 14. E | 34. A | 54. B |
| 15. B | 35. D | 55. E |
| 16. C | 36. E | 56. D |
| 17. E | 37. D | 57. A |
| 18. E | 38. B | 58. C |
| 19. C | 39. E | 59. A |
| 20. A | 40. B | 60. E |