

GENEL KÜLTÜR TESTİ

2010 - KPSS / ÖN LİSANS

1. Çin kaynaklarına göre, Orta Asya'da kurulan Asya Hunları evlerini topraktan yapmış, Volga kıyılarıyla Kırım arasında kurulan Hazarların evleri ise hep ahşap olup yalnız hakan sarayı ve kale taştan yapılmıştır.

Yukarıda verilen bu bilgilerle,

- I. Doğa şartları insanların yaşam biçimini etkilemiştir.
- II. Türklerde daha çok göçebe yaşantı vardır.
- III. Türkler mimaride Çinlilerden etkilenmiştir.

yargılarından hangilerine ulaşılabilir?

- A) Yalnız I B) Yalnız II C) Yalnız III
D) I ve II E) I, II ve III

2. Nizâm'ül-Mülk'ün Siyasetname adlı eserinin Türk İslam tarihindeki öneminin,

- I. yazarının Selçuklu devlet yönetiminde söz sahibi olması,
- II. devlet yönetimine ilişkin bilgiler vermesi,
- III. Türklerin İslamiyet'i kabulünden sonra kendi türünde yazılan ilk eser olması

durumlarının hangilerinden kaynaklandığı savunulabilir?

- A) Yalnız I B) Yalnız II C) Yalnız III
D) I ve II E) I, II ve III

3. Aşağıdaki Türk devletlerinden hangisi donanmaya önem vermiş ve tersaneler kurmuştur?

- A) Büyük Selçuklular B) Anadolu Selçukluları
C) Karahanlılar D) Gazneliler
E) Harzemşahlar

4. Aşağıdakilerden hangisi, Osmanlı toplumunda yönetici gruplar arasında değildir?

- A) İlimiye B) Seyfiye
C) Reaya D) Kalemîye
E) Hanedan üyeleri

Diğer sayfaya geçiniz.

5. Aşağıdakilerden hangisi, XIX. yüzyılda Osmanlı Devleti'nde eğitimle ilgili gelişmelerden biri değildir?

- A) Avrupa'ya öğrenci gönderilmesi
- B) İlk Türk matbaasının kurulması
- C) Yabancı dil eğitimine önem verilmesi
- D) Avrupa'da yayımlanan eserlerin Türkçeye tercüme edilmesi
- E) Kütüphane kurulmasına ülke çapında önem verilmesi

6.

- I. Coğrafi Keşifler
- II. Milliyetçilik akımları
- III. Sanayi İnkılabı

Osmanlı Devleti'nde XVI. yüzyılda yukarıdaki gelişmelerden hangileri ekonomik alanda etkili olmuştur?

- A) Yalnız I
- B) Yalnız II
- C) Yalnız III
- D) I ve II
- E) I, II ve III

7. Osmanlı Devleti'nde XIX. yüzyılda maliyenin iflasi, aşağıdakilerden hangisinin gerçekleşmesine neden olmuştur?

- A) İrad-ı Cedit hazinesinin kurulmasına
- B) Fransa'ya ilk kez kapitülasyonların verilmesine
- C) Düyun-ı Umumiye İdaresinin kurulmasına
- D) Anadolu'da Celali İsyanlarının çıkmasına
- E) Avrupa'dan askerî ve teknolojik alanlarda ilk kez yararlanılmasına

8. Osmanlı Devleti'nin Balta Limanı Antlaşması'yla yabancı tacirlere tanıdığı,

- I. vergi oranlarının indirilmesi,
- II. mal alım ve naklini belge göstermeden yapabilmesi,
- III. hiçbir kısıtlama olmadan her türlü malı Osmanlı topraklarında satabilmesi

olanaklarından hangilerinin iç piyasaya egemen olmalarını kolaylaştırdığı savunulabilir?

- A) Yalnız I
- B) Yalnız II
- C) Yalnız III
- D) I ve II
- E) I, II ve III

9.

- I. Kanunuesasi
- II. Tanzimat Fermanı
- III. Islahat Fermanı

Osmanlı Devleti'nde yukarıdakilerin ilanının doğru sıralaması aşağıdakilerden hangisidir?

- A) I, II, III
- B) II, I, III
- C) II, III, I
- D) III, I, II
- E) III, II, I

Diğer sayfaya geçiniz.

10. Birinci Dünya Savaşı başlarında tarafsızlığını açıklayan Amerika Birleşik Devletleri, daha sonra Anlaşma Devletleri safında savaşa girmiştir.

Amerika Birleşik Devletleri'nin bu tutum değişikliğinin nedeni aşağıdakilerden hangisidir?

- A) Rusya'nın savaştan çekilmesi
B) Rusya'da rejim değişikliği olması
C) Arapların Türk ordusuna karşı ayaklanması
D) Amerika Birleşik Devletleri'nin ticaret gemilerinin batırılması
E) Osmanlı Devleti'nin birçok cephede savaşması

11.

- Sivas'ta millî bir kongrenin acilen toplanması
- Bütün illerin her sancağından halkın güvenini kazanmış delegelerin en kısa zamanda yola çıkarılması

Yukarıdaki çağrılar aşağıdakilerden hangisinin kapsamındadır?

- A) Erzurum Kongresi B) Amasya Genelgesi
C) Sivas Kongresi D) Amasya Protokolü
E) Alaşehir Kongresi

12. Kurtuluş Savaşı'nda,

- I. Balıkesir,
II. Alaşehir,
III. Erzurum

kongrelerinin hangilerinde Kuvayimillîye birliklerinin malzeme ve cephane bakımından desteklenmesine ve düşmana karşı ortak bir cephenin kurulmasına karar verilmiştir?

- A) Yalnız I B) Yalnız II C) Yalnız III
D) I ve II E) I, II ve III

13. Erzurum ve Sivas Kongrelerinde alınan,

- I. Kuvayimillîyenin etkin ve millî iradenin egemen kılınması,
II. azınlıklara siyasi hakimiyet ve sosyal dengeyi bozacak ayrıcalıkların verilmemesi,
III. Millî Meclisin toplanması

kararlarından hangilerinin "ülkenin parçalanmaz bir bütün olduğu" ilkesini desteklediği savunulabilir?

- A) Yalnız I B) Yalnız II C) Yalnız III
D) I ve II E) I, II ve III

14. Misakımillî'de yer alan,

- I. Türkiye'deki azınlıklara, komşu ülkelerdeki Müslümanlara tanındığı düzeyde hak verilmesi,
II. siyasi, adli, mali gelişmeye engel olan kapitülasyonların kaldırılması,
III. hükümet merkezi olan İstanbul şehri ve Marmara Denizi'nin güvenliğinin her türlü müdahale ve saldırıya karşı korunması

kararlarından hangileri bağımsız devlet anlayışının ilke edinildiğini gösterir?

- A) Yalnız I B) Yalnız II C) Yalnız III
D) I ve II E) I, II ve III

Diğer sayfaya geçiniz.

15. Aşağıdakilerden hangisi, daha önceden üzerinde uzlaşma sağlandığından dolayı, Lozan Konferansı'nda tartışmalara konu olmamıştır?

- A) Boğazların yönetimine ilişkin düzenleme
- B) Suriye sınırı
- C) Osmanlı devlet borçları
- D) Kapitülasyonlar
- E) Musul

16. Aşağıdakilerden hangisi 17 Şubat 1923'te İzmir'de toplanan Türkiye İktisat Kongresi'nde alınan ilke kararlarından biri değildir?

- A) Kabotaj hakkının kullanılması
- B) Sendika hakkının tanınması
- C) Topraksız köylüye toprak dağıtılması
- D) Yerli sanayinin gelişmesi için gümrüklerde koruyucu önlemler alınması
- E) Ülkedeki madenlerin saptanması

17. Atatürk, "Çağdaş bir Cumhuriyet kurmak demek milletin insanca yaşamasını bilmesi, insanca yaşamının neye bağlı olduğunu öğrenmesi demektir." demiştir.

Atatürk'ün bu anlatımıyla,

- I. özgür birey olma,
- II. çağdaş gelişmeleri izleyebilme,
- III. demokrasi bilincine sahip olma

değerlerinden hangilerinin çağdaş olmanın gerekleri arasında olduğunu vurguladığı savunulabilir?

- A) Yalnız I
- B) Yalnız II
- C) Yalnız III
- D) I ve II
- E) I, II ve III

18. 1926 yılında imzalanan Ankara Antlaşması,

- I. Musul'un İngiliz yönetimindeki Irak'a bırakılması,
- II. Türkiye-Irak sınırının çizilmesi,
- III. Musul'un yıllık petrol gelirlerinin % 10'unun 25 yıl süreyle Türkiye'ye bırakılması

maddelerinden hangilerini kapsar?

- A) Yalnız I
- B) Yalnız II
- C) Yalnız III
- D) I ve II
- E) I, II ve III

Diğer sayfaya geçiniz.

19. Aşar vergisinin,

- I. toplanmasından sorumlu mültezimlerin yasa dışı tutumları,
- II. oranının köylü açısından yüksek olması,
- III. ürün üzerinden alınması

koşullarından hangilerinin köylünün maddi yönden sıkıntı yaşamasına ve tarımda verimin düşmesine neden olduğu savunulabilir?

- A) Yalnız I B) Yalnız II C) I ve II
D) II ve III E) I, II ve III

20. Aşağıdakilerden hangisi 1926 yılında yürürlüğe giren Medeni Kanun'la sağlanan durumlardan biri değildir?

- A) Kadınların ülkenin siyasi yönetimine katılabilmesi
B) Tek eşlilik esasının getirilmesi
C) Kadının eşinden boşanabilmesi
D) Resmî nikâh usulünün konulması
E) Miras konusunda eşitsizliğin kaldırılması

21. 1 Kasım 1928'de TBMM'nin kabul ettiği Türk Harfleri Hakkındaki Kanun'la Harf İnkılabı başlamıştır.

Aşağıdakilerden hangisi Harf İnkılabı'nın uygulanmaya konulmasıyla ilgili gelişmelerden biridir?

- A) Medreselerin kapatılması
B) Maarif Teşkilatı hakkında kanun çıkarılması
C) Millet Mekteplerinin açılması
D) Müzik Öğretmen Okulunun kurulması
E) Eğitim ve öğretimin birleştirilmesine ilişkin kanun çıkarılması

22.

- I. Köy Enstitülerinin açılması
- II. Halkevlerinin açılması
- III. Eğitim kurslarının açılması

Yukarıdakilerden hangilerinin gerçekleştirilmesinde toplumun bilgi ve yaşam düzeyini yükseltmek amacı vardır?

- A) Yalnız I B) Yalnız II C) Yalnız III
D) I ve II E) I, II ve III

Diğer sayfaya geçiniz.

23. Atatürk, "Demokrasi ilkesi, egemenliğin millette olduğunu başka yerde olmayacağını gerekli sayar. Bu suretle demokrasi ilkesi, siyasal gücün, egemenliğin kökenlerine ve yasallığına dayanmaktadır." demiştir.

Atatürk'ün bu demokrasi anlayışını aşağıdaki ilkelere hangisi doğrudan destekler?

- A) Halkçılık
B) Cumhuriyetçilik
C) Milliyetçilik
D) Devletçilik
E) İnkılapçılık

24. 1931 yılında ağırlık ve uzunluk ölçü birimleri değiştirilmiş metre ve kilo esaslı kabul edilmiştir.

Bu değişimle,

- I. ülkede ölçü birliğinin sağlanması,
II. ticari işlerin kolaylaşması,
III. tarımsal üretimin artması

durumlarından hangilerinin sağlandığı savunulabilir?

- A) Yalnız I
B) Yalnız II
C) Yalnız III
D) I ve II
E) I, II ve III

25. Atatürk, 1 Aralık 1921 tarihinde Büyük Millet Meclisinde yaptığı konuşmasında, "Biz yapmadığımız ve yapamadığımız kavramlar üzerinde koşarak düşmanlarımızın sayısını ve üzerimize olan baskıları artırmaktansa tabii duruma dönelim. Haddimizi bilelim. Binaenaleyh Efendiler, biz hayat ve istiklal isteyen milletiz ve yalnız ancak bunun için hayatımızı esirgemedik verimiz." demiştir.

Atatürk'ün bu konuşmasında dış politikayla ilgili,

- I. öncelikle sınırlarımız içinde ulusal varlığımızın korunmasının amaçlanması,
II. gerçekleştirilemeyecek emeller peşinde koşulmaması,
III. Türk tarihinin çok eskilere dayandırılması

durumlarından hangilerine ulaşılabilir?

- A) Yalnız I
B) Yalnız II
C) I ve II
D) II ve III
E) I, II ve III

26. **Diyanet İşleri Başkanlığına yönetimde yer verilmesiyle,**

- I. din işlerinin istismar edilmesi,
II. hurafelerin ve yanlış inançların yaygınlaşması,
III. ailelerin çocuklarına dinî bilgiler vermesi

durumlarından hangilerinin önlenmek istendiği savunulabilir?

- A) Yalnız I
B) Yalnız II
C) Yalnız III
D) I ve II
E) I, II ve III

Diğer sayfaya geçiniz.

27. Atatürk, "Biz, Batı medeniyetini bir taklitçilik yapalım diye almıyoruz. Onda iyi olarak gördüklerimizi, kendi bünyemize uygun bulduğumuz için dünya medeniyet seviyesi içinde benimsiyoruz." demiştir.

Atatürk'ün bu ifadesiyle aşağıdakilerden hangisine ulaşamaz?

- A) Çağdaşlığı ilke edinme
- B) Yabancı kültürlerle bağlanma
- C) Özgünlüğü korumayı amaçlama
- D) Batı medeniyetinden yararlanma gereğini kabul etme
- E) Gelişmiş dünya ülkeleri arasında yer almayı amaçlama

28.

- I. İstanbul Üniversitesinin Kurulması Hakkında Kanun çıkarılması
- II. Türk Tarih Kurumunun kurulması
- III. Köy Enstitülerinin açılması

Yukarıdakilerden hangileri Atatürk Dönemi gelişmeleri arasındadır?

- A) Yalnız I
- B) Yalnız II
- C) Yalnız III
- D) I ve II
- E) I, II ve III

29. 1929-1930 yıllarında dünyada bir ekonomik bunalım baş göstermiştir.

Bu ekonomik bunalımın Türkiye'de aşağıdakilerden hangisine ortam hazırladığı savunulabilir?

- A) Devletçilik ilkesinin kabul edilmesine
- B) İzmir'de Türkiye İktisat Kongresi'nin toplanmasına
- C) Kabotaj Kanunu'nun çıkarılmasına
- D) İş Bankasının kurulmasına
- E) Teşvik-i Sanayi Kanunu'nun çıkarılmasına

30. **Aşağıdakilerden hangisi Sadabad Paktına üye devletlerden biridir?**

- A) Suriye
- B) Mısır
- C) Pakistan
- D) Afganistan
- E) Hindistan

Diğer sayfaya geçiniz.

31. Aşağıdakilerden hangisi, sıcaklık dağılışında bakımının etkisine örnek olarak gösterilebilir?

- A) Mersin'de yıllık sıcaklık ortalamasının Sinop'tan yüksek olması
- B) Antalya kıyılarında deniz suyu sıcaklığının Samsun kıyılarındakinden yüksek olması
- C) Edirne'de karın yerde kalma süresinin İstanbul'dan fazla olması
- D) Kışın İzmir'den Afyonkarahisar'a gidildikçe yağmurun yerini kar yağışının alması
- E) Giresun'da dağların güney yamaçlarında kar erimelerinin kuzeydekenden erken başlaması

32. Karadeniz Bölgesi'nin jeolojik ve jeomorfolojik özellikleri göz önüne alındığında, bölgede aşağıdaki göl tiplerinden hangisine rastlanması beğlenmez?

- A) Krater
- B) Heyelan set
- C) Buzul
- D) Alüvyal set
- E) Kıyı set

33. Aşağıdakilerden hangisi Türkiye'de toprak erozyonunun fazla olduğu bölgelerde ortaya çıkan sorunlardan biri değildir?

- A) Toprak kalınlığının azalması
- B) Baraj tabanında biriken materyalin artması
- C) Delta alanlarının genişlemesi
- D) Çayır ve mera alanlarının azalması
- E) Tarımsal verimin ve üretimin düşmesi

34. Türkiye'deki bir yörede, geçim kaynakları sınırlı, enerji tüketimi az, tarımla uğraşan kişi sayısı fazla ve doğum oranı yüksektir.

Buna göre, bu yöre için aşağıdakilerden hangisi kesin olarak söylenebilir?

- A) Niteliksiz iş gücü fazladır.
- B) Ulaşım olanakları gelişmiştir.
- C) Ahır hayvancılığı yaygındır.
- D) Okullaşma oranı yüksektir.
- E) Nüfus yoğunluğu fazladır.

35. Türkiye'de yaşanan sürekli iç göçlerle ilgili olarak aşağıdaki genellemelerden hangisi yapılamaz?

- A) En çok kırsal kesimden kentlere göç olmaktadır.
- B) Endüstrinin geliştiği yerler daha fazla göç almaktadır.
- C) Marmara Bölgesi kıyı kentlerine olan göçlerle Akdeniz ve Güney Ege kıyı kentlerine olan göçlerin nedeni farklıdır.
- D) Tarımsal etkinliklerin çeşitlenmesi kıyılardan iç bölgelere olan göçü artırmıştır.
- E) Küçük kentlerden metropollere olan göçlerde temel neden işsizliktir.

Diğer sayfaya geçiniz.

36. Aşağıda, haritada beş kent gösterilmiş ve bu kentlerden dördünün gelişmesinde etkili olan etmenler verilmiştir.



- Geniş art bölgesi sayesinde gelişen liman kenti
- Tarım ve turizm fonksiyonlarının etkisiyle gelişen kent
- Kara yolu ve demir yolu ulaşımında önemli kavşak noktası olan kent
- Tarımsal endüstri ve otomotiv endüstrisiyle gelişen kent

Buna göre, yukarıda hangi kentin gelişmesinde etkili olan etmen yoktur?

- A) Bursa B) Afyonkarahisar C) Şanlıurfa
D) Samsun E) Karabük

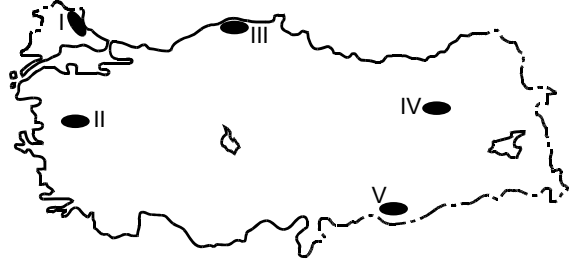
37. Türkiye'nin yüksek ve engebeli bir ülke olmasının aşağıdaki ekonomik etkinliklerden hangisi üzerinde etkisi yoktur?

- A) Kış turizmi B) Büyükbaş hayvancılık
C) Yayılacılık D) Madencilik
E) Orman işletmeciliği

38. Türkiye'deki tarımsal etkinliklerle ilgili olarak aşağıdakilerden hangisi doğrudur?

- A) İklim koşullarının uygun olması nedeniyle pirinç yalnız iç bölgelerde yetiştirilir.
B) İklim koşulları benzer olmasına karşın Ege Bölgesi'ndeki zeytin üretimi Akdeniz Bölgesi'nden daha fazladır.
C) İç Anadolu Bölgesi'nde yetiştirilebilen tarım ürünü çeşidi, Marmara Bölgesi'nde yetiştirilebilenlerden daha fazladır.
D) İç bölgeler arasında sulama gereksiniminin en fazla olduğu bölge Doğu Anadolu'dur.
E) Kırsal nüfusun fazla olduğu yerler aynı zamanda tarımda makine kullanımının da fazla olduğu yerlerdir.

39.



Doğal koşulları göz önüne alındığında haritada numaralarla gösterilen yerlerin hangisinde ekilen aynı tür buğdaydan, yıl içinde birim alandan daha yüksek verim alınması beklenir?

- A) I B) II C) III D) IV E) V

Diğer sayfaya geçiniz.

40. Yıllık sıcaklık ortalamasının yüksek olduğu yerlerde yetişen, meyve verme döneminde yüksek sıcaklık ve kuraklık isteyen, soğuğa ve don olayına çok duyarlı olan bir bitkinin aşağıdaki yerlerden hangisinde yetiştirilmesi daha kolaydır?

- A) Ergani B) İskenderun C) Amasra
D) Tatvan E) Gemlik

41. Türkiye'de çay ve muz üretimi için,

- I. üretilebilecek alanların sınırlı olması,
II. her mevsim yağış istemesi,
III. hasadının iş gücü gerektirmesi,
IV. üretimin tüketimi karşılaması

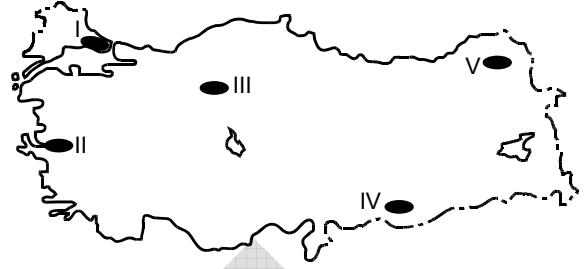
özelliklerinden hangileri ortaktır?

- A) I ve II B) I ve III C) II ve III
D) II ve IV E) III ve IV

42. Türkiye'de, aşağıdakilerin hangisinde verilen ekonomik etkinliklerin aynı yörede ve bir arada yürütülmesi daha zordur?

- A) Büyükbaş hayvancılık – Şeker pancarı tarımı
B) Balıkçılık – Buğday tarımı
C) Fındık tarımı – Pamuk tarımı
D) Küçükbaş hayvancılık – İpek böcekçiliği
E) Mısır tarımı – Zeytin tarımı

43. Kösele imalatı yapan bir yatırımcı, yeni fabrikasını bu iş için gerekli olan büyükbaş hayvan derisinin kolay ve ucuza temin edildiği bir yere kurmak istemektedir.



Buna göre, bu yatırımcının fabrikayı haritada numaralarla gösterilen yerlerden hangisine kurması maliyetin yükselmesine neden olur?

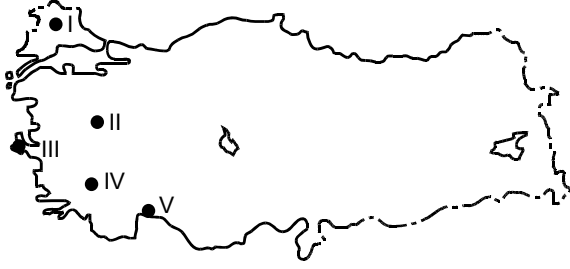
- A) I B) II C) III D) IV E) V

44. Aşağıdaki ürünlerden hangisi Türkiye için hem dış alım hem de dış satımda diğerlerinden daha önemli bir yer tutar?

- A) Petrol B) Doğal gaz C) Kahve
D) Üzüm E) Beyaz eşya

Diğer sayfaya geçiniz.

45.



Haritada numaralarla gösterilen yerlerdeki enerji kaynaklarıyla ilgili olarak aşağıdaki bilgilerden hangisi **yanlıştır**?

- A) I numaralı yer, Türkiye'deki doğal gaz üretiminde büyük paya sahiptir.
- B) II numaralı yerdeki barajlardan hidroelektrik enerji üretilmektedir.
- C) III numaralı yerde, rüzgâr enerjisinden yararlanmak amacıyla rüzgâr santralleri kurulmuştur.
- D) IV numaralı yerde, jeotermal enerjiyi elektrik enerjisine dönüştüren santraller bulunmaktadır.
- E) V numaralı yerde, güneşlenme süresi ve güneşli gün sayısı fazla olduğundan güneş enerjisinden yararlanılmaktadır.

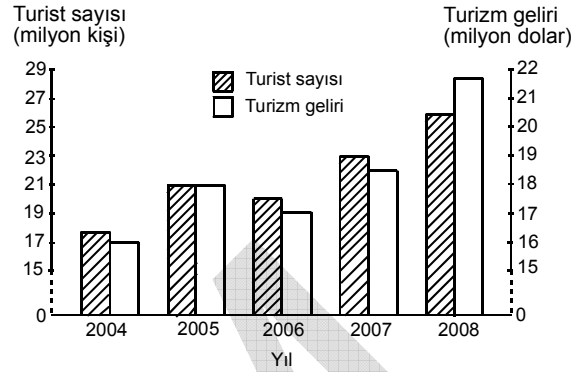
46. Aşağıdaki limanlardan hangisinin gelişmesinde,

- hem kara yolu hem de demir yoluyla ulaşımın mümkün olması,
- çevresinde önemli endüstri kuruluşlarının bulunması,
- serbest ticaret bölgesinin bulunması

özelliklerinin üçü de etkili olmuştur?

- A) Mersin B) Tekirdağ C) Trabzon
D) Antalya E) Çanakkale

47. Aşağıdaki grafikte, 2004-2008 yılları arasında Türkiye'ye gelen turist sayısı ve bu yıllarda elde edilen turizm gelirleri gösterilmiştir.



Bu grafikten aşağıdaki sonuçlardan hangisi çıkarılabilir?

- A) 2008 yılında elde edilen turizm geliri 25 milyon doların üzerindedir.
- B) 2005 ve 2007 yıllarında turist başına elde edilen gelir birbirine eşittir.
- C) 2004 ve 2006 yıllarında elde edilen toplam turizm geliri 2008'dekinden fazladır.
- D) 2004-2008 yılları arasında gelen turist sayısı düzenli olarak artmıştır.
- E) Turistik tesis sayısının artmasıyla gelen turist sayısı da artmıştır.

48. Aşağıdakilerden hangisi, Türkiye'deki inanç turizmi merkezlerinden biri **değildir**?

- A) Mevlana Türbesi – Konya
B) Meryem Ana – Selçuk
C) Cennet-Cehennem – Silifke
D) Akdamar Kilisesi – Van
E) Sümela Manastırı – Trabzon

Diğer sayfaya geçiniz.

49. Kazanç paylaşma amacı gütmeyen ve en az yedi kişinin bir araya gelmesiyle kurulabilen tüzel kişilik aşağıdakilerden hangisidir?

- A) Vakıf
B) Kolektif şirket
C) Kooperatif
D) Komandit şirket
E) Dernek

50. Kardeşler arasındaki hısımlığa ne ad verilir?

- A) Kayın hısımlığı
B) Alt soy hısımlığı
C) Üst soy hısımlığı
D) Yan soy kan hısımlığı
E) Evlat edinmeden doğan hısımlık

51. Kişiy eşya üzerinde doğrudan doğruya hâkimiyet sağlayan ve herkese karşı ileri sürülebilir haklara ne ad verilir?

- A) Fikrî hak
B) Aynı hak
C) Şahsi hak
D) Alacak hakkı
E) Talep hakkı

52.

- I. Bireysel başvuruları inceleme görev ve yetkisi
II. Üyelerinin görev süresinin 12 yıla sınırlandırılması
III. TBMM'nin, üye seçme yetkisine sahip olması
IV. Anayasa değişikliklerinin sadece şekil açısından denetlenmesi
V. Yüce Divan yargılaması yetkisi

Yukarıdakilerden hangileri 1982 Anayasası'nda 5982 sayılı Kanun'la 2010 yılında yapılan değişikliklerle Anayasa Mahkemesi için getirilmiş yenilikler arasında yer alır?

- A) Yalnız I
B) I ve III
C) I, II ve III
D) I, III ve IV
E) I, II, III, IV ve V

53. 1982 Anayasası'na göre, aşağıdakilerden hangisi milletvekilliğini sona erdiren hâllerden biri değildir?

- A) İstifa
B) Milletvekili olmaya engel bir suçtan kesin hüküm giyme
C) Kısıtlanma
D) Milletvekilliğiyle bağdaşmayan bir görevi sürdürmekte ısrar etme
E) Partisinin temelli kapatılmasına, beyan ve eylemleriyle sebep olma

Diğer sayfaya geçiniz.

54. Aşağıdakilerden hangisi 1982 Anayasası'nda değiştirilemez ve değiştirilmesi teklif edilemez hükümler arasında yer almaz?

- A) Türkiye Devleti'nin başkenti Ankara'dır.
- B) Yasama yetkisi Türk Milleti adına Türkiye Büyük Millet Meclisindedir.
- C) Türkiye Devleti'nin millî marşı İstiklal Marşı'dır.
- D) Türkiye Cumhuriyeti insan haklarına saygılıdır.
- E) Türkiye Cumhuriyeti Atatürk milliyetçiliğine bağlıdır.

56. Tüzüklerin yargısal denetimini yapma konusunda aşağıdakilerden hangisi görevlidir?

- A) İdare mahkemesi
- B) Bölge idare mahkemesi
- C) Askerî Yüksek İdare Mahkemesi
- D) Danıştay
- E) Sayıştay

55. Aşağıda eşleştirilenlerin hangisinde bir hiyerarşi ilişkisi söz konusu olamaz?

- A) Bakan – Müsteşar
- B) Rektör – Dekan
- C) Vali – Kaymakam
- D) Kaymakam – İlçe millî eğitim müdürü
- E) Yükseköğretim Kurulu Başkanı – Rektör

57. Aşağıdakilerden hangisi belediye tüzel kişiliğinin çıkarabileceği düzenleyici işlemlerden biri değildir?

- A) Tüzük
- B) Yönetmelik
- C) İmar planı
- D) Tebliğ
- E) Genelge

Diğer sayfaya geçiniz.

58. Aşağıdakilerden hangisi Bankacılık Düzenleme ve Denetleme Kurumunun görevleri arasında yer almaz?

- A) Finansal piyasalarda güven ve istikrarı sağlamak
- B) Finansal sisteme rekabet gücü kazandırıcı ortamı hazırlamak
- C) Fiyat istikrarını sağlamak için uygulanacak para politikasını belirlemek
- D) Kredi sisteminin etkin bir şekilde çalışmasını temin etmek
- E) Tasarruf sahiplerinin hak ve menfaatlerini korumak

60. Aşağıdaki ülkelerin hangisinde 4 Ekim 2010 tarihinde bir alüminyum fabrikasından zehirli atık yayılması sonucu büyük bir çevre felaketi yaşanmıştır?

- A) Rusya
- B) Polonya
- C) Ukrayna
- D) Bulgaristan
- E) Macaristan

59. Aşağıdaki ülkelerden hangisi başkanlık sistemi ile yönetilmektedir?

- A) ABD
- B) Almanya
- C) İngiltere
- D) Yunanistan
- E) Japonya

TEST BİTTİ.

CEVAPLARINIZI KONTROL EDİNİZ.

KAMU PERSONEL SEÇME SINAVI (ÖN LİSANS)

28 KASIM 2010

GENEL KÜLTÜR TESTİ

A KİTAPÇIĞI

- | | | |
|-------|-------|-------|
| 1. A | 21. C | 41. B |
| 2. D | 22. E | 42. C |
| 3. B | 23. B | 43. D |
| 4. C | 24. D | 44. E |
| 5. B | 25. C | 45. B |
| 6. A | 26. D | 46. A |
| 7. C | 27. B | 47. C |
| 8. E | 28. D | 48. C |
| 9. C | 29. A | 49. E |
| 10. D | 30. D | 50. D |
| 11. B | 31. E | 51. B |
| 12. D | 32. A | 52. C |
| 13. E | 33. C | 53. E |
| 14. E | 34. A | 54. B |
| 15. B | 35. D | 55. E |
| 16. C | 36. E | 56. D |
| 17. E | 37. D | 57. A |
| 18. E | 38. B | 58. C |
| 19. C | 39. E | 59. A |
| 20. A | 40. B | 60. E |