

31. Türkiye'nin coğrafi konumuyla ilgili olarak aşağıdaki bilgilerden hangisi yanlıştır?

- A) Yengeç Dönencesi'nin kuzeyinde yer alır.
- B) 21 haziranda gündüz süresi güneye gidildikçe uzar.
- C) En batısı ile en doğusu arasında bir saatten fazla yerel saat farkı vardır.
- D) Avrupa, Asya ve Afrika kıtalarının birbirine en çok yaklaştığı yerdedir.
- E) Kuzey Yarım Küre'de, Orta Kuşak'ta yer alır.

32. Kıyı illerinde, kıyı çizgisine paralel uzanan dağ sıralarının bulunması, iç kesimlerde yer alan illerde ise kısa mesafelerde büyük yükselti farkının olması, bu illerin sınırları içerisinde aynı mevsimde bile farklı iklim koşullarının görülmesine neden olur.

Buna göre, aşağıdaki illerin hangisinde, il sınırları içindeki iklim koşulları daha az farklılık gösterir?

- A) Adana
- B) Erzincan
- C) Artvin
- D) Kilis
- E) Hakkâri

33. Yatak eğimi ve yağış rejimi, Doğu Karadeniz Bölümü akarsularının aşağıdaki özelliklerinden hangisi üzerinde etkili değildir?

- A) Enerji potansiyelinin yüksek olması
- B) Buzullardan beslenmeleri
- C) Akış hızlarının fazla olması
- D) Yıl boyunca su taşımaları
- E) Derin vadilerde akmaları

34. Aşağıdakilerden hangisinin artışı, Türkiye'deki hızlı nüfus artışıyla açıklanamaz?

- A) Gelir dağılımındaki dengesizliğin
- B) İşsizliğin
- C) Okul gereksiniminin
- D) Alt yapı gereksiniminin
- E) İl sayısının

35. Aşağıdakilerden hangisinin, Türkiye'deki iç göçlerin azalmasında etkili olması beklenmez?

- A) Öğrencisi az olan köylerdeki okulların kapatılarak taşınmalı eğitime geçilmesi
- B) Sınır kapılarındaki ticaretin artırılması
- C) Tarımda verim artırıcı yöntemlerin yaygınlaştırılması
- D) Ahır hayvancılığının geliştirilmesi
- E) Endüstri tesislerinin yurt genelinde yaygınlaştırılması

*Diğer sayfaya geçiniz.*

36. Türkiye'de Ege ve Akdeniz kıyılarında yer alan ve 40-50 yıl öncesinde birer sahil köyü ya da kasabası niteliğinde olan yerleşmelerin bazıları turizmin etkisiyle günümüzde birer kent niteliği kazanmıştır.

**Aşağıdaki kentlerin hangisi bu duruma örnek gösterilemez?**

- A) Bodrum      B) Marmaris      C) İskenderun  
D) Kemer      E) Çeşme

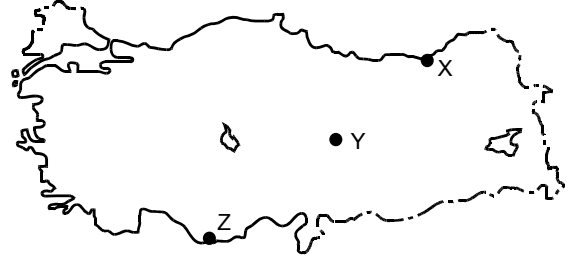
37. Türkiye'de son dönemlerde,

- tarımda çalışan işçi sayısının azalması,
- hasat süresinin kısalması,
- hasat sırasında ürün kaybının azalması

**aşağıdakilerden hangisinin bir sonucudur?**

- A) Makine kullanımının yaygınlaşmasının  
B) Sulanabilen tarım alanlarının artmasının  
C) Nöbetleşe ekim yapılmasının  
D) Türlerin iyileştirilmesi için aşılama yapılmasının  
E) Kaliteli tohum kullanılmasının

- 38.



**Yukarıdaki haritada X, Y ve Z ile gösterilen yerlerde hangi tarım ürünleri yoğun olarak yetiştirilir?**

X	Y	Z
A) Fındık	Haşhaş	Muz
B) Mısır	Haşhaş	Zeytin
C) Fındık	Buğday	Mercimek
D) Çay	Mısır	Ayçiçeği
E) Çay	Buğday	Muz

39. **Aşağıdaki coğrafi bölgelerden hangisi, karşısında verilen tarım ürününün üretim miktarı bakımından Türkiye'de ilk sırada yer almaz?**

- A) İç Anadolu – Arpa  
B) Akdeniz – Turunçgiller  
C) Marmara – Zeytin  
D) Karadeniz – Fındık  
E) Ege – İncir

*Diğer sayfaya geçiniz.*

40. Aşağıdaki tarım ürünlerinden hangisinin Türkiye'deki yetiştirme alanını sınırlandıran etmen diğerlerinden farklıdır?

- A) Haşhaş B) Turunçgiller C) Buğday  
D) Kivi E) Mercimek

41. Bir yerde geleneksel yöntemlerle yapılan hayvancılıkta o yerin iklimi, bitki örtüsü ve yer şekilleri gibi doğal koşullar etkili olmaktadır.

Buna göre, aşağıdaki illerin hangisinde, karşısında verilen hayvancılık türünün yapılması beğlenmez?

İl	Hayvancılık türü
A) Bartın	Balıkçılık
B) Sivas	İpek böcekçiliği
C) Rize	Büyükbaş hayvancılık
D) Hakkâri	Arıcılık
E) Konya	Küçükbaş hayvancılık

42. Türkiye'de,

- I. küçükbaş hayvancılığın,  
II. sebze ve meyveciliğın,  
III. seracılığın,  
IV. tahıl tarımının

yapıldığı yerlerin hangilerinde konserve fabrikaları da yaygındır?

- A) I ve II B) I ve III C) II ve III  
D) II ve IV E) III ve IV

43. Türkiye'de endüstri kuruluşlarının yoğun olduğu yerler,

- I. aynı coğrafi bölgede yer almaları,  
II. fazla göç almaları,  
III. enerji kaynakları bakımından zengin olmaları,  
IV. ulaşım olanakları bakımından gelişmiş olmaları

özelliklerinin hangileri bakımından ortaktır?

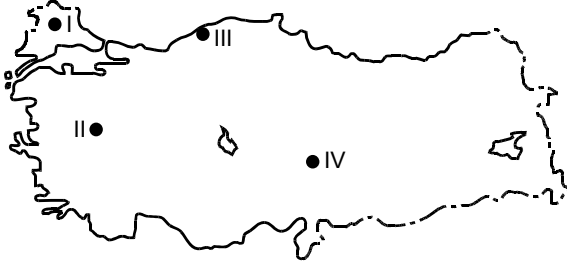
- A) I ve II B) I ve III C) II ve III  
D) II ve IV E) III ve IV

44. Aşağıdaki ürünlerden hangisinin Türkiye'nin dış satımındaki payı diğerlerinden daha fazladır?

- A) Elma B) Şeker pancarı C) Fındık  
D) Mısır E) Pirinç

Diğer sayfaya geçiniz.

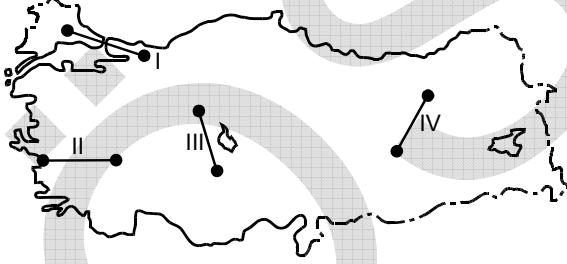
45.



Yukarıdaki haritada numaralarla gösterilen termik santrallerden hangilerinde enerji kaynağı olarak linyit kullanılmaktadır?

- A) I ve II      B) I ve III      C) II ve III  
D) II ve IV      E) III ve IV

46.



Yukarıdaki haritada numaralarla gösterilen ve kuş uçuşu uzaklıkları aynı olan yerlerin doğal koşulları göz önüne alındığında, hangilerinde demir yolu yapım maliyetinin daha yüksek olması beklenir?

- A) I ve II      B) I ve IV      C) II ve III  
D) II ve IV      E) III ve IV

47. Aşağıdaki tabloda, Türkiye'de 2008 yılına ait iç ve dış hatlardaki uçuş sayısı ve bu uçuşlarda taşınan yolcu sayısı gösterilmiştir.

Uçuş sayısı		Taşınan yolcu sayısı	
İç hat	Dış hat	İç hat	Dış hat
385.764	356.001	35.832.776	43.605.513

Bu tabloya göre,

- I. Uçak başına düşen dış hat yolcu sayısı iç hattan fazladır.  
II. İç hat seferlerinden bazıları dış hat bağlantılıdır.  
III. İç hat uçuşlarından elde edilen gelir, dış hattan fazladır.

yargılarından hangileri doğrudur?

- A) Yalnız I      B) Yalnız II      C) Yalnız III  
D) I ve II      E) II ve III

48. Aşağıdakilerden hangisinin Ege Bölgesi'nde turizmin gelişmesinde rolü yoktur?

- A) Yat turizmi için doğal limanların olması  
B) Deniz turizmi için uygun iklim koşullarına sahip olması  
C) Sağlık turizmi için kaplıcaların bulunması  
D) Kültür turizmi için tarihî eserlerin olması  
E) Kış turizmi için kayak tesislerinin bulunması

Diğer sayfaya geçiniz.

# KAMU PERSONEL SEÇME SINAVI (ORTAÖĞRETİM)

28 KASIM 2010

## GENEL KÜLTÜR TESTİ

### A KİTAPÇIĞI

- |       |       |       |
|-------|-------|-------|
| 1. B  | 21. C | 41. B |
| 2. A  | 22. A | 42. C |
| 3. E  | 23. D | 43. D |
| 4. C  | 24. A | 44. C |
| 5. E  | 25. B | 45. D |
| 6. D  | 26. C | 46. B |
| 7. A  | 27. D | 47. A |
| 8. D  | 28. E | 48. E |
| 9. B  | 29. C | 49. C |
| 10. E | 30. A | 50. D |
| 11. A | 31. B | 51. E |
| 12. C | 32. D | 52. D |
| 13. D | 33. B | 53. E |
| 14. C | 34. E | 54. A |
| 15. A | 35. A | 55. C |
| 16. B | 36. C | 56. A |
| 17. E | 37. A | 57. A |
| 18. B | 38. E | 58. A |
| 19. D | 39. C | 59. D |
| 20. E | 40. A | 60. E |