

GENEL KÜLTÜR TESTİ

2010 - KPSS / ORTAÖĞRETİM

1. İslamiyet'ten önce Türklerde devlet başkanları çeşitli unvanlar taşırdı.

Aşağıdakilerden hangisi bu unvanlardan biridir?

- A) Şad B) Kağan C) Tigin
D) Tudun E) Sübaşı

2. Muallim-i Sâni unvanıyla bilinen, eserleri Batı dillerine çevrilerek Avrupa bilim dünyasını etkileyen bilgin aşağıdakilerden hangisidir?

- A) Farabi B) Gazali C) Harezmi
D) Cüveyni E) Bîrunî

3. Selçuklularda, medrese yapımına önem verilmesinde,

- I. İslam dünyasında din bilginlerine gereksinim duyulması,
II. genişleyen devlet yönetiminde görev alacak kişilere gerek duyulması,
III. eğitim ve öğretime önem verilmesi

durumlarından hangileri etkili olmuştur?

- A) Yalnız I B) Yalnız II C) Yalnız III
D) II ve III E) I, II ve III

4. Seyahatname adlı eseriyle XVII. yüzyıl Osmanlı sosyal yaşantısına ilişkin önemli bilgiler veren yazar aşağıdakilerden hangisidir?

- A) Koçi Bey B) Katip Çelebi
C) Evliya Çelebi D) Lâgari Hasan Çelebi
E) Hezarfen Ahmet Çelebi

Diğer sayfaya geçiniz.

5. XVII. yüzyılın sonlarına doğru Osmanlı Devleti dünya siyasetini etkileyen değil, bu siyasetten etkilenen bir konuma gelmeye başlamıştır.

Osmanlı Devleti'nin Avrupa devletleri karşısında bu konuma gelmesinde,

- I. siyasi,
- II. ekonomik,
- III. teknolojik

alanların hangilerinde geri kalması etkili olmuştur?

- A) Yalnız I B) Yalnız II C) Yalnız III
D) II ve III E) I, II ve III

6. Osmanlı Devleti'nde, padişahlığın hanedanın erkek üyelerinin en yaşlısına geçmesi usulü aşağıdaki padişahlardan hangisi zamanında kabul edilmiştir?

- A) IV. Mehmet B) II. Osman C) IV. Murat
D) I. Ahmet E) II. Ahmet

7. II. Mahmut Döneminde imzalanan Sened-i İttifak'ın önemi nedir?

- A) Âyanların gücünün tanınması
- B) Timar sisteminin kaldırılması
- C) Devlet adamlarının bilim ve teknik alanında Avrupa'nın ileri olduğunu kabul etmesi
- D) Yeniçeri Ocağının kaldırılması
- E) Osmanlı Devleti'nin ilk kez yabancılarla ittifak arayışlarına girmesi

8.

- I. Hükûmetin padişaha karşı sorumlu olması
- II. Âyan ve Mebuslar Meclislerini açma ve kapatma yetkisinin padişaha ait olması
- III. Mebusan Meclisi üyelerinin dört yılda bir yapılan seçimle meclise girmesi

Kanunuesasi'de yer alan yukarıdaki hükümlerden hangilerinin, Âyan ve Mebuslar Meclislerinin yetkilerini kısıtladığı savunulabilir?

- A) Yalnız I B) Yalnız II C) Yalnız III
D) I ve II E) I, II ve III

9. Tanzimat ve Islahat Fermanlarıyla Müslüman olmayanlara,

- I. bağımsız olma,
- II. yasalar karşısında Müslümanlarla eşit olma,
- III. matbaa açabilme

haklarından hangilerinin verilmesi öngörülmüştür?

- A) Yalnız I B) Yalnız II C) Yalnız III
D) II ve III E) I, II ve III

Diğer sayfaya geçiniz.

10. Birinci Dünya Savaşı'nda Alman Genelkurmayının Osmanlı Devleti'ni yönlendirmesiyle girişilen Süveyş Kanalı harekâtıyla,

- I. İngilizlerin sömürgelerine giden yolu kontrol etmek,
- II. Mısır'ı geri almak,
- III. Arap kabilelerini İngilizlere karşı kıskırtmak

amaçlarından hangilerine ulaşmak istenmiştir?

- A) Yalnız I B) Yalnız II C) Yalnız III
D) II ve III E) I, II ve III

12. 12 Ocak 1920 tarihinde toplanan Osmanlı Mebuslar Meclisinde aşağıdakilerden hangisi kabul edilmiştir?

- A) Seçimlerin yapılması
- B) Yeni bir anayasa yapılması
- C) Misakımillî
- D) Meclisin Ankara'da toplanması
- E) Damat Ferit Hükümetinin düşürülmesi

11. İstanbul Hükümeti, Mustafa Kemal'i aşağıdakilerden hangisi nedeniyle 9. Ordu Müfettişliği göreviyle Anadolu'ya göndermiştir?

- A) Karadeniz bölgesinde güvenliği sağlamak
- B) Yunanlıların İzmir'i işgalini engellemek
- C) Kongreler düzenlemek
- D) Anadolu'da milis kuvvetleri oluşturmak
- E) İngilizlerin Samsun'a çıkmasını engellemek

13. Sivas Kongresi'ni Erzurum Kongresi'nden ayıran özelliklerden biri aşağıdakilerden hangisidir?

- A) Mustafa Kemal'in kongre başkanlığına getirilmesi
- B) Millî Meclisin derhal toplanmasının istenmesi
- C) Müslüman olmayanlara ulusal çıkarılara aykırı ödümler verilmesine karşı çıkılması
- D) Yurdun çeşitli yerlerinde kurulan savunma cemiyetlerinin birleştirilmesi
- E) Temsilciler Kurulu oluşturulması

Diğer sayfaya geçiniz.

14.

- Çukurova bölgesinin Fransız ve Ermeniler tarafından işgalini önlemek
- Yayın ve propaganda yoluyla millî bilincin uyandırılması için çalışmak

Yukarıda belirtilen amaçlar doğrultusunda aşağıdaki cemiyetlerden hangisi çalışmıştır?

- A) Milli Kongre B) Wilson Prensipleri
C) Kilikyalılar D) Teali-i İslam
E) İngiliz Muhipleri

15. 1921 Anayasası'na göre, Meclis üyeleri iller halkınca seçilir, ancak bu üyeler seçildiği ilin değil tüm ulusun temsilcisidir.

Anayasanın bu hükmüyle aşağıdakilerden hangisinin gözetildiği savunulabilir?

- A) Ülkenin ve ulusun bir bütün olduğunun
B) Ülkede bulunan etnik grupların
C) Siyasi görüş farklılıklarının
D) Meclisin yasama ve yürütme yetkisi olduğunun
E) Seçilen üyelerin belli bir süre için seçildiğinin

16. Türkiye'nin,

- I. Irak,
II. Yunanistan,
III. Suriye

devletlerinden hangileriyle sınırı, Lozan Antlaşması'nda belirlenmiştir?

- A) Yalnız I B) Yalnız II C) Yalnız III
D) I ve II E) I, II ve III

17.

- I. Teşvik-i Sanayi Kanunu'nun çıkarılması
II. İş Bankasının kurulması
III. İlk Beş Yıllık Sanayi Planı'nın hazırlanması

Yukarıdakilerin hangileriyle sanayi ve ekonominin canlanması hedeflenmiştir?

- A) Yalnız I B) Yalnız II C) Yalnız III
D) II ve III E) I, II ve III

18. **Aşağıdakilerden hangisi, Menemen Ayaklanması'na ortam hazırlayan nedenler arasındadır?**

- A) Türkiye'nin Milletler Cemiyetinin üye devletlerinden biri olması
B) Rejim karşıtlarının güçlenmesi
C) Takrir-i Sükûn Kanunu'nun çıkarılması
D) Tek dereceli seçim sisteminin kabul edilmesi
E) İstiklal Mahkemelerinin kapatılması

Diğer sayfaya geçiniz.

19. 1924-1930 yılları arasında, çok partili hayata geçmek amacıyla,

- I. Terakkiperver Cumhuriyet,
- II. Serbest Cumhuriyet,
- III. Halk

partilerinden hangileri kurulmuştur?

- A) Yalnız I B) Yalnız II C) Yalnız III
D) I ve II E) I, II ve III

20. Türk Dil Kurumunun amaçlarından biri Türkçeyi yabancı dillerin boyunduruğundan kurtarmaktır.

Buna göre,

- I. toplumsal anlaşma ve bütünleşme,
- II. dili zenginleştirme ve güzelleştirme,
- III. Türkçeye bilim terimleri kazandırma

durumlarından hangilerinin sağlanmaya çalışıldığı savunulabilir?

- A) Yalnız I B) Yalnız II C) Yalnız III
D) II ve III E) I, II ve III

21.

- I. Tekke ve türbelerin kapatılması
- II. İlk kez azınlık okullarının açılması
- III. Okulların Millî Eğitim Bakanlığına bağlanması

Yukarıdakilerden hangileri Cumhuriyet Dönemi gelişmeleri arasındadır?

- A) Yalnız I B) Yalnız II C) I ve III
D) II ve III E) I, II ve III

22. Atatürk, "Millet açıkça bilmelidir. Medeniyet öyle bir kuvvetli ateştir ki, ona kayıtsız kalanları yakar." demiştir.

Atatürk'ün bu sözüyle,

- I. çağdaşlık,
- II. ulusalcılık,
- III. devletçilik

ilkelerinden hangilerinin önemini doğrudan vurguladığı savunulabilir?

- A) Yalnız I B) Yalnız II C) Yalnız III
D) I ve II E) I, II ve III

Diğer sayfaya geçiniz.

23. 21 Haziran 1934 tarihinde Soyadı Kanunu çıkarılmıştır.

Bu Kanun'da uyulması gereken,

- I. ahlaka aykırı ve gülünç kelimelerin yasak olması,
- II. soyadlarının Türkçe olması,
- III. yabancı ırk ve millet adlarının kullanılmaması

koşullarından hangilerinin milliyetçilik anlayışının göstergesi olduğu savunulabilir?

- A) Yalnız I B) Yalnız II C) I ve III
D) II ve III E) I, II ve III

24. Atatürkçü laik anlayış,

- I. kanunlar önünde din ve inanç ayrımı yapma,
- II. din ve devlet işlerini ayırma,
- III. kişisel inanç özgürlüğü tanıma

durumlarından hangilerine karşıdır?

- A) Yalnız I B) Yalnız II C) Yalnız III
D) II ve III E) I, II ve III

25. Türkiye, dünya barışının korunması amacıyla oluşturulan aşağıdaki girişim ve kuruluşlardan hangisine Atatürk Döneminde üye olmuştur?

- A) Milletler Cemiyeti – Kuzey Atlantik Paktı
- B) Kellog Paktı – Milletler Cemiyeti
- C) Kuzey Atlantik Paktı – Birleşmiş Milletler Teşkilatı
- D) Birleşmiş Milletler Teşkilatı – Kellog Paktı
- E) Kellog Paktı – Kuzey Atlantik Paktı

26. Aşağıdakilerden hangisi Atatürk Dönemi siyasi gelişmeleri arasındadır?

- A) Kıbrıs sorununun çözülmesi
- B) Türkiye'nin Kore Savaşı'na asker göndermesi
- C) Türk-Yunan dostluk antlaşmasının yapılması
- D) Türkiye'nin Kuzey Atlantik Paktına üye olması
- E) Hatay Türk Devleti Meclisinin anavatana katılmayı kabul etmesi

Diğer sayfaya geçiniz.

27.

- I. Halkevlerinin açılması
- II. Nüfus sayımı yapılması
- III. Köy Enstitülerinin kurulması

Yukarıdakilerden hangileri Atatürk Döneminde gerçekleşmiştir?

- A) Yalnız I B) Yalnız II C) Yalnız III
D) I ve II E) I, II ve III

28.

- I. Kabotaj Kanunu
- II. Medeni Kanun
- III. Ceza Kanunu

Yukarıdakilerden hangileri, Atatürk Döneminde kabul edilmiş ve uygulanmasına geçilmiştir?

- A) Yalnız I B) Yalnız II C) Yalnız III
D) I ve II E) I, II ve III

29. Atatürk Döneminde Balkan Paktının kurulmasında aşağıdakilerden hangisinin etkisi olmuştur?

- A) Irak'ın bağımsızlığını kazanması
B) Rusya'da rejim değişikliği olması
C) Anlaşmaya taraf devletlerin güvenliklerinin tehlikeye girmesi
D) Birleşmiş Milletler Teşkilatının kurulması
E) Sadabad Paktının kurulması

30. Boğazlar Komisyonunun kaldırılması ve görevlerinin tamamıyla Türk Devleti'ne verilmesi aşağıdakilerden hangisiyle sağlanmıştır?

- A) Montrö B) Mudanya C) Moskova
D) Lozan E) Londra

Diğer sayfaya geçiniz.

31. Türkiye'nin coğrafi konumuyla ilgili olarak aşağıdaki bilgilerden hangisi yanlıştır?

- A) Yengeç Dönencesi'nin kuzeyinde yer alır.
- B) 21 haziranda gündüz süresi güneye gidildikçe uzar.
- C) En batısı ile en doğusu arasında bir saatten fazla yerel saat farkı vardır.
- D) Avrupa, Asya ve Afrika kıtalarının birbirine en çok yaklaştığı yerdedir.
- E) Kuzey Yarım Küre'de, Orta Kuşak'ta yer alır.

32. Kıyı illerinde, kıyı çizgisine paralel uzanan dağ sıralarının bulunması, iç kesimlerde yer alan illerde ise kısa mesafelerde büyük yükselti farkının olması, bu illerin sınırları içerisinde aynı mevsimde bile farklı iklim koşullarının görülmesine neden olur.

Buna göre, aşağıdaki illerin hangisinde, il sınırları içindeki iklim koşulları daha az farklılık gösterir?

- A) Adana
- B) Erzincan
- C) Artvin
- D) Kilis
- E) Hakkâri

33. Yatak eğimi ve yağış rejimi, Doğu Karadeniz Bölümü akarsularının aşağıdaki özelliklerinden hangisi üzerinde etkili değildir?

- A) Enerji potansiyelinin yüksek olması
- B) Buzullardan beslenmeleri
- C) Akış hızlarının fazla olması
- D) Yıl boyunca su taşımaları
- E) Derin vadilerde akmaları

34. Aşağıdakilerden hangisinin artışı, Türkiye'deki hızlı nüfus artışıyla açıklanamaz?

- A) Gelir dağılımındaki dengesizliğin
- B) İşsizliğin
- C) Okul gereksiniminin
- D) Alt yapı gereksiniminin
- E) İl sayısının

35. Aşağıdakilerden hangisinin, Türkiye'deki iç göçlerin azalmasında etkili olması beklenmez?

- A) Öğrencisi az olan köylerdeki okulların kapatılarak taşınmalı eğitime geçilmesi
- B) Sınır kapılarındaki ticaretin artırılması
- C) Tarımda verim artırıcı yöntemlerin yaygınlaştırılması
- D) Ahır hayvancılığının geliştirilmesi
- E) Endüstri tesislerinin yurt genelinde yaygınlaştırılması

Diğer sayfaya geçiniz.

36. Türkiye'de Ege ve Akdeniz kıyılarında yer alan ve 40-50 yıl öncesinde birer sahil köyü ya da kasabası niteliğinde olan yerleşmelerin bazıları turizmin etkisiyle günümüzde birer kent niteliği kazanmıştır.

Aşağıdaki kentlerin hangisi bu duruma örnek gösterilemez?

- A) Bodrum B) Marmaris C) İskenderun
D) Kemer E) Çeşme

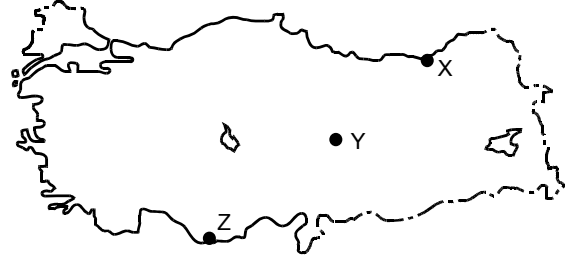
37. Türkiye'de son dönemlerde,

- tarımda çalışan işçi sayısının azalması,
- hasat süresinin kısalması,
- hasat sırasında ürün kaybının azalması

aşağıdakilerden hangisinin bir sonucudur?

- A) Makine kullanımının yaygınlaşmasının
B) Sulanabilen tarım alanlarının artmasının
C) Nöbetleşe ekim yapılmasının
D) Türlerin iyileştirilmesi için aşılama yapılmasının
E) Kaliteli tohum kullanılmasının

- 38.



Yukarıdaki haritada X, Y ve Z ile gösterilen yerlerde hangi tarım ürünleri yoğun olarak yetiştirilir?

X	Y	Z
A) Fındık	Haşhaş	Muz
B) Mısır	Haşhaş	Zeytin
C) Fındık	Buğday	Mercimek
D) Çay	Mısır	Ayçiçeği
E) Çay	Buğday	Muz

39. **Aşağıdaki coğrafi bölgelerden hangisi, karşısında verilen tarım ürününün üretim miktarı bakımından Türkiye'de ilk sırada yer almaz?**

- A) İç Anadolu – Arpa
B) Akdeniz – Turunçgiller
C) Marmara – Zeytin
D) Karadeniz – Fındık
E) Ege – İncir

Diğer sayfaya geçiniz.

40. Aşağıdaki tarım ürünlerinden hangisinin Türkiye'deki yetiştirme alanını sınırlandıran etmen diğerlerinden farklıdır?

- A) Haşhaş B) Turunçgiller C) Buğday
D) Kivi E) Mercimek

41. Bir yerde geleneksel yöntemlerle yapılan hayvancılıkta o yerin iklimi, bitki örtüsü ve yer şekilleri gibi doğal koşullar etkili olmaktadır.

Buna göre, aşağıdaki illerin hangisinde, karşısında verilen hayvancılık türünün yapılması beğlenmez?

İl	Hayvancılık türü
A) Bartın	Balıkçılık
B) Sivas	İpek böcekçiliği
C) Rize	Büyükbaş hayvancılık
D) Hakkâri	Arıcılık
E) Konya	Küçükbaş hayvancılık

42. Türkiye'de,

- I. küçükbaş hayvancılığın,
II. sebze ve meyveciliğın,
III. seracılığın,
IV. tahıl tarımının

yapıldığı yerlerin hangilerinde konserve fabrikaları da yaygındır?

- A) I ve II B) I ve III C) II ve III
D) II ve IV E) III ve IV

43. Türkiye'de endüstri kuruluşlarının yoğun olduğu yerler,

- I. aynı coğrafi bölgede yer almaları,
II. fazla göç almaları,
III. enerji kaynakları bakımından zengin olmaları,
IV. ulaşım olanakları bakımından gelişmiş olmaları

özelliklerinin hangileri bakımından ortaktır?

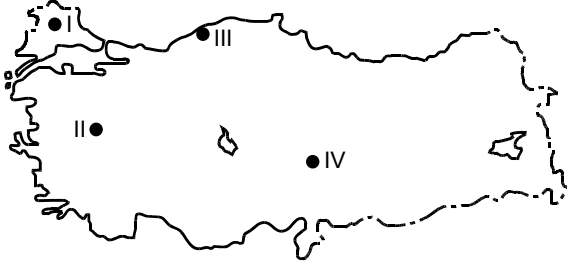
- A) I ve II B) I ve III C) II ve III
D) II ve IV E) III ve IV

44. Aşağıdaki ürünlerden hangisinin Türkiye'nin dış satımındaki payı diğerlerinden daha fazladır?

- A) Elma B) Şeker pancarı C) Fındık
D) Mısır E) Pirinç

Diğer sayfaya geçiniz.

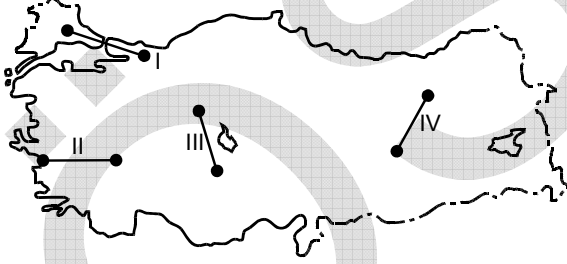
45.



Yukarıdaki haritada numaralarla gösterilen termik santrallerden hangilerinde enerji kaynağı olarak linyit kullanılmaktadır?

- A) I ve II B) I ve III C) II ve III
D) II ve IV E) III ve IV

46.



Yukarıdaki haritada numaralarla gösterilen ve kuş uçuşu uzaklıkları aynı olan yerlerin doğal koşulları göz önüne alındığında, hangilerinde demir yolu yapım maliyetinin daha yüksek olması beklenir?

- A) I ve II B) I ve IV C) II ve III
D) II ve IV E) III ve IV

47. Aşağıdaki tabloda, Türkiye'de 2008 yılına ait iç ve dış hatlardaki uçuş sayısı ve bu uçuşlarda taşınan yolcu sayısı gösterilmiştir.

Uçuş sayısı		Taşınan yolcu sayısı	
İç hat	Dış hat	İç hat	Dış hat
385.764	356.001	35.832.776	43.605.513

Bu tabloya göre,

- I. Uçak başına düşen dış hat yolcu sayısı iç hattan fazladır.
II. İç hat seferlerinden bazıları dış hat bağlantılıdır.
III. İç hat uçuşlarından elde edilen gelir, dış hattan fazladır.

yargılarından hangileri doğrudur?

- A) Yalnız I B) Yalnız II C) Yalnız III
D) I ve II E) II ve III

48. Aşağıdakilerden hangisinin Ege Bölgesi'nde turizmin gelişmesinde rolü yoktur?

- A) Yat turizmi için doğal limanların olması
B) Deniz turizmi için uygun iklim koşullarına sahip olması
C) Sağlık turizmi için kaplıcaların bulunması
D) Kültür turizmi için tarihî eserlerin olması
E) Kış turizmi için kayak tesislerinin bulunması

Diğer sayfaya geçiniz.

49. Aşağıdakilerden hangisi bir sosyal düzen kuralı niteliği tasımaz?

- A) Din kuralları B) Ahlak kuralları
C) Manevi kurallar D) Görgü kuralları
E) Hukuk kuralları

52. 1982 Anayasası'nda 5982 sayılı Kanun'la 2010 yılında yapılan değişiklik sonrası Anayasa Mahkemesi üyeleri kaç yıl için seçilirler?

- A) 5 B) 7 C) 10 D) 12 E) 15

50. Hukukta bir olayın veya olgunun varlığını veya yokluğunu ispata yarayan araçlara ne ad verilir?

- A) Fiil B) Ehliyet C) Marka
D) Delil E) İspat yükü

53. 1982 Anayasası'nda 5982 sayılı Kanun'la 2010 yılında yapılan değişiklik sonrasında Hâkimler ve Savcılar Yüksek Kurulu kaç üyeden oluşur?

- A) 7 asıl, 5 yedek üye
B) 11 asıl, 4 yedek üye
C) 15 asıl üye
D) 17 asıl üye
E) 22 asıl, 12 yedek üye

51. Kişinin doğumundan ölümüne kadar geçen süre içinde özel hukuk ilişkilerinin düzenlendiği temel kanun aşağıdakilerden hangisidir?

- A) T.C. Anayasası B) Türk Ceza Kanunu
C) Borçlar Kanunu D) Türk Ticaret Kanunu
E) Türk Medeni Kanunu

Diğer sayfaya geçiniz.

54. 1982 Anayasası'na göre, Başkomutanlık aşağıdakilerin hangisi tarafından temsil olunur?

- A) Cumhurbaşkanı
- B) Başbakan
- C) TBMM Başkanı
- D) Genelkurmay Başkanı
- E) Millî Savunma Bakanı

56. Hâkimler ve Savcılar Yüksek Kurulunun Başkanı aşağıdakilerden hangisidir?

- A) Adalet Bakanı
- B) Adalet Bakanlığı Müsteşarı
- C) Kurulun en yaşlı üyesi
- D) Kurul üyelerinin kendi aralarından salt çoğunlukla seçeceği kişi
- E) Başbakan

55. 1982 Anayasası'na göre, Cumhurbaşkanının görev süresi kaç yıldır?

- A) 3
- B) 4
- C) 5
- D) 6
- E) 7

57. Kamu düzenini sağlamaya yönelik idari faaliyete ne ad verilir?

- A) Kolluk
- B) Fiilî memur
- C) İdari yaptırım
- D) Disiplin cezası
- E) Düzenleyici işlem

Diğer sayfaya geçiniz.

58. 2010 yılında dünyanın en iyi yedi merkez bankası başkanından biri seçilen Türkiye Cumhuriyet Merkez Bankası Başkanı kimdir?

- A) Durmuş Yılmaz B) Mehmet Şimşek
C) Ali Babacan D) Ahmet Ertürk
E) Gazi Erçel

60. Yerin yaklaşık 700 metre altında iki aydan fazla mahsur kalan 33 maden işçisinin kurtarıldığı ülke aşağıdakilerden hangisidir?

- A) Brezilya B) Kolombiya C) Arjantin
D) Uruguay E) Şili

59. İkili ekonomik ilişkilerde ABD Dolarının devreden çıkarılarak Türk Lirası ve Yuanın kullanılmaya başlandığı ülke aşağıdakilerden hangisidir?

- A) Azerbaycan B) Türkmenistan
C) Japonya D) Çin
E) Pakistan

TEST BİTTİ.

CEVAPLARINIZI KONTROL EDİNİZ.

KAMU PERSONEL SEÇME SINAVI (ORTAÖĞRETİM)

28 KASIM 2010

GENEL KÜLTÜR TESTİ

A KİTAPÇIĞI

- | | | |
|-------|-------|-------|
| 1. B | 21. C | 41. B |
| 2. A | 22. A | 42. C |
| 3. E | 23. D | 43. D |
| 4. C | 24. A | 44. C |
| 5. E | 25. B | 45. D |
| 6. D | 26. C | 46. B |
| 7. A | 27. D | 47. A |
| 8. D | 28. E | 48. E |
| 9. B | 29. C | 49. C |
| 10. E | 30. A | 50. D |
| 11. A | 31. B | 51. E |
| 12. C | 32. D | 52. D |
| 13. D | 33. B | 53. E |
| 14. C | 34. E | 54. A |
| 15. A | 35. A | 55. C |
| 16. B | 36. C | 56. A |
| 17. E | 37. A | 57. A |
| 18. B | 38. E | 58. A |
| 19. D | 39. C | 59. D |
| 20. E | 40. A | 60. E |