

POLİS AKADEMİSİ
POLİS MESLEK YÜKSEKOKULLARI
ÖĞRENCİ ADAYLIĞI SINAVI
3 TEMMUZ 2010

A

ADI :
SOYADI :
T.C. KİMLİK NUMARASI :
SALON NUMARASI :

GENEL AÇIKLAMA

1. Bu sınav, Genel Yetenek ve Genel Kültür testinden oluşmaktadır. Bu sınav için verilen toplam cevaplama süresi **120 dakikadır (2 saat)**.
2. Bu sınavda A ve B olmak üzere iki tür soru kitapçığı vardır.
3. Bu soru kitapçığının türü **A**'dır. Bunu cevap kâğıdınızdaki ilgili alana kodlayınız.
Bu kodlamayı cevap kâğıdınıza yapmadığınız ve ya yanlış yaptığınız takdirde, sınavınızın değerlendirilmesi mümkün değildir.
4. Cevaplamaya istediğiniz sorudan başlayabilirsiniz.
5. Soru kitapçığındaki her sorunun yalnızca bir doğru cevabı vardır. Bir soru için birden çok cevap yeri işaretlenmişse o soru yanlış cevaplanmış sayılacaktır.
6. Değiştirmek istediğiniz bir cevabı, yumuşak bir silgiyle, cevap kâğıdını örselemeden, temizce siliniz ve yeni cevabınızı işaretlemeyi unutmayınız.
7. Cevap kâğıdınızı buruşturmayınız, katlamayınız ve üzerine gereksiz hiçbir işaret koymayınız.
8. **Test puanlanırken doğru cevaplarınızın sayısından yanlış cevaplarınızın sayısının dörtte biri düşülecek ve kalan sayı ham puanınız olacaktır. Bu nedenle bir soru hakkında hiçbir fikriniz yoksa o soruyu boş bırakınız. Ancak, soruda verilen seçeneklerden birkaçını eleyebiliyorsanız kalanlar arasından doğru cevabı kestirmeniz yararınıza olabilir.**
9. Sınavda uyulacak diğer kurallar bu kitapçığın arka kapağında belirtilmiştir.

Bu testlerin her hakkı saklıdır. Hangi amaçla olursa olsun, testlerin tamamının veya bir kısmının Merkezimizin yazılı izni olmadan kopya edilmesi, fotoğrafının çekilmesi, herhangi bir yolla çoğaltılması, yayımlanması ya da kullanılması yasaktır. Bu yasağa uymayanlar gerekli cezai sorumluluğu ve testlerin hazırlanmasındaki mali külfeti peşinen kabullenmiş sayılır.

GENEL YETENEK VE GENEL KÜLTÜR TESTİ

2010 - PMYO

1. Deniz yüzeyinden altı yüz metre kadar yükseklikte,
I
dağların arasındaki bir platoya kurulmuş bu belde,
yabani mantarları kadar orkideleriyle de ünlü. Bura-
II
daki ormanlarda yaklaşık üç yüz tür yabani orkide
III
yetiştiriyor. Şubat sonunda orkideler açmaya başlıyor.
IV
Ardından mantarlar geliyor.
V

Bu parçadaki numaralanmış sözcüklerden hangilerinin cümleye kattığı anlam ayırdır?

- A) I. ve III. B) I. ve IV. C) II. ve III.
D) III. ve IV. E) IV. ve V.

2. Çağ açıp çağ kapatan metinlerin kendi dönemlerinde

anlaşılmamalarının nedenlerinden biri de tekdüze
I
bir bakış açısıyla değerlendirilmeleridir. Bu durumdan
kurtulmak, duyguların yönlendirilmesine ve aldatıcılı-
II
ğına kapılmadan objektif ölçütlere ulaşmak için yeni-
III
likleri denemek, değişim ve gelişimden kendi payımı-
IV
za düşeni almak gerekir. Çünkü sanat, hep aynı bi-
V

çimde tekrarlanan duygu, düşünce ve güzellikler-
den, farklı tatlar alınmasını sağlayan bir zenginliktir.

Bu parçadaki altı çizili sözlerden hangileri anlamca birbirine en yakındır?

- A) I. ve II. B) I. ve V. C) II. ve III.
D) III. ve IV. E) IV. ve V.

3. Karşılaştığımızda, diploma törenine gidiyordu, sevinç ve heyecandan uçacak gibiydi.

Bu cümlede sözü edilen kişinin durumunu en iyi belirten deyim aşağıdakilerden hangisidir?

- A) Yüreği hop etmek B) İçi titremek
C) Yüreği ağzına gelmek D) İçi açılmak
E) İçi içine sığmamak

4. Aşağıdakilerin hangisinde deyim ve açıklaması birlikte verilmemiştir?

- A) Onu karşımda görünce gözlerime inanamadım, çok şaşırdım.
B) Hiçbir zaman bir dediğini iki etmedik, her dediğini yaptık.
C) Herkes kendi havasındaydı, kimse onunla ilgilenmiyordu.
D) Son günlerde bir deri bir kemik kaldı, çok zayıfladı.
E) Bu olaydan sonra kabuğuna çekildi, dışarıyla ilgisini kesti.

Diğer sayfaya geçiniz.

5. Bu kentin ara sokaklarında yürürken ilginç bin bir görünümlü çıkar karşınıza. Dünyanın öteki büyük kentlerinde pek rastlayamayacağınız bu zenginliği, ancak yolculuktan önce ev ödevine hazırlanan turistler keşfedebilir.

Bu parçadaki altı çizili sözle, turistlerin hangi özelliği vurgulanmak istenmiştir?

- A) Gidip gördüğü yerlerle ilgili karşılaştırmalar yapma
B) Kentin ana caddelerinin, o kentteki yaşamı yansıtmadığını bilme
C) Tanınmış yerlerden çok, tanınmamış yerleri gezme
D) Yola çıkmadan önce gideceği yer hakkında bilgi edinme
E) Herkesin gördüğünden farklı şeyler görmek için yola çıkma

6. Tarih öncesi çağlardan günümüze kadar çok çeşitli uygarlıkların yaşam alanı olan bu kent, her defasında küllerinden doğarak bölgenin cazibe merkezi olmuştur.

Bu cümledeki altı çizili sözle anlatılmak istenen aşağıdakilerden hangisidir?

- A) Özelliklerini kaybetmek
B) Yitirdiği işlevi ve canlılığı yeniden kazanmak
C) Çağının gereklerini karşılamak
D) Geçmişin izlerinden kurtulmak
E) Zorluklara direnmek

7. Gerçek şiir, çağlar sonra okunduğunda da okuyucunun ruhunda yeni çağrışımlar yaratabilmelidir.

Aşağıdakilerden hangisi anlamca bu cümleye en yakındır?

- A) Her şiir, toplumdaki farklı bir estetik anlayışı yansıtır.
B) Şiirde okuyucunun beklentilerini göz önüne almak, yaratıcılığı engeller.
C) Pek az şiir, okunduğunda herkesçe aynı biçimde yorumlanır.
D) Birikimi olmayan okurun, şiiri, kendince anlayabilmesi olanaklı değildir.
E) Başarılı şiir, etkisini ve anlam zenginliğini gelecek dönemlerde de sürdürür.

8. Klasikler, insanların çoğu zaman "Okuyorum." değil, "Yeniden okuyorum." dediği kitaplardır.

Bu cümlede klasik yapıtlarla ilgili olarak anlatılmak istenen aşağıdakilerden hangisidir?

- A) İlk okumada alınan tada her okumada yenileri eklenir.
B) Belleğimizde unutulmaz izler bırakan yapıtlardır.
C) İlk kez yetişkinlik çağında okumak insanlara büyük bir keyif verir.
D) Farklı kültürleri benimsemiş toplumları farklı biçimlerde etkiler.
E) Yalnızca, "büyük" yapıt oldukları için okumak anlamsızdır.

Diğer sayfaya geçiniz.

9. Gezi rehberimiz bize: "Bu bir şey değil, siz bir de kaleden görün manzarayı." dedi.

Rehber bu sözleriyle aşağıdakilerden hangisini anlatmak istemiştir?

- A) Manzaranın güzelliğine herkesin hayran kaldığını
B) Gidilen her yerin, bir sonrakinin görünce unutulacağını
C) Gezide asıl gidilmesi gereken yerlere değil, başka yerlere öncelik verildiğini
D) Sözü edilen yerde daha güzel bir manzarayla karşılaşacaklarını
E) Böyle bir manzaranın başka yerde bulunmadığını

10. (I) Soğuk, yorucu bir kışın sonuna yaklaşıyoruz. (II) Kıyı kentlerimizde güney rüzgârlarına aldanan ağaçlar çiçeklenmeye başladı. (III) Bahar kapımızı çalmak üzere. (IV) Kışın yıpratıcı etkilerinden kurtulmak istiyoruz. (V) Öyleyse termal tesislerin yolunu tutmanın tam zamanı.

Bu parçadaki numaralanmış cümlelerin hangilerinde insana özgü nitelikler doğaya aktarılmıştır?

- A) I. ve II. B) II. ve III. C) II. ve V.
D) III. ve IV. E) IV. ve V.

11. (I) İlkbaharda ada çayı bahçesine dönen Hoyran'da, denizi gören bir Sanat Evi var. (II) Mutfağı, banyosu, kliması, buzdolabı olan elli metre karelik müstakil bir ev burası. (III) Sanatçılar konaklıyor bu sakin ortamda. (IV) Bunlar arasında birbirini yakından tanıyan ressamlar, yazarlar var. (V) Sanat Evi'nden, en az bir kitabı yayımlanmış yazarlar ve en az bir kişisel sergi açmış ressamlar yararlanabiliyor.

Bu parçadaki numaralanmış cümlelerin hangisinde koşul söz konusudur?

- A) I. B) II. C) III. D) IV. E) V.

12. (I) Geri dönüştürülmüş malzemelerle yapılan "Plastiki" adlı yelkenli tekne 20 Mart 2010'da yüz gün sürecek yolculuğuna başladı. (II) San Francisco'dan hareket eden Plastiki'nin yolculuğu Sydney'de sona erecek. (III) Yolculuk sırasında güzergâh üzerindeki Kuzey Pasifik Girdabı'nda toplanmış büyük çöp yığınının örnekler alınacak, aynı zamanda teknenin yapımında kullanılan malzemelerin dayanıklılığı da test edilmiş olacak. (IV) Küçük yelkenli Plastiki'nin geri dönüştürülmüş alüminyum su borularından yapılmış iki direği var. (V) Yelkenleri de yine geri dönüştürülmüş pet şişelerden yapılmış. (VI) Plastiki, rüzgârın durumuna göre, günde yaklaşık üç yüz yirmi kilometre yol alabiliyor.

Bu parçadaki numaralanmış cümlelerin hangisinde amaç söz konusudur?

- A) I. B) II. C) III. D) IV. E) V.

Diğer sayfaya geçiniz.

13. (I) Kars, tarih öncesi çağlardan günümüze dek çeşitli uygarlıkların yaşam alanı olmuş. (II) Her dönemde de bölgenin cazibe merkezi olmayı başarmış. (III) Karadeniz üzerinden Tuna ve Volga Nehirlerine bağlanıp Avrupa'nın içlerine uzanan tarihî ticaret yolları Kars'ta keşişmiş. (IV) Ticaret yollarının zamanla yön değiştirmesi, savaşlar ve göçler, hareketli, parlak günlerinin geride kalmasına yol açmış. (V) Artık kentin tarihî zenginliklerine ve muhteşem doğasına, etkin ve uzun soluklu tanıtımlarla dikkat çekmenin zamanı gelmiştir.

Bu parçadaki numaralanmış cümlelerin hangilerinde kişisel görüşe yer verilmemiştir?

- A) I. ve III. B) I. ve V. C) II. ve III.
D) III. ve IV. E) IV. ve V.

14. (I) Burası yüksek tepelerle çevrili, girişinde heykel görünümlü kayalar ve çam ormanları olan bir koy. (II) Batısında, buralarda dolaşan gezi teknelerinin yanaştığı bir iskele bulunuyor. (III) Bu tekneler yaz aylarında mavi renkleri, kırmızı bayraklarıyla denizde bir renk cümbüşü oluşturuyor. (IV) Ne var ki bunların çevreye kimi zararlarının olduğu da apaçık ortada. (V) Dileğim, bunların yerini en kısa zamanda hafif, çevreye zarar vermeyen "katamaran" denilen teknelerin alması.

Bir yöremizin anlatıldığı bu parçadaki numaralanmış cümlelerle ilgili olarak aşağıda verilenlerden hangisi yanlıştır?

- A) I. cümlede, çevreyle ilgili betimleme yapılıyor.
B) II. cümlede, iskelenin kullanımına ilişkin bilgi veriliyor.
C) III. cümlede, denizcilikle ilgili bilgiler veriliyor.
D) IV. cümlede, yadsınamayacak bir durumdan söz ediliyor.
E) V. cümlede, daha önce belirtilen sorunlarla ilgili bir çözümden söz ediliyor.

15. (I) Ben küçükken Rize'ye her yaz giderdik. (II) Sonra çeşitli nedenlerle yirmi yıl hiç gidemedik. (III) Yıllar sonra, dağcılığa ilgi duyduğum için gittim. (IV) Ve o güne kadar gitmemekle kendime ne kadar büyük bir haksızlık ettiğimi gördüm. (V) Kaçkar Dağları, bizlere masallarda anlatılan dünyanın gerçeğe dönüşmüş hâli gibiydi.

Rize ve çevresinin anlatıldığı bu parçadaki numaralanmış cümlelerle ilgili olarak aşağıda verilenlerden hangisi yanlıştır?

- A) I. cümlede, düzenli olarak yapılan bir işten söz ediliyor.
B) II. cümlede, yaşamda karşılaşılan güçlükler yer veriliyor.
C) III. cümlede, yapılan işin nedeni ve sonucu belirtiliyor.
D) IV. cümlede, bir tutuma ilişkin yargıda bulunuluyor.
E) V. cümlede, görülenlerle ilgili bir benzetme yapılıyor.

16. Aşağıdaki cümlelerin hangisinde bir yazım yanlışı vardır?

- A) Hiç bir güç, beni orada daha fazla tutamazdı.
B) Onu uzaktan fark etmediğimi anlamıştı.
C) Sağanak yağıştan bir anda sırsılıkam olmuşum.
D) Mademki gelmeyecek, biz de gidelim.
E) Her şey babamın tam istediği gibi olmuştu.

Diğer sayfaya geçiniz.

17. Ne güzel söylemişler () “Çok konuşuyoruz ama az dinliyoruz ()” Çağımızın sorunu () hastalığı bu.

Bu parçada ayraçlarla () belirtilen yerlere aşağıdakilerin hangisinde verilen noktalama işaretleri sırasıyla getirilmelidir?

- A) (:) (.) (.) B) (:) (...) (.) C) (:) (.) (.)
D) (:) (.) (.) E) (:) (.) (!)

18. Kışın yalnızca soğuk değil, iç karartan, ruhumuzu da-
I II III
raltan, kısacık günlerinin yerini baharın civıltısı alma-
IV V
ya başladı.

Bu cümledeki numaralanmış sözlere hangisi niteleme amacıyla kullanılmamıştır?

- A) I. B) II. C) III. D) IV. E) V.

19. Aşağıdaki cümlelerin hangisinde bir anlatım bozukluğu vardır?

- A) Bu havza, 1965 yılında millî park olarak koruma altına alınmıştır.
B) Bence erozyon sorununa karşı yeterli önlem alınmadığını düşünüyorum.
C) Bu yörenin ormanları, geyikler başta olmak üzere, pek çok yaban hayvanı için en uygun yaşama alanı olarak bilinir.
D) Gördüğünüz bu göller, dağlardan kopan kütlelerin, vadilerin önünü kapaması sonucunda oluşmuştur.
E) Bu yörenin doğal güzelliklerini oluşturan ormanlar, yaylalar pek çok kişinin ilgisini çekmektedir.

20. Aşağıdaki cümlelerin hangisinde bir anlatım bozukluğu vardır?

- A) Üzümün eskiden beri Anadolu'da çok yaygın olduğu, kırsal alanda yetiştirildiğinden söz ediliyor.
B) Pazarda, tezgâh aralarında satıcı teyzeler ve amcalarla sohbet ederek ilerledim.
C) Her koşula ayak uydurabilen, soğuğa ve susuzluğa dayanıklı bir bitkidir bağ kütüğü.
D) Sadece yiyecek değil, tohum ve fide satanlar da var bu pazarda.
E) Çevre köylerden ve kent merkezinin biraz dışındaki mahallelerden gelen çiftçilerin kurduğu bu pazar oldukça renkli.

Diğer sayfaya geçiniz.

21. Her geçen gün, bu kıyı köyünde yaşayanların sayısı
I II III IV

giderek artıyor.
V

Bu cümledeki numaralanmış sözlerden hangisinin atılması gerekir?

A) I. B) II. C) III. D) IV. E) V.

22. Kimi zaman bir parşömede kimi zaman bir tahta
I

parçasında, koskocaman bir dünya, sanki sihirli bir
II III IV

dokunuşla küçültülmüş gibi serilir gözler önüne
V

minyatür sanatında.

Bu cümledeki numaralanmış sözlerden hangisinin atılırsa cümlemin anlamında bir daralma olmaz?

A) I. B) II. C) III. D) IV. E) V.

23. (I) Hasankeyf, (II) doğal zenginlikleri ve on beş bin yıllık (III) geçmişiyle (IV) UNESCO'nun belirlediği, "Dünya Mirası"nın on kriterinden dokuzunu sağlayan, (V) tek yer olarak biliniyor.

Bu cümledeki numaralanmış yerlerden hangisine "dünyadaki" sözcüğü getirilebilir?

A) I. B) II. C) III. D) IV. E) V.

24. (I) Mevsimler çok önemlidir Ankara'da. (II) Sanılanın aksine ilkbahar ve yaz değildir beklenen; sonbahar özlenir, kış sevilir. (III) Çünkü ekim ayının gelmesiyle tiyatro sezonu açılır. (IV) Ankara'da doğmuş, büyümüş, okumuş, yaşamış ya da çalışmışsanız izlediğiniz oyunlardan replikler karışır cümlelerinize. (V) Hele bir de konu edebiyatsa tiyatroya uyarlanan eserler üzerine sürer konuşma.

Bu parçadaki numaralanmış yerlerden hangisine düşüncenin akışına göre "Artık, aklınızın bir köşesinde hep tiyatroya gitmek vardır." cümlesi getirilebilir?

A) I. B) II. C) III. D) IV. E) V.

25. (I) İnsanda duygu, düşünce, yaratma gücü olduğuna göre, kuşkusuz, yazar yokken de edebiyat vardı. (II) Toplumunu oluşturan bireyler arasında yaratıcı olanlar, yaşananları farklı algılayıp duyumsayanlar, onu anlatıma dönüştürenler hep oldu. (III) Bir bakıma herkes yazardı o zamanlar. (IV) Yazarlık, düş gücünün gelişmiş olmasını gerektirir. (V) Bunlar arasında, yaşananları daha etkileyici biçimde dile getirenler vardı. (VI) Bugün hatırladıklarımız da bunu başaranlardır.

Bu parçadaki numaralanmış cümlelerden hangisine düşüncenin akışını bozmaktadır?

A) I. B) II. C) III. D) IV. E) V.

Diğer sayfaya geçiniz.

26. (I) Fen bilimleri, insanların hayatında, soludukları havadan içtikleri suya, yaşadıkları dünyadan kullandıkları en küçük teknolojik araca kadar geniş bir yelpazeyi kapsar. (II) Hemen hemen her bilim alanı, araştırmalarını fen biliminin temel ilkelerinden yararlanarak yürütmektedir. (III) Fizik, fen biliminin önemli bir dalıdır, içinde yaşanan evrenin gizemli olaylarının anlaşılmasını amaçlayan deneysel gözlemler ve nicel ölçümlere dayanır. (IV) Bir doğa bilimi olan fizik, doğal olayların neden ve sonuçlarını öğrenme, değerlendirme, yorumlama ve bunların bir kısmını matematiksel yöntemlerle formüllendirme işidir. (V) Onun amacı, doğayı, insanlığa yararlı olacak biçimde kullanmanın yolunu göstermektir. (VI) Tüm doğa bilimlerinin kaynağı fiziktir.

Bu parça iki paragrafa ayrılmak istense ikinci paragraf hangi cümleyle başlar?

- A) II. B) III. C) IV. D) V. E) VI.

27. Çocuklar, anne-babalarının söylediklerini değil, yaptıklarını yapar. Bir anne-baba çocuğuna yalan söylememesini öğretir. Ama çocuk, anne ya da babasının yalan söylediğini görürse kendisine verilen öğüdü, kendisine söylenen başka bir yalan olduğunu düşünür. Bunun sonucunda da ----.

Bu parçanın sonuna düşüncenin akışına göre aşağıdakilerden hangisi getirilebilir?

- A) anne-babasının izinden gider
B) yaşamı hafife alır
C) sorunlarını kendi kendine çözmesi gerektiğini anlar
D) anne-babasının her söylediğine inanır
E) kendine olan güvenini yitirir

28. Öz Türkçenin büyük ustasıdır Yunus Emre. O, en bilgece düşünceleri, en yüce duyguları halk diliyle söylemeyi denemiş ve başarmıştır. Söz dağarcığını, halkın söz değerleri üzerine kurmuş, geliştirmiştir. Dilimizin dokusunu halkın yarattığı söz değerleriyle beslemiştir.

Bu parçada belirtilenler aşağıdaki sorulardan hangisine karşılık olarak söylenmiş olabilir?

- A) Hangi özellikler ozanların kalıcı olmalarını sağlar?
B) Yunus Emre, halkın duygularını ne ölçüde yansıtabilmiştir?
C) Yunus Emre, yapıtlarında kime seslenmeyi amaçlamıştır?
D) Şair ve ozanların kullandığı dil herkesçe anlaşılır mı?
E) Yunus Emre dile nasıl bir katkı sağlamıştır?

29. Evine çekinmeden girip çıktığım eleştirmenlerden biriydi. Bütün odalar hatta koridor bile bir uçtan bir uca kitaplıktı ve bütün raflarda kitaplar vardı. Ne zaman evine gitsem elinde kitabı, gözünde gözlüğü, pencere kenarındaki koltuğunda oturken bulurdum onu. Yazdıklarının doğruluğunu kanıtlamak için bir kitabı bırakıp ötekini eline alarak bütün gün okur da okurdu.

Böyle tanıtilen bir eleştirmen için aşağıdakilerden hangisi söylenebilir?

- A) Konuksever olduğu
B) Doğal davranışlarıyla ilgi çektiği
C) Yazdıklarını belgelere dayandırmaya çalıştığı
D) Kitaplar arasında kendini güvende hissettiği
E) Çalışmalarını, belirlediği plana göre sürdürdüğü

Diğer sayfaya geçiniz.

30. İlişkilerimiz konusunda düştüğümüz en büyük yanılgı, kurulan ilişkilerin hep aynı biçimde süreceğine inanmaktır. Oysa yüzümüz, bedenimizle birlikte düşüncelerimiz ve duygularımız da gelişmekte ve değişmektedir. Yirmi yaşındaki düşünce ve duygularımızla kırk yaşındaki düşünce ve duygularımız farklı olmakta. Bu yüzden yirmili yaşlarda başlayan kimi arkadaşlıklar kırklı yaşlara erişildiğinde istek ve ihtiyaçların farklılaşması nedeniyle başlangıç noktasındaki sıcaklığıyla yürümeyebilmekte. Her iki tarafın kişisel gelişim ve değişimini göz önünde tutup kurulan ilişkinin başlangıçtaki gibi yürümeyeceğini düşünerek hoşgörülü olmak ilişkinin ömrünü uzatacaktır.

Bu parçada ilişkilerle ilgili olarak anlatılmak istenen aşağıdakilerden hangisidir?

- A) Her dönemde gereksinimlere göre yenilerinin kurulduğu
- B) Zaman zaman sorunların konuşulmasının yararlı olacağı
- C) Niteliğini, sürenin değil, paylaşılanların belirlediği
- D) Sağlıklı sürdürülmesi için, değişen koşulların etkisini dikkate almak gerektiği
- E) Gereğinden fazla sahiplenme duygusundan olumsuz etkileneyeceği

31. İnsanın çocukluk döneminde oluşmuş bir birikim olan mitoloji, tüm sanatsal yaratıların çıkış noktasıdır. Her sanatçı, defalarca anlatılmış olayları, yaratılmış karakterleri, tipleri bu kaynaktan alabilir. Kendi yaşantısından yola çıkarak seçtiği konuları ve kişileri de bu birikimden yararlanarak işleyebilir. Sözü kısası sanatta yoktan var etme diye bir durum söz konusu değildir. Ancak yeni bir bireşime varmaktan söz edilebilir.

Bu parçaya göre mitolojiyle ilgili olarak aşağıdakilerden hangisi söylenebilir?

- A) Yapıtları sıradanlaştırdığı
- B) Çok eskilere dayanan bir geçmişinin olduğu
- C) Edebiyatın gelişmesini sağladığı
- D) İnsanın geçmişini aydınlattığı
- E) Olağanüstü olayları konu edindiği

32. Küresel ısınma, kutuplardaki buzulların erimesini hızlandırmıştır. Bu durum okyanuslarda su düzeyinin yükselmesine yol açacaktır. Okyanusların su düzeyi yükselince doğal olarak, bazı adalarla karaların kıyı kesimleri su altında kalacaktır. Ayrıca kutuplardaki buzulların erimesi okyanuslardaki suyun sıcaklığının düşmesine yol açacak, bu da sıcak ve soğuk su akıntılarının düzenini değiştirecektir.

Bu parçada küresel ısınmanın yol açacağı olumsuzluklardan hangisine değinilmemiştir?

- A) Buzul kütlelerinin küçülmesine
- B) Okyanuslardaki su miktarının artacağına
- C) Kıyı çizgisinin değişeceğine
- D) Okyanus sularında sıcaklık değişmelerinin oluşmasına
- E) Canlıların yeni yaşama biçimleri arayacağına

33. Değişik biçimlerde içilen tütün ürünlerinin dumanı, kullanıcının akciğerlerinden nefes yoluyla ve sigaranın ucundan çıkar. Bu duman, kansere neden olan yüzlerce kimyasal madde içerir. Sigara içmemesine karşın tütün dumanının etkisinde kalan kişilere pasif içici denir. Yapılan araştırmalara göre, dünyada çocukların % 50'si pasif içici durumundadır. Çocukken tütün ürünlerinin etkisinde kalan çocuklarda büyüdükten sonra solunumla ilgili pek çok rahatsızlık oluşabilir.

Bu parçada tütün ürünleriyle ilgili olarak aşağıdakilerden hangisine değinilmemiştir?

- A) Zararlarından nasıl korunulacağına
- B) Sağlık sorunlarına yol açabileceğine
- C) Bileşiminde nelerin bulunduğuna
- D) Zararlı etkilerinin zamanla ortaya çıkabileceğine
- E) Pasif içiciliğe ortam hazırladığına

34. Önemli olan, yabancı sözcükleri az ya da çok kullanmak değil, düşünceyi, Türkçenin kendi değerleriyle biçimlendirebilmektir. Anlam inceliklerini, güzelliklerini, Türkçenin söz dağarcığında aramak, bulmaktır. Bir yazar bu arayışı, bu arayışın ortaya çıkaracağı güçlükleri yenmeyi göze almadığı sürece, dilinin işçisi, işleyicisi olma onuruna kavuşamaz. Bundan da öte, yazmanın tadına varamaz, yazdıklarına, dilin tadını katamaz.

Böyle diyen bir yazarın aşağıdakilerden hangisini söylemesi beklenmez?

- A) Yazılarımdaki tüm söz değerlerinin Türkçe olmasını isterim.
- B) Yazılarımı oluştururken Türkçe sözcük araştırması içine girerim.
- C) Türkçeyi bir kuyumcu gibi işlemek bana zevk verir.
- D) Güzel bir anlam yakaladığım zaman ilkelerimden vazgeçebilirim.
- E) Yabancı sözcüklerden arınmış yapıtlar, bana büyük bir haz verir.

35. "Nebula" yani bulutsular, Latince'de bulut anlamına gelen sözcükten türetilmiştir. Bulutsular, yıldızların, gök adaların, gezegenlerin yapı taşlarıdır. Kompozisyonları ve ilginç şekilleriyle, içlerinde oluşan yıldızın yapısına ilişkin ipucu verir. Sirkus bulutlarının incecik filizlerinin, yüksek atmosfer rüzgârlarının etkisiyle bir-biri içine geçişini ya da sıcak bir ikindi vakti, dalgalar hâlinde kabaran kümülüs bulutlarının oluşumunu izlerseniz nebulaları yani bulutsuları daha iyi anlarsınız.

Bu parçada nebulalarla ilgili olarak aşağıdakilerden hangisine değinilmemiştir?

- A) Gök cisimlerinin oluşumunda rol oynadığına
- B) Dikkat çekici olduğuna
- C) Gün içinde en iyi ne zaman gözlemlenebildiğine
- D) Görünümlerinin nasıl olduğuna
- E) Sözcüğün kökeninin hangi dile dayandığına

36. Ne kadar yetenekli olursanız olun, gençseniz bu oyunculuk için yeterli değildir. Çünkü oyunculuk yaş aldıkça demlenir. Ancak o zaman "Oyun ne, oyunculuk ne, ben oyun ile oyunculüğün neresindeyim?" gibi sorulara yanıt ararsınız. Benim oyuncu olarak bir şansım var: Aynı zamanda yönetmenlik de yaptığım için birçok oyuncudan beslenebiliyorum. Tiyatroda oyuncu olarak rol aldığımda oyuna neler katabileceğimin hesabını yapıyorum.

Böyle diyen bir sanatçı için aşağıdakilerden hangisi söylenemez?

- A) Deneyim kazandıkça olgunlaştığına inandığı
- B) Tanınmak için yapılması gerekenleri bildiği
- C) Oyuncu olarak rolüne farklı açılardan bakabildiği
- D) Kendini geliştirmeye açık olduğu
- E) Başkalarının birikimlerinden yararlandığı

37.

$$\frac{0,1}{0,01} + \frac{1,4}{0,2} - \frac{5}{0,5}$$

işleminin sonucu kaçtır?

- A) 3 B) 4 C) 5 D) 6 E) 7

38.

$$\sqrt[3]{\left(\frac{1}{64}\right)^{-1}}$$

işleminin sonucu kaçtır?

- A) -4 B) 4 C) $-\frac{1}{2}$ D) $\frac{1}{4}$ E) $\frac{1}{16}$

39.

$$\frac{2^{2011} - 2^{2009}}{2^{2008}}$$

işleminin sonucu kaçtır?

- A) 2 B) 4 C) 6 D) 8 E) 10

40.

$$5 - \frac{5}{5 - \frac{5}{4}}$$

işleminin sonucu kaçtır?

- A) $\frac{8}{5}$ B) $\frac{11}{5}$ C) $\frac{13}{5}$
 D) $\frac{11}{3}$ E) $\frac{13}{3}$

41.

$$a = \sqrt{3} + 1$$

$$b = \sqrt{3} - 1$$

olduğuna göre, $\frac{a+b}{a \cdot b}$ ifadesinin değeri kaçtır?

- A) $\frac{1}{2}$ B) $\frac{1}{3}$ C) $\frac{1}{4}$
 D) $\frac{\sqrt{3}}{3}$ E) $\sqrt{3}$

Diğer sayfaya geçiniz.

42. ABC üç basamaklı bir sayı ve

$$A = 3C$$

$$B = A + C$$

olduğuna göre, $A+B+C$ toplamının en küçük değeri kaçtır?

- A) 9 B) 8 C) 7 D) 6 E) 5

43.

$$|a| = a$$

$$b < |b|$$

olduğuna göre, aşağıdakilerden hangisi yanlıştır?

- A) $a \geq 0$ B) $b < 0$ C) $ab \leq 0$
D) $b < a$ E) $a < b$

44. x, y, z pozitif tam sayıları için

$$x \cdot y = 36$$

$$x \cdot z = 48$$

$$y \cdot z = 12$$

olduğuna göre, $x+y+z$ toplamı kaçtır?

- A) 19 B) 20 C) 21 D) 22 E) 23

45. Üç basamaklı 3A6 sayısı 3'e ve 4'e kalansız bölünebildiğine göre, A kaç farklı değer alabilir?

- A) 6 B) 5 C) 4 D) 3 E) 2

46.

$$\frac{x}{3} - \frac{2}{x} > 0$$

olduğuna göre, x 'in alabileceği en küçük tam sayı değeri kaçtır?

- A) 3 B) 2 C) -1 D) -2 E) -3

Diğer sayfaya geçiniz.

47.

$$x + y = 4$$

$$x - z = 2$$

olduđuna göre, $x^2 - xz + xy - yz$ ifadesinin deđeri kaçtır?

- A) 6 B) 8 C) 9 D) 10 E) 12

48. x, y tam sayılar olmak üzere,

$$-1 < x < 4$$

$$-2 < y < 3$$

olduđuna göre, $2x - 3y$ ifadesinin alabileceđi en büyük deđer kaçtır?

- A) 11 B) 10 C) 9 D) 8 E) 6

49.

$$x + 1 - \frac{2x^2 - x - 1}{x - 1}$$

ifadesinin sadeleřtirilmiř biđimi ařađıdakilerden hangisidir?

- A) $-x$ B) x C) $2x$
D) $x - 1$ E) $x + 1$

50.

$$\frac{1}{x-3} + \frac{1}{x-6} = \frac{2}{x}$$

olduđuna göre, x kaçtır?

- A) 2 B) 4 C) 5 D) 7 E) 8

51.

$$\frac{3}{x} + \frac{1}{y} = 2$$

$$\frac{5}{x} - \frac{1}{y} = \frac{2}{3}$$

olduđuna göre, $x + y$ toplamı kaçtır?

- A) 4 B) 5 C) 6 D) 7 E) 8

Diđer sayfaya geđiniz.

52. 0, 1, 2, 3, 4 rakamları kullanılarak üç basamaklı kaç tane tek sayı yazılabilir?

- A) 32 B) 40 C) 48 D) 56 E) 60

53. Bir manavda tanesi 15 kuruş ve 25 kuruş olan iki farklı büyüklükte limon satılmaktadır.

2 TL paranın tümüyle bu iki tür limondan en çok kaç tane alınabilir?

- A) 10 B) 11 C) 12 D) 13 E) 14

54. Bir taksiyle gidilen yol (x) ile ödenen para (P) arasındaki bağıntı

$$P = k \cdot x + 2,5$$

biçiminde ifade ediliyor (k sabit bir kat sayıdır.).

Bu taksiyle 10 km yol gidildiğinde 22,5 TL para ödendiğine göre, 30 km yol gidildiğinde kaç TL para ödenir?

- A) 55 B) 57,5 C) 60
D) 62,5 E) 67,5

55. Bir anne 5 yıl arayla doğmuş iki çocuğundan 7 yaşındaki kızına, "Sen doğduğunda benim yaşıma ağabeyimin yaşının 6 katıydı." diyor.

Buna göre annenin bugünkü yaşı kaçtır?

- A) 33 B) 34 C) 35 D) 36 E) 37

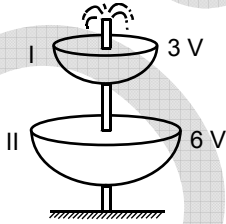
Diğer sayfaya geçiniz.

56. 660 TL üç kişi arasında paylaştırılıyor. Bu paylaşmada birincinin aldığı para, ikincinin aldığı paranın yarısı, üçüncünün aldığı paranın $\frac{3}{2}$ 'sidir.

Buna göre, payı en az olan kaç TL almıştır?

- A) 100 B) 120 C) 150
D) 160 E) 200

57. Aşağıdaki şekilde iki havuz ve bir fiskeye verilmiştir. Havuzların hacimleri sırasıyla 3V ve 6V'dir. Fiskiyeden akan su önce I numaralı havuzu tamamen doldurmakta sonra bu havuzdan taşan suyla II numaralı havuz dolmaktadır.



Havuzlar boşken fiskeye çalıştırılıyor ve I numaralı havuz 4 saatte doluyor.

Buna göre, fiskeye çalıştırıldıktan 6 saat sonra II numaralı havuzun kaçta kaç dolmuş olur?

- A) $\frac{1}{2}$ B) $\frac{1}{3}$ C) $\frac{2}{3}$
D) $\frac{1}{4}$ E) $\frac{3}{4}$

58. Bir grup öğrencinin bugünkü yaşları toplamı 270, dört yıl önceki yaşları ortalaması 26'dır.

Buna göre, bu grupta kaç öğrenci vardır?

- A) 6 B) 7 C) 8 D) 9 E) 10

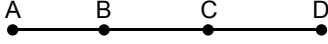
59. Bir bakteri kültüründeki bakterilerin sayısı her 1 saatlik süre sonunda 3 katına çıkmaktadır.

Bu kültürde 9 saat sonra 3^{14} bakteri bulunduğuna göre, başlangıçta kaç bakteri vardır?

- A) 27 B) 81 C) 243 D) 729 E) 814

Diğer sayfaya geçiniz.

60.

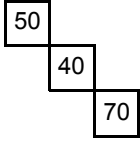


Aşağıdaki tabloda, aynı yol üzerinde ve yukarıda verilen sırada bulunan A, B, C ve D trafik denetleme şubeleri arasındaki uzaklıklardan bazıları km olarak gösterilmiştir.

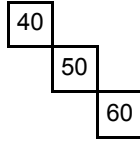
A			
	B		
90		C	
160	110		D

Buna göre, tablonun boş kısımları aşağıdakilerin hangisi gibi olmalıdır?

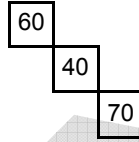
A)



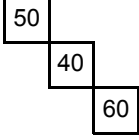
B)



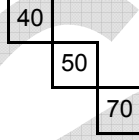
C)



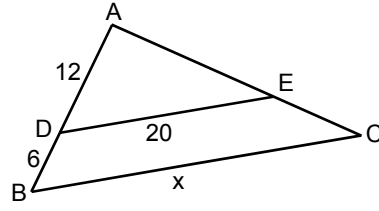
D)



E)



61.



ABC bir üçgen

DE // BC

|AD| = 12 cm

|DB| = 6 cm

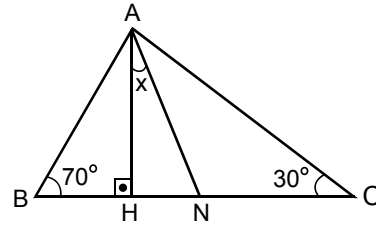
|DE| = 20 cm

|BC| = x

Yukarıdaki verilere göre, x kaç cm'dir?

- A) 30 B) 28 C) 26 D) 24 E) 20

62.



ABC bir üçgen

AN, A açısının

açıortayı

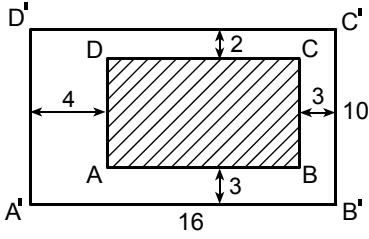
AH \perp BC $m(\widehat{ABH}) = 70^\circ$ $m(\widehat{ACN}) = 30^\circ$ $m(\widehat{HAN}) = x$

Yukarıdaki verilere göre, x kaç derecedir?

- A) 10 B) 15 C) 20 D) 25 E) 30

Diğer sayfaya geçiniz.

63.

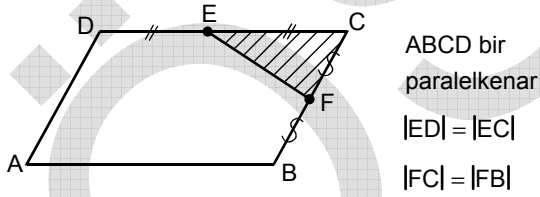


ABCD dikdörtgeni büyüklüğündeki bir fotoğraf, kenar uzunlukları 10 cm ve 16 cm olan dikdörtgen bir çerçevenin içine şekilde verilen uzunluklara uygun olarak yerleştiriliyor.

Buna göre, bu fotoğrafın kapladığı bölgenin alanı kaç cm^2 dir?

- A) 45 B) 48 C) 50 D) 52 E) 56

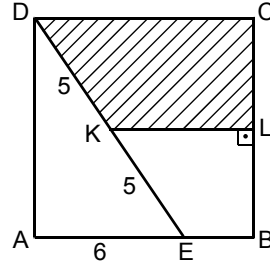
64.



Şekildeki FCE üçgeninin alanı 7 cm^2 olduğuna göre, ABCD paralelkenarının alanı kaç cm^2 dir?

- A) 30 B) 35 C) 42 D) 48 E) 56

65.



ABCD bir kare

$KL \perp BC$

$|DK| = |KE| = 5 \text{ cm}$

$|AE| = 6 \text{ cm}$

Yukarıdaki verilere göre, taralı bölgenin alanı kaç cm^2 dir?

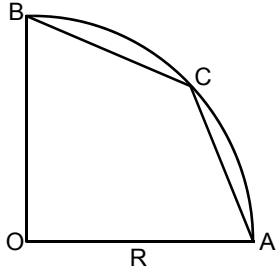
- A) 18 B) 20 C) 22 D) 24 E) 26

66. Tabanının uzunluğu 8 cm ve alanı 12 cm^2 olan ikizkenar üçgenin çevresi kaç cm'dir?

- A) 10 B) 12 C) 14 D) 16 E) 18

Diğer sayfaya geçiniz.

67.

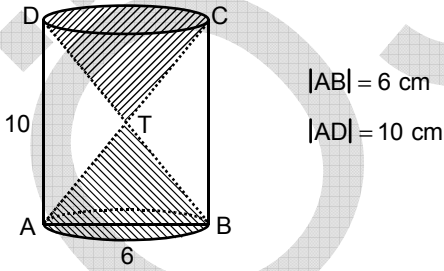


Yukarıdaki şekilde verilen O merkezli R yarıçaplı çeyrek çemberin \widehat{AB} yayının orta noktası C'dir.

Buna göre, OACB dörtgeninin alanı R türünden aşağıdakilerden hangisidir?

- A) $\frac{\sqrt{2} R^2}{2}$ B) $\frac{\sqrt{2} R^2}{3}$ C) $\frac{\sqrt{2} R^2}{4}$
 D) $\frac{R^2}{2}$ E) $\frac{R^2}{3}$

68.

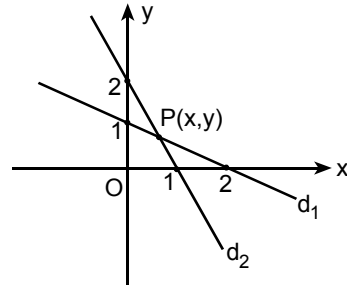


Şekildeki dik dairesel silindirin içine iki eş koni, tepe noktaları birbirine değecek biçimde yukarıdaki gibi yerleştiriliyor.

Buna göre, konilerin hacimleri toplamı kaç $\pi \text{ cm}^3$ tür?

- A) 12 B) 18 C) 24 D) 30 E) 36

69.

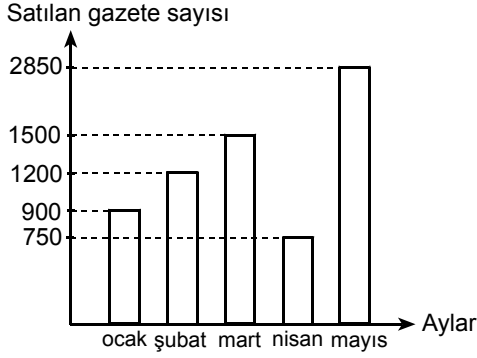


Dik koordinat sisteminde verilen d_1 ve d_2 doğrularının kesim noktası olan P'nin koordinatları toplamı kaçtır?

- A) $\frac{1}{3}$ B) $\frac{2}{3}$ C) $\frac{4}{3}$
 D) $\frac{5}{3}$ E) $\frac{7}{3}$

70. – 72. SORULARI AŞAĞIDAKİ BİLGİLERE GÖRE CEVAPLAYINIZ.

Aşağıdaki grafik bir gazete bayisinin ocak, şubat, mart, nisan ve mayıs aylarında sattığı gazete sayılarını göstermektedir.



70. Buna göre, bayinin mart ayında sattığı gazete sayısı şubat ayına göre % kaç artmıştır?

- A) 15 B) 20 C) 25 D) 30 E) 40

71. Bayinin sattığı gazete sayıları bir daire grafiğiyle gösterilmek istense ocak ayında satılan gazete sayısını gösteren daire diliminin merkez açısı kaç derece olur?

- A) 37,5 B) 45 C) 50
D) 60 E) 72,5

72. Bayinin nisan ve mayıs aylarında sattığı toplam gazete sayısı beş ayda sattığı gazete sayısının yüzde kaçtır?

- A) 60 B) 50 C) 40 D) 30 E) 25

Diğer sayfaya geçiniz.

73. Almanya'nın, Birinci Dünya Savaşı'nda Osmanlı Devleti'yle ittifak yapmasında,

- I. yeni cephelerin açılması,
- II. İngiliz ve Fransız sömürgelerinde bulunan Müslümanların ayaklanması,
- III. Osmanlı Devleti'nin stratejik konumundan yararlanması

durumlarından hangilerini amaçladığı savunulabilir?

- A) Yalnız I B) Yalnız II C) Yalnız III
D) I ve II E) I, II ve III

74. Amasya Görüşmelerinde, Osmanlı Devleti'yle Anlaşma Devletleri arasındaki barış görüşmeleri için toplanacak konferansa iki tarafça belirlenen kişilerin katılımı kararı alınmıştır.

Bu karar aşağıdakilerden hangisinin bir göstergesi değildir?

- A) İstanbul Hükûmetine duyulan güvensizliğin
- B) Anlaşma Devletlerinin istediği doğrultuda hareket edildiğinin
- C) Temsilciler Kurulunun tanındığının
- D) Osmanlı Hükûmetinin konferansa katılacak kişileri henüz seçmediğinin
- E) Amasya Görüşmelerinin olumlu geçtiğinin

75. Aşağıdakilerden hangisi TBMM'nin açılmasına neden olan gelişmelerden biri değildir?

- A) İşgal güçlerinin Mebuslar Meclisini dağıtması
- B) Anlaşma Devletlerinin İstanbul'u işgal etmesi
- C) İstanbul'da tutuklanan aydınların Malta'ya gönderilmesi
- D) Millî Mücadele'ye hukuksal dayanak yaratılması
- E) İstanbul Hükûmetinin sorumluluklarını yerine getirmemesi

76. Aşağıdakilerden hangisi TBMM'nin ilk döneminde hükûmetin kurulmasını ve uyum içerisinde çalışmasını zorlaştırmıştır?

- A) İki dereceli seçim sistemi
- B) Seçmen yaşının 18 olması
- C) Seçimlerin iki yılda bir tekrarlanması
- D) Hükûmet üyelerinin Meclisten tek tek seçilmesi
- E) Meclis Başkanının hükûmetin doğal başkanı olması

Diğer sayfaya geçiniz.

77. Birinci İnönü Savaşı'nın kazanılması aşağıdakilerden hangisine neden olmuştur?

- A) TBMM Hükümetinin Londra Konferansı'na çağırılmasına
- B) Ermenilerle Gümrü Antlaşması'nın yapılmasına
- C) Bolu ve Düzce Ayaklanmalarının bastırılmasına
- D) Bristol Raporu'nun hazırlanmasına
- E) Tekâlif-i Milliye Emirlerinin çıkarılmasına

79. Aşağıdakilerden hangisinin Kurtuluş Savaşı'nda ulusal birliğin parçalanmasını engellemek amacıyla alınan önlemlerden biri olduğu savunulmaz?

- A) TBMM'nin açılması
- B) Yasama, yürütme ve yargı yetkilerinin TBMM'de toplanması
- C) Sivas Kongresi'nde tüm cemiyetlerin birleştirilmesi
- D) Milletvekillerinin gruplaşmasını engelleyen hükümlerin getirilmeye çalışılması
- E) TBMM Hükümetinin, Londra Konferansı'na İstanbul Hükümeti temsilcisiyle birlikte çağırılması

78.

- I. Meclis Başkanı seçilmesi
- II. Halk Partisi Başkanı seçilmesi
- III. Başkomutanlık Yasası'nın çıkarılması

Yukarıdakilerden hangileriyle, Kurtuluş Savaşı'nda Mustafa Kemal'e Meclisin yetkileri belli bir süre için verilmiştir?

- A) Yalnız I
- B) Yalnız II
- C) Yalnız III
- D) I ve II
- E) I, II ve III

80.

- I. Batılı devletlerden biriyle ulusal mücadelenin hedeflerini onaylayan ilk antlaşma olması
- II. Anlaşma Devletleri arasında güçlü bir dayanışma kalmadığını göstermesi
- III. Günümüzdeki Türkiye-Suriye sınırını çizmesi

Yukarıdakilerden hangileri 20 Ekim 1921 tarihinde Fransa ile Türkiye arasında imzalanan Ankara Antlaşması'nın özellikleri arasındadır?

- A) Yalnız I
- B) Yalnız II
- C) Yalnız III
- D) I ve II
- E) I, II ve III

Diğer sayfaya geçiniz.

81. Lozan Antlaşması'ndan sonra aşağıdakilerden hangisi için yeni bir düzenleme gereği ortaya çıkmıştır?

- A) Musul
- B) Karaağaç
- C) Kapitülasyonlar
- D) Kafkasya sınırı
- E) Bozcaada ve Gökçeada

83. Kadınların 1930'da belediye seçimlerine katılma, 1933'te muhtar, 1934'te de milletvekili seçme ve seçilme haklarını elde etmesinin,

- I. halkçılık,
- II. cumhuriyetçilik,
- III. milliyetçilik

ilkelerinden hangilerinin bir gereği olduğu savunulabilir?

- A) Yalnız I
- B) Yalnız II
- C) Yalnız III
- D) I ve II
- E) I, II ve III

82. Aşağıdakilerden hangisinin ulusallaşmaya yönelik gelişmelerden biri olduğu savunulamaz?

- A) Halkevlerinin açılması
- B) Çok partili siyasal yaşama geçişin ikinci denemesinin yapılması
- C) Latin kökenli yeni Türk alfabesinin kabul edilmesi
- D) Yeni harflerle okuyup yazmayı yaygınlaştırmak için Millet Mekteplerinin açılması
- E) Türk çocuklarına ilköğrenimlerini Türk okullarında yapma zorunluluğunun getirilmesi

84.

- I. Üretimi artırmak
- II. Uygulamada birlik sağlamak
- III. Dış ticareti artırmak

Yukarıdakilerden hangileri, Cumhuriyet Döneminde uzunluk ve ağırlık ölçülerinde metre ve kilogram sistemlerine geçilmesindeki amaçtır?

- A) Yalnız I
- B) Yalnız II
- C) Yalnız III
- D) I ve II
- E) I, II ve III

Diğer sayfaya geçiniz.

85. Aşağıdakilerden hangisinde iklimin etkisi en azdır?

- A) Anadolu Yarımadası'nda tahıl tarımının yaygın olması
- B) Muson Asyası'nda pirinç üretiminin yaygın olması
- C) Rusya Federasyonu'nun orman arazisi bakımından zengin olması
- D) Orta Afrika'da kakao, kauçuk, palmiye tarımının yapılması
- E) İskandinav Yarımadası'nın batı kıyılarının balıkçılığa elverişli olması

87. Mentеше Yöresi'nde, temmuz ayında, sıcaklığın birkaç gün mevsim normallerinin üzerinde seyretmesi sonucu aşağıdakilerin hangisinde bir artış görülmesi beklenmez?

- A) Orman yangınları
- B) Sağlık sorunları
- C) Bağıl nem oranı
- D) Elektrik tüketimi
- E) Deniz suyu sıcaklığı

86. Süveyş Kanalı'nın açılmasıyla aşağıdaki boğazlardan hangisinin dünya ticaretindeki önemi artmıştır?

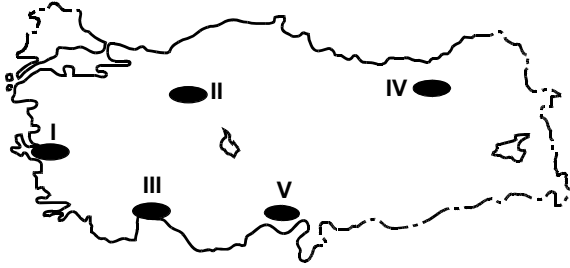
- A) Cebelitarık Boğazı
- B) Bering Boğazı
- C) Hürmüz Boğazı
- D) Malakka Boğazı
- E) Kerç Boğazı

88. "Burada yükseltisi az olan dağlar, yer yer tepelik alanlar ve ovalar vardır. Yer şekilleriye doğal engel olarak önemli bir rol oynamaz." diyen bir araştırmacı aşağıdaki coğrafi bölgelerin hangisinden söz etmektedir?

- A) Doğu Anadolu
- B) Karadeniz
- C) Marmara
- D) Akdeniz
- E) İç Anadolu

Diğer sayfaya geçiniz.

89.



Yukarıdaki haritada numaralarla gösterilen alanların hangisinde kırsal nüfus oranı diğerlerinden **daha fazladır**?

- A) I B) II C) III D) IV E) V

90. Türkiye'de, ekonomisinde endüstrinin payının az olmasına karşın konaklama tesisi, banka şubesi, döviz bürosu gibi birçok hizmet sektörüne ait iş kollarının geliştiği bazı kentler vardır.

Aşağıdaki kentlerden hangisi bu duruma örnek gösterilebilir?

- A) İskenderun B) Kuşadası C) Gebze
D) Gemlik E) Silifke

91. Aşağıdakilerden hangisi insanın doğal çevreyi **değiştirme** etkinliklerinden biri **değildir**?

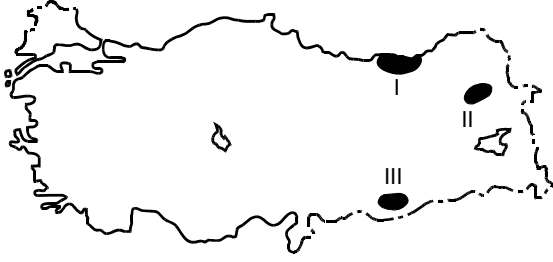
- A) Dilek Yarımadası'nın millî park ilan edilmesi
B) Karadeniz'in bazı kıyı kesimlerinde denizin doldurularak kara yolu yapılması
C) İstanbul Boğazı'nın her iki yakasını birbirine bağlayan köprüler yapılması
D) İç Anadolu Bölgesi'ndeki bazı çayır ve meraların tarlaya dönüştürülmesi
E) Doğu Anadolu Bölgesi'ndeki büyük akarsular üzerine baraj yapılması

92. Doğu Karadeniz Bölümü'nde pamuk tarımının **yapılamaması**, aşağıdakilerden hangisiyle açıklanabilir?

- A) Düzlük alanların az olması
B) Fön (Föhn) rüzgârlarının etkili olması
C) Yaz sıcaklıklarının 25°C'nin altında olması
D) Killi toprakların yaygın olması
E) Yaz aylarının yağışlı geçmesi

Diğer sayfaya geçiniz.

93.



Yukarıdaki Türkiye haritasında numaralarla gösterilen yerlerde, aşağıdaki tahıl türlerinden hangisi yoğun olarak yetiştirilir?

- | | I | II | III |
|----|--------|--------|--------|
| A) | Mısır | Buğday | Arpa |
| B) | Buğday | Mısır | Arpa |
| C) | Mısır | Arpa | Buğday |
| D) | Buğday | Arpa | Mısır |
| E) | Arpa | Buğday | Mısır |

94. Türkiye'de bağcılığın yoğun olarak yapıldığı yerlerde, ham maddeye bağlı olarak,

- I. sabun,
- II. meşrubat,
- III. şeker,
- IV. sıvı yağ

ürünlerinden hangilerinin üretildiği fabrikaların bulunması beklenir?

- | | | |
|-------------|--------------|-------------|
| A) Yalnız I | B) Yalnız II | C) I ve III |
| D) II ve IV | E) III ve IV | |

95. Aşağıdakilerden hangisi, Türkiye'de ulaşım ve taşımacılık sektörünün uluslararası boyutta olduğunu göstergesi değildir?

- A) Transit ticareti sağlayan otoyolların bulunması
- B) Enerji taşımacılığını sağlayan boru hatlarının bulunması
- C) Karadeniz'e kıyısı olan ülkelerin Akdeniz'e geçmek için boğazları kullanmak zorunda olması
- D) Demir yollarında bazı merkezler arasında hızlı tren seferlerinin başlaması
- E) Çeşitli ülkelerin ticaret amacıyla bazı Türk limanlarını kullanması

96. Bazı tarihî yerleri görmek amacıyla yurt dışından Türkiye'ye gelen beş turist kafilesi, farklı kentlerdeki havaalanlarına inmiş ve gidecekleri yere otobüslerle devam etmiştir.

Buna göre, aşağıdakilerin hangisinde verilen havaalanına inen turist kafilesi, gideceği tarihî yere ulaşmak için daha uzun otobüs yolculuğu yapmak zorundadır?

- | Havaalanı | Tarihî yer |
|--------------|-------------------------------|
| A) İzmir | Bergama Antik Kenti |
| B) Kayseri | Hattuşaş |
| C) Ağrı | Doğubeyazıt İshak Paşa Sarayı |
| D) Adıyaman | Nemrut Dağı Heykelleri |
| E) Çanakkale | Truva Antik Kenti |

Diğer sayfaya geçiniz.

97. 1982 Anayasası'na göre, millî güvenliğin sağlanmasından ve Silahlı Kuvvetlerin yurt savunmasına hazırlanmasından TBMM'ye karşı aşağıdakilerden hangisi sorumludur?
- A) Bakanlar Kurulu B) Başbakan
C) Cumhurbaşkanı D) Genelkurmay Başkanı
E) Millî Savunma Bakanı
98. 1982 Anayasası'na göre, Cumhurbaşkanının geçici olarak görevinden ayrılması hâlinde Cumhurbaşkanı'na vekillik etme yetkisi aşağıdakilerden hangisine verilmiştir?
- A) Bakan
B) Başbakan
C) TBMM Başkanı
D) Genelkurmay Başkanı
E) Cumhurbaşkanlığı Genel Sekreteri
99. 1982 Anayasası'na göre, başkaca bir hüküm bulunmadığı hâllerde TBMM'nin toplantı yeter sayısı aşağıdakilerden hangisidir?
- A) 110 B) 139 C) 184 D) 330 E) 367
100. 1982 Anayasası'na göre bir kimse en fazla kaç defa Cumhurbaşkanı seçilebilir?
- A) 1 B) 2 C) 3 D) 4 E) 5
101. 1982 Anayasası'na göre TBMM, aşağıdakilerden hangisine kanun hükmünde kararname çıkarma yetkisi verebilir?
- A) Cumhurbaşkanı B) Başbakan
C) Kamu tüzel kişileri D) Bakan
E) Bakanlar Kurulu
102. 1982 Anayasası'na göre aşağıdakilerden hangisi bir siyasi partiye üye olabilir?
- A) Hâkimler ve savcılar
B) Ortaöğretim öğrencileri
C) Emniyet mensupları
D) Yükseköğretim öğrencileri
E) Yüksek yargı organları mensupları

Diğer sayfaya geçiniz.

103. 1982 Anayasası'na göre yürütme yetkisi ve görevi aşağıdakilerden hangisi tarafından kullanılır?
- A) TBMM
B) Başbakan ve Adalet Bakanı
C) TBMM ve Bakanlar Kurulu
D) TBMM ve Anayasa Mahkemesi Başkanı
E) Cumhurbaşkanı ve Bakanlar Kurulu
104. 1982 Anayasası'na göre, aksine bir karar alınmadıkça TBMM seçimleri kaç yılda bir yapılır?
- A) 3 B) 4 C) 5 D) 6 E) 7
105. 1982 Anayasası'na göre, adliye mahkemesince verilen ve kanunun başka bir adli yargı merciine bırakmadığı karar ve hükümlerin son inceleme merci aşağıdakilerden hangisidir?
- A) Yargıtay
B) Sayıştay
C) Danıştay
D) Anayasa Mahkemesi
E) Avrupa İnsan Hakları Mahkemesi
106. 1982 Anayasası'na göre, seçimlerle ilgili itirazları inceleme ve son karara bağlama yetkisi aşağıdakilerden hangisine aittir?
- A) Yüksek Seçim Kurulu
B) Uyuşmazlık Mahkemesi
C) Anayasa Mahkemesi
D) Yüksek Hakem Kurulu
E) Devlet Denetleme Kurulu
107. 1982 Anayasası'na göre aşağıdakilerden hangisi için milletvekili olmak zorunludur?
- A) Hâkimler ve Savcılar Yüksek Kurulu Başkanı
B) Başbakan
C) Millî Eğitim Bakanı
D) Devlet bakanı
E) TBMM Başkanı
108. 1982 Anayasası'na göre bakanlıkların kurulması, kaldırılması, görevleri, yetkileri ve teşkilatları aşağıdakilerden hangisi ile düzenlenir?
- A) Anayasa
B) Tüzük
C) Kanun
D) Bakanlar Kurulu kararları
E) Cumhurbaşkanlığı karanamesi

Diğer sayfaya geçiniz.

109. Jandarma Genel Komutanlığı emniyet ve asayiş işleriyle ilgili görev ve hizmetlerin ifası bakımından aşağıdakilerden hangisine bağlıdır?

- A) Başbakanlık
- B) İçişleri Bakanlığı
- C) Adalet Bakanlığı
- D) Millî Savunma Bakanlığı
- E) Emniyet Genel Müdürlüğü

110. Emniyet Teşkilatındaki ilk amir kademesi aşağıdakilerden hangisidir?

- A) Komiser yardımcısı
- B) Komiser
- C) Baş komiser
- D) Emniyet amiri
- E) Emniyet müdürü

111. Polis meslek yüksekokulları ile ilgili aşağıdaki ifadelerden hangisi yanlıştır?

- A) Polis meslek yüksekokulları, Emniyet Teşkilatının polis memuru ihtiyacını karşılamak üzere ön lisans düzeyinde eğitim-öğretim ve uygulama yapan yükseköğretim kurumlarıdır.
- B) Polis meslek yüksekokullarında eğitim-öğretim süresi 4 yıldır.
- C) Sağlık ve disiplin yönünden polis olamayacağına yetkili kurullarca karar verilenlerin polis meslek yüksekokulları ile ilişkisi kesilir.
- D) Polis meslek yüksekokulları öğrencileri parasız yatılı olarak okurlar ve resmî üniforma giyerler.
- E) Polis meslek yüksekokulları öğrencilerinin iâşe, ibate ve sağlık giderleri ile diğer istihkakları Devletçe karşılanır.

112. Aşağıdakilerden hangisi T.C. Maliye Bakanidir?

- A) Nimet Çubukçu
- B) Selma Aliye Kavaf
- C) Ali Babacan
- D) Mehmet Şimşek
- E) Taner Yıldız

113. Diyarbakır Eski Valisi Hüseyin Avni Mutlu, 2010 yılının Mayıs ayında aşağıdaki illerden hangisine vali olarak atanmıştır?

- A) İzmir
- B) Antalya
- C) Erzurum
- D) Ankara
- E) İstanbul

114. 2010 yılının Mart ayında Türkiye'yi ziyaret eden Almanya Başbakanı aşağıdakilerden hangisidir?

- A) Dmitri Medvedev
- B) Nicolas Sarkozy
- C) Angela Merkel
- D) David Cameron
- E) Stephen Harper

Diğer sayfaya geçiniz.

115. 2010 yılının Nisan ayında Polonya Devlet Başkanının da ölümüyle sonuçlanan uçak kazası hangi ülkede gerçekleşmiştir?

- A) Rusya B) Bulgaristan C) Ukrayna
D) Estonya E) Gürcistan

116. Aşağıdaki ülkelerin hangisinde 12 Ocak 2010 tarihinde 7 şiddetinde bir deprem gerçekleşmiştir?

- A) Tayland B) Endonezya C) Singapur
D) Malezya E) Haiti

117. 2010 FIFA Dünya Kupası final maçları aşağıdaki ülkelerden hangisinde yapılmaktadır?

- A) Fransa B) Brezilya C) Portekiz
D) Güney Afrika E) Almanya

118. James Cameron'un yönettiği, üç boyutlu sinema tekniği ve son teknolojiyle çekilen; 2010 yılında, Oscar adıyla bilinen Akademi Ödülleri'nde en iyi sanat yönetimi, en iyi görüntü yönetmeni ve en iyi görsel efekt ödüllerini kazanan film aşağıdakilerden hangisidir?

- A) Avatar
B) The Hurt Locker
C) Crazy Heart
D) The Blind Side
E) Inglourious Basterds

119. Finali 5 Haziran 2010 tarihinde yapılan Altın Güvercin Müzik Yarışması aşağıdaki ilçelerden hangisinde gerçekleşmiştir?

- A) Ürgüp B) Çeşme C) Alanya
D) Bodrum E) Kuşadası

120. Dünya Tiyatrolar Günü her yıl hangi tarihte kutlanır?

- A) 27 Ocak B) 27 Şubat C) 27 Mart
D) 27 Haziran E) 27 Ağustos

TEST BİTTİ.

CEVAPLARINIZI KONTROL EDİNİZ.

SINAVDA UYULACAK KURALLAR

1. Adayların cep telefonu, çağrı cihazı, telsiz, fotoğraf makinesi, cep bilgisayarı, saat fonksiyonu dışında fonksiyonu olan saat, hesap makinesi, sözlük, kitap, defter, müsvedde kâğıdı, pergel, açıölçer, cetvel ve benzeri her türlü araç gereçle, silah ve benzeri teçhizatla sınava girmesi kesinlikle yasaktır. Bu araçlarla sınava girmiş adayların kimlikleri mutlaka Salon Sınav Tutanağına yazılacak, bu adayların sınavı geçersiz sayılacaktır.
2. Bu sınavda verilen toplam cevaplama süresi **120 dakikadır (2 saat)**. Sınavın **ilk 60 ve son 15** dakikası içinde hiçbir aday dışarı çıkarılmayacaktır. Cevaplamayı süre bitmeden tamamlarsanız, cevap kâğıdınızı ve soru kitapçığınızı salon görevlilerine teslim ederek salonu terk edebilirsiniz. Sınav süresinin bittiği ilan edilip cevap kâğıtları ve soru kitapçıkları salon görevlileri tarafından toplanıncaya kadar yerlerinizde kalınız.
3. Sınav evrakını teslim ederek salonu terk eden aday, her ne sebeple olursa olsun tekrar sınava alınmayacaktır.
4. Sınav süresince görevlilerle konuşmak ve soru sormak yasaktır. Aynı şekilde görevlilerin de adaylarla yakından ve alçak sesle konuşmaları; ayrıca, adayların birbirinden kalem, silgi vb. şeyleri istemeleri kesinlikle yasaktır.
5. Sınav sırasında kopya çeken, çekmeye girişen, kopya veren, kopya çekilmesine yardım edenlerin kimlikleri, Salon Sınav Tutanağına yazılacak ve bu adayların sınavları geçersiz sayılacaktır. Görevliler kopya çekmeye veya vermeye kalkışanları uyararak zorunda değildir, sorumluluk size aittir.

Adayların test sorularına verdikleri cevapların dağılımları bilgi işlem yöntemleriyle incelenecek, bu incelemelerden elde edilen bulgular bireysel veya toplu olarak kopya girişiminde bulunulduğunu gösterirse kopya eylemine katılan adayların cevaplarının bir kısmı veya tamamı geçersiz sayılacaktır. Cevap kâğıdınızı başkaları tarafından görülmeyecek şekilde tutmanız gerekmektedir. Bu durum sizin için son derece önemlidir.

ÖSYM Temsilcisi bir salondaki sınavın, kurallara uygun biçimde yapılmadığını, toplu kopya girişiminde bulunulduğunu raporunda bildirdiği takdirde, ÖSYM takdir hakkını kullanarak bu salonda sınava giren adayların tümünün sınavını geçersiz sayabilir.

6. Adaylar, görevlilerin her türlü uyarılarına uymak zorundadır. Görevliler, gerektiğinde oturduğunuz yerleri de değiştirebilir. Sınavınızın geçerli sayılması, her şeyden önce sınav kurallarına uymanıza bağlıdır.

Kurallara aykırı davranışta bulunanların ve yapılacak uyarılara uymayanların kimlikleri tutanağa yazılacak ve sınavları geçersiz sayılacaktır.

7. Cevap kâğıdında doldurmanız gereken alanlar bulunmaktadır. Bu alanları eksiksiz doldurunuz. Cevap kâğıdına yazılacak her türlü yazıda ve yapılacak bütün işaretlemelerde kurşun kalem kullanılacaktır. Tükenmez kalem ve dolma kalem kesinlikle kullanılmayacaktır.

Cevapların cevap kâğıdına işaretlenmiş olması gerekir. Soru kitapçığına işaretlenen cevaplar geçerli değildir.

8. Soru kitapçığınızı alır almaz, sayfaların eksik olup olmadığını, kitapçıkta basım hatalarının bulunup bulunmadığını kontrol ediniz. Soru kitapçığının sayfası eksik veya basımı hatalı ise değiştirilmesi için derhâl Salon Başkanına başvurunuz.

Soru kitapçığının sayfalarının eksik olup olmadığını, kitapçıkta basım hatalarının bulunup bulunmadığını ve soru kitapçığının her sayfasında basılı bulunan soru kitapçığı türünün, kitapçığın ön kapağında basılı soru kitapçığı türüyle aynı olup olmadığını kontrol ediniz. Soru kitapçığının sayfası eksik ya da basımı hatalıysa değiştirilmesi için Salon Başkanına başvurunuz.

Cevap kâğıdınızda, size verilen soru kitapçığının türünü "Soru Kitapçığı Türü" alanında ilgili yuvarlağı doldurarak belirtiniz. Cevap kâğıdınızda işaretlediğiniz Soru Kitapçığı Türü salon görevlileri tarafından sınav öncesi kontrol edilerek paraflanacaktır. Sizin işaretlediğiniz ve salon görevlilerinin parafladıkları kitapçık türü arasında fark olması hâlinde salon görevlilerinin parafladıkları kitapçık türü dikkate alınacaktır.

9. Cevaplamaya geçmeden önce size verilecek soru kitapçığı üzerinde ayrılan yere adınızı, soyadınızı, T.C. Kimlik Numaranızı ve bu salonun salon numarasını yazınız. Sınav sonunda soru kitapçıkları toplanacak ve ÖSYM'de tek tek incelenecektir. Soru kitapçığının bir tek sayfası bile eksik çıkarsa sınavınız geçersiz sayılacaktır.
10. Soru kitapçığının sayfalarındaki boş yerleri müsvedde için kullanabilirsiniz.
11. Soruları ve bu sorulara verdiğiniz cevapları ayrı bir kâğıda yazıp bu kâğıdı dışarı çıkarmanız kesinlikle yasaktır.
12. **Sınav salonundan ayrılmadan önce soru kitapçığınızı, cevap kâğıdınızı ve Sınav Giriş ve Kimlik Belgenizi salon görevlilerine teslim etmeyi unutmayınız.**

POLİS AKADEMİSİ POLİS MESLEK YÜKSEKOKULLARI ÖĞRENCİ ADAYLIĞI SINAVI

3 TEMMUZ 2010

GENEL YETENEK VE GENEL KÜLTÜR TESTİ A KİTAPÇIĞI

- | | | | |
|-------|-------|-------|------------|
| 1. A | 31. B | 61. A | 91. A |
| 2. B | 32. E | 62. C | 92. E |
| 3. E | 33. A | 63. A | 93. C |
| 4. C | 34. D | 64. E | 94. B |
| 5. D | 35. C | 65. E | 95. D |
| 6. B | 36. B | 66. E | 96. B |
| 7. E | 37. E | 67. A | 97. A |
| 8. A | 38. B | 68. D | 98. C |
| 9. D | 39. C | 69. C | 99. C |
| 10. B | 40. D | 70. C | 100. B |
| 11. E | 41. E | 71. B | 101. E |
| 12. C | 42. B | 72. B | 102. D |
| 13. A | 43. E | 73. E | 103. E |
| 14. C | 44. A | 74. B | 104. B |
| 15. B | 45. E | 75. C | 105. A |
| 16. A | 46. D | 76. D | 106. A |
| 17. D | 47. B | 77. A | 107. İPTAL |
| 18. E | 48. C | 78. C | 108. C |
| 19. B | 49. A | 79. E | 109. B |
| 20. A | 50. B | 80. D | 110. A |
| 21. E | 51. A | 81. A | 111. B |
| 22. C | 52. B | 82. B | 112. D |
| 23. E | 53. C | 83. D | 113. E |
| 24. D | 54. D | 84. B | 114. C |
| 25. D | 55. E | 85. E | 115. A |
| 26. B | 56. B | 86. A | 116. E |
| 27. A | 57. D | 87. C | 117. D |
| 28. E | 58. D | 88. C | 118. A |
| 29. C | 59. C | 89. D | 119. E |
| 30. D | 60. A | 90. B | 120. C |