

6.
SINIF



T.C.
MİLLÎ EĞİTİM BAKANLIĞI

KİTAPÇIK TÜRÜ

A

ORTAÖĞRETİM KURUMLARINA GEÇİŞ SİSTEMİ
6. SINIF SEVİYE BELİRLEME SINAVI SORU KİTAPÇIĞI
12 HAZİRAN 2010 Saat: 10.00

- DİKKAT:** 1. Soru kitapçıklarını kontrol ederek, baskı hatası olan kitapçığın değiştirilmesi için salon görevlilerine başvurunuz.
2. Soru kitapçığının ön ve arka yüzündeki açıklamaları okuyunuz.
3. Sınavda hesap makinesi, cep telefonu ve çağrı cihazı kullanılması yasaktır. Bu cihazları sınav başlamadan önce salon başkanına teslim ediniz. Öğrencinin bu cihazlarla sınava girdiği tespit edilirse sınav kurallarını ihlal ettiği için sınavı geçersiz sayılacaktır.

CEVAP KAĞIDI İLE İLGİLİ AÇIKLAMA

1. Cevap kağıdı üzerine yazacağınız yazı ve yapacağınız işaretlemelerde kurşun kalemde başka kalem kullanmayınız.
2. Cevap kağıdındaki bilgilerin size ait olup olmadığını kontrol ediniz. Cevap kağıdı kullanılamayacak durumdaysa veya size ait değilse verilecek yedek cevap kağıdına, kimliğinizle ilgili bilgileri, salon başkanının açıklamalarına göre yazınız.
3. Kitapçık türünü cevap kağıdınızın ilgili bölümüne mutlaka işaretleyiniz.
4. Cevap kağıdında **TÜRKÇE, MATEMATİK, FEN VE TEKNOLOJİ, SOSYAL BİLGİLER** ve **YABANCI DİL (İNGİLİZCE, ALMANCA, FRANSIZCA, İTALYANCA)** testleri için beş ayrı bölüm bulunmaktadır. Cevaplarınızı cevap kağıdındaki ilgili sütunlara aşağıdaki örnekte olduğu gibi yuvarlağı, dışına taşırmadan işaretleyiniz. Yanlış karalamalarınızı düzeltirken yuvarlağın içini temizce siliniz.

ÖRNEK KODLAMA: ●

SORU KİTAPÇIĞI İLE İLGİLİ AÇIKLAMA

1. Bu soru kitapçığında; **TÜRKÇE** testinde 19, **MATEMATİK** testinde 16, **FEN VE TEKNOLOJİ** testinde 16, **SOSYAL BİLGİLER** testinde 16 ve **YABANCI DİL (İNGİLİZCE, ALMANCA, FRANSIZCA, İTALYANCA)** testinde 13 olmak üzere toplam 80 soru bulunmaktadır. Kitapçığın tümü için verilen cevaplama süresi 90 dakikadır.
2. Her sorunun dört seçeneğı vardır. Dört seçenektan sadece bir tanesi doğru cevaptır. Doğru bulduğunuz seçeneğı cevap kağıdında o soru için ayrılan yerde bularak işaretleyiniz.
3. Size ayrı bir karalama kağıdı verilmeyecektir. Soru kitapçığının içindeki boş alanları karalama yapmak için kullanabilirsiniz.
4. Cevabını bilmediğiniz sorular üzerinde fazla zaman kaybetmeden diğer sorulara geçiniz. Zamanınız kalırsa bu sorulara daha sonra dönebilirsiniz.
5. Puanlamada her soru grubu için yanlış cevap sayısının üçte biri, doğru cevap sayısından çıkarılarak geçerli cevaplara karşı gelen ham puan tespit edilecektir. Bu nedenle rastgele cevaplama yapmayınız.
6. Sınavın bitiminde cevap kağıdınızı ve soru kitapçığınızı salon sorumlularına teslim etmeyi unutmayınız.

BAŞLAYINIZ DENİLMEDEN SORU KİTAPÇIĞINIZI AÇMAYINIZ.

1. Londra'dan Paris'e döndükten sonra yine günlüklerini yazmaya devam eder. Yalnızlık anlarında, günlükleri onun sığınağıdır. Rahatça konuşabildiği tek yer bu defterin sayfalarıdır.

Bu parçaya göre "rahatça konuşabilmek" aşağıdakilerden hangisini ifade eder?

- A) Akıcı bir biçimde yazabilmek
B) İçinden geçenleri açıkça anlatabilmek
C) Fikirlerini başkalarıyla paylaşabilmek
D) İnsanlarla çekinmeden sohbet edebilmek

2. • 1 ve 2. kelimeler arasında eş anlamlılık ilişkisi vardır.
• 1 ve 3. kelimeler arasında zıt anlamlılık ilişkisi vardır.

Aşağıdakilerden hangisi bu bilgilere göre düzenlenmiştir?

	1. kelime	2. kelime	3. kelime
A)	Büyük	Kocaman	İri
B)	Genç	Yaşlı	İhtiyar
C)	Kötü	Fena	İyi
D)	Soğuk	Sıcak	Serin

3. (1) Arkeolojik çalışma kayıtlarına göre MÖ 5500 yılına uzanır Amasya'nın tarihi. (2) Hititler Dönemine ait yazılı belgelerde, adının "Hakmış" olduğu görülür. (3) Eldeki bilgilere göre "Amasya" ismine ise MÖ 300 ile MS 200 yılları arasında bastırılan madeni paralarda rastlanır. (4) Dört bir yanı yüksek kayalarla çevrili şehir, görkemli bir kale görünümüne sahiptir.

Bu metinde numaralandırılmış cümlelerden hangisi, kişisel görüş bildirmektedir?

- A) 1 B) 2 C) 3 D) 4

4.

Bir insanı mutlu edecek her şeye sahipsiniz. Güzel bir işiniz, mutlu bir aileniz ve çevrenizde sizi seven insanlar var. Mutluluğunuzu bunlara mı borçlusunuz?

Evet, sahip olduğumla mutluyum. Ancak asıl mutluluk, istediklerine ulaşabilmek için emek harcamakta, ulaşamadığım zaman da usanmadan çalışarak sonucunu sabırla beklemekte gizli.



Gül, "mutluluk" konulu konferansta kendisine yöneltilen soruya yukarıdaki gibi cevap vermiştir.

Gül'e göre, mutlu olmanın asıl yolu aşağıdakilerden hangisidir?

- A) Hedeflerine ulaşmak için çaba göstermek
B) Elindekilerle yetinmeyi bilmek
C) İhtiyaçlarına yönelik planlar yapmak
D) Sevdiği şeylere sahip çıkmak

5. Bundan hayli zaman önce eski okulumun önünden geçiyordum. Bir beyefendi, okulun kapısından girmek üzere idi. Yüzüne bakınca belki yirmi seneden beri görmediğim Türkçe öğretmenimi tanıdım. Kendisiyle konuşmak istedim ve arkasından ben de okula girdim.

Bu metnin türü aşağıdakilerden hangisidir?

- A) Deneme B) Anı
C) Masal D) Günlük

6. (1) Bir ırmağın ya da bardaktan bardağa boşalttığınız suyun sesini dinlediniz mi hiç? (2) Dinlediyseniz su sesinin dinlendirici bir etkisi olduğunu fark etmişsinizdir. (3) Bu hoş sesi, hareket eden suyun içindeki hava kabarcıkları çıkarır. (4) Tıpkı bir zilin sallanan tokmağı gibidir bu kabarcıklar.

Bu metinde numaralandırılmış cümlelerin hangisinde su sesinin oluşma nedeni belirtilmiştir?

- A) 1 B) 2 C) 3 D) 4

7. Garibim;
Ne bir güzel var avutacak gönlümü,
Bu şehirde,
Ne de bir tanıdık çehre;
Bir tren sesi duymaya göreyim,
İki gözüm,
İki çeşme.

Orhan Veli Kanık

Bu şiirin ana duygusu aşağıdakilerden hangisidir?

- A) Sevinç B) Hayranlık
C) Merak D) Yalnızlık

8. Aşağıdaki olaylardan hangisi, üçüncü kişi ağzıyla anlatılmıştır?

- A) Akşama kadar bu köşede bekledi. Ara sıra ayağa kalkıp dizlerini ovuşturuyor, sonra tekrar çömelerek kafasının içindeki sisli boşluğa gözlerini çeviriyordu.
B) Hepimiz sabırsızlanıyorduk. Sonunda akşama doğru ta uzakta, bir toz bulutu içinde sü-rünün yaklaştığını görünce sevincimizden bağırmaya başladık.
C) Her sabah çam kokulu yollardan geçip okula giderdik. Okuldan dönüşte arkadaşlarımızla bir araya gelir, o kocaman oyun bahçemize yani doğaya koşardık.
D) Birkaç gün sonra, kuşun delmeye çalıştığı ağacın yanına gittim. Ağaca, bir cevizden biraz büyükçe ve çok düzgün yuvarlak bir delik açmış olduğunu gördüm.

9. Bir gönül hoşluğuyla geze geze köye doğru yürüyordu Kemal. Gün boyu çalışmanın verdiği rahatlıkla rüzgârda savrulan yaprakların hisirtisine kulak veriyordu. Güneşin ardında bıraktığı kızılığa bakarak nemli toprak ve balçık kokusunu içine çekti.

Bu parçada anlatılanlar, aşağıdaki zaman dilimlerinin hangisinde gerçekleşmiştir?

- A) Sabah B) Öğle
C) Akşamüstü D) Gece yarısı

10. İnsan, istediği hedefe vardığı zaman mutlu olur. Bu nedenle başlamak, mutluluğa doğru adım atmaktır. Peki, attığımız ilk adım bizi hedefimize götürür mü? Tabii ki hayır. Çünkü onun arkasından ikinci, üçüncü adımlar da gelmelidir.

Buna göre altı çizili ifadeyle aşağıdakilerden hangisi anlatılmak istenmiştir?

- A) Dikkatli olmak B) Soğukkanlı olmak
C) Özverili olmak D) Kararlı olmak

11.

A

Sütündeki dilek taşını görünce meraklarını da gidermiş oldular.

I

Çocuklar kendilerine yeni bir oyun ararken az ötedeki kalabalığı fark ettiler.

K

Etrafta bir sürü sütun varken neden o sütunun başına toplanmıştı herkes?

S

İnsanlar mermer bir sütunun önünde kuyruk olmuşlardı.

“A, I, K, S” harfleriyle gösterilen cümleler, olayların oluş sırasına göre sıralandığında aşağıdaki kelimelerden hangisi oluşur?

- A) ASIK B) ASKI
C) ISKA D) KISA

12.

Gün ışığına, bahar esintisine, yeşeren toprağa, çiçeklenen ağaçlara bakıyorum. Yeniden baharı görebilmenin şükürleriyle... Bundanmış, tek gövde kalmış ağaçlardaki yaprakların gövdeden fıskırmasına bakıyorum. Bahçedeki söğüt bu hâlde. Bu, coşkunluk değil de ne? Bu tepeden tırnağa donanış, yeniden hayata kavuşma anlamında. Hele şükür geldi! Hem de birdenbire!

Bu metinde yazarın, ilkbaharın gelişinden duyduğu mutluluğu hangi cümle daha iyi anlatmaktadır?

- A) Çiçeklenen ağaçlara bakıyorum.
B) Hele şükür geldi!
C) Bu, coşkunluk değil de ne?
D) Bahçedeki söğüt bu hâlde.

13.


“Şırlı şırlı akan bir derecik gibi huzur verici bir sesle başından geçenleri anlatıyordu.”

Bu cümlede, aşağıdakilerin hangisine yer verilmezse kişileştirme sanatı yapılmış olur?

- A) bir B) gibi
C) Şırlı şırlı D) başından geçenleri

14.

Aşağıda bir mağara içinde aynı türden iki hayvan konuşmaktadır.



Bu tür bir konuşmayı yapacak canlıların özellikleri şöyledir:

- Örümcekler, ince bir ağ kurarak küçük böcekleri avlar; karada yaşarlar.
- Bozayılar, karınlarını iyice doyurup kışı yarı uyku hâlinde mağaralarda geçirirler.
- Böcek yiyen yarasalar, gece avlanıp gündüz gizlenirler.
- Toprak altında yaşayan yılanlar, böceklerle ve solucanlarla beslenirler.

Bu bilgilere göre, resimde soru işaretleriyle belirtilen yerlere aşağıdaki hayvanlardan hangisi getirilmelidir?

- A) Örümcek B) Bozayı
C) Yarasa D) Yılan

15. Aşağıdaki altı çizili sözcüklerin hangisinde yazım yanlışı vardır?

- A) 8'inci kitaplığın önünde ayakta duruyordu.
 B) Demek ki fark etmediler benim ne yaptığımı.
 C) Onun başarılarını duydukça göğüsüm kabarıyor.
 D) Tatile genellikle temmuzun ilk haftası gideriz.

16.

"Uzun süre dinlenmiş atının canlı yürüyüşü ile avlunun çamurlarından geçerek dışarı çıktı ve oradan kırlara açıldı." cümlesinde "zamir" olan sözcük hangisidir, neden?



Derya

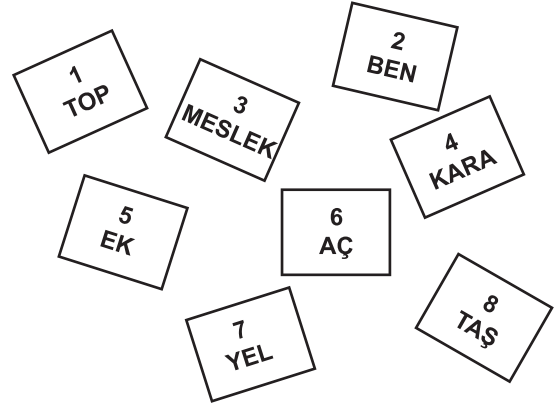
Derya'nın sorusuna aşağıdaki çocuklardan hangisi doğru cevap vermiştir?

- A) "Oradan" sözcüğüdür, çünkü bir ismin yerine kullanılmıştır.
 B) "İle" sözcüğüdür, çünkü iki sözcük arasında anlam ilgisi kurmuştur.
 C) "Uzun" sözcüğüdür, çünkü bir ismi nitelemiştir.
 D) "Çamur" sözcüğüdür, çünkü bir varlığı tanımlamıştır.

17. Aşağıda yay ayrıçla belirtilen yerlerin hangisine düşüncenin yönüne göre "ama" bağlacı getirilemez?

- A) Çavdarlar başaklanmış (...) başakları henüz tamamiyle dolmamıştı.
 B) Çok yorgun görünüyordu (...) ısrarla yürümeye devam ediyordu.
 C) Gerçi gün boyu balık avlayamadım (...) keyfim yerinde.
 D) Kardeş gibi geçiniyoruz (...) aynı duyguları paylaşıyoruz.

18.



Numaralandırılmış kutulardan hangileri yan yana getirilirse "birleşik bir kelime" meydana gelir?

- A) 1 ve 6
 B) 2 ve 5
 C) 3 ve 8
 D) 4 ve 7

19. Aşağıda yay ayrıçla belirtilen yerlerin hangisinde eğik çizgi (/), ünlem (!), nokta (.) ve iki nokta (:) işaretlerinden herhangi biri kullanılamaz?

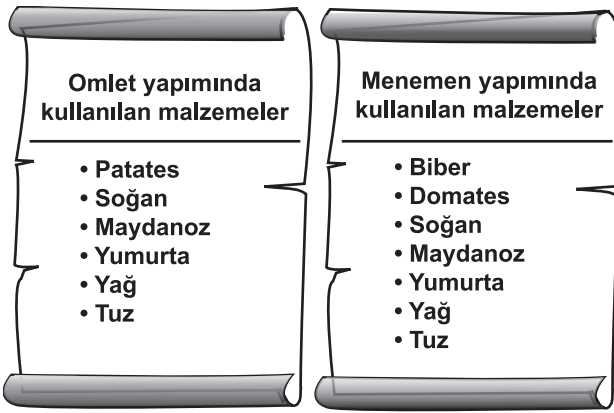
- A) Nihat Bey()e yeni aldığı evi gezdiriyordu.
 B) Heyecanla ona seslendi:
 – Ahmet Bey, Ahmet Bey()
 C) Formun adres kısmına sadece "Keçiören() ANKARA" yazdı.
 D) Otobüsün 10()30'da hareket edeceğini yeni duyuyordu.

TÜRKÇE TESTİ BİTTİ.
 MATEMATİK TESTİNE GEÇİNİZ.

1. $2828 + 543 = 543 + \square$ ve
 $\Delta \times (36 \times 3) = (28 \times 36) \times 3$ olduğuna göre,
 $\square - \Delta$ işleminin sonucu kaçtır?

A) 2600 B) 2792 C) 2800 D) 2856

2.



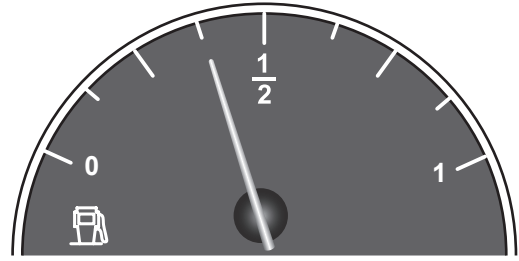
Omelet yapımında kullanılan malzemelerin kümesi A, menemen yapımında kullanılan malzemelerin kümesi B olsun. Buna göre, elemanı sadece patates olan küme aşağıdakilerden hangisidir?

A) $A - B$ B) $B - A$
 C) $A \cap B$ D) $A \cup B$

3. Kedi ve köpeklerin bulunduğu bir hayvan barınağındaki kedilerin sayısının köpeklerin sayısına oranı $\frac{1}{4}$ 'tür. Aşağıdakilerden hangisi bu barınaktaki kedi ve köpeklerin toplam sayısı olabilir?

A) 44 B) 80 C) 92 D) 108

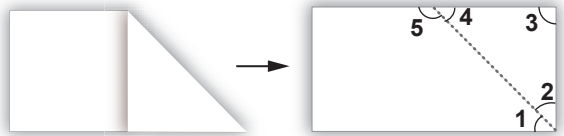
4.



Benzin göstergesi şekildeki gibi olan bir aracın deposunda 23,4 litre benzin vardır. İbre sıfırı gösterdiğinde aracın deposu boş olduğuna göre, bu aracın deposu kaç litreliktir?

A) 56 B) 60,2 C) 62,4 D) 64

5.



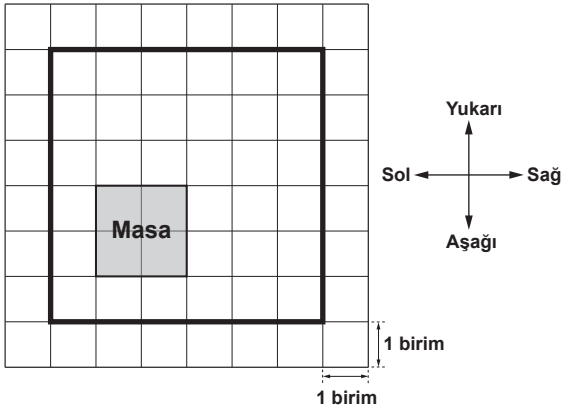
Bir dosya kâğıdı şekildeki gibi katlanıp açılıyor. Şekle göre, aşağıdakilerin hangisindeki açılar bütünlerdir?

A) 1 ve 2 B) 3 ve 4
 C) 2 ve 4 D) 4 ve 5

6. Bir kitabın son iki sayfasının numaralarının toplamı 301'dir. Bu kitabın son sayfa numarası kaçtır?

- A) 150 B) 151 C) 300 D) 301

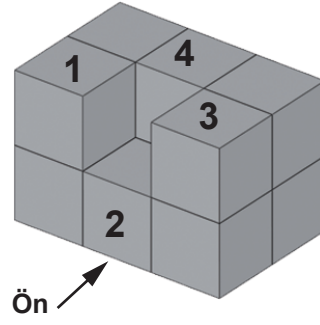
7.



Şekilde bir oda ve içerisindeki masanın kroki verilmiştir. Masa, aşağıdakilerden hangisindeki gibi ötelenirse odanın ortasında yer alır?

- A) 2 birim yukarı
1 birim sağa
- B) 1 birim yukarı
2 birim sağa
- C) 2 birim yukarı
2 birim sağa
- D) 1 birim yukarı
1 birim sağa

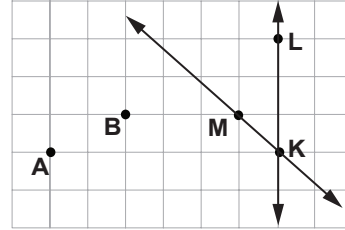
8.



Şekildeki yapıda numaralandırılmış birim küplerden hangisi çıkartılırsa yapının önden görünümü değişir?

- A) 1 B) 2 C) 3 D) 4

9.




Verilen şekilde, aşağıdakilerden hangisi çizilirse bir üçgen elde edilir?

- A) [AB] B) [BM] C) [MB] D) BK

10. Sınıfınızdaki kapının yüksekliği, aşağıdakilerden hangisi olabilir?

- A) 2 cm B) 2 m C) 2 hm D) 2 km

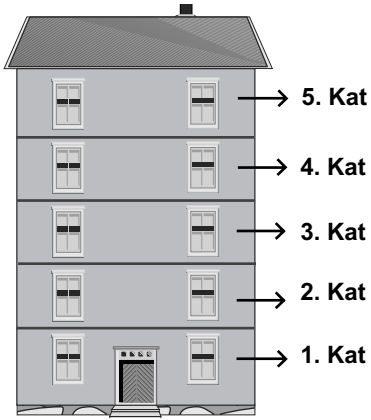
11.



Bir ayrıtının uzunluğu 9 cm olan küp şeklindeki bir kabın tamamı su ile doludur. Bu kabtaki su, yukarıda gösterilen silindirik şeklindeki 1 litrelik boş sürahiye boşaltılıyor. Eş bölmeli bu sürahideki suyun seviyesi hangi noktalar arasında olur?

- A) K ile L B) L ile M
C) M ile N D) N ile S

12.



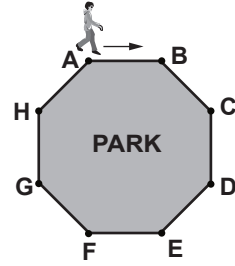
Şekildeki 5 katlı kooperatif binasının her katında aynı sayıda daire vardır. Daireler kooperatif üyelerine çekiliş yapılarak dağıtılacaktır. Çekilen ilk dairenin üçüncü katta olma olasılığı nedir?

- A) $\frac{1}{5}$ B) $\frac{1}{3}$ C) $\frac{3}{5}$ D) $\frac{2}{3}$

13. Okul kantinlerinde sağlık koşullarına uyulup uyulmadığı araştırılacaktır. Bu amaçla hazırlanacak ankette, aşağıdaki sorulardan hangisinin yer almasına gerek yoktur?

- A) Tost makinelerini hangi sıklıkla temizliyorsunuz?
B) Böceklere karşı düzenli olarak ilaçlama yapıyor musunuz?
C) Satılan ürünlerin son kullanma tarihine dikkat ediyor musunuz?
D) Günlük kazancınız ne kadardır?

14.



İlhan, düzgün sekizgen şeklindeki parkın çevresinde ok yönünde yürüyüş yapmaktadır. Yürüyüşe A noktasından başlayan İlhan, parkın çevresinin $\frac{3}{5}$ 'ünü yürüdüğünde hangi noktalar arasında olur?

- A) C ile D B) D ile E
C) E ile F D) F ile G

15. Tablo: Yumurtaların Boylarına Göre Fiyatları

BOY	FİYAT (Kr)
Büyük	23
Orta	18
Küçük	16

Bir tavukçunun sattığı yumurtaların fiyatları tabloda verilmiştir. Her boydan birer yumurta alan müşteri, bir yumurta için ortalama kaç kuruş ödemiş olur?

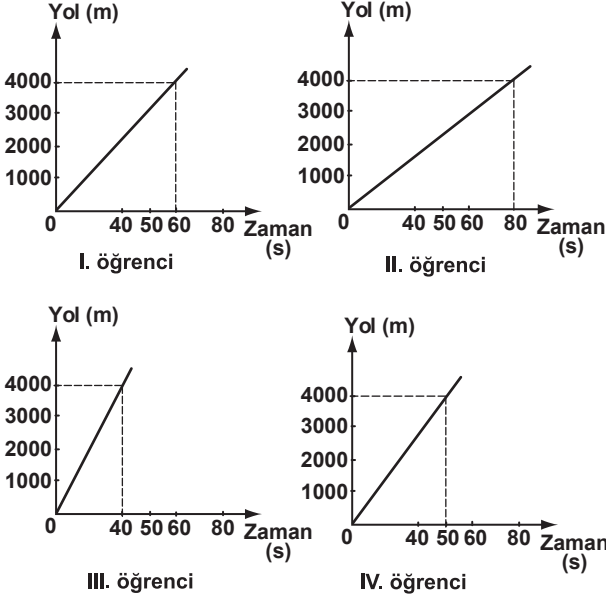
- A) 17 B) 18 C) 19 D) 20

16. a lirası olan bir kişinin, fiyatları aynı olan gömleklerden 5 tane satın aldığında 12 lirası artıyor. Bir gömleğin fiyatının kaç lira olduğunu gösteren cebirsel ifade aşağıdakilerden hangisidir?

- A) $\frac{a-12}{5}$ B) $\frac{a}{5} + 12$
C) $\frac{a}{5} - 12$ D) $\frac{a+12}{5}$

MATEMATİK TESTİ BİTTİ.
FEN VE TEKNOLOJİ TESTİNE GEÇİNİZ.

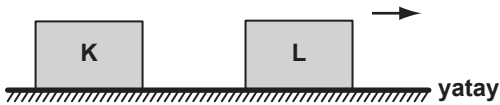
1. Hafta sonu İstanbul Park'ta yapılan Formula 1 yarışlarını izlemeye giden dört arkadaş, ellerindeki kronometrelerle favori pilotlarının pistin bir turunu kaç saniyede tamamladıklarını ölçüyor. Pist mesafesinin 4000 m olduğunu bilen öğrenciler, favori pilotları için aşağıdaki yol-zaman grafiklerini çiziyorlar.



Bu grafiklere göre, hangi öğrencinin favori pilotu en süratlidir?

- A) I B) II C) III D) IV

2.

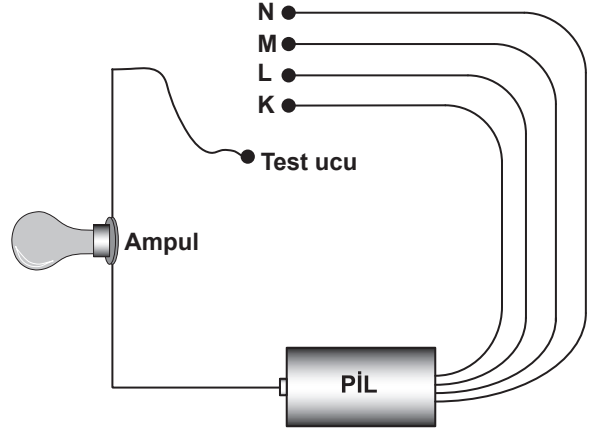


Şekildeki K cismi durmaktadır. L cismi ise belirtilen yönde sabit süratle hareket etmektedir.

Buna göre, K ve L'ye etki eden kuvvetlerle ilgili olarak aşağıdakilerden hangisi doğrudur?

- | | |
|------------------|---------------|
| _____ K _____ | _____ L _____ |
| A) Dengelenmiş | Dengelenmiş |
| B) Dengelenmiş | Dengelenmemiş |
| C) Dengelenmemiş | Dengelenmiş |
| D) Dengelenmemiş | Dengelenmemiş |

3. Arif şekildeki devreyi kuruyor ve boşta kalan test ucunu sırasıyla K, L, M ve N maddelerinden yapılmış kablolarla dokunduruyor.




Sonra ampulün ışık verip vermediğini aşağıdaki tabloya kaydediyor.

	Ampul ışık veriyor	Ampul ışık vermiyor
K	√	
L	√	
M		√
N		√

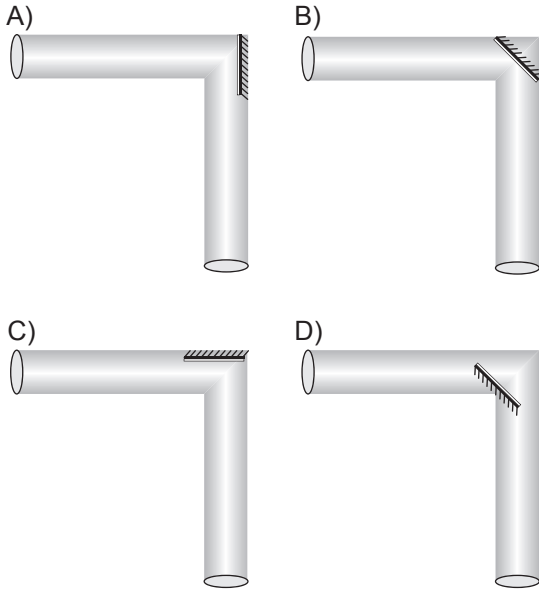
Buna göre, K, L, M ve N maddeleri aşağıdakilerden hangisi olabilir?

- | | | | |
|---------------|---------------|---------------|---------------|
| _____ K _____ | _____ L _____ | _____ M _____ | _____ N _____ |
| A) Bakır | Alüminyum | Plastik | Cam |
| B) Alüminyum | Plastik | Cam | Bakır |
| C) Cam | Alüminyum | Bakır | Plastik |
| D) Plastik | Cam | Alüminyum | Bakır |

4. Şeffaf olmayan bir borunun içine şekildeki gibi bakan kedi, yuvasındaki fareyi görememektedir.



Borunun içine düzlem ayna aşağıdakilerden hangisindeki gibi yerleştirilirse kedi fareyi görebilir?



5. Bir öğretmen, Fen ve Teknoloji dersinde, öğrencilerden sesin yansımalarına örnekler vermelerini istiyor. Öğrenciler aşağıdaki örnekleri veriyorlar:

Kemal: “Doktorların, ultrason cihazı kullanarak iç organlarımızı görmeleri”

Ahmet: “Balıkçıların, sonar cihazı kullanarak balık avlamaları”

Sema: “Kar yağdığında, sokağımızın diğer günlerden daha sessiz olması”

Özlem: “Derin bir vadi kenarında bağırduğumuzda, sesimizin yankı yapması”

Buna göre, hangi öğrencilerin verdiği örnekler sesin yansımaları ile ilgili olabilir?

- A) Kemal, Ahmet ve Sema
B) Ahmet, Sema ve Özlem
C) Kemal, Sema ve Özlem
D) Kemal, Ahmet ve Özlem


6. Köy konağında, muhtar ve çiftçiler aralarında sohbet ediyorlar.

Muhtar, “Arkadaşlar, bir gazetede okudum. Bilim insanları, her yıl ülkemizde, Kıbrıs Adası'nın yüzeyini yaklaşık 25 cm kalınlıkta kaplayacak kadar verimli toprağımızın erozyonla kaybolduğunu vurguluyor. Bugüne kadar kaybedilen için yapılacak bir şey yok. Ancak bundan sonra elimizde kalanı korumak için ne yapmalıyız?”

Bu sorun için çiftçilerin aşağıda sunduğu önerilerden hangisi yanlıştır?

- A) Mehmet : “Eğimli arazilerde, toprağın önüne basamaklı setler kurarak, teraslama yapalım.”
B) Ahmet : “Eklilmeyen arazilere ağaç dikielim.”
C) Mustafa : “Tarlalarımızı üç yılda bir eklelim.”
D) Hasan : “Eğimli tarlalarımızda toprağı, eğime dik olarak sürelim.”

7.




Oktay, öğretmenin tahtaya çizdiği molekül modelini oyun hamurlarıyla modellerken, farklı atomlar için farklı renkler kullanıyor.

Buna göre, Oktay kaç farklı renkte oyun hamuru kullanmıştır?

- A) 2 B) 3 C) 5 D) 6

8. Öğretmen, öğrencilerine bileşikler konusunda kart oyunu oynatmaktadır. Kartların bir yüzünde bileşiklerin özellikleri, diğer yüzünde bu bileşiklerin tanecik modelleri bulunmaktadır.

- İki çeşit atom içerir.
- Moleküllerden oluşur.
- Molekülünde üç atom vardır.



Öğretmen

Buna göre, öğretmenin tuttuğu kartın diğer yüzünde, aşağıdaki modellerden hangisi vardır?

- A) B)
- C) D)


9.

Fiziksel değişim	Kimyasal değişim
Cevizleri kırdım. ①	Peyniri dilimledim. ②
Ekmeği kızarttım. ③	Yumurta yı pişirdim. ④

Kahvaltayı hazırlarken yaptığı işlemleri çizelgeye kaydeden Zeynep, hangi işlemleri yanlış yere yazmıştır?

- A) 1 ve 4 B) 2 ve 3
C) 3 ve 4 D) 1 ve 2

10. Öğrenciler, yaptıkları etkinliklerin sonuçlarını aşağıdaki gibi ifade ediyor.



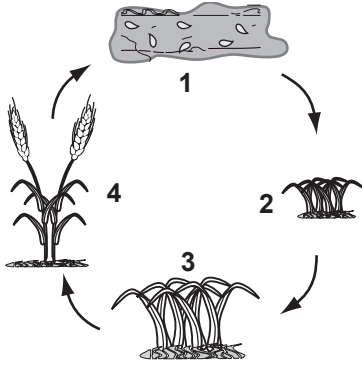
Hangi öğrencinin yaptığı etkinlik sonucuna göre, "Sıvıları oluşturan moleküller birbirine çok yakındır." bilgisine ulaşılabilir?

- A) Oğuz B) Şeyda
C) Ferda D) Cemil

11. Ali Bey, evinin iç ve dış duvarlarında ısı akışını yavaşlatmak için yalıtım malzemesi kullanıyor. Yalıtım malzemesini kullanmasının Ali Bey'e öncelikle sağlayacağı fayda aşağıdakilerden hangisidir?

- A) Evini uzun ömürlü yapması
B) Doğal afetlere karşı koruması
C) Kirli havanın içeri girmesini engellemesi
D) Isıtma ve soğutma giderlerini azaltması

12.



Buğdayın Hayat Döngüsü

Ahmet : Dedeciğim, tarladaki bu küçük yapraklı bitkilerin adı ne?

Dede : Bunlar buğday bitkileri... Tohumlarını sonbaharda ektik. Yaz tatilinde köye geldiğinde bunları büyümüş ve üzerinde tohumları oluşmuş göreceksin.

Ahmet, yazın köye gidince, buğdayın yukarıdaki hayat döngüsünde kaç numaralı basamağı görecektir?

- A) 1 B) 2 C) 3 D) 4

13.

Sivilce çıkması	Sperm oluşması	Kasların gelişmesi
Bıyık çıkması	Kilo artması	Adet görme
Ter salgısının artması	Yumurta oluşması	

Şemada, ergenlik dönemindeki kızlarda ve erkeklerde görülen özellikler ile her ikisinde görülen ortak özellikler farklı taranmıştır.

Tarama şekline de dikkat edilerek boş bırakılan yere aşağıdakilerden hangisi yazılabilir?

- A) Boy uzaması
B) Sakal çıkması
C) Ses kalınlaşması
D) Göğüslerin büyümesi

14.

	Özellikleri
	1. Omurgalıdır.
	2. Başkalaşım geçirir.
	3. Yumurta ile çoğalır.
	4. Embriyo gelişimi dış ortamda olur.

Öğrenci, bir kurbağa türüne ait resmi şekildeki gibi kartona yapıştırıp yanına bazı özelliklerini yazmıştır.

Öğrenci, kurbağayı çıkarıp hamsi balığı resmini yapıştırırsa kaç numaralı özelliği değiştirmesi gerekir?

- A) 1 B) 2 C) 3 D) 4

15. Kalp pili, bazı kalp hastalarının vücuduna takılır. Bu hastalarda gerektiğinde kalbin pompalama görevini yerine getirmesini sağlar.

Buna göre, kalp pili aşağıdakilerden hangisinde etkilidir?

- A) Kanın mikroplardan temizlenmesinde
- B) Damar tıkanıklığının görüntülenmesinde
- C) Kanın zararlı gazlardan temizlenmesinde
- D) Kanın kalpten diğer organlara gönderilmesinde


16. Öğrenciler; "Bulaşıcı bir hastalık olan grip ten nasıl korunuruz" konulu afişler hazırlamıştır.

Aşağıdakilerden hangisi bu afişlerden biri olamaz?

A)



B)



C)




D)



FEN VE TEKNOLOJİ TESTİ BİTTİ.
SOSYAL BİLGİLER TESTİNE GEÇİNİZ.

1.

Türk çocuğu ecdadını tanıdıkça daha büyük işler yapmak için kendinde kuvvet bulacaktır.



Aşağıdakilerden hangisi Atatürk'ün bu sözü doğrultusunda çalışmalar yapmak amacıyla açılmıştır?

- A) Türk Dil Kurumu
- B) Türk Tarih Kurumu
- C) Ankara Hukuk Fakültesi
- D) Güzel Sanatlar Akademisi

2. Friglerden günümüze;

- I- tunçtan yapılmış göbekli taslar
- II- fibula denilen çengelli iğneler
- III- seramik çanak çömlekler kalmıştır.

Bunlardan hangileri, Frigya'da maden işleciliğinin geliştiğine kanıt olarak gösterilebilir?

- A) Yalnız I
- B) Yalnız II
- C) I - II
- D) I - II - III

3.




2005 yılında Orta Asya'da yapılan kazılarda çıkarılan Kök Türklerle ait paralarda, kağan ve hatunun resimleri yanyana yer almaktadır.

Yukarıda verilen açıklamaya göre Kök Türklerin siyasi yapısıyla ilgili olarak aşağıdaki yorumlardan hangisi yapılabilir?

- A) Hatun ordunun başkomutanıdır.
- B) Kök Türk kağanlarının çoğu kadındır.
- C) Ülkenin doğu bölümünü hatun yönetmektedir.
- D) Devlet yönetiminde hatun da söz sahibidir.

4.

Tuğrul Bey'den sonra Selçuklu hükümdarı oldum. 1071'de Malazgirt Zaferi'ni kazanarak Anadolu'nun kapılarını Türklere açtım. Nizamiye Medreselerini kurdurarak üniversite eğitiminin temellerini attım. Bilim adamlarını ve bilimsel faaliyetleri destekledim.



Bu konuşmayı yapan Türk hükümdarı, aşağıdakilerden hangisidir?

A)




Alparslan

B)



Melikşah

C)



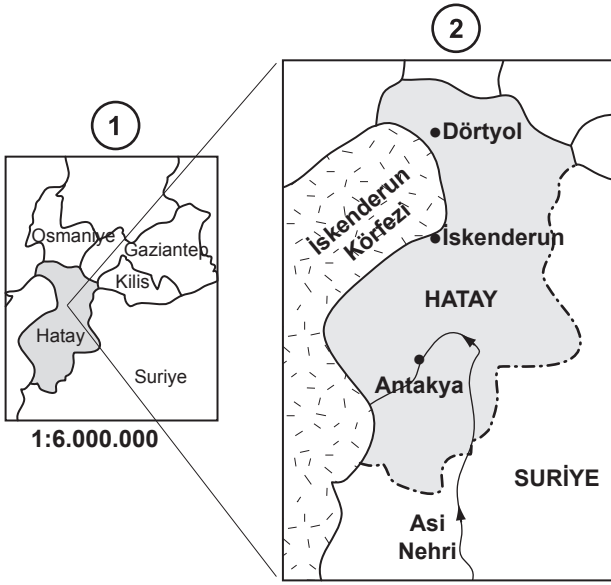
Mete Han

D)



Gazneli Mahmut

5. Aşağıda aynı yere ait iki farklı ölçeğe sahip harita verilmiştir.



1 nolu haritanın ölçeği 1:6.000.000 ise 2 nolu haritanın ölçeği aşağıdakilerden hangisi olabilir?

- A) 1: 2.000.000 B) 1: 6.000.000
C) 1: 8.000.000 D) 1: 10.000.000

6. Cumhuriyetin ilanından sonra, sanayileşmeye büyük önem veren Atatürk, bunun için öncelikle demir-çelik, çimento, dokuma, kâğıt, şeker ve cam fabrikalarını kurdurmuştur. Bu sayede ülkemizin doğal kaynakları değerlendirilmiş, binlerce insan iş bulmuş ve en önemlisi de Türk insanının temel ihtiyaçları başka ülkelere gerek kalmadan sağlanabilmiştir.


Metinden yola çıkarak, aşağıdaki yorumlardan hangisi yapılabilir?

- A) Türkiye, sanayileşirken tarımı ihmal etmiştir.
B) Türkiye, dünyada ilk sanayileşen ülkelerdendir.
C) Türkiye'nin ekonomik gelişiminde sanayileşme önemli bir faktördür.
D) Türkiye, her türlü enerji kaynaklarınca zengindir.

7.



Resimdeki eskimoların yaşadıkları yer hangi seçenekte doğru verilmiştir?



8.

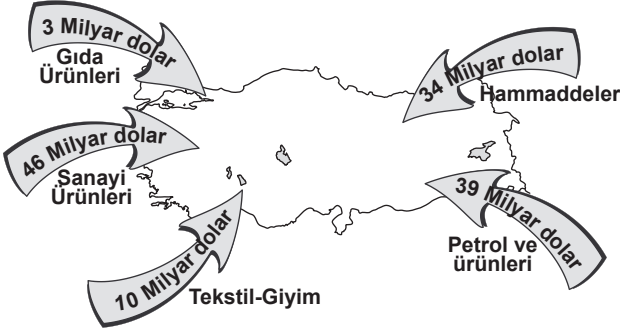


Yukarıdaki resim belli bir yöreye ait doğal kaynak ve elde edilen ürün ilişkisini göstermektedir.

Bu yörede aşağıdaki sanayi tesislerinden hangisinin kurulması uygundur?

- A) Çimento B) Konfeksiyon
C) Mobilya - kâğıt D) Demir - çelik

9. Haritada, Türkiye'nin 2006 yılı ithalat ürünlerine ait giderler gösterilmiştir.



Buna göre, ithalatta hangisinin payı daha yüksektir?

- A) Gıda ürünlerinin
B) Sanayi ürünlerinin
C) Giyim eşyalarının
D) Hammaddelerin

10.

Merhaba Mustafa!
Nasılsın? ①



Mesut (Adana)

İyiyim, sen nasılsın?
Havalar nasıl? ②



Mustafa (Erzurum)

Çok iyiyim. Buğdayı
hasat ettik. Bu yıl
verim yüksek oldu.
Tarlayı ikinci ürün için
hazırlıyoruz. ③



Mesut

Ne güzel! Bizim
burada buğdayların
olgunlaşmasına
daha çok var. Biz
hâlâ sobayı yakıyoruz.
Herhâlde sizin orada
denize giriliyordur. ④



Mustafa

Verilen diyaloga bakarak Mustafa'nın yaşadığı yer için aşağıdakilerden hangisi söylenebilir?

- A) Kış mevsiminin soğuk ve uzun sürdüğü
B) Dağınık yerleşmelerin yaygın olduğu
C) Makineli tarımın gelişmiş olduğu
D) Bitki örtüsünün makilerden oluştuğu

11.



İstanbul ile ilgili konuşan çocuklardan hangisinin sözleri "olgu" bildirmektedir?

- A) Nuray B) Murat
C) Ali D) Zehra

12. • Konuya ilişkin kaynak taraması yapılır.
• Farklı kaynaklar incelenerek konuyla ilgili notlar alınır.
• Kaynakların künyesi çıkarılır.

Yukarıda verilen çalışmaların **tümü**, bilimsel araştırmanın hangi basamağında yapılır?

- A) Araştırılacak konuyu belirleme
B) Elde edilen bilgileri sınıflandırma
C) Araştırma konusu ile ilgili bilgi toplama
D) Araştırma konusu ile ilgili varsayımlar oluşturma

13. Demokrasi anlayışının egemen olduğu toplumlarda, bireylerin düşünce ve ifade özgürlüğüne sahip olması istenir.

İstenilen bu durumun gerçekleşmesinde izlenecek **en etkili** yol, aşağıdakilerden hangisidir?

- A) Kültürel varlıkların koruma altına alınması
B) Geleneklerin sonraki kuşaklara aktarılması
C) Bireylere, çevreyi koruma bilincinin kazandırılması
D) Farklı görüşlerin dile getirilmesinin sağlanması

DİN KÜLTÜRÜ VE AHLAK BİLGİSİ DERSİNİ OKUYANLAR AŞAĞIDAKİ SORULARI CEVAPLAYACAKLARDIR.

14. • Uzun yıllar ticaretle uğraştığı hâlde, Hz. Muhammed'in ticaret ahlakına ilişkin olumsuz bir söylenti olmamıştır.
• Peygamberliğini kabul etmeyenler bile korumak istedikleri değerli eşyalarını Hz. Muhammed'e emanet etmişlerdir.
• Hz. Muhammed Hicret için yola çıktığı gece, öldürülme tehlikesine rağmen yanındaki emanetleri sahiplerine teslim edebilmek için çaba göstermiştir.

Yukarıda verilen olaylar, başta Hz. Muhammed olmak üzere peygamberlerin ortak sıfatlarından hangisine örnek olarak gösterilebilir?

- A) Güvenilirlik
B) Doğru sözlülük
C) Akıllı ve zeki olmak
D) Günahlardan uzak durmak

15.



**KUR'AN
İYİYE VE GÜZELE
YÖNLENDİRİR**

Örnek Ayet

.....

.....

.....

Afişteki metin kutusuna Kur'an'ın iyiye ve güzele yönlendirmesine örnek olarak aşağıdaki ayetlerden hangisi yazılmalıdır?

- A) "O, kara ve denizin karanlıklarında yolunuzu bulasınız diye sizin için yıldızları yaratandır..."
(En'âm suresi, 97)
- B) "...İyilik ve (Allah'ın yasaklarından) sakınma konusunda yardımlaşın, günah ve düşmanlıkta yardımlaşmayın..."
(Mâide suresi, 2)
- C) "Ne Güneş Ay'a yetişebilir ne gündüz geceyi geçebilir. Her biri bir yörüngede hareket ederler."
(Yasin suresi, 40)
- D) "... Yeryüzüne de sizi sarsmasın diye sabit dağlar yerleştirdik ve orada her türlü canlıyı yaydık..."
(Lokmân suresi, 10)

16.

- "Sizden hayra çağıran, iyiliği emredip kötülüğü men eden bir topluluk bulunsun..."
(Â-i İmrân suresi, 104)
- "Küçüğüne merhamet etmeyen, büyüğüne saygı göstermeyen, iyiliği yaymaya ve kötülüğü önlemeye çalışmayan bizden değildir."
(Tirmizî, Birr, 33)

Yukarıdaki ayet ve hadisi iyi kavrayan bir kimseden aşağıdaki davranışlardan hangisi beklenmez?

- A) Okulunda bulunan yoksul öğrencilere yardım kampanyası düzenlemesi
- B) Birbirine küsen iki arkadaşı barıştırmak için çaba harcaması
- C) Toplumda yaygınlaşan kötü davranışların kendisine bir zararı olmadığını düşünmesi
- D) Kamu mallarına zarar veren arkadaşını nazik bir dille uyarması

DİN KÜLTÜRÜ VE AHLAK BİLGİSİ DERSİNİ OKUMAYANLAR AŞAĞIDAKİ SORULARI CEVAPLAYACAKLARDIR.

14.



Verilen şemada (?) ile belirtilen yere aşağıdakilerden hangisi yazılmalıdır?

- A) Orhun Yazıtları
- B) Ergenekon Destanı
- C) Karabalgasun Yazıtı
- D) Uygur Duvar Resimleri

15. I- Su kanallarıyla sulamaya dayalı tarımı geliřtirmeleri
II- Yařamlarını avcılıkla sũrdũrmeleri
III- Site adı verilen řehirler kurmaları
IV- Tuđladan ev yapmaları
- Yukarıdakilerden hangileri Sũmerlerin yerleřik hayata geçtiđine iliřkin kanıt olamaz?
- A) Yalnız I B) Yalnız II
C) I ve III D) II ve IV

16. Sosyal Bilgiler eđitimi alan bir bireyin ařađıdaki davranıřlardan hangisini yapması beklenmez?
- A) Toplumsal sorunlara duyarlı olması
B) Toplumun deđerlerine saygı duyması
C) Bařkalarının haklarını ihlal etmesi
D) Bireylerin farklılıklarını hořgũrũ ile karřılması

**SOSYAL BİLGİLER TESTİ BİTTİ.
YABANCI DİL TESTİNE GEÇİNİZ.**

BU GRUPTAKİ SORULAR YABANCI DİLLERE AİTTİR. OKUDUĞUNUZ YABANCI DİLE AİT SORULARI CEVAPLANDIRINIZ.

İNGİLİZCE

1. Mert doesn't like fast food. He eats hamburger.

Yukarıda verilen cümlede boş bırakılan yere uygun düşen kelimeyi işaretleyiniz.

- A) usually B) often
C) never D) always

2 - 5. sorularda verilen karşılıklı konuşmanın boş bırakılan kısmını tamamlayan ifadeyi işaretleyiniz.

2. Elif:
Serdar: One glass.

- A) How much milk do you need?
B) How many potatoes are there?
C) How many apples do you have?
D) How much meat would you like?


3. Tom:
Ece: It's hot and dry.

- A) Where are you going to stay tomorrow?
B) Do you have eggs for breakfast in Turkey?
C) Have you got any brothers or sisters in Konya?
D) What's the weather like in Ankara in summer?

4. Tolga: Would you like to go to the cinema?
Ceyda: I must study for the English exam.

- A) I'm afraid I can't.
B) That's a good idea!
C) I enjoy watching TV.
D) Buy a birthday cake!

5.



- A) What's the problem?
B) Let's eat some cheese!
C) You should sleep early.
D) You should wash your hands often.

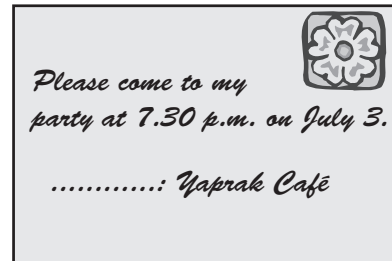
6-10. sorularda verilen resim veya şekilden yararlanarak boş bırakılan yere uygun düşen kelime veya ifadeyi işaretleyiniz.

6.



- A) a cup of B) a loaf of
C) a kilo of D) a can of

7.



- A) Guests B) Date
C) Time D) Place

8.



- A) You must be quiet!
 B) You must stop here!
 C) You mustn't turn left!
 D) You mustn't park here!

9.



- A) Brush your teeth!
 B) Do your homework!
 C) Don't touch the ball!
 D) Don't open your eyes!

10.



Fındık is interested in

- A) reading books.
 B) playing football.
 C) listening to music.
 D) taking photographs.

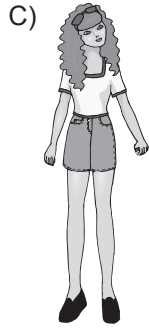
11. • Gizem has got four pencils.
 • Mehmet gives her two pencils.
 • Now, she has got six pencils.

Yukarıda verilen ifadelere uygun düşen işlem aşağıdakilerden hangisidir?



- A) $4 \times 2 = 6$
- B) $4 + 2 = 6$
- C) $4 - 2 = 2$
- D) $4 \div 2 = 2$

12. "She is tall and slim. She has got long curly hair."

Yukarıda tarifi yapılan kişi aşağıdaki resimlerden hangisinde doğru olarak verilmiştir?



13. Which animal has got a trunk?



ALMANCA

1. - 13. sorularda boş bırakılan yerlere uygun gelen kelime ya da ifadeyi işaretleyiniz.

1. Guten Tag! Ich bin Fatma. Ich bin ein

- A) Schüler B) Junge
C) Lehrer D) Mädchen

2. Hallo! Ich bin Ahmet. Ich bin dreizehn Jahre alt. Wie alt du?

- A) sind B) ist
C) bin D) bist

3. ●: Guten Morgen, Ayşe! Was machst du?
■: Guten Morgen, Fatma! Ich lerne Deutsch. Und du?
●: Ich Hausaufgaben. Tschüs!
■: Ach so! Tschüs!

- A) macht B) machen
C) mache D) machst

4. Sag mal Metin, wo du?

- A) wohnst B) wohnt
C) wohne D) wohnen

5. ●: Wie du?

■: Ich Serpil.

- A) alt / bist B) heißt / heiße
C) gehst / ist D) spielst / spiele

6. Das ist meine Freundin Inge. Sie kommt Deutschland.

- A) im B) in C) aus D) auf

7. ●: Wie spät ist es?

■:

- A) Es ist gut.
B) Es ist schön
C) Es ist zu spät
D) Es ist zwei Uhr.

8. ●: Ich bin schon fünf Jahre in Deutschland.

■:?

- A) Wie lange B) Woher
C) Wohin D) Wie alt

9. Ich möchte eine und einen

- A) Glas Milch / Paar Würstchen
B) Dose Cola / Hamburger
C) Flasche Saft / Tomatensuppe
D) Glas Tee / Portion Pommes frites

10. ●: Montag habe ich Mathe. Mathe macht richtig Spaß!

■: Stunden hast du in der Woche?
●: Zwei Stunden.

- A) Was B) Wie viele
C) Wann D) Wo

11. ●: Ist das eine Schultasche?

■: Ja, das ist Schultasche.

- A) die B) das C) der D) dem

12. Herr Özdemir fährt zur Schule immer dem Fahrrad.

- A) über B) in C) an D) mit

13. Herr Müller wohnt im Wohnblock im zweiten

- A) Erdgeschoß B) Einfamilienhaus
C) Stock D) Hochhaus

FRANSIZCA

1 - 3. soruları aşağıda verilen mektuba göre cevaplayınız.

Bruges, le 19 Avril

Salut Paul,

Je m'appelle Henri. Je suis belge. Je suis blond avec des yeux bleus. J'aime écouter de la musique classique et jouer au tennis.

Mon père est mécanicien, ma mère est institutrice. J'ai un chien et un poisson rouge. Tu connais ma famille maintenant. Je t'attends cet été à Bruges.

Mon adresse: Henri
Henri Dupont
4. Allée du Vivarais
38130 Bruges. Belgique

1. Mektup hangi mevsimde gönderilmiştir?

- A) hiver B) printemps
C) automne D) été

2. Aşağıdaki bilgilerden hangisine mektupta yer verilmiştir?

- A) La date de la lettre.
B) L'âge d'Henri.
C) L'adresse de Paul.
D) Les noms des parents de Paul.

3. Aşağıdaki sorulardan hangisinin cevabı mektupta yoktur?

- A) Quelle est la profession de la mère d'Henri?
B) Quelle est la couleur du poisson d'Henri?
C) Quelle est la couleur des cheveux d'Henri?
D) Quand est-ce que Paul est allé à Bruges?

4. Aujourd'hui les élèves sortent de l'école à 16h 40. Demain ils vont sortir une heure plus tard. Donc ils vont sortir à

Verilen cümlede boş bırakılan yere uygun düşen ifade aşağıdakilerden hangisidir?

- A) dix-sept heures moins vingt.
B) seize heures quarante.
C) dix-huit heures moins vingt.
D) dix-huit heures quarante.

5. - 6. sorularda verilen şekillerden yararlanarak boş bırakılan yere uygun düşen sözcük ya da ifadeyi bulunuz.

5.

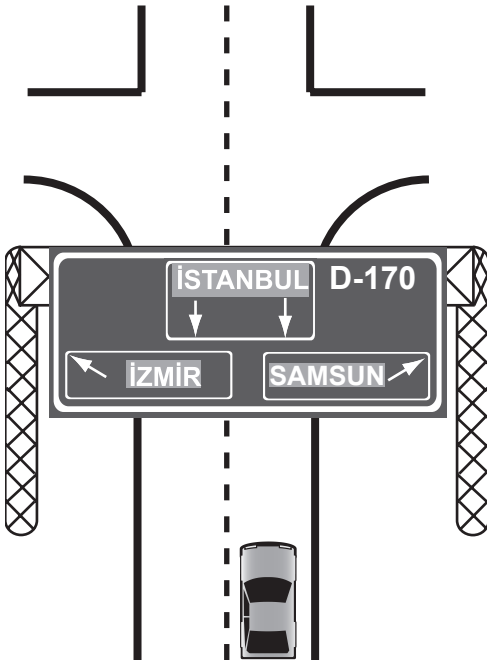
Lundi	Mardi	Mercredi	Jeudi	Vendredi	Samedi	Dimanche
1	2	3	4	5	6	7
8	9	10	11	12	13	14
15	16	17	18	19	20	21
22	23	24	25	26	27	28
29	30					

AVRIL

Aujourd'hui c'est jeudi le quatre Avril. Quatorze jours plus tard ce sera

- A) jeudi B) samedi
C) vendredi D) dimanche

6.



Pour aller à Izmir il faut

- A) tourner à droite.
- B) continuer tout droit.
- C) aller tout droit.
- D) tourner à gauche.

7. A: Pardon Madame! Je vais acheter une gomme et un crayon, est-ce qu'il y a près d'ici?

B: Euh, je ne sais pas.

Yukarıda verilen karşılıklı konuşmanın boş bırakılan kısmını tamamlayan sözcük aşağıdakilerden hangisidir?

- A) une pâtisserie
- B) une librairie
- C) une papeterie
- D) une pharmacie

8.

L'arbre généalogique de Marie



Verilen şekle göre, karşılıklı konuşmanın boş bırakılan kısmını tamamlayan sözcük aşağıdakilerden hangisidir?

A: Qui est Eric?

B: Il est de Claude.

- A) le père
- B) le mari
- C) la mère
- D) le frère

9. C'est un animal rusé et sauvage. Son nez est long.

Yukarıda tarifi yapılan hayvan aşağıdaki resimlerin hangisinde doğru olarak verilmiştir?

A)




B)



C)



D)



10.

L'emploi du temps de Nicole

Vendredi

de 08h00 - à 15h00	Aller à l'école
de 15h00 - à 17h00	Faire des courses
18h00	Diner chez sa grand-mère
de 20h00 - à 21h00	Regarder la télévision

Aşağıdaki soruyu tabloda verilen bilgilere göre cevaplayınız.

Où est Nicole à midi?

- A) à l'école
- B) à la maison
- C) chez sa grand-mère
- D) en courses


11.



Salut, moi c'est Pedro. Je suis cordonnier.

Yukarıdaki kişinin tanımına uygun düşen resim aşağıdakilerden hangisidir?

A)



B)



C)




D)



12.

Elle n'est pas grande, elle a des cheveux courts, elle ne porte pas de jupe mais elle porte des lunettes.

Yukarıda tanımı yapılan kişi aşağıdaki resimlerden hangisinde doğru olarak verilmiştir?



A)

B)

C)

D)

13.

Je m'appelle, je suis vendeuse et j'ai une fille qui a cinq ans.



Paulette Paul

Marianne Martin

Yukarıda konuşma balonu içerisinde verilen tanıma uygun düşen birey kimdir?

- A) Marianne
- C) Paul

- B) Martin
- D) Paulette

İTALYANCA

1 - 8. sorularda boş bırakılan yerlere uygun gelen kelime veya ifadeyi işaretleyiniz.

1. Brad Pitt è un attore american

- A) i B) a C) o D) e

2. Anna molti amici italiani.

- A) è B) ha C) hai D) sei

3. padre è un medico.

- A) tua B) tuoi C) mie D) mio

4. Quanti studenti nell'aula?

- A) ce B) c'è
C) ci sono D) ci siamo

5. Giorgio lavora banca Milano.

- A) da / in B) in / da
C) a / in D) in / a

6. Vivo Milano.

- A) a B) in C) di D) da

7. (noi) a casa dopo le 21:00.

- A) torno B) torniamo
C) tornate D) tornano

8. Vado al mare in agosto in..... .

- A) estate B) inverno
C) primavera D) autunno

9 - 11. sorularda verilen karşılıklı konuşmanın boş bırakılan kısmını tamamlayan ifadeyi işaretleyiniz.

9. A: Ciao, Anna, come ti chiami?
B: Io Laura.

- A) si chiama / è B) mi chiamo / sono
C) ti chiami / sono D) si chiama / sei

10. A: Io sono di Roma, sono italiano. (tu)?
B: di Milano.

- A) Di dove sei? / sono
B) Dove sei? / sei
C) Dove sei? / è
D) Sei francese? / siete

11. A: A che ora finirai di lavorare?
B: 7

- A) finiro / alle B) finirà / al
C) finirò / alle D) finirà / alle

12. Verilen resmi dikkate alarak cümlede boş bırakılan yere uygun gelen seçeneği işaretleyiniz.



Io suonare la chitarra.

- A) può
C) possiamo
- B) puoi
D) posso

13. Aşağıdaki konuşmada altı çizili yere uygun gelen seçeneği işaretleyiniz.

A: Che ore sono?

B: Sono le dieci e undici.

- A) 10:01
C) 01:01
- B) 10:11
D) 01:10

TEST BİTTİ.
CEVAPLARINIZI KONTROL EDİNİZ.

Soracağınız bir şey var mı? Varsa, şimdi sorunuz; sınav başladıktan sonra sorularınıza cevap verilmeyecektir. Hazır mısınız? Sınav, okulun bütün salonlarında aynı anda başlayacağı için başlama zilini beraberce bekleyelim. Hepinize başarılar dileriz.
(Salon başkanı başlama ve bitiş saatini tahtaya yazacaktır.)

Bu kitapçığın her hakkı saklıdır. Hangi amaçla olursa olsun, kitapçığın tamamının veya bir kısmının Millî Eğitim Bakanlığı Eğitim Teknolojileri Genel Müdürlüğünün yazılı izni olmadan kopya edilmesi, fotoğraflarının çekilmesi, bilgisayar ortamına alınması, herhangi bir yolla çoğaltılması, yayımlanması veya başka bir amaçla kullanılması yasaktır. Bu yasağa uymayanlar, doğabilecek cezai sorumluluğu ve kitapçığın hazırlanmasındaki mali külfeti peşinen kabullenmiş sayılır.

**12 HAZİRAN 2010 TARİHİNDE YAPILAN ORTAÖĞRETİM KURUMLARINA GEÇİŞ
SİSTEMİ SEVİYE BELİRLEME SINAVI
6. SINIF "A" KİTAPÇIĞI CEVAP ANAHTARI**

TÜRKÇE	MATEMATİK	FEN ve TEKNOLOJİ	SOSYAL BİLGİLER
1. B	1. C	1. C	1. B
2. C	2. A	2. A	2. C
3. D	3. B	3. A	3. D
4. A	4. C	4. B	4. A
5. B	5. D	5. D	5. A
6. C	6. B	6. C	6. C
7. D	7. D	7. B	7. D
8. A	8. D	8. C	8. C
9. C	9. A	9. B	9. B
10. D	10. B	10. A	10. A
11. C	11. B	11. D	11. A
12. B	12. A	12. D	12. C
13. B	13. D	13. A	13. D
14. C	14. C	14. B	14. A
15. C	15. C	15. D	15. B
16. A	16. A	16. C	16. C
17. D			
18. D			
19. A			

İNGİLİZCE	ALMANCA	FRANSIZCA	İTALYANCA
1. C	1. D	1. B	1. C
2. A	2. D	2. A	2. B
3. D	3. C	3. D	3. D
4. A	4. A	4. C	4. C
5. B	5. B	5. A	5. D
6. B	6. C	6. D	6. A
7. D	7. D	7. C	7. B
8. A	8. A	8. B	8. A
9. D	9. B	9. B	9. B
10. C	10. B	10. A	10. A
11. B	11. A	11. D	11. C
12. C	12. D	12. C	12. D
13. D	13. C	13. A	13. B