



2012 MALİYE BAKANLIĞI  
İÇ DENETİM KOORDİNASYON KURULU  
İÇ DENETÇİ ADAY BELİRLEME SINAVI  
GENEL YETENEK VE GENEL KÜLTÜR TESTİ  
ALAN BİLGİSİ TESTİ  
İNGİLİZCE TESTİ  
20 EKİM 2012

T.C. KİMLİK NUMARASI	:														
ADI	:														
SOYADI	:														
SALON NO.	:											SIRA NO.:			

**Soru kitapçık numarasının cevap kâğıdına kodlanmamasının veya yanlış kodlanmasının sorumluluğu adaya aittir.**

**SORU KİTAPÇIK  
NUMARASI :**

**TEMEL SORU  
KİTAPÇIĞI**

Bu numarayı cevap kâğıdınızdaki ilgili alana kodlamayı unutmayınız.

**DİKKAT! SINAV BAŞLAMADAN ÖNCE AŞAĞIDAKİ UYARILARI MUTLAKA OKUYUNUZ.**

1. T.C. Kimlik Numaranızı, Adınızı, Soyadınızı, Salon Numaranızı ve Sıra Numaranızı, Soru Kitapçığı üzerindeki ilgili alanlara yazınız.
2. Soru Kitapçık Numaranız yukarıda verilmiştir. Bu numarayı cevap kâğıdınızdaki ilgili alana kodlayınız ve aşağıdaki ilgili alanı imzalayınız. Salon görevlisinin de hem soru kitapçığındaki hem de cevap kâğıdınızdaki ilgili alanı imzalamasını sağlayınız. Bu kodlamayı cevap kâğıdınıza yapmadığınız veya yanlış yaptığınız takdirde, sınavınızın değerlendirilmesi mümkün değildir.
3. Bu sayfanın arkasında yer alan açıklamayı dikkatle okuyunuz.

**Adayın imzası:**

Soru kitapçık numarasını doğru kodladım.

**Salon görevlisinin imzası:**

Adayın soru kitapçık numarasını cevap kâğıdına doğru kodladığını onaylıyorum.

## AÇIKLAMA

1. Bu kitapçıkta, Genel Yetenek ve Genel Kültür Testi, Alan Bilgisi Testi ve İngilizce Testi bulunmaktadır.
2. Bu sınav için verilen toplam cevaplama süresi **150 dakikadır (2,5 saat)**.
3. Bu kitapçıkta testlerde yer alan her sorunun sadece bir doğru cevabı vardır. Bir soru için birden çok cevap yeri işaretlenmişse o soru yanlış cevaplanmış sayılacaktır.
4. Değiştirmek istediğiniz bir cevabı, size verilen silgiyle, cevap kâğıdını örselemeden, temizce siliniz ve yeni cevabınızı işaretlemeyi unutmayınız.
5. Bu sınavın değerlendirilmesi doğru cevap sayısı üzerinden yapılacak, yanlış cevaplar dikkate alınmayacaktır. Bu nedenle, her soruda size en doğru görünen cevabı işaretleyerek cevapsız soru bırakmamanız yararınıza olabilir.
6. Cevaplamaya istediğiniz sorudan başlayabilirsiniz. Bir soru ile ilgili cevabınızı, cevap kâğıdında o soru için ayrılmış olan yere işaretlemeyi unutmayınız.
7. Sınavda uyulacak diğer kurallar bu kitapçığın arka kapağında belirtilmiştir.

1. Bu testte 60 soru vardır.

2. Cevaplarınızı, cevap kâğıdının Genel Yetenek ve Genel Kültür Testi için ayrılan kısmına işaretleyiniz.

1. 19. yüzyılda Avrupa'da şiir yaşamı oldukça hareketliydi. Bu dönemde insanlar ışığı kendi içine, yüzüne tutmak istemekte, kendine olan güvensizliğin kaçınılmaz kıldığı bir taşkınlık yaşamaktaydı.

**Bu parçada altı çizili sözle, Avrupalılarla ilgili olarak vurgulanmak istenen aşağıdakilerden hangisidir?**

- A) Birtakım değerleri anımsatmak  
B) Geleneksel şiiri reddetmek  
C) Geldikleri noktayı sorgulamak  
D) Şiiri özgünleştirmeye çalışmak  
E) Benliğini öne çıkarmak

2. Gerçek (yaşanmış) ile fantastik (düş ürünü) olanı  
I II  
aynı inandırıcılıkla kaynaştırıp bir de anlatılanların  
tümünü doğal hayatın iz düşümleri gibi yansıtan,  
tuhaf, yadırgatıcı kurmaca biçimi başlangıçta  
inanılır gibi gelmemişti. Neden sonra yirminci yüzyılın  
önemli bir parçasının gerçekliğini sıra dışı (alışılmıştan  
III  
farklı olan) bir yetkinlikle (gerekli olgunluğa ulaşma)  
IV  
yansıttığı için klasikleşen (zamana karşı değerini  
V  
yitirmeyen) *Yüzyıllık Yalnızlık*, kendinden sonra gelen  
yazarları da kendine yakışır biçimde etkiledi.

**Bu parçadaki numaralanmış sözlerden hangisinin araç içinde verilen açıklaması yanlıştır?**

- A) I. B) II. C) III. D) IV. E) V.

3. (I) Ünlü bir hikâyedir. (II) Hollywood'da Şarlo'yu en iyi taklit eden sanatçıyı bulmak için bir yarışma düzenlemişler. (III) Yarışmaya gizlice Şarlo da katılmış. (IV) Otuz kırk kişinin içinde ancak dokuzuncu olabilmiş. (V) Ona dokuzunculuğu layık görenler bu işin bütün bütün yabancıları değil, zamanında sinema dünyasının ileri gelenleri, uzmanları güya.

**Bu parçadaki numaralanmış cümlelerin hangisinde olumsuz bir eleştiri söz konusudur?**

- A) I. B) II. C) III. D) IV. E) V.

4. (I) Savur'un en eski tarihli konağı Hacı Abdullah Bey'in adını taşıyor. (II) Ağustos böceklerinin durmaksızın ıslık çaldığı kapkaranlık bir gecede, yokuşun sonundaki düzlüğe aracımızı bırakıp konağa yöneliyoruz. (III) Rehberimiz, konağın eski sahibinin torunu aynı zamanda yeni ev sahibi Abdulhalim. (IV) 1850'de inşa edilen yapının heybetli, büyük sofasına giriyoruz. (V) Duvar kenarları boyunca yerleştirilmiş divanlar, salonun tasarımındaki sanat ve simetri, değerli eşyalar, zengin armağanlar, bey konağında bulunduğumuzu yeniden anımsatıyor. (VI) Kusursuz tasarımla döşenmiş salon baş döndürücü. (VII) Dört bir yanı görülmeye değer nakışlarla bezenmiş, üzerine dantelli örtü konmuş, altın yaldızlı bardaklar dizili, gömme ahşap dolaplar, içeriği aydınlatmaya yetecek sık pencereler...

**Bu parçadaki numaralanmış cümlelerin hangisinde öznellik yoktur?**

- A) I. ve III. B) I. ve V. C) II. ve IV.  
D) II. ve VI. E) III. ve VII.

5. (I) II. Dünya Savaşı'nda bombalanan tüm Alman şehirleri gibi Bonn'da da pek çok tarihî bina yeniden yapılmış. (II) Fakat Beethoven'ın doğduğu ev bombalardan, yangınlardan korunmuş. (III) Bonn Sokağı'ndaki evi ve çevresindeki birkaç yapıyı 12 müziksever 1889'da satın alıp müzeye dönüştürmüş, yönetimini kurulan vakfa teslim etmiş. (IV) Bugün dünyada Beethoven'ın notalarının bulunduğu en büyük arşiv bu binada. (V) Evde, hayattayken ve ölümünde alınan yüz kalıpları, kilisede çaldığı ilk orgu, son piyanosu, gözlüğü, makası ve bir tutam saç sergileniyor.

**Bu parçadaki numaralanmış cümlelerle ilgili olarak aşağıda verilenlerden hangisi yanlıştır?**

- A) I. cümlede, yapılarıdaki ortak yana değinilmiştir.  
B) II. cümlede, bir yapının ötekilerden farkı dile getirilmiştir.  
C) III. cümlede, bir yapıyla ilgili mimarî özellikler sıralanmıştır.  
D) IV. cümlede, karşılaştırma yapılmıştır.  
E) V. cümlede, anlatılan evde yer alan eşyalar sıralanmıştır.

6. (I) 800'lü yıllarda yaşamış büyük Fransız Kralı Şarلمان'ın gözdesi ve 1000'li yıllarda Avrupa ticaret yollarının keşiştiği konumuyla bir incidir Province. (II) 2001 yılından beri UNESCO'nun Dünya Mirası Listesi'nde yer alan şehir, 11-13. yüzyıllar arasında Orta Çağ askerî, sivil ve dinî mimarisinin en güzel örneklerini barındırıyor içinde. (III) Günümüzde bu yapıların çevresini güzelleştiren güller, Haçlı Seferleri sırasında Doğu'dan getirilmiş. (IV) Kanuni ile mektuplaşmasıyla ünlü Kral 1. François ve Paris'teki şehircilik çalışmasıyla tanınan Kral 4. Henry, Province güllerinin kurutulmuş taç yapraklarıyla doldurulmuş yastıklar üzerinde uyurmuş. (V) Victor Hugo'dan Honoré de Balzac'a, Marcel Proust'tan Umberto Eco'ya kadar birçok büyük yazarın eserlerinde güllerin süslediği şehirden söz etmeleri boşuna değil.

**Bu parçadaki numaralanmış cümlelerle ilgili olarak aşağıda verilenlerden hangisi yanlıştır?**

- A) I. cümlede, bir benzetmeye başvurulmuştur.  
B) II. cümlede, karşılaştırma yapılmıştır.  
C) III. cümlede, dikkat çekici bir özellikten söz edilmiştir.  
D) IV. cümlede, şehrin tarihî önemi dile getirilmiştir.  
E) V. cümlede, bu şehrin edebiyatta yer alışıyla ilgili bilgi verilmiştir.

7. Göksu <sup>I</sup> Ağva'da denize dökülmeden önce tepelerin <sup>II</sup> vadilerin <sup>III</sup> ormanların arasından geçer. Mart <sup>IV</sup> nisan bu bölgelerde mor çuhanın <sup>V</sup> kardelenin zamanıdır.

**Bu parçadaki numaralanmış virgüllerden (,) hangisinin işlevi ötekilerden farklıdır?**

- A) I. B) II. C) III. D) IV. E) V.

8. Buraya yaşam veren akarsularla birbirinden ayrılmış yamaçlar, bahçelerle kaplı. Bahçelerdeki meyve çeşitliliği dikkat çekici. Kayısı, elma, armut, ayva, erik, dut, vişne ağaçları ve bağlar görüyoruz. Asırlık heybetli ceviz ağaçları göze çarpıyor. Kuşburnu, böğürtlen, alıç bitkilerinin de üzeri meyve dolu. Anlaşılan burada toprak oldukça verimli ve iklim de epeyce uygun.

**Bu parçayla ilgili olarak aşağıda verilenlerden hangisi yanlıştır?**

- A) Sayıp dökmelere yer verilmiştir.  
B) Çıkarım yapılmıştır.  
C) Eksiltili cümle vardır.  
D) Nitelendirmelerden yararlanılmıştır.  
E) Betimleme söz konusudur.

9. Resim sanatının dünyaca ünlü isimlerini Türkiye'deki sanatseverlerle buluşturan İstanbul'daki müze, bu kez çok daha önemli eserlere ev sahipliği yapıyor. Kısa süre önce açılan ve "Monet'nin Bahçesi" adını taşıyan sergide, izlenimcilik akımının kurucusu Monet'nin eserleri yer alıyor. "Belki de ressam olmayı çiçeklere borçluyum." diyen Monet, kendi elleriyle oluşturduğu ve resimlerinin ilham kaynağı olan Giverny Bahçesi'yle aile yaşamına odaklanıyor. Bu bahçede gün ışığının her anını, çiçeklerin üzerindeki yansımalarını yoklamak için tekerlekli bir arabayla 6-7 tablo birden taşımış sanatçı. Gün ışığının eğimine göre, yaptığı tabloyu da değiştirmiş. Şimdi sanatçının bahçesindeki çiçekler "Monet'nin Bahçesi" adlı sergiyle İstanbul Boğazi'nde izleyicilere gülümsüyor.

**Bu parçanın anlatımıyla ilgili olarak aşağıdakilerden hangisi söylenemez?**

- A) Alıntıya başvurulmuştur.  
B) Neden-sonuç bildiren cümle kullanılmıştır.  
C) Karşılaştırmadan yararlanılmıştır.  
D) İkileme kullanılmıştır.  
E) Kişileştirmeye başvurulmuştur.

10. Yazarlık, duygu ve düşünceleri anlatabilmek için doğru sözcükleri arama bulma işidir bir bakıma. Duyumsadıklarımın beni aşan derinliğiyle sözcüklerimin yetersizliği arasında yaşadığım gerilimi ancak ----.

**Bu parçada boş bırakılan yere aşağıdakilerden hangisi getirilebilir?**

- A) dilin olanaklarını kullanma becerimi geliştirerek aşabileceğimi biliyordum
- B) yapıtlar arasında tür ayrımı yapmadan giderebileceğimi düşünüyordum
- C) yapıtlarımda çeşitli konulara yer vererek azaltacağımın farkındaydım
- D) yazarlar arasındaki samimi ilişkileri takip ederek hafifletebileceğimi seziyordum
- E) yapıtın içeriğini bilimsel olarak denetledikten sonra yok edeceğimden emindim

11. Kafka'nın yapıtlarındaki evren, her uğrayışta değişen bir vitrin gibidir. Her uğrayana farklı bir anlam sunmaktadır. Bunları keşfederken okur; sınırları, kuralları, kalıpları aşan uçsuz bucaksız bir alanda dolaşarak özgürleşir.

**Aşağıdakilerden hangisi, bu parçada anlatılanlarla anlamca uyusmaktadır?**

- A) Kafka'nın yapıtları çağını aşan yöntem ve tekniklerle yazıldığından bunların anlaşılması zordur.
- B) Zaman geçtikçe, anlayışlar değiştikçe yapıt da değişime uğrayacak, iletisi farklılaşacak, yeni yeni anlamlar üretecektir.
- C) Birçok metin vardır ki varlığı fark edilmemiştir, henüz ışığı dünyaya ulaşmamış yıldızlar gibi.
- D) Bir yazarı özel kılan, yaşamındaki arayışları, ruhsal çıkmazları yapıtına başarıyla yansıtabilmesidir.
- E) Güçlü eleştirmen, bir dedektif titizliği ile yapıttaki her izin peşine düşer, her objeye ışık tutar, aydınlanır ve aydınlatır.

12. Oğuz Atay'ın *Eylembilim*'i, Ahmet Hamdi Tanpınar'ın *Aydaki Kadın*'i gibi kimi yapıtlar yazarlarının ömürleri yetmediği için yarım kalmıştır. Bu yazarların ne düşlediğini merak edenler için bu yarım kalmış metinler ayrı bir anlam taşır. Yazarın ölümü, insanın ölümlü olduğu gerçeğini farklı bir düzlemde hatırlatır. Her ölüm, geride tamamlanmamış bir hayat bırakır. Ödenmemiş faturalar, bitirilmemiş işler, gidilmemiş randevular, gerçekleştirilmemiş hayaller... Ancak yazarın ölümü farklıdır. Geride, yarım kalmış yapıtlar, henüz yazılmamış kitaplar vardır. Bu yazarımız da geride iki adet tamamlanmamış kitap bıraktı. Tabii bunlara defterlerini, notlarını, çevirilerini, denemelerini de eklemek gerek. Yazarın geride bıraktıklarının listesi ne kadar kabarık olursa olsun mutlaka yazamadıklarından oluşan bir liste de vardır. Hele ölen yazar genç bir yaştaysa...

**Bu sözler aşağıdaki sorulardan hangisine karşılık olarak söylenmiş olabilir?**

- A) Erken yaşta kaybettiğimiz yazarımızın son yapıtı hakkındaki görüşleriniz nelerdir?
- B) Yazarlarımızın yaşamlarının erken yaşta son bulmasının edebiyat üzerindeki etkisinden söz eder misiniz?
- C) Eksik bırakılmış yapıtlar ve yaşamlar size ne düşündürüyor?
- D) Genç yazarların ölmesi neden daha çok yankı uyandırır?
- E) Yazarımızın eksik kalan bu yapıtını, edebiyatımızdaki diğer yarım kalan yapıtlarla edebî yönden karşılaştırır mısınız?

13. 3-3,5 yaşları, çocuğun anaokuluna başlaması için en uygun dönemdir. Yaygın olarak bilinenin aksine kardeşleri olan ve annesi çalışmayan çocuklar da anaokuluna muhakkak gönderilmelidir. Bunun, çocuk üzerinde pek çok olumlu etkisi vardır. Okul öncesi eğitimi öncelikle çocuğa paylaşmayı öğretir. Paylaşım, sosyal ve özel hayatın olmazsa olmazlarındandır. Ayrıca bu eğitim çocuğun öz güvenini geliştirir. Öz güveni artan ve paylaşma duygusuyla tanışan çocuk, arkadaşları arasında daha çok sevilir; bu da onu mutlu eder. Bu eğitimi alan çocuklar, anne bağımlılığından kurtulurlar, bağımlı kişilik riskinden uzak olurlar. Ayrıca zihinsel gelişmeleri daha hızlı, sosyalleşmeleri daha sağlıklı olur.

**Bu parçada okul öncesi eğitimin çocuklara sağladığı yararlar arasında aşağıdakilerden hangisine ver verilmemiştir?**

- A) Düşünme ve algılama gücünü kısa sürede artırdığına
- B) Okulda üstün başarı göstermeyi sağladığına
- C) Kendi kararlarını verebilen bir birey olmasına yardım ettiğine
- D) Başkalarıyla sağlıklı ilişkiler kurmasını kolaylaştırdığına
- E) Kendisinden başka insanların da varlığını benimseyip kabul etmesini sağladığına

14. Kişi başına düşen zeytinyağı tüketimi bakımından Türkiye, zeytinyağı üreten ülkeler arasında en sonda yer alıyor. Akdeniz havzasındaki ülkelerden İtalya ve İspanya'da 12, Yunanistan'da 20 kg olan yıllık kişi başı zeytinyağı tüketimi, Türkiye'de yalnızca 1 kg olduğundan üreticiler iç pazarda sıkıntı yaşıyor. Üretim potansiyeli ve ürünün kalitesiyle önemli bir zeytinyağı ülkesi olan Türkiye'de, üreticilerin bir araya gelerek güç birliği oluşturması ve fındıkta olduğu gibi tanıtım ve bilinçlendirme projesi geliştirilmesi gerektiği üzerinde duruluyor.

**Zeytinyağından söz edilen bu parçayla ilgili olarak aşağıda verilenlerden hangisi yanlıştır?**

- A) Satışların artırılmasına yönelik bir görüş dile getirilmektedir.
- B) Sorun karşılaştırmalı olarak açıklanmaktadır.
- C) Ülkemizdeki ortalama tüketim miktarı belirtilmektedir.
- D) En çok hangi ülkelerde tüketildiği belirtilmektedir.
- E) Pazarlamadaki sıkıntıyla ilgili açıklama yapılmıştır.

15. Giderek çetrefilleşen, ayrıntıya daha fazla gömülen, buna paralel bir şekilde temposu artan, telaşlı hayatları yaşar olduk. Hayatımız gittikçe daha çok anahtarlar, prizler, fişler, kablolar ve illa da düğmeler ve tuşlarla kuşatılıyor. Sabah uyanışımızdan akşam yatışımıza kadar, hiç hesap ettik mi kaç tane tuşa dokunarak yaşamak zorunda olduğumuzu? Ve hiç düşündük mü her tuşa dokunabilme becerisini edinebilmek için onlarla ilgili bir sürü ayrıntıyı zihnimizde tutabilmek için ne kadar vakit harcadığımızı? Zihnimizin, düğmeler ve tuşların fonksiyonlarını birbirinden ayırt edebilmek ve günlük hayatımızı yaşamak için onları kullanabilme becerisini pratiğe dökme çabasıyla kaç bin parçaya bölündüğünü?

**Bu parçada aşağıdakilerden hangisine değinilmemiştir?**

- A) Gelişmelerin, birtakım güçlükleri de beraberinde getirdiğine  
 B) Yaşama ayak uydurabilmek için zamana ihtiyaç duyulduğuna  
 C) Kişilerin, istedikleri hayatları değil de kendilerine sunulan hayatı yaşadığına  
 D) Otomatikleşen hayatın her geçen gün daha da sıkıntılı bir hâl aldığına  
 E) Günümüzde yaşam koşullarının insanları sıradanlığa ittiğine

16.

$$\frac{\left(1 - \frac{1}{3}\right)^{-2}}{\left(1 - \frac{1}{2}\right)\left(1 + \frac{1}{2}\right)}$$

**işleminin sonucu kaçtır?**

- A)  $-\frac{1}{4}$  B)  $-1$  C)  $\frac{3}{2}$  D) 3 E) 6

$$17. \frac{9! + 9! + 9!}{9! + 8! + 7!}$$

**işleminin sonucu kaçtır?**

- A)  $\frac{8}{3}$  B)  $\frac{3}{5}$  C)  $\frac{7}{5}$  D)  $\frac{9}{7}$  E)  $\frac{9}{8}$

18. Gerçek sayılar kümesi üzerinde  $\oplus$  ve  $*$  işlemleri, her  $x$  ve  $y$  gerçel sayısı için

$$x \oplus y = 2x - 3y + x \cdot y$$

$$x * y = \frac{x}{4} \oplus \frac{y}{2}$$

biçiminde tanımlanıyor.

**Buna göre,  $4 * \left(\frac{1}{3} \oplus \frac{1}{2}\right)$  işleminin sonucu kaçtır?**

- A)  $-\frac{2}{3}$  B)  $\frac{3}{2}$  C)  $\frac{5}{3}$  D)  $\frac{8}{3}$  E)  $\frac{7}{2}$



19. N doğal sayılar kümesi olmak üzere,

$$A = \{3n - 2 : 1 \leq n \leq 8, n \in \mathbb{N}\}$$

kümesinin elemanları toplamı kaçtır?

- A) 80    B) 84    C) 92    D) 96    E) 102

20. x ve y birer tam sayı olmak üzere,

$$-2 < x < 10$$

$$-5 < y < 6$$

olduğuna göre,  $\frac{3x}{2} - \frac{2y}{3}$  ifadesinin alabileceği

en büyük tam sayı değeri kaçtır?

- A) 10    B) 11    C) 14    D) 15    E) 16

21. a, b ve c birer pozitif tam sayı olmak üzere,

$$\frac{a}{b} = \frac{1}{2}$$

$$\frac{b}{c} = \frac{3}{4}$$

oranları veriliyor.

$c^2 - b^2 - a^2 = 76$  olduğuna göre, b kaçtır?

- A) 8    B) 12    C) 16    D) 18    E) 24

22.  $x + \sqrt{x} - 3 = 0$

olduğuna göre,  $x^2 - 7x + 8$  ifadesinin değeri kaçtır?

- A) 0    B) 1    C) 2    D) -2    E) -1

23. Bir kutuda kırmızı, mavi ve siyah olmak üzere üç renkte kalem vardır. Kırmızı kalem sayısı; mavi kalem sayısından 3 fazla, siyah kalem sayısından ise 2 eksiktir.

**Buna göre, kutuda en az kaç kalem vardır?**

- A) 7 B) 8 C) 9 D) 10 E) 11

24. Bir işe eleman alımı için iki günlük başvuru süresi veriliyor. Birinci gün 60 kişinin başvuru yaptığı ve bunların % 30'unun kadın olduğu, ikinci gün ise 30 kişinin başvuru yaptığı ve bunların hepsinin erkek olduğu görülüyor.

**Buna göre, bu iş için başvuru yapanların yüzde kaç kadındır?**

- A) 10 B) 20 C) 30 D) 40 E) 80

25. Ayşe ve Bora bir işi birlikte çalışarak 4 günde bitirebilmektedir. Birlikte işe başlayıp 1 gün çalıştıktan sonra Ayşe işi bırakıyor; Bora 9 gün daha çalışarak işi bitiriyor.

**Buna göre, Ayşe işin tamamını kaç günde bitirir?**

- A) 6 B) 8 C) 9 D) 10 E) 12

26. Bir otoyoldaki iki gişeden bir günde geçen binek ve ticari araç sayısıyla ilgili şunlar bilinmektedir:

- 1. gişeden geçen binek araç sayısı, 1. gişeden geçen ticari araç sayısının 3 katıdır.
- 2. gişeden geçen binek araç sayısı, 2. gişeden geçen ticari araç sayısının 4 katıdır.
- 1. gişeden geçen ticari araç sayısı, 2. gişeden geçen ticari araç sayısının 2 katıdır.

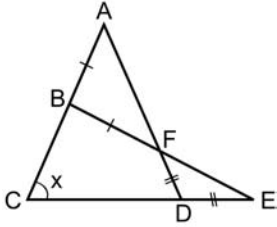
**Bu iki gişeden geçen binek ve ticari araç sayısı toplam 520 olduğuna göre, 2. gişeden geçen araç sayısı kaçtır?**

- A) 180 B) 200 C) 240 D) 260 E) 280

27. İki zar aynı anda atıldığında üst yüze gelen sayılar toplamının 10 olma olasılığı kaçtır?

- A)  $\frac{1}{36}$  B)  $\frac{1}{30}$  C)  $\frac{1}{18}$  D)  $\frac{1}{15}$  E)  $\frac{1}{12}$

28.



ACD ve BCE birer üçgen

$$|AB| = |BF|$$

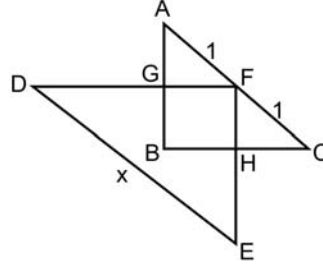
$$|FD| = |DE|$$

$$m(\widehat{ACE}) = x$$

Yukarıdaki şekilde  $|AC| = |AD|$  olduğuna göre,  $x$  kaç derecedir?

- A) 60 B) 64 C) 72 D) 75 E) 80

29.



ABC ve DEF birer üçgen

BHFG bir dikdörtgen

$$|AF| = |FC| = 1 \text{ cm}$$

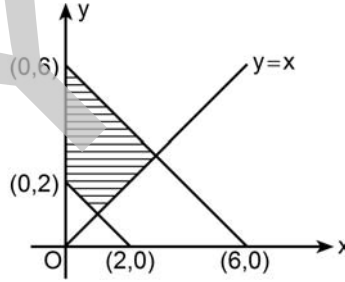
$$|DE| = x$$

Yukarıdaki şekilde  $2|FH| = |HE|$  ve  $2|FG| = |DG|$ 'dir.

Buna göre,  $x$  kaç cm'dir?

- A) 3 B) 4 C)  $\frac{7}{2}$  D)  $\frac{9}{2}$  E)  $\frac{9}{4}$

30.



Dik koordinat düzleminde verilen taralı bölgenin alanı kaç birim karedir?

- A) 6 B) 8 C) 9 D) 10 E) 12

31. Balkan Savaşlarının, Osmanlı Devleti'nde aşağıdakilerden hangisine neden olduğu savunulamaz?

- A) Ülke içinde göç hareketlerinin yoğunlaşmasına
- B) Türk milliyetçiliğinin güçlenmesine
- C) İttihat ve Terakki Partisinin ülkenin yönetimini tümüyle ele geçirmesine
- D) İslamcılık düşüncesinin uygulanmaya başlamasına
- E) Merkezî yönetimin saygınlığını kaybetmesine

32. Aşağıdakilerden hangisi, İngiltere'nin desteğini alan cemiyetlerden biri değildir?

- A) Kilikyalılar
- B) İslam Teali
- C) İngiliz Muhipleri
- D) Kürt Teali
- E) Pontus

33. Amasya Genelgesi (22 Haziran 1919) ile "Sivas'taki kongreye katılmak için bütün sancaklardan halkın güvenini kazanmış üç temsilci en kısa zamanda yola çıkmalıdır." kararı alınmıştır.

Bu kararın aşağıdakilerin hangisini amaçladığı savunulabilir?

- A) İşgalcilerin baskısını azaltmak
- B) Bir meclis oluşturmak
- C) Millet iradesini hâkim kılmak
- D) İstanbul Hükûmetinin güvenini kazanmak
- E) Temsilciler Kuruluna üye seçmek

34. Atatürk, "Millî irade yalnız bir şahsın düşüncesinden değil, bütün millet fertlerinin birleşmesinden ibarettir." demiştir.

Atatürk'ün bu sözüyle vurguladığı "millî irade etrafında birleşme" fikrinin aksine olduğu söylenebilecek gelişme aşağıdakilerden hangisidir?

- A) Sivas Kongresi'nin toplanması
- B) Saltanat Şûrasının toplanması
- C) Büyük Millet Meclisinin açılması
- D) Son Osmanlı Mebusan Meclisinin toplanması
- E) TBMM'nin, ülkenin her yerinden seçilen temsilcilerden oluşması

35. Son Osmanlı Mebuslar Meclisi seçimlerinde Mustafa Kemal, aşağıdaki illerin hangisinden milletvekili seçilmiştir?

- A) Erzurum
- B) Sivas
- C) Ankara
- D) Amasya
- E) Eskişehir

36. Birinci İnönü Savaşı sonrasında düzenlenen Londra Konferansı'na katılan TBMM temsilcilerinin,

- I. Türk ulusunun yasal temsilcisinin TBMM olduğunu göstermek,
- II. Misakımillî'yi dünya kamuoyuna duyurmak
- III. İstanbul Hükûmeti ile birlikte mücadele edildiğini belirtmek

amaçlarından özellikle hangilerini hedefledikleri savunulabilir?

- A) Yalnız I
- B) I ve II
- C) I ve III
- D) II ve III
- E) I, II ve III

37. Millî Mücadele yıllarını anlatan aşağıdaki yazar ve eser eşleştirmelerinden hangisi doğru değildir?

- A) Falih Rıfkı Atay – Ateşten Gömlek
- B) Kâzım Karabekir – İstiklal Harbimiz
- C) Yakup Kadri Karaosmanoğlu – Yaban
- D) Halide Edip Adivar – Türk'ün Ateşle İmtihanı
- E) Ali Fuat Cebesoy – Millî Mücadele Hatıraları

38. Lozan Barış Görüşmelerinde, Boğazlar üzerinde mutlak Türk egemenliği tezini savunan devlet aşağıdakilerden hangisidir?

- A) İtalya
- B) Fransa
- C) Sovyetler Birliği
- D) İngiltere
- E) Almanya

39. Türkiye Cumhuriyeti'nde eğitim alanında açılan,

- I. Halkevleri,
- II. Musiki Muallim Mektebi,
- III. Köy Enstitüleri

kurumlarından hangileri Atatürk Dönemi'nde faaliyete geçmiştir?

- A) Yalnız I
- B) I ve II
- C) I ve III
- D) II ve III
- E) I, II ve III

40. Gazi Mustafa Kemal, kaleme aldığı *Nutuk*'u aşağıdakilerden hangisinde okumuştur?

- A) Cumhuriyet'in onuncu yılında
- B) Birinci Türk Tarih Kongresi'nin açılışında
- C) Üçüncü Dönem TBMM'nin açılış toplantısında
- D) Cumhuriyet Halk Partisinin ikinci kurultayında
- E) Samsun'a çıkışının onuncu yıl dönümünde

41. 1982 Anayasası'nın 10. maddesinde yer alan "Herkes din, mezhep ve benzeri sebeplerle ayırım gözetilmeksizin kanun önünde eşittir." ifadesinin aşağıdaki ilkelere hangisiyle bir ilişkisi yoktur?

- A) Laiklik
- B) Haikçılık
- C) Cumhuriyetçilik
- D) Milliyetçilik
- E) Devletçilik

42. Aşağıdakilerden hangisi, Mecelle'nin ihtiyaçları karşılayamaması nedeniyle hazırlanmıştır?

- A) Soyadı Kanunu
- B) Türk Medeni Kanunu
- C) Türk Ceza Kanunu
- D) Tevhid-i Tedrisat Kanunu
- E) 1921 Anayasası

43. Aşağıdakilerden hangisi, 1926 yılında çıkarılan Maarif Teşkilatına Dair Kanun'da belirlenen orta öğretim kurumlarından biri değildir?

- A) Liseler
- B) Orta Mektepler
- C) İlk Muallim Mektepleri
- D) Köy Muallim Mektepleri
- E) Millet Mektepleri

44. Aşağıdakilerden hangisi, Atatürk Dönemi'nde kurulan partilerden biri değildir?

- A) Ahali Cumhuriyet Partisi
- B) Türkiye Komünist Partisi
- C) Liberal Demokrat Parti
- D) Serbest Cumhuriyet Partisi
- E) Türkiye Cumhuriyeti Amele ve Çiftçi Partisi

45. Aşağıdakilerden hangisi, Atatürk Dönemi'ndeki nüfus politikası uygulamalarından biri değildir?

- A) Altı veya daha fazla çocuğu olan ailelere vergi muafiyeti getirilmesi
- B) Anne ve bebek ölüm oranlarını düşürmek amacıyla nüfus komisyonu kurulması
- C) Çok çocuklu ailelere hazineinden toprak bağışlanması
- D) Ülkenin birçok yerinde doğumevleri kurulması
- E) Doğum kontrolüne yarayan ilaç ve araçların ücretsiz dağıtılması

46. Aşağıdakilerden hangisi, Başbakanın görevinin sona erme hâllerinden biri değildir?

- A) İstifa
- B) Milletvekilliği sıfatının sona ermesi
- C) Yüce Divana sevk edilmesi
- D) Cumhurbaşkanınca görevden alınması
- E) Cumhurbaşkanlığına seçilmesi

47. 1982 Anayasası'na göre, milletvekilliğinin düşmesi ile ilgili aşağıdaki ifadelerden hangisi yanlıştır?

- A) Milletvekilinin istifa etmesi durumunda, istifanın geçerli olduğunun TBMM Başkanlık Divanınca tespit edilmesi ve Genel Kurulun kararı ile milletvekilliği düşer.
- B) Milletvekilliğinin hüküm giyme hâlinde düşmesi, bu husustaki kesinleşmiş mahkeme kararının Genel Kurula bildirilmesiyle olur.
- C) Meclis çalışmalarına özürsüz veya izinsiz olarak iki ay içerisinde toplam beş birleşim günü katılmayan milletvekilinin milletvekilliği, durumun Başkanlık Divanınca tespit edilmesi ile düşer.
- D) Milletvekilliğiyle bağdaşmayan bir görev veya hizmeti sürdürmekte ısrar eden milletvekilinin milletvekilliğinin düşmesine Genel Kurul gizli oyla karar verir.
- E) Meclis tarafından milletvekilliğinin düşmesine karar verilen durumlarda, karara karşı Anayasa Mahkemesine başvurulabilir.

48. 1982 Anayasası'na göre aşağıdakilerden hangisi, Anayasa Mahkemesinin görevlerinden biri değildir?

- A) Kanunların Anayasa'ya esas ve şekil bakımından uygunluğunu denetlemek
- B) Bireysel başvuruları karara bağlamak
- C) Siyasi partilerin kapatılması davalarına bakmak
- D) Siyasi partilerin idari denetimini yapmak
- E) Yasama dokunulmazlığının kaldırılması kararlarının iptali için yapılan başvuruları karara bağlamak

49. Aşağıdakilerden hangisi, olağanüstü hâl ve sıkıyönetim ilanının hukuki sonuçlarından biri değildir?

- A) Vatandaşlar için para, mal ve çalışma yükümlülükleri getirilebilir.
- B) Temel hakların kullanılması kısmen veya tamamen durdurulabilir.
- C) Olağanüstü hâl kanun hükmünde kararname çıkarılabilir.
- D) Olağanüstü hâl rejiminde yöneticilerin yetkileri genişler.
- E) Bütün davalara askerî mahkemelerde bakılır.

50. 1982 Anayasası'na göre, Anayasa değişikliklerinin yargısal denetimi ile ilgili aşağıdaki ifadelerden hangisi doğrudur?

- A) Anayasa değişiklikleri esas bakımından Anayasa Mahkemesinin denetimine tabidir.
- B) Anayasa değişikliklerinde yargısal denetim, teklif ve oylama çoğunluğuna ve ivedilikle görüşülemeyeceği şartına uyulup uyulmadığı hususları ile sınırlıdır.
- C) Anayasa değişikliğine ilişkin itiraz başvuruları, Anayasa Mahkemesinin ilgili bölümünde karara bağlanır.
- D) Anayasa değişikliklerinin şekil bakımından iptaline karar verilebilmesi için yedi üyeye toplanan bölümde salt çoğunlukla karar verilmesi gerekir.
- E) Anayasa değişikliklerinin şekil bakımından Anayasa'ya aykırılığı iddiası ile iptal davası açmaya Ana Muhalefet Partisi de yetkilidir.

51. 1982 Anayasası'na göre aşağıdakilerden hangisi, siyasi partilerin uyacakları esaslardan biri değildir?

- A) Siyasi partiler ticari faaliyetlere girişemezler.
- B) Temelli kapatılan bir parti, bir başka ad altında kurulamaz.
- C) Siyasi partiler, yükseköğrenim öğrencilerini üye olarak kabul edemezler.
- D) Siyasi partilerin faaliyetleri, parti içi düzenlemeleri ve çalışmalarını demokrasi ilkelerine uygun olmalıdır.
- E) Siyasi partiler, yabancı devletlerden, uluslararası kuruluşlardan ve Türk uyruklığında olmayan gerçek kişilerden maddi yardım alamazlar.

52. 1982 Anayasası'na göre, bir kanun hükmünde kararnamede yürürlük tarihinin belirtilmemiş olması durumunda bu kararname ne zaman yürürlüğe girer?

- A) Resmî Gazete'de yayımlandığı gün
- B) Resmî Gazete'de yayımlandıktan 7 gün sonra
- C) Resmî Gazete'de yayımlandıktan 15 gün sonra
- D) Resmî Gazete'de yayımlandıktan 30 gün sonra
- E) Resmî Gazete'de yayımlandıktan 45 gün sonra

53. 1982 Anayasası'na göre, Türkiye Büyük Millet Meclisi ile ilgili aşağıdaki ifadelerden hangisi yanlıştır?

- A) Çalışmalarını, kendi yaptığı iç tüzük hükümlerine göre yürütür.
- B) Genel Kuruldaki bütün görüşmeler gizlidir.
- C) Meclis Başkanı, TBMM üyeleri arasından seçilir.
- D) Siyasi parti grupları en az 20 üyeden meydana gelir.
- E) Her yıl Ekim ayının ilk günü kendiliğinden toplanır.

54. I. Milletvekili seçilme yeterliliğini kaybetmesi  
II. Yasama dokunulmazlığının kaldırılması  
III. Başbakanın Yüce Divana sevk edilmesi  
IV. Milletvekilliğinden istifa etmesi

**1982 Anayasasına göre yukarıdaki durumların hangilerinde, bir bakanın bakanlık görevi sona erer?**

- A) I ve III                      B) I ve IV                      C) II ve III  
D) II ve IV                      E) III ve IV

55. **1982 Anayasası'na göre, Hâkimler ve Savcılar Yüksek Kurulu ile ilgili aşağıdaki ifadelerden hangisi yanlıştır?**

- A) Kurul, 22 asıl ve 12 yedek üyeden oluşur.  
B) Kurul, üç daire hâlinde çalışır.  
C) Kurul başkanı, dairelerin çalışmalarına katılamaz.  
D) Kurulun süresi biten üyeleri yeniden seçilebilir.  
E) Kurul üyelerinin görev süresi beş yıldır.

56. **1982 Anayasası'na göre aşağıdakilerden hangisinin, Anayasa Mahkemesi üyeliği için aday gösterme yetkisi yoktur?**

- A) Baro Başkanları  
B) Sayıştay Genel Kurulu  
C) Askerî Yüksek İdare Mahkemesi  
D) Yükseköğretim Kurulu  
E) Türkiye Büyük Millet Meclisi

57. **1982 Anayasası'na göre, seçimler ile ilgili aşağıdaki ifadelerden hangisi yanlıştır?**

- A) Seçimler, yargı organlarının genel yönetim ve denetimi altında yapılır.  
B) Seçimler, tek dereceli olarak yapılır.  
C) Seçim kanunlarında yapılan değişiklikler, yürürlüğe girdiği tarihten itibaren bir yıl içinde yapılacak seçimlerde uygulanmaz.  
D) Seçim sistemi, nispi temsil esasına dayalı olarak kanunla düzenlenir.  
E) Taksirli bir suç nedeniyle ceza infaz kurumlarında bulunanların oy kullanması mümkündür.

58. **1982 Anayasası'na göre aşağıdakilerden hangisi, yalnızca Türk vatandaşlarına tanınmış hak ve hürriyetlerden biridir?**

- A) Bilgi edinme hakkı  
B) Kamu denetçisine başvurma hakkı  
C) Siyasi faaliyette bulunma hakkı  
D) Sosyal güvenlik hakkı  
E) Toplantı ve gösteri yürüyüşü düzenleme hakkı

59. **1982 Anayasası'na göre, Bütçe Kanunu tasarısının Bütçe Komisyonunda kaç gün içerisinde kabul edilmesi gerekir?**

- A) 55                      B) 60                      C) 70                      D) 75                      E) 90



60. 1982 Anayasası'na göre, TBMM'nin toplantı ve kararları ile ilgili olarak aşağıdaki ifadelerden hangisi yanlıştır?

- A) TBMM, yapacağı seçimlerde üye tam sayısının en az üçte biri ile toplanır.
- B) Karar yeter sayısı, üye tam sayısının dörtte birinden az olmaz.
- C) Bakanlar, katılmadıkları TBMM oturumlarında kendileri yerine oy kullanmak üzere bir bakana yetki verebilirler.
- D) TBMM Başkan Vekili, yönetmiş olduğu oturumda oy kullanamaz.
- E) Bütçe Kanunu tasarısının görüşülmesi ve kabul edilmesi için özel toplantı ve karar yeter sayısına ihtiyaç yoktur.

1. Bu testte 30 soru vardır.

2. Cevaplarınızı, cevap kâğıdının Alan Bilgisi Testi için ayrılan kısmına işaretleyiniz.

1. Dönem sonu bilançosunun düzenlenmesine temel olan muhasebe belgesi aşağıdakilerden hangisidir?

- A) Günlük defter
- B) Genel geçici mizan
- C) Kasa tahsil fişi
- D) Kesin mizan
- E) Defterikebir

2. Alacak hesaplarıyla ilgili aşağıdaki ifadelerden hangisi yanlıştır?

- A) Şüpheli alacak hâline gelen bir ticari alacağın tutarı kadar değil, risk tutarı kadar karşılık ayrılır.
- B) Alacak senetlerine yıl sonu itibarıyla reeskont hesaplanırken senedin alındığı tarih ile bilanço tarihi arasında geçen süre esas alınır.
- C) Bir alıcıdan borcuna karşılık aynı tutarda senet alınması Ticari Alacaklar toplamını etkilemez.
- D) Alıcıların, borçlarına karşılık işletme lehine düzenledikleri veya lehtar olup işletmeye ciro ettikleri bonolar Alacak Senetleri hesabına kaydedilir.
- E) Bir alacak senedinin tahsil edilmesi Varlıklar toplamını değiştirmez.

3.

_____ / _____	XX
GELİR TAHAKKUKLARI	
FAİZ GELİRLERİ	XX
_____ / _____	

Yukarıda verilen günlük defter kaydı, aşağıdaki işlemlerden hangisiyle ilgili olarak yapılır?

- A) Faiz gelirinin tahsil edilmesi
- B) Banka kredisine faiz tahakkuk ettirilmesi
- C) Tahsili izleyen dönemlerde yapılacak olan faiz gelirinin tahakkuku
- D) Hisse senedine faiz tahakkuk ettirilmesi
- E) Faiz gelirlerinin Gelir Tahakkukları hesabına aktarılması

4. Aşağıdaki işlemlerden hangisine ilişkin muhasebe kaydında bir gider hesabı kullanılmaz?

- A) Karşılık ayırma
- B) Yedek ayırma
- C) Amortisman ayırma
- D) Borç senedi reeskont iptali
- E) Alacak senedi reeskont ayırma

5. Peşin ödenmiş giderlerin aktifleştirilmesinde rol oynayan muhasebe temel kavramı aşağıdakilerden hangisidir?

- A) Dönemsellik
- B) İhtiyatlılık
- C) Tutarlılık
- D) Maliyet esası
- E) Parayla ölçülme

6. I. Anlaşılabilir olma  
II. Onaylanmış olma  
III. Zamanlı olma  
IV. Karşılaştırılabilir olma  
V. Denetlenmiş olma

Yukarıdakilerden hangileri, Muhasebe Sistemi Uygulama Genel Tebliği'ne göre finansal tabloların taşınması gereken özellikler arasında yer almaz?

- A) I ve III
- B) I ve IV
- C) II ve V
- D) III ve IV
- E) III ve V

7. İşletme, elinde bulunan tahvillere ilişkin vadesi dolan kuponları tahsil edilmek üzere bankaya göndermiştir.

Bu işlemle ilgili olarak aşağıdakilerden hangisinin kullanımı doğrudur?

- A) Bankalar hesabı borçlu – Faiz Gelirleri hesabı alacaklı
- B) Bankalar hesabı borçlu – Diğer Hazır Değerler hesabı alacaklı
- C) Diğer Hazır Değerler hesabı borçlu – İştiraklerden Temettü Gelirleri hesabı alacaklı
- D) Kamu Kesimi Tahvil, Senet ve Bonoları hesabı borçlu – Diğer Hazır Değerler hesabı alacaklı
- E) Diğer Hazır Değerler hesabı borçlu – Faiz Gelirleri hesabı alacaklı

8. İşletme, % 18 KDV hariç 50.000 TL tutarında ticari mal satın almış ve bedeli karşılığında daha önce bir alıcısından almış olduğu 35.000 TL'lik çeki ciro etmiştir. Kalanı için de bir çek düzenleyip vermiştir.

Bu işlemle ilgili olarak aşağıdaki kayıtlardan hangisi yapılmalıdır?

A) _____ / _____		
TİCARİ MALLAR	50.000	
İNDİRİLECEK KDV	9.000	
BANKALAR		59.000
_____ / _____		

B) _____ / _____		
TİCARİ MALLAR	50.000	
İNDİRİLECEK KDV	9.000	
ALINAN ÇEKLER		35.000
VERİLEN ÇEKLER		
VE ÖDEME EMİRLERİ		24.000
_____ / _____		

C) _____ / _____		
TİCARİ MALLAR	50.000	
İNDİRİLECEK KDV	9.000	
ALINAN ÇEKLER		59.000
_____ / _____		

D) _____ / _____		
TİCARİ MALLAR	50.000	
İNDİRİLECEK KDV	9.000	
VERİLEN ÇEKLER		
VE ÖDEME EMİRLERİ		59.000
_____ / _____		

E) _____ / _____		
TİCARİ MALLAR	50.000	
İNDİRİLECEK KDV	9.000	
ALICILAR		35.000
SATICILAR		24.000
_____ / _____		

9. İşletmenin elinde, alış değeri 120.800 TL olan 80.000 adet hisse senedi bulunmaktadır.

**Bilanço günü itibarıyla hisse senedi birim fiyatı 1,22 TL olduğuna göre hangi hesaba, ne şekilde kayıt yapılmalıdır?**

- A) Menkul Kıymetler Değer Düşüklüğü Karşılığı hesabı alacaklı 23.200 TL  
 B) Menkul Kıymetler Satış Zararları hesabı alacaklı 23.200 TL  
 C) Menkul Kıymetler Satış Zararları hesabı borçlu 23.200 TL  
 D) Hisse Senetleri hesabı alacaklı 23.200 TL  
 E) Karşılık Giderleri hesabı borçlu 1.200 TL

10. Aralıklı envanter yöntemini uygulayan bir işletmede mal alım satım işlemlerine ilişkin tutarlar aşağıdaki gibidir:

Dönem başı mal mevcudu	32.000 TL
Alıştan İadeler	3.000 TL
Satış İskontoları	1.000 TL
Dönem sonu mal mevcudu	23.000 TL
Yurtiçi Satışlar	38.000 TL
Alış İskontoları	1.000 TL
Alışlar	24.000 TL
Satıştan İadeler	2.000 TL

**Buna göre, işletmenin sattığı malların maliyeti kaç TL'dir?**

- A) 29.000      B) 30.000      C) 32.000  
 D) 33.000      E) 38.000

11. İşletme, 6.400 € tutarındaki alacağını Alıcılar hesabında 12.992 TL olarak izlemektedir.

**Dönem sonu kuru 1 € = 2,30 TL olduğuna göre, dönem sonunda yapılacak kayıtla ilgili olarak aşağıdaki ifadelerden hangisi doğrudur?**

- A) Alıcılar hesabı 14.720 TL borçlandırılmalıdır.  
 B) Alıcılar hesabı 12.992 TL borçlandırılmalıdır.  
 C) Gelir Tahakkukları hesabı 1.728 TL borçlandırılmalıdır.  
 D) Kambiyo Zararları hesabı 1.728 TL borçlandırılmalıdır.  
 E) Kambiyo Kârları hesabı 1.728 TL alacaklandırılmalıdır.

12. **Tekdüzen Hesap Planına göre, aşağıdaki hesap grubu - hesap adı eşleştirmelerinden hangisi yanlıştır?**

<u>Hesap grubu</u>	<u>Hesap adı</u>
A) Diğer Alacaklar	Personelden Alacaklar
B) Ticari Alacaklar	Verilen Depozito ve Teminatlar
C) Diğer Kısa Vadeli Yabancı Kaynaklar	Hesaplanan KDV
D) Özel Tükenmeye Tabi Varlıklar	Özel Maliyetler
E) Ödenecek Vergi ve Diğer Yükümlülükler	Ödenecek Vergi ve Fonlar

13. İşletmenin 2010 yılı başında 620.000 TL olan öz sermayesi yılın sonunda 680.000 TL olarak belirlenmiştir. İşletme sahibi 2010 yılı içinde 42.000 TL değerinde bir taşıtı sermayeye eklenmesi amacıyla işletmeye vermiş ve işletmeden 11.000 TL çekmiştir.

**Karşılaştırma yöntemine göre, işletmenin 2010 yılı kâr veya zararı kaç TL'dir?**

- A) 31.000 TL zarar
- B) 7.000 TL zarar
- C) 60.000 TL kâr
- D) 53.000 TL kâr
- E) 29.000 TL kâr

14. Bir ücret bordrosunun kaydında aşağıdaki hesaplardan hangisi kullanılmaz?

- A) Ödenecek Vergi ve Fonlar
- B) Personele Borçlar
- C) Personelden Alacaklar
- D) Genel Yönetim Giderleri
- E) Genel Üretim Giderleri

15. İşletmenin, aldığı senet karşılığı kredi hesabıyla ilgili olarak teminata verdiği 15.000 TL'lik bir senet, vadesinde banka tarafından tahsil edilerek kredi hesabına kaydedilmiştir.

**Bu işlemle ilgili olarak**

- I. Banka Kredileri hesabı borçlu,
- II. Banka Kredileri hesabı alacaklı,
- III. Alacak Senetleri hesabı borçlu,
- IV. Alacak Senetleri hesabı alacaklı,
- V. Bankalar hesabı borçlu

**kayıtlarından hangilerinin kullanımı doğrudur?**

- A) I ve IV
- B) I ve V
- C) II ve IV
- D) II ve V
- E) III ve IV

16. Cumhuriyet Tarihi boyunca dış ticaret fazlasının kaydedildiği son yıl aşağıdakilerden hangisidir?

- A) 1923
- B) 1930
- C) 1946
- D) 1978
- E) 1989

17. Aşağıdaki ifadelerden hangisi, 1930-1939 dönemi için yanlıştır?

- A) Dış ticaretin bir kısmı kliring anlaşmaları ile yürütülmüştür.
- B) Bütçe her yıl açık vermiştir.
- C) Dış ticaret, 1938 yılı hariç her yıl fazla vermiştir.
- D) İthal edilen malları ikame etmeye yönelik sanayileşme politikası uygulanmıştır.
- E) Sanayi işletmeleri işçi bulmakta sürekli güçlük çekmiştir.

18. Birinci Beş Yıllık Kalkınma Planı ile ilgili aşağıdaki ifadelerden hangisi **yanlıştır**?

- A) Yıllık yüzde onluk bir büyüme hedeflenmiştir.
- B) Nitelikli iş gücü yetiştirilmesine önem verilmiştir.
- C) İstihdam sorununun çözülmesi hedeflenmiştir.
- D) Dış ödeme dengesine ulaşılması hedeflenmiştir.
- E) 1963-1967 dönemini kapsamaktadır.

19. 1961-1976 İthal İkameci Planlı Kalkınma Dönemi'nde aşağıdakilerden hangisi **gerçekleşmemiştir**?

- A) İşçilerin eline geçen çıplak ücret ile işverenlerin ödediği brüt ücret arasındaki fark azalmıştır.
- B) Grev hakkını içeren toplu pazarlık sistemi, işçilerin reel ücretlerinde artış sağlamıştır.
- C) Tarımsal ürünlerin fiyatlarının oluşumunda devletin destekleme politikasının etki alanı genişlemiştir.
- D) KİT'lerde ücret taleplerine karşı gevşek politika uygulanmıştır.
- E) Sosyal güvenlik kapsamındakilerin genel nüfus içinde oranı artmıştır.

20. I. İç talebin daraltılması  
II. Fiyat kontrollerinin kaldırılması  
III. Devalüasyon politikası

**Yukarıdakilerden hangileri, 24 Ocak kararları ile dönemin iktisat politikalarının temel unsurlarından olmuştur?**

- A) Yalnız I
- B) Yalnız III
- C) I ve II
- D) II ve III
- E) I, II ve III

21. I. Ticari bankaların, uzun vadeli devlet iç borçlanma senetleri tutmak istememesi  
II. Ticari bankaların, Hazine bono ihalelerinde birbirlerine karşı rekabet etmesi  
III. Ticari bankaların, döviz açık pozisyonlarının kur riskini karşılamak için yüksek faiz talep etmesi

**Yukarıdakilerden hangileri, Türkiye'de 1999'da Hazinesinin iç borçları döndürmesini zorlaştırmıştır?**

- A) Yalnız I
- B) I ve II
- C) I ve III
- D) II ve III
- E) I, II ve III

22. Aşağıdakilerden hangisi, 2000 yılında uygulanan İstikrar Programı'nda öngörülen tedbirlerden biri **değildir**?

- A) Para tabanındaki değişmeyi, Merkez Bankasının net dış varlıklarındaki değişime ile sağlamak
- B) Kamu borcunu özelleştirme gelirleriyle ödemek
- C) Ücret ve maaşları hedeflenen enflasyon oranında artırmak
- D) Faiz oranlarının belirlenmesini piyasaya bırakmak
- E) Döviz kurunun belirlenmesini piyasaya bırakmak

23. Aşağıdakilerden hangisi, Türkiye’de 2001 döviz buhranına yol açan etkenlerden biri değildir?

- A) 2000 İstikrar Programı’na başlarken TL’nin devalüe edilmemesi
- B) 2000 İstikrar Programı’nda ithalatı kısıtlayıcı tedbir alınmaması
- C) 2000 İstikrar Programı’nda maaş ve ücretlerin gerçekleşen enflasyon oranında artırılması
- D) 2000 İstikrar Programı’nda kısa vadeli sermaye girişlerine karşı tedbir alınmaması
- E) 2000 İstikrar Programı’na başlarken bankacılık sektörünün, faiz ve kur artışlarına karşı kırılganlığının giderilmemesi

24. Türkiye’de, 2002 yılı sonunda brüt dış borç stokunun borçlulara göre dağılımının büyükten küçüğe doğru sıralaması aşağıdakilerden hangisinde verilmiştir?

- A) Kamu, TCMB, Özel Sektör
- B) Özel Sektör, Kamu, TCMB
- C) TCMB, Özel Sektör, Kamu
- D) Özel Sektör, TCMB, Kamu
- E) Kamu, Özel Sektör, TCMB

25. Türkiye’de, 2002-2005 döneminde uygulanan para politikası rejimine ne ad verilmektedir?

- A) Açık enflasyon hedeflemesi
- B) Örtük enflasyon hedeflemesi
- C) Nominal GDP hedeflemesi
- D) Döviz kuru hedeflemesi
- E) Artış hızı sabit döviz kuru hedeflemesi

26. I. Tarım  
II. Madencilik  
III. İmalat sanayisi  
IV. Hizmetler

Türkiye’de, 2000-2010 döneminde istihdamın yukarıdaki sektörlere dağılımı aşağıdakilerden hangisinde büyükten küçüğe doğru sıralanmıştır?

- A) I, IV, II, III
- B) I, III, IV, II
- C) IV, III, I, II
- D) IV, I, III, II
- E) IV, I, II, III

27. I. Türkiye, Aralık 2000’de IMF tarafından sağlanan Ek Rezerv Kolaylığı’ndan yararlanmıştır.  
II. Türkiye ile IMF arasında ilk Stand-by Anlaşması 1970’de imzalanmıştır.  
III. Küresel kriz nedeni ile 2009 yılında Türkiye, IMF ile Stand-by Anlaşması imzalamıştır.

Türkiye-IMF ilişkileri ile ilgili yukarıdaki bilgilerden hangileri yanlıştır?

- A) Yalnız I
- B) I ve II
- C) I ve III
- D) II ve III
- E) I, II ve III

28. Türkiye’nin ithalatı, yatırım malları, ara malları ve tüketim malları şeklinde tasnif edildiğinde 2000-2010 yılları arasında, bu mal gruplarının ithalat içindeki paylarının büyükten küçüğe sıralaması aşağıdakilerden hangisinde doğru olarak verilmiştir?

- A) Yatırım malları, ara malları, tüketim malları
- B) Yatırım malları, tüketim malları, ara malları
- C) Ara malları, yatırım malları, tüketim malları
- D) Ara malları, tüketim malları, yatırım malları
- E) Tüketim malları, ara malları, yatırım malları

29.

2010 Yılı Ödemeler Dengesi (Milyar dolar)

Cari İşlemler Hesabı	-47
Sermaye ve Finans Hesapları	59
Rezerv Varlıklar	-15
Net Hata ve Noksan	?

**Yukarıdaki tabloda verilen Türkiye'nin 2010 yılı ödemeler dengesi bilgilerine göre, Net Hata ve Noksan kaç milyar dolardır? (Rakamlar yaklaşık değerlerdir.)**

- A) -12    B) -3    C) 3    D) 12    E) 15

30. P80/P20 göstergesi, fertler eşdeğer hane halkı kullanılabilir gelirlerine göre küçükten büyüğe doğru sıralanarak 5 gruba ayrıldığında, son yüzde yirmilik grubun (geliri en yüksek grup) toplam gelirden aldığı payın ilk yüzde yirmilik grubun (gelirin en düşük olduğu grup) toplam gelirden aldığı paya oranını ifade etmektedir.

**Buna göre, Türkiye'de P80/P20 göstergesi 2010 ve 2011 yılları için kaçtır?**

- A) 4    B) 6    C) 8    D) 10    E) 12



1. Bu testte 50 soru vardır.

2. Cevaplarınızı, cevap kâğıdının İngilizce Testi için ayrılan kısmına işaretleyiniz.

1. - 11. sorularda, cümlede boş bırakılan yerlere uygun düşen sözcük ya da ifadeyi bulunuz.

1. The ---- between exports of goods and services and imports of goods and services is known as the current account balance.
- A) identity                      B) favour  
C) difference                  D) deficiency  
E) privacy
2. Vacationers in Bodrum and Marmaris are having a hard time finding ---- rental units, as prices have risen above \$1,000 for houses close to the sea.
- A) affordable      B) productive      C) attentive  
D) reducible      E) prestigious
3. In the March 2011-2012 period, most of the employment growth was in the public sector, ---- health and education management, reaching an addition of almost 350,000 new employees.
- A) separately      B) previously      C) moderately  
D) especially      E) fortunately
4. Trade in mineral products, a category that includes everything from copper ore to oil, ---- an important part of the world trade.
- A) prevents      B) deceives      C) invites  
D) forms      E) manufactures
5. If Japan ---- import tariffs on food for all foreign farmers, its reliance on agricultural products from abroad ---- to 90% from about 60%.
- A) had cut / has risen  
B) cuts / will rise  
C) would cut / rises  
D) has cut / rose  
E) cut / had risen
6. The effects of healthy business climates that ---- widespread development in the oil-rich Gulf states like Qatar ---- masterfully if disaster is to be avoided.
- A) are encouraging / may have been managed  
B) encouraged / should have been managed  
C) have encouraged / must be managed  
D) will encourage / could have been managed  
E) were encouraging / will be managed
7. ---- its influential role that connects Europe, the Arab world and Asia, Turkey is the fastest growing ---- the OECD countries despite the recent global crisis.
- A) For / towards                  B) On / around  
C) Through / into                  D) About / off  
E) With / among

8. **Diversifying and optimizing your asset base ---- investing in real estate not only creates the potential for income, but can also be an effective precaution ---- inflation.**

- A) for / about                      B) to / at  
C) of / through                      D) by / against  
E) on / in

9. **---- women in the West typically make up almost 20% of upper management and company boards, Asian women fall far behind this number.**

- A) While                      B) So that                      C) In case  
D) Before                      E) Unless

10. **---- adventurers return home after having succeeded in another country, they bring back real-world skills and experience for their own communities.**

- A) Although                      B) Whereas                      C) As if  
D) Whether                      E) When

11. **Political instability and misguided economic policies often discourage investment ---- reducing economic efficiency.**

- A) in favour of                      B) in addition to  
C) except for                      D) contrary to  
E) in spite of

**12. - 16. sorularda, aşağıdaki parçada numaralanmış yerlere uygun düşen sözcük ya da ifadeyi bulunuz.**

International trade is carried on between countries and geographical regions. Over the centuries, international trade, although periodically interrupted by wars and natural disasters, (12)---- gradually, usually at a faster pace than the expansion of world output. The cause for the existence and expansion of international trade is the same as that for any (13)---- transaction: value creation. It creates value for both producers and consumers. International trade increases demand (14)---- exportable products, thereby raising prices and volumes. (15)---- increasing the efficiency of resource allocation worldwide, it reduces production costs through economies of scale and lowers input costs. (16)----, it is closely linked with foreign direct investment and international finance.

12.

- A) expands
- B) is expanding
- C) has expanded
- D) was expanding
- E) had expanded

13.

- A) commercial
- B) disruptive
- C) contradictory
- D) pervasive
- E) instinctive

14.

- A) under
- B) with
- C) at
- D) into
- E) for

15.

- A) As opposed to
- B) Besides
- C) Owing to
- D) In comparison with
- E) Despite

16.

- A) Yet
- B) For example
- C) Otherwise
- D) Also
- E) Because

17. - 24. sorularda, verilen cümleyi uygun şekilde tamamlayan ifadeyi bulunuz.

17. **Although there are clear gains from international specialization and exchange, ----.**

- A) the exchange rate measures the price of one currency in terms of another
- B) foreign exchange is foreign currency needed to carry out international transactions
- C) nearly all nations tend to restrict their trade to a certain extent
- D) what one country does influences its neighbours economically
- E) the potential car market is enormous in China and Latin America

18. **----, and it is a question of when it will become the world's most prolific producer of scientific knowledge.**

- A) Asian nations make the transition from a manufacturing economy to a knowledge economy
- B) China's emergence as a scientific superpower can no longer be denied
- C) The question for the EU and the US is what they can bring to the table regarding science
- D) In 1998, China's research output was behind that of European countries
- E) China's volume of scientific output does not tell us whether that research was any good

19. **Just as the rising popularity of locally sourced food is contributing to the increase in small farmers, ----.**

- A) competition from agribusiness is also encouraging them to reserve a spot at the local market
- B) the future does not seem to be promising for all farmers due to high costs of energy
- C) growers today are not so willing to try new things, particularly genetically modified crops
- D) direct retail sales of food production fluctuate depending on the region
- E) it is actually the big markets that consumers prefer to do their shopping

20. **Despite the fact that world politicians have put in efforts to reduce the gap between the rich and poor, ----.**

- A) rich countries around the world have constructed their respective welfare systems in the post-war years
- B) wealthy people can contribute to the economy through the taxes they pay when they consume luxury goods
- C) many countries have equalized the opportunities for families by providing better access to health care
- D) higher taxes can drive the most productive members of society overseas
- E) levels of inequality have widened significantly in almost every developed country since the early 1980s

21. **----, the only way to succeed in research and technological development is to work together.**

- A) Because the EU has continental dimension and characteristics
- B) When harsh economic times make it rather tough to find funds
- C) Though developing relationships with neighbouring and distant countries is important
- D) Whereas some cities have been a magnet for merchants and explorers
- E) Even if the global food demand is forecast to rise very soon

22. **The thing about a recession is that you do not know you are in one ----.**

- A) when the economy operates well below capacity
- B) before anyone notices increasing economic activities
- C) until it has been around for a while
- D) after the stock market takes a turn for the better
- E) while the pessimism is felt by everyone

**23. The world is in the midst of a major shift in its economic structure ----.**

- A) as companies capitalize on new technologies such as the Internet, advanced computing and telecommunications
- B) when changes in economy push up inequality between the super wealthy and the extremely poor
- C) after a very small number of people have managed to become super rich
- D) while the wealthy avoid taxes and often spend extravagantly on luxury goods
- E) once the taxes on the rich have been raised in order to give more to the poor

**24. A number of countries have increasingly turned to nuclear power ----.**

- A) instead of responding to price rises due to the high rate of the dollar since 2011
- B) in addition to the recent energy crisis unfolding in northern African states
- C) due to reliance on hydraulic power plants in some parts of the country
- D) regardless of its potential uses in generating a great amount of energy at power plants
- E) in spite of a temporary drop in its use following the 1986 Chernobyl Disaster

**25. - 27. soruları aşağıdaki parçaya göre cevaplayınız.**

The state system is a distinctive way of organizing political life and has deep historical roots. There have been state systems at different times and places in different parts of the world: for example in ancient Greece and in Renaissance Italy. However, the subject of 'International Relations' conventionally dates back to the early modern era in Europe, when sovereign states based on adjacent territories were initially established. Ever since the 18<sup>th</sup> century, the relations between such independent states have been labelled 'International Relations'. In the 19<sup>th</sup> and 20<sup>th</sup> centuries, the state system was expanded to encompass the entire territory of the earth. The world of states is basically a territorial world: it is a way of politically organizing the world's populated territory, a distinctive kind of territorial political organization, based on numerous different governments that are legally independent of each other. The only large territory that is not a state is Antarctica, and it is administered by a consortium of states.

**25. It is pointed out in the passage that ----.**

- A) being an independent state does not mean it is isolated from others but it is free to govern neighbouring states
- B) the state systems of ancient Greece and Renaissance Italy were completely different since they were in separate regions
- C) some countries have chosen to be bordered with a neighbouring state to communicate more efficiently
- D) the concept of 'International Relations' emerged with the foundation of states which were neighbouring to each other
- E) the 19<sup>th</sup> and 20<sup>th</sup> centuries witnessed widespread rebellions for freedom of national states

**26. It is stated in the passage that Antarctica is ----.**

- A) the greatest land in width in the world
- B) as free as other states of the world
- C) controlled by a group of states
- D) deprived of the qualities to be a state
- E) governed by its neighbour states

**27. It can be understood from the passage that ----.**

- A) the concepts of 'state' and 'territory' are closely tied
- B) complete isolation is usually not an option for states
- C) the Greek system is the only model for all modern states
- D) the world of states is determined by their authoritative power
- E) unpopulated territories in the world are prone to the domination of rich countries

**28. - 30. soruları aşağıdaki parçaya göre cevaplayınız.**

Earlier this year, the United Nations World Tourism Organization (UNWTO), one of the world's 17 specialist agencies, chose Zimbabwe and Zambia to host its next General Assembly – the 20<sup>th</sup> in the series, in August 2013. It is an event that brings the good and mighty of world tourism to enjoy the delights of the host countries, while at the same time focusing global attention on their tourism industries. The event will be held in the border towns of the co-hosts. In total, representatives from 186 countries are expected to attend the event. It will mark the biggest international gathering in Zimbabwe since the Commonwealth Heads of State and Government Meeting was held in Harare in 1991. It will be only the second time that the UNWTO has met on African soil, after Senegal hosted the event in 2005. Increasingly, the UNWTO has been playing an important role in promoting the development of responsible tourism, especially in developing countries. To this end, it encourages the implementation of a global code of ethics for a sustainable tourism industry. This is aimed at promoting positive economic, social and cultural effects of tourism, while minimizing negative environmental and social impacts.

**28. It is clearly stated in the passage that ----.**

- A) the UNWTO mainly pinpoints the national development of the host countries rather than carrying it out on a global basis
- B) although there is still a year to the event, Zimbabwe and Zambia are vigorously preparing for it
- C) the guest countries will make donations to Zimbabwe and Zambia to help them organize the assembly
- D) the event is of more importance than the last Commonwealth Heads of State and Government Meeting
- E) only one other African nation has previously been the host of a UNWTO event

**29. One can understand from the passage that ----.**

- A) the UNWTO profits from the development of tourism in African nations
- B) Zimbabwe and Zambia were already a prime tourist destination
- C) Senegal is thought to be more developed than Zambia and Zimbabwe
- D) activities of the UNWTO benefit its host countries by opening their cultural richness to visitors from other countries
- E) the UNWTO will help solve the drop in tourism in Zimbabwe caused by the Commonwealth Heads of State and Government Meeting in 1991

**30. With the understanding of the sustainable tourism industry, the UNWTO ----.**

- A) will be responsible for maintaining a constant flow of tourists to the developing countries
- B) tries to boost favourable economic, social and cultural factors while reducing unfavourable environmental and social consequences
- C) generally chooses at least two countries to co-host the assembly in order to encourage them to compete against each other
- D) collects reliable data on international tourism which will determine the future of the tourism industry
- E) expects the two African states to build new facilities to meet the demand of the attendant countries to the event

**31. - 33. soruları aşağıdaki parçaya göre cevaplayınız.**

The European stimulus versus austerity debate that was widespread throughout 2011 is a replay of the one from the Great Depression. Then, it was a Briton, John Maynard Keynes, arguing the case for boosting demand and an Austrian, Friedrich Hayek, wanting to eradicate the rottenness from the system. It is a measure of the discipline's insufficient progress that economists and policymakers have not managed to settle this dispute in the past 80 years. The very human tendency to mix up economics and morality is what makes the Keynesian case for expansionary government policy hard for politicians to defend. From the standpoint of righteousness and clean living, the Germans are way ahead of the Greeks, the Portuguese, the Spaniards and the Italians. Saving and investing are virtuous for families; it is hard for people to imagine that on the scale of nations, too much frugality can cause problems. Frugality can backfire, however – and in 2011, it did. Keynes had put his finger on the problem, calling it 'the paradox of thrift'. One person's spending is another's income, he observed. So when everyone spends less in a recession, incomes fall. The more people try to save, the more the economy slows, and the harder it gets to put money aside.

**31. As it is clearly stated in the passage, frugality ----.**

- A) is a policy Keynes proposed to get the economy out of recession
- B) solved an economic problem in 2011 that Keynes rightly called 'the paradox of thrift'
- C) can actually be the source of economic slowdown although it is normally praiseworthy as a habit
- D) is an example of righteousness and clean living as opposed to the Germans' lifestyle
- E) should be understood as a balancing act between Keynesian and Hayekian theories

**32. According to the passage, the European stimulus versus austerity debate ----.**

- A) was won by Keynes when he suggested expansionary policies
- B) has taught economists Keynes and Hayek one thing: learn from the past
- C) has clearly shown that humans rarely mix up economics and morality
- D) was a lot more sensational than the Great Depression
- E) has not been solved despite 80 years of economic experience

**33. It can be inferred from the passage that ----.**

- A) the European states are reluctant to act in cooperation with each other to overcome economic hardships
- B) it may be difficult to come up with the right remedy for economic problems
- C) conventional and traditional attitudes towards new problems can help a lot
- D) economists' understanding of ordinary people's patterns of behaviour is wrong
- E) the most important factor in solving major problems is collaboration between economists and policymakers



34. - 36. sorularda, karşılıklı konuşmanın boş bırakılan kısmını tamamlayabilecek ifadeyi bulunuz.

34. James:

- I've heard that you're selling your house. But it's not really the best time for selling your property.

Arthur:

- ----

James:

- I suggest you not sell it. You could get a bank loan instead, and I'll be your guarantor.

Arthur:

- I've never thought of it; you've given me a great idea. I really appreciate your support.

- A) The broker in my quarter says a client has already bought one at a reasonable price.
- B) I've talked to several brokers in town, and they say I'll have no problem getting a mortgage.
- C) I've already applied to the local bank for a loan and I'm waiting for a reply.
- D) I know, but I have to do it, as I've got a large debt and I need to repay it urgently.
- E) Recently, a relative of mine has advised me to buy a house in the country.

35. Martha:

- Look at the headline here. What does AU stand for?

Steven:

- I suppose it's an abbreviation for the African Union.

Martha:

- ----

Steven:

- Well, it's the continent's foremost body promoting economic and political freedom and cooperation.

- A) The African Union! Never heard that before.
- B) Some African states are suffering from economic fluctuations.
- C) Which country takes the lead in the African Union?
- D) How well do you know the African economy?
- E) Can you compare the African Union and the European Union?

36. Edward:

- I have been calling you for several days, but I couldn't get through to you. Where have you been so far?

William:

- I was fired, and I'm desperately looking for a job.

Edward:

- ----

William:

- Yes, of course. But they say it will take almost three months to place me in a workplace.

- A) Really? But it's rather difficult to find a job these days unless you've got a higher education degree and speak a foreign language.
- B) Why don't we visit my older brother? He's just opened an employment agency in the city centre.
- C) Have you applied to the public employment bureau? I've heard that it's easier to find a job through this office.
- D) It's a pity! But don't get discouraged. I think you'll sort it out soon.
- E) Would you like me to help you scan the job advertisements?

37. - 40. sorularda, boş bırakılan yere, parçada anlam bütünlüğünü sağlamak için getirilebilecek cümleyi bulunuz.

37. Recent research on the ultimate determinants of economic growth in developing countries has focused on geographical issues like the disease environment, institutional features such as government protection of property rights, and human capital contribution. ---- While economists agree that all are important, it is less clear where policy should focus first in attempts to lift poor countries out of their poverty.

- A) Developing countries have not shown a uniform tendency to the income levels of industrial countries.
- B) Institutional reform might be an appropriate step on preserving the capital.
- C) The flow of capital from rich to poor countries also depends on these factors.
- D) There are vast differences in per-capita income and in well-being between countries at different stages of economic development.
- E) Many developing economies offer a number of opportunities for investment.

38. The father of economics was a rather unlikely radical hero from the small Scottish town of Kirkcaldy. Fittingly for the first economist, Adam Smith was an eccentric academic who considered himself an outsider, and often complained of his unusual physical appearance and lack of social graces. Like many of his modern inheritors, his office at Glasgow University was stacked chaotically high with papers and books. ----

- A) Soon, Smith became a celebrity, and his ideas influenced all the big names of economics.
- B) In 2007, he was honoured as the first Scot to appear on a banknote.
- C) Smith has become a hero again, with his ideas on free markets and the division of labour.
- D) He originally coined the phrase the 'invisible hand' in his first book.
- E) Also, Smith was often seen talking to himself, and he had a habit of sleepwalking.

39. A new industry model began to emerge in the 1980s. Lower transport costs were one of the catalysts. ---- Cheaper communications allowed firms to manage supply chains over even greater distances. Companies discovered they could build plants in cheap locations, ship components there to be assembled and export the finished product around the world.

- A) Yet, more important was a new revolution in information and communications technology.
- B) A single large plant could produce goods at a lower unit cost than lots of smaller factories.
- C) They entered global markets with inferior but cheap products, then slowly improved their technological competence.
- D) As the industrial revolution progressed, steamships and railways reduced transport cost.
- E) Regional trade agreements are partly responsible, but time costs may be more important.

40. Just being a monopoly may not make an enterprise more profitable than other enterprises that face competition: the market may be so small that it barely supports one enterprise. But if the monopoly is in fact more profitable than competitive enterprises, economists expect that other entrepreneurs will go into the business to capture some of the higher returns. ----

- A) A competitive enterprise economy will produce the largest possible income from a given stock of resources.
- B) That is because economists may not know who the more worthy of the two parties is.
- C) So, economists' desire to have the state combat or control entrepreneurs has gone a long way.
- D) If enough rivals enter, their competition will drive prices down and eliminate monopoly power.
- E) In short, the state control over monopoly would reduce society's income.

41. - 46. sorularda, verilen İngilizce cümleye anlamca en yakın Türkçe cümleyi, Türkçe cümleye anlamca en yakın İngilizce cümleyi bulunuz.

41. It is no surprise that the workers who produce goods for export in developing countries are paid very little by advanced-country standards.
- A) Gelişmekte olan ülkelerde ihracat için mal üreten işçilerin gelişmiş ülke standartlarına göre çok az ücretle geçinmesi aslında hiç de şaşırtıcı değildir.
  - B) İhracat için mal üreten, gelişmekte olan ülkelerde işçilerin aldıkları ücretin gelişmiş ülkelerekinden oldukça az olması şaşırtıcı değildir.
  - C) Gelişmekte olan ülkelerde ihracat için mal üreten işçilere gelişmiş ülke standartlarına göre çok az ücret ödenmesi şaşırtıcı değildir.
  - D) Gelişmiş ülkelere ihraç edilen malların gelişmekte olan ülkelerdeki işçiler tarafından az bir ücret karşılığı üretilmesi şaşırtıcı değildir.
  - E) Gelişmekte olan ülkelerdeki işçilere ihracat için mal ürettiklerinde gelişmiş ülke standartlarına göre düşük bir ücret ödenmesi hiç de şaşırtıcı değildir.

42. Many studies show that when people fight over ideas with mutual respect, they are more productive and creative.
- A) Birçok araştırmada, insanların karşılıklı saygı çerçevesinde tartışmasının, üretkenliği ve yaratıcılığı geliştirdiğine dikkat çekiliyor.
  - B) Birçok araştırma gösteriyor ki insanlar saygı duydukları fikirler üzerinde tartıştıklarında daha üretken ve yaratıcı olabiliyorlar.
  - C) Birden fazla araştırma insanların ortak tartışmalarda yaratıcı ve üretken fikirler ortaya çıkardığını gösteriyor.
  - D) Çok sayıda araştırma, karşılıklı saygı çerçevesinde belirli fikirler üzerinde tartışan insanların üretken ve yaratıcı olduklarını gösteriyor.
  - E) Birçok araştırma insanların fikirler üzerinde karşılıklı saygı çerçevesinde tartıştıkları zaman daha üretken ve yaratıcı olduklarını gösteriyor.

**43. The foreign trade deficit, called the soft spot of the Turkish economy, is continuing to narrow ahead of market expectations.**

- A) Dış ticaret açığı piyasa beklentilerinin ötesinde daralmayı sürdürse de Türk ekonomisinin zayıf noktası olarak tanımlanmaktan kurtulamıyor.
- B) Türk ekonomisinin zayıf noktası olarak adlandırılan dış ticaret açığı piyasa beklentilerinin ötesinde daralmaya devam ediyor.
- C) Dış ticaret açığının Türk ekonomisinin zayıf noktası olduğu düşünülüyor, ancak piyasa beklentilerinin ötesinde daralmaya devam ediyor.
- D) Piyasa beklentilerinin ötesinde daralmaya devam eden dış ticaret açığı hâlâ Türk ekonomisinin zayıf noktası olarak tanımlanıyor.
- E) Türk ekonomisinin zayıf noktası olarak adlandırılan dış ticaret açığı gitgide daralmasına rağmen piyasa beklentilerinin önüne geçemiyor.

**44. Hükümetler, iktisadi zorluk zamanlarında, 2008 mali bunalımını takip eden durgunlukta yaptıkları gibi, genellikle yurttaşlarının vergilerini azaltırlar.**

- A) In times of economic hardship, governments often cut their citizens' taxes as they did during the recession that followed the 2008 financial crisis.
- B) Governments often cut their citizens' taxes in times of economic hardship after recession as they did during the 2008 financial crisis.
- C) When governments face times of economic hardship, they often cut their citizens' taxes as they did during the 2008 financial crisis.
- D) Times of economic hardship get governments to often cut their citizens' taxes as they did during the recession following the 2008 financial crisis.
- E) Just as they did during recession before the 2008 financial crisis, governments tend to cut their citizens' taxes in times of economic hardship.

**45. Son otuz yıldır bonolardaki kazançlar, çoğunlukla fiyat artışları ve faiz gelirlerine dayanmaktadır.**

- A) During the past thirty years, bond gains have risen rapidly due to price increases and interest incomes.
- B) In the last thirty years, price increases and interest incomes have had a great impact on the profits of bonds.
- C) Price increases and interest incomes have particularly contributed to the bond gains in the last thirty years.
- D) For the last thirty years, the gains on bonds have mostly rested upon price increases and interest incomes.
- E) Price increases and interest incomes have especially facilitated the bond gains in the past thirty years.

46. Bugün içinde yaşadığımız dünya, önce 18. yüzyılın sonunda İngiltere’de meydana gelen ve ardından 19. yüzyılda Avrupa ve Kuzey Amerika’yı saran sanayileşmeye çok şey borçludur.

- A) The world we live in now underwent a serious industrialization process which first began in Britain in the late 18<sup>th</sup> century and then spread over Europe and North America in the 19<sup>th</sup> century.
- B) The world in which we live today is indebted a lot to the industrialization that first began in Britain in the late 18<sup>th</sup> century and then affected Europe and North America throughout the 19<sup>th</sup> century.
- C) The industrialization first took place in Britain in the late 18<sup>th</sup> century then swept across Europe and North America in the 19<sup>th</sup> century, and the world we live in now should appreciate it.
- D) With the industrialization first beginning in Britain in the late 18<sup>th</sup> century, Europe and North America were exposed to certain changes during the 19<sup>th</sup> century, which accelerated the development of the world we live in today.
- E) The world we live in today owes much to the industrialization that took place first in Britain in the late 18<sup>th</sup> century, and then swept across Europe and North America in the 19<sup>th</sup> century.

47. - 50. sorularda, cümleler sırasıyla okunduğunda parçanın anlam bütünlüğünü bozan cümleyi bulunuz.

47. (I) Kayseri is struggling to promote its tourist attractions and convention facilities to the rising number of visitors from Muslim and European countries. (II) With a population of more than one million, Kayseri currently exports goods ranging from textile to processed food to more than a hundred countries. (III) The municipality, together with local businessmen, has allocated a budget for the construction of new hotels, exhibition halls and meeting centres to host tourists. (IV) The city attracts visitors with its ancient and historic sites, spanning from the pre-Roman eras to the Ottomans. (V) Situated at the foot of Mount Erciyes, which boasts one of the world's longest ski runs, Kayseri also caters to winter sport tourism.

A) I      B) II      C) III      D) IV      E) V

48. (I) Since the mid-1980s, Turkey has been one of the most important political figures in its region. (II) It has shed the status of developing nation and entered the group of countries regarded as emerging markets. (III) Its economy has opened up to international competition and shown one of the most impressive growth rates. (IV) In history, Turkey stands out as one of the few examples of democratic states among Middle Eastern countries. (V) It has all the potential to continue in this direction if the necessary political framework for economic development can be sustained.

A) I      B) II      C) III      D) IV      E) V

49. (I) İstanbul is to build a canal, a project called 'the Canal İstanbul', to cut traffic through the Bosphorus. (II) It will eliminate the risk posed by heavy tankers, and ferries will have more room to manoeuvre. (III) There are lots of well-known historical places and stunning sights along the Bosphorus. (IV) Also, such calamities as collision of cargo ships and oil spills will be a thing of the past thanks to the canal. (V) Many engineers say that it may even surpass Suez or Panama with its immense size.

A) I      B) II      C) III      D) IV      E) V

50. (I) Nearly a quarter of Spain's workforce – and roughly half of Spain's young people – have no jobs. (II) Unemployment rates in Austria, Germany and the Netherlands, by contrast, are dramatically lower. (III) When Americans are faced with depressed labour markets, many immediately think of changing location in search of work. (IV) On the contrary, Europeans are far less likely to move out of the borders in which they live. (V) In principle, migration across European Union borders, except Bulgaria's and Romania's, is as easy as migration within Member States.

A) I      B) II      C) III      D) IV      E) V

# SINAVDA UYULACAK KURALLAR

- 1. Cep telefonu ile sınava girmek kesinlikle yasaktır.** Çağrı cihazı, telsiz, fotoğraf makinesi vb. araçlarla; cep bilgisayarı, kol ya da cep saati gibi her türlü bilgisayar özelliği bulunan cihazlarla; silah ve benzeri teçhizatla; müsvedde kâğıdı, defter, kitap, sözlük, sözlük işlevi olan elektronik aygıt, hesap cetveli, hesap makinesi, pergel, açölçer, cetvel vb. araçlarla sınava girmek kesinlikle yasaktır. Bu araçlarla sınava girmiş adayların adı mutlaka Salon Sınav Tutanağına yazılacak, bu adayların sınavı geçersiz sayılacaktır. **Sınava kalem, silgi, kalemıraş, saat vb. araçla ve kulaklık, küpe, broş vb. takı, herhangi bir metal eşya ile girmek de kesinlikle yasaktır. Yiyecek, içecek vb. tüketim malzemeleri de sınava getirilemez. Adaylar sınava şeffaf şişe içerisinde su getirebilecektir.**
2. Bu sınav için verilen toplam cevaplama süresi **150 dakikadır.** Sınav başladıktan sonra **ilk 110** ve **son 15** dakika içinde adayın sınavdan çıkmasına kesinlikle izin verilmeyecektir. **Bu süreler dışında, cevaplamaı sınav bitmeden tamamlarsanız cevap kâğıdınızı ve soru kitapçığınızı salon görevlilerine teslim ederek salonu terk edebilirsiniz.**
3. **Sınav salonundan ayrılan aday, her ne sebeple olursa olsun, tekrar sınava alınmayacaktır.**
4. Sınav süresince görevlilerle konuşmak, görevlilere soru sormak yasaktır. Aynı şekilde görevlilerin de adaylarla yakından ve alçak sesle konuşmaları ayrıca adayların birbirinden kalem, silgi vb. şeyleri istemeleri kesinlikle yasaktır.
5. Sınav sırasında, görevlilerin her türlü uyarısına uymak zorundasınız. Sınavınızın geçerli sayılması, her şeyden önce, sınav kurallarına uymanıza bağlıdır. Kurallara aykırı davranışta bulunanların ve yapılacak uyarılara uymayanların kimlik bilgileri Salon Sınav Tutanağına yazılacak ve sınavları geçersiz sayılacaktır.
6. Sınav sırasında kopya çeken, çekmeye kalkışan, kopya veren, kopya çekilmesine yardım edenlerin kimlik bilgileri Salon Sınav Tutanağına yazılacak ve bu adayların sınavları geçersiz sayılacaktır. Görevliler kopya çekmeye ya da vermeye kalkışanları uyararak zorunda değildir, sorumluluk size aittir.

Adayların test sorularına verdikleri cevapların dağılımları bilgi işlem yöntemleriyle incelenecek, bu incelemelerden elde edilen bulgular bireysel ya da toplu olarak kopya çekildiğini gösterirse kopya eylemine katılan adayın/adayların cevaplarının bir kısmı ya da tamamı iptal edilecektir.

Sınav görevlileri bir salondaki sınavın, kurallara uygun biçimde yapılmadığını, toplu kopya girişiminde bulunulduğunu raporlarında bildirdiği takdirde, ÖSYM takdir hakkını kullanarak bu salonda sınava giren tüm adayların sınavını geçersiz sayabilir.

7. Cevap kâğıdında doldurmanız gereken alanlar bulunmaktadır. Bu alanları doldurunuz. Cevap kâğıdınızı başkaları tarafından görülmeyecek şekilde tutmanız gerekmektedir. Cevap kâğıdına yazılacak her türlü yazıda ve yapılacak bütün işaretlemelerde salon görevlisinin atacağı imzalar hariç, kurşun kalem kullanılacaktır. Sınav süresi bittiğinde cevapların cevap kâğıdına işaretlenmiş olması gerekir. Soru kitapçığına işaretlenen cevaplar geçerli değildir.
8. Soru kitapçığınızı alır almaz kapağında bulunan ilgili alanlara kimlik bilgilerinizi yazınız. Sayfaların eksik olup olmadığını, kitapçıkta basım hatalarının bulunup bulunmadığını ve soru kitapçığının her sayfasında basılı bulunan soru kitapçık numarasının, kitapçığın ön kapağında basılı soru kitapçık numarasıyla aynı olup olmadığını kontrol ediniz. Soru kitapçığının sayfası eksik ya da basım hatalıysa değiştirilmesi için salon başkanına başvurunuz.  
Size verilen soru kitapçığının numarasını cevap kâğıdınızdaki "Soru Kitapçık Numarası" alanına yazınız ve kodlayınız. Cevap kâğıdınızdaki "Soru kitapçık numaramı doğru kodladım." kutucuğunu işaretleyiniz.  
**Soru kitapçığı üzerinde yer alan Soru Kitapçık Numarasını doğru kodladığınızı beyan eden alanı imzalayınız ve salon görevlisinin, kodlamanın doğru yapıldığını beyan eden hem soru kitapçığındaki hem de cevap kâğıdınızdaki ilgili alanı imzaladıktan emin olunuz. Salon görevlisi imzasını tükenmez kalemle ve siz kodlamayı yaptıktan sonra atmalıdır.**
9. Sınav sonunda soru kitapçıkları toplanacak ve ÖSYM'de tek tek incelenecektir. Soru kitapçığının bir sayfası bile eksik çıkarsa sınavınız geçersiz sayılacaktır.
10. Cevap kâğıdına ve soru kitapçığına yazılması ve işaretlenmesi gereken bilgilerde bir eksiklik ve/veya yanlışlık olması hâlinde sınavınız değerlendirilmesi mümkün olamamaktadır, sorumluluk size aittir.
11. Soru kitapçığının sayfalarındaki boş yerleri müsvedde için kullanabilirsiniz.
12. Soruları ve/veya bu sorulara verdiğiniz cevapları ayrı bir kâğıda yazıp bu kâğıdı dışarı çıkarmanız kesinlikle yasaktır.
13. **Her bölümün cevaplarını cevap kâğıdındaki ilgili alana işaretlemeye dikkat ediniz.**
14. Sınav salonundan ayrılmadan önce, soru kitapçığınızı ve cevap kâğıdınızı salon görevlilerine teslim etmeyi unutmayınız.

*Bu testlerin her hakkı saklıdır. Hangi amaçla olursa olsun, testlerin tamamının veya bir kısmının Merkezimizin yazılı izni olmadan kopya edilmesi, fotoğrafının çekilmesi, herhangi bir yolla çoğaltılması, yayımlanması ya da kullanılması yasaktır. Bu yasağa uymayanlar gerekli cezai sorumluluğu ve testlerin hazırlanmasındaki mali külfeti peşinen kabullenmiş sayılır.*

**MALİYE BAKANLIĞI İÇ DENETİM KOORDİNASYON KURULU**  
**İÇ DENETÇİ ADAY BELİRLEME SINAVI**  
**20 EKİM 2012**

**GENEL YETENEK  
VE GENEL KÜLTÜR TESTİ**

- |       |       |
|-------|-------|
| 1. E  | 31. D |
| 2. A  | 32. A |
| 3. E  | 33. C |
| 4. A  | 34. B |
| 5. C  | 35. A |
| 6. D  | 36. B |
| 7. A  | 37. A |
| 8. C  | 38. C |
| 9. D  | 39. B |
| 10. A | 40. D |
| 11. B | 41. E |
| 12. C | 42. B |
| 13. B | 43. E |
| 14. D | 44. C |
| 15. E | 45. E |
| 16. D | 46. D |
| 17. A | 47. C |
| 18. D | 48. D |
| 19. C | 49. E |
| 20. C | 50. B |
| 21. B | 51. C |
| 22. E | 52. A |
| 23. E | 53. B |
| 24. B | 54. A |
| 25. A | 55. E |
| 26. B | 56. E |
| 27. E | 57. D |
| 28. C | 58. C |
| 29. A | 59. A |
| 30. B | 60. B |

**ALAN BİLGİSİ  
TESTİ**

- |       |
|-------|
| 1. D  |
| 2. B  |
| 3. C  |
| 4. B  |
| 5. A  |
| 6. C  |
| 7. E  |
| 8. B  |
| 9. A  |
| 10. A |
| 11. E |
| 12. D |
| 13. E |
| 14. C |
| 15. A |
| 16. C |
| 17. B |
| 18. A |
| 19. A |
| 20. E |
| 21. C |
| 22. E |
| 23. C |
| 24. E |
| 25. B |
| 26. D |
| 27. D |
| 28. C |
| 29. C |
| 30. C |



MALİYE BAKANLIĞI İÇ DENETİM KOORDİNASYON KURULU  
İÇ DENETÇİ ADAY BELİRLEME SINAVI  
20 EKİM 2012

İNGİLİZCE TESTİ

- |       |       |
|-------|-------|
| 1. C  | 26. C |
| 2. A  | 27. A |
| 3. D  | 28. E |
| 4. D  | 29. D |
| 5. B  | 30. B |
| 6. C  | 31. C |
| 7. E  | 32. E |
| 8. D  | 33. B |
| 9. A  | 34. D |
| 10. E | 35. A |
| 11. B | 36. C |
| 12. C | 37. C |
| 13. A | 38. E |
| 14. E | 39. A |
| 15. B | 40. D |
| 16. D | 41. C |
| 17. C | 42. E |
| 18. B | 43. B |
| 19. A | 44. A |
| 20. E | 45. D |
| 21. B | 46. E |
| 22. C | 47. B |
| 23. A | 48. D |
| 24. E | 49. C |
| 25. D | 50. E |