


TÜRKÇE TESTİ

(Bu testte, 15 Türkçe, 15 Matematik, 10 Hayat Bilgisi, 5 İngilizce sorusu vardır. Süre 80 dakikadır.)

1.



Yukandaki il adlarını sözlük sırasına göre sıralarsak doğru sıralama nasıl olur?

A) 3 - 1 - 4 - 2

B) 1 - 3 - 2 - 4

C) 3 - 2 - 4 - 1

2.



"Zavallı kuşu, yaralı halde görünce içim eridi."

Nehir'in cümlesinde altı çizili söz grubunun anlamı aşağıdakilerden hangisidir?

A) Çok kızmak

B) Çok üzölmek

C) Çok sevinmek

3. O gün okula Elif () Zeynep ve ben birlikte gittik. Öğretmenimiz, "Niçin geç kaldınız () Sınav yapacağım." dedi.

Yukandaki cümlede parantez içlerine uygun noktalama işaretleri konulursa hangi noktalama işareti **kullanılmaz**?

A) (.)

B) (,)

C) (?)

4. 1. ışık
2. vermez
3. mum
4. dibine

Yukandaki kelimelerle anlamlı ve kurallı bir cümle oluşturulursa sıralama nasıl olur?

A) 3 - 1 - 2 - 4

B) 3 - 4 - 1 - 2

C) 4 - 1 - 3 - 2

5. Aşağıdaki sözcüklerden hangisi hecelerine doğru ayrılmıştır?

- A) mücadele → müc - a - de - le
- B) kahraman → kah - ram - an
- C) Çanakkale → ça - nak - ka - le

6. Mehmet Bey, tanıdığım en iyi insanlardan biridir. Sürekli zor durumda olan insanlara yardım eder. Asla yalan söylemez, çevresindeki diğer insanlar tarafından da çok sevilir.

Yukandaki paragrafa göre, Mehmet Bey için aşağıdakilerden hangisi söylenemez?

- A) Yardımsever biridir.
- B) Yalan söylemez.
- C) Çok çalışkan biridir.

7. ve 8. sorular aşağıdaki fıkraya göre cevaplayınız.

Nasrettin Hoca, bir gün gürültüyle uyanmış. Bakmış, bir hırsız eşyaları topluyor. Korkmuş, sesini çıkaramamış ama hırsızın peşine düşmüş. Az sonra durumu fark eden hırsız öfkeyle sormuş:

— Neden beni takip ediyorsun efendi?

Hoca, sakın sakın cevap vermiş:

— Ben sırtında taşıdığın eşyaların sahibiyim.

7. Nasrettin Hoca, eşyaları toplayan hırsız görünce neden sesini çıkaramamış?

- A) Hırsızdan korktuğu için
- B) Hanımını uyandırmamak için
- C) Hırsızı tanıdığı için

8. Fıkraya göre, aşağıdakilerden hangisi söylenemez?

- A) Olayın kahramanları Nasrettin Hoca ve hırsızdır.
- B) Olay, Nasrettin Hoca'nın evinde gerçekleşmiştir.
- C) Hoca'yı acıyan hırsız evden aldığı eşyaları geri vermiştir.

9. "Güzel" ve "çirkin" kelimeleri arasındaki anlam ilişkisi hangi seçenekte verilen kelimeler arasında da vardır?

- A) al - kırmızı B) yaş - kuru C) yurt - vatan

10 ve 11. sorular aşağıdaki parçaya göre cevaplayınız.

Oyun, çocukların ruhsal eğitiminde önemli bir yer tutar ve gelişmelerini sağlar. Oyundan ve oyuncaklardan mahrum (yoksun) bazı çocukların, geçmişte asık yüzlü, somurtkan ve sıkıntılı kişiler oldukları görülmüştür. Oyunlar, aşırı olmadığı sürece çocuklar için vazgeçilmez bir eğlence kaynağıdır.

10. Yukarıdaki parçanın konusunu yansıtan görsel aşağıdakilerden hangisidir?



11. Parçaya göre aşağıdakilerden hangisi söylenebilir?

- A) Çocuklar, sürekli oyun oynamalıdır.
B) Oyun ve oyuncaktan uzak olan bütün çocuklar mutsuz olur.
C) Oyun ve oyuncak çocukların ruhsal gelişimi için önemlidir.

12.

İhtiyar	Ev	Hediye
.....△.....□.....○.....

Yukarıdaki tabloda verilen kelimelerin eş anlamlıları sembollerle gösterilen yerlere yazılacaktır.

Buna göre, sembollerle gösterilen yerlere hangi seçenekte verilenler yazılmalıdır?

- △ □ ○
- A) Adam Konuk Anı
B) Yaşlı Konut Armağan
C) Genç Misafir Hatıra

13. • Eyvah (1) Kitaplarımı evde unuttum.
• Van(2)da kar yağışı nedeniyle okullar tatil olmuş.
• Eve geldi (3) elbisesini değiştirip dışarı çıktı.
• Siz de sinemaya gidecek misiniz (4)

Yukandaki cümlelerde numaralı yerlere sırasıyla hangi noktalama işaretleri konulmalıdır?

1	2	3	4
A) (!)	(')	(,)	(?)
B) (,)	(')	(,)	(!)
C) (!)	(')	(.)	(.)

14.

Evlerinin önünde bir yavru köpek gördü.

1

Zeynep, erkenden kalktı.

2

Odasının camından dışarıya baktı.

3

Annesinden köpeğe vermek için yiyecek alıp dışarı çıkarak yavru köpeğin karnını doyurdu.

4

Yukandaki kartlarda verilen cümlelerdeki olaylar oluş sırasına göre sıralanırsa sıralama nasıl olur?

- A) 2 - 1 - 4 - 3 B) 1 - 3 - 4 - 2 C) 2 - 3 - 1 - 4

15. Aşağıdaki öğrencilerden hangisinin cümlesinde yazım **yanlışı** vardır?



A) Özgeler yakında İzmir'e taşınacaklar.



B) Polis, trafik kurallarına uymayan sürücülere ceza yazdı.



C) Bu akşam, Ayşe Hanım'la görüşeceğiz.

MATEMATİK TESTİ

1. Yandaki sürahi 8 su bardağı su ile dolmaktadır. Bir su bardağı ise 2 çay bardağı su ile dolmaktadır.

Buna göre, bu sürahi kaç çay bardağı su ile dolar?


- A) 12 B) 14 C) 16



2. Yandaki çıkarma işleminde çıkan sayı, farktan 16 fazladır.

Buna göre, bu çıkarma işleminde eksilen sayı kaçtır?

- A) 52 B) 48 C) 34

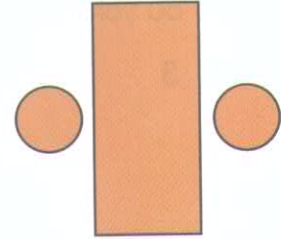


3. Babam, dedemden 28 yaş küçüktür. **Dedem 60 yaşında olduğuna göre, dedemle babamın yaşları toplam kaçtır?**

- A) 74 B) 86 C) 92

4. Yandaki düzlemsel şekiller kullanılarak aşağıdaki geometrik cisimlerden hangisi yapılabilir?

- A) Üçgen prizma B) Silindir C) Küre



5. Yandaki eşitlikte "☆" yerine hangi sayı gelmelidir?

- A) 6 B) 8 C) 10

$$30 - 18 = 4 + ☆$$

6. Dolu olarak hareket eden bir halk otobüsünden ilk durakta 38 yolcu inince otobüste 56 yolcu kalıyor. **Buna göre, başlangıçta otobüste kaç yolcu vardır?**

A) 94 B) 82 C) 76

7. Bir simitçi, fırından aldığı 90 simitin 35'ini sabah, 27'sini öğlen, geri kalanları da akşam doğru satmıştır.

Buna göre, akşama doğru satılan simit sayısı kaçtır?

A) 26 B) 28 C) 32

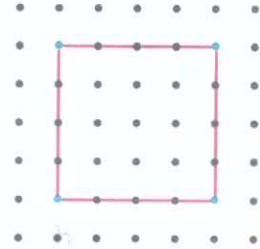
8. Eliflerin oturduğu apartman 3 katlıdır. Her katında 2 daire (ev) bulunmaktadır.

Her dairede 4 kişi yaşadığına göre, Eliflerin oturduğu apartmanda toplam kaç kişi yaşamaktadır?

A) 16 B) 20 C) 24

9. Yandaki geometrik şekil için aşağıda verilenlerden kaç tanesi doğrudur?

1. Mavi ile gösterilen kısımlar şeklin köşeleridir.
2. Kırmızı ile gösterilen kısımlar şeklin kenarlarıdır.
3. Bu şekil bir karedir.



A) 3 B) 2 C) 1

10. 18 kişilik bir sınıfta yapılacak bir etkinlik için öğretmenleri, öğrencileri 3'er kişilik gruplara ayırıyor.

Buna göre, her bir grupta kaç öğrenci olur?

A) 4 B) 6 C) 8

11. Merve, kırtasiyeye giderek tanesi 3 TL olan kurşun kalemlden 5 tane, tanesi 2 TL olan silgilerden 6 tane aldı.

Buna göre, Merve kırtasiyeye toplam kaç TL ödemiştir?

- A) 27 B) 25 C) 18

12. Aşağıdaki çarpma işlemlerinden hangisi yanlış yapılmıştır?

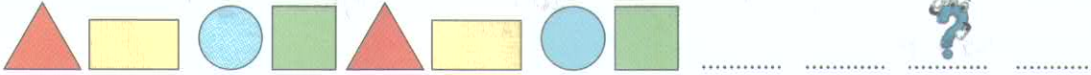
- A) $8 \times 1 = 8$ B) $12 \times 0 = 0$ C) $3 \times 9 = 21$

13. Yandaki hediye paketi aşağıdaki geometrik cisimlerden hangisine örnek olarak verilebilir?

- A) Küp
B) Küre
C) Dikdörtgen prizma



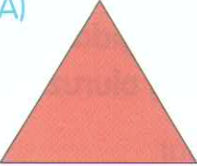


- 14.



Yukandaki şekil örüntüsü kuralına göre devam ettirilirse "?" ile gösterilen yere, aşağıdakilerden hangisi gelir?

- A)  B)  C) 

15. Aşağıdaki şekillerden hangisi iki eş parçaya ayılamaz?

- A)  B)  C) 

HAYAT BİLGİSİ TESTİ


1.



Yukandaki giyeceklerin ait olduğu mevsim hangi seçenekte verilmiştir?



2. "Annemizin annesi bizim neyiz olur?" sorusuna aşağıdaki öğrencilerden hangisi doğru cevap vermiştir?



3. Oyun oynamak için güvenli oyun alanlarını seçmeliyiz. Buna göre, aşağıdaki yerlerden hangisi oyun alanı olarak seçilirse güvenliğimizi tehlikeye atmış oluruz?

A) Çocuk parkları

B) Evimizin bahçesi

C) Cadde ve Sokaklar

4. Aşağıdakilerden hangisi yemekte uymamız gereken görgü kurallarından biri **değildir**?

- A) Sofraya herkesten önce oturup yemek yemeğe başlamak
- B) Yemekte çatal, bıçak ve kaşık kullanmak
- C) Kendi tabağımızdan yemek yemek

5. Aşağıdakilerden hangisi güvenli yolculuk için **olumsuz** bir davranıştır?

- A) Toplu taşıma araçlarının içinde gürültü yapmamak
- B) Üstü açık araçlarla yolculuk yapmamak
- C) Emniyet kemerini takmadan yolculuk yapmak

6. Aşağıdaki davranışlardan hangisi başarılarımızı **olumsuz** olarak etkiler?

- A) Öğretmenimiz ders anlatırken arkadaşlarımızla konuşmak
- B) Düzenli ve planlı ders çalışmak
- C) Ders araç - gereçlerimizi sınıfa eksiksiz getirmek

7.



1



2



3



4

Yukandaki numaralı taşıtların kullanıldığı alanlara göre, çeşitleri hangi seçenekte doğru verilmiştir?

- | | | | |
|---------------|---------------|---------------|---------------|
| _____ 1 _____ | _____ 2 _____ | _____ 3 _____ | _____ 4 _____ |
| A) Kara yolu | Demir yolu | Hava yolu | Deniz yolu |
| B) Demir yolu | Hava yolu | Kara yolu | Deniz yolu |
| C) Kara yolu | Deniz yolu | Hava yolu | Demir yolu |



8. Acil hastalık, yaralanmalar ve trafik kazaları gibi durumlarda ambulans çağırmak için aşağıdaki acil durum numaralarından hangisini aramalıyız?

A) 112

B) 110

C) 155

9.



Yukarıdaki meyve ve sebzelerin hangi mevsimde yetiştikleri numaralı yerlere yazılacaktır.

Buna göre, numaralı yerlere hangi seçenekte verilenler yazılmalıdır?

_____ 1 _____	_____ 2 _____	_____ 3 _____	_____ 4 _____
A) Sonbahar	Kış	İlkbahar	Yaz
B) Yaz	Sonbahar	Kış	İlkbahar
C) İlkbahar	Yaz	Sonbahar	Kış

10. • Doktorun yardımcısıdır. →1.....
 • Doktorun yazdığı ilaçları oradan alırsınız. →2.....
 • Hastalandığımızda bizi muayene eder. →3.....

Yukarıdaki ifadeleri karşılayan kavramlar hangi seçenekte doğru verilmiştir?

_____ 1 _____	_____ 2 _____	_____ 3 _____
A) Hizmetli	Hastane	Hasta bakıcı
B) Hemşire	Eczane	Doktor
C) Hasta bakıcı	Market	Hemşire

**HAYAT BİLGİSİ TESTİ BİTTİ!
İNGİLİZCE TESTİNE GEÇİNİZ.**

İNGİLİZCE TESTİ

1. Aşağıdaki diyalogda boş bırakılan yere hangi seçenek gelmelidir?




.....?

Three.



- A) How many purple pens are there
- B) How many blue pens are there
- C) How many red pens are there



2. Aşağıdaki resmi en iyi anlatan seçenek hangisidir?

- A) Let's walk.
- B) Let's jump.
- C) Let's play football.



3. Aşağıdaki eşleştirmelerden hangisi yanlışır?



Play hide and seek




Slide



Sing

4. Aşağıdaki diyalogda boş bırakılan yere hangi seçenek gelmelidir?



- A) How are you
- B) What color is it
- C) How many notebooks are there

5. Aşağıdaki boşluklara sırasıyla hangi seçenek gelmelidir?

four - - six -

- A) five - seven
- B) eight - nine
- C) three - five

**TEST BİTTİ.
CEVAPLARINIZI KONTROL EDİNİZ.**