



**AÇIK ÖĞRETİM ORTAOKULU  
2019 - 2020 ÖĞRETİM YILI  
1. DÖNEM SINAVI**

**0**

**07 ARALIK 2019 Saat: 14.00**

**2.**  
**OTURUM**

<u>DERSLER</u>	<u>SAYFA</u>	<u>DERSLER</u>	<u>SAYFA</u>
(553) SOSYAL BİLGİLER – 5	2	(733) SOSYAL BİLGİLER – 7	17
(554) İNGİLİZCE – 5	3	(735) İNGİLİZCE – 7	18
(554) ALMANCA – 5	5	(735) ALMANCA – 7	20
(554) FRANSIZCA – 5	7	(735) FRANSIZCA – 7	21
(555) DİN KÜL. VE AHLAK BİLGİSİ – 5	8	(736) DİN KÜL. VE AHLAK BİLGİSİ – 7	23
(630) TÜRKÇE – 6	10	(830) TÜRKÇE – 8	25
(631) MATEMATİK – 6	12	(831) MATEMATİK – 8	27
(632) FEN BİLİMLERİ – 6	14	(832) FEN BİLİMLERİ – 8	29

**ADAYLARIN DİKKATİNE!**

- Her ders için 20 soru bulunmaktadır. Bu oturumda **150** dakikalık cevaplama süreniz vardır. Sınav başladıktan sonra ilk **30** dakika tamamlanmadan dışarı çıkmayınız.
- Sınav sırasında çanta, cep telefonu, saat, kablosuz iletişim sağlayan cihazlar ve kulaklık, kolye, küpe, bilezik, yüzük, broş ve benzeri eşyalar ile her türlü elektronik ve/veya mekanik cihazları yanınızda bulundurmuyunuz. Bu araçları yanınızda bulundurmanız ve kopya çekmeye teşebbüs etmeniz hâlinde sınavınız geçersiz sayılacaktır.
- Başvuru şartlarını taşımadığınız hâlde sınava girmeniz, kopya çekmeniz, başka adayın sınav evrakını kullanmanız ve geçerli kimlik belgenizi ibraz edemediğiniz durumlarda sınavınız geçersiz sayılacaktır.
- Sınavın değerlendirilmesi aşamasında, bilgisayar ortamında yapılan kopya analizinde sistemin ikili ve/veya toplu kopya tespiti hâlinde sınavınız geçersiz sayılacaktır.
- Adaylar, sınav kurallarına ve salon görevlilerinin tüm uyarılarına uymak zorundadır. Kurallara ve uyarılara uymayan adayların sınavları geçersiz sayılacaktır.**
- Sınav başladıktan sonra adayların salon görevlileri ve birbirleri ile konuşmaları; kalem, silgi vb. şeyleri istemeleri yasaktır.
- Adaylar sınav süresince geçerli kimlik belgelerinden birinin aslını (fotoğraflı nüfus cüzdanı, süresi geçmiş pasaport veya sürücü belgesi) masalarının üzerinde bulundurmamak zorundadır.
- Sınav evraklarını teslim etmeyen, soru kitapçıklarının sayfalarından bir kısmını eksik teslim edenlerin sınavları geçersiz sayılacaktır.**
- Sınav başlamadan önce kitapçığın arkasındaki açıklamaları okuyunuz.

**BAŞLAYINIZ DENMEDEN SORU KİTAPÇIKLARINI AÇMAYINIZ.**

## 2. OTURUM

### (553) SOSYAL BİLGİLER – 5

1. Aşağıdakilerden hangisi sosyal bilgiler dersini öğrenen bir kişinin elde ettiği kazanımlardan biri değildir?

- A) Matematiksel işlemleri çözümler.
- B) Tarihi mirasına sahip çıkar.
- C) Ülkesini ve dünyayı yakından tanır.
- D) Farklılıklara karşı ön yargılı olmaz.

2. Sorumluluk duygusu gelişmiş bireylerde aşağıdaki davranışlardan hangisi gözlenmez?

- A) İşlerini zamanında yapar.
- B) Kararlarının arkasında durur.
- C) Hatalarının sonuçlarını üstlenir.
- D) Kararlarını başkaları verir.

3. Kişinin oy kullanması veya bir seçimde aday olabilmesini sağlayan temel hak aşağıdakilerden hangisidir?

- A) Sağlık
- B) Seçme ve seçilme
- C) Eğitim
- D) Konut dokunulmazlığı

4. Hititler'de kralın eşine Tavananna denirdi. Tavananna ülke yönetiminde söz sahibiydi.

**Buna göre Hititlerle ilgili aşağıdakilerden hangisi söylenebilir?**

- A) Tarım ve hayvancılığa önem vermişlerdir.
- B) Mimarı açıdan zengin bir yapıya sahiptirler.
- C) Devlet yönetiminde kadının rolü önemlidir.
- D) Taş yapımında oldukça ilerlemişlerdir.

5. Aşağıdakilerden hangisi ülkemizin doğal güzelliklerine örnektir?

- A) Selimiye Camisi
- B) Sümela Manastırı
- C) Efes Antik Kenti
- D) Pamukkale Travertenleri

6. Aşağıdakilerden hangisi dinî bayramlarımızdan biridir?

- A) Kurban Bayramı
- B) Cumhuriyet Bayramı
- C) Zafer Bayramı
- D) Ulusal Egemenlik ve Çocuk Bayramı

7. Yeryüzünün tamamının veya belirli bir kısmının belli oranlarda küçültülerek düzlem üzerine aktarılmasına - - - - denir.

**Cümledeki boşluğa aşağıdakilerden hangisi getirilmelidir?**

- A) lejant
- B) ölçek
- C) harita
- D) yükselti

8. Beyza'nın yaşadığı şehirde her mevsim yağış görülür. Bu özelliğe bağlı olarak da bölgenin bitki örtüsü genellikle ormandır. Burada yapılan evlerde genellikle ahşap malzemeler kullanılır.

**Buna göre Beyza'nın yaşadığı yerde görülen iklim aşağıdakilerden hangisidir?**

- A) Akdeniz
- B) Karadeniz
- C) Karasal
- D) Çöl

9. Doğal ortam, insan etkisi olmadan kendiliğinden meydana gelmiş oluşumdur.

**Buna göre aşağıdakilerden hangisi doğal ortamın unsurlarından biridir?**

- A) Fabrika
- B) Baraj
- C) Köprü
- D) Dağ

10. Albert Einstein'dan sonra dünyanın en önemli teorik fizikçisi olarak gösterilen İngiliz profesördür. 1960'ların başında tüm kas hareketlerini durduran bir hastalığa yakalanmasına rağmen çalışmalarına devam etmiştir.

**Hakkında bilgi verilen bilim insanı kimdir?**

- A) Stephen Hawking
- B) Thomas Edison
- C) John Logie Baird
- D) El Biruni

11. **Ahmet** : Bilgisayar aracılığıyla doğru bilgiye ulaşmak istiyorsan bazı önlemler almalısın.

**Sibel** : Ne gibi önlemler alabilirim?

**Ahmet** : - - - -

**Konuşmada boş bırakılan yere aşağıdakilerden hangisinin yazılması uygun değildir?**

- A) Güvenirliğini test ettiğin siteleri ziyaret etmelisin.
- B) Resmi sitelere ait olan sayfaları tercih etmelisin.
- C) Tek bir siteden aldığın bilgiyle yetinmelisin.
- D) Elde ettiğin bilgilerin güncelliğini kontrol etmelisin.

## 2. OTURUM

12. Bilimsel araştırma yapılarak hazırlanan bir ödevde aşağıdakilerden hangisinin verilmesi ödevin güvenilirliğini artırır?

- A) Önsöz  
B) Kaynakça  
C) Başlık  
D) Sonuç

13. Ormanların bakımının yapılması, yeniden yetiştirilmesi ve kereste, odun gibi ihtiyaçların sağlanmasını kapsayan ekonomik faaliyet aşağıdakilerden hangisidir?

- A) Madencilik  
B) Tarım  
C) Hayvancılık  
D) Ormancılık

14. Zeytinin yetiştirilip fabrikalarda zeytinyağı yapılması, ürünlerin geçirdiği hangi aşamaya örnek gösterilebilir?

- A) Tüketim  
B) Dağıtım  
C) Üretim  
D) Dolaşım

15. "Satışa sunulan her türlü mal ve hizmetin insan yaşamı ve sağlığı açısından kullanıcıya zarar vermeyecek durumda olması" anlamına gelen temel tüketici hakkımız aşağıdakilerden hangisidir?

- A) Sağlık ve güvenlik hakkı  
B) Seçme hakkı  
C) Bilgi edinme hakkı  
D) Ekonomik çıkarların korunması hakkı

16. Elif babasının yaptığı işi şu şekilde tanımlamaktadır: "İlin her yönden genel idare ve genel gidişini düzenlemek ve denetlemekten sorumludur."

**Buna göre Elif'in babasının işi aşağıdakilerden hangisidir?**

- A) Muhtar  
B) Kaymakam  
C) İlçe belediye başkanı  
D) Vali

17. Esra, öğretmeninin sorusuna şu şekilde cevap vermiştir: " Bir kişinin ya da toplumun başka kişi ya da toplumların yönetimi altında olmamasıdır."

**Buna göre Esra aşağıdaki kavramlardan hangisinin tanımını yapmaktadır?**

- A) Millî egemenlik  
B) Bağımsızlık  
C) Bayrak  
D) Katılım

18. İstiklal Marşımızın yazarı kimdir?

- A) Rauf Orbay  
B) Kazım Karabekir  
C) Ali Fuat Cebesoy  
D) Mehmet Akif Ersoy

19. Bir ülkenin ürettiği malları başka bir ülkeye satmasına verilen isim aşağıdakilerden hangisidir?

- A) İthalat  
B) İhracat  
C) İç ticaret  
D) Sermaye

20. • 1986 yılında UNESCO Dünya Miras Listesi'ne alınmıştır.  
• Hitit İmparatorluğu'nun başkenti olarak bilinir.

**Hakkında bilgi verilen tarihi varlığımız aşağıdakilerden hangisidir?**

- A) Troia Antik Kenti  
B) Safranbolu evleri  
C) Hattuşa  
D) Ani Arkeolojik Alanı

(554) İNGİLİZCE – 5

1-20. sorularda boş bırakılan yere uygun gelen kelime ya da ifadeyi işaretleyiniz

1.



It is a - - - - .

- A) candle  
B) balloon  
C) present  
D) beverage

2. Greg is 15 years old. He is from Russia. He speaks three - - - - English, Russian and Spanish.

- A) nationalities  
B) languages  
C) countries  
D) classes

## 2. OTURUM

3.



**Amanda has a/an - - - - class on Monday.**

- A) art                                      B) history  
C) physical education      D) social studies

4.



**The puppy is - - - - the library.**

- A) between                              B) in front of  
C) next to                                D) under

5. **Leo** : - - - -?

**Carla** : Fishing.

- A) Do you like fishing  
B) Do you know fishing  
C) Where do you swim at weekends  
D) What is your favourite hobby

6.



**This place is a - - - - .**

- A) stationery                              B) pharmacy  
C) bakery                                    D) library

7.



**Jonh - - - - a shower every morning.**

- A) cleans                                B) does  
C) has                                      D) leaves

8. **Eric** : - - - - breakfast?

**Jane** : At quarter past seven.

- A) Where do you have  
B) Where do you go for  
C) What do you have for  
D) What time do you have

9. **Doctor** : - - - -?

**Jack** : I have a fever.

- A) What's wrong with you  
B) What should you do  
C) Can I go to school  
D) Is Eliot at home

10. **Carol** : I have a sore throat. It hurts a lot.

**Ann** : You should - - - - .

- A) use your friend's mobile phone  
B) buy party decorations  
C) drink lemon and mint tea  
D) go to bed late

11. **John is a good man. He - - - - people.**

- A) helps                                    B) hates  
C) hurts                                    D) leaves

12. **Mary** : Let's watch a comedie movie.

**Mark** : - - - - I love comedies.

- A) What about an action movie?  
B) What kind of a movie is it?  
C) That sounds boring.  
D) That's great.

## 2. OTURUM

13. ---- is the month between August and October.

- A) February                      B) September  
C) November                      D) December

14.



I like playing ---- with my friends.

- A) blind man's buff              B) Chinese whisper  
C) hopscotch                      D) dodge ball

15.



Kevin and Carol are interested in ----.

- A) trekking                      B) cycling  
C) jogging                      D) fishing


16. **Bob** : ---- cycling in the afternoon?  
**Bruce** : Sure. I love it.

- A) Let's                              B) How about  
C) Do you want to              D) Would you like to

17. **Sarah** : Can I feed the lion, dad?  
**Carlos** : ---- because it is dangerous.

- A) Sure sweetie                  B) Don't forget  
C) That's a good idea          D) I'm afraid you cannot

18.



Jessica is ---- the cow now.

- A) collecting                      B) milking  
C) feeding                        D) watering

19. Turkish people ---- Youth's Day on May 19.

- A) celebrate                      B) decorate  
C) perform                        D) invite

20. Students decorate their classes with ---- on Children's Day.

- A) flags                              B) parades  
C) relatives                        D) fireworks

(554) ALMANCA – 5

1 - 19. sorularda boş bırakılan yere uygun gelen ek, kelime ya da ifadeyi işaretleyiniz.

1. In den Sommerferien ---- Yusuf in Deutschland.

- A) sein    B) im    C) bei    D) war

2. Sie ---- ihre Tante besucht.


- A) ist    B) hat    C) war    D) bist

3. **A:** ---- du mit dem Bus gefahren?  
**B:** Nein.

- A) Bist    B) Hast    C) Bin    D) Ist

## 2. OTURUM

4.



Das ist eine - - - -.

- A) Auto    B) Bahn    C) Bus    D) Flugzeug

5. Sie will nach München fahren, - - - - sie den Olympiadorf sehen will.

- A) dass    B) wann    C) dann    D) weil

6. Mein Bruder möchte Spanisch lernen, weil er in Spanien Fußball spielen - - - -.

- A) wollen    B) willst    C) will    D) wollt

7. - - - - Jahr, - - - - Lehrer, - - - - Tante

**Sözcüklerin önüne gelmesi gereken doğru "Artikel" ler aşağıdakilerden hangisidir?**

- A) das / der / die    B) der / die / das  
C) die / das / der    D) der / das / die

8. **A:** Hallo, ich komme aus Deutschland und spreche Deutsch.  
- - - - ?

**B:** Ich komme aus Frankreich und spreche Französisch.

- A) Wie heißt du    B) Wie alt bist du  
C) Wann kommst du    D) Woher kommst du

9. Istanbul liegt - - - - Europa und Asien.

- A) unter    B) zwischen  
C) neben    D) auf

10. Ich esse viel, - - - - ich Hunger habe.

- A) aber    B) dass    C) denn    D) weil

11. **A:** Entschuldigung, wo ist die Schule?

**B:** Biegen Sie hier nach links ab und dann nach rechts. - - - - Sie dann geradeaus und Sie kommen direkt zur Schule.

**A:** Vielen Dank. Auf Wiedersehen!

- A) Gehen    B) Lesen  
C) Rechts    D) Links

12. Die Bahnhofstraße ist nicht so lang - - - - die Schulstrasse.

- A) und    B) um    C) wie    D) zu

13. Mein Vater ist älter - - - - meine Mutter.

- A) so    B) als    C) dass    D) um

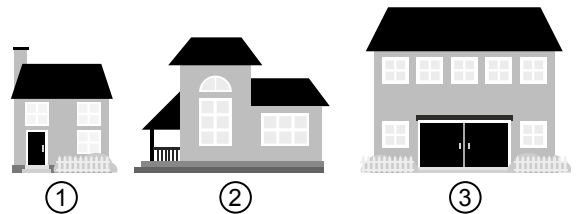
14. Heute möchten wir die Sultanahmet Moschee und Hagia Sophia - - - -.

- A) gesehen    B) gehen  
C) fahren    D) besichtigen

15. viel, - - - - , am meisten

- A) viele    B) mehreres  
C) mehr    D) vieles

16.



**Das 1. Haus ist hoch. Das 2. Haus ist höher. Das 3. Haus ist am - - - -.**

- A) größter    B) höchsten  
C) höher    D) größte

17. Der Bleistift gehört mein - - - - Freundin.

- A) -er    B) -em    C) -en    D) -e

18. **A:** Entschuldigung, - - - - komme ich zum Bahnhof?

- A) wer    B) was    C) wie    D) wem

19. Ali hat gesagt, - - - - er nach London fliegt.

- A) weil    B) wer    C) denn    D) dass

## 2. OTURUM

20. "Yeşil" renginin Almanca karşılığı aşağıdakilerden hangisidir?

- A) grün B) blau C) gelb D) rot

### (554) FRANSIZCA – 5

1- 12. sorularda boş bırakılan yerlere uygun gelen kelime ya da ifadeyi işaretleyiniz.

1. - - - - sont étudiantes.

- A) Elles B) Vous  
C) Tu D) Ils

2. **Martin** : Quel cours as-tu cet après-midi ?  
**François** : J'ai - - - - .

- A) la classe B) la tête  
C) les lunettes D) la géographie

3. **L'enfant** : Maman, comment il se déplace l'oiseau ?  
**La mère** : Il - - - - mon chéri.

- A) court B) saute C) vole D) grimpe

4. **Rana** : Qui est-ce ?  
**Ela** : - - - -

- A) Ce sont mes amis.  
B) C'est mon frère.  
C) C'est ton crayon.  
D) Ce sont ses livres.

5. **Serra** - - - - onze ans.

- A) a B) ai C) est D) sont

6. **Fabien** : Qu'est ce qu'elle aime faire ?  
**Jaqueline** : Elle aime jouer au - - - - .

- A) échecs B) son école  
C) dame D) natation

7. **Je rentre** - - - - Paris.

- A) en B) à C) aux D) au

8. **Aujourd'hui**, Tina travaille - - - - bureau.

- A) à la B) des  
C) de la D) au

9. **A** : - - - -

**B** : J'aime faire du vélo.

- A) Quelle est ta matière préférée ?  
B) Où est-ce que tu vas ?  
C) Quelle est ton activité préférée ?  
D) Quel temps fait-il ?

10. **Carmen** : - - - - jour est la fête des enfants ?  
**Melis** : C'est 23 avril.

- A) Quel B) Où  
C) Comment D) Quoi

11. **Elle est travailleuse comme** - - - - .

- A) un agneau B) une girafe  
C) un chat D) une abeille

12. **A** : - - - - je peux caresser ton chien ?  
**B** : Non, il n'aime pas ça.

- A) Est-ce que B) Comment  
C) Quels D) Où

13. **Aşağıdakilerden hangisi 16 rakamının yazılışdır?**

- A) six B) seize C) treize D) trois

14. **Aşağıdaki rakamlardan hangisinin yazılışı yanlış verilmiştir ?**

- A) 14-quatorze B) 9-neuf  
C) 7-sept D) 2-douze

15-20. soruları resmi dikkate alarak cevaplayınız.

15.



Il fait - - - - .

- A) pleut B) mauvais  
C) beau D) neige

## 2. OTURUM

16.



Luc étudie - - - - .

- A) au lycée                      B) au café  
C) dans le parc                D) au musée

17.




A : Qu'est-ce qu'ils font dans le jardin ?

B : - - - -

- A) Ils sautent.  
B) Ils jouent au ballon prisonnier.  
C) Ils jouent à colin-maillard.  
D) Ils jouent au cache-cache.

18.



Il est - - - - .

- A) cinq heures moins cinq  
B) cinq heures et demie  
C) cinq heures cinq  
D) cinq heures

19.



Elle a mal - - - - .

- A) aux dents                      B) à la tête  
C) au dos                          D) de la fièvre

20.



Il a - - - - .

- A) chaud                              B) froid  
C) soif                                  D) fatiguées

### (555) DİN KÜL. VE AHLAK BİLGİSİ – 5

1. "Allah'ın her şeyi yaratması" anlamına gelen sıfatı aşağıdakilerden hangisidir?  
A) Semi    B) Basar    C) Tekvin    D) Kelam
2. Aşağıdakilerden hangisi Allah'ın subûti sıfatlarından biridir?  
A) Hayat  
B) Kıdem  
C) Vahdaniyet  
D) Muhalefetün li-l havadis
3. "O, gökleri ve yeri örneksiz yaratandır. Bir işe hükmetti mi ona sadece 'ol' der, o da hemen oluverir."

(Bakara suresi, 117. ayet)

**Bu ayette Allah'ın aşağıdaki sıfatlarından hangisine değinilmemiştir?**

- A) Tekvin    B) Kudret    C) İrade    D) Semi



## 2. OTURUM

4. “Kullarım beni senden sorarlarsa bilsinler ki ben onlara çok yakıным. Bana dua ettiği vakit dua edenin dileğine karşılık veririm. O hâlde doğru yolu bulmaları için benim davetime uysunlar ve bana iman etsinler.”

(Bakara suresi, 186. ayet)

**Bu ayette dua ile ilgili aşağıdakilerden hangisi vurgulanmaktadır?**

- A) İbadetlerin özü olduğu  
B) Kapsayıcı olması gerektiği  
C) Allah katında değerinin olduğu  
D) Her zaman ve her yerde yapılabildiği

5. • İslam'ın beş şartından biridir.  
• Yılın belirli bir ayında yerine getirilen bir ibadettir.  
• İmsak vaktinden güneş batıncaya kadar hiçbir şey yiyip içmemektir.

**Hakkında bilgi verilen bu ibadet aşağıdakilerden hangisidir?**

- A) Namaz  
B) Oruç  
C) Hac  
D) Zekât

6. Müstehap; İslam dininin yapılmasını hoş gördüğü, tavsiye ettiği ama zorunlu kılmadığı davranışlardır.

**Buna göre aşağıdakilerden hangisi müstehap bir davranıştır?**

- A) Vitir namazı kılmak  
B) Doğru sözlü olmak  
C) Düzenli olmak  
D) Hacca gitmek

7. Dinen zengin olan Müslümanların şükretmek amacıyla ramazan ayında fakirlere vermeleri gereken vacip bir sadakadır.

**Tanımı yapılan bu kavram aşağıdakilerden hangisidir?**

- A) Fitre  
B) Hibe  
C) Fidyе  
D) Zekât

8. I. Teravîh  
II. İhram  
III. Tavaf  
IV. Kadir Gecesi

**Numaralanmış kavramlardan hangileri yalnız ramazan ayı ile ilgilidir?**

- A) I ve II.  
B) I ve IV.  
C) II ve III.  
D) III ve IV.

9. Hastalar hastalıkları geçince, yolcular yolculuktan döndükten sonra, hamile ve çocuk emziren kadınlar daha sonra tutamadıkları gün kadar oruçlarını tutarlar. Buna - - - - orucu denir.

**Bu tanımda boş bırakılan yere aşağıdakilerden hangisi getirilmelidir?**

- A) kaza  
B) adak  
C) aşure  
D) tekne

10. “Müslümanın Müslüman üzerinde altı hakkı vardır. Karşılaştığında selam verir, davetine icabet eder, aksırdığı zaman elhamdülillah derse yerhamükallah der, hastalandığında ziyaret eder, öldüğünde cenaze-sine katılır, kendisi için sevdiğini kardeşi için de sever.”

**Bu hadiste aşağıdaki nezaket kurallarından hangisine değinilmemiştir?**

- A) Vefalı olmak  
B) Empati yapmak  
C) Başkası için dua etmek  
D) Mahremiyete özen göstermek

11. **Aşağıdaki ayetlerin hangisinde adap kurallarına yer verilmemiştir?**

- A) “Ey iman edenler! Zannın çoğundan kaçının çünkü zannın bir kısmı günahdır. Birbirinizin kusurunu araştırmayın. Biriniz diğerinizi arkasından çekiştirmesin...”

(Hucurât suresi, 12. ayet)

- B) “Yeryüzünde yürüyen her canlının rızığı yalnızca Allah'a aittir. Allah o canlının durduğu yeri ve sonunda bırakılacağı mekânı bilir...”

(Hûd suresi, 6. ayet)

- C) “Ey iman edenler! Evlerinizden başka evlere izin almadan, seslenip sahiplerine selam vermeden girmeyiniz. Eğer düşünürseniz bu sizin için daha iyidir...”

(Nûr suresi, 27. ayet)

- D) “İnsanları küçümseyip yüz çevirme, yeryüzünde böbürlenerek yürüme. Allah kendini beğenip övünen hiç kimseyi sevmez.”

(Lokmân suresi, 18. ayet)

12. **Aşağıdaki sözlerden hangisi konuşma adabı ile ilgilidir?**

- A) Misafir gelecekmiş gibi evini, ölüm gelecekmiş gibi kalbini temiz tut.  
B) Allah yardım ederse kuluna, her iş girer yoluna.  
C) Sabır acıdır ancak meyvesi tatlıdır.  
D) Tatlı dil yılanı deliğinden çıkarır.

## 2. OTURUM

13. • Peygamber olup olmadığı tartışmalı bir konudur.  
• Kur'an-ı Kerim'de kendi adını taşıyan bir sure vardır.  
• İman, ibadet ve ahlak kuralları ile ilgili oğluna verdiği öğütler Müslümanlara örnek olmuştur.

**Bu bilgilerin tamamı aşağıdakilerden hangisi ile ilgilidir?**

- A) Hz. Nuh B) Hz. Yusuf  
C) Hz. Lokman D) Hz. İbrahim

14. Aşağıdakilerden hangisi Hz. Peygamber'in çocuklarından biri değildir?

- A) Rukiye B) Kâsım  
C) Zeynep D) Ali

15. Hz. Peygamber, evinde kesilen koyunun etinin küçük bir kısmı hariç geri kalanının fakir ve yoksullara dağıtıldığını öğrenince: "Demek ki o küçük parça hariç tamamı bize sevap olarak kalmıştır." buyurarak ihtiyaç sahiplerine yardım etmeyi teşvik etmiştir.

**Bu metinden Hz. Peygamber'in aşağıdaki özelliklerinden hangisine ulaşılır?**

- A) Liyakate önem verdiğine  
B) Merhamet sahibi olduğuna  
C) Kararlarını danışarak aldığına  
D) Olaylar karşısında sabırlı davrandığına

16. "Onlar cennet gençlerinin efendileridir. Onları seven beni sevmiş olur, onlara buğzeden bana buğzetmiş olur."

**Bu hadiste Hz. Peygamber'in kendilerinden söz ettiği kişiler aşağıdakilerden hangisidir?**

- A) Hz. Bilal - Hz. Zeyd  
B) Hz. Ömer - Hz. Osman  
C) Hz. Hasan - Hz. Hüseyin  
D) Hz. Fatma - Hz. Ümmü Gülsüm

17. Caminin avlusunda bulunan abdest almak için yapılan yere - - - - denir.

**Bu tanımda boş bırakılan yere aşağıdakilerden hangisi getirilmelidir?**

- A) mihrap B) şadırvan  
C) minber D) kürsü

18. Aşağıdaki eserlerden hangisi Yunus Emre'ye aittir?

- A) Vesiletü'n-Necât B) Mesnevi  
C) Makâlât D) Divan

19. Aşağıdakilerden hangisi dinin örf ve âdetlerimize etkisine örnek oluşturmaz?

- A) Kına geceleri  
B) Kandil geceleri  
C) Sünnet merasimleri  
D) Ramazan ve Kurban Bayramı

20. Aşağıdakilerden hangisi dinin mimariye etkisine örnektir?

- A) Mevlit B) Ezan C) Salâ D) Cami

### (630) TÜRKÇE – 6

1. Aşağıdakilerin hangisinde "derin" sözcüğü mecaz anlamda kullanılmıştır?

- A) Ben, vatanıma derin bir sevgiyle bağlıyım.  
B) Birçok ülke derin sularda araştırmalar yapıyor.  
C) Geceyi derin bir mağaranın içinde geçirdik.  
D) Köpek, toprağı kazıp kemiğı iyice derine gömdü.

2. • Sen dalgaya alıyorsun ama ben ciddi söylüyorum.  
• Hastanın durumu ciddiymiş, yoğun bakıma aldılar.  
• İnsan onun ciddi yüzüne bakınca korkuyor.

**Aşağıdakilerden hangisi "ciddi" sözcüğünün bu cümlelerde kazandığı anlamlardan biri değildir?**

- A) Güvenilir, sağlam  
B) Tehlikeli, endişe veren, vahim  
C) Gülmeyen  
D) Şaka yollu değil, gerçek

3. Bu ekip, gerçekten dişe dokunur çalışmalar yapmış.  
**Aşağıdakilerin hangisinde bu cümledeki deyimle aynı anlama gelen bir söz kullanılmıştır?**

- A) Bazen elektrik santralinde aksaklıklar yaşanıyordu.  
B) Yüksek makamlara gelebilmek için çok uğraşmıştı.  
C) Genç sanatçı şimdiye kadar önemli bir eser ortaya koymadı.  
D) İş yerimizde herkes birbirine saygılı davranır.

4. Aşağıdaki cümlelerin hangisinde terim anlamlı bir sözcük kullanılmıştır?

- A) Dinozorların yaşadığı zamanları çok merak ediyorum.  
B) Çocuklar, kas yapısının gelişmesi için spor yapmalı.  
C) Bazı ahtapotlar kendilerine yuva yapmayı da beceriyor.  
D) Bisikletlerimizle güzel bir orman gezisi yaptık.

## 2. OTURUM

5. Doktor beni muayene etti - - - bana iğne de vurdu.

**Bu cümlede boş bırakılan yere aşağıdakilerden hangisi getirilmelidir?**

- A) çünkü B) hatta  
C) fakat D) hâlbuki

6. İnsan, hayatının dörtte üçünü yapamayacağı şeyleri beklemekle geçirir.

**Aşağıdaki yargılardan hangisi bu cümleye anlamca en yakındır?**

- A) Amaçsızca yaşayanlar hiçbir zaman mutlu olamazlar.  
B) İnsan isteklerini belirlerken ölçülü olmalıdır.  
C) İsteklerimiz azaldığında yaşamamızın da bir anlamı kalmaz.  
D) Beklentilerine ulaşmak isteyen insanlar çok çalışmalıdır.

7. 1. Daha sonra bu fotoğrafların sulu boya resimlerini yapmış.  
2. 2015 yılında NASA'dan emekli olan astronot, şimdi bu sulu boya resimlerle sergi açmış.  
3. Görevi sırasında istasyonun penceresinden gördüğü manzaraların fotoğraflarını çekmiş.  
4. Nicole Stott 2009 yılında Uluslararası Uzay İstasyonunda görev yapmış.

**Numaralanmış cümlelerle anlamlı bir metin oluşturulmak istense sıralama aşağıdakilerden hangisi olur?**

- A) 2-1-4-3 B) 2-4-3-1  
C) 4-3-1-2 D) 4-2-1-3

8. Yeterince uyuyamadığımız gecelerin sabahında aynaya bakınca gözlerimizin altında koyu halkalar olduğunu görürüz. Bunların oluşmasında, genetik faktörler ve yaşam şekli etkilidir. Ama halkaların oluşumunun ardındaki asıl etken genlerimizdir. Örneğin genetik olarak devraldığımız bir özellik olan ten renginiz soluk ve cilt yapınız inceyse bu halkalar daha belirgin oluyor.

**Bu parçanın konusu aşağıdakilerden hangisidir?**

- A) Uykusuzluğun zararları  
B) Göz altındaki halkaların sebepleri  
C) Hastalıklarda genetik özelliklerin etkisi  
D) İnsanın yaşam şeklinin değişmesi

9. Gülmekte olan birine baktığımızda çoğunlukla yalnız olmadığını, biriyle konuşuyor olduğunu gördük. En çok da sevdiğimiz insanlarla birlikteyken gülüyoruz. Gülmek, toplumdaki insanların birbirleriyle ilişkilerinin sağlanmasını, grup içindeyken kendimizi güvende hissetmemizi sağlıyor.

**Bu parçadan aşağıdakilerden hangisi çıkarılmaz?**

- A) İnsan, kendisini yakın hissettiği kişilerin yanında daha fazla güler.  
B) Gülme eylemi, başka insanlarla iletişim hâlindeyken gerçekleşir.  
C) Öz güveni yüksek insanlar daha çok gülerler.  
D) Gülmek, sosyal bağların güçlenmesini sağlar.

10. Eskimoların dillerine baktığımızda kar ve buzla ilgili birçok sözcük, deyim görürsünüz. Aynı şey çölde yaşayan insanların dilleri için de geçerlidir. Duyularını, düşüncelerini daha çok kumla ilgili sözcüklerle anlatmaktadırlar. Bir adada yaşıyorsanız doğal olarak dilinizde de denizle ilgili deyimler çoğunluktadır. Sanırım hiç kimse bunun anormal bir durum olduğunu iddia edemez.

**Bu parçada asıl anlatılmak istenen aşağıdakilerden hangisidir?**

- A) Bazı toplumların sözcük dağarcığı kısıtlıdır.  
B) Duygu ve düşüncelerin aktarılmasında dil etkili araçtır.  
C) Diller, ait oldukları toplumların tarihini de yansıtır.  
D) Konuşulduğu coğrafya dilin şekillenmesinde etkilidir.

11. (1) Evi geçen sene bir emlakçıdan kiraladık. (2) Çatı sızdırdı, su borusu patladı, kombi bozuldu derken sıkıntısı bitmedi bir türlü. (3) Ev sahibini arayıp bunları yaptırmasını istediğimizde olumlu yanıt aldık. (4) Bu yanıtın sonra biz de imkânlarımızı zorlayıp ev alma fikrinden vazgeçtik.

**Bu parçada numaralanmış cümlelerin hangisinde bir bıkkınlık söz konusudur?**

- A) 1. B) 2. C) 3. D) 4.

12. Aşağıdaki cümlelerin hangisinde edat kullanılmıştır?

- A) Eğitimin sırrı, çocuğa saygı ile başlar.  
B) Birleşik olmayan her güç cılızdır.  
C) Arkadaş çok fakat gerçek dost azdır.  
D) Büyük bir ruhta her şey büyüktür.

## 2. OTURUM

13. Aşağıdaki cümlelerin hangisinde koşul-sonuç anlamı vardır?

- A) İnsan, hiçbir zaman umudunu yitirmemelidir.  
B) Bu işi nasıl yaptıklarını yerinde görelim.  
C) Öfkeni kontrol etmezsen zarar görürsün.  
D) İyi tanımadığın insanlarla asla ticaret yapma.

14. Aşağıdakilerin hangisinde yönelme (yaklaşma) hâlinde bulunan bir isim vardır?

- A) Nükleer atıkları o bölgeye götürüyorlar.  
B) Çocuk, yaşadığı kasabayı haritada gösterdi.  
C) Masasında, çiçek açmış bir kaktüs vardı.  
D) Ev almak için bankadan kredi çektiler.

15. Bizim mahallenin yardımsever insanları ( ) Onların hakkını nasıl ödeyeceğim ( ) Buldum ( ) Yapacağım şey şu ( ) Onları anlatan bir roman yazacağım.

**Bu parçada ayrıçla gösterilen yerlere sırasıyla aşağıdaki noktalama işaretlerinden hangileri getirilmelidir?**

- A) (...) (!) (.) (?) B) (:) (!) (...) (;)  
C) (!) (.) (:) (...) D) (...) (?) (!) (:)

16. Aşağıdaki cümlelerin hangisinde büyük harflerin kullanımı ile ilgili yazım yanlışı yapılmıştır?

- A) Han, Eskişehir iline bağlı ilçelerden biridir.  
B) Ankara Kalesi'ne çıkmayalı uzun zaman olmuştu.  
C) Bu sene de Cumhuriyet bayramı, tüm yurtta coşkuyla kutlandı.  
D) Pembe İncili Kaftan hikâyesini okudunuz mu?

17. Bizi geniş, temiz bir odaya aldılar.

1 2 3 4

**Bu cümledeki numaralanmış sözcüklerden hangisinin türü zamirdir?**

- A) 1. B) 2. C) 3. D) 4.

18. Ey mavi göklerin beyaz ve kızıl süsü,

1 2  
Kız kardeşimin gelinliği, şehidimin son örtüsü  
3 4

**Bu dizelerdeki altı çizili sözlerden hangisi isim tamlamasıdır?**

- A) 1. B) 2. C) 3. D) 4.

19. Tüccar bir Osmanlı ailesi tarafından yaptırılan bu üç katlı ahşap köşk, Akçakoca evlerinin en gösterişli örneğidir.

**Bu cümleden aşağıdaki sözlerden hangisi çıkarılırsa, cümle nesnel bir anlam kazanır?**

- A) Üç katlı B) En gösterişli  
C) Ahşap D) Tüccar

20. Dalgalandığın yerde ne korku ne keder...  
Gölgende bana da bana da yer ver!  
Sabah olmasın, günler doğmasın ne çıkar  
Yurda ay-yıldızının ışığı yeter.

**Bu dizelere hakim olan tema aşağıdakilerden hangisidir?**

- A) Karamsarlık B) Memleket özlemi  
C) Yalnızlık D) Bayrak sevgisi

### (631) MATEMATİK – 6

1.  $3^4$  ifadesi aşağıdakilerden hangisi ile toplanırsa sonuç 100'den küçük olur?

- A)  $2^5$  B)  $3^3$  C)  $4^2$  D)  $5^2$

2.  $75 \div 5 \cdot 3$  işleminin sonucu kaçtır?

- A) 5 B) 15 C) 23 D) 45

3. 12 ve 16'nın ortak katlarından biri aşağıdakilerden hangisidir?

- A) 96 B) 80 C) 64 D) 32

4. 29 sayısı aşağıdakilerden hangisi ile toplanırsa sonuç bir asal sayı olur?

- A) 8 B) 6 C) 4 D) 3

5.  $A = \{\text{Çarşamba, Cuma, Cumartesi}\}$  kümesi ile ilgili aşağıdakilerden hangisi yanlıştır?

- A)  $s(A) = 3$   
B)  $\text{Salı} \notin A$   
C)  $\text{Cuma} \in A$   
D)  $\text{Cumartesi} \notin A$

## 2. OTURUM

6.  $3, -2, 1, -4$  sayılarının doğru sıralanışı aşağıdakilerden hangisidir?

A)  $1 < -2 < 3 < -4$   
 B)  $-4 < -2 < 1 < 3$   
 C)  $-2 < -4 < 1 < 3$   
 D)  $-4 < 3 < -2 < 1$

7.  $4 + \frac{1}{3}$  işleminin sonucu kaçtır?

A)  $\frac{13}{3}$  B)  $\frac{8}{3}$  C)  $\frac{7}{3}$  D)  $\frac{5}{3}$

8. Bir sepetteki meyvelerin  $\frac{1}{2}$ 'i elma,  $\frac{1}{8}$ 'i portakal, geri kalanı ise mandalınadır.

**Buna göre sepetteki meyvelerin kaçta kaç mandalınadır?**

A)  $\frac{1}{6}$  B)  $\frac{1}{4}$  C)  $\frac{3}{8}$  D)  $\frac{7}{16}$

9.  $\frac{9}{20}$  kesrinin ondalık gösterimi aşağıdakilerden hangisidir?

A) 0,36 B) 0,45 C) 0,72 D) 0,9

10. Çözümlemiş hâli

$(3 \cdot 100) + (4 \cdot 1) + (3 \cdot \frac{1}{100}) + (4 \cdot \frac{1}{1000})$  olan sayının ondalık gösterimi aşağıdakilerden hangisidir?

A) 31,034 B) 34,304  
 C) 301,34 D) 304,034

11. Bir sınıftaki 32 öğrencinin 12'si İngilizce, geri kalanı ise Almanca kursuna gitmektedir.

**Buna göre bu sınıftaki Almanca kursuna giden öğrenci sayısının toplam öğrenci sayısına oranı kaçtır?**

A)  $\frac{1}{8}$  B)  $\frac{3}{8}$  C)  $\frac{5}{8}$  D)  $\frac{7}{8}$

12.  $\frac{4m+3}{5}$  cebirsel ifadesinin  $m = 3$  için değeri kaçtır?

A) 2 B) 3 C) 4 D) 5

13.  $32, 48, 76, 112, 14, 16$

**Yukarıdaki veri grubunun açıklığı kaçtır?**

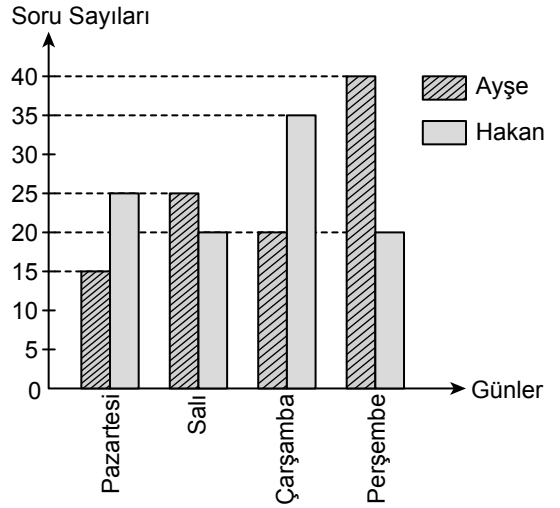
A) 16 B) 36 C) 98 D) 112

14. Ölçüsü  $35^\circ$  olan açının bütünler açısının ölçüsü kaç derecedir?

A) 155 B) 145 C) 135 D) 125

15. Ayşe ve Hakan'ın dört günde çözdüğü soru sayılarının günlere göre dağılımını gösteren grafik aşağıda verilmiştir.

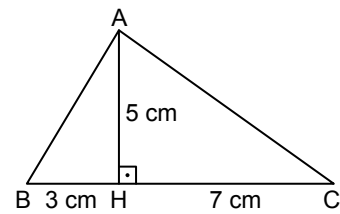
**Grafik:** Ayşe ve Hakan'ın Dört Günde Çözdüğü Soru Sayıları



**Grafığe göre Ayşe ve Hakan'ın çözdüğü soru sayıları arasındaki farkın en fazla olduğu gün hangisidir?**

A) Pazartesi B) Salı  
 C) Çarşamba D) Perşembe

- 16.



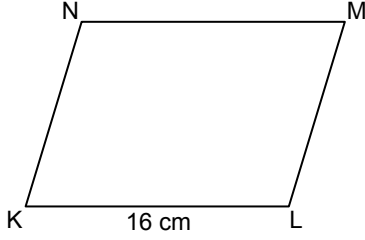
Yukarıdaki ABC üçgeninde  $[AH] \perp [BC]$  ve  $|BH| = 3$  cm,  $|HC| = 7$  cm,  $|AH| = 5$  cm'dir.

**Buna göre ABC üçgeninin alanı kaç santimetrekaredir?**

A) 25 B) 40 C) 50 D) 55

## 2. OTURUM

17.



Şekildeki KLMN paralelkenarının alanı  $192 \text{ cm}^2$  ve  $|KL| = 16 \text{ cm}$ 'dir.

**Buna göre [KL] kenarına ait yükseklik kaç santimetredir?**

- A) 6      B) 12      C) 18      D) 24

18. Yarıçapının uzunluğu  $r$  olan çemberin uzunluğu  $2\pi r$ 'dir.

**Yarıçapının uzunluğu 14 cm olan çemberin uzunluğu kaç santimetredir?**

( $\pi$  yerine  $\frac{22}{7}$  alınız.)

- A) 22      B) 44      C) 66      D) 88

19. Kare prizmanın hacmi taban alanı ile yüksekliğinin çarpımıdır.

**Taban alanı  $25 \text{ cm}^2$  ve hacmi  $425 \text{ cm}^3$  olan kare prizmanın yüksekliği kaç santimetredir?**

- A) 15      B) 17      C) 23      D) 25

20.  $420 \text{ cm}^3 + 3 \text{ dm}^3$  kaç mililitredir?

- A) 3420      B) 720      C) 423      D) 45

### (632) FEN BİLİMLERİ – 6

1. Güneş sisteminde bulunan gezegenler; temel özellikleri, Güneş'e olan uzaklıkları ve büyüklükleri bakımından birbirinden farklıdır.

- İçsel gezegendir.
- Uydu ve halkası yoktur.
- Güneş'e yakınlığı bakımından ikinci sıradadır.
- Büyüklük bakımından altıncı sıradadır.
- Halk arasında "Çoban Yıldızı" olarak bilinir.

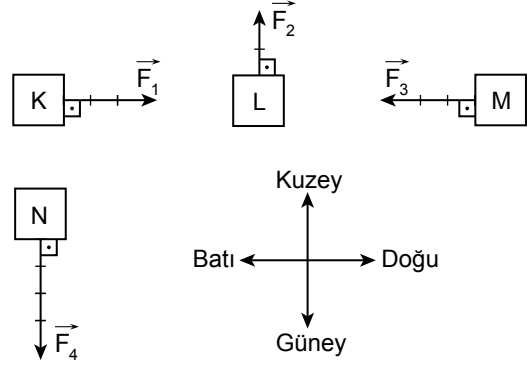
**Verilen özelliklere sahip gezegen aşağıdakilerden hangisidir?**

- A) Merkür      B) Venüs  
C) Dünya      D) Mars

2. Ay tutulması ile ilgili aşağıdakilerden hangisi doğrudur?

- A) Dünya, Güneş ile Ay arasındadır.  
B) Ay, Güneş ve Dünya arasındadır.  
C) Ay, Güneş'ten Dünya'ya gelen ışınları engeller.  
D) Ay tutulması her ay gerçekleşir.

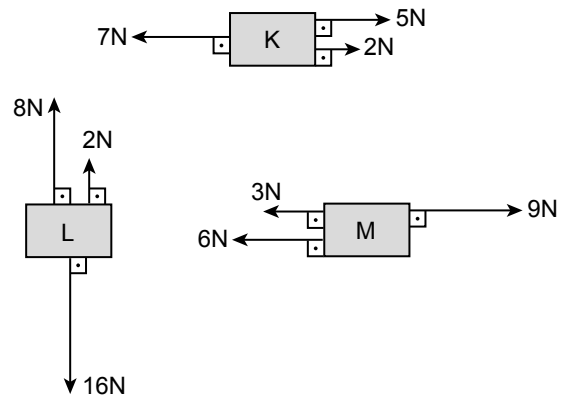
3. Şekildeki cisimlere etki eden  $\vec{F}_1, \vec{F}_2, \vec{F}_3$  ve  $\vec{F}_4$  kuvvetleri, eşit bölmelendirilmiş ve her bir bölme 1 N'u ifade etmektedir.



**Buna göre K, L, M ve N cisimlerine etki eden kuvvetlerin yönü ve büyüklüğü aşağıdakilerin hangisinde doğru verilmiştir?**

- A) K cisimine Batı yönünde 2 N'luk kuvvet etki etmektedir.  
B) L cisimine Güney yönünde 1 N'luk kuvvet etki etmektedir.  
C) M cisimine Doğu yönünde 4 N'luk kuvvet etki etmektedir.  
D) N cisimine Güney yönünde 4 N'luk kuvvet etki etmektedir.

4. Başlangıçta hareketsiz duran özdeş K, L ve M cisimlerine etki eden kuvvetler şekilde gösterilmiştir.

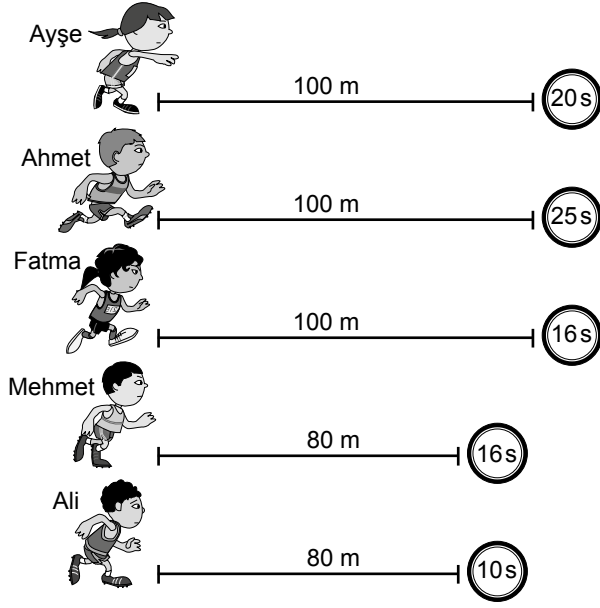


**Buna göre bu cisimlerden hangileri kuvvet uygulandıktan sonra da hareketsiz kalmaya devam eder?**

- A) K ve L      B) L ve M  
C) K ve M      D) K, L ve M

## 2. OTURUM

5. Şekilde beş öğrencinin bir yarışta aldıkları yollar ve bu yolları alırken geçen süre verilmiştir.



Buna göre aşağıdakilerden hangisi yanlıştır?

- A) Ayşe, Ahmet'ten daha süratlidir.  
 B) Fatma, Mehmet'ten daha süratlidir.  
 C) Ali, Mehmet'ten daha süratlidir.  
 D) Ahmet, Fatma'dan daha süratlidir.

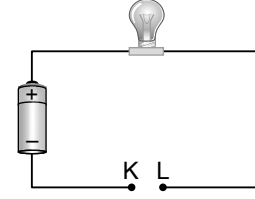
6. Ses dalgaları aşağıdaki ortamların hangisinde diğerlerine göre daha süratli yayılır?

- A) Cam  
 B) Su  
 C) Hava  
 D) Boşluk

7. Aşağıdakilerden hangisi ses yalıtımı amacıyla yapılan işlemlerden biri değildir?

- A) Sinema salonlarının duvarlarında sesin soğrulmasını sağlayan malzemeler kullanılması  
 B) Otoyol kenarlarına ses bariyerleri konulması  
 C) Binaların açık renk boya ile boyanması  
 D) Araba egzozlarının odacık sayısının artırılması

8. Bir basit elektrik devresinde K ve L test uçları şekildeki gibi açık bırakılıyor.



Buna göre test uçları bir kap içinde bulunan aşağıdaki sıvılardan hangisine batırıldığında ampul ışık verir?

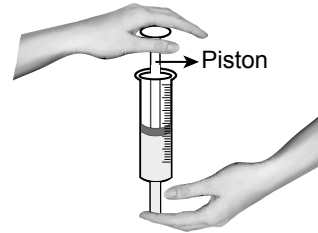
- A) Şekerli su  
 B) Tuzlu su  
 C) Saf su  
 D) Alkollü su

9. I. Filaman kalınlığı artırılmalıdır.  
 II. Filaman uzunluğu artırılmalıdır.  
 III. Filaman kalınlığı azaltılmalıdır.

Bir ampulün parlaklığının artırılması için verilenlerden hangileri tek başına yapılmalıdır?

- A) Yalnız I  
 B) Yalnız II  
 C) I ve II.  
 D) II ve III.

10. Ucuna iğne takılmamış içi hava dolu olan bir enjektörün (şırınganın) açıkta kalan ucu şekildeki gibi parmakla kapatılıyor. Pistondan bastırıldığında enjektörün bir miktar ilerlediği görülüyor.



Bu gözlemden yola çıkılarak;

- I. gazlar sıkıştırılabilir,  
 II. sıvılar sıkıştırılabilir,  
 III. gaz tanecikleri arasında boşluk bulunur

şeklinde yapılan yorumlardan hangileri doğrudur?

- A) Yalnız I.  
 B) I ve II.  
 C) I ve III.  
 D) I, II ve III.

## 2. OTURUM

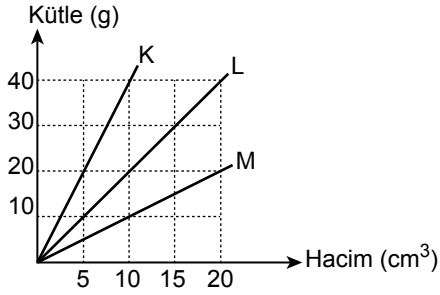
11. Saf bir maddenin hâl değişimi sırasında aşağıdaki olaylar gerçekleşmektedir.

- Tanecikler arasındaki boşluk ilk duruma göre artıyor.
- Taneciklerin sürati artıyor.

**Buna göre madde ile ilgili aşağıdakilerden hangisi doğrudur?**

- A) Gaz hâlden katı hâle geçmiştir.
- B) Sıvı hâlden gaz hâle geçmiştir.
- C) Sıvı hâlden katı hâle geçmiştir.
- D) Gaz hâlden sıvı hâle geçmiştir.

12. Grafikte K, L ve M sıvılarına ait kütle ve hacim değerleri verilmiştir.



**Buna göre grafikten yararlanarak K, L ve M sıvılarının yoğunlukları ile ilgili aşağıdakilerden hangisi doğrudur?**

- A) K sıvısının yoğunluğu L'den fazladır.
- B) M sıvısının yoğunluğu K'den fazladır.
- C) M sıvısının yoğunluğu L'den fazladır.
- D) L sıvısının yoğunluğu  $1 \text{ g/cm}^3$ 'tür.

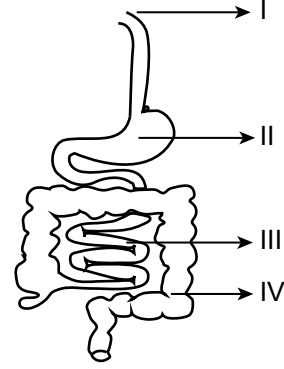
13. Isı yalıtım malzemelerinin seçiminde dikkat edilmesi gereken özellikler ile ilgili aşağıdakilerden hangisi doğrudur?

- A) Yanıcı olmalıdır.
- B) İnsan sağlığına zarar vermelidir.
- C) Kullanımı kolay olmalıdır.
- D) Fiyatı yüksek olmalıdır.

14. Aşağıdakilerden hangisi yenilenebilir enerji kaynaklarından biridir?

- A) Kömür
- B) Jeotermal
- C) Petrol
- D) Doğal gaz

15. Sindirim sistemini oluşturan organlar numaralandırılarak şekilde gösterilmiştir.



**Besinlerin sindiriminin tamamlandığı organ kaç numara ile gösterilmiştir?**

- A) I
- B) II
- C) III
- D) IV

16. Solunum sistemine ait bazı organların özellikleri verilmiştir.

- Yapısında üst üste dizilmiş kıkırdak halkalar bulunur.
- İçindeki ses tellerinin yardımıyla ses oluşumunu sağlar.
- Yapısında duvarları ince bir hücre tabakasından oluşmuş hava keseleri bulunur.

**Buna göre aşağıdaki organlardan hangisine ait özellik verilmemiştir?**

- A) Soluk borusu
- B) Gırtlak
- C) Akciğer
- D) Yutak

17. Düz kaslarla ilgili;

- I. isteğimizle çalışır,
- II. kan damarlarının yapısında bulunur,
- III. yavaş çalışır

**bilgilerinden hangileri doğrudur?**

- A) Yalnız I.
- B) I ve II.
- C) II ve III.
- D) I, II ve III.

18. Vücuttaki suyun ve madensel tuzların terleme yolu ile vücut dışına atıldığı organ aşağıdakilerden hangisidir?

- A) Akciğerler
- B) Kalın bağırsak
- C) Böbrek
- D) Deri



## 2. OTURUM

19. İç salgı bezlerinden salgılanan hormonlara ait bilgiler verilmiştir.

- ▲ - büyüme, gelişme ve vücudumuzdaki kimyasal olayların düzenlenmesinde rol oynar.
- ● - heyecan, öfke, korku durumlarında miktarı artar.

Buna göre ▲ ve ● ile belirtilen hormonlar aşağıdakilerden hangisinde verilmiştir?

- |             |           |
|-------------|-----------|
| ▲           | ●         |
| _____       | _____     |
| A) tiroksin | insülin   |
| B) glukagon | tiroksin  |
| C) insülin  | glukagon  |
| D) tiroksin | adrenalin |

20. Bazı göz kusurlarına sahip bireylerde görülen özellikler şu şekildedir.

- Kırmızı ve yeşil renkleri ayırt edemezler.
- Uzağı iyi gördükleri halde yakını iyi göremezler.
- Yakını iyi gördükleri halde uzağı iyi göremezler.

Buna göre aşağıdaki kusurlardan hangisine ait bilgi verilmemiştir?

- |                 |                   |
|-----------------|-------------------|
| A) Astigmatlık  | B) Hipermetropluk |
| C) Renk körlüğü | D) Miyopluk       |

### (733) SOSYAL BİLGİLER – 7

1. Mevlâna'nın "Aynı dili konuşanlar değil, aynı duyguları paylaşanlar anlaşabilir." sözünde aşağıdaki kavramlardan hangisi vurgulanmaktadır?

- |                |            |
|----------------|------------|
| A) Kalıp yargı | B) Önyargı |
| C) Empati      | D) Kamuoyu |

2. Kişiler arası ilişkilerde kullandığımız yargılayıcı, suçlayıcı sözler iletişimi olumsuz etkiler. Bu tür iletişime "sen dili" denir.

Buna göre aşağıdaki ifadelerden hangisi "sen dili" ne örnek olarak gösterilebilir?

- |   |
|---|
| A) "Sorumluluk almaktan sürekli kaçırıyorsun!"                  |
| B) "Gelmediğinde seni merak ediyorum!"                          |
| C) "Kavgada ettiğinde senin için endişeleniyorum!"              |
| D) "Yemeğini yemediğinde hastalanacaksın diye endişeleniyorum!" |

3. Radyo, televizyon ve genel ağ faaliyetlerini düzenlemek ve denetlemekle görevli kurum aşağıdakilerden hangisidir?

- |        |         |         |         |
|--------|---------|---------|---------|
| A) TRT | B) RTÜK | C) TİKA | D) TEMA |
|--------|---------|---------|---------|

4. Osmanlı divan teşkilatında bütçenin hazırlanmasından ve devletin diğer malî işlerinden sorumlu kişi aşağıdakilerden hangisidir?

- |                |              |
|----------------|--------------|
| A) Kazasker    | B) Defterdar |
| C) Şeyhülislam | D) Nişancı   |

5. Aşağıdakilerden hangisi coğrafi keşiflerin dini sebeplerinden biridir?

- |  |
|--|
| A) Coğrafya bilgisinin ilerlemesi                |
| B) Pusulanın geliştirilmesi                      |
| C) Gemi yapım tekniklerinin ilerlemesi           |
| D) Avrupalıların Hristiyanlığı yaymak istemeleri |

6. Şehirlerde kurulan fabrikalar yeni iş alanları oluşturdu. Daha iyi şartlarda yaşamak isteyen köylüler şehirlere göç etmeye başladı. Böylelikle köylerde nüfus azalırken şehirlerde nüfus artışı gerçekleşti. Sayısı yüz binleri bulan işçiler, işçi sınıfını oluşturdu.

Verilen metne uygun başlık aşağıdakilerden hangisidir?

- |                                  |
|----------------------------------|
| A) Sanayi İnkılabının Sonuçları  |
| B) Rönesans'ın Sebepleri         |
| C) Reform'un Öncüleri            |
| D) Fransız İhtilali'nin Etkileri |

7. Aşağıdakilerden hangisi Osmanlı Devleti'nde eğitim alanında yapılan yeniliklerden biridir?

- |  |
|--|
| A) Yeniçeri Ocağı'nın kaldırılması         |
| B) Çiçek aşısının uygulanması              |
| C) İlk resmi gazetenin çıkarılması         |
| D) Avrupa tarzında yeni okulların açılması |

8. "Bir kilometrekareye düşen insan sayısı" olarak ifade edilen kavram aşağıdakilerden hangisidir?

- |              |                    |
|--------------|--------------------|
| A) Yüzölçümü | B) Rakım           |
| C) Ölçek     | D) Nüfus yoğunluğu |

9. Hasan, ülkesindeki karışıklıklar nedeniyle ailesiyle başka ülkeye gitmiştir.

Verilen göç örneği aşağıdakilerden hangisine aittir?

- |               |                  |
|---------------|------------------|
| A) Beyin göçü | B) Mülteci göçü  |
| C) İç göç     | D) Mevsimlik göç |

## 2. OTURUM

10. İnsan Hakları Evrensel Bildirgesi'nde yer alan "Herkesin bir devletin toprakları üzerinde serbestçe dolaşma ve oturma hakkı vardır."maddesi sahip olduğumuz hangi hak ve özgürlükle ilgilidir?

- A) Dilekçe hakkı
- B) Konut dokunulmazlığı hakkı
- C) Yerleşme ve seyahat özgürlüğü
- D) Düşünce, kanaat ve ifade özgürlüğü

11. Tarihte kullanılan ilk yazı aşağıdaki medeniyetlerden hangisine aittir?

- A) Sümerlere
- B) Lidyalılara
- C) Babillere
- D) Friglere

12. "Tıbbın Üstadı" olarak anılan Türk-İslam bilim insanı aşağıdakilerden hangisidir?

- A) Ali Kuşçu
- B) İbn Sina
- C) Kâtip Çelebi
- D) Piri Reis

13. Aşağıda verilen cümlelerden hangisinin bilimsel çalışmalara destek veren ifadelerden biri olduğu söylenemez?

- A) İcat çıkarma başımıza!
- B) Bu fikri çok beğendim.
- C) Doğru bir yöntem izlemişsin.
- D) Daha fazla nasıl geliştirebiliriz?

14. Aşağıdakilerden hangisinin tarımı destekleyen kurum ve kuruluşlarımızdan biri olduğu söylenemez?

- A) Tarım İşletmeleri Genel Müdürlüğü
- B) Türkiye Tarım Kredi Kooperatifleri
- C) Dünya Sağlık Örgütü
- D) GAP İdaresi Başkanlığı

15. - - - -, bireylerin yardımlaşma amacıyla sahip oldukları servet veya gelirin bir kısmını gönüllü olarak kamu yararına harcama gayesiyle ortaya çıkıştır.

Cümlede boş bırakılan yere aşağıdakilerden hangisi getirilmelidir?

- A) Tarım
- B) Vakıf
- C) Kamuoyu
- D) Ticaret

16. Aşağıdakilerden hangisi demokrasinin temel ilkelerinden biri değildir?

- A) Çoğulculuk
- B) Eşitlik
- C) Özgürlük
- D) Kısıtlama

17. Eski Türklerde siyasi, askerî ve ekonomik kararların alındığı meclise verilen isim aşağıdakilerden hangisidir?

- A) Kurultay
- B) Töre
- C) Reaya
- D) Enderun

18. Ülkemizde sosyal güvencesi olmayan yaşlıların emekli aylığına bağlanması devletimizin hangi temel niteliğiyle ilişkilidir?

- A) Demokratik devlet
- B) Sosyal devlet
- C) Laik devlet
- D) Hukuk devleti

19. 15 Haziran 1997 tarihinde İstanbul'da yapılan Devlet ve Hükümet Başkanları Zirvesi'nde resmen kurulan kuruluş aşağıdakilerden hangisidir?

- A) Avrupa Birliği
- B) Birleşmiş Milletler
- C) Gelişen Sekiz Ülke
- D) Ekonomik İşbirliği Teşkilatı

20. Atmosfere salınan gazların neden olduğu sera etkisiyle ortalama sıcaklıklarda görülen artış aşağıdakilerden hangisiyle ifade edilir?

- A) Açlık
- B) Göç
- C) Nanoteknoloji
- D) Küresel Isınma

(735) İNGİLİZCE – 7

1-20. sorularda boş bırakılan yere uygun gelen kelime ya da ifadeyi işaretleyiniz

1.



My sister prefers watching - - - .

- A) news
- B) cartoons
- C) documentaries
- D) sports

## 2. OTURUM

2.



It is a - - - - .

- A) galaxy                      B) star  
C) meteor                      D) rocket

3. Kate doesn't like meeting new people. She is - - - - .

- A) shy                          B) slim  
C) creative                      D) helpful

4. Mark : What does your new friend look like?  
Edward : He - - - - .

- A) is thirteen years old  
B) is funny and cheerful  
C) has got a lot of friends  
D) has got dark hair and hazel eyes

5. Baseball is a/an - - - - sport.

- A) team                          B) indoor  
C) succesful                      D) underwater

6. Sarah : - - - - ?

Jason : Twice a week.

- A) Which sports do you do  
B) What is your favourite sport  
C) How often do you play tennis  
D) Where do you go swimming

7.



Arthur and Amanda - - - - on 24<sup>th</sup> of June.

- A) got mad                      B) got married  
C) were born                      D) were awarded

8. Amy : Where was Gary born?

Linda : He was born in - - - - .

- A) 2019                          B) America  
C) August                          D) 2 weeks

9. I'm a reptile and a carnivore. I am a/an - - - - .

- A) owl                          B) lion  
C) dolphin                          D) snake

10. To protect the animals and their habitat, we shouldn't - - - - .

- A) pollute the air or the water  
B) plant more trees  
C) feed street animals  
D) watch documentaries

11. Peter : What do you think about commercials on TV?

Kate : - - - - .

- A) She prefers sitcoms  
B) He likes watching TV series  
C) I think they are boring  
D) I hate watching the news

12. Wilma : Hi, Rob! I am organizing a graduation party. - - - - you like to join us?

Rob : That sounds great.

- A) Can                              B) Should  
C) Must                              D) Would

13.



These are - - - - .

- A) beverages                      B) costumes  
C) party hats                      D) invitation cards

## 2. OTURUM

14. **Henry** : What will happen in the future?  
**George** : I think, - - - - .

A) we travelled around the world  
B) I prefer watching documentaries  
C) people will live on other planets  
D) I like magazines about clean water

15. **In the future, people will wear breathing masks to protect themselves from - - - - .**

A) sunlight                      B) microchips  
C) websites                      D) air pollution

16. **If you want to see the paintings, you can go to a/an - - - - .**

A) bakery                      B) grocery  
C) coffee shop                      D) art gallery


17. **Linda went to the - - - - to withdraw some money.**

A) bank                      B) museum  
C) beauty saloon                      D) police station

18. **We should recycle plastics and bottles to protect the - - - - .**

A) deforestation                      B) pesticide  
C) environment                      D) pollution


19.



**We mustn't - - - - .**

A) plant trees                      B) pollute the seas  
C) recycle paper                      D) protect wildlife

20.



**Mercury is the - - - - planet to the Sun.**

A) close                      B) closer  
C) closest                      D) as close as

(735) ALMANCA – 7

1 - 18. sorularda boş bırakılan yere uygun gelen ek, kelime ya da ifadeyi işaretleyiniz.

1. **A:** Hallo, Frau Yilmaz. Wie geht es ihrem Vater?  
**B:** Danke, es geht - - - - gut.

A) ihr                      B) ihm                      C) ihn                      D) ihre

2. **A:** Thomas! Kannst du mir - - - - Bleistift geben?  
**B:** Nein. Ich habe nur - - - - Bleistift.

A) ein / eine                      B) eine / einer  
C) einer / einen                      D) einen / einen

3. **A:** Ist - - - - Brief für deinen Freund?  
**B:** Nein, er ist für meine Großmutter.

A) dieser                      B) dieses  
C) diese                      D) diesen

4. **Petra - - - - heute Abend nicht kommen.**

A) hat                      B) kannst                      C) ist                      D) will

5. **Donnerstag, - - - - , Samstag**

A) Mittwoch                      B) Sonntag  
C) Freitag                      D) Dienstag

6. **Ich gratuliere - - - - zum Geburtstag. (der Junge)**

A) ihr                      B) ihm                      C) ihnen                      D) ihre

7. **Klaus hat am - - - - Geburtstag. (25 Kasım)**

A) fünfundzwanzigsten November  
B) fünfzehnten November  
C) einundzwanzigsten Oktober  
D) zweiundzwanzigsten Mai

8. **Ich - - - - gern im Supermarkt - - - - .**

A) kommt / an                      B) kommt / zurück  
C) kaufe / ein                      D) fahre / ab

## 2. OTURUM

9. Ayşe - - - - um 3 Uhr nach Hause - - - -.

- A) kommen / an                      B) kommt / zurück  
C) fahren / ab                        D) kaufen / ein

10. Die Waschmaschine ist - - - -. (Banyo)

- A) im Wohnzimmer                  B) im Wasser  
C) in der Toilette                    D) im Badezimmer

11. Kann ich - - - - etwas fragen, Herr Vogel?

- A) Sie            B) sein            C) sich            D) ich

12. A: - - - - ist er geboren?

B: In Ankara.

- A) Was            B) Wer            C) Wo            D) Wie viel

13. Was haben Sie verloren? Ich habe - - - - verloren.

- A) meinem Stift                      B) meinen Stift  
C) mein Stifte                        D) meines Stifte

14. A: Wann - - - - du ins Kino gehen?

B: Am Freitag Abend.

- A) werde            B) ist            C) kann            D) willst

15. A: - - - - ihr Fußball spielen?

B: Nein, wir wollen Basketball spielen.

- A) Wollt                                  B) Willst  
C) Wollen                                D) Will

16. Serpil hat - - - - 10. Juli Geburtstag.

- A) in            B) im            C) am            D) um

17. A: Wie - - - - dir das Essen?

B: Sehr gut.

- A) isst                                    B) trinkt  
C) kocht                                 D) schmeckt

18.




Der Schüler - - - - an die Tafel.

- A) ist                                      B) macht  
C) schreibt                                D) kocht

19. "2 Şubat'ta" ifadesinin Almanca karşılığı hangi seçenekte doğru verilmiştir?

- A) Am zweiten Februar  
B) Am zwölften Januar  
C) Am zweiten März  
D) Am zwanzigsten April

20.



Was ist er von Beruf?

- A) Lehrer                                  B) Maler  
C) Arzt                                    D) Krankenschwester

(735) FRANSIZCA – 7

1 - 15. sorularda boş bırakılan yerlere uygun gelen kelime ya da ifadeyi işaretleyiniz.

1. Ankara est la capitale - - - - Turquie.

- A) du            B) en            C) de la            D) au

2. Je suis allé - - - - avion - - - - Paris.

- A) en / à                                  B) sur / à  
C) en / en                                 D) à / à

3. Sa famille est très - - - -.

- A) amusant                              B) actifs  
C) heureux                                D) sympathique

4. Mon chien est méchant - - - - les étrangers.

- A) par            B) avec            C) et            D) de

## 2. OTURUM

5. Hier, elle - - - - dans la piscine.

- A) nage                      B) va nager  
C) a nagé                    D) nagera

6. J'ai peu d'amis. Mais Arnaud a beaucoup d'amis. Il est - - - - sociable que moi.

- A) aussi                      B) plus  
C) moins                     D) beaucoup

7. Ayşe est - - - -, mais Antoine est - - - -.

- A) inattentif - grande  
B) agressif - calme  
C) intelligente - travailleur  
D) attractive - belle

8. Alice : - - - -

Marc : Je vais à la bibliothèque.

- A) Où vas-tu ?  
B) Comment es-tu ?  
C) Où tu habites ?  
D) Pourquoi vas-tu ?

9. Je fais du - - - - et je joue au - - - -.

- A) judo - pêche  
B) plongée - volley  
C) natation - basket-ball  
D) vélo - foot

10. A : Combien d'heures - - - - jour il court ?  
B : Il court deux heures.

- A) par    B) pour    C) avec    D) sans

11. Pour faire du jogging, on a besoin de - - - -.

- A) bottes  
B) pantoufles  
C) chaussures de sport  
D) sandalettes

12. Elle va - - - - Japon.

- A) à la    B) en    C) au    D) aux

13. Nous venons - - - - France.

- A) de    B) aux    C) en    D) à

14. - - - - vous vous entraînez par semaine ?

- A) Quand est-ce que  
B) Combien de fois  
C) Où est-ce que  
D) Qu'est-ce qu'il y a

15. Quel est le - - - - du match ?

- A) équipements              B) stades  
C) date                         D) score

16. Aşağıdaki kelimelerden hangisi zıt anlamıyla birlikte verilmiştir?


- A) amusant - ennuyeux  
B) grand - gros  
C) petit - mince  
D) inutile - intéressant

17. "long" ifadesinin zıt anlamı aşağıdakilerden hangisidir?

- A) grand                        B) maigre  
C) gros                         D) court

18-20. soruları resmi dikkate alarak cevaplayınız.

18.



- - - - est le roi des animaux.

- A) La girafe                    B) Le lion  
C) Les jaguars                D) L'antilope

19.



le musée



l'école

- A) Le musée est à côté de l'école.  
B) Le musée est derrière de l'école.  
C) Le musée est en face de l'école.  
D) Le musée est devant de l'école.

## 2. OTURUM

20.



- A) Utiliser l'énergie solaire !
- B) Protéger l'environnement !
- C) Utiliser moins d'eau !
- D) Utiliser moins d'énergie !

### (736) DİN KÜL. VE AHLAK BİLGİSİ – 7

1. • Ateşten yaratılan ve Allah'ın huzurundan kovulan kibirli bir varlıktır.  
• Nurdan yaratılıp çeşitli görevleri olan ruhani bir varlıktır.  
• Ateşten yaratılan, akıl ve irade sahibi bir varlıktır.

**Bu bilgilerde aşağıdaki varlıklardan hangisine yer verilmemiştir?**

- A) Cin
- B) Melek
- C) Şeytan
- D) İnsan

2. Aşağıdaki ayetlerden hangisinde insanlara, şeytan hakkında bir uyarı bulunmaktadır?

- A) "Onlardan bir kısmı da: Ey Rabbimiz! Bize dünyada da iyilik ver, ahirette de iyilik ver. Bizi cehennem azabından koru! derler."  
(Bakara suresi, 201. ayet.)
- B) "Kim ahiret kazancını isterse onun kazancını artırırız. Kim de dünya kazancını isterse ona da istediğinden veririz fakat onun ahirette hiçbir payı yoktur."  
(Şûrâ suresi, 20. ayet)
- C) "Ey iman edenler! Şeytanın adımlarına uymayın. Kim şeytanın adımlarını takip ederse, bilsin ki o hayâsızlığı ve kötülüğü emreder..."  
(Nûr suresi, 21. ayet)
- D) "Dünya hayatı bir oyun ve eğlenceden başka bir şey değildir. Müttakî olanlar için ahiret yurdu muhakkak ki daha hayırlıdır. Hâlâ akıl erdiremiyor musunuz?"  
(En'âm suresi, 32. ayet)

3. İsrâfil'in birinci kez sûra üflemesi ile tüm yaratılmışların yok olmasını ifade eden kavram aşağıdakilerden hangisidir?

- A) Mahşer
- B) Kıyamet
- C) Mizan
- D) Ba's

4. Ahiret inancına sahip kişilerden aşağıdaki davranışlardan hangisi beklenmez?

- A) İbadetlerinde Allah rızasını gözetmesi
- B) İlişkilerinde hak ve hukuka dikkat etmesi
- C) Daima sorumluluk bilinciyle hareket etmesi
- D) Yaşanılan zorluklar karşısında ümitsizliğe düşmesi

5. Aşağıdakilerden hangisi hac ibadetinin Müslümana kazandırdığı özelliklerden biri değildir?

- A) Ekonomik statü elde etmek
- B) Manevi dünyasını zenginleştirmek
- C) Birlik ve beraberlik bilincini geliştirmek
- D) Farklı kültürleri tanıma fırsatına sahip olmak

6. Aşağıdakilerden hangisi "Safa-Merve Tepeleri" ile ilgili bir bilgidir?

- A) Şeytan taşlamak için taş toplanılan yerdir.
- B) İnsanların tavaf yaptığı büyük alandır.
- C) Vakfe görevinin yapıldığı mekândır.
- D) Sa'y görevinin yapıldığı yerdir.

7. Umre ile ilgili aşağıdaki bilgilerden hangisi doğrudur?

- A) Yılda bir kez yapılır.
- B) Her Müslümana vaciptir.
- C) Hac günleri dışında her zaman yapılır.
- D) Arafat'ta vakfe yapmak farzlarındandır.

8. Kurban ibadeti ile ilgili aşağıdakilerden hangisi söylenemez?

- A) Sözlük anlamı kendisiyle Allah'a yaklaşılacak şey demektir.
- B) Hz. Yakup ile oğlu Hz. Yusuf'un hikâyesini sembolize eder.
- C) Allah'ın emir ve yasaklarına uymayı ve O'na teslim olmayı öğretir.
- D) Kurban edilecek hayvanın cinsine göre belli bir yaşa gelmesi gerekir.

9. I. Sığır ve manda en fazla beş kişi tarafından kurban edilir.  
II. Bir koyun yalnız bir kişi tarafından kurban edilir.  
III. En az beş yaşını doldurmuş olan deve kurban edilebilir.  
IV. Eti yenilen her hayvan kurban edilebilir.

**Numaralanmış bilgilerden hangileri doğrudur?**

- A) I ve III.
- B) I ve IV.
- C) II ve III.
- D) II ve IV.

## 2. OTURUM

10. "Mallarını Allah yolunda harcayan sonra da harcadıklarının peşinden başa kakmayan ve gönül incitmeyenlerin, Rabb'leri katında mükâfatları vardır..."

(Bakara suresi, 262. ayet)

**Bu ayette aşağıdaki ahlaki davranışlardan hangisi vurgulanmaktadır?**

- A) Sabır B) Adalet  
C) Kararlılık D) Yardımlaşma

11. Aşağıdakilerden hangisi Hz. Salih ile ilgili bir bilgidir?

- A) Annesi Hz. Meryem'dir.  
B) Semud kavmine gönderilmiştir.  
C) Soyu Hz. İbrahim'e dayanmaktadır.  
D) Hz. İsmail ile Kâbe'yi inşa etmiştir.

12. Hz. Muhammed'i (sav.) diğer insanlardan ayıran en önemli özellik aşağıdakilerden hangisidir?

- A) Allah'tan vahiy alması  
B) Merhamet sahibi olması  
C) Geçimini çalışarak kazanması  
D) Allah'a şirk koşmamış olması

13. "Nübüvvet" ve "risalet" kavramları aşağıdakilerden hangisi için kullanılmaktadır?

- A) Ahiret hayatı B) İlahî kitaplar  
C) Peygamberlik D) Allah'ın isimleri

14. Aşağıdakilerden hangisi Kâfirûn suresi ile ilgili bir bilgi değildir?

- A) Muavvizeteyn surelerinden biridir.  
B) İnkârcılar anlamına gelmektedir.  
C) Tevhid ilkesinin sembolü olarak bilinmektedir.  
D) İman ile şirkin farklı şeyler olduğunu ifade etmektedir.

15. Her insan farklı özelliklerde yaratılmıştır. Bu sebeple insanların karakterleri, kişilik özellikleri, mizaçları, dünyayı algılama biçimleri ve amaçları birbirinden farklıdır.

**Bu paragrafa göre din anlayışında farklılığa yol açan sebep aşağıdakilerden hangisidir?**

- A) Dini metinlerden kaynaklanan sebepler  
B) İnsan yapısından kaynaklanan sebepler  
C) Ekonomik sebepler  
D) Siyasi sebepler

16. Aşağıdakilerden hangisi Maturidîlik'e ait görüşlerden biri değildir?

- A) İnsanın, akıl yoluyla Allah'ın varlığına ulaşması mümkün değildir.  
B) İman bir bütündür, artmaz ve eksilmez.  
C) Cennete giden müminler, Allah'ı göreceklerdir.  
D) Büyük günah işleyen, günahı helal saymadıkça dinden çıkmaz.

17. Aşağıdaki mezhep ve öncüsü eşleştirmelerinden hangisi yanlıştır?

- A) Şafîlik - İmam Muhammed bin İdris  
B) Hanbelîlik - Ahmet bin Hanbel  
C) Hanefîlik - İmam-ı Âzam  
D) Malikîlik - İmam Ebu Yusuf

18. • Öncüsü olduğu mezhep daha çok Suudi Arabistan'da yaygındır.  
• Sahabelerin sözlerini icma niteliğinde kabul etmiştir.  
• En ünlü eseri "Müsned" adlı hadis kitabıdır.

**Hakkında bilgi verilen fıkıh âlimi aşağıdakilerden hangisidir?**

- A) Cafer es-Sadık  
B) Numan bin Sâbit  
C) Ahmed bin Hanbel  
D) Muhammed bin İdris

19. Aşağıdakilerden hangisi "Abdal Musa Cemi" ile ilgili bir bilgi değildir?

- A) Aleviliği benimseyen kişilerin ceme kabulü anlamına gelir.  
B) Her yıl sonbaharda küskünleri barıştırmak için yapılmaktadır.  
C) Bu cemde elde edilen nimetler için Allah'a şükredilir.  
D) Birlik cemi olarak da isimlendirilmektedir.

20. Ceme katılanların Allah'a sevgi ve bağlılık duygusuyla güzel isimlerinden birini anarak ayakta dönmesidir.

**Tanımı yapılan bu kavram aşağıdakilerden hangisidir?**

- A) Razılık B) Semah  
C) Gülbank D) Musahiplik



## 2. OTURUM

(830) TÜRKÇE – 8

1. Sizin gibi aklı başında insanlar sayesinde ülkemiz daha da gelişecek.

**Aşağıdakilerin hangisinde bu cümledeki altı çizili sözün anlamını karşılayan bir söz kullanılmıştır?**

- A) Çocuklar bütün gün uslu uslu oyun oynadı.  
B) Bilinçli hareket ederseniz hayatınız dertsiz geçer.  
C) Çalışkan biri eninde sonunda başarılı olacaktır.  
D) Adamın sorumsuz davranışları herkes tarafından eleştiriliyordu.

2. **Aşağıdaki cümlelerin hangisinde mecaz anlamı bir söz kullanılmıştır?**

- A) 1914 yılında 1. Dünya Savaşı patlak verdi.  
B) Reşat Nuri, yazdığı romanlarla ünlenmiştir.  
C) Çikolata, kakao ağacının çekirdekleriyle yapılır.  
D) Türk tiyatrosu Cumhuriyet'le birlikte gelişmiştir.

3. Çiçekler gürültüyle açar;  
Gürültüyle çıkar duman topraktan.  
Hele martılar, hele martılar,  
Her bir tüylerinde ayrı bir telaş!..

**Altı çizili dizelerdeki söz sanatı aşağıdakilerden hangisidir?**

- A) Karşıtlık  
B) Abartma  
C) Konuşurma  
D) Benzetme

4. **Aşağıdaki cümlelerin hangisinde özne ile yüklem arasında tekillik-çoğulluk yönünden uyum yoktur?**

- A) Işıklar, akşam olunca yandılar.  
B) Çocuk, annesinin yanından hiç ayrılmadı.  
C) Masanın üstündeki kova yere düştü.  
D) İşçiler, köprüde gece gündüz çalıştılar.

5. (1) Köyümüzün yanındaki göle bu sene göçmen kuşlar geldi. (2) Herhâlde göç sırasında yollarını şaşırıldılar. (3) Çünkü daha önce burada hiç konaklamazlardı. (4) Bunu fırsat bilen kuş gözlemcileri de buraya akın etti.

**Bu parçada numaralanmış cümlelerin hangisinde olasılık anlamı vardır?**

- A) 1. B) 2. C) 3. D) 4.

6. (1) Kendimi geliştireyim diye sık sık resim sergilerine gidiyorum. (2) Böylece birçok ressamla tanışma fırsatı buluyorum. (3) Onlardan öğrendiklerimi kendi yaptığım resimlere uyguluyorum. (4) İmkân bulup kendi resimlerimi onlara gösterebilsem daha hızlı bir gelişim gösterirdim.

**Bu parçada numaralanmış cümlelerle ilgili aşağıdakilerden hangisi söylenemez?**

- A) 1. cümlede amaç-sonuç ilgisi vardır.  
B) 2. cümle kendisinden önceki cümlelerin sonucudur.  
C) 3. cümlede bir ön yargı vardır.  
D) 4. cümle koşul-sonuç anlamı taşımaktadır.

7. İnsanlar avcılık yaparak yaşarken kendi yiyeceklerini yetiştirmeye, toprağı ekip biçmeye karar verdiler. Böylece av hayvanlarının peşinden sürekli göç eden insanın toplumsal yaşamı da değişti. Toprağı ekmeye başlayan insanların, tarlaların yanında kalıp ekine göz kulak olmaları gerekiyordu. Sonuç olarak insanlar, tarımın başladığı çağlarda ilk evlerini yapmaya başladılar ve sürekli göç etmeyi de bıraktılar.

**Bu parçadan, sözü edilen dönemle ilgili aşağıdakilerden hangisi çıkarılamaz?**

- A) Avcılıkla geçinmek toprağı ekip biçmekten daha kolaydır.  
B) Tarımın yapılmaya başlanmasıyla insanlar kendilerine ev yapmışlardır.  
C) Tarımsal üretim ön plana çıkmıştır.  
D) Yerleşik yaşama tarımla birlikte geçilmiştir.

8. (1) Haleplibahçe Müzesini 360 derecelik video gösterimi ile de ziyaret edebilirsiniz. (2) Ayrıca Şanlıurfa tarihini anlatan olaylar da video gösterimi ile aktarılıyor. (3) Müzenin en güzel bölümlerinden biri de şüphesiz Mozaik Müzesi. (4) Burada, 2007-2009 yıllarında yapılan kazılarda çıkarılan mozaikler sergileniyor.

**Bu parçadaki numaralanmış cümlelerin hangisinde öznel bir ifadeye yer verilmiştir?**

- A) 1. B) 2. C) 3. D) 4.

## 2. OTURUM

9. 1. Ancak okulunuzun açılacağı tarih yaklaştıkça içinizi bir heyecan sarmaya başladı.  
2. Bu heyecana bir de üniversite için şehir değiştirme zorunluluğu eklendiyse hafifçe paniklemeniz oldukça normal.  
3. Emeklerinizin karşılığını alıp üniversiteyi kazandınız.  
4. Birkaç hususa dikkat ederek, paniklemeden bu değişikliğe rahatça uyum sağlayabilirsiniz.

**Numaralanmış cümlelerle anlamlı bir metin oluşturulmak istense sıralama aşağıdakilerden hangisi olur?**

- A) 3-4-1-2  
B) 3-1-2-4  
C) 4-2-1-3  
D) 4-3-1-2

10. Ayakkabıyı ilk kimin yaptığını, ilk kimlerin giydiğini bilmiyoruz. Ancak binlerce yıl önce insanların, avladıkları hayvanların derilerini ayaklarına sardıklarını biliyoruz. Bunlara ilk ayakkabılar diyebiliriz. Sonraki çağlarda bugün "sandalet" dediğimiz üstü açık, yazlık ayakkabılar giyildi. Bugünkü ayakkabılara ilk benzeyen örnekler ise Mezopotamya'da rastlandı. Günümüzde olduğu gibi sağ ve sol ayakların kalıbına göre ayrı ayrı yapılan ilk ayakkabıları Romalılar üretti.

**Bu parçanın konusu aşağıdakilerden hangisidir?**

- A) Ayakkabının tarihî gelişimi  
B) Ayakkabı çeşitleri  
C) Hayvanların insanlara faydaları  
D) Milletlerin uygarlığa katkıları

11. Teknolojinin gelişimiyle birlikte faydalandığımız imkânlar artarken her gün daha iyi ve daha güçlüsünün yapımı için harcanan çabalar, olumsuz sonuçlar da doğurabiliyor. Hızla yükselen binalar, son teknoloji ürünü arabalar, daha fazla üretim için yapılan fabrikalar yüksek maliyetlerle faaliyete geçiriliyor. Daha konforlu bir yaşam için sunulan pek çok yeniliğin bedeli; yüksek oranda enerji kayıpları, çevre kirliliği ve bütçeleri zorlayan koşullar olabiliyor.

**Bu metinde aşağıdakilerden hangisine değinilmemiştir?**

- A) Her geçen gün yararlanılan olanakların arttığına  
B) Teknoloji gelişiminin olumsuz yanlarının da bulunduğuna  
C) Yaşamı iyileştirmek için yapılan yeniliklerin sonuçlarına  
D) Gelişen teknolojinin, tüketim alışkanlıklarını değiştirdiğine

12. Korku, kuşku ve kaygı çoğu kez karamsarlık yaratır düşüncelerde. Karamsarlık, kişiyi anlamsız ve mantıksız davranışlara sürükler. Bir bardak suda fırtına koparan, pireyi deve yapan kişiler hep korkunun karamsarlığı içine düşmüş kimselerdir.

**Bu metnin türü aşağıdakilerden hangisidir?**

- A) Biyografi  
B) Deneme  
C) Masal  
D) Makale

13. **Aşağıdaki atasözlerinden hangisi "umut" kavramına vurgu yapmaktadır?**

- A) Yazın başı pişenin, kışın aşı pişer.  
B) Akıl yaşta değil baştadır.  
C) İki karpuz bir koltuğa sığmaz.  
D) Kara gün kararıp kalmaz.

14. **Aşağıdaki cümlelerin hangisinde altı çizili söz, cümlenin öznesidir?**

- A) Yazın bir süre maden ocağında çalışmış.  
B) Bu mevsimde tarlalar hep yemyeşil olur.  
C) İki kuş, ağaç kovuğunda yuva yapmıştı.  
D) Çekmeceyi de dolaba o yerleştirmiş.

15. **Aşağıdakilerden hangisi hikâye unsurlarından değildir?**

- A) Gelişme  
B) Şahıs ve varlık kadrosu  
C) Olay örgüsü  
D) Zaman

16. Okyanusların en derin noktası olan Mariana

1

Çukuru 11 km derinliğindedir. Işığın tamamen söndüğü noktadan itibaren en derin noktasına ka-

2

3

dar burası, dünya biyosferinin %79'unu oluşturur.

4

**Bu parçadaki altı çizili sözcüklerden hangileri fiilimsidir?**

- A) 1 ve 2.  
B) 1 ve 4.  
C) 2 ve 3.  
D) 3 ve 4.

17. **Aşağıdaki cümlelerden hangisinin sonuna soru işareti (?) konmaz?**

- A) Sağlıklı bireyler yetiştirmek için ne yapmalı  
B) Köpekler mi daha sadık hayvanlardır  
C) Niçin ahırdaki hayvanları dışarı çıkardın  
D) İğdir'a giderken bize de uğramayı unutmayın

## 2. OTURUM

18. Aşağıdaki dizelerin hangisinde hem isim hem fiil cümlesi vardır?

- A) Bu gök deniz nerede var  
Özlem burcu burcu kokar  
B) Aşalım demiş bulutları  
Daha daha daha yukarı  
C) Gerçek dostlar olmasaydı  
Gerçek şair olamazdım  
D) Saçlarım tutuştu önce  
Gözlerim yandı kavruldu

19. Elektrikli yılan balığı iletişim kurmak, yön bulmak, bazı durumlarda avlanmak ve kendini korumak için elektrik üretebilen organlara sahiptir. Elektrik organı adı verilen bu yapıların içinde elektrosit adı verilen ve elektrik üretebilen hücreler bulunur. Bu hücreler, kas ve sinir hücrelerinin değişim geçirmesiyle oluşmuş hücrelerdir.

Bu metnin türü aşağıdakilerden hangisidir?

- A) Eleştiri B) Makale  
C) Masal D) Sohbet

20. Okyanusların derinlikleri gezegenimizin, hakkında neredeyse hiçbir şey bilmediğimiz, çok azı keşfedilmiş bölgeleridir. Bu bölgeler, büyük çoğunluğu hâlâ gün yüzüne çıkarılmayı bekleyen olağan üstü tuhafılıkta bir yaşama ev sahipliği yapıyor.

Bu parçadaki numaralanmış sözlerden hangisinin yazımı yanlıştır?

- A) 1. B) 2. C) 3. D) 4.

### (831) MATEMATİK – 8

1. Aşağıdakilerden hangisi 72 sayısının çarpanlarından biri değildir?

- A) 2 B) 3 C) 4 D) 5

2. Aşağıdakilerden hangisinin sonucu negatiftir?

- A)  $(-4)^2$  B)  $-(-2)^3$  C)  $(-2)^2$  D)  $(-1)^3$

3. 124 000 sayısının bilimsel gösterimi aşağıdakilerden hangisidir?

- A)  $0,124 \cdot 10^6$  B)  $1,24 \cdot 10^5$   
C)  $12,4 \cdot 10^4$  D)  $124 \cdot 10^3$

4.  $\frac{4 \cdot 16}{8}$  işleminin sonucu aşağıdakilerden hangisine eşittir?

- A) 2 B)  $2^2$  C)  $2^3$  D)  $2^4$

5. Bir kenarının uzunluğu a cm olan bir karenin alanı  $a^2$  cm<sup>2</sup> dir.

a bir tam sayı olduğuna göre bu karenin alanı aşağıdakilerden hangisi olamaz?

- A) 64 B) 72 C) 81 D) 100

6.  $\sqrt{32} + \sqrt{50}$  işleminin sonucu kaçtır?

- A)  $9\sqrt{2}$  B)  $\sqrt{82}$  C)  $6\sqrt{2}$  D)  $\sqrt{41}$

7. Aşağıdakilerden hangisi bir irrasyonel sayıdır?

- A)  $\sqrt{4}$  B) 1,5 C)  $\sqrt{2}$  D)  $1,2$

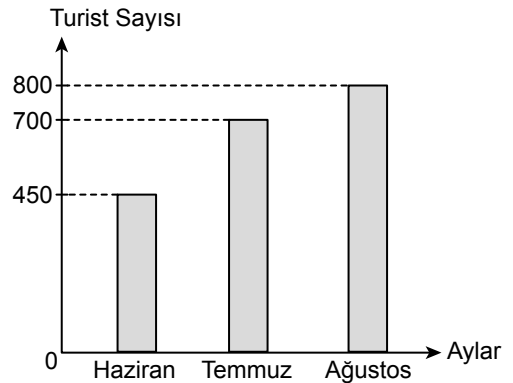
8. Bir kalem kutusunda renkleri dışında özdeş 3 kırmızı, 4 yeşil ve 5 mavi renkli kalem vardır.

Bu kalem kutusundan yapılan rastgele bir çekilişte kırmızı renkli kalemin çekilme olasılığı kaçtır?

- A)  $\frac{1}{5}$  B)  $\frac{1}{4}$  C)  $\frac{1}{3}$  D)  $\frac{1}{2}$

9. Bir müzeyi yaz aylarında ziyaret eden turist sayısı aşağıdaki grafikte gösterilmiştir.

Grafik: Aylara Göre Turist Sayısı



Grafiğe göre bu müzeyi haziran ve ağustos aylarında ziyaret eden toplam turist sayısı, temmuz ayında ziyaret eden turist sayısından kaç fazladır?

- A) 950 B) 750 C) 550 D) 350

## 2. OTURUM

10. Aşağıdakilerden hangisi  $6xy$  cebirsel ifadesi ile özdeş değildir?

- A)  $(-2x) \cdot (-3y)$       B)  $(-6) \cdot x \cdot (-y)$   
C)  $6 \cdot (xy)$       D)  $(-3x) \cdot (2y)$

11.  $12x - 2xy + x - y$  cebirsel ifadesinin katsayılarının toplamı kaçtır?

- A) 5      B) 8      C) 10      D) 16

12.

x	0	1	2	3
y	3	$\frac{7}{2}$	4	$\frac{9}{2}$

Verilen tabloya göre x ile y arasındaki doğrusal ilişkiyi ifade eden denklem aşağıdakilerden hangisidir?

- A)  $y = \frac{x}{2} + 3$       B)  $y = x + 3$   
C)  $y = 2x$       D)  $y = \frac{x}{3} + 2$

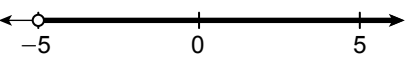
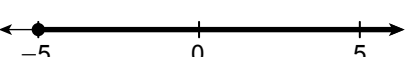
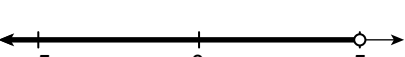

13. Denklemi  $2x - 3y - 6 = 0$  olan doğrunun x eksenini kestiği noktanın koordinatları aşağıdakilerden hangisidir?

- A) (3, 0)      B) (2, 0)      C) (0, 3)      D) (0, 2)

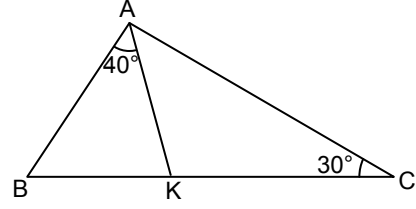
14. Aşağıda denklemleri verilen doğrulardan hangisinin eğimi 2 değildir?

- A)  $y = 2x$       B)  $3x - 6y + 10 = 0$   
C)  $6x - 3y + 5 = 0$       D)  $2y = 4x + 5$

15.  $2x - 4 \leq 6$  eşitsizliğinin çözümü aşağıdaki sayı doğrularının hangisinde koyu çizgi ile gösterilmiştir?

- A) 
- B) 
- C) 
- D) 

16.

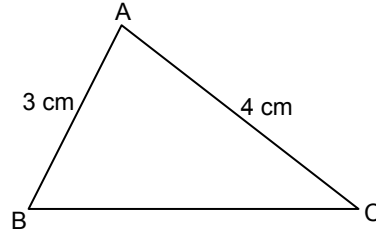


Şekildeki ABC üçgeninde K noktası [BC] üzerinde, [AK] açıortay ve  $m(\widehat{BAK}) = 40^\circ$ ,  $m(\widehat{ACK}) = 30^\circ$  dir.

Buna göre  $m(\widehat{ABC})$  kaç derecedir?

- A) 70      B) 80      C) 90      D) 100

17.

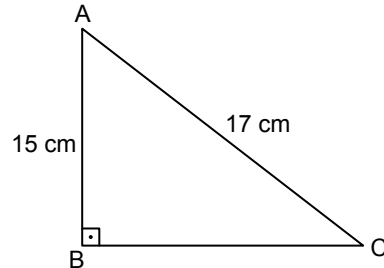


Şekildeki ABC üçgeninde  $|AB| = 3$  cm ve  $|AC| = 4$  cm'dir.

Buna göre [BC]'nin uzunluğu santimetre cinsinden aşağıdakilerden hangisi olamaz?

- A) 4      B) 5      C) 6      D) 7

18.



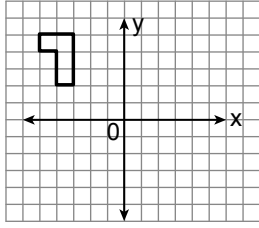
Şekildeki ABC üçgeninde  $[AB] \perp [BC]$  ve  $|AB| = 15$  cm,  $|AC| = 17$  cm'dir.

Buna göre [BC] kaç santimetredir?

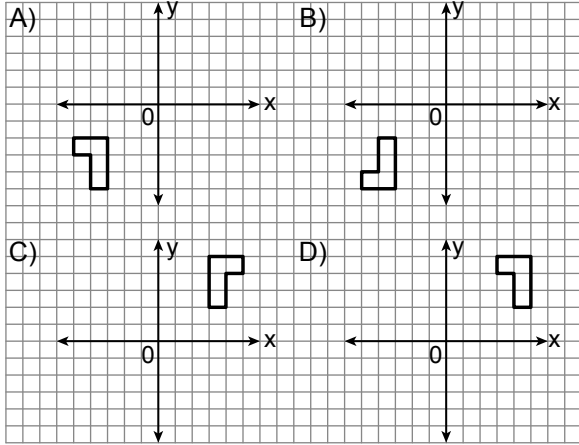
- A) 8      B) 9      C) 12      D) 13

## 2. OTURUM

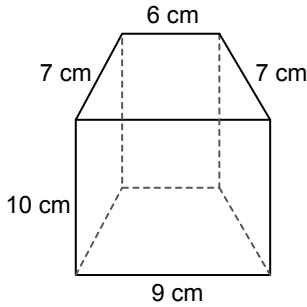
19.



Yukarıdaki koordinat sisteminde verilen şeklin x eksenine göre yansıması aşağıdakilerden hangisidir?



20.



Yukarıdaki dörtgen dik prizmanın bütün ayrıtlarının uzunlukları toplamı kaç santimetredir?

- A) 69      B) 89      C) 98      D) 108

### (832) FEN BİLİMLERİ – 8

1. Güneş ışınlarının Kuzey Yarım Küre'ye dik olarak geldiği alanlarda yaz mevsimi yaşanır.

Buna göre aşağıdaki ay ve günlerden hangisinde Kuzey Yarım Küredeki bu alanlara Güneş ışınları dik olarak gelir?

- A) 21 Mart      B) 21 Aralık  
C) 21 Haziran      D) 21 Ekim

2. Bir öğrenci K ve L kartlarının ön yüzüne iklim ve hava olayları ile ilgili bilgileri aşağıdaki gibi yazmıştır.

K Kartı

Akdeniz Bölgesi'nde hava sıcaklığı bugünlerde çok yüksek

L Kartı

Karadeniz Bölgesi'nde sonbahar yağışlıdır.

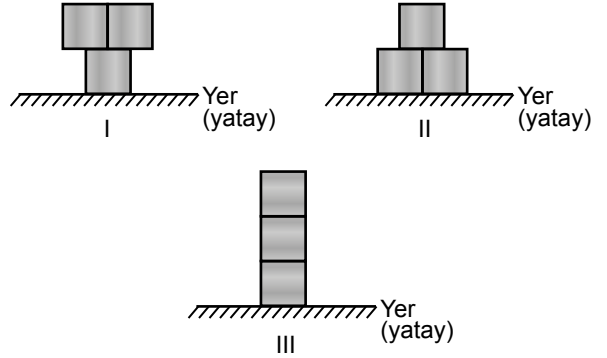
Buna göre;

- I. K kartında yazılan bilgi hava olayını ifade etmektedir,
- II. L kartında yazılan bilgi iklim olayını ifade etmektedir,
- III. K kartında yazılan bilgi iklim olayını ifade etmektedir

yargılarından hangileri doğrudur?

- A) Yalnız I.      B) I ve II.  
C) I ve III.      D) II ve III.

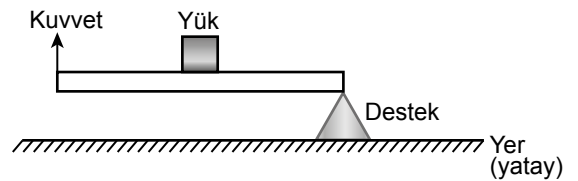
3. Birbirine yapıştırılmış özdeş küpler numaralandırılmış zeminlere şekildeki gibi konulmuştur.



Küplerin numaralandırılmış zeminlere uyguladıkları basınçlar sırası ile  $P_1$ ,  $P_2$  ve  $P_3$  olduğuna göre; bu basınçlar arasındaki ilişki aşağıdakilerin hangisinde doğru verilmiştir?

- A)  $P_1 = P_3 > P_2$       B)  $P_3 > P_2 > P_1$   
C)  $P_2 > P_1 > P_3$       D)  $P_2 = P_1 > P_3$

4. Yükün ortada olduğu bir kaldıraç tipi şekilde gösterilmiştir.

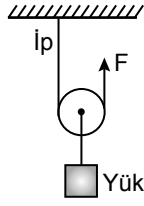


Buna göre aşağıdakilerden hangisi bu kaldıraç tipine doğru bir örnektir?

- A) Makas      B) Tahterevalli  
C) El arabası      D) Eşit kollu terazi

## 2. OTURUM

5. Aşağıdaki basit makinede ipe F kuvveti uygulanarak şekildeki yük dengelenmiştir.



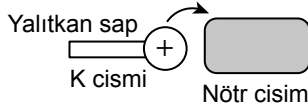
Buna göre;

- I. sabit makara kullanılmıştır,  
II. F kuvveti yükün ağırlığından daha azdır,  
III. yoldan kazanç vardır

yargılarından hangileri doğrudur?

- A) Yalnız I.                      B) Yalnız II.  
C) I ve III.                      D) II ve III.

6. Şekildeki pozitif elektrik yüklü K cismi yalıtkan sapından tutularak nötr iletken cisme etkileşim olacak konumda yaklaştırılıyor.



Buna göre K cismi bu konumda iken nötr cismin elektriksel yük dağılımı aşağıdakilerin hangisinde doğru verilmiştir?

- A)                       B)   
C)                       D) 

7. Aşağıdaki araçlardan hangisi elektrik enerjisini ışık enerjisine dönüştürür?

- A) El feneri                      B) Dönme dolap  
C) Matkap                      D) Rüzgâr gülü

8. Periyodik sistem ile ilgili aşağıdakilerden hangisi doğrudur?

- A) Periyodik sistemdeki yatay sıralara grup denir.  
B) Aynı periyotta bulunan elementlerin fiziksel ve kimyasal özellikleri aynıdır.  
C) Periyodik sistemde toplam 8 tane grup bulunur.  
D) Elementler periyodik sistemde atom numaralarına göre sıralanır.

9. Aşağıdaki örneklerden hangisi kimyasal değişim olarak sınıflandırılır?

- A) Buzun erimesi  
B) Yumurtanın kırılması  
C) Hamurun mayalanması  
D) Suyun kaynaması

10. Şekilde kapalı bir kaptaki kükürt ve oksijen elementleri arasında gerçekleşen kimyasal tepkime modellenmiştir.



Bu tepkime ile ilgili aşağıda verilenlerden hangisi yanlıştır?

- A) Tepkimeye giren maddelerin kimyasal özellikleri değişir.  
B) Tepkimede toplam atom sayısı değişmez.  
C) Tepkime sonucunda bileşik oluşmuştur.  
D) Tepkimeye giren atomların türü değişir.

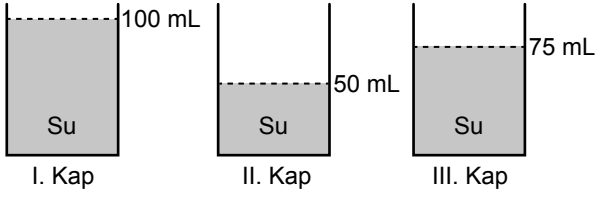
11. L ve M maddelerinin pH değerleri sırasıyla 3 ve 10'dur.

Bu maddelerin asit veya baz olma durumları ile ilgili aşağıda verilenlerden hangisi doğrudur?

- A) L maddesi asit özelliği gösterir.  
B) M maddesi mavi turnusol kâğıdının rengini kırmızıya çevirir.  
C) L maddesi cilde kayganlık hissi verir.  
D) M maddesi limon suyu olabilir.

## 2. OTURUM

12. Şekildeki özdeş kaplarda eşit sıcaklıkta ve farklı miktarlarda su bulunmaktadır.



Bu kaplardaki sular özdeş ısıtıcılarla 10 dakika süreyle ısıtıldığında kaplardaki suların son sıcaklıkları aşağıdakilerden hangisi gibi olabilir?

(Isı alışverişinin sadece sular ve ısıtıcı arasında olduğu kabul edilecektir.)

	I. Kap	II. Kap	III. Kap
A)	25 °C	30 °C	20 °C
B)	30 °C	25 °C	20 °C
C)	20 °C	30 °C	25 °C
D)	25 °C	20 °C	30 °C

13. Aşağıdaki olaylardan hangisinde yoğuşma gerçekleşir?

- A) Açık havada bulunan çamaşırların bir süre sonra kuruması
- B) Buzdolabından çıkarılan cam şişenin dışında su damlacıkları oluşması
- C) Güneşin etkisiyle yerdeki buzların sıvı hâle geçmesi
- D) Derin dondurucuya konulan suyun bir süre sonra katı hâle geçmesi

14. Deoksiriboz şekeri, fosfat ve organik bazdan oluşan DNA'nın yapı birimine verilen ad aşağıdakilerden hangisidir?

- A) Gen
- B) Kromozom
- C) Nükleotid
- D) Adenin

15. Genotipi bilinmeyen sarı tohumlu bezelyelerde yapılan bir çaprazlama sonucunda oluşan bezelyelerin bir kısmının yeşil tohumlu olduğu gözlenmiştir.

Buna göre başlangıçta çaprazlanan bezelyelerin genotipi aşağıdakilerden hangisi olabilir?

(Sarı tohumlu olma özelliği: A, Yeşil tohumlu olma özelliği: a'ya baskındır.)

- A) AA×AA
- B) Aa×AA
- C) AA×aa
- D) Aa×Aa

16. Canlılarda meydana gelen mutasyon ile ilgili aşağıdakilerden hangisi doğrudur?

- A) Tüm mutasyonlar canlılarda olumsuz değişikliklere neden olur.
- B) Kimyasal maddeler mutasyona neden olabilir.
- C) Canlılarda gerçekleşen tüm mutasyonlar kalıtsaldır.
- D) Çevre kirliliği mutasyona neden olamaz.

17. Biyoteknolojik uygulamalar ile ilgili aşağıdakilerden hangisi doğru değildir?

- A) Ürünlerin raf ömrü uzatılabilir.
- B) Tarım ürünlerinin hastalıklara karşı direncini artırabilir.
- C) Göl ve bataklıklar kimyasal atıklardan temizlenebilir.
- D) Tüm besinleri sağlığa zararlı hâle getirir.

18. Aşağıdakilerden hangisi üretici ve tüketicilerin veya bunların atıklarının parçalanmasını sağlayan ayrıştırıcılara örnek olarak verilebilir?

- A) Ceylan
- B) Serçe
- C) Ot
- D) Mantar

19. Bitkilerin fotosentez hızını etkileyen faktörler ile ilgili aşağıdakilerden hangisi yanlıştır?

- A) Sıcaklığın belirli bir düzeye kadar artışı fotosentezi hızlandırır.
- B) Bitkilerin güneş ışığı yerine yapay ışıkla bekletilmesi fotosentezi durdurur.
- C) Ortamdaki karbondioksit miktarının artması fotosentezi hızlandırabilir.
- D) Bitkiye verilen su miktarının belirli bir düzeye kadar artması fotosentezi hızlandırır.

20. Karbon döngüsü ile ilgili aşağıdakilerden hangisi doğrudur?

- A) Yanma olayı atmosferdeki karbondioksiti azaltır.
- B) Solunum yoluyla atmosferdeki karbondioksit miktarı azaltılır.
- C) Fotosentez atmosferdeki karbondioksit miktarını artırır.
- D) Ayrıştırıcı faaliyetleri ile atmosfere karbondioksit verilir.

TEST BİTTİ.  
CEVAPLARINIZI KONTROL EDİNİZ

## CEVAP KÂĞIDI VE SORU KİTAPÇIĞI İLE İLGİLİ AÇIKLAMALAR

1. Cevap kâğıdınızdaki bilgilerin doğruluğunu kontrol ediniz ve cevap kâğıdınızı mürekkepli kalemle imzalayınız.
2. Cevap kâğıdı üzerinde kodlamalarınızı siyah kurşun kalemle yapınız.
3. Değiştirmek istediğiniz bir cevabı, yumuşak silgiyle cevap kâğıdını örselemeden temizce siliniz ve yeni cevabınızı kodlayınız.
4. Soru kitapçığının sayfalarını görevlilerin uyarıları doğrultusunda kontrol ediniz, baskı hatası var ise değiştirilmesini sağlayınız.
5. Soruların çözümü için size ayrıca boş kâğıt verilmeyecektir. Soru kitapçığının içindeki boş alanları soru çözümleri için kullanabilirsiniz.
6. Her sorunun dört seçeneğinden sadece biri doğrudur. Doğru seçeneği, cevap kâğıdınızın ilgili sütununa soru numarasını dikkate alarak yuvarlağın dışına taşırmadan kodlayınız. Soru kitapçığı üzerinde yapılan cevaplandırmalar dikkate alınmayacaktır.
7. Cevaplamaya istediğiniz dersin sorusundan başlayabilirsiniz. Cevabını bilmediğiniz sorular üzerinde fazla zaman kaybetmeden diğer sorulara geçiniz. Zamanınız kalırsa bu sorulara daha sonra dönebilirsiniz.
8. Yanlış cevaplarınız dikkate alınmadan sadece doğru cevaplarınız üzerinden puanlama yapılacaktır.
9. Soruları ve sorulara verdiğiniz cevapları, yanınızda götürmek amacıyla kaydetmeyiniz; hiçbir şekilde dışarı çıkarmayınız.
10. Sınav bitiminde soru kitapçığı ve cevap kâğıdını salon görevlilerine teslim ediniz.
11. Aday tarafından cevap kâğıdına yazılması veya işaretlenmesi gereken bilgilerde eksiklik ya da yanlışlık olması durumunda sorumluluk adaya ait olacaktır.

## SALON GÖREVLİLERİNCE SINAV BAŞLAMADAN ÖNCE ADAYLARA YAPILACAK SON UYARILAR

- Soracağınız bir şey varsa şimdi sorunuz, sınav başladıktan sonra sorularınıza cevap verilmeyecektir.
- Başlama zilini bekleyiniz.

*Hepinize başarılar dileriz.*

(Salon başkanı başlama ve bitiş saatini tahtaya yazacaktır.)

Bu kitapçığın her hakkı saklıdır. Hangi amaçla olursa olsun, kitapçığın tamamının veya bir kısmının Millî Eğitim Bakanlığı Ölçme, Değerlendirme ve Sınav Hizmetleri Genel Müdürlüğünün yazılı izni olmadan kopya edilmesi, fotoğraflarının çekilmesi, bilgisayar ortamına alınması, herhangi bir yolla çoğaltılması, yayımlanması veya başka bir amaçla kullanılması yasaktır. Bu yasağa uymayanlar, doğabilecek cezai sorumluluğu ve kitapçığın hazırlanmasındaki mali külfeti peşinen kabullenmiş sayılır.



**07 ARALIK 2019 TARİHİNDE YAPILAN  
AÇIK ÖĞRETİM ORTAOKULU 2019-2020 ÖĞRETİM YILI 1. DÖNEM SINAVI  
2. OTURUM CEVAP ANAHTARI**

**(553) SOSYAL BİLGİLER – 5**

1. A
2. D
3. B
4. C
5. D
6. A
7. C
8. B
9. D
10. A
11. C
12. B
13. D
14. C
15. A
16. D
17. B
18. D
19. B
20. C

**(554) ALMANCA – 5**

1. D
2. B
3. A
4. B
5. D
6. C
7. A
8. D
9. B
10. D
11. A
12. C
13. B
14. D
15. C
16. B
17. A
18. C
19. D
20. A

**(555) DİN KÜLTÜRÜ VE  
AHLAK BİLGİSİ – 5**

1. C
2. A
3. D
4. C
5. B
6. C
7. A
8. B
9. A
10. D
11. B
12. D
13. C
14. D
15. B
16. C
17. B
18. D
19. A
20. D

**(631) MATEMATİK – 6**

1. C
2. D
3. A
4. A
5. D
6. B
7. A
8. C
9. B
10. D
11. C
12. B
13. C
14. B
15. D
16. A
17. B
18. D
19. B
20. A

**(554) İNGİLİZCE – 5**

1. C
2. B
3. A
4. B
5. D
6. C
7. C
8. D
9. A
10. C
11. A
12. D
13. B
14. C
15. D
16. B
17. D
18. B
19. A
20. A

**(554) FRANSIZCA – 5**

1. A
2. D
3. C
4. B
5. A
6. C
7. B
8. D
9. C
10. A
11. D
12. A
13. B
14. D
15. C
16. A
17. D
18. C
19. A
20. B

**(630) TÜRKÇE – 6**

1. A
2. A
3. C
4. B
5. B
6. B
7. C
8. B
9. C
10. D
11. B
12. A
13. C
14. A
15. D
16. C
17. A
18. C
19. B
20. D

**(632) FEN BİLİMLERİ – 6**

1. B
2. A
3. D
4. C
5. D
6. A
7. C
8. B
9. D
10. C
11. B
12. A
13. C
14. B
15. C
16. D
17. C
18. D
19. D
20. A

**07 ARALIK 2019 TARİHİNDE YAPILAN  
AÇIK ÖĞRETİM ORTAOKULU 2019-2020 ÖĞRETİM YILI 1. DÖNEM SINAVI  
2. OTURUM CEVAP ANAHTARI**

**(733) SOSYAL BİLGİLER – 7**

1. C
2. A
3. B
4. B
5. D
6. A
7. D
8. D
9. B
10. C
11. A
12. B
13. A
14. C
15. B
16. D
17. A
18. B
19. C
20. D

**(735) İNGİLİZCE – 7**

1. B
2. D
3. A
4. D
5. A
6. C
7. B
8. B
9. D
10. A
11. C
12. D
13. A
14. C
15. D
16. D
17. A
18. C
19. B
20. C

**(735) ALMANCA – 7**

1. B
2. D
3. A
4. D
5. C
6. B
7. A
8. C
9. B
10. D
11. A
12. C
13. B
14. D
15. A
16. C
17. D
18. C
19. A
20. B

**(735) FRANSIZCA – 7**

1. C
2. A
3. D
4. B
5. C
6. B
7. C
8. A
9. D
10. A
11. C
12. C
13. A
14. B
15. D
16. A
17. D
18. B
19. A
20. C

**(736) DİN KÜLTÜRÜ VE  
AHLAK BİLGİSİ – 7**

1. D
2. C
3. B
4. D
5. A
6. D
7. C
8. B
9. C
10. D
11. B
12. A
13. C
14. A
15. B
16. A
17. D
18. C
19. A
20. B

**(830) TÜRKÇE – 8**

1. A
2. A
3. B
4. A
5. B
6. C
7. A
8. C
9. B
10. A
11. D
12. B
13. D
14. C
15. A
16. A
17. D
18. A
19. B
20. D

**(831) MATEMATİK – 8**

1. D
2. D
3. B
4. C
5. B
6. A
7. C
8. B
9. C
10. D
11. C
12. A
13. A
14. B
15. D
16. A
17. D
18. A
19. B
20. C

**(832) FEN BİLİMLERİ – 8**

1. C
2. B
3. A
4. C
5. B
6. A
7. A
8. D
9. C
10. D
11. A
12. C
13. B
14. C
15. D
16. B
17. D
18. D
19. B
20. D