


## GEOMETRİK ÖRÜNTÜLER

**Örüntü:** Belirli bir kurala göre sıralamaya denir. Geometrik şekillerden oluşan örüntülere de "Geometrik Örüntü" adı verilir.


**Örnek:**





Yukarıdaki örüntüde ? yerine ne geleceğini bulalım.

Örüntü □ △△○ şeklinde ilerlediği için ? yerine △ şekli gelmelidir.

**Örnek:**



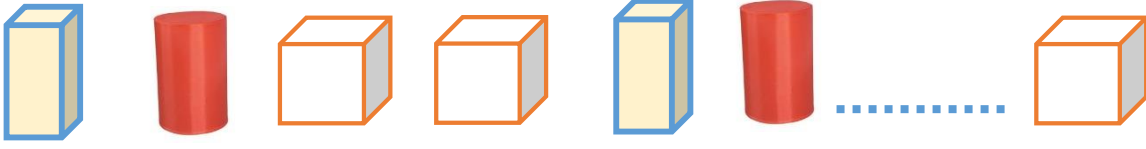
Yukarıdaki örüntüde ? yerine hangi şeklin geleceğini bulalım.

Örüntü  şeklinin farklı konumlandırılmasıyla oluştuğu için ? yerine  şekli gelmelidir.

Aşağıdaki boşluğa hangi şekil gelmelidir çiziniz.



## KONU DEĞERLENDİRME TESTİ



1. Yukarıdaki örüntüde boşluğa hangi geometrik cisim gelmelidir?

A



B

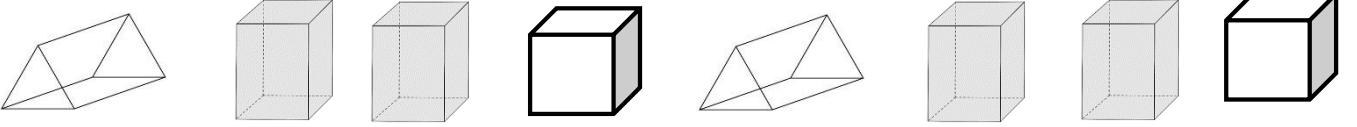


C

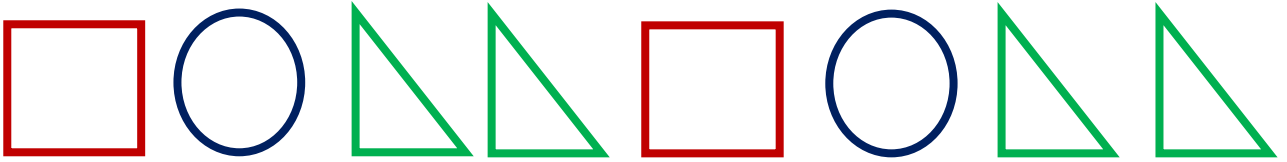


2. Yukarıdaki örüntünün kuralı ile aynı olan örüntü aşağıdakilerden hangisidir?

A




B





C

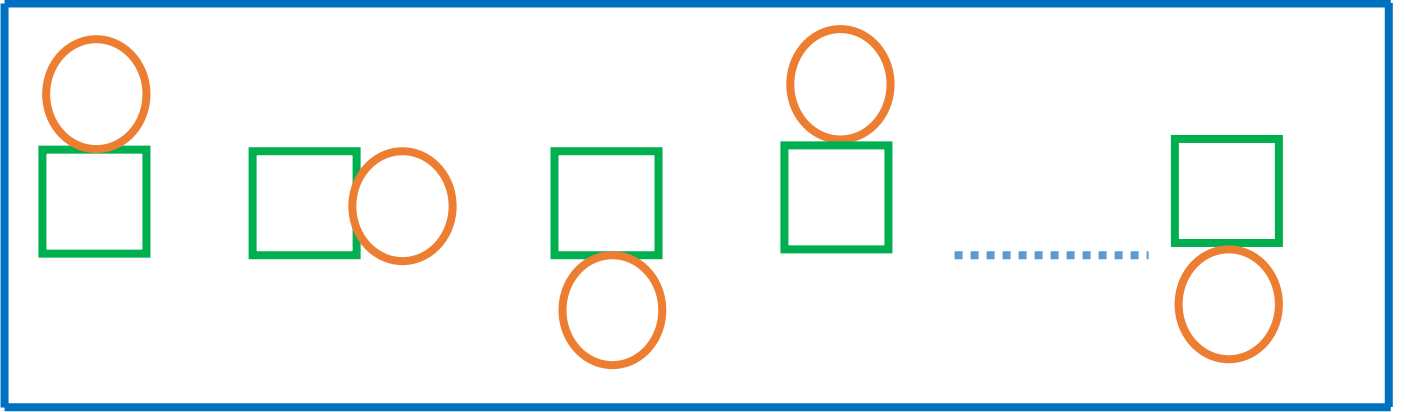


### 3. Aşağıdaki örüntülerde hangisinin kuralı farklıdır?




**A** 


**B** 

**C** 



### 4. Yukarıdaki örüntüde boşluğa aşağıdakilerden hangisi gelmelidir?

**A**  **B**  **C** 



### 5. Yukarıdaki örüntünün kuralı nedir?

- A) Bir üçgen - bir kare - bir çember
- B) Bir üçgen - iki çember - bir kare
- C) Bir üçgen - bir kare - iki çember