


BÜTÜN - YARIM - ÇEYREK (Kesirler)

Bütün: Eksiksiz olan, bölünmemiş, parçalanmamış, tam olan anlamına gelir.

Örnek:



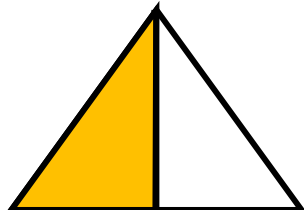

Yukarıdaki ekmek, daire ve elma birer **Bütündür**.

Yarım: Bir bütünün iki eş parçaya bölünmüş olan her bir parçasına denir.

Örnek:



Yukarıdaki ekmek, elma ve daire iki eş parçaya bölünmüştür. Parçalardan her biri **Yarımdır**.



Yukarıdaki şekiller 2 eş parçaya bölünmüş ve 1 parçası boyanmıştır. Boyanan parçalar bütünün yarısıdır.

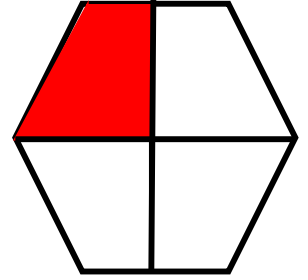
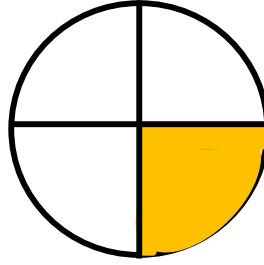
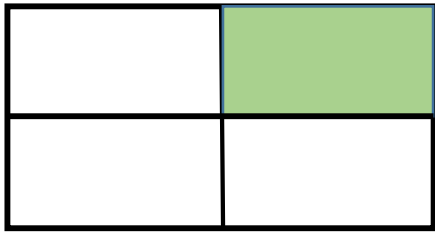
Çeyrek: Bir bütünün 4 eş parçaya ayrılmış olan bölümlerinden her biri **Çeyrek**dir.



Yandaki bütün 4 eş parçaya bölünmüştür. Bütünün bölünen her 1 parçası **Çeyrek**dir.




Çeyrek



Yukarıdaki şekiller 4 eş parçaya bölünmüş ve 1 parçası boyanmıştır. Boyalı olan kısım bütünün çeyreğidir.

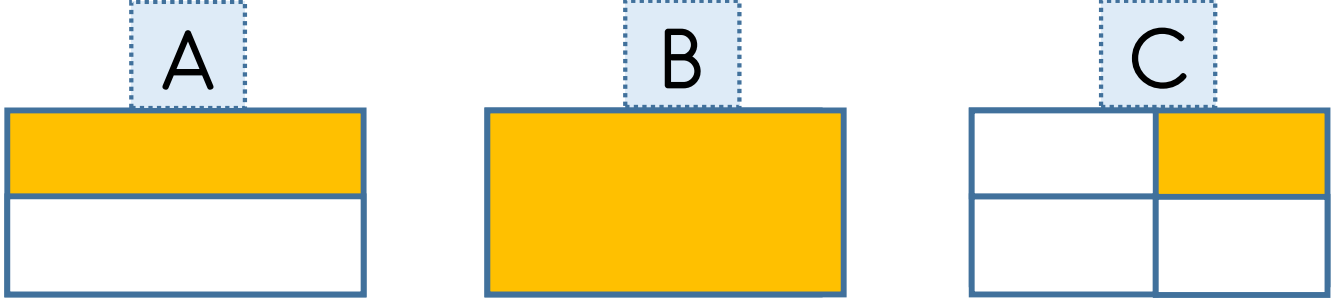
1 yarım 2 çeyrek eder. Yani bir yarımı iki eş parçaya ayırırsak her bir parçası **çeyrek** olur.




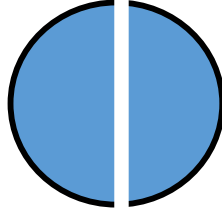

1 bütün 2 yarım 1 bütün
4 çeyrek eder.
1 yarım 2 çeyrek eder.

DEĞERLENDİRME SORULARI

1. Aşağıdaki boyalı alanlardan hangisi bütünü ifade eder?



2. Aşağıdaki bütünlere kaç tanesi iki eşit parçaya ayrılmıştır?



- A) 2
- B) 3
- C) 4

3. Aşağıdaki ifadelerden hangisi yanlıştır?

- A) 1 bütün 4 çeyrek eder.
- B) 2 yarım 1 bütün eder.
- C) 4 çeyrek 1 yarım eder.

4. Aşağıdaki ifadelerden hangisi doğrudur?

- A) 2 bütün 8 yarım eder.
- B) 4 yarım 1 çeyrek eder.
- C) 1 bütün 4 çeyrek eder.


bütün - yarım - çeyrek

5. Aşağıdaki boşluklara yukarıdaki ifadeler yazılırsa hangi ifade boşa kalır?

Bir bütünü iki eşit parçaya bölersek her bir parça olur.

Bir bütünün dört eşit parçasından her birine denir.

- A) yarım
- B) bütün
- C) çeyrek



Bütün



Çeyrek



Yarım

6. Yukarıda yazılanlardan hangisi boyalı alanı doğru ifade ediyor?

- A) Bütün
- B) Yarım
- C) Çeyrek

Fatih 4 çeyrek elma, Mete 2 yarım elma, Fatma 2 çeyrek elma yedi.

7. Yukarıdaki çocukların yedikleri elmaları gösteren hangi resim yanlıştır?

A

Fatih



B

Mete



C

Fatma

