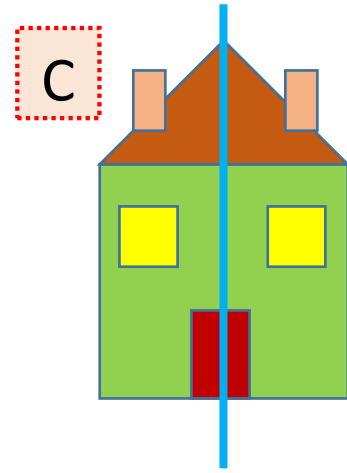
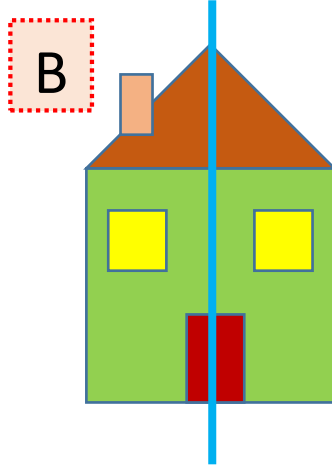
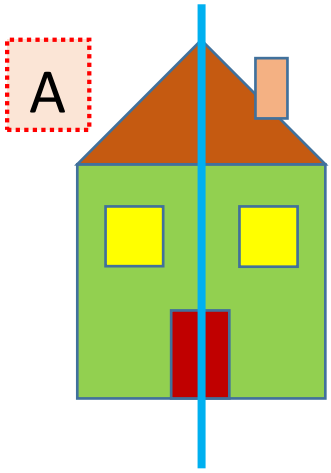




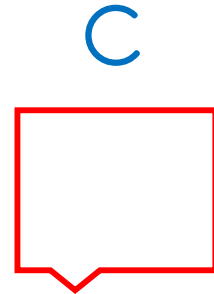
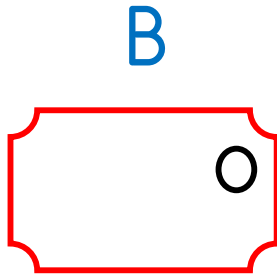
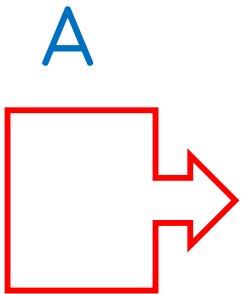
1. Aşağıdaki çizgilerden hangisi simetri çizgisidir?



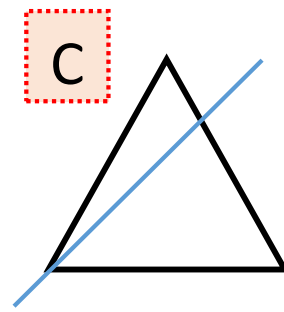
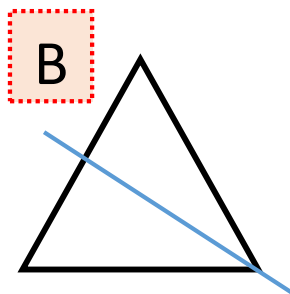
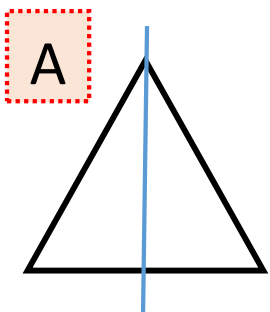
2. Aşağıdaki harflerin hangisinin simetrisi yoktur?




3. Aşağıdaki şekillerden hangisi iki eş parçaya ayrılır?


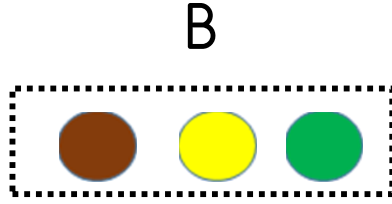
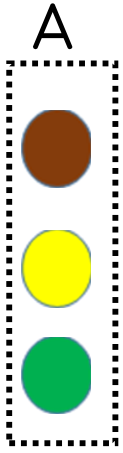


4. Aşağıdaki şekillerden hangisinin simetri çizgisi yanlıştır?





5. Yukarıdaki şekli saat yönünde bir çeyrek tur hareket ettirirsek şeklin yönü nasıl olur?




Boncuk

GİRİŞ	A	B	C
Ç	D	E	F
G	Ğ	H	I
İ	J	K	L
M	N	O	Ö
P	R	S	Ş

Boncuk harf kutucuğuna giriyor. Önce 3 adım aşağı sonra 3 adım sağa daha sonra 1 adım yukarı ve en sonunda 2 adım sola gittikten sonra duruyor.

6. Boncuk hangi harfin olduğu kutucukta durmuştur?

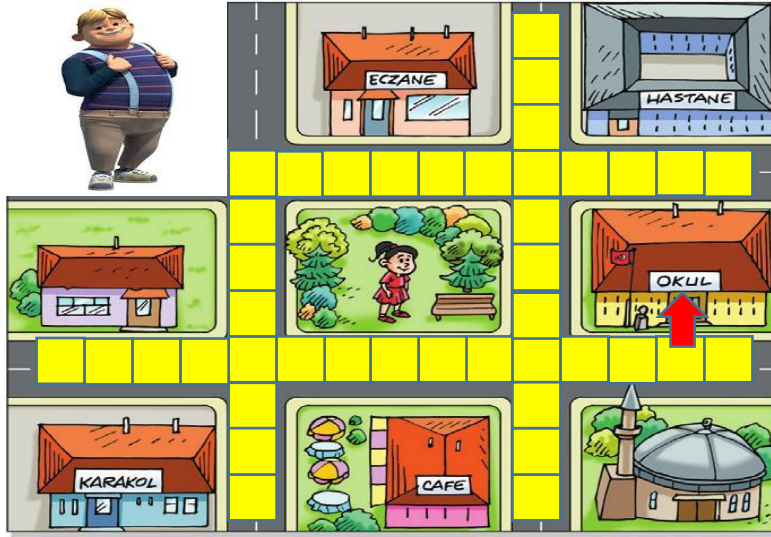




Yukarıdaki sincap cevizleri yemek istiyor.

7. Sincap cevize gitmek için nasıl hareket etmelidir?

- A) Önce 3 adım sağa sonra 2 adım aşağı gitmeli.
- B) Önce 2 adım aşağı sonra 1 adım sağa gitmeli.
- C) Önce 2 adım sağa sonra 2 adım aşağı gitmeli.



Okulun girişi ok işareti ile gösterilmiştir.

Hayri okula gitmek için önce sağa sonra aşağı daha sonra da sağa hareket etmiştir.

8. Hayri okula gitmek için toplam kaç adım atmıştır?

A 14


B 12

C 10



9. Yandaki resme göre hangi ifade yanlıştır?

- A) Eşegin üstünde köpek var.
- B) Horozun üstünde kedi var.
- C) Kedinin altında köpek var.



10. Aşağıdakilerden hangisi yukarıdaki resmin simetrisidir?

