

Adı Soyadı:.....

## TÜRKÇE

### **CİCİ KUŞ**

" Bir varmış bir yokmuş. Bir cici kuş varmış. Bu kuş güzel bir ormanda yaşarmış. Daldan dala uçarmış. Cık cık! Öterek şarkı söylermiş."  
( İlk dört soruyu metne göre yanıtlayınız.)

#### 1. Cici kuş nerede yaşarmış?

- A. yuvada B. ağaçta  
C. ormanda

#### 2. Cici kuş nereden nereye uçarmış?

- A. daldan dala B. ağaçtan ağaca  
C. ormandan ormana

#### 3. Kuş nasıl şarkı söylüyormuş?

- A. gak gak öterek B. cık cık öterek  
C. lak lak öterek

#### 4. Cici kuş nasıl bir ormanda yaşıyormuş?

- A. güzel B. vahşi C. ıssız

#### 5. " şeftali" sözcüğünde kaç ünlü harf vardır?

- A) 3 B) 7 C) 4

#### 6. Özel isimlerin ilk harfi nasıl yazılır?

- A) bazen büyük B) küçük C) büyük

#### 7. "Pişirirsen aş olur, pişirmezsen kuş olur." bilmesinin cevabı nedir?

- A) kelebek B) koyun  
C) yumurta

#### 8. Aşağıdaki tümcelerin hangisinde bir istek vardır?

- A) Annem kek yapmış.  
B) Annemin yaptığı keki seviyorum.  
C) Annem akşama kek yapsa.

#### 9. " Ali pilanlı bir öğrencidir." Cümlesinde yanlış yazılan kelime aşağıdakilerden hangisidir?

- A) pilanlı B) öğrencidir  
C) Ali

#### 10. Aşağıdaki cümlelerin hangisinde "sıcak" kelimesinin anlamı diğerlerinden farklıdır?

- A) Hava çok sıcak. B) Fırın çok sıcak.  
C) Burcu'nun annesi çok sıcak biri.

#### 11. " Babam İstanbul'dan döndü mü " cümlesinin sonuna hangi noktalama işareti konulmalıdır?

- A) nokta B) soru işareti  
C) virgül

#### 12. "-lış - ça - li - kan " heceleri ile anlamlı bir kelime oluşturulduğunda hangi hece başta yer alır?

- A) li B) ça  
C) lış

#### 13. Aşağıdaki tümcelerin hangisinde özel ad vardır?

- A. Annem Ankara'ya gitti.  
B. Bugün hava çok güzel.  
C. Dün akşam teyzem geldi.

#### 14. Aşağıdaki tümcelerde altı çizili sözcüklerden hangisi farklı bir varlık adıdır?


- A) Kediye süt içirdim.  
B) Yavru köpek çok sevimli.  
C) Bahçeden lâle topladım.

#### 15. "Sabahleyin erken kalkarım. Yüzümü yıkarım. Kahvaltımı yaparım. " sözünde kaç cümle vardır?

- A) 2 B) 3 C) 4

## MATEMATİK

1. Alttaki örüntüde noktalı yere hangi şekil gelmelidir?



- A)  B)  C) 

2. 12 çocuk oyun oynarken aralarından 3 tanesi ayrıldı. Oyun oynayan kaç çocuk kaldı?

- A) 9 B) 12 C) 15

3. 10'ar 10'ar sayarken 70'ten önce hangi sayı söylenir?

- A) 50 B) 60 C) 70

4. 2 deste ve 1 düzine kalemim kaç tane-dir?

- A) 20 B) 32 C) 3

5. 1 onluğa 7 birlik eklediğimizde hangi sonucu buluruz?

- A) 17 B) 8 C) 18

6. Aşağıdaki paralarımızdan hangisinin değeri fazladır?

- A) 5 YTL B) 10 YTL C) 50 YTL

7. Aysu'nun 7 tane eriği vardı. Annesi 5 tane, ablası da 4 tane daha verdi. Aysu'nun kaç eriği oldu?

- A) 16 B) 2 C) 12

8. 16'nın 9 eksiği kaçtır?

- A) 25 B) 7 C) 8

9. Bir dolmuşta 13 yolcu vardı. Durakta 8 yolcu indi, 5 yolcu bindi. Dolmuşta kaç yolcu vardır?

- A) 10 B) 26 C) 21

10. Nalan 8 yaşındadır. Kardeşi Nalan'dan 5 yaş küçüktür. İkisinin yaşları toplamı kaçtır?

- A) 13 B) 3 C) 11

11.  $\triangle + 6 = 14$  işleminde  $\triangle$  yerine hangi sayı yazılmalıdır?

- A) 6 B) 7 C) 8

12.

$$\begin{array}{r} 15 \\ \blacksquare \\ \hline 9 \end{array}$$

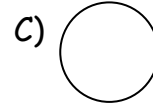
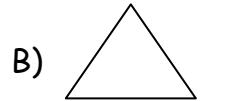
Yandaki çıkarma işleminde  $\blacksquare$  yerine hangi sayı yazılmalıdır?

- A) 8 B) 7 C) 6

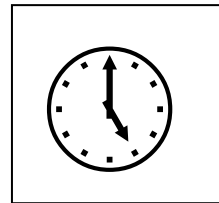
13. Berke'nin 12 kalemi vardır. Ablasının kalemleri ise Berke'nin kalemlerinin yarısı kadardır. İkisinin kalemleri toplamı kaçtır?

- A) 2 B) 12 C) 18

14. Aşağıdaki geometrik şekillerden hangisi üçgendir?



15.



Yandaki saat kaç göstermektedir?

- A) Saat 5 B) Saat 12 C) Saat 4

## HAYAT BİLGİSİ

1. Yemeğimizi yedikten sonra annemize söylememiz gereken altın sözcük aşağıdakilerden hangisidir?

- A) Lütfen verir misin? B) Özür dilerim.  
C) Eline sağlık

2. Okulumuzu kim yönetir?

- A) öğretmen B) müdür C) hizmetli

3. Dış görünüş özelliğimize ne denir?

- A) Fiziksel özelliğimiz  
B) Ruhsal özelliğimiz  
C) Hoşgörümüz

4. Okul eşyamızı izinsiz alan arkadaşımızı görünce kendimizi nasıl hissederiz?

- A) üzgün B) kızgın C) mutlu

5. Yemek yerken hangisini kullanmayız?

- A) kaşık B) çatal C) diş fırçası

6. Oyun oynarken yapacağımız en doğru davranış aşağıdakilerden hangisidir?

- A) Oyuna çalışkan olanları almak  
B) Oyunda sıramızı beklemek  
C) Herkesin önüne geçmek

7. Aşağıdakilerden hangisi kişisel bakım araçlarımızdan biridir?

- A) tırnak makası  
B) kalem  
C) bisiklet

8. Ayşe tatilde Atatürk'ün mezarını ziyaret etti. Ayşe hangi ilimize gitmiştir?

- A) İstanbul B) Selânik C) Ankara

9. Aşağıdakilerden hangisi yanlıştır?

- A) Sorunlarımızı kavga ederek çözmek  
B) Sabah herkese "günaydın" demek  
C) Arkadaşımızla alay etmemek

10. Havanın soğuk olduğunu hangi organımızla anlarız?

- A) gözümüzle  
B) derimizle  
C) burnumuzla

11. Okulumuz hangi ayda açılır?

- A) ocak B) haziran C) eylül

12. Buzluğa koyduğumuz suyu, ertesi gün çıkardığımızda su nasıl olur?

- A) Buhar olur.  
B) Buz olur.  
C) Su aynı kalır.

13. Dün günlerden çarşamba idi. Yarın günlerden hangisi olur?

- A) perşembe  
B) cuma  
C) cumartesi

14. Aşağıdakilerden hangisi doğal afet değildir?

- A) deprem B) sel C) trafik kazası

15. Yangın çıktığında aşağıdaki telefon numaralarından hangisini aramalıyız?

- A) 112 B) 110 C) 155