



1



T

I



A

K

Görseldeki olaylar oluş sırasına göre sıralanırsa hangi kelime yazılmış olur?

- A. ATIK B. TAKI C. KITA

2

İ	H	A	F	T	A	T	G	U	S
N	Z	M	F	G	H	U	İ	U	U
Ş	E	H	İ	R	İ	R	K	Y	L
T	S	A	T	O	L	A	A	K	H
L	V	A	K	İ	T	M	Z	U	Ü

Yukarıdaki bulmacaya soldan sağa, yukarıdan aşağıya bakıldığında, aşağıdaki kelimelerden hangisinin eş anlamlısını bulamayız?

- A. Barış B. Uyarı C. Sene

3

Aşağıda verilen sembollerden hangisinin anlamı yanlış verilmiştir?

A.



Kızılay

B.



Herkes İzleyebilir

C.



Geri Dönüşüm

4

	Hava Durumu	
	Cumartesi	Pazar
Mardin		
İzmir		
Samsun		

Pazar gününün güneşli olacağını söyleyen biri hangi ilde bulunmaktadır?

- A. Mardin B. İzmir C. Samsun

5

Aşağıdakilerden hangisinde tekil ad ve tekil ada ait çoğul adı yanlış yazmıştır?

- A. sabun → sabunlar
B. göz → gözler
C. sıra → okul



1


1



2



3




4

5

Yukarıda verilenlerden hangileri standart olmayan ölçme araçlarıdır?

- A. 1-2-3-5
B. 2-4
C. 1-3-5

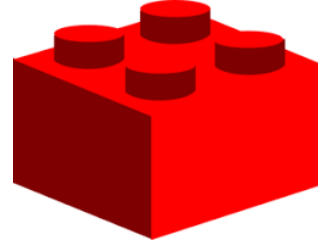
2



Yukarıda verilenlere göre Engin'in boyu kaç santimetredir?

- A. 80 cm B. 90 cm C. 60 cm

3

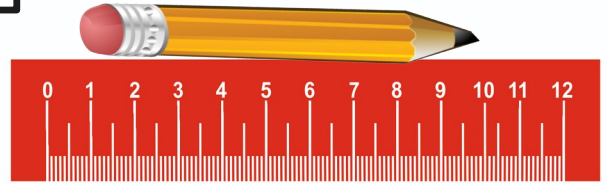


Yüksekliği
3 cm

Yukarıdaki legolardan 9 tanesini üst üste koyarsak oluşacak yeni yapının yüksekliği kaç santimetre olur?

- A. 27 B. 12 C. 24

4



Yukarıdaki kalemin uzunluğu kaç santimetredir?

- A. 10 B. 9 C. 8

5

1 metre kaç santimetredir?



Öğretmenin sorduğu sorunun cevabı hangisidir?

- A. 50 cm B. 75 cm C. 100 cm




1



Görselde verilen doğal afet hangisidir?

- A. Heyelan B. Çığ C. Sel

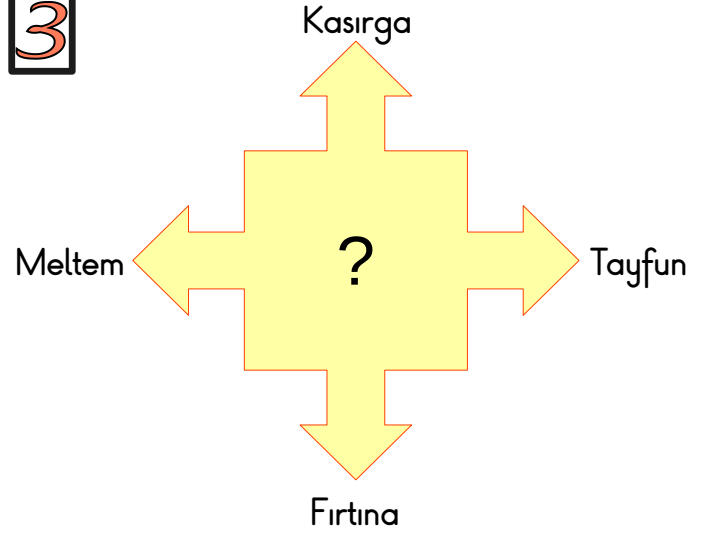
2



Deprem anında yapılması gereken yukarıdaki hareketin adı nedir?

- A. Çök-Kalk-Kaç
B. Çök-Kapan-Tutun
C. Çök-Kork-Bağır

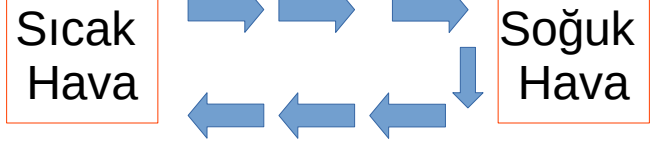
3



Yukarıda verilen ipuçlarına göre soru işareti yerine hangisi gelmelidir?

- A. Rüzgâr B. Yağmur C. Kar

4



Sıcak hava ile soğuk havanın yer değiştirmesi sonucu oluşan doğa olayı hangisidir?

- A. Yağmur B. Dolu C. Rüzgâr

5

Aşağıdakilerden hangisi doğal afet değildir?

- A. Trafik kazası
B. Heyelan
C. Sel