



HOCANIN EŞEĞİ

Hoca eşeğini pazara götürüp satmak ister. Bir müşteri çıkar.

Eşeğin yaşını anlamak için dişine bakacak olur. Eşek onun elini ısırır. Adam söylenerek çeker gider.



Başka bir müşteri de kuyruğunu kaldıracak olur. Bacağına bir çift yer. O da kızar ve topallayarak oradan uzaklaşır. Onları gören biri der ki:

-Hocam, bu eşeği kimse almaz. Baksanıza, önüne geleni ısırıyor, tekmeliyor.

Hoca şöyle cevap verir:

-Zaten ben de onu pazara satmak için getirmedim. İnsanlar görsünler de benim neler çektiğimi anlasınlar diye getirdim.

(1, 2 ve 3. soruları metne göre cevaplayınız.)

1) Hoca eşeğini nereye götürmüştü?

- A) Köye
- B) Pazara
- C) Ahıra

2) Birinci müşteri neden eşeğin dişine bakmıştı?

- A) Dişlerinin sağlıklı olup olmadığını kontrol etmek için.
- B) Eşeğe yemek yedirmek için.
- C) Eşeğin yaşını kontrol etmek için.

3) Hoca en sonunda, eşeğini neden pazara getirdiğini söylemiş?

- A) Satmak için.
- B) Gezdirmek için.
- C) Kendisinin neler çektiğini göstermek için.

4) Aşağıdaki cümlelerin hangisinde kalın ünlü harf sayısı ince ünlü harf sayısından fazladır?

- A) Dün sabah erkenden uyandım.
- B) Bülent okuldan gelince bahçeye çıktı.
- C) Didem tüm soruları çözdü.



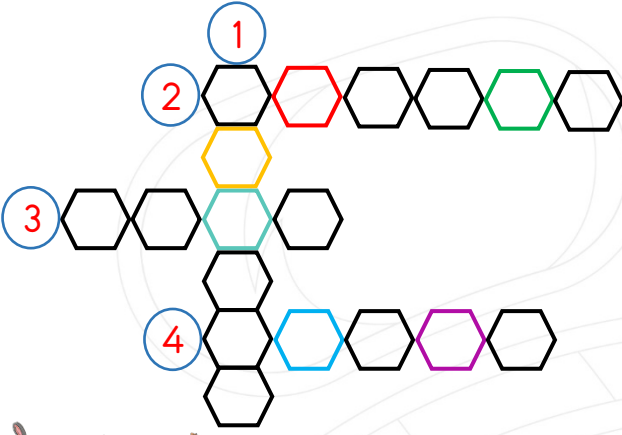
Başöğretmen

5) Yukarıdaki kelimenin ilk hecesi aşağıdaki kelimelerin hangisinin son hecesidir?

- A) Karabaş
- B) Akraba
- C) Başlık



Düşündüren Soru



- 1) Cümle içindeki eş görevli sözcükleri ayırmak için kullanılan noktalama işareti.
- 2) "Görev" sözcüğünün eş anlamlısı.
- 3) "Islak" sözcüğünün zıt anlamlısı
- 4) Korku, heyecan, şaşkınlık bildiren cümlelerin sonunda kullanılan noktalama işareti.

ŞİFRE



6) Yukarıdaki bulmacayı çözdükten sonra renkli kutulara gelen harfleri yerlerine yazarak şifreyi bulacaksınız. Buna göre şifre aşağıdakilerden hangisidir?

- A) ARİFE
- B) ALİYE
- C) AFERİN

Arda, tatilde dedesinin yanına köye gitti.

7) Tahtada yazılı olan cümlede aşağıdaki sorulardan hangisinin cevabı yoktur?

- A) Ne zaman?
- B) Niçin?
- C) Nereye?

8) Aşağıdaki cümlelerin hangisinin sonunda diğerlerinden farklı bir noktalama işareti kullanılmalıdır?

- A) Duru okula geldi mi bilmiyorum
- B) Sibel kitap okumayı seviyor mu
- C) Cemre niçin ödevini yapmamış

9) Hangi cümlede eş sesli bir kelime kullanılmamıştır?

- A) Fırat marketten çay ve şeker aldı.
- B) Dedem bayramda yüz lira harçlık verdi.
- C) Babam eski arabasını sattı.

10) "Okuldan gelince ödevlerimi"

Yukarıda verilen cümlenin olumsuz olması için noktalı yere aşağıdaki sözcüklerden hangisi gelmelidir?

- A) yaptım.
- B) bitirmedim.
- C) bitirdim.

11) Aşağıdakilerden hangisi sebep - sonuç cümlesi değildir?

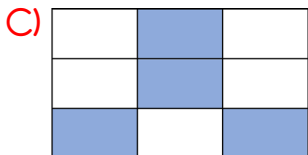
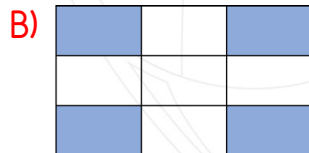
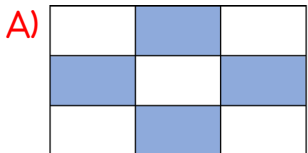
- A) Tatilde köye gidemediği için dedesini göremedi.
B) Çok kar yağmıştı bu yüzden yola çıkamadılar.
C) Kübra, ödevini yapmama sebebini öğretmenine söylemedi.

12)

Tren	Bursa	Kalem
Didem	Araba	Karabaş
Sınıf	Uludağ	Öğretmen



Çiğdem, yukarıda verilen tablodaki isimlerden özel isim olanları mavi renge boyayacaktır. Buna göre oluşacak şekil aşağıdakilerden hangisidir?



13) Aşağıdaki cümlelerin hangisinde topluluk ismi kullanılmıştır?

- A) Öğretmen sınıfta ders anlatıyor.
B) Bütün sınıf sessizce öğretmeni bekliyor.
C) Sınıfımızı bayraklarla süsledik.

14) Aşağıdaki cümlelerin hangisinde zıt anlamlı kelimeler birlikte kullanılmamıştır?

- A) Furkan okuldan gelince tüm ödevlerini bitirdi.
B) Genç kız otobüste yaşlı amcaya yer verdi.
C) Sınavda başarılı olmak için gece gündüz çalıştı.

15) "Ormandaki Aslan Kral" isimli hikâyenin başlığından yola çıkarak aşağıdaki hikâye unsurlarından hangisini bulamayız?

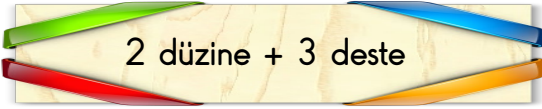
- A) Zaman B) Kahraman C) Yer



Türkçe dersi sınavı bitti.

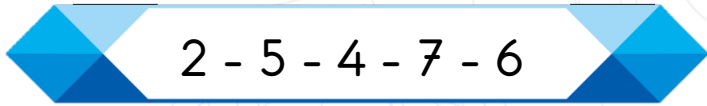
Matematik dersine geçiniz.

1)



Yukarıda verilen işlemin sonucu aşağıdakilerden hangisine eşittir?

- A) 2 onluk + 3 birlik
- B) 5 birlik + 6 onluk
- C) 5 onluk + 4 birlik




2) Yukarıdaki sayı örüntüsü devam ettirilirse 7. ve 9. sıradaki sayıların toplamı kaçtır?

- A) 18
- B) 8
- C) 16

$$\begin{array}{r} 26 \\ + \square \\ \hline 94 \end{array} \quad \begin{array}{r} \square \\ - 19 \\ \hline \square \end{array}$$

3) Yukarıda verilen işlemde yerine hangi sayı yazılmalıdır?

- A) 68
- B) 49
- C) 75



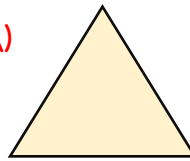
4) Yukarıdaki 8 limondan 1 sürahi limonata yapılmaktadır. 1 sürahiden de 6 bardak limonata çıkmaktadır.

24 adet limondan yapılan limonatadan gelen misafirlere 7 bardak ikram edilmiştir. Buna göre geriye kaç bardak limonata kalmıştır?


- A) 11
- B) 17
- C) 13

5) Aşağıdaki yüzeylerden hangisi üçgen prizmada bulunmaz?

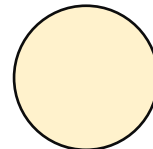
A)



B)



C)



6) Aşağıdaki şekillerden hangisi simetrik değildir?



7) Aşağıdaki eşitliklerden hangisi yanlıştır?

- A) $4 \times 5 = 5 \times 4$
B) $2 \times 7 = 7 \times 2$
C) $1 \times 9 = 2 \times 9$

8) Kumbaramdan 8 tane 25 kuruş, 6 tane 50 kuruş, 3 tane 1 lira ve 2 tane de 5 lira çıktı. Bu parayı kardeşimle eşit olarak paylaşırsak her birimize kaç lira düşer?

- A) 9 B) 8 C) 7

9) Bir kurbağa düştüğü 25 metrelik bir kuyudan gündüzleri 5 metre yukarı çıkıyor, geceleri 2 metre aşağı kayıyor.



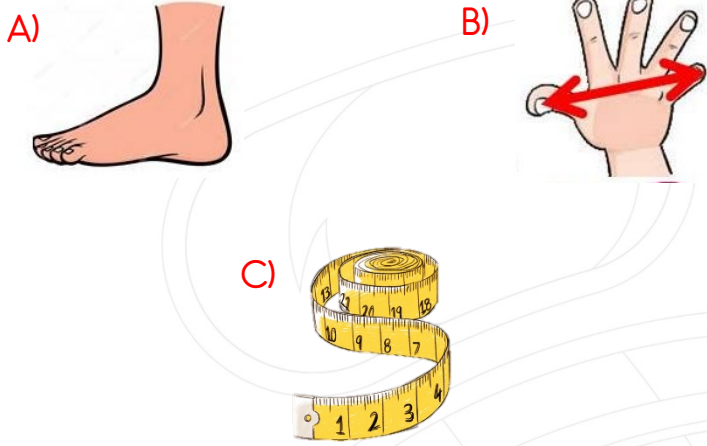
Buna göre, bu kurbağa en erken kaçınıcı günde düştüğü kuyudan çıkar?

- A) 5 B) 8 C) 10

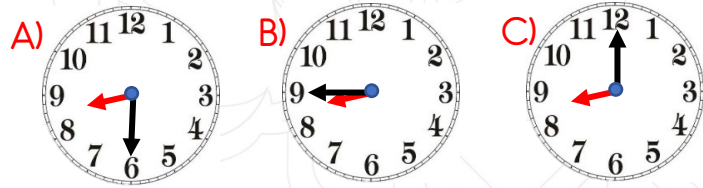
10) Dün günlerden salı olduğuna göre iki gün sonra hangi gün olur?

- A) Çarşamba B) Perşembe C) Cuma

11) Aşağıdakilerden hangisi standart olmayan uzunluk ölçü birimlerindedir?



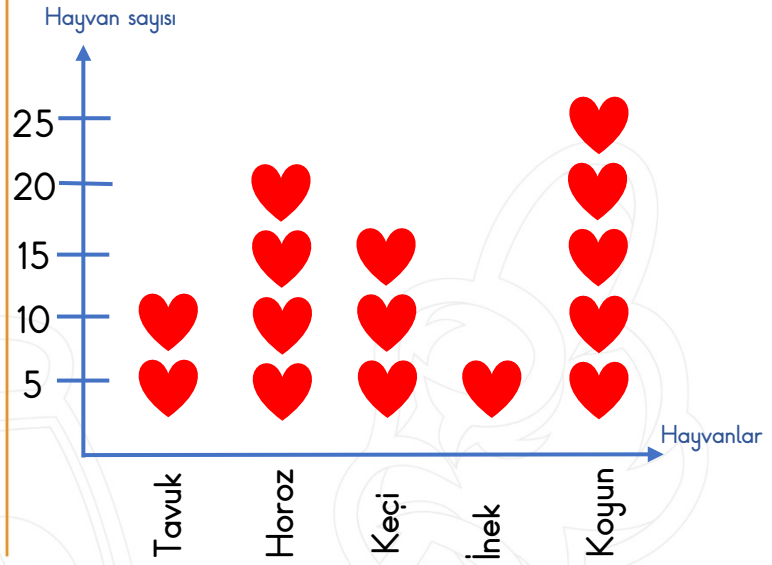
12) Yandaki saatten çeyrek saat sonra saat kaç gösterir?



13) Yusuf 25 kilogramdır. Babası da Yusuf'tan 45 kilogram daha ağırdır. Buna göre babası ve Yusuf'un ağırlıkları toplamı kaç kilogramdır?

- A) 90 B) 95 C) 85

Grafik: Çiftlikteki hayvanların sayısı



Not: Her ♥ 5 hayvanı göstermektedir.
(14. ve 15. soruları grafiğe göre cevaplayınız.)

14) Çiftlikteki hayvanların sayısı büyükten küçüğe sıralandığında ikinci sırada hangi hayvan olur?

- A) Horoz B) Tavuk C) İnek

15) Çiftlikteki toplam hayvan sayısı kaçtır?

- A) 15 B) 75 C) 25



Matematik dersi sınavı bitti.

Hayat Bilgisi dersine geçiniz.

1) **Adil:** "Bilgisayar oyunu oynamayı çok severim."

Esra: "Yarın futbol maçı yapacağız."

Murat: "Mavi gözlüyüm ve gözlük kullanıyorum."

Yukarıdaki çocuklardan hangisi yapmaktan hoşlandığı bir etkinlikten bahsetmiştir?

- A) Murat B) Esra C) Adil

2) Aşağıdaki tanımlardan hangisi "anneanne" için kullanılmaz?

- A) Halamızın annesi
B) Teyzemizin annesi
C) Dayımızın annesi

3) Aşağıdaki çocuklardan hangisi bir isteğini dile getirmiştir?

- A) Defterim bittiği için yeni defter alacağım.
B) Kantinden çikolata almaya gidiyorum.
C) Kış geldiği için babamla yarın bot almaya gideceğiz.

4) Aşağıda resimleri verilen besinlerden hangisi sağlıklı beslenmek için tüketmemiz gerekenler arasında yer almaz?



5) Yukarıdaki ulaşım araçlarından kaç tanesi deniz yoluyla kullanılır?

- A) 5 B) 4 C) 3

6)



Yukarıdaki durumu gören Levent, aşağıdaki acil durum numaralarından hangisini aramalıdır?

- A) 183 B) 155 C) 110

7) Aşağıdaki ülkelerden hangisi komşumuzdur?

A) Çin

B) Almanya



C) Yunanistan




8) Aşağıdaki bayramlardan hangisi dini bayramlarımızdan değildir?

- A) Zafer Bayramı
B) Kurban Bayramı
C) Ramazan Bayramı



Düşündüren Soru

9) Sedat, sınıfla beraber gittikleri izci kampında kamp yapacakları alanın haritasını incelemektedir.



Yukarıdaki haritada güneşin battığı yön 'B' ile gösterilmiştir. Buna göre Sedat'ın baktığı haritada 1 numara ile gösterilen yön aşağıdakilerden hangisidir?

- A) Kuzey B) Güney C) Doğu

10) Güneşi gün boyu farklı yerlerde görmemizin nedeni aşağıdakilerden hangisidir?

- A) Dünya'nın kendi etrafında dönmesi
B) Ay'ın Dünya'nın etrafında dönmesi
C) Dünya'nın Güneş etrafında dolanması



Hayat Bilgisi dersi sınavı bitti.
İngilizce dersine geçiniz.

- 1)  Yandaki Mesut düşüp yaralanmıştır. Mesut'un yarasının olduğu bölgenin İngilizce karşılığı aşağıdakilerden hangisidir?

A) Knee B) Arm C) Head



- 2) Aşağıdaki renklerin hangisi Berat'ın elindeki balonların renginden değildir?

A) Blue B) Purple C) Green

- 3)  "There is a dog the table."

Yandaki görsele göre cümle aşağıdakilerden hangisiyle tamamlanırsa doğru olur?

A) in B) under C) on



- 4) Görsele göre aşağıdaki soruyu yanıtlayınız

"What is it?"

A) Skip a rope
B) Hide and seek
C) Slide



- 5) "How many pencil are there?"

A) four B) five C) six



Deneme Sınavınız bitti.

Cevapları kontrol ediniz.