



ŞANSSIZ KÖYLÜNÜN ŞANSI

Uzak köylerin birinde çiftçilikle uğraşan bir köylü yaşarmış. Bu köylü ben doğuştan şanssızım der dururmuş. Bu yüzden işleri hep ters gidermiş. Ekim ayı gelince köylü uğraşıp tarlasını sürmüş, tohumlarını ekmiş. Sonbahar gelince yağmurlar yağmaya başlamış. Çevredeki tarlalara yağmur yağmasına karşın, şanssız köylünün tarlasına bir damla yağmur bile düşmemiş. Köylü çaresiz, dereden su taşıyarak tarlasını sulamış.

Mart ayı gelince havalar yavaş yavaş ısınmış. Tarlalarda ekinler boy atmaya, sebzeler olgunlaşmaya, ağaçlar çiçek açmaya başlamış. Bu yalancı bahar uzun sürmemiş, aniden yağın dolu tarlaları alt üst etmiş. Tahmin ettiğiniz gibi, şanssız köylünün tarlasına yağmur yağmadığı gibi dolu da yağmamış. O da yetiştirdiği ürünleri, şu yokluk zamanında iyi bir fiyata satarak zengin olmuş.

(1, 2 ve 3. Soruları metne göre cevaplayınız.)

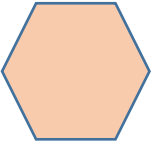
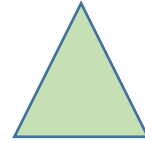

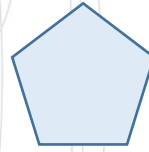
1. Köylünün işleri neden hep ters gidermiş?
A. Tarlasını ektiğinde yağmur yağmadığı için.
B. Şanslı birisi olduğunu herkese anlattığı için.
C. Sürekli ben doğuştan şanssızım dediği için.
2. Hangi olay şanssız köylünün şansı olmuştur?
A. Onun tarlasına dolu yağmaması.
B. Komşularının tarlasında verimin yüksek olması.
C. Mart ayında havaların ısınmaya başlaması.

3. Şanssız köylü tarlasına yağmur yağmayınca ne yapmış?

- A. Yağmur duasına çıkmış.
- B. Dereden su taşıyarak tarlasını sulamış.
- C. Köydeki çeşmeden su taşımış.



Düşündüren
Soru



Yukarıdaki geometrik şekillerden her biri köşe sayısı kadar ünsüz (sessiz) harften oluşan kelimeleri temsil etmektedir.

4. Buna göre bu şekillerin sırasıyla temsil ettiği kelimeler aşağıdakilerden hangisi olabilir?
A. Kitaplık - Yumurta - Kalem - Gazete
B. Yurttaş - Köfteci - Silgi - Teleferik
C. Tekerlek - Gözlük - Simit - Bilgisayar

5. Aşağıdaki cümlelerin hangisinde ünlem işareti (!) yanlış yerde kullanılmıştır?

- A. Ayyy! Eline diken mi batmış?
B. Heeey, Bunu bana neden yapıyorsun!
C. Ahhh, bacağıım çok acıyor!

Gece yuvadan düşen yumurta kırılmış.

6. Yukarıdaki cümlede hangi sorunun cevabı yoktur?

- A. Nasıl?
B. Ne?
C. Ne zaman?

Dertli Dünür Dündar Dürüm Düzen
① ② ③ ④ ⑤

7. Yukarıdaki kelimelerin sözlük sırasına göre doğru sıralanmış olması için hangi ikisinin yer değiştirmesi gerekir?

- A. ② ve ③ B. ④ ve ⑤
C. ② ve ④

Bahçede çukur kazarken elimdeki dal kırıldı.

8. Yukarıdaki cümlede kaç tane eş sesli (sesteş) kelime vardır?

- A. II B. III C. IV

*I. Gelirken Sine mi yolda görmüştüm.
II. Bu yapılanları kedilermi görmüş?
III. Düğüne sen de mi geleceksin?*

9. Yukarıdaki cümlelerin hangisinde mi eki doğru yazılmıştır?

- A. III B. I C. II

*I. İnsanları güzel ya da çirkin diye sınıflandırmak kötü bir davranıştır.
II. Dün yaşanan vakadan sonra olay yeri inceleme ekibi tüm delilleri topladı.
III. Mahallemizde çıkan kavgaya polisler müdahale ettiler.*


10. Yukarıdaki cümlelerin hangisinde eş anlamlı kelimeler bir arada kullanılmıştır?

- A. I B. II

C. III

11. Aşağıdaki cümlelerin hangisinde yanlış yazılmış bir kelime yoktur?

- A. Bizim sokakta belediye asfalt çalışması yapıyor.
- B. Bizim servisin şöförünün adı Mehmet'miş.
- C. Herkes üstüne düşen işleri tam olarak yaptı.



12. Yukarıdaki kelimelerden hangi ikisinin zıt anlamlısı yoktur?

- A. Cimri - Cömert
- B. Ceket - Cesur
- C. Cetvel - Ceket

Derslerime çok çalıştım başarılı olamadım.

13. Yukarıdaki cümlede boş bırakılan yere aşağıdakilerden hangisi gelemez?

- A. ama
- B. fakat
- C. bu nedenle

14. Aşağıdaki cümlelerin hangisinde hece sayısı diğerlerinden farklıdır?

- A. Önümüzdeki yıl inşallah bu hastalık biter.
- B. Kurallara uyarak hastalığı yenebiliriz.
- C. Maske, mesafe ve hijyen çok ama çok önemliymiş.



15. Yukarıdaki görsel bize aşağıdaki kelimelerden hangisini çağrıştırır?

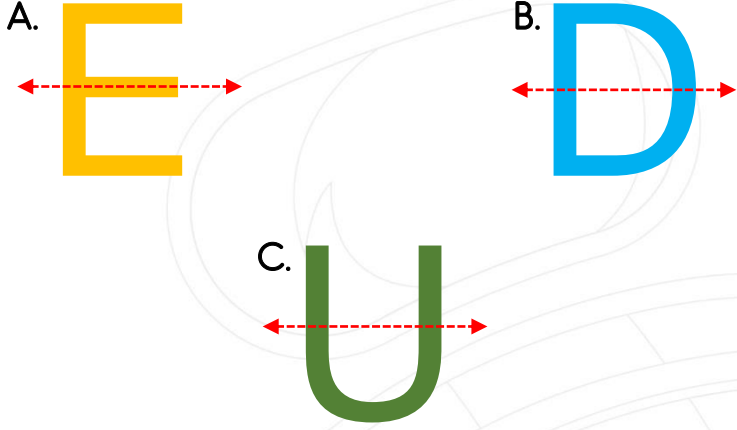
- A. Ekmek
- B. Çiftçi
- C. Kahvaltı

Türkçe dersi sınavı bitti.

Matematik dersine geçiniz.




1. Aşağıdaki harflerden hangisinin simetri doğrusu yanlış çizilmiştir?



2. Bir kantinci hazırladığı 48 adet tostun $\frac{1}{6}$ 'ini 1. teneffüste, geriye kalanın $\frac{1}{8}$ 'ini de 2. teneffüste sattı. Kantincinin elinde kaç tane tost kaldı?

- A. 40
B. 35
C. 13

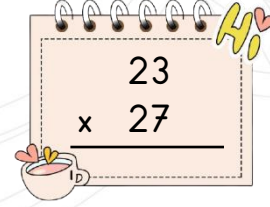


3. Yukarıdaki işlemlere göre (?) yerine gelecek en büyük sayı kaçtır?

- A. 250
B. 275
C. 350

4. Salih elindeki kitabı her gün bir önceki gün okuduğunun 2 katından 5 sayfa fazla okuyarak 5 günde bitirmiştir. Salih 1. gün 17 sayfa okuduğuna göre Salih'in okuduğu kitap toplam kaç sayfadır?

- A. 347
B. 657
C. 310



Asya yukarıda verilen çarpma işlemini çözerken aşağıda verilen 1. işlemdeki gibi basamak kaydirmayı unutmuş ve sonucu hatalı bulmuştur. Asya daha sonra yaptığı hatayı anlayıp 2. işlemi yaparak doğru sonuca ulaşmıştır.

1. İşlem

$$\begin{array}{r} 23 \\ \times 27 \\ \hline - - - \\ + - - \\ \hline \end{array}$$

HATALI


2. İşlem

$$\begin{array}{r} 23 \\ \times 27 \\ \hline - - - \\ + - - \\ \hline \end{array}$$


DOĞRU

5. Buna göre Asya'nın hatalı sonucu doğru sonucundan kaç eksiktir?

- A. 207
B. 414
C. 621



I



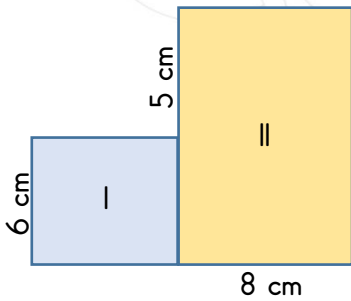
II

6. I numaralı saat pili bittiği için öğleden sonra durmuştur. Eğer pili bitmeseydi saat aynı gün öğleden sonra II numaralı konumda olacaktı. I numaralı saatin pili kaç saat kaç dakika önce bitmiştir?

- A. 8 saat 50 dakika
- B. 9 saat 50 dakika
- C. 9 saat 10 dakika

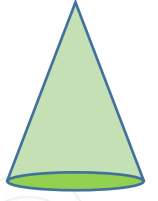
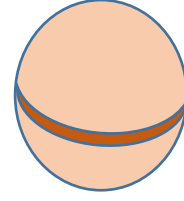

7. Defne'nin boyu 1 m 48 cm'dir. Kardeşinin boyu Defne'nin boyundan 96 cm kısa olduğuna göre ikisinin boyunun toplamı kaç metredir?

- A. 52
- B. 200
- C. 2



8. I numaralı şekil kare, II numaralı şekil dikdörtgendir. Buna göre şeklin tamamının çevresi kaç santimetredir?

- A. 50
- B. 56
- C. 64




9. Aşağıdakilerden hangisi yukarıdaki geometrik cisimlerin ortak özelliği olamaz?

- A. Ayrıt ve köşe sayıları eşittir.
- B. Birer tane eğri yüzleri vardır.
- C. Yüzlerini kullanarak çember çizebiliriz.



10. Bir fırın ekmek yapmak için günde 12 çuval un kullanılmaktadır. Her çuvalda 15 kg un bulunmakta ve 1 kg unla 5 ekmek yapılmaktadır. Buna göre bu fırın 1 günde kaç ekmek üretmektedir?

- A. 180
- B. 900
- C. 800

 $< (96 \div 6) \times 12$

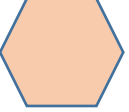
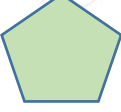

11. Yukarıdaki işlemde  yerine gelebilecek en büyük sayı aşağıdakilerden hangisidir?

- A. 192
B. 191
C. 193

12. Bilal kumbarasına hafta içi her gün 8 TL, hafta sonu her gün 9 TL atmaktadır. 4 hafta sonra Bilal'in kumbarasında kaç TL parası olur?

- A. 58
B. 232
C. 72

13. Aşağıdaki geometrik şekillerden hangisinin simetri doğrusu en azdır?

- A. 
B. 
C. 

$(17 \times 4) + 1$

14. Yukarıda verilen işlem hangi bölme işleminin kontrolü olabilir?

A.
$$\begin{array}{r} 47 \overline{) 4} \\ - \end{array}$$

B.
$$\begin{array}{r} 54 \overline{) 4} \\ - \end{array}$$

C.
$$\begin{array}{r} 69 \overline{) 4} \\ - \end{array}$$

15. Aslı'nın bir karışı 14 cm gelmektedir. Melisin bir karışı ise Aslı'nın bir karışından 4 cm kısadır. Aslı'nın 15 karış olarak ölçtüğü masa Melis ölçtüğünde kaç karış gelir?

- A. 21
B. 14
C. 17

Matematik dersi sınavı bitti.

Fen Bilimleri dersine geçiniz.






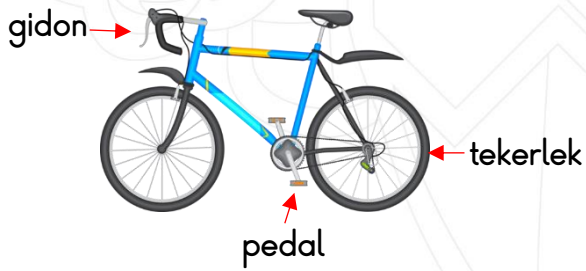
- I. Piknik alanlarında kontrolsüz ateş yakılması.
- II. Ağaç dikme kampanyaları başlatılarak yeni ormanlar yaratılması.
- III. Deniz, göl ve okyanuslara fabrika atıklarının boşaltılması.

1. Yukarıdakilerden hangileri doğal çevreye zarar verir?

- A. I ve II
B. II ve III
C. I ve III

2. Evlerimizde kullandığımız elektrikli eşyaların büyük çoğunluğu aşağıdaki kaynaklardan hangisini kullanır?

- A.  Akü
B.  Şehir elektriği
C.  Pil



3. Yukarıdaki bisikletin bölümlerinin yaptığı hareket hangi seçenekte doğru olarak verilmiştir?

- | | | |
|-------------------|--------------|-----------------|
| <u>gidon</u> | <u>pedal</u> | <u>tekerlek</u> |
| A. dönme | dönme | dönme |
| B. dönme | dönme | hızlanma |
| C. yön değiştirme | dönme | dönme |

- I. Meyve kabukları
- II. Cam şişeler
- III. Tahta parçaları

4. Yukarıdaki atıkların doğada yok olma süreleri uzundan kısaya doğru sıralandığında hangisi doğru olur?

- A. III - I - II
B. II - III - I
C. II - I - III



Düşündürücü Soru

Ali ile Mert tamir için gittikleri evde tam işe başlayacakları sırada başlarına talihsiz bir olay geldi. Ali yıpranmış kabloları fark etmedi ve birden elektrik akımına kapıldı.



5. Mert bu durumda ne yaparsa güvenlik kurallarına uygun olarak hareket etmiş olur?

- A. Arkadaşı Ali'nin kolundan çekerek onu elektrik akımından uzaklaştırmalıdır.
- B. Eline sert bir cisim alarak Ali'nin koluna ya da kafasına vurmalıdır.
- C. Elektrik şalterini indirerek akımı kesmelidir.

- I. Üzerindeki bir delikten sızan su sayesinde tohum çatlar.
- II. Çatlaktan ışığa doğru bir filiz çıkar.
- III. Bitki erişkin hale gelir ve kendi besinini üretir.
- IV. Filiz büyüyerek fidan haline gelir.

6. Yukarıda bir bitkinin yaşam döngüsü anlatılırken hata yapılmıştır. Hatanın düzelmesi için hangi ikisi yer değiştirmelidir?

- A. II ve III
B. II ve IV
C. III ve IV

7. Aşağıdaki katmanlardan hangisi dünyamızın gözlemlenebilen katmanlarından değildir?

- A. Manto
B. Atmosfer
C. Yer kabuğu

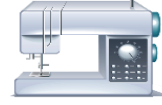
Doğal Ses	Yapay Ses
1. Gök gürültüsü	5. Araba kornası
2. Zil sesi	6. Kapı gıcirtısı
3. Arı sesi	7. Rüzgâr sesi
4. Şelale sesi	8. Televizyonun sesi

8. Yukarıdaki tablodaki yanlışlığı düzeltmek için hangi ikisi yer değiştirmelidir?

- A. 1 ve 7
B. 2 ve 7
C. 3 ve 7



I



II



III



IV



V

9. Yukarıdaki elektrikli aletlerden hangilerini iletişim amaçlı kullanırsınız?

- A. I, II ve III
B. II ve III
C. I, III ve IV

Canlılar kendilerine benzer varlıklar meydana getirirler.

10. Yukarıdaki cümle canlıların hangi özelliğini ifade etmektedir?

- A. Çoğalma
B. Büyüme
C. Solunum yapma

Fen Bilimleri sınavı bitti.

Hayat Bilgisi dersine geçiniz.





Mustafa Kemal Atatürk yurdumuzu düşmanlardan kurtarmak için ömrünü cephelerde geçirmiştir.

1. Atatürk'ün bu davranışı onun hangi özelliğini gösterir?

- A. Dürüst olması
B. Zeki olması
C. Vatansever olması

2. Aşağıdaki durumların hangisinde "hayır" diyebilmeliyiz?

- A. Arkadaşlarımız öğretmenler günü hediyesi için para topladığında.
B. Arkadaşımız üçüncü derse girmeyelim dediğinde.
C. Arkadaşımız beraber ders çalışalım dediğinde.

3. Atatürk'ün destekleriyle ve kadınlara getirdiği haklarla eğitim alarak ülkemizin ilk kadın savaş pilotu olan kişi aşağıdakilerden hangisidir?

- A. Zübeyde Hanım
B. Sabiha GÖKÇEN

C. Jale İNAN

4. Yaşadığımız kasabada yönetimle ilgili bir işimiz olduğunda aşağıdaki yönetim birimlerinden hangisine gideriz?

- A. Valiliğe gideriz.
B. Belediye başkanlığına gideriz.
C. İç İşleri Bakanlığına gideriz.



Düşündüren
Soru

Miray annesiyle birlikte pazara gitmiş ve sevdiği sebzelerden almak istediğini annesine söylemiştir.



Kızım pazarda çok az domates var. Hem şimdi domatesin en pahalı olduğu zamandayız.

Anne mutlaka domates alalım!



5. Yukarıdaki konuşmanın nedenini en iyi açıklayan cümle aşağıdakilerden hangisi olabilir?

- A. Miray'ın ailesinin maddi durumu iyi değildir.
B. Miray ve annesi pazara kış mevsiminde gitmiştir.
C. Miray'ın annesi domates yerine başka bir sebze almayı istemiştir.

I. Deterjanlar

II. Kesici ve delici aletler

III. İlaçlar

6. Yukarıdakilerden hangileri ev kazalarına neden olabileceği için açıkta bırakılmamalıdır?

A. I ve II

B. II ve III

C. I, II ve III

İtfaiye 177	Polis 155	Afad 156	Ambulans 112
----------------	--------------	-------------	-----------------

7. Yukarıdaki acil durum numaralarından kaç tanesi doğrudur?

A. 2

B. 3

C. 4



8. Yukarıdaki görselde bulunan sarı renkli aracın sürücüsü için aşağıdakilerden hangisini söyleyebiliriz?

A. Yaya geçidinden geçmekte olan yayaya yol vermemiştir.

B. Hız sınırını aşarak süratli araç kullanmıştır.

C. Trafik düzenini sağlamak için trafik ışık ve levhalarına uygun hareket etmiştir.

9. Aşağıdakilerden hangisi temizliğimiz için en önemli ihtiyaçtır?

A. Peçete

B. Islak mendil

C. Su



10. Yukarıdaki görselde bulunan çocuk için hangisini söyleyemeyiz?

A. Hazır gıdalar ve zararlı içecekleri tercih etmektedir.

B. Annesinin yaptığı güzel yemekleri tercih etmemiştir.

C. Beslenmesine ve sağlığına dikkat eden bir çocuktur.

Hayat Bilgisi sınavı bitti.

İngilizce dersine geçiniz.





"I birds. They are very beautiful."

1. Resme göre yukarıdaki cümlede boş bırakılan yere aşağıdakilerden hangisi gelmelidir?

- A. like
- B. don't like
- C. don't love

Tom:?

Jull: You can take the plane.



2. Yukarıdaki konuşmada sorulan soru aşağıdakilerden hangisidir?

- A. Where is the plane?
- B. What's that?
- C. How can I go to İstanbul?

"Which animal is this?"



3. Yukarıdaki sorunun cevabı hangisi olabilir?

- A. It is a goat. It is brown.
- B. It is a horse. It is brown.
- C. It is a horse. It is white.



4. Yukarı görseli ifade eden cümle aşağıdakilerden hangisidir?

- A. The weather is cold.
- B. The weather is hot.
- C. The weather is rainy.



5. Yukarıdaki boşluk için en uygun cümle aşağıdakilerden hangisidir?

- A. This is my cousin.
- B. This is my family.
- C. This is my friends.

Sınav bitti.

Cevaplarınızı kontrol ediniz.

