

METİN ÇALIŞMASI

DESA KÜTÜPHANE KURALLARINI ÖĞRENİYOR

Güneşli bir cumartesi günüydü. Umba gözlerini ovuşturarak uyandı, hemen ellerini ve yüzünü yıkadı. Ailesiyle kahvaltı sofrasına oturdu. Umba, arkadaşı Desa ile bugün kütüphaneye gidip öğretmenlerinin verdiği araştırma ödevini yapacaklardı. Kahvaltıdan sonra hazırlıklarını tamamladı. Ailesi ile vedalaştıktan sonra evden çıkıp kütüphanenin yolunu tuttu. Kütüphanenin önüne vardığında Desa ile karşılaştı. İki arkadaş selamlaştılar. Desa, arkadaşına:

- Çok heyecanlıyım Umba. Daha önce ödevlerimi hep evdeki bilgisayardan araştırarak yapıyordum. İlk kez kütüphanedeki kaynaklardan yararlanacağım, dedi.
- Sen hiç merak etme Desa, ben bu konuda oldukça tecrübeliyim, dedi Umba.

İki arkadaş kütüphaneye girdiler ve cam kenarındaki bir masaya yerleştiler. Sonrasında ise Umba, heyecanlı arkadaşı Desa'yı ansiklopedilerin bulunduğu raflara götürdü. Umba sol raftaki, Desa ise sağ raftaki ansiklopedileri inceliyordu. Bu sırada Desa heyecanla:

- Yaşasın, işte aradığımı buldum! Umba gelip sen de bakar mısın, diye seslendi.

Bir anda kütüphanedeki herkes Desa'ya bakmaya başlamıştı. Bunu gören Umba:

- Desa, kütüphane içerisindeyken kurallara uyarak kısık sesle konuşmalıyız, dedi.

Çok utanan Desa, bu sefer kısık sesle arkadaşına dönüp:

- Ama ben kütüphane kurallarını bilmiyordum ki, dedi.
- Kütüphane içinde yüksek sesle konuşmamak, herhangi bir şey yiyip içmemek, raflardaki kitapları ve diğer eşyaları özenli kullanmak kütüphane kurallarından bazılarıdır, dedi Umba.

Desa kafasını sallayıp arkadaşının dediklerini onayladı. Daha sonra iki arkadaş kütüphane kurallarının yazılı olduğu tabelayı okudular. O günden sonra Desa ve Umba araştırmalarını bu kurallara uyarak yaptılar.

Aşağıdaki soruları "Desa Kütüphane Kurallarını Öğreniyor" metnine göre cevaplayınız.

1. Umba, kim ile birlikte kütüphanede araştırma yapmıştır?

2. Umba, ne zaman kütüphanede araştırma yapmaya gitmiştir?

3. Desa, aradığı kitabı bulunca ne yapmıştır?

4. Kütüphanelerde kısık sesle konuşmak dışında uymamız gereken kurallardan bir tanesini yazınız.

DOĞAL SAYILARI SIRALAMA

Aşağıdaki doğal sayıların aralarına $>$, $<$ veya $=$ sembollerinden uygun olanı koyarak sayıları karşılaştırınız.

374 474

222 22

505 555

666 600

48 480

880 808

656 676

332 333

932 920

76 776

474 474

398 398

TEK VE ÇİFT DOĞAL SAYILAR

Aşağıdaki sayılardan tek olanların kutusunu kırmızıya, çift olanların kutusunu maviye boyayınız.

220

851

334

207

401

76

24

114

53

984

123

12

777

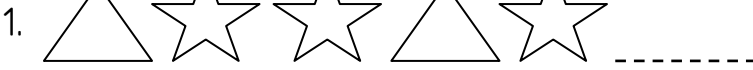
885

862

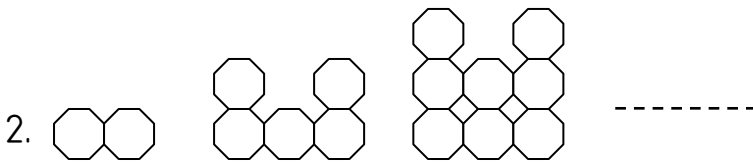
257

ŞEKİL ÖRÜNTÜLERİ


Aşağıdaki şekil örüntülerini bir adım devam ettirip örüntülerin kurallarını yazınız.



Örüntünün kuralı:



Örüntünün kuralı:



Örüntünün kuralı:

DÜNYA'MIZIN YAPISI

Aşağıdaki görsellerin Dünya'mızın hangi katmanına ait olduğunu altındaki noktalı yerlere yazınız.



.....katmanı



.....katmanı




.....katmanı



.....katmanı



.....katmanı



.....katmanı

DÜNYA'MIZIN YAPISI

Aşağıdaki boşlukları kutuların içindeki uygun ifadelerle doldurunuz.

fazla

az

kara

atmosfer

yeşil



hava

su

yer kabuğu

solucan

balina

mavi

- ✚ Dünya üzerinde sular karalardan daha yer kaplar.
- ✚ Dolu, kar gibi olaylar katmanında oluşur.
- ✚ Kara katmanı olarak da adlandırılır.
- ✚ Dünya'mızın yüzeyinin büyük bir bölümünü katmanı kaplar.
- ✚ karada yaşayan canlılardan biridir.
- ✚ suda yaşayan canlılardan biridir.
- ✚ Yukarıdaki dünya modelinde karalar renkle gösterilmiştir.

ARKADAŞLIK

Arkadaşlarınızda olmasını istediğiniz özelliklerin başına "+", arkadaşlarınızda olmasını istemediğiniz özelliklerin başına "-" işareti koyunuz..



Çalışkan

Yardımseser

Nazik

Tembel

Hoşgörölü

Bilgili

Yalanrı

Kavgacı

KROKİ

Aşğıdaki soruları yandaki krokiye göre cevaplayınız.

1) Levent ve Bulut'un iki sıra arkasında hangi öğrenciler oturmaktadır?

2) Emin, öğretmen masasına giderken sırasıyla hangi yönlele doğru hareket eder?

3) Orhan ile Ayça'nın arasında hangi öğrenci oturmaktadır?

