

Aslan bir gün deniz kenarında gezinirken, su üstünde güneşlenen bir **yunus balığı** gördü:

"Merhaba **yunus balığı!** Ben hayvanlar kralıyım, sen de balıklar kralı. Eğer ikimiz birlik kurarsak, kimse sırtımızı yere getiremez."

Yunus balığı aslanın bu fikrini onayladı.

Bir süre sonra **aslan**, sahilde gezinen bir boğa ile kavgaya tutuştu.

Kavganın kendisi için iyi gitmediği bir sırada **aslan**, **yunus balığından** yardım istedi. Ama **yunus balığı** denizden çıkıp kendisine yardım edemedi.

Aslan kısa bir süre sonra üstünlüğünü kabul ettirdiği boğayı kaçırdı. Daha sonra, **yunus balığına** dönerek onu azarladı:

– "Sen ne biçim arkadaşsın! Boğa beni öldürebilirdi. Yardım için kılını bile kıpırdatmadın.

Yunus balığı:

– "Suçu bende arama **aslan** kardeş. Denizde iyiyim ama karada yürümesini bile bilmem."

➤ İlk soruyu metne göre cevaplayınız.

1) Aşağıdaki atasözlerinden hangisi yukarıdaki metnin **ana fikrini** yansıtmaktadır?

- A) Kaz kazla, daz dazla, kel tavuk kel horozla...
- B) Üzüm üzüme baka baka kararır.
- C) Fazla mal göz çıkarmaz.

2)



Yukarıdaki kişilerin söyledikleri kelimelerle ilgili aşağıdaki **bilgilerden** hangisi yanlış değildir?

- A) Kelimelerden 3 tanesi iki hecelidir.
- B) Kelimelerden ikisinde ünlü harf sayısı, ünsüz harf sayısından fazladır.
- C) Kelimeler alfabetik sıralanırsa üçüncü sırada "polar" kelimesi olur.

3)



Eş anlamlı kelimelere altı tane örnek veren **Mert'in** kaç örneği hatalıdır?

- A) 1
- B) 2
- C) 3

4)



Tenefüste bir palyanço görmem rastlantı mıydı?

Yukarıdaki **cümlede** hangi kelimedeki yazım yanlış yoktur?

- A) palyanço
- B) rastlantı
- C) tenefüs

5)

güzel	hayır	dolu
kapı	ocak	okul

Üstteki **kelimelerden**, eş sesli olmayanları boyarsak nasıl bir görüntü oluşur?

- A)

 B)

- C)

6)



Babam dün kırmızı arabayı yıkadı.

Yukarıdaki cümlede **varlığın özelliğini** belirten kelime aşağıdakilerden hangisidir?

- A) yıkadı B) arabayı C) kırmızı

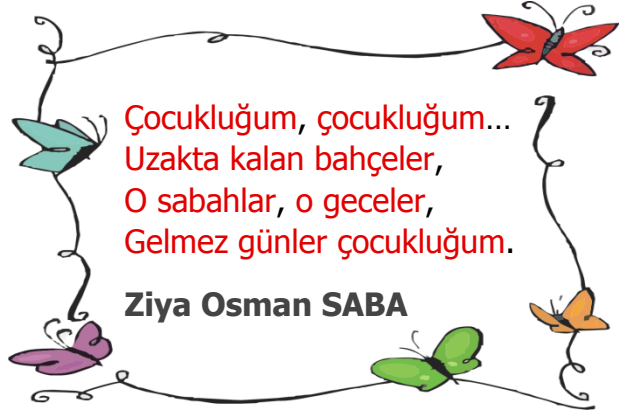
7)

Hayal Unsuru: Gerçekleşmesi mümkün olmayan, sadece hayal edilen olaydır.

Açıklamaya göre aşağıdaki **cümlelerden** hangisi hayali unsurlar içermez?

- A) Ablam düğün için çok güzel bir elbise almış.
B) Leylek ile tilkinin küslüğü bu şekilde son buldu.
C) Gece gökyüzünden yıldız alıp anneme kolye yaptım.

8)



Yukarıdaki **şiiire** hâkim olan **duygu** aşağıdakilerden hangisidir?

- A) öfke B) özlem C) endişe

9)

L	Okuma ve yazmayı kolay öğrendim.
K	Üniversiteyi Ankara'da okudum.
E	Öğretmen olduğum için mutluyum.
E	Lisede İngilizce dersini çok severdim.

Harfler ile eşleşen cümleler olayların oluş sirasına göre sıralanırsa hangi **kelime** oluşur?

- A) ELEK B) EKLE C) LEKE

10)


Çok gürültülü bir ortamda çalıştığı
..... başı çok ağrıyormuş

dolayı	için	fakat

Sebe-sonuç cümlesinde noktalı yere meyvelerle eşleşen hangi sözcük gelebilir?

- A) portakal B) muz C) kiraz

11)



Üstte **Ufuk** ve **Oya** sayılarını gösteriyorlar.

Ufuk'un sayısının 9 katı ile **Oya'nın** sayısının 7 katını toplarsak aşağıdaki **sayılardan** hangisine ulaşırız?

- A) İki yüz doksan beş
- B) İki yüz yetmiş yedi
- C) İki yüz elli dokuz

12)

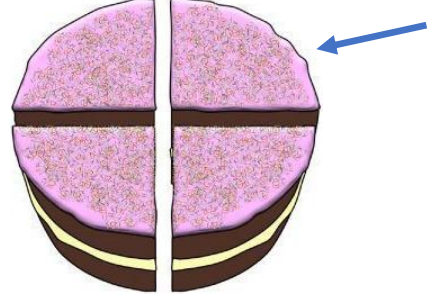


Sabah saat **08.30**'da uyanan **Hakan** uyanır uyanmaz kaç saat uyduğunu hesaplamıştır.

Tam 10 saat uyuyan **Hakan** gece saat kaçta uyumuştur?

- A) 23.00
- B) 22.30
- C) 22.00

13)



Annem doğum günüm için çok güzel bir pasta yaptı. Yaptığı pastayı 4 eşit parçaya böldü. Yukarıda okla gösterilen dilimi ben yiyeceğim.

Buna göre benim yiyeceğim dilimle ilgili aşağıdakilerden hangisi **doğru** değildir?

- A) Ben pastanın üçte birini yiyeceğim.
- B) Ben pastanın birim kesrini yiyeceğim.
- C) Ben pastanın çeyreğini yiyeceğim.

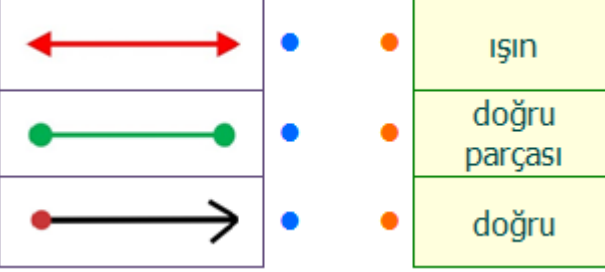
14)




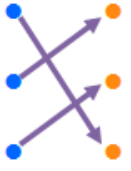

Yukarıdaki ürünlerin tümünü alan **Faruk**, ödemeyi 6 eşit taksitle yapacaktır.

Buna göre Faruk **4. ay** sonunda kaç lira ödeme yapmış olacaktır?

- A) ₺424
- B) ₺318
- C) ₺212

15) 

Yukarıdaki modellerle isimleri eşleştirilirse ortaya nasıl bir **görüntü** çıkar?


A)  B)  C) 

- 16) **I** – Dairenin sonsuz simetri doğrusu vardır.
II – Karenin iki tane simetri doğrusu vardır.
III – Dikdörtgenin iki tane simetri doğrusu vardır.

Yukarıdaki **numaralanmış** cümlelerden hangileri doğrudur?

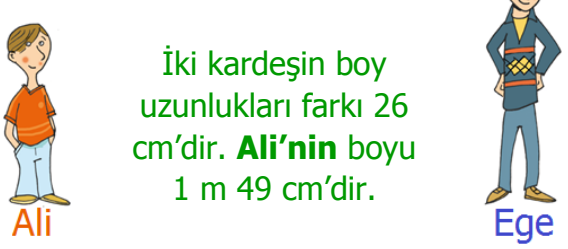
- A) **I** ve **II** B) **I** ve **III** C) **II** ve **III**

17) 

 Yandaki atacın boyu **3** cm'dir. Merve bu atacı kullanarak üstteki nesnelerin boylarını ölçmüştür.

Tarağın boyunu 7 ataçla, kalemin boyunu ise 4 ataçla ölçtüğüne göre tarak ve kalemin boy uzunlukları **toplamı** kaç cm'dir?

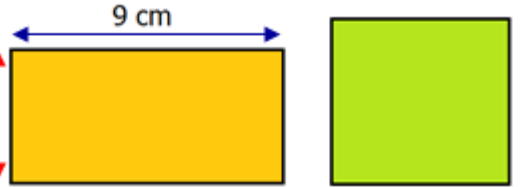
- A) 11 cm B) 22 cm C) 33 cm

18) 

İki kardeşin boy uzunlukları farkı 26 cm'dir. **Ali'nin** boyu 1 m 49 cm'dir.

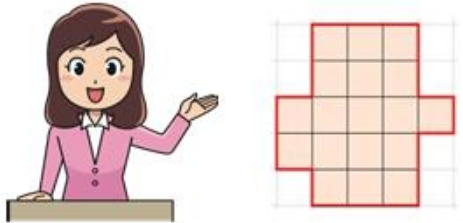
Yukarıdaki bilgilere göre **Ege'nin** boyu kaç cm'dir?

- A) 175 cm B) 163 cm C) 123 cm

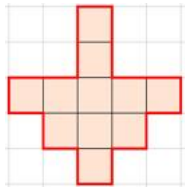
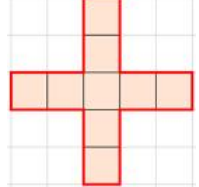
19) 

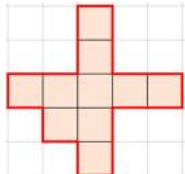
Yukarıdaki **dikdörtgenin** çevre uzunluğu ile **karenin** çevre uzunluğu eşittir. Buna göre **karenin** bir kenarı kaç cm'dir?

- A) 6 cm B) 7 cm C) 8 cm

20) 

Üstte gösterilen **boyanmış** şeklin alanının **yarısı** hangi şıkta doğru verilmiştir?

A)  B) 

C) 

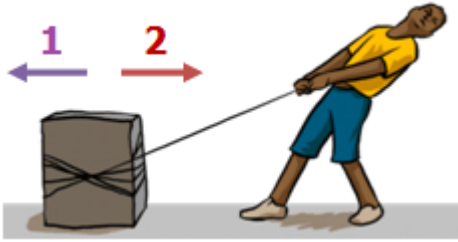
21)



Dünya'mız ile ilgili aşağıdaki bilgilerden hangisi doğrudur?

- A) Dünya yüzeyinde karalar sulardan daha çok yer kaplar.
- B) Yüzeyi oluşturan ve canlıların yaşadığı katman yer kabuğudur.
- C) Atmosfer, Dünya'nın iç tabakalarından biridir.

22)



Yukarıdaki durumda, cismin 2 yönünde hızının azalması için aşağıdakilerden hangisi yapılabilir?

- A) 2 yönünde kuvvet uygulayan kişi sayısı artırılabilir.
- B) Cismin ağırlığı azaltılabilir.
- C) 1 yönünde kuvvet uygulanabilir.

23) Aşağıdakilerden hangisi **itme kuvvetine** örnek verilemez?

- A) Buzdolabının kapağını kapatmak
- B) Dalından elmayı koparmak
- C) Salıncakta birini sallamak






24)

Alarmlı saatin sesiyle uyandım. Güneş odamı aydınlatıyordu. Mutfaktan tabak sesi geliyordu. Annem kahvaltı hazırlıyordu. Küçük kardeşim benden önce uyanmış piyano çalıyordu. Babam ise misafir odasının ampulünü değiştiriyordu. Hep birlikte kahvaltımızı yaptık. Annemin hazırladığı poğaçaların tadı nefisti.

Yukarıdaki **paragrafa** ilgili aşağıdaki **ifadelerden** hangisi yanlış değildir?

- A) Paragrafta geçen saat, tabak ve piyano sesleri doğal sesler değildir.
- B) Paragrafta geçen güneş doğal ışık kaynağı değildir.
- C) Paragrafta tüm duyu organlarıyla ilgili örnekler vardır.

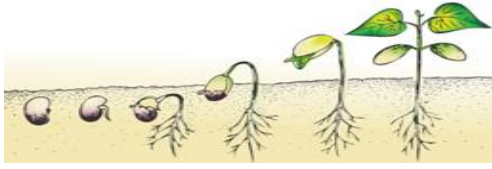
25)

	Solunum ve boşaltım yaparlar.
	Etkilere tepki verirler.
	Beslenmeye ihtiyaç duymazlar.
	Büyür ve gelişirler.
	Enerji ihtiyaçları yoktur.

Her biri bir varlık ile eşleştirilen cümlelerden hangileri **cansız** varlıklara ait özelliklerdir?

- A) çiçek ve açacak B) sinek ve top
- C) açacak ve yaprak

26)



Bir **fasulye** tanesini toprağa gömersek, bir süre sonra **fasulye** tanesinin toprakta filizlendiğini görürüz.

Aşağıdakilerden hangisi bitkilerin **yaşam döngüsüne** ait bir aşama değildir?

- A) Güzel bitki
- B) Erişkin bitki
- C) Genç bitki

27)



Aşağıdakilerden hangisi **doğal çevreyi** korumanın faydalarından biridir?

- A) Bitki ve hayvan çeşitliliği korunur.
- B) Hayvanların yaşam alanı daralır.
- C) Çevre kirliliği artmaya başlar.

- 28) **I.** Geri dönüşümü önemsemez.
II. Piknik alanlarını temiz bırakır.
III. Evlerdeki atık yağları lavaboya dökmez.
IV. Atık pilleri toprağa gömer.

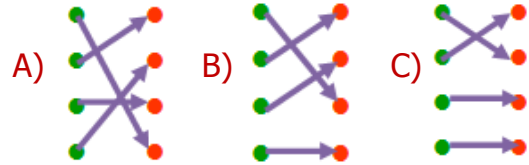
Doğal çevreyi koruyan biri yukarıdaki davranışlardan hangilerini yapmaz?

- A) **I** ve **III** B) **II** ve **III** C) **I** ve **IV**

29)

şehir elektriği	●	●	Ulaşım araçlarına elektrik sağlar.
akü	●	●	Düşük enerjili elektrik kaynağıdır.
pil	●	●	Barajlarda ve santrallerde üretilir.
batarya	●	●	Birçok pilin bir araya gelerek oluşturduğu düzenektir.

Yukarıdaki **tanımlar** ve **kaynaklar** eşleştirildiğinde nasıl bir görüntü oluşur?



30)



Elektrik iletim hatları yakınında oyun oynamamalıyız.




Prizlerde çocuklar için koruma kapağı kullanmamalıyız.





Elektrikli aletleri çalışırken hareket ettirmemeliyiz.

Güvenli elektrik kullanımıyla alakalı, çocuklardan hangisinin ifadesi yanlıştır?

- A) Arzu B) Neşe C) Elif

31)  Benimle aynı fikirde olmayan kişilere saygı duymam.

 Verdiğim sözleri yerine getirmek zorunda değilim.

 Empati, en çok değer verdiğim özelliktir.


Yukarıdaki kişilerden hangisinin **arkadaşlık** bağları güçlü olabilir?

- A) Emre B) Banu C) Hale

I	Okul kaynakları sınırsızdır.
II	Okul eşyalarını korumak sadece öğretmenlerin görevidir.
III	Okuldaki kaynakları tutumlu ve özenli kullanmalıyız.

Yukarıda numaralı **ifadelerden** hangileri bilinçli bir öğrenci ifadesi değildir?

- A) Yalnız II B) Yalnız III C) I ve II

33)  Benim çocukluğumda yoktu. Uzaktaki bir yakınımınla jetonlu telefon ile iletişim sağlayabiliyordum.

Yukarıdaki açıklamada **noktalı alana** aşağıdakilerden hangisi yazılabilir?

- A) telgraf B) mektup C) cep telefonu

34)

	Ocak	Şubat	Mart
Elektrik	₺105	₺115	₺140
Su	₺65	₺55	₺50
Doğalgaz	₺300	₺250	₺400

Yukarıda bir ailenin kaynaklarla ilgili 3 aylık fatura miktarları verilmiştir.

Buna göre aşağıdaki **ifadelerden** hangisi doğrudur?

- A) Ocak ayından sonra elektrikten tasarruf edilmiştir.
 B) Doğalgazda şubat ayındaki tasarruf mart ayında devam etmemiştir.
 C) Bu aile her geçen ay suyu daha fazla kullanmıştır.

35)

Obeziteden kurtulmak için yağlı besinler tüketilmelidir.

Yeterli ve dengeli beslenirken yiyecek ziyan etmemelidir.

Tabağımıza yiyebileceğimiz kadar yemek koymalıyız.

Yukarıdaki cümlelerden doğru olanlara **D**, yanlış olanlara **Y** yazarsak nasıl bir görüntü oluşur?

- A)

Y
Y
D

 B)

D
Y
Y

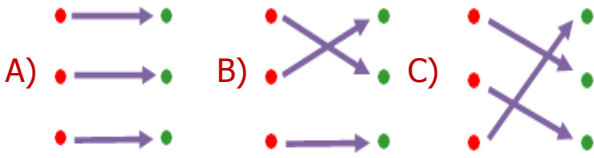
 C)

Y
D
D

36)



Yukarıdaki trafik işaret levhaları ile anlamları eşleştirilirse ortaya nasıl bir **görüntü** çıkar?



37)



Denizde, havuzda yalnız yüzmek tehlikeli değildir.



Prizlere dokunmak ve deliklerine sivri aletler sokmak tehlikelidir.



Kibrit, çakmak gibi yanıcı araçlar yangın çıkmasına sebep olabilir.



Deterjan, oje gibi maddeleri koklamanın zararı yoktur.

Yukarıdaki çocuklardan hangilerinin bilinçsiz olduklarını söyleyemeyiz?

A) Seda-Arif B) Gül-Seda C) Mete-Gül

38)


I	Vali
II	Kaymakam
III	Muhtar

a	Mahalle
b	İlçe
c	İl

Yukarıdaki yönetim birimleri ve yöneticilerle ilgili aşağıdaki **eşleştirmelerden** hangisi **doğrudur**?

A) c - II B) b - I C) a - III

39)



"Ben kalpleri kırarak değil, kazanarak hükmetmek isterim."

Atatürk'ün bu sözü aşağıdaki kişilik özelliklerinden hangileriyle ilgilidir?

A) Kararsızlık ve tahammülsüzlük
B) Disiplin ve sabır
C) Hırs ve sinirlilik

40) Meltem, Güneş'in doğduğu yere sağ kolu, güneşin battığı yere sol kolu gelecek şekilde kollarını açmıştır. Buna göre Meltem'in **arkasında** hangi yön kalır?

A) kuzey B) güney C) batı

CEVAP ANAHTARI

TÜRKÇE

- 1) A
- 2) C
- 3) A
- 4) B
- 5) B
- 6) C
- 7) A
- 8) B
- 9) C
- 10) C

MATEMATİK

- 11) C
- 12) B
- 13) A
- 14) A
- 15) C
- 16) B
- 17) C
- 18) A
- 19) B
- 20) B

FEN BİL.

- 21) B
- 22) C
- 23) B
- 24) A
- 25) C
- 26) A
- 27) A
- 28) C
- 29) B
- 30) B

HAYAT BİL.

- 31) B
- 32) C
- 33) C
- 34) B
- 35) A
- 36) A
- 37) A
- 38) C
- 39) B
- 40) B