



### SENİ KUŞ SANDIM

Köyden büyük şehre ilk defa gelen bir adam, şehri gezerken bir evin penceresinde papağan görmüş. Papağana bakarak "Ne güzel bir kuş, ne güzel renkleri var." demiş. Köylü adam, hayranlıkla kuşu seyrederken papağan birden "Ne bakıyorsun!" diye bağırvermiş. Köylü adam neye uğradığını şaşırılmış. Şaşkın şaşkın sağa sola bakınmış. Etrafta kimseyi göremeyince "Affedersin hemşerim, ben seni kuş sandım." demiş.

❖ İlk üç soruyu metne göre cevaplayınız.

1- Adam büyük şehre nereden gelmiş?

- A) Başka bir şehirden gelmiş.
- B) Başka bir ülkeden gelmiş.
- C) Köyden gelmiş.
- D) Kasabadan gelmiş.

2- Köylü adam, papağanı ilk gördüğünde ne demiş?

- A) "Ne güzel bir kuş, ne güzel renkleri var." demiş.
- B) "Ne kadar çirkin bir kuş." demiş.
- C) "Bu kuşu alıp köye götürüyüm." demiş.
- D) "Acaba bu kuş uçabiliyor mu?" demiş.

3- Bu hikayede geçen neye uğradığını şaşırarak deyiminin anlamı nedir?


- A) Sevinçten havalara uçmak anlamına gelir.
- B) Beklenmedik bir olayla karşılaşmak ve ne yapacağını bilememek anlamına gelir.
- C) Çok sinirlenmek ve sinirden gözü dönmek anlamına gelir.
- D) Çok üzölmek ve üzüntüden kahrolmak anlamına gelir.

### Düşündüren Soru

Bir gün küçük kız ormanda gezerken kaybolmuş. Yolu bulmaya çalışırken karşısına tek gözlü bir dev çıkmış. Küçük kız çok korkmuş. Kaçmaya başlamış. Olanları gören ormancı "Buraya koş!" diye seslenmiş. Küçük kız ormancının evine sığınmış. Eve girdiğinde bir baykuş görmüş. Baykuş, hoş geldin demiş küçük kıza. Bir süre sonra kendisini güvende hissedince evden ayrılmış. Onu aramaya çıkan annesinin ve babasının sesini duymuş. Hemen yanlarına koşmuş, sarılmış. Mutlu bir şekilde evlerine giderlerken, yaşlı çınar ağacı küçük kıza gülümseyerek göz kırpmış.




Babaannem uyumadan önce bana yukarıdaki masalı anlattı. Ben de okulda arkadaşlarıma anlattım. Öğretmenim masalda geçen hayal ürünü olayları tahtaya yazmamı istedi. Tahtaya masalda geçen hayal ürünü olayları yazacağım.



Buse

4- Buse'nin babaannesinin anlattığı masalı dikkatlice okuyunuz. Buse, masalda geçen tüm hayal ürünü olayları tahtaya yazacaktır. Buna göre tahtaya kaç tane hayal ürünü olay yazmalıdır?

- A) bir tane
- B) iki tane
- C) üç tane
- D) dört tane



5- Hayvanlar bir oyun oynamış. Her hayvan, bir önceki hayvanın söylediği kelimenin son hecesiyle başlayan yeni bir kelime söylemiş. Hangisi kuşun söylediği bir kelime olamaz?

- A) marul                                      B) masa  
C) mama                                        D) marka

6- Hangi cümlede eş sesli bir kelime kullanılmamıştır?

- A) Yemek ocakta kalınca bir koku geldi.  
B) Hemen koş ve çocukları sıraya diz.  
C) Üzerine düştüğüm sağ elim yaralandı.  
D) Çok isterdim ama gelemem.



7- Yukarıda verilen sözcüklerin, hangilerinin hem eş anlamlısı hem de zıt anlamlısı vardır?

- A) I , II , III ve V                              B) I , III ve IV  
C) I ve II                                        D) III , IV ve V

- 8- Aşağıdaki tümcelerin hangisinde kesme işareti doğru kullanılmıştır?  
A) Zeynep'ler akşam geliyor mu?  
B) Yeni gelen komşumuz İzmir'li olduğunu söyledi.  
C) İstanbul Teknik Üniversitesi'ni kazandım.  
D) Amcamlar, Mustafalar ile Çorum'a gidecekler.

- Boş kovaya su doldurdum.  
 Bence çok boş konuşuyorsun.  
 Tüm eşyaları boş odaya koyacağız.  
 Boş bakışlarına bir anlam veremedim.

9- Yukarıda, "boş" kelimesinin mecaz anlamıyla kullanıldığı tümcelerin başına "M" ve gerçek anlamıyla kullanıldığı tümcelerin başına "G" yazarsak sonuç aşağıdakilerden hangisi olur?

- A) G - G - G - M                              B) M - M - G - M  
C) G - M - G - M                              D) G - M - G - G

TRT ' den

kg ' den

İng. yi

cm ' ye

TBMM ' nin

TL ' nin

10- Yukarıda kısaltmalara çeşitli ekler getirilmiştir. Kaç tanesinde kısaltmaya ek getirilirken yanlışlık yapılmıştır?

- A) bir    B) iki    C) üç    D) dört

Sağlığına dikkat etmediği için hastalandı.

Eyvah! Yoksa ödevini yapmadın mı?

Bu işe çok sevindim gerçekten.

Kedi tek başına koca köpeği kovaladı.

İyi beslendiği için hasta olmuyor.

11- Yukarıdaki cümlelerin kaç tanesi sebep sonuç cümlesidir?

- A) bir B) iki C) üç D) dört

12- Aşağıdaki cümlelerin hangisinde deyim kullanılmamıştır?

- A) İnternette oyuncak aldım.  
B) Teyzemin gözü yollarda kaldı.  
C) Haberi alınca etekleri tutuştu.  
D) Ailesini el üstünde tutar.



13- Yukarıda verilen sözcüklerin kaç tanesinin eş anlamlısı tek hecelidir?

- A) bir B) iki C) üç D) dört

14- Aşağıdaki atasözlerinden hangisi tasarruf ile ilgili değildir?

- A) İşten artmaz dişten artar.  
B) Her çok azdan olur.  
C) Körle yatan şaşı kalkar.  
D) Damlaya damlaya göl olur.



Sen **de** uykusuz musun benim gibi?



Bugün**de** Ayşe ile parka gidelim.



Kalemim Mine'**de** kalmış.



Maça Hüseyin'**de** gelecek.

15- Yukarıdaki çocukların kurdukları cümlelerin hangilerinde " de " doğru kullanılmıştır?



Türkçe dersi sınavı bitti.

Matematiğe geçiniz.

$$250 \text{ cm} = 2 \text{ m } 50 \text{ cm}$$

$$6 \text{ m } 5 \text{ cm} = 605 \text{ cm}$$

$$8 \text{ km } 30 \text{ m} = 8300 \text{ m}$$

$$7021 \text{ m} = 7 \text{ km } 21 \text{ m}$$

$$125 \text{ mm} = 1 \text{ cm } 25 \text{ mm}$$

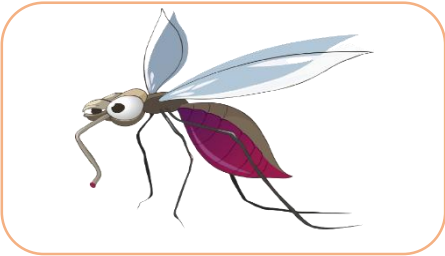
$$6 \text{ cm } 19 \text{ mm} = 619 \text{ mm}$$

1- Uzunluk ölçüleri ile yapılan çevirmeleri inceleyiniz. Yapılan çevirmelerden kaç tanesi yanlıştır?

- A) bir      B) iki      C) üç      D) dört

2- Bir kamyoncu kamyonuna 6 ton 360 kg patates yüklemiştir. Patateslerin  $\frac{2}{6}$  'sini markette indiriyor. Kalan patateslerin yarısını ise manavda indiriyor. Son olarak kamyonunda kaç kg patates kalmıştır?

- A) 2120 kg      B) 2240 kg  
C) 4240 kg      D) 1060 kg



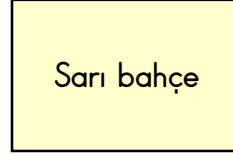
3- Yukarıdaki sivrisineğin kütlesi aşağıdaki seçeneklerden hangisi olabilir?

- A) 120 gram      B) 2 kilogram  
C) 3 ton      D) 6 miligram



**Düşündüren Soru**

121 metre



Sarı bahçe



Yeşil bahçe

215 metre

- Yukarıdaki iki bahçeden birincisi dikdörtgen şeklindeki sarı bahçedir. Kısa kenarı 121 metre ve uzun kenarı 215 metredir.
- İkinci bahçe ise kare şeklindeki yeşil bahçedir ve kenar uzunlukları belli değildir.
- Sarı bahçenin ve yeşil bahçenin çevre uzunlukları birbirine eşittir.*







**Düşünelim bulalım:** Yeşil bahçenin çevresine duvar örmek istiyorum. Ancak elimdeki malzeme, yeşil bahçenin *sadece bir kenarına* duvar örmeme yetti. Bu yüzden sadece bir kenarına duvar örebildim. Yeşil bahçenin *tüm çevresine* duvar örebilmem için kaç metre daha duvar örmem gerekir?



4- Kalemin sorduğu sorunun cevabını bulursak, sonuç aşağıdaki seçeneklerden hangisi olur?

- A) 168 metre      B) 672 metre  
C) 504 metre      D) 840 metre


5- Aşağıdaki varlıklardan hangisinin kütlesi ton ile ölçülebilir?

- A)  B) 
- C)  D) 

Üç yüz bir bin sekiz yüz üç

6- Aşağıdaki sayılardan hangisinin binler bölümü, yukarıda yazılan sayının binler bölümünden daha büyüktür?

- A) 33 033 B) 300 999  
C) 323 712 D) 99 568



7- Yukarıdaki oyuncakın boyu kaç milimetredir?

- A) 60 mm B) 80 mm  
C) 65 mm D) 75 mm

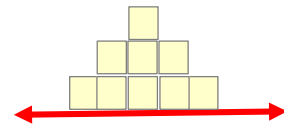
8- Saat 22:50' de Adana'dan yola çıkan otobüs, sabah 07:20' de Eskişehir'e varıyor. Otobüs yolda yarım saatlik bir mola veriyor. Otobüsün mola haricinde yolda geçirdiği süre ne kadardır?

- A) 8 saat 10 dakika B) 8 saat 30 dakika  
C) 8 saat D) 9 saat

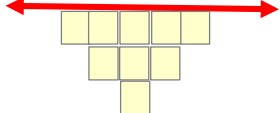
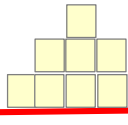
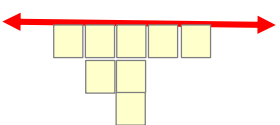
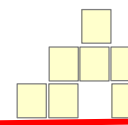
$$1040 \div 16 = \text{🐧} - 39$$

9- Yukarıdaki eşitlikte 🐧 yerine gelecek sayı kaçtır?


- A) 104 B) 65 C) 26 D) 15



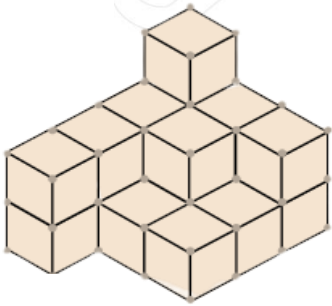
10- Yukarıdaki şeklin, çizilen simetri doğrusuna göre simetriği aşağıdakilerden hangisidir?

- A)  B) 
- C)  D) 

$$\begin{array}{r} 32 \\ 21 \overline{) } \\ \hline \end{array}$$

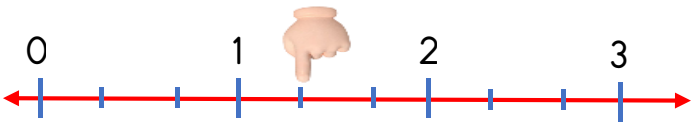
11- Yukarıdaki bölme işleminde,  yerine gelecek sayı ( bölünen sayı ) en fazla kaç olabilir?

- A) 702    B) 703    C) 704    D) 672



12- Yukarıdaki yapıda kaç tane birim küp vardır?

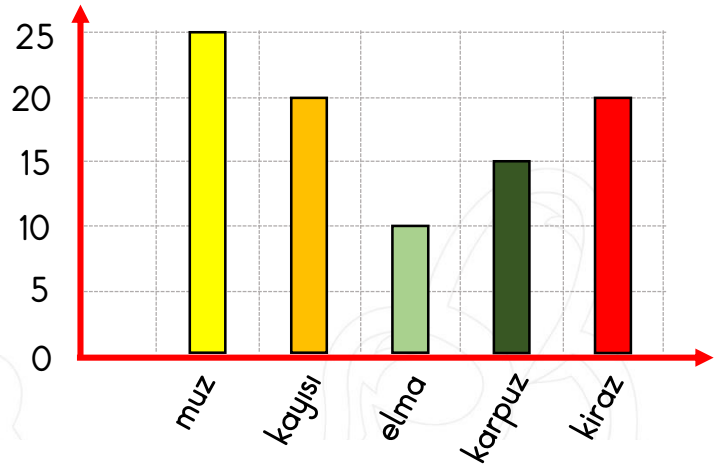
- A) 16 tane    B) 17 tane  
C) 18 tane    D) 19 tane



13- Sayı doğrusunda, belirtilen bölüme denk gelen kesrin yazılışı aşağıdakilerden hangisidir?

- A)  $2\frac{1}{3}$     B)  $1\frac{1}{3}$   
C)  $\frac{1}{3}$     D)  $2\frac{1}{4}$

Sütun Grafiği: En sevilen meyveler



❖ 14. ve 15. soruları yukarıdaki sütun grafiğine göre cevaplayınız.

14- En çok sevilen meyvenin sayısı ile en az sevilen meyvenin sayısının farkı kaçtır?

- A) 15    B) 20    C) 25    D) 35

15- Kayısı ve kiraz sevenlerin toplam sayısı, muz sevenlerin sayısından kaç fazladır?

- A) 30    B) 25    C) 20    D) 15



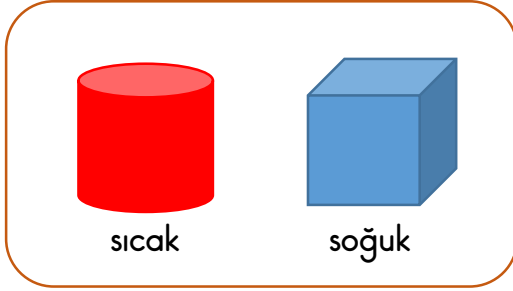
Matematik dersi sınavı bitti.

Fen Bilimlerine geçiniz.



1- Yukarıda verilen aydınlatma araçlarından kaç tanesi elektrik olmadan ışık vermez?

- A) İki  
B) üç  
C) dört  
D) beş



2- Yukarıdaki küp ve silindir birbirlerine temas ettiriliyorlar. Temas sonucunda aşağıdaki durumlardan hangisi gerçekleşir?

- A) Silindir küpten ısı alır.  
B) Isı alışverişi olmaz.  
C) Küp silindire ısı verir.  
D) Küp ısınır, silindir soğur.

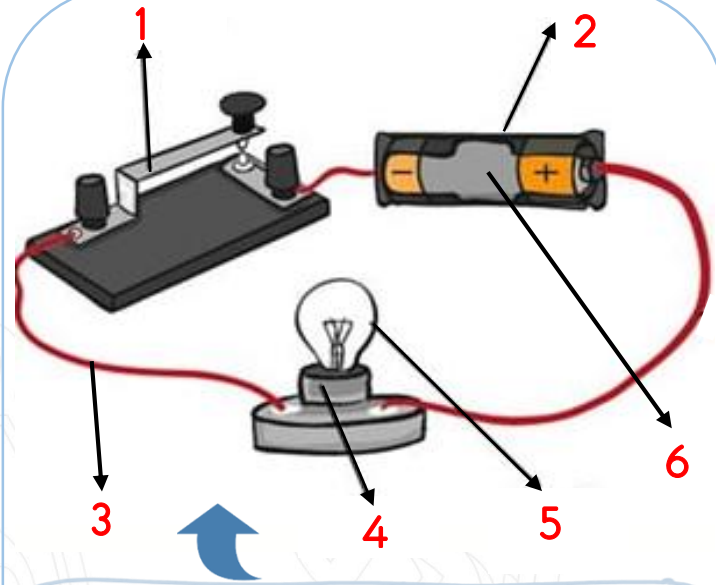


3- Miknatıslar birbirlerine yaklaştırıldıklarında aralarına nasıl bir etkileşim olur?

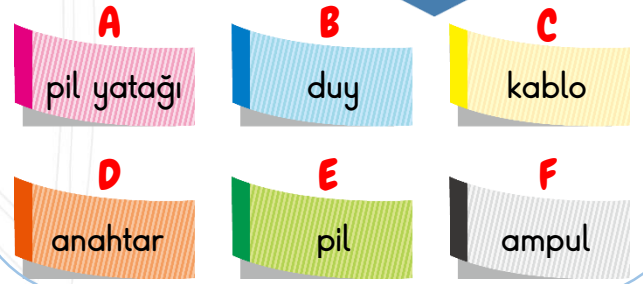
- A) Birbirlerini iterler.  
B) Birbirlerini çekerler.  
C) Etkileşim gerçekleşmez.  
D) Birbirlerine yapışırlar.



Düşündüren Soru







- Yukarıdaki elektrik devresinde, devre elemanları ok ile gösterilmiştir. Her bir okun ucuna ise bir rakam yazılmıştır. Aşağıya ise devre elemanlarının isimleri yazılmış ve her devre elemanına bir harf verilmiştir.



4- Şimdi yukarıdaki harfleri ve rakamları kullanalım. Devre elemanları ile devre elemanlarının isimlerini doğru olarak eşleştiresek sonuç aşağıdaki seçeneklerden hangisi olur?

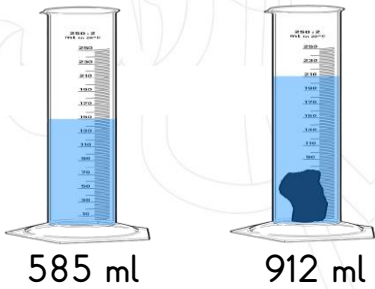
- A) 1-A , 2-C , 3-F , 4-B , 5-D , 6-E  
B) 1-D , 2-A , 3-C , 4-B , 5-F , 6-E  
C) 1-D , 2-E , 3-C , 4-F , 5-B , 6-A  
D) 1-D , 2-A , 3-B , 4-C , 5-E , 6-F

5- Aşağıdaki ses teknolojilerinin hangisi daha önce bulunmuş ve kullanılmıştır?

- A)  kasetçalar
- B)  bluetooth kulaklık
- C)  gramofon
- D)  walkman

6- Aşağıda verilen bilgilerden hangisi yanlıştır?

- A) Sıvılar akışkandır.
- B) Sıvılar buldukları kabın her yerine yayılırlar.
- C) Katıların belirli bir şekilleri vardır.
- D) Gazlar buldukları kabın her yerine yayılırlar.



7- Yukarıdaki dereceli silindire su doldurularak, suyun hacmi ölçülüyor. Suyun hacminin 585 ml olduğu görülüyor. Sonra su dolu dereceli silindirin içerisine bir taş atılıyor. Toplam hacim 912 ml olarak ölçülüyor. Taşın tek başına hacmi kaç ml'dir?

- A) 437 ml      B) 1497 ml
- C) 327 ml      D) 1534 ml

- 8- Aşağıda verilen bilgilerden hangisi doğrudur?
- A) Buzdolabının kapağını açarken çekme kuvveti uygularız.
- B) Hareket yönüyle aynı yönde uygulanan kuvvet cismi yavaşlatır.
- C) Duvara çivi çakan birisi çekme kuvveti uygular.
- D) Canlı varlıklar dışarıdan kuvvet uygulanmadan, kendi kendilerine hareket edemezler.

- Talaş-demir tozu karışımı, mıknatısla ayırma yöntemi kullanılarak ayrılır.
- Çakıl-kum karışımı, mıknatısla ayırma yöntemi kullanılarak ayrılır.
- Pirinç-su karışımı, süzme yöntemi ile ayrılır.

9- Yukarıdaki cümlelerin doğru olanlarının başına "D" ve yanlış olanlarının başına "Y" koyarsak, aşağıdaki seçeneklerden hangisi doğru olur?

- A)  D      B)  Y      C)  D      D)  D
- D       Y       D       Y
- D       D       D       D

10- Aşağıdakilerden hangisi saf maddedir?

- A) ayran      B) toprak      C) tuz      D) gazoz






Fen Bilimleri sınavı bitti.

Sosyal Bilgiler dersine geçiniz.



..... , kuduz hastalığının aşısını bularak insanlığa hizmet eden önemli bir bilim insanıdır.

1- Yukarıdaki cümledeki boşluğa, aşağıdaki bilim insanlarından hangisinin ismini yazmalıyız?



2- Aşağıdakilerden hangisi sağlık alanında hizmet veren bir meslek değildir?

- A) hekim B) eczacı C) hemşire D) avukat



3- Yukarıda verilenlerden kaç tanesi beşeri unsurdur?

- A) bir B) iki C) üç D) dört



Büyük Soru



- ✚ Benim ülkem bayrağı yukarıdaki mavi-beyaz renkli bayraktır.
- ✚ Ülkemin başkenti Atina'dır.
- ✚ Ülkem sizin ülkeniz Türkiye'ye komşudur.
- ✚ Benim ülkem adı .....



- ✚ Benim ülkem bayrağı yukarıdaki mavi-kırmızı-yeşil ve ay yıldızlı bayraktır.
- ✚ Ülkemin başkenti Bakü'dür.
- ✚ Türkiye bizim kardeş ülkemizdir.
- ✚ Benim ülkem adı .....



- ✚ Benim ülkem bayrağı yukarıdaki kırmızı-beyaz renkli bayraktır.
- ✚ Ülkemin başkenti Tokyo'dur.
- ✚ Sushi yemeğimiz ve çekik gözlerimiz ile tanınır.
- ✚ Benim ülkem adı .....

4- Yukarıdaki çocukların verdikleri bilgileri inceleyiniz. Verilen bilgilerde ülke isimleri boş bırakılmıştır. Çocukların ülkelerini doğru olarak yazarsak cevap aşağıdakilerden hangisi olur?



- A) Bulgaristan Azerbaycan Güney Kore  
B) Yunanistan Kazakistan Japonya  
C) Gürcistan Azerbaycan Çin  
D) Yunanistan Azerbaycan Japonya

Pazartesi		18
Salı		12
Çarşamba		2
Perşembe		0

❖ 5. ve 6. soruları tabloya göre cevaplayınız.

5- Yukarıdaki tabloya göre, hangi günlerde yağış görülmemiştir?

- A) Salı, Perşembe                      B) Salı, Çarşamba  
C) Çarşamba, Perşembe                D) Pazartesi, Salı

6- Yukarıdaki tabloya göre, havanın en soğuk olduğu iki gün aşağıdaki seçeneklerin hangisinde verilmiştir?

- A) Çarşamba, Perşembe                B) Salı, Çarşamba  
C) Pazartesi, Perşembe                D) Pazartesi, Salı

I. On sekiz yaşından küçük olan çocuklar bir işte çalıştırılabilir.

II. Her çocuğun eğitim hakkı vardır.

III. Sağlıklı ve güvenli bir çevrede yaşamak çocukların en doğal hakkıdır.

IV. Çocukların haklarını korumak için, Çocuk Hakları Sözleşmesi, dünyadaki pek çok ülke tarafından imzalanmıştır.

7- Yukarıdaki ifadelerden hangileri doğrudur?

- A) I - II ve III                              B) I - II ve IV  
C) II - III ve IV                             D) II ve III

( ) Okuldaki spor faaliyetlerini Spor Kulübü düzenler.

( ) Okuldaki tiyatro ve piyes gösterileri Tiyatro Kulübü tarafından düzenlenir.

( ) Görsel Sanatlar Kulübü bilgi yarışmaları düzenler.

8- Cümlelerin doğru olanlarının başına " D " ve yanlış olanlarının başına " Y " koyarsak, sonuç aşağıdaki seçeneklerden hangisi olur?

A) D - Y - D

B) D - Y - Y

C) Y - Y - Y

D) D - D - Y



❖ 9. ve 10. soruları krokiye göre cevaplayınız.

9- Krokiye göre anaokulunun batısında ne vardır?

A) Lokanta

B) Park

C) İş merkezi

D) Hastane

10- Krokiye göre iş merkezi nerededir?

A) Park ve hastanenin ortasındadır.

B) Lokantanın batısındadır.

C) Okul ve parkın ortasındadır.

D) Hastanenin doğusundadır.



Sosyal Bilgiler sınavı bitti.

İngilizce dersine geçiniz.



- Where are the pencils?

- .....

1-Yukarıdaki sorunun cevabı aşağıdakilerden hangisidir?

- A) They are near the desk.
- B) They are on the book.
- C) They are under the table.
- D) They are on the table.

2- Aşağıdakilerden hangisi *hemşire* demektir?

- A) doctor
- B) chef
- C) nurse
- D) fireman

..... every morning.



3- Yukarıdaki çocuğun söylediği cümledeki boşluğa aşağıdaki seçeneklerden hangisini yazabiliriz?

- A) I wash my face
- B) I brush my teeth
- C) I have breakfast
- D) I take a walk

It is ..... today.



4- Yukarıdaki cümlede boş bırakılan bölüme aşağıdaki seçeneklerden hangisi yazılmalıdır?

- A) sunny
- B) windy
- C) snowy
- D) rainy

Kayra: Do you want a cupcake?

Sibel: Yes, please.

5-Yukarıdaki konuşmada adı geçen yiyecek aşağıdakilerden hangisidir?



İngilizce sınavı bitmiştir.  
Din Kültürü dersine  
geçiniz.



1- Yukarıdaki abdest alan çocuk, abdest alırken aşağıdakilerden hangisini yapmaz?

- A) Yüzünü üç kere yıkar.
- B) Kollarını, dirsekleriyle beraber üçer kere yıkar.
- C) Burnuna üç kere su alır ve burnunu temizler.
- D) Sirtına su döker.

2- Yemek yedikten sonra aşağıdakilerden hangisini söyleriz?

- A) Selamünaleyküm
- B) Bismillahirrahmanirrahim
- C) Elhamdülillah
- D) Allâhumme salli alâ Muhammed

Salli ve Barik duaları, namazda  
..... okunur.

3- Yukarıdaki cümledeki boş bırakılan yere aşağıdakilerden hangisini yazarsak doğru olur?

- A) secde edince
- B) rükûdayken
- C) son oturuşta
- D) en başta

( ) Kin, nefret ve kıskançlık gibi kötü huylardan uzak durursak manevi yönden temizlenmiş oluruz.

( ) Namaz kılmadan önce abdest almamız gerekir.

( ) Dinimizde temizlik çok önemli değildir.

4- Yukarıdaki cümlelerden doğru olanlarının başına "D" ve yanlış olanlarının başına "Y" yazarsak sonuç aşağıdakilerden hangisi olur?

- A) Y - D - Y
- B) Y - Y - D
- C) D - D - D
- D) D - D - Y



5- Yukarıdaki çocuğun yaptığı ibadetin adı nedir?

- A) Namaz kılmak
- B) Oruç tutmak
- C) Hacca gitmek
- D) Zekat vermek



**SINAV BİTMİŞTİR**

Cevaplarınızı  
kontrol ediniz.