




5.SINIF GÜNEŞ,DÜNYA VE AY ÜNİTESİ YAZILIYA HAZIRLIK KAĞIDI



GÖKHAN HOCA FEN BİLİMLERİ

INSTAGRAM:GOKHANHOCAFENBİLİMLERİ

Öğrenci Adı:

Sınıfı\Numarası:

A-Aşağıda verilen cümlelerden doğru olanlara "D" yanlış olanlara "Y" harfi yazınız.

(10x2:20 puan)

- () Dünya ile Güneş arasındaki mesafe yaklaşık olarak 150 milyon km'dir.
- () Güneş,Dünya ve Ay şekil olarak küreye benzer.
- () Newton yaptığı teleskop ile Güneş'in kendi etrafında dönme hareketi yaptığını ispatlamıştır.
- () Ay hem Güneş'ten hem de Dünya'dan daha küçüktür.
- () Ay bir ışık kaynağı değildir, Güneşten aldığı ışığı yansıtır.
- () Ay'ın Dört Ana evresi vardır.
- () Yeni Ay evresinde Ay, Güneş ve Dünyanın arasında bulunur.
- () Güneş ve Dünya kendi etrafında saat yönünün tersine dönme hareketi yapar.
- () Son Dördün evresinde Dünya'dan bakıldığında Ay'ın sağ tarafı aydınlıktır.
- () Hilal evresi her ay'da iki kez gerçekleşir.




B-Aşağıda verilen kelimeleri kullanarak boşlukları uygun şekilde doldurunuz.

(10x3:30 puan)

DÖNME-27-DOLANMA-29-AY'IN EURELERİ-25-1 HAFTA - 1 AY- HİLAL - SON DÖRDÜN-ŞİŞKİN AY-İLK DÖRDÜN-DOLUNAY-GÜNEŞ-AY

- Ay kendi etrafında, Dünya etrafında hareketi yapar.
- Dünya'dan bakıldığında Ay'ın farklı şekillerde görülmesine denir.
- Ay'ın iki ana evresi arasında geçen süre yaklaşık olarak'dır.
- Ay'ın ara evreleri ve olarak isimlendirilir.
- Ay'ın Dünyadan bakıldığı zaman ters D şeklinde görülen evresidür.
- Dünya'dan bakıldığında Ay'ın tamamının aydınlık görüldüğü evre'dır.
- Dünya'ya en yakın gök cisimidir.
- Ay'ın evrelerinin tamamlanma süresi yaklaşık olarak gün sürer.



C-Ay'ın Ana evrelerini sırasıyla yazınız.(10 puan)





5.SINIF GÜNEŞ,DÜNYA VE AY ÜNİTESİ YAZILIYA HAZIRLIK KAĞIDI



GÖKHAN HOCA FEN BİLİMLERİ

INSTAGRAM:GOKHANHOCAFENBİLİMLERİ

D-Ay'ın kaç temel hareketi vardır.Açıklayınız?(10 puan)



E-Aşağıdaki test sorularını cevaplayınız. (5x6:30 puan)

1-Yeni Ay euresi ile Dolunay euresi arasında geçen süre aşağıdakilerden hangisidir?

- A) 1 Gün
- B) 1 Hafta
- C) 2 Hafta
- D) 3 Hafta

2-

I-Şekli küreseldir.

II-Dünya'nın uydusudur.

III-Atmosferi çok kalındır.

IV- Yüzeyindeki derin çukurlara krater denir.


Ay ile ilgili yukarıdaki ifadelerden hangisi doğrudur?

- A) I-II-IV
- B) II-III-IV
- C) I-III-IV
- D) II-III

3-Bir yıldız olan Güneşimizin ısı ve ışık saçmasını sağlayan gazların birbirine dönüşümü aşağıdaki seçeneklerden hangisinde doğru verilmiştir?

- A) Helyumdan Hidrojene
- B) Oksijen'den Helyuma
- C) Karbon'dan Oksijene
- D) Hidrojen'den Helyuma

4-



Yukarıdaki Ay'ın euresi ile ilgili verilen şekilde İlk dördün euresi hangi harf ile gösterilmiştir?

- A) K
- B) L
- C) M
- D) N

5- Aşağıdaki şekilde Güneş,Ay ve Dünya aralarındaki büyüklük ilişkisine göre Basketbol topu , Tenis topu ve misket ile temsil edilmiştir. Buna göre aşağıdaki ifadelerden doğru olanı işaretleyiniz.



- A) Güneş tenis topu ile temsil edilmiştir.
- B) Ay basketbol topu ile temsil edilmiştir.
- C) Dünya tenis topu ile temsil edilmiştir.
- D) Güneş misket ile temsil edilmiştir.

ETKİNLİK KAĞIDININ ÇÖZÜMLERİNİ
KAREKODU OKUTARAK İZLEYEBİLİRSİNİZ.

ABONE OLMAYI UNUTMAYIN :)



TÜM ETKİNLİK KAĞITLARINA WWW.GOKHANHOCA.COM SİTESİNDEN ULAŞABİLİRSİNİZ.

TÜM ETKİNLİK KAĞITLARINA WWW.GOKHANHOCA.COM SİTESİNDEN ULAŞABİLİRSİNİZ.