

A

2019
KURUMSAL

6.
sınıf

KİTAPÇIĞI

6. SINIF KURUMSAL DENEME SINAVI

Adı Soyadı:

Okulu:

Sınıfı / Şubesi:

Numarası:

SÖZEL BÖLÜM

Dersler	Soru Sayısı	Toplam Soru Sayısı	Sınav Süresi (Dakika)
TÜRKÇE	15	45	65
SOSYAL BİLGİLER	10		
DİN KÜLTÜRÜ VE AHLAK BİLGİSİ	10		
İNGİLİZCE	10		

SAYISAL BÖLÜM

Dersler	Soru Sayısı	Toplam Soru Sayısı	Sınav Süresi (Dakika)
MATEMATİK	15	30	45
FEN BİLİMLERİ	15		

ÖĞRENCİLERİN DİKKATİNE!

1. Sınıf öğrenci yoklama listesinde belirtilen sınıfta ve sıra numarasında oturunuz.
2. Kitapçık türünü cevap kâğıdındaki ilgili alana kodlayınız.
3. Cevap kâğıdı üzerindeki kodlamaları kurşun kalemle yapınız.



Altın Nokta

NARTEST





TÜRKÇE

6. SINIF KURUMSAL DENEME SINAVI

A

Bu testte 15 soru vardır.
Cevaplarınızı, cevap kağıdına işaretleyiniz.

1 - 4. soruları aşağıdaki bilgi metnine göre cevaplayınız.

KUZUGÖBEĞİ

Kuzugöbeği mantarı, diğer adıyla morchella esculente, morchellacea familyasından gelen bir bitki türüdür. Tek tek veya küçük bitkiler grubu halinde yetişen bu bitki ülkemizde Akdeniz, Karadeniz ve Ege kıyılarında çoğunlukla görülebilir bir bitkidir. Bu tür bitkiler az bulunur bir yapıya sahip olduğu için fiyatları oldukça yüksektir. Kuzugöbeği mantarının rağbet gördüğü yerler arasında Belçika, İsviçre, Fransa, Amerika gibi ülkeler yer alır, ülkemizin genelinde ise kuzugöbeği mantarı tercih edilmektedir.

Görünüm olarak diğer mantar türlerinden kolayca ayrılır. Şapkasının arı peteğini andıran gözenekli yapısı ve uzun bir külah benzeyen şekli ilk bakışta dikkati çeker.

Kuzugöbeği mantarının ülkemizde yetiştiği yerler arasında Konya'nın Beyşehir, Göynem, Derebucak ilçeleri, İzmir'in Bergama ilçesi, Muğla, Kastamonu, Aydın, Denizli, Uşak, Çanakkale ile Kars'ın Sarıkamış ilçesi yer alır. Yaklaşık olarak 4 ile 6 cm boylarında yetişen kuzugöbeği genel olarak yumurta büyüklüğünde olan bir bitki türüdür. Ülkemizde yetişen kuzugöbeği mantarı her yıl birçok farklı ülkeye ihraç edilmektedir.

İyi bir besin kaynağı olan kuzugöbeği mantarı, faydalarını sahip olduğu besin değerlerine borçlu. Çok sayıda önemli besin değerine sahip bu ürünün içeriğinde B1, B2 ve C vitaminleri ile yüksek miktarda kalsiyum, sodyum, çinko ve potasyum bulunuyor. Vücutta demir eksikliğine bağlı olarak ortaya çıkan kansızlık, uzun süreli devam etmesi halinde çeşitli sağlık sorunlarına yol açabilir. Her yıl mayıs ve haziran aylarında toplanabilen kuzugöbeği mantarı birçok sağlık sorunu üzerinde etkili bir ürün. Az bulunması nedeniyle yüksek fiyatlara sahip kuzugöbeği mantarını kansızlık sorunu olan kişilerin kullanması özellikle tavsiye edilmektedir.

1. Yukarıdaki bilgi metninden kuzugöbeği ile ilgili,

- I. Aşırı tüketimi kansızlığa neden olmaktadır.
- II. Birden çok vitamin içermektedir.
- III. Belçika, İsviçre gibi ülkelere ihraç edilmektedir.
- IV. Ülkemizde farklı bölgelerde rastlanılmaktadır.

yargılarından hangileri çıkarılır?

- A) I - II
B) III - IV
C) I - III
D) II - IV

2. Aşağıdaki görsellerin hangisi metinde sözü edilen mantara aittir?



3. Kuzugöbeği toplamaya çıkan Nilsu amacına ulaşmıştır.

Buna göre aşağıdakilerin hangisi Nilsu'nun kuzugöbeklerini bulduğu yer ve zaman için söylenebilir?

- A) Şubat ayında Bergama'da bulmuştur.
B) Mayıs ayında Yozgat'ta bulmuştur.
C) Ağustos ayında Muğla'da bulmuştur.
D) Haziran ayında Kastamonu'da bulmuştur.

4. Bilgi metninde altı çizili cümle için aşağıdakilerden hangisi söylenir?

- A) Koşula bağlı bir cümledir.
B) Amaç-sonuç ilgisi kurulmuştur.
C) Neden-sonuç ilgisi vardır.
D) Tanım yapılmıştır.

5. İsim tamlamalarında tamlayanın aldığı eke "ilgi eki" tamlananın aldığı eke "iyelik eki" denir. Belirtili isim tamlamalarında her iki ek de bulunurken belirtisiz isim tamlamalarında ilgi eki bulunmaz.

Bu açıklamaya göre aşağıdakilerden hangisinin belirtili isim tamlaması kullanılmamıştır?

- A) Oyuna başlayan kişi, benim.
B) Kalemin hafifçe sivriltilen ucu elime battı.
C) Bu konuda senin düşünceni merak etmiyorum değilim.
D) Karşıdaki apartman, teyzesinin apartmanıydı.

6.



13 Ağustos Cuma gününü unutamıyorum. Aslında o gün de diğer günler gibi normal başlamıştı benim için. Her zamanki gibi 08.30'da kalktım. Kahvaltımı yaptım, okula gitmek için hazırlandım. Kapıdan çıkarken posta kutusunu kontrol ettim. İki mektup görmeyi elbette beklemiyordum. Özellikle 2. mektup beni çok şaşırttı. Çocukluk arkadaşımından geliyordu. Otuz yıl sonra adresimi nereden bulduğunu bilemedim.

Bu metinde nokta işareti hangi renkle belirtilen görevinde kullanılmamıştır?

- A) Mor B) Sarı
C) Pembe D) Yeşil

7. Aşağıda bazı yazım kuralları verilmiştir.

- Hayvanlara verilen özel adlar büyük harfle başlar.
- Dünya, güneş, ay kelimeleri gezegen anlamı dışında kullanıldıklarında küçük harfle başlar.
- Ulusal, resmî ve dinî bayramlarla anma ve kutlama günlerinin adları büyük harfle başlar.

Bu kurallara göre,

- Kedimiz bütün akşam tespihin kopan Boncuklarıyla oynadı.
- Sahibini ay ışığında tanıyamayan Boncuk, havlamaya başladı.
- Boncukları anneler günü için saklıyorum.
- Cumhuriyet Bayramı coşkuyla kutlandı.

cümlelerinin hangilerinde yazım yanlışı yapılmıştır?

- A) I - II B) III - IV
C) I - III D) II - IV

8. **Kişiler:** Öykü ve annesi

Olay: Sınav için hazırlık

Yer: Oda

Zaman: Gece

Anlatıcı: 1. kişi

Aşağıdaki metinlerden hangisi bu hikâye unsurlarına uygun olarak kurgulanmıştır?

- A) Kitaplara bayılırım. Hele bu kitap bir öykü kitabı olursa...Yatmadan önce mutlaka bir saatimi okumaya ayırıyorum. Annem de eşlik eder bana okumalarımında. Analı oğullu gömülürüz kitaplarımıza. Bazen bir saati çok çok aştığımız zamanlar da olmuyor değil.
- B) Öykü telâşlandı. Türkçe sınavı vardı ama henüz kitabın, defterin kapağını açmamıştı. Annesi en büyük yardımcısıydı bu konuda. "Tamlamaları birlikte çalışmalıyız." demişti dün gece. Annesine seslendi. Terlik şıprıtısı giderek yaklaştı. "Sürpriiz, annen biraz hasta, birlikte çalışacağız bu gece." diyerek babası içeri girdi. Belli belirsiz "Ben de bundan korkuyordum." sesi duyuluverdi odanın içinde.
- C) "Birlikte ders çalışmak istediğinden emin misin?" diye sorarak odaya girdim. "Evet, anne, benim en güzel öğretmenim sensin." sözleri gururumu okşadı. Ah, bu kız! Bir şekilde işini hallettirmeyi biliyor. Dili tatlılaşıveriyor böyle zamanlarda. Dün gece bu saatlerde tartıştığımızı unutup yanına oturuyorum. Öyküm, adı güzel kızım benim.
- D) Annem yorgun bugün. Eve gelişinden belli. Hiçbir şey söylemiyorum. Dün gece verdiği sözü unutsa da sesimi çıkarmayacağım. Acıyorum böyle zamanlarda anneme. Bütün gün iş, üzerine bir de eve gelince ev işleri... Babam televizyon koltuğuna kuruldu bile. Dur bak, ben sana ne oyun edeceğim şimdi.

9. Bir varlığı işaret yoluyla gösteren sıfatlara işaret sıfatı, bir varlığı tam olarak değil de yaklaşık, aşağı yukarı belirten sıfatlara belgisiz sıfat denir. "Bazı oyuncular bu takıma yakışmıyor." cümlesinde "bazı" sözcüğü tam olarak hangi oyuncuları gösterdiği belli olmadığı için belgisiz sıfat, "bu" sözcüğü takımı işaret ettiği için işaret sıfatı olarak kullanılmıştır.

Buna göre aşağıdaki cümlelerin hangisinde diğerlerinden farklı bir sıfat kullanılmıştır?

- A) Birkaç kişi okula doğru ilerledi.
B) O arabayı almayı çok istiyordum.
C) Maçı öteki tribünden izleyebilirsiniz.
D) Senin yaptıkların şu maçı kazanmamızı sağladı.
10. Norveç'in Kuzey Kutbu'na yakın Spitsbergen Adası'nda bir dağın eteklerinde, dağın içine doğru Küresel Tohum Deposu inşa edilmiştir. Uzmanlar yer seçimini iklim değişikliklerinin ve doğal afetlerin olası etkilerini göz önüne alarak yapmışlardır. Burada 850 bin dolayında bitki tohumu -18 derecede saklanmaktadır. Elektrik kesilse bile ortam sıcaklığı zaten yeterince soğuktur.

Bu metinde aşağıdakilerin hangisinin anlamını karşılayan bir söz kullanılmamıştır?

- A) Doğa olayların sebep olduğu yıkım
B) Tercih etmek, belirlemek
C) Muhtemel, mümkün
D) Sona ermek
11. Numan Gençer'in son şiir kitabı da Kitapana Yayınlarından çıkmış.

Yukarıdaki cümleden Numan Gençer'le ilgili aşağıdakilerin hangisi çıkarılamaz?

- A) Şair olduğu
B) Başka yayınevinden de kitap çıkardığı
C) Daha önce de şiir kitabı çıkardığı
D) Kitapana Yayınlarından başka kitabının da çıktığı

12-13. soruları aşağıdaki görsel ve metne göre cevaplayınız.



Zaman nasıl da değiştiriyor.

Ünlü aktör Arnold Schwarzenegger sosyal medya hesabından yukarıdaki görseli, altındaki notla birlikte paylaşmıştır. Arnold, film kariyerinden sonra bir dönem ABD'nin Kaliforniya eyaletinde valilik görevinde bulunmuştu. Valiliği sırasında bu heykelinin bulunduğu yerde bir otelin açılışını yapmıştı. Otel yetkilileri "İstediğiniz zaman gelip adınıza ayrılan odada kalabilirsiniz." demişlerdi. Arnold valilik görevi sona erdikten sonra bir gün bu otelde kalmak için gitmiş ve otelin tamamen dolu olduğu cevabını almıştı. Daha sonra da bu görsel ve notu sosyal medya hesabından paylaşmıştır.

12. Yukarıdaki görseli ve anlatılanları göz önüne aldığımızda Arnold'un sözünde bahsettiği "zamanın değiştirdiği" aşağıdakilerden hangisidir?

- A) İnsanların yaşlılığa göre davranması
B) İnsanların duygularına göre davranması
C) İnsanların çıkara göre davranması
D) İnsanların samimi davranması

13. Arnold'un durumu için söylenecek en uygun atasözü aşağıdakilerden hangisidir?

- A) Kel ölür, sırma saçlı olur; kör ölür, badem gözlü olur.
B) Öküz öldü, ortaklık bitti.
C) Yorgan gitti, kavga bitti.
D) Çalma elin kapısını, çalarlar kapını.

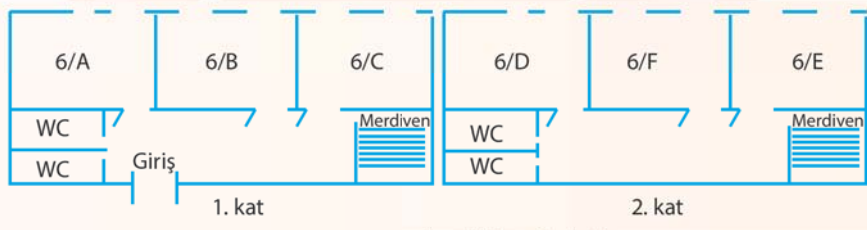
14.

Adı	Yararları	Eksikliğinde	Fazlalığında	Nerelerde Bulunur
A Vitamini	<ul style="list-style-type: none"> - Antioksidan özelliği vardır serbet radikal-lerin olumsuz etkilerini engeller - Vücut dokularını yeniler - Cildi güzelleştirir. - Bağışıklık sistemini güçlendirir. - Bazı kanser türlerine karşı korur. 	<ul style="list-style-type: none"> - Gece körlüğü, gözde kuruma - Deride kuruma - Kemik ve dişlerde bozukluk 	<ul style="list-style-type: none"> - Baş ağrısı - Kusma - Deride sarılık 	Yeşil yapraklı sebzeler, havuç, ıspanak, domates, kayısı, şeftali, deniz ürünleri, karaciğer, süt ve süt ürünleri yumurta
D Vitamini	<ul style="list-style-type: none"> - Kemik gelişimi ve kemiklerin güçlenmesi - Kalsiyumun kas içinde taşınmasında etkilidir. 	Kemiklerde yumuşama ve çeşitli kemik bozuklukları	<ul style="list-style-type: none"> - Kan içindeki kalsiyum miktarının artması - Böbrek rahatsızlıkları - Kabızlık - Bulantı - Kusma 	Deniz ürünleri, karaciğer, yumurta, süt ve süt ürünleri
E Vitamini	<ul style="list-style-type: none"> - Antioksidan özelliği vardır. - Anemiye önler - Hücre ve dokuları dış etkenlerden korur - Kanserden koruyucu etkisi vardır. 	Kesin olarak bilinmiyor.	<ul style="list-style-type: none"> - Baş ağrısı - Kaslarda güçsüzlük - Yorgunluk 	Bitkisel yağlar, deniz ürünleri, kuru yemiş, yumurta

Yukarıdaki tablodan hareketle aşağıdakilerden hangisinin yanlış olduğu söylenir?

- A) Gece görüş sıkıntısı yaşayan Mehmet Bey'in yemeklere havuç koymaya başlaması
 B) Kemiklerinde sıkıntı yaşayan Mustafa Bey'in deniz ürünleri tüketimini arttırması
 C) Cilt kuruluğu yaşayan Nimet Hanım'ın karaciğer tüketimini arttırması
 D) Yorgunluk şikayeti olan Veli Bey'in kuru yemiş tüketimini arttırması

15.



Yukarıda bir okulun 6. sınıflarının bulunduğu binanın krokisi verilmiştir.

Özge, Hilâl, Sude, Zekeriya, Aras ve Efecan bu okulda altıncı sınıfın farklı şubelerinde okuyan öğrencilerdir.

Bu öğrenciler ve okudukları sınıflarla ilgili bilinenler şunlardır:

Zekeriya tuvaletlere en yakın sınıfta okumaktadır.

Aras ve Efecan'ın sınıfları yan yanadır.

Hilal ve Özge'nin sınıfları üst üstedir.

Sude'nin sınıfı birinci kattadır.

Buna göre aşağıdakilerden hangisi kesinlikle yanlıştır?

- A) Zekeriya 6/D sınıfında okumaktadır. B) Sude 6/B sınıfında okumaktadır.
 C) Hilâl 6/E sınıfında okumaktadır. D) Aras 6/F sınıfında okumaktadır.



SOSYAL BİLGİLER

6. SINIF KURUMSAL DENEME SINAVI

A

Bu testte 10 soru vardır.
Cevaplarınızı, cevap kağıdına işaretleyiniz.

1. Köylüler İmece Usulü Yollarını Yapıyor

Adıyaman'ın Gölbaşı ilçesine bağlı Savran içerisine beton yol yapılıyor. Kendi aralarında topladıkları parayla kum ve çimento alarak imece usulüyle köyün içini beton yol ile kaplayan köylüler, köylerinin Çetintepe Barajı altında kalacağı için köye pek hizmet yapılmadığını, köyün baraj altında kalmasının en az 5 yıl süreceğini ifade ederek bu zamana kadar kendi hizmetlerini kendilerinin yapacaklarını belirttiler. Köylüler, kışın çamurdan geçilmesi zor olan yerlerin yolunu el birliğiyle imece usulüyle çalışarak yaptıklarını söyledi.

(Genel ağdan alınmıştır. 02.05.2018)

Yukarıdaki metinde bahsedilen köylüler hakkında;

- I. Toplumsal dayanışma ve yardımlaşma örneği sergiledikleri
- II. İmece usulünü uygulayarak toplumsal birlikteliğin oluşturulması açısından çok önemli bir çalışmaya imza attıkları
- III. Karşılıksız olarak bir araya gelip sorunu çözmek konusunda sosyal bir duyarlılık gösterdikleri
- IV. Var olan ihtiyaçlarının karşılanması konusunda çaba göstermeyip sadece devletten beklenti içine girdikleri

çıkartmalarının hangileri yapılabilir?

- A) I - II ve III
B) I - II ve IV
C) II - III ve IV
D) I - II - III ve IV

2. Türklerin ilk ana vatanı Orta Asya'dır. Orta Asya Türkleri, ticaret ve hayvancılıkla uğraşarak göçebe bir yaşam biçimini tercih etmişlerdir. Türkler, ilk kez bu bölgede tarih sahnesine çıkmışlar ve bilinen ilk Türk devleti olan Büyük Hun İmparatorluğu'nu kurmuşlardır. Zamanla yıkılan devletlerinin yerine Kök Türk Devleti, Kutluk Devleti, Uygur Devleti gibi farklı Türk devletleri kurulmuştur. Türklerin nüfusunun gittikçe artması, hayvan sürülerine yeni otlaklar bulma ihtiyacı, hastalık ve kıtlıklar, Türk boyları arasındaki çekişmeler, Çin'in baskısı, yeni yurt edinme özlemi gibi birçok nedenden dolayı, Türklerin büyük bir çoğunluğu bu bölgeden göç etmek zorunda kalmışlardır.

Bu anlatım okunduğunda;

- I. Tarihte kurulan ilk Türk devletinin adı
- II. Orta Asya Türklerin sosyal ve ekonomik hayatı
- III. Türklerin Orta Asya'ya doğru göç etmelerinin nedenleri
- IV. Türklerin tarih sahnesine çıktığı bölgenin bulunduğu kıta
- V. Orta Asya'da kurulan Türk Devletleri

konularının hangileri hakkında bilgi sahibi olunacağı ifade edilebilir?

- A) I - II ve III
B) I - II - IV ve V
C) II - III - IV ve V
D) I - II - III ve IV

3. 1071 Malazgirt Zaferi'nden sonra Beylikler Dönemi'nde Anadolu'nun Türkleşmesi hızlanmıştır. Bu beylikler buldukları yerlerde kalmayıp yeni yerler fethetmeye devam ettiler. Özellikle Bizans'a karşı fetih hareketlerine giriştiler. Moğol istilasından kaçan Türkmenler buralara yerleştirildiler. Türkler Anadolu'da yeni şehir, kasaba ve köyler kurdular. Küçük yerleşim birimlerini geliştirerek önemli merkezler hâline getirdiler. Bu merkezlerde, içinde cami, medrese, kütüphane gibi yapıların bulunduğu külliyeleer açtılar. Yer isimlerini Türkçeleştirdiler.

Yukarıdaki gelişmelerin sonuçları arasında aşağıdakilerden hangisi gösterilemez?

- A) Anadolu'da Türk nüfusu artmaya başladı.
B) Anadolu'nun imar edilmesi sağlandı.
C) Anadolu önemli bir kültür ve medeniyet merkezi hâline geldi.
D) Anadolu'da Bizans hakimiyeti tamamen sona erdi.

4. Aşağıdaki haritada Türkiye'nin coğrafi konumu ve komşuları verilmiştir.



Yukarıdaki harita incelendiği zaman Türkiye hakkında;

- I. Üç tarafı denizle çevrili olup, Akdeniz ile Karadeniz'i birbirine bağlayan İstanbul ve Çanakkale boğazlarına sahip olan bir ülkedir.
II. Zengin petrol yatakları olan Orta Doğu ülkeleri ile sanayisi gelişmiş Avrupa ülkeleri arasında köprü vazifesi görmektedir.
III. Asya ve Avrupa kıtalarını birbirine bağlamakta olup dünya üzerinde jeopolitik açıdan önemli bir yere sahiptir.

çıkarmalarının hangileri yapılabilir?

- A) I ve II
B) I ve III
C) II ve III
D) I - II ve III

5. **DÜNYADA GÖRÜLEN İKLİM TIPLERİ ÖZELLİKLERİ**

- I. Toprak donmuş olduğu için bitki örtüsü yoktur. Tarım ürünü yetiştirilemez. Avcılık ve balıkçılık insanların en önemli gelir kaynağıdır.
II. Yazlar sıcak ve kurak, kışlar ılık ve yağışlı geçer. Yağışlar genelde yağmur şeklinde olup en fazla kış mevsiminde görülür. Doğal bitki örtüsü makidir.
III. Yaz aylarında aşırı yağış görülürken kış mevsiminde kurak bir dönem yaşanır. Yaz yağışlarının sonucunda ortaya çıkan seller can ve mal kaybına neden olur. Yağışların fazlalığına bağlı olarak pirinç yetiştirilir.
IV. Güneş ışınlarının dik ve dike yakın bir açı ile geldiği bölgelerde görülür. Sıcaklık çok fazladır. Her mevsim yağışlıdır. Kakao, kauçuk ve muz yetiştirilen önemli tarım ürünleridir.

Yukarıda özelliklerinden bahsedilen iklim tiplerinin adları hangi seçenekte doğru olarak verilmiştir?

	I	II	III	IV
A)	Kutup İklimi	Akdeniz İklimi	Tropikal İklim	Muson İklimi
B)	Kutup İklimi	Akdeniz İklimi	Muson İklimi	Tropikal İklim
C)	Kutup İklimi	Muson İklimi	Tropikal İklim	Akdeniz İklimi
D)	Kutup İklimi	Tropikal İklim	Akdeniz İklimi	Muson İklimi

6. Fatih Sultan Mehmet Dönemi Osmanlı Altın Paraları



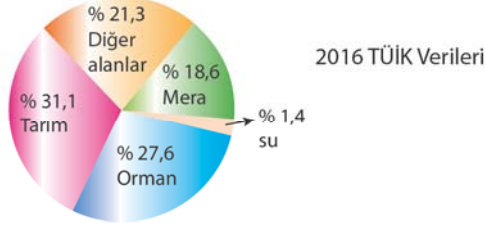
Yukarıdaki görselde yer alan Osmanlı paralarına bakılarak;

- I. Osmanlı Devleti'nin, ekonomik durumu hakkında bilgi edinilebilir.
II. Osmanlı Devleti'nde kullanılan yazı ve dil ile ilgili çıkarım yapılabilir.
III. Osmanlı'daki toplumsal yapının farklı milletlerden oluştuğu söylenebilir.
IV. İncelenilmesi için tarihe yardımcı bilim dalı olarak nümismatik biliminden faydalanılmasının gerektiği belirtilebilir.

yargılarının hangilerinin doğru olduğu ifade edilebilir?

- A) I ve II
B) I - II ve IV
C) II - III ve IV
D) I - II - III ve IV

7. Türkiye'deki Arazilerin Kullanım Durumu



Yukarıdaki verilere bakıldığında;

- Ülkemiz topraklarının dörtte birinden fazlası orman arazisi özelliği taşımaktadır.
- Hayvancılık amacı ile kullanılan meralar daha çok ülkemizin doğusunda yer alan bölgelerde bulunur.
- Topraklarımızın yaklaşık üçte birinde tarım yapılmaktadır.
- Orman arazisi, tarımsal araziden daha az yer kaplamaktadır.

sonuçlarının hangilerine ulaşılması mümkün olur?

- A) I - II ve III
B) II - III ve IV
C) I - III ve IV
D) I ve III

8. Meslek belli bir eğitim ile kazanılan sistemli bilgi ve becerilere dayalı, insanlara yararlı mal üretmek, hizmet vermek ve karşılığında para kazanmak için yapılan iştir. Bireyler, yapacakları meslek seçiminde bilinçli bir şekilde hareket etmelidir.

BILGEN: Ben bir doktorem. Lise yıllarımda biyoloji dersine olan ilgim oldukça fazlaydı. Üniversite sınavına girip tıp fakültesini kazandım. Uzun bir eğitimden sonra mesleğime başladım. İlgili ve yeteneklerime uygun bir meslek seçiminde bulunduğumu düşünüyorum.

KAZIM: Ben Türk Silahlı Kuvvetlerinde görev yapmaktayım. Mesleğimi ve ülkemizi çok seviyorum. Küçük olduğumdan beri asker üniformaları çok dikkatimi çeker ve kendimi o üniforma içinde hayal ederdim. Zorluklar ile mücadele edebilen, sabırlı ve sporcimen bir kişiyim.

AHMET: Ben bir avukatım. Üniversite sınavında aldığım puana bağlı olarak hukuk fakültesine girdim. Eğitim hayatım sona erince bir hukuk fakültesinde işe başladım. Mesleğimi yaparken mutlu değilim. İnsanların yaşadıkları sıkıntılar benim strese girmeme neden oluyor.

BİLAL: Ben bir inşaat mühendisiyim. Babam da mühendisti. Ailemin ısrarı ile üniversitede mühendislik bölümünü okudum. Gelirim oldukça yüksek olduğu için mesleğimi yapıyorum. Küçük lükten beri pilot olmak istediğim için uçuş eğitimi aldım. Amatör olarak pilotluk yapıyorum.

Yukarıdaki anlatımlara bakıldığında hangi kişilerin doğru bir meslek seçiminde buldukları söylenebilir?

- A) Bilgen ve Ahmet
B) Ahmet ve Kazım
C) Kazım ve Bilal
D) Ahmet ve Bilal

9. Aşağıdaki kutucuklarda yasama, yürütme ve yargı yetkilerinin Anayasada nasıl ifade edildiği verilmiştir.

Madde 7:I..... yetkisi Türk Milleti adına Türkiye Büyük Millet Meclisi'nindir. Bu yetki devredilemez.

Madde 8:II..... yetkisi ve görevi, Cumhurbaşkanı tarafından Anayasaya ve kanunlara uygun olarak kullanılır ve yerine getirilir.

Madde 9:III..... yetkisi, Türk Milleti adına bağımsız ve tarafsız mahkemelerce kullanılır.

Yukarıdaki kutucuklardaki boşluklara yazılması gereken kavramlar hangi seçenekte doğru olarak verilmiştir?

- A) I. Yasama, II. Yargı, III. Yürütme
B) I. Yürütme, II. Yasama, III. Yargı
C) I. Yasama, II. Yürütme, III. Yargı
D) I. Yargı, II. Yürütme, III. Yasama

10.

CUMHURİYET	MONARŞİ
Halkın ülke yönetim de söz sahibi olduğu bir yönetim biçimidir. Bu yönetim biçiminde demokrasinin temel ilkelerinden olan milli hâkimiyet ilkesi bulunur. Yani yönetim yetkisi halkın elindedir. Halk belirli aralıklar ile yapılan seçimlerle seçilen milletvekilleri aracılığı ile bu yetkiyi kullanıp ülke yönetimine katılır. Günümüzde görülür.	Bu idare şeklinde yönetim yetkisi halkta değil tek kişinin elindedir. Ülkeyi yöneten kişi hayatta olduğu sürece bu görevini sürdürür. Devletin yöneticisi öldükten sonra yerine gelen kişi ülkenin yöneticisinin soyundan gelen oğlu ya da kan bağı bulunan başka bir kişi olur. Halk yönetimde söz sahibi olmayıp tek kişi hâkimiyeti vardır.

OLİGARŞİ

Bu yönetim şeklinde yönetim yetkisi bir ailenin, grubun ya da küçük bir azınlığın elindedir. Oligarşide söz sahibi olan kişiler ülke ile ilgili kararları alan ve uygulayan kişilerdir. Halkın yeterince özgürlüğü bulunmaz. Ülke yönetiminde görev alan kişiler ülkeyi yöneten azınlık tarafından belirlenir. Geçmiş dönemlerde daha çok görülen bir yönetim şeklidir.

1. Halk, yönetimde etkin bir şekilde yer alır.	2. Yönetme yetkisi küçük bir zümrenin elindedir.	3. Ülke yönetiminde tek kişinin hâkimiyeti vardır.
4. Yönetim babadan oğula geçer.	5. Halkın, seçme ve seçilme hakkı vardır.	6. Birden fazla kişi yönetimde söz sahibidir.
7. Siyasi güç ayrıcalıklı bir grubun elindedir.	8. Hâkimiyet tek kişide toplanmıştır.	9. Egemenliğin kaynağı millettir.

Yukarıdaki yönetim biçimleri ile; kutucuklarda verilen özelliklerin eşleştirmesi hangi seçenekte doğru olarak yapılmıştır?

- A) Cumhuriyet:1-5-9
Monarşi : 3-4-8
Oligarşi: 2-6-7
- B) Cumhuriyet:1-4-9
Monarşi : 3-6-8
Oligarşi: 2-5-7
- C) Cumhuriyet:2-6-8
Monarşi : 1-7-9
Oligarşi: 3-4-5
- D) Cumhuriyet:1-5-9
Monarşi : 2-4-8
Oligarşi : 3-6-7



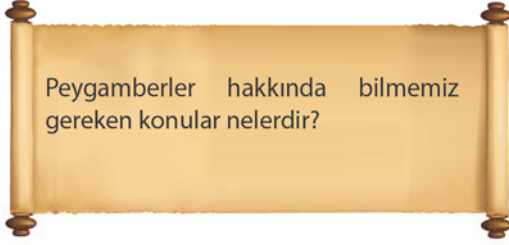
DİN KÜLTÜRÜ VE AHLAK BİLGİSİ

6. SINIF KURUMSAL DENEME SINAVI

A

Bu testte 10 soru vardır.
Cevaplarınızı, cevap kağıdına işaretleyiniz.

1.



- I. Peygamberler insanları yaratıcısı tek olan tevhid inancına davet etmişlerdir.
- II. Peygamberler Allah'tan aldıkları vahyi gerektiği zaman ekleme-çıkarma yaparak anlatmışlardır. Bu da vahyin daha kolay anlaşılmasını sağlamıştır.
- III. Peygamberlerden bazıları ilahi emir ve yasakları anlatırken karşı taraf üzerinde etkili olması için baskı ve zorlamada bulunmuşlardır.

Ahmet öğretmenin sorusuna yukarıdaki maddelerden hangisi ya da hangileri doğru cevap olarak söylenebilir?

- A) Sadece I
B) II - III
C) Sadece II
D) I - II - III

2. Yüce Allah insanlık tarihi boyunca yanlış yolda olanları doğruya iletmek, emir ve yasaklarını belirtmek, insanlar arasında hak ve adaletin olmasını gerçekleştirmek amacıyla pek çok peygamber göndermiştir. Peygamberlerine emir ve yasaklarını Cebrail adlı melek aracılığı ile bildirmiştir.

Allah'ın iyi ile kötüyü, doğru ile yanlış öğretmek amacıyla peygamberlerine bildirdiği emir ve yasaklarına verilen kavram aşağıdakilerden hangisidir?

- A) Tebliğ
B) Vahiy
C) Mesaj
D) Duyuru

3.

Beş vakit namazını kılan bir kimse gurur ve kibirden kendisini korumuş olur. Kul olduğunun bilincine alını yere koyarak, secde ederek ulaşır. Şeytanın Allah'ın huzurundan kovulma kıssasını düşünerek namaz ibadetini hemen yerine getirmeye çalışır.

Yukarıdaki paragrafı destekleyen ayet aşağıdakilerden hangisidir?

- A) "Ey iman edenler! Namaz kılmaya kalktığınız zaman yüzlerinizi, dirseklerinize kadar ellerinizi yıkayın; başlarınızı mesh edip topuklara kadar ayaklarınızı da (yıkayın)..."

(Mâide suresi, 6. ayet)

- B) "...Su bulamamışsanız temiz toprakla teyemmüm edin de yüzünüzü ve (dirseklere kadar) ellerinizi onunla mesh edin. Allah size herhangi bir güçlük çıkarmak istemez; fakat sizi tertemiz kılmak ve size (ihsan ettiği) nimetini tamamlamak ister; umulur ki şükredersiniz."

(Mâide suresi, 6. ayet.)

- C) "...Allah, 'Ey İblis! İki elimle yarattığıma secde etmekten seni men eden nedir? Böbürlendin mi, yoksa yücelerden misin?' dedi. İblis: 'Ben ondan hayırlıyım! Beni ateşten yarattın, onu çamurdan yarattın.' dedi."

(Araf, 12. ayet)

- D) "İman eden kullarıma söyle: Namazlarını dosdoğru kılsınlar. Kendisinde ne alışverişi ne de dostluk bulunan bir gün gelmeden önce, kendilerine verdiğimiz rızıklardan (Allah için) gizli-açık harcasınlar."

(İbrâhim suresi, 31. ayet.)

4.

Menekşe'nin, Medine'de inşa edilen ilk mes-cidin işlevleri hakkında bir ödev hazırlaması gerekmektedir. Menekşe'nin bulunduğu bilgilerden bazıları şunlardır:

- I. İbadet edilmesi
- II. Eğitim yapılması
- III. Devlet işlerinin görüşülmesi
- IV. Namaz için kıble yönü olması

Menekşe'nin ödevi için bulunduğu bilgilerden hangisi yanlıştır?

- A) I
B) II
C) III
D) IV

5.

CUMA NAMAZI

SABAH NAMAZI

?

Kutularda verilen namazlardan hareketle hüküm bakımından aşağıdaki namazlardan hangisinin soru işareti olan kutuya yazılması doğru olmaz?

- A) Öğle Namazı B) İkinci Namazı
C) Akşam Namazı D) Teravih Namazı

6. "Ey iman edenler! Şarap, kumar, dikili taşlar (putlar), fal ve şans okları birer şeytan işi pisliktir; bunlardan uzak durun ki kurtuluşa eresiniz. Şeytan içki ve kumar yoluyla ancak aranıza düşmanlık ve kin sokmak; sizi, Allah'ı anmaktan ve namaz kılmaktan alıkoymak ister. Artık bunlardan vazgeçtiniz değil mi?"
(Mâide Suresi,90- 91. Ayetler)

Yukarıdaki ayette

- I. Alkollü içecekler
II. Kumar
III. Falcılık
IV. İftira
V. Yalan

gibi davranışlardan hangisi ya da hangilerinin İslam tarafından yasaklandığı anlatılmaktadır?

- A) I - V B) II - IV
C) I - II - III D) IV - V

7. Bireyin, kendisini zararlı alışkanlıklardan koruması için hem bireysel hem de toplumsal alanda bazı önlemlerin alınması gerekmektedir. Bireyin, zararlı alışkanlıklar konusunda gerekli eğitimi alması bireysel alandaki bir önlem, toplumsal alanda bir önlemdir.

Metnin düşünce akışının doğru bir şekilde tamamlanması için boş bırakılan yere aşağıdakilerden hangisinin yazılması gerekir?

- A) İslamiyet'in emir ve yasaklarını öğrenmesi
B) spor faaliyetlerini gerçekleştirilmesi
C) kitle iletişim araçlarında zararlı alışkanlıkları konu edinen programlar yapılması
D) zararlı alışkanlıklar konusunda kitap okuması

8.

I. Kuran'ın 112. suresidir.

II. Medine'de indirilmiş surelerden birisidir.

III. Toplam beş ayetten oluşur.

IV. Surenin diğer bir ismi "Mesed"tir.

Tebbet suresi hakkında yukarıda verilen bilgilerden hangileri yanlış bilgi içermektedir?

- A) I - II B) II - IV
C) I - IV D) II - III

9.

Hz. Muhammed'in eşinin başta İncil olmak üzere diğer kutsal kitapların asıllarını bilen bir amcasının oğlu vardı. Hz. Muhammed ve eşi, bu kişinin yanına gittiler ve Hz. Muhammed başından geçen olayları anlattı. O, Hz. Muhammed'e endişeye kapılmamasını, ona gelen meleğin aynı zamanda Hz. Musa'ya gelen Cebrail olduğunu söyledi.

Yukarıdaki metinde Hz. Muhammed'in başından geçenleri anlattığı kişi aşağıdakilerden hangisidir?

- A) Ebu Bekir B) Ebu Talip
C) Hz. Ömer D) Varaka bin Nevfel

10. **MEDİNE'YE HİCRET VE SONUÇLARI**

- I. Hz. Muhammed (s.a.v.) Medine'ye hicret ederken yanına yol arkadaşı olarak Hz. Ali'yi almıştır.
II. Hz. Ebu Bekir'i de kendi evinde bırakarak emanetlerin sahiplerine verilmesini istemiştir.
III. Hicret anında müşriklerden sakınmak için Hz. Muhammed (s.a.v.) Sevr Mağarası'nda saklanmış, yol emniyeti sağlandıktan sonra ise tekrar yolculuğuna devam etmiştir.
IV. Medine'ye ulaşan Hz. Muhammed (s.a.v.) Medine'de büyük bir sevinçle karşılanmıştır.
V. Medine'ye hicret ile Müslümanlar müşriklerin baskılarından kurtulamamış, yine sıkıntılı ve zor günler geçirmeye devam etmiştir.
VI. Medine'ye hicretin asıl sebebi ise Mekke'de artık yeterli olacak geçim maddelerinin bulunmamasıdır.

Talha öğretmenin tahtaya yazdığı bilgilerden hangileri yanlıştır?

- A) III - IV - V B) I - II - V - VI
C) I - II - III - V D) I - III - V - VI



İNGİLİZCE

A

6. SINIF KURUMSAL DENEME SINAVI

Bu testte 10 soru vardır.
Cevaplarınızı, cevap kağıdına işaretleyiniz.

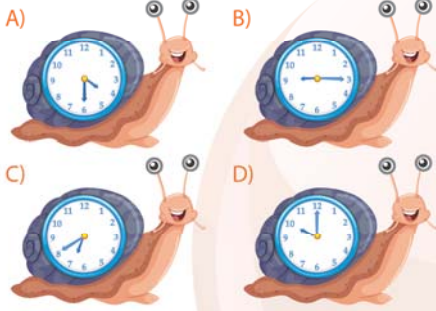
1.



Alfie

I go to Midtown Secondary School. I wake up at twenty to seven on weekdays because my first class starts early. I have a quick breakfast and go to school. I have eight classes at school. I attend my folk dance class after school. Then I go back home at half past four and rest. I do my homework before dinner and watch television. I go to bed at quarter past nine.

Seçeneklerde verilen saat dilimlerinden hangisi metin içerisinde geçmemiştir?



2.

I. **Sophia** : Can I have some honey?

Noah : No, it's all gone. Do you want some jam?

Sophia : No, thanks. _____

II. **Oscar** : Do you want some orange juice with your breakfast?

Emily : No, thanks. I don't like it.

Oscar : What about milk?

Emily : Yes, please. _____

Boş bırakılan yerlere sırasıyla gelecek olan cümleleri hangi seçenek vermiştir?

- A) I love it. I'm not hungry.
C) It's yummy. Enjoy it.
- B) I don't like it. It's my favourite.
D) It's nutritious. Sorry, it's all gone.

3.



What is Mr Miller doing right now?

William : He's taking a nap.

Dorothy : He's knitting.

Bernice : He's feeding the chickens.

Norman : He's reading a newspaper.

Verilen görsele göre hangi kişi sorulan soruya doğru cevap vermiştir?

- A) William
C) Bernice
- B) Dorothy
D) Norman

4.

Weather	Ray	Sid	Max	Liz

Verilen tabloya göre hangi cümle Max adlı kişiye ait olabilir?

- A) I feel sleepy in rainy weather.
B) I feel anxious on sunny days.
C) I feel happy in stormy weather.
D) I feel energetic on snowy days.

5. **Hannah:** Do you like bumper cars?

Mike : No, I hate them because they are dull.(I)
I like roller coasters. They are absolutely terrifying.(II)

Hannah: I don't agree with you. They are frightening. (III)

Mike : What are your favourite rides?

Hannah: I love carrousel rides and Ferris wheel rides because they are exciting.(IV)

Karşılıklı konuşma içerisindeki altı çizili kelimelerden hangisi anlam bütünlüğü açısından yanlış kullanılmıştır?

- A) I B) II C) III D) IV

6. **Dave :** My brother is a tailor. He can build roads and bridges.

Cindy : My uncle is a dentist. He can pull out teeth.

Brad : My father is a mechanic. He can repair cars.

Vicky : My father is a doctor. He can examine patients.

Hangi kişi bahsettiği meslek ile ilgili yanlış bilgi vermiştir?

- A) Dave B) Cindy
C) Brad D) Vicky

7.



Kate : My dictionary was on the shelf yesterday. I can't find it now. Where is it?

Marta : Let me help you. Look! It's _____ the chair.

Verilen görsele göre boş bırakılan yere hangi seçenek gelmelidir?

- A) under B) in front of
C) behind D) next to

8 - 9. soruları verilen metne göre cevaplayınız.



Rose

I went to my uncle's farm last summer. The farm was so beautiful. There was a mountain and a forest near the farm. I climbed the mountain with my uncle. It was a great experience for me. I walked in the forest every day. There were lots of green trees. I picked lots of apples and cherries on the farm. I fed the animals every morning. They were so cute. I had a great time on my uncle's farm.

8. **Aşağıdaki sorulardan hangisinin cevabı metin içerisinde verilmemiştir?**

- A) When did Rose go to the farm?
B) Where did Rose walk every day?
C) What did Rose do every morning?
D) How many days did Rose stay on the farm?

9.

Rose _____ .

Verilen metni dikkate alarak boş bırakılan yer için uygun seçeneği işaretleyiniz.

- A) climbed lots of green trees
B) didn't enjoy her holiday
C) had different activities on her holiday
D) didn't like the animals on the farm

10. I. What did you do in the library?
II. You weren't at home yesterday. Where did you go?
III. I borrowed some novels and books for my school project.
IV. I went to the library.

Yukarıda verilen karşılıklı konuşmanın doğru sıralanışını veren seçeneği işaretleyiniz.

- A) III / II / IV / I B) II / IV / I / III
C) IV / III / II / I D) I / III / II / IV




MATEMATİK

6. SINIF KURUMSAL DENEME SINAVI

A

Bu testte 15 soru vardır.
Cevaplarınızı, cevap kağıdına işaretleyiniz.

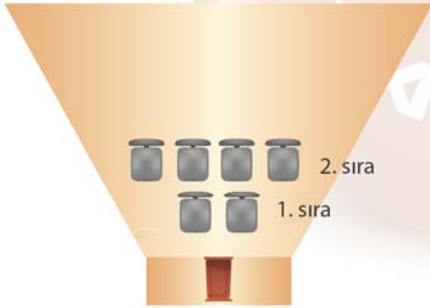
1.



Bir hesap makinesinde 6 ve 9 tuşları çalışmamaktadır. 69×96 işleminin sonucunu bu hesap makinesini kullanarak bulmak isteyen Okan'ın doğru sonuca ulaşmak için yapabileceği işlemlerden biri aşağıdakilerden hangisi olabilir?

- A) $70 - 1 \times 100 - 4$ B) $(70 + 1) \times (80 + 1)$
C) $(70 - 1) \times (100 - 4)$ D) $100 - 4 \times 70 - 1$

2.



Denizli ilinin Halk Eğitim Merkezine bir konferans salonu yapılacaktır. Bu konferans salonunda 1. sıraya 2 tane koltuk, 2. sıraya 1. sıradaki koltuk sayısının 2 katı kadar koltuk yapılacaktır. Benzer şekilde 1. sıra haricindeki her sıraya kendinden önceki sırada bulunan koltuk sayısının 2 katı kadar koltuk yapılacaktır.

Bu konferans salonu 5 sıra olduğuna göre toplam koltuk sayısı aşağıdakilerden hangisidir?

- A) 2^6 B) 1.2.3.4.5
C) $2^1 + 2^2 + 2^3 + 2^4 + 2^5$ D) 2^5

3.

Bilgi: Yeryüzünde derinlikler ve yükseklikler deniz seviyesine göre belirlenmektedir. Deniz seviyesinin üstündeki değerler "+" deniz seviyesinin altındaki değerler "-" ile gösterilmektedir.



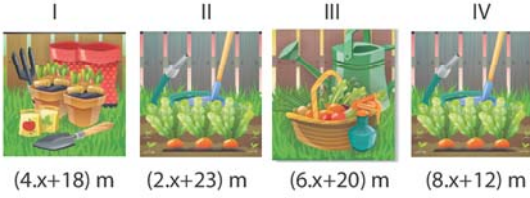
Bir balık hafta içi her gün bulunduğu konumdan 3 metre derine inmektedir. Hafta sonu ise her gün 5 metre yukarı çıkmaktadır.

Pazartesi günü suyun 15 m altında yüzen bir balığın o hafta pazar günü bulunduğu konum deniz seviyesine göre aşağıdakilerden hangisidir?

- A) -15 B) -17 C) -18 D) -25

NARTEST

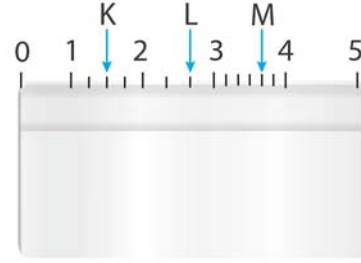
4. Aşağıda Ahmet Amca'nın kare şeklindeki dört bahçesinden her birinin bir kenarının uzunluğu verilmiştir.



Buna göre, bu bahçelerden hangisinin çevre uzunluğu $x = 1$ olduğunda 100 m olur?

- A) I B) II C) III D) IV

6.



5 cm uzunluğundaki yukarıdaki cetvelde 1 ile 2 arası 4 eş parçaya, 2 ile 3 arası 3 eş parçaya, 3 ile 4 arası 6 eş parçaya ayrılmıştır.

Buna göre K, L ve M harflerine karşılık gelen sayıların toplamı kaçtır?

- A) $6\frac{5}{6}$ B) $7\frac{5}{6}$ C) $5\frac{1}{6}$ D) $6\frac{1}{6}$

5.



21 Mart Dünya Ormancılık Günü ve Orman Haftası Ağaçlandırma Projesi kapsamında Atatürk Ortaokulunun bahçesine 48 tane fidan dikilecektir. Ağaçlandırma dikdörtgen şeklindeki zeminlere yapılacak ve dikilen her fidan 1 m^2 lik alanı kaplayacaktır.

Buna göre bu 48 fidanın dikileceği kaç farklı boyutta dikdörtgenel bölge oluşturulabilir?

- A) 8 B) 7 C) 6 D) 5

7.


Sabit Ücret	Hafta İçi	Hafta Sonu
80,5 ₺	10,6 ₺	12,75 ₺

Yukarıdaki tabloda bir iş yerinde uygulanan ücretlendirme sistemi verilmiştir. Haftalık sabit 80,5 ₺ ücret alan bir çalışan hafta içi ve hafta sonu yaptığı fazla mesailer için farklı ücretler almaktadır.

Hafta içi toplamda 15 saat hafta sonu toplamda 6 saat fazla mesaiye kalan bir çalışan 1 haftada kaç ₺ kazanır?

- A) 103,75 B) 315,5
C) 316 D) 338

8.

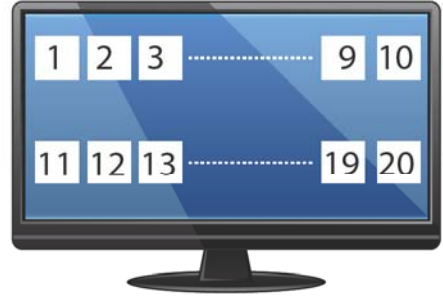


Dikdörtgen şeklindeki bir bacanın kenarlarının uzunluğu $2\frac{1}{3}$ m ve $3\frac{2}{6}$ m dir. Bu bacanın üzerine, kenarlarını $\frac{1}{2}$ m geçecek şekilde dikdörtgen sel baca şapkası yapılmıştır.

Buna göre baca şapkasının alanı kaç m² dir?

- A) $\frac{140}{18}$ B) $\frac{391}{6}$ C) $\frac{130}{9}$ D) $\frac{280}{18}$

9.




Bir bilgisayar oyununda ekranda 1'den 20'ye kadar sayılar yazmaktadır. Bu oyunun kuralları aşağıda verilmiştir.

- ★ Bilgisayar her defasında 2 sayı seçmeye izin veriyor ve seçilen sayıları ekrandan siliyor.
- ★ Seçilen iki sayının çarpımı 6'nın katı ise 5 puan kazanılıyor, değilse puan kazanılmıyor.

Buna göre bu oyunu oynayan birisi en fazla kaç puan kazanabilir?

- A) 15 B) 20 C) 25 D) 30

10.

A marka
7 ₺B marka
9 ₺C marka
13 ₺D marka
14,50 ₺

Bir kırtasiyede A marka kalemin paketinde 2 kalem, B marka kalemin paketinde 3 kalem, C marka kalemin paketinde 4 kalem ve D marka kalemin paketinde 5 kalem vardır.

Kalemlerin paket fiyatları yukarıda verildiğine göre, tanesi en ucuz kalemi almak isteyen Mesut hangi marka kalemden almalıdır?

- A) A B) B C) C D) D

12. $A = \{120 \text{ sayısının asal çarpanları}\}$
 $B = \{72 \text{ sayısının asal çarpanları}\}$

Yukarıda verilen A ve B kümeleriyle ilgili aşağıdakilerden hangisi yanlıştır?

- A) $s(A \cap B) = 2$ B) $s(A) = 3$
C) $s(A \cup B) = 3$ D) $s(B) = 3$

11.



Akif özdeş kitaplardan 3 tanesinin üstüne çıkınca boyu masanın boyuna eşit oluyor. Kitaplardan 7 tanesinin üstüne çıkınca Akif'in boyu masanın boyunu 12 cm geçiyor.

Akif'in boyu 72 cm olduğuna göre masanın boyu kaç cm'dir?

- A) 79 B) 81 C) 84 D) 90

13.



Mine'nin annesi baklava için şerbet hazırlamaktadır. 150 gr suya 30 gr şeker karıştırarak bir şerbet hazırlamıştır.

Buna göre aşağıdakilerden hangisi yanlıştır?

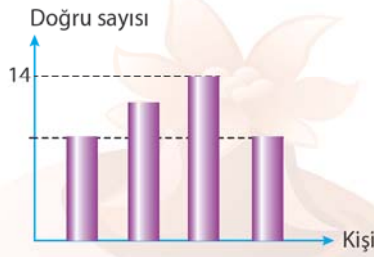
- A) Şeker miktarının su miktarına oranı birimsiz orandır.
B) Şeker miktarının su miktarına oranı $\frac{1}{5}$ 'tir.
C) 60 gram şeker 300 gram şerbette bulunur.
D) Bu şerbetten hazırlamak için 200 gram suya 40 gram şeker katılır.

A

14.



Mithat Öğretmen 4 öğrencisine 15 soruluk matematik sınavı uygulamış ve doğru cevap sayılarını grafikte göstermiştir.



Bu kişilerle alakalı aşağıdakiler bilinmektedir.

- ▶ Okan ile Elif'in doğru sayıları eşittir.
- ▶ Ayşenur'un doğru sayısı, Berke'nin doğru sayısından 4 fazladır.
- ▶ Bu 4 kişinin doğru sayıları ortalaması 10'dur.

Buna göre Okan'ın doğru sayısı aşağıdakilerden hangisidir?

- A) 12 B) 10 C) 9 D) 8

MARTEST

15. Bir halı dokuma atölyesinde geometrik şekillerle desen yapılmaktadır.



Yukarıda verilen desen, birbirine eş karelerin köşeleri çakişacak şekilde birleştirilmesiyle oluşturulmuştur.

Kare desenler arasındaki üstteki açı 70° olduğuna göre alttaki A açısı kaç derecedir?

- A) 110 B) 105 C) 100 D) 90



FEN BİLİMLERİ

A

6. SINIF KURUMSAL DENEME SINAVI

Bu testte 15 soru vardır.
Cevaplarınızı, cevap kağıdına işaretleyiniz.

1. **Bilgi:** Işık kaynağının önüne saydam olmayan bir cisim konulduğunda, cismin arka tarafında karanlık bir bölge oluşur. Işık ışınlarını alamayan bu bölgeye tam gölge denir.



Dünya



Ay



Güneş

Zeynep, Güneş tutulmasında da Güneş'ten gelen ışınların bir kısmının Dünya'ya ulaşmadığını düşünmüş ve aşağıdaki malzemeleri kullanarak, Güneş tutulması ile ilgili tahminini açıklayan bir model hazırlamıştır.

Hazırladığı modelde Dünya için plastik top, Ay için pinpon topu, Güneş için yanan bir mum kullanmıştır.

Zeynep'in Güneş tutulması ile ilgili tahmini ve hazırladığı model doğru olduğuna göre, kullandığı malzemeler aşağıdakilerden hangisindeki gibi dizilmiştir?

A)



B)






C)



D)




2. Ahmet, vücutta gerçekleşen sindirim olayını daha iyi anlayabilmek için aşağıdaki deneyi tasarlıyor.

 1. işlem	 2. işlem	 3. işlem
Küp şekerin üzerine kâğıt havluyu bastırıyor. Kâğıt havlu şekeri emmiyor.	Küp şekeri eziliyor ve üzerine kâğıt havluyu bastırıyor. Kâğıt havlu şekeri emmiyor.	Toz şekeri suda çözüyor ve üzerine kâğıt havluyu bastırıyor. Kâğıt havlu şekeri emiyor.

Ahmet, yaptığı deneyde kâğıt havlunun şekeri emmesini besinlerin kana geçişi ile ilişkilendirdiğine göre, deneyini hangi seçenekteki ifadeyi ispat etmek için gerçekleştirmiş olabilir?

- A) Besinlerin kana emilimi ince bağırsağın yapısında bulunan kıvrımlarda gerçekleşir.
B) Fiziksel sindirim besinlerin su ve enzimler yardımıyla küçük parçalara ayrılmasıdır.
C) Besinlerin kana geçebilmesi için hem mekanik hem de kimyasal sindirime uğraması gerekir.
D) Sindirim sonucu oluşan besin atıkları kalın bağırsağın son kısmından dışarı atılır.

3. Halat çekme yarışı yapan öğrencilerin uyguladığı kuvvetler şekildeki gibidir.



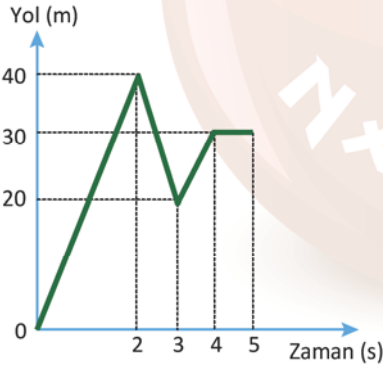
Halata etki eden net kuvvet;

- I. Duvara asılı ayna
II. Sabit süratle hareket eden araba
III. Daldan düşen elma
IV. Kalkış yapan uçak

üzerine etki eden kuvvetlerden hangileriyle benzerlik gösterir?

- A) Yalnız I
B) I ve II
C) III ve IV
D) II, III ve IV

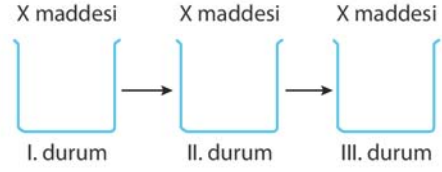
4. Aşağıda bir hareketliye ait yol - zaman grafiği verilmiştir.



Grafiğe göre, bu hareketliyle ilgili aşağıda verilen bilgilerden hangisi yanlıştır?

- A) Hareketlinin 0 ile 2. saniyeler arasındaki sürati 20 m/s 'dir.
B) Hareketli 2 ile 3. saniyeler arasında başlangıçtakine göre ters yönde hareket etmiştir.
C) 4. saniyenin sonunda hareketlinin aldığı toplam yol 30 metredir.
D) Hareketli 4 ile 5. saniyeler arasında durmaktadır.

5. Gamze, beherglasın içine koyduğu X maddesini aşağıdaki gibi çeşitli işlemlerden geçiriyor. Gamze'nin yaptığı her işlemde X maddesi hâl değiştiriyor.



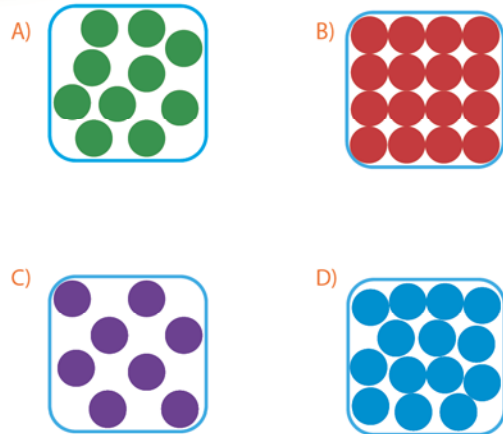
Yapmış olduğu işlemler sonucunda aşağıdaki notları alıyor:

- ▶ X maddesi I. durumdan II. duruma geçerken tanecikleri arasındaki boşluk azalmıştır.
- ▶ X maddesi III. durumdayken taneciklerinin hareketliliği, II. durumdakine göre azalmıştır.
- ▶ X maddesinin tanecikleri III. durumda sadece titreşim hareketi yapar.

Buna göre, X maddesinin geçirdiği hâl değişimleri ile ilgili, aşağıda verilen bilgilerden hangisi doğrudur?

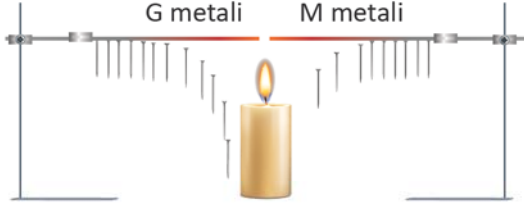
- A) Madde I. durumda katı, II. durumda sıvı, III. durumda ise gaz hâldedir.
B) Madde I. durumdan III. duruma geçerken ısı almıştır.
C) Madde II. durumdayken tanecikleri titreşim, öteleme ve dönme hareketi yapar.
D) Madde her üç durumda iken taneciklerinin titreşim hızı aynıdır.

6. Aşağıda taneciklerinin birbirine göre konumu verilen maddeler eşit hacimli olduğuna göre, hangisinin yoğunluğu en fazladır?



7. Tamamı metalden yapılacak bir tencere için, farklı metaller üzerinde çeşitli testler yapılıyor.

Metallerin alt kısmına aynı miktarda mum ile özdeş raptiyeler tutturuluyor ve aşağıdaki düzenek kuruluyor.

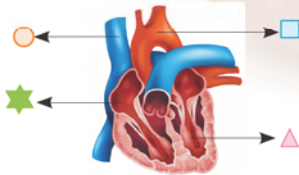


Test sonucunda raptiyelerin düşme sırası şekildeki gibi gözlemleniyor.

Buna göre, tencere ve kulplarının yapımında kullanılabilecek metaller, aşağıdaki seçeneklerden hangisinde doğru olarak verilmiştir?

- A) Tencere yapımında ısıyı iyi ileten M, kulplarının yapımında ısıyı iyi iletmeyen G metali kullanılır.
 B) Tencere yapımında ısıyı iletmeyen M, kulplarının yapımında ısıyı iyi ileten G metali kullanılır.
 C) Tencere yapımında ısıyı iyi iletmeyen G, kulplarının yapımında ısıyı iyi ileten M metali kullanılır.
 D) Tencere yapımında ısıyı iyi ileten G, kulplarının yapımında ısıyı iyi iletmeyen M metali kullanılır.

8. Aşağıda dolaşım sistemine ait bir görsel verilmiştir.



Görsel üzerinde belirtilen bölümler ve görevleri ile ilgili aşağıda verilen bilgilerden hangisi yanlıştır?

- A) ★ kanın vücudun belirli kısımlarına pompalandığı yerdir.
 B) □ kanı kalpten vücuda taşıyan atardamardır.
 C) ○ kanı kalbe getiren toplardamardır.
 D) ★ sol üst odacıktır ve alt odacıklara göre küçüktür.

9. Ailesi ile pikniğe giden Mert, önce bir yakıt istasyonuna uğrayarak benzin aldı. Piknik alanına vardıklarında ailesi ile birlikte kuru odun parçaları toplayıp yaktı ve ateş üzerine bıraktığı odun kömürünü tutuşturdu. Yiyecekleri pişirdikten sonra piknik tüpü üzerine çaydanlığı koyup, tüpün vanasını açarak ateşledi. Çaylarını da içtikten sonra ailesi ile birlikte etrafı temizleyip eve dönen Mert, doğal gaz şofbenini açarak duş aldı.

Mert'in piknik yaptığı gün kullandığı yakıtların türü, aşağıdaki seçeneklerden hangisinde doğru olarak verilmiştir?

	Katı	Sıvı	Gaz
A)	Odun, Odun kömürü	Benzin	Tüp (LPG), Doğalgaz
B)	Odun	Benzin	Tüp (LPG)
C)	Odun, Odun kömürü	Tüp (LPG)	Benzin
D)	Odun, Odun kömürü	Benzin Doğalgaz	Tüp(LPG)

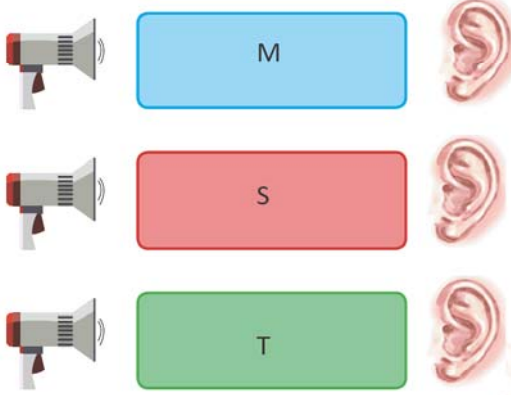
10. Refik , Saliha ve Ömer, plastik ve tahta kaşıklarla aynı ortamda bir müzik ritmi oluşturuyorlar.



Refik, Saliha ve Ömer'in yaptıkları etkinlikte, ses ile ilgili aşağıdaki çıkarımlardan hangisi yapılabilir?

- A) Sesin yayıldığı ortamın değişmesi, seslerin farklı işitilmesine neden olur.
 B) Ses kaynağının değişmesi, seslerin farklı işitilmesine neden olur.
 C) Ses kaynağının değişmesi, sesin süratinin değişmesine neden olur.
 D) Sesin yayıldığı ortamın değişmesi, sesin süratinin değişmesine neden olur.

11. Samet, sesin farklı ortamlardaki süratini karşılaştırmak için; içi M, S ve T maddeleri ile doldurulmuş aşağıdaki kapları kullanıyor.

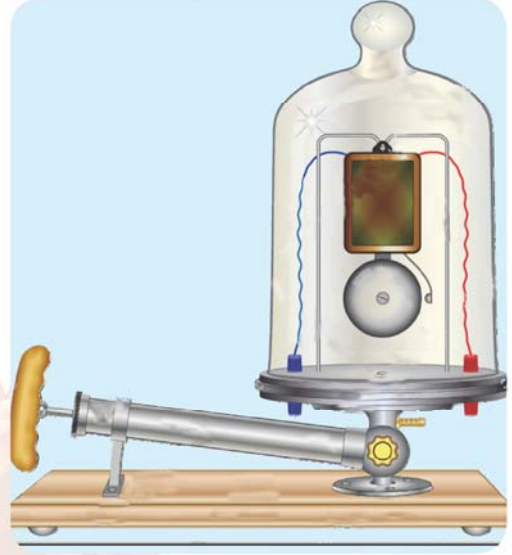


Ses kaynağı ile bu ortamlara ses gönderen Samet, bir süreölçer yardımıyla sesin duyulma süresini ölçüyor.

Ses; sırasıyla en kısa sürede S, sonra M, en uzun sürede T maddesi ile doldurulmuş kapta duyulduğuna göre, bu maddeler aşağıdakilerden hangisi gibi olabilir?

	M	S	T
A)	Demir	Su	Hava
B)	Hava	Demir	Su
C)	Su	Hava	Demir
D)	Su	Demir	Hava

12. Aşağıda içerisine elektrik zili sabitlenmiş bir cam fanus verilmiştir.

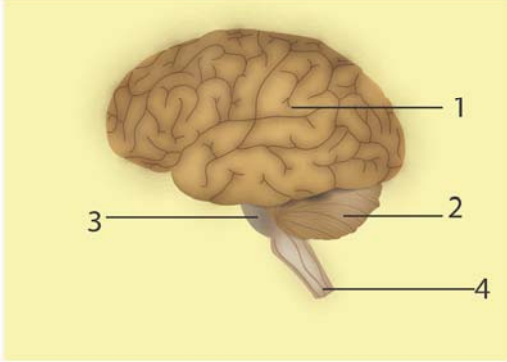


Elektrik zilin kabloları güç kaynağına bağlanıp zil çalıştırıldığında, zilin sesi net biçimde duyulur. Hava boşaltma pompası yardımıyla fanus içerisindeki hava boşaltılmaya başlandığında, zilin sesi azalır ve ses bir süre sonra duyulmaz hâle gelir.

Günlük yaşamda sesin yayılmasını engellemeye yönelik aşağıdaki yöntemlerden hangisi, yukarıda açıklanan olaydan yararlanılarak yapılmıştır?

- A) Pencereerde çift cam kullanılması ve camlar arasındaki havanın vakumlanması.
- B) Sinema salonlarının duvarlarının pürüzlü ve içi hava dolu süngerlerle kaplanması.
- C) Otoyol kenarlarındaki evlerde oluşan gürültüyü engellemek için ağaçlandırma yapılması.
- D) Araba egzozlarının içerisine sesin yayılmasını engelleyen malzemeler konulması.

13. Aşağıdaki görselde merkezi sinir sistemini oluşturan organlar numaralandırılarak gösterilmiştir.



Bu organların görevleri ile ilgili aşağıda verilen bilgilerden hangisi yanlıştır?

- A) 1 numaralı organ acıkma, susama, uyku, uyanıklık gibi durumları düzenler.
 B) 2 numaralı organ kol ve bacak kaslarımızın birbiriyle uyumlu çalışmasını sağlar.
 C) 3 numaralı organ vücudumuzun hareket ve denge merkezidir.
 D) 4 numaralı organ vücudumuzun refleks merkezidir.
14. Aşağıdaki tabloda ergenlik döneminde erkeklerde ve kızlarda görülen bazı değişimler verilmiştir.

Testosteron hormonu salgılanır.	Yalnız kalma isteği başlar.	Sakal ve bıyık çıkmaya başlar.
Aşırı utangaçlık görülür.	Sperm üretimi başlar.	Ter ve yağ salgısı çoğalır.
Östrojen hormonu salgılanır.	Sivilce oluşumu başlar.	Âdet döngüsü başlar.

Sadece erkeklerde görülen değişimler mavi, sadece kızlarda görülen değişimler kırmızı ile boyandığında, tablonun son görünümü aşağıdakilerden hangisi gibi olur?

- A)
- B)
- C)
- D)

15. Aşağıdakilerden hangisi duyu organlarındaki kusurların giderilmesinde kullanılan teknolojilere örnek olarak verilemez?

A)



İşitme Cihazı

B)



Kontakt Lens

C)



Gözlük

D)



Konuşan Baston

6.
sınıf

ÖĞRENCİLERİN DİKKATİNE

1. Cevap kâğıdınızı silinmeyen bir kalemle imzalayınız.
2. Cevaplamaya istediğiniz sorudan başlayabilirsiniz.
3. Cevaplarınızı, cevap kâğıdındaki ilgili soru numarasını dikkate alarak yuvarlağın dışına taşırmadan kurşun kalemle kodlayınız.
4. Cevabını bilmediğiniz sorular üzerinde fazla zaman kaybetmeden diğer sorulara geçiniz. Zamanınız kalırsa bu sorulara daha sonra dönebilirsiniz.
5. Soru kitapçığının içindeki boş alanları çözümlerinizi için kullanabilirsiniz.
6. Soru kitapçığının sayfalarını görevlilerin uyarıları doğrultusunda kontrol ediniz, baskı hatası var ise değiştirilmesini sağlayınız.
7. Soru kitapçığı üzerinde yapıлып cevap kâğıdına işaretlenmeyen cevaplar değerlendirmeye alınmayacaktır.
8. Değiştirmek istediğiniz bir cevabı, yumuşak silgiyle cevap kâğıdını yıpratmadan temizce siliniz ve yeni cevabınızı kodlayınız.
9. Cevap kâğıdınızı sınav süresince hiçbir öğrencinin göremeyeceği şekilde önünüzde bulundurunuz.
10. Sınav bitiminde, soru kitapçığı ve cevap kâğıdını salon görevlilerine teslim ediniz.

Copyright©ALTIN NOKTA

Bu kitabın her hakkı saklıdır. Tüm hakları ALTIN NOKTA YAYINEVİ'ne aittir. Kismen de olsa alıntı yapılamaz. Metinler, kitabı yayımlayan kurumun önceden izni olmaksızın elektronik, mekanik, fotokopi ya da herhangi bir kayıt sistemiyle çoğaltılamaz, yayımlanamaz



Altın Nokta

NOKTA



6. SINIF | 22 NİSAN KURUMSAL DENEME SINAVI CEVAP ANAHTARI

Soru No	SÖZEL BÖLÜM				SAYISAL BÖLÜM	
	TÜRKÇE	SOSYAL BİLGİLER	DİN KÜLTÜRÜ VE AHLAK BİLGİSİ	İNGİLİZCE	MATEMATİK	FEN BİLİMLERİ
1.	D	A	A	D	C	B
2.	B	B	B	B	C	C
3.	D	D	C	A	B	B
4.	C	D	D	C	B	C
5.	A	B	D	B	D	C
6.	B	B	C	A	B	B
7.	C	C	C	A	C	D
8.	C	D	A	D	C	D
9.	A	C	D	C	D	A
10.	D	A	B	B	D	B
11.	B				B	D
12.	C				D	A
13.	B				C	C
14.	D				D	B
15.	A				A	D