



7.SINIF

1.DÖNEM 1.YAZILI SINAVINA HAZIRLIK KAĞIDI



GÖKHAN HOCA FEN BİLİMLERİ

INSTAGRAM:GOKHANHOCAFENBİLİMLERİ


Öğrenci Adı:

Sınıfı\Numarası:

A-Aşağıda verilen cümlelerden doğru olanlara "D" yanlış olanlara "Y" harfi yazınız.

(10x2:20 puan)

- () Canlılık özelliği gösteren en küçük yapı birimine hücre adı verilir.
- () İlk Teleskop Hans Lippershey tarafından yapılmıştır.
- () Gök cisimlerinin uzaydaki durumlarını ve hareketlerini inceleyen bilim dalına Astroloji denir.
- () Tüm Hücrelerde çekirdek vardır.
- () Büyük kütleli yıldızlar küçük kütleli yıldızlara göre daha uzun süre yaşar.
- () Ali Kuşçu Ay'ın ilk haritasını çıkaran bilim insanıdır.
- () Ömrünü tamamlamış uzay araçları uzay kirliliğine sebep olur.
- () Protein sentezinden sorumlu organel ribozomdur.
- () İlk Mikroskop Robert Hooke tarafından icat edilmiştir.
- () Samanyolu ve Andromeda sarmal galaksilere örnektir.



B-Aşağıda verilen kelimeleri kullanarak boşlukları uygun şekilde doldurunuz.

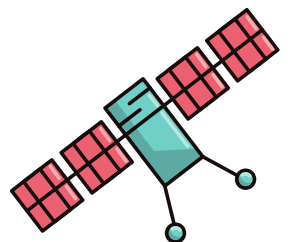
(15x2:30 puan)

ROKET-ZAMAN-UZAKLIK-UZAY MEKİĞİ-BİG BANG-MAVİ-KIRMIZI-BEYAZ-SARI-GALİLEO
GALİLEİ-ALİ KUŞÇU-BEYAZ CÜCE- KARA DELİK-NÖTRON YILDIZI-HÜCRE ZARI-HÜCRE DUVARI-
ÇEKİRDEK-SİTOPLAZMA-MİTOKONDİRİ-LİZOZOM-HÜCRE-ORGANLARI-SİSTEMLERİ

- Hücre için gerekli olan enerji organelinde üretilir.
- Belirli bir görevi yapmak için bir araya gelen dokular oluşturur.
- Gelişmiş bir hücre üç temel kısımdan oluşur.Bu kısımlar..... ve'dır.
- Büyük kütleli yıldız ömürlerini tamamladıktan sonra veya oluşur.
- Astronomide kullanılan ilk teleskobu icat etmiştir.
- Sıcaklığı en yüksek olan yıldızlaryada....., orta sıcaklıktaki yıldızlar....., en soğuk yıldızlar ise renktedir.
- Günümüzde evrenin oluşumu teorisi ile açıklanmaktadır.
- Işık yılı bir birimidir.
- Uzaya çıkabilmek için kullanılan hava araçlarına denir.




C-Ülkemizin aktif olarak görev yapmakta olan uydularını yazınız.(10 puan)



TÜM ETKİNLİK KAĞITLARINA WWW.GOKHANHOCA.COM SITESİNDEN ULAŞABİLİRSİNİZ.

TÜM ETKİNLİK KAĞITLARINA WWW.GOKHANHOCA.COM SITESİNDEN ULAŞABİLİRSİNİZ.



7.SINIF

1.DÖNEM 1.YAZILI SINAVINA


HAZIRLIK KAĞIDI



GÖKHAN HOCA FEN BİLİMLERİ

INSTAGRAM:GOKHANHOCAFENBİLİMLERİ

D-Bitki ve Hayvan hücreleri arasındaki farkları yazınız.(10 puan)



E-Aşağıdaki test sorularını cevaplayınız. (5x6:30 puan)

1-Uücudumuzu oluşturan yapıların karmaşıktan basite doğru sıralaması hangi seçenekte doğru verilmiştir?

- A) Hücre-Organ-Doku-Sistem-Organizma
- B) Organizma-Sistem-Organ-Doku-Hücre
- C) Hücre-Doku-Organ-Sistem-Organizma
- D) Organizma-Doku-Organ-Hücre-Sistem

2-Yıldızlar için aşağıdaki ifadelerden hangileri doğrudur?

- I- Canlılar gibi doğar,büyür ve ölürlür.
- II- Tek yada takım halinde bulunur.
- III- Gezegenlerden küçüktürler
- IV- Doğal ısı ve ışık kaynağıdırılar.

- A) I-III-IV B) I-II-III-IV C) I-II-IV D) II-III-IV

3-

- I-Esnek ve canlıdır
- II-Seçici geçirgendir.
- III-Hücreye şekil verir.
- IV-Sadece bitki hücrelerinde bulunur.

Yukarıdaki ifadelerden hangileri hücre zarının özelliklerindedir?

- A) I-II-IV B) II-III-IV C) I-II-III D) I-III-IV

4-

Günümüzde kullanılan teknolojik araçların çoğu, uzay araştırmaları sonucunda keşfedilmiştir.

Aşağıdakilerden hangisi uzay araştırmaları sonucu bulunan araçlardan değildir?

- A) Teflon
- B) Şeffaf diş teli
- C) Tükenmez kalem
- D) Şemsiye

5-

Aşağıdaki yapılardan hangisi hayvan ve bitki hücreleri için ortaktır?

- A) Hücre duvarı
- B) DNA
- C) Kloroplast
- D) Sentrozom



ETKİNLİK KAĞIDININ ÇÖZÜMLERİNİ
KAREKODU OKUTARAK İZLEYEBİLİRSİNİZ.

ABONE OLMAYI UNUTMAYIN :)



TÜM ETKİNLİK KAĞITLARINA WWW.GOKHANHOCA.COM SITESİNDEN ULAŞABİLİRSİNİZ.

TÜM ETKİNLİK KAĞITLARINA WWW.GOKHANHOCA.COM SITESİNDEN ULAŞABİLİRSİNİZ.

YOUTUBE:GÖKHAN HOCA FEN
BİLİMLERİ

GÖKHAN ÖZKUL