






ج

# ANASINIFLARI

## 3 RAKAMI

ز

Aşağıdaki resimde kaç tane panda görünmekte? Söleyiniz. Üç rakamlarının yazılı olan fillerin boyamasını yapalım.



Aşağıdaki çizgisel rakamların yazılışlarının üzerinden geçelim.

