






ANASINIFLARI

9 RAKAMI



Aşağıdaki resimde kaç tane toka bulunmakta? Söyleyiniz. Dokuz rakamlarını ve Çiçeklerin içindeki 9 yazılı olan çiçeklerin boyamasını yapalım.



Aşağıdaki çizgisel rakamların yazılışlarının üzerinden geçelim.

