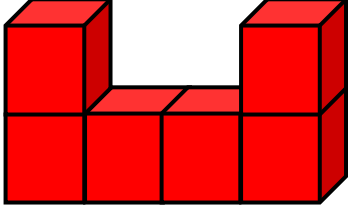


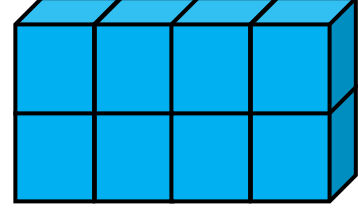


# OKUL ÖNCESİ AKIL VE ZEKA OYUNLARI BLOK KÜP ETKİNLİKLERİ

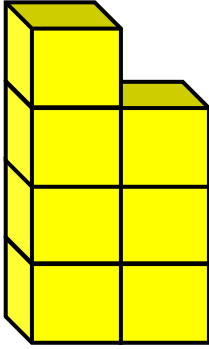
Blok küplerin kaç tane olduklarını sayıp, alt bölümlere yazalım.



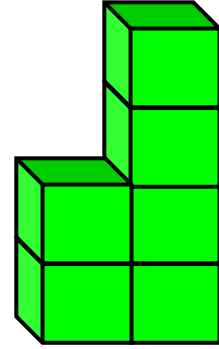
Küp Sayısı:.....



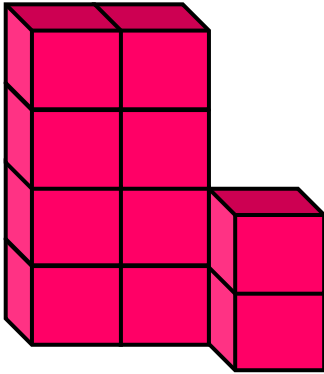
Küp Sayısı:.....



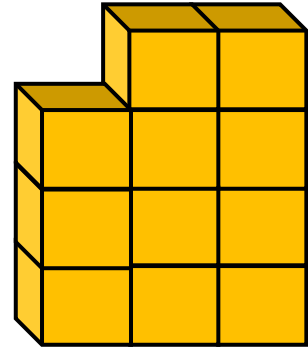
Küp Sayısı:.....



Küp Sayısı:.....



Küp Sayısı:.....



Küp Sayısı:.....