



ANADOLU ÜNİVERSİTESİ
AÇIKÖĞRETİM FAKÜLTESİ
BA - AÇIKÖĞRETİM OKULLARI

T.C. MİLLİ EĞİTİM BAKANLIĞI
Hayat Boyu Öğrenme Genel Müdürlüğü
AÇIK ÖĞRETİM LİSESİ – BATI AVRUPA PROGRAMI
2012-2013 ÖĞRETİM YILI I.DÖNEM SINAVI
BİRİNCİ OTURUM - Cumartesi 09.00

TEST GRUBUNUZ

A 0101

CEVAP KÂĞIDINIZA İŞARETLEMİYİ UNUTMAYINIZ.

ÖĞRENCİNİN

SOYADI :

ADI :

ÖĞRENCİ NO :

SINAV SALON NO: SIRA NO:

Soyadınızı, adınızı, öğrenci numaranızı, salon ve sıra numaranızı yukarıya yazmayı unutmayınız.

GENEL AÇIKLAMA

1. Bu soru kitapçığındaki testler şunlardır:

Testin Adı	Soru Sayısı	Sayfa No
DİN KÜLTÜRÜ VE AHLAK BİLGİSİ 1	20	2
DİN KÜLTÜRÜ VE AHLAK BİLGİSİ 7	20	4
COĞRAFYA 2	20	6
COĞRAFYA 8	20	8
MATEMATİK 3	20	10
GEOMETRİ 2	20	13
ALMANCA I	20	17
İNGİLİZCE I	20	20
FRANSIZCA I	20	23
SOSYOLOJİ 2	20	25
TURİZM 1	20	27
DİL VE ANLATIM 5	20	29
KİMYA 2	20	31
BİYOLOJİ 3	20	33

Testin Adı	Soru Sayısı	Sayfa No
BİYOLOJİ 7	20	35
DEMOKRASİ VE İNSAN HAKLARI 1	20	37
İŞ GÜVENLİĞİ 2	20	39
SANAT TARİHİ 1	20	41
SEÇMELİ TÜRK EDEBİYATI 4	20	43
SEÇMELİ ALMANCA 6	20	45
SEÇMELİ İNGİLİZCE 6	20	48
SEÇMELİ FRANSIZCA 6	20	51
SEÇMELİ ALMANCA 5	20	53
SEÇMELİ İNGİLİZCE 5	20	56
SEÇMELİ FRANSIZCA 5	20	59

2. Bu kitapçıkta yer alan her bir test için cevaplama süresi **30** dakika, toplam sınav süresi **150** dakikadır.
3. Cevaplamaya istediğiniz testin, istediğiniz sorusundan başlayabilirsiniz. Yalnız cevaplarınızı, cevap kâğıdında o test için ayrılmış olan bölümdeki aynı numaralı cevap yerine işaretlemeyi unutmayınız.
4. Cevaplarınızı koyu siyah ve yumuşak bir kurşunkalemle işaretleyiniz. İşaretinizi cevap yerinin dışına taşırmayınız. Tükenmez veya mürekkepli kalem kullanmayınız.
5. Değiştirmek istediğiniz bir cevabı yumuşak bir silgi ile, cevap kâğıdını örselemeden temizce siliniz ve doğru cevabınızı işaretlemeyi unutmayınız.
6. Cevap kâğıdınızı buruşturmayınız, katlamayınız ve üzerine gereksiz hiçbir işaret koymayınız.
7. Bu kitapçıkta her sorunun bir tek doğru cevabı vardır. Bir soru için birden çok cevap yeri işaretlenmişse o soru yanlış cevaplanmış sayılacaktır.
8. Cevaplarınız puanlanırken her doğru cevabınıza eşit puan verilecek, yanlış cevaplarınız dikkate alınmayacaktır. Bu nedenle kitapçıkta tüm sorular için size doğru gelen seçeneği işaretleyerek cevapsiz soru bırakmamanız yararınıza olacaktır.
9. Kitapçığın sayfalarındaki boş yerleri müsvedde için kullanabilirsiniz.

Anadolu Üniversitesi tarafından hazırlanmış olan bu testlerin her hakkı saklıdır. Hangi amaçla olursa olsun, testlerin tamamının veya bir kısmının Anadolu Üniversitesi'nin yazılı izni olmadan kopya edilmesi, fotoğraflarının çekilmesi, herhangi bir yolla çoğaltılması, yayımlanması ya da kullanılması yasaktır. Bu yasağa uymayanlar gerekli cezai sorumluluğu ve testlerin hazırlanmasındaki mali külfeti peşinen kabullenmiş sayılır.

1. Aşağıdakilerden hangisi insana ait özelliklerden biri değildir?

- A) İnsanın yapısında yeryüzünde bulunan cansız varlıklara ait fiziki özelliklerde bulunur.
- B) İnsanın ahlaki değerleri genetik yolla diğer nesillere aktarılır.
- C) İnsanın yapısında hayvanların sahip olduğu biyolojik özelliklerde mevcuttur.
- D) İnsan, ne bitki ne de hayvan kategorisinde değerlendirilemez.

2. Ateizmin savunucularına temel oluşturan düşünce aşağıdakilerden hangisidir?

- A) "Var" diyebilmek için görmenin gerekmediği
- B) "Yok"un ispatlanmasının mümkün olmadığı
- C) Bilemediğimiz şeyin var olabileceği
- D) "Yok" diyebilmek için tüm kainatın bilinmesi gerekliliği

3. Hinduizm inancındaki üç tanrı aşağıdakilerden hangisinde tam ve birlikte verilmiştir?

- A) Şiva-Vişnu-Brahma
- B) Brahma-Ay Tanrısı-Ateş Tanrısı
- C) Vişnu-Fırtına Tanrısı-Deniz Tanrısı
- D) Güneş Tanrısı-Brahma-Vişnu

4. Dünyada ilk inanma kimle başlamıştır?

- A) Hz. Nuh
- B) Hz. İbrahim
- C) Hz. Musa
- D) Hz. Adem

5. Aşağıdakilerden hangisi yalnızca insanda bulunan niteliklerden biri değildir?

- A) Düşünme
- B) İradesini kullanabilme
- C) Konuşma
- D) Üreme

6. Hac ve Ümre'de ihrama girerken boy abdesti almanın hükmü nedir?

- A) Farz
- B) Mekruh
- C) Sünnet
- D) Mübah

7. İnsanın yaratılış gayesi nedir?

- A) Gününü gün etmek
- B) Allah'ı tanıyıp Ona ibadet etmek
- C) Nefsini her isteği ile doyurmak
- D) Boş işlerle uğraşmak

8. Aşağıdakilerden hangisi abdestin farzlarından biri değildir?

- A) Ağız bol su ile yıkamak
- B) Elleri dirseklerle kadar yıkamak
- C) Yüzü yıkamak
- D) Başını mesh etmek

9. Ağıza ve buruna su çekilerek temizlenmek ve vücudun tamamını hiç kuru yer kalmayacak şekilde yıkamaya ne ad verilir?

- A) Gusül
- B) Teyemmüm
- C) Namaz abdesti
- D) Mesh etmek

10. Teyemmüm yapabilmek için gerekli şart nedir?

- A) Temiz su bulunamaması veya kullanımına engel bir sebep olması
- B) Yerleşim yerlerinden çok uzak bir yerde bulunulması
- C) Vücuttan sürekli bir şekilde kan ve cerahat akması
- D) Namaz vaktinin çıkmasına çok az bir zaman kalması

11. Peygamberimiz Hz. Muhammed (S.A.V.)'in anne ve babasının isimleri aşağıdakilerden hangisinde birlikte ve doğru olarak verilmiştir?

- A) Hatice-Abdullah
- B) Fatma-Ebu Talip
- C) Amine-Abdullah
- D) Ayşe-Amr b.As

12. Peygamberimize ilk inananların sıralaması aşağıdakilerden hangisinde doğru olarak verilmiştir?

- A) Hz. Ayşe – Hz. Osman – Hz. Ebu Bekir – Hz. Ali
- B) Hz. Ebu Bekir – Hz. Ali – Hz. Hatice – Kölesi Zeyd
- C) Kölesi Zeyd – Hz. Hatice – Hz. Ebu Bekir – Hz. Ali
- D) Hz. Hatice – Hz. Ebu Bekir – Hz. Ali – Kölesi Zeyd

13. Peygamberimize Abdulmuttalip'in verdiği "Muhammed" ismi ne anlama gelmektedir?

- A) Saygı duyulan
- B) Çok temiz
- C) Güzel ahlaklı
- D) Çok övülen

14. Aşağıdakilerden hangisi Peygamberimizin Hz. Hatice'den olan evlatlarından biri değildir?

- A) Ayşe
- B) Ümmü Gülsüm
- C) Rukiye
- D) Abdullah

15. Hilfü'l-Fudûl ne demektir?

- A) Hilafet Makamı
- B) Erdemliler Birliği
- C) Dört Halife
- D) Birleşmiş Aşiretler

16. 1926 yılında Diyanet İşleri tarafından Kuranı Kerim'in tefsiri görevi kime verilmiştir?

- A) Hasan Basri Çantay
- B) Mehmet Akif Ersoy
- C) Elmalılı Hamdi Yazır
- D) Aşık Paşa Veli

17. "Divan-ı Hikmet" kimin eseridir?

- A) Mevlana Celalettin-i Rumi
- B) Hacı Bektaş-ı Veli
- C) Hoca Ahmet Yesevi
- D) Yunus Emre

18. Kuran-ı Kerim'in indirilme süreci kaç yılda tamamlanmıştır?

- A) 20
- B) 21
- C) 22
- D) 23

19. Aşağıdakilerden hangisi Kuran-ı Kerim'de yer alan inanç esaslarından biri değildir?

- A) Allah'ın gönderdiği kitaplara inanma
- B) Allah'ın gönderdiği peygamberlere inanma
- C) Her dileyenin şefaate edebileceğine inanma
- D) Hayır ve şerrin Allah'tan olduğuna inanma

20. Günümüze kadar değişmeden, aslına uygun olarak ulaşan tek ilahi kitap aşağıdakilerden hangisidir?

- A) İncil
- B) Kuran-ı Kerim
- C) Tevrat
- D) Zebur

1. “Vesiletü'n necat” isimli mevlit aşağıdakilerden hangisine aittir?

- A) Farabi
- B) Mehmet Akif Ersoy
- C) Mevlana
- D) Süleyman Çelebi

2. Sevap ve günahların tartıldığı özel adalet terazisine ne ad verilir?

- A) Mizan
- B) Haşir
- C) Mahşer
- D) Hesap

3. Neylersin ölüm herkesin başında...
Uyudun uyanamadın olacak,
Kim bilir nerede, nasıl, kaç yaşında?
Bir namazlık saltanatın olacak
Taht misali o musalla taşında!

Ahirete uğurlanma duygusunun bahsedildiği bu dörtlüğün yazarı aşağıdakilerden hangisidir?

- A) Necip Fazıl Kısakürek
- B) Cahit Sıtkı Tarancı
- C) Hz. Mevlana
- D) Yunus Emre

4. Dünyada yapılan her davranışın karşılığının görüleceğine ve öldükten sonra tekrar dirildikten sonra bunlardan hesap sorulacağına inanmak aşağıdakilerden hangisidir?

- A) Peygamberlere iman
- B) Meleklerle iman
- C) Ahirete iman
- D) Kitaplara iman

5. İnsan ömrünün sonlandığı ana ne ad verilir?

- A) Ecel
- B) Kader
- C) Ahiret
- D) Kıyamet

6. Allah'ın günahları örtmesi ve bağışlamasına ne ad verilir?

- A) İstiğfar
- B) Tövbe
- C) Mağfiret
- D) Yakarma

7. Kişinin işlediği bir günah veya hatadan pişmanlık duyarak bir daha yapmamaya karar vermesine ne ad verilir?

- A) Helalleşme
- B) İman etme
- C) Tövbe
- D) Mağfiret

8. Kütüb-i Sitte'nin altıncı kitabını aşağıdakilerden hangisi yazmıştır?

- A) İbn Mace
- B) Ebu Davud
- C) Nesai
- D) Tirmizi

9. “Eğer ümmetime zahmet vermeyecek olsaydım, her abdest alırken misvak kullanmalarını emrederdim.” hadisinde verilmek istenen evrensel mesaj aşağıdakilerden hangisidir?

- A) Misvak kullanmanın faydaları
- B) Misvak kullanmanın zahmetli oluşu
- C) Ağız ve diş temizliği
- D) Misvak'ın her yerde bulunmaması

10. Sünen-i Tirmizi aşağıdakilerden hangisine göre tertip edilmiştir?

- A) Kelam
- B) Tefsir
- C) Sahih
- D) Fıkıh

11. Kur'an'dan sonra en sağlam kitap olarak İslam alimlerinin beğenisine mazhar olan kitap aşağıdakilerden hangisidir?

- A) Sahih-i Müslim
- B) Sünen-i Tirmizi
- C) Sahih-i Buhari
- D) Sünen-i Ebu Davud

12. Zamanın en meşhur hadis âlimlerinden olan Nesai'nin daha ziyade fıkhi hadislerden derlediği eserinin adı nedir?

- A) Sünen-i Tirmizi
- B) el- Mücteba
- C) el-Camiu's- Sahih'i
- D) Usul-i Hamse

13. Aşağıdakilerden hangisi Hz. Peygamberin Kur'an'ı açıklama konusundaki temel görevlerinden biri değildir?

- A) Destekleyicilik
- B) Yorumlayıcılık
- C) Hüküm koyuculuk
- D) Zikirlik

14. Tasavvufi düşüncenin kurumsallaşması kaçınıcı yüzyılın sonlarına doğru gerçekleşmiştir?

- A) IX.
- B) X.
- C) XI.
- D) XII.

15. Ahmet Yesevi'nin Anadolu'ya gönderdiği talebelerine ne ad verilir?

- A) Nakşiler
- B) Muhacirler
- C) Aleviler
- D) Alp Erenler

16. Aşağıdakilerden hangisi Nakşibendilikte önem verilen temel ilkelerden biridir?

- A) Her an bilinçli olmak
- B) Mesnevi okumak ve mutasavvıf olmak
- C) Mevlana'yı pir tanımak
- D) Yardımlaşmayı artırmak

17. Hacı Bayram Veli'ye nisbet edilen tasavvuf ekolu aşağıdakilerden hangisidir?

- A) Bektaşiyye
- B) Bayramiyye
- C) Celvetiyye
- D) Nusriyye

18. Aşağıdakilerden hangisi Kadirilikte önem verilen temel ilkelerden biri değildir?

- A) Allah'ın rızası için çalışmak
- B) Sadece manevi bakımdan temiz olmak
- C) Nimetin değerini bilip şükretmek
- D) Yardımlaşmayı artırmak

19. Tasavvufun asıl kaynağı aşağıdakilerden hangisidir?

- A) Sufilik
- B) Mutasavvıf
- C) Namaz
- D) Kur'an ve Sünnet

20. Nusayrilik, İslam'ın tasavvufi düşüncelerinden hangisine bağlıdır?

- A) Ahilik
- B) Alevilik
- C) Mevlevilik
- D) Nakşibendilik

1. Aşağıdakilerden hangisi kıyı ovalarından biri değildir?
 - A) Çukurova
 - B) Çarşamba
 - C) Bafra
 - D) Düzce

2. Aşağıdaki şehirlerden hangisi günümüzde idari kent özelliğinde değildir?
 - A) Paris
 - B) Moskova
 - C) New York
 - D) Ankara

3. Aşağıdaki şehirlerden hangisinin nüfusunda mevsimsel farklılık daha fazladır?
 - A) Eskişehir
 - B) Kayseri
 - C) Antalya
 - D) Nevşehir

4. Aşağıdakilerden hangisi zirvesinde takke buzulu olan Türkiye'nin en yüksek dağıdır?
 - A) Ağrı
 - B) Tendürek
 - C) Süphan
 - D) Erciyes

5. Aşağıdaki akarsu havzalarından hangisi dışa akışı olmayan kapalı havza özelliğindedir?
 - A) Tuz Gölü Havzası
 - B) Menderes Havzası
 - C) Kızılırmak Havzası
 - D) Sakarya Havzası

6. İşlenmemiş (hammadde) ya da yarı işlenmiş maddelerin, fabrikalarda işlenerek kullanılabilir duruma getirilme işine ne ad verilir?
 - A) Ulaşım sektörü
 - B) Mesleki eğitim
 - C) Sanayi
 - D) Ekonomik faaliyet

7. Türkiye'de kayaların erimesiyle oluşan karstik şekiller hangi kayaçların bulunduğu yörelerde daha fazla oluşurlar?
 - A) Kumtaşı
 - B) Andezit
 - C) Kireçtaşı
 - D) Bazalt

8. Aşağıdakilerden hangisi nüfusun çeşitli özelliklerini, dağılışını, hareketlerini ve nüfus hareketlerinden doğan sorunları inceler?
 - A) Ulaşım coğrafyası
 - B) Nüfus coğrafyası
 - C) Tarım coğrafyası
 - D) Turizm coğrafyası

9. Bir ülkenin siyasi sınırları içinde olmakla beraber gümrük hattı dışında sayılan, ülkede geçerli ticari, mali ve ekonomik alanlara ilişkin hukuki ve idari düzenlemelerin kısmen uygulandığı, sanayi ve ticari faaliyetler için daha geniş teşviklerin tanındığı yerlere ne ad verilir?
 - A) Serbest bölge
 - B) Fuar
 - C) Liman
 - D) Gümrük bölgesi

10. Aşağıdakilerden hangisi ülkemizdeki volkanik sönmüş yanardağlardan biri değildir?
 - A) Köroğlu Dağı
 - B) Erciyes Dağı
 - C) Nemrut Dağı
 - D) Süphan Dağı

11. Akarsuların eğiminin azaldığı yerlerde sağa sola büküm yaparak akması ile oluşan şekillere ne ad verilir?
 - A) Kırgıbayır
 - B) Peribacası
 - C) Menderes
 - D) Dev kazanı

12. Özellikle Ürgüp-Göreme çevresinde yaygın olarak görülen, volkanik dağlardan çıkan malzemelerin biriktiği araziler üzerinde sel sularının aşındırma yaparak oluşturduğu şekiller aşağıdakilerden hangisidir?

- A) Birikinti konisi
- B) Peri bacaları
- C) Polye
- D) Dev kazanı

13. Aşağıdakilerden hangisi Mezopotamya, İndus Vadisi, Kuzey Çin gibi insanların yerleşik hayata ilk olarak geçtikleri yerlerin ortak özelliklerinden biri değildir?

- A) Yağışın yeterli olması
- B) Akarsuların bulunması
- C) Aşırı soğuk olmaması
- D) Zengin maden yataklarının varlığı

14. Ekvatora uzaklıkları hemen hemen aynı olan Çanakkale ve Ağrı'nın ortalama sıcaklıklarının farklı olmasının nedeni aşağıdakilerden hangisidir?

- A) Boylam derecesi
- B) Bitki örtüsü
- C) Enlem derecesi
- D) Yükselti

15. Aşağıdakilerden hangisi Türkiye'de görülen en yaygın köy altı yerleşmelerinden biri değildir?

- A) Mezra
- B) Çiftlik
- C) Kom
- D) Belde

16. Anadolu arazisinin yükselmeye başlayıp su yüzüne çıkması ve Anadolu yarımadasının genel görünümünü alması jeolojik zamanların hangisinde olmuştur?

- A) Tersiyer
- B) Kuaterner
- C) Paleozoik
- D) Mezozoik

17. Doğu Anadolu Bölgesi'nde akarsuların enerji üretim potansiyelinin yüksek olmasının temel nedeni aşağıdakilerden hangisidir?

- A) Kışların kar yağışlı geçmesi
- B) Bölgenin engebeli olması
- C) Bölgede tarım yerine hayvancılığın tercih edilmesi
- D) Bölgede karstik arazinin bol olması

18. Aşağıdaki iklim çeşitlerinin hangisinde yaz ile kış arasındaki sıcaklık farkı daha azdır?

- A) Güneydoğu Anadolu Karasal İklimi
- B) Doğu Karadeniz İklimi
- C) Doğu Anadolu Karasal İklimi
- D) İç Ege İklimi

19. Doğu Karadeniz'de dağların kıyıya paralel uzanmasının aşağıdakilerden hangisi üzerinde etkili olduğu söylenemez?

- A) Kıyı kesiminde bol yağış isteyen bitkilerin yetişmesi
- B) Dağların denize bakan yamaçlarında bol yağış oluşması
- C) Kıyı ile iç kesimler arasında ulaşımın güç olması
- D) Kuzeyden esen rüzgarların soğuk olması

20. Aşağıdaki illerden hangisinin yıllık ortalama sıcaklık değerleri diğerlerinden daha fazladır?

- A) Kayseri
- B) İzmir
- C) Erzurum
- D) Bursa

1. Aşağıdaki barajlardan hangisi GAP projesi kapsamında yer almaktadır?

- A) Kemer
- B) Hirfanlı
- C) Atatürk
- D) Demirköprü

2. Aşağıdakilerden hangisi sınır komşusu olduğumuz ülkeler arasında yer almaz?

- A) Afganistan
- B) İran
- C) Irak
- D) Gürcistan

3. Ege Bölgesi'nde yer alan İzmir kenti yalnız bölgenin değil Türkiye'nin de ekonomik gelişmişlik bakımından önemli kentlerinden biridir.

Bu durumun temel nedeni aşağıdakilerden hangisidir?

- A) Art bölgesi çok geniş bir liman kenti olması
- B) Yer şekillerinin sade olması
- C) Deniz kıyısında yer alması
- D) İklimin ılıman olması

4. Artvin, Bayburt, Giresun gibi illeri kapsayan proje aşağıdakilerden hangisidir?

- A) DOKAP
- B) GAP
- C) DAP
- D) ZBK

5. Aşağıdakilerden hangisi Türkiye'nin jeopolitik önemini artıran unsurlardan biri değildir?

- A) Farklı kültür bölgelerine yakın olması
- B) Yükseltisinin batıdan doğuya doğru artması
- C) Zengin petrol kaynakları bölgelerine komşu olması
- D) Üç tarafının denizlerle çevrili olması

6. Aşağıdakilerden hangisi Cumhuriyet'in ilk yıllarında uygulanan nüfus politikalarından biri değildir?

- A) Ücretsiz ilaç dağıtımı
- B) Çok çocuklu ailelerin para ya da madalya ile ödüllendirilmesi
- C) Gümrük muafiyeti
- D) Şehirlere göçün teşviki

7. Aşağıdakilerden hangisi Güneydoğu Anadolu'da sulama imkânlarının geliştirilmesi ile ortaya çıkması hedeflenen sonuçlardan biri değildir?

- A) Tarım ürünlerinde çeşitliliğin artması
- B) Toprağın verim gücünün artması
- C) Toprağın her yıl ekilmesinin sağlanması
- D) Bölgedeki kalabalık nüfusun giderek azalması

8. Cumhuriyetin ilk yıllarında nüfus artışını özendirici politikalar izlenmiş ancak 1940-1945 yılları arasında nüfus artış hızının düştüğü görülmüştür.

Aşağıdakilerden hangisi bu durumun nedenlerinden biridir?

- A) Salgın hastalıkların artması
- B) Yurtdışına olan göçün hızlanması
- C) İkinci Dünya Savaşı'nın ülkemizde yarattığı olumsuz sonuçlar
- D) Yurt dışından göçmen kabulünün yasaklanması

9. Karadeniz kıyısında yer alan Sinop Limanı'nın fazla gelişmemesinin en önemli nedeni aşağıdakilerden hangisidir?

- A) Tarım alanlarının yetersizliği
- B) Yer altı kaynakları açısından fakir olması
- C) İç bölgelerle bağlantısının çok zor olması
- D) Karadeniz'in çok dalgalı bir deniz olması

10. Aşağıdakilerden hangisi Birleşmiş Milletlerin kuruluş amacıdır?

- A) Dünya para meselelerinin çözülmesi için ülkeler arasında işbirliği sağlamak
- B) İkinci Dünya Savaşı'nı kazanan ülkeler tarafından savaş sonunda ortaya çıkabilecek anlaşmazlıkları çözmek, dünya barış ve güvenliğini sağlamak
- C) Petrol fiyatlarını ve üretim miktarlarını belirlemek
- D) Ülkeler arasında ayırım gözetmeksizin dünya ticaretinin geliştirilmesine destek vermek

11. Kafkas ülkeleri, Karadeniz ile Hazar Denizi arasındaki Kafkas dağlarının uzandığı bölgede yer alır.

Buna göre aşağıdaki ülkelerden hangisi Kafkas ülkeleri arasında yer alır?

- A) Kazakistan
- B) Türkmenistan
- C) Moldova
- D) Gürcistan

12. Dünyanın akciğerleri olarak adlandırılan Amazon yağmur ormanları hangi kıtada yer almaktadır?

- A) Afrika
- B) Avustralya
- C) Güney Amerika
- D) Kuzey Amerika

13. Aşağıdakilerden hangisi petrol bakımından zengin olan Hazar Bölgesi'nde yer alan ülkelerdendir?

- A) Hindistan-Pakistan
- B) Malezya-Endonezya
- C) Afganistan-Tacikistan
- D) Azerbaycan-Türkmenistan

14. Aşağıdakilerden hangisi nüfusa ait, 1960 yılına kadar izlenen politikaları destekleyen önlemlerden biri değildir?

- A) Az çocuk sahibi olan ailelerin yol vergisinden muaf tutulması
- B) Nüfus artırma politikası ile doğum evi kurmak
- C) Çok çocuklu ailelere vergi muafiyetini getirmek
- D) Göçleri teşvik etmek amacıyla göçmenlere gümrük muafiyeti getirmek

15. Aşağıdakilerden hangisi, fizibilite çalışmaları tamamlanan projelerin hayata geçirilmesiyle projelerin uygulandığı bölgelerle ilgili hedeflenen temel gelişmelerden biri değildir?

- A) Kişi başına düşen milli geliri artırmak
- B) Bölge dışında yapılan göçleri artırmak
- C) Bölge içinde sermaye birikimini sağlamak
- D) Bölgeyi sanayi ve hizmet merkezi haline getirmek

16. Aşağıdakilerden hangisi kurutularak kaybolan sulak alanlardan biridir?

- A) Van Gölü
- B) Beyşehir Gölü
- C) Tuz Gölü
- D) Amik Gölü

17. 1949 yılında kurulan askeri amaçlı bir savunma örgütüdür. Türkiye 18 Şubat 1952'de örgüte üye olmuştur.

Yukarıdaki bilgiye göre belirtilen örgüt aşağıdakilerden hangisidir?

- A) AGİT
- B) NATO
- C) AB
- D) İKÖ

18. Almanya Federal Cumhuriyeti'nin başkenti aşağıdakilerden hangisidir?

- A) Paris
- B) Oslo
- C) Atina
- D) Berlin

19. Türkiye'nin nüfusu 1927'den 2000 yılına kadar 13.6 milyondan 67.8 milyona yükselmiştir. Bu hızlı artışın nedenleri arasında aşağıdakilerden hangisi gösterilemez?

- A) Yurtdışına işçi göçü ile sağlanan gelirin artması
- B) Sağlık hizmetlerinin gelişmesi
- C) Ekonomik koşulların iyileşmesi
- D) Beslenme koşullarının düzelmesi

20. GAP (Güneydoğu Anadolu Sulama Projesi) hangi akarsuların havzasından yararlanılarak yapılmıştır?

- A) Fırat-Kızılırmak
- B) Fırat-Dicle
- C) Dicle-Sakarya
- D) Sakarya-Porsuk

1. $P(x, y) = -12x^5y^3 + 4x^3y - x + 6$

polinomunun x ve y ye göre derecesi kaçtır?

- A) 4
B) 6
C) 8
D) 10

2. $P(x) = -3x^5 + (a+8)x^3 - 5x^2 + b + 7$
 $G(x) = (a+5c)x^5 + (d-8)x^2 + 15$

polinomları eşit olduğuna göre, $a+b+c+d$ kaçtır?

- A) -8
B) 4
C) 6
D) 8

3. $P(x) = -5x^3 + 10x^2 - 4x - 13$ polinomu veriliyor.

Buna göre, $P(-1)$ in değeri aşağıdakilerden hangisidir?

- A) -8
B) -2
C) 6
D) 14

4. $P(x) = (-4x^3 + 3x^2 - x + 4)^2$ polinomunda sabit terim kaçtır?

- A) 9
B) 16
C) 25
D) 36

5. $x - \frac{1}{x} = 8$ ise $\left(x + \frac{1}{x}\right)^2$ nin değeri kaçtır?

- A) 64
B) 66
C) 68
D) 70

6. $P(x) = -3ax^3 + 4(a-5)x - 7$ polinomunun $(x+2)$ ile bölümünden kalan p , $(x-2)$ ile bölümünden kalan r dir.

$p-r = 16$ ise, a kaçtır?

- A) -3
B) -2
C) 1
D) 4

7. $\frac{3x-7}{x^2-9x+20}$ rasyonel ifadesinin basit kesirlerin toplamı olarak yazılmış biçimi aşağıdakilerden hangisidir?

- A) $\frac{8}{x-5} - \frac{5}{x-4}$
B) $\frac{3}{x-2} + \frac{5}{x+2}$
C) $\frac{7}{x-5} - \frac{4}{x+3}$
D) $\frac{2}{x-3} - \frac{5}{x+4}$

8. $\left(2x + \frac{9-2x^2}{x}\right) : \left(\frac{x-3}{x} - 1\right)$

ifadesinin sadeleşmiş biçimi aşağıdakilerden hangisidir?

- A) -9
B) -3
C) $\frac{1}{3}$
D) 3

9. $\frac{15x}{16} - \frac{5x-7}{8} = \frac{1}{4}$ denkleminin çözüm kümesi aşağıdakilerden hangisidir?

- A) {3}
B) {1}
C) {-2}
D) {-5}

10. $(5622)^2 - (4378)^2$ işleminin sonucu kaç basamaklı bir sayıdır?

- A) 7
B) 8
C) 9
D) 10

11. $|9x-7|=6x+14$ denkleminin çözüm kümesi aşağıdakilerden hangisidir?

- A) $\left\{-\frac{7}{15}, 7\right\}$
B) $\left\{-\frac{7}{9}, \frac{1}{9}\right\}$
C) $\left\{\frac{8}{3}, 4\right\}$
D) $\left\{\frac{7}{3}, 7\right\}$

12. $mx^2 - (2m+4)x + m - 1 = 0$ denkleminin eşit iki kökünün olması için m kaç olmalıdır?

- A) -4
B) $-\frac{4}{5}$
C) $\frac{1}{4}$
D) 2

13. Kökleri $x_1 = 6 + 2\sqrt{3}$ ve $x_2 = 6 - 2\sqrt{3}$ olan ikinci derece denklem aşağıdakilerden hangisidir?

- A) $x^2 - 12x + 24 = 0$
B) $-x^2 + 2x + 6 = 0$
C) $3x^2 + 5x - 4 = 0$
D) $2x^2 - 10x + 12 = 0$

14. $4x^2 - mx + m - 13 = 0$ denkleminin bir kökü $x_1 = 4$ ise diğer kökü kaçtır?

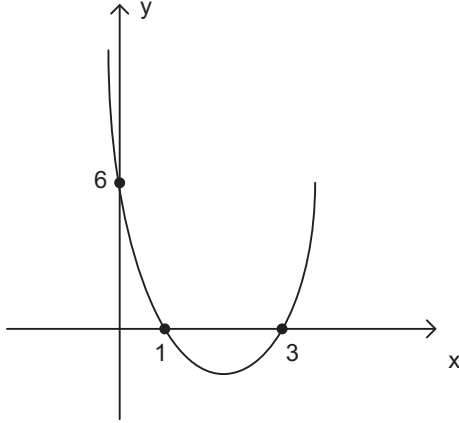
- A) -2
B) $-\frac{3}{4}$
C) $\frac{1}{4}$
D) 2

15. $3x - 6y = -21$
 $-2x + 10y = 17$

denklemler sisteminin çözüm kümesi aşağıdakilerden hangisidir?

- A) $\left(\frac{1}{6}, -2\right)$
B) $\left(3, -\frac{1}{4}\right)$
C) $\left(\frac{1}{2}, 4\right)$
D) $\left(-6, \frac{1}{2}\right)$

16.



Yukarıdaki şekilde $f(x)=ax^2+bx+c$ eğrisinin grafiği verilmiştir.

Buna göre $f(2)$ kaçtır?

- A) -4
- B) -2
- C) 0
- D) 3

17. $f(x)=4x^2+(5m-3)x-11$ fonksiyonunun simetri eksenini $x=-4$ doğrusu ise m kaçtır?

- A) -3
- B) 5
- C) 7
- D) 9

18. $A(0, -1)$, $B(1, 0)$ ve $C(-2, 1)$ noktalarından geçen parabolün denklemini aşağıdakilerden hangisidir?

- A) $y = -\frac{1}{3}x^2 + x - \frac{2}{3}$
- B) $y = -2x^2 + \frac{1}{4}x + 1$
- C) $y = \frac{1}{4}x^2 - 2x + \frac{1}{2}$
- D) $y = \frac{2}{3}x^2 + \frac{1}{3}x - 1$

19. $y=2x^2-5x-4$ eğrisi ile $y=3x-a$ doğrusunun teğet olması için " a " kaç olmalıdır?

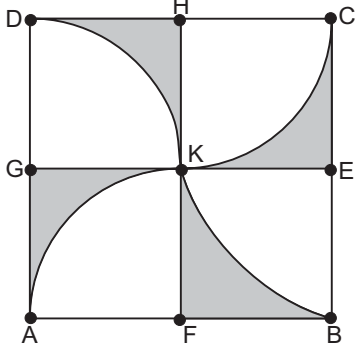
- A) 6
- B) 8
- C) 10
- D) 12

20. $\frac{(x^2-4x+4) \cdot (x-5)}{(x+2)} \leq 0$ eşitsizliğinin çözüm

kümesi aşağıdakilerden hangisidir?

- A) $(-2, 5]$
- B) $[2, 5]$
- C) $[2, +\infty)$
- D) $(-\infty, -2) \cup (5, +\infty)$

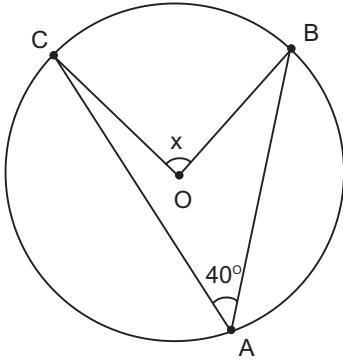
1.



Yukarıdaki kenar uzunluğu 20 cm olan ABCD karesinin içine dörtte bir daire dilimleri çizilmiştir. $|AF| = |FB| = |BE|$ dir. Buna göre taralı bölgelerin alanları toplamı kaç cm^2 dir?

- A) $400 - 50\pi$
- B) $200 - 20\pi$
- C) $400 - 100\pi$
- D) $200 - 50\pi$

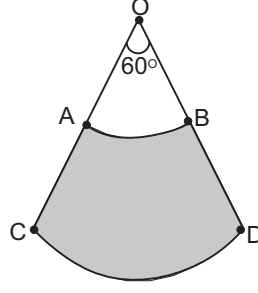
2.



Yukarıdaki O merkezli çemberde $m(\widehat{CAB}) = 40^\circ$ ise, $m(\widehat{COB}) = x$ kaç derecedir?

- A) 80
- B) 70
- C) 60
- D) 40

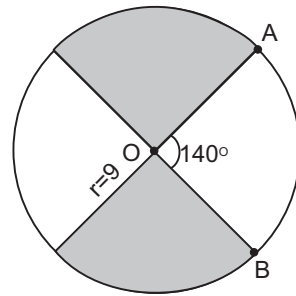
3.



Yukarıdaki O merkezli $|OD| = r = 6$ cm yarıçaplı daireden elde edilen daire diliminde $m(\widehat{AOB}) = 60^\circ$, $|OA| = 2$ cm ise, taralı bölgenin alanı kaç cm^2 dir?

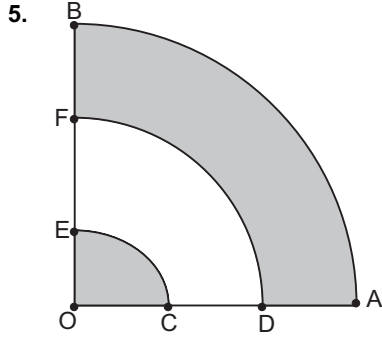
- A) $\frac{16\pi}{3}$
- B) $\frac{14\pi}{3}$
- C) $\frac{11\pi}{3}$
- D) $\frac{8\pi}{3}$

4.



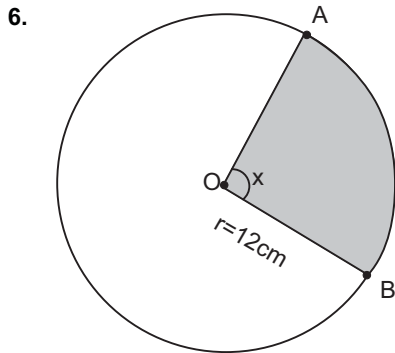
Yukarıdaki O merkezli $r = 9$ cm yarıçaplı dairede $m(\widehat{AOB}) = 140^\circ$ ise, taralı bölgelerin alanları toplamı kaç cm^2 dir?

- A) 12π
- B) 14π
- C) 16π
- D) 18π



Yukarıdaki O merkezli iç içe daire dilimlerinde $IOAI = 9\text{ cm}$,
 $IOCI = ICDI = IDAI = IOEI = IEFI = IFBI$
 olduğuna göre, taralı bölgelerin alanları toplamı kaç cm^2 dir?

- A) $\frac{27\pi}{4}$
 B) $\frac{21\pi}{2}$
 C) $\frac{27\pi}{2}$
 D) $\frac{29\pi}{2}$

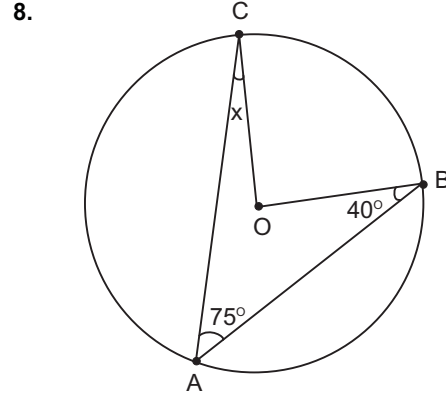


Yukarıdaki O merkezli $r=12\text{ cm}$ yarıçaplı dairedeki taralı bölgenin alanı $A(\widehat{AOB}) = 32\pi\text{ cm}^2$ ise, $m(\widehat{AOB})=x$ kaç derecedir?

- A) 80
 B) 75
 C) 70
 D) 65

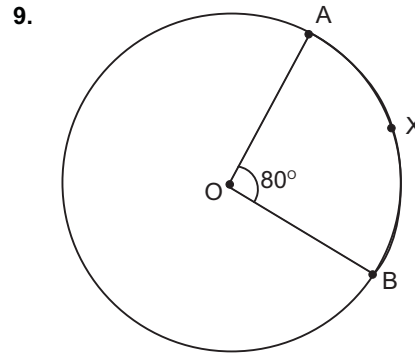
7. Çevre uzunluğu $16\pi\text{ cm}$ olan bir dairenin alanı kaç cm^2 dir?

- A) 81π
 B) 64π
 C) 49π
 D) 36π



Yukarıdaki O merkezli çemberde $m(\widehat{CAB})=75^\circ$, $m(\widehat{OBA})=40^\circ$ ise, $m(\widehat{ACO})=x$ kaç derecedir?

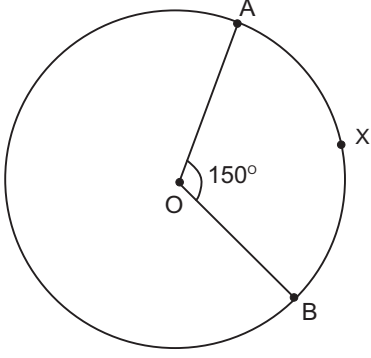
- A) 50
 B) 45
 C) 40
 D) 35



Yukarıdaki O merkezli çemberde $m(\widehat{AOB})=80^\circ$ ve $l\widehat{AXB}=8\pi\text{ cm}$ ise, bu çemberin yarıçapı kaç cm dir?

- A) 9
 B) 12
 C) 15
 D) 18

10.



Yukarıdaki O merkezli $r = 6$ cm yarıçaplı çemberde $m(\widehat{AOB}) = 150^\circ$ olduğuna göre, \widehat{AXB} yayının uzunluğu kaç cm dir?

- A) 7π
- B) 6π
- C) 5π
- D) 4π

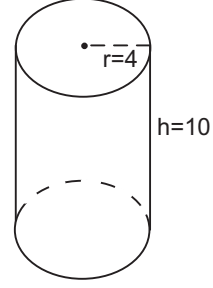
11. Taban yarıçapı $r=3$ cm ve tüm alanı 150π cm^2 olan bir dik dairesel silindirin yüksekliği h kaç cm dir?

- A) 18
- B) 20
- C) 22
- D) 24

12. Taban yarıçapı $r=5$ cm ve yüksekliği $h=30$ cm olan bir dik dairesel silindirin hacmi kaç cm^3 tür?

- A) 624π
- B) 750π
- C) 764π
- D) 780π

13.



Yukarıdaki yarıçapı 4 cm, yüksekliği 10 cm olan dik dairesel silindirin alanı kaç cm^2 dir?

- A) 98π
- B) 112π
- C) 124π
- D) 132π

14. Hacmi 36π cm^3 olan bir kürenin yüzey alanı kaç π cm^2 dir?

- A) 36
- B) 48
- C) 52
- D) 64

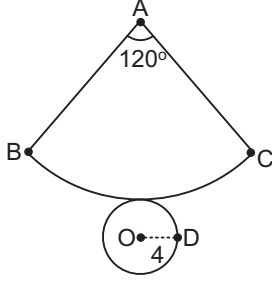
15. Yüzey alanı 324π cm^2 olan bir kürenin yarıçapı kaç cm dir?

- A) 4
- B) 6
- C) 7
- D) 9

16. Taban yarıçapı $r=8$ cm, yüksekliği $h=18$ cm olan dik dairesel koninin hacmi kaç cm^3 tür?

- A) 144π
- B) 288π
- C) 384π
- D) 420π

17.



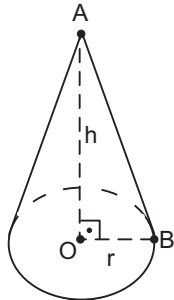
Yukarıda açılımı verilen dik dairesel konide $m(\widehat{BAC})=120^\circ$ ve taban dairesinin yarıçapı $r=4$ cm ise, bu koninin tüm yüzey alanı kaç cm^2 dir?

- A) 64π
- B) 58π
- C) 52π
- D) 48π

18. Yarıçapı $r=6$ cm olan bir kürenin hacmi kaç cm^3 tür?

- A) 246π
- B) 288π
- C) 320π
- D) 342π

19.



Yukarıdaki dik dairesel koninin taban yarıçapı $r=6$ cm, yüksekliği $h=8$ cm ise, tüm yüzey alanı kaç cm^2 dir?

- A) 60π
- B) 72π
- C) 88π
- D) 96π

20. Yüksekliği 15 cm hacmi $240\pi \text{ cm}^3$ olan dik dairesel silindirin taban yarıçapı kaç cm dir?

- A) 3
- B) 4
- C) 6
- D) 8

1. Ich habe ihn 5 Jahren nicht gesehen.

Welches Wort passt in die obige Lücke?

Cümlede boş bırakılan yeri aşağıdakilerden hangisi doğru şekilde tamamlar?

- A) ab
B) gegen
C) im
D) seit

2. Der Beamte meldet die Ankunft

Welches Wort passt in die obige Lücke?

Cümlede boş bırakılan yeri aşağıdakilerden hangisi doğru şekilde tamamlar?

- A) des Zuges
B) den Zug
C) den Zugs
D) der Zug

3. Was brauchst du?

Welche Antwort passt zur obigen Frage?

Verilen sorunun cevabı aşağıdakilerden hangisidir?

- A) Sie braucht viele Bücher.
B) Ich brauche einen Regenschirm.
C) Er braucht einen Fotoapparat.
D) Du brauchst ein Badetuch.

4. Wir gehen zum Flohmarkt.

Wie lautet der obige Satz im Perfekt?

Verilen cümlelerin di' li geçmiş zaman şekli aşağıdakilerden hangisidir?

- A) Wir gingen zum Flohmarkt.
B) Wir werden zum Flohmarkt gehen.
C) Wir hätten zum Flohmarkt gegangen.
D) Wir sind zum Flohmarkt gegangen.

5. Ja, sie ist 95 Jahre alt.

Welche Frage passt zur obigen Antwort?

Verilen cevabı gerektirecek soru aşağıdakilerden hangisidir?

- A) Wo wohnt sie?
B) Lebt sie noch?
C) Wer sind sie?
D) Kennt ihr euch schon?

6. Wann gehst du morgen zur Schule? (09.30)

Welche Antwort passt zur obigen Frage?

Verilen sorunun cevabı aşağıdakilerden hangisidir?

- A) Sehr früh muss ich zur Schule.
B) Ich bin morgen zu Hause.
C) Ich gehe um halb zehn zur Schule.
D) Ab halb zehn bin ich in der Schule.

7. Atatürk hat die Türkische Republik im Jahre gegründet.

Welches Wort passt in die obige Lücke?

Cümlede boş bırakılan yeri aşağıdakilerden hangisi doğru şekilde tamamlar?

- A) achtzehnhunderteinundachtzig
B) neunzehnhundertdreißig
C) neuntausendvierunddreißig
D) eintausendneunhundertachtzehn

8. Die Kinder wissen nicht, die Schule anfängt.

Welches Wort passt in die obige Lücke?

Cümlede boş bırakılan yeri aşağıdakilerden hangisi doğru şekilde tamamlar?

- A) wie
B) wo
C) wann
D) wer

9. Ausstellung der Gemälde von Picasso.

Wie lautet der obige Satz in der Passivform?

Verilen cümlelerin edilgen hali aşağıdakilerden hangisidir?

- A) Die Gemälde von Picasso sind ausgestellt worden.
 B) Der Gemälde wird von Picasso ausgestellt.
 C) Picasso und seine Gemälde wurden ausgestellt.
 D) Ausgestellt werden die Gemälde von Picasso.

10. Der Mann hat das Gras

Welches Wort passt in die obige Lücke?

Cümlede boş bırakılan yeri aşağıdakilerden hangisi doğru şekilde tamamlar?

- A) gemischt
 B) geholt
 C) gemäht
 D) geregnet

11. Mutter: Tina, kannst du mir beim Saubermachen helfen?

Tina: Leider, Mutti!

Was bedeutet das Gegenteil vom Wort "Leider" im Dialog?

Verilen karşılıklı konuşmadaki "Leider" sözcüğünün zıt anlamlısı aşağıdakilerden hangisidir?

- A) Manchmal
 B) Gern
 C) Vielleicht
 D) Lieber

12. A: Ich kann das Auto nicht waschen!
 B: Warum?
 A:

Welches ergänzt nicht den obigen Dialog?

Verilen karşılıklı konuşmayı aşağıdakilerden hangisi tamamlamaz?

- A) Ich bin noch klein für diese Arbeit!
 B) Ich habe keine Zeit!
 C) Ich habe das Auto neu gekauft!
 D) Ich muß noch meine Hausaufgaben machen!

13. ich meine Hausaufgaben mache, höre ich immer Musik.

Welches Wort passt in die obige Lücke?

Cümlede boş bırakılan yeri aşağıdakilerden hangisi doğru şekilde tamamlar?

- A) Ab
 B) Trotz
 C) Ausserdem
 D) Während

14. Gähnen muss man die Hand vor den Mund halten.

Welches Wort passt in die obige Lücke?

Cümlede boş bırakılan yeri aşağıdakilerden hangisi doğru şekilde tamamlar?

- A) Beim
 B) Nach
 C) An
 D) Auf

15. Wissen Sie,.....

Welches ergänzt nicht die Lücke im obigen Satz?

Verilen cümleyi aşağıdakilerden hangisi tamamlamaz?

- A) ob wir ein Taxi finden können?
 B) hängt es an der Wand?
 C) wann der Bus kommt?
 D) wo meine Tochter ist?

16. Die / sind / morgen / heute / geschrieben / Briefe / worden

Wie kann man mit den obigen Wortgruppen einen sinnvollen und richtigen Satz bilden?

Verilen sözcük gruplarıyla kurulabilecek en anlamlı ve doğru cümle aşağıdakilerden hangisidir?

- A) Die Briefe sind heute morgen geschrieben worden.
 B) Worden geschrieben morgen die Briefe sind heute.
 C) Heute sind morgen die Briefe geschrieben worden.
 D) Geschrieben worden die Briefe sind heute morgen.

17. Ihr sollt das Radio leise stellen.

Wie lautet der obige Satz in der Imperativ-Form?

Verilen cümlelerin emir cümle şekli aşağıdakilerden hangisidir?

- A) Leise stellen das Radio!
 B) Das Radio soll leise sein!
 C) Stellt das Radio leise!
 D) Stellst das leiser!

18. Die höflich..... Dame dankt dem fremd..... Mann für die Blumen.

Welche Endung passt in die obige Lücke?

Cümlede boş bırakılan yeri aşağıdaki son eklerden hangisi doğru şekilde tamamlar?

- A) -en / -e
 B) -em / -en
 C) -er / -em
 D) -e / -en

19. Man baut hier eine Brücke.

Welches hat die gleiche Bedeutung mit dem obigen Satz?

Verilen cümle ile aynı anlamı taşıyan aşağıdakilerin hangisidir?

- A) Hier wird eine Brücke gebaut.
 B) Heute wurde hier eine Brücke gebaut.
 C) Die Brücke ist neu gebaut worden.
 D) Er muss hier eine Brücke bauen.

20. Der türkische Schüler hat sich nach seiner Heimat

Welches Wort passt in die obige Lücke?

Cümlede boş bırakılan yeri aşağıdakilerden hangisi doğru şekilde tamamlar?

- A) geschaut
 B) geschrieben
 C) gerufen
 D) geseht

1. Nazlı drinks coffee every morning.

Which of the following is the negative form of the sentence above?

Aşağıdakilerden hangisi yukarıdaki cümlelerin olumsuz biçimidir?

- A) Nazlı isn't drinking coffee every morning.
B) Nazlı doesn't drink coffee every morning.
C) Nazlı didn't drink coffee every morning.
D) Nazlı hasn't drunk coffee every morning.

2. Jill: You are a student, you?
Michael: Yes, I am.

Which of the following completes the dialogue above?

Aşağıdakilerden hangisi yukarıdaki konuşmayı doğru olarak tamamlar?

- A) aren't
B) don't
C) didn't
D) weren't

3. Tom : I close the window?
Teacher : Yes, of course.

Which of the following completes the dialogue above?

Aşağıdakilerden hangisi yukarıdaki konuşmayı doğru olarak tamamlar?

- A) Have
B) Does
C) May
D) Has

4. I am going to go to İstanbul July.

Which of the following completes the sentence above?

Aşağıdakilerden hangisi yukarıdaki cümleyi doğru olarak tamamlar?

- A) at
B) on
C) in
D) between

5. I at eight o'clock tomorrow morning.

Which of the following completes the sentence above?

Aşağıdakilerden hangisi yukarıdaki cümleyi doğru olarak tamamlar?

- A) am going to get up
B) get up
C) getting up
D) got up

6. What did he do last night?

Which of the following can be the answer to the question above?

Aşağıdakilerden hangisi yukarıdaki sorunun yanıtı olabilir?

- A) He studied English.
B) He studies English.
C) He has studied English.
D) He is studying English.

7. Nick: Are there apples in the basket?
Gavin: Yes, there are.

Which of the following completes the dialogue above?

Aşağıdakilerden hangisi yukarıdaki konuşmayı doğru olarak tamamlar?

- A) some
B) a little
C) any
D) very

8. Selin: Is the cat sleeping at the moment?
Tolga :No,it isn't.But it usuallyon the sofa.

Which of the following completes the dialogue above?

Aşağıdakilerden hangisi yukarıdaki konuşmayı doğru olarak tamamlar?

- A) sleeps
- B) sleep
- C) sleeping
- D) slept

9. Tony: Excuse me, I borrow your dictionary?
Liz: Certainly.

Which of the following completes the dialogue above?

Aşağıdakilerden hangisi yukarıdaki konuşmayı doğru olarak tamamlar?

- A) have
- B) may
- C) would
- D) should

10. Mr. Bob driving a car for a year.

Which of the following completes the sentence above?

Aşağıdakilerden hangisi yukarıdaki cümleyi doğru olarak tamamlar?

- A) has
- B) have been
- C) had
- D) has been

11. I often play tennis at the weekends.

Which of the following is the Turkish translation of the sentence above?

Aşağıdakilerden hangisi yukarıdaki cümlenin Türkçe karşılığıdır?

- A) Ben hafta sonları tenis oynayacağım.
- B) Ben hafta sonları bazen tenis oynuyorum.
- C) Ben hafta sonları tenis oynamayı planlıyorum.
- D) Ben hafta sonları sık sık tenis oynarım.

12. Brenda and Adamto work nowadays.

Which of the following completes the sentence above?

Aşağıdakilerden hangisi yukarıdaki cümleyi doğru olarak tamamlar?

- A) isn't going
- B) aren't going
- C) hasn't gone
- D) didn't go

13. Carol has been playing basketball 1995.

Which of the following completes the sentence above?

Aşağıdakilerden hangisi yukarıdaki cümleyi doğru olarak tamamlar?

- A) from
- B) since
- C) for
- D) ago

14. I haven't seen him years.

Which of the following completes the sentence above?

Aşağıdakilerden hangisi yukarıdaki cümleyi doğru olarak tamamlar?

- A) for
- B) since
- C) ago
- D) now

15. Jack: How tea is there in the box?
Bob: There is

Which of the following completes the dialogue above?

Aşağıdakilerden hangisi yukarıdaki konuşmayı doğru olarak tamamlar?

- A) many / any
- B) more / little
- C) much / few
- D) much / a little

16. Tom: Ann will finish university next year,.....?
Jack: Yes,she will.

Which of the following completes the dialogue above?

Aşağıdakilerden hangisi yukarıdaki konuşmayı doğru olarak tamamlar?

- A) is she
- B) won't she
- C) does she
- D) did she

17. We painted the house by

Which of the following completes the sentence above?

Aşağıdakilerden hangisi yukarıdaki cümleyi doğru olarak tamamlar?

- A) themselves
- B) yourselves
- C) herself
- D) ourselves

18. Have you ever to Japan?

Which of the following completes the sentence above?

Aşağıdakilerden hangisi yukarıdaki cümleyi doğru olarak tamamlar?

- A) travel
- B) visited
- C) been
- D) go

19. She her homework yet.

Which of the following completes the sentence above?

Aşağıdakilerden hangisi yukarıdaki cümleyi doğru olarak tamamlar?

- A) has finished
- B) finished
- C) finishes
- D) hasn't finished

20. Saat dokuzu çeyrek geçiyor.

Which of the following is the English translation of the sentence above?

Aşağıdakilerden hangisi yukarıdaki cümlenin İngilizce karşılığıdır?

- A) It is quarter to nine.
- B) It is nine o'clock.
- C) It is quarter past nine.
- D) It is half past nine

1. Je ne suis pas marié; je suis

Choisissez le mot qui convient.

Cümlede boş bırakılan yeri aşağıdakilerden hangisi doğru şekilde tamamlar?

- A) célibataire
B) marié
C) optimiste
D) gaie

2. Si j'avais beaucoup d'argent, je(j') le tour du monde.

Choisissez le mot qui convient.

Cümlede boş bırakılan yeri aşağıdakilerden hangisi doğru şekilde tamamlar?

- A) fais
B) ferais
C) ai fait
D) fera

3. - Vous avez appelé ?
- Non, je n'ai appelé personne.

Choisissez le mot qui convient.

Yukarıdaki konuşmada boş bırakılan yeri aşağıdakilerden hangisi doğru şekilde tamamlar?

- A) aucun
B) quelque chose
C) rien
D) quelqu'un

4. - tu aimes le cinéma?
- Oui, je l'aime.

Choisissez le mot qui convient.

Cümlede boş bırakılan yeri aşağıdakilerden hangisi doğru şekilde tamamlar?

- A) Quelqu'un
B) Est-ce que
C) Qui
D) Quelle

5. - Tu connais Ayşe?
- Oui, je connais.

Choisissez le mot qui convient.

Yukarıdaki konuşmada boş bırakılan yeri aşağıdakilerden hangisi doğru şekilde tamamlar?

- A) le
B) se
C) lui
D) la

6. Il a à son père.

Choisissez le mot qui convient.

Cümlede boş bırakılan yeri aşağıdakilerden hangisi doğru şekilde tamamlar?

- A) téléphone
B) téléphoner
C) téléphoné
D) téléphones

7. - couleur est ta veste?
- Elle est rouge.

Choisissez l'expression qui convient.

Yukarıdaki konuşmada boş bırakılan yeri aşağıdakilerden hangisi doğru şekilde tamamlar?

- A) Est-ce que
B) De quelle
C) Quelque chose
D) Comment

8. nous / fini / devoirs / avons / nos
I II III IV V

Mettez dans le bon ordre.

Yukarıdaki kelimelerin anlamlı ve kurallı bir cümle oluşturan sırası aşağıdakilerin hangisinde verilmiştir?

- A) I, II, IV, V, III
B) I, IV, II, V, III
C) V, I, IV, II, III
D) V, III, IV, I, II

9. - Avez-vous visité le Musée de Topkapı?
- Oui, nous avons visité.

Choisissez le mot qui convient.

Yukarıdaki konuşmada boş bırakılan yeri aşağıdakilerden hangisi doğru şekilde tamamlar?

- A) l'
B) les
C) nous
D) lui

10. Elle les cheveux longs.

Choisissez le mot qui convient.

Cümlede boş bırakılan yeri aşağıdakilerden hangisi doğru şekilde tamamlar?

- A) est
B) s'est
C) a
D) se

11. Elle un chien.

Choisissez le mot qui convient.

Cümlede boş bırakılan yeri aşağıdakilerden hangisi doğru şekilde tamamlar?

- A) a
- B) est
- C) ont
- D) sont

12. Je suis sorti de la maison.

Choisissez la traduction qui convient.

Yukarıda verilen cümlelerin Türkçe karşılığı aşağıdakilerden hangisidir?

- A) Eve döndüm.
- B) Eve geldim.
- C) Evden çıktım.
- D) Evde bekledim.

13. S'il fait beau dimanche, nous irons au pique-nique.

Choisissez la traduction qui convient.

Yukarıdaki cümlelerin Türkçe karşılığı aşağıdakilerden hangisidir?

- A) Pazar günü hava güzel olduğu için pikniğe gittik.
- B) Pazar günleri hava güzel olduğunda pikniğe gideriz.
- C) Pikniğe gitmek için havanın güzel olması gerekir.
- D) Pazar günü hava güzel olursa pikniğe gideceğiz.

14. Hier soir, nous allés au théâtre.

Choisissez le mot qui convient.

Cümlede boş bırakılan yeri aşağıdakilerden hangisi doğru şekilde tamamlar?

- A) êtes
- B) sommes
- C) sont
- D) ont

15. I. Il a les yeux noirs.

II. Il a un gros nez.

III. Il arrive à sept heures.

IV. Il porte des lunettes.

Choisissez la phrase qui ne convient pas.

Sırasıyla okunduğunda anlam bütünlüğünü bozan cümle aşağıdakilerden hangisidir?

- A) I
- B) II
- C) III
- D) IV

16. Artık sigara içmiyorum.

Choisissez la traduction qui convient.

Yukarıda verilen cümlelerin Fransızca karşılığı aşağıdakilerden hangisidir?

- A) Je ne fume plus.
- B) Je ne bois rien.
- C) Je ne sais pas.
- D) Je n'ai rien vu.

17. - Tu as déjà vu ce film?

- Non, je ne l'ai pas vu.

Choisissez le mot qui convient.

Yukarıdaki konuşmada boş bırakılan yeri aşağıdakilerden hangisi doğru şekilde tamamlar?

- A) personne
- B) quelque chose
- C) aucune
- D) encore

18. -?

- Je pèse 62 kilos.

Choisissez la question qui convient.

Yukarıdaki karşılıklı konuşmada cevabı gerektiren soru aşağıdakilerden hangisidir?

- A) Combien mesurez-vous
- B) Portez-vous des lunettes
- C) Etes-vous de bonne humeur
- D) Combien pesez-vous

19. - ?

- C'est un ordinateur.

Choisissez la question qui convient.

Yukarıdaki konuşmada cevabı gerektiren soru aşağıdakilerden hangisidir?

- A) Qui est-ce
- B) A quoi sert le couteau
- C) Qu'est-ce que c'est
- D) Comment est la table

20. - Ils sont vieux?

- Non, ils sont

Choisissez le mot qui convient.

Yukarıdaki konuşmada boş bırakılan yeri aşağıdakilerden hangisi doğru şekilde tamamlar?

- A) jeunes
- B) maigres
- C) timides
- D) gentils

1. Manevi kültür öğeleriyle ilgili aşağıdaki ifadelerden hangisi yanlıştır?

- A) İnsanların birbirleriyle kurduğu ilişkiler sonucu yarattığı yazılı ve yazısız kurallardır.
- B) Toplumun yaşamını düzenleyen değer, yasa, gelenek, görenek ve inançlardır.
- C) İnsan emeğinin toplumsal gelişme süreci içinde yarattığı araç ve gereçlerdir.
- D) Dil, sanat vb. değerler manevi kültür öğelerindedir.

2. Aşağıdakilerden hangisi demokratik yönetimin ölçütlerinden biri değildir?

- A) Eşitlik
- B) Eğitim
- C) Özgürlük
- D) Adalet

3. "Türkiye Cumhuriyetinin Dini İslam'dır" ifadesi Anayasadan hangi yılda çıkartılmıştır?

- A) 1925
- B) 1926
- C) 1928
- D) 1934

4. Ulusal para değerinin altın ve döviz karşısında devlet eliyle yükseltilmesine ne ad verilir?

- A) Enflasyon
- B) Deflasyon
- C) Devalüasyon
- D) Revalüasyon

5. Aşağıdakilerden hangisi toplumsal kurumların temel özelliklerinden biri değildir?

- A) Kurumlar arasındaki değişimin zincirleme olarak gerçekleşmesi
- B) Her toplumsal kurum, zorunlu olarak birtakım gereksinimleri gidermesi
- C) Toplumsal kurumların değerlerin, normların ömründen daha kısa süre devam etmesi
- D) Toplumsal kurumlar, hem kendi içlerinde hem de diğer kurumlarla organik ve göreceli bir bütünlüğe sahip olması

- 6. I. Matrilokal
- II. Patrilokal
- III. Neolokal

Yukarıdakilerden hangileri oturlan yere göre evlilik türlerindedir?

- A) Yalnız II
- B) I ve II
- C) II ve III
- D) I, II ve III

7. İktidarın tek bir kişinin elinde olduğu yönetim biçimi aşağıdakilerden hangisidir?

- A) Oligarşi
- B) Monarşi
- C) Teokrazi
- D) Demokrasi

8. 1923-1929 yılları arasında benimsenen ekonomi politikası aşağıdakilerden hangisidir?

- A) Karma
- B) Kapitalist
- C) Sosyalist
- D) Serbest piyasa

9. Bireyin doğumdan ölüme kadar toplumun istek ve beklentilerine uyacak şekilde etkilenmesi ve değiştirilmesine ne ad verilir?

- A) Kültürlenme
- B) Kültürel yayılma
- C) Kültürel değişim
- D) Kültürleme

10. Bir erkeğin aynı anda birden fazla kadınla evlenmesine ne ad verilir?

- A) Polijini
- B) Poliandri
- C) Monogami
- D) Egzogami

11. Kültür konusunda "hars ve medeniyet" ayrımı yapan Türk sosyolog aşağıdakilerden hangisidir?

- A) Ziya Gökalp
- B) Birsen Gökçe
- C) Selman Erden
- D) Doğu Ergil

12. Bir kültürün dışardan devamlı ve yoğun olarak kültürel öğeleri alması ve bu öğeleri kendi içinde yoğurup biçimlendirememesi sonucu kültürel bütünlüğün bozulmasına ne ad verilir?

- A) Kültürel değişim
- B) Kültürleşme
- C) Kültürel yozlaşma
- D) Kültürel asimilasyon

13. Aşağıdakilerden hangisi ekonominin temel unsurlarından biri değildir?

- A) Üretim
- B) Yönetim
- C) Tüketim
- D) Bölüşüm

14. Aşağıdakilerden hangisi kültürün özelliklerinden biri değildir?

- A) Sadece öğrenilebilir olması
- B) Toplumsal olması
- C) Tarihsel olması
- D) Görel bir sürekliliğe sahip olması

15. Türk toplumunda evlenme ve boşanma ile ilgili hükümler aşağıdaki kanunlardan hangisi ile belirlenmiştir?

- A) Ceza Kanunu
- B) Medeni Kanun
- C) Borçlar Kanunu
- D) İç Hizmetler Kanunu

16. Ruha tapma anlamına gelen din aşağıdakilerden hangisidir?

- A) Animizm
- B) Natürizm
- C) Fetişizm
- D) Monoteizm

17. Aşağıdakilerden hangisi Kapitalist Ekonomik Sistemin temel özelliklerinden biridir?

- A) Üretim araçlarının mülkiyetinin devletin elinde olması
- B) Üretimde temel amacın halkın ihtiyacını karşılaması
- C) Malların fiyatının ekonomik planlama ve maliyete göre belirlenmesi
- D) Hangi malların ne miktarda üretileceğinin kâra göre belirlenmesi

18. Siyasal otoriteyi en üst düzeyde ve etkin biçimde elinde tutup kullanan güç aşağıdakilerden hangisidir?

- A) Meclis
- B) Devlet
- C) Siyasi partiler
- D) Sivil toplum kuruluşları

19. Aşağıdakilerden hangisi ailenin bütün toplumlarda temel bir kurum olmasının nedenlerinden biri değildir?

- A) Kültürel değişimin temel belirleyicisi olması
- B) Evrensel bir özelliğe sahip olması
- C) Neslin devamını sürdürmek gibi bir işleve sahip olması
- D) Temel bağının sevgi olması

20. Aşağıdakilerden hangisi ailenin temel işlevlerinden biri değildir?

- A) Toplumsallaştırma
- B) Psikolojik
- C) Kalkınma
- D) Ekonomik

1. Turizmin önemine ilişkin aşağıdaki ifadelerden hangisi yanlıştır?
 - A) Yurt dışında iş imkânları yaratmaktadır.
 - B) Turistik seyahatler sonucunda ülkeler döviz geliri elde etmektedir.
 - C) Turizm, ülkelerin kalkınmasını olumlu yönde etkilemektedir.
 - D) Türkiye'nin dış ticaret açığını gidermede önemli bir rol oynamaktadır.
2. Bir ülkeye farklı nedenlerle gelen, ancak turist ve günöbirlikçi kabul edilmeyen yabancılara ne ad verilir?
 - A) Ekskürsiyonist
 - B) Turist olmayan yabancılar
 - C) Transit yolcu
 - D) Yabancı ziyaretçi
3. Turizm kavramının kökeni Latince'de; "dönmek, hareket etmek, dolaşmak" anlamına gelen hangi kelimedendir?
 - A) Transit
 - B) Snobizm
 - C) Tornus
 - D) Tur
4. Aşağıdakilerden hangisi turizmin sosyal yönünü ortaya koyan faaliyetlerden biri değildir?
 - A) Tarihi kazı çalışmaları
 - B) Eğlenmek
 - C) Gezmek
 - D) Seyahat etmek
5. Herhangi bir düşünceyi söz, yazı, resim gibi araçlarla yayma, benimsetme ve taraftar toplama çabalarına ne ad verilir?
 - A) Promosyon
 - B) Tanıtım
 - C) Reklam
 - D) Propaganda
6. Aşağıdakilerden hangisi bir toplumun sahip olduğu kültürel zenginliklerinden biri değildir?
 - A) El sanatları
 - B) Yer altı kaynakları
 - C) Halk dansları
 - D) Tarihi eserler
7. Şeb-i Aruz töreni aşağıdaki şehirlerden hangisinde gerçekleştirilmektedir?
 - A) İstanbul
 - B) Urfa
 - C) Bursa
 - D) Konya
8. Güç kazanabilmek ya da yorgunluğu gidermek için çalışmaya bir süre ara vermeye ne ad verilir?
 - A) Eğlence
 - B) Dinleme
 - C) Yenilenme
 - D) Rahatlama
9. Ortaçağda Alp Dağları'nı aşarak hacca gidenlerin konakladıkları tesislere ne ad verilir?
 - A) Hospis
 - B) Kervansaray
 - C) Han
 - D) Konuk evi
10. Sınıf farkı gözetilen toplumlarda, imtiyazlı ve satın alma gücü yüksek olan soylu kişilerin, turizm hareketlerine katılmalarına ne ad verilir?
 - A) Kişisel turizm
 - B) Kitle turizmi
 - C) Rekreasyon turizmi
 - D) Aristokratik turizm
11. Rönesans çağında turizme aşağıdakilerden hangisi örnek verilebilir?
 - A) Macellan'ın dünya seyahati
 - B) Haçlı seferleri
 - C) Hac ziyareti
 - D) Evliya Çelebi'nin seyahati

12. Satın alma gücü düşük olan dar gelirliilerin, çeşitli kolaylıklarla turizm hareketlerine katıldıkları turizm aşağıdakilerden hangisidir?

- A) Spor turizmi
- B) Sosyal turizm
- C) Kişisel turizm
- D) Kitle turizmi

13. Rafting, doğa yürüyüşü, balık avlama gibi amaçlarla yapılan turizm aşağıdakilerden hangisidir?

- A) Tarih turizmi
- B) Eğlenme turizmi
- C) Akarsu turizmi
- D) Dinlenme turizmi

14. Geniş kitlelerin oluşturduğu grupların paket turları tercihlerinden oluşan turizm türüne ne ad verilir?

- A) Aktif dış turizm
- B) Kitle turizmi
- C) İç turizm
- D) Grup turizmi

15. Dünya barışının ve kültürler arası iletişimin gelişmesinde önemli rol oynayan turizm şekli aşağıdakilerden hangisidir?

- A) İnanç turizmi
- B) Av turizmi
- C) Golf turizmi
- D) Çiftlik turizmi

16. Aşağıdakilerden hangisi katılanların amaçlarına göre turizm türlerinden biri değildir?

- A) Çiftlik turizmi
- B) Kongre turizmi
- C) Tanıtım turizmi
- D) Av turizmi

17. Sosyal turizmde ölçüt aşağıdakilerden hangisidir?

- A) Meslek grubu
- B) Cinsiyet
- C) Ekonomik güç
- D) Sosyal statü

18. Aşağıdakilerden hangisi sosyal turizmin geliştirilmesi amacıyla yapılabilecek çalışmalardan biri değildir?

- A) Konaklama tesisleri ile sosyal turizm bireyi arasında bağlantı kurulması
- B) Taksitle tatil imkânı sağlanması
- C) Tasarruf sandıklarının kurulması ve yaygınlaştırılması
- D) Okul tatillerinin yılın çeşitli dönemlerine dağıtılmaması

19. Aşağıdakilerden hangisi sosyal turizmin amaçlarından biri değildir?

- A) Diğer insanlarla kendini kıyaslama ve sosyal kaynaşma alışkanlığının kazandırılması
- B) Barış içinde yaşamının kitlelere ulaşan bir bilince dönüşmesi
- C) Sosyal eşitliğin sağlanması
- D) Konaklama tesisleri arasında bağlantı kurulması

20. Türkiye'de sosyal turizm nasıl başlamıştır?

- A) Ekonomik koşulların iyileşmesi ile yeni yatırımlara kaynak tahsil edilmesiyle
- B) Kamu kuruluşlarının sosyal tesis ve kamplarından herkesin yararlanmasını öneren taslak çalışmasının kabul edilmesiyle
- C) Ücretli yıllık izin hakkının yürürlüğe girmesiyle
- D) İnsanların gelir düzeylerinin yükselmesinin sağlanmasıyla

1. Aşağıdakilerden hangisi anlatmaya bağlı edebi metinlerden biri değildir?

- A) Şiir
- B) Destan
- C) Roman
- D) Masal

2. Mesnevi hangi metin grubu içerisinde yer alır?

- A) Anlatmaya bağlı edebi metinler
- B) Göstermeye bağlı edebi metinler
- C) Tarihi metinler
- D) Felsefi metinler

3. Dilekçeyle ilgili aşağıdaki ifadelerden hangisi yanlıştır?

- A) Anlatım yalın ve duru olmalıdır.
- B) Sol alt köşeye adres yazılır.
- C) Sağ alt köşeye ad ve soyadı yazılır ve imza atılır.
- D) Dilekçe yazımında kalemin rengi ve türü önemli değildir.

4. Bilimsel bir konuyu veya bir kimsenin yaşamını, kişiliğini, eserlerini ayrıntılı olarak inceleyen eserlere ne ad verilir?

- A) Deneme
- B) Anı
- C) Otobiyografi
- D) Monografi

5. Aşağıdakilerden hangisi mektup türlerinin ayrıldığı dört ana gruptan biri değildir?

- A) Özel mektuplar
- B) Resmi mektuplar
- C) İş mektupları
- D) Gazete mektupları

6. Olay çevresinde oluşan edebi metinler metinlerin sınıflandırılmasına göre hangi metinler içerisinde yer alır?

- A) Öğretici metinler
- B) Gazete çevresinde gelişen metinler
- C) Sanat metinleri
- D) Tarihi metinler

7. Aşağıdakilerden hangisinde ünsüz yumuşamasına uymayan bir kullanım vardır?

- A) Sevinçim kursağımda kaldı.
- B) Ankara'ya gidelim.
- C) Ocağı yaktım.
- D) Canım yurdum.

8. Aşağıdaki cümlelerde hangi tür isim tamlaması yer aldığına dair verilen açıklamalardan hangisi yanlıştır?

- A) Gülün rengi soldu. (Belirtili isim tamlaması)
- B) Köye asfalt yol yapıldı. (Belirtili isim tamlaması)
- C) Bilgisayarın klavyesinin tuşları bozulmuş. (Zincirleme isim tamlaması)
- D) Okuldan çocuk sesleri geliyor. (Belirtisiz isim tamlaması)

9. Aşağıdakilerden hangisinde ses daralması kuralına örnek bir sözcük vardır?

- A) Hava soğuyor.
- B) Güneş açıyor.
- C) İçim üşüyor.
- D) Bu kalem yazmıyor.

10. Aşağıdakilerden hangisinde ses düşmesi olmuştur?

- A) Rengi
- B) Boynu
- C) Belli
- D) Kalbi

11. Aşağıdakilerden hangisi makale yazarının sahip olması gereken özelliklerden biri değildir?

- A) Dili iyi kullanmalı
- B) Yazılarında tarafsız bir tavır takınmak yerine yorumunu katmalı
- C) Geniş bir genel kültüre sahip olmalı
- D) Alanında geniş bilgiye sahip olmalı

12. Aşağıdaki cümlelerden hangisinde bir yazım yanlışı vardır?

- A) Yağmurda ıslandık.
- B) Sanki kış gelmişti.
- C) Sende gel istiyorum.
- D) Benim mektubum gelmiş, seninki nerede?

13. Aşağıdaki cümlelerin hangisinde noktalama işareti yanlış kullanılmıştır?

- A) Bu sorunun cevabı nedir?
- B) Ey Türk Gençliği!
- C) "İmdat? " diye bir ses işitti.
- D) Matematik, fizik, kimya en sevdiği derslerdi.

14. Aşağıdaki cümlelerden hangisinde yazım yanlışı yapılmıştır?

- A) Sokakta ki adamda kendini gördü.
- B) İçindeki gücün farkına vardı.
- C) Mademki geleceksin, bekleyeyim.
- D) Öyle söylemek istedi ki kendini tutamadı.

15. Aşağıdakilerin hangisinde sözcük grubu yer almamaktadır?

- A) Bekle istersen, geleceğim.
- B) İğne atsan yere düşmüyor.
- C) İyi kötü günlerimiz geçti.
- D) Kimseyi senin kadar sevmedim.

16. Aşağıdaki altı çizili sözcüklerden hangisi parantez içinde verilen anlamda kullanılmamıştır?

- A) Çekmecenin gözü açılmıyor. (Yan anlam)
- B) Sıcak çaydan ağzım yandı. (Deyim anlamı)
- C) Ben kimseye kin duyamam ki (Soyut anlam)
- D) Derdim çoktur, hangisine yanayım. (Mecaz anlam)

17. Aşağıdakilerden hangisinde eş anlamlı sözcüklerin kullanılmasından kaynaklanan bir anlatım bozukluğu vardır?

- A) Ağır ağır çıkacaksın bu merdivenlerden.
- B) Yakında ak koyun, kara koyun çıkacak ortaya.
- C) Bu konuda bir emelim, isteğim ve arzum yok.
- D) Az gittim, uz gittim.

18. Aşağıdaki sözcüklerden hangisinin aldığı ek sözcüğün köküne ses benzeşmesi kuralına uygun bir biçimde eklenmemiştir?

- A) Kaçtı
- B) Çiçekçi
- C) Sınıfta
- D) Tarihten

19. Aşağıdaki cümlelerden hangisinde bir yazım yanlışı vardır?

- A) Ayakta durmak zordu.
- B) Gidip de dönmek var.
- C) Beni anlıyor musun?
- D) Duyduklarım yalanmı?

20. Aşağıdaki cümlelerden hangisinde sessiz türemesine örnek bir sözcük vardır?

- A) Hükmen yenik sayıldı.
- B) Teklifimi reddetmedi.
- C) Fikrini kendine sakla.
- D) Bana emretme.

1. Al^{+3} ve $(SO_4)^{-2}$ iyonlarından oluşan bileşiğin formülü aşağıdakilerden hangisidir?
 A) $Al_2(SO_4)_3$
 B) $Al_3(SO_4)_2$
 C) $AlSO_4$
 D) $(SO_4)_4Al_2$
2. Demir (III) oksit bileşiğinde demirin oksijen ile kütlece birleşme oranı $7/3$ 'tür. Demir (III) oksit oluşturmak üzere, 10,5 gr. demir ile 6 gr. oksijen tepkimeye sokulduğunda kaç gram Demir (III) oksit bileşiği oluşur?
 A) 22,4
 B) 15
 C) 12
 D) 4,8
3. ${}_{17}X^{-1}$ ve ${}_{20}Y^a$ iyonlarının elektron sayıları birbirine eşit ise, y iyonunun yükü (a) kaçtır?
 A) +2
 B) +1
 C) -1
 D) -2
4. Periyodik cetvelde bir grupta yukarıdan aşağıya inildikçe aşağıdaki özelliklerden hangisi gerçekleşir?
 A) Metalik özelliği azalır.
 B) Elektron ilgisi artar.
 C) Değerlik elektron sayısı azalır.
 D) Atom numarası artar.
5. X^{+2} iyonunun elektron sayısı 22, nötron sayısı 24 ise, kütle numarası kaçtır?
 A) 24
 B) 44
 C) 46
 D) 48
6. $3,01 \cdot 10^{21}$ tane NH_3 molekülü kaç moldür?
 A) 5
 B) 0,5
 C) 0,05
 D) 0,005
7. ${}_{13}X$ ile ${}_8Y$ elementlerinin oluşturabileceği kararlı bileşiğin formülü aşağıdakilerden hangisidir?
 A) XY
 B) XY_3
 C) X_2Y_3
 D) X_3Y_2
8. Azotun iki ayrı oksidinden birinde 14 gr. azot- 8 gr. oksijenle, diğesinde 7 gr. azot-8 gr. oksijenle birleşmektedir. Buna göre sabit miktarda azotla birleşen oksijen miktarları arasındaki katlı oran kaçtır?
 A) $1/3$
 B) $1/2$
 C) $2/3$
 D) $3/4$
9. C_2H_5OH bileşiğinin mol kütlesi kaç gr/mol dür? (C:12, O:16, H:1)
 A) 46
 B) 24
 C) 16
 D) 12
10. I $CaCl_2$:Kalsiyum klorür
 II $NaNO_3$: Sodyumtrinitrat
 III SO_3 : Kükürttrioksit
 IV Cl_2O_7 : Diklorpentaoksit
- Yukarıdaki bileşiklerden hangileri doğru adlandırılmıştır?
 A) I ve II
 B) I ve III
 C) II ve III
 D) II ve IV
11. X elementinin X^{-3} iyonunun elektron dağılımı $1s^2 2s^2 2p^6 3s^2 3p^6$ şeklindedir. Bu elementin X^{+3} iyonunun elektron dizilişi aşağıdakilerden hangisidir?
 A) $1s^2 2s^2 2p^6 3s^2 3p^6 4s^1$
 B) $1s^2 2s^2 2p^6 3s^2 3p^3$
 C) $1s^2 2s^2 2p^6 3s^2$
 D) $1s^2 2s^2 2p^6 3s^1$

12. Aşağıdaki bileşiklerin hangisinde iyonik bağ bulunmaz?

- A) HCl
- B) CaCl₂
- C) KCl
- D) BaO

13. Aşağıdakilerden hangisi ametaller için doğrudur?

- A) Metallerle bileşiklerinde eksi yük alırlar.
- B) Bileşiklerinde daima eksi yük alırlar.
- C) Kendi aralarında bileşik yapamazlar.
- D) Dövülerek kolayca işlenebilirler.

14. ${}_{12}\text{Mg}^{+2}$ iyonunun elektron sayısı, Y^{+5} iyonunun elektron sayısına eşittir. Y'nin periyodik cetveldeki yeri neresidir?

- A) 3. periyot, 3A grubu
- B) 3. periyot, 5A grubu
- C) 5. periyot, 5A grubu
- D) 4. periyot, 2A grubu

15. FeO bileşiğinde demirin oksijene kütlece birleşme oranı $7/2$ dir. 42 gram demirle yeterince oksijen reaksiyona girdiğinde kaç gram FeO oluşur?

- A) 16
- B) 44
- C) 54
- D) 76

16. Demir (II) oksit bileşiğinin formülü aşağıdakilerden hangisidir?

- A) Fe₂O
- B) FeO
- C) FeO₂
- D) Fe₃O₄

17. X_aY_b iyon yapılı bileşiği, suda $\text{X}^{+b}\text{Y}^{-a}$ iyonlarına ayrılmakta ve elektrik akımını iyi iletmektedir. Buna göre, X_aY_b bileşiği için aşağıdakilerden hangisi doğrudur?

- A) X, elektron almıştır.
- B) Y, elektron vermiştir.
- C) X ile Y arasında elektron ortaklığı kurulmuştur.
- D) X, elektron vermiştir.

18. X^{+3} iyonu $1s^22s^22p^6$ elektron dağılımına sahiptir. Buna göre, x elementinin periyodik cetveldeki yeri neresidir?

- A) 2. periyot, 8A grubu
- B) 3. periyot, 1A grubu
- C) 3. periyot, 3A grubu
- D) 3. periyot, 5A grubu

19. 4 gram NaOH kaç moldür? (Na: 23, O: 16, H:1)

- A) 10
- B) 1
- C) 0,1
- D) 0,01

20. 0,5 mol C₂H₆ kaç tane atom içerir?

- A) $8.6.02.10^{23}$
- B) $4.6.02.10^{23}$
- C) 4
- D) 0,5

1. **Canlıları benzerliklerine ve akrabalık derecelerine göre sınıflandırarak inceleyen bilim dalına ne ad verilir?**
 - A) Biyokimya
 - B) Sitoloji
 - C) Embriyoloji
 - D) Taksonomi
2. **Tarafsız deney ve gözlemlerle elde edilen düzenli bilgiler birikimine ne ad verilir?**
 - A) Problem
 - B) Bilim
 - C) Hipotez
 - D) Veri
3. **Aşağıdakilerden hangisi bilim adamının özelliklerinden biri değildir?**
 - A) Yaptığı çalışmalarda sabırsızdır.
 - B) Akılcı ve gerçekçi davranır.
 - C) Yeniliklere açık ve aydın bir kişiliğe sahiptir.
 - D) Meraklıdır ve iyi bir gözlemcidir.
4. **Aşağıdakilerden hangisi biyolojinin uygulama alanlarından biri değildir?**
 - A) Diş hekimliği
 - B) Ekoloji
 - C) Metalürji
 - D) Eczacılık
5. **Aşağıdakilerden hangisi biyolojinin alt bilim dallarından biri değildir?**
 - A) Anatomi
 - B) Histoloji
 - C) Morfoloji
 - D) Dinamik
6. **Aşağıdakilerden hangisi ekosistemde görülen döngülerden biri değildir?**
 - A) Su
 - B) Karbon
 - C) Demir
 - D) Azot
7. **Aşağıdakilerden hangisi ekosistemde var olan ortak yaşam çeşitlerinden biri değildir?**
 - A) Holozoik beslenme
 - B) Parazit yaşam
 - C) Kommensalizm
 - D) Mutualizm
8. **Hem et hem de otlarla beslenen canlılar hangi sınıftandır?**
 - A) Karnivorlar
 - B) Herbivorlar
 - C) Omnivorlar
 - D) Simbiyotikler
9. **Belirli bir alanda yaşayan farklı popülasyonların hepsine birden ne ad verilir?**
 - A) Ekosistem
 - B) Simbiyotik
 - C) Komünite
 - D) Saprofit
10. **Aşağıdakilerden hangisi organik besinlerden biri değildir?**
 - A) Proteinler
 - B) Karbonhidratlar
 - C) Vitaminler
 - D) Mineraller
11. **Canlılarda günlük, aylık, yıllık döngüler halinde tekrarlanan davranışlara ne ad verilir?**
 - A) Biyolojik ritim
 - B) Nasti hareketleri
 - C) Sosyal davranışlar
 - D) Kazanılmış davranışlar
12. **Aşağıdakilerden hangisi biyolojik saate bağlı olarak vücutta meydana gelen değişikliklerden biri değildir?**
 - A) Nabız sayısı
 - B) Vücut sıcaklığı
 - C) Hormon salgı miktarı
 - D) Zamansız acıkma

13. Aşağıdakilerden hangisi nasti hareketlerinden biri değildir?

- A) Hidronasti
- B) Fotonasti
- C) Kemonasti
- D) Termonasti

14. Misk öküzü gibi, bazı büyük hayvanların omuz omuza durarak vahşi bir hayvanın saldırısına karşı kendilerini savunmaları hangi davranışa örnektir?

- A) Kazanılmış davranış
- B) Doğal davranış
- C) Sosyal davranış
- D) İçgüdüsel davranış

15. Kökenleri aynı olup, görevleri farklı olan organlara ne ad verilir?

- A) Analog organ
- B) Homolog organ
- C) Klon organ
- D) Aktif organ

16. Kirlenmeden dolayı ortamda aşırı bitki üremesine ne ad verilir?

- A) Komünite
- B) Kommensalizm
- C) Mutualizm
- D) Ötrifikasyon

17. Hayatın, başka gezegenlerden dünyaya gelen bazı spor veya tohumlarla başladığını savunan görüş aşağıdakilerden hangisidir?

- A) Abiyogenez
- B) Panspermia
- C) Ototrof
- D) Heterotrof

18. Canlıların değişen koşullara uyum sağlamak için farklı kalıtsal özellikler kazanmasına ne ad verilir?

- A) Mutasyon
- B) Adaptasyon
- C) Seleksiyon
- D) Modifikasyon

19. Aşağıdakilerden hangisi evrimi destekleyen kanıtlardan biri değildir?

- A) Embriyolojiden sağlanan kanıtlar
- B) Yaratılıştan sağlanan kanıtlar
- C) Fosillerden sağlanan kanıtlar
- D) Morfolojiden sağlanan kanıtlar

20. Türlerin uzun süreler içerisinde değişime uğrayarak yeni türlere dönüştüğünü savunan bilim insanı aşağıdakilerden hangisidir?

- A) Darwin
- B) Lamarck
- C) Mendel
- D) Lorenz

1. DNA'nın I. ipliğindeki azotlu organik bazların dizilişi G-G-C-T-A-A-T-C şeklinde ise II. ipliğindeki dizilişi aşağıdakilerden hangisidir?
- A) T-T-A-G-C-C-G-A
B) G-G-C-A-T-T-A-G
C) A-A-T-C-G-G-C-T
D) C-C-G-A-T-T-A-G
2. Yeterli aminoasitlerinin bulunduğu ortamda protein sentezi için aşağıdakilerden hangisi gerekli değildir?
- A) Ribozom
B) Lizozom
C) Enzim
D) DNA
3. Aşağıdakilerden hangisi fermantasyonla oksijenli solunumun ortak özelliği değildir?
- A) H₂O nun açığa çıkması
B) Glikozun hammadde olması
C) Enzimlerin kullanılması
D) ATP nin üretilmesi
4. Fotosentetik bakterilerin gerekli organik maddeyi sentezleyebilmeleri için, aşağıdakilerden hangisini dışarıdan almaları gerekir?
- A) Glikoz
B) Gliserin
C) Karbondioksit
D) Oksijen
5. mRNA'da DNA'daki genetik bilgiye uygun olarak sentezlenen üçlü baz dizisine ne ad verilir?
- A) Genetik şifre
B) Santral doğma
C) Antikodon
D) Kodon
6. Glikoliz ile ilgili aşağıdaki ifadelerden hangisi yanlıştır?
- A) Glikoliz reaksiyonları hücrede mitokondride gerçekleşir.
B) Oksijenli ve oksijensiz solunum yapan canlılarda ortak yoldur.
C) ATP tarafından iki kez aktifleştirilerek glikoz difosfatı oluşturur.
D) Glikoliz reaksiyonu sonucunda, 1 molekül glikozdan 2 molekül pirüvatik asit oluşur.
7. Aşağıdakilerden hangisi mitokondrideki solunum zincirinin (ETS nin) elektron taşıyan elemanlarından biri değildir?
- A) Co enzim - Q
B) Asetil Co - A
C) Sitobrom b
D) FAD
8. Aşağıdakilerden hangisi fotosentez hızını etkileyen çevresel faktörlerden biri değildir?
- A) Işık şiddeti
B) CO₂ (karbondioksit) yoğunluğu
C) Klorofil miktarı
D) Sıcaklık
9. Aşağıdakilerden hangisi DNA'nın özelliklerinden biri değildir?
- A) Ribozomlara bilgi götürür ve protein sentezini başlatır.
B) Vücut hücrelerinin tümünde aynı miktarda bulunur.
C) Gametlerde vücut hücrelerinin yarısı kadar DNA bulunur.
D) Hücre bölünmesini başlatır.
10. Aşağıdaki maddelerden hangisinin miktarı fotosentezin karanlık tepkimeleri sırasında sabittir?
- A) CO₂ miktarı
B) Enzim miktarı
C) Glukoz miktarı
D) ATP miktarı

11. Aşağıdakilerden hangisi fotosentez hızını etkileyen dış (çevresel) faktörlerdendir?

- A) Stoma sayısı
- B) Enzim miktarı
- C) Sıcaklık
- D) Klorofil miktarı

12. Aşağıdakilerden hangisi fotosentez hızını etkileyen genetik faktörlerden biri değildir?

- A) Sıcaklık
- B) Klorofil miktarı
- C) Stoma sayısı
- D) Bitkinin yaşı

13. Aşağıdaki olaylardan hangisi yeşil bir bitki hücresinde görülmez?

- A) Oksidatif fosforilasyon
- B) Devirli fosforilasyon
- C) Devirsiz fosforilasyon
- D) Kemosentetik fosforilasyon

14. DNA'nın yapısında aşağıdaki bazlardan hangisi bulunmaz?

- A) Adenin
- B) Urasil
- C) Guanin
- D) Sitozin

15. Hücrenin protein sentezinin gerçekleştiği organel aşağıdakilerden hangisidir?

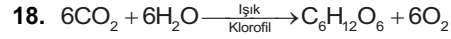
- A) Çekirdek
- B) Mitokondri
- C) Sitoplazma
- D) Ribozom

16. Aşağıdakilerden hangisinin hücrede bol miktarda oluşması hücrenin fermantasyon yaptığını kanıtlar?

- A) Pürvik asit
- B) Asetil Co A
- C) Laktik asit
- D) NADH₂

17. Nükleik asitlerin yapı birimi aşağıdakilerden hangisidir?

- A) Nükleozit
- B) Nükleotit
- C) Fosfat grubu
- D) Nükleon



Yukarıda verilen fotosentez tepkimeleri için, aşağıdaki açıklamalardan hangisi yanlıştır?

- A) Bu tepkime ökaryot bitki hücrelerinin sitoplazmasında gerçekleşir.
- B) Glukozdaki karbon kaynağı CO₂ dir.
- C) Fotosentez sonunda bitki ağırlığında artış olur.
- D) Tüketilen ATP'den daha fazlası organik bileşiklerin kimyasal bağlarında depolanır.

19. Aşağıdakilerden hangisi DNA ve RNA arasındaki ortak özelliklerden biridir?

- A) Timin nükleotit
- B) Urasil nükleotit
- C) Deoksiriboz şekeri
- D) Fosfat grubu

20. Reaksiyon sonucunda ısı açığa çıkmasına ne ad verilir?

- A) Endotermik reaksiyon
- B) Isı enerjisi
- C) Ekzotermik reaksiyon
- D) Biyosentez

DEMOKRASİ VE İNSAN HAKLARI 1

A

2013 I.DÖNEM 0101-A

1. Aşağıdakilerden hangisi, bir tüzel kişi değildir?
A) Toplumsal gruplar
B) Vakıflar
C) Dernekler
D) Siyasi partiler
2. İnsan haklarına yer veren ilk yazılı ulusal belgelerden olan Fransız ve Yurttaş Hakları Bildirgesi hangi tarihte ilan edilmiştir?
A) 1789
B) 1839
C) 1889
D) 1939
3. Türk kadınlarına seçme ve seçilme hakkı hangi yıl çıkarılan yasayla verilmiştir?
A) 1923
B) 1925
C) 1934
D) 1945
4. Üyelerinin düşünce ve menfaatlerini gerçekleştirmek için iktidarı kısmen ya da tamamen elde etmek amacıyla siyasi hayata katılan gruba ne ad verilir?
A) Sendika
B) Siyasi parti
C) Dernek
D) Bürokrasi
5. Halkın seçmen olabilmesi için ırk, servet, cinsiyet, yetenek gibi şartların aranmadığı oy türü aşağıdakilerden hangisidir?
A) Genel
B) Temsili
C) Doğal
D) Pozitif
6. Fransız İnsan ve Yurttaş Hakları Bildirgesi hangi yıl ilan edilmiştir?
A) 1776
B) 1789
C) 1876
D) 1908
7. Batıda Rönesans adı verilen dönem hangi yüzyılda ortaya çıkmaya başlamıştır?
A) 11
B) 13
C) 15
D) 17
8. Amerikan bağımsızlık bildirgesi hangi tarihte ilan edilmiştir?
A) 24 Ekim 1686
B) 24 Ekim 1717
C) 4 Temmuz 1776
D) 4 Temmuz 1851
9. Avrupa İnsan Hakları Mahkemesi'nin kararlarının yerine getirilmesini denetleyen, yılda iki kez toplanan ve siyasi yaptırıma sahip olan denetim organı aşağıdakilerden hangisidir?
A) Danışma Komitesi
B) Kıdemli Memurlar Komitesi
C) Delegeler Komitesi
D) Bakanlar Komitesi
10. Bir hukuk düzeninin öznesi aşağıdakilerden hangisidir?
A) Dünya
B) Evren
C) Kişi
D) Çevre
11. Belli bir ülkede belli bir dönemde yürürlükte bulunan hukuk kurallarına ne ad verilir?
A) Doğal hukuk
B) Norm
C) Pozitif hukuk
D) Adalet
12. Bir ülkede belli bir dönemde geçerli olan kuralların zorla ve köklü bir değişikliğe tabi tutularak yerine yenilerinin getirilmesine ne ad verilir?
A) Reform
B) Liberalizm
C) Demokrasi
D) Devrim

13. Aşağıdakilerden hangisi cumhuriyet öncesi demokratikleşme ve insan hakları ile ilgili gelişmelerden biri değildir?

- A) Islahat Fermanı'nın ilan edilmesi
- B) Birinci Meşrutiyet'in kabul edilmesi
- C) Sened-i İttifak'ın imzalanması
- D) Medeni Kanun'un kabul edilmesi

14. Aşağıdakilerden hangisi 1924 Anayasası'nın bir özelliği değildir?

- A) Meclis üstünlüğüne dayalı olması
- B) Yargı yetkisini bağımsız mahkemelere bırakması
- C) Temel hak ve özgürlüklere sınırlı biçimde yer vermesi
- D) Çift meclis sisteminin oluşturulması

15. Birleşmiş Milletler Örgütü hangi tarihte kurulmuştur?

- A) 24 Ekim 1945
- B) 20 Nisan 1946
- C) 24 Temmuz 1949
- D) 15 Mayıs 1954

16. Aydınlanmayı "insanın aklını kendinin kullanmaya başlaması" şeklinde ifade eden düşünür aşağıdakilerden hangisidir?

- A) Comte
- B) Kant
- C) Sokrates
- D) Bacon

17. Birleşmiş Milletler Örgütü'nün ilk denetim organı aşağıdakilerden hangisidir?

- A) İşkenceye Karşı Komite
- B) Irk Ayrımcılığının Kaldırılması Komitesi
- C) Kadınlara Karşı Ayrımcılığın Kaldırılması Komitesi
- D) Ekonomik Sosyal ve Kültürel Haklar Komitesi

18. Herkesin dininin gereklerini özgürce yaşayabilmesinin önkoşulu aşağıdakilerden hangisidir?

- A) Devletçilik
- B) Laiklik
- C) Milliyetçilik
- D) Ekonomik kalkınmışlık

19. Bir ülkede yaşayan, bir devlete vatandaşlık bağı ile bağlı, kendini o ülkenin kaderine bağlamış insanlardan oluşan bütüne ne ad verilir?

- A) Topluluk
- B) Grup
- C) Örgüt
- D) Halk

20. Cemiyet-i Akvam (Milletler Cemiyeti) hangi barış antlaşması ile kurulmuştur?

- A) 1919 Versailles
- B) 1929 Paris
- C) 1939 Londra
- D) 1945 Roma

1. Atardamar, toplardamar ve kılcal damarlardan oluşan damar ağının içinde dolaşan akıcı plazma ve hücrelerden oluşmuş kırmızı renkli yaşamsal sıvının adı nedir?
 - A) Alyuvar
 - B) Kan
 - C) Akyuvar
 - D) Trombosit
2. Vücudun normal şeklini, yapısını, vücudu oluşturan organları ve bu organlar arasındaki yapısal, görevsel ilişkileri inceleyen bilim dalına ne ad verilir?
 - A) Anatomi
 - B) Filoloji
 - C) Genetik
 - D) Histoloji
3. Aşağıdakilerden hangisi sağlıklı halin hayat boyunca devam etmesi için gerekli şartlardan biri değildir?
 - A) Sadece annenin çocuğun her yaş döneminde sorunları ile ilgilenmesi
 - B) Bebeğin mümkün olduğu kadar anne sütüyle beslenmesi
 - C) Bireyin ruhsal açıdan toplumsal hayata ve iş hayatına hazırlanması
 - D) Doğum sonrası aşı takvimine göre aşıları düzenli yaptırma
4. Aşağıdakilerden hangisi yaralanmanın ağırlığına göre ortaya çıkan sorunlardan biri değildir?
 - A) Geçici iş göremezlik
 - B) Kısmi iş göremezlik
 - C) Tam iş göremezlik
 - D) Sınırlı iş görülebilirlik
5. Aşağıdakilerden hangisi kanama çeşitlerinden biridir?
 - A) Toplardamar kanamaları
 - B) Kesik kanamaları
 - C) Turnike kanamaları
 - D) Yara kanamaları
6. Aşağıdakilerden hangisi insanın, iş kazası meydana gelmemesi için yapması gerekenler arasında yer almaz?
 - A) Akıllıca hareket etmek
 - B) Güvenlikle ilgili her türlü kurala uymak
 - C) Sorumluluk duymak
 - D) İşe uyum sağlamamak
7. Vücuttaki dokulara yeterli oksijenin gitmemesi sonucu dokularda bozulma meydana gelmesine ne denir?
 - A) Daralma
 - B) Heyecan
 - C) Boğulma
 - D) Kırılma
8. Aşağıdakilerden hangisi çevre güvenliğini etkileyen kimyasal tehditlerden biri değildir?
 - A) Aydınlatma bozuklukları
 - B) Suni kimyasal tehditler
 - C) Hava ve suların kirliliği
 - D) Endüstriyel kirlilik
9. Uçakların kanatlarında ve bazı bölümlerinde soğuk havalarda ve sürat nedeniyle donmayı önlemek için kullanılan yanma özelliğine sahip maddenin adı nedir?
 - A) Hidroliz
 - B) Diyastol
 - C) Anti-icing
 - D) Epitelyum
10. Aşağıdakilerden hangisi iş yerinde elektrik enerjisi kullanırken alınacak tedbirler arasında yer almaz?
 - A) Kullanım talimatnameye uygun olmalıdır.
 - B) Elektrikli aletler mutlaka topraklı prizle kullanılmalıdır.
 - C) Temizlik, bakım ve onarımları aksatılmamalıdır.
 - D) Kullanıldıkları sırada fiş prizden çıkarılmalıdır.

11. Aşağıdakilerden hangisi sıcak su aygıtlarının kullanılmasında dikkat edilecek önemli hususlardan biri değildir?

- A) Şofben kullanıldıktan sonra gaz devresi kesilmeli
- B) Termosifonlar, içinde su bulunurken aşırı derecede yakılmamalı
- C) Termosifonda su sıcaklığını gösteren termometre bulunmalı
- D) Şofben mutfağa monte edilmeli

12. Makinelerin bir maddeyi işlerken çıkardıkları ince ve kalın parçalara ne ad verilir?

- A) Talaş
- B) Torna
- C) Revörler
- D) Bileme çarkı

13. Aşağıdakilerden hangisi ölçme ayar ve kontrol makineleri arasında yer almaz?

- A) Optik-mekanik
- B) Pnömatik
- C) Mekanik
- D) Akustik

14. Türkiye'de Cumhuriyetin ilanından sonra iş sağlığı ve iş güvenliği alanında ilk düzenleme hangisidir?

- A) Umumi Hıfzıssıhha Yasası
- B) Belediyeler Yasası
- C) Hafta Tatili Yasası
- D) Sosyal Güvenlik Yasası

15. Aşağıdakilerden hangisi kaza zincirini meydana getiren kişisel kusurlardan biri değildir?

- A) Dikkatsizlik
- B) Tabiat şartları
- C) Sinirlilik
- D) Yorgunluk

16. Aşağıdakilerden hangisi boğucu gazlar sınıflandırması içerisinde yer almaz?

- A) Basit boğucular
- B) Sistemik zehirli gazlar
- C) Bileşik gazlar
- D) Tahriş edici gazlar

17. Aşağıdakilerden hangisi işverenin kanuna göre Sosyal Güvenlik Kurumuna karşı sorumluluklarından biri değildir?

- A) İş yeri bildirgesi ve eklerinin verilmesi
- B) Çalıştırmadığı işçilerin bildirgesinin verilmesi
- C) Aylık prim ve hizmet belgesinin belirtilen biçimde ve sürede verilmesi
- D) İş kazası ve meslek hastalığı bildirimini yapılması

18. Aşağıdakilerden hangisi görünmeyen kazalar arasında yer almaz?

- A) Toplumun uğradığı zararlar
- B) Tazminat ödemeleri
- C) Kaybolan iş günü
- D) Üretim kayıpları

19. Olayların akışında önceden planlanmamış, bilinmeyen ve sık sık kişisel yaralanmalara, sakatlanmalara, makine, alet, malzeme ve çevrenin zarara uğramasına sebebiyet veren olaya ne ad verilir?

- A) Kusur
- B) Beklenmeyen durum
- C) Kaza
- D) Mücbir sebep

20. Aşağıdakilerden hangisi elektrikten kaynaklanan iş kazalarının önlenmesinde alınacak önlemlerden biri değildir?

- A) İzolasyon trafosu
- B) Büyük gerilim kullanmak
- C) Topraklamak
- D) Yalıtılmak

1. Sümer mimarisinin tapınak yapısı olan ve üst üste oturtulmuş kerpiç taraçalardan meydana gelen yapı aşağıdakilerden hangisidir?
A) Mastaba
B) Piramit
C) Tümülüs
D) Ziggurat
2. Aşağıdakilerden hangisi Anadolu'da kurulan uygarlıklardan biri değildir?
A) Urartu
B) Asur
C) Lidya
D) Frig
3. Mısır Kraliçesi Haçepsut'un yaptırdığı tapınak aşağıdakilerden hangisinde yer alır?
A) Sakara
B) Teb
C) Deyr-ül Bahri
D) Karnak
4. Antalya yöresindeki Aspendos Tiyatrosu bir tepenin yamacına yerleştirilmiş olup, tiyatro mimarisinin en güzel örneklerinden biridir. Bu güzel eser aşağıdaki uygarlıklardan hangisine aittir?
A) Frig
B) Roma
C) Hitit
D) Yunan
5. Aşağıdakilerden hangisi, İlk Çağda Anadolu'da kurulan devletlerden biri değildir?
A) Hititler
B) Asurlular
C) Lidyalılar
D) Urartular
6. Aşağıdakilerden hangisi olayların tarihlerini saptayarak oluşum sıralarını düzenleyen bir bilim dalıdır?
A) Arkeoloji
B) Antropoloji
C) Kronoloji
D) Epigrafi
7. Bizans İmparatorluğu'nun başkenti aşağıdakilerden hangisidir?
A) Konstantinopolis
B) Roma
C) İskenderiye
D) Atina
8. Aşağıdakilerden hangisi "dünyanın yedi harikasından biri değildir?
A) Akbabe Steli
B) İskenderiye Feneri
C) Rodos Heykeli
D) Mısır Piramitleri
9. I. Mimari
II. Heykel
III. Resim
Yukarıdakilerden hangileri plastik sanatlar içerisinde yer alır?
A) Yalnız I
B) Yalnız II
C) I ve II
D) I, II ve III
10. Bizans sanatında 6.yy.da bazilika mimarisi geliştirilerek kubbeli bazilikalar inşa edilmiştir. Bu yapıların en anıtsal örneği aşağıdakilerden hangisidir?
A) Karaman Binbir Kilise
B) İstanbul Sergios Bacchos Kilisesi
C) İstanbul Ayasofya Kilisesi
D) Demre Aziz Nikolaos Kilisesi
11. Aşağıdakilerden hangisi Anadolu'da Dor düzenindeki tapınaklara örnektir?
A) Mausolleion
B) Efes, Artemis
C) Assos Athena
D) Didyma Apollon
12. Bizans Sanatında bir döneme de adını veren "ikonoklazma" teriminin anlamı aşağıdakilerden hangisidir?
A) Tasvir Kırıcılık
B) İsa'nın Doğumu
C) El Yazması
D) İsa'nın Mucizeleri

13. Bizans mimarlığının erken dönemdeki en önemli yapı tipi aşağıdakilerden hangisidir?

- A) Tiyatro
- B) Hamam
- C) Amfi tiyatro
- D) Bazilika

14. Aşağıdakilerden hangisi endüstriyel sanatlardan biri değildir?

- A) Sinema
- B) Kuyumculuk
- C) Dokumacılık
- D) Kunduracılık

15. Yunan Heykeltiliğinde portre sanatının en önemli sanatçısı kimdir?

- A) Lysippos
- B) Praksiteles
- C) Miron
- D) Leochares

16. Orta Anadolu'da Midas şehrinde bulunmuş ünlü kral Midas'a ait olan mezar, aşağıdaki uygarlıklardan hangisine aittir?

- A) Urartu
- B) Frig
- C) Geç Hitit
- D) Lidya

17. Aşağıdaki yapılardan hangisi İstanbul'da yer almaz?

- A) Sergios Bacchos Kilisesi
- B) Karanlık Kilise
- C) Tekfur Sarayı
- D) Hagia Sophia

18. Hitit İmparatorluğu'nun başkenti aşağıdakilerden hangisidir?

- A) Zincirli
- B) Karatepe
- C) Tuşba
- D) Hattuşuş

19. Boğazköy'de bulunmuştur. Başında üst üste oturtulmuş yastıklar şeklinde bir taç taşımaktadır. Sol elinde bereket sembolü bir nar tutmakta sağında ve solunda flüt ve rübab çalan iki erkek çocuk figürü bulunmaktadır.

Yukarıda özellikleri verilmiş olan Frig heykel sanatına ait ünlü bereket tanrıçası aşağıdakilerden hangisidir?

- A) Şeyhülbeled
- B) Lugaldalu
- C) Nofretete
- D) Kybele

20. I. İnsan toplulukları yerleşik düzene geçmiştir.

II. Köyler oluşturulmaya başlanmıştır.

III. Üretici düzene geçilmiştir.

IV. Anadolu'daki bu dönem yerleşme yerleri Diyarbakır -Çayönü, Burdur -Hacılar ve Konya -Çatalhöyük'tür.

Yukarıda özellikleri verilen Tarih öncesi devir aşağıdakilerden hangisidir?

- A) Paleolitik Çağ
- B) Mezolitik Çağ
- C) Neolitik Çağ
- D) Kalkolitik Çağ

1. Arapça ve Farsçanın Türkçe üzerinde baskı oluşturduğu bir dönemde "Bugünden sonra divanda, dergâhta, bargâhta, mecliste, meydanda Türkçeden başka dil kullanılmayacaktır." diyerek bir fermanla dilimize sahip çıkmak isteyen devlet adamı kimdir?
- A) Fatih Sultan Mehmet
B) Yavuz Sultan Selim
C) Karamanoğlu Mehmet Bey
D) Sokullu Mehmet Paşa
2. Aşağıdakilerden hangisi Türkülerin özelliklerinden biri değildir?
- A) Konularına göre aşk, askerlik, düğün türküleri gibi isimler alması
B) Divan Edebiyatı eserleri olması
C) Her bendin sonunda tekrarlanan kavuştak dizelerinden oluşması
D) Hece ölçüsüyle yazılması
3. Aşağıdakilerden hangisi insan ve tabiat güzelliklerini dile getiren koşmadır?
- A) Koçaklama
B) Medhiye
C) Güzelleme
D) Taşlama
4. Bestelenmek üzere yazılan ve dört mısralık bentlerden oluşan nazım biçimi aşağıdakilerden hangisidir?
- A) Şarkı
B) Mesnevi
C) Kaside
D) Rubai
5. Aşağıdakilerden hangisi dört mısralık, Divan Edebiyatı nazım şeklidir?
- A) Gazel
B) Mesnevi
C) Rubai
D) Kaside
6. Tanzimat'la başlayan yenileşme hareketinin öncülerinden olan, Türk Edebiyatının yenileşmesi ve öz kaynaklarına dönmesini savunan yazar aşağıdakilerden hangisidir?
- A) Namık Kemal
B) Yahya Kemal
C) Faruk Nafiz Çamlıbel
D) Ziya Paşa
7. Aşağıdakilerden hangisi şairin bir kimsenin ölümünden duyduğu üzüntüyü anlattığı kasidedir?
- A) Münacat
B) Naat
C) Mersiye
D) Hicviye
8. Aşağıdakilerden hangisi Tasavvuf şairi değildir?
- A) Karacaoğlan
B) Yunus Emre
C) Ahmet Yesevî
D) Mevlâna
9. Öğretmek amacıyla ele alınan edebî eserlere ne ad verilir?
- A) Satirik
B) Dramatik
C) Pastoral
D) Didaktik
10. Tarihçi, şair ve dilcidir. Başarılı sözlük tercümeleri vardır. Burhan-ı Katı adlı sözlük çalışmasının bir bölümünü III. Selim'e sunmuştur.
- Yukarıda sözü edilen kişi aşağıdakilerden hangisidir?
- A) Şehî Bey
B) Ahmet Resmî Efendi
C) Kaygusuz Abdal
D) Mütercim Âsım

11. Aladır gözlerin siyahtır kaşın
Aradım cihanı bulunmaz eşin
Yaylanın karından beyazdır düşün
Uzanıp üstüne ölesim geldi

Yukarıdaki dördlükle ilgili aşağıdakilerden hangisi yanlıştır?

- A) Halk şiirinden alınmıştır.
B) Nazım birimi dördlüktür.
C) 11'li hece ölçüsü vardır.
D) Aruz ölçüsü kullanılmıştır.

12. Şairin kaside içinde medhiye bölümünden sonra uygun bir yerde aynı vezin ve kafiye ile söylediği bölüme ne ad verilir?

- A) Dua
B) Tegazzül
C) Girizgah
D) Nesib

13. Gazelin ilk beytine ne ad verilir?

- A) Matla
B) Medhiye
C) Girizgâh
D) Taç

14. Divan edebiyatında şairlerin kendilerini övme geleneği vardı. Kaside nazım şekli içinde şairin kendini övdüğü bölüme ne ad verilir?

- A) Medhiye
B) Mersiye
C) Fahriye
D) Girizgâh

15. Kırgızların geleneklerini, ahlak ve aile hayatlarını, dünya ve hayat görüşlerini anlatan destan aşağıdakilerden hangisidir?

- A) Türeyiş
B) Manas
C) Oğuz Kağan
D) Göç

16. Aşağıdakilerden hangisi Tasavvuf ile ilgili değildir?

- A) İlahi
B) Gazel
C) Nefes
D) Sathiyе

17. Aşağıdakilerden hangisi XIV. yüzyıl Divan şairi Ahmedî'nin eseridir?

- A) Cemşid-ü Hurşit
B) Arzu ile Kamber
C) Risaletü'n-Nushiyye
D) Leylâ vü Mecnun

18. Gazel nazım şeklinin en güzel beytine ne ad verilir?

- A) Makta beyit
B) Beytül-gazel
C) Yek-âvaz gazel
D) Musammat gazel

19. Hoca Ahmet Yesevî'nin "Hikmet"leriyle ilgili olarak, aşağıdakilerden hangisi söylenemez?

- A) Batı Türkçesiyle yazıldığı
B) Hece ölçüsü ve yarım uyak kullanıldığı
C) Tasavvufun inceliklerinin yansıtıldığı
D) Didaktik bir eser olduğu

20. Aşağıdakilerden hangisi Türklerin İslamiyet'i kabulünden sonra, Karahanlılar döneminde oluşturduğu eserlerinden biridir?

- A) Sav
B) Sagu
C) Koşuk
D) Kutadgu Bilig

1. Ich sehr gern am Meer.

Welches Wort passt in die obige Lücke?

Cümlede boş bırakılan yeri aşağıdakilerden hangisi doğru şekilde tamamlar?

- A) wären
B) wäre
C) wärst
D) waren

2. Sie hätte sehr gern ein Kleid.

Welches Wort passt in die obige Lücke?

Cümlede boş bırakılan yeri aşağıdakilerden hangisi doğru şekilde tamamlar?

- A) neu
B) neuen
C) neuem
D) neues

3. Es hat einen Verkehrsunfall gegeben, bei dem keiner verletzt wurde.

Welches Wort passt in die obige Lücke?

Cümlede boş bırakılan yeri aşağıdakilerden hangisi doğru şekilde tamamlar?

- A) rechtzeitig
B) durchgehend
C) glücklicherweise
D) privat

4. Wenn wir jetzt Zeit, wir einen Ausflug mit dem Auto machen.

Welche Wörter passen in die obigen Lücken?

Cümlede boş bırakılan yerleri aşağıdakilerden hangileri doğru şekilde tamamlar?

- A) hätten / würden
B) haben / wird
C) hattest / wirst
D) hättest / würdest

5. A:, du wärst heute in Hawaii?
B: Das wäre ja super. Ich würde immer schwimmen!

Welches ergänzt die Lücke im obigen Dialog?

Verilen karşılıklı konuşmada boş bırakılan yeri aşağıdakilerden hangisi tamamlar?

- A) Hatte sie gewusst
B) Kommt mit
C) Lauf schneller
D) Stell dir vor

6. Die Schüler waren, alles in der Prüfung wäre gut gelaufen.

Welches Wort passt in die obige Lücke?

Cümlede boş bırakılan yeri aşağıdakilerden hangisi doğru şekilde tamamlar?

- A) die Frage
B) der Meinung
C) das Denken
D) die Versammlung

7. A: Woher kommt sie?

B:

A: Ach so, ich dachte, sie wäre aus Frankreich.

Welches ergänzt den obigen Dialog?

Verilen karşılıklı konuşmayı aşağıdakilerden hangisi tamamlar?

- A) Ich wohne auch in Frankreich.
B) Mein Bruder arbeitet in Deutschland.
C) Sein Vater fährt jedes Jahr nach Deutschland.
D) Man sagt, sie wäre aus Deutschland.

8. Sie sagen,

Welches ergänzt nicht die Lücke im obigen Satz?

Verilen cümleyi aşağıdakilerden hangisi tamamlamaz?

- A) wird die Prüfung bestehen.
B) wir hätten morgen keine Schule.
C) der Lehrer sei krank.
D) der Arzt arbeite privat.

9. Der Film ist einem guten Regisseur gedreht

Welche Wörter passen in die obigen Lücken?

Cümlede boş bırakılan yerleri aşağıdakilerden hangileri doğru şekilde tamamlar?

- A) bei / würden
B) an / wird
C) zu / werden
D) von / worden

10. Ich habe aus der Zeitung, es werde heute ein schönes Wetter.

Welches Wort passt in die obige Lücke?

Cümlede boş bırakılan yeri aşağıdakilerden hangisi doğru şekilde tamamlar?

- A) beenden
B) erfahren
C) sondern
D) auffallen

11. Was hast du über deinen Freund gehört?

Welche Antwort passt zur obigen Frage?

Verilen sorunun cevabı aşağıdakilerden hangisidir?

- A) Ich bin immer krank geworden.
B) Er hat gesagt, dass er am Wochenende kommen will.
C) Sie wollte auch an der Versammlung teilnehmen.
D) Ich habe gehört, er habe wieder geheiratet.

12. Anja: Kommt deine Mutter auch mit ins Kino?

Katrin:

Anja: Das ist aber Schade!

Welches ergänzt den obigen Dialog?

Verilen karşılıklı konuşmayı aşağıdakilerden hangisi tamamlar?

- A) Ja, ich habe ihn abgeholt.
B) Nein, ich kenne sie überhaupt nicht.
C) Nein, sie habe keine Lust ins Kino zu gehen.
D) Ja, das Buch hatte ich auch gelesen.

13. Das Mädchen,, wurde 18 Jahre alt.

Welches ergänzt die Lücke im obigen Satz?

Verilen cümleyi aşağıdakilerden hangisi tamamlar?

- A) dessen Geburtstag wir gefeiert haben
B) die ich ein Roman kaufen will
C) der du kennst
D) deren Haare blond sind

14. Der Wein,, soll einen guten Geschmack haben.

Welches ergänzt die Lücke im obigen Satz?

Verilen cümleyi aşağıdakilerden hangisi tamamlar?

- A) dem wir viel bezahlt haben
B) der aus Frankreich kommt
C) die wir im Buch lesen
D) das hier sehr berühmt ist

15. Dieser Roman ist von einem weltberühmten geschrieben worden.

Welches Wort passt in die obige Lücke?

Cümlede boş bırakılan yeri aşağıdakilerden hangisi doğru şekilde tamamlar?

- A) Nachbar
B) Kinder
C) Schriftsteller
D) Schülerin

16. Die Dame, die nebenan wohnt,.....

Welches ergänzt die Lücke im obigen Satz?

Verilen cümleyi aşağıdakilerden hangisi tamamlar?

- A) hattest viel Arbeit.
B) arbeitet an der Hochschule.
C) wurden 10 Jahre alt.
D) gehört die Tasche.

17., den ich heute gekauft habe, schreibt sehr gut.

Welches Wort passt in die obige Lücke?

Cümlede boş bırakılan yeri aşağıdakilerden hangisi doğru şekilde tamamlar?

- A) Der Füller
- B) Das Kind
- C) Die Tasche
- D) Das Kleid

18. Ja, ich kenne den Käse, der aus Holland kommt.

Welche Frage passt zur obigen Antwort?

Verilen cevabı gerektirecek soru aşağıdakilerden hangisidir?

- A) Kann ich ein Kilo holländische Käse haben bitte?
- B) Haben Sie hier Käse aus Holland?
- C) Kennst du den Käse, der aus Holland kommt?
- D) Hast du auch Hunger?

19. Bana hediye ettiğin dolmakalemi çok beğendim.

Wie lautet der obige Satz auf Deutsch?

Verilen cümlenin Almancası aşağıdakilerden hangisidir?

- A) Der Füller, den du mir geschenkt hast, hat mir sehr gut gefallen.
- B) Der Füller, den ich in der Schule gefunden habe, ist teuer.
- C) Das Geschenk, das für mich sein soll, kann ein Füller sein.
- D) Die Geschenke, die nur Füller sind, hätten für dich sein können.

20. Der Chef, Arbeiter sehr viel arbeiten, ist immer nervös.

Welches Wort passt in die obige Lücke?

Cümlede boş bırakılan yeri aşağıdakilerden hangisi doğru şekilde tamamlar?

- A) deren
- B) dieser
- C) dessen
- D) denen

1. A:Is it cloudy now?

B:No, It's windy.

Which of the following completes the dialogue above?

Aşağıdakilerden hangisi yukarıdaki konuşmayı doğru olarak tamamlar?

- A) it isn't
B) it wasn't
C) it didn't
D) it doesn't

2. My brother usually to work but today he because the car has broken down.

Which of the following completes the sentence above?

Aşağıdakilerden hangisi yukarıdaki cümleyi doğru olarak tamamlar?

- A) drive /is walking
B) is driving / walks
C) has driven / walks
D) drives / is walking

3. Theresome books in the schoolbag.

Which of the following completes the sentence above?

Aşağıdakilerden hangisi yukarıdaki cümleyi doğru olarak tamamlar?

- A) are
B) is
C) isn't
D) was

4. Betül often lunch out but now she lunch in the office.

Which of the following completes the sentence above?

Aşağıdakilerden hangisi yukarıdaki cümleyi doğru olarak tamamlar?

- A) eating / eat
B) eats / eats
C) eats / is eating
D) ate / eating

5. We usually visit our family on Saturdays.

Which of the following is the Turkish translation of the sentence above?

Aşağıdakilerden hangisi yukarıdaki cümlenin Türkçe karşılığıdır?

- A) Biz Cumartesi günü genellikle ailemizi ziyaret ediyoruz.
B) Biz Cumartesi günü genellikle ailemizi ziyaret ederiz.
C) Biz Cumartesi günü genellikle ailemizi ziyaret edeceğiz.
D) Biz Cumartesi günü genellikle ailemizi ziyaret ederdik.

6. Ayten:Are you watching TV now?

Banu:No, I'm not. But I sometimesthe quiz shows.

Which of the following completes the dialogue above?

Aşağıdakilerden hangisi yukarıdaki konuşmayı doğru olarak tamamlar?

- A) am watching
B) will watch
C) watches
D) watch

7. Look at the people! They cheerful songs.

Which of the following completes the sentence above?

Aşağıdakilerden hangisi yukarıdaki cümleyi doğru olarak tamamlar?

- A) are singing
B) sing
C) were singing
D) has sing

8. A:What are you doing at the moment?
B:I breakfast with my uncle.

Which of the following completes the dialogue above?

Aşağıdakilerden hangisi yukarıdaki konuşmayı doğru olarak tamamlar?

- A) have
B) had
C) am having
D) was having

9. A:..... do you read books?
B:Always.

Which of the following completes the dialogue above?

Aşağıdakilerden hangisi yukarıdaki konuşmayı doğru olarak tamamlar?

- A) What kind
B) Where
C) How often
D) Who

10. A:What's the weather like now?
B:It's and cold.

Which of the following completes the dialogue above?

Aşağıdakilerden hangisi yukarıdaki konuşmayı doğru olarak tamamlar?

- A) rain
B) sun
C) snow
D) rainy

11. A:Is your sister cooking now?
B:No, she isn't. But she usually

Which of the following completes the dialogue above?

Aşağıdakilerden hangisi yukarıdaki konuşmayı doğru olarak tamamlar?

- A) cook
B) is cook
C) has cooked
D) cooks

12. A:Was Alper at school last Wednesday?
B:Yes,.....

Which of the following completes the dialogue above?

Aşağıdakilerden hangisi yukarıdaki konuşmayı doğru olarak tamamlar?

- A) she was
B) he wasn't
C) he was
D) he is

13. A:Where were you last night?
B:I at home with my wife.

Which of the following completes the dialogue above?

Aşağıdakilerden hangisi yukarıdaki konuşmayı doğru olarak tamamlar?

- A) were
B) was
C) am
D) are

14. A:What Haluk at weekends?
B:He usually goes to the cinema with his friends.

Which of the following completes the dialogue above?

Aşağıdakilerden hangisi yukarıdaki konuşmayı doğru olarak tamamlar?

- A) is /doing
B) do /do
C) does /do
D) was / doing

15. A:What time do you usually get up?
B:I usually at eight o'clock in the mornings.

Which of the following completes the dialogue above?

Aşağıdakilerden hangisi yukarıdaki konuşmayı doğru olarak tamamlar?

- A) get up
B) gets up
C) getting up
D) got up

16. Ali ve Ayşe spend their summer holiday by the sea.

Which of the following is the negative form of the sentence above?

Aşağıdakilerden hangisi yukarıdaki cümlenin olumsuz biçimidir?

- A) Ali ve Ayşe didn't spend their summer holiday by the sea.
 B) Ali ve Ayşe don't spend their summer holiday by the sea.
 C) Ali ve Ayşe doesn't spend their summer holiday by the sea.
 D) Ali ve Ayşe haven't spent their summer holiday by the sea.

17. How much black socks?

Which of the following completes the sentence above?

Aşağıdakilerden hangisi yukarıdaki cümleyi doğru olarak tamamlar?

- A) are these
 B) is this
 C) is it
 D) are they

18. A musician is someone who

Which of the following completes the sentence above?

Aşağıdakilerden hangisi yukarıdaki cümleyi doğru olarak tamamlar?

- A) designs buildings
 B) plays music
 C) looks after animals
 D) travels in space

19. I'm writing a poem now.

Which of the following is the Turkish translation of the sentence above?

Aşağıdakilerden hangisi yukarıdaki cümlenin Türkçe karşılığıdır?

- A) Şu anda bir şiir yazabilirim.
 B) Şu anda bir şiir yazıyorum.
 C) Şu anda bir şiir yazacağım.
 D) Şu anda bir şiir yazdım.

20. A: Is Ahmet playing snowball?

B: No, He's skiing.

Which of the following completes the dialogue above?

Aşağıdakilerden hangisi yukarıdaki konuşmayı doğru olarak tamamlar?

- A) he hasn't
 B) he wasn't
 C) he didn't
 D) he isn't

SEÇMELİ FRANSIZCA 6

A

2013 I.DÖNEM 0101-A

1. C'est le fils de mon oncle, c'est mon

Choisissez le mot qui convient.

Cümledeki boşluğu aşağıdakilerden hangisi doğru şekilde tamamlar?

- A) fiancé
- B) cousin
- C) nièce
- D) tante

2. Ne levez pas tard les matins.

Choisissez le mot qui convient.

Cümledeki boşluğu aşağıdakilerden hangisi doğru şekilde tamamlar?

- A) le
- B) vous
- C) nous
- D) toi

3. Aie fini tes devoirs jusqu'à demain.

Choisissez la traduction qui convient.

Yukarıdaki cümlelerin Türkçe karşılığı aşağıdakilerden hangisidir?

- A) Yarına kadar ödevleri bitireceğim.
- B) Yarın ödevlerim bitmiş olacak.
- C) Yarına kadar ödevlerini bitirmiş ol.
- D) Yarına ödevlerini bitirmen gerekiyor.

4. Attendez cinq minutes.

Choisissez la traduction qui convient.

Yukarıdaki cümlelerin Türkçe karşılığı aşağıdakilerden hangisidir?

- A) Beş dakika zamanınız var.
- B) Beş dakikalık bir iş.
- C) Beş dakika bekleyiniz.
- D) Zamanı iyi kullanmalısınız.

5. Pensez votre père; il est assez agé pour travailler.

Choisissez le mot qui convient.

Cümledeki boşluğu aşağıdakilerden hangisi doğru şekilde tamamlar?

- A) de
- B) en
- C) à
- D) toi

6. Il a un cadeau à sa sœur.

Choisissez le mot qui convient.

Cümledeki boşluğu aşağıdakilerden hangisi doğru şekilde tamamlar?

- A) ramassé
- B) envoyé
- C) préféré
- D) invité

7. tranquille, tout s'arrangera.

Choisissez le mot qui convient.

Cümledeki boşluğu aşağıdakilerden hangisi doğru şekilde tamamlar?

- A) Aie
- B) Regardez
- C) Supprimez
- D) Soyez

8. Ils ne s'entendent pas bien, ils vont

Choisissez le mot qui convient.

Cümledeki boşluğu aşağıdakilerden hangisi doğru şekilde tamamlar?

- A) divorcer
- B) élever
- C) épouser
- D) se marier

9. Claudine n'a pas reçue au Bac.

Choisissez le mot qui convient.

Cümledeki boşluğu aşağıdakilerden hangisi doğru şekilde tamamlar?

- A) ayant
- B) eu
- C) fini
- D) été

10. Ma lettre lue par ma mère.

Choisissez le mot qui convient.

Cümledeki boşluğu aşağıdakilerden hangisi doğru şekilde tamamlar?

- A) a été
- B) font
- C) chez
- D) famille

11. Kapı, Ahmet tarafından açıldı.

Choisissez la traduction qui convient.

Yukarıdaki cümlelerin Fransızca karşılığı aşağıdakilerden hangisidir?

- A) La porte sera ouverte par Ahmet.
- B) La porte a été ouverte par Ahmet.
- C) La porte n'ouvre jamais.
- D) Ahmet a ouvert la porte.

12. Ce livre a acheté par ma sœur.

Choisissez le mot qui convient.

Cümledeki boşluğu aşağıdakilerden hangisi doğru şekilde tamamlar?

- A) été
- B) avait
- C) ont
- D) sera

13. En général, je me à 23 heures.

Choisissez le mot qui convient.

Cümledeki boşluğu aşağıdakilerden hangisi doğru şekilde tamamlar?

- A) couche
- B) suis
- C) promené
- D) rencontré

14. Cette lettre sera écrite Paul Mehmet.

Choisissez les mots qui conviennent.

Cümledeki boşlukları aşağıdakilerden hangisi doğru şekilde tamamlar?

- A) une / à
- B) de / par
- C) à / par
- D) de / à

15. bien s'il vous plaît!

Choisissez le mot qui convient.

Cümledeki boşluğu aşağıdakilerden hangisi doğru şekilde tamamlar?

- A) Peuvent
- B) Où
- C) Visitant
- D) Lisez

16. plus lentement.

Choisissez le mot qui convient.

Cümledeki boşluğu aşağıdakilerden hangisi doğru şekilde tamamlar?

- A) Rencontrez
- B) Taisez-vous
- C) Regardez
- D) Parlez

17. Une famille turque au moyenne de quatre ou cinq personnes.

Choisissez le mot qui convient.

Cümledeki boşluğu aşağıdakilerden hangisi doğru şekilde tamamlar?

- A) se passe
- B) se marie
- C) dépend
- D) se compose

18. une cravate pour ton père!

Choisissez le mot qui convient.

Cümledeki boşluğu aşağıdakilerden hangisi doğru şekilde tamamlar?

- A) Organise
- B) Sois
- C) Achète
- D) Sortant

19. C'est un enfant bien élevé.

Choisissez l'antonyme du mot souligné.

Yukarıdaki cümlede altı çizili kelimenin zıt anlamı aşağıdakilerden hangisidir?

- A) bon
- B) mal
- C) gentil
- D) meilleur

20. Les élèves font le devoir.

Choisissez la forme passive de la phrase ci-dessus.

Yukarıdaki cümlelerin edilgen hali aşağıdakilerden hangisidir?

- A) Le devoir est fait par les élèves.
- B) Le devoir sera fait par les élèves.
- C) Le devoir a été fait par les élèves.
- D) Le devoir était fait par les élèves.

1. Fatma ist 1.85 cm, Ayfer ist 1.70 cm und Ayşe ist 1.60 cm groß. Fatma ist

Welches Wort passt in die obige Lücke?

Cümlede boş bırakılan yeri aşağıdakilerden hangisi doğru olarak tamamlar?

- A) länger als
B) wie lang
C) die kleine
D) am längsten

2. Wie lautet die Grundform von "am meisten"?

"am meisten" sözcüğünün mastar hali aşağıdakilerin hangisinde doğru olarak verilmiştir?

- A) viel
B) lieb
C) mehr
D) gut

3. ist der Berg der Welt.

Welche Wörter passen in die obigen Lücken?

Cümlede boş bırakılan yerleri aşağıdakilerden hangileri doğru şekilde tamamlar?

- A) Carl Lewis / kleinst
B) Mount Everest / höchste
C) Afrika / größte
D) Erciyes / höchster

4. A: geht Ahmet zum Deutschkurs?
B: Ahmet geht zum Deutschkurs, er deutsch

Welches ergänzt die Lücken im obigen Dialog?

Verilen karşılıklı konuşmada boş bırakılan yerleri aşağıdakilerden hangisi tamamlar?

- A) Wozu / um / zu lernen
B) Warum / um / zu lernen will
C) Warum / wie / lernte
D) Wozu / weil / lernen will

5. Wie lautet das Wort "Finanzielle Unterstützung" auf Türkisch?

"Finanzielle Unterstützung" sözcüğünün Türkçe karşılığı aşağıdakilerden hangisidir?

- A) Bireysel bağımsızlık
B) Kişisel çıkarlar
C) Maddi destek
D) Toplumsal harcamalar

6. Frau Krüger:
Sohn: Ich bin gekommen, weil ich Taschengeld brauche.
Frau Krüger: Ach ja, das habe ich vergessen! Hier hast du dein Geld!
Sohn: Danke!

Welches ergänzt den obigen Dialog?

Verilen karşılıklı konuşmayı aşağıdakilerden hangisi tamamlar?

- A) Wohin gehst du?
B) Wo ist deine Tasche?
C) Wann machst du deine Hausaufgaben?
D) Warum bist du gekommen?

7. Wann müssen Angestellte in der Bank manchmal sehr lange Überstunden machen?

Welche Antwort passt zur obigen Frage?

Verilen sorunun cevabı aşağıdakilerden hangisidir?

- A) Jeden Abend kommen wir zusammen.
B) Besonders um die Jahreswende.
C) Der Feierabend erleichtert alle Beamten.
D) Mittags können wir zusammen essen.

8. Die Angestellten in einer Bank können sich in der Pause

Welches Wort passt in die obige Lücke?

Cümlede boş bırakılan yeri aşağıdakilerden hangisi doğru şekilde tamamlar?

- A) öffnen
B) rechnen
C) ausruhen
D) arbeiten

9. Die Herbstmonate sind

Welches ergänzt die Lücke im obigen Satz?

Verilen cümleyi aşağıdakilerden hangisi tamamlar?

- A) der März, der April, der Mai.
B) der September, der Oktober, der November.
C) der Dezember, der Januar, der Februar.
D) der Juni, der Juli, der August.

10. Anton: Ist deine Mutter zu Hause?

Bettina: Nein, sie ist nicht zu Hause.

Anton: Ich, sie wäre zu Hause.

Welches ergänzt die Lücke im obigen Dialog?

Verilen karşılıklı konuşmada boş bırakılan yeri aşağıdakilerden hangisi tamamlar?

- A) dachten
B) dachte
C) dachst
D) dachtet

11. Gehört das Buch nicht deiner Mutter?

Welche Antwort passt zur obigen Frage?

Verilen sorunun cevabı aşağıdakilerden hangisidir?

- A) Nein, das Buch gehört nicht meiner Mutter.
B) Ja, meine Mutter will sich ein Buch kaufen.
C) Nein, meine Mutter ist zu Hause.
D) Ja, mein Buch habe ich in der Schule vergessen.

12. Du kannst dir ein Auto kaufen, das neu auf dem Markt ist.

Welches Wort passt in die obige Lücke?

Cümlede boş bırakılan yeri aşağıdakilerden hangisi doğru şekilde tamamlar?

- A) absolviert
B) gekauft
C) erschienen
D) behaupten

13. Fußballmannschaft / haben / Erfolg / wird / Die

Wie lautet die richtige Reihenfolge der obigen Wörter?

Verilen sözcüklerle oluşturulabilecek kurallı ve anlamlı cümle aşağıdakilerin hangisinde doğru olarak verilmiştir?

- A) Die Fußballmannschaft wird Erfolg haben.
B) Die Erfolg wird Fußballmannschaft haben.
C) Die Fußballmannschaft haben Erfolg wird.
D) Die haben Fußballmannschaft wird Erfolg.

14. Man sagt, die junge Frau noch eine Praktikantin und eine Familie zu versorgen.

Welche Wörter passen in die obigen Lücken?

Cümlede boş bırakılan yerleri aşağıdakilerden hangileri doğru şekilde tamamlar?

- A) war / habest
B) ist / hatten
C) soll / hatte
D) sei / habe

15. Der Film war sehr interessant. Er ist in diesem Jahr

Welches Wort passt in die obige Lücke?

Cümlede boş bırakılan yeri aşağıdakilerden hangisi doğru şekilde tamamlar?

- A) gestartet sein
B) bestehen können
C) gedreht worden
D) bekommen können

16. Hasta olduğu söyleniyor.

Wie lautet der obige Satz auf Deutsch?

Verilen cümlenin Almancası aşağıdakilerden hangisidir?

- A) Man hat gehört, sie wäre krank.
B) Sie wäre krank gewesen.
C) Man sagt, sie sei krank.
D) Sie sei heute krank geworden.

17. A: Hallo! Wie geht es dir?
 B: Hallo ! Gut, ich habe Hunger und gehe essen.
 A: Was willst du essen?
 B: Die Nudeln,....., schmecken mir besonders gut.
 A: Das hört sich wirklich lecker an! Ich komm auch mit!
 B: Also dann, lass uns Nudeln essen!

Welches ergänzt die Lücke im obigen Dialog?

Verilen karşılıklı konuşmada boş bırakılan yeri aşağıdakilerden hangisi tamamlar?

- A) den ich aus Italien kenne
 B) die aus Italien kommen
 C) das wir von Holland kaufen
 D) der eine Spezialität aus der Türkei ist

18. Die Kinder, wir Schokolade geschenkt haben, sich gefreut.

Welche Wörter passen in die obigen Lücken?

Cümlede boş bırakılan yerleri aşağıdakilerden hangileri doğru olarak tamamlar?

- A) denen / haben
 B) den / seien
 C) dessen / hätten
 D) der / hatten

19. Das Mädchen, das du gestern kennengelernt hast,

Welches ergänzt den obigen Satz?

Verilen cümleyi aşağıdakilerden hangisi doğru olarak tamamlar?

- A) neu verheiratet ist.
 B) kommen immer zu uns.
 C) sind sehr reich.
 D) wohnt nebenan.

20. Die Banken waren gestern geschlossen.

Wie lautet der obige Satz auf Türkisch?

Verilen cümlelerin Türkçesi aşağıdakilerden hangisidir?

- A) Bankalar dün kapalıydı.
 B) Bankalar geçici olarak kapatılmış.
 C) Bankalar hafta sonları kapalıdır.
 D) Banka yarın kapalı olacak.

1. They will postpone the meeting.

Which of the following is the passive voice of the sentence above?

Aşağıdakilerden hangisi yukarıdaki cümlenin edilgen yapıda kurulmuş biçimidir?

- A) The meeting will be postponed.
B) The meeting is postponed.
C) The meeting has been postponed.
D) The meeting was postponed.

2. If it rains, we swimming.

Which of the following completes the sentence above?

Aşağıdakilerden hangisi yukarıdaki cümleyi doğru olarak tamamlar?

- A) doesn't go
B) aren't going
C) won't go
D) didn't go

3. We painted the house by

Which of the following completes the sentence above?

Aşağıdakilerden hangisi yukarıdaki cümleyi doğru olarak tamamlar?

- A) themselves
B) yourselves
C) himself
D) ourselves

4. They will construct a new road.

Which of the following is the passive voice of the sentence above?

Aşağıdakilerden hangisi yukarıdaki cümlenin edilgen yapıda kurulmuş biçimidir?

- A) A new road was constructed by them.
B) A new road is constructed by them.
C) A new road will be constructed by them.
D) A new road has been constructed by them.

5. Jill told George, "I have washed your T-shirt."
Jill told George she his T-shirt.

Which of the following completes the sentence above?

Aşağıdakilerden hangisi yukarıdaki cümleyi doğru olarak tamamlar?

- A) has washed
B) had washed
C) washed
D) will wash

6. If I had time, I my grandmother.

Which of the following completes the sentence above?

Aşağıdakilerden hangisi yukarıdaki cümleyi doğru olarak tamamlar?

- A) would have visited
B) visit
C) visiting
D) would visit

7. Nick told Mary, "I enjoyed the party last night."
Nick told Mary that he the party the night before.

Which of the following completes the sentence above?

Aşağıdakilerden hangisi yukarıdaki cümleyi doğru olarak tamamlar?

- A) enjoyed
B) had enjoyed
C) has enjoyed
D) is enjoying

8. paying the bill, George left the restaurant.

Which of the following completes the sentence above?

Aşağıdakilerden hangisi yukarıdaki cümleyi doğru olarak tamamlar?

- A) As
B) After
C) So
D) Where

9. If Mary a seat-belt, she would have been injured in the crash.

Which of the following completes the sentence above?

Aşağıdakilerden hangisi yukarıdaki cümleyi doğru olarak tamamlar?

- A) hadn't been wearing
- B) wore
- C) didn't wear
- D) was wearing

10. Carol has been playing basketball 1995.

Which of the following completes the sentence above?

Aşağıdakilerden hangisi yukarıdaki cümleyi doğru olarak tamamlar?

- A) from
- B) for
- C) ago
- D) since

11. Mary : What shall we do tomorrow night?
Brenda : We go to a movie.

Which of the following completes the dialogue above?

Aşağıdakilerden hangisi yukarıdaki konuşmayı doğru olarak tamamlar?

- A) must have
- B) could
- C) ought
- D) could have

12. I haven't seen him years.

Which of the following completes the sentence above?

Aşağıdakilerden hangisi yukarıdaki cümleyi doğru olarak tamamlar?

- A) after
- B) ago
- C) for
- D) since

13. She talk to her friend in the library.

Which of the following completes the sentence above?

Aşağıdakilerden hangisi yukarıdaki cümleyi doğru olarak tamamlar?

- A) isn't
- B) mustn't
- C) had
- D) shall

14. Jack has already planted trees along the roads.

Which of the following is the passive voice of the sentence above?

Aşağıdakilerden hangisi yukarıdaki cümlelerin edilgen yapıda kurulmuş biçimidir?

- A) Trees are planted along the roads by Jack.
- B) Trees were being planted along the roads by Jack.
- C) Trees had already been planted along the roads by Jack.
- D) Trees have already been planted along the roads by Jack.

15. She probably go to the park tomorrow.

Which of the following completes the sentence above?

Aşağıdakilerden hangisi yukarıdaki cümleyi doğru olarak tamamlar?

- A) will
- B) had
- C) is
- D) have

16. If we found a taxi, we there on time.

Which of the following completes the sentence above?

Aşağıdakilerden hangisi yukarıdaki cümleyi doğru olarak tamamlar?

- A) would get
- B) had got
- C) will get
- D) get

17. Peter to music last night.

Which of the following completes the sentence above?

Aşağıdakilerden hangisi yukarıdaki cümleyi doğru olarak tamamlar?

- A) listened
- B) will listen
- C) have listened
- D) is going to listen

18. getting on the bus, he bought a ticket.

Which of the following completes the sentence above?

Aşağıdakilerden hangisi yukarıdaki cümleyi doğru olarak tamamlar?

- A) So
- B) Whether
- C) Before
- D) Which

19. Bob : Have you visited your grandmother?

Bill : No, I don't have much time her.

Which of the following completes the dialogue above?

Aşağıdakilerden hangisi yukarıdaki konuşmayı doğru olarak tamamlar?

- A) visited
- B) will visit
- C) to visit
- D) can visit

20. Jill : Who will the washing up?

Bob : Well, I won't.

Which of the following completes the dialogue above?

Aşağıdakilerden hangisi yukarıdaki konuşmayı doğru olarak tamamlar?

- A) doing
- B) done
- C) does
- D) do

SEÇMELİ FRANSIZCA 5

A

2013 I.DÖNEM 0101-A

1. Je vois un homme marchant dans la rue.

Choisissez la traduction qui convient.

Yukarıdaki cümlelerin Türkçe karşılığı aşağıdakilerden hangisidir?

- A) Sokakta yürüyen bir adam görüyorum.
B) Bu adamı yürüyüşünden tanıdım.
C) Sokakta yürüyen bir adamı çiziyorum.
D) Bir adamın sokak ortasında durduğunu gördüm.

2. Elle part vacances chaque été.

Choisissez le mot qui convient.

Cümledeki boşluğu aşağıdakilerden hangisi doğru şekilde tamamlar?

- A) à
B) en
C) de
D) les

3. La personne j'ai saluée est mon patron.

Choisissez le mot qui convient.

Cümledeki boşluğu aşağıdakilerden hangisi doğru şekilde tamamlar?

- A) que
B) qui
C) celle
D) celui

4. On peut pique-niquer en forêt quand

Complétez la phrase avec la proposition qui convient.

Yukarıdaki cümleyi aşağıdaki ifadelerden hangisi doğru şekilde tamamlar?

- A) il pleut.
B) il neige.
C) il fait beau.
D) il y a du vent.

5. Choisissez le synonyme du verbe "se distraire".

"Se distraire" fiilinin eş anlamlısı aşağıdakilerden hangisidir?

- A) se reposer
B) s'ennuyer
C) s'amuser
D) s'intéresser

6. malade, elle n'est pas allée à l'école.

Choisissez le mot qui convient.

Cümledeki boşluğu aşağıdakilerden hangisi doğru şekilde tamamlar?

- A) Ayant
B) Marchant
C) Etant
D) Faisant

7. Elle prend son petit déjeuner en la radio.

Choisissez le mot qui convient.

Cümledeki boşluğu aşağıdakilerden hangisi doğru şekilde tamamlar?

- A) regardant
B) étant
C) écoutant
D) partant

8. Elle a oublié son sac voyage.

Choisissez le mot qui convient.

Cümledeki boşluğu aşağıdakilerden hangisi doğru şekilde tamamlar?

- A) chez
B) de
C) des
D) d'une

9. Yorucu bir işim var.

Choisissez la traduction qui convient.

Yukarıdaki cümlelerin Fransızca karşılığı aşağıdakilerden hangisidir?

- A) J'ai une chose à faire.
B) J'aime beaucoup travailler.
C) Ce travail ne me fatigue pas.
D) J'ai un travail fatiguant.

10. les / j'aime / brillantes / lumières
I II III IV

Mettez dans le bon ordre.

Yukarıdaki kelimelerin anlamlı ve kurallı bir bütün oluşturan sırası aşağıdakilerin hangisinde doğru olarak verilmiştir?

- A) II, I, III, IV
B) II, I, IV, III
C) III, IV, II, I
D) III, IV, I, II

11. Tu sais bien qu'il est impossible de contenter tout le monde.

Choisissez la traduction qui convient.

Yukarıdaki cümlelerin Türkçe karşılığı aşağıdakilerden hangisidir?

- A) Herkesi memnun etmenin imkânsız olduğunu bilirsin.
B) Herkesin memnun olması için çalışıyorsun.
C) Çalışmaların herkesi memnun ediyor.
D) İmkânsızlıklara rağmen bu işi başarmın herkesi memnun etti.

12. Ils se sont rencontrés en..... du cinéma.

Choisissez le mot qui convient.

Cümledeki boşluğu aşağıdakilerden hangisi doğru şekilde tamamlar?

- A) sortant
B) regardant
C) courant
D) chantant

13. Le pantolon j'ai acheté était trop cher.

Choisissez le mot qui convient.

Cümledeki boşluğu aşağıdakilerden hangisi doğru şekilde tamamlar?

- A) celui
B) qui
C) où
D) dont

14. Il peut jouer piano.

Choisissez le mot qui convient.

Cümledeki boşluğu aşağıdakilerden hangisi doğru şekilde tamamlar?

- A) au
B) de la
C) de
D) du

15. Tu partiras comment?, ou en groupe?

Choisissez le mot qui convient.

Cümledeki boşluğu aşağıdakilerden hangisi doğru şekilde tamamlar?

- A) À l'étranger
B) Quand
C) Organiser
D) Seul

16. Pierre va faire du ski cet

Choisissez le mot qui convient.

Cümledeki boşluğu aşağıdakilerden hangisi doğru şekilde tamamlar?

- A) automne
B) hiver
C) printemps
D) été

17. -
- Oui, je joue au basket chaque semaine.

Choisissez la question qui convient.

Yukarıdaki konuşmada cevabı gerektiren soru aşağıdakilerden hangisidir?

- A) Quel sport aimez-vous?
B) Vous jouez au tennis?
C) Depuis quand vous pratiquez ce sport?
D) Vous pratiquez régulièrement un sport?

18. La femme vient est ma tante.

Choisissez le mot qui convient.

Cümledeki boşluğu aşağıdakilerden hangisi doğru şekilde tamamlar?

- A) que
B) qui
C) où
D) dont

19. J'ai vu mon neveu venant de l'école.

Choisissez la traduction qui convient.

Yukarıdaki cümlelerin Türkçe karşılığı aşağıdakilerden hangisidir?

- A) Yeğenimi okuldan gelirken gördüm.
B) Yeğenimi okulda gördüm.
C) Yeğenimi okula götürdüm.
D) Yeğenimle okuldan birlikte döndük.

20. La maison où ils habitaient était très vieille.

Choisissez la traduction qui convient.

Yukarıdaki cümlelerin Türkçe karşılığı aşağıdakilerden hangisidir?

- A) Eski bir evde oturuyorlar.
B) Oturdıkları ev eski eşyalarla dolu.
C) Oturdıkları ev çok eskiydi.
D) Oturdıkları mahallede evler genelde eskiydi.

SINAVDA UYGULANACAK KURALLAR

1. Sınav süresince görevlilerle konuşmak ve soru sormak yasaktır. Aynı şekilde görevlilerin de öğrencilerle yakından ve alçak sesle konuşmaları yasaktır. Yanınızda ve sıranızda dersle ilgili kitap not vb. bulundurmak yasaktır. Sınav sırasında kopya yapan, yapmaya teşebbüs eden, kopya veren, kopya yapılmasına yardım edenlerin kimlikleri BİREYSEL SINAV İPTAL TUTANAĞINA yazılacak ve bu öğrencilerin sınavları geçersiz sayılacaktır. Görevliler kopya yapmaya veya vermeye kalkışanları uyarmak zorunda değildir, sorumluluk size aittir.
Sınavda yetki verilmiş görevliler, bu salondaki sınavın kurallara uygun biçimde yapılmadığını, toplu kopya girişiminde bulunulduğunu raporlarında bildirdikleri veya üniversite sınav merkezince yapılan incelemeler sonucu toplu kopya yapıldığı saptandığı takdirde, Anadolu Üniversitesinin yetkili organları bu salonda sınava giren öğrencilerin tümünün sınavını geçersiz sayar.
2. Öğrenciler sınav sırasında görevlilerin her türlü uyarılarına uymak zorundadır. Gerekğinde görevliler oturduğunuz yerleri değiştirebilir. Sınavınızın geçerli sayılması, her şeyden önce sınav kurallarına uymanıza bağlıdır. Kurallara aykırı davranışta bulunanların ve yapılacak uyarılara uymayanların kimlikleri BİREYSEL SINAV İPTAL TUTANAĞINA yazılacak ve sınavları geçersiz sayılacaktır.
3. Sınav sırasında herhangi bir nedenle dışarı çıkmak yasaktır. Sınavın başlamasını izleyen ilk 30 dakika ve sınav süresinin son 5 dakikası içinde, sınavlarını tamamlasalar bile hiçbir öğrencinin salondan çıkmasına izin verilmeyecektir. Sınavın başlamasını izleyen ilk 15 dakikadan sonra hiç bir öğrenci sınava alınamaz.
4. Biraz sonra soru kitapçıkları dağıtılacaktır. Cevaplamaya geçmeden önce size verilecek soru kitapçığının üzerinde ayrılan yere, adınızı, soyadınızı, öğrenci numaranızı ve bu salonun numarasını yazınız. Sınav sonunda soru kitapçıkları toplanacak ve sınav merkezinde tek tek incelenecektir. Soru Kitapçığının bir tek sayfası eksik çıksa bile sınavınız geçersiz sayılacaktır.
5. Size verilen Cevap Kâğıdının üzerinde yazan numara ve ismin size ait olduğunu kontrol ediniz. Cevap Kâğıdı size ait değilse, görevlileri uyarıp size ait Cevap Kâğıdını alınız. Daha sonra Cevap Kâğıdı üzerinde ayrılmış olan yerlere öğrenci numaranızı ve test grubunuzu kodlayınız, adınızı soyadınızı yazınız ve ilgili yeri imzalayınız.
6. Cevap Kâğıdına yazılacak her türlü yazı, rakam ve yapılacak işaretlemeler için siyah kurşun kalem kullanılacaktır. Tükenmez kalem veya dolmakalem kesinlikle kullanılmayacaktır. Cevapların tümü CEVAP KÂĞIDINA İŞARETLENECEKTİR. Soru Kitapçıkları üzerine yapılan işaretlemeler kesinlikle değerlendirilmez. Her dersin cevabı, o dersin isminin yazılı olduğu sütuna işaretlenmelidir. Yanlış sütuna yapacağınız işaretlemeler kesinlikle değerlendirilmez.
7. Soru Kitapçığının sayfalarındaki boş yerleri müsvedde yapmak için kullanabilirsiniz. Başka bir kâğıdı müsvedde olarak kullanmak yasaktır. Bu tür işlemleri yapanların sınavları geçersiz sayılır.
8. Öğrencilerin sorulara verdikleri yanıtları herhangi bir yere yazmaları ve bunu sınav salonundan dışarıya çıkarmaları yasaktır. Bu kurala uymayanların sınavları geçersiz sayılır.
9. Sınav sırasında öğrencilerin birbirinden kalem, silgi vb. şeyleri istemesi kesinlikle yasaktır. Yasağa uymayanların sınavı geçersiz sayılır.
10. Sınav sırasında hesap makinesi kullanılabilir. Ancak, hesap makinesinin sınav sırasında ödünç alınması, verilmesi ve değiştirilmesi yasaktır. (Data Bank vb. gibi özel elektronik donanımlar kullanılamaz.) Bu tür davranışlarda bulunanların sınavları geçersiz sayılır.
11. Öğrenciler sınava gelirken telsiz, cep telefonu, çağrı cihazı vb. iletişim araçları ile görüntü kaydetmeye yarayan fotoğraf makinesi, kamera vb. araçları getirmemeleri konusunda sınava giriş belgelerinde uyarılmışlardır. Buna rağmen yanlarında bu tür cihazları getirenlerin, bunları sınav sonrasında almak üzere salon başkanına teslim etmeleri gerekir. Bu cihazları sınav salonunda yanlarında bulunduran öğrencilerin, cihazları kapalı bile olsa, o oturdaki sınavı geçersiz sayılacaktır. Bu cihazların kaybolmasından Üniversitemiz sorumlu olmayacaktır.
12. Biraz sonra dağıtılacak olan soru kitapçığında test ile ilgili açıklamalar yazılıdır. Bu açıklamaları okumadan ve size "SINAV BAŞLAMISHTIR" denmeden soruları cevaplamaya başlamayınız.

SINAVLARINIZDA BAŞARILAR DİLERİZ.