



ANADOLU ÜNİVERSİTESİ  
AÇIKÖĞRETİM FAKÜLTESİ  
BA - AÇIKÖĞRETİM OKULLARI

T.C. MİLLİ EĞİTİM BAKANLIĞI  
Hayat Boyu Öğrenme Genel Müdürlüğü  
AÇIK ÖĞRETİM LİSESİ – BATI AVRUPA PROGRAMI  
2012-2013 ÖĞRETİM YILI I.DÖNEM SINAVI  
ÜÇÜNCÜ OTURUM - Cumartesi 13.00

TEST GRUBUNUZ

**A** **0103**

CEVAP KÂĞIDINIZA İŞARETLEMİYİ UNUTMAYINIZ.

**ÖĞRENCİNİN**

SOYADI : .....

ADI : .....

ÖĞRENCİ NO : .....

SINAV SALON NO: ..... SIRA NO: .....

Soyadınızı, adınızı, öğrenci numaranızı, salon ve sıra numaranızı yukarıya yazmayı unutmayınız.

**GENEL AÇIKLAMA**

1. Bu soru kitapçığındaki testler şunlardır:

Testin Adı	Soru Sayısı	Sayfa No	Testin Adı	Soru Sayısı	Sayfa No
DİN KÜLTÜRÜ VE AHLAK BİLGİSİ 3	20	2	ÇAĞDAŞ TÜRK VE DÜNYA TARİHİ 1	20	34
FELSEFE 1	20	4	EKONOMİ 2	20	36
TARİH 1	20	6	İŞLETME 1	20	38
TARİH 5	20	8	MANTIK 2	20	40
COĞRAFYA 1	20	11	GEOMETRİ 4	20	42
COĞRAFYA 3	20	13	ALMANCA 6	20	46
ALMANCA 4	20	15	İNGİLİZCE 6	20	49
İNGİLİZCE 4	20	18	FRANSIZCA 6	20	52
FRANSIZCA 4	20	21	SEÇMELİ TARİH 3	20	54
DİL VE ANLATIM 1	20	23	SEÇMELİ DİL VE ANLATIM 5	20	56
TÜRK EDEBİYATI 5	20	25			
TÜRK EDEBİYATI 2	20	27			
FİZİK 2	20	29			
KİMYA 5	20	32			

2. Bu kitapçıkta yer alan her bir test için cevaplama süresi **30** dakika, toplam sınav süresi **150** dakikadır.
3. Cevaplamaya istediğiniz testin, istediğiniz sorusundan başlayabilirsiniz. Yalnız cevaplarınızı, cevap kâğıdında o test için ayrılmış olan bölümdeki aynı numaralı cevap yerine işaretlemeyi unutmayınız.
4. Cevaplarınızı koyu siyah ve yumuşak bir kurşunkalemle işaretleyiniz. İşaretinizi cevap yerinin dışına taşırmayınız. Tükenmez veya mürekkepli kalem kullanmayınız.
5. Değiştirmek istediğiniz bir cevabı yumuşak bir silgi ile, cevap kâğıdını örselemeden temizce siliniz ve doğru cevabınızı işaretlemeyi unutmayınız.
6. Cevap kâğıdınızı buruşturmayınız, katlamayınız ve üzerine gereksiz hiçbir işaret koymayınız.
7. Bu kitapçıkta her sorunun bir tek doğru cevabı vardır. Bir soru için birden çok cevap yeri işaretlenmişse o soru yanlış cevaplanmış sayılacaktır.
8. Cevaplarınız puanlanırken her doğru cevabınıza eşit puan verilecek, yanlış cevaplarınız dikkate alınmayacaktır. Bu nedenle kitapçıkta tüm sorular için size doğru gelen seçeneği işaretleyerek cevapsiz soru bırakmamanız yararınıza olacaktır.
9. Kitapçığın sayfalarındaki boş yerleri müsvedde için kullanabilirsiniz.

Anadolu Üniversitesi tarafından hazırlanmış olan bu testlerin her hakkı saklıdır. Hangi amaçla olursa olsun, testlerin tamamının veya bir kısmının Anadolu Üniversitesi'nin yazılı izni olmadan kopya edilmesi, fotoğraflarının çekilmesi, herhangi bir yolla çoğaltılması, yayımlanması ya da kullanılması yasaktır. Bu yasağa uymayanlar gerekli cezai sorumluluğu ve testlerin hazırlanmasındaki mali külfeti peşinen kabullenmiş sayılır.

1. Tabiat olayları ile ilgilenen meleğe ne ad verilir?

- A) Münker
- B) Azrail
- C) Mikâil
- D) İsrail

2. İbadetler kaç çeşittir?

- A) 2
- B) 3
- C) 4
- D) 5

3. Kur'an okumak aşağıdakilerden hangisine bir örnektir?

- A) Sünnet
- B) Farz
- C) Vacip
- D) Mubah

4. İkinci namazı kaç rekattır?

- A) 2
- B) 4
- C) 6
- D) 8

5. Kendisine kutsal kitap verilmeyip kendisinden önceki kitaplara uymak zorunda olan peygamberlere ne ad verilir?

- A) Nebi
- B) Resul
- C) Sahabe
- D) Veli

6. Hz.Muhammed kaç yılında vefat etmiştir?

- A) 596
- B) 615
- C) 632
- D) 710

7. Temel iman esasları kaç tanedir?

- A) 1
- B) 2
- C) 4
- D) 6

8. Kur'an-ı Kerim hangi melek aracılığıyla gönderilmiştir?

- A) Azrail
- B) Cebrail
- C) Mikail
- D) İsrail

9. Hz. Muhammed'e "Muhammedül Emin" ismi hangi özelliğinden dolayı verilmiştir?

- A) Sabırlı olması
- B) Yardımsever olması
- C) Alçakgönüllü olması
- D) Güvenilir olması

10. Haccın kaç şartı vardır?

- A) 1
- B) 2
- C) 3
- D) 4

11. Aşağıdakilerden hangisi farz namazlarından biri değildir?

- A) Sabah namazı
- B) İkinci namazı
- C) Cenaze namazı
- D) Vitir namazı

12. İmandan sonra yapılması gereken ilk ve en önemli farz aşağıdakilerden hangisidir?

- A) Beş vakit namaz kılmak
- B) Oruç tutmak
- C) Zekat vermek
- D) Hac'a gitmek

13. Kur'an-ı Kerim'in tercümesine ne ad verilir?

- A) Kıyas
- B) Sünnet
- C) İcma
- D) Meal

14. Kur'an-ı Kerim'de kaç peygamberin adı geçmektedir?

- A) 13
- B) 25
- C) 37
- D) 48

15. Kur'an da kaç sure vardır?

- A) 100
- B) 110
- C) 114
- D) 120

16. "Sırat-ı Müstakim" in kelime anlamı nedir?

- A) Doğru yol
- B) Güzel ahlâk
- C) Müjdeli haber
- D) Allah'ın birliği

17. Tövbenin kaç şartı vardır?

- A) 2
- B) 3
- C) 4
- D) 5

18. Kâbe'nin etrafında yedi kez dönmeye ne ad verilir?

- A) Tavaf
- B) İhram
- C) Vakfe
- D) Sa'y

19. Hacca gidenlerin özel giyim şekline ne ad verilir?

- A) Vakfe
- B) Tavaf
- C) İhram
- D) Sa'y

20. Kıyametten sonra yeniden diriliş ile başlayan ve sonsuza kadar sürecek olan zamana ne ad verilir?

- A) Haşir
- B) Ahiret
- C) Kaza
- D) Mizan

1. “Dünyadaki değişme mekanik olarak değil, diyalektik yasalara göre ani sıçramalar yoluyla gerçekleşir” görüşünü ifade eden düşünür aşağıdakilerden hangisidir?
  - A) Marx
  - B) Husserl
  - C) Comte
  - D) Hegel
2. “Kanun” adlı eser aşağıdakilerden hangisine aittir?
  - A) Gazali
  - B) Mevlana
  - C) Yunus Emre
  - D) Birûnî
3. Bilginin kaynağında tecrübenin, deneyin bulunduğunu savunan düşünür aşağıdakilerden hangisidir?
  - A) Locke
  - B) Hobbes
  - C) Whitehead
  - D) Descartes
4. Varlığın var olup olmadığı, ruh, tanrı, öteki dünya, ölümsüzlük gibi felsefenin ilk ve son sorunlarıyla uğraşan alanı aşağıdakilerden hangisidir?
  - A) Astroloji
  - B) Ontoloji
  - C) Metafizik
  - D) Astrofizik
5. Aşağıdakilerden hangisi duyularla kavranamayan, zaman ve mekân dünyasında yer almayan varlıklar üzerinde çalışan bir bilim dalıdır?
  - A) Kimya
  - B) Matematik
  - C) Fizik
  - D) Biyoloji
6. Aşağıdakilerden hangisi materyalizmi savunan düşünürlerden biri değildir?
  - A) Demokritos
  - B) Spencer
  - C) Hobbes
  - D) Mettrie
7. Dış dünyadaki varlıkların madde ve form olmak üzere iki ögeden oluştuğunu savunan düşünür aşağıdakilerden hangisidir?
  - A) Parmenides
  - B) Protogoras
  - C) Gorgias
  - D) Aristoteles
8. Felsefesini hem emprizme hem de rasyonalizme dayandıran görüş aşağıdakilerden hangisidir?
  - A) Pozitivizm
  - B) Septisizm
  - C) Entüisyonizm
  - D) Kritisizm
9. Ontoloji terimini ilk kullanan düşünür aşağıdakilerden hangisidir?
  - A) Fichte
  - B) Hegel
  - C) Wolff
  - D) Schelling
10. Aşağıdakilerden hangisi “bilimsel bilgi”nin özelliklerinden biri değildir?
  - A) Olgusaldır.
  - B) Mantıksaldır.
  - C) Sübjektiftir.
  - D) Eleştiricidir.
11. Hiçbir şeyin var olmadığını, hiçbir şeyin bilinemeyeceğinin savunan felsefi öğretiyeye ne ad verilir?
  - A) Nihilizm
  - B) Mantıkçılık
  - C) Kuramcılık
  - D) Ontoloji
12. Evrenin ana maddesinin su olduğunu, her şeyin sudan oluştuğunu ve yine suya dönüşeceğini savunan düşünür aşağıdakilerden hangisidir?
  - A) Demokritos
  - B) Platon
  - C) Thales
  - D) Herakleitos

13. Doğruluğu ve gerçekliği tek yanlı olarak yalnızca eylemlerin sonuçları ile değerlendiren ve onları yalnızca sağladığı "fayda" açısından değerlendiren akım aşağıdakilerden hangisidir?

- A) Emprizm
- B) Pragmatizm
- C) Rasyonalizm
- D) Nihilizm

14. Bilginin ne olduğunu, nasıl ve ne yollardan elde edildiğini araştıran felsefe dalı aşağıdakilerden hangisidir?

- A) Ontoloji
- B) Antropoloji
- C) Rasyonalizm
- D) Epistemoloji

15. Felsefenin sözcük anlamı aşağıdakilerden hangisidir?

- A) Zekâ
- B) Akıl
- C) Ahlak
- D) Bilgelik sevgisi

16. Varlığı fenomen olarak gören ve bundan yola çıkarak, fenomenoloji akımını kuran düşünür aşağıdakilerden hangisidir?

- A) Hegel
- B) Marx
- C) Husserl
- D) Lamarck

17. I. Teolojik evre  
II. Metafizik evre  
III. Pozitif evre

Comte'un üç hal yasasına göre insan düşüncesinin geçtiğini savunduğu yukarıdaki üç evre, aşağıdakilerden hangisinde doğru sıralanmıştır?

- A) I, II ve III
- B) I, III ve II
- C) II, III ve I
- D) III, II ve I

18. Aşağıdakilerden hangisi felsefe bilgisinin özelliklerinden biri değildir?

- A) Evrensel olması
- B) Rastlantıya dayanması
- C) Kümülatif olması
- D) Birleştirici ve bütünleştirici olması

19. İnsan zihninden bağımsız bir gerçekliğin var olduğunu savunan felsefi öğretiyne ne ad verilir?

- A) Realizm
- B) Septisizm
- C) Ampirizm
- D) Kritisizm

20. Sınırları önceden belirlenmiş bir alanda, bilmek amacıyla genel geçer bilgiye ulaşmak için sistemli olarak belli bir yöntemle elde edilen bilgiye ne ad verilir?

- A) Sanat bilgisi
- B) Bilimsel bilgi
- C) Gündelik bilgi
- D) Teknik bilgi

1. Aşağıdakilerden hangisi tarihe yardımcı bilimlerden olan kronolojinin inceleme alanıdır?
  - A) Anıtlar, kitabeler ve tabletler
  - B) Eski yazı çeşit ve türleri
  - C) Eski paralar
  - D) Olayların, zamanını bildirerek sıralanması
  
2. Tarihe yardımcı bilimlerden olan arkeolojinin araştırma alanı aşağıdakilerden hangisidir?
  - A) İnsanların siyasal, sosyal, kültürel ve ekonomik faaliyetleri
  - B) Eski medeniyetlerden günümüze kalan her türlü eser, kalıntı ve bilgiler
  - C) Eski paralar
  - D) İnsanların savaş tarihi
  
3. Aşağıdakilerden hangisi tarihe yardımcı bilimlerden antropolojinin araştırma alanıdır?
  - A) Yazılı eserleri dil açısından inceleme ve yorumlama
  - B) Eski yazı ve türleri
  - C) Olayların zamanını bildirerek sıralaması
  - D) İnsanların ırk yapısı
  
4. Aşağıdakilerden hangisi konuya göre sınıflandırılmış tarihe bir örnektir?
  - A) Kanuni dönemi tarihi
  - B) Hukuk tarihi
  - C) On beşinci yüzyıl tarihi
  - D) Asya tarihi
  
5. Tarih ile ilgili aşağıdaki ifadelerden hangisi yanlıştır?
  - A) Tarihi bir olay nedeni ve sonuçları bilinmeden tam olarak anlaşılamaz.
  - B) Tarihi olaylar incelenirken olayın meydana geldiği zaman, coğrafi mekân ve dönemin şartları bilinmelidir.
  - C) Tarihi olaylar kesintili bir şekilde devam eder.
  - D) Tarihin konusu insan faaliyetleridir.
  
6. Tarih biliminin yönteminde; elde edilen verilerin değerlendirildikten sonra tarih metoduna uygun olarak birleştirilmesine ne ad verilir?
  - A) Tenkit
  - B) Terkip
  - C) Tasnif
  - D) Tahlil
  
7. Büyük Selçuklu Sultanı Melikşah'ın isteği ile Nizamülmülk tarafından Ömer Hayyam'ın başkanlığında bir komisyona hazırlatılan, güneş yılını esas alan takvim aşağıdakilerden hangisidir?
  - A) Rumi takvim
  - B) Celali takvim
  - C) 12 hayvanlı Türk takvim
  - D) Mali takvim
  
8. Aşağıdakilerden hangisi Anadolu'da kurulan uygarlıklardan biri değildir?
  - A) Frig
  - B) Lidya
  - C) Fenike
  - D) Urartu
  
9. Gordion, Anadolu'da kurulan hangi devletin merkezidir?
  - A) Hititler
  - B) Lidyalılar
  - C) Frigler
  - D) Persler
  
10. İlkçağda Anadolu'nun batı kıyılarında Milet, Efes ve Foça şehir devletlerini aşağıdakilerden hangisi kurmuştur?
  - A) İyonyalılar
  - B) Lidyalılar
  - C) Frigyalılar
  - D) Hititler
  
11. Mısır'ı idare eden krallara ne ad verilir?
  - A) Firavun
  - B) Lugal
  - C) Hakan
  - D) Tiran

12. Yazının icadından önceki devirlere genel olarak ne ad verilir?

- A) Taş Devri
- B) Kalkolitik Devir
- C) Eski Taş Devri
- D) Prehistorik Devirler

13. Aşağıdakilerden hangisi Mezopotamya uygarlıklarından biri değildir?

- A) İyonyalılar
- B) Asurlular
- C) Sümerler
- D) Akadlar

14. Orhun kitabeleri hangi Türk hükümdarı döneminde yazılmıştır?

- A) Bilge Kağan
- B) Bumin Kağan
- C) İstemi Han
- D) Elteriş Kağan

15. İkinci Göktürk Devleti'nin kurucusu aşağıdakilerden hangisidir?

- A) Mukan Kağan
- B) Mete Kağan
- C) Kutluk Kağan
- D) Bumin Kağan

16. Aşağıdakilerden hangisi İkinci Göktürk Devletini yıkan devletlerden biridir?

- A) Karluk
- B) Hun
- C) Hazar
- D) Avar

17. Yerleşik hayata geçen ilk Türk devleti aşağıdakilerden hangisidir?

- A) Avarlar
- B) Kırgızlar
- C) Göktürkler
- D) Uygurlar

18. Aşağıdakilerden hangisi Türklerin Orta Asya'dan göç etme nedenlerinden biri değildir?

- A) Türk boylarının birbirleriyle mücadele etmeleri
- B) Orta Asya'da yaşayan Türklerin yerleşik hayata geçmek istemeleri
- C) Kuraklık ve iklim şartlarının değişmesi
- D) Nüfusun artması, otlakların azalması

19. Aşağıdakilerden hangisi Türklerin ilk anayurdu olarak kabul edilir?

- A) İran
- B) Mezopotamya
- C) Orta Asya
- D) Anadolu

20. 552 yılında Bumin Kağan'ın kurduğu Göktürk Devleti'nin başkenti aşağıdakilerden hangisidir?

- A) Hattuşaş
- B) Aşkabat
- C) Buhara
- D) Ötüken

1. Orta Asya uygarlığında ilk defa demir madeninin işlendiği kültür aşağıdakilerden hangisidir?

- A) Andronova
- B) Afanasyova
- C) Kelteminar
- D) Karasuk

2. Anav kültürü ile ilgili aşağıdaki ifadelerden hangisi doğrudur?

- A) Elde edilen bilgilere göre koyun, keçi, sığır ve deve gibi hayvanları besledikleri bilinmektedir.
- B) Ele geçen buluntular bu kültüre mensup insanların dokumayı ve seramik eşya yapmayı bildiklerini gösterir.
- C) Orta Asya'nın en eski kültürüdür.
- D) Bu kültür Aral Gölünün güneyi Ceyhun Nehri havzasında yapılan kazılarda ortaya çıkarılmıştır.

3. Firdevsi'nin Şehname adlı eserinde Efrasiyap adıyla geçen hükümdarın ismi aşağıdakilerden hangisidir?

- A) Alp Er Tunga
- B) Seyit Battal Gazi
- C) Atilla
- D) Bilge Kağan

4. İskitler ile ilgili aşağıdaki ifadelerden hangisi yanlıştır?

- A) Sürüler halinde koyun ve sığır besleyen İskitlerin ekonomisi, büyük ölçüde hayvancılığa dayanıyordu.
- B) Herodot tarihinde çok medeni bir millet oldukları, dışçilikte ve çıkıkları sarmakta usta oldukları belirtilir.
- C) Orta Asya kökenli atlı-göçebe bir topluluktur.
- D) Siyasi tarihleri MS III. yy'a kadar devam etmiştir.

5. Afanasyevo kültürü ile olan benzerliğinden dolayı onun gelişmiş bir devamı olarak da kabul edilen kültür aşağıdakilerden hangisidir?

- A) Karasuk
- B) Tagar
- C) Andronova
- D) Kelteminar

6. İskitlere İranlıların verdiği ad aşağıdakilerden hangisidir?

- A) Sibir
- B) Sabar
- C) Sagu
- D) Saka

7. Türklerin Orta Asya'daki en eski kültürüne ne ad verilir?

- A) Afanasyevo kültürü
- B) Kelteminar kültürü
- C) Andronova kültürü
- D) Anav kültürü

8. Mete Büyük Hun Devleti'nin başına geçtiğinde ilk askeri seferini aşağıdakilerden hangisi üzerine yaptı?

- A) Tung-hular
- B) Çin
- C) Yüeciler
- D) İskitler



9. I. Göktürk Devleti aşağıdakilerden hangisi ile yaptığı savaşı kazandıktan sonra kurulmuştur?

- A) Asya Hunları
- B) İskitler
- C) Avarlar
- D) Moğollar

10. İstemi Yabgu'nun 568'de İstanbul'a bir elçilik heyeti göndermesi ile başlayan Bizans-Göktürk ittifakı aşağıdakilerden hangisinin İpek Yolu üzerindeki denetimini kaldırmak için yapılmıştır?

- A) Akhunlar
- B) Uygurlar
- C) Sasaniler
- D) Basmiller

11. Avrupa'nın etnik yapısının değişmesine neden olan ve tarihte Kavimler Göçü olarak adlandırılan olaya neden olan kavim aşağıdakilerden hangisidir?

- A) Lombardlar
- B) Hunlar
- C) Franklar
- D) Ostrogotlar

12. Atilla döneminde Oktar komutasındaki bir Hun ordusunun Burgondlara karşı büyük bir zafer kazandıktan sonra Hun-Burgond mücadelesi ile ilgili olarak zamanla oluşturulan efsane aşağıdakilerden hangisidir?

- A) Alp Er Tunga
- B) Nibelungen
- C) Mahabarata
- D) Digenis Akrites

13. Birbirinden ayrı yaşayan Türk boylarını birleştirerek tarihte ilk Türk birliğini sağlayan 11 yıl hükümdarlık yapan Çin kaynaklarında Şanyü veya Tanhu unvanları ile de anılan hükümdar aşağıdakilerden hangisidir?

- A) Mete
- B) Atilla
- C) Kutluk Kağan
- D) Teoman

14. Kuzey ve Güney Hunları arasında en önemli fark aşağıdakilerden hangisidir?

- A) Güney Hunlarının hayvancılıkla uğraşıp göçebe hayatlarına devam ederken, Kuzey Hunlarının tarım yaparak yerleşik hayata geçmeleri
- B) Güney Hunlarının Çin'in güneyine göç etmeleri, Kuzey Hunlarının ise Avrupa'ya göç etmeleri
- C) Güney Hunlarının Çin'e tabi olmasına karşılık, Kuzey hunlarının bağımsızlıklarını korumak için mücadele etmeleri
- D) Güney Hunlarının Şamanist olmaları, Kuzey Hunlarının Gök-Tanrı inancına sahip olmaları

15. Hunlar, Atilla'nın oğlu İrnek idaresinde Kuzey Karadeniz sahillerine gelerek orada yaşayan Ogur Türkleri ile karıştıktan sonra karışık anlamına gelen aşağıdaki isimlerden hangisi ile anılmaya başladılar?

- A) Utigur
- B) İtil
- C) Bulgar
- D) Kutigur

16. Aşağıdakilerden hangisi Türgiş Devleti'ne son vermiştir?

- A) Uzlar
- B) Karluklar
- C) Peçenekler
- D) Kıpçaklar

17. Aşağıdakilerden hangisi ilk Türk devletlerinde, devlet işlerinin görüşülüp karara bağlandığı meclise verilen adlardan biri değildir?

- A) Kurultay
- B) Tudun
- C) Kengeş
- D) Toy

18. İlk Türk devletlerinde toplumun yapısı ile ilgili Orhun Yazıtlarında geçen Oğuş sözcüğü ne anlama gelir?

- A) Aile
- B) Sülale
- C) Boylar Birliği
- D) Devlet

19. Batı Göktürk topluluklarından biri olan Kimekler'in bir kolu olan, Arapların Kıpçak olarak adlandırdığı Türk kavmi aşağıdakilerden hangisidir?

- A) Kumanlar
- B) Peçenekler
- C) Karluklar
- D) Bulgarlar

20. Kuzey Kafkasya ve Kuzey Karadeniz yoluyla Tuna boylarını ele geçiren, Bizans ile ilişkiler kurup onları vergiye bağlayan, daha sonra bugünkü Romanya'ya giren ve 562 yılında Macaristan'a yerleşerek başlarında Bayan Han'ın bulunduğu bir devlet kuran Türk kavmi aşağıdakilerden hangisidir?

- A) Sabarlar
- B) Avarlar
- C) Hazarlar
- D) Kumanlar

1. **Buzul çağı ve buzul sonrası dönemlerin yaşandığı çağ aşağıdakilerden hangisidir?**
  - A) Paleozoik
  - B) Mezozoik
  - C) Neozoik
  - D) Prekambrien
2. **Başlangıç meridyeni olarak belirlenmiş olan 0° meridyeni aşağıdakilerden hangisinin yakınından geçer?**
  - A) Moskova
  - B) Tahran
  - C) Londra
  - D) Viyana
3. **21 Mart 23 Eylül tarihlerinde Dünyanın her yerinde gece ve gündüz sürelerin birbirine eşit olmasına ne ad verilir?**
  - A) İzohips
  - B) Ölçek
  - C) Ekliptik
  - D) Ekinoks
4. **Haritalarda ölçek küçüldükçe aşağıdakilerden hangisi meydana gelir?**
  - A) Belirli bir yüzey üzerine sığdırılması mümkün olan ayrıntılar o derece artar.
  - B) Belirli bir yüzey üzerine sığdırılması mümkün olan ayrıntılar o derece azalır.
  - C) Belirli bir yüzey üzerine sığdırılması mümkün olan arazi küçülür.
  - D) Mücessem küre adıyla anılan yuvarlak haritaların yapımı kolaylaşır.
5. **Dünya'nın kutuplardan basık, Ekvator'da şişkin şekline ne ad verilir?**
  - A) Küre
  - B) Geoit
  - C) Ekliptik
  - D) Eksen
6. **Çapı ve çevresi en uzun paralel dairesi aşağıdakilerden hangisidir?**
  - A) Yengeç dönencesi
  - B) Oğlak dönencesi
  - C) 45° Kuzey enlemi
  - D) Ekvator
7. **Bir yamacın Güneş'in karşısındaki konumuna ne ad verilir?**
  - A) İklim
  - B) Yörünge
  - C) Bakı
  - D) Ekvator
8. **Hava olaylarının oluştuğu ortamın harekete geçmesini sağlayan temel güç aşağıdakilerden hangisidir?**
  - A) Basınç
  - B) Rüzgâr
  - C) Sıcaklık
  - D) Nemlilik
9. **Aşağıdaki ölçeklerden hangisi harita üzerinde ayrıntıları daha fazla gösterir?**
  - A) 1:100 000
  - B) 1:200 000
  - C) 1:300 000
  - D) 1:400 000
10. **Aşağıdakilerden hangisi atmosfer, iklim ve iklim elemanlarını inceleyen coğrafyanın koludur?**
  - A) Jeomorfoloji
  - B) Klimatoloji
  - C) Hidrografya
  - D) Biyocoğrafya
11. **Aşağıdaki gazlardan hangisinin atmosferdeki oranı en yüksektir?**
  - A) Oksijen
  - B) Azot
  - C) Hidrojen
  - D) Ozon
12. **Birbiri ardından gelen iki meridyen arasındaki uzaklık kaç dakikadır?**
  - A) 4
  - B) 15
  - C) 30
  - D) 40

13. Dünya, kendi eksenini çevresindeki hareketini kaç saatte tamamlar?

- A) 12 saat
- B) 24 saat
- C) 32 saat
- D) 48 saat

14. Yükselti basamakları hangi tür haritalar yardımı ile tespit edilir?

- A) Beşeri haritalar
- B) Atlas haritalar
- C) Siyasi haritalar
- D) Fiziki haritalar

15. Aşağıdakilerden hangisi dünyanın güneş etrafında dönüşünün meydana getirdiği sonuçlardan biri değildir?

- A) Gün ve gece arasında sıcaklık farkları oluşur.
- B) Gece gündüz süreleri yıl boyunca değişme gösterir.
- C) Mevsimlik sıcaklık farkları oluşur.
- D) Sıcaklık farkları kara ve denizler arasında basınç farklarının oluşmasını sağlar.

16. Dik kıyılara hızla çarpan dalgaların, kıyıların alt tarafını aşındırarak oluşturduğu şekillere ne ad verilir?

- A) Barkan
- B) Falez
- C) Aysberg
- D) Lagün

17. Yeryuvarlığının kendi eksenini etrafında dönmesi ile aşağıdakilerden hangisi meydana gelir?

- A) İlkbahar
- B) Kış
- C) Gece- gündüz
- D) Sonbahar

18. Aşağıdakilerden hangisi meridyenlerin özelliklerinden biri değildir?

- A) Ardışık iki meridyen arasındaki yerel saat farkının 4 dakika olması
- B) Doğudaki meridyenlerin saatlerinin batıdakilerden daha ileri olması
- C) Başlangıç meridyeninin ekvator olması
- D) Aynı meridyen üzerinde bulunan tüm noktaların yerel saatlerinin aynı olması

19. 40° doğu boylamında yer alan Diyarbakır' da yerel saat 17.00 iken, 30° doğu boylamında yer alan İzmit' te yerel saat kaçtır?

- A) 16.20
- B) 16.40
- C) 17.20
- D) 17.40

20. Yeryüzünün bütününü veya bir bölümünün, belli bir ölçeğe göre küçültülerek bir düzlem üzerinde gösterilmesine ne ad verilir?

- A) İzdüşüm
- B) Çizgi ölçeği
- C) Meridyen
- D) Harita

1. Aşağıdakilerden hangisi tortul kayaların **en önemli özelliklerinden biridir?**
  - A) Kimyasal ve fiziksel ayrışmaya uğramaları
  - B) Yerkabuğunun farklı derinliklerindeki taş ve tabakaların aralarına sokularak, yavaş yavaş soğumaları
  - C) Volkanik faaliyetler sonucu yeryüzüne çıkmaları
  - D) Oluştukları dönemlere ait bitki ve hayvan kalıntılarının sahip olmaları
2. Nevşehir, Ürgüp, Göreme çevresindeki peribacalarının oluşumunda aşağıdaki kayalardan hangisi etkili olmuştur?
  - A) Granit
  - B) Tüf
  - C) Andezit
  - D) Kalker
3. Aşağıdakilerden hangisi kimyasal tortullardan biridir?
  - A) Traverten
  - B) Kumtaşı
  - C) Mermer
  - D) Granit
4. Kayaların yüksek basınç ve sıcaklık altında kalması sonucu oluşan kayaç grubuna ne ad verilir?
  - A) Dış püskürük
  - B) Organik tortul
  - C) Kireç taşları
  - D) Başkalaşım kayaları
5. İki okyanusal kıtanın birbirine yaklaştığı yerlerde aşağıdakilerden hangisi oluşmaktadır?
  - A) Volkanik ada yayları
  - B) Sıra dağlar
  - C) Yanardağ
  - D) Kıta kabuğu
6. Fay hatları, yer kabuğunun zayıf hareket halindeki bölgeleridir. Aşağıdakilerden hangisi bazı alanların fay hatlarına **paralellik gösterdiği yerlerden biri değildir?**
  - A) Deprem alanları
  - B) Karstik araziler
  - C) Volkanik alanlar
  - D) Genç kıvrım dağları
7. Yerkabuğunun yaşlı kıvrım bölgelerinde depremler nadir görülür ve etkileri de önemsizdir. Aşağıdaki bölgelerden hangisi buna örnek olarak gösterilebilir?
  - A) Yunanistan
  - B) Türkiye
  - C) Japonya
  - D) Kanada
8. Akarsuların yatağı içinde yıl boyunca göstermiş olduğu su miktarının değişimine ne ad verilir?
  - A) Akarsuyun hızı
  - B) Akarsuyun gücü
  - C) Akarsu rejimi
  - D) Akarsuyun hidroelektrik gücü
9. Volkanik alanlarda yerin derinliklerindeki sıcak gazların uyguladığı basıncın etkisiyle yeryüzüne su ve buhar şeklinde püskürerek çıkan kaynağa ne ad verilir?
  - A) Artezyen
  - B) Yamaç kaynağı
  - C) Karstik kaynaklar
  - D) Gayzer kaynaklar
10. Amerika Kıtası ile Avrupa arasında yer alan okyanusun adı nedir?
  - A) Büyük Okyanus
  - B) Atlas Okyanusu
  - C) Hint Okyanusu
  - D) Umman Denizi

11. Akdeniz iklim bölgesinde kalkerler üzerinde oluşan ve içindeki demiroksit oranının fazlalığı nedeniyle kırmızı renkli olan topraklar aşağıdakilerden hangisidir?

- A) Kahverengi orman toprakları
- B) Terra rossa
- C) Tundra
- D) Podzol

12. Aşağıdakilerden hangisi set göllerinden biridir?

- A) Tuz Gölü
- B) Timraş Gölü
- C) Akgöl
- D) Abant Gölü

13. Aşağıdaki oluşumlardan hangisinin bulunduğu yörelerde deprem olma olasılığı daha fazladır?

- A) Vadi
- B) Ova
- C) Fay
- D) Delta

14. Aşağıdakilerden hangisi Türkiye' de işçi göçünün zaman içinde hızla artmasının nedenlerinden biri değildir?

- A) Ailelerine yakın olma isteği
- B) Hızlı nüfus artışı
- C) Kırsal alanda isteklerin çoğalması ve çeşitlenmesi
- D) Gelir dağılımındaki bozukluklar

15. Aşağıdakilerden hangisi nüfus sayımı yapılmasında hedeflenen amaçlardan değildir?

- A) Ülkenin nüfus miktarı
- B) Yaş grupları
- C) Kişilerin siyasi eğilimleri
- D) Nüfusun eğitim durumu

16. Aşağıdakilerden hangisi bir ülkenin genç nüfuslu olduğunu gösterir?

- A) Sanayi ürünleri üretiminin fazla olması
- B) Çalışan nüfusun yaş ortalamasının düşük olması
- C) Tarımla uğraşan nüfusun az olması
- D) Ortalama yaşam süresinin uzun olması

17. Beyin göçünün göç veren ülke için en önemli sonucu aşağıdakilerden hangisidir?

- A) Ülke, eğitim görmüş insanlarını kaybeder.
- B) Ülkeye döviz girer.
- C) Ülke kalkınmasında faydalı olur.
- D) Ciddi sağlık sorunları yaşanır.

18. Aşağıdakilerden hangisi hızlı ve çarpık kentleşmenin nedenlerinden biridir?

- A) Çevre kirliliği
- B) Alt yapı yetersizliği
- C) Köyden kente göç
- D) Konut yetersizliği

19. Neolitik çağda insanların geçim tarzlarında nasıl bir değişme olmuştur?

- A) Madencilik gelişmiştir.
- B) Avcılık ve toplayıcılık başlamıştır.
- C) Tarım başlamıştır.
- D) Devletler arası ticaret gelişmiştir.

20. Aşağıdakilerden hangisi gelişmiş ülkelerin özelliklerinden biri değildir?

- A) Beslenmenin yetersiz olması
- B) Sanayi ürünlerinin ihraç edilmesi
- C) Gazete ve dergi okuma oranının yüksek olması
- D) Ortalama ömrün uzun olması

1. Ayten kauft die ..... Schuhe.

Welches Wort passt in die obige Lücke?

Cümlede boş bırakılan yeri aşağıdakilerden hangisi doğru şekilde tamamlar?

- A) teuer  
B) teuersten  
C) teuren  
D) teurer

2. Erol hätte gern ein Motorrad.

Welches hat die gleiche Bedeutung mit dem obigen Satz?

Verilen cümle ile aynı anlamı taşıyan aşağıdakilerin hangisidir?

- A) Erol muß ein Motorrad kaufen.  
B) Erol kann gern ein Motorrad fahren.  
C) Erol würde gern ein Motorrad kaufen.  
D) Erol hatte ein Motorrad kaufen können.

3. Televizyonu tamir edebilirim.

Wie lautet der obige Satz auf Deutsch?

Verilen cümlenin Almancası aşağıdakilerden hangisidir?

- A) Ich kann den Fernseher reparieren.  
B) Ich darf den Fernseher reparieren.  
C) Ich hätte den Fernseher reparieren können.  
D) Ich muß einen neuen Fernseher kaufen.

4. Ich ..... mit dem Rauchen aufhören!

Welches Wort passt nicht in die obige Lücke?

Cümlede boş bırakılan yeri aşağıdakilerden hangisi doğru şekilde tamamlamaz?

- A) kann  
B) muß  
C) habe  
D) werde

5. Was würden Sie sich gerne kaufen, wenn Sie sehr reich wären?

Welche Antwort passt nicht zur obigen Frage?

Aşağıdakilerden hangisi yukarıdaki sorunun cevabı değildir?

- A) Ich hätte gern ein grosses Haus!  
B) Ich hätte Lust den ganzen Tag zu schlafen!  
C) Ich würde ein neues Auto kaufen!  
D) Ich würde allen Arbeitslosen helfen!

6. .... nicht ohne Erlaubnis vom Arbeitsplatz!

Welches Wort passt in die obige Lücke?

Cümlede boş bırakılan yeri aşağıdakilerden hangisi doğru şekilde tamamlar?

- A) Schreibe  
B) Höre  
C) Gehe  
D) Keine

7. Ich möchte sehr gerne ein Fahrrad.

Welche Frage passt zur obigen Antwort?

Verilen cevabı gerektirecek soru aşağıdakilerden hangisidir?

- A) Was machst du mit dem Fahrrad?  
B) Was willst du zum Geburtstag?  
C) Wann hast du Geburtstag?  
D) Warum feierst du Geburtstag?

8. Ich ..... ein Feuerzeug, wenn ich die Zigarette ..... will.

Welche Wörter passen in die obigen Lücken?

Cümlede boş bırakılan yerleri aşağıdakilerden hangileri doğru şekilde tamamlar?

- A) brauchte / kaufen  
B) habe / angezündet  
C) hätte / gezündet  
D) brauche / anzünden

9. dem Kaufmann / vertrauen / ihr / nicht

Wie kann man mit den obigen Wortgruppen einen vollständigen Imperativatz bilden?

Verilen sözcük gruplarıyla kurulabilecek en anlamlı ve doğru emir cümle aşağıdakilerden hangisidir?

- A) Vertrauen nicht Sie dem Kaufmann!  
B) Vertrauten dem Kaufmann nicht!  
C) Vertraut dem Kaufmann nicht!  
D) Vertrau dem Kaufmann nie!

10. Eylülde baştan başlamalıyım!

Wie lautet der obige Satz auf Deutsch?

Verilen cümlenin Almancası aşağıdakilerden hangisidir?

- A) Im September hat er von vorne angefangen!  
B) Ich soll im September wieder anfangen!  
C) Im September darf ich von vorne anfangen!  
D) Ich muß im September von vorne anfangen!

11. ...., war es 1938.

Welches ergänzt die Lücke im obigen Satz?

Verilen cümleyi aşağıdakilerden hangisi tamamlar?

- A) Wenn die Prüfung gut geht  
B) Als Atatürk starb  
C) Weil der Befreiungskrieg begann  
D) Als Atatürk auf die Welt kam

12. Wenn es regnet können wir kein Picknick machen.

Wie lautet der obige Satz auf Türkisch?

Verilen cümlenin Türkçesi aşağıdakilerden hangisidir?

- A) Piknik yaparken yağmur yağmıştı.  
B) Eğer yağmur yağmazsa piknik yapmak istiyoruz.  
C) Piknik yapmak istediğimizde yağmur yağdı.  
D) Yağmur yağarsa piknik yapamayız.

13. Mario ist der ..... Junge in unserer Familie.

Welches Wort passt in die obige Lücke?

Cümlede boş bırakılan yeri aşağıdakilerden hangisi doğru olarak tamamlar?

- A) klein  
B) kleinem  
C) kleinste  
D) kleinen

14. Ich renne schnell nach Hause, weil ich noch kochen muß.

Welche Frage passt nicht zur obigen Antwort?

Aşağıdaki sorulardan hangisi yukarıdaki cevabı gerektirmez?

- A) Was möchtest du kochen, wenn du schnell nach Hause rennst?  
B) Warum rennst du schnell nach Hause?  
C) Wieso rennst du immer schnell nach Hause?  
D) Wozu rennst du schnell nach Hause?

15. Am Wochenende gehe ich ..... ins Theater.

Welches Wort passt nicht in die obige Lücke?

Cümlede boş bırakılan yeri aşağıdakilerden hangisi doğru şekilde tamamlamaz?

- A) am meisten  
B) meistens  
C) lieber  
D) am mehrsten



16. .... frühstücken gelegentlich alle Menschen.

**Welches Wort passt in die obige Lücke?**

**Cümlede boş bırakılan yeri aşağıdakilerden hangisi doğru şekilde tamamlar?**

- A) Morgens
- B) Mittags
- C) Abends
- D) Nachts

17. Sie darf das Auto nicht fahren, .....

**Welches ergänzt den obigen Satz?**

**Cümleyi aşağıdakilerden hangisi doğru olarak tamamlar?**

- A) als sie einen neuen Führerschein machen wollte.
- B) weil sie erst 15 Jahre alt ist.
- C) damit sie einen Führerschein macht.
- D) um keine Schulden zahlen zu müssen.

18. Meine Mutter kocht jeden Tag, das bedeutet sie kocht .....

**Welches Wort passt in die obige Lücke?**

**Cümlede boş bırakılan yeri aşağıdakilerden hangisi doğru şekilde tamamlar?**

- A) immer
- B) niemals
- C) selten
- D) manchmal

19. Die Welt ist rund. Das ist bekannt.

**Wie kann man die obigen Sätze mit "daß" verbinden?**

**Verilen cümlelerin "daß" ile birleştirilmiş hali aşağıdakilerden hangisidir?**

- A) Daß ist bekannt, weil die Welt rund ist.
- B) Daß die Welt rund ist, das stimmt.
- C) Daß die Welt rund ist, muß es bekannt sein.
- D) Daß die Welt rund ist, ist bekannt.

20. .... zweite Kind meiner Schwester ist vor sieben Monaten geboren.

**Welches Wort passt in die obige Lücke?**

**Cümlede boş bırakılan yeri aşağıdakilerden hangisi doğru olarak tamamlar?**

- A) Das
- B) Den
- C) Der
- D) Die

1. Okan can't speak German. He wishes he ..... German.

Which of the following completes the sentence above?

Aşağıdakilerden hangisi yukarıdaki cümleyi doğru olarak tamamlar?

- A) can speak  
B) have spoken  
C) could speak  
D) spoken

2. Özlem wishes she ..... visited her father in the hospital.

Which of the following completes the sentence above?

Aşağıdakilerden hangisi yukarıdaki cümleyi doğru olarak tamamlar?

- A) could have  
B) must  
C) should  
D) can

3. I live in Eskişehir. I wish I ..... in Los Angeles.

Which of the following completes the sentence above?

Aşağıdakilerden hangisi yukarıdaki cümleyi doğru olarak tamamlar?

- A) have lived  
B) lived  
C) live  
D) had lived

4. I don't have a car, but I need one. I wish I..... a car.

Which of the following completes the sentence above?

Aşağıdakilerden hangisi yukarıdaki cümleyi doğru olarak tamamlar?

- A) had  
B) could have  
C) has  
D) have

5. If I were you, I ..... buy that expensive book.

Which of the following completes the sentence above?

Aşağıdakilerden hangisi yukarıdaki cümleyi doğru olarak tamamlar?

- A) won't  
B) didn't  
C) wouldn't  
D) aren't

6. Dilara wishes she ..... visited her grandmother in the hospital.

Which of the following completes the sentence above?

Aşağıdakilerden hangisi yukarıdaki cümleyi doğru olarak tamamlar?

- A) must  
B) should  
C) could have  
D) can

7. If I learn English, I ..... England.

Which of the following completes the sentence above?

Aşağıdakilerden hangisi yukarıdaki cümleyi doğru olarak tamamlar?

- A) will visit  
B) had visited  
C) have visited  
D) would visit

8. I am not rich. I wish I .....rich.

Which of the following completes the sentence above?

Aşağıdakilerden hangisi yukarıdaki cümleyi doğru olarak tamamlar?

- A) can be  
B) must be  
C) am  
D) were

9. If I had time, I ..... go to the library.

Which of the following completes the sentence above?

Aşağıdakilerden hangisi yukarıdaki cümleyi doğru olarak tamamlar?

- A) must  
B) should  
C) can  
D) would

10. What would you do if you.....to become a pop star?

Which of the following completes the sentence above?

Aşağıdakilerden hangisi yukarıdaki cümleyi doğru olarak tamamlar?

- A) want  
B) will want  
C) have wanted  
D) wanted

11. If Esra had had some money, she ..... a new briefcase.

Which of the following completes the sentence above?

Aşağıdakilerden hangisi yukarıdaki cümleyi doğru olarak tamamlar?

- A) must have bought  
B) must buy  
C) would have bought  
D) could buy

12. If I ..... you. I would take a taxi.

Which of the following completes the sentence above?

Aşağıdakilerden hangisi yukarıdaki cümleyi doğru olarak tamamlar?

- A) could have been  
B) must be  
C) can  
D) were

13. If I .....you. I wouldn't buy that house.

Which of the following completes the sentence above?

Aşağıdakilerden hangisi yukarıdaki cümleyi doğru olarak tamamlar?

- A) am  
B) was  
C) can  
D) were

14. I missed the train yesterday. I wish I ..... the train.

Which of the following completes the sentence above?

Aşağıdakilerden hangisi yukarıdaki cümleyi doğru olarak tamamlar?

- A) haven't missed  
B) hadn't missed  
C) can't miss  
D) didn't miss

15. If I go to İzmir, I .....her.

Which of the following completes the sentence above?

Aşağıdakilerden hangisi yukarıdaki cümleyi doğru olarak tamamlar?

- A) should have contacted  
B) will contact  
C) contacted  
D) have contacted

16. If I ..... you, I wouldn't wear those clothes.

Which of the following completes the sentence above?

Aşağıdakilerden hangisi yukarıdaki cümleyi doğru olarak tamamlar?

- A) could have been
- B) were
- C) could be
- D) can be

17. I don't have a computer, but I need one. I wish I ..... a computer.

Which of the following completes the sentence above?

Aşağıdakilerden hangisi yukarıdaki cümleyi doğru olarak tamamlar?

- A) had
- B) had had
- C) has
- D) have

18. Jill: Did they go to Ankara?  
John: I don't know ..... they went to Ankara.

Which of the following completes the dialogue above?

Aşağıdakilerden hangisi yukarıdaki konuşmayı doğru olarak tamamlar?

- A) if
- B) when
- C) where
- D) what

19. If I had time, I ..... go to the cinema.

Which of the following completes the sentence above?

Aşağıdakilerden hangisi yukarıdaki cümleyi doğru olarak tamamlar?

- A) must
- B) would
- C) should
- D) can

20. The State should support the private enterprise.

Which of the following is the Turkish translation of the sentence above?

Aşağıdakilerden hangisi yukarıdaki cümlenin Türkçe karşılığıdır?

- A) Devlet, özel sektörü desteklememelidir.
- B) Devletçilik ilkesi, özel sektöre karşı çıkar.
- C) Devlet, özel sektöre destek vermelidir.
- D) Özel sektör, devleti desteklememelidir.

1. Nous sommes au printemps, mais bientôt ..... sera l'été.

**Choisissez le mot qui convient.**

**Cümledeki boşluğu aşağıdakilerden hangisi doğru şekilde tamamlar?**

- A) celui  
B) ceux  
C) ce  
D) celle

2. Quand il était petit, il ..... dans le village avec sa famille.

**Choisissez le mot qui convient.**

**Cümledeki boşluğu aşağıdakilerden hangisi doğru şekilde tamamlar?**

- A) vivait  
B) a vécu  
C) vivra  
D) avait vécu

3. Quand vous sortirez, vous ..... la porte.

**Choisissez le mot qui convient.**

**Cümledeki boşluğu aşağıdakilerden hangisi doğru şekilde tamamlar?**

- A) aviez fermé  
B) fermeront  
C) fermerez  
D) fermeriez

4. I. Est-ce que ces disques sont à vous?  
II. Oui, ces disques sont à nous.  
III. Ce sont nos disques.  
IV. C'est le sien.

**Choisissez la phrase qui ne convient pas à l'ensemble.**

**Sırasıyla okunduğunda anlam bütünlüğünü bozan cümle aşağıdakilerden hangisidir?**

- A) I  
B) II  
C) III  
D) IV

5. Mireille: - .....  
Jacques: - Oui, c'est la mienne.

**Choisissez la question qui convient.**

**Yukarıdaki konuşmada cevabı gerektiren soru aşağıdakilerden hangisidir?**

- A) Est-ce que cette clé est à toi?  
B) Est-ce que ce manteau est à lui?  
C) Est-ce que ces chats sont à ton fils?  
D) Est-ce que ce poste de télévision est à vous?

6. Pour moi, l'hiver est ..... des saisons.

**Choisissez le mot qui convient.**

**Cümledeki boşluğu aşağıdakilerden hangisi doğru şekilde tamamlar?**

- A) le plus  
B) le moindre  
C) la pire  
D) la moins

7. Le train est ..... rapide que l'avion.

**Choisissez le mot qui convient.**

**Cümledeki boşluğu aşağıdakilerden hangisi doğru şekilde tamamlar?**

- A) plus  
B) moins  
C) autant  
D) mieux

8. C'est son livre; c'est ..... .

**Choisissez le mot qui convient.**

**Cümledeki boşluğu aşağıdakilerden hangisi doğru şekilde tamamlar?**

- A) le mien  
B) le sien  
C) la mienne  
D) le vôtre

9. C'est ma veste; c'est ..... .

**Choisissez le mot qui convient.**

**Cümledeki boşluğu aşağıdakilerden hangisi doğru şekilde tamamlar?**

- A) la mienne  
B) le mien  
C) la sienne  
D) le vôtre

10. Metin, Serkan'dan daha gençtir.

**Choisissez la traduction qui convient.**

**Yukarıdaki cümlenin Fransızca karşılığı aşağıdakilerden hangisidir?**

- A) Metin est moins jeune que Serkan.  
B) Metin est plus jeune que Serkan.  
C) Serkan est jeune, Metin est agé.  
D) Serkan est plus jeune que Metin.

11. Ma cravate est en lain, ..... de mon ami est en cuir.

**Choisissez le mot qui convient.**

**Cümledeki boşluğu aşağıdakilerden hangisi doğru şekilde tamamlar?**

- A) celui  
B) ceux  
C) c'est  
D) celle

12. C'est la plus belle maison de la ville.

**Choisissez la traduction qui convient.**

**Yukarıdaki cümlelerin Türkçe karşılığı aşağıdakilerden hangisidir?**

- A) Şehrin en güzel evi budur.  
B) Bu şehirde evler çok güzeldir.  
C) Bu ev, şehrin en güzel yerindedir.  
D) Bu şehirdeki evlerin hepsi çok güzeldir.

13. Ce sont leurs calculatrices; ce sont .....

**Choisissez le mot qui convient.**

**Cümledeki boşluğu aşağıdakilerden hangisi doğru şekilde tamamlar?**

- A) la leur  
B) les tiennes  
C) les siennes  
D) les leurs

14. Irène: - Ce chapeau est à toi?

Cécile: - .....

**Choisissez la réponse qui convient.**

**Yukarıdaki konuşmada boş bırakılan yeri aşağıdakilerden hangisi doğru şekilde tamamlar?**

- A) Non, c'est le sien.  
B) Non, elle est à moi.  
C) Non, c'est la mienne.  
D) Oui, c'est le vôtre.

15. Ali a 25 livres, Hakan a 42 livres. Ali a ..... de livres que Hakan.

**Choisissez le mot qui convient.**

**Cümledeki boşluğu aşağıdakilerden hangisi doğru şekilde tamamlar?**

- A) plus  
B) autant  
C) moins  
D) aussi

16. est / ceci / important / très  
I II III IV

**Mettez dans le bon ordre.**

**Yukarıdaki kelimelerin anlamlı ve kurallı bir bütün oluşturan sırası aşağıdakilerin hangisinde doğru olarak verilmiştir?**

- A) II, I, III, IV  
B) II, I, IV, III  
C) III, II, I, IV  
D) III, IV, I, II

17. Ahmet: - .....

Ömer: - Non, ce ne sont pas ceux de mon frère.

**Choisissez la question qui convient.**

**Yukarıdaki konuşmada cevabı gerektiren soru aşağıdakilerden hangisidir?**

- A) Ceux-ci ou ceux-la?  
B) Ce sont les chemises de son frère?  
C) Ce sont les livres de ton frère?  
D) Ces chaises sont libres?

18. Mehmet travaille mieux que nous.

**Choisissez la traduction qui convient.**

**Yukarıdaki cümlelerin Türkçe karşılığı aşağıdakilerden hangisidir?**

- A) Mehmet bizimle çalışıyor.  
B) Biz, Mehmet'ten daha iyi çalışıyoruz.  
C) Mehmet de biz de iyi çalışıyoruz.  
D) Mehmet bizden daha iyi çalışıyor.

19. Mehmet: - J'ai trouvé un dictionnaire de français.

Ayla: - C'est sans doute ..... de ma soeur.

**Choisissez le mot qui convient.**

**Yukarıdaki konuşmada boş bırakılan yeri aşağıdakilerden hangisi doğru şekilde tamamlar?**

- A) celle  
B) ceux  
C) celles  
D) celui

20. Monique: - Lequel de ces deux livres préférez-vous?

Pierre: - .....

**Choisissez la réponse qui convient.**

**Yukarıdaki konuşmada boş bırakılan yeri aşağıdakilerden hangisi doğru şekilde tamamlar?**

- A) Je lis toujours des livres intéressants.  
B) Je préfère celui-la.  
C) Ce sont les livres de mon frère.  
D) J'achète celle-ci.

1. Sözcükleri biçim yönünden inceleyerek kök ve eklerin yapısını belirleyen bilim dalı aşağıdakilerden hangisidir?
- A) Ses Bilgisi  
B) Köken Bilim  
C) Biçim Bilgisi  
D) Anlam Bilim
2. Aşağıdakilerden hangisi dil bilgisinin bölümlerinden biri değildir?
- A) Morfoloji  
B) Pedagoji  
C) Etimoloji  
D) Fonetik
3. Aşağıdakilerden hangisi iletişimi oluşturan öğelerden biri değildir?
- A) Alıcı  
B) Bağlam  
C) İleti  
D) Ortam
4. Kültürel varlıkların kuşaktan kuşağa aktarılmasında en etkili araç aşağıdakilerden hangisidir?
- A) Dil  
B) Kültür  
C) Tarih  
D) Düşünce
5. Günlük yaşamda, evde, sokakta, çarşı pazarda kullanılan dile ne ad verilir?
- A) Konuşma dili  
B) Yazı dili  
C) Lehçe  
D) Ağız
6. "Dil" ile ilgili aşağıdaki ifadelerden hangisi yanlıştır?
- A) Dil, canlılar arasında anlaşma sağlayan sosyal bir kurumdur.  
B) Dilin kendine göre birtakım yasaları vardır.  
C) Dil, canlı bir varlıktır.  
D) Dil sayesinde toplumdaki bireyler bir araya gelir.
7. Aşağıdakilerden hangisi iletişim kurmak için gerekli temel öğelerden biri değildir?
- A) Kaynak  
B) İleti  
C) Alıcı  
D) Yöntem
8. Diller arasındaki yakınlık ve benzerliğe ne ad verilir?
- A) Dil kardeşliği  
B) Dil birliği  
C) Dil akrabalığı  
D) Dil yakınlığı
9. Aşağıdakilerden hangisi Türk dilinin 16.-20. yüzyıllar arası dönemini kapsayan ve Osmanlıca, Azeri Türkçesi, Çağatayca, Özbekçe gibi dillerden oluşan gelişme aşamasıdır?
- A) Modern Türkçe  
B) Yeni Türkçe  
C) Orta Türkçe Çağı  
D) Eski Türkçe Çağı
10. Aşağıdakilerden hangisi Türk dilinin gelişme aşamalarından biri değildir?
- A) En Eski Türkçe Çağı  
B) İlk Türkçe Çağı  
C) Kuzey Batı Türkçesi  
D) Eski Türkçe Çağı
11. İlk Türkçe belgelerin ortaya konulduğu çağ aşağıdakilerden hangisidir?
- A) İlk Türkçe Çağı  
B) Eski Türkçe Çağı  
C) En Eski Türkçe Çağı  
D) Altay Çağı
12. Kültigin, Tonyukuk ve Bilge Kağan Anıtları Türk dilinin hangi çağında yazılmıştır?
- A) En Eski Türkçe Çağı  
B) Altay Çağı  
C) Eski Türkçe Çağı  
D) İlk Türkçe Çağı

13. Akatça, Arapça ve İbranice dilleri, köken bakımından yeryüzündeki hangi dil ailesine girer?

- A) Hami-Sami
- B) Bantu
- C) Çin
- D) Ural-Altay

14. Aşağıdakilerden hangisi eklemeli(bitişken) dillerden biridir?

- A) Türkçe
- B) Almanca
- C) Fransızca
- D) Hintçe

15. Aşağıdakilerden hangisi ünsüzlerin sınıflandırılması ile ilgili yanlış bir ifadedir?

- A) Ağız boşluğundaki boğumlandıkları yere göre sınıflandırılır.
- B) Sürekli söylenip söylenemediğine göre sınıflandırılır.
- C) Yumuşak oluşlarına göre sınıflandırılır.
- D) Dar-geniş oluşlarına göre sınıflama yapılır.

16. Aşağıdaki sözcüklerden hangisi küçük ünlü uyumu kuralına uymaz?

- A) Bahçe
- B) İnce
- C) Okul
- D) Melodi

17. Aşağıdaki cümlelerin hangisinde büyük harflerin kullanımıyla ilgili bir yazım yanlış yapılmıştır?

- A) 18 Mart, Çanakkale Savaşı'nın yapıldığı tarihtir.
- B) Ahmet bey henüz gelmediler.
- C) İlk TBMM 23 Nisan 1920'de Ankara'da açıldı.
- D) Yarın Prof.Dr. Gazi Özdemir'e gideceğiz.

18. Aşağıdakilerden hangisi ünlülerin sınıflandırılması ile ilgili yanlış bir ifadedir?

- A) Ünlüler söyleniş sırasında dilin, çenenin ve dudakların aldığı biçime göre sınıflandırılır.
- B) Dilin durumuna göre ünlüler kalın ve ince olmak üzere ikiye ayrılır.
- C) Ünlüler söyleniş sırasında dişlerin, yanakların ve damağın aldığı biçime göre sınıflandırılır.
- D) Alt çenenin durumuna göre ünlüler geniş ve dar olmak üzere ikiye ayrılır.

19. Aşağıdaki sözcüklerden hangisi büyük ünlü uyumu kuralına uymaz?

- A) Boncuk
- B) Barış
- C) Define
- D) Kalori

20. Aşağıdakilerden hangisi en geniş anlamıyla söyleyişin tanımıdır?

- A) Hava içerisinde oluşan titreşimin kulakta duyulması
- B) Nefes borusundan gelen havanın, ağız boşluğu içerisinde herhangi bir bölgede sese dönüşmesi
- C) Anlatıma duygu, düşünce, heyecan, yumuşaklık, sertlik katmak amacıyla sesin farklı kullanılması
- D) Konuşmayı sağlayan hareketlerin tümü



1. Edebiyat ile ilgili aşağıdaki ifadelerden hangisi yanlıştır?

- A) Toplumların gelişimine katkıda bulunur.
- B) Tarih biliminden yararlanır.
- C) Toplumların siyasal ve sosyal yapısından etkilenir.
- D) Sadece tanık olduğu çağı anlatır.

2. Tanzimat Fermanı'nın hazırlanış amacı aşağıdakilerden hangisidir?

- A) Osmanlı Devleti'ndeki değişimlere engel olmak
- B) Savaşlarda yenilgiye son vermek
- C) Ordudaki değişen disiplin anlayışına el atmak
- D) Devrin gereksinimlerine uygun Batı esasları doğrultusunda yeniden yapılanmak

3. Gerçeğin hayal dünyasında yeniden şekillendiği metinlere ne ad verilir?

- A) Yazılı metin
- B) Hayalî metin
- C) Kurmaca metin
- D) Hikâye

4. Yusuf Kamil Paşa'nın 1859 yılında Fransız yazar Fenelon'dan yaptığı ilk çeviri roman, aşağıdakilerden hangisidir?

- A) Sefiller
- B) Telemak
- C) Marti
- D) Monte Kristo

5. İnsana sadakat yakışır görse de ikrâh Yardımcısıdır doğruların Hazret-i Allah

Ziya Paşa'nın bu beyitiyle aşağıdaki atasözlerinden hangisi örtüşmez?

- A) Doğru gidenin başı duvara çarpmaz.
- B) Allah doğrunun yardımcıdır.
- C) Doğruluk su kabağıdır, batmaz.
- D) Eğri bacanın dumanı doğru çıkar.

6. Namık Kemal'in Ziya Paşa ile birlikte Londra'da çıkardıkları gazete, aşağıdakilerden hangisidir?

- A) Cumhuriyet
- B) Vatan
- C) Hürriyet
- D) Muhbir

7. 1860 yılında Şinasi ve Ağâh Efendi tarafından çıkarılan ilk özel gazete, aşağıdakilerden hangisidir?

- A) İbret
- B) Tercüman-ı Hakikat
- C) Ceride-i Havadis
- D) Tercüman-ı Ahvâl

8. Aşağıdaki şair ve yazarlardan hangisi toplumsal konular yerine bireysel konularda yazmayı yeğleyen sanatçılardan biridir?

- A) Ahmet Mithat Efendi
- B) Sami Paşazâde Sezaî
- C) Namık Kemal
- D) Ziya Paşa

9. Türk edebiyatında Recaizâde Mahmut Ekrem tarafından yazılan ilk realist roman, aşağıdakilerden hangisidir?

- A) Cezmi
- B) Araba Sevdası
- C) Taaşuk-ı Talat ve Fitnat
- D) Son Pişmanlık

10. Türk edebiyatında sahnelenen ilk tiyatro eseri ve yazarı, aşağıdakilerden hangisinde birlikte ve doğru olarak verilmiştir?

- A) Vatan yahut Silistre – Namık Kemal
- B) Celalettin Harzemşah – Namık Kemal
- C) Sabr u Sebat – Abdülhak Hâmit Tarhan
- D) Afife Anjelik – Recaizâde Mahmut Ekrem

11. Abdülhak Hâmit Tarhan'ın eşi Fatma Hanım'ın ölümü üzerine duyduğu acıyı dile getirdiği 295 bentlik eseri, aşağıdakilerden hangisidir?

- A) Sahra
- B) Makber
- C) Nesteren
- D) Ölü

12. Mademki bir sosyal toplulukta yaşayan halk bunca kanuni vazifelerle yükümlüdür, elbette ki sözle ve kalemlle kendi vatanının çıkarlarına ait fikirler belirtmeyi kazanılmış haklarından sayar.

**Yukarıdaki paragraftan, aşağıdakilerden hangisi çıkarılamaz?**

- A) Çağdaş insana bireyci tutum yakışmaz.
- B) Bu hakların önde geleni söz ve yazı hürriyetidir.
- C) Gerçek bir kamuoyu oluşturulmalıdır.
- D) Düşünce özgürlüğü bireylerin temel hakkı olmalıdır.

13. Noktalama işaretleri ilk kez hangi dönemde kullanılmıştır?

- A) II. Meşrutiyet
- B) I. Tanzimat
- C) İslami Dönem
- D) I. Meşrutiyet

14. Türk edebiyatında Şinasi tarafından yazılan ilk tiyatro eseri, aşağıdakilerden hangisidir?

- A) Şair Evlenmesi
- B) Karabelâ
- C) Zavallı Çocuk
- D) Macera-yı Aşk

15. İyi bir eğitim alarak yetişen Ali Bey'in düşmüş bir kadınla kurduğu ilişkiden doğan kötü sonuçların ele alındığı "İntibah" romanını kim yazmıştır?

- A) Hüseyin Rahmi Gürpınar
- B) Muallim Naci
- C) Namık Kemal
- D) Abdülhak Hâmit Tarhan

16. Âyinesi iştir kişinin lâfa bakılmaz  
Şahsın görünür rütbe-yi aklı eserinde

**Ziya Paşa'nın bu beyitiyle, aşağıdaki atasözlerinden hangisi anlamca örtüşmez?**

- A) İşten artmaz, diştten artar.
- B) Bir iş bin lâftan iyidir.
- C) Adamın iyisi iş başında belli olur.
- D) Her er kişi işiyle ölçülür.

17. Romantizmden realizme geçişin bir göstergesi sayılan "Sergüzeşt" romanının yazarı kimdir?

- A) Sami Paşazâde Sezai
- B) Muallim Naci
- C) Şemsettin Sami
- D) Ahmet Mithat Efendi

18. Türk edebiyatında ilk çeviri roman Fransız yazar Fenelon'un eseri "Telemak"tır. Çeviriyi yapan yazar, aşağıdakilerden hangisidir?

- A) Ahmet Vefik Paşa
- B) Ahmet Cevdet Paşa
- C) Namık Kemal
- D) Yusuf Kâmil Paşa

19. Romantizm akımıyla ilgili aşağıdaki ifadelerden hangisi yanlıştır?

- A) Öncülüğünü Fransız yazar Victor Hugo yapmıştır.
- B) Hayaller, duygu ve coşkular önem kazanmıştır.
- C) Akıl ve sağduyuya dayanmaktadır.
- D) Klâsizm akımına tepki olarak doğmuştur.

20. Romantizm akımının öncüsü Fransız yazar, aşağıdakilerden hangisidir?

- A) Gustave Flaubert
- B) J.J. Rousseau
- C) Victor Hugo
- D) Voltaire

1. “Yaban” romanının yazarı aşağıdakilerden hangisidir?
  - A) Yakup Kadri Karaosmanoğlu
  - B) Sait Faik Abasıyanık
  - C) Necati Cumalı
  - D) Reşat Nuri Güntekin
2. Karagöz ile Hacivat’ın aralarında geçen konuşmaların yer aldığı bölüm aşağıdakilerden hangisidir?
  - A) Giriş
  - B) Fasil
  - C) Bitiş
  - D) Muhavere
3. Aşağıdakilerden hangisi halk edebiyatı kökenli bir hikâyedir?
  - A) Arzu ile Kanber
  - B) Leyla vü Mecnun
  - C) Yusuf u Züleyha
  - D) Hüsrev-i Şirin
4. Olağanüstü olaylarla süslü, olağanüstü kişilerin başlarından geçen olayları anlatan eserlere ne ad verilir?
  - A) Hikâye
  - B) Destan
  - C) Roman
  - D) Masal
5. Olmuş ya da olma olasılığı bulunan olayların bir büyük olayla örülerek ayrıntılı bir şekilde yer ve zaman gösterilerek anlatıldığı uzun yazılara ne ad verilir?
  - A) Masal
  - B) Hikâye
  - C) Roman
  - D) Destan
6. Aşağıdakilerden hangisi anlatmaya bağlı sanat eserlerinden biri değildir?
  - A) Masal
  - B) Destan
  - C) Orta oyunu
  - D) Hikâye
7. “Göç Destanı” aşağıdaki Türk boylarından hangisine aittir?
  - A) Saka
  - B) Gök Türk
  - C) Hun
  - D) Uygur
8. Hun Türklerinin destanı aşağıdakilerden hangisidir?
  - A) Bozkurt Destanı
  - B) Oğuz Kağan Destanı
  - C) Alp Er Tunga Destanı
  - D) Türeyiş Destanı
9. “Yaprak Dökümü” romanının yazarı aşağıdakilerden hangisidir?
  - A) Reşat Nuri Güntekin
  - B) Yakup Kadri Karaosmanoğlu
  - C) Cahit Sıtkı Tarancı
  - D) Melih Cevdet Anday
10. Günlük hayatta karşılaşılabileceğimiz olayları sahnede göstermek amacıyla yazılan eserlere ne ad verilir?
  - A) Tiyatro
  - B) Sinema
  - C) Destan
  - D) Masal
11. Divan edebiyatında bulunmayan öykü ve roman türünü karşılayan edebi eser türü aşağıdakilerden hangisidir?
  - A) Kaside
  - B) Manzume
  - C) Mesnevi
  - D) Gazel
12. Aşağıdakilerden hangisi müzikli tiyatro türlerinden biri değildir?
  - A) Opera
  - B) Bale
  - C) Operet
  - D) Melodram

13. Aşağıdakilerden hangisi anlatmaya bağlı edebi metinlerdeki bakış açılarından biri değildir?

- A) İlahi bakış açısı
- B) Kahraman anlatıcının bakış açısı
- C) Gözlemci anlatıcının bakış açısı
- D) Okuyucunun bakış açısı

14. Aşağıdakilerden hangisi düşünce eserlerinden biridir?

- A) Roman
- B) Şiir
- C) Deneme
- D) Masal

15. Aşağıdakilerden hangisi öykü planlanırken oluşturulan bölümlerden biri değildir?

- A) Giriş bölümü
- B) Serim bölümü
- C) Düğüm bölümü
- D) Çözüm bölümü

16. Aşağıdakilerden hangisi öğretici metinler kapsamındaki türlerden biri değildir?

- A) Eleştiri
- B) Hikâye
- C) Makale
- D) Deneme

17. Aşağıdakilerden hangisi Türk edebiyatındaki deneme yazarlarından biri değildir?

- A) Nurullah Ataç
- B) Ömer Seyfettin
- C) Oktay Akbal
- D) Suut Kemal Yetkin

18. Aşağıdakilerden hangisi kişisel hayatı konu alan türlerden biri değildir?

- A) Mektup
- B) Anı
- C) Makale
- D) Biyografi

19. Başka bir yerde bulunan bir kimseye, bir kuruma ya da bir topluluğa bir maksadı bildirmek amacıyla yazılan yazılara ne ad verilir?

- A) Anı
- B) Mektup
- C) Günlük
- D) Gezi yazısı

20. Bir sanat eserinin, bir sanatçının gerçek değerini ortaya koymak amacıyla inceleme sonucu yazılan yazılara ne ad verilir?

- A) Deneme
- B) Eleştiri
- C) Fıkra
- D) Anı

**1 - 3. SORULARI AŞAĞIDAKİ BİLGİLERE GÖRE CEVAPLAYINIZ.**

1.256 lm'lik akı veren bir ışık kaynağından 100 cm uzaklıktaki  $0,5 \text{ m}^2$  lik yüzeye ışınlar, yüzeyin normali ile  $45^\circ$  lik açı yaparak gelmektedir. ( $\cos 45^\circ = 0,7$ ;  $\pi = 3,14$  olarak alınacaktır.)

1. Bu bilgilere göre, ışık kaynağının ışık şiddeti kaç cd dir?

A) 70  
B) 80  
C) 90  
D) 100

2. Yukarıdaki bilgilere göre, yüzeydeki aydınlanma şiddeti kaç lx dür?

A) 50  
B) 60  
C) 70  
D) 80

3. Yukarıdaki bilgilere göre, yüzeye gelen ışık akısı kaç lm dir?

A) 35  
B) 45  
C) 55  
D) 65

4. Odak uzaklığı 10 cm olan kalın kenarlı bir mercekten, 40 cm öteye konulan 5 cm boyundaki bir cismin görüntüsünün boyu kaç cm dir?

A) 0,5  
B) 1  
C) 1,5  
D) 2

5. Işığın x ortamındaki yayılma hızı, y ortamındakinin  $2/3$  katıdır.

Buna göre, x ortamına göre y ortamının bağıl kırılma indisi ( $n_{x,y}$ ) kaçtır?

A)  $1/3$   
B)  $1/2$   
C)  $2/3$   
D)  $3/2$

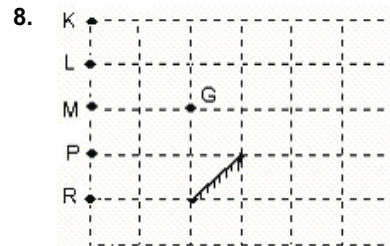
6. Mutlak kırılma indisi 3 olan bir ortamda, ışığın yayılma hızı kaç m/s dir?

A)  $5 \cdot 10^7$   
B)  $10^8$   
C)  $2 \cdot 10^8$   
D)  $3 \cdot 10^8$

7. Durgun bir su yüzeyine gelen ışınla, yansıyan ışın arasındaki açı, gelen ışının su yüzeyi ile yaptığı açının 8 katıdır.

Buna göre ışının gelme açısı kaç derecedir?

A) 48  
B) 56  
C) 64  
D) 72



Yukarıdaki şekilde düzlem aynaya G noktasından bakan bir göz aynada hangi noktayı göremez?

A) K  
B) L  
C) M  
D) P

9. Aşağıdakilerden hangisi, tam gölgenin özelliklerinden biri değildir?

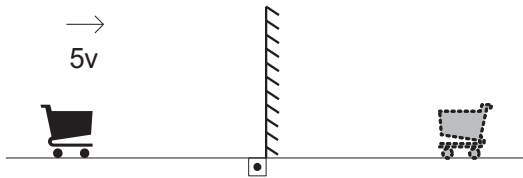
- A) Işık kaynağı cisim kadar olduğunda, tam gölgenin büyüklüğü cismin büyüklüğü kadar olur.
- B) Işık kaynağı büyütüldükçe, tam gölgenin alanı büyür.
- C) Perde hareketsiz kalmak şartıyla; cisim ışık kaynağına veya ışık kaynağı cisme yaklaştırılırsa tam gölgenin alanı büyür.
- D) Işık kaynağı ve cisim sabit kalmak şartıyla; perde, cisme yaklaştırılırsa tam gölgenin alanı küçülür.

10. Odak uzaklığı 10 cm olan ince kenarlı bir mercekte, bir cismin 2 kat büyüklüğünde ve gerçek görüntüsü elde edilmektedir.

Buna göre, cisimle görüntüsü arasındaki uzaklık kaç cm dir?

- A) 35
- B) 40
- C) 45
- D) 50

11.



Bir cisim durmakta olan bir düzlem aynaya, ayna düzlemine dik doğrultuda  $5v$  sabit hızıyla yaklaşırsa, cismin görüntüsünün hızı cisme göre kaç  $v$  dir?

- A) -10
- B) -5
- C) -1
- D) 5

12. Tepe açısı  $60^\circ$ , minimum sapma açısı  $30^\circ$  olan bir prizmanın kırıcılık indisi kaçtır?  
( $\sin 45^\circ = \frac{\sqrt{2}}{2}$ ;  $\sin 30^\circ = 0,5$ )

- A)  $\frac{\sqrt{2}}{2}$
- B)  $\sqrt{2}$
- C)  $2\sqrt{2}$
- D)  $3\sqrt{2}$

13. Kesişen iki düz ayna arasında konulan bir cismin 7 görüntüsü oluşmaktadır.

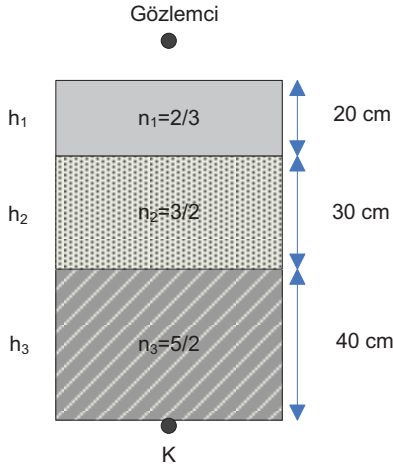
Buna göre, bu aynalar arasındaki açı kaç derecedir?

- A) 15
- B) 25
- C) 30
- D) 45

14. Boyu 8 cm olan bir cisim, odak uzaklığı 20 cm olan bir çukur aynadan 100 cm uzaklıkta bulunursa görüntünün boyu kaç cm olur?

- A) 2
- B) 3
- C) 4
- D) 5

15. Kırılma indisleri farklı saydam ortamlar aşağıdaki şekildeki gibi bir kabın içine sıralanmışlardır.



Buna göre, üstten ve normale yakın doğrultuda bakan bir gözlemci, kabın tabanındaki K cismini yüzeyden kaç cm uzakta görür? ( $n_h = n_g = 1$ )

- A) 48  
B) 56  
C) 60  
D) 66
16. Bir tümsek aynadan 30 cm uzağa asal eksen üzerine dik olarak konan bir cismin görüntüsü aynadan 10 cm uzakta oluşmaktadır.
- Buna göre, bu tümsek aynanın odak uzaklığı kaç cm dir?
- A) 5  
B) 10  
C) 15  
D) 20
17. Bir ışık demeti saydam bir prizma üzerine düşürüldüğünde en fazla kırılmaya uğrayan renk aşağıdakilerden hangisidir?

- A) Yeşil  
B) Turuncu  
C) Mavi  
D) Mor

18. Cisimler ışığı geçirip geçirmeme durumuna göre kaç ayrılır?

- A) 2  
B) 3  
C) 4  
D) 5

19. Dünya ile Güneş arasındaki uzaklık, yaklaşık  $1,5 \cdot 10^{11}$  metredir.

Buna göre ışık ışınları Güneş'ten Dünya'ya kaç saniyede gelir? ( $c = 3 \cdot 10^8$  m/sn)

- A) 100  
B) 250  
C) 500  
D) 750

20. Işık şiddeti bilinen bir kaynak yardımıyla, ışık şiddeti bilinmeyen bir başka ışık kaynağının, ışık şiddetini bulmaya yarayan araca ne ad verilir?

- A) Fotometre  
B) Ampermetre  
C) Hidrometre  
D) Barometre

1. Aşağıdakilerden hangisi kimyasal tepkimelerde, tepkime hızına etki eden faktörlerden biri değildir?

- A) Sıcaklık  
B) Madde cinsi  
C) Temas yüzeyi  
D) İndikatör

2. Sıcaklığın arttırıldığı bir tepkimede aşağıdakilerden hangisi beklenmez?

- A) Çarpışma sayısının artması  
B) Aktifleşme enerjisinin azalması  
C) Aktifleşme enerjisi engelini aşan tanecik sayısının artması  
D) Tepkime hızının artması

3.  $H_{2(g)} + I_{2(g)} \rightleftharpoons 2HI_{(g)}$

tepkimesi için  $K_p$  ile  $K_d$  arasındaki ilişki aşağıdakilerden hangisidir?

- A)  $K_p = K_d$   
B)  $K_p > K_d$   
C)  $K_p < K_d$   
D)  $K_p = \sqrt{K_d}$

4.  $2SO_{2(g)} + O_{2(g)} \rightleftharpoons 2SO_{3(g)}$   $\Delta H^\circ = -197,8 \text{ kJ}$

kapalı bir kapta, belirli bir sıcaklıkta  $SO_2$ ,  $O_2$  ve  $SO_3$  gazları karışımı dengededir.

Buna göre, aşağıdaki işlemlerin hangisinin yapılması dengeyi girenler lehine kaydırır?

- A) Kaba  $SO_2$  gazı eklenmesi  
B) Sıcaklığın yükseltilmesi  
C) Kaba  $O_2$  gazı eklenmesi  
D) Kaptan  $SO_3$  gazı çekilmesi

5. Hız denklemi;  $Hız = k[NO]^2 [H_2]$  olan bir tepkime kaçınıcı derecedendir?

- A) 1.  
B) 2.  
C) 3.  
D) 4.

6.  $2SO_{2(g)} + O_{2(g)} \rightleftharpoons 2SO_{3(g)}$

tepkimesi belirli bir sıcaklıkta dengeye ulaştığında 1 litrelik kapta 0,4 mol  $SO_2$ , 0,2 mol  $O_2$  ve 1,2 mol  $SO_3$  gazlarının olduğu belirleniyor.

Buna göre, tepkimenin denge sabitinin sayısal değeri kaçtır?

- A) 4,5  
B) 9  
C) 15  
D) 45

7. Belli bir sıcaklıkta  $XY_3$  tuzunun doymuş çözeltisinde  $X^{+3}$  iyonlarının derişimi  $1.10^{-3} \text{ mol/L}$  olduğuna göre,  $XY_3$  un çözünürlük çarpımı kaçtır?

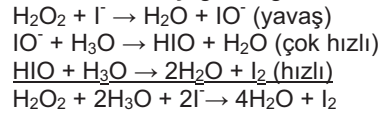
- A)  $27.10^{-12}$   
B)  $1.10^{-12}$   
C)  $1.10^{-9}$   
D)  $27.10^{-4}$

8. Bir tepkimenin mekanizması,  
 $2NO + H_2 \rightarrow N_2 + H_2O_2$  (yavaş)  
 $H_2O_2 + H_2 \rightarrow 2H_2O$  (hızlı)  
biçimindedir.

Buna göre,  $H_2$ 'nin derişimi 2 katına çıkarılırsa hız nasıl değişir?

- A) Değişmez.  
B) 2 kat artar.  
C) 2 kat azalır.  
D) 4 kat artar.

9. Sulu çözeltide oluşan bir tepkimenin mekanizması aşağıdaki gibi verilmiştir.



Buna göre, aşağıdaki değişikliklerden hangisi yapılırsa tepkime hızı değişmez?

- A)  $H_2O_2$  derişimini iki katına çıkarmak  
B) Tepkime ortamına  $H_2O$  eklemek  
C) Tepkimeye katalizör eklemek  
D)  $H_2O_2$  derişimini sabit tutup,  $I_2$  derişimini yarıya indirmek

10. Aşağıdaki durumların hangisinde sistem açıktır?

- A) Çevre ile sistem arasında yalnız enerji alışverişi olduğunda  
B) Çevre ile sistem arasında enerji ve madde alışverişi olduğunda  
C) Çevre ile sistem arasındaki sıcaklık sabit olduğunda  
D) Çevre ile sistem arasında yalnız madde alışverişi olduğunda

11. Elektrik akımını ileten çözeltilere "elektrolit çözeltiler" denir. Buna göre, aşağıdaki maddelerin hangisi ile elektrolit çözelti elde edilemez?

- A) HCl  
B) NaCl  
C)  $C_6H_{12}O_6$   
D)  $K_2SO_4$



12. I  $N_2(g) + O_2(g) \rightleftharpoons 2NO(g)$   $K_{d1}=4$   
 II  $NO_2(g) \rightleftharpoons NO(g) + 1/2 O_2(g)$   $K_{d2}=2$   
 Yukarıdaki iki tepkimenin belirli sıcaklıktaki denge sabitleri verilmiştir.  
 Aynı sıcaklıkta gerçekleşen;  
 III  $N_2(g) + 2O_2(g) \rightleftharpoons 2NO_2(g)$   
**tepkimesinin denge sabitinin ( $K_{d3}$ ) sayısal değeri kaçtır?**  
 A) 1  
 B) 2  
 C) 6  
 D) 8

13.  $Mg_{(k)} + 2HCl_{(suda)} \rightarrow MgCl_{2(suda)} + H_{2(g)}$   
**Tepkime hızının ölçülmesinde yararlanılan özellik aşağıdakilerden hangisidir?**  
 A) Renk değişimi  
 B) İletkenlik  
 C) Gaz çıkışı  
 D) Sıcaklık değişimi

14.  $V = k [A]^2 [B]$   
**Hız denklemleri verilen tepkimenin derecesi aşağıdakilerden hangisidir?**  
 A) 1  
 B) 2  
 C) 3  
 D) 4

15.  $A(g) + 2B(g) \rightarrow 2C(g)$  tek basamakta yürüyen tepkimenin hız denklemleri aşağıdakilerden hangisidir?  
 A)  $Hız = k [A][B]^2$   
 B)  $Hız = k [A][B]$   
 C)  $Hız = k [A]^2 [B]$   
 D)  $Hız = k [A][B][C]$

16. 

<u>Bileşik</u>	<u>Kç</u>
BaF <sub>2</sub>	2,4.10 <sup>-5</sup>
CaF <sub>2</sub>	4.10 <sup>-11</sup>
MgF <sub>2</sub>	6,4.10 <sup>-9</sup>
PbF <sub>2</sub>	4.10 <sup>-8</sup>

Yukarıda 25°C taki çözünürlük çarpımları verilen bileşiklerden hangisinin doymuş çözeltisi elektrik akımını en iyi iletir?

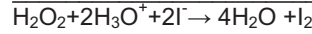
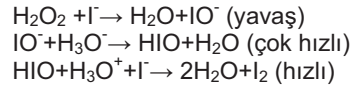
- A) CaF<sub>2</sub>  
 B) MgF<sub>2</sub>  
 C) PbF<sub>2</sub>  
 D) BaF<sub>2</sub>
17. Tek basamakta oluştuğu kabul edilen;  
 $N_2O_2(g) + H_2(g) \rightarrow H_2O(s) + N_2O(g)$   
**tepkimesinin derecesi kaçtır?**  
 A) 1  
 B) 2  
 C) 3  
 D) 4

18. I Isı alışverişi  
 II Basınç ve hacim değişimi  
 III Çökme  
 IV Hal değişimi

**Yukarıdaki olayların kaç tanesi kimyasal tepkimenin gerçekleştiğini gösterir?**

- A) 1  
 B) 2  
 C) 3  
 D) 4

19. Sulu çözeltide oluşan tepkimenin mekanizması aşağıdaki gibidir:



**Buna göre, bu tepkimeye ait hız denklemleri aşağıdakilerden hangisidir?**

- A)  $Hız = k [IO^-] [H_3O^+]$   
 B)  $Hız = k [HIO] [H_3O^+] [I^-]$   
 C)  $Hız = k [H_2O_2] [I^-]$   
 D)  $Hız = k [H_2O] [I_2]$

20.  $X_3Y_2$  bileşiğinin çözünürlük çarpımı bağıntısı aşağıdakilerden hangisidir?

- A)  $Kç = [X^{+3}]^3 [Y^{-3}]^2$   
 B)  $Kç = [X^{+3}] [Y^{-3}]$   
 C)  $Kç = [3X^{+2}] [2Y^{-3}]$   
 D)  $Kç = [X^{+3}]^3 [Y^{-2}]^2$

1. Aşağıdakilerden hangisi, 1. Dünya Savaşı sonunda itilaf devletlerinin yenilen devletlerle imzaladıkları antlaşmaların ortak özelliklerinden biri değildir?
  - A) Yenilen devletlerin topraklarının küçültülmesi
  - B) Yenilen devletlerin savaş tazminatlarının azaltılması
  - C) Yeni devletler kurulması
  - D) Yenilen devletlere ekonomik yükümlülükler getirilmesi
2. Aşağıdakilerden hangisi Türkiye'nin 1929 Dünya Ekonomik Krizi'ne karşı aldığı tedbirlerden biri değildir?
  - A) Korumacı-devletçi iktisat politikasına geçilmesi
  - B) Dış ticaret üzerindeki devlet denetiminin artırılması
  - C) Gümrük vergilerinin yükseltilmesi
  - D) Döviz üzerindeki devlet denetiminin azaltılması
3. Aşağıdakilerden hangisi Balkan Antantı'na katılan ülkelerden biri değildir?
  - A) Türkiye
  - B) Yunanistan
  - C) İtalya
  - D) Yugoslavya
4. Manda sisteminin amacı aşağıdakilerden hangisidir?
  - A) Sömürgeciliği devam ettirmek
  - B) Orta Doğu'da bozulan dengeleri yeniden kurmak
  - C) Orta Doğu'ya bağımsızlık getirmek
  - D) Wilson prensiplerini uygulamak
5. Türkiye, Irak, İran ve Afganistan arasında, bölgedeki barışı korumak amacıyla imzalanan antlaşma aşağıdakilerden hangisidir?
  - A) Ankara Antlaşması
  - B) San Remo Antlaşması
  - C) Sadabat Paketi
  - D) Briand-Kellogg Paketi
6. Aşağıdakilerden hangisi 1. Dünya Savaşı'nı bitirmek amacıyla Paris Konferansı'na katılan galip devletlerin beklentilerinden biri değildir?
  - A) Almanya'nın denizlerdeki gücünü artırmak
  - B) Avusturya ve Anadolu'dan bazı toprakları almak
  - C) Çin'den topraklar almak
  - D) Almanya'nın, Avrupa'daki dengeyi bozmasını önlemek
7. Boğazlar üzerindeki Türk egemenliği ve kontrolünü esas alan düzenlemelerin yapıldığı ve böylelikle Türkiye'nin Boğazlar üzerinde tam yetki elde ettiği antlaşma aşağıdakilerden hangisidir?
  - A) Balkan Antantı
  - B) Mondros Mütarekesi
  - C) Montrö Boğazlar Sözleşmesi
  - D) Lozan Barış Antlaşması
8. 2. Dünya Savaşı hangi tarihte sona erdi?
  - A) 1935
  - B) 1939
  - C) 1942
  - D) 1945
9. ABD'nin 2. Dünya Savaşı'na girmesine neden olan olay aşağıdakilerden hangisidir?
  - A) 1929 Dünya Ekonomik Krizi
  - B) Nazilerin iktidara gelmesi
  - C) Pearl Harbour Baskını
  - D) Çekoslovakya'nın işgali
10. Aşağıdakilerden hangisi 2. Dünya Savaşı'nın toplumsal sonuçlarından biridir?
  - A) Avrupa ve Asya'da nüfus hareketleri olması
  - B) Üretim ve ticaretin olumsuz etkilenmesi
  - C) Faşizm ve Nazizm gibi akımların tasfiye edilmesi
  - D) Dünyanın siyasi yapısının yeniden inşa edilmesi
11. Savaş sırasında işlenen insanlık suçlarına ne ad verilir?
  - A) Saldırı
  - B) Soykırım
  - C) Cinayet
  - D) Baskı

12. İnsan Hakları Evrensel Beyanamesi hangi yıl ilan edilmiştir?

- A) 1935
- B) 1948
- C) 1958
- D) 1965

13. Roosevelt, Churchill ve Stalin arasında barış esaslarını belirlemek amacıyla 4-11 Şubat 1945 tarihinde yapılan konferans aşağıdakilerden hangisidir?

- A) Yalta Konferansı
- B) Londra Konferansı
- C) San Fransisco Konferansı
- D) Paris Konferansı

14. Kore Savaşı hangi tarihler arasında olmuştur?

- A) 1947-1949
- B) 1950-1953
- C) 1954-1957
- D) 1958-1960

15. 2. Dünya Savaşı'nda Almanları durduran ve ilk kez yenilgiye uğratan devlet aşağıdakilerden hangisidir?

- A) Fransa
- B) İngiltere
- C) ABD
- D) SSCB

16. Aşağıdakilerden hangisi, 1955'de kurulan Varşova Paktı'nda yer alan ülkelerden biri değildir?

- A) Arnavutluk
- B) Bulgaristan
- C) Fransa
- D) Polonya

17. 2. Dünya Savaşı sonrası, devletler arası anlaşmazlıklar ve farklı dünya görüşlerinin çatışmasıyla oluşan uluslararası mücadelelerin, sıcak savaşa girmeden sürdüğü döneme ne ad verilir?

- A) Bloklaşma Dönemi
- B) Yumuşama Dönemi
- C) Barış Dönemi
- D) Soğuk Savaş Dönemi

18. Truman Doktrini ile ilgili aşağıdaki ifadelerden hangisi yanlıştır?

- A) Her Avrupa ülkesine, Amerikan malı malzeme ve makine yardımını kapsamaktadır.
- B) ABD'nin, Batı dünyasının liderliğini üstlenmek için açık bir şekilde yaptığı ilk girişimdir.
- C) SSCB ve ABD mücadelesinin başladığını ilan etmiştir.
- D) ABD yöneticilerinin, dünyanın SSCB tehdidi altında bulunduğu dair endişeleri nedeniyle uygulamaya konmuştur.

19. Aşağıdakilerden hangisi, Avrupa'da kapsamlı bir ekonomik birleşmenin gerçekleştirilmesine yönelik olarak 1957'de Roma Antlaşmasıyla kurulmuştur?

- A) NATO
- B) UNESCO
- C) Avrupa Konseyi
- D) Avrupa Ekonomik Topluluğu

20. Aşağıdakilerden hangisi, 1950-1960 yılları arasında Türkiye ekonomisinde yaşanan gelişmelerden biridir?

- A) Kamu iktisadi teşekküllerinin özelleştirilmesi
- B) Tarım üretiminin düşmesi nedeniyle, buğday ithal etmek zorunda kalınması
- C) İthalat ve döviz üzerindeki devlet denetiminin kaldırılması
- D) Demiryolları yatırımlarına hız verilmesi

1. Aşağıdakilerden hangisi emek olarak kabul edilebilir?

- A) Dağ sporu yapmak
- B) Tarla sürmek
- C) Zevk için kürek çekmek
- D) Makinelerin ve hayvanların faaliyetleri

2. Kişi başına düşen gelirin artış hızı (net gelişme hızı) nasıl hesaplanır?

- A) Yıllık Gelişme Hızı + Yıllık Nüfus Artış Hızı
- B) Yıllık Gelişme Hızı- Yıllık Nüfus Artış Hızı
- C) Yıllık Gelişme Hızı x Yıllık Nüfus Artış Hızı
- D) Yıllık Gelişme Hızı / Yıllık Nüfus Artış Hızı

3. Aşağıdakilerden hangisi emeğin verimini etkileyen subjektif etkenlerden biridir?

- A) İşyerinin teknik bakımdan havalandırılması
- B) İşyerinin hava basıncının ayarlanması
- C) İşçinin ücret kesintisi korkusu yaşaması
- D) İşyerinde müzik yayını yapılması

4. Aşağıdakilerden hangisi, emek sınıflaması içinde yer almaz?

- A) Karşılaştırmalı emek
- B) Objektif emek
- C) Subjektif emek
- D) Yaratıcı emek

5. İnsanların mal ve hizmet elde etmek için yaptıkları faaliyetlere ne ad verilir?

- A) Emek
- B) Üretim
- C) Rant
- D) Girişimcilik

6. Aşağıdakilerden hangisi öz sermaye içerisinde yer almaz?

- A) Faaliyetlerin devamı süresinde kuruluş sahipleri tarafından getirilen para
- B) Kuruluş aşamasında kuruluş sahipleri tarafından getirilen para
- C) Kâr üzerinden alınan yedek akçe
- D) Kuruluşun çalışanlarına olan borçları

7. Aşağıdakilerden hangisi zirai sermayeye bir örnektir?

- A) Hammadde
- B) Tohum
- C) Kömür
- D) Makine

8. Orta vadeli borçların süresiyle ilgili aşağıdakilerden hangisi doğrudur?

- A) 1 - 3 ay vadeli
- B) 3 - 6 ay vadeli
- C) 6 - 9 ay vadeli
- D) 1 - 2 yıl vadeli

9. Hukuksal anlamda sermayenin tanımı aşağıdakilerden hangisidir?

- A) Bir kuruluşun aktifindeki dönen varlıklardır.
- B) Sosyal veya hukuki bir organizasyonda sahibine çalışmaksızın gelir sağlayan para değerlerinin bütünüdür.
- C) Bir kuruluşun aktifindeki duran varlıklardır.
- D) Değişmeyen sermayeyi sağlamak için gerekli paranın bulunduğu kaynakları gösteren kavramdır.

10. Aşağıdakilerden hangisi dönen varlıklardandır?

- A) Hammaddeler
- B) Binalar
- C) Araziler
- D) Makinalar

11. Kooperatiflerle ilgili aşağıdaki ifadelerden hangisi yanlıştır?

- A) Serbest ve istemli kuruluşlardır.
- B) Sadece ortaklarına yardım etmek amacıyla kurulmuşlardır.
- C) Üyelerine üretim, tüketim ve kredi konularında yardım eder.
- D) Büyük bir kısmını devlet ve başka kuruluşlar tarafından kurulan kooperatifler oluşturur.

12. Aşağıdakilerden hangisi girişimcinin ekonomik işlevlerinden biridir?

- A) Üretim faktörlerini nasıl sağlayacağını belirlemek
- B) Üretime katılan faktörlerin payını dağıtmak
- C) Üretim faktörleri için gerekli olan sermayenin nereden sağlanacağını planlamak
- D) Kuruluş yerini seçmek

13. Şirket borçlarından bütün varlığıyla ve sadece koyduğu sermaye kadar sorumluluk taşıyan iki değişik ortak tipine sahip özel girişim aşağıdakilerden hangisidir?

- A) Adi Komandit Şirket
- B) Anonim Şirket
- C) Holding
- D) Kollektif Şirket

14. Aşağıdakilerden hangisi kolektif şirketin özelliklerinden biridir?

- A) Aksiyon doğrudan doğruya sermayenin göstergesidir.
- B) Ortakların sorumluluğu, şirkete koydukları sermaye ile sınırlanmıştır.
- C) Şirketin sermayesi eşit değerde ve belirli sayıda hisselerle ayrılmıştır.
- D) Şirketin ve ortakların sorumluluğu sınırlanmamıştır.

15. Girişimci (Müteşebbis) ile ilgili aşağıdaki ifadelerden hangisi yanlıştır?

- A) Girişim faaliyetlerinden doğan riskleri üstlenen kişidir.
- B) Kâr amacıyla girişimi başlatan kişidir.
- C) Üretim faktörlerinden yararlanarak mal ve hizmet üreten ve satan ekonomik bir ünitelerdir.
- D) Üretim faktörlerinden yararlanarak mal ve hizmet üreten kişidir.

16. Safi Milli Hasıla aşağıdakilerden hangisine eşittir?

- A) GSMH - Kâr
- B) GSMH + Sübvansiyonlar
- C) GSMH - Amortismanlar
- D) GSMH + Dolaylı Vergiler

17. Aşağıdakilerden hangisi milli geliri oluşturan üretim faktörleri arasında yer almaz?

- A) Tarım
- B) Rant
- C) Faiz
- D) Kâr

18. Aşağıdaki kalemlerden hangisi milli gelir hesaplanışında negatif değer alır?

- A) Vasıtalı (dolaylı) vergiler
- B) Hizmetler
- C) Sübvansiyonlar
- D) Sanayi

19. Üretim sonunda milli gelirden girişimciye düşen paya ne ad verilir?

- A) Faiz
- B) Ücret
- C) Kâr
- D) Rant

20. Emek bedelinin zaman birimine göre hesaplanarak verilen ücretlere ne ad verilir?

- A) Reel ücret
- B) Nominal ücret
- C) Parça başına ücret
- D) Zamana göre ücret

1. İşletmelerin ticari faaliyetleri ile ilgili kayıtların belirli bir sisteme göre tutulmasına ne ad verilir?
  - A) Finans
  - B) Muhasebe
  - C) Denetim
  - D) İş analizi
  
2. İnsanların istekleri doğrultusunda üretim yaparken, yeni teknoloji uygulayan, yepyeni ürün geliştiren ve mevcut pazarı genişleten ekonomik birime ne ad verilir?
  - A) Girişim
  - B) Üretim
  - C) Hizmet
  - D) Teknoloji
  
3. Bir işletmede olabildiğince az kaynaktan, olabildiğince çok mal ve hizmet üretimi sağlamaya ne ad verilir?
  - A) Fayda
  - B) Kâr
  - C) Hizmet
  - D) Verimlilik
  
4. Bir işletmede insanların çabalarının birleştirilmesi, zaman bakımından ayarlanması ve ortaklaşa amaca varmak için faaliyetlerin birbiri ardı sıra düzenlenerek birbirlerini bütünlemelerinin sağlanması sürecine ne ad verilir?
  - A) Sevk
  - B) Planlama
  - C) Koordinasyon
  - D) İdare
  
5. Aşağıdakilerden hangisi dayanıksız mal üreten işletmelere örnektir?
  - A) Buzdolabı fabrikaları
  - B) İş makinesi fabrikaları
  - C) Otomobil fabrikaları
  - D) Konserve fabrikaları
  
6. İşletme mülkiyetinin bakanlıklar ve belediyeler gibi devlet kuruluşlarına ait olduğu işletmelere ne ad verilir?
  - A) Kamu işletmeleri
  - B) Sermaye şirketleri
  - C) Şahıs işletmeleri
  - D) Özel işletmeler
  
7. Aşağıdakilerden hangisi ekonomik nedenlerle kurulan kamu işletmelerine örnektir?
  - A) Devlet hastaneleri
  - B) Türkiye şeker fabrikaları
  - C) Kız meslek liseleri
  - D) Otelcilik ve turizm meslek liseleri
  
8. Aşağıdakilerden hangisi şahıs işletmelerinin özelliklerinden biri değildir?
  - A) Kârın bölüşülmemekle işletmenin sahibinin elinde toplanması
  - B) İşletme sorunları ve işletmede alınan kararların işletme dışına yayılmaması
  - C) Şirket yönetiminin genellikle uzman kişilere bırakılması
  - D) Kurulmasının kolay olması
  
9. Aşağıdakilerden hangisi bir işletmede organizasyon aşamasında yapılması gereken işlemlerden biri değildir?
  - A) Yapılacak işlerin belirlenerek gruplandırılması
  - B) Çalışma yeri, kullanılacak araç ve yöntemlerin belirlenmesi
  - C) Uygulamada alınan sonuçların amaçlarla karşılaştırılması
  - D) Çalışanların yetki ve sorumluluklarının belirlenmesi
  
10. Bir işletmenin kurulması ve işletilmesi için gerekli para ve kredilerin bulunması ve ekonomik olarak kullanılması işlevine ne ad verilir?
  - A) Finans
  - B) Muhasebe
  - C) Üretim
  - D) Yönetim

11. Bir işletmede amaçların belirlenmesi ve bu amaçlara ulaşmayı sağlayacak araçların seçimine ne ad verilir?

- A) Politika
- B) Taktik
- C) Strateji
- D) Planlama

12. Aşağıdakilerden hangisi yönetim fonksiyonlarından biri değildir?

- A) Koordinasyon
- B) Pazarlama
- C) Planlama
- D) Denetim

13. Yöneticilerin yapılması gereken işler için, astlarına emir verme ve astların bu emirlere uymalarını bekleme hakkına ne ad verilir?

- A) Tecrübe
- B) Sorumluluk
- C) Liderlik
- D) Yetki

14. Aşağıdakilerden hangisi bir işletmede orta yönetim kademesinde çalışan görevlilerden biridir?

- A) Genel müdür
- B) Usta başı
- C) Bölüm müdürleri
- D) Baş kalfa

15. İşletmelerde uzmanlaşmaya diğerlerine göre daha çok imkân veren bölümlendirme biçimi aşağıdakilerden hangisidir?

- A) Fonksiyonlara göre bölümlendirme
- B) Zaman faktörüne göre bölümlendirme
- C) Bölgelere göre bölümlendirme
- D) Üretilen mal ve hizmete göre bölümlendirme

16. Bir işletmede hukuk müşavirinin kullanmış olduğu yetki türü aşağıdakilerden hangisidir?

- A) Sınırsız yetki
- B) Kurmay yetki
- C) Komuta yetkisi
- D) Çapraz yetki

17. İdari teftiş ve hiyerarşik denetim ile ilgili aşağıdaki ifadelerden hangisi yanlıştır?

- A) İdari teşkilatın, idari denetim yoluyla denetlenmesi, hiyerarşik denetim ve idari teftiş şeklinde kendini gösterir.
- B) İdari teftiş yürütme yetkisi olan müfettişler tarafından yapılır.
- C) Hiyerarşik denetim çalışanın iş başarısı durumuna yöneliktir. İdari teftişte ise, genel kanun ve kurallara uyulup uyulmadığına bakılır.
- D) Hiyerarşik denetimde bürolardaki hizmetin yürütülmesi için idarenin kullandığı çeşitli araç ve elemanlar arasında en önemli yeri çalışanlar alır.

18. Aşağıdakilerden hangisi, bürolara alınacak ve kullanılacak araç, gereç ve makine seçiminde dikkate alınması gereken ilkelerden biri değildir?

- A) Standart, parçası bulunan, bakımı ve onarımı ülkede yapılan modeller seçilmelidir.
- B) Araç ve gereçlerin hizmet ya da mal üretimine uygun, ucuz, sağlam ve kullanışlı olmasına dikkat edilmelidir.
- C) Araç gereç alımında kiralama yöntemi asla düşünülmemeli, her zaman satın alma yoluna gidilmelidir.
- D) Alınacak makineyi kullanabilecek, bakım ve onarım yapabilecek servis ve teknisyen bulunmalıdır.

19. İşletmelerde büro yerleşimi ile ilgili aşağıdaki ifadelerden hangisi yanlıştır?

- A) Büro dekorasyonunda koyu renkler kullanılmalıdır.
- B) Halkla ilişkisi olan çalışanlar giriş katında veya kapıya yakın bulunmalıdır.
- C) Birbirleri ile ilgili ve bağlantılı çalışanlar yakın masa ya da odalarda oturtulmalıdır.
- D) İşe yaramayan eşyalar büro ve işyerinden atılmalıdır.

20. Bir işletmede çalışanların bölüm yöneticilerine bağlılığı ve bunların da kendi aralarında sınıflandırılışına ne ad verilir?

- A) Sorumluluk
- B) Yetki alanı
- C) Bölümlendirme
- D) Hiyerarşi

1. “İnsanlar paylaşmayı severlerse rahat diyalog kurarlar hem de dürüst ilişkiler yaşarlar.” önermesinde kaç tane önerme eklemi ve bileşen kullanılmıştır?

- A) İki önerme eklemi, üç bileşen
- B) Bir önerme eklemi, bir bileşen
- C) Üç önerme eklemi, bir bileşen
- D) Dört önerme eklemi, dört bileşen

2. Aşağıdaki önermelerden hangisi ikili yüklemli bir önermedir?

- A) Mustafa, Taner ile Semih'ten uzundur.
- B) Özlem başarılıdır.
- C) Fuat, piyano çalar.
- D) Orhan ile Ahmet arkadaştır.

3.  $p \vee q$  önermesinin eşdeğeri olan önerme aşağıdakilerden hangisidir?

- A)  $p \Rightarrow q$
- B)  $p \Leftrightarrow q$
- C)  $p \wedge q$
- D)  $\sim (\sim p \wedge \sim q)$

4. Önerme ile ilgili aşağıdaki ifadelerden hangisi doğrudur?

- A) Bir önermenin doğruluk tablosundaki tüm yorumlamaları yanlışsa önerme tutarsızdır.
- B) Bir önermenin tutarlı olabilmesi için doğruluk tablosundaki tüm yorumlamaların doğru olması gerekir.
- C) Her tutarlı önerme geçerlidir.
- D) Her tutarsız önerme geçerlidir.

5. “Ceren sevimli ve akıllıdır.” önermesi nicelleme mantığında nasıl sembolleştirilir?

- A)  $\forall xFx$
- B)  $Fa \wedge Ga$
- C)  $Fa \Rightarrow Ga$
- D)  $\exists x \wedge Ga$

6. Kiplik mantığına göre, “üç artı altının dokuz etmesi zorunludur ama ısınan havanın yükselmesi mümkündür.” önermesinin sembolleştirilmiş hali aşağıdakilerden hangisidir?

- A)  $\square p \rightarrow \diamond p$
- B)  $\diamond p \wedge \square q$
- C)  $\square q \wedge \diamond p$
- D)  $\diamond p \leftrightarrow \square q$

7. Aşağıdaki önermelerden hangisi bir totolojidir?

- A)  $p \Rightarrow p$
- B)  $p \vee p$
- C)  $p \wedge \sim p$
- D)  $\sim p \Leftrightarrow p$

8. “Ya kilo alacaksın ya da az yemek yiyeceksin.” önermesi, önermeler mantığında nasıl sembolleştirilir?

- A)  $p \wedge q$
- B)  $p \Rightarrow q$
- C)  $p \Leftrightarrow q$
- D)  $p \vee q$

9.  $\sim \exists xGx$  önermesinin eşdeğeri aşağıdakilerden hangisidir?

- A)  $\forall x \sim Gx$
- B)  $\sim \forall xGx$
- C)  $\exists xGx$
- D)  $\sim \exists x \sim Gx$

10. Üç değerli mantığa göre aşağıdakilerden hangisi doğrudur?

- A) p “belirsiz” ve q “belirsiz” ise,  $p \rightarrow q$  “belirsiz” olur.
- B) p “yanlış” ve q “yanlış” ise,  $p \vee q$  “yanlış” olur.
- C) p “doğru” ve q “belirsiz” ise  $p \rightarrow q$  “yanlış” olur.
- D) p “belirsiz” ve q “belirsiz” ise  $p \wedge q$  “yanlış” olur.



11. Kiplik mantığına göre aşağıdaki önermelerden hangisi bütün mümkün dünyalarda yanlıştır?

- A) Anıtkabir Ankara'dadır veya Anıtkabir Ankara'da değildir.
- B) Altın sarı değildir.
- C) Dikdörtgen dört kenarlıdır.
- D) Menekşe mordur ve menekşe mor değildir.

12. "Uçan halı vardır." önermesi varlık mantığında nasıl sembolleştirilir?

- A)  $a \equiv a$
- B)  $\square p$
- C)  $E! a$
- D)  $a \equiv b$

13. Aşağıdaki önermelerden hangisi sembolik mantıkta bileşik bir önermedir?

- A) Mehmet çok çalışkandır.
- B) Mozart filozof değildir.
- C) Bütün insanlar akıllıdır.
- D) Zeynep yaşlıdır.

14. Aşağıdaki önermelerden hangisi p:Yanlış, q:Yanlış kabul edildiğinde "Doğru" değerini alır?

- A)  $\sim p \Rightarrow q$
- B)  $p \vee q$
- C)  $p \Leftrightarrow q$
- D)  $p \wedge q$

15. "Kar yağarsa okullar tatil olmaz." önermesi, önermeler mantığında nasıl sembolleştirilir?

- A)  $q \Rightarrow p$
- B)  $p \Rightarrow \sim q$
- C)  $\sim p \Rightarrow q$
- D)  $p \Leftrightarrow \sim q$

16. Aşağıdaki önerme çiftlerinden hangisi birbirleriyle tutarlıdır?

- A)  $\forall xFx, \sim Fa$
- B)  $\sim \exists xFx, Fa$
- C)  $Ga, \sim Ga$
- D)  $\exists xGx, \exists x \sim Gx$

17. Aşağıdaki önermelerden hangisi geçerlidir?

- A)  $\exists xGx \wedge \exists xHx$
- B)  $\forall xFx \vee \forall xGx$
- C)  $\forall xFx \vee \sim \forall xFx$
- D)  $\sim (\exists xGx \rightarrow \forall xGx)$

18. Doğruluğu açıkça belli olan önermelere ne ad verilir?

- A) Aksiyom
- B) Eşitlik
- C) Tutarlılık
- D) Tanım

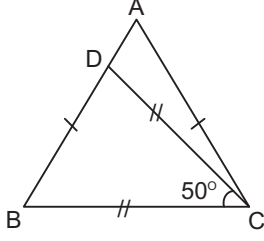
19. Aksiyomlardan türetilmiş olan önermelere ne ad verilir?

- A) Teori
- B) Tam tümevarım
- C) Teorem
- D) Eksik tümevarım

20. Aşağıdakilerden hangisi mantık felsefesinin amaçlarından biri değildir?

- A) Mantığın kavramlarını sorgulamak
- B) Mantığı gözlem ve deneye dayandırmanın yollarını araştırmak
- C) Mantığın ilkelerini sorgulamak
- D) Mantık değişmezleri ile ilgili sorunları araştırmak

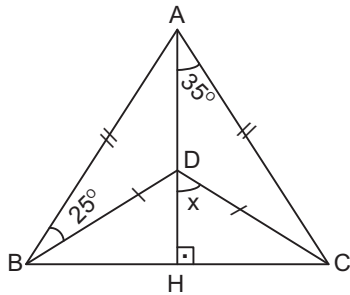
1.



Yukarıdaki ABC üçgeninde,  $|AB| = |AC|$ ,  $|DC| = |BC|$  ve  $m(\widehat{DCB}) = 50^\circ$  ise,  $m(\widehat{A})$  kaç derecedir?

- A) 50
- B) 65
- C) 70
- D) 80

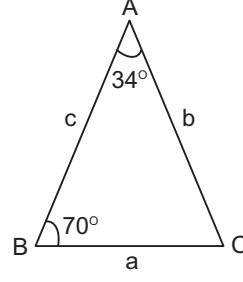
2.



Yukarıdaki ABC üçgeninde  $|AB| = |AC|$ ,  $|BD| = |DC|$ ,  $[AH] \perp [BC]$ ,  $m(\widehat{DAC}) = 35^\circ$ ,  $m(\widehat{ABD}) = 25^\circ$  ise,  $m(\widehat{HDC}) = x$  kaç derecedir?

- A) 45
- B) 50
- C) 55
- D) 60

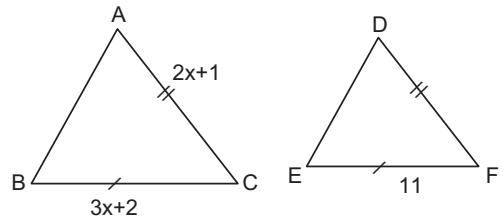
3.



Yukarıdaki ABC üçgeninde a, b, c üçgenin kenar uzunluklarını göstermektedir.  $m(\widehat{BAC}) = 34^\circ$  ve  $m(\widehat{ABC}) = 70^\circ$  olduğuna göre, aşağıdaki sıralamalardan hangisi doğrudur?

- A)  $a < b < c$
- B)  $a < c < b$
- C)  $b < a < c$
- D)  $c < a < b$

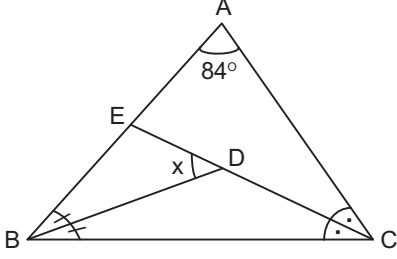
4.



Yukarıdaki şekilde  $\widehat{ABC} \cong \widehat{DEF}$   $|AC| = 2x+1$  cm  $|BC| = 3x+2$  cm ve  $|EF| = 11$  cm ise,  $|DF|$  kaç cm dir?

- A) 8
- B) 7
- C) 6
- D) 5

5.



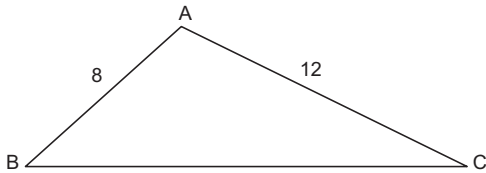
Yukarıdaki ABC üçgeninde  $\hat{B}$  ile  $\hat{C}$  açılarının açıortayları D noktasında kesişmektedir.  $m(\hat{A})=84^\circ$  ise,  $m(\widehat{EDB})=x$  kaç derecedir?

- A) 40
- B) 45
- C) 48
- D) 54

6. Tüm iç açılarının ölçüleri  $90^\circ$ 'den küçük olan üçgene ne ad verilir?

- A) Geniş açılı üçgen
- B) İkizkenar üçgen
- C) Dik açılı üçgen
- D) Dar açılı üçgen

7.



Yukarıdaki ABC üçgeninde A geniş açı,  $|AB|=8$  br,  $|AC|=12$  br ise,  $|BC|$ 'nin alabileceği en büyük tamsayı değeri kaçtır?

- A) 17
- B) 19
- C) 20
- D) 21

8.

Benzerlik oranı  $\frac{4}{5}$  olan benzer iki üçgenden birinin çevresi 24 cm ise, diğerinin çevresi kaç cm dir?

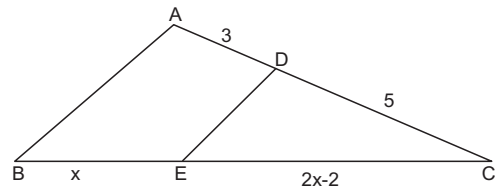
- A) 28
- B) 30
- C) 32
- D) 36

9.

Benzerlik oranı  $\frac{3}{4}$  olan benzer iki üçgenden birinin alanı  $54 \text{ cm}^2$  ise, diğerinin alanı kaç  $\text{cm}^2$  dir?

- A) 86
- B) 92
- C) 96
- D) 108

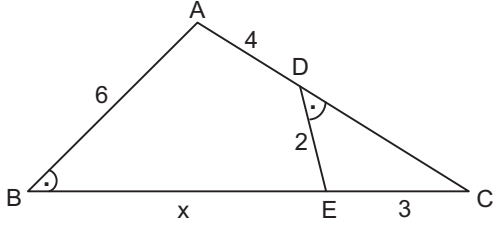
10.



Yukarıdaki ABC üçgeninde  $[AB] \parallel [DE]$ ,  $|BE|=x$  cm,  $|EC|=2x-2$  cm,  $|AD|=3$  cm ve  $|DC|=5$  cm ise,  $|BC|$  kaç cm dir?

- A) 16
- B) 20
- C) 24
- D) 32

11.



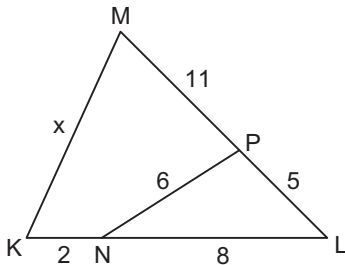
Yukarıdaki ABC üçgeninde  $m(\widehat{D})=m(\widehat{B})$ ,  $|AB|=6$  cm,  $|AD|=4$  cm,  $|DE|=2$  cm ve  $|EC|=3$  cm ise  $|BE|=x$  kaç cm dir?

- A) 10
- B) 12
- C) 13
- D) 15

12.  $\frac{a}{b} = \frac{7}{5}$  ise,  $\frac{a-b}{b}$  kaçtır?

- A)  $\frac{1}{6}$
- B)  $\frac{2}{5}$
- C)  $\frac{5}{2}$
- D)  $\frac{12}{5}$

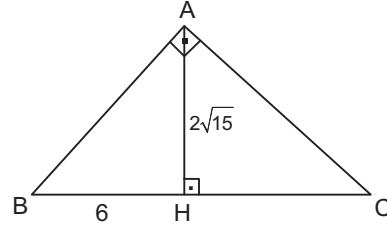
13.



Yukarıdaki şekilde,  $\widehat{KLM} \sim \widehat{PLN}$   $|MP|=11$  cm  $|PL|=5$  cm,  $|LN|=8$  cm,  $|KN|=2$  cm ve  $|PN|=6$  cm ise,  $|KM|=x$  kaç cm dir?

- A) 14
- B) 13
- C) 12
- D) 11

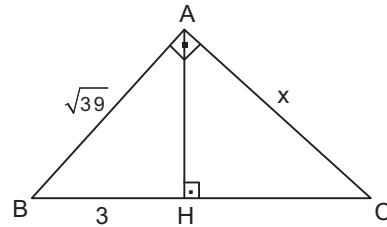
14.



Yukarıdaki ABC üçgeninde  $[AB] \perp [AC]$ ,  $[AH] \perp [BC]$ ,  $|AH|=2\sqrt{15}$  br,  $|BH|=6$  br ise  $|AC|$  kaç br dir?

- A)  $\sqrt{15}$
- B)  $4\sqrt{3}$
- C)  $4\sqrt{10}$
- D)  $4\sqrt{15}$

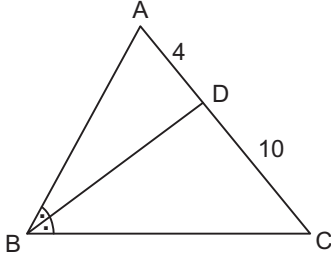
15.



Yukarıdaki ABC üçgeninde  $[AB] \perp [AC]$ ,  $[AH] \perp [BC]$ ,  $|AB|=\sqrt{39}$  cm,  $|BH|=3$  cm ise  $|AC|=x$  kaç cm dir?

- A) 6
- B)  $\sqrt{82}$
- C)  $\sqrt{110}$
- D)  $\sqrt{130}$

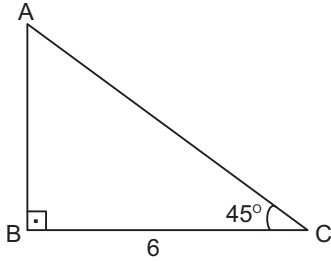
16.



Yukarıdaki ABC üçgeninde [BD]  $\hat{B}$  açısının açıortayı  $|AD|=4$  cm,  $|DC|=10$  cm ve ABC üçgeninin çevresi 42 cm ise,  $|BC|$  kaç cm dir?

- A) 28
- B) 24
- C) 20
- D) 18

17.



Yukarıdaki ABC üçgeninde  $[AB] \perp [BC]$ ,  $m(\hat{C})=45^\circ$  ve  $|BC|=6$  cm ise,  $|AC|$  kaç cm dir?

- A)  $3\sqrt{2}$
- B)  $6\sqrt{2}$
- C) 6
- D) 12

18. Bir üçgenin ağırlık merkezinin üçgenin köşelerine uzaklıkları toplamı  $12\sqrt{3}$  birimdir. Bu üçgenin kenarortaylarının uzunlukları toplamı kaç birimdir?

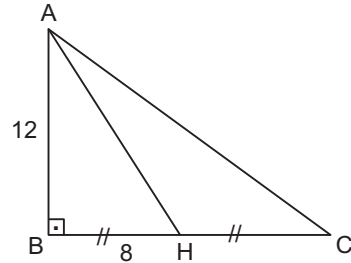
- A)  $6\sqrt{3}$
- B)  $8\sqrt{3}$
- C)  $15\sqrt{3}$
- D)  $18\sqrt{3}$

19.  $t \in \mathbb{R}$ ,  $x=3$ ,  $y=2x+4$ ,  $z-2t=8$  ve  $\frac{x}{y} = \frac{t}{z}$  ise,

$z+t$  toplamı kaçtır?

- A) 26
- B) 24
- C) 25
- D) 22

20.



Yukarıdaki ABC üçgeninde  $[AB] \perp [BC]$ ,  $|BH|=|HC|=8$  cm,  $|AB|=12$  cm ise,  $|AC|$  kaç cm dir?

- A) 18
- B) 20
- C) 24
- D) 25

1. Martina ..... gerne mit Peter .....

**Welche Wörter passen in die obigen Lücken?**

**Cümlede boş bırakılan yerleri aşağıdakilerden hangileri doğru olarak tamamlar?**

- A) wird / getanzt  
B) würde / tanzen sein  
C) wirst / tanzen wollen  
D) würde / tanzen

2. A: Hat Tina diesen Film gesehen?  
B: Nein, sie hat diesen Film nicht gesehen!  
A: .....  
B: Ja, der Film war wirklich toll!

**Welches ergänzt den obigen Dialog?**

**Verilen karşılıklı konuşmayı aşağıdakilerden hangisi tamamlar?**

- A) Hätte sie doch diesen Film gesehen!  
B) Das war auch im Film zu sehen.  
C) Wäre es nicht super, wenn wir zusammen gingen?  
D) Naja, das macht nichts.

3. Er hätte so gern ein ..... neues Auto.

**Welches Wort passt in die obige Lücke?**

**Cümlede boş bırakılan yeri aşağıdakilerden hangisi doğru şekilde tamamlar?**

- A) blau  
B) blauen  
C) blaues  
D) blauem

4. Wir dachten, ihr wärt im Kino!

**Wie lautet der obige Satz auf Türkisch?**

**Verilen cümlelerin Türkçesi aşağıdakilerden hangisidir?**

- A) Sizin sinemada olduğunuzu sandık!  
B) Sizin sinemada olmanız gerekiyordu!  
C) Siz zaten hep sinemaya gidersiniz!  
D) Sizin niyetiniz sinemaya gitmek değildi aslında!

5. Was bedeutet "birşeyi iddia etmek" auf Deutsch?

**"birşeyi iddia etmek" sözcüğünün Almancası aşağıdakilerden hangisidir?**

- A) etwas angeben  
B) etwas behaupten  
C) etwas zeigen  
D) etwas geben

6. Stell dir vor, dein Vater ..... aus Deutschland!

**Welches Wort passt in die obige Lücke?**

**Cümlede boş bırakılan yeri aşağıdakilerden hangisi doğru şekilde tamamlar?**

- A) käme  
B) kommet  
C) kämst  
D) kamen

7. Die Versammlung ..... heute im Saal statt.

**Welches Wort passt in die obige Lücke?**

**Cümlede boş bırakılan yeri aşağıdakilerden hangisi doğru şekilde tamamlar?**

- A) ladet  
B) fand  
C) hat  
D) macht

8. Wir haben morgen keine Schule.

**Welches ist die Konjunktiv-Form vom obigen Satz?**

**Verilen cümlelerin Konjunktiv hali aşağıdakilerden hangisidir?**

- A) Man kann behaupten, daß wir morgen keine Schule haben.  
 B) Man erzählt, wir sollen morgen nicht zur Schule.  
 C) Man sagt, wir hätten morgen keine Schule.  
 D) Man sagte, daß die Schule heute geschlossen ist.

9. Was bedeutet "Er lebe hoch!" auf Türkisch?

**"Er lebe hoch!" ifadesinin Türkçesi aşağıdakilerden hangisidir?**

- A) Geçmiş olsun!  
 B) Hayırlı olsun!  
 C) Yaşasın!  
 D) Saygılar!

10. Der Weg ..... schmal.

**Welches Wort passt in die obige Lücke?**

**Cümlede boş bırakılan yeri aşağıdakilerden hangisi doğru şekilde tamamlar?**

- A) ist  
 B) hat  
 C) hätte  
 D) waren

11. Jochen ..... vorher in einer Fabrik .....

**Welche Wörter passen in die obigen Lücken?**

**Cümlede boş bırakılan yerleri aşağıdakilerden hangileri doğru şekilde tamamlar?**

- A) hat / gemacht  
 B) ist / versorgen  
 C) wäre / gefällt  
 D) habe / gearbeitet

12. Der junge Mann ..... nicht mehr laufen, denn er ..... vor einem Monat einen großen Unfall gehabt.

**Welche Wörter passen in die obigen Lücken?**

**Cümlede boş bırakılan yerleri aşağıdakilerden hangileri doğru şekilde tamamlar?**

- A) ist / hätte  
 B) könne / habe  
 C) war / habe  
 D) kann / hattest

13. Mein Vater sagte mir, .....

**Welches ergänzt nicht die Lücke im obigen Satz?**

**Verilen cümleyi aşağıdakilerden hangisi tamamlamaz?**

- A) weil die Fußballmannschaft kein Erfolg haben wird.  
 B) das Geschäft sei durchgehend geschlossen.  
 C) der Roman sei von Adalet Ağaoğlu geschrieben worden.  
 D) der Film sei sehr gut gedreht worden.

14. Der Mann, ....., kommt aus Italien.

**Welches ergänzt den obigen Satz?**

**Cümleyi aşağıdakilerden hangisi doğru olarak tamamlar?**

- A) dem die Tochter verheiratet ist
- B) der immer zu uns kommen
- C) den du vom Deutschkurs kennst
- D) die sehr reich sind

15. Die Kinder, die dort spielen, sind Geschwister.

**Welche Frage passt zur obigen Antwort?**

**Verilen cevabı gerektirecek soru aşağıdakilerden hangisidir?**

- A) Welche Kinder spielen?
- B) Welche Kinder sind Geschwister?
- C) Wo sind die Kinder?
- D) Welche Kinder gehen in die Schule?

16. Was bedeutet "das Fahrrad" auf Türkisch?

**"das Fahrrad" sözcüğünün Türkçesi aşağıdakilerden hangisidir?**

- A) kalem
- B) araba
- C) bisiklet
- D) motor

17. Der Füller, ..... du mir geschenkt hast, gefällt mir sehr gut.

**Welches Wort passt in die obige Lücke?**

**Cümlede boş bırakılan yeri aşağıdakilerden hangisi doğru şekilde tamamlar?**

- A) das
- B) die
- C) der
- D) den

18. Die Häuser, ..... Fenster zu hoch sind, mag ich nicht

**Welches Wort passt in die obige Lücke?**

**Cümlede boş bırakılan yeri aşağıdakilerden hangisi doğru şekilde tamamlar?**

- A) denen
- B) dessen
- C) der
- D) die

19. Yan tarafta oturan genç adam bizim komşumuz.

**Wie lautet der obige Satz auf Deutsch?**

**Verilen cümlelerin Almancası aşağıdakilerden hangisidir?**

- A) Der junge Mann, der hierher kommt, kennt dich.
- B) Der junge Mann, dem ich helfe, wohnt hier.
- C) Der junge Mann, der hier wohnen soll, kennt uns.
- D) Der junge Mann, der nebenan wohnt, ist unser Nachbar.

20. Das Auto, das ich neu gekauft habe, .....

**Welches ergänzt die Lücke im obigen Satz?**

**Verilen cümleyi aşağıdakilerden hangisi tamamlar?**

- A) sollst du gekauft haben.
- B) wurde verkauft.
- C) können wir auch kaufen.
- D) war ziemlich teuer.



1. A:What are you doing at the moment?  
B:I ..... breakfast with my sister.

Which of the following completes the dialogue above?

Aşağıdakilerden hangisi yukarıdaki konuşmayı doğru olarak tamamlar?

- A) have  
B) had  
C) was having  
D) am having

2. A:What time do you usually get up?  
B:I usually ..... at seven o'clock in the mornings.

Which of the following completes the dialogue above?

Aşağıdakilerden hangisi yukarıdaki konuşmayı doğru olarak tamamlar?

- A) get up  
B) gets up  
C) getting up  
D) got up

3. There ..... some flowers in the vase.

Which of the following completes the sentence above?

Aşağıdakilerden hangisi yukarıdaki cümleyi doğru olarak tamamlar?

- A) is  
B) isn't  
C) was  
D) are

4. A:Are you watching TV now?  
B:No, I'm not. But I sometimes .....the quiz shows.

Which of the following completes the dialogue above?

Aşağıdakilerden hangisi yukarıdaki konuşmayı doğru olarak tamamlar?

- A) am watching  
B) watch  
C) will watch  
D) watches

5. A:Was Mehmet at school last Thursday?  
B:Yes,.....

Which of the following completes the dialogue above?

Aşağıdakilerden hangisi yukarıdaki konuşmayı doğru olarak tamamlar?

- A) she was  
B) he wasn't  
C) he was  
D) he is

6. Look at the people! They ..... cheerful songs.

Which of the following completes the sentence above?

Aşağıdakilerden hangisi yukarıdaki cümleyi doğru olarak tamamlar?

- A) sing  
B) are singing  
C) were singing  
D) has sing

7. They spend their summer holiday by the sea.

Which of the following is the negative form of the sentence above?

Aşağıdakilerden hangisi yukarıdaki cümlelerin olumsuz biçimidir?

- A) They didn't spend their summer holiday by the sea.  
B) They doesn't spend their summer holiday by the sea.  
C) They don't spend their summer holiday by the sea.  
D) They haven't spent their summer holiday by the sea.

8. A: Is it cloudy today?  
B: No, ..... It's windy.

Which of the following completes the dialogue above?

Aşağıdakilerden hangisi yukarıdaki konuşmayı doğru olarak tamamlar?

- A) it isn't  
B) it wasn't  
C) it didn't  
D) it doesn't

9. Semra often ..... lunch out but now she ..... lunch in the office.

Which of the following completes the sentence above?

Aşağıdakilerden hangisi yukarıdaki cümleyi doğru olarak tamamlar?

- A) eating / eat  
B) eats / eats  
C) eats / is eating  
D) ate / eating

10. A: Is Betty playing snowball?  
B: No, ..... She's skiing.

Which of the following completes the dialogue above?

Aşağıdakilerden hangisi yukarıdaki konuşmayı doğru olarak tamamlar?

- A) she hasn't  
B) she wasn't  
C) she isn't  
D) she didn't

11. A musician is someone who .....

Which of the following completes the sentence above?

Aşağıdakilerden hangisi yukarıdaki cümleyi doğru olarak tamamlar?

- A) designs buildings  
B) looks after animals  
C) plays music  
D) sells things

12. A: Is your mum cooking now?  
B: No, she isn't. But she usually .....

Which of the following completes the dialogue above?

Aşağıdakilerden hangisi yukarıdaki konuşmayı doğru olarak tamamlar?

- A) cook  
B) is cook  
C) has cooked  
D) cooks

13. My dad usually ..... to work but today he ..... because the car has broken down.

Which of the following completes the sentence above?

Aşağıdakilerden hangisi yukarıdaki cümleyi doğru olarak tamamlar?

- A) drive / is walking  
B) drives / is walking  
C) is driving / walks  
D) has driven / walks

14. I'm writing a composition now.

Which of the following is the Turkish translation of the sentence above?

Aşağıdakilerden hangisi yukarıdaki cümlenin Türkçe karşılığıdır?

- A) Şu anda bir kompozisyon yazıyorum.  
B) Şu anda bir kompozisyon yazabiliyorum.  
C) Şu anda bir kompozisyon yazacağım.  
D) Şu anda bir kompozisyon yazdım.

15. We usually visit our friends on Saturdays.

Which of the following is the Turkish translation of the sentence above?

Aşağıdakilerden hangisi yukarıdaki cümlenin Türkçe karşılığıdır?

- A) Biz Cumartesi günü genellikle arkadaşlarımızı ziyaret ederiz.
- B) Biz Cumartesi günü genellikle arkadaşlarımızı ziyaret ediyoruz.
- C) Biz Cumartesi günü genellikle arkadaşlarımızı ziyaret edeceğiz.
- D) Biz Cumartesi günü genellikle arkadaşlarımızı ziyaret ederdik.

16. A:What's the weather like today?  
B:It's ..... and cold.

Which of the following completes the dialogue above?

Aşağıdakilerden hangisi yukarıdaki konuşmayı doğru olarak tamamlar?

- A) rain
- B) sun
- C) snow
- D) rainy

17. How much ..... pink socks?

Which of the following completes the sentence above?

Aşağıdakilerden hangisi yukarıdaki cümleyi doğru olarak tamamlar?

- A) is this
- B) is it
- C) are they
- D) are these

18. A:What ..... Lale ..... at weekends?  
B:She usually goes to the cinema with her friends.

Which of the following completes the dialogue above?

Aşağıdakilerden hangisi yukarıdaki konuşmayı doğru olarak tamamlar?

- A) does /do
- B) is /doing
- C) do /do
- D) was / doing

19. A:Where were you last night?  
B:I ..... at home with my family.

Which of the following completes the dialogue above?

Aşağıdakilerden hangisi yukarıdaki konuşmayı doğru olarak tamamlar?

- A) were
- B) was
- C) am
- D) are

20. A:..... do you read newspapers?  
B:Always.

Which of the following completes the dialogue above?

Aşağıdakilerden hangisi yukarıdaki konuşmayı doğru olarak tamamlar?

- A) What kind
- B) How often
- C) Where
- D) Who

1. Une lettre sera écrite ..... Paul ..... Mehmet.

Choisissez les mots qui conviennent.

Cümledeki boşlukları aşağıdakilerden hangisi doğru şekilde tamamlar?

- A) une / à  
B) à / par  
C) de / par  
D) de / à

2. C'est un enfant bien élevé.

Choisissez l'antonyme du mot souligné.

Yukarıdaki cümlede altı çizili kelimenin zıt anlamlısı aşağıdakilerden hangisidir?

- A) bon  
B) mal  
C) gentil  
D) belle

3. Il a ..... un cadeau à sa sœur.

Choisissez le mot qui convient.

Cümledeki boşluğu aşağıdakilerden hangisi doğru şekilde tamamlar?

- A) envoyé  
B) ramassé  
C) imprimé  
D) préféré

4. Une famille turque ..... au moyenne de quatre ou cinq personnes.

Choisissez le mot qui convient.

Cümledeki boşluğu aşağıdakilerden hangisi doğru şekilde tamamlar?

- A) se compose  
B) se passe  
C) se marie  
D) dépend

5. - .....  
- Je suis instituteur.

Choisissez la question qui convient.

Yukarıdaki konuşmada cevabı gerektiren soru aşağıdakilerden hangisidir?

- A) Comment s'appelle cet examen?  
B) Qu'est-ce que tu as fait l'été dernier?  
C) Quel est votre métier?  
D) Est-ce que vous étudiez en médecin?

6. Ils ne s'entendent pas bien, ils vont .....

Choisissez le mot qui convient.

Cümledeki boşluğu aşağıdakilerden hangisi doğru şekilde tamamlar?

- A) épouser  
B) se fiancer  
C) se marier  
D) divorcer

7. Elle veut se marier ..... Paul.

Choisissez le mot qui convient.

Cümledeki boşluğu aşağıdakilerden hangisi doğru şekilde tamamlar?

- A) à  
B) sans  
C) en  
D) avec

8. Les élèves font le devoir.

Choisissez la forme passive de la phrase ci-dessus.

Yukarıdaki cümlenin edilgen hali aşağıdakilerden hangisidir?

- A) Le devoir est fait par les élèves.  
B) Le devoir sera fait par les élèves.  
C) Le devoir a été fait par les élèves.  
D) Le devoir était fait par les élèves.

9. Bu mektup Gamze'ye Erkin tarafından yazıldı.

Choisissez la traduction qui convient.

Yukarıdaki cümlenin Fransızca karşılığı aşağıdakilerden hangisidir?

- A) Cette lettre est écrite par Erkin à Gamze.  
B) Erkin a écrit cette lettre à Gamze.  
C) Cette lettre a été écrite à Gamze par Erkin.  
D) Erkin écrira une lettre à Gamze.

10. Kapı, Ahmet tarafından açıldı.

Choisissez la traduction qui convient.

Yukarıdaki cümlenin Fransızca karşılığı aşağıdakilerden hangisidir?

- A) La porte sera ouverte par Ahmet.  
B) La porte n'ouvre jamais.  
C) La porte a été ouverte par Ahmet.  
D) Ahmet a ouvert la porte.

11. C'est le fils de mon oncle, c'est mon .....

**Choisissez le mot qui convient.**

**Cümledeki boşluğu aşağıdakilerden hangisi doğru şekilde tamamlar?**

- A) gendre
- B) cousin
- C) fiancé
- D) nièce

12. Il est allé à l'étranger pour ..... une conférence.

**Choisissez le mot qui convient.**

**Cümledeki boşluğu aşağıdakilerden hangisi doğru şekilde tamamlar?**

- A) abandonner
- B) arrêter
- C) suivre
- D) gagner

13. Le gâteau est mangé par mon frère.

**Choisissez la forme active de la phrase ci-dessus.**

**Yukarıda verilen cümlelerin aktif hali aşağıdakilerden hangisidir?**

- A) Mon frère mangera le gâteau.
- B) Mon frère a mangé le gâteau.
- C) Mon frère mangeait le gâteau.
- D) Mon frère mange le gâteau.

14. C'est la sœur de ma mère; c'est .....

**Choisissez le mot qui convient.**

**Cümledeki boşluğu aşağıdakilerden hangisi doğru şekilde tamamlar?**

- A) ma tante
- B) mon oncle
- C) mon cousin
- D) ma grand-mère

15. Ma lettre ..... lue par ma mère.

**Choisissez le mot qui convient.**

**Cümledeki boşluğu aşağıdakilerden hangisi doğru şekilde tamamlar?**

- A) font
- B) chez
- C) famille
- D) a été

16. Ce livre a ..... acheté par ma sœur.

**Choisissez le mot qui convient.**

**Cümledeki boşluğu aşağıdakilerden hangisi doğru şekilde tamamlar?**

- A) avait
- B) été
- C) est
- D) ont

17. Mon ami a acheté cette chemise.

**Choisissez la forme passive de la phrase ci-dessus.**

**Yukarıdaki cümlelerin edilgen hali aşağıdakilerden hangisidir?**

- A) Cette chemise est achetée par mon ami.
- B) Cette chemise sera achetée par mon ami.
- C) Cette chemise était achetée par mon ami.
- D) Cette chemise a été achetée par mon ami.

18. Elle n'a pas été reçue au Bac; elle est ..... au lycée.

**Choisissez le mot qui convient.**

**Cümledeki boşluğu aşağıdakilerden hangisi doğru şekilde tamamlar?**

- A) travail
- B) facile
- C) encore
- D) bachelier

19. A condition ..... faire mes devoirs, je pourrai aller au théâtre.

**Choisissez le mot qui convient.**

**Cümledeki boşluğu aşağıdakilerden hangisi doğru şekilde tamamlar?**

- A) à
- B) de
- C) en
- D) y

20. En général, je me ..... à 23 heures.

**Choisissez le mot qui convient.**

**Cümledeki boşluğu aşağıdakilerden hangisi doğru şekilde tamamlar?**

- A) couche
- B) promené
- C) rencontré
- D) tombé

## SEÇMELİ TARİH 3

A

2013 I.DÖNEM 0103-A

1. Londra Konferansı'ndan sonra devletlerarası bir statü kazanan Boğazlar Meselesi aşağıdakilerden hangisi sonucunda ortaya çıkmıştır?
  - A) Hünkar İskelesi Antlaşması
  - B) Rusya'nın kendi içinde çıkan ihtilalden dolayı Birinci Dünya Savaşı'ndan çekilmesi
  - C) 1815 Viyana Kongresi
  - D) Karlofça Antlaşması
2. Aşağıdakilerden hangisi Fransa'da halkın ayrıldığı sosyal sınıflardan biri değildir?
  - A) Rahipler
  - B) Soylular
  - C) Burjuvalar
  - D) İşçiler
3. Orhan Bey'in temel politikası aşağıdakilerden hangisidir?
  - A) Marmara Denizi kıyılarını ele geçirmek
  - B) Cümpe kalesine asker yerleştirmek
  - C) Balkanlara yerleşmek
  - D) Rumeli'de üs edinmek
4. Egemenlik yetkisinin bir kişinin elinde toplandığı devlet şekline verilen ad aşağıdakilerden hangisidir?
  - A) Komünizm
  - B) Milli monarşi
  - C) Hümanizm
  - D) Cumhuriyet
5. Aşağıdakilerden hangisi I. Kosova Savaşı ile ilgili doğru bir ifade değildir?
  - A) Balkan milletleri (Sırp, Bosna, Arnavutluk kuvvetleri) ittifak kurdu.
  - B) Haçlı ordusu ile Sultan Murat komutasındaki Türk ordusu Kosova Ovası'nda karşılaştı.
  - C) Haçlılar yenildi.
  - D) I. Bayezit bir Sırp tarafından hançerlenerek şehit edildi
6. Aşağıdakilerden hangisi 1848 İhtilalleri'nin önemli nedenlerinden biridir?
  - A) XIX. yüzyılda sanayideki gelişmeler ile işçi sayısındaki artış ve işçi sınıfı problemlerinin olması
  - B) 1815 Viyana Kongresi ile konfederasyon haline getirilen Almanya'nın buna karşı tepki göstermesi
  - C) Varşova büyük Dükalığı ve Finlandiya'nın Rusya'ya verilmesi
  - D) İsveç ve Norveç krallıklarının birleştirilmesi
7. Aşağıdakilerden hangisi Avrupa devletlerinin kendi çıkarları doğrultusunda Osmanlı Devleti ile ilgili meseleler için kullandıkları deyimdir?
  - A) Şark Meselesi
  - B) Rum Sorunu
  - C) Ermeni Sorunu
  - D) Boğazlar Meselesi
8. Orta Çağ sonunda feodalite rejiminin egemenliğini kaybetmediği ülke aşağıdakilerden hangisidir?
  - A) Fransa
  - B) Macaristan
  - C) Almanya
  - D) İspanya
9. Aşağıdakilerden hangisi Osman Bey'in Bizans tefurlarının kendi başlarına hareket etmelerinden yararlanarak topraklarına kattığı şehirlerden biri değildir?
  - A) Karacadağ
  - B) İnegöl
  - C) Karacahisar
  - D) Yarhisar
10. Aşağıdakilerden hangisi Fransa'daki monarşik düzenin değişmesi gerektiğini savunarak ihtilale ortam hazırlayanlardan biri değildir?
  - A) A. Smith
  - B) Montesquie
  - C) J.J. Rousseau
  - D) Volter

11. Aşağıdakilerden hangisi Fransız ihtilalinin çıkış sebeplerinden biri değildir?

- A) Fransa'nın içindeki ve dışındaki gelişmelerin bir sonucudur.
- B) Devlet masraflarını karşılamak için halktan zorla vergi topluyordu.
- C) Fransa mutlakiyetle yönetiliyordu ve ülkede eşitlik ve özgürlük yoktu.
- D) Fransa'da sosyal sınıf yoktu.

12. Avrupa'da 1815-1830 yılları arasında İngiltere, Rusya, Prusya ve Avusturya'nın kurdukları düzeni koruyabilmek için aralarında anlaşmalar yaptıkları döneme verilen ad aşağıdakilerden hangisidir?

- A) Çifte Standart Dönemi
- B) Restorasyon Dönemi
- C) Refah Dönemi
- D) Bloklaşma Dönemi

13. Birinci Dünya Savaşı sonunda İtilaf Devletleri ve Almanya arasında imzalanan barış antlaşması aşağıdakilerden hangisidir?

- A) Saint Germain (Sen Jermen)
- B) Neuilly (Nöyyi)
- C) Trianon (Triyanon)
- D) Versailles (Versay)

14. Aşağıdaki antlaşmalardan hangisinde Osmanlı Devleti büyük miktarda toprak kaybetmiştir?

- A) Kasr-ı Şirin
- B) Karlofça
- C) Serav
- D) Bucaş

15. Aşağıdakilerden hangisi Fransa'da halkın ayrıldığı sosyal sınıflardan biri değildir?

- A) Rahipler
- B) İşçiler
- C) Soylular
- D) Burjuvalar

16. Aşağıdakilerden hangisi İspanyolların keşifleri ile ilgili doğru bir ifade değildir?

- A) 1519 yılında Cortes Meksika'yı zapt etti.
- B) Peru ve çevresinde hakim olan İnka İmparatorluğu yıkıldı.
- C) Hudson Körfezi kıyılarını buldular.
- D) Maya ve Aztek medeniyetlerine son verildi.

17. Aşağıdakilerden hangisi feodal beyleri ortadan kaldırarak, Fransa'yı Avrupa'nın en kuvvetli merkez devletlerinden biri haline getirmiştir?

- A) II. Elizabeth
- B) VII. Henry
- C) XI. Louise
- D) II. Ferdinand

18. Aşağıdakilerden hangisi Vastfelya Barış Antlaşması'nın sonuçlarından biri değildir?

- A) İspanya'nın gücünün kırılması
- B) Fransa'nın mutlakiyet rejimini sağlamlaştırması
- C) Kutsal Roma-Germen İmparatorluğu'nun parçalanması
- D) Fransa'daki kuvvetli bürokrasinin sona ermesi

19. 1256 yılında Hülagü Han tarafından İran ve çevresinde kurulan aşağıdakilerden hangisidir?

- A) Bizans İmparatorluğu
- B) Moğol İmparatorluğu
- C) İlhanlılar
- D) Trabzon İmparatorluğu

20. Aşağıdakilerden hangisi Maltepe (Palekanon) dolaylarında yapılan ve Bizans İmparatorunun yenildiği savaştan sonra meydana gelen gelişmelerden biri değildir?

- A) İznik'in alınması
- B) Devletin başkentinin İznik'e taşınması
- C) İzmit'in alınmasıyla Kocaeli yarımadasının büyük bölümünün Osmanlı egemenliğine girmesi
- D) Kayların Söğüt ve Domaniç'i yurt edinmesi

1. Aşağıdakilerden hangisi olay çevresinde oluşan edebi metinlerden biri değildir?
- A) Mesnevi  
B) Masal  
C) Destan  
D) Komedi
2. Aşağıdaki cümlelerden hangisinde sesli türemesine örnek bir sözcük vardır?
- A) Ben öyle hissetmiyorum.  
B) Nakliyeciler geldi.  
C) Uzun bir ömür sürdü.  
D) Manzarayı uzun uzun seyretti.
3. Aşağıdakilerden hangisi olay çevresinde oluşan edebi metinlerin özelliklerinden biri değildir?
- A) Her okunduğunda farklı yorumlanmaz.  
B) Bir olay örgüsü vardır.  
C) Kurmacanın imkânlarından yararlanılır.  
D) İnsana özgü durumlar somutlaştırılır.
4. Köy tiyatrosu hangi metin grubu içinde yer alır?
- A) Öğretici metinler  
B) Göstermeye bağlı edebi metinler  
C) Anlatmaya bağlı edebi metinler  
D) Tarihi metinler
5. Dilekçeye ilişkin aşağıdaki ifadelerden hangisi yanlıştır?
- A) Anlatım yalın ve duru olmalıdır.  
B) Sol alt köşeye adres yazılır.  
C) Kâğıt yetmezse arka sayfaya devam edilir.  
D) İmzasız dilekçeler geçersiz sayılır.
6. Aşağıdakilerden hangisinde deyim yoktur?
- A) Ödülü duyunca ayakları yerden kesildi.  
B) Kara kuru bir kızdı.  
C) Aklıma düştü gözlerin.  
D) Konserde iğne atsan yere düşmüyordu.
7. Aşağıdaki ifadelerden hangisinde edat grubu yoktur?
- A) Gülün rengi solmuş.  
B) Dünden beri çalışıyor.  
C) Bu iş bana göre değil.  
D) Benim için yemek söyleme.
8. Aşağıdakilerden hangisinde sesli türemesi gerçekleşmemiştir?
- A) Hüküm vermek  
B) Fikir almak  
C) Pişman olmak  
D) Ömür sürmek
9. Eldeki en eski mektup örnekleri kimlere aittir?
- A) Romalılara ve Galyalıları  
B) Friglere ve Traklara  
C) Mısır firavunları ve Hititlere  
D) Lidyalılara ve Fenikelilere
10. Aşağıdaki sözcüklerin hangisinde ses düşmesi olmamıştır?
- A) Savrulmak  
B) Kaybolmak  
C) Çevrilmek  
D) Bayılmak
11. Aşağıdaki deyimlerden hangisinde ses düşmesi olmamıştır?
- A) Burnunun direği sızlamak  
B) Göğsü daralmak  
C) Ağzını sıkı tutmak  
D) Nefesi kesilmek
12. Aşağıdakilerden hangisi sanat metinleri içerisinde yer almaz?
- A) Halk hikayesi  
B) Köy tiyatrosu  
C) Roman  
D) Felsefi metinler



13. Bir isteği bildirmek, bir şikâyeti duyurmak veya herhangi bir konuda bilgi vermek amacıyla resmi ya da özel kurumlara/kuruluşlara yazılan yazılara ne ad verilir?

- A) Öneri
- B) Dilekçe
- C) Mektup
- D) Tenkit

14. Aşağıdakilerden hangisi özel mektup çeşitlerinden biri değildir?

- A) Teşekkür mektupları
- B) Davet mektupları
- C) Edebi mektuplar
- D) Tebrik mektupları

15. Aşağıdaki sözcüklerin hangisinde ses benzeşmesi gerçekleşmemiştir?

- A) Üçgen
- B) Keskin
- C) Kaçtı
- D) Sınıfta

16. "Sakıp Sabancı, 7 Nisan 1933 tarihinde Kayseri'de dünyaya geldi. Çok genç yaşlarda çalışma hayatına atıldı."

Yukarıda bir parçası verilen metnin türü aşağıdakilerden hangisidir?

- A) Biyografi
- B) Makale
- C) Mülakat
- D) Anı

17. Gezi yazılarının eski adı aşağıdakilerden hangisidir?

- A) Hatıra
- B) Seyahatname
- C) Name
- D) Vakaname

18. Aşağıdaki cümlelerin hangisinde ek olan "-de" ve bağlaç olan "de" sözcüğünün yazımında yanlışlık yapılmıştır?

- A) Bu oda çok soğuk, sende ısıtıcı var mı?
- B) Sinema topluluğumuza yarından itibaren oda katılıyor.
- C) Kalbimde bir heyecan var.
- D) Karda buzda yürürken dikkatli ol.

19. Aşağıdaki cümlelerin hangisinde ek olan "-ki" ve bağlaç olan "ki" sözcüğünün yazımında yanlışlık yapılmıştır?

- A) Dünkü gazete nerede?
- B) Sana bunları söylemek istedi ki kendini tutamadı.
- C) Senin söylediklerini nereden bilsin ki?
- D) Sokakta ki maça katıldı.

20. Aşağıdaki cümlelerden hangisinde noktalama işareti yanlış kullanılmıştır?

- A) Cevabı biliyor musun!
- B) Gitmek istiyorum.
- C) Ey Türk Gençliği!
- D) Söylenecek öyle çok şey vardı ki...

## SINAVDA UYGULANACAK KURALLAR

1. Sınav süresince görevlilerle konuşmak ve soru sormak yasaktır. Aynı şekilde görevlilerin de öğrencilerle yakından ve alçak sesle konuşmaları yasaktır. Yanınızda ve sıranızda dersle ilgili kitap not vb. bulundurmamak yasaktır. Sınav sırasında kopya yapan, yapmaya teşebbüs eden, kopya veren, kopya yapılmasına yardım edenlerin kimlikleri BİREYSEL SINAV İPTAL TUTANAĞINA yazılacak ve bu öğrencilerin sınavları geçersiz sayılacaktır. Görevliler kopya yapmaya veya vermeye kalkışanları uyarmak zorunda değildir, sorumluluk size aittir.  
Sınavda yetki verilmiş görevliler, bu salondaki sınavın kurallara uygun biçimde yapılmadığını, toplu kopya girişiminde bulunulduğunu raporlarında bildirdikleri veya üniversite sınav merkezince yapılan incelemeler sonucu toplu kopya yapıldığı saptandığı takdirde, Anadolu Üniversitesinin yetkili organları bu salonda sınava giren öğrencilerin tümünün sınavını geçersiz sayar.
2. Öğrenciler sınav sırasında görevlilerin her türlü uyarılarına uymak zorundadır. Gerekliğinde görevliler oturduğunuz yerleri değiştirebilir. Sınavınızın geçerli sayılması, her şeyden önce sınav kurallarına uymanıza bağlıdır. Kurallara aykırı davranışta bulunanların ve yapılacak uyarılara uymayanların kimlikleri BİREYSEL SINAV İPTAL TUTANAĞINA yazılacak ve sınavları geçersiz sayılacaktır.
3. Sınav sırasında herhangi bir nedenle dışarı çıkmak yasaktır. Sınavın başlamasını izleyen ilk 30 dakika ve sınav süresinin son 5 dakikası içinde, sınavlarını tamamlasalar bile hiçbir öğrencinin salondan çıkmasına izin verilmeyecektir. Sınavın başlamasını izleyen ilk 15 dakikadan sonra hiç bir öğrenci sınava alınamaz.
4. Biraz sonra soru kitapçıkları dağıtılacaktır. Cevaplamaya geçmeden önce size verilecek soru kitapçığının üzerinde ayrılan yere, adınızı, soyadınızı, öğrenci numaranızı ve bu salonun numarasını yazınız. Sınav sonunda soru kitapçıkları toplanacak ve sınav merkezinde tek tek incelenecektir. Soru Kitapçığının bir tek sayfası eksik çıksa bile sınavınız geçersiz sayılacaktır.
5. Size verilen Cevap Kâğıdının üzerinde yazan numara ve ismin size ait olduğunu kontrol ediniz. Cevap Kâğıdı size ait değilse, görevlileri uyarıp size ait Cevap Kâğıdını alınız. Daha sonra Cevap Kâğıdı üzerinde ayrılmış olan yerlere öğrenci numaranızı ve test grubunuzu kodlayınız, adınızı soyadınızı yazınız ve ilgili yeri imzalayınız.
6. Cevap Kâğıdına yazılacak her türlü yazı, rakam ve yapılacak işaretlemeler için siyah kurşun kalem kullanılacaktır. Tükenmez kalem veya dolmakalem kesinlikle kullanılmayacaktır. Cevapların tümü CEVAP KÂĞIDINA İŞARETLENECEKTİR. Soru Kitapçıkları üzerine yapılan işaretlemeler kesinlikle değerlendirilmez. Her dersin cevabı, o dersin isminin yazılı olduğu sütuna işaretlenmelidir. Yanlış sütuna yapacağınız işaretlemeler kesinlikle değerlendirilmez.
7. Soru Kitapçığının sayfalarındaki boş yerleri müsvedde yapmak için kullanabilirsiniz. Başka bir kâğıdı müsvedde olarak kullanmak yasaktır. Bu tür işlemleri yapanların sınavları geçersiz sayılır.
8. Öğrencilerin sorulara verdikleri yanıtları herhangi bir yere yazmaları ve bunu sınav salonundan dışarıya çıkarmaları yasaktır. Bu kurala uymayanların sınavları geçersiz sayılır.
9. Sınav sırasında öğrencilerin birbirinden kalem, silgi vb. şeyleri istemesi kesinlikle yasaktır. Yasağa uymayanların sınavı geçersiz sayılır.
10. Sınav sırasında hesap makinesi kullanılabilir. Ancak, hesap makinesinin sınav sırasında ödünç alınması, verilmesi ve değiştirilmesi yasaktır. (Data Bank vb. gibi özel elektronik donanımlar kullanılamaz.) Bu tür davranışlarda bulunanların sınavları geçersiz sayılır.
11. Öğrenciler sınava gelirken telsiz, cep telefonu, çağrı cihazı vb. iletişim araçları ile görüntü kaydetmeye yarayan fotoğraf makinesi, kamera vb. araçları getirmemeleri konusunda sınava giriş belgelerinde uyarılmışlardır. Buna rağmen yanlarında bu tür cihazları getirenlerin, bunları sınav sonrasında almak üzere salon başkanına teslim etmeleri gerekir. Bu cihazları sınav salonunda yanlarında bulunduran öğrencilerin, cihazları kapalı bile olsa, o oturdaki sınavı geçersiz sayılacaktır. Bu cihazların kaybolmasından Üniversitemiz sorumlu olmayacaktır.
12. Biraz sonra dağıtılacak olan soru kitapçığında test ile ilgili açıklamalar yazılıdır. Bu açıklamaları okumadan ve size "SINAV BAŞLAMIŞTIR" denmeden soruları cevaplamaya başlamayınız.

**SINAVLARINIZDA BAŞARILAR DİLERİZ.**