



ANADOLU ÜNİVERSİTESİ
AÇIKÖĞRETİM FAKÜLTESİ
BA - AÇIKÖĞRETİM OKULLARI

T.C. MİLLİ EĞİTİM BAKANLIĞI
Hayat Boyu Öğrenme Genel Müdürlüğü
AÇIK ÖĞRETİM LİSESİ – BATI AVRUPA PROGRAMI
2012-2013 ÖĞRETİM YILI I.DÖNEM SINAVI
DÖRDÜNCÜ OTURUM - Pazar 13.00

TEST GRUBUNUZ

A 0104

CEVAP KÂĞIDINIZA İŞARETLEMİYİ UNUTMAYINIZ.

ÖĞRENCİNİN

SOYADI :

ADI :

ÖĞRENCİ NO :

SINAV SALON NO: SIRA NO:

Soyadınızı, adınızı, öğrenci numaranızı, salon ve sıra numaranızı yukarıya yazmayı unutmayınız.

GENEL AÇIKLAMA

1. Bu soru kitapçığındaki testler şunlardır:

Testin Adı	Soru Sayısı	Sayfa No	Testin Adı	Soru Sayısı	Sayfa No
DİN KÜLTÜRÜ VE AHLAK BİLGİSİ 2	20	2	SEÇMELİ COĞRAFYA 3	20	31
DİN KÜLTÜRÜ VE AHLAK BİLGİSİ 5	20	4	SEÇMELİ ALMANCA 4	20	33
TARİH 3	20	6	SEÇMELİ İNGİLİZCE 4	20	36
T.C. İNKILÂP TARİHİ VE ATATÜRKÇÜLÜK 1	20	8	SEÇMELİ FRANSIZCA 4	20	39
COĞRAFYA 5	20	10	SAĞLIK BİLGİSİ 1	20	41
MATEMATİK 1	20	12	SEÇMELİ COĞRAFYA 4	20	43
TURİZM 2	20	15	SEÇMELİ TÜRK EDEBİYATI 5	20	45
HUKUK 2	20	17	SEÇMELİ DİL VE ANLATIM 8	20	47
DİL VE ANLATIM 8	20	19			
TÜRK EDEBİYATI 4	20	21			
TÜRK EDEBİYATI 6	20	23			
EKONOMİ 1	20	25			
BİYOLOJİ 6	20	27			
ÇAĞDAŞ TÜRK VE DÜNYA TARİHİ 2	20	29			

2. Bu kitapçıkta yer alan her bir test için cevaplama süresi **30** dakika, toplam sınav süresi **150** dakikadır.
3. Cevaplamaya istediğiniz testin, istediğiniz sorusundan başlayabilirsiniz. Yalnız cevaplarınızı, cevap kâğıdında o test için ayrılmış olan bölümdeki aynı numaralı cevap yerine işaretlemeyi unutmayınız.
4. Cevaplarınızı koyu siyah ve yumuşak bir kurşunkalemle işaretleyiniz. İşaretinizi cevap yerinin dışına taşırmayınız. Tükenmez veya mürekkepli kalem kullanmayınız.
5. Değiştirmek istediğiniz bir cevabı yumuşak bir silgi ile, cevap kâğıdını örselemeden temizce siliniz ve doğru cevabınızı işaretlemeyi unutmayınız.
6. Cevap kâğıdınızı buruşturmayınız, katlamayınız ve üzerine gereksiz hiçbir işaret koymayınız.
7. Bu kitapçıkta her sorunun bir tek doğru cevabı vardır. Bir soru için birden çok cevap yeri işaretlenmişse o soru yanlış cevaplanmış sayılacaktır.
8. Cevaplarınız puanlanırken her doğru cevabınıza eşit puan verilecek, yanlış cevaplarınız dikkate alınmayacaktır. Bu nedenle kitapçıkta tüm sorular için size doğru gelen seçeneği işaretleyerek cevapsiz soru bırakmamanız yararınıza olacaktır.
9. Kitapçığın sayfalarındaki boş yerleri müsvedde için kullanabilirsiniz.

Anadolu Üniversitesi tarafından hazırlanmış olan bu testlerin her hakkı saklıdır. Hangi amaçla olursa olsun, testlerin tamamının veya bir kısmının Anadolu Üniversitesi'nin yazılı izni olmadan kopya edilmesi, fotoğraflarının çekilmesi, herhangi bir yolla çoğaltılması, yayımlanması ya da kullanılması yasaktır. Bu yasağa uymayanlar gerekli cezai sorumluluğu ve testlerin hazırlanmasındaki mali külfeti peşinen kabullenmiş sayılır.

1. İlk evrensel insan hakları ilkeleri aşağıdakilerden hangisinde yer almaktadır?
A) Veda Hutbesi
B) İnsan Hakları Evrensel Beyannamesi
C) Birleşmiş Milletler Sözleşmesi
D) Magna Carta
2. Her insanın kendine has ve özgü olan, az veya çok her zaman gözlenebilen davranış ve alışkanlıklarına ne denir?
A) Alışkanlık
B) Örf
C) Kişilik
D) Asabiyet
3. Aşağıdakilerden hangisi, Hz. Musa'ya indirilen ve Yahudilerin dini öğretileri içerisinde yer alan "on emir" arasında sayılamaz?
A) Zina etmeyeceksin
B) Çalmayacaksın
C) Anne ve babana hürmet edeceksin
D) Öldüreceksin
4. Değerlerin en üst seviyesinde hangi kaynak yer almaktadır?
A) Sevgi
B) Hoşgörü
C) Vatanseverlik
D) Ahlak
5. Bir toplumda genel kabul gören veya benimsenen her türlü duygu, düşünce, davranış ve kurala ne ad verilir?
A) Değer
B) Fikir
C) Kanun
D) Devlet
6. Aşağıdakilerden hangisi Türk milletini bir arada tutan, toplumu birleştiren ortak değerlerden biri değildir?
A) Vatan ve ülkü birliği
B) Bayrak
C) Ferdiyetçilik
D) Milli seciye
7. Aşağıdakilerden hangisi İslam dininin korunmasını istediği beş temel ilke arasında yer almaz?
A) Namusun korunması
B) Malın korunması
C) Aklın korunması
D) Komşunun korunması
8. Dini emirlerin ilk muhatabı olan yeryüzündeki ilk peygamber aşağıdakilerden hangisidir?
A) Hz. Nuh
B) Hz. İdris
C) Hz. Adem
D) Hz. Musa
9. İnsanın bu dünyada yaptıklarından dolayı hesaba çekileceği yer neresidir?
A) Mahkeme
B) Vicdan
C) Ahiret
D) Arafat
10. Osmanlı Devletinde "din ve vicdan hürriyeti ilkesi" ilk kez hangi belgede yer almıştır?
A) Gülhane Hattı Hümayunu
B) Tanzimat Fermanı
C) Islahat Fermanı
D) Kanun-i Esasi
11. Avrupa'daki kilise otoritesi hangi olayla son bulmuştur?
A) Yüzyıl Savaşları
B) Islahat Fermanı
C) Tanzimat Fermanı
D) 1789 Fransa İhtilali
12. Aşağıdakilerden hangisi laikliğin temel amaçlarından biridir?
A) Herkesin kanun önünde eşit olmasını sağlamak
B) Dinin istismar edilmesine müsaade etmek
C) Dinde ruhbanlık anlayışının oluşmasını sağlamak
D) Devletin din ve mezheplere karşı tarafı davranmasını sağlamak

13. Laikliğin Batı ülkelerinde doğuş sebebi aşağıdakilerden hangisidir?

- A) Derebeylerin katlanılmaz hale gelen zulümleri
- B) Kilisenin baskıcı tutumuna tepki
- C) İslami yükselişin önüne geçme
- D) Dünya işlerinin herşeyden önemli hale gelmesi

14. Aşağıdakilerden hangisi Türklerin İslamiyetten önce benimsediği dinlerden biri değildir?

- A) Budizm
- B) Zerdüştlük
- C) Manihaizm
- D) Musevilik

15. Aşağıdakilerden hangisi Türklerin benimsediği Gök Tanrı inancının esasları arasında yer almaz?

- A) Tanrı yaratan, yaşatan ve koruyandır.
- B) Dünya hayatından sonra sonlu bir hayat vardır.
- C) Dünyada iyilik edenler öldükten sonra karşılık olarak iyi bir yere gideceklerdir.
- D) Bir ve tek olan Gök Tanrı vardır.

16. Aşağıdakilerden hangisi Türklerin İslamiyeti benimsemesinde etkili olan sebeplerden biri değildir?

- A) İslamın hak ve gerçek din olması
- B) Gök Tanrı inancı ile İslam dininin benzeşmemesi
- C) Müslüman tüccarların dürüstlüğü
- D) İslam dininin hoşgörü ve sevgi anlayışı

17. Türklerin Müslüman Araplarla yakınlaşmasına sebep olan ve Müslümanlığa geçişlerini hızlandıran asıl olay nedir ve kimlerin zamanında gerçekleşmiştir?

- A) Talas Savaşı – Abbasiler
- B) Talas Savaşı – Emeviler
- C) Kadisiye Savaşı – Abbasiler
- D) Nihavent Savaşı – Emeviler

18. Ebu Hanife'nin asıl adı nedir?

- A) Cafer Bin Tayyar
- B) Numan Bin Sabit
- C) Amr Bin As
- D) İmam Maturidi

19. İlk Müslüman Türk Devleti aşağıdakilerden hangisidir?

- A) Karahanlılar
- B) İtil Volga Bulgar Devleti
- C) Gazneliler
- D) Selçuklular

20. Mesnevi kimin eseridir?

- A) Yunus Emre
- B) Hacı Bektaş Veli
- C) Mevlana
- D) Ahmet Yesevi

1. Mekke'de Hacerul Esved taşının Kâbe'nin duvarına konulmasında Hz. Muhammed'e danışılması, O'nun hangi özelliğini ortaya koymaktadır?

- A) Güvenilir olması
- B) Cesur olması
- C) Sabırlı olması
- D) Merhametli olması

2. Peygamberimizin amcası olan Hz. Hamza hangi savaşta şehit edilmiştir?

- A) Hendek
- B) Uhud
- C) Bedir
- D) Mercidabık

3. Aşağıdakilerden hangisi Ehl-i Beyt'ten biri değildir?

- A) Hz. Ömer
- B) Hz. Hatice
- C) Hz. Hasan
- D) Hz. Ali

4. Dini bir terim olarak "Hayır" nedir?

- A) Kötü, fena ve zararlı anlamlarına gelen, Allah'ın sevmediği, hoşlanmadığı ve yapılmasını istemediği davranışlardır.
- B) Gerçekleştirilmek istenen herhangi bir iş için gerekli olan hazırlıklar yapıldıktan sonra Allah'a güvenip sonucun hayırlı olmasını Allah'tan istemedir.
- C) İyi, güzel ve faydalı anlamlarına gelen, Allah'ın emrettiği, sevdiği ve yapılmasından hoşnut olduğu davranışlardır.
- D) İnsan yaşamının ve diğer canlılar için önceden tespit edilmiş sürenin sonuçlanmasıdır.

5. Aşağıdakilerden hangisi ibadet etmenin insana kazandırdıklarından biri değildir?

- A) Güven duygusunu geliştirmesi
- B) Sorumluluk bilincini geliştirmesi
- C) İnsanın yaratan ile ilişkisini güçlendirmesi
- D) Kişiyi gurur ve kibire yaklaştırması

6. Aşağıdakilerden hangisi Ameli-Fıkhi mezheplerden biridir?

- A) Eş'arilik
- B) Şia
- C) Hanbelilik
- D) Mu'tezile

7. Hz. Ali ile Muaviye arasında yaşanan Sıffin savaşı sonucunda ortaya çıkmıştır. Hüküm verme işinin hakemlere bırakılmasının yanlışı olduğuna ve tek hakemin Allah olduğuna inanırlar.

Yukarıda anlatılan mezhep aşağıdakilerden hangisidir?

- A) Caferilik
- B) Haricilik
- C) Şiilik
- D) Eşarilik

8. "Kararını verdiğin zaman artık Allah'a dayanıp güven. Çünkü Allah kendisine dayanıp güvenenleri sever." ayetiyle aşağıdakilerden hangisinin önemi vurgulanmıştır?

- A) Kadere imanın
- B) Ahiret hayatına imanın
- C) Tevekkül etmenin
- D) Yardımsever olmanın

9. İslam dininin emir ve yasaklarından yalnızca kimler sorumlu tutulmuştur?

- A) Akıllı olanlar
- B) Zenginler
- C) Kadere iman edenler
- D) Namaz kılanlar

10. Hz. Hüseyin'in soyundan gelenlere ne ad verilir?

- A) Şerif
- B) Seyyid
- C) Semih
- D) Habibullah

11. Aşağıdakilerden hangisi Kur'an-ı Kerim'de tarif edilen örnek insanın özelliklerinden biri değildir?

- A) Yanlışlarında ısrar eden
- B) Fedâkâr olan
- C) İsrraftan kaçınan
- D) Tövbe eden

12. İmam Malik fıkhıta usul olarak kabul ettiği delillerin doğru sıralanışı aşağıdakilerden hangisidir?

- A) Kur'an- Sünnet- Sahabe sözleri- İcma
- B) Kur'an- İcma- Sünnet- Sahabe sözleri
- C) Kur'an- İcma- Sahabe sözleri- Sünnet
- D) İcma- Kur'an- Sünnet- Sahabe sözleri

13. Kişinin kendisinin de ihtiyacı olan bir şeyi başkalarıyla paylaşabilmesi, gerektiğinde fedakârlıkta bulunarak başkalarına yardım edebilmesine ne ad verilir?

- A) Sabır
- B) Dürüstlük
- C) Alçakgönüllülük
- D) Diğerkâmlık

14. Süleyman Çelebinin Peygamberimiz için yazdığı eseri aşağıdakilerden hangisidir?

- A) Kutadgu Bilig
- B) Vesiletü'n Necat
- C) Mesnevi
- D) Safahat

15. Aşağıdakilerden hangisi cüzi iradeye bir örnektir?

- A) Türk olmak
- B) Erkek olmak
- C) Nefes almak
- D) Namaz kılmak

16. Allah'ın sonsuz güç ve irade sahibi olup, her şeye gücünün yetmesi aşağıdakilerden hangisini tanımlar?

- A) Cüzi irade
- B) Külli irade
- C) Tevekkül
- D) Kaza

17. Bir Müslüman'ın, dinin kişisel ve sosyal hayata dair ameli hükümleri bilmesine ne ad verilir?

- A) Kelam
- B) Tefsir
- C) Hadis
- D) Fıkıh

18. 40 bin hadis içeren Müsned adlı eserin sahibi aşağıdakilerden hangisidir?

- A) Malik b. Enes
- B) Cafer es-Sadık
- C) Ahmed b. Hanbel
- D) İmam-ı Azam

19. Yönetim yetkisinin Hz. Ali'nin soyuna ait olduğunu ve bu durumun Kıyamet'e kadar devam etmesi gerektiğine inanırlar. Hz. Ali, Hz. Muhammed'den sonra insanların en üstünüdür. En önemli temsilcisi İmamiyye'ye göre, vahiy ve atanmayla imamlığı öngörülen 12 kişi vardır. Açık veya gizli bir tehlike karşısında inancını gizleme (takiyye) esastır.

Yukarıda anlatılan mezhep aşağıdakilerden hangisidir?

- A) Haricilik
- B) Eşarilik
- C) Maturidilik
- D) Şiiilik

20. Allah'ın başlangıçtan sonsuza kadar olmuş ve olacak olan tüm olayların yerini, zamanını bilip takdir etmesine ne ad verilir?

- A) Kaza
- B) İrade
- C) Kader
- D) Yaratılış

1. Dünyanın en ünlü ressamlarından Rembrant'ın (Rambrant) eserleri içinde en ünlüsü aşağıdakilerden hangisidir?
 - A) La Jocond (La Jokand)
 - B) Danae
 - C) Pierre Et Paul
 - D) Bir Anatomi Dersi
2. Niğbolu zaferinden sonra İstanbul Boğazı'na Karadeniz'den gelecek yardımları engellemek amacıyla Anadolu Hisarı'nı (Güzelcehisar) yaptıran kişi aşağıdakilerden hangisidir?
 - A) Yıldırım Bayezit
 - B) I.Murat
 - C) Orhan Bey
 - D) Osman Bey
3. II.Bayezit zamanında Akdeniz'deki en güçlü donanmaya sahip olan aşağıdakilerden hangisidir?
 - A) Macarlar
 - B) Portekizliler
 - C) Cenevizliler
 - D) Venedikliler
4. Anadolu beyliklerinden biri olarak tarih sahnesine çıkan Osmanlı Devleti'nin amacı aşağıdakilerden hangisidir?
 - A) Anadolu'da siyasi birliği sağlamak
 - B) Karesi Beyliği'nin bir kısım topraklarını ele geçirmek
 - C) İstanbul'un alınmasını sağlamak
 - D) Anadolu'daki sosyal ve ekonomik düzeni sağlamak
5. İlk anayasal faaliyet olan Kanuniesasiye'ye temel teşkil eden akım aşağıdakilerden hangisidir?
 - A) Milliyetçilik
 - B) Türkçülük
 - C) Batıcılık
 - D) Osmanlıcılık
6. Osmanlı Devletinin dağılma tehlikesi geçirmesine rağmen Balkanlardaki varlığını sürdürmesinin en büyük nedeni aşağıdakilerden hangisidir?
 - A) Osmanlı Devleti'nin Batı Anadolu'ya yeniden hakim olması
 - B) Rumelide kesin olarak Türk egemenliği sağlanması
 - C) Osmanlı Devleti'nin Balkan uluslarına uyguladığı hoşgörü ve adalet yönetimidir.
 - D) Osmanlı Devleti'nin Karakoyunlu ve Akkoyunlu devletleriyle komşu olması
7. Aşağıdakilerden hangisi 18.yy'da yetişen ünlü müzik adamlarından biri değildir?
 - A) Adam Smith
 - B) Hendel
 - C) Bach
 - D) Haydn
8. Ard arda göreve gelen üç padişah zamanında görev yapan sadrazam aşağıdakilerden hangisidir?
 - A) Koca Mustafa Paşa
 - B) Sokullu Mehmet Paşa
 - C) Semiz Ali Paşa
 - D) Piri Mehmed Paşa
9. Anadolu Beyliklerinden en güçlü olanı aşağıdakilerden hangisidir?
 - A) Germiyanogulları
 - B) Karamanoğulları
 - C) Saruhanoğulları
 - D) Menteşeoğulları
10. Fetret Devrindeki mücadelenin galibi aşağıdakilerden hangisidir?
 - A) Musa Çelebi
 - B) Süleyman Çelebi
 - C) Mehmet Çelebi
 - D) İsa Çelebi
11. İspanya adına Amerika kıtasını keşfeden kişi aşağıdakilerden hangisidir?
 - A) Vasko Dö Gama
 - B) Kristof Kolomb
 - C) Jean Gutenberg
 - D) Del Kano

12. İngiltere’de Monarşi’yi kuran aşağıdakilerden hangisidir?

- A) Kral VII.Henry
- B) Kral VI.Henry
- C) Kral V.Henry
- D) Kral IV.Henry

13. Sazlıdere Savaşı sonucunda alınan yer aşağıdakilerden hangisidir?

- A) Ankara
- B) Alaşehir
- C) Edirne
- D) Tavşanlı

14. Yıldırım Bayezit zamanının en önemli olayı aşağıdakilerden hangisidir?

- A) Kardeşler arası taht kavgaları
- B) Balkanlarda sarsılan hakimiyetin pekiştirilmesi
- C) Osmanlı-İran münasebetleri
- D) Ankara Savaşı

15. Güzel sanatlar alanında Klasik resmin öncüsü aşağıdakilerden hangisidir?

- A) Donetello
- B) Giberio
- C) Jean Bulant
- D) Giotto

16. Fatih’in Balkanlarda çıktığı ilk sefer aşağıdakilerden hangisidir?

- A) Sırbistan
- B) Eflak
- C) Bosna Krallığı
- D) İran

17. Aşağıdakilerden hangisi Uşi Antlaşması’nın önemini ifade etmektedir?

- A) Osmanlı Devleti’nin dağılmasını önlemesi
- B) Rumların yaşadığı tüm toprakların elde edilmesini sağlaması
- C) Osmanlı Devleti’nin Kuzey Afrika’daki varlığını sona erdirmesi
- D) Doğu Anadolu’da özerk veya bağımsız bir Ermeni devletinin kurulmasını sağlaması

18. Rönesans’ın Eski Yunan ve Roma kültürünün etkisinde gelişerek başladığı yer aşağıdakilerden hangisidir?

- A) Almanya
- B) İtalya
- C) Fransa
- D) İngiltere

19. İlk Osmanlı-Karamanlı mücadelesi aşağıdakilerden hangisi zamanında başlamıştır?

- A) II.Murat
- B) I.Mehmet
- C) I.Murat
- D) II.Bayezit

20. Osmanlı tarihinde ilk dini ve sosyal nitelikli isyan aşağıdakilerden hangisidir?

- A) Patrona Halil İsyanı
- B) Şeyh Bedrettin İsyanı
- C) 31 Mart İsyanı
- D) Kabakçı Mustafa İsyanı

1. Mustafa Kemal TBMM'den Başkomutanlık yetkisini aşağıdakilerin hangisinden sonra almıştır?
 - A) Kütahya-Eskişehir Savaşları
 - B) I. İnönü Savaşı
 - C) Büyük Taarruz
 - D) Başkomutanlık Meydan Savaşı
2. Aşağıdakilerden hangisi Lozan Barış Antlaşması'nda çözüme kavuşturulamamış konulardan biridir?
 - A) Azınlık Hakları
 - B) Kapitülasyonlar
 - C) Dış Borçlar
 - D) Türk-Irak Sınır
3. Osmanlı Devleti Kuzey Afrika'daki son topraklarını aşağıdaki antlaşmalardan hangisi ile kaybetmiştir?
 - A) Versay Antlaşması
 - B) Balta Limanı Antlaşması
 - C) Uşi antlaşması
 - D) Sevr Antlaşması
4. Son Osmanlı Mebuslar Meclisi'nin aldığı kararlardan hangisi sonrası İstanbul resmen işgal edilmiştir?
 - A) İstiklal mahkemelerinin kurulması
 - B) Misak-ı Milli'nin kabulü
 - C) Felah-ı Vatan Grubu'nun kurulması
 - D) Seçimlerin bir an önce yapılmasına karar verilmesi
5. Aşağıdakilerden hangisi TBMM'nin uluslararası alanda kazandığı ilk önemli başarıdır?
 - A) Gümrü Antlaşması
 - B) Kars Antlaşması
 - C) Lozan Antlaşması
 - D) Mudanya Ateşkes Antlaşması
6. İtilaf Devletleri aşağıdaki gelişmelerin hangisinden sonra Serv Antlaşması'nı olduğu gibi kabul ettiremeyeceklerini anlamış ve Londra Konferansı'nı toplamışlardır?
 - A) I. İnönü
 - B) II. İnönü
 - C) Sakarya Meydan Muharebesi
 - D) Büyük Taarruz
7. Aşağıdakilerden hangisi ile Kurtuluş Savaşı'nın yöntemi ve amacı açıklanmış, ilk defa milli irade ve milli hâkimiyetten söz edilmiştir?
 - A) Havza Genelgesi
 - B) Amasya Genelgesi
 - C) Amasya Görüşmeleri
 - D) Erzurum Kongresi
8. Milli Mücadele döneminde Güney Cephesi'nde, Urfa, Maraş ve Antep'te aşağıdakilerden hangisine karşı mücadele verilmiştir?
 - A) İngiltere
 - B) Fransa
 - C) Yunanistan
 - D) Rusya
9. Aşağıdakilerden hangisi Milli Mücadele'nin ilk yayın organıdır?
 - A) Tercüman-ı Ahval Gazetesi
 - B) İrade-i Milliye Gazetesi
 - C) Sabah Gazetesi
 - D) Hürriyet Gazetesi
10. Doğu Trakya hangi antlaşma ile Yunanistan'dan Türkiye'ye dâhil olmuştur?
 - A) Ankara Antlaşması
 - B) Gümrü Antlaşması
 - C) Lozan Antlaşması
 - D) Mudanya Ateşkes Antlaşması
11. Aşağıdaki kongrelerden hangisi ile manda kesin bir biçimde reddedilmiştir?
 - A) Amasya
 - B) Edirne
 - C) Sivas
 - D) Erzurum

12. **Tekalif-i Milliye Emirleri aşağıdaki savaşlardan hangisine hazırlık için yayınlanmıştır?**

- A) I. İnönü Savaşı
- B) Büyük Taarruz
- C) Sakarya Meydan Muharebesi
- D) Eskişehir-Sakarya Savaşları

13. **Aşağıdaki ayaklanmalardan hangisi Osmanlı Devleti'nde, Meşrutiyet rejimine karşı olanların çıkardığı bir ayaklanmadır?**

- A) Çerkez Ethem İsyanı
- B) Anzavur Ayaklanması
- C) 31 Mart Olayı
- D) Şeyh Sait Ayaklanması

14. **Wilson ilkeleri ile ilgili aşağıdaki ifadelerden hangisi yanlıştır?**

- A) Savaş sonunda kazanan devletler yenilenlerden toprak almayacaklar.
- B) Devletler arasında gizli antlaşmalar yapılmayacak.
- C) Osmanlı Devleti'nin Türklerin çoğunlukta olduğu bölgelerinde Osmanlı Devleti'ne kesin egemenlik tanınacaktır.
- D) Yenilen devletler yenen devletlere savaş tazminatı ödeyecekler.

15. **Yunanistan'ın İzmir'i işgal etmesi kararı aşağıdaki konferanslardan hangisinde verilmiştir?**

- A) Paris Barış Konferansı
- B) Londra Konferansı
- C) San Remo Konferansı
- D) Sevr Konferansı

16. **Aşağıdaki konulardan hangisi nedeniyle TBMM hükümeti Lozan Barış Konferansı görüşmelerini yarıda bırakarak Ankara'ya dönmüştür?**

- A) Batı Trakya
- B) Yabancı okulların statüsü
- C) Kapitülasyonlar
- D) Hatay ve Suriye sınırı

17. **Adana ve çevresindeki direniş hareketlerini teşkilatlandırmak için kurulan milli cemiyet aşağıdakilerden hangisidir?**

- A) Milli Kongre Cemiyeti
- B) Redd-i İlhak Cemiyeti
- C) Doğu Anadolu Müdafaa-i Hukuk Cemiyeti
- D) Kilikyalılar Cemiyeti

18. **Türkiye'nin doğu sınırına kesinlik kazandıran aynı zamanda Moskova Antlaşması'nın da bir tekrarı niteliğinde olan antlaşma aşağıdakilerden hangisidir?**

- A) Kars Antlaşması
- B) Gümrü Antlaşması
- C) Lozan Antlaşması
- D) Brest-Litovsk Antlaşması

19. **Kuva-yı Milliye'nin sahip olduğu özellikler ile ilgili aşağıdaki ifadelerden hangisi yanlıştır?**

- A) Halkın desteğini alması
- B) Bölgesel direniş gücü olması
- C) Tek bir merkezden yönetilen güçlerden oluşmaması
- D) Düzenli birliklerden oluşması

20. **I. Dünya Savaşı'ndan sonra İtilaf Devletleri ve Bulgaristan arasında imzalanan antlaşma aşağıdakilerden hangisidir?**

- A) Sevres (Sevr)
- B) Neuilly (Nöyyi)
- C) Trianon (Trianon)
- D) Versailles (Versay)

1. Aşağıdakilerden hangisi karbondioksitin tüketilmesi yollarından biri değildir?

- A) Kara ve deniz bitkileri tarafından yapılan fotosentez
- B) Orman yangınları
- C) Deniz hayvanlarının ve bitkilerinin ölümü ile dibe çöken ve karbonatlı kayalar halinde yapılan depo
- D) Deniz hayvanlarının kabuk oluşumu

2. Aşağıdakilerden hangisi canlıların yeryüzüne dağılışını etkileyen coğrafi faktörlerden biri değildir?

- A) İklim
- B) Yer şekilleri
- C) Ekonomi
- D) Toprak

3. Bioçeşitlilik açısından aşağıdaki bölgelerden hangisi daha zengindir?

- A) Tundra bölgesi
- B) Step bölgesi
- C) Ekvatorial bölge
- D) Çöl bölgesi

4. Aşağıdaki şehirlerden hangisi liman şehri değildir?

- A) İskenderiye
- B) Amsterdam
- C) Marsilya
- D) Berlin

5. Aşağıdakilerden hangisi canlıların yeryüzüne dağılışını etkileyen coğrafi faktörlerden olan paleocoğrafya içinde yer alır?

- A) İnsan
- B) İklim
- C) Kıtaların kayması
- D) Yer şekilleri

6. Aşağıdakilerden hangisi karbondioksitin açığa çıkma yollarından biri değildir?

- A) Canlıların solunum yapması
- B) Orman yangınları ve ölen canlıların çürümesi
- C) Kara ve deniz bitkileri tarafından fotosentez yapılması
- D) Karbonatlı kayaların, fiziksel ve kimyasal yollarla ayrışması

7. Benzer bitki ve hayvan topluluklarını barındıran bölgelere ne ad verilir?

- A) Ekosistem
- B) Tundra
- C) Savan
- D) Biyom

8. Aşağıdakilerden hangisi üretimi etkileyen beşeri faktörlerden biri değildir?

- A) Gelir düzeyi
- B) Sermaye birikimi
- C) Tarımsal faaliyetler
- D) Teknolojik gelişme

9. Havadaki su buharının sıvı hale geçmesine ne ad verilir?

- A) Yoğuşma
- B) Terleme
- C) Buharlaşma
- D) Yağış

10. Aşağıdakilerden hangisi iktisadi fonksiyonlarına göre sınıflandırması içinde yer almaz?

- A) Ulaşım
- B) Tarım
- C) Askeri
- D) Liman

11. Aşağıdaki tarım ürünlerinden hangisi sanayi bitkileri grubuna girmektedir?

- A) Tütün
- B) Nohut
- C) Fasulye
- D) Mercimek

12. Aşağıdakilerden hangisi tükenmeyen doğal kaynaklardan değildir?

- A) Rüzgâr
- B) Kömür
- C) Güneş
- D) Dalga

13. Tundra biyomunun bitki örtüsü aşağıdakilerden hangisidir?

- A) Ağaçsız kaya yosunları, likenler, otlar ve küçük çalılar
- B) İğne yapraklı orman
- C) Tayga, boreal ormanları
- D) Sonbaharda yapraklarını döken ağaçlarda oluşan ormanlar

14. Akım ve yatak özellikleri dikkate alındığında aşağıdaki akarsulardan hangisinin hidroelektrik potansiyeli daha yüksektir?

- A) Küçük Menderes
- B) Çoruh Nehri
- C) Asi Nehri
- D) Gediz

15. Aşağıdakilerden hangisi çöllerde yaşayan hayvanlardan biri değildir?

- A) Lama
- B) Yılan
- C) Kertenkele
- D) Akbaba

16. Aşağıdakilerden hangisi dünyanın çok soğuk bölgelerinde yaşayan bir hayvan türüdür?

- A) Fil
- B) Leopar
- C) Zürafa
- D) Penguen

17. Bir ülkede nüfus artış hızının azalması sonucunda aşağıdakilerden hangisinin meydana gelmesi beklenmez?

- A) Kalkınma hızının artması
- B) Doğal kaynakların tüketiminin azalması
- C) Genç nüfus oranının azalması
- D) İç ve dış göçlerin artması

18. Aşağıdakilerden hangisi dünya eko sistemini oluşturan unsurlardan biri değildir?

- A) Atmosfer
- B) Sitosfer
- C) Hidrosfer
- D) Litosfer

19. Nüfus artış hızının artması aşağıdaki ülkelerden hangisinde bir sorun oluşturmaz?

- A) Mısır
- B) Pakistan
- C) Hindistan
- D) Fransa

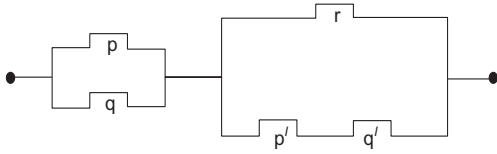
20. Soğuk iklim bölgelerinde görülen ağaçsız kaya yosunları, likenler, otlar ve bazı çalılardan oluşan bitki topluluğu aşağıdakilerden hangisidir?

- A) Savan
- B) Tundra
- C) İğne yapraklı ormanlar
- D) Ilıman çayırlar

1. Aşağıdakilerden hangisi bir önerme değildir?

- A) İstanbul, 1453 yılında fethedildi.
- B) Karenin dört kenarı vardır.
- C) Balina, memeli bir hayvandır.
- D) Kedileri çok severim.

2.



Yukarıdaki elektrik devresi aşağıdaki bileşik önermelerden hangisi ile belirtilir?

- A) $(p \vee q) \vee [r \wedge (p' \vee q')]$
- B) $(p \vee q) \wedge [r \vee (p' \wedge q')]$
- C) $(p \wedge q) \vee [r \wedge (p' \vee q')]$
- D) $(p \wedge q) \wedge [r \vee (p' \wedge q')]$

3. $(\forall x, 2x+1 \leq 5) \vee (\exists x, x-4 = 1)$

önermesinin değili (olumsuzu) aşağıdakilerden hangisidir?

- A) $(\exists x, 2x+1 \geq 5) \wedge (\exists x, x-4 \leq 1)$
- B) $(\forall x, 2x-1 < 5) \vee (\forall x, x-4 > 1)$
- C) $(\exists x, 2x+1 > 5) \wedge (\forall x, x-4 \neq 1)$
- D) $(\forall x, 2x-1 > 5) \vee (\exists x, x+4 = 1)$

4. Aşağıdakilerden hangisi $[q \wedge (p' \wedge q')]'$ bileşik önermesine denktir?

- A) 0
- B) q
- C) $q' \vee p$
- D) 1

5. $q' \Rightarrow p'$ koşullu önermesinin karşıt-terci aşağıdakilerden hangisidir?

- A) $p \Rightarrow q$
- B) $q \Rightarrow p$
- C) $p' \Rightarrow q'$
- D) $q' \Rightarrow p'$

6. Aşağıdaki önermelerden hangisi doğrudur?

- A) $(1 \vee 0) \Leftrightarrow (0 \Rightarrow 1) \equiv 0$
- B) $0 \Rightarrow (0 \wedge 1) \equiv 0$
- C) $(1 \wedge 0) \Leftrightarrow 1 \equiv 0$
- D) $(1 \Rightarrow 0) \vee 1 \equiv 0$

7. $K = \{2, 4, 6, 8, 10, 12\}$ kümesinin kaç tane alt kümesi vardır?

- A) 16
- B) 32
- C) 48
- D) 64

8. $P = \{1, 2, 3, 4\}$, $R = \{2, 4, 6\}$ ve $S = \{3, 4, 5, 6\}$ kümeleri veriliyor.

Buna göre, $P \cup (R \cap S)$ kümesi aşağıdakilerden hangisidir?

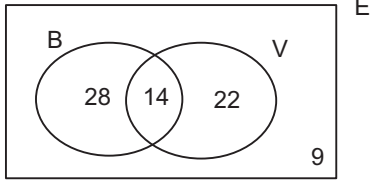
- A) $\{2, 4, 6\}$
- B) $\{1, 2, 3, 4\}$
- C) $\{3, 4, 5, 6\}$
- D) $\{1, 2, 3, 4, 6\}$

9. $K = \{a, d, e, f, g, h\}$, $L = \{e, f, h\}$ ve $M = \{e, h\}$ kümeleri veriliyor.

Buna göre, aşağıdaki ifadelerden hangisi yanlıştır?

- A) $K \subset (L \cup M)$
 B) $L \subset K$
 C) $M \subset L$
 D) $(K \cap M) \subset L$

10.



Yukarıdaki E evrensel kümesinde, bir grupta basketbol oynayanlar B, voleybol oynayanlar V ile gösterilmiştir.

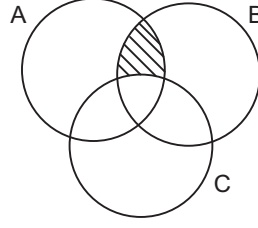
Buna göre, aşağıdaki ifadelerden hangisi yanlıştır?

- A) Basketbol oynamayan kişi sayısı 45 tir.
 B) Sadece voleybol oynayan kişi sayısı 22 dir.
 C) Her iki sporu oynayan kişi sayısı 14 tür.
 D) Grupta toplam 73 kişi vardır.

11. $n(A) = 48$, $n(B) = 39$ ve $n(A \cap B) = 32$ ise $n(A \cup B)$ kaçtır?

- A) 50
 B) 55
 C) 59
 D) 64

12.



Şekildeki taralı küme aşağıdakilerden hangisidir?

- A) $(A \cap B) \setminus C$
 B) $(B \cap C) \setminus A$
 C) $(A \cup B) \cap C$
 D) $B \setminus (A \cup C)$

13. Bir bakkaldan aynı günde 76 kişi çikolata, 54 kişi kraker almıştır. Bu kişilerden 28 i hem çikolata hem kraker almıştır.

Bu marketten aynı günde sadece çikolata ve sadece kraker alanların sayılarının toplamı kaçtır?

- A) 74
 B) 78
 C) 82
 D) 86

14. $(8x-12, 2y-x) = (4, 14)$ olduğuna göre, $x+y$ kaçtır?

- A) 8
 B) 10
 C) 12
 D) 14

15. $K = \{2, 4, 6, 8\}$ ve $L = \{1, 3, 5\}$ kümeleri veriliyor.

$\beta: K \rightarrow L$ olmak üzere, $\beta = \{(2, 1), (4, 3), (6, 5)\}$ ise β^{-1} aşağıdakilerden hangisidir?

- A) $\beta^{-1} = \{(2, 3), (4, 1), (6, 3)\}$
 B) $\beta^{-1} = \{(1, 4), (3, 2), (5, 6)\}$
 C) $\beta^{-1} = \{(1, 2), (3, 4), (5, 6)\}$
 D) $\beta^{-1} = \{(1, 2), (1, 4), (1, 6), (1, 8)\}$

16. $A = \{-1, 0, 1\}$, $f: A \rightarrow B$ tanımlı bire-bir ve örten bir fonksiyondur.

$f(x) = 2x+1$ kuralı ile verildiğine göre, B kümesi aşağıdakilerden hangisidir?

- A) $\{-3, -2, -1\}$
 B) $\{-1, 1, 3\}$
 C) $\{-1, 1\}$
 D) $\{0, 2\}$

17. $A = \{k, l\}$ ve $B = \{p, r, s, t, u, v\}$ kümeleri veriliyor.

Buna göre, A 'dan B 'ye tanımlanan sabit fonksiyonların sayısı kaçtır?

- A) 2
 B) 4
 C) 6
 D) 8

18. $f: \mathbb{R} - \left\{\frac{6}{5}\right\} \rightarrow \mathbb{R}$, $f(x) = \frac{9}{5x-6}$ biçiminde tanımlı f fonksiyonu veriliyor.

Buna göre, $f^{-1}(1)$ kaçtır?

- A) $-\frac{1}{3}$
 B) $\frac{1}{2}$
 C) 2
 D) 3

- 19.

•	p	r	s	t
p	r	s	t	p
r	s	t	p	r
s	t	p	r	s
t	p	r	s	t

$E = \{p, r, s, t\}$ kümesinde tanımlı bir • işleminin tablosu yukarıda verilmiştir.

Buna göre $(p \bullet r) \bullet (r \bullet s)$ işleminin sonucu kaçtır?

- A) p
 B) r
 C) t
 D) s

20. $f: \mathbb{R} \rightarrow \mathbb{R}$, $f(x) = 5x-4$ biçiminde tanımlı f fonksiyonu için $f(-3) + f(x) = 32$ eşitliğini sağlayan x değeri aşağıdakilerden hangisidir?

- A) 9
 B) 11
 C) 13
 D) 15

1. Aşağıdakilerden hangisi turizmi etkileyen politikalarından biri değildir?

- A) Tüm boyutlarıyla eşit olanakların geliştirilmesi
- B) Farklı hizmet alanlarında kullanımının azaltılması
- C) Turizmin ülke politikalarında kullanımının artırılması
- D) Mesleki yetenekler arasındaki farkın azaltılması

2. Toprak altından çıkan ve banyo yapmak için kullanılan, şifalı su kaynaklarına ne ad verilir?

- A) Kaplıcalar
- B) Termal
- C) İçmece
- D) Ilıcalar

3. Türkiye'nin doğu ve batı arasında köprü vazifesi görmesi zengin turizm potansiyelinin ana kaynaklarından hangisi kapsamındadır?

- A) Tarihi konum
- B) Politik konum
- C) Coğrafi konum
- D) Doğal konum

4. Aşağıdakilerden hangisi kaplıcalarda uygulanan tedavilerden biri değildir?

- A) Bebek sahibi olabilmek için uygulanan tedavi
- B) Romatizma tedavisi
- C) Sindirim sistemi hastalıkları tedavisi
- D) Deri hastalıkları tedavisi

5. Türkiye'de avlanılmasına izin verilen yaban hayvanları türlerine ve avlanma surelerine göre yıldan yıla değişmektedir. Bu değişiklikler aşağıdakilerden hangisinin kararları ile belirlenir?

- A) Çevre ve Orman Bakanlığı
- B) Kültür ve Turizm Bakanlığı
- C) Merkez Av komisyonu
- D) Orman Müdürlüğü

6. Ilıcaların kaplıcalardan farkı aşağıdakilerden hangisidir?

- A) Su sıcaklığının daha fazla olması
- B) Sularında magnezyum olmaması
- C) Gelen kişi sayısının daha az olması
- D) Üzerinin acık olması

7. Turizm bakımından güçlü çekim alanlarına ve turistik donanıma sahip olan yere ne ad verilir?

- A) Turistik bölge
- B) Turizm alanı
- C) Turistik yöre
- D) Tarihi yerler

8. İnsanların sinirsel ve bedensel yorgunluklarını gidermek, çeşitli rahatsızlıklarına, fayda bulmak amacıyla katıldıkları turizm hareketlerine ne ad verilir?

- A) Spor turizmi
- B) Kültürel turizm
- C) Kişisel turizm
- D) Sağlık turizmi

9. Ülkemizin kültür turizminin önündeki en büyük engel aşağıdakilerden hangisidir?

- A) Kültür hazinelerine gereken değerin verilmemesi
- B) Ülkemiz coğrafyasında dağlık bölgelerin fazla olması
- C) Tanıtım eksikliği
- D) Kültür mirası bilincinin olmaması

10. Turistlerin gittikleri ülkelerde yeme, içme, konaklama gibi ihtiyaçlarını karşılamak için yaptıkları harcamaları aşağıdakilerden hangisi kapsamaktadır?

- A) Turizmin gelir kaynağı olma etkisi
- B) Turizmin politik önemi
- C) Turizmin sosyal önemi
- D) Turizmin yatırım kaynağı olma etkisi

11. Aşağıdakilerden hangisi gençlik turizmi imkanları sağlayan kurum ve kurumlardan biri değildir?

- A) Milli Eğitim Bakanlığı
- B) YURT-KUR
- C) Çevre ve Orman Bakanlığı orman içi dinlenme yerleri
- D) Özel Tesisler

12. Aşağıdakilerden hangisi İç Anadolu Bölgesi'nin turistik yerlerinden biri değildir?

- A) Ihlara vadisi
- B) Peribacaları
- C) Sümela Manastırı
- D) Antik Hitit kentleri

13. Türkiye'de turizm geliri en fazla olan bölge aşağıdakilerden hangisidir?

- A) Akdeniz Bölgesi
- B) Marmara Bölgesi
- C) Karadeniz Bölgesi
- D) İç Anadolu Bölgesi

14. Aşağıdakilerden hangisi tarafından öğrencilere yönelik eğitim ve gelişim kampları düzenlenmektedir?

- A) Belediyelerin bünyesindeki turizm örgütleri
- B) Çocuk Esirgeme Kurumu Müdürlüğü
- C) Milli Eğitim Bakanlığı
- D) Okul içi Beden Eğitimi Spor ve İzcilik Dairesi Başkanlığı

15. Vatandaşlara avcılık yapma olanağı veren, yetkili kurumlardan alınmış sertifikaya ne ad verilir?

- A) Av turizmi izin belgesi
- B) Av tezkeresi
- C) Avlanma ruhsatı
- D) Av bölgelerine giriş sertifikası

16. Türkiye'nin şimdiye dek kullanmayı başaramadığı, kıyı turizminin aksine az bulunan bir ürün olması ve getirisinin yüksek olması turizmin hangi önemini ifade etmektedir?

- A) Kültürel
- B) Politik
- C) Sosyal
- D) Çevresel

17. 15-24 yaş grupları arasındaki bireylerin anne, baba ve diğer aile yakınları olmaksızın katıldıkları turizm aşağıdakilerden hangisidir?

- A) Av turizmi
- B) Gençlik turizmi
- C) Kitle turizmi
- D) Rekreasyon turizmi

18. Yol, liman, hava alanı, elektrik yatırımları turizm alanında gerçekleştirilen yatırımlardan hangisi kapsamındadır?

- A) Diğer hizmet tesisleri yatırımları
- B) Konaklama tesisleri yatırımları
- C) Teşvik yatırımları
- D) Altyapı yatırımları

19. Aşağıdakilerden hangisi turizm yatırımlarının doğrudan ulusal gelir üzerinde etkide bulunmasının yanı sıra, olumlu etkide bulunduğu iş alanlarından biri değildir?

- A) Gıda
- B) Demir-çelik
- C) Tarım
- D) Mobilya-dekorasyon

20. Dünyada kültür turizmi hangi yıldan beri bütün ayrıntılar düşünülerek yapılmaktadır?

- A) 1950
- B) 1960
- C) 1970
- D) 1980

1. Bir taşınır mal veya ekonomik değer taşıyan bir hak ile bir miktar paranın değiştirilmesi aşağıdakilerden hangisine konu olur?
 - A) Taşınır mal satımı
 - B) Karz sözleşmesi
 - C) Hizmet sözleşmesi
 - D) Kira sözleşmesi
2. Kiracıya, kiralanan şeyin kullanma hakkını ve semerelerini toplama hakkını veren kira türü aşağıdakilerden hangisidir?
 - A) Finansal kiralama
 - B) Taşınır kirası
 - C) Hasılat kirası
 - D) Adi kira
3. 6570 sayılı Kira Kanunu'nun boşlukları hangi kanuna göre doldurulur?
 - A) Medeni Kanun
 - B) Ticaret Kanunu
 - C) Borçlar Kanunu
 - D) İş Kanunu
4. Ticari işlere uygulanacak hukuk kurallarında izlenecek sıra içinde aşağıdakilerden hangisi bulunmamaktadır?
 - A) Diğer kanunlarda yer alan ticari işleme ilişkin hukuk kuralları
 - B) Ticari örf ve adet kuralları
 - C) Hakimin bilgi ve tecrübesiyle edindiği ve uyguladığı kurallar
 - D) Genel hukuk kuralları
5. Aşağıdakilerden hangisinde en çok karşılaşılan faiz türleri bir arada verilmiştir?
 - A) Basit-bileşik
 - B) Süreli-süresiz
 - C) Vadeli-vadesiz
 - D) Artan oranlı-azalan oranlı
6. Bilinen bir olay ve olgudan başka bir olay veya olgunun var olduğu sonucunun çıkarılması ve aksi kanıtlanmadıkça bu varsayımın doğru kabul edilmesi haline ne ad verilir?
 - A) Karine
 - B) Teselsül
 - C) Tekeffül
 - D) Gaib
7. Bedeni ve zihni çalışma veya emeğin bir sermaye ile birleştirilmesiyle sağlanan değerlere ne denir?
 - A) Safi tutar
 - B) Kazanç
 - C) Temettü
 - D) İrat
8. Aşağıdakilerden hangisi servet üzerinden alınan vergilerden biri değildir?
 - A) Veraset ve intikal vergisi
 - B) Motorlu taşıtlar vergisi
 - C) Taşit alım vergisi
 - D) Banka ve sigorta muameleleri vergisi
9. Aşağıdaki üretim faktörüne dayanan hasıla eşleşmelerinden hangisi yanlıştır?
 - A) Emek payı-ücret
 - B) Memur payı-ikramiye
 - C) Sermaye payı-faiz
 - D) Müteşebbis payı-kâr
10. Aşağıdakilerden hangisi verginin özellikleri arasında yer almaz?
 - A) Hizmet kalitesine göre oranı belirlenir.
 - B) Belirli bir karşılık yoktur.
 - C) Devletin egemenlik gücüne dayanır.
 - D) Gerçek ve tüzel kişilerden alınır.
11. Vergi, sadece değer üzerinden yapılırsa bu hesaplama yöntemine ne ad verilir?
 - A) Advalorem
 - B) Spesifik
 - C) Katma değer
 - D) Dolaysız vergi

12. Aşağıdakilerden hangisi kamu hizmetinin niteliklerinden biri değildir?

- A) Ülkenin veya halkın tamamına veya bir bölümüne yönelik olabilir.
- B) Kamuya yönelik ve kamuya yararlı olmalıdır.
- C) Aynı hukuki durumda olanlar hizmetlerden aynı şekilde yararlanamaz.
- D) Eşitlik esasına göre yürütülür.

13. Aşağıdakilerden hangisi işçinin borçları arasında yer almaz?

- A) Sadakat borcu
- B) Rekabet etmeme borcu
- C) Hizmet borcu
- D) Ücret ödeme borcu

14. Aşağıdakilerden hangisi ücret şekillerinden biri değildir?

- A) Zamana göre ücret
- B) Akord ücret
- C) Mekana göre ücret
- D) Kârdan pay alma

15. Aşağıdakilerden hangisi, iş sözleşmesini fesih dışı nedenlerle sona erdiren sebeplerden biridir?

- A) Süreli fesih bildirim
- B) Tarafların anlaşamaması
- C) Tarafların anlaşma niyetinin olması
- D) Süresiz fesih bildirim

16. Gerçekleşmesi halinde tazminatın ödeneceği, yangın, kaza, hastalık, olum, kuraklık gibi olaylar sigortacılık dilinde aşağıdakilerden hangisiyle adlandırılır?

- A) Menfaat
- B) Prim
- C) Sigorta bedeli
- D) Riziko

17. Aşağıdakilerden hangisi sigorta ettirenin borçları arasında yer almaz?

- A) Malın muayenesine izin verme borcu
- B) Koruyucu önlemler alma borcu
- C) Prim ödeme borcu
- D) Poliçe düzenleyerek verme borcu

18. Haksız eylemi işleyen veya onu istihdam eden kişiler tazminat ödemek zorunda kaldıkları zaman uğrayacakları zararı karşılamak için yapılan sigorta hangisidir?

- A) Mükerrer sigorta
- B) Mali sorumluluk
- C) Mal sigortası
- D) Can sigortası

19. Aşağıdakilerden hangisi, bonolar için aranan şekil şartlarından biri değildir?

- A) Senedin düzenlendiği tarih yazılmazsa bono geçersizdir.
- B) Vade yazılmamışsa bono geçersizdir.
- C) Bonoyu düzenleyenin imzası bulunmazsa bono geçersizdir.
- D) Bonoda yer alan ödeme borcu kayıtsız ve koşulsuzdur.

20. Aşağıdakilerden hangisi kambyo senedir?

- A) Varant
- B) Poliçe
- C) Emtia senedi
- D) Taşıma işleri senedi

1. Divan şiiriyle ilgili aşağıdaki ifadelerden hangisi yanlıştır?

- A) Hece ölçüsüyle yazılır.
- B) Dili halk şiirine göre daha ağırdır.
- C) Arap ve Fars edebiyatlarının etkisi görülür.
- D) Nazım birimi beyittir.

2. Makaleyle ilgili aşağıdaki ifadelerden hangisi yanlıştır?

- A) Üslup yönünden üçüncü tekil anlatım tercih edilir.
- B) Gazetede ilk sayfa ve birinci sütunda yer alan ve günlük olaylar, ülke sorunları hakkında görüşleri yansıtan yazılara başmakale adı verilir.
- C) Bilimsel bir anlatım ağır basar.
- D) Makalede temel öge duygudur.

3. Aşağıdakilerden hangisi kafiye çeşitlerinden biri değildir?

- A) Tam kafiye
- B) Cinaslı kafiye
- C) Heceli kafiye
- D) Zengin kafiye

4. Aruz ölçüsüyle kaleme alınmış şiirler genellikle hangi dönemde görülmektedir?

- A) Cumhuriyet Dönemi Türk Edebiyatı
- B) Anadolu Selçuklular Dönemi Türk Edebiyatı
- C) İslam Uygarlığı Çevresinde Gelişen Türk Edebiyatı Dönemi
- D) İslam Öncesi Türk Edebiyatı Dönemi

5. Bilim insanlarının bir konunun çeşitli yönlerini inceleyip görüş bildirdikleri toplantılara ne ad verilir?

- A) Söylev
- B) Sempozyum
- C) Açık oturum
- D) Münazara

6. Aşağıdakilerden hangisi klasik Türk şiiri nazım biçimlerinden biri değildir?

- A) Mesnevi
- B) Müstezat
- C) Kaside
- D) Koşma

7. Aşağıdakilerden hangisi bilimsel yazılar içerisinde yer almaz?

- A) Tiyatro metinleri
- B) Değerlendirme yazıları
- C) Bilimsel makaleler
- D) Konferans raporları

8. Şiiri oluşturan dörder, beşer ya da daha fazla dizelik kümelere ne ad verilir?

- A) Beyit
- B) Mısra
- C) Bend
- D) Gazel

9. Anadolu Türk edebiyatının kurucusu, tekke, divan ve halk edebiyatlarının tümüne esin kaynağı olarak görülen şair aşağıdakilerden hangisidir?

- A) Yunus Emre
- B) Bedri Rahmi
- C) Mehmet Akif
- D) İlhan Berk

10. Terzarıma, Türk şiirinde kullanılan hangi nazım biçiminin örneğidir?

- A) Klasik Türk şiiri
- B) Batı etkisinde gelişen
- C) Halk şiiri
- D) Divan edebiyatı

11. Ağah Efendi ve Şinasi'nin 1860'da çıkardıkları ilk özel gazete hangisidir?

- A) Tercüman-Ahval
- B) İntibah
- C) Memleket
- D) Ceride-i Havadis

12. "Ey bu topraklar için toprağa düşmüş asker!
Gökten ecdâd inerek öpse o pâk alnı değer.
Ne büyüksün ki kanın kurtarıyor tevhîdî..
Bedr'in aslanları ancak bu kadar şanlı idi."

Yukarıda bir parçası verilen Çanakkale Şehitleri İçin başlıklı şiirin teması aşağıdakilerden hangisidir?

- A) Aşk
- B) Kahramanlık
- C) Gençlik
- D) Öfke

13. Tek bir sözcüğün, aynı beyitte birden fazla anlama gelecek şekilde kullanıldığı ve divan edebiyatında çok görülen sözcük sanatı aşağıdakilerden hangisidir?

- A) Tevriye
- B) Teşbih
- C) Tenasüp
- D) Tariz

14. Cinaslı sözcüklerin kafiye yapılması en çok nerede görülür?

- A) Tiradlarda
- B) Divan edebiyatında
- C) Koşmalarda
- D) Manilerde

15. Halk şiirine ilişkin aşağıdaki bilgilerden hangisi yanlıştır?

- A) Türklerin İslamiyeti kabulü öncesinden başlayarak günümüze kadar sürmüştür.
- B) Nazım birimi dörtlüktür.
- C) Aruz ölçüsü kullanılmıştır
- D) Konu olarak tabiat güzellikleri, aşk, ayrılık ve gurbet gibi temaları işlemiştir.

16. "Bir nasihatım var zamana uygun
Tut sözümü yattıkça yat uyanma
Meşhur bir kelamdır sen kazan sen ye
El için yok yere ateşe yanma"

Yukarıda bir parçası verilen "Ters Öğüt Destanı" hangi sanata uygun bir örnektir?

- A) Mecaz
- B) Tariz
- C) Alegori
- D) İstiare

17. Duygu, düşünce ve hayallerin ölçülü, uyaklı dizeler halinde örülmüş biçimine ne ad verilir?

- A) Nesir
- B) Menkıbe
- C) Nazım
- D) Murabba

18. Yazılışı aynı fakat anlamı bambaşka olan sözcüklerle hangi sanat yapılır?

- A) Uyak
- B) Cinas
- C) Aliterasyon
- D) Mübalağa

19. Mecazlı veya açık olarak birbirleriyle anlam ilgisi olan sözcük yahut kavramların aynı beyit veya cümlede bulunmasına ne ad verilir?

- A) Cinas
- B) Kinaye
- C) Tariz
- D) Tenasüp

20. Söylenen sözün ya da kavramın gerçek ve mecazlı anlamı dışında büsbütün tersini söyleme sanatı aşağıdakilerden hangisidir?

- A) Temsili istiare
- B) Mecaz-ı mürsel
- C) Cinas
- D) Tariz

1. Aşağıdakilerden hangisi anonim halk şiirinin özelliklerinden biri değildir?

- A) Hece ölçüsü kullanılması
- B) Dilinin ağır, anlatımının sanatlı olması
- C) Halkın ortaklaşa ürünü olması
- D) Daha çok yarım uyak kullanılması

2. Aşağıdakilerden hangisi, Osmanlı İmparatorluğu'nda Cihannüma, Fezleke, Keşfü'z-zünun gibi önemli eserleriyle tanınan, XVII. yüzyılın çok yönlü yazarlarından ve düşünürlerinden biridir?

- A) Mütercim Asım
- B) Süleyman Çelebi
- C) Evliya Çelebi
- D) Kâtip Çelebi

3. Kültürel tarihimizi aydınlatacak düşüncelerin, toplumun değer yargılarının ele alınıp işlendiği, Yusuf Has Hacıp tarafından yazılan "Siyasetnâme" türünün ilk örneği sayılan eser aşağıdakilerden hangisidir?

- A) Atabetü'l-Hakâyık
- B) Kutadgu Bilig
- C) Divân-ı Hikmet
- D) Mantıku't-Tayr

4. Kırgızların geleneklerini, aile hayatlarını, dünya ve hayat görüşlerini anlatan destan, aşağıdakilerden hangisidir?

- A) Türeyiş Destanı
- B) Manas Destanı
- C) Bozkurt Destanı
- D) Yaradılış Destanı

5. Aşağıdakilerden hangisi tasavvuf düşüncesini şiirlerine yansıtan şair ve düşünürlerden biri değildir?

- A) Hallacı Mansur
- B) Yunus Emre
- C) Hoca Dehhani
- D) Mevlâna

6. Aşağıdaki yazar-eser eşleştirmelerinden hangisi yanlıştır?

- A) Şeyh Galip – Hüsn ü Aşk
- B) Nâbî – Hayrabad
- C) Âşık Paşa – Harnâme
- D) Çarhnâme – Ahmet Fakih

7. Suya gider al yazması başında İsmi kadın kendi on beş yaşında Dünyayı terk etti pek genç yaşında Dayanmalı Hakk'ın emri böyledir.

Yukarıdaki dördlük aşağıdakilerden hangisine örnektir?

- A) Ağıt
- B) Güzelleme
- C) Taşlama
- D) Koçaklama

8. Aşağıdakilerden hangisi kahramanlık hikâyelerinden biridir?

- A) Köroğlu
- B) Âşık Garip
- C) Hayriye
- D) Lütfiye

9. Allah'a yakarışı işleyen, bağışlanmayı dileyen şiirlere ne ad verilir?

- A) Naat
- B) Tevhit
- C) Münacaat
- D) Kaside

10. İslamiyet'in kabulünden sonra, Türklerin sosyal, siyasî ve kültürel yaşamlarındaki değişimlerle ilgili aşağıdaki ifadelerden hangisi yanlıştır?

- A) Bilim dili olarak Arapça, edebiyat dili olarak Farsça kullanılmaya başlanmıştır.
- B) Ümmet olma yerine ulus olma bilincine erişilmiştir.
- C) Türk dili ayrı coğrafi bölgelerde Doğu Türkçesi ve Batı Türkçesi adıyla ikiye ayrılmıştır.
- D) Göçebe yaşamdan yerleşik düzene geçilmiştir.

11. Yunus Emre'nin didaktik mesnevisi aşağıdakilerden hangisidir?

- A) Atabetü'l-Hakâyık
- B) Hayriyye
- C) Risaletü'n-Nushiyye
- D) Behcetü'l-Hadâyik

12. Divan edebiyatında şairlerin kendilerini övme geleneği vardı.

Kaside nazım şekli içinde şairin kendini övdüğü bölüme ne ad verilir?

- A) Medhiye
- B) Mersiye
- C) Girizgâh
- D) Fahriye

13. Birçok eserinde çağının sosyal gelişmeleri üzerinde durmuş, gazel nazım şekliyle yazdığı şiirlerde aşk ve güzellik konusunu işlemiştir. İskendernâme, Cemşid-ü Hurşid mesnevileri ile Divân'ı bulunan XIV. yüzyıl klâsik edebiyat şairi kimdir?

- A) Ahmedî
- B) Neffî
- C) Nâbî
- D) Necati

14. Aşağıdakilerden hangisi orta oyunu tiplerinden biridir?

- A) Külhanbeyi
- B) Tuzsuz Deli Bekir
- C) Karagöz
- D) Pişekâr

15. Bütün beyitleri aynı güzellikte, aynı değerde olan gazellere ne ad verilir?

- A) Yek-ahenk gazel
- B) Musammat gazel
- C) Düz gazel
- D) Yek-âvaz gazel

16. İslamiyet'in esaslarını ve tasavvufun inceliklerini göstermek için Hoca Ahmet Yesevî tarafından yazılan didaktik şiirlere ne ad verilir?

- A) Hikmet
- B) İlâhi
- C) Âyin
- D) Nefes

17. Su akar güldür güldür
Mendilim dolu güldür
Yeri göğü yaratan
Ne olur beni güldür

Yukarıdaki mânide sestesh sözcüklerle yapılan uyak, aşağıdakilerden hangisidir?

- A) Tam uyak
- B) Cinaslı uyak
- C) Yarım uyak
- D) Zengin uyak

18. Bed-asla necabet mi verir hiç üniforma
Zer-düz palan ursan eşek yine eşektir.

Ziya Paşa'nın bu beyitinde vurgulanmak istenen ifade aşağıdakilerden hangisidir?

- A) Üniforma insana soyluluk verir.
- B) Yeryüzünde mayası bozuk olanlar da vardır.
- C) Asalet insanın özündedir.
- D) Eşeğin değeri üstüne vurulan eyer kadardır.

19. Anonim halk şiiri örneği olup genellikle dört dizeden oluşan, 7'li hece ölçüsüyle söylenen, aaba şeklinde uyaklanan nazım şekline ne ad verilir?

- A) Türkü
- B) Koşma
- C) Semaî
- D) Mânî

20. Aşağıdakilerden hangisi eski Türk edebiyatında romanın yerini tutan uzun kahramanlık hikâyelerinden biri değildir?

- A) Sefaretnâme
- B) Saltuknâme
- C) Müslimnâme
- D) Battalnâme

1. Cenap Şahabettin'in Bulgaristan, Romanya, Macaristan, Çekoslovakya, Almanya ve Avusturya'ya yaptığı gezilerle ilgili izlenimlerini, anılarını topladığı kitabı aşağıdakilerden hangisidir?
 - A) Yolcu Defteri
 - B) Avrupa Mektupları
 - C) Deniz Aşırı
 - D) Anadolu Notları
2. Türk edebiyatında ilk psikolojik roman sayılan "Eylül"ün yazarı kimdir?
 - A) Hüseyin Cahit Yalçın
 - B) Hasan Âsaf
 - C) Hamdullah Suphi
 - D) Mehmet Rauf
3. Aşağıdakilerden hangisi, Servet-i Fünun Döneminin en ünlü romancılarından olan Halit Ziya Uşaklıgil'in eserlerinden biri değildir?
 - A) Kırık Hayatlar
 - B) Siyah İnciler
 - C) Aşk-ı Memnu
 - D) Mai ve Siyah
4. "Rubâb-ı Şikeste, Hâluk'un Defteri, Şermin, Tarih-i Kadim" adlı şiir kitapları aşağıdaki şairlerden hangisine aittir?
 - A) Ali Ekrem Bolayır
 - B) Cenap Şehabettin
 - C) Tefik Fikret
 - D) Süleyman Nazif
5. "Uyak göz için değil, kulak içindir." Tezini savunan, genç yeteneklerin Servet-i Fünun dergisinde toplanmalarına önyak olan sanatçı, aşağıdakilerden hangisidir?
 - A) Ahmet Haşim
 - B) Recaiâde Mahmut Ekrem
 - C) Ali Ekrem Bolayır
 - D) Muallim Naci
6. "Sanat için sanat" anlayışı aşağıdaki edebiyat dönemlerinin hangisinde benimsenmiştir?
 - A) Servet-i Fünun Edebiyatı
 - B) Cumhuriyet Dönemi Edebiyatı
 - C) Fecr-i Âtî Topluluğu
 - D) Tanzimat Edebiyatı
7. Servet-i Fünun dergisi etrafında toplanan şair ve yazarların 1896-1901 yılları arasında oluşturduğu edebiyat, aşağıdakilerden hangisidir?
 - A) Fecr-i Âtî
 - B) Türk Ocağı
 - C) Edebiyat-ı Cedide
 - D) Tanzimat Edebiyatı
8. Döneminin "Fikri hür, irfanı hür, vicdanı hür şair"i Tefik Fikret'in çocuklar için sade bir dille ve hece ölçüsüyle yazdığı şiir kitabı, aşağıdakilerden hangisidir?
 - A) Nemide
 - B) Feride
 - C) Handan
 - D) Şermin
9. "Tâmât" adlı şiir kitabı aşağıdaki şairlerden hangisine aittir?
 - A) Cenap Şehabettin
 - B) Tefik Fikret
 - C) Ali Ekrem Bolayır
 - D) Hüseyin Suat
10. Aşağıdakilerden hangisi, Servet-i Fünun Döneminde düz yazı alanında eserler vermiştir?
 - A) Hüseyin Suat
 - B) Mehmet Rauf
 - C) Süleyman Nazif
 - D) Ali Ekrem Bolayır
11. Aşağıdakilerden hangisi, Tefik Fikret'in şiir sanatının özelliklerinden biri değildir?
 - A) Yalın bir dil kullanması
 - B) Sone, terzarima gibi nazım şekillerini kullanması
 - C) Duygu ve düşüncelerini beyit yerine dize içerisinde tamamlaması
 - D) Türkçeyi aruz ölçüsüne ustalıkla uygulaması

12. "İstiklâl Marşı" şairi Mehmet Âkif Ersoy'un eserlerini topladığı kitabının adı aşağıdakilerden hangisidir?

- A) Aziz İstanbul
- B) Akın
- C) Safahat
- D) Göl Saatleri

13. Yakup Kadri Karaosmanoğlu'nun kuşaklar arasındaki çatışmayı gözler önüne serdiği, Batılılaşmayı yanlış anlayarak bir ailenin dağılmasına neden olan sorumsuz davranışları yerdiği eseri, aşağıdakilerden hangisidir?

- A) Kiralık Konak
- B) Yaban
- C) Sodom ve Gomore
- D) Nur Baba

14. Aşağıdakilerden hangisi, Türk edebiyatında "Beş Hececiler" adıyla anılan yazarlar arasında yer almaz?

- A) Faruk Nafiz Çamlıbel
- B) Enis Behiç Koryürek
- C) Yusuf Ziya Ortaç
- D) Reşat Nuri Güntekin

15. Türk edebiyatında "Han Duvarları" ve "Çoban Çeşmesi" şiirleriyle tanınan; sade dil ve hece ölçüsünü ustalıkla kullanan; fıkra, manzum oyun, roman türünde de eser veren sanatçı kimdir?

- A) Mehmet Emin Yurdakul
- B) Faruk Nafiz Çamlıbel
- C) Yahya Kemal Beyatlı
- D) Ahmet Hikmet Müftüoğlu

16. Aşağıdakilerden hangisi Fecr-i Âtî sanatçılarından biri değildir?

- A) Ahmet Samim
- B) Celâl Sahir
- C) Ziya Gökalp
- D) Ahmet Haşim

17. Aşağıdakilerden hangisi Ahmet Haşim'in eserlerinden biri değildir?

- A) Göl Saatleri
- B) Frankfurt Seyahatnamesi
- C) Piyale
- D) Altın Işık

18. "Yeni Lisan" adlı makale aşağıdaki yazarlardan hangisine aittir?

- A) Ali Canip Yöntem
- B) Ziya Gökalp
- C) Ömer Seyfettin
- D) Yakup Kadri Karaosmanoğlu

19. Aşağıdaki sanatçılardan hangisi, hem Fecr-i Âtî, hem de Milli Edebiyat Dönemi içinde yer almıştır?

- A) Mehmet Emin Yurdakul
- B) Yahya Kemal Beyatlı
- C) Celâl Sahir
- D) Ahmet Haşim

20. Klasik olay hikâyesi tarzında yazan, Ömer Seyfettin'in de örnek aldığı Fransız yazar, aşağıdakilerden hangisidir?

- A) Guy de Maupassant
- B) Moliere
- C) Montaigne
- D) Voltaire

1. **Ekonomiyi, servetlerin üretim, mübadele, bölüşüm ve tüketimini inceleyen bir bilim dalı olarak tanımlayan bilim adamı aşağıdakilerden hangisidir?**
 - A) David Ricardo
 - B) Adam Smith
 - C) Jean Baptiste Say
 - D) John Stuart Mill
2. **Aşağıdakilerden hangisi ekonomi politikasının başlıca hedeflerinden biri değildir?**
 - A) Hakça gelir dağılımı
 - B) Ekonomik denge
 - C) Tam istihdam
 - D) Nitelik belirleyen vasıtalar
3. **Aşağıdakilerden hangisi Ekonomi biliminin temelini oluşturur?**
 - A) Kıtılık
 - B) Büyüme
 - C) Para
 - D) Değer
4. **Aşağıdakilerden hangisi servetin tanımıdır?**
 - A) İnsanların bir mala verdikleri önemin derecesidir.
 - B) Bir insanın belirli bir zamanda kullanmak yetkisine sahip olduğu mal, hizmet, para ve malların bütünüdür.
 - C) Malın ihtiyacı karşılayabilmesi ve faydalı olması durumudur.
 - D) Malların insanlar için kullanım değeridir.
5. **Ekonomi biliminin klasik sınıflandırılmasında aşağıdakilerden hangisi yer almaz?**
 - A) Üretim
 - B) Tüketim
 - C) Faktör piyasası
 - D) Bölüşüm
6. **Aşağıdakilerden hangisi dolaysız tüketimdir?**
 - A) Ekmek üretimi için un kullanılması
 - B) Sanayide tekstil ürünleri üretmek üzere pamuk ve yünün kullanılması
 - C) Hidro elektrik santralinde su kullanılması
 - D) Bir otobüste seyahat edilmesi
7. **Bir malın tüketiminin sürekli artırılması sonucu ondan sağlanan faydanın azalması durumunu bilimsel olarak ilk açıklayan ekonomist aşağıdakilerden hangisidir?**
 - A) Henry George
 - B) Gossen
 - C) Charles Gide
 - D) Dawid Ricardo
8. **İhtiyaçlar arasında rekabet ve ikame imkânları tüketiciler için aşağıdaki faydalardan hangisini sağlar?**
 - A) Aynı ihtiyaca cevap veren malların fiyatları arasında orantılı bir denge sağlar.
 - B) Bireylerin gelirlerini yükseltir.
 - C) Kalkınma hızını yükseltir.
 - D) Gelir dağılımını iyileştirir.
9. **17 Şubat 1923 yılında ilk İktisat Kongresi hangi ilde yapılmıştır?**
 - A) Ankara
 - B) Amasya
 - C) Samsun
 - D) İzmir
10. **Ekonomi biliminde doğruluğu tartışmasız kabul edilen bazı temel varsayımlardan hareket ederek bunların tek olaylara uygulanması esasına dayanan yöntem ne ad verilir?**
 - A) Mantıksal akıl yürütme yöntemi
 - B) Karma yöntem
 - C) Tümdengelim yöntemi
 - D) Tümevarım yöntemi
11. **Aşağıdakilerden hangisi ekonomik ihtiyaç değildir?**
 - A) Hava ihtiyacı
 - B) Konut ihtiyacı
 - C) Elbise satın almak
 - D) Televizyon ihtiyacı
12. **İhtiyaçların dört yasasıyla ilgili aşağıdaki ifadelerden hangisi yanlıştır?**
 - A) Fizyolojik ihtiyaçların kapsamı sınırlıdır.
 - B) İhtiyaçlar değişmektedir.
 - C) İhtiyaçlar objektiftir.
 - D) İhtiyaçlar birbirine rakiptir.

13. Aşağıdakilerden hangisi doğanın sahip olduğu bir üretim faktörü olan enerji kaynaklarının öneminin nedenlerinden biri değildir?

- A) Doğanın sahip olduğu kaynakların önemli bir kısmının yenilenmesi mümkün olmayan maddelerden oluşması
- B) Az gelişmiş ülke ekonomilerinde doğal kaynak ve enerji kullanımının az olması
- C) Üretimin artması
- D) Tarım sektöründe görülen modernleşme eğilimlerinin artması

14. İnsanda yokluk duygusu ile birlikte sıkıntı doğuran ve karşılama isteği uyandıran olguya ne ad verilir?

- A) İhtiyaç
- B) Arz
- C) Mal
- D) Fayda

15. Aşağıdakilerden hangisi, kıt malların faydasını artırarak üretimde bulunmanın yollarından biri değildir?

- A) Şekil faydası yaratan üretim faaliyetleri
- B) İklim faydası yaratan üretim faaliyetleri
- C) Zaman faydası meydana getiren üretim faaliyetleri
- D) Mekân faydası yaratan üretim faaliyetleri

16. Üretimle ilgili aşağıdaki ifadelerden hangisi yanlıştır?

- A) Üretim kıt olan herhangi bir malın miktarını artırmaktır.
- B) Üretim ekonomik malların miktarını veya faydasını artırmaktır.
- C) Üretim değer meydana getirmektir.
- D) Enerji, doğa üretiminin en önemli faktörlerinden biri değildir.

17. Aşağıdakilerden hangisi malın özelliklerinden biri değildir?

- A) Bir vasıtanın mal olabilmesi için üretimin mümkün olması gerekir.
- B) Mal kavramı ihtiyaç ile birlikte ortaya çıkmıştır.
- C) İnsan bir vasıtayı sağlamak için emek harcamak zorunda değildir.
- D) Bir vasıtanın mal olabilmesi için o vasıtanın doğada belirli ölçüde olması gerekir.

18. Aşağıdaki barajlardan hangisi Aşağı Fırat Projesi içinde yer alır?

- A) Karakaya Barajı ve Hidroelektrik Santrali
- B) Kralkızı ve Dicle Baraj ve Hidroelektrik Santrali
- C) Birecik Fındıklı Barajı
- D) Cizre Barajı ve Hidroelektrik Santrali

19. Aşağıdakilerden hangisi doğanın üretim üzerinde gösterdiği etkilerden biri değildir?

- A) Toprak ve toprak altı zenginlikleri vasıtasıyla, tarım ve sanayi üretimini belirler.
- B) Yeryüzü şekilleri ve coğrafik yapı özellikleri aracılığıyla ekonomik faaliyetleri etkiler.
- C) İklim etkiyle insanların isteğini olumlu veya olumsuz şekilde etkiler.
- D) Üretim sonucu olmayan değer artış olayları meydana getirir.

20. Aşağıdakilerden hangisi üretim faktörlerinden biri değildir?

- A) Girişimci
- B) Değer
- C) Emek
- D) Kapital

1. Aşağıdaki hayvanların hangisinde kan, doku hücreleriyle doğrudan doğruya temas halindedir?

- A) Balık
- B) Toprak solucanı
- C) Çekirge
- D) Kuş

2. İnsanın soluk alması sırasında aşağıdaki olaylardan hangisi gerçekleşir?

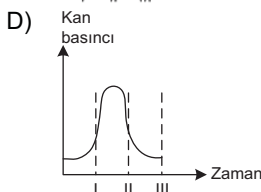
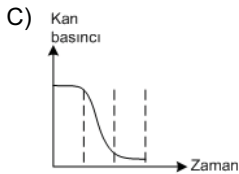
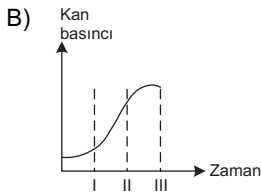
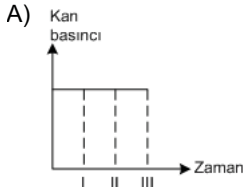
- A) Göğüs kaslarının gevşemesi
- B) Diafram kasının kubbeleşmesi
- C) Göğüs boşluğunun genişlemesi
- D) Akciğer iç basıncının artması

3. Aşağıdakilerden hangisi soymuk dokusunda yer alır?

- A) Kalburlu borular
- B) Ölü destek hücreleri
- C) Trake hücreleri
- D) Su ve mineral taşıma

4. Bir dokuya ait;
I. Atardamarla
II. Kılcal damarla
III. Toplar damarlarla

Taşınan kanın damar duvarına yaptığı basıncın değişimini gösterir grafik aşağıdakilerden hangisidir?



5. I. Solungaç
II. Deri
III. Akciğer

Yukarıdaki oksijen alma, solunum şekillerini hayatının değişik evrelerinde yapabilen canlı aşağıdakilerden hangisidir?

- A) Solucan
- B) Kurbağa
- C) Balık
- D) Kaplumbağa

6. I. Balık
II. Kurbağa
III. Sürüngen
IV. Kuş

Yukarıdakilerden hangilerinin kalbinde temiz kan kirli kana karışır?

- A) I ve II
- B) II ve III
- C) III ve IV
- D) I, II ve III

7. Hayvanlar âleminde bulunan aşağıdaki yapılardan hangisi boşaltım organı değildir?

- A) Nefridyum
- B) Böbrek
- C) Trake boruları
- D) Malpighi tüpü

8. Kalp ile vücut arasında gerçekleşen kan dolaşımı aşağıdakilerden hangisidir?

- A) Büyük kan dolaşımı
- B) Lenf dolaşımı
- C) Açık dolaşım
- D) Kapalı dolaşım

9. Aşağıdakilerden hangisi lenf (akkan) dolaşım sisteminin görevlerinden biri değildir?

- A) Protein ve karbonhidrat metabolizmasını düzenleme
- B) Lenf düğümlerinde akyuvar üretme
- C) Doku sıvısının fazlasını kana verme
- D) Akyuvar üreterek mikropları yok etme

10. Aşağıdaki bitki bölümlerinden hangisi suyun yapraklara taşınmasında doğrudan görevlidir?

- A) Odun boruları
- B) Kalburlu borular
- C) Soymuk boruları
- D) Emici tüyler

11. Amonyanın daha çok üre ve ürik asite dönüştürülerek vücuttan uzaklaştırılması aşağıdakilerden hangisini önlemeye yönelik bir adaptasyondur?

- A) Tuz kaybını
- B) Besin kaybını
- C) Kan kaybını
- D) Su kaybını

12. Memelilerin alyuvar sayıları deniz seviyesinden yükseklerle doğru çıktıkça artar.

Alyuvar hücrelerinin sayılarındaki artma, aşağıdakilerden hangisini sağlamaya yöneliktir?

- A) Isı kaybını önlemeye
- B) Soluk sayısını arttırmaya
- C) Oksijen ihtiyacını karşılamaya
- D) Nabız sayısını arttırmaya

13. Aşağıdakilerden hangisi akciğerlerde yer almaz?

- A) Alveol
- B) Bronş
- C) Bronşçuk
- D) Trakeol uç hücreleri

14. I. Stoma sayısı
II. Yaprak yüzeyi genişliği
III. Yapraklardaki damar sayısı

Bitkilerde gaz alış-verişi, yukarıdaki faktörlerden hangilerine bağlıdır?

- A) Yalnız I
- B) I ve II
- C) II ve III
- D) I, II ve III

15. I. Solungaç solunumu
II. Deri solunumu
III. Akciğer solunumu

Yukarıdakilerden hangileri kurbağaların farklı gelişim dönemlerinde yaptıkları solunum türleridir?

- A) Yalnız I
- B) Yalnız II
- C) I ve III
- D) I, II ve III

16. İnsanda soluk verme sırasında aşağıdaki değişimlerden hangisi gerçekleşmez?

- A) Göğüs kafesinin daralması
- B) Diyafram kasının kubbeleşmesi
- C) Kaburga kaslarının gevşemesi
- D) Akciğer iç basıncının azalması

17. I. Amonyak
II. Üre
III. Ürik asit

Yukarıda verilen boşaltım maddelerinin organizmadan atılırken kaybettikleri su miktarına göre çoktan aza doğru sıralanışı aşağıdakilerden hangisidir?

- A) I, II ve III
- B) I, III ve II
- C) II, I ve III
- D) III, I ve II

18. Aşağıdakilerden hangisi nefronun bölümlerinden biri değildir?

- A) Henle kulbu
- B) Üreter
- C) Glomerulus
- D) Malpighi cisimciği

19. Aşağıdaki organizma ve boşaltım sistemleri eşleştirmelerinden hangisi yanlıştır?

- A) Memeli - Nefron
- B) Yer solucanı - Nefridyum
- C) Çekirge - Malpighi kanalları
- D) Sürüngen - Kontraktil koful

20. Aşağıdakilerden hangisi insanlardaki boşaltım sisteminin atıklarından biri değildir?

- A) Üre
- B) Karbondioksit
- C) Ürik asit
- D) Kreatin

1. 1961 yılında bir araya gelerek yumuşama sürecini başlatan devletler aşağıdakilerin hangisinde birlikte ve doğru olarak verilmiştir?
A) ABD-SSCB
B) Çin-Japonya
C) Güney Kore-Kuzey Kore
D) Fransa-İngiltere
2. Aşağıdakilerden hangisi, 1970'li yıllarda Türkiye ile Yunanistan arasında Ege Denizi konusunda ortaya çıkan sorunlardan biri değildir?
A) Ege adalarının silahlandırılması
B) Karasularının 12 mile çıkarılması
C) Ege hava sahası
D) Meis ve Oniki Ada'nın Yunanistan'a verilmesi
3. Bağımsızlığına yeni kavuşan Asya ve Afrika ülkelerinin ABD ve SSCB gibi iki büyük nükleer güç karşısında varlıklarını korumak için birlik ve dayanışmalarını sağlamak amacıyla 1955 yılında yapılan konferans aşağıdakilerden hangisidir?
A) Helsinki Konferansı
B) Londra Konferansı
C) Bandung Konferansı
D) Kahire konferansı
4. 1961 Anayasası'nın en önemli özelliği aşağıdakilerden hangisidir?
A) Çok partili sistemi geliştirmesi
B) Devlet yönetiminde ve toplum yaşamında bireye ağırlık verilmesi
C) Ekonomik düzenlemelere ağırlık vermesi
D) Milletvekili olabilme şartlarını değiştirmesi
5. İran-İrak Savaşı hangi tarihler arasında olmuştur?
A) 1968-1976
B) 1977-1979
C) 1980-1988
D) 1990-1992
6. Yumuşama politikasının ortaya çıkışında en önemli etken aşağıdakilerden hangisidir?
A) Konvansiyonel silahlardan nükleer silahlara geçiş
B) Ekonomik krizler
C) Uluslararası anlaşmazlıklar
D) Nüfus artışları
7. Aşağıdakilerden hangisi, 27 Mayıs 1960 askeri müdahalesinin nedenlerinden biri değildir?
A) Ekonomide enflasyonist baskının artması
B) Dış ülkelerle olan siyasi ilişkilerin gerginleşmesi
C) Siyasi yaşamda hoşgörü eksikliklerinin olması
D) Ekonomik şartların siyasi ortamı gerginleştirmesi
8. Türkiye'de 1960-1980 yılları arasında uygulanan ekonomik sistem aşağıdakilerden hangisidir?
A) İthal ikameci ekonomi
B) Liberal ekonomi
C) Karma ekonomi
D) Serbest piyasa ekonomisi
9. Vietnam Savaşı hangi yıl başlamıştır?
A) 1960
B) 1962
C) 1965
D) 1969
10. 15 Ağustos 1947'de kurulan Hindistan'ın ilk başbakanı olan siyasi lider aşağıdakilerden hangisidir?
A) Mahatma Gandhi
B) Mao Zedong
C) Menahem Begin
D) Jawaharlal Nehru
11. Aşağıdakilerden hangisi, Türk ekonomisinde bir dönüm noktası olarak nitelendirilen 24 Ocak Kararları'nın amaçlarından biri değildir?
A) Özel sektöre verilen kredilerin faizini yükseltmek
B) Enflasyonu düşürmek
C) Ödemeler dengesini düzeltmek
D) İhracata yönelik üretimi teşvik etmek
12. Berlin Duvarı'nın yıkılarak iki Almanya'nın resmen birleştiği yıl aşağıdakilerden hangisidir?
A) 1988
B) 1989
C) 1990
D) 1991

13. Üç Maymun adlı filmiyle Cannes Film Festivali'nde en iyi yönetmen ödülünü alarak, Türkiye'yi sinema dalında uluslararası alanda başarıyla temsil eden yönetmen aşağıdakilerden hangisidir?

- A) Reha Erdem
- B) Nuri Bilge Ceylan
- C) Mustafa Altıoklar
- D) Ferzan Özpetek

14. Ürdün, Suriye ve İsrail arasında, aşağıdaki nehirlerden hangisinin suyunun kullanımı konusunda ciddi sorunlar ortaya çıkmıştır?

- A) Asi Nehri
- B) Fırat Nehri
- C) Dicle Nehri
- D) Şeria Nehri

15. Aşağıdakilerden hangisi küreselleşmenin dünya üzerindeki ekonomik etkilerinden biri değildir?

- A) Ülkelerin önemli bir kısmının ekonomik yönden bütünleşmeye başlaması
- B) Çok uluslu şirketlerin yaygınlaşması
- C) Devletlerin ekonomideki ağırlığının artması
- D) Uluslararası ticaretin artması

16. Türkiye'de 1980 sonrası yapılan ilk milletvekili genel seçimlerini hangi parti kazanmıştır?

- A) DYP
- B) ANAP
- C) CHP
- D) MHP

17. Kazakistan'ı ilk tanıyan devlet aşağıdakilerden hangisidir?

- A) ABD
- B) İngiltere
- C) Azerbaycan
- D) Türkiye

18. Aşağıdakilerden hangisi, son 25 yılda dünyada etkili olan salgın hastalıklardan biri değildir?

- A) Veba
- B) Kuş gribi
- C) Hepatit
- D) Domuz gribi

19. Türkiye'de ilk renkli televizyon yayını hangi yıl başlamıştır?

- A) 1982
- B) 1984
- C) 1986
- D) 1988

20. Avrupa Birliği'nin (AB) uluslararası problemleri çözüme konusunda yeterli performansı gösterememesinin başlıca nedeni aşağıdakilerden hangisidir?

- A) Küresel krizlerin artması
- B) Üye olmak isteyen devletlere ağır şartlar öne sürmesi
- C) Üye ülke sayısına kısıtlama getirmesi
- D) Üye devletler arasında farklı siyasi ve ekonomik çıkarların olması

SEÇMELİ COĞRAFYA 3

A

2013 I.DÖNEM 0104-A

1. Aşağıdakilerden hangisi dış püskürük kayalardan biridir?

- A) Jips
- B) Kaya tuzu
- C) Bazalt
- D) Kömür

2. Aşağıdakilerden hangisi kömürün başkalaşım geçirerek meydana getirdiği kayaç türlerinden biridir?

- A) Mermer
- B) Elmas
- C) Gnaysa
- D) Şist

3. Bazalt, Andezit, Granit gibi kayaçların yaygın olarak bulunduğu bir ülke için aşağıdakilerden hangisi kesin olarak söylenebilir?

- A) Petrol yatakları zengindir.
- B) Buzullaşmanın yaygın olduğu bir ülkedir.
- C) Eski bir kara parçasıdır.
- D) Volkanizma olayı çok olmuştur.

4. Granitlerin ayrışması sonucu yer yer birbiri üzerinde irili ufaklı ve köşeleri yuvarlaklaştırılmış bloklardan oluşan şekle ne ad verilir?

- A) Tor topografyası
- B) Sarp
- C) Tüf
- D) Tortul

5. İki okyanussal kıtanın birbirine yaklaştığı yerlerde aşağıdakilerden hangisi oluşmaktadır?

- A) Sıra dağlar
- B) Yanardağ
- C) Volkanik ada yayları
- D) Kıta kabuğu

6. Fay hatları, yer kabuğunun zayıf hareket halindeki bölgeleridir. Aşağıdakilerden hangisi bazı alanların fay hatlarına paralellik gösterdiği yerlerden biri değildir?

- A) Deprem alanları
- B) Volkanik alanlar
- C) Genç kıvrım dağları
- D) Karstik araziler

7. Karaları meydana getiren ve aynı zamanda okyanusların altında devam eden yerkabuğu bütün değil parçalar halindedir. Bu parçalardan her birine ne ad verilir?

- A) Levha
- B) Kıta
- C) Kara
- D) Magma

8. Akarsuların yatağı içinde yıl boyunca göstermiş olduğu su miktarının değişimine ne ad verilir?

- A) Akarsuyun hızı
- B) Akarsuyun gücü
- C) Akarsu rejimi
- D) Akarsuyun hidroelektrik gücü

9. Akdeniz iklim bölgesinde kalkerler üzerinde oluşan ve içindeki demiroksit oranının fazlalığı nedeniyle kırmızı renkli olan topraklar aşağıdakilerden hangisidir?

- A) Kahverengi orman toprakları
- B) Terra rossa
- C) Tundra
- D) Podzol

10. Aşağıdaki ülkelerin hangisinde buzul göllerinin bulunma olasılığı daha fazladır?

- A) Yunanistan
- B) Suriye
- C) Mısır
- D) Finlandiya

11. Aşağıdakilerden hangisi tektonik göllerden biri değildir?

- A) Nemrut krater gölü
- B) Hazar gölü
- C) Lut gölü
- D) Aral gölü

12. Dünya nüfusundaki üçüncü sıçrama aşağıdakilerden hangisiyle meydana gelmiştir?

- A) Ateşin bulunmasıyla
- B) Sanayi devrimiyle
- C) Alet yapımının keşfedilmesiyle
- D) Hayvanların evcilleştirilmesiyle

13. Aşağıdakilerin hangisinde nüfus miktarı daha fazladır?

- A) Kanada
- B) Hollanda
- C) Romanya
- D) Çin

14. Aşağıdakilerden hangisi doğum oranını etkileyen etmenlerden biri değildir?

- A) Sağlık koşullarındaki olumlu gelişmeler
- B) Savaşlar
- C) Tarıma dayalı endüstrinin yaygın olması
- D) Ülkelerin gelişmişlik düzeyi

15. Aşağıdakilerden hangisi bir ülkenin genç nüfuslu olduğunu gösterir?

- A) Sanayi ürünleri üretiminin fazla olması
- B) Çalışan nüfusun yaş ortalamasının düşük olması
- C) Tarımla uğraşan nüfusun az olması
- D) Ortalama yaşam süresinin uzun olması

16. Aşağıdakilerden hangisi hızlı ve çarpık kentleşmenin nedenlerinden biridir?

- A) Çevre kirliliği
- B) Alt yapı yetersizliği
- C) Köyden kente göç
- D) Konut yetersizliği

17. Beyin göçünün göç veren ülke için en önemli sonucu aşağıdakilerden hangisidir?

- A) Ülke, eğitim görmüş insanlarını kaybeder.
- B) Ülkeye döviz girer.
- C) Ülke kalkınmasında faydalı olur.
- D) Ciddi sağlık sorunları yaşanır.

18. Aşağıdakilerden hangisi kırsal kesimden şehirlere olan göçü etkileyen faktörler arasında yer almaz?

- A) Ürün çeşidinin fazlalığı
- B) Sulama yetersizliği
- C) Üretim teknolojisindeki gelişmeler
- D) Hızlı nüfus artışı

19. Selçuklular zamanında kervansarayların yaygınlaşması hangi ekonomik faaliyetin önem kazanmaya başladığını gösterir?

- A) Endüstri
- B) Ticaret
- C) Tarım
- D) Hayvancılık

20. Köpeğin ilk evcilleştirildiği dönem aşağıdakilerden hangisidir?

- A) Paleolitik çağ
- B) Neolitik çağ
- C) Kalkolitik çağ
- D) Mezolitik çağ

SEÇMELİ ALMANCA 4

A

2013 I.DÖNEM 0104-A

1. Was für ein nett..... Junge.

Welche Endung passt in die obige Lücke?

Cümlede boş bırakılan yeri aşağıdakilerden hangisi doğru olarak tamamlar?

- A) -es
B) -e
C) -er
D) -este

2. Der Tisch ist neu. Tisch kostet viel.

Welches Wort passt in die obige Lücke?

Cümlede boş bırakılan yeri aşağıdakilerden hangisi doğru şekilde tamamlar?

- A) Die neuste
B) Das neue
C) Der neuer
D) Der neue

3. Ich mag die Arbeit als Dolmetscherin nicht sehr gern.

Wie lautet der obige Satz auf Türkisch?

Verilen cümlelerin Türkçesi aşağıdakilerden hangisidir?

- A) Çevirmen olarak çalışmayı pek sevmiyorum.
B) Çevirmen olmak istemiyordum.
C) Çevirmen olarak çalışanları hiç sevmem.
D) Çevirmenlik yapmayı çok isterdim.

4. Kinder früh schlafen.

Welches Wort passt nicht in die obige Lücke?

Cümlede boş bırakılan yeri aşağıdakilerden hangisi doğru şekilde tamamlamaz?

- A) müssen
B) sollen
C) sollten
D) haben

5. Meine Mutter sagt jeden Tag, daß ich früh aufstehen soll! Sie sagt: "....."

Welches Wort passt in die obige Lücke?

Cümlede boş bırakılan yeri aşağıdakilerden hangisi doğru şekilde tamamlar?

- A) Steht früh auf!
B) Stehen früh auf!
C) Steh früh auf!
D) Stehst früh auf!

6. Dem Kaufmann nicht vertrauen.

Wie lautet der obige Satz in der Imperativ-Form?

Verilen cümlelerin emir cümle şekli aşağıdakilerden hangisidir?

- A) Vertraue dem Kaufmann nicht!
B) Vertrauen dem Kaufmann!
C) Vertraust dem Kaufmann nicht!
D) Vertraue nur dem Kaufmann!

7. Was hättest du gern?

Welche Antwort passt zur obigen Frage?

Verilen sorunun cevabı aşağıdakilerden hangisidir?

- A) Das ist mir zu viel.
B) Wir können diesen Sommer keinen Urlaub machen.
C) Er hätte das nicht machen wollen.
D) Ich hätte gern ein neues Auto.

8. Ich hätte gern ein neues Haus.

Wie lautet die Frage für die obige Antwort?

Verilen cümleye yönelik soru cümlesi aşağıdakilerden hangisidir?

- A) Was machst du da?
B) Was hast du gemacht?
C) Was hättest du gern?
D) Warum kommst du nicht mit?

9. Als Schüler muß man immer fleißig sein.

Welcher Satz drückt das gleiche wie der obige aus?

Verilen cümle ile aynı anlamı taşıyan cümle aşağıdakilerin hangisinde doğru olarak verilmiştir?

- A) Die Schüler haben fleißig gearbeitet.
B) Immer waren die Schüler fleißig.
C) Die Schüler sind so fleißig wie früher.
D) Schüler haben immer fleißig zu sein.

10. er mich anrief, machte ich meine Hausaufgaben.

Welches Wort passt in die obige Lücke?

Cümlede boş bırakılan yeri aşağıdakilerden hangisi doğru şekilde tamamlar?

- A) Weil
B) Damit
C) Als
D) Falls

11. Sie noch schneller zu rennen, wenn sie den Bus erreichen will.

Welches Wort passt in die obige Lücke?

Cümlede boş bırakılan yeri aşağıdakilerden hangisi doğru olarak tamamlar?

- A) habest
B) hat
C) sollte
D) müßt

12. du Kinderarzt werden willst, müßt du studieren.

Welches Wort passt in die obige Lücke?

Cümlede boş bırakılan yeri aşağıdakilerden hangisi doğru şekilde tamamlar?

- A) Warum
B) Damit
C) Wenn
D) Denn

13. Die Touristen machen Urlaub am Meer. (viel)

Welches Wort passt in die obige Lücke?

Cümlede boş bırakılan yeri aşağıdakilerden hangisi doğru şekilde tamamlar?

- A) vielsten
B) meisten
C) vielen
D) mehrsten

14. Er lernt englisch,

Welches ergänzt nicht den obigen Satz?

Cümleyi aşağıdakilerden hangisi doğru olarak tamamlamaz?

- A) weil er in England Urlaub machen will.
B) damit er zum Kurs gehen wollte.
C) um die englischen Fachbücher im Originalen lesen zu können.
D) weil er Karriere im Geschäft machen will.

15. Manuela: Seit wann lebst du in Berlin?
Jennifer: Ich lebe seit vier Jahren in Berlin.
Manuela:
Jennifer: Ja, ich möchte auch nach meinem Studium hier in Berlin wohnen.

Welches ergänzt die Lücke im obigen Dialog?

Verilen karşılıklı konuşmada boş bırakılan yeri aşağıdakilerden hangisi tamamlar?

- A) Hast du vor, noch lange hier zu wohnen?
B) Wie gefällt es dir hier in Berlin?
C) Wo hast du vorher gelebt?
D) Hast du einen Beruf ausgeübt?

16. Wir kaufen uns ein Haus, damit wir keine Miete bezahlen müssen.

Welche Frage passt zur obigen Antwort?

Verilen cevabı gerektirecek soru aşağıdakilerden hangisidir?

- A) Wann habt ihr dieses Haus gebaut?
- B) Warum kauft ihr euch ein Haus?
- C) Was für ein Haus ist das?
- D) Wohin wollt ihr umziehen?

17. Meine Tante ist meine Mutter.

Welche Wörter passen in die obigen Lücken?

Cümlede boş bırakılan yerleri aşağıdakilerden hangileri doğru olarak tamamlar?

- A) billiger als
- B) teurer als
- C) mehr als
- D) älter als

18. Meine Mutter kocht jeden Tag, das bedeutet sie kocht

Welches Wort passt in die obige Lücke?

Cümlede boş bırakılan yeri aşağıdakilerden hangisi doğru şekilde tamamlar?

- A) immer
- B) niemals
- C) selten
- D) manchmal

19. Arbeitslosigkeit bedeutet,

Welches ergänzt den obigen Satz?

Verilen cümleyi aşağıdakilerden hangisi doğru olarak tamamlar?

- A) daß es zuviel Arbeit gibt.
- B) daß es keine Arbeit gibt.
- C) daß es vorgestern Arbeit gab.
- D) daß es manchmal Arbeit gibt.

20. Alle Kinder freuen sich darauf, sie am Geburtstag Geschenke bekommen.

Welches Wort passt in die obige Lücke?

Cümlede boş bırakılan yeri aşağıdakilerden hangisi doğru şekilde tamamlar?

- A) daß
- B) wie
- C) die
- D) was

SEÇMELİ İNGİLİZCE 4

A

2013 I.DÖNEM 0104-A

1. If I you, I would wear my raincoat.

Which of the following completes the sentence above?

Aşağıdakilerden hangisi yukarıdaki cümleyi doğru olarak tamamlar?

- A) could have been
- B) could
- C) can
- D) were

2. Carol bought an expensive shirt. That was a mistake. She wishes she an expensive shirt.

Which of the following completes the sentence above?

Aşağıdakilerden hangisi yukarıdaki cümleyi doğru olarak tamamlar?

- A) didn't buy
- B) hasn't buy
- C) hadn't bought
- D) haven't bought

3. If the final cancelled, what would've happened?

Which of the following completes the sentence above?

Aşağıdakilerden hangisi yukarıdaki cümleyi doğru olarak tamamlar?

- A) has
- B) will be
- C) had
- D) had been

4. The State should support the private enterprise.

Which of the following is the Turkish translation of the sentence above?

Aşağıdakilerden hangisi yukarıdaki cümlenin Türkçe karşılığıdır?

- A) Devlet, özel sektöre destek vermelidir.
- B) Devlet özel sektörü desteklememelidir.
- C) Ekonomik kalkınmanın gerçekleşmesi için özel sektörün gelişmesi gerekir.
- D) Devletçilik ilkesi özel sektöre karşı çıkar.

5. If he pass his exams, he won't get a good job.

Which of the following completes the sentence above?

Aşağıdakilerden hangisi yukarıdaki cümleyi doğru olarak tamamlar?

- A) hasn't
- B) didn't
- C) won't
- D) doesn't

6. If I go to Kastamonu, I him.

Which of the following completes the sentence above?

Aşağıdakilerden hangisi yukarıdaki cümleyi doğru olarak tamamlar?

- A) should have contacted
- B) will contact
- C) contacted
- D) have contacted

7. I don't have a computer, but I need one. I wish I..... a computer.

Which of the following completes the sentence above?

Aşağıdakilerden hangisi yukarıdaki cümleyi doğru olarak tamamlar?

- A) has
B) had
C) have
D) had had

8. If you , you can see her.

Which of the following completes the sentence above?

Aşağıdakilerden hangisi yukarıdaki cümleyi doğru olarak tamamlar?

- A) wait
B) have waited
C) could wait
D) would wait

9. I wish I in İstanbul now.

Which of the following completes the sentence above?

Aşağıdakilerden hangisi yukarıdaki cümleyi doğru olarak tamamlar?

- A) can be
B) must be
C) were
D) should be

10. I would have.....Uludağ if I had been to Bursa.

Which of the following completes the sentence above?

Aşağıdakilerden hangisi yukarıdaki cümleyi doğru olarak tamamlar?

- A) visits
B) visited
C) visiting
D) visit

11. If I had time, I go to the library.

Which of the following completes the sentence above?

Aşağıdakilerden hangisi yukarıdaki cümleyi doğru olarak tamamlar?

- A) must
B) should
C) would
D) will

12. If Esra had had some money, she a new briefcase.

Which of the following completes the sentence above?

Aşağıdakilerden hangisi yukarıdaki cümleyi doğru olarak tamamlar?

- A) could buy
B) would buy
C) must buy
D) would have bought

13. If Jack has a lot of money, he a new car.

Which of the following completes the sentence above?

Aşağıdakilerden hangisi yukarıdaki cümleyi doğru olarak tamamlar?

- A) would buy
B) has bought
C) will buy
D) bought

14. Türk Devleti toprağı ve halkı ile bölünmez bir bütündür.

Which of the following is the English translation of the sentence above?

Aşağıdakilerden hangisi yukarıdaki cümlenin İngilizce karşılığıdır?

- A) The Turkish State is an indivisible whole comprising its territory and people.
- B) Happy is the person who says " I am a Turk".
- C) The state should support the private enterprise.
- D) Through reformism, Turkey can reach the level of contemporary civilization.

15. A: Can you speak Russian?
B: No I can't, but I wish I speak Russian.

Which of the following completes the dialogue above?

Aşağıdakilerden hangisi yukarıdaki konuşmayı doğru olarak tamamlar?

- A) can
- B) could
- C) might
- D) must

16. If I enough time, I will visit my uncle.

Which of the following completes the sentence above?

Aşağıdakilerden hangisi yukarıdaki cümleyi doğru olarak tamamlar?

- A) had
- B) have
- C) will have
- D) am having

17. I live in Erzurum. I wish I in Antalya.

Which of the following completes the sentence above?

Aşağıdakilerden hangisi yukarıdaki cümleyi doğru olarak tamamlar?

- A) have lived
- B) had lived
- C) lived
- D) live

18. I have to go to school tomorrow. I wish I to school tomorrow.

Which of the following completes the sentence above?

Aşağıdakilerden hangisi yukarıdaki cümleyi doğru olarak tamamlar?

- A) don't have to go
- B) should go
- C) must go
- D) didn't have to go

19. If it , I will wear my raincoat.

Which of the following completes the sentence above?

Aşağıdakilerden hangisi yukarıdaki cümleyi doğru olarak tamamlar?

- A) rains
- B) raining
- C) rained
- D) has rained

20. I missed the train yesterday. I wish I the train.

Which of the following completes the sentence above?

Aşağıdakilerden hangisi yukarıdaki cümleyi doğru olarak tamamlar?

- A) hadn't missed
- B) don't miss
- C) didn't miss
- D) haven't missed

SEÇMELİ FRANSIZCA 4

A

2013 I.DÖNEM 0104-A

1. Quand il était petit, il dans le village avec sa famille.

Choisissez le mot qui convient.

Cümledeki boşluğu aşağıdakilerden hangisi doğru şekilde tamamlar?

- A) a vécu
B) vivait
C) vivra
D) avait vécu

2. C'est ma veste; c'est

Choisissez le mot qui convient.

Cümledeki boşluğu aşağıdakilerden hangisi doğru şekilde tamamlar?

- A) la mienne
B) le mien
C) la sienne
D) la leur

3. Ma cravate est en lain, de mon ami est en cuir.

Choisissez le mot qui convient.

Cümledeki boşluğu aşağıdakilerden hangisi doğru şekilde tamamlar?

- A) celle
B) celui
C) ceux
D) c'est

4. Ali a 25 livres, Hakan a 42 livres. Ali a de livres que Hakan.

Choisissez le mot qui convient.

Cümledeki boşluğu aşağıdakilerden hangisi doğru şekilde tamamlar?

- A) plus
B) autant
C) moins
D) aussi

5. I. Est-ce que ces disques sont à vous?
II. Oui, ces disques sont à nous.
III. Ce sont nos disques.
IV. C'est le sien.

Choisissez la phrase qui ne convient pas à l'ensemble.

Sırasıyla okunduğunda anlam bütünlüğünü bozan cümle aşağıdakilerden hangisidir?

- A) I
B) II
C) III
D) IV

6. Irène: - Ce chapeau est à toi?
Cécile: -

Choisissez la réponse qui convient.

Yukarıdaki konuşmada boş bırakılan yeri aşağıdakilerden hangisi doğru şekilde tamamlar?

- A) Non, c'est la mienne.
B) Oui, c'est le vôtre.
C) Non, c'est le sien.
D) Oui, c'est le leur.

7. Ahmet: -
Ömer: - Non, ce ne sont pas ceux de mon frère.

Choisissez la question qui convient.

Yukarıdaki konuşmada cevabı gerektiren soru aşağıdakilerden hangisidir?

- A) Qu'est-ce que c'est?
B) Ceux-ci ou ceux-la?
C) Ce sont les livres de ton frère?
D) Ce sont les chemises de son frère?

8. est / ceci / important / très
I II III IV

Mettez dans le bon ordre.

Yukarıdaki kelimelerin anlamlı ve kurallı bir bütün oluşturan sırası aşağıdakilerin hangisinde doğru olarak verilmiştir?

- A) II, I, III, IV
B) II, I, IV, III
C) III, II, I, IV
D) III, IV, I, II

9., les élèves iront à l'école.

Choisissez le mot qui convient.

Cümledeki boşluğu aşağıdakilerden hangisi doğru şekilde tamamlar?

- A) Hier
B) La semaine dernière
C) La veille
D) Demain

10. Metin, Serkan'dan daha gençtir.

Choisissez la traduction qui convient.

Yukarıdaki cümlenin Fransızca karşılığı aşağıdakilerden hangisidir?

- A) Metin est plus jeune que Serkan.
B) Metin est moins jeune que Serkan.
C) Serkan est jeune, Metin est agé.
D) Serkan est plus jeune que Metin.

11. Mon ami m'a dit qu'il ne pas venir avec nous.

Choisissez le mot qui convient.

Cümledeki boşluğu aşağıdakilerden hangisi doğru şekilde tamamlar?

- A) peut
B) pouvait
C) pouvait
D) pouvaient

12. Quand elle vient de l'école, elle d'abord ses devoirs.

Choisissez le mot qui convient.

Cümledeki boşluğu aşağıdakilerden hangisi doğru şekilde tamamlar?

- A) fait
B) a fait
C) fera
D) avait fait

13. Quand vous sortirez, vous la porte.

Choisissez le mot qui convient.

Cümledeki boşluğu aşağıdakilerden hangisi doğru şekilde tamamlar?

- A) aviez fermé
B) fermeront
C) avez fermé
D) fermerez

14. J'ai vu quelqu'un dans le salon.

Choisissez l'antonyme du mot souligné.

Yukarıdaki cümlede altı çizili sözcüğün zıt anlamlısı aşağıdakilerden hangisidir?

- A) justement
B) rien
C) quelque chose
D) personne

15. Mehmet travaille mieux que nous.

Choisissez la traduction qui convient.

Yukarıdaki cümlelerin Türkçe karşılığı aşağıdakilerden hangisidir?

- A) Mehmet bizimle çalışıyor.
B) Mehmet bizden daha iyi çalışıyor.
C) Mehmet de biz de iyi çalışıyoruz.
D) Biz de Mehmet kadar çalışıyoruz.

16. Mon ami dira à son professeur qu'il a perdu son livre.

Choisissez la traduction qui convient.

Yukarıdaki cümlelerin Türkçe karşılığı aşağıdakilerden hangisidir?

- A) Arkadaşım, öğretmenine kitabını kaybettiğini söyledi.
B) Arkadaşım, öğretmenine kitabını bulduğunu söyledi.
C) Arkadaşım, öğretmenine kitabını bulduğunu söyleyecek.
D) Arkadaşım, öğretmenine kitabını kaybettiğini söyleyecek.

17. Pour moi, l'hiver est des saisons.

Choisissez le mot qui convient.

Cümledeki boşluğu aşağıdakilerden hangisi doğru şekilde tamamlar?

- A) la pire
B) le plus
C) le moindre
D) la moins

18. Monique: - Lequel de ces deux livres préférez-vous?

Pierre: -

Choisissez la réponse qui convient.

Yukarıdaki konuşmada boş bırakılan yeri aşağıdakilerden hangisi doğru şekilde tamamlar?

- A) J'aime lire.
B) Je lis toujours des livres intéressants.
C) Je préfère celui-la.
D) Ce sont les livres de mon frère.

19. Ce sont leurs calculatrices; ce sont

Choisissez le mot qui convient.

Cümledeki boşluğu aşağıdakilerden hangisi doğru şekilde tamamlar?

- A) la leur
B) les tiennes
C) les leurs
D) les siennes

20. Le voleur déjà pris la fuite lorsqu'ils sont rentrés chez eux.

Choisissez le mot qui convient.

Cümledeki boşluğu aşağıdakilerden hangisi doğru şekilde tamamlar?

- A) avaient
B) avait
C) aura
D) a eu

1. Aşağıdakilerden hangisi sağlığı etkileyen fiziksel etmenlerden biri değildir?

- A) Kullanma suları
- B) Tarım ilaçları
- C) Radyasyon
- D) İklim koşulları

2. Aşağıdakilerden hangisi rehabilitasyon hizmetleri veren kuruluştaki yer alan görevlilerden biri değildir?

- A) Fizyoterapist
- B) Hemşire
- C) Diş hekimi
- D) Sosyal hizmetler uzmanı

3. Aşağıdakilerden hangisi sosyal iyilik halini oluşturan koşullardan biri değildir?

- A) Ailesi ile olumlu ve yapıcı ilişkiler kurabilmesi
- B) İş arkadaşları ile olumlu ilişkiler kurabilmesi
- C) Meslek edinerek ekonomik kazanç elde edebilmesi
- D) Kişinin güçlülere direnebilmesi

4. Atatürk "Beni Türk hekimlerine emanet ediniz" özdeyişi ile aşağıdakilerden hangisini vurgulamıştır?

- A) Yabancı ülke hekimlerinin yeterli güveni vermediğini
- B) Yabancı ülke hekimlerinin çağdaş düzeyde olduğunu
- C) Kendi ülkesinde bilime gönül veren insanlara ve halkına olan güvenini
- D) Türk hekimlerinin çok sağlıklı olduklarını

5. Bir yılda gebelik, doğum ve lohusalık nedeniyle meydana gelen 15-49 yaş arası kadın ölümleri sayısının, aynı yıldaki canlı doğum sayısına oranının on bin veya yüz bin ile çarpımı aşağıdakilerden hangisini ifade eder?

- A) Kaba doğum hızı
- B) Kaba ölüm hızı
- C) Ana ölüm hızı
- D) Bebek ölüm hızı

6. Aşağıdaki maddelerden hangisi dişlerde çürük oluşumunu engelleyerek diş sağlığını olumlu yönde etkiler?

- A) Flor
- B) İyot
- C) Magnezyum
- D) Demir

7. Aşağıdakilerden hangisi ellerin mutlaka yıkanması gereken durumlardan biri değildir?

- A) Dışarıdan eve gelindiğinde
- B) Tuvalete girmeden önce
- C) Evden dışarı çıkmadan önce
- D) Yemeklerden önce ve sonra

8. Ayakta nasır oluşumun en önemli nedeni aşağıdakilerden hangisidir?

- A) Ayakların her akşam yıkanmaması
- B) Uygun ayakkabı seçiminin yapılmaması
- C) Giyilen çorapların pamuklu olmaması
- D) Her gün çorapların değiştirilmesi

9. Aşağıdakilerden hangisi diş etlerindeki iltihaplanma ya da dişlerdeki çürümeye bağlı enfeksiyonların vücudun diğer sistemlerinde meydana getirdiği rahatsızlıklardan biri değildir?

- A) Kalp rahatsızlıkları
- B) Alerjik rahatsızlıklar
- C) Beyin zarı iltihaplanması
- D) Dolaşım bozukluğu

10. Aşağıdakilerden hangisi diş gelişim bozukluklarından biri değildir?

- A) Dişlerin eksik veya fazla olması
- B) Dişlerin çene kemiği üzerine dizilişinin bozuk olması
- C) Dişlerin normalden büyük ya da küçük olması
- D) Süt dişlerinin 2-3 yaşlarında 20'ye tamamlanması

11. Sağlıklı bir yaşam için doğumdan itibaren büyüme ve gelişmede etkili olan aşağıdaki faktörlerden hangisi anne ve babadan çocuklara geçen kalıtsal özellikleri ifade eder?

- A) Zararlı alışkanlıklar
- B) Fiziki çevre
- C) Beslenme
- D) Genetik

12. Aşağıdakilerden hangisi yeni doğan bebeklik döneminin özelliklerinden biridir?

- A) Annesini tanınması
- B) Emme ve yakalama refleksine sahip olması
- C) Nesnelere izlemesi
- D) Yüz üstü yatarken sırt üstü dönebilmesi

13. Aşağıdakilerden hangisi ergenlik döneminde ruh sağlığını etkileyen kişisel faktörlerden biri değildir?

- A) Cinsiyet
- B) Aile
- C) Beden sağlığı
- D) Yaş

14. Aşağıdaki yaşam dönemlerinden hangisinde meslek ve eş seçimi en belirgin özelliğidir?

- A) Yetişkinlik dönemi
- B) Oyun çağı dönemi
- C) Ergenlik dönemi
- D) Okul çağı dönemi

15. İnsanın büyüme ve gelişmesinde 12-15 yaşlar arası döneme ne ad verilir?

- A) Erken ergenlik dönemi
- B) Geç ergenlik dönemi
- C) Özerklik dönemi
- D) Tam ergenlik dönemi

16. Yaygın kullanımına bağlı olarak birinci sırada yer alan sağlığa zararlı alışkanlık maddesi aşağıdakilerden hangisidir?

- A) Bira
- B) Sigara
- C) Şarap
- D) Puro

17. Aşağıdakilerden hangisi merkezi sinir sistemine halüsinasyon olarak etki eden uyuşturucu maddelerden biridir?

- A) Kokain
- B) Amfetamin
- C) Esrar
- D) Morfin

18. Aşağıdakilerden hangisi sigarada bulunan kimyasal maddelerden biri değildir?

- A) Bakır
- B) Karbon
- C) Aseton
- D) Katran

19. Nikotin yoksunluğu vücutta aşağıdakilerden hangisine neden olmaz?

- A) Düşünceleri toplamada zorluk çekme
- B) Kilo alma
- C) Huzursuzluk
- D) Kalp hızında artma

20. Aşağıdakilerden hangisi uyuşturucu madde bağımlılığına eğimli kişilerin özelliklerinden biri değildir?

- A) Yasaklara ilgisiz olma
- B) Depresif kişilikte olma
- C) Hayatın gerçekleri ile yüzleşememe
- D) Kimlik arayışı içinde olma

SEÇMELİ COĞRAFYA 4

2013 I.DÖNEM 0104-A

A

1. Yer şekillerinin engebeli, eğimin fazla olduğu yerlerde aşağıdaki akarsularımızdan hangisinin hidroelektrik potansiyeli daha yüksektir?
A) Susurluk
B) Gediz
C) Fırat
D) Sakarya
2. Aşağıdaki bitki türlerinden hangisinin dünyadaki en geniş yayılma alanlarından biri Türkiye'dir?
A) Kızılcım
B) Çay
C) Kivi
D) Muz
3. Akdeniz ve Ege Bölgesi'nde yaygın olarak görülen turuncgil, bağcılık ve zeytin tarımına uygun topraklar aşağıdakilerden hangisidir?
A) Bozkır toprakları
B) Regosol topraklar
C) Tuzlu topraklar
D) Kırmızı topraklar
4. Aşağıdakilerden hangisi volkanik göllerden biridir?
A) Nemrut Gölü
B) Van Gölü
C) Tuz Gölü
D) Burdur Gölü
5. Aşağıdakilerden hangisi ülkemizde alüvyal toprakların görüldüğü alanlardan biri değildir?
A) Bafra ovası
B) Adapazarı ovası
C) Ağrı yöresi
D) Çukurova
6. Aşağıdakilerden hangisi Türkiye' de geçici kır yerleşmelerinden biridir?
A) Mahalle
B) Dam
C) Çiftlik
D) Başkent
7. Aşağıdakilerden hangisi nüfus yoğunluğunun seyrek olduğu yerlerin özelliklerinden biri değildir?
A) Kış sıcaklıklarının çok düşük olması
B) İş olanaklarının az olması
C) Ulaşım yollarından uzak olması
D) Yağışların her mevsim devam etmesi
8. Köyaltı yerleşme tiplerinden olan divan tipi yerleşme aşağıdaki illerimizin hangisinde daha yaygın olarak görülür?
A) Antalya, Mersin, Adana
B) Sivas, Kayseri, Nevşehir
C) Muğla, Denizli, Burdur
D) Bolu, Karabük, Kastamonu
9. Doğu Karadeniz'in kıyı kesimindeki kırsal alanlarda dağınık yerleşmeler görülmesinde aşağıdakilerden hangisi etkilidir?
A) Tarım arazilerinin parçalı ve küçük olması
B) Dağların denize paralel uzanması
C) Balıkçılığın gelişmiş olması
D) Heyelan olayının çok sık yaşanması
10. Aşağıdakilerden hangisi komların oluşumunda en etkili faktördür?
A) Tarım
B) Aileden ayrı yaşam isteği
C) Hayvancılık
D) İklim

11. Ege kıyılarında yer almasına rağmen yükselti ve engebenin fazla olması nedeniyle yerleşim alanları sınırlı, nüfus yoğunluğu az olan yöremiz aşağıdakilerden hangisidir?

- A) Gediz ovası
- B) Menteşe
- C) Büyük Menderes vadisi
- D) Kuşadası

12. Osmanlı Devletinde ilk nüfus sayımı kimin döneminde yapılmıştır?

- A) I. Mahmut
- B) II. Mahmut
- C) Abdülmecit
- D) III. Mahmut

13. 1927-2000 yılları arasında Türkiye'de şehir nüfusu köy nüfusuna göre daha çok artış göstermiştir. Şehir nüfusundaki artış hızının çok olmasında aşağıdakilerden hangisi daha çok etkilidir?

- A) Evli nüfusun artması
- B) Sağlık koşullarının iyileşmesi
- C) Ortalama ömrün uzaması
- D) Göçle gelen nüfusun artması

14. Çalışma çağındaki nüfus dilimi içinde bulunan belirli bir işi olan nüfusa ne ad verilir?

- A) Aktif nüfus
- B) İşsiz nüfus
- C) Pasif nüfus
- D) Hizmet nüfusu

15. Türkiye'de nüfus artışını etkileyen temel faktör aşağıdakilerden hangisidir?

- A) Hatay'ın anavatana katılması
- B) Doğal nüfus artışı
- C) Çalışmak için aileleriyle birlikte başka ülkelerden göç alması
- D) Lozan Antlaşması nedeniyle mübadeleyle gelenler

16. Yazı ilk kez aşağıdakilerden hangisi tarafından kullanılmıştır?

- A) Hititler
- B) Frigler
- C) Sümerler
- D) Asurlular

17. Aşağıdakilerden hangisi günümüzde İpek Yolu üzerinde bulunan yerlerden biri değildir?

- A) Antakya
- B) Kaşgar
- C) Pekin
- D) Tibet

18. Panama Kanalı ile ilgili aşağıdaki ifadelerden hangisi doğrudur?

- A) Dünyada kapakları olmayan en uzun kanaldır.
- B) Kanalin yapımına Fransız ve ABD işbirliğiyle 1880 yılında başlanmış 1914'te tamamlanmıştır.
- C) Hint Okyanusu ve ötesine bağlantıyı sağlamıştır.
- D) Karadan Afrika ve Asya'yı birbirine bağlar.

19. Daima batıya giderek aynı noktaya ulaşan ve böylece dünyanın yuvarlak olduğunu kanıtlayan denizci aşağıdakilerden hangisidir?

- A) Macellan
- B) Ameriko Vespuçi
- C) Vasko dö Gama
- D) Bartelmi Diyaz

20. Cebeli Tarık Boğazı aşağıdaki denizlerden hangileri arasındaki su yoludur?

- A) Akdeniz-Kızıldeniz
- B) Atlas Okyanusu-Büyük Okyanus
- C) Akdeniz-Atlas Okyanusu
- D) Kızıldeniz-Hint Okyanusu

1. Türk edebiyatında Rezaizâde Mahmut Ekrem tarafından yazılan ilk realist roman, aşağıdakilerden hangisidir?
- A) Taaşuk-ı Talat ve Fitnat
B) Araba Sevdası
C) Küçük Şeyler
D) Son Pişmanlık
2. Aşağıdaki şair ve yazarlardan hangisi toplumsal konular yerine bireysel konularda yazmayı yeğlemiştir?
- A) Sami Paşazâde Sezai
B) Ziya Paşa
C) Namık Kemal
D) Şinasi
3. Edebiyat ile ilgili aşağıdaki ifadelerden hangisi yanlıştır?
- A) Toplumların gelişimine katkıda bulunur.
B) Sadece tanık olduğu çağı anlatır.
C) Düşünceleri geliştirir, duyguları zenginleştirir.
D) Toplumların siyasal ve sosyal yapısından etkilenir.
4. Romantizmden realizme geçişin bir göstergesi sayılan ve Sami Paşazâde Sezai tarafından yazılan roman, aşağıdakilerden hangisidir?
- A) Cezmi
B) İntibah
C) Sergüzeşt
D) Eşber
5. Aşağıdakilerden hangisi, Tanzimat döneminde tiyatro uyarlamalarıyla öne çıkan yazarlardan biridir?
- A) Ahmet Vefik Paşa
B) Şemsettin Sami
C) Ahmet Cevdet Paşa
D) Orhan Asena
6. Aşağıdaki yazarlardan hangisi, Birinci Dönem Tanzimat edebiyatının önemli temsilcilerinden biri değildir?
- A) Ziya Paşa
B) Ahmet Mithat Efendi
C) Rezaizâde Mahmut Ekrem
D) Namık Kemal
7. Tanzimat döneminde, aşağıdaki Fransız şair ve yazarların hangisinden çeviri yapılmamıştır?
- A) Balzac
B) Victor Hugo
C) Lamartine
D) J.J. Rousseau
8. Aşağıdakilerden hangisi Tanzimat sanatçılarından biri değildir?
- A) Ahmet Mithat Efendi
B) Namık Kemal
C) Şinasi
D) Yahya Kemal Beyatlı
9. Kişilerin kendi çevreleri içinde ele alındığı, gerçeklerin tüm yönleriyle verildiği, öncüsünün Fransız yazar Victor Hugo olduğu akım aşağıdakilerden hangisidir?
- A) Sembolizm
B) Klasisizm
C) Romantizm
D) Realizm
10. Gerçeğin hayal dünyasında yeniden şekillendiği metinlere ne ad verilir?
- A) Yazılı metin
B) Hayalî metin
C) Edebî metin
D) Kurmaca metin
11. 1860 yılında ilk özel gazete olan Tercüman-ı Ahvâl'i çıkaran yazarlar aşağıdaki seçeneklerden hangisinde birlikte ve doğru olarak verilmiştir?
- A) Namık Kemal ve Rezaizâde Mahmut Ekrem
B) Şinasi ve Agâh Efendi
C) Ziya Paşa ve Abdülhak Hâmit
D) Ziya Paşa ve Muallim Naci
12. Ziya Paşa ile ilgili aşağıdaki bilgilerden hangisi yanlıştır?
- A) Tanzimat Edebiyatı şair ve yazarlarındandır.
B) Yeni Osmanlılar Cemiyetine girmiştir.
C) Zavallı Çocuk adlı eseri yazmıştır.
D) Meşrutiyet yönetimini savunmuştur.

13. Vatan, millet, özgürlük, hak, eşitlik, adalet, uygarlık gibi kavramların edebiyata ilk olarak girdiği dönem aşağıdakilerden hangisidir?

- A) Yükselme
- B) I. Meşrutiyet
- C) Tanzimat
- D) Kuruluş

14. Türk Edebiyatında yeniliklerin öncüsü olan, noktalama işaretlerini ilk defa kullanan, La Fontaine'den tercümeler yapan ve Şair Evlenmesi adlı ilk piyesi yazan sanatçı aşağıdakilerden hangisidir?

- A) Ahmet Mithat Efendi
- B) Şinasi
- C) Ziya Paşa
- D) Recaizâde Mahmut Ekrem

15. İyi bir eğitim alarak yetişen Ali Bey'in düşmüş bir kadınla kurduğu ilişkiden doğan kötü sonuçların ele alındığı İntibah romanı aşağıdaki yazarlardan hangisi tarafından yazılmıştır?

- A) Hüseyin Rahmi Gürpınar
- B) Namık Kemal
- C) Ahmet Mithat Efendi
- D) Muallim Naci

16. Tanzimat Fermanı aşağıdaki padişahlardan hangisi döneminde ilan edilmiştir?

- A) I. Mahmut
- B) Vahdettin
- C) II. Mahmut
- D) I. Abdülmecit

17. Ölen bir kişinin ardından onun kahramanlıklarını, yiğitliklerini anlatmak için yazılan eserlere ne ad verilir?

- A) Rubai
- B) Terkibibent
- C) Tercibent
- D) Mersiye

18. Aşağıdakilerden hangisi edebi eser ile ilgili bir özellik değildir?

- A) Aynı anda hem toplumsal hem de ekonomik alanı ilişkilendirmesi
- B) Toplumun tarihi koşullarından da esinlenilmesi
- C) Kaynağını toplumun sosyal ve siyasi yapısından alması
- D) Dil, yapı ve içerik yönünden yazıldığı dönemi yansıması

19. Tanzimat şiiri ile ilgili aşağıdaki ifadelerden hangisi yanlıştır?

- A) Halkın anlayabileceği yalın bir dille yazılmıştır.
- B) Genelde aruz ölçüsü kullanılmıştır.
- C) Yeni fikirler önceleri eski biçimlerle, daha sonra yeni nazım şekilleriyle ele alınmıştır.
- D) Konu bütünlüğüne önem verilmiştir.

20. Aşağıdakilerden hangisi Tanzimat Edebiyatı yazılı türlerinden biri değildir?

- A) Tiyatro
- B) Roman
- C) Hikâye
- D) Opera

1. Aşağıdakilerden hangisi bilimsel yazılar içerisinde yer almaz?

- A) Değerlendirme yazıları
- B) Bilimsel makaleler
- C) Konferans raporları
- D) Film senaryoları

2. Makaleyle ilgili aşağıdaki ifadelerden hangisi yanlıştır?

- A) Makalede temel öge duygudur.
- B) Üslup yönünden üçüncü tekil anlatım tercih edilir.
- C) Gazetede ilk sayfa ve birinci sütunda yer alan ve günlük olaylar, ülke sorunları hakkında görüşleri yansıtan yazılara başmakale adı verilir.
- D) Bilimsel bir anlatım ağır basar.

3. Aşağıdakilerden hangisi şiirin dış yapı yönünden incelenmesine değil iç yapı yönünden incelenmesine dâhildir?

- A) Tema
- B) Vezin
- C) Uyak
- D) Dil

4. Türk edebiyatında makalenin gelişimine bakıldığında 1860'da ilk makale kim tarafından yazılmıştır?

- A) Şinasi
- B) Nefi
- C) Hüseyin Cahit
- D) Namık Kemal

5. Tuyuğ, Türk şiirinde kullanılan hangi nazım biçiminin örneğidir?

- A) Divan edebiyatı
- B) Halk şiiri nazım biçimleri
- C) Klasik Türk Şiiri Nazım biçimleri
- D) Batı etkisinde gelişen Türk edebiyatı

6. Aşağıdakilerden hangisi halk şiirlerini saz eşliğinde söyleyenlerden biri değildir?

- A) Ozan
- B) Gazelhan
- C) Âşık
- D) Kam

7. "Altın kulelerden yine kuşlar Tekrarını ömrün eder ilan"

Yukarıdaki dizelerde sabahın gün ışığının kuşlara benzetilmesinde hangi sanat kullanılmıştır?

- A) Açık istiare
- B) Kapalı istiare
- C) Tariz
- D) Tenasüp

8. "Sevdiğim yaz geldi yine Karıncalar ve sineklerle çıktık yeryüzüne Barbulna lüferle marulla zeytinle"

Yukarıda bir parçası verilen Yaz başlıklı şiirin teması aşağıdakilerden hangisidir?

- A) Aşk
- B) Deniz
- C) Tabiat
- D) Gençlik

9. Aşağıdakilerden hangisi Türk halk şiiri nazım biçimlerinden biri değildir?

- A) Türkü
- B) Mani
- C) İlahi
- D) Murabba

10. Milli ölçümüz olarak nitelendirilen ve halk edebiyatında sıkça kullanılan ölçü aşağıdakilerden hangisidir?

- A) Serbest ölçü
- B) Halk ölçüsü
- C) Koşma ölçüsü
- D) Hece ölçüsü

11. "Artık demir almak günü gelmişse zamandan Meçhule giden bir gemi kalkar bu limandan Hiç yolcusu yokmuş gibi sessizce alır yol; Sallanmaz o kalkışta ne bir mendil ne bir kol."

Yahya Kemal'in Sessiz Gemi isimli yukarıda bir parçası verilen şiiri hangi sanata dayalı alegorik bir şiirdir?

- A) Kinaye
- B) Cinaz
- C) Tariz
- D) Temsili istiare

12. Aşağıdakilerden hangisi kafiye çeşitlerinden biri değildir?

- A) Cinaslı
- B) Mecazlı
- C) Tam
- D) Zengin

13. Aşağıdakilerden hangisi başlıca şiir türlerinden biri değildir?

- A) Epik
- B) Komik
- C) Lirik
- D) Didaktik

14. Bilim, teknik, sanat, doğa vb. konulardan biri hakkında bilgi vermek, denemeleri, gözlemleri açıklamak için yapılan konuşma türü aşağıdakilerden hangisidir?

- A) Forum
- B) Mülakat
- C) Münazara
- D) Konferans

15. Klasik Türk şiirinde hiçbir nazıma bağlı olmayan tek beyitten oluşan nazımlara ne ad verilir?

- A) Müfret
- B) Sembol
- C) Beyit
- D) Murabba

16. Münazaranın topluluk karşısında yapılan türüne ne ad verilir?

- A) Paneller
- B) Toplu tartışmalar
- C) Gösteriler
- D) Forumlar

17. Sözün gerçek anlamı doğru gibi görünse de asıl amacın sözün ters anlamının anlaşılması olduğu, bir kişiyi ya da durumu alaya almak için yapılan sanat aşağıdakilerden hangisidir?

- A) Mürsel mecaz
- B) Tariz
- C) İstiare
- D) Teşbih

18. Divan şiiriyle ilgili aşağıdaki ifadelerden hangisi yanlıştır?

- A) Dili halk şiirine göre ağırdır.
- B) Aruz ölçüsü kullanılır.
- C) Nazım birimi dördüktür.
- D) Arap ve Fars edebiyatlarının etkisi görülür.

19. Aşağıdakilerden hangisi Türk edebiyatının gelişim sürecinde Tanzimat sonrası oluşan topluluklardan biri değildir?

- A) Tanzimat Edebiyatı
- B) Serveti Fünun Edebiyatı
- C) Tek Hececiler
- D) Fecr-i Âti Edebiyatı

20. Halk şiiriyle ilgili aşağıdaki bilgilerden hangisi yanlıştır?

- A) Türklerin İslamiyeti kabulü öncesinden başlayarak günümüze kadar sürmüştür.
- B) Nazım birimi dördüktür.
- C) Arap ve Fars edebiyatlarının etkisi görülür.
- D) Konu olarak tabiat güzellikleri, aşk, ayrılık ve gurbet gibi temaları işlemiştir.

SINAVDA UYGULANACAK KURALLAR

1. Sınav süresince görevlilerle konuşmak ve soru sormak yasaktır. Aynı şekilde görevlilerin de öğrencilerle yakından ve alçak sesle konuşmaları yasaktır. Yanınızda ve sıranızda dersle ilgili kitap not vb. bulundurmamak yasaktır. Sınav sırasında kopya yapan, yapmaya teşebbüs eden, kopya veren, kopya yapılmasına yardım edenlerin kimlikleri BİREYSEL SINAV İPTAL TUTANAĞINA yazılacak ve bu öğrencilerin sınavları geçersiz sayılacaktır. Görevliler kopya yapmaya veya vermeye kalkışanları uyarmak zorunda değildir, sorumluluk size aittir.
Sınavda yetki verilmiş görevliler, bu salondaki sınavın kurallara uygun biçimde yapılmadığını, toplu kopya girişiminde bulunulduğunu raporlarında bildirdikleri veya üniversite sınav merkezince yapılan incelemeler sonucu toplu kopya yapıldığı saptandığı takdirde, Anadolu Üniversitesinin yetkili organları bu salonda sınava giren öğrencilerin tümünün sınavını geçersiz sayar.
2. Öğrenciler sınav sırasında görevlilerin her türlü uyarılarına uymak zorundadır. Gerekğinde görevliler oturduğunuz yerleri değiştirebilir. Sınavınızın geçerli sayılması, her şeyden önce sınav kurallarına uymanıza bağlıdır. Kurallara aykırı davranışta bulunanların ve yapılacak uyarılara uymayanların kimlikleri BİREYSEL SINAV İPTAL TUTANAĞINA yazılacak ve sınavları geçersiz sayılacaktır.
3. Sınav sırasında herhangi bir nedenle dışarı çıkmak yasaktır. Sınavın başlamasını izleyen ilk 30 dakika ve sınav süresinin son 5 dakikası içinde, sınavlarını tamamlasalar bile hiçbir öğrencinin salondan çıkmasına izin verilmeyecektir. Sınavın başlamasını izleyen ilk 15 dakikadan sonra hiç bir öğrenci sınava alınamaz.
4. Biraz sonra soru kitapçıkları dağıtılacaktır. Cevaplamaya geçmeden önce size verilecek soru kitapçığının üzerinde ayrılan yere, adınızı, soyadınızı, öğrenci numaranızı ve bu salonun numarasını yazınız. Sınav sonunda soru kitapçıkları toplanacak ve sınav merkezinde tek tek incelenecektir. Soru Kitapçığının bir tek sayfası eksik çıksa bile sınavınız geçersiz sayılacaktır.
5. Size verilen Cevap Kâğıdının üzerinde yazan numara ve ismin size ait olduğunu kontrol ediniz. Cevap Kâğıdı size ait değilse, görevlileri uyarıp size ait Cevap Kâğıdını alınız. Daha sonra Cevap Kâğıdı üzerinde ayrılmış olan yerlere öğrenci numaranızı ve test grubunuzu kodlayınız, adınızı soyadınızı yazınız ve ilgili yeri imzalayınız.
6. Cevap Kâğıdına yazılacak her türlü yazı, rakam ve yapılacak işaretlemeler için siyah kurşun kalem kullanılacaktır. Tükenmez kalem veya dolmakalem kesinlikle kullanılmayacaktır. Cevapların tümü CEVAP KÂĞIDINA İŞARETLENECEKTİR. Soru Kitapçıkları üzerine yapılan işaretlemeler kesinlikle değerlendirilmez. Her dersin cevabı, o dersin isminin yazılı olduğu sütuna işaretlenmelidir. Yanlış sütuna yapacağınız işaretlemeler kesinlikle değerlendirilmez.
7. Soru Kitapçığının sayfalarındaki boş yerleri müsvedde yapmak için kullanabilirsiniz. Başka bir kâğıdı müsvedde olarak kullanmak yasaktır. Bu tür işlemleri yapanların sınavları geçersiz sayılır.
8. Öğrencilerin sorulara verdikleri yanıtları herhangi bir yere yazmaları ve bunu sınav salonundan dışarıya çıkarmaları yasaktır. Bu kurala uymayanların sınavları geçersiz sayılır.
9. Sınav sırasında öğrencilerin birbirinden kalem, silgi vb. şeyleri istemesi kesinlikle yasaktır. Yasağa uymayanların sınavı geçersiz sayılır.
10. Sınav sırasında hesap makinesi kullanılabilir. Ancak, hesap makinesinin sınav sırasında ödünç alınması, verilmesi ve değiştirilmesi yasaktır. (Data Bank vb. gibi özel elektronik donanımlar kullanılamaz.) Bu tür davranışlarda bulunanların sınavları geçersiz sayılır.
11. Öğrenciler sınava gelirken telsiz, cep telefonu, çağrı cihazı vb. iletişim araçları ile görüntü kaydetmeye yarayan fotoğraf makinesi, kamera vb. araçları getirmemeleri konusunda sınava giriş belgelerinde uyarılmışlardır. Buna rağmen yanlarında bu tür cihazları getirenlerin, bunları sınav sonrasında almak üzere salon başkanına teslim etmeleri gerekir. Bu cihazları sınav salonunda yanlarında bulunduran öğrencilerin, cihazları kapalı bile olsa, o oturdaki sınavı geçersiz sayılacaktır. Bu cihazların kaybolmasından Üniversitemiz sorumlu olmayacaktır.
12. Biraz sonra dağıtılacak olan soru kitapçığında test ile ilgili açıklamalar yazılıdır. Bu açıklamaları okumadan ve size "SINAV BAŞLAMIŞTIR" denmeden soruları cevaplamaya başlamayınız.

SINAVLARINIZDA BAŞARILAR DİLERİZ.