



ANADOLU ÜNİVERSİTESİ
AÇIKÖĞRETİM FAKÜLTESİ
BA - AÇIKÖĞRETİM OKULLARI

T.C. MİLLİ EĞİTİM BAKANLIĞI
Hayat Boyu Öğrenme Genel Müdürlüğü
AÇIK ÖĞRETİM LİSESİ – BATI AVRUPA PROGRAMI
2012-2013 ÖĞRETİM YILI I.DÖNEM SINAVI
ALTINCI OTURUM - Pazar 16.00

TEST GRUBUNUZ

A 0106

CEVAP KÂĞIDINIZA İŞARETLEMİYİ UNUTMAYINIZ.

ÖĞRENCİNİN

SOYADI :

ADI :

ÖĞRENCİ NO :

SINAV SALON NO: SIRA NO:

Soyadınızı, adınızı, öğrenci numaranızı, salon ve sıra numaranızı yukarıya yazmayı unutmayınız.

GENEL AÇIKLAMA

1. Bu soru kitapçığındaki testler şunlardır:

Testin Adı	Soru Sayısı	Sayfa No	Testin Adı	Soru Sayısı	Sayfa No
DİN KÜLTÜRÜ VE AHLAK BİLGİSİ 6	20	2	BİYOLOJİ 8	20	34
DİN KÜLTÜRÜ VE AHLAK BİLGİSİ 8	20	4	MANTIK 1	20	36
TARİH 2	20	6	TRAFİK VE İLK YARDIM BİLGİSİ 2	20	38
COĞRAFYA 4	20	8	SEÇMELİ DİL VE ANLATIM 3	20	40
MATEMATİK 2	20	10	SEÇMELİ TÜRK EDEBİYATI 3	20	42
ALMANCA 3	20	13	GİRİŞİMCİLİK 1	20	44
İNGİLİZCE 3	20	16	ALMANCA 7	20	46
FRANSIZCA 3	20	19	İNGİLİZCE 7	20	49
HUKUK 1	20	21	FRANSIZCA 7	20	52
DİL VE ANLATIM 3	20	23	FİZİK 4	20	54
TÜRK EDEBİYATI 7	20	25	SEÇMELİ ALMANCA 7	20	57
FİZİK 3	20	27	SEÇMELİ İNGİLİZCE 7	20	60
BİYOLOJİ 1	20	30	SEÇMELİ FRANSIZCA 7	20	63
BİYOLOJİ 5	20	32	SEÇMELİ TÜRK EDEBİYATI 7	20	65

2. Bu kitapçıkta yer alan her bir test için cevaplama süresi **30** dakika, toplam sınav süresi **150** dakikadır.
3. Cevaplamaya istediğiniz testin, istediğiniz sorusundan başlayabilirsiniz. Yalnız cevaplarınızı, cevap kâğıdında o test için ayrılmış olan bölümdeki aynı numaralı cevap yerine işaretlemeyi unutmayınız.
4. Cevaplarınızı koyu siyah ve yumuşak bir kurşunkalemle işaretleyiniz. İşaretinizi cevap yerinin dışına taşırmayınız. Tükenmez veya mürekkepli kalem kullanmayınız.
5. Değiştirmek istediğiniz bir cevabı yumuşak bir silgi ile, cevap kâğıdını örselemeden temizce siliniz ve doğru cevabınızı işaretlemeyi unutmayınız.
6. Cevap kâğıdınızı buruşturmayınız, katlamayınız ve üzerine gereksiz hiçbir işaret koymayınız.
7. Bu kitapçıkta her sorunun bir tek doğru cevabı vardır. Bir soru için birden çok cevap yeri işaretlenmişse o soru yanlış cevaplanmış sayılacaktır.
8. Cevaplarınız puanlanırken her doğru cevabınıza eşit puan verilecek, yanlış cevaplarınız dikkate alınmayacaktır. Bu nedenle kitapçıkta tüm sorular için size doğru gelen seçeneği işaretleyerek cevapsiz soru bırakmamanız yararınıza olacaktır.
9. Kitapçığın sayfalarındaki boş yerleri müsvedde için kullanabilirsiniz.

Anadolu Üniversitesi tarafından hazırlanmış olan bu testlerin her hakkı saklıdır. Hangi amaçla olursa olsun, testlerin tamamının veya bir kısmının Anadolu Üniversitesi'nin yazılı izni olmadan kopya edilmesi, fotoğraflarının çekilmesi, herhangi bir yolla çoğaltılması, yayımlanması ya da kullanılması yasaktır. Bu yasağa uymayanlar gerekli cezai sorumluluğu ve testlerin hazırlanmasındaki mali külfeti peşinen kabullenmiş sayılır.

1. Aşağıdakilerden hangisi tasavvuf edebiyatının önde gelen isimlerinden biri değildir?
A) Hacı Bayram Veli
B) İbn-i Sina
C) Yunus Emre
D) Hoca Ahmet Yesevi
2. Hoca Ahmet Yesevi, Yunus Emre, Mevlana, Hacı Bektaş-ı Veli gibi kişilerle başlayan ve günümüze kadar devam eden edebiyat türü aşağıdakilerden hangisidir?
A) Tasavvuf
B) Kaside
C) Tezhip
D) Naat
3. Hz. Peygamberi sekiz yaşından itibaren evinde büyüten, himaye eden kişi aşağıdakilerden hangisidir?
A) Ebu Talip
B) Hz. Ebubekir
C) Ahmet bin Hanbel
D) Ebu Davud
4. Evlilik ile ilgili aşağıdaki ifadelerden hangisi yanlıştır?
A) Hz. Muhammed'le başlayan evlilik günümüze kadar varlığını devam ettirmiştir.
B) Doğal bir ihtiyaçtır.
C) Çoğalma ve neslin devam etmesinin bir şartıdır.
D) Her toplum evlenmeyi kendi inanç ve kültürüne göre belirler.
5. Bireylerde güzellik hissi uyandıran, güzel duygu ve anlamlar içeren, sanatla ilgili değer yargısına ne ad verilir?
A) Mizanpaj
B) Altın Oran
C) Denge
D) Estetik
6. Aşağıdakilerden hangisi Osmanlı coğrafyasında hayır yapma anlayışıyla yayılan eserlerden biri değildir?
A) Mescit
B) Külliye
C) Kaside
D) Sebiller
7. Aşağıdakilerden hangisi divan edebiyatının meşhur temsilcilerinden biri değildir?
A) Nabi
B) Nedim
C) Baki
D) Sami
8. Tezhip sanatı ile ilgilenen sanatkârlara ne ad verilir?
A) Hattat
B) Neyzen
C) Nakkaş
D) Müzehhip
9. Gerek kurum içi gerekse kişi ve kuruluşlarca bastırılacak Kur'anların incelenmesi ve hatasız basılmalarını sağlayan birim aşağıdakilerden hangisidir?
A) Din İşleri Yüksek Kurulu
B) Mushafı İnceleme Kurulu
C) Hac Dairesi
D) Tasfiye İşleri Genel Müdürlüğü
10. Diyanet İşleri Başkanlığı ne zaman kurulmuştur?
A) 3 Mart 1924
B) 29 Ekim 1923
C) 23 Nisan 1920
D) 19 Mayıs 1919
11. Ayetlerin, hadislerin veya dini yazıların güzel ve estetik yazılması sanatına ne ad verilir?
A) Hat
B) Tezhip
C) Ebru
D) Hüsnühat
12. Aşağıdakilerden hangisi Diyanet İşleri Başkanlığı'nın dini yayınlarının temel amaçlarından biri değildir?
A) Toplumun din konusunda bilgilendirmek
B) Dini, esas kaynaklarından doğru bir şekilde öğretmek
C) Hürufe ve yanlış inançlardan halkı korumak
D) Toplumdaki bireylere okuma alışkanlığı kazandırmak
13. Aşağıdakilerden hangisi dinin de etkisiyle ortaya çıkan mimari eserlerden biri değildir?
A) Medrese
B) Külliye
C) Naat
D) Cami

14. "Hak Dini Kur'an Dili" adlı tefsir kitabı kim tarafından hazırlanmıştır?

- A) Muhammed İkbâl
- B) Muhammed Hamdi Yazır
- C) Konyalı Mehmet Vehbi Efendi
- D) Ahmet Naim Efendi

15. Aşağıdakilerden hangisi ünlü Türk müzehhiplerinden biridir?

- A) Farabi
- B) Şeyh Hamdullah Çelebi
- C) Yusuf Mısri
- D) Levni

16. "Laiklik ilkesi doğrultusunda, bütün siyasi görüş ve düşüncelerin dışında kalarak ve milletçe dayanışmayı ve bütünleşmeyi amaç edinerek özel kanunda gösterilen görevleri yerine getirmekle yükümlüdür. İslam dininin inançları, ibadet ve ahlak esasları ile ilgili işleri yürütmek, din konusunda toplumu aydınlatmak ve ibadet yerlerini yönetmek görevlerinde bulunur."

Yukarıdaki görev tanımı aşağıdakilerden hangisi için yapılmıştır?

- A) Devlet
- B) İmam Hatip Liseleri Müdürlükleri
- C) Diyanet İşleri Başkanlığı
- D) Din İşleri Yüksek Kurulu

17. Aşağıdakilerden hangisi bir iş ve üründe güzelliğin olmasını isteyenlerin dikkat etmesi gereken kurallardan biri değildir?

- A) İş zamanında teslim etmek
- B) Çok kar elde etmek için her yola başvurmak
- C) İş sorumluluğu bilinciyle hareket etmek
- D) İşe hile karıştırmamak

18. Türkiye'de tüm camilerde hutbeler kaç yılından itibaren Türkçe okutulmaktadır?

- A) 1932
- B) 1938
- C) 1944
- D) 1948

19. Hz. Muhammed'i öven edebi eserlere ne ad verilir?

- A) Mevlit
- B) Naat
- C) Ebru
- D) Tevhit

20. Diyanet İşleri Başkanlığı ile ilgili aşağıdaki ifadelerden hangisi yanlıştır?

- A) Diyanet İşleri Başkanlığı, her türlü siyasi görüş ve düşünceden uzak durmaktadır.
- B) İslam dini ile ilgili hizmetleri yürütmekle görevli kamu kuruluşudur.
- C) Diyanet İşleri Başkanlığı özel idare içinde yer alır.
- D) Diyanet, yurt içinde ve dışında din hizmeti sunan özel ve resmi kuruluşların faaliyetlerini değerlendirir.

1. Aşağıdakilerden hangisi İslam tarihinde Müslümanların barışa verdiği önemi gösteren olaylardan biri değildir?
A) Hakem Olayı
B) Medine Sözleşmesi
C) Hudeybiye Antlaşması
D) Mekke'nin Fethi
2. Aşağıdakilerden hangisi Peygamber Efendi'mizinde belirttiği büyük günahlardan biri değildir?
A) Allah'a ortak koşmak
B) Anne ve babaya eziyet etmek
C) Adam öldürmek
D) Kibirli olmak
3. Aşağıdakilerden hangisi sosyal bir varlık olan insanın iletişim kurmasını sağlayan nedenlerden biri değildir?
A) Bir takım zorlukları aşmak için
B) Yalnızlıktan korktuğu için
C) Ortak şeyleri paylaşmak için
D) Dayanışmayı sağlamak için
4. Barışın olduğu bir ortamda aşağıdakilerden hangisi ortaya çıkar?
A) Kargaşa
B) Anarşi
C) Kalkınma
D) Adaletsizlik
5. İslam dinine göre insanlığın atası aşağıdakilerden hangisidir?
A) Hz. Adem
B) Hz. Muhammed
C) Hz. Yusuf
D) Hz. Yakup
6. "Sakin ol, kimsenin gönlünü yıkma." Diyerek sevenlerine gönül kırmamalarını tavsiye eden İslam âlimi aşağıdakilerden hangisidir?
A) Ahi Evran
B) Hacı Bektaş Veli
C) Mevlana
D) Yunus Emre
7. Atatürk'ün toplumun din alanındaki bilgisizliğini gidermek ve sağlıklı bir din eğitiminin verilmesi adına çıkardığı Tevhid-i Tedrisat kanunu kaç yılında kabul edilmiştir?
A) 3 Mart 1924
B) 29 Ekim 1923
C) 23 Nisan 1920
D) 19 Mayıs 1919
8. Aşağıdakilerden hangisi Atatürk'ün din ile ilgili görüşlerinden biri değildir?
A) Din lüzumlu bir müessesedir.
B) Dinsiz milletlerin devamına imkân yoktur.
C) Din, devlet işlerinde etkili bir durumdur.
D) Din, Allah ile kul arasındaki bağılıktır.
9. Elmalılı Muhammed Hamdi Yazır'ın Atatürk'ün yönlendirmesiyle hazırlanmış olduğu tefsir kitabı aşağıdakilerden hangisidir?
A) Sahihî Buhari Muhtasarı Tecridi Sarih Tercemesi
B) Hak Dini Kur'an Dili
C) Amentü Şerhi
D) İslam Fıkıh İlmi
10. Cumhuriyet döneminin ilk Diyanet İşleri Başkanı aşağıdakilerden hangisidir?
A) Elmalılı Muhammed Hamdi Yazır
B) Ahmed Naim Efendi
C) Rifat Börekçi
D) Mehmet Akif Ersoy
11. Aşağıdakilerden hangisi Tevhid-i Tedrisat kanunuyla gelen yeniliklerden biri değildir?
A) Medreselerin varlığına son verilmesi
B) Yüksek ilim konularının öğretiminde tekke ve zaviyelerin desteklenmesi
C) Bütün okulların Maarif Vekâletine bağlanması
D) İlahiyat fakültelerinin açılması
12. İslam dininin kutsal kitabı aşağıdakilerden hangisidir?
A) İncil
B) Tevrat
C) Kur'an-ı Kerim
D) Zebur

13. Musevilerin inancına göre, âlemlerin Rabbi ve her şeyin yaratıcısı olan aşağıdakilerden hangisidir?

- A) Tevrat
- B) Yehova
- C) Yakup
- D) Firavun

14. Aşağıdakilerden hangisi Museviliğin on emrinden biri değildir?

- A) Çalmayacaksın.
- B) Zina yapmayacaksın.
- C) Anne ve babana saygı göstereceksin.
- D) Cuma gününü hatırlayıp onu kutsal sayacaksın.

15. Hükümdar sülalesi ve askerler sınıfı olarak bilinen Kast sistemi sınıfı aşağıdakilerden hangisidir?

- A) Sudralar
- B) Brahmanlar
- C) Konsüller
- D) Kşatriyalar

16. Rahipler ve aydınlar sınıfı olarak bilinen Kast sistemi sınıfı aşağıdakilerden hangisidir?

- A) Kşatriyalar
- B) Vaisyalar
- C) Sudralar
- D) Brahmanlar

17. İslamiyet'te üç ayların başlangıcı olarak kabul edilen ay aşağıdakilerden hangisidir?

- A) Şaban
- B) Ramazan
- C) Recep
- D) Rebiulevvel

18. Aşağıdakilerden hangisi Hint dinlerinden biridir?

- A) Şintoizm
- B) Taoizm
- C) Konfüçyanizm
- D) Caynizm

19. Aşağıdakilerden hangisi Hristiyanlıkta tarihi süreç içerisinde ortaya çıkan mezheplerden biri değildir?

- A) Teslis
- B) Protestan
- C) Katolik
- D) Ortodoks

20. Hz. Muhammed peygamberlik görevini kaç sene sürdürmüştür?

- A) 23
- B) 25
- C) 27
- D) 33

1. Hz. Muhammed'in ölümünden sonra İslam Devleti'nin başına aşağıdakilerden hangisi geçmiştir?
 - A) Hz. Ali
 - B) Hz. Osman
 - C) Hz. Ömer
 - D) Hz. Ebubekir
2. Hristiyanların, günahlarından kurtulmak için papadan satın aldıkları af kağıtlarına ne ad verilir?
 - A) Enterdi
 - B) Vahiy
 - C) Endülüjans
 - D) Afroz
3. Aşağıdaki savaşlardan hangisinde Müslümanlar Bizans ile ilk kez karşı karşıya geldiler?
 - A) Bedir
 - B) Mute
 - C) Hudeybiye
 - D) Hendek
4. Aşağıdakilerden hangisi İslam devletlerine başkentlik yapmış şehirlerden biri değildir?
 - A) Küfe
 - B) Şam
 - C) Mekke
 - D) Medine
5. İslamiyetin doğuşu sırasında Sasaniler'de hâkim olan din aşağıdakilerden hangisidir?
 - A) Manihaizm
 - B) Hıristiyanlık
 - C) Yahudilik
 - D) Mecusilik
6. İslamiyet'i kabul eden ilk Türk boyları aşağıdakilerin hangisinde birlikte ve doğru olarak verilmiştir?
 - A) Karluk - Yağma - Çiğil
 - B) Emevi - Abbasi - Selçuklu
 - C) İhşidiler - Tolunoğulları
 - D) Karahanlı - Selçuklu - Karluk
7. Türk-İslam devletlerinde, devletin geleceğinde rol oynayacak şehzadeleri yetiştiren tecrübeli ve bilgili kişilere ne ad verilirdi?
 - A) Amil
 - B) Melik
 - C) Atabey
 - D) Hacıp
8. Mısır'da kurulan ikinci Türk devleti aşağıdakilerden hangisidir?
 - A) İhşidiler
 - B) Tolunoğulları
 - C) Memlükler
 - D) Gazneliler
9. Büyük Selçuklu ordusunda, doğrudan sultana bağlı askerlere ne ad verilirdi?
 - A) Sipahi
 - B) Melik askeri
 - C) Hassa ordusu
 - D) Gulaman-ı Saray
10. Aşağıdakilerden hangisi ilk Müslüman Türk devleti olarak kabul edilir?
 - A) İhşidiler
 - B) Karahanlılar
 - C) Uygurlar
 - D) Tolunoğulları
11. Şamanizm'de iyi ruhlarla, kötü ruhlar arasındaki ilişkileri düzenleyen, ayin ve törenleri idare eden kişilere ne ad verilir?
 - A) Kam
 - B) Totem
 - C) Tayanç
 - D) Keneşçi
12. Safevi Devleti'nde hükümdarlar aşağıdaki unvanlardan hangisini kullanmışlardır?
 - A) Emir
 - B) Han
 - C) Şah
 - D) Melik

13. Babür hükümdarı Şah Cihan'ın karısı için yaptırdığı Tac Mahal aşağıdaki şehirlerden hangisinde bulunmaktadır?

- A) Bağdat
- B) Agra
- C) Kahire
- D) Şam

14. İlhanlı Devleti aşağıdakilerden hangisinde kurulmuştur?

- A) İran
- B) Semerkand
- C) Mısır
- D) Maveraünnehir

15. Marco Polo yazmış olduğu seyahatnamesinde aşağıdaki devletlerden hangisi ile ilgili bilgiler vermiştir?

- A) Kubilay Hanlığı
- B) İlhanlılar
- C) Altın Orda Devleti
- D) Timurlular

16. Anadolu'ya akınlar düzenleyen ilk Türk devleti aşağıdakilerden hangisidir?

- A) Gazneliler
- B) Danişmentliler
- C) Avrupa Hunları
- D) Sabirler

17. Aşağıdakilerden hangisi, Selçuklularda yolların emniyetini sağlamak, ticaret hayatını canlandırmak ve insanların yolculuğunu kolaylaştırmak amacıyla yapılan yapılardır?

- A) Külliye
- B) Kervansaray
- C) Kümbet
- D) Darüşşifa

18. Aşağıdakilerden hangisi Türkiye Selçuklu Devleti'nde ordu komutanına verilen addır?

- A) Ayan
- B) Emirü'l ümera
- C) Reis'ül bahr
- D) Emir-i azam

19. Türkiye Selçukluları Devleti'nin yıkılışından sonra Balıkesir ve Çanakkale dolaylarında kurulmuş olan Türk Beyliği aşağıdakilerden hangisidir?

- A) Candaroğulları
- B) Eşrefoğulları
- C) Germiyoğulları
- D) Karesioğulları

20. Türkiye Selçuklularında, devlet adamlarına başarılarından dolayı verilen topraklara ne ad verilirdi?

- A) Vakıf arazi
- B) Has arazi
- C) Mirliya
- D) Mülk arazi

1. Akdeniz ikliminin karakteristik bitki topluluğu olup yaz ve kış yapraklarını dökmeyen, kısa boylu bodur çalılıklar aşağıdakilerden hangisidir?
 - A) Maki
 - B) Savan
 - C) Sedir
 - D) Bozkır
2. Aşağıdakilerden hangisi ormanlardan elde edilen yan ürünlerden biridir?
 - A) Çam kozalağı
 - B) Tomruk
 - C) Parke
 - D) Sunta
3. Aşağıdakilerden hangisi, Türkiye'de birbirinden farklı iklim özelliklerinin görülmesine kanıt değildir?
 - A) Turizm mevsiminin güneyde daha erken başlaması
 - B) Çeşitli tarım ürünlerinin yetiştirilmesi
 - C) Çeşitli akarsu rejimlerinin görülmesi
 - D) Dağınık ve toplu yerleşmelerin görülmesi
4. Aşağıdakilerden hangisi kışın yaprağını döken geniş yapraklı ağaçların en yaygın türlerinden biridir?
 - A) Kızılçam
 - B) Meşe
 - C) Karaçam
 - D) Sarıçam
5. Türkiye'de aşağıdaki göllerden hangisi yoktur?
 - A) Moren set gölleri
 - B) Heyelan set gölleri
 - C) Alüvyal set gölleri
 - D) Tektonik göller
6. Cami, okul, yaylak, baltalık, orman gibi malları bulunan toplu veya dağınık oturan insanların bağ, bahçe ve tarlaları ile oluşturdukları yerleşmelere ne ad verilir?
 - A) Çiftlik
 - B) Mahalle
 - C) Mezra
 - D) Köy
7. Aşağıdakilerden hangisi akarsu kenarında kurulan şehirlerin özelliklerinden biri değildir?
 - A) Verimli ve geniş tarım arazisine sahip olması
 - B) Sanayisinin tarıma dayalı olması
 - C) Geniş bir hinterlandı olması
 - D) Ulaşım imkanına sahip olması
8. Aşağıdakilerden hangisi Türkiye' de nüfus ve yerleşmenin dağılışını etkileyen beşeri faktörlerden biridir?
 - A) Yeryüzü şekilleri
 - B) İç ve dış göçler
 - C) İklim
 - D) Su kaynakları
9. Ülkemizdeki şehirleri fonksiyonlarına göre sınıflandırdığımızda aşağıdaki şehirlerden hangisi kültürel şehirler grubuna daha çok uyar?
 - A) Afyon
 - B) Şırnak
 - C) Eskişehir
 - D) Kırşehir
10. Yağışın olduğu yerlerde nüfus yoğunluğunun fazla olması aşağıdaki yerlerden hangisi için geçerli değildir?
 - A) Trabzon
 - B) Antalya
 - C) Ege kıyıları
 - D) Menteşe yöresi

11. Türkiye'de nüfus artışını etkileyen temel faktör aşağıdakilerden hangisidir?

- A) Hatay'ın anavatanına katılması
- B) Doğal nüfus artışı
- C) Çalışmak için aileleriyle birlikte başka ülkelerden göç alması
- D) Lozan Antlaşması nedeniyle mübadeleyle gelenler

12. Bir ülkenin kırsal alanlarında ve kentlerinde bulunan nüfus miktarları, o ülkenin aşağıdaki özelliklerinden hangisini gösterir?

- A) Geleneklerini
- B) Ekonomik ve sosyal yapısını
- C) Kültürel yapısını
- D) Siyasi durumunu

13. Aşağıdaki illerimizden hangisinden dışarıya göç verme daha fazla olmaktadır?

- A) Tunceli
- B) Kocaeli
- C) Manisa
- D) İzmir

14. Türkiye'de nüfusu 10.000' in altında bulunan yerleşmelerde yaşayan nüfusa ne ad verilir?

- A) Aktif nüfus
- B) İşsiz nüfus
- C) Şehir nüfusu
- D) Kırsal nüfus

15. Aşağıdakilerden hangisi nüfus artışının sonuçlarından biri değildir?

- A) Bağımlı nüfusun artması, konut sıkıntısı yaşanması
- B) Milli gelirin artması ve refah seviyesinin düzelmesi
- C) Kırsal kesimlerde yapılan yatırımlardan verim alınamaması
- D) Kırsal kesimde kişi başına düşen arazi miktarının azalması

16. Kuzey ve Güney Amerika kıtaları arasında yer alan Büyük Okyanus ile Atlas Okyanusu'nu birleştiren kanal aşağıdakilerden hangisidir?

- A) Babülmendep
- B) Cebeli Tarık
- C) Panama
- D) Hürmüz

17. Dünyayı ilk dolaşan ve böylece dünyanın yuvarlak olduğunu kanıtlayan denizci aşağıdakilerden hangisidir?

- A) Macellan
- B) Vasko dö Gama
- C) Ameriko Vespuçi
- D) Kolomb

18. Aşağıdakilerden hangisi Muğla ilimiz ve çevresinde sıkça rastlanan İğne yapraklı bitki topluluğudur?

- A) Kocayemişi
- B) Keçiboynuzu
- C) Adaçayı
- D) Kızılcım

19. Süveyş Kanalı ile ilgili aşağıdaki ifadelerden hangisi yanlıştır?

- A) Karadan Afrika ve Asya' yı birbirine bağlar.
- B) Dünyada kapakları olmayan en uzun kanaldır.
- C) En pahalı kanal ve dünyanın mühendislik harikasıdır.
- D) Sefer yapan büyük tankerler için barınma imkanı sağlar.

20. Çin'den başlayan ve Uzak Doğu'nun ipek, kürk, baharat gibi ürünlerini batıya taşıyan tarihi yol aşağıdakilerden hangisidir?

- A) Baharat yolu
- B) Basra körfezi
- C) İpek yolu
- D) Süveyş kanalı

1. 8943 ile 2854 sayıları arasında kaç tane doğal sayı vardır?

A) 6087
B) 6088
C) 6089
D) 6090

2. Bir otobüs A şehirden B şehrine sabit hızla giderek 11 saatte varmıştır. Bu otobüs hızını 20 km/h artırırsa aynı yolu 9 saatte alacaktır.

Buna göre, otobüsün ilk hızı kaç km/h tir?

A) 70
B) 80
C) 90
D) 110

3. $x \in \mathbb{R}$ ve $x < 0$ olmak üzere,

$|-2x| + |x| + 5x + |3x|$ ifadesi aşağıdakilerden hangisine eşittir?

A) $-3x$
B) $-x$
C) $2x$
D) $5x$

4. Bir fabrikadaki üç zilden birincisi 12 dakikada, ikincisi 15 dakikada ve üçüncüsü 18 dakikada bir çalmaktadır.

Zillerin üçü birden ilk kez saat 13.00 de çaldıklarına göre, ikinci kez hep birlikte saat kaçta çalarlar?

A) 14:00
B) 15:00
C) 16:00
D) 17:00

5. $a^2 \cdot b > 0$
 $a^3 \cdot c > 0$
 $b \cdot c < 0$

olduğuna göre; a, b ve c'nin işaretleri sırasıyla aşağıdakilerin hangisinde verilmiştir?

A) -, -, +
B) +, +, -
C) -, +, -
D) +, -, +

6. $(7 \oplus 2) \otimes [4 \otimes (6 \oplus 5)] \equiv a \pmod{8}$

Yukarıdaki denkliği sağlayan en küçük doğal sayı kaçtır?

A) 1
B) 2
C) 3
D) 4

7. Ardışık üç tek sayının toplamı 369 ise bu sayıların en büyüğü kaçtır?

A) 123
B) 125
C) 127
D) 129

8. 7^{166} nın birler basamağındaki rakam kaçtır?

A) 6
B) 7
C) 8
D) 9

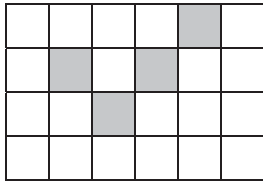
9.

$$1 - \frac{1 - \frac{1}{2}}{1 + \frac{1}{1 + \frac{1}{2}}}$$

Yukarıdaki işlemin sonucu kaçtır?

- A) $-\frac{1}{5}$
 B) $\frac{1}{2}$
 C) 1
 D) 2

10.



Yukarıdaki eşit bölmelere ayrılmış dikdörtgende, taralı alanı belirten kesir aşağıdakilerden hangisidir?

- A) $\frac{1}{2}$
 B) $\frac{1}{3}$
 C) $\frac{1}{4}$
 D) $\frac{1}{6}$

11.

Bir su deposunun $\frac{1}{5}$ i doludur. Bu depoya 8 litre daha su konulduğunda deponun $\frac{1}{4}$ ü doluyor.

Buna göre, depo dolu iken içindeki su kaç litredir?

- A) 120
 B) 160
 C) 180
 D) 200

12. Bir çiftçi 28 litre süttan 4 kg peynir elde ediyor.

Buna göre, 6 kg peynir elde etmek için kaç litre süte ihtiyaç vardır?

- A) 42
 B) 46
 C) 48
 D) 52

13.

Kerim'in yaşının Serkan'ın yaşına oranı $\frac{3}{4}$ tür.

Kerim 48 yaşında olduğuna göre, Serkan kaç yaşındadır?

- A) 56
 B) 64
 C) 68
 D) 72

14. $\left| \frac{7x-6}{2} \right| \leq 4$ eşitsizliğinin **en geniş** çözüm aralığı aşağıdakilerden hangisidir?

- A) $\left[\frac{1}{7}, 8 \right]$
 B) $\left(-\infty, -\frac{2}{7} \right]$
 C) $(2, +\infty)$
 D) $\left[-\frac{2}{7}, 2 \right]$

15. $a < b < 0 < c$ olduğuna göre, $|b-c| + |a-b| - |c|$ ifadesi aşağıdakilerden hangisine eşittir?

- A) $2b$
 B) $-c$
 C) $-a$
 D) $b-a$

16. $-32 \leq 6x - 14 < 28$ eşitsizliğinin reel sayılardaki çözüm kümesi aşağıdakilerden hangisidir?

- A) $[-3, 7)$
 B) $[-3, 3]$
 C) $(-7, 3]$
 D) $(5, 7)$

17. 7 tane 7 nin toplamı x , 7 tane 7 nin çarpımı y ise $\frac{y}{x}$ kaçtır?

- A) 1
 B) 7^{-2}
 C) 7^4
 D) 7^5

18. $\sqrt{14 - \sqrt{19 + \sqrt{43 - \sqrt{44 + \sqrt{25}}}}}$

işleminin sonucu aşağıdakilerden hangisidir?

- A) 3
 B) 4
 C) 5
 D) 6

19. $\frac{4^2 + 4^3 + 4^5}{4^1 + 4^2 + 4^4}$

işleminin sonucu kaçtır?

- A) $\frac{1}{4}$
 B) $\frac{1}{2}$
 C) 4
 D) 8

20. $a = 5\sqrt{3}$

$b = 4\sqrt{4}$

$c = 3\sqrt{8}$

sayıları arasındaki sıralama aşağıdakilerden hangisidir?

- A) $a > c > b$
 B) $a > b > c$
 C) $b > a > c$
 D) $b > c > a$

1. Wo kann man sitzen?

Welche Antwort passt zur obigen Frage?

Verilen sorunun cevabı aşağıdakilerden hangisidir?

- A) Auf dem Stuhl.
B) Auf der Lampe.
C) In dem Schrank.
D) Im Kühlschrank.

2. Ich habe meine Brille Telefon gelegt, als ich mit Peter telefonierte.

Welche Wörter passen in die obigen Lücken?

Cümlede boş bırakılan yerleri aşağıdakilerden hangileri doğru şekilde tamamlar?

- A) zu das
B) in den
C) neben das
D) unter den

3. Was bedeutet "değiřtirmek" auf Deutsch?

"değiřtirmek" sözcüğünün Almancası aşağıdakilerden hangisidir?

- A) läuten
B) üben
C) überlegen
D) ändern

4. A: liegt Polatlı?
B: Polatlı liegt bei Ankara.

Welches ergänzt die Lücke im obigen Dialog?

Verilen karşılıklı konuşmada boş bırakılan yeri aşağıdakilerden hangisi tamamlar?

- A) Zu welcher Stadt
B) Bei welcher Stadt
C) Von welches Stadt
D) Mit welchem Stadt

5. Er muß lernen, die Präpositionen richtig zu

Welches Wort passt in die obige Lücke?

Cümlede boş bırakılan yeri aşağıdakilerden hangisi doğru şekilde tamamlar?

- A) benutzen
B) fahren
C) gehen
D) sitz

6. Ali kommt nach Deutschland zurück.

Wie lautet der obige Satz im Perfekt?

Verilen cümlelerin di'li geçmiş zaman şekli aşağıdakilerden hangisidir?

- A) Ali kam nach Deutschland zurück.
B) Ali wollte nach Deutschland zurückkommen.
C) Ali ist nach Deutschland zurückgekommen.
D) Ali wird nach Deutschland zurückkommen.

7. Der Vogel im Wald sitzt

Welches Wort passt in die obige Lücke?

Cümlede boş bırakılan yeri aşağıdakilerden hangisi doğru şekilde tamamlar?

- A) in dem Kühlschrank.
B) unter dem Tisch.
C) in der Lampe.
D) auf dem Baum.

8. Frau Birn: Wie funktioniert dieses Gerät?
Verkäuferin: Sie müssen auf den zweit.....
rot..... Knopf drücken.
Frau Birn: Danke sehr!

Welches ergänzt die Lücke im obigen Dialog?

Verilen karşılıklı konuşmada boş bırakılan yeri aşağıdakilerden hangisi tamamlar?

- A) -es / -es
B) -en / -en
C) -es / -e
D) -em / -em

9. Was ist ein Sprachgenie?

Welche Antwort passt zur obigen Frage?

Verilen sorunun cevabı aşağıdakilerden hangisidir?

- A) Jemand, der sehr viel verdient.
- B) Jemand, der fantastisch spielen kann.
- C) Ein Sprachgenie kann sehr gut kochen.
- D) Ein Sprachgenie kann alle Sprachen sprechen.

10. Mit einem kann man Kilometer zählen.

Welches Wort passt in die obige Lücke?

Cümlede boş bırakılan yeri aşağıdakilerden hangisi doğru şekilde tamamlar?

- A) Kilometerzähler
- B) Denkapparat
- C) Schreibmaschine
- D) Zahlenkilometer

11. A: Was passiert, wenn ich auf diesen Knopf hier?

B: Dann die rote Lampe.

Welche Wörter passen in die obigen Lücke im obigen Dialog?

Verilen karşılıklı konuşmada boş bırakılan yerleri aşağıdakilerden hangisi doğru şekilde tamamlar?

- A) stecke / machen
- B) drücke / leuchtet
- C) mache / drückt
- D) leuchte / lernt

12. Bu ayrıntılı dilsel bir çalışma.

Wie lautet der obige Satz auf Deutsch?

Verilen cümlenin Almancası aşağıdakilerden hangisidir?

- A) Das ist eine ausführliche sprachliche Arbeit.
- B) Diese Arbeit ist eine Ausführung für Sprachen.
- C) Sprachliche und ausführliche Arbeiten finden Sie hier.
- D) Die ausführliche sprachliche Arbeit ist von unserem Lehrer vorbereitet worden.

13. Mit unserem neuen Gerät können Sie in kurzer Zeit Chinesisch wie ein alter Chinese.

Welches Wort passt in die obige Lücke?

Cümlede boş bırakılan yeri aşağıdakilerden hangisi doğru şekilde tamamlar?

- A) brauchen
- B) sprechen
- C) sehen
- D) kaufen

14. ich nach Hause kam, ich sehr müde.

Welche Wörter passen in die obigen Lücken?

Cümlede boş bırakılan yerleri aşağıdakilerden hangileri doğru şekilde tamamlar?

- A) Wenn / und
- B) Wo / bin
- C) Als / war
- D) Während / aber

15. Am Sonntag bleibe ich zu Hause.

Wie lautet der obige Satz im Perfekt?

Verilen cümlelerin di' li geçmiş zaman şekli aşağıdakilerden hangisidir?

- A) Am Sonntag soll ich zu Hause bleiben.
- B) Sonntags bleibe ich immer zu Hause.
- C) Sonntags gehe ich nicht gerne in die Stadt.
- D) Am Sonntag bin ich zu Hause geblieben.

16. Ich sah die große Überraschung erst
ich nach Hause kam.

Welches Wort passt in die obige Lücke?

Cümlede boş bırakılan yeri aşağıdakilerden hangisi doğru şekilde tamamlar?

- A) wenn
- B) als
- C) zu
- D) dann

17. Endlich habe ich meinen und kann
mir ein Auto kaufen.

Welches Wort passt in die obige Lücke?

Cümlede boş bırakılan yeri aşağıdakilerden hangisi doğru şekilde tamamlar?

- A) Anruf
- B) Wohnung
- C) Überraschung
- D) Führerschein

18. Ja, natürlich könnt ihr bei uns übernachten.

Welche Frage passt zur obigen Antwort?

Verilen cevabı gerektirecek soru aşağıdakilerden hangisidir?

- A) Können wir eine Woche später wieder zu euch kommen?
- B) Wo wollt ihr diese Nacht übernachten?
- C) Ist es möglich, daß wir bei euch übernachten können?
- D) Wer will bei uns übernachten?

19. Ich möchte mit dir zusammen eine Reise machen.

Welches hat die gleiche Bedeutung mit dem obigen Satz?

Verilen cümle ile aynı anlamı taşıyan aşağıdakilerin hangisidir?

- A) Ich möchte mit dir zusammen verreisen.
- B) Ich möchte dich zu mir einladen.
- C) Ich möchte mit dir zusammen in dein Land zurückfahren.
- D) Ich mache dir einen Reisevorschlag.

20. Ich frühstücke um acht Uhr.

Wie lautet der obige Satz im Futur?

Verilen cümlelerin gelecek zaman şekli aşağıdakilerden hangisidir?

- A) Ich kann um acht Uhr frühstücken.
- B) Ich habe um acht Uhr gefrühstückt.
- C) Ich werde um acht Uhr frühstücken.
- D) Ich hatte um acht gefrühstückt.

1. Begüm.....the homework by tomorrow.

Which of the following completes the sentence above?

Aşağıdakilerden hangisi yukarıdaki cümleyi doğru olarak tamamlar?

- A) will have finished
B) is finishing
C) finish
D) finished

2. A: Why didn't Serpil come to the meeting?
B: I don't know. She somewhere else.

Which of the following completes the dialogue above?

Aşağıdakilerden hangisi yukarıdaki konuşmayı doğru olarak tamamlar?

- A) must go
B) ought to go
C) could have gone
D) should have gone

3. If you have a stomachache, you see a doctor.

Which of the following completes the sentence above?

Aşağıdakilerden hangisi yukarıdaki cümleyi doğru olarak tamamlar?

- A) ought
B) ought to have
C) should
D) would

4. Will the students their work by tomorrow?

Which of the following completes the sentence above?

Aşağıdakilerden hangisi yukarıdaki cümleyi doğru olarak tamamlar?

- A) finished
B) finishing
C) have finished
D) finishes

5. I can't find my bag. I lost it.

Which of the following completes the sentence above?

Aşağıdakilerden hangisi yukarıdaki cümleyi doğru olarak tamamlar?

- A) should have
B) will have
C) could
D) must have

6. A: What shall we do at the weekend?
B: We go for a picnic.

Which of the following completes the dialogue above?

Aşağıdakilerden hangisi yukarıdaki konuşmayı doğru olarak tamamlar?

- A) could have
B) could
C) must have
D) ought

7. Gülce a new house by this time next year.

Which of the following completes the sentence above?

Aşağıdakilerden hangisi yukarıdaki cümleyi doğru olarak tamamlar?

- A) has bought
B) will have bought
C) buys
D) is buying

8. A: Why are you late for the quiz?
B: I went to the cinema last night and I couldn't wake up.
A: You there.

Which of the following completes the dialogue above?

Aşağıdakilerden hangisi yukarıdaki konuşmayı doğru olarak tamamlar?

- A) shouldn't have gone
B) shouldn't go
C) ought to go
D) must go

9. A:What shall we do tomorrow?
B:We go to a cinema.

Which of the following completes the dialogue above?

Aşağıdakilerden hangisi yukarıdaki konuşmayı doğru olarak tamamlar?

- A) ought
B) could have
C) could
D) should have

10. If you have a toothache, you see a dentist.

Which of the following completes the sentence above?

Aşağıdakilerden hangisi yukarıdaki cümleyi doğru olarak tamamlar?

- A) ought to
B) could
C) must have
D) might have

11. Engin didn't telephone Zeynep. He..... lost the number.

Which of the following completes the sentence above?

Aşağıdakilerden hangisi yukarıdaki cümleyi doğru olarak tamamlar?

- A) should have
B) ought to
C) might have
D) might

12. He spends a lot of money. He.....rich.

Which of the following completes the sentence above?

Aşağıdakilerden hangisi yukarıdaki cümleyi doğru olarak tamamlar?

- A) will be
B) should be
C) ought
D) must be

13. Bülent his house by the end of this week.

Which of the following completes the sentence above?

Aşağıdakilerden hangisi yukarıdaki cümleyi doğru olarak tamamlar?

- A) moved
B) will have moved
C) be moved
D) was moving

14. The students will be a quiz this time tomorrow.

Which of the following completes the sentence above?

Aşağıdakilerden hangisi yukarıdaki cümleyi doğru olarak tamamlar?

- A) has taken
B) take
C) taken
D) taking

15. If you want to learn Spanish, you go to a language school.

Which of the following completes the sentence above?

Aşağıdakilerden hangisi yukarıdaki cümleyi doğru olarak tamamlar?

- A) should
B) ought
C) would
D) ought to have

16. A:Levent went to work late yesterday.
B:Hegone earlier.

Which of the following completes the dialogue above?

Aşağıdakilerden hangisi yukarıdaki konuşmayı doğru olarak tamamlar?

- A) will have
B) had
C) has
D) should have

17. A: It's my mother's birthday tomorrow. What shall I buy her?
B: Well, you buy her a bag.

Which of the following completes the dialogue above?

Aşağıdakilerden hangisi yukarıdaki konuşmayı doğru olarak tamamlar?

- A) could
- B) will
- C) ought
- D) must have

18. Nazlı's mother : Why are you so sad?
Nazlı : I failed my test. I hard last night.

Which of the following completes the dialogue above?

Aşağıdakilerden hangisi yukarıdaki konuşmayı doğru olarak tamamlar?

- A) ought to study
- B) should have studied
- C) can study
- D) must have studied

19. I will be to İzmir this time tomorrow.

Which of the following completes the sentence above?

Aşağıdakilerden hangisi yukarıdaki cümleyi doğru olarak tamamlar?

- A) gone
- B) going
- C) has gone
- D) was going

20. A: Have you seen my notebook? I can't find it anywhere.
B: Have you looked in the car? It there.

Which of the following completes the dialogue above?

Aşağıdakilerden hangisi yukarıdaki konuşmayı doğru olarak tamamlar?

- A) must
- B) wasn't be
- C) wasn't
- D) might be

1. Depuis quand travaillez-vous dans cette banque?

Choisissez la traduction qui convient.

Yukarıdaki cümlelerin Türkçe karşılığı aşağıdakilerden hangisidir?

- A) Uzun zamandan beri bu bankada mı çalışıyorsunuz?
B) Ne zamandan beri bu bankada çalışıyorsunuz?
C) Bankada çalışmak yorucu olmuyor mu?
D) Bu bankada günde kaç saat çalışıyorsunuz?

2. Ces étudiants sont-ils paresseux?

Choisissez la traduction qui convient.

Yukarıdaki cümlelerin Türkçe karşılığı aşağıdakilerden hangisidir?

- A) Tembel öğrenciler bunlar mı?
B) Tembel öğrenciler hep başarısız mı olurlar?
C) Bu öğrenciler neden tembellik ediyorlar?
D) Bu öğrenciler tembel mi?

3. Mme Perret: - Tu connais cette jeune fille?
M.Perret: - Oui, je connais bien.

Choisissez le mot qui convient.

Yukarıdaki konuşmada boş bırakılan yeri aşağıdakilerden hangisi doğru şekilde tamamlar?

- A) le
B) la
C) lui
D) les

4. Est-ce que quelqu'un vient avec moi?

Choisissez l'antonyme du mot souligné.

Yukarıdaki cümlede altı çizili sözcüğün zıt anlamlısı aşağıdakilerden hangisidir?

- A) rien
B) quelque chose
C) personne
D) cependant

5. Nos clients aiment beaucoup.

Choisissez le mot qui convient.

Cümledeki boşluğu aşağıdakilerden hangisi doğru şekilde tamamlar?

- A) nous
B) je
C) il
D) chez

6. Mme Poirier: - Tu connais ce jeune homme?
M.Poirier: - Oui, je connais bien.

Choisissez le mot qui convient.

Yukarıdaki konuşmada boş bırakılan yeri aşağıdakilerden hangisi doğru şekilde tamamlar?

- A) la
B) lui
C) le
D) les

7. Je conseille d'acheter cette cravate.

Choisissez le mot qui convient.

Cümledeki boşluğu aşağıdakilerden hangisi doğru şekilde tamamlar?

- A) suis
B) le
C) peux
D) vous

8. Il les droits des gens, il est avocat.

Choisissez le mot qui convient.

Cümledeki boşluğu aşağıdakilerden hangisi doğru şekilde tamamlar?

- A) défend
B) peut
C) entend
D) fais

9. Notre directeur est très gentil. Chaque matin,

Complétez la phrase avec la proposition qui convient.

Yukarıdaki cümleyi aşağıdaki ifadelerden hangisi doğru şekilde tamamlar?

- A) il nous dit bonjour.
B) il prend son petit déjeuner.
C) il arrive tard.
D) il est malheureux.

10. ce / résoudre / comment / problème ?
I II III IV

Mettez dans le bon ordre.

Yukarıdaki kelimelerin anlamlı bir bütün oluşturan sırası aşağıdakilerin hangisinde doğru olarak verilmiştir?

- A) I, IV, II, III
B) II, IV, III, I
C) III, II, I, IV
D) III, I, IV, II

11. Quand part le train?

Choisissez la traduction qui convient.

Yukarıdaki cümlelerin Türkçe karşılığı aşağıdakilerden hangisidir?

- A) Tren ne zaman hareket ediyor?
- B) Tren ne kadar zamanda gidiyor?
- C) Tren ne zaman gelecek?
- D) Tren ne kadar gecikecek?

12. Je connais bien ce jeune homme est étudiant dans notre université.

Choisissez le mot qui convient.

Cümledeki boşluğu aşağıdakilerden hangisi doğru şekilde tamamlar?

- A) que
- B) qui
- C) où
- D) comment

13. Ankara est la capitale de la Turquie 1923.

Choisissez le mot qui convient.

Cümledeki boşluğu aşağıdakilerden hangisi doğru şekilde tamamlar?

- A) quand
- B) depuis
- C) combien
- D) quand est-ce que

14. Comment est-ce que vas à l'école?

Choisissez le mot qui convient.

Cümledeki boşluğu aşağıdakilerden hangisi doğru şekilde tamamlar?

- A) vous
- B) nous
- C) je
- D) tu

15. Les gaz d'échappement sont dangereux la santé.

Choisissez le mot qui convient.

Cümledeki boşluğu aşağıdakilerden hangisi doğru şekilde tamamlar?

- A) pour
- B) que
- C) qui
- D) comme

16. -
- Non, merci, je ne prends rien.

Choisissez la question qui convient.

Yukarıdaki konuşmada cevabı gerektiren soru aşağıdakilerden hangisidir?

- A) Attendez-vous quelqu'un?
- B) Tu n'entends rien?
- C) Tu prends quelque chose?
- D) Quelqu'un me demande quelque chose?

17. Gelecek hafta Paris'te olacağım.

Choisissez la traduction qui convient.

Yukarıdaki cümlelerin Fransızca karşılığı aşağıdakilerden hangisidir?

- A) La semaine dernière, j'étais à Paris.
- B) La semaine dernière, je suis allé à Paris.
- C) La semaine prochaine, je serai à Paris.
- D) La semaine prochaine, j'allais à Paris.

18. -
- Je veux bien un thé.

Choisissez la question qui convient.

Yukarıdaki konuşmada cevabı gerektiren soru aşağıdakilerden hangisidir?

- A) Entendez-vous quelque chose?
- B) Tu as quelque chose pour ouvrir cette bouteille?
- C) Vous n'avez rien trouvé?
- D) Vous voulez quelque chose à boire?

19. les gens sont inconscients, ils détruisent les forêts pour construire des maisons.

Choisissez le mot qui convient.

Cümledeki boşluğu aşağıdakilerden hangisi doğru şekilde tamamlar?

- A) Pour
- B) Comme
- C) Quand
- D) Comment

20. Louise: - Hier, j'ai rencontré l'une des camarades de classe.

René: -

Louise: - C'était Agnès.

Choisissez la réplique qui convient.

Yukarıdaki konuşmada boş bırakılan yeri aşağıdakilerden hangisi doğru şekilde tamamlar?

- A) Ça va?
- B) C'est où?
- C) Comment t'appelles-tu?
- D) Qui c'était?

1. Devletin şeklini, yapısını, organların görev ve yetkilerini, birbirleriyle olan ilişkilerini, kişilerin temel hak ve hürriyetlerini düzenleyen kurallar kamu hukukunun hangi bölümünü oluşturur?
 - A) Devletler Genel Hukuku
 - B) Anayasa Hukuku
 - C) Ceza Hukuku
 - D) Yargılama Hukuku
2. Sosyal hayatı düzenleyen kurallardan hangisi iyiliğe ve vicdani ödevlere ilişkin kurallar bütünü olarak tanımlanır?
 - A) İktisat kuralları
 - B) Hukuk kuralları
 - C) Ahlak kuralları
 - D) Din kuralları
3. Aşağıdakilerden hangisi yüksek mahkemelerden biri değildir?
 - A) Askeri Yüksek İdare Mahkemesi
 - B) Sayıştay
 - C) Uyuşmazlık Mahkemesi
 - D) Danıştay
4. Bir düzenleyici kurala uygun davranmadığımız takdirde karşılaşacağımız tepkiye ne ad verilir?
 - A) Sosyal düzen kuralı
 - B) Örf
 - C) Yaptırım
 - D) Görgü
5. Çalışma hayatını, işçilerin ve işverenlerin hak ve yükümlülüklerini düzenleyen hukuk dalı aşağıdakilerden hangisidir?
 - A) İş Hukuku
 - B) Medeni Hukuk
 - C) Borçlar Hukuku
 - D) Ticaret Hukuku
6. Kanunların emrettiği durumları düzenlemek için çıkarılan hukuk kaynağı aşağıdakilerden hangisidir?
 - A) Kanun Hükmünde Kararname
 - B) Tüzük
 - C) Yönetmelik
 - D) Tebliğ
7. "Anayasanın üstünlüğü ilkesi" ne anlama gelir?
 - A) Anayasadan daha üst bir norm getirilemeyeceği
 - B) Kanunların anayasaya aykırı olamayacağı
 - C) Anayasanın hükümlerinin değiştirilemeyeceği
 - D) Anayasa değişikliğinin öncelikle görüşülemeyeceği
8. Mülk edinmeye ilişkin düzenlemeler hangi hukuk dalı içerisinde yer almaktadır?
 - A) İş Hukuku
 - B) Devletler Özel Hukuku
 - C) Fikri Hukuk
 - D) Medeni Hukuk
9. "Mahcur" ne demektir?
 - A) Savruk
 - B) Ehliyetli
 - C) Kısıtlı
 - D) Veli
10. Mal topluluğu grubunun en çok rastlanan örneği aşağıdakilerden hangisidir?
 - A) Vakıf
 - B) Örgüt
 - C) Sendika
 - D) Dernek
11. Hukukun tanıdığı hak ve yetkileri kullanabilen, yüklediği yükümlülükleri yüklenilen varlığa ne ad verilir?
 - A) Vasi
 - B) Gaip
 - C) Kayyum
 - D) Kişi

12. Müşterek mülkiyete ilişkin aşağıdaki ifadelerden hangisi doğrudur?

- A) Malın tamamı üzerindeki önemli kararlarda paydaşların eşit oy hakkı vardır.
- B) Satış veya biçim değiştirme konularında bir oy fazlalığı karar için yeterlidir.
- C) Paydaş payını ipotek edemez.
- D) Her paydaş maldan kendi payı oranında yararlanabilir.

13. "Mütemmim cüz" ne demektir?

- A) Tamamlayıcı parça
- B) Eklenti
- C) Mülkiyet
- D) Tasarruf

14. Aşağıdakilerden hangisi bir şey veya bir malın mülkiyet hakkına konu olabilmesi için gerekli şartlardan biridir?

- A) Ekonomik bir değer taşımaması
- B) Üretilbilir olması
- C) Egemenlik altına girememesi
- D) Bağımlı bir varlığı olması

15. Sahipsiz bir malın ona sahip olmak niyetiyle ele geçirilmesine ne ad verilir?

- A) Tağyir
- B) Zilyetlik
- C) Müruru zaman
- D) İhraz

16. Aşağıdakilerden hangisi hapis hakkı şartlarından biri değildir?

- A) Alacaklının alacağı muaccel olmalıdır.
- B) Alacaklının ödeme zamanı gelmemiş olmalıdır.
- C) Alacaklı, borçlunun mallarını hapis hakkını kullanmak üzere alıkoyduğunu açıkça söylemelidir.
- D) Alacaklı ile hapis hakkı kullanılan mal arasında tabii bağlantı olmalıdır.

17. Borcun ödenmesinde hukukun uygun bulmadığı bir gecikme durumuna ne denir?

- A) İbra
- B) Ahde vefa
- C) Temerrüt
- D) Edim

18. Bir kimsenin bir şey yapmak, bir şey yapmamak veya bir şey vermek biçiminde bir eylemde bulunma yükümlülüğüne ne denir?

- A) Tazminat
- B) Edim
- C) İbra
- D) Borç

19. Bir sözleşmenin oluşabilmesi için gerekli olan irade açıklamasına ne denir?

- A) Teklif
- B) Edim
- C) Latife
- D) İcap

20. Taraflar arasında sözleşmenin yapıldığına kanıt olmak üzere verilen bir miktar paraya ne ad verilir?

- A) Pey akçesi
- B) Pişmanlık akçesi
- C) Hava parası
- D) Cezai şart

1. Aşağıdakilerden hangisi tartışmalarda seçilen konuların özelliklerinden biri değildir?

- A) Tartışmaya değer olmalıdır.
- B) Tartışmaya uygun olmalıdır.
- C) İstenilen zamana sığabilmelidir.
- D) Düşünmeye yol açmamalıdır.

2. Şeffaf bir asetat kağıt üzerine çizilmiş bir şekli görüntü olarak bir perde veya duvara yansıtan araçlara ne ad verilir?

- A) Video
- B) Projeksiyon aletleri
- C) Disket
- D) Çok yapraklı pano

3. Aşağıdakilerden hangisi önerge ile ilgili yanlış bir ifadedir?

- A) Ortaya atılan görüş olumlu ve olumsuz yönleriyle yeteri kadar aydınlanınca oylanır.
- B) Görüşler, oy çoğunluğu ile kabul veya reddedilir.
- C) Bir sorunun çözümü için üyelerin başkanlığa görüş bildirmesidir.
- D) Önerge genellikle sözlü biçimde verilir.

4. Bir kişinin bir gruba karşı bir ürün, değişen şirket politikası veya eğitim programının bir yönü hakkında bilgi vermek amacıyla yaptığı konuşma ve gösterime ne ad verilir?

- A) Önerge
- B) Sunum
- C) Panel
- D) Tartışma

5. Sunum ile ilgili aşağıdaki ifadelerden hangisi yanlıştır?

- A) Hitap edilecek izleyici hakkında bilgi toplanması gerekir.
- B) Modern iş ortamının bir iletişim prensibidir.
- C) Sözlü iletişimin en başta gelenlerinden biridir.
- D) İyi bir sunumda sadece yazılı gereçler kullanılır.

6. Aşağıdakilerden hangisi tartışma kurallarından biri değildir?

- A) Kendini övmek ve başkalarını yermek
- B) Aynı konuda üst üste söz almaya çalışmak
- C) Tartışmayı benlik, kişisel üstünlük sorunu yapmamak
- D) Toplantılarda başkanlığın uyarılarına karşı gelmemek

7. Aşağıdakilerden hangisinde kamuoyu yaratma endişesi, konuşmacı-dinleyici ilişkisini belirleyen önemli bir faktördür?

- A) Sunum
- B) Tartışma
- C) Toplantı
- D) Brifing

8. Aşağıdakilerden hangisi bir tartışma konusu değildir?

- A) Türkiye'nin Avrupa'da toprakları vardır.
- B) Kütüphanelerden yeterince yararlanabiliyor muyuz?
- C) Televizyon, sinemayı olumlu mu olumsuz mu etkilemiştir?
- D) Öğrencilere kitap okuma alışkanlığı nasıl kazandırılabilir?

9. "Herkes benim düşünceme katılırsa yanılmış olmaktan korkarım." sözü aşağıdaki yazarlardan hangisine aittir?

- A) Woodrow Wilson
- B) Suut Kemal Yetkin
- C) Oscar Wilde
- D) Haldun Taner

10. Öğretim alanında kullanılan en eski gereç aşağıdakilerden hangisidir?

- A) Yazı tahtası
- B) Video
- C) Projeksiyon aletleri
- D) Çok yapraklı pano

11. Bir metnin konusu ile ilgili aşağıdaki ifadelerden hangisi yanlıştır?

- A) Geniş kapsamlı konulara sınırlı konular denir.
- B) Üzerine söz söylenen, yazı yazılan her şey konu olabilir.
- C) Konular, geniş ve dar kapsamlı olmak üzere iki ayrı görüşle ele alınır.
- D) Atasözü, özdeyiş gibi bir düşünce; sevgi, sabır gibi bir duygu konu olabilir.

12. Aşağıdaki cümlelerin hangisinde gereksiz sözcük vardır?

- A) Bir gece ansızın gelebilirim.
- B) Yarın sinemaya gidelim.
- C) Bilimkurgu kitaplarını nadiren, ara sıra okurum.
- D) Öğlunuzun durumu yarın kurulda görüşülecek.

13. Aşağıdaki cümlelerin hangisinde üçüncü kişi anlatımı vardır?

- A) Yeşil pencereden bir gül at bana.
- B) Geldim işte mevsim gibi kapına.
- C) Yıldızlara bakarak öyle dalmışım ki!
- D) Korkuyorum bu gecelerden.

14. "Not tutmak, zamanı gelecek için saklamaktır." sözü aşağıdakilerden hangisine aittir?

- A) Max Jacob
- B) Andre Gide
- C) Gustave Flaubert
- D) Jeann Paul Satre

15. Bir metnin oluşabilmesi için aşağıdakilerden hangilerinin bulunması gerekir?

- A) Duruluk - akıcılık
- B) Doğruluk - içtenlik
- C) Tutarlılık - bağdaşıklık
- D) Özgünlük - akıcılık

16. Bir hikâyenin bütününün veya bir parçasının kısaltılmasına ne ad verilir?

- A) Özet çıkarma
- B) Not alma
- C) Kompozisyon yazma
- D) Yazı yazma

17. Aşağıdaki cümlelerin hangisinde anlatım bozukluğu vardır?

- A) Bahçedeki zararlı otlar yolunarak bir yere yığılmalıdır.
- B) Bu karar, 140'a karşı 380 oyla alınmıştır.
- C) Doğru oturup, eğri konuşalım.
- D) Eğri oturup, doğru konuşalım.

18. Ana fikir ile ilgili aşağıdaki ifadelerden hangisi doğrudur?

- A) Ana fikir, konu demektir.
- B) Bir yazının başlığı ile ana fikri arasında bir bağlantı yoktur.
- C) Her eserin, bir tane ana fikri vardır.
- D) Ana fikir, bir yazının özüdür.

19. Aşağıdaki cümlelerin hangisinde birinci kişi anlatımı vardır?

- A) Çocuklar, babalarını gördüler.
- B) Kız, büyükannesine yemek götürdü.
- C) Yavru köpeğe süt verdiler.
- D) Uzaklardan geldim.

20. Hiç kimseye benzemeden, öykünmeden biçim ve içerikte benzersiz olmak, anlatımın hangi özelliği ile ilgilidir?

- A) Duruluk
- B) Akıcılık
- C) Özgünlük
- D) Doğruluk

1. Aşağıdaki şairlerden hangisi "Beş Hececiler" topluluğundan biri değildir?

- A) Halit Fahri Ozansoy
- B) Ahmet Haşim
- C) Yusuf Ziya Ortaç
- D) Orhan Seyfi Orhon

2. "Akşam Musikisi" adlı şiir aşağıdaki şairlerden hangisine aittir?

- A) Halit Fahri Ozansoy
- B) Enis Behiç Koryürek
- C) Yahya Kemal Beyatlı
- D) Yusuf Ziya Ortaç

3. Aşağıdaki şair ve eseri eşleştirmelerinden hangisi yanlıştır?

- A) Cemal Süreyya-Aşk
- B) Turgut Uyar-Köy Öğretmenleri
- C) Ece Ayhan-Çocukların Ölüm Şarkıları
- D) İlhan Berk-Sayfa Kâğıt Kalem

4. Şiirlerini 1941'de "Garip" adlı bir kitapta toplayan şair, aşağıdakilerden hangisidir?

- A) Orhan Veli Kanık
- B) Rıfat Ilgaz
- C) Melih Cevdet Anday
- D) Cahit Irgat

5. Aşağıdakilerden hangisi, II. Dünya Savaşı yıllarında Türkiye'de yapılan milli eğitim ve kültür alanındaki atılımlardan biri değildir?

- A) Köy enstitülerinin açılması
- B) Gelenekçi edebiyatın getirdiği sınırlılıkların devam etmesi
- C) Tercüme bürosunun kurulması
- D) Türk ve İslam Ansiklopedilerinin yayımına başlanması

6. Hecenin Beş Şairi 'nden biri olup, Anadolu edebiyatının en öne çıkan adıdır. İleri gazetesi adına 1922'de gittiği Ankara'da kalarak Kurtuluş hareketine katılmıştır. Milli ve yerli sanat anlayışına göre kaleme aldığı "Han Duvarları" adlı şiiri vardır.

Yukarıda sözü edilen şair aşağıdakilerden hangisidir?

- A) Mehmet Emin Yurdakul
- B) Yahya Kemal Beyatlı
- C) Mehmet Âkif Ersoy
- D) Faruk Nafiz Çamlıbel

7. İçeride dönük, maneviyatçı, bireyci şiirin başarılı örneklerini veren şair, aşağıdakilerden hangisidir?

- A) Necip Fazıl Kısakürek
- B) Faruk Nafiz Çamlıbel
- C) Yusuf Ziya Ortaç
- D) Ahmet Muhip Dıranas

8. Şiirlerinde en çok "deniz" temasını işleyen şair aşağıdakilerden hangisidir?

- A) Cahit Sıtkı Tarancı
- B) Ahmet Hamdi Tanpınar
- C) Necip Fazıl Kısakürek
- D) Ömer Bedrettin Uşaklı

9. "Otuz Beş Yaş" adlı şiir aşağıdaki şairlerden hangisine aittir?

- A) Cahit Sıtkı Tarancı
- B) Ahmet Hamdi Tanpınar
- C) Ömer Bedrettin Uşaklı
- D) Ahmet Muhip Dıranas

10. Aşağıdakilerden hangisi gezi yazılarının özelliklerinden biri değildir?

- A) Güçlü bir gözleme dayanması
- B) Yalın bir dil kullanılması
- C) Gezip görülen yerlerdeki bütün olayların ayrıntılı anlatılması
- D) Anlatımda hikâye planına uygunluk gözetilmesi

11. "Hatıralar" adlı anı kitabında Atatürk'ü anlatan yazar, aşağıdakilerden hangisidir?

- A) Ahmet İhsan Tokgöz
- B) Halit Ziya Uşaklıgil
- C) Ruşen Eşref Ünaydın
- D) Ahmet Rasim

12. Aşağıdakilerden hangisi makale türlerinden biri değildir?

- A) Askeri makale
- B) Başmakale
- C) Siyasal makale
- D) Edebi makale

13. "Kırk Yıl" adlı anı kitabı aşağıdaki yazarlardan hangisine aittir?

- A) Yahya Kemal Beyatlı
- B) Hüseyin Cahit Yalçın
- C) Halit Ziya Uşaklıgil
- D) Ahmet Rasim

14. Dilin sade yazılması gerektiği hareketi 1911'de hangi dergide başlamıştır?

- A) Genç Kalemler
- B) Kadro
- C) Ülkü
- D) Varlık

15. Yazarın herhangi bir konu üzerinde kesin hükümlere varmadan, kendi kişisel görüş ve düşüncelerini anlattığı yazı türüne ne ad verilir?

- A) Fıkra
- B) Röportaj
- C) Makale
- D) Deneme

16. Aşağıdakilerden hangisi, Reşat Nuri Güntekin'in gezi kitabının adıdır?

- A) Yeşil Gece
- B) Yaprak Dökümü
- C) Dudaktan Kalbe
- D) Anadolu Notları

17. "Seyir Defteri" adlı gezi kitabı aşağıdaki yazarlardan hangisine aittir?

- A) Nedim Gürsel
- B) Yaşar Kemal
- C) Falih Rıfkı Atay
- D) Özcan Yurdakul

18. Gezi edebiyatının ilk klasik örneğini veren seyyah aşağıdakilerden hangisidir?

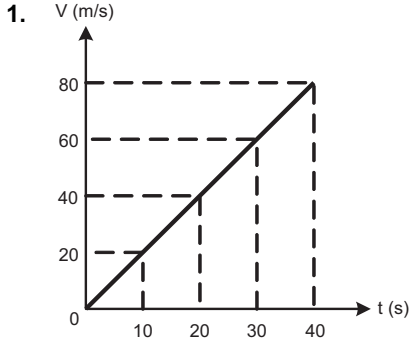
- A) Stendhal
- B) Marco Polo
- C) Victor Hugo
- D) Dostoyevski

19. Aşağıdakilerden hangisi, fıkra türünün özelliklerinden biri değildir?

- A) Daha çok güncel konuların ele alınması
- B) Amacının okuyucunun dikkatini çekmek onu düşünmeye yöneltmek olması
- C) Bilimsel olması
- D) Kısa yazılması

20. Deneme türünün öncüsü kabul edilen Fransız yazar, aşağıdakilerden hangisidir?

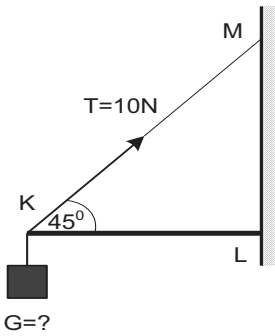
- A) Jean Paul Sartre
- B) Andre Malraux
- C) Simone de Beauver
- D) Montaigne



Yukarıdaki şekilde hız-zaman grafiği verilen bir hareketlinin ivmesi kaç m/s^2 dir?

- A) 1
- B) 1,5
- C) 1,8
- D) 2

2. Aşağıdaki şekilde ağırlığı önemsiz KL çubuğu KM ipi ile dengede durmaktadır.



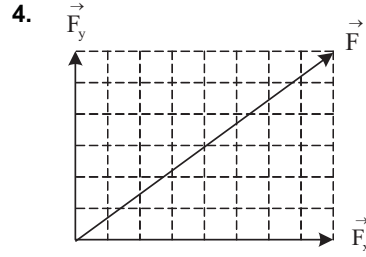
Bu bilgilere göre, ipteki gerilme kuvveti 10 N ise G ağırlığı kaç N dur? (Sin 45° =Cos 45° =0,7)

- A) 5
- B) 7
- C) 8
- D) 10

3. Aralarındaki uzaklık 100 m olan iki kişi birbirine doğru 6 m/s ve 4 m/s sabit hızlarla koşmaktadırlar.

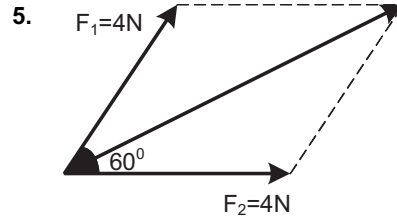
Buna göre, karşılaştıkları anda 6 m/s ile koşan kaç metre yol almış olur?

- A) 80
- B) 70
- C) 65
- D) 60



Yukarıdaki şekilde $F_x=8$ birim ve $F_y=6$ olduğuna göre, F bileşke vektörünün değeri kaç birimdir?

- A) 10
- B) 15
- C) 20
- D) 25



Yukarıdaki şekilde aralarında 60° lik açı bulunan kuvvetlerin bileşkesi kaç N dur? (Cos 60° =0,5)

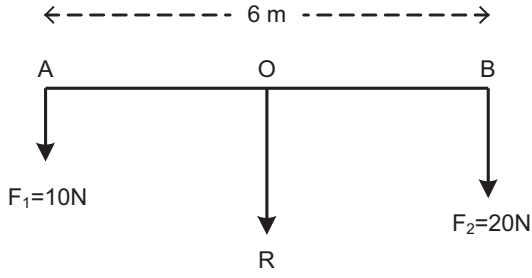
- A) $\sqrt{3}$
- B) $2\sqrt{3}$
- C) $3\sqrt{3}$
- D) $4\sqrt{3}$

6. Bir otomobil yaklaşık 200 km olan Eskişehir-Ankara yolunu 2 saatte almaktadır.

Buna göre, otomobilin ortalama hızı kaç km/h dir?

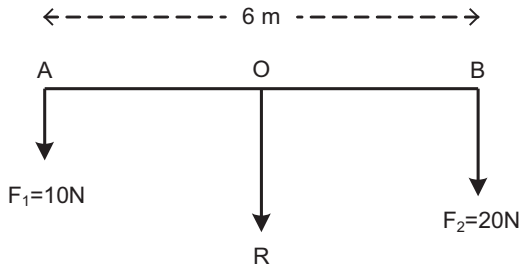
- A) 90
- B) 100
- C) 110
- D) 120

7. Aşağıdaki şekilde uzunluğu 6 m ve ağırlığı önemsiz homojen çubuk dengede durmaktadır.



Bu bilgilere göre, çubuğun uçlarını etkileyen F_1 ve F_2 kuvvetlerinin bileşkesinin değeri kaç N dur?

- A) 20
B) 25
C) 30
D) 35
8. Aşağıdaki şekilde uzunluğu 6 m ve ağırlığı önemsiz homojen çubuk dengede durmaktadır.



Bu bilgilere göre uygulama noktası (O), B noktasına kaç metre uzaktadır?

- A) 2
B) 3
C) 4
D) 5
9. I. Statik
II. Enerjik
III. Dinamik
IV. Kinematik

Yukarıdakilerden hangileri mekaniğin kısımlarındandır?

- A) I ve III
B) II ve IV
C) I, II ve III
D) I, III ve IV

10. 72 km/h kaç m/s dir?

- A) 15
B) 20
C) 25
D) 30

11. Aralarındaki uzaklık 72 m olan iki kişi birbirine doğru 7 m/s ve 5 m/s sabit hızlarla koşmaktadırlar.

Buna göre, kaç saniye sonra karşılaşırlar?

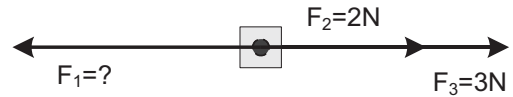
- A) 6
B) 8
C) 10
D) 12

12. Bir uçak 53° lik açı ile kuzey-doğu yönünde 2.000 km yol almıştır.

Buna göre, doğu yönündeki yer değiştirmesi kaç km dir? ($\cos 53^\circ = 0,6$)

- A) 600
B) 800
C) 1.000
D) 1.200

- 13.



Yukarıdaki şekildeki cisim \vec{F}_1 , \vec{F}_2 ve \vec{F}_3 kuvvetlerinin etkisinde dengede olduğuna göre \vec{F}_1 kaç N dur?

- A) 1
B) 3
C) 5
D) 7

14. Yerin cisme uyguladığı çekim kuvvetine ne ad verilir?

- A) Ağırlık
B) Kütle
C) Hacim
D) İvme

15. İlk hızı 4 m/s olan bir hareketli 2 m/s² lik ivme ile hızlanmıştır.

Buna göre, 4 saniye sonra yer değiştirmesi kaç metredir?

- A) 24
B) 32
C) 36
D) 48

16. Bir yüzücü akıntı hızı 1 km/h olan bir nehirde akıntıya doğru saatte 3 km/h sabit hızla yüzmektedir. Kıyıda sabit duran bir kişiye göre yüzücünün hızı kaç km/h dir?

- A) 1
B) 1,5
C) 2
D) 3

17. Kuvvetin döndürme etkisinin ölçüsüne ne ad verilir?

- A) Moment
B) Sürtünme
C) İvme
D) Hız

18. İlk hızı 6 m/s olan bir hareketli 2 m/s² lik ivme ile hızlanmıştır.

Buna göre, hareketlinin 4 saniye sonraki hızı kaç m/s dir?

- A) 10
B) 12
C) 14
D) 16

19. Cisimlerin şekilleri ve hareketleri üzerinde değişiklik yaratan etkiye ne ad verilir?

- A) Sürtünme
B) Kuvvet
C) İvme
D) Moment

20. Bir uçak 53° lik açı ile kuzey-doğu yönünde 1.000 km yol almıştır.

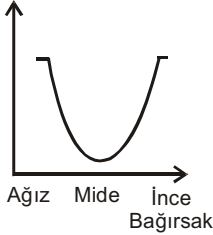
Buna göre, kuzey yönündeki yer değiştirmesi kaç km dir? (Sin53°=0,8)

- A) 600
B) 700
C) 800
D) 900

1. Sağlıklı bir insanın kas hücresi ile kemik hücresi karşılaştırıldığında, aşağıdakilerden hangisinin her ikisinde de eşit miktarda bulunması beklenir?

A) Protein
B) Karbonhidrat
C) Çekirdek DNA'sı
D) Yağ

2. Tepkime Hızı



Sağlıklı bir kişinin sindirim kanalının değişik bölgelerinde karbonhidrat sindirimi ile ilgili tepkime hızının değişimi grafikteki gibidir.

Tepkime hızındaki değişimde etkili olan etken aşağıdakilerden hangisidir?

A) Sıcaklık
B) Ortamın pH'ı
C) Su miktarı
D) Enzim miktarı

3. Aşağıdakilerden hangisi protein sentezinde görev yapan DNA anlamlı dizisinin baz sırası olamaz?

A) AUCCGTUAG
B) TGCTTACGA
C) GCCAATTCG
D) AGCTGCCAT

4. Aşağıdakilerden hangisi İnsan Genom Projesiyle ulaşılabilecek sonuçlardan biridir?

A) Çevre sorunlarının çözülmesi
B) Biyolojik çeşitliliğin artırılması
C) Bazı kalıtsal hastalıkların çözüme ulaşması
D) Bitki ve hayvan çeşitliliğinin artırılması

5. Yağlardan diğer organik bileşiklere oranla daha fazla enerji kazanılmasının nedeni aşağıdakilerden hangisidir?

A) Yıkımlarının kolay olması
B) Yapısında fosfat grubu bulundurması
C) Yapısında asidik grubun bulunması
D) Yapısında karbon sayısının çok olması

6. Aşağıdakilerden hangisi suyun yeryüzünü canlıların yaşaması için uygun bir ortam haline getirmesinde etkili değildir?

A) Yapısında hidrojen ve oksijen olması
B) İyi bir çözücü olması
C) Sıcaklığı kararlı tutabilmesi
D) Donduğu zaman genişlemesi

7. Aşağıdaki organik bileşiklerin eşit miktarları yakıldığında, en fazla kalori aşağıdakilerden hangisi ile sağlanır?

A) Glikoz
B) Yağ
C) Nişasta
D) Protein

8. Hayvan hücrelerinde bulunmayan, ancak bitki hücrelerinde yapıtaşı olarak kullanılan organik bileşik aşağıdakilerden hangisidir?

A) Protein
B) Glikoz
C) Selüloz
D) Aminoasit

9. Vücuda yeterli miktarda A vitamini alınmadığında, aşağıdaki hastalıklardan hangisi görülür?

A) Gece körlüğü
B) İskorbüt
C) Raşitizm
D) Osteomalazi

10. Saf su içerisinde tutulan bir akyuvar hücresinin zarının, dışa doğru genişleyerek hücre hacmini artırması hücre zarının, aşağıdaki özelliklerinden hangisiyle ilgilidir?

A) Gözenekli olması
B) Protein-yağ bileşiminde olması
C) İnce olması
D) Esnek olması

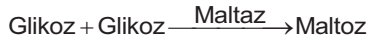
11. Aşağıdaki hücrel organellerden hangisi, virüsler dışındaki bütün canlı hücrelerin sitoplazmasında bulunur?

- A) Çekirdek
- B) Ribozom
- C) Mitokondri
- D) Sentrozom

12. Enzimlerin biyokimyasal tepkimelerdeki etkisi aşağıdakilerden hangisidir?

- A) Tepkimenin ısısını arttırmak
- B) Tepkimenin yönünü değiştirmek
- C) Tepkimede oluşan bütün maddeleri parçalamak
- D) Tepkimenin hızını arttırmak

13. Bir bitki hücresinde gerçekleşen biyokimyasal reaksiyonlardan biri aşağıdaki gibidir;



Bu reaksiyonun hızını aşağıdaki faktörlerden hangisi etkilemez?

- A) Hücrenin iç yüzeyi
- B) Ortamın sıcaklığı
- C) Ortamın pH durumu
- D) Maltaz miktarı

14. Fosfat + Şeker + ? = Nükleotit
Yukarıda verilen diyagramda “?” ile gösterilen yere aşağıdakilerden hangisi getirilmelidir?

- A) Riboz
- B) DNA
- C) Gen
- D) Organik baz

15. Çiçekli bir bitkinin hücrelerinde aşağıdaki organellerden hangisi bulunmaz?

- A) Sentrozom
- B) Kloroplast
- C) Ribozom
- D) Mitokondri

16. Aşağıdakilerden hangisi K ve D vitaminlerinin ortak özelliklerinden değildir?

- A) Yağda çözünebilirler.
- B) Sindirilmeden kana geçebilirler.
- C) Kanın pıhtılaşmasında görev alırlar.
- D) Vücutta düzenleyici olarak görev yaparlar.

17. Enzim sentezinin fazla olduğu hücrelerde, aşağıdaki sیتoplazmik organellerden hangisinin sayıca çok olması beklenir?

- A) Mitokondri
- B) Ribozom
- C) Lizozom
- D) Kloroplast

18. Aşağıdakilerden hangisi ökaryot hücreleri prokaryot hücrelerden ayıran temel özelliktir?

- A) Ribozom taşımaları
- B) Çekirdeklerinin bir zar ile sitoplazmadan ayrılması
- C) Oksijenli solunum yapımları
- D) Işık enerjisini kimyasal enerjiye çevirebilmeleri

19. Yeşil bitkiler fotosentez de gerekli ATP'leri oluşturmak için aşağıdaki enerji çeşitlerinden hangisini kullanmak zorundadırlar?

- A) Kimyasal bağ enerjisi
- B) Aktivasyon enerjisi
- C) Kinetik enerji
- D) Işık enerjisi

20. Aşağıdakilerden hangisinin yapısında steroid türü yağ molekülleri bulunmaktadırlar?

- A) Nükleik asitler
- B) Bazı enzimler
- C) Bazı hormonlar
- D) Bazı antikorlar

1. Yağ dokusu ile ilgili aşağıdaki ifadelerden hangisi **yanlıştır**?

- A) Vücudu çarpma ve vurmalarından korur.
- B) Vücut sıcaklığının sabit kalmasını sağlar.
- C) Hücrelerinde yağ depolamak üzere özelleşmiştir.
- D) Vücuda desteklik verir.

2. I. Temel doku
II. Koruyucu doku
III. Destek doku
IV. Salgı doku

Yukarıdakilerden hangileri bölünmez dokudur?

- A) Yalnız II
- B) I ve III
- C) II, III ve IV
- D) I, II, III ve IV

3. I. Bazı hormonlar steroit yapısındadır.
II. Hormonların salgılanması sinir sistemi tarafından kontrol edilir.
III. Hormonal tepki yavaş olmasına rağmen uzun sürelidir.

Endokrin bezlerin salgıladıkları hormonlar ile ilgili yukarıdaki ifadelerden hangileri doğrudur?

- A) Yalnız I
- B) Yalnız II
- C) I ve III
- D) I, II ve III

4. Aşağıdakilerden hangisi insanda endokrin bezlerden biri **değildir**?

- A) Tükürük
- B) Böbrek üstü
- C) Paratiroid
- D) Hipofiz

5. Aşağıdaki bitkisel dokulardan hangisini oluşturan hücrelerin sitoplazmalarındaki kloroplast miktarının diğerlerinden daha fazla olması beklenir?

- A) Özümlenme dokusu
- B) Meristem doku
- C) Destek doku
- D) Koruyucu doku

6. I. A
II. B
III. AB
IV. O

Yukarıdakilerin hangisinde alyuvarlarda antijen yoktur?

- A) Yalnız I
- B) Yalnız IV
- C) II ve III
- D) III ve IV

7. Organizmada belirli görevleri yapan özelleşmiş hücre topluluklarına ne ad verilir?

- A) Lenfosit
- B) Talamus
- C) Doku
- D) Fotonasti

8. Aşağıdaki hayvansal dokulardan hangisini oluşturan hücreler şekil ve yapı bakımından diğerlerinden **daha fazla** özelleşmiştir?

- A) Kemik doku
- B) Sinir doku
- C) Kas doku
- D) Epitel doku

9. Canlılarda uyarılara karşı verilen ani tepkilere ne ad verilir?

- A) İmpuls
- B) Refleks
- C) Motivasyon
- D) Sinaps

10. Gözdeki ağ tabaka ile ilgili aşağıdaki ifadelerden hangisi **yanlıştır**?

- A) Işığa duyarlı almaçlar ve sinirler bulunur.
- B) Çubuk hücreleri az ışıkta görmeyi sağlar.
- C) Göz küresinin en dıştaki tabakasıdır.
- D) Işık almaçları çubuk ve koni hücreleridir.

11. Erişkin bir insanda ortalama beyin ağırlığı kaç gramdır?

- A) 1300-1500
- B) 900-1200
- C) 600-800
- D) 300-500

12. İris aşağıdaki organların hangisinde bulunur?

- A) Kulakta
- B) Gözde
- C) Burunda
- D) Deride

13. İnsanlarda sırt omuru kaç adettir?

- A) 12
- B) 7
- C) 5
- D) 4

14. Aşağıdakilerden hangisi uzun kemiktir?

- A) Kürek kemiği
- B) Leğen kemiği
- C) Kaval kemiği
- D) Kafatası kemiği

15. Aşağıdaki bitkilerin hangisinde fotonasti görülür?

- A) Kaktüs
- B) Küstümotu
- C) Lale
- D) Akşam sefası

16. I. Aktin
II. Miyozin
III. Sarkomer
IV. H bölgesi

Yukarıdakilerden hangileri iskelet kasının yapısında bulunur?

- A) Yalnız I
- B) Yalnız II
- C) III ve IV
- D) I, II, III ve IV

17. Tripsinojenin tripsine dönüşmesini sağlayan enzim aşağıdakilerden hangisidir?

- A) Kimotripsin
- B) Pepsin
- C) Enterokinaz
- D) Lipaz

18. Proteinlerin sindirimi nerede sonlanır?

- A) İncebağırsakta
- B) Yutakta
- C) Ağızda
- D) Kalınbağırsakta

19. Aşağıdakilerden hangisi hücre dışı sindirim yapar?

- A) Amip
- B) Toprak solucanı
- C) Tripanozoma
- D) Öglena

20. Aşağıdaki enzimlerden hangisi pankreastan salgılanmaz?

- A) Lipaz
- B) Tripsinojen
- C) Pepsinojen
- D) Kimotripsinojen

1. G. Mendel çalışmalarında aşağıdaki bitkilerden hangisini kullanmıştır?
A) Bezelye
B) Nohut
C) Fasulye
D) Mercimek
2. AaBBccDd genotipindeki bireyin oluşturabileceği gamet sayısı kaçtır? (Genler Bağımsız)
A) 8
B) 6
C) 4
D) 2
3. Aşağıdakilerden hangisi DNA'nın hayvan hücrelerine aktarılmasında kullanılan yöntemlerden biri değildir?
A) Elektroporasyon yöntemi
B) Biyolastik yöntemi
C) Enjeksiyon yöntemi
D) Mikroenjeksiyon yöntemi
4. Bir insan popülasyonunda B kan grubu frekansı 0,3 A kan grubu frekansı 0,6 olduğuna göre bu popülasyonda BO kan grubunun frekansı nedir? (A:p, B:q, O:r)
A) 0,08
B) 0,06
C) 0,04
D) 0,02
5. Aşağıdakilerden hangisi gen klonlaması sırasında kullanılan enzimlerden biri değildir?
A) Restriksiyon endonükleaz
B) Ligaz
C) Lipaz
D) DNA polimeraz
6. Aşağıdakilerden hangisi bir popülasyonda gen frekansının değişmesinde rol oynamaz?
A) Göç
B) Mutasyon
C) Modifikasyon
D) İzolasyon
7. İlk defa matematiği genetiğe uygulayan bilim insanları aşağıdakilerden hangisinde doğru olarak verilmiştir?
A) Mendel-Hardy
B) Weinberg-Meister
C) Hardy-Weinberg
D) Meister-Mendel
8. Alyuvarlarının yüzeyinde antijen bulunmayan kan grubu aşağıdakilerden hangisidir?
A) 0 (Sıfır)
B) A
C) B
D) AB
9. Vücut hücrelerini kontrol eden kromozomlara ne ad verilir?
A) Gonozom
B) Riboz
C) Oogenez
D) Otozom
10. Aşağıdakilerden hangisi popülasyon genetiğinin araştırdığı konulardan biri değildir?
A) Canlı hayatını etkileyen hemofili hastalığı
B) Toplumun demografik yapısı
C) Kalıtsal hastalıkların popülasyonda görülme sıklığı
D) Bitki ve hayvanlar üzerinde yapılan ıslah çalışmaları
11. Sıfır kan grubunda bir kadınla homozigot B kan grubundan bir erkeğin doğacak çocuklarının kan plazmasında A antikoruna bulunma olasılığı yüzde kaçtır?
A) 100
B) 90
C) 80
D) 70
12. Aşağıdakilerden hangisi eşey kromozomlarından ayrılmama sonucu oluşan hastalıklardan biri değildir?
A) Süper dişi
B) Klinefelter
C) Turner
D) Daltonizm

13. Bir türde bir karakter üzerine A1 A2 A3 A4 A5 olmak üzere beş alel gen etki etmektedir. Buna göre bu karakter yönünden kaç çeşit genotip oluşabilir?

- A) 6
- B) 9
- C) 12
- D) 15

14. Canlıya ait bütün genetik bilgileri depolayıp nesilden nesile aktarılmasını sağlayan molekül aşağıdakilerden hangisidir?

- A) RNA
- B) Heterozis
- C) DNA
- D) Spina

15. Göz rengi için bir kahverengi, bir mavi göz aleli içeren bireyin genotip ifadesi aşağıdakilerden hangisi olabilir?

- A) Homozigot mavi
- B) Heterozigot kahverengi
- C) Heterozigot mavi
- D) Homozigot kahverengi

16. 800.000 kişilik bir popülasyonda 2.000 kişi çekinik karakteri fenotipte gösteriyorsa bu popülasyonda çekinik gen frekansı nedir? (q: çekinik gen frekansı, p: baskın gen frekansı)

- A) 0,5
- B) 0,6
- C) 0,7
- D) 0,8

17. Homozigot sarı tohumlu bir bezelye ile homozigot yeşil tohumlu bir bezelye çaprazlandığında F1 dölünde heterozigot (Ss) tohumların oluşma olasılığı yüzde kaçtır? (Sarı tohum: S, Yeşil tohum: s)

- A) 70
- B) 80
- C) 90
- D) 100

18. Genlerin etkisiyle bireyde ortaya çıkan dış görünüş aşağıdakilerden hangisidir?

- A) Genotip
- B) Fenotip
- C) Alel gen
- D) Dihibrit

19. Bugünkü biyoteknolojinin temelini oluşturan bilim dalı aşağıdakilerden hangisidir?

- A) Kimya mühendisliği
- B) Genetik mühendisliği
- C) Bilgisayar mühendisliği
- D) Fizik mühendisliği

20. Suçiçeği hastalığına karşı aşılama tekniğini tarihte ilk defa uygulayan toplumlardan biri aşağıdakilerden hangisidir?

- A) Fransızlar
- B) Almanlar
- C) İtalyanlar
- D) Türkler

1. Aşağıdakilerden hangisi geçerli akıl yürütmeyi ifade eder?

- A) Akıl yürütmenin sonucu ile verilen öncüllerin çelişmesidir.
- B) Akıl yürütmenin sonucunun, verilen öncüllerden zorunlu olarak çıkmasıdır.
- C) Akıl yürütmenin sonucu ile verilen öncüllerin değillemelerinin bir arada tutarlı olmalarıdır.
- D) Hem öncüllerin hem de sonucun doğru önermeler olmalarıdır.

2. Aşağıdakilerden hangisi "olumlu-olumsuz" kavram çiftine bir örnektir?

- A) Kredili-Kredisiz
- B) Zengin-Çalışkan
- C) Koyu-Açık
- D) Kaprisli-İnatçı

3. Özelden genele yapılan akıl yürütme biçimine ne ad verilir?

- A) Tümdengelim
- B) Benzeşim
- C) Tümevarım
- D) Analoji

4. "Aynı niteliğin, aynı zamanda, aynı özneye, aynı bakımdan hem ait olması, hem de olmaması imkânsızdır."

Aristoteles'in yukarıdaki sözü mantık ilkelerinden hangisini ifade eder?

- A) Çelişmezlik
- B) Özdeşlik
- C) Üçüncü halin olanaksızlığı
- D) Belirsizlik

5. Aşağıdaki akıl yürütmelerden hangisi tümdengelim bir örnektir?

- A) Demir ısıtılınca genişler. Bakır ısıtılınca genişler. O halde madenler ısıtılınca genişler.
- B) Bütün kitapların sayfaları vardır. "Sessiz Ev" bir kitaptır. O halde "Sessiz Ev"nin sayfaları vardır.
- C) Maymunların ve yunusların gülme yetileri vardır. Maymunların aynı zamanda konuşma yetileri vardır. O halde yunusların da konuşma yetileri vardır.
- D) Türkiye'de iklimler değişiyor. Japonya'da iklimler değişiyor. İngiltere'de iklimler değişiyor. Amerika'da iklimler değişiyor. O halde dünyada iklimler değişiyor.

6. Aşağıdakilerden hangisi mantık ilkelerinden biri değildir?

- A) Yeter neden
- B) Özdeşlik
- C) Benzeşim
- D) Çelişmezlik

7. Aşağıdakilerden hangisi mantık ile ilgili yanlış bir ifadedir?

- A) Mantık, tüm bilimlerin temelinde yer almak zorundadır.
- B) Mantıklı düşünmek, doğru akıl yürütmek anlamına gelir.
- C) Mantık, düşüncelerin gerçekte olup olmadıklarını denetler.
- D) Mantık, doğru düşünmenin kurallarını araştırır.

8. Aşağıdakilerden hangisi zorunlu (apodiktik) bir önermedir?

- A) Balıklar memeli hayvanlardır.
- B) Üçgenin iç açıları toplamı 180 derecedir.
- C) Bazı insanlar güzel yüzlüdür.
- D) "pi" sayısının (3, 14...) virgülden sonraki 665. rakamı "3"tür.

9. Aşağıdaki önermelerden hangisi "Her insan yazardır." önermesi ile eşdeğerdir?

- A) Her yazar insandır.
- B) Her yazar olmayan insan olmayandır.
- C) Hiçbir insan olmayan yazar değildir.
- D) Her insan yazar olmayandır.

10. Aşağıdakilerden hangisinde, sırasıyla "beyaz" ve "beyazlık" kavramlarının çeşitleri verilmiştir?

- A) Genel kavram - Tekil kavram
- B) Tekil kavram - Soyut kavram
- C) Somut kavram - Soyut kavram
- D) Açık kavram - Genel kavram

11. Aşağıdaki önermelerden hangisi özdeşlik ilkesine bir örnek değildir?

- A) İnsan insandır.
- B) Bitkiler ya canlıdır ya da canlı değildir.
- C) Her şey güzel ise her şey güzeldir.
- D) Eğer beş kere beş yirmibeş ediyorsa beş kere beş yirmibeş ediyordur.

12. Aşağıdaki kavram çiftlerinden hangisinde, sırasıyla kolektif kavram ile distribütif kavram verilmiştir?

- A) İnsan-Hayvan
- B) Ali-Bazı insanlar
- C) Milletvekili-Meclis
- D) Aile-Çocuk

13. “Hiçbir cimri dost değildir.” önermesinin düz döndürmesi aşağıdakilerden hangisidir?

- A) Bazı cimriler dosttur.
- B) Tüm dostlar cimridir.
- C) Hiçbir cimri olmayan dost olmayandır.
- D) Hiçbir dost cimri değildir.

14. “Düşünüyorum öyleyse varım.” kıyası aşağıdakilerden hangisine bir örnektir.

- A) Entimem
- B) Zincirleme kıyas
- C) Basit kıyas
- D) İkilem

15. Aşağıdaki kıyaslardan hangisi bir ikilem örneğidir?

- A) Ya bu deveyi güdeceksin ya da bu diyardan gideceksin; bu deveyi gütmeyeceksin; o halde bu diyardan gideceksin.
- B) Dans etmek faydalıdır, çünkü ter atarsın.
- C) Evren ya sonludur ya da sonsuzdur; evren sonlu değildir; o halde evren sonsuzdur.
- D) Eğer sen bir öğretmensen, ne korkak ne de sertsindir; ama sen hem korkaksın hem de sert; o halde sen iyi bir öğretmen değilsin.

16. Aşağıdakilerden hangisi bir önerme değildir?

- A) Gidelim artık buralardan.
- B) İnsanlar mutsuzdur.
- C) Karpuzun rengi sarıdır.
- D) Politikacı olmak için etkili konuşmayı bilmek gerekir.

17. Aşağıdaki kavram çiftlerinden hangisi çelişik kavramlara bir örnektir?

- A) Hisli - Duygusuz
- B) Kalabalık - Tenha
- C) Açık - Kapalı
- D) Katı - Katı olmayan

18. “Hiçbir insan sağlıklı değildir.” önermesinin altık önermesi aşağıdakilerden hangisidir?

- A) Tüm insanlar sağlıklıdır.
- B) Bazı sağlıklı olmayanlar insandır.
- C) Hiçbir insan olmayan sağlıklı değildir.
- D) Bazı insanlar sağlıklı değildir.

19. Önerme ile ilgili aşağıdaki ifadelerden hangisi yanlıştır?

- A) “Her hakem adildir.” önermesinin ters döndürmesi “Her adil olmayan hakemdir.” önermesidir.
- B) Tikel olumlu bir önermenin ters döndürmesi yoktur.
- C) Tikel olumsuz bir önermenin düz döndürmesi yoktur.
- D) “Bazı bitkiler kokusuzdur.” önermesinin düz döndürmesi “Bazı kokusuzlar bitkidir.” önermesidir.

20. Karşıolum Karesine göre “Bazı bitkiler kırmızıdır.” önermesinin çelişigi olan önerme aşağıdakilerden hangisidir?

- A) Bazı bitki olmayanlar kırmızıdır.
- B) Bütün bitkiler kırmızıdır.
- C) Hiçbir bitki kırmızı değildir.
- D) Bazı bitkiler kırmızı değildir.

1. Sürücü belgesinin verilmesinde aranan sağlık şartlarıyla ilgili aşağıdaki ifadelerden hangisi doğrudur?
 - A) Ağır diyabet hastalarına sürücü belgesi verilebilir.
 - B) İki ayağı felçli, diğer vücut fonksiyonları normal olan şahıslara hiçbir şekilde ehliyet verilmez.
 - C) Günlük hayatı kısıtlayan denge problemi bulunanlara sürücü belgesi verilmez.
 - D) Epilepsi hastalarına sürücü belgesi verilir.
2. Sürücü Belgesi aşağıdaki kuruluşlardan hangisi tarafından verilir?
 - A) Emniyet Genel Müdürlüğü'nün ilgili birimleri
 - B) Milli Eğitim Bakanlığı
 - C) Karayolları Genel Müdürlüğü
 - D) Belediye
3. C, D ve E sınıfı sürücü belgesi alacakların kaç yaşını bitirmiş olmaları gerekmektedir?
 - A) 22
 - B) 24
 - C) 26
 - D) 28
4. Aşağıdakilerden hangisi sürücü kursuna katılan adaylara yapılan teorik sınav kapsamında değildir?
 - A) Trafik ve çevre bilgisi
 - B) İlk yardım
 - C) Genel kültür
 - D) Araç tekniği bilgisi
5. Sürücü olma şartlarına sahip kişilerden, sürücü kurslarına katıldıktan sonra yapılan sınavda başarılı olanlara aşağıdakilerden hangisi verilmektedir?
 - A) Motorlu Taşıtlı Sürücü Sertifikası
 - B) Sürücü Belgesi
 - C) Tescil Belgesi
 - D) Yeterlilik Belgesi
6. Aşağıda belirtilen sağlık sorunlarından hangisine sahip kişiler sürücü belgesi almada sınırlandırılmamıştır?
 - A) Gece Körlüğü
 - B) Monoküler rahatsızlık
 - C) İşitme kaybı
 - D) Renk Körlüğü
7. Aşağıdakilerden hangisi sürücüye ait kusurlardan biridir?
 - A) Yola birden çıkmak
 - B) Lastik patlaması
 - C) Arkadan çarpma
 - D) Şaft kırılması
8. Aşağıdakilerden hangisi yolcuya ait kaza sebeplerinden biri değildir?
 - A) Taşıtın dışında seyahat
 - B) Habersiz inmek binmek
 - C) Taşıt içinde gayri nizami hareket
 - D) Yola birden çıkmak
9. Kusurlu olan ve kural ihlali yapanlara verilecek olan ceza aşağıdakilerden hangisine göre düzenlenir?
 - A) Türk Ceza Kanunu
 - B) Karayolları Trafik Kanunu
 - C) Karayolları Trafik Yönetmeliği
 - D) Taşıma araçları Kanunu
10. Aşağıdakilerden hangisi trafik kazalarına karışanların ve olayı gören diğer şahısların yükümlülüklerinden biri değildir?
 - A) Yeni kazaların oluşmaması için önlem alma
 - B) İlk yardımda bulunma
 - C) Olay yerinden hemen uzaklaşma
 - D) Yetkililere haber verme
11. Aşağıdakilerden hangisi yayaya ait kaza sebeplerinden biridir?
 - A) Araçlara ilk geçiş hakkını vermemek
 - B) Taşıttan yere atlamak
 - C) Açık yük üzerinde seyir
 - D) Taşıttan sarkmak

12. Aşağıdakilerden hangisi trafik kazalarının en önemli nedenidir?

- A) Yola ait kusurlar
- B) Araçlara ait kusurlar
- C) İnsanların kurallara uymaması
- D) Yolculara ait kusurlar

13. Aşağıdakilerden hangisi yola ait kaza sebeplerinden biridir?

- A) Lastik patlaması
- B) Tekerlek izine oturma
- C) Kusurlu fren
- D) Şanzıman-vites arızası

14. Aşağıdakilerden hangisi araçlarda bulundurulması zorunlu ilk yardım malzemeleri arasında yer almaz?

- A) El feneri
- B) Pamuk
- C) Büyük sargı bezi
- D) Çengelli iğne

15. İlk yardım esnasında kan kaybını durdurmak için aşağıdakilerden hangisi yapılmalıdır?

- A) Yaraya batmış yabancı cisimler varsa bunlar çıkarılmalıdır.
- B) Yaralanan bölge temizlenerek sargı bezi ile sarılmalıdır.
- C) Kanayan bölgeye kan taşıyan ana damarlara kesinlikle baskı uygulanmamalıdır.
- D) Yaralı bölge mümkünse kalp seviyesinin altında tutulmalıdır.

16. Kalp masajı ile ilgili aşağıdaki ifadelerden hangisi doğrudur?

- A) Dış göğüs masajı çalışan kalbe uygulanır.
- B) Kalp tam olarak durmadan göğüs masajına başlanmalıdır.
- C) Hasta yumuşak bir zemin üzerine yatırılır.
- D) Kalp masajı daima suni solunumdan önce yapılmalıdır.

17. Aşağıdakilerden hangisi zehirlenme belirtilerinden biri değildir?

- A) Baş ağrısı
- B) Terleme
- C) Mide bulantısı, ishal ve kusma
- D) Solunum sisteminin işlevlerinin hızlanması

18. İl yardımın genel kuralları ile ilgili aşağıdaki ifadelerden hangisi doğrudur?

- A) Kazazedeler ile konuşulmamalıdır.
- B) Kaza yerinde sağlık personeli varsa onun talimatlarına uyulmalıdır.
- C) Trafik kazası ortamında sigara içilebilir.
- D) Kişi ilk yardım metotlarını bilmiyorsa bile yaralılara müdahale etmelidir.

19. Aşağıdakilerden hangisi kazalarda kalp durmasının belirtilerinden biri değildir?

- A) Kazazedenin bilincini yitmesi
- B) Solunum durması
- C) Ciltte terlemenin görülmesi
- D) Vücutta kızarıklıkların oluşması

20. Dirsek ile el arasındaki kırıklarda ilk yardım ile ilgili aşağıdaki ifadelerden hangisi doğrudur?

- A) Kol dirsekten göğse doğru yavaşça bükülerek omuza askıya alınır.
- B) Kol dirsekten göğüs üzerine bükülür.
- C) Hasta yatar pozisyonda hastaneye sevk edilir.
- D) Kırığın her iki tarafındaki eklemlerin askı dışında kalmasına dikkat edilir.

1. Bir kişinin bir gruba karşı bir ürün, değişen şirket politikası veya eğitim programının bir yönü hakkında bilgi vermek amacıyla yaptığı konuşma ve gösterime ne ad verilir?
- A) Önerge
B) Panel
C) Tartışma
D) Sunum
2. "Herkes benim düşünceme katılırsa yanılmış olmaktan korkarım." sözü aşağıdaki yazarlardan hangisine aittir?
- A) Woodrow Wilson
B) Suut Kemal Yetkin
C) Oscar Wilde
D) Haldun Taner
3. Şeffaf bir asetat kağıt üzerine çizilmiş bir şekli görüntü olarak bir perde veya duvara yansıtın araçlara ne ad verilir?
- A) Video
B) Disket
C) Projeksiyon aletleri
D) Çok yapraklı pano
4. Aşağıdakilerden hangisi panelin planında yoktur?
- A) Konuşmacılara sorulacak sorular
B) Gelecek soruları tahmin etmek
C) Konuşmaları özetlemek
D) Panelin yapılış nedeni
5. Aşağıdakilerden hangisi tartışma kurallarından biri değildir?
- A) Kendini övmek ve başkalarını yermek
B) Tartışmayı benlik, kişisel üstünlük sorunu yapmamak
C) Toplantılarda başkanlığın uyarılarına karşı gelmemek
D) Aynı konuda üst üste söz almaya çalışmak
6. Toplantılarda sorunlara çözüm aranırken ortaya çıkan karşı görüşlerin savunulmasına ne ad verilir?
- A) Tartışma
B) Konuşma
C) Sunum
D) Açıklama
7. Aşağıdakilerden hangisi özette yer alması gerekenlerden biri değildir?
- A) Eserin bölümleri
B) Özet çıkarmanın eserle ilgili görüşleri
C) Yazar hakkında kısa bilgi
D) Eserdeki kişilerin hayatları
8. Sunum ile ilgili aşağıdaki ifadelerden hangisi yanlıştır?
- A) Hitap edilecek izleyici hakkında bilgi toplanması gerekir.
B) İyi bir sunumda sadece yazılı gereçler kullanılır.
C) Modern iş ortamının bir iletişim prensibidir.
D) Sözlü iletişimin en başta gelenlerinden biridir.
9. Öğretim alanında kullanılan en eski gereç aşağıdakilerden hangisidir?
- A) Video
B) Yazı tahtası
C) Projeksiyon aletleri
D) Çok yapraklı pano
10. Aşağıdakilerden hangisi önerge ile ilgili yanlış bir ifadedir?
- A) Ortaya atılan görüş olumlu ve olumsuz yönleriyle yeteri kadar aydınlanınca oylanır.
B) Görüşler, oy çoğunluğu ile kabul veya reddedilir.
C) Bir sorunun çözümü için üyelerin başkanlığa görüş bildirmesidir.
D) Önerge genellikle sözlü biçimde verilir.
11. Bir metnin konusu ile ilgili aşağıdaki ifadelerden hangisi yanlıştır?
- A) Üzerine söz söylenen, yazı yazılan her şey konu olabilir.
B) Konular, geniş ve dar kapsamlı olmak üzere iki ayrı görüşle ele alınır.
C) Geniş kapsamlı konulara sınırlı konular denir.
D) Atasözü, özdeyiş gibi bir düşünce; sevgi, sabır gibi bir duygu konu olabilir.

12. Bir hikâyenin bütününün veya bir parçasının kısaltılmasına ne ad verilir?

- A) Not alma
- B) Özet çıkarma
- C) Kompozisyon yazma
- D) Yazı yazma

13. Aşağıdaki cümlelerin hangisinde anlatım bozukluğu vardır?

- A) Doğru oturup, eğri konuşalım.
- B) Bahçedeki zararlı otlar yolunarak bir yere yığılmalıdır.
- C) Bu karar, 140'a karşı 380 oyla alınmıştır.
- D) Eğri oturup, doğru konuşalım.

14. Aşağıdakilerin hangisinde sözcüğün yanlış ek almasından kaynaklanan anlatım bozukluğu vardır?

- A) Gelirkene ekmek aliver.
- B) İyi oldun mu? Çok hastaydın.
- C) Filmi beğendin mi?
- D) Heyecandan ne yapacağımı şaşırdım.

15. "Not tutmak, zamanı gelecek için saklamaktır." sözü aşağıdakilerden hangisine aittir?

- A) Max Jacob
- B) Gustave Flaubert
- C) Jeann Paul Satre
- D) Andre Gide

16. Aşağıdaki cümlelerin hangisinde birinci kişi anlatımı vardır?

- A) Çocuklar, babalarını gördüler.
- B) Kız, büyükannesine yemek götürdü.
- C) Uzaklardan geldim.
- D) Yavru köpeğe süt verdiler.

17. Ana fikir ile ilgili aşağıdaki ifadelerden hangisi doğrudur?

- A) Ana fikir, bir yazının özüdür.
- B) Ana fikir, konu demektir.
- C) Bir yazının başlığı ile ana fikri arasında bir bağlantı yoktur.
- D) Her eserin, bir tane ana fikri vardır.

18. Aşağıdakilerden hangisi iyi bir yazıcı olmanın yollarından biri değildir?

- A) Konuşmaları dinlemek
- B) Özlü sözleri derlemek
- C) Anı defteri tutmak
- D) Not defteri tutmak

19. Bir metnin oluşabilmesi için aşağıdakilerden hangilerinin bulunması gerekir?

- A) Duruluk - akıcılık
- B) Doğruluk - içtenlik
- C) Tutarlılık - bağdaşıklık
- D) Özgünlük - akıcılık

20. Hiç kimseye benzemeden, öykünmeden biçim ve içerikte benzersiz olmak, anlatımın hangi özelliği ile ilgilidir?

- A) Duruluk
- B) Akıcılık
- C) Doğruluk
- D) Özgünlük

SEÇMELİ TÜRK EDEBİYATI 3

A

2013 I.DÖNEM 0106-A

1. Halk şiirinin unutulmaz ustasıdır. 17. yüzyılda Toroslar' da Türkmen aşiretleri arasında yaşamıştır. Şiirlerini dördlük nazım birimiyle, hece ölçüsüyle saz eşliğinde söylemiştir.

Yukarıda tanıtılan ünlü halk ozanı, aşağıdakilerden hangisidir?

- A) Pir Sultan Abdal
B) Aşık Veysel
C) Dadaloğlu
D) Karacaoğlan

2. Yurt dışına elçi olarak gönderilen kişilerin gördükleri yerlerle ilgili gezi, gözlem ve izlenimlerini anlattıkları eserlere ne ad verilir?

- A) Seyahatname
B) Şikâyetname
C) Selçukname
D) Sefaretname

3. Edebiyat tarihi ile ilgili aşağıdaki ifadelerden hangisi yanlıştır?

- A) Uygarlık tarihinin en önemli parçasıdır.
B) İnsanlık tarihinin başlangıçtan bugüne kadar geçirdiği duygu düşünce aşamalarını, sanat anlayışlarını bize aktarır.
C) Edebiyatın konusu içine giren eserleri ve sanatçıları alfabetik sırayla değerlendirir.
D) Edebi eserler ile onların yaratıcılarını sosyal çevresi ile birlikte inceler.

4. Türkiye'de tarih ve edebiyat tarihi incelemelerinde bilimsel yöntemleri ilk defa kullanan, Türk edebiyatı tarihçiliğinin ilk araştırmacısı ve kurucusu, aşağıdakilerden hangisidir?

- A) Ahmet Hamdi Tanpınar
B) Ağâh Sırrı Levent
C) Mehmet Fuad Köprülü
D) Nihat Sami Banarlı

5. Orhun Yazıtlarıyla ilgili aşağıdaki ifadelerden hangisi yanlıştır?

- A) Bilge Kağan ve Kül Tigin yazıtının Yollug Tigin tarafından kaleme alınmasıdır.
B) Göktürk alfabesiyle yazılmıştır.
C) 720-735 yılları arasında yazılmıştır.
D) 19.yüzyıl sonunda Danimarkalı bilim adamı Andersen tarafından okunmuştur.

6. Aşağıdakilerden hangisi edebiyat tarihçilerimizden biri değildir?

- A) Yahya Kemal Beyatlı
B) Mehmet Fuad Köprülü
C) Ahmet Hamdi Tanpınar
D) Nihat Sami Banarlı

7. 1720 yıllarında yurtdışına elçi olarak gönderilen, gördüğü yerlerle ilgili gözlem ve izlenimlerini "Fransa Sefaretnamesi" adlı eseriyle tarihi bir belge niteliğinde sunan devlet adamı kimdir?

- A) Mercimek Ahmet
B) Yirmisekiz Mehmet Çelebi
C) Sinan Paşa
D) Kâtip Çelebi

8. İşgale uğrayan bir ülke ve savaş gibi önemli bir toplumsal olayı işleyen "Ateşten Gömlek" romanının yazarı, aşağıdakilerden hangisidir?

- A) Ahmet Hamdi Tanpınar
B) Halide Edip Adıvar
C) Hüseyin Rahmi Gürpınar
D) Orhan Şaik Gökyay

9. Türk'ün öz benliğini yansıtan, yüksek bir ahlâka dayanan, kahramanlık ruhunu coşkun bir deyişle dile getiren, sevgiden gücünü alan aile bağlarını eserin tamamında sergileyen Türk ulusal kültürünün temel eseri, aşağıdakilerden hangisidir?

- A) Battal Gazi Destanı
B) Danişment Gazi Destanı
C) Göktürk Yazıtları
D) Dede Korkut Hikâyeleri

10. Aşağıdakilerden hangisi sözlü edebiyatın ürünlerinden biri değildir?

- A) Sav
B) Sagu
C) Gazel
D) Destan

11. Halk edebiyatında ölen kişinin ardından onun yiğitliklerini, iyiliklerini ve erdemlerini anlatan şiiirlere ne ad verilir?

- A) Sav
- B) Ađıt
- C) Koçaklama
- D) Güzelleme

12. Balasagun yakınlarında bir şehir kuran hükümdar Şu'nun ilginç özelliklerinin, Büyük İskender'le yaptığı savaşların anlatıldığı "Şu Destanı" kime aittir?

- A) Sakalara
- B) Araplara
- C) Kırgızlara
- D) Uygurlara

13. Aşağıdakilerden hangisi en eski Türk destanıdır?

- A) Ergenekon Destanı
- B) Bozkurt Destanı
- C) Türeyiş Destanı
- D) Yaratılış Destanı

14. Yunan edebiyatının ünlü doğal destanları "İlyada ve Odysseia"yı kaleme alan millî destan şairi aşağıdakilerden hangisidir?

- A) Sophokles
- B) Milton
- C) Homeros
- D) Ariosto

15. İçinde destan, sav, sagu, koşuk örneklerinin de bulunduğu ansiklopedik sözlük Divân-ı Lûgatî't Türk'ün yazarı kimdir?

- A) Ahmet Yesevî
- B) Edip Ahmet
- C) Kaşgarlı Mahmut
- D) Nailî Kadim

16. Uruk Kralı Gılgamış ile arkadaşı Enkidu'nun ölümsüz öyküsünün anlatıldığı "Gılgamış Destanı"ndan esinlenerek "Tanrılar ve İnsanlar" adlı oyunu kaleme alan yazar, aşağıdakilerden hangisidir?

- A) Orhan Asena
- B) Cahit Atay
- C) Melih Cevdet Anday
- D) Orhan Kemal

17. Aşağıdakilerden hangisi, İslamiyet'ten sonraki Türk destanlarından biridir?

- A) Timur Destanı
- B) Türeyiş Destanı
- C) Göç Destanı
- D) Atilla Destanı

18. "Biş ernek tüz ermes." (Beş parmak düz olmaz).

Yukarıdaki sav örneğine en uygun atasözü aşağıdakilerden hangisidir?

- A) Bir ağaçta gül de biter diken de.
- B) Cefayı çekmeyen sefayı bilemez.
- C) Hayırsız dost gereksiz post.
- D) Ağaç yaşken eğilir.

19. Ne keder ne yas olur
Çakıllar elmas olur
Bir kadeh bir tas olur
Yıldızların altında

Yukarıdaki şiirle ilgili olarak aşağıdakilerden hangisi söylenemez?

- A) 7'li hece ölçüsüyle yazıldığı
- B) Kişileştirme yapıldığı
- C) aaab şeklinde uyaklandığı
- D) "olur" sözcüğünün redif olduğu

20. İslâmlıktan önceki dönemde yüğ törenlerinde bir kağanın, bir kahramanın ölümüne duyulan üzüntüyü ifade eden, ölen kişinin niteliklerini dile getiren, kopuz eşliğinde söylenen şiiirlere ne ad verilir?

- A) Koşuk
- B) Sagu
- C) Sav
- D) Destan

1. Aşağıdakilerden hangisi müteşebbisin işlevlerinden biri değildir?
A) Rekabeti azaltmak
B) Yeni girdi kaynakları bulmak
C) Yeni pazarları keşfetmek
D) Daha iyiyi daha ucuza üretmek
2. Nakit para, fabrika, makine ve teçhizat aşağıdaki üretim faktörlerinden hangisinin kapsamında yer alır?
A) Tabiat
B) Sermaye
C) Emek
D) Doğal kaynaklar
3. Aşağıdakilerden hangisi müteşebbisin kişisel özellikleri arasında yer almaz?
A) Planlama yapmak
B) Önder olmak
C) Riskten kaçmak
D) Uyumlu olmak
4. Neyin, nasıl, ne zaman, nerede üretileceğine karar veren, bunun için gerekli tüm çalışmaları yapan kişi ya da kişilere ne ad verilir?
A) Patron
B) Lider
C) Girişimci
D) İşveren
5. Aşağıdakilerden hangisi işletmenin genel amaçları içinde yer alır?
A) İş güvenliği
B) Hizmet kalitesini artırmak
C) Düşük maliyet
D) Kâr elde etmek
6. Aşağıdakilerden hangisi yönetimin temel işlevleri arasında yer almaz?
A) Denetim
B) Organizasyon
C) Pazarlama
D) Koordinasyon
7. Maslow'un ihtiyaçlar hiyerarşisinde insanın doğuşundan itibaren başlayan vazgeçilmez ihtiyaçlara ne ad verilir?
A) Güvenlik ihtiyaçları
B) Fizyolojik ihtiyaçlar
C) Sevgi ve ait olma ihtiyacı
D) Saygı görme ihtiyacı
8. Torna tezgahı ve tekstil tezgahı gibi mallar aşağıdakilerden hangisinin kapsamında yer alır?
A) Üretim gereçleri
B) Yardımcı araçlar
C) Yatırım donatım malları
D) İşletme gereçleri
9. Mal ve hizmetlerin ihtiyaçları giderme özelliğine ne ad verilir?
A) Kaynak
B) Fayda
C) Tüketim
D) Üretim
10. Aynı konuda çalışan iki işletmenin ortak çıkar doğrultusunda alanlarında tekelleşmek için bir araya gelmesiyle oluşan antlaşmalara ne ad verilir?
A) Konsorsiyum
B) Kartel
C) Merger
D) Holding
11. Bir unvana sahip, ana sermayesi belli ve paylara bölünmüş olan, borçlarından dolayı yalnız varlıkları ile sorumlu bulunan şirketlere ne ad verilir?
A) Kolektif şirket
B) Kooperatif
C) Anonim şirket
D) Limitet şirket
12. Giderleri özel gelirleri ile karşılanan ve genel bütçe dışında yürütülen kamu kuruluşlarına ne ad verilir?
A) Yerel yönetimlere bağlı işletmeler
B) Döner sermayeli işletmeler
C) Özel bütçeli devlet işletmeleri
D) Katma bütçeli kuruluşlar

13. Limitet şirketlerde ortak sayısı en az kaç kişidir?

- A) 2
- B) 3
- C) 4
- D) 5

14. Aşağıdakilerden hangisi iktisadi devlet teşekkülleri arasında yer almaz?

- A) Toprak Mahsulleri Ofisi
- B) Devlet Malzeme Ofisi
- C) Boru Hatları ile Petrol Taşıma A.Ş
- D) Tarım Kredi Kooperatifi

15. Aşağıdakilerden hangisi satış elemanının görevleri arasında yer almaz?

- A) Üretim teknolojisini belirlemek
- B) İsteği talebe dönüştürmek
- C) Sipariş almak
- D) Tanıtım yapmak

16. Mal veya hizmetle paranın el değiştirmesine ne ad verilir?

- A) Reklam
- B) Dağıtım
- C) Üretim
- D) Satış

17. Pazarlama etkinliklerinin ilk aşaması aşağıdakilerden hangisidir?

- A) Gereksinimlerin belirlenmesi
- B) Mal ve hizmetlerin niteliklerinin belirlenmesi
- C) Fiyatın belirlenmesi
- D) Dağıtımın gerçekleştirilmesi

18. Kâr amacı ile üretilen mal ve hizmetlerin tüketicilere ulaştırılması için yapılan devamlı ve düzenli etkinliklere ne ad verilir?

- A) Reklam
- B) Ticaret
- C) Pazarlama
- D) Satış

19. En eski ve en etkin satış yöntemi aşağıdakilerden hangisidir?

- A) Kişisel satış
- B) Televizyon reklamları
- C) Sergi
- D) Katalog bastırma

20. Aşağıdakilerden hangisi pazarlama karması elemanlarından biri değildir?

- A) Tutundurma
- B) Fiyat
- C) Dağıtım
- D) Tüketici

1. kann nicht laufen, sondern schleichen.

Welches Wort passt in die obige Lücke?

Cümlede boş bırakılan yeri aşağıdakilerden hangisi doğru şekilde tamamlar?

- A) Eine Schildkröte
B) Ein Tiger
C) Eine Schlange
D) Ein Pferd

2. Das Auto steht dem Haus.

Welches Wort passt in die obige Lücke?

Cümlede boş bırakılan yeri aşağıdakilerden hangisi doğru şekilde tamamlar?

- A) zwischen
B) vor
C) in
D) aus

3. Ein Bär ist

Welches ergänzt die Lücke im obigen Satz?

Verilen cümleyi aşağıdakilerden hangisi tamamlar?

- A) groß und kräftig.
B) lang und leicht.
C) schwer aber klein.
D) schnell aber schwach.

4. Was bedeutet mit der Hand winken?

Welche Antwort passt zur obigen Frage?

Verilen sorunun cevabı aşağıdakilerden hangisidir?

- A) Dann müssen alle Kinder leise sein.
B) Es bedeutet auf Wiedersehen sagen.
C) Jeder muss vorsichtig sein.
D) Es bedeutet sie hat Kopfschmerzen.

5. Ich lege meine Bücher den Tisch.

Welches Wort passt in die obige Lücke?

Cümlede boş bırakılan yeri aşağıdakilerden hangisi doğru şekilde tamamlar?

- A) auf
B) in
C) zwischen
D) links

6. Welche Familienfeste werden in der Türkei gefeiert?

Welche Antwort passt zur obigen Frage?

Verilen sorunun cevabı aşağıdakilerden hangisidir?

- A) Ich habe ein Geschenk für meine Schwester gekauft.
B) Es gibt auch religiöse Feste, die gefeiert werden müssen.
C) In der Türkei sind alle glücklich, wenn das Zuckerfest gefeiert wird.
D) In der Türkei werden Familienfeste gefeiert, wenn jemand Geburtstag hat.

7. Ich mache mit Trompete Musik.

Welche Frage passt zur obigen Antwort?

Verilen cevabı gerektirecek soru aşağıdakilerden hangisidir?

- A) Womit machst du Musik?
B) Hast du eine Trompete?
C) Hört ihr gern Musik?
D) Warum macht sie Musik?

8. Was bedeutet "keyif" auf Deutsch?

"keyif" sözcüğünün Almancası aşağıdakilerden hangisidir?

- A) Die Löffel
B) Die Laune
C) Die Ideen
D) Der Spiegel

9. A: welches Musikinstrument interessierst du?
 B: Ich interessiere für die Posaune.
 A: Wirklich? Das ist super!

Welches ergänzt die Lücken im obigen Dialog?

Verilen karşılıklı konuşmada boş bırakılan yerleri aşağıdakilerden hangisi tamamlar?

- A) Für - dich - mich
 B) Zu - dir - mir
 C) An - sich - euch
 D) Mit - ihn - uns

10. Er spielt Saxophon.

Welche Frage passt zur obigen Antwort?

Verilen cevabı gerektirecek soru aşağıdakilerden hangisidir?

- A) Hast du ein Instrument?
 B) Woher hast du dieses Instrument?
 C) Welches Instrument spielt Thorsten?
 D) Können Sie ein Instrument spielen?

11. Das Kind möchte eine Mütze kaufen.

Welches Wort passt in die obige Lücke?

Cümlede boş bırakılan yeri aşağıdakilerden hangisi doğru şekilde tamamlar?

- A) sich
 B) mich
 C) dich
 D) sind

12. Wenn die Wortenden in zwei Zeilen am Ende eines Satzes gleich sind, wie z.B. Tag und Sag, dann ist es ein

Welches Wort passt in die obige Lücke?

Cümlede boş bırakılan yeri aşağıdakilerden hangisi doğru şekilde tamamlar?

- A) Klang
 B) Ton
 C) Reim
 D) Stück

13. Der Mann und die Frau sitzen heute im Haus.

Welches Wort passt in die obige Lücke?

Cümlede boş bırakılan yeri aşağıdakilerden hangisi doğru şekilde tamamlar?

- A) draussen
 B) drinnen
 C) aussen
 D) innerhalb

14. Die Jugendlichen wollen heutzutage sein.

Welches Wort passt nicht in die obige Lücke?

Cümlede boş bırakılan yeri aşağıdakilerden hangisi doğru şekilde tamamlamaz?

- A) selbstständig
 B) reich
 C) glücklich
 D) selten

15. Die Kinder fassen sich an der Hand.

Wie lautet der obige Satz auf Türkisch?

Verilen cümlenin Türkçesi aşağıdakilerden hangisidir?

- A) Çocuklar ellerini sallıyorlar.
 B) Çocuklar ellerini yıkadılar.
 C) Çocukların elleri temiz.
 D) Çocuklar el ele tutuşuyorlar.

16. Die Tomate / Der Paprika / Der Kopfsalat / Das Omelett / Der Pilz

Welches Wort passt nicht zu den anderen in der obigen Wortgruppe?

Verilen sözcük grubuna uymayan aşağıdakilerden hangisidir?

- A) Die Tomate
 B) Der Kopfsalat
 C) Das Omelett
 D) Der Pilz

17. Machst du Sport oder mit deinen Freunden?

Welches Wort passt in die obige Lücke?

Cümlede boş bırakılan yeri aşağıdakilerden hangisi doğru şekilde tamamlar?

- A) gleich
- B) jeden
- C) selten
- D) allein

18. Was hält dich fit?

Welche Antwort passt nicht zur obigen Frage?

Aşağıdakilerden hangisi verilen sorunun cevabı olamaz?

- A) Ich fahre oft Fahrrad.
- B) Ich esse und schlafe gern.
- C) Ich spiele jeden Tag Fußball.
- D) Ich gehe jeden Abend laufen.

19. A: Hallo, wie geht es dir?
B: Hallo, ich
A: Wo hast du denn Schmerzen?
B: Mir tut alles weh!
A: Dann musst du zum Arzt gehen!
B: Ja, das glaube ich auch.

Welches ergänzt die Lücke im obigen Dialog?

Verilen karşılıklı konuşmada boş bırakılan yeri aşağıdakilerden hangisi tamamlar?

- A) gehe nach Hause!
- B) habe Hunger!
- C) glaube, dir geht's nicht gut!
- D) fühle mich krank!

20. A: Was du, wenn du einen Salat?

B: Ich brauche einen Kopfsalat, Tomaten und Olivenöl.

Welches ergänzt die Lücken im obigen Dialog?

Verilen karşılıklı konuşmada boş bırakılan yerleri aşağıdakilerden hangisi tamamlar?

- A) kaufst / kochen
- B) willst / essen
- C) brauchst / zubereitest
- D) hast / hast

1. A: Is there cheese in the fridge?
B: No, there isn't.

Which of the following completes the dialogue above?

Aşağıdakilerden hangisi yukarıdaki konuşmayı doğru olarak tamamlar?

- A) some
B) a
C) a little
D) any

2. Samantha doesn't like eating out.

Which of the following is the positive form of the sentence above?

Aşağıdakilerden hangisi yukarıdaki cümlelerin olumlu biçimidir?

- A) Samantha does like eating out.
B) Samantha like eating out.
C) Samantha likes eating out.
D) Samantha liked eating out.

3. We don't need butter for the cake. We have some here.

Which of the following completes the sentence above?

Aşağıdakilerden hangisi yukarıdaki cümleyi doğru olarak tamamlar?

- A) many
B) some
C) a
D) much

4. A: Do we have any tomatoes for the salad?
B: Yes, we have tomatoes.

Which of the following completes the dialogue above?

Aşağıdakilerden hangisi yukarıdaki konuşmayı doğru olarak tamamlar?

- A) any
B) some
C) a
D) much

5. I sometimes drink milk for breakfast.

Which of the following is the Turkish translation of the sentence above?

Aşağıdakilerden hangisi yukarıdaki cümlelerin Türkçe karşılığıdır?

- A) Kahvaltıda daima süt içerim.
B) Kahvaltıda sık sık süt içerim.
C) Kahvaltıda bazen süt içerim.
D) Kahvaltıda hiç süt içmem.

6. The telephone box is in of the restaurant.

Which of the following completes the sentence above?

Aşağıdakilerden hangisi yukarıdaki cümleyi doğru olarak tamamlar?

- A) behind
B) opposite
C) front
D) next

7. I want to to a university in a big city.

Which of the following completes the sentence above?

Aşağıdakilerden hangisi yukarıdaki cümleyi doğru olarak tamamlar?

- A) going
B) goes
C) go
D) went

8. A: Which school subjects do you like most?
B: I like most.

Which of the following completes the dialogue above?

Aşağıdakilerden hangisi yukarıdaki konuşmayı doğru olarak tamamlar?

- A) Geography
B) ice cream
C) rock music
D) violin

9. They are Maria and Franco.
parents are in Spain.

Which of the following completes the sentence above?

Aşağıdakilerden hangisi yukarıdaki cümleyi doğru olarak tamamlar?

- A) Their
- B) Her
- C) His
- D) Our

10. Is your father engineer or
.....teacher?

Which of the following completes the sentence above?

Aşağıdakilerden hangisi yukarıdaki cümleyi doğru olarak tamamlar?

- A) a/a
- B) the/a
- C) an/the
- D) an/a

11. I am 1.55 cm and he is 1.70 cm. He is
.....than me.

Which of the following completes the sentence above?

Aşağıdakilerden hangisi yukarıdaki cümleyi doğru olarak tamamlar?

- A) taller
- B) fatter
- C) older
- D) darker

12. A:Hello. I am Sarah.
B:Hello, my name..... John.

Which of the following completes the dialogue above?

Aşağıdakilerden hangisi yukarıdaki konuşmayı doğru olarak tamamlar?

- A) has
- B) is
- C) are
- D) having

13. A:How often do you go to the gym?
B:I go to the gym

Which of the following completes the dialogue above?

Aşağıdakilerden hangisi yukarıdaki konuşmayı doğru olarak tamamlar?

- A) last Sunday
- B) yesterday
- C) twice a week
- D) last year

14. Mehmet doesn't like jokes. He is
.....

Which of the following completes the sentence above?

Aşağıdakilerden hangisi yukarıdaki cümleyi doğru olarak tamamlar?

- A) lazy
- B) serious
- C) polite
- D) careful

15. A:What time do you usuallyon
Sundays?
B:At 9.30.

Which of the following completes the dialogue above?

Aşağıdakilerden hangisi yukarıdaki konuşmayı doğru olarak tamamlar?

- A) gets up
- B) get up
- C) getting up
- D) got up

16. My little sister always early on Sundays.

Which of the following completes the sentence above?

Aşağıdakilerden hangisi yukarıdaki cümleyi doğru olarak tamamlar?

- A) wake up
- B) is waking up
- C) woke up
- D) wakes up

17. A:What are the kids..... now?
B:They are in the garden.

Which of the following completes the dialogue above?

Aşağıdakilerden hangisi yukarıdaki konuşmayı doğru olarak tamamlar?

- A) doing/playing
- B) do/play
- C) doing/play
- D) do/playing

18. A:What would you like to drink?
B:I'd like to drink please.

Which of the following completes the dialogue above?

Aşağıdakilerden hangisi yukarıdaki konuşmayı doğru olarak tamamlar?

- A) some salad
- B) bread
- C) a piece of cake
- D) orange juice

19. A:Excuse me, can you tell me the Chinese Restaurant is?
B:It's on the right next to the post office.

Which of the following completes the dialogue above?

Aşağıdakilerden hangisi yukarıdaki konuşmayı doğru olarak tamamlar?

- A) where
- B) how
- C) when
- D) why

20. A doctor is someone who

Which of the following completes the sentence above?

Aşağıdakilerden hangisi yukarıdaki cümleyi doğru olarak tamamlar?

- A) makes bread
- B) looks after patients
- C) looks after animals
- D) sells things

1. pas / d'alcool / beaucoup / prenez / ne
I II III IV V

Mettez dans le bon ordre.

Yukarıdaki kelimelerin anlamlı bir bütün oluşturan sırası aşağıdakilerin hangisinde doğru olarak verilmiştir?

- A) V, IV, I, III, II
B) V, IV, III, II, I
C) IV, V, I, II, III
D) IV, III, II, V, I

2. Qu'est-ce que vous voulez boire?

Choisissez la traduction qui convient.

Yukarıdaki cümlenin Türkçe karşılığı aşağıdakilerden hangisidir?

- A) Bir şey alır mısınız?
B) Ne içmek istersiniz?
C) İçecek olarak ne alırsınız?
D) İçecek ister misiniz?

3. A - Excusez-moi, vous avez l'heure?
B -
A - Je vous demande si vous avez l'heure.
B - Ah oui, il est dix heures et demie.
A - Merci.

Choisissez l'expression qui convient.

Yukarıdaki konuşmada boş bırakılan yeri aşağıdakilerden hangisi doğru şekilde tamamlar?

- A) C'est ça?
B) Pardon?
C) Tu vois?
D) C'est de la part de qui?

4. - Hier soir, vous mangé à quelle heure?
- À dix-neuf heures.

Choisissez le mot qui convient.

Yukarıdaki konuşmada boş bırakılan yeri aşağıdakilerden hangisi doğru şekilde tamamlar?

- A) avez
B) a
C) ont
D) êtes

5. Il sont invités qui?

Choisissez le mot qui convient.

Cümledeki boşluğu aşağıdakilerden hangisi doğru şekilde tamamlar?

- A) chez
B) où
C) comment
D) quand

6. Je voudrais parler M. Doisneau s'il vous plaît.

Choisissez le mot qui convient.

Cümledeki boşluğu aşağıdakilerden hangisi doğru şekilde tamamlar?

- A) en
B) lui
C) qui
D) à

7. Je n'ai rien compris.

Choisissez la traduction qui convient.

Yukarıdaki cümlenin Türkçe karşılığı aşağıdakilerden hangisidir?

- A) Hiçbirini tanımıyorum.
B) Hiç zamanım yok.
C) Hiçbir şey söylemedim.
D) Hiçbir şey anlamadım.

8. J'en ai marre ce vieux ordinateur!

Choisissez le mot qui convient.

Cümledeki boşluğu aşağıdakilerden hangisi doğru şekilde tamamlar?

- A) de la
B) pour
C) de
D) car

9. A - Je veux acheter un sac.
B -
A - Elle dit qu'elle veut acheter un sac.

Choisissez l'expression qui convient.

Yukarıdaki konuşmada boş bırakılan yeri aşağıdakilerden hangisi doğru şekilde tamamlar?

- A) Où est-ce qu'elle va?
B) Comment va-t-elle?
C) Qu'est-ce qu'elle dit?
D) Quel est votre choix?

10. -
- Ça fait trente euros.

Choisissez la question qui convient.

Yukarıdaki konuşmada cevabı gerektiren soru aşağıdakilerden hangisidir?

- A) Tu pars à quelle heure?
B) Tu as quel âge?
C) Ça vous intéresse?
D) Ça coûte combien?

11. Si tu es malade, tu te reposer.

Choisissez le mot qui convient.

Cümledeki boşluğu aşağıdakilerden hangisi doğru şekilde tamamlar?

- A) vais
- B) as
- C) bien
- D) dois

12. Elle est de sa maison à sept heures du matin.

Choisissez le mot qui convient.

Cümledeki boşluğu aşağıdakilerden hangisi doğru şekilde tamamlar?

- A) sors
- B) sort
- C) sortie
- D) sortez

13. du sport pour être en bonne santé.

Choisissez le mot qui convient.

Cümledeki boşluğu aşağıdakilerden hangisi doğru şekilde tamamlar?

- A) Payez
- B) Faites
- C) Soyez
- D) Ouvrez

14. Le magasin ouvre ?

Choisissez le mot qui convient.

Cümledeki boşluğu aşağıdakilerden hangisi doğru şekilde tamamlar?

- A) quand
- B) combien
- C) en espèces
- D) devant

15. Je voudrais payer espèces.

Choisissez le mot qui convient.

Cümledeki boşluğu aşağıdakilerden hangisi doğru şekilde tamamlar?

- A) par
- B) dans
- C) en
- D) pour

16. Voudriez-vous rappeler plus tard?

Choisissez la traduction qui convient.

Yukarıdaki cümlelerin Türkçe karşılığı aşağıdakilerden hangisidir?

- A) Daha önce aradınız mı?
- B) Daha sonra sizi arayacaklar mı?
- C) Sizi aramamızı ister misiniz?
- D) Daha sonra yine arar mısınız?

17. On est ouvert du lundi vendredi.

Choisissez le mot qui convient.

Cümledeki boşluğu aşağıdakilerden hangisi doğru şekilde tamamlar?

- A) au
- B) dans
- C) la
- D) en

18. Elle est contente tous ses professeurs.

Choisissez le mot qui convient.

Cümledeki boşluğu aşağıdakilerden hangisi doğru şekilde tamamlar?

- A) chez
- B) chaque
- C) de
- D) personne

19. Elle ne prend le train, elle préfère le bus.

Choisissez le mot qui convient.

Cümledeki boşluğu aşağıdakilerden hangisi doğru şekilde tamamlar?

- A) rien
- B) jamais
- C) personne
- D) ni

20. Selim à l'office du tourisme.

Choisissez le mot qui convient.

Cümledeki boşluğu aşağıdakilerden hangisi doğru şekilde tamamlar?

- A) a
- B) est
- C) une
- D) sa

1. Yay sabiti 4.000 N/m olan bir yayda 20 J'lük bir potansiyel enerjiyi depolayabilmek için, yay kaç m sıkıştırılmalı ya da gerilmelidir?

A) 0,05
B) 0,1
C) 0,15
D) 0,2

2. 500 gram kütleli bir demir parçasının sıcaklığını 80 °C'tan 30 °C'a düşürmek için demir parçasından alınması gereken ısı miktarı kaç kaloridir? ($c_{\text{demir}}=0,11 \text{ cal/g } ^\circ\text{C}$)

A) 1.750
B) 2.000
C) 2.250
D) 2.750

3. 20 metre yükseklikten yere düşen 2 kg kütleli bir cismin yere çarptığı andaki hızı kaç m/s dir? ($g=10 \text{ m/s}^2$)

A) 10
B) 15
C) 20
D) 25

4. I. Kinetik sürtünme kuvveti
II. Dinamik sürtünme kuvveti
III. Statik sürtünme kuvveti

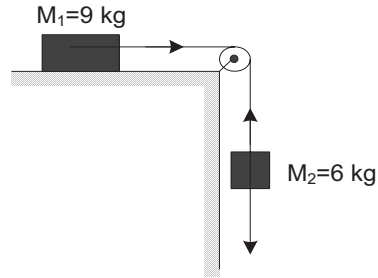
Yukarıdakilerden hangileri sürtünme kuvvetleri arasında yer almaz?

A) Yalnız II
B) Yalnız III
C) I ve II
D) I ve III

5. İç yarıçapı $r_1=0,3 \text{ m}$, dış yarıçapı $r_2=0,5 \text{ m}$, kütlesi 200 kg olan ve saniyede 2 devir yapan bir değirmen taşının eylemsizlik momenti kaç kg.m^2 dir? ($I=\frac{1}{2}.m.(r_1^2+r_2^2)$)

A) 320
B) 340
C) 360
D) 380

6 VE 7. SORULARI AŞAĞIDAKİ BİLGİLERE GÖRE CEVAPLAYINIZ.



6. Yukarıdaki şekilde sürtünmesiz sistemin ivmesi kaç m/s^2 dir? ($g=10 \text{ m/s}^2$)

A) 2
B) 3
C) 4
D) 5

7. Yukarıdaki bilgilere göre, ipteki gerilme kuvveti kaç N dur?

A) 32
B) 36
C) 40
D) 44

8. Toplam kütlesi 500 kg, gücü 50.000 W olan bir asansörün 10 m yukarıya çıkabilmesi için gereken süre kaç saniyedir? ($g=10 \text{ m/s}^2$)

- A) 1
B) 1,5
C) 2
D) 2,5

9 - 11. SORULARI AŞAĞIDAKİ BİLGİLERE GÖRE CEVAPLAYINIZ.

Aşağıdaki şekilde, 1 kg kütleli içi boş bir silindir sürtünmesiz yatay bir düzlemde 10 m/s sabit hızla yuvarlanarak A noktasına gelmiş daha sonrada B noktasına kadar çıkmıştır.

9. Bu bilgilere göre, cismin A noktasındaki kinetik enerjisi kaç J dür?

- A) 60
B) 80
C) 100
D) 120

10. Yukarıdaki bilgilere göre, silindirin eğik düzlemde çıktığı son noktanın (B) yatay düzlemde yüksekliği (h) kaç metredir? ($g=10 \text{ N/kg}$)

- A) 7
B) 8
C) 9
D) 10

11. Yukarıdaki bilgilere göre, silindirin eğik düzlemde aldığı yol (AB noktaları arası) kaç metredir?

$$(l=mr^2, \sin 45^\circ = \frac{\sqrt{2}}{2})$$

- A) $4\sqrt{2}$
B) $6\sqrt{2}$
C) $8\sqrt{2}$
D) $10\sqrt{2}$

12 VE 13. SORULARI AŞAĞIDAKİ BİLGİLERE GÖRE CEVAPLAYINIZ.

10 kg kütleli bir cisim yatay bir zemin üzerinde 20 N luk yatay bir kuvvetle 25 m çekilmiştir.

12. Bu bilgilere göre, kuvvetin yaptığı iş kaç J dür?

- A) 500
B) 550
C) 600
D) 650

13. Yukarıdaki bilgilere göre, cismin hızı kaç m/s dir?

- A) 8
B) 10
C) 12
D) 14

14. Bir F kuvveti m_1 kuvvetine $3m/sn^2$, m_2 kütesine ise $6 m/sn^2$ değerinde ivme kazandırmaktadır.

Buna göre, aynı kuvvet (m_1+m_2) kütesine kaç m/sn^2 lik ivme kazandırır?

- A) 2
B) 3
C) 5
D) 7

15. 2 kg kütleli bir cismin, zıt yönlü 12 N ve 6 N'luk iki kuvvetin etkisi altında kazanacağı ivme kaç N/kg dır?

- A) 1
B) 3
C) 4
D) 6

16 VE 17. SORULARI AŞAĞIDAKİ BİLGİLERE GÖRE CEVAPLAYINIZ.

Yatay bir düzlemde durmakta olan 6 kg kütleli bir cisim 15 N luk yatay ve sabit bir kuvvetle çekilmektedir. ($g=10$ N/kg)

16. Bu bilgilere göre, cisim 5 saniyede 25 m yer değiştirdiğine göre, cismin ivmesi kaç m/s^2 dir?

- A) 2
- B) 2,5
- C) 3
- D) 3,5

17. Yukarıdaki bilgilere göre, cisimle yüzey arasındaki sürtünme katsayısı kaçtır?

- A) 0,02
- B) 0,03
- C) 0,04
- D) 0,05

18. Cisimlerin hareketinden dolayı sahip oldukları enerjiye ne ad verilir?

- A) Statik enerji
- B) Dinamik enerji
- C) Kinetik enerji
- D) Isı enerjisi

19. Yatay bir yolda 40 m/s sabit bir hızla gitmekte olan 1.200 kg kütleli bir otomobil fren yapmış ve düzgün yavaşlayarak 160 m yol alarak durmuştur.

Buna göre, otomobilin fren kuvveti kaç N dur?

- A) 3.000
- B) 4.000
- C) 5.000
- D) 6.000

20. Yatay bir düzlemde hareketsiz bir cisme, düzleme paralel 200 N luk sabit bir kuvvet etki ettirilerek cismin 5 m yer değiştirmesi sağlanmıştır.

Buna göre, yapılan iş kaç J dür? (Sürtünmeler önemsizdir.)

- A) 500
- B) 800
- C) 1.000
- D) 1.200

1. Die Schildkröte ist, aber der Affe ist schnell.

Welches Wort passt in die obige Lücke?

Cümlede boş bırakılan yeri aşağıdakilerden hangisi doğru şekilde tamamlar?

- A) groß
- B) laut
- C) langsam
- D) leise

2. du ein Haustier?

Welches Wort passt in die obige Lücke?

Cümlede boş bırakılan yeri aşağıdakilerden hangisi doğru şekilde tamamlar?

- A) Hat
- B) Hast
- C) Habt
- D) Hatte

3. A: Woher kommt er?
B: Man sagt, er wäre aus Deutschland.
A:

Welches ergänzt den obigen Dialog?

Verilen karşılıklı konuşmayı aşağıdakilerden hangisi tamamlar?

- A) Sie arbeiten in Portugal.
- B) Meine Schwester hat eine Tochter!
- C) Ach so, ich dachte, er wäre aus England!
- D) Ach ja, wir fahren jedes Jahr nach England!

4. A: Weißt du, wo Spanisch gesprochen wird?
B:

Welches ergänzt die Lücke im obigen Dialog?

Verilen karşılıklı konuşmada boş bırakılan yeri aşağıdakilerden hangisi tamamlar?

- A) Wir fahren in den Ferien nach Spanien.
- B) Sie kommt aus Spanien.
- C) Ich möchte auch Spanisch sprechen lernen.
- D) Spanisch wird in Spanien gesprochen.

5. meinem elften Geburtstag habe ich ein Fahrrad bekommen.

Welches Wort passt in die obige Lücke?

Cümlede boş bırakılan yeri aşağıdakilerden hangisi doğru şekilde tamamlar?

- A) Auf
- B) In
- C) Zu
- D) Aus

6. Meine Freundin Klavier und ich ihr zu.

Welche Wörter passen in die obigen Lücken?

Cümlede boş bırakılan yerleri aşağıdakilerden hangileri doğru şekilde tamamlar?

- A) hat / frage
- B) spielt / höre
- C) möchte / schon
- D) kann / übe

7. Alles Gute für deine und viel Spaß bei deiner Musikbegeisterung!

Welches Wort passt in die obige Lücke?

Cümlede boş bırakılan yeri aşağıdakilerden hangisi doğru şekilde tamamlar?

- A) Frage
- B) Jahre
- C) Zukunft
- D) Thema

8. Der Film ist einem guten Regisseur gedreht

Welche Wörter passen in die obigen Lücken?

Cümlede boş bırakılan yerleri aşağıdakilerden hangileri doğru şekilde tamamlar?

- A) von / worden
B) bei / würden
C) an / wird
D) zu / werden

9. Sind Familienfeste wichtig für dich?

Welche Antwort passt zur obigen Frage?

Verilen sorunun cevabı aşağıdakilerden hangisidir?

- A) Ja, ich bin krank geworden und meine Mutter hat mich zum Arzt gebracht.
B) Nein er hat gesagt, dass er am Wochenende kommen will.
C) Nein, ich wollte auch an der Versammlung teilnehmen.
D) Ja, ich finde Familienfeste wichtig, weil wir in Kontakt bleiben.

10. Ich mich Geige.

Welche Wörter passen in die obigen Lücken?

Cümlede boş bırakılan yerleri aşağıdakilerden hangileri doğru şekilde tamamlar?

- A) interessiere / für
B) beenden / mit
C) kaufe / aus
D) spiele / zu

11. Dieser Roman ist von einem weltberühmten geschrieben worden.

Welches Wort passt in die obige Lücke?

Cümlede boş bırakılan yeri aşağıdakilerden hangisi doğru şekilde tamamlar?

- A) Nachbar
B) Kinder
C) Schülerin
D) Schriftsteller

12. Ayşe: Welche Familienfeste werden in Deutschland gefeiert?

Katrin:

Ayşe: Ja, das wird auch in der Türkei gefeiert!

Welches ergänzt den obigen Dialog?

Verilen karşılıklı konuşmayı aşağıdakilerden hangisi tamamlar?

- A) Wenn ich krank bin gehe ich zum Arzt.
B) Wenn zum Beispiel ein Kind geboren wird.
C) Wenn die Ferien anfangen fahren wir in die Türkei.
D) Wenn ich mir ein neues Buch kaufe.

13. Ich bleibe, weil ich jeden Tag eine halbe Stunde laufe!

Welches Wort passt in die obige Lücke?

Cümlede boş bırakılan yeri aşağıdakilerden hangisi doğru şekilde tamamlar?

- A) fit
B) gern
C) erst
D) sehr

14. Die Schüler sitzen in der Cafeteria der Schule und

Welches ergänzt nicht die Lücke im obigen Satz?

Verilen cümleyi aşağıdakilerden hangisi tamamlamaz?

- A) sprechen über ein Projekt.
- B) planen eine Klassenfahrt.
- C) diskutieren über ein Problem.
- D) trägt einen Rucksack.

15. Vitamine und Mineralien braucht der Körper,

Welches ergänzt die Lücke im obigen Satz?

Verilen cümleyi aşağıdakilerden hangisi tamamlar?

- A) um gesund zu bleiben.
- B) hatte viel Arbeit.
- C) wird 10 Jahre alt.
- D) gehört die Tasche.

16. Er hat Kopfschmerzen.

Welche Frage passt zur obigen Antwort?

Verilen cevabı gerektirecek soru aşağıdakilerden hangisidir?

- A) Bist du krank?
- B) Was hat er denn?
- C) Habt ihr Schmerzen?
- D) Wie kann ich helfen?

17. Die Eltern sind glücklich, wenn.....

Welches ergänzt die Lücke im obigen Satz?

Verilen cümleyi aşağıdakilerden hangisi tamamlar?

- A) sie geht aus dem Haus.
- B) du kennst ihn schon.
- C) er fasst sich an der Hand.
- D) ihre Kinder zufrieden und freundlich werden.

18. Als ich zehn Jahre alt war,

Welches ergänzt nicht die Lücke im obigen Satz?

Verilen cümleyi aşağıdakilerden hangisi tamamlamaz?

- A) habe ich mit der Querflöte angefangen.
- B) habe ich immer klassische Musik gehört.
- C) will die Prüfung bestehen.
- D) wollte ich eine Band gründen.

19. Sosu salataların üzerine dökерim.

Wie lautet der obige Satz auf Deutsch?

Verilen cümlelerin Almancası aşağıdakilerden hangisidir?

- A) Ich gebe die Sose über den Salat.
- B) Die Sose muss kalt gestellt werden.
- C) Als letztes kannst du Zitrone mischen.
- D) Ich gebe dir etwas Pfeffer die Sose.

20. ist etwas erhöht!

Welches Wort passt in die obige Lücke?

Cümlede boş bırakılan yeri aşağıdakilerden hangisi doğru şekilde tamamlar?

- A) Die Nase
- B) Der Pulsschlag
- C) Der Hals
- D) Das Rezept

SEÇMELİ İNGİLİZCE 7

A

2013 I.DÖNEM 0106-A

1. A:How often do you go to the gym?
B:I go to the gym

Which of the following completes the dialogue above?

Aşağıdakilerden hangisi yukarıdaki konuşmayı doğru olarak tamamlar?

- A) last Wednesday
B) twice a week
C) yesterday
D) last year

2. A:What would you like to drink?
B:I'd like to drink
please.

Which of the following completes the dialogue above?

Aşağıdakilerden hangisi yukarıdaki konuşmayı doğru olarak tamamlar?

- A) some salad
B) bread
C) milk
D) a piece of cake

3. Nazlı doesn't like eating out.

Which of the following is the positive form of the sentence above?

Aşağıdakilerden hangisi yukarıdaki cümlenin olumlu biçimidir?

- A) Nazlı likes eating out.
B) Nazlı does like eating out.
C) Nazlı like eating out.
D) Nazlı liked eating out.

4. A:Is there butter in the fridge?
B:No, there isn't.

Which of the following completes the dialogue above?

Aşağıdakilerden hangisi yukarıdaki konuşmayı doğru olarak tamamlar?

- A) some
B) a
C) a little
D) any

5. We don't need sugar for the cake. We have some here.

Which of the following completes the sentence above?

Aşağıdakilerden hangisi yukarıdaki cümleyi doğru olarak tamamlar?

- A) many
B) much
C) some
D) a

6. Selim doesn't like jokes. He is

Which of the following completes the sentence above?

Aşağıdakilerden hangisi yukarıdaki cümleyi doğru olarak tamamlar?

- A) serious
B) lazy
C) polite
D) careful

7. I sometimes drink water for breakfast.

Which of the following is the Turkish translation of the sentence above?

Aşağıdakilerden hangisi yukarıdaki cümlenin Türkçe karşılığıdır?

- A) Kahvaltıda bazen su içerim.
B) Kahvaltıda daima su içerim.
C) Kahvaltıda sık sık su içerim.
D) Kahvaltıda hiç su içmem.

8. A:Excuse me, can you tell me
the library is?
B:It's on the right next to the post office.

Which of the following completes the dialogue above?

Aşağıdakilerden hangisi yukarıdaki konuşmayı doğru olarak tamamlar?

- A) how
B) when
C) why
D) where

9. A:Which school subjects do you like most?
B:I like most.

Which of the following completes the dialogue above?

Aşağıdakilerden hangisi yukarıdaki konuşmayı doğru olarak tamamlar?

- A) ice cream
B) History
C) rock music
D) violin

10. A doctor is someone who

Which of the following completes the sentence above?

Aşağıdakilerden hangisi yukarıdaki cümleyi doğru olarak tamamlar?

- A) makes bread
B) looks after animals
C) looks after patients
D) travels in space

11. Is your mother engineer ordoctor?

Which of the following completes the sentence above?

Aşağıdakilerden hangisi yukarıdaki cümleyi doğru olarak tamamlar?

- A) a/a
B) the/a
C) an/the
D) an/a

12. A:What are the kids..... now?
B:They are in the kitchen.

Which of the following completes the dialogue above?

Aşağıdakilerden hangisi yukarıdaki konuşmayı doğru olarak tamamlar?

- A) do/play
B) doing/play
C) do/playing
D) doing/playing

13. They are Paul and Lucy. parents are in Italy.

Which of the following completes the sentence above?

Aşağıdakilerden hangisi yukarıdaki cümleyi doğru olarak tamamlar?

- A) Her
B) His
C) Their
D) Our

14. A:Do we have any cucumbers for the salad?
B:Yes, we havecucumbers.

Which of the following completes the dialogue above?

Aşağıdakilerden hangisi yukarıdaki konuşmayı doğru olarak tamamlar?

- A) any
B) a
C) some
D) much

15. A:Hello. I am Sena.
B:Hello, my name..... Hamdi.

Which of the following completes the dialogue above?

Aşağıdakilerden hangisi yukarıdaki konuşmayı doğru olarak tamamlar?

- A) is
B) has
C) are
D) having

16. My little brother always early on Sundays.

Which of the following completes the sentence above?

Aşağıdakilerden hangisi yukarıdaki cümleyi doğru olarak tamamlar?

- A) wake up
B) wakes up
C) is waking up
D) woke up

17. A:What time do you usuallyon Sundays?
B:At 10.30.

Which of the following completes the dialogue above?

Aşağıdakilerden hangisi yukarıdaki konuşmayı doğru olarak tamamlar?

- A) gets up
- B) getting up
- C) get up
- D) got up

18. The telephone box is in of the museum.

Which of the following completes the sentence above?

Aşağıdakilerden hangisi yukarıdaki cümleyi doğru olarak tamamlar?

- A) behind
- B) front
- C) opposite
- D) next

19. I want to.....to a university in Eskişehir .

Which of the following completes the sentence above?

Aşağıdakilerden hangisi yukarıdaki cümleyi doğru olarak tamamlar?

- A) going
- B) goes
- C) went
- D) go

20. I am 1.65 cm and he is 1.90 cm. He isthan me.

Which of the following completes the sentence above?

Aşağıdakilerden hangisi yukarıdaki cümleyi doğru olarak tamamlar?

- A) taller
- B) fatter
- C) older
- D) darker

1. Si tu es malade, tu te reposer.

Choisissez le mot qui convient.

Cümledeki boşluğu aşağıdakilerden hangisi doğru şekilde tamamlar?

- A) vais
B) dois
C) as
D) malade

2. Elle dit qu'elle va venir demain.

Choisissez la traduction qui convient.

Yukarıdaki cümlenin Türkçe karşılığı aşağıdakilerden hangisidir?

- A) Yarın gelmek istediğini söyledi.
B) Yarın gelmek istiyor.
C) Yarın geleceğini söylüyor.
D) Yarın gelip gelemeyeceği belli değil.

3. Il est un étudiant.

Choisissez le mot qui convient.

Cümledeki boşluğu aşağıdakilerden hangisi doğru şekilde tamamlar?

- A) bien
B) mieux
C) meilleur
D) bon

4. du sport pour être en bonne santé.

Choisissez le mot qui convient.

Cümledeki boşluğu aşağıdakilerden hangisi doğru şekilde tamamlar?

- A) Signez
B) Soyez
C) Faites
D) Ouvrez

5. pas / d'alcool / beaucoup / prenez / ne
I II III IV V

Mettez dans le bon ordre.

Yukarıdaki kelimelerin anlamlı bir bütün oluşturan sırası aşağıdakilerin hangisinde doğru olarak verilmiştir?

- A) V, IV, I, III, II
B) V, IV, III, II, I
C) IV, V, I, II, III
D) IV, III, II, V, I

6. A - Excusez-moi, vous avez l'heure?
B -
A - Je vous demande si vous avez l'heure.
B - Ah oui, il est dix heures et demie.
A - Merci.

Choisissez l'expression qui convient.

Yukarıdaki konuşmada boş bırakılan yeri aşağıdakilerden hangisi doğru şekilde tamamlar?

- A) C'est ça?
B) Tu vois?
C) Pardon?
D) Quoi de neuf?

7. Je vous présente mon ami travaille chez Renault.

Choisissez le mot qui convient.

Cümledeki boşluğu aşağıdakilerden hangisi doğru şekilde tamamlar?

- A) que
B) où
C) quoi
D) qui

8. Hier soir, trop chaud.

Choisissez l'expression qui convient.

Cümledeki boşluğu aşağıdakilerden hangisi doğru şekilde tamamlar?

- A) il y avait
B) combien
C) je préfère
D) il faisait

9. J'en ai assez cet ordinateur.

Choisissez le mot qui convient.

Cümledeki boşluğu aşağıdakilerden hangisi doğru şekilde tamamlar?

- A) de
B) pour
C) que
D) par

10. Je n'ai rien compris.

Choisissez la traduction qui convient.

Yukarıdaki cümlenin Türkçe karşılığı aşağıdakilerden hangisidir?

- A) Hiç zamanım yok.
B) Hiç kimseyi görmedim.
C) Hiçbir şey anlamadım.
D) Hiçbir şey söylemedim.

11. Nous allons à l'école métro.

Choisissez le mot qui convient.

Cümledeki boşluğu aşağıdakilerden hangisi doğru şekilde tamamlar?

- A) par
- B) en
- C) dans
- D) au

12. Mon père 75 ans.

Choisissez le mot qui convient.

Cümledeki boşluğu aşağıdakilerden hangisi doğru şekilde tamamlar?

- A) est
- B) ont
- C) as
- D) a

13. - livre voulez-vous acheter?
- Celui-ci.

Choisissez le mot qui convient.

Yukarıdaki konuşmada boş bırakılan yeri aşağıdakilerden hangisi doğru şekilde tamamlar?

- A) Laquelle
- B) Lesquels
- C) Lequel
- D) Quelle

14. Le magasin ouvre ?

Choisissez le mot qui convient.

Cümledeki boşluğu aşağıdakilerden hangisi doğru şekilde tamamlar?

- A) quand
- B) combien
- C) en espèces
- D) devant

15. - Bonjour, je voudrais parler à M. Lenoir.
- Oui,
- De Mme Chantal.

Choisissez l'expression qui convient.

Yukarıdaki konuşmada boş bırakılan yeri aşağıdakilerden hangisi doğru şekilde tamamlar?

- A) c'est de la part de qui?
- B) c'est moi.
- C) il est là?
- D) il est M. Lenoir.

16. On est ouvert du lundi vendredi.

Choisissez le mot qui convient.

Cümledeki boşluğu aşağıdakilerden hangisi doğru şekilde tamamlar?

- A) la
- B) en
- C) de
- D) au

17. Les films d'action; je(j') trouve triste.

Choisissez le mot qui convient.

Cümledeki boşluğu aşağıdakilerden hangisi doğru şekilde tamamlar?

- A) les
- B) la
- C) lui
- D) en

18. Qu'est-ce que vous voulez boire?

Choisissez la traduction qui convient.

Yukarıdaki cümlelerin Türkçe karşılığı aşağıdakilerden hangisidir?

- A) Bir şey alır mısınız?
- B) Ne içmek istersiniz?
- C) Size ne getireyim?
- D) İçecek olarak ne alırsınız?

19. Voudriez-vous rappeler plus tard?

Choisissez la traduction qui convient.

Yukarıdaki cümlelerin Türkçe karşılığı aşağıdakilerden hangisidir?

- A) Daha önce aradınız mı?
- B) Daha sonra yine arar mısınız?
- C) Daha sonra sizi arayacaklar mı?
- D) Sizi aramamızı ister misiniz?

20. Je cherche un appartement louer.

Choisissez le mot qui convient.

Cümledeki boşluğu aşağıdakilerden hangisi doğru şekilde tamamlar?

- A) en
- B) à
- C) par
- D) de

1. Dilin sade yazılması gerektiği hareketi 1911'de hangi dergide başlamıştır?

- A) Genç Kalemler
- B) Kadro
- C) Ülkü
- D) Varlık

2. "Akşam Musikisi" adlı şiir aşağıdaki şairlerden hangisine aittir?

- A) Halit Fahri Ozansoy
- B) Yahya Kemal Beyatlı
- C) Enis Behiç Koryürek
- D) Yusuf Ziya Ortaç

3. "Bugün Pazar" adlı şiir, aşağıdaki şairlerden hangisine aittir?

- A) Ömer Faruk Toprak
- B) Arif Damar
- C) Nazım Hikmet
- D) Enver Gökçe

4. Şiirlerinde daha çok "ölüm, kader" gibi temaları işleyen şair aşağıdakilerden hangisidir?

- A) Ziya Osman Saba
- B) Muammer Lütfi
- C) Vasfi Mahir Kocatürk
- D) Kenan Hulusi Koray

5. Sokrates'in Savunması, Genç Osman, Cem Sultan gibi daha çok konusunu tarihten alan oyunlarıyla tanınan yazar, aşağıdakilerden hangisidir?

- A) Orhan Asena
- B) Güngör Dilmen
- C) Haldun Taner
- D) Turan Oflazoğlu

6. Şiirlerinde daha çok büyük şehrin içinde kaybolmuş insanın kırık, karanlık, karmaşık duygularını anlatan şair, aşağıdakilerden hangisidir?

- A) Cahit Külebi
- B) Fazıl Hüsnü Dağlarca
- C) Behçet Necatigil
- D) Asaf Halef Çelebi

7. Şiirlerini 1941'de "Garip" adlı bir kitapta toplayan şair, aşağıdakilerden hangisidir?

- A) Orhan Veli Kanık
- B) Rıfat Ilgaz
- C) Melih Cevdet Anday
- D) Cahit Irgat

8. Hecenin Beş Şairi 'nden biri olup, Anadolu edebiyatının en öne çıkan adıdır. İleri gazetesi adına 1922'de gittiği Ankara'da kalarak Kurtuluş hareketine katılmıştır. Milli ve yerli sanat anlayışına göre kaleme aldığı "Han Duvarları" adlı şiiri vardır.

Yukarıda sözü edilen şair aşağıdakilerden hangisidir?

- A) Mehmet Emin Yurdakul
- B) Yahya Kemal Beyatlı
- C) Mehmet Âkif Ersoy
- D) Faruk Nafiz Çamlıbel

9. "Kuyucaklı Yusuf" adlı roman aşağıdaki yazarlardan hangisine aittir?

- A) Reşat Nuri Güntekin
- B) Nedim Gürsel
- C) Sabahattin Âli
- D) Leyla Erbil

10. Aşağıdaki şair ve eseri eşleştirmelerinden hangisi yanlıştır?

- A) Ahmet Hamdi Tanpınar-Gezinti
- B) Attilâ İlhan-Öteki Yaz
- C) Nâzım Hikmet-Bugün Pazar
- D) Orhan Veli Kanık-Dalga

11. İçe dönük, maneviyatçı, bireyci şiirin başarılı örneklerini veren şair, aşağıdakilerden hangisidir?

- A) Necip Fazıl Kısakürek
- B) Faruk Nafiz Çamlıbel
- C) Yusuf Ziya Ortaç
- D) Ahmet Muhip Dıranas

12. Aşağıdaki şairlerden hangisi, "Yedi Meşaleciler" topluluğundan biri değildir?

- A) Yaşar Nabi Nayır
- B) Yahya Kemal Beyatlı
- C) Ziya Osman Saba
- D) Cevdet Kudret

13. Gezi edebiyatının ilk klasik örneğini veren seyyah aşağıdakilerden hangisidir?

- A) Stendhal
- B) Victor Hugo
- C) Dostoyevski
- D) Marco Polo

14. Aşağıdakilerden hangisi, devlet tarafından çıkarılan ilk resmi gazetedir?

- A) Takvim-i Vekayi
- B) Ceride-i Havadis
- C) İrade-i Mülkiye
- D) Tercüman-ı Ahval

15. Aşağıdaki gazetelerden hangisini İbrahim Şinasi ve Âgah Efendi çıkarmıştır?

- A) Vakit
- B) Ceride-i Havadis
- C) Takvim-i Vekayi
- D) Tercüman-ı Ahval

16. Deneme türünün öncüsü kabul edilen Fransız yazar, aşağıdakilerden hangisidir?

- A) Jean Paul Sartre
- B) Andre Malraux
- C) Montaigne
- D) Simone de Beauver

17. Yazarın herhangi bir konu üzerinde kesin hükümlere varmadan, kendi kişisel görüş ve düşüncelerini anlattığı yazı türüne ne ad verilir?

- A) Fıkra
- B) Deneme
- C) Röportaj
- D) Makale

18. Bir insanın gezip gördüğü yerlerden edindiği izlenimleri, bilgileri aktardığı yazılara ne ad verilir?

- A) Deneme
- B) Söylev
- C) Fıkra
- D) Gezi yazısı

19. Aşağıdakilerden hangisi, fıkra türünün özelliklerinden biri değildir?

- A) Daha çok güncel konuların ele alınması
- B) Bilimsel olması
- C) Amacının okuyucunun dikkatini çekmek onu düşünmeye yöneltmek olması
- D) Kısa yazılması

20. Aşağıdakilerden hangisi makale türlerinden biri değildir?

- A) Askeri makale
- B) Siyasal makale
- C) Başmakale
- D) Edebi makale

SINAVDA UYGULANACAK KURALLAR

1. Sınav süresince görevlilerle konuşmak ve soru sormak yasaktır. Aynı şekilde görevlilerin de öğrencilerle yakından ve alçak sesle konuşmaları yasaktır. Yanınızda ve sıranızda dersle ilgili kitap not vb. bulundurmamak yasaktır. Sınav sırasında kopya yapan, yapmaya teşebbüs eden, kopya veren, kopya yapılmasına yardım edenlerin kimlikleri BİREYSEL SINAV İPTAL TUTANAĞINA yazılacak ve bu öğrencilerin sınavları geçersiz sayılacaktır. Görevliler kopya yapmaya veya vermeye kalkışanları uyarmak zorunda değildir, sorumluluk size aittir.
Sınavda yetki verilmiş görevliler, bu salondaki sınavın kurallara uygun biçimde yapılmadığını, toplu kopya girişiminde bulunulduğunu raporlarında bildirdikleri veya üniversite sınav merkezince yapılan incelemeler sonucu toplu kopya yapıldığı saptandığı takdirde, Anadolu Üniversitesinin yetkili organları bu salonda sınava giren öğrencilerin tümünün sınavını geçersiz sayar.
2. Öğrenciler sınav sırasında görevlilerin her türlü uyarılarına uymak zorundadır. Gerekğinde görevliler oturduğunuz yerleri değiştirebilir. Sınavınızın geçerli sayılması, her şeyden önce sınav kurallarına uymanıza bağlıdır. Kurallara aykırı davranışta bulunanların ve yapılacak uyarılara uymayanların kimlikleri BİREYSEL SINAV İPTAL TUTANAĞINA yazılacak ve sınavları geçersiz sayılacaktır.
3. Sınav sırasında herhangi bir nedenle dışarı çıkmak yasaktır. Sınavın başlamasını izleyen ilk 30 dakika ve sınav süresinin son 5 dakikası içinde, sınavlarını tamamlasalar bile hiçbir öğrencinin salondan çıkmasına izin verilmeyecektir. Sınavın başlamasını izleyen ilk 15 dakikadan sonra hiç bir öğrenci sınava alınamaz.
4. Biraz sonra soru kitapçıkları dağıtılacaktır. Cevaplamaya geçmeden önce size verilecek soru kitapçığının üzerinde ayrılan yere, adınızı, soyadınızı, öğrenci numaranızı ve bu salonun numarasını yazınız. Sınav sonunda soru kitapçıkları toplanacak ve sınav merkezinde tek tek incelenecektir. Soru Kitapçığının bir tek sayfası eksik çıksa bile sınavınız geçersiz sayılacaktır.
5. Size verilen Cevap Kâğıdının üzerinde yazan numara ve ismin size ait olduğunu kontrol ediniz. Cevap Kâğıdı size ait değilse, görevlileri uyarıp size ait Cevap Kâğıdını alınız. Daha sonra Cevap Kâğıdı üzerinde ayrılmış olan yerlere öğrenci numaranızı ve test grubunuzu kodlayınız, adınızı soyadınızı yazınız ve ilgili yeri imzalayınız.
6. Cevap Kâğıdına yazılacak her türlü yazı, rakam ve yapılacak işaretlemeler için siyah kurşun kalem kullanılacaktır. Tükenmez kalem veya dolmakalem kesinlikle kullanılmayacaktır. Cevapların tümü CEVAP KÂĞIDINA İŞARETLENECEKTİR. Soru Kitapçıkları üzerine yapılan işaretlemeler kesinlikle değerlendirilmez. Her dersin cevabı, o dersin isminin yazılı olduğu sütuna işaretlenmelidir. Yanlış sütuna yapacağınız işaretlemeler kesinlikle değerlendirilmez.
7. Soru Kitapçığının sayfalarındaki boş yerleri müsvedde yapmak için kullanabilirsiniz. Başka bir kâğıdı müsvedde olarak kullanmak yasaktır. Bu tür işlemleri yapanların sınavları geçersiz sayılır.
8. Öğrencilerin sorulara verdikleri yanıtları herhangi bir yere yazmaları ve bunu sınav salonundan dışarıya çıkarmaları yasaktır. Bu kurala uymayanların sınavları geçersiz sayılır.
9. Sınav sırasında öğrencilerin birbirinden kalem, silgi vb. şeyleri istemesi kesinlikle yasaktır. Yasağa uymayanların sınavı geçersiz sayılır.
10. Sınav sırasında hesap makinesi kullanılabilir. Ancak, hesap makinesinin sınav sırasında ödünç alınması, verilmesi ve değiştirilmesi yasaktır. (Data Bank vb. gibi özel elektronik donanımlar kullanılamaz.) Bu tür davranışlarda bulunanların sınavları geçersiz sayılır.
11. Öğrenciler sınava gelirken telsiz, cep telefonu, çağrı cihazı vb. iletişim araçları ile görüntü kaydetmeye yarayan fotoğraf makinesi, kamera vb. araçları getirmemeleri konusunda sınava giriş belgelerinde uyarılmışlardır. Buna rağmen yanlarında bu tür cihazları getirenlerin, bunları sınav sonrasında almak üzere salon başkanına teslim etmeleri gerekir. Bu cihazları sınav salonunda yanlarında bulunduran öğrencilerin, cihazları kapalı bile olsa, o oturdaki sınavı geçersiz sayılacaktır. Bu cihazların kaybolmasından Üniversitemiz sorumlu olmayacaktır.
12. Biraz sonra dağıtılacak olan soru kitapçığında test ile ilgili açıklamalar yazılıdır. Bu açıklamaları okumadan ve size "SINAV BAŞLAMISHTIR" denmeden soruları cevaplamaya başlamayınız.

SINAVLARINIZDA BAŞARILAR DİLERİZ.