



ANADOLU ÜNİVERSİTESİ
AÇIKÖĞRETİM FAKÜLTESİ
BA - AÇIKÖĞRETİM OKULLARI

T.C. MİLLÎ EĞİTİM BAKANLIĞI
Hayat Boyu Öğrenme Genel Müdürlüğü
AÇIK ÖĞRETİM LİSESİ – BATI AVRUPA PROGRAMI
2012-2013 ÖĞRETİM YILI II.DÖNEM SINAVI
DÖRDÜNCÜ OTURUM - Pazar 13.00

TEST GRUBUNUZ

A 0104

CEVAP KÂĞIDINIZA İŞARETLEMİYİ UNUTMAYINIZ.

ÖĞRENCİNİN

SOYADI :

ADI :

ÖĞRENCİ NO :

SINAV SALON NO: SIRA NO:

Soyadınızı, adınızı, öğrenci numaranızı, salon ve sıra numaranızı yukarıya yazmayı unutmayınız.

GENEL AÇIKLAMA

1. Bu soru kitapçığındaki testler şunlardır:

Testin Adı	Soru Sayısı	Sayfa No	Testin Adı	Soru Sayısı	Sayfa No
DİN KÜLTÜRÜ VE AHLAK BİLGİSİ 2	20	2	EKONOMİ 1	20	34
DİN KÜLTÜRÜ VE AHLAK BİLGİSİ 5	20	4	BİYOLOJİ 6	20	36
TARİH 3	20	6	ÇAĞDAŞ TÜRK VE DÜNYA TARİHİ 2	20	38
TARİH 5	20	8	SAĞLIK BİLGİSİ 1	20	40
T.C. İNKILÂP TARİHİ VE ATATÜRKÇÜLÜK 1	20	11	GEOMETRİ 5	20	42
COĞRAFYA 5	20	13	GİRİŞİMCİLİK 1	20	46
MATEMATİK 1	20	15	SEÇMELİ COĞRAFYA 4	20	48
TURİZM 2	20	18	SEÇMELİ TÜRK EDEBİYATI 5	20	50
HUKUK 2	20	20	ALMANCA 7	20	52
DİL VE ANLATIM 8	20	22	İNGİLİZCE 7	20	55
TÜRK EDEBİYATI 4	20	24	FRANSIZCA 7	20	58
TÜRK EDEBİYATI 6	20	26	SEÇMELİ DİL VE ANLATIM 8	20	60
FİZİK 5	20	28			
KİMYA 6	20	31			

2. Bu kitapçıkta yer alan her bir test için cevaplama süresi **30** dakika, toplam sınav süresi **150** dakikadır.
3. Cevaplamaya istediğiniz testin, istediğiniz sorusundan başlayabilirsiniz. Yalnız cevaplarınızı, cevap kâğıdında o test için ayrılmış olan bölümdeki aynı numaralı cevap yerine işaretlemeyi unutmayınız.
4. Cevaplarınızı koyu siyah ve yumuşak bir kurşunkalemle işaretleyiniz. İşaretinizi cevap yerinin dışına taşırmayınız. Tükenmez veya mürekkepli kalem kullanmayınız.
5. Değiştirmek istediğiniz bir cevabı yumuşak bir silgi ile, cevap kâğıdını örselemeden temizce siliniz ve doğru cevabınızı işaretlemeyi unutmayınız.
6. Cevap kâğıdınızı buruşturmayınız, katlamayınız ve üzerine gereksiz hiçbir işaret koymayınız.
7. Bu kitapçıkta her sorunun bir tek doğru cevabı vardır. Bir soru için birden çok cevap yeri işaretlenmişse o soru yanlış cevaplanmış sayılacaktır.
8. Cevaplarınız puanlanırken her doğru cevabınıza eşit puan verilecek, yanlış cevaplarınız dikkate alınmayacaktır. Bu nedenle kitapçıkta tüm sorular için size doğru gelen seçeneği işaretleyerek cevapsız soru bırakmanız yararınıza olacaktır.
9. Kitapçığın sayfalarındaki boş yerleri müsvedde için kullanabilirsiniz.

Anadolu Üniversitesi tarafından hazırlanmış olan bu testlerin her hakkı saklıdır. Hangi amaçla olursa olsun, testlerin tamamının veya bir kısmının Anadolu Üniversitesi'nin yazılı izni olmadan kopya edilmesi, fotoğraflarının çekilmesi, herhangi bir yolla çoğaltılması, yayımlanması ya da kullanılması yasaktır. Bu yasağa uymayanlar gerekli cezai sorumluluğu ve testlerin hazırlanmasındaki mali külfeti peşinen kabullenmiş sayılır.

1. İlk evrensel insan hakları ilkeleri aşağıdakilerden hangisinde yer almaktadır?
A) Veda Hutbesi
B) İnsan Hakları Evrensel Beyannamesi
C) Birleşmiş Milletler Sözleşmesi
D) Magna Carta
2. Aşağıdakilerden hangisi, Hz. Musa'ya indirilen ve Yahudilerin dini öğretileri içerisinde yer alan "on emir" arasında sayılamaz?
A) Zina etmeyeceksin
B) Çalmayacaksın
C) Öldüreceksin
D) Anne ve babana hürmet edeceksin
3. Aşağıdakilerden hangisi Türk milletini bir arada tutan, toplumu birleştiren ortak değerlerden biri değildir?
A) Vatan ve ülkü birliği
B) Ferdîyetçilik
C) Bayrak
D) Milli seciye
4. Değerlerin en üst seviyesinde hangi kaynak yer almaktadır?
A) Ahlak
B) Sevgi
C) Hoşgörü
D) Vatanseverlik
5. Bir toplumda genel kabul gören veya benimsenen her türlü duygu, düşünce, davranış ve kurala ne ad verilir?
A) Fikir
B) Değer
C) Kanun
D) Devlet
6. Her insanın kendine has ve özgü olan, az veya çok her zaman gözlenebilen davranış ve alışkanlıklarına ne denir?
A) Kişilik
B) Alışkanlık
C) Örf
D) Asabiyet
7. Aşağıdakilerden hangisi İslam dininin korunmasını istediği beş temel ilke arasında yer almaz?
A) Namusun korunması
B) Malın korunması
C) Komşunun korunması
D) Aklın korunması
8. Osmanlı Devletinde "din ve vicdan hürriyeti ilkesi" ilk kez hangi belgede yer almıştır?
A) Tanzimat Fermanı
B) Islahat Fermanı
C) Kanun-i Esasi
D) Gülhane Hattı Hümayunu
9. Avrupa'daki kilise otoritesi hangi olayla son bulmuştur?
A) 1789 Fransa İhtilali
B) Yüzyıl Savaşları
C) Islahat Fermanı
D) Tanzimat Fermanı
10. Laikliğin Batı ülkelerinde doğuş sebebi aşağıdakilerden hangisidir?
A) Derebeylerin katlanılmaz hale gelen zulümleri
B) İslami yükselişin önüne geçme
C) Dünya işlerinin herşeyden önemli hale gelmesi
D) Kilisenin baskıcı tutumuna tepki
11. Aşağıdakilerden hangisi laikliğin temel amaçlarından biridir?
A) Dinin istismar edilmesine müsaade etmek
B) Dinde ruhbanlık anlayışının oluşmasını sağlamak
C) Devletin din ve mezheplere karşı taraflı davranmasını sağlamak
D) Herkesin kanun önünde eşit olmasını sağlamak
12. Dini emirlerin ilk muhatabı olan yeryüzündeki ilk peygamber aşağıdakilerden hangisidir?
A) Hz. Adem
B) Hz. Nuh
C) Hz. İdris
D) Hz. Musa

13. İnsanın bu dünyada yaptıklarından dolayı hesaba çekileceği yer neresidir?

- A) Mahkeme
- B) Vicdan
- C) Arafat
- D) Ahiret

14. Aşağıdakilerden hangisi Türklerin İslamiyeti benimsemesinde etkili olan sebeplerden biri değildir?

- A) İslamın hak ve gerçek din olması
- B) Müslüman tüccarların dürüstlüğü
- C) Gök Tanrı inancı ile İslam dininin benzeşmemesi
- D) İslam dininin hoşgörü ve sevgi anlayışı

15. İlk Müslüman Türk Devleti aşağıdakilerden hangisidir?

- A) Karahanlılar
- B) İtil Volga Bulgar Devleti
- C) Gazneliler
- D) Selçuklular

16. Aşağıdakilerden hangisi Türklerin benimsediği Gök Tandı inancının esasları arasında yer almaz?

- A) Tanrı yaratan, yaşatan ve koruyandır.
- B) Dünya hayatından sonra sonlu bir hayat vardır.
- C) Dünyada iyilik edenler öldükten sonra karşılık olarak iyi bir yere gideceklerdir.
- D) Bir ve tek olan Gök Tanrı vardır.

17. Ebu Hanife'nin asıl adı nedir?

- A) Cafer Bin Tayyar
- B) Amr Bin As
- C) Numan Bin Sabit
- D) İmam Maturidi

18. Mesnevi kimin eseridir?

- A) Yunus Emre
- B) Hacı Bektaş Veli
- C) Mevlana
- D) Ahmet Yesevi

19. Türklerin Müslüman Araplarla yakınlaşmasına sebep olan ve Müslümanlığa geçişlerini hızlandıran asıl olay nedir ve kimlerin zamanında gerçekleşmiştir?

- A) Talas Savaşı – Emeviler
- B) Talas Savaşı – Abbasiler
- C) Kadisiye Savaşı – Abbasiler
- D) Nihavent Savaşı – Emeviler

20. Aşağıdakilerden hangisi Türklerin İslamiyetten önce benimsediği dinlerden biri değildir?

- A) Budizm
- B) Zerdüştlük
- C) Manihaizm
- D) Musevilik

1. Aşağıdakilerden hangisi Hz. Muhammed'e duyulan sevgi ve özlemi dile getiren bir eser yazmamıştır?

- A) Yunus Emre
- B) Ahmet Yesevi
- C) Dede Korkut
- D) Süleyman Çelebi

2. *Muhammed gönümüzün aynası
Salavat verenin nur olsun sesi
On sekiz bin âlemin Mustafa'sı
Ya Muhammed sana imdada geldim*

Yukarıdaki mısraların yazarı aşağıdakilerden hangisidir?

- A) Süleyman Çelebi
- B) Pir Sultan Abdal
- C) Hatayi (Şah İsmail)
- D) Kaygusuz Abdal

3. Peygamberimiz döneminde görülen, müşriklerin, sıkıntı ve işkenceleri sonucu bütün mal varlıklarını hatta çocuklarını Mekke'de bırakıp, Medine'ye göç eden muhacirlere ensarların evlerini açıp, her şeylerini paylaşmaları hangi kavramla açıklanır?

- A) Fedakarlık
- B) Diğerkâmlık
- C) Alçak gönüllülük
- D) Dürüstlük

4. Hz. Muhammed'in torunu olan Hz. Hasan'ın soyundan gelenlere ne ad verilir?

- A) Şerif
- B) Seyyid
- C) Furkan
- D) Semih

5. Hz. Hüseyin'in soyundan gelenlere ne ad verilir?

- A) Şerif
- B) Seyyid
- C) Semih
- D) Habibullah

6. Aşağıdakilerden hangisi Kur'an-ı Kerim'de tarif edilen örnek insanın özelliklerinden biri değildir?

- A) Hoşgörülü ve bağışlayıcı
- B) Güvenilir
- C) Anne babasına iyi davranan
- D) Kibirli ve gururlu

7. Aşağıdakilerden hangisi cüzi iradeye bir örnektir?

- A) Namaz kılmak
- B) Türk olmak
- C) Erkek olmak
- D) Nefes almak

8. "Biz her şeyi belli bir ölçüye göre yarattık." ayetinde aşağıdakilerden hangisinin önemi vurgulanmıştır?

- A) Sosyal yardımlaşmanın önemi
- B) İnsanın akıl sahibi olması
- C) Ahiret hayatına iman
- D) Kadere iman

9. Bir öğrencinin planlı ve düzenli biçimde dersine çalıştıktan sonra Allah'a güvenip ondan yardım dilemesi aşağıdakilerden hangisini örnekler?

- A) Tevekkül
- B) Kader
- C) Kaza
- D) Tesadüf

10. Aşağıdakilerden hangisi Siyasi-İtikadi mezheplerden biridir?

- A) Şafiiilik
- B) Malikilik
- C) Maturidilik
- D) Caferilik

11. Ehlisünnet inancının sistemini oluşturan akım aşağıdakilerden hangisidir?

- A) Maturidilik
- B) Eşarilik
- C) Şiiilik
- D) Mutezile

12. Aşağıdakilerden hangisi ibadet etmenin insana kazandırdıklarından biri değildir?

- A) Güven duygusunu geliştirmesi
- B) Sorumluluk bilincini geliştirmesi
- C) Kişiyi gurur ve kibire yaklaştırması
- D) İnsanın yaratan ile ilişkisini güçlendirmesi

13. İbadetleri yerine getirirken istekli olmanın yanı sıra samimiyet, içtenlik, maddi çıkar gözetmeme ve yalnızca Allah'ın rızasını kazanma adına yapma duygusuna ne ad verilir?

- A) Kasıt
- B) Niyet
- C) Hayâ
- D) İhlas

14. Aşağıdaki mezheplerden hangisinin temel düşüncesi Hz. Ali ve onun soyundan gelen on iki imama inanmaktır?

- A) Hanbelilik
- B) Caferilik
- C) Şafilik
- D) Malikilik

15. Aşağıdakilerden hangisi Kur'an-ı Kerim'de tarif edilen örnek insanın özelliklerinden biri değildir?

- A) Fedâkâr olan
- B) İsraktan kaçınan
- C) Tövbe eden
- D) Yanlışlarında ısrar eden

16. Hanefilik mezhebi ile ilgili aşağıdaki ifadelerden hangisi yanlıştır?

- A) Malik b. Enes'in görüşlerinin etrafında oluşan bir mezheptir.
- B) Osmanlı Devleti'nin resmi mezhebidir.
- C) Dini konuların çözümünde başvurulacak ana kaynak Kur'an-ı Kerim ve sünnettir.
- D) Müslüman bilginlerin ortaya attığı fikir ve düşünceler icmadır.

17. Bir insanın iradesini ancak güç yetirebildiği alanlarda kullanabilmesi ve gücünün sınırlı olması aşağıdakilerden hangisini tanımlar?

- A) Külli irade
- B) Tevekkül
- C) Cüzi irade
- D) Kaza

18. Allah'ın önceden takdir edip belirlediği olayların zamanı geldiğinde Allah'ın takdirine uygun şekilde gerçekleşmesine ne ad verilir?

- A) Kader
- B) Kaza
- C) Ecel
- D) İrade

19. Allah'ın başlangıçtan sonsuza kadar olmuş ve olacak olan tüm olayların yerini, zamanını bilip takdir etmesine ne ad verilir?

- A) Kaza
- B) İrade
- C) Kader
- D) Yaratılış

20. Osmanlı Devleti'nin resmi mezhebi aşağıdakilerden hangisidir?

- A) Hanbelilik
- B) Şiilik
- C) Şafilik
- D) Hanefilik

1. Osmanlı Devleti hükümdarlarından Orhan Bey'in temel politikası aşağıdakilerden hangisidir?
 - A) Anadolu'da düzeni sağlayıp Rumeli'ye geçmektir.
 - B) Karesi Beyliği'nden Marmara sahillerinin alınmasıdır.
 - C) Gelibolu Yarımadası'ndaki Çimpe Kalesi'ni fethetmektir.
 - D) Balkanlara yerleşmektir.
2. Karamanoğulları Beyliğine tamamen son veren Osmanlı hükümdarı aşağıdakilerden hangisidir?
 - A) Fatih Sultan Mehmet
 - B) Orhan Bey
 - C) II. Bayezit
 - D) I. Murat
3. Aşağıdakilerden hangisi Koyunhisar Savaşı'nın önemini ifade eder?
 - A) Bursa ve İzmit'in ele geçirilmesini sağlamıştır.
 - B) Sakarya Havzası ve Marmara Bölgesinde genişleme sağlanmıştır.
 - C) Osmanlılarda denizcilik faaliyetleri başlamıştır.
 - D) Osmanlı ile Bizans arasında yapılan ilk savaştır.
4. Osmanlı Devleti'nin ikinci kurucusu sayılan Osmanlı hükümdarı aşağıdakilerden hangisidir?
 - A) Yıldırım Bayezit
 - B) I. Mehmet (Çelebi)
 - C) Süleyman Çelebi
 - D) İsa Çelebi
5. Aşağıdakilerden hangisi Osmanlı tarihinde İstanbul'u kuşatanlardan biri değildir?
 - A) Musa Çelebi
 - B) II. Murat
 - C) Mustafa Çelebi
 - D) I. Bayezit
6. Osmanlı Devleti'nin ilk hükümdarı aşağıdakilerden hangisidir?
 - A) Osman Bey
 - B) Ertuğrul Gazi
 - C) I. Alâeddin Keykubat
 - D) Orhan Bey
7. Aşağıdakilerden hangisi Sırp Sındığı Savaşı'nın sonuçlarından biri değildir?
 - A) Türkler, Balkanlarda hızla ilerlemeye başladı.
 - B) Balkanlar'daki Macar etkisi kırıldı.
 - C) Trakya'nın fethi tamamlandı.
 - D) Makedonya yolu Osmanlılara açıldı.
8. Osmanlı Devleti'nin en geniş sınırlarına ulaştığı yüzyıl aşağıdakilerden hangisidir?
 - A) XVIII yy.
 - B) XVI. yy.
 - C) XVII. yy
 - D) XIX. yy
9. Aşağıdakilerden hangisi II.Viyana Kuşatmasının önemini ifade eder?
 - A) Osmanlı Devleti, ilk kez toprak kaybetmiştir.
 - B) Osmanlı Devleti, doğuda en geniş sınırlara ulaşmıştır.
 - C) Çok uluslu devletlerin dağılmasına zemin hazırlamıştır.
 - D) Osmanlı Devleti, batıdaki topraklarından çekilme dönemine girmiştir.
10. 1877-1878 Osmanlı-Rus Savaşı sonucunda imzalanan antlaşma aşağıdakilerden hangisidir?
 - A) Ayastefanos Antlaşması
 - B) Berlin Antlaşması
 - C) Edirne Antlaşması
 - D) Bükreş Antlaşması

11. Sırbistan'a özerklik tanıyan antlaşma aşağıdakilerden hangisidir?

- A) Bükreş Antlaşması
- B) Karlofça Antlaşması
- C) Edirne Antlaşması
- D) Uşi Antlaşması

12. Osmanlılara isyan eden ilk Balkan milleti aşağıdakilerden hangisidir?

- A) Yunanlar
- B) Sırpalar
- C) Bulgarlar
- D) Ruslar

13. Yeniçeriler tarafından öldürülen ilk padişah aşağıdakilerden hangisidir?

- A) III. Murat
- B) II. Osman (Genç Osman)
- C) IV. Mehmet
- D) IV. Murat

14. Aşağıdakilerden hangisi İngiltere'nin aracılığıyla düzenlenen İstanbul Konferansına katılan ülkelerden biri değildir?

- A) Rusya
- B) Japonya
- C) İtalya
- D) Almanya

15. Osmanlı tarihinde zaferle sonuçlanan son büyük meydan savaşı aşağıdakilerden hangisidir?

- A) Haçova Savaşı
- B) Trablusgarb Savaşı
- C) II. Balkan Savaşı
- D) I. Balkan Savaşı

16. Aşağıdakilerden hangisi I. Dünya Savaşı sonunda imzalanan barış antlaşmalarından biri değildir?

- A) Saint Germain Antlaşması
- B) Sevr Antlaşması
- C) Trianon Antlaşması
- D) Lozan Antlaşması

17. XVI. yüzyılda tabii bilimlerdeki gelişmelerin öncüsü aşağıdakilerden hangisidir?

- A) Kopernik
- B) Newton
- C) Galileo
- D) Adam Smith

18. Aşağıdakilerden hangisi 1848 ihtilallerinin görüldüğü devletlerden biri değildir?

- A) Fransa
- B) İtalya
- C) Çin
- D) İngiltere

19. Türkiye'de uluslararası ilk serginin açıldığı şehir aşağıdakilerden hangisidir?

- A) Ankara
- B) İstanbul
- C) İzmir
- D) Bursa

20. İngiltere'nin 13 koloninin bağımsızlık hakkını tanımak zorunda kaldığı antlaşma aşağıdakilerden hangisidir?

- A) Versay Antlaşması
- B) Vasvor Antlaşması
- C) Sevr Antlaşması
- D) Saint Germain Antlaşması

1. Gök Tanrı inancı yanında Şamanizm de yaygındı. Tapınak ve Tanrı heykelleri yapmazlar, savaş tanrısı için her yıl iki metre yüksekliğinde bir odun yığını yaparlar ve bunun üzerine Savaş tanrısını simgeleyen bir kılıç dikerlerdi. Ölümden sonra bir hayatın varlığına inanırlar ve ölülerini mumyalarlardı.

Yukarıda bahsedilen Türk kavmi aşağıdakilerden hangisidir?

- A) Oğuzlar
B) İskitler
C) Kumanlar
D) Peçenekler

2. **Anav kültürü ile ilgili aşağıdaki ifadelerden hangisi yanlıştır?**

- A) Günümüzde Türkmenistan'ın başkenti Aşkabat yakınlarındaki Anav bölgesindeki kazılar sonucunda ortaya çıkarılmıştır.
B) Göçebe kültüre sahip Türklerin oluşturdukları bir kültürdür.
C) Bu kültüre mensup insanların tarım yaptıkları bilinmektedir.
D) Bu kültüre mensup insanların dokuma ve seramik eşya yaptıkları bilinmektedir.

3. **Uzun süren İran-Turan savaşlarının anlatıldığı ve Firdevsi tarafından kaleme alınan eser aşağıdakilerden hangisidir?**

- A) Şehname
B) Turanname
C) Divan
D) İskitname

4. **Bizans ve Hun Devleti arasında imzalanan Anatolyos Antlaşması ile ilgili aşağıdaki ifadelerden hangisi yanlıştır?**

- A) Bizans, savaş tazminatı verecek.
B) Niş'de bir ortak Pazar kurulacak.
C) Tuna'nın güneyinde beş günlük mesafedeki yerler askerden arındırılacak.
D) Bizans ödediği yıllık vergi iki katına çıkaracak.

5. **Turfan ovası içinde yer alan Hoço şehri aşağıdaki devletlerden hangisine başkentlik yapmıştır?**

- A) Doğu Türkistan (Turfan) Uygur Devleti
B) Kansu Uygur Devleti
C) Türgişler
D) II. Göktürk Devleti

6. **Çin'de Kansu bölgesinde bir devlet kuran Buda dininin ateşli savunucuları olan Kansu Uygur Devleti adıyla da anılan devletin diğer adı aşağıdakilerden hangisidir?**

- A) Sarı Uygur Devleti
B) II. Uygur Devleti
C) Karahanlılar
D) Kutluklar

7. **Tanhu veya Şanyü unvanları ne anlama gelir?**

- A) Bir Asya Hun hükümdarıdır.
B) Asya Hun Devleti'ni kuran en güçlü boydur.
C) Asya Hun Devleti'nin egemenliğinin merkezini teşkil eden bölgedir.
D) Asya Hun hükümdarının unvanlarıdır. Gök-Tanrı'nın tahta çıkardığı hükümdar olarak kabul edilir.

8. Kaşgarlı Mahmut'a göre, Türk kelimesi ne anlama gelir?

- A) Yaratılmış mahluk
- B) Güçlü kuvvetli
- C) Türelî
- D) Olgunluk çağı

9. Budist misyonerlerin etkisinde kalarak, Türk karakterine uymayan Buda dinini kabul edip tapınak yaptıran ve Çin'e olan hayranlığı halkın tepkisine yol açan, 572-581 yılları arasında hüküm süren Göktürk kağanı aşağıdakilerden hangisidir?

- A) Mukan Kağan
- B) İşbara Kağan
- C) Bilge Kağan
- D) Tapo Kağan

10. V. yy'dan itibaren Heftal adındaki hükümdar sülalesi tarafından yönetildiği için Eftalitler de denen devletin adı aşağıdakilerden hangisidir?

- A) Gök-Türkler
- B) Uygurlar
- C) Memlükler
- D) Akhunlar

11. Akhun Devleti aşağıdakilerden hangisinin saldırıları sonucu yıkılmıştır?

- A) Bizans
- B) Çin
- C) Gök-Türk ve Sasani
- D) Asya Hunları ve Vizigotlar

12. Bilinen Türk tarihi aşağıdaki devletlerden hangisi ile başlar?

- A) Gök-Türkler
- B) Büyük Hun Devleti
- C) Kutluk Devleti
- D) Uygurlar

13. Üç farklı dilde üç sütun halinde yazılmış olan Kodeks Kumanikus adlı sözlük aşağıdaki dillerden hangisini içermez?

- A) Yunanca
- B) Latince
- C) Farsça
- D) Kumanca

14. İslamiyet kabul eden ilk Türk topluluğu aşağıdakilerden hangisidir?

- A) Basmiller
- B) Karluklar
- C) Uygurlar
- D) Uzlar

15. Volga nehri ile Ural dağları arasında yaşayan Fin-Ugor kavimlerinin en doğudaki kolu olan Ugor kolu güneye, bozkıra inerek burada On-Ogur Türkleri ile karışması sonucu aşağıdaki kavimlerden hangisi ortaya çıkmıştır?

- A) Bulgar
- B) Karluk
- C) Macar
- D) Kuman

16. Esas kitlesini Sabarlar oluşturduğu için aşağıdakilerden hangisi Sabar Türklerinin devamı sayılmıştır?

- A) Hunlar
- B) Avarlar
- C) Hazarlar
- D) Peçenekler

17. Moğol hâkimiyetine giren ilk Türk kavmi aşağıdakilerden hangisidir?

- A) Türgişler
- B) Peçenekler
- C) Kırgızlar
- D) Avarlar

18. İlk Türk devletlerinde toplumun yapısı ile ilgili Orhun Yazıtlarında geçen Urug ne anlama gelir?

- A) Aile
- B) Boylar Birliği
- C) Aileler Birliği - Sülale
- D) Devlet

19. Aşağıdaki destanlardan hangisi Kırgızlara aittir?

- A) Türeyiş
- B) Manas
- C) Alp Er Tunga
- D) Bozkurt

20. Arap ve Bizans kaynaklarında Avar ismi ile geçen Türk kavmi aşağıdakilerden hangisidir?

- A) Juan Juan
- B) Sabar
- C) Uz
- D) Karluk

1. Aşağıdakilerden hangisi Birinci TBMM'nin kuruluş amaçlarından biri değildir?

- A) Arap alfabesinin kaldırılması
- B) Ulusal birliğin sağlanması
- C) Düzenli ordunun kurulması
- D) Ulusal iradenin egemen kılınması

2. Son Osmanlı Mebuslar Meclisi'nin aşağıdaki kararlarından hangisi İstanbul'un resmen işgaline yol açmıştır?

- A) Yeni vergi yasalarının kabul edilmesi
- B) Misâk-ı Milli'nin kabul edilmesi
- C) İstiklal mahkemelerinin kurulması
- D) Felâh-ı Vatan Grubu'nun kurulması

3. I.TBMM Hükümeti, savaş yapmadan ve bir antlaşma sonucu hangi bölgeyi ele geçirmiştir?

- A) Ege Bölgesi
- B) Doğu Anadolu
- C) Doğu Trakya
- D) İç Anadolu

4. Paris Barış Konferansı'nda İzmir ve çevresini aşağıdaki devletlerden hangisinin işgal etmesi kararlaştırılmıştır?

- A) Yunanistan
- B) Fransa
- C) Avusturya
- D) İngiltere

5. Büyük Taarruz'dan sonra Boğazlara yaklaşan TBMM Hükümeti'ne bağlı ordular, buradaki işgalci devletlerin hangisiyle savaşın eşliğine gelmiştir?

- A) İtalya
- B) Fransa
- C) Sovyetler Birliği
- D) İngiltere

6. Aşağıdakilerden hangisi Kuvayımilliye birliklerinin özelliklerinden biri değildir?

- A) Bölgesel nitelik taşımaları
- B) Düzenli birlikler olmaları
- C) Masrafları ve ihtiyaçlarının halk tarafından karşılanması
- D) Kurulmalarında milliyetçilik duygusunun ağır basması

7. Aşağıdakilerden hangisi milli mücadeleye karşı yapılan ayaklanmalardan biri değildir?

- A) 31 Mart Vak'ası
- B) Düzce
- C) Kuva-yı İnzibatiye
- D) Yozgat

8. Kuva-yı Milliye teşkilâtı aşağıdaki gelişmelerden hangisiyle sona ermiştir?

- A) Sivas Kongresi
- B) Mondros Ateşkesi
- C) TBMM'nin açılması
- D) Düzenli ordunun kurulması

9. Kurtuluş Savaşı sırasında Doğu Cephesi'nde Ermenilerle yapılan mücadeleler esnasında Türk Ordusunun komutanı aşağıdakilerden hangisidir?

- A) İsmet (İnönü) Paşa
- B) İsmail Fazıl Paşa
- C) Mustafa Kemal Paşa
- D) KazımKarabekir Paşa

10. Basın ve yayın yolu ile işgallerin haksızlığını dünya kamuoyuna duyurmak amacıyla İstanbul'daki yazar ve aydınlar tarafından kurulan ve Kuvayımilliye ifadesini ilk kullanan cemiyet aşağıdakilerden hangisidir?

- A) Kilikyalılar Cemiyeti
- B) İzmir Müdafaa-i Hukuk-u Osmaniye Cemiyeti
- C) Hürriyet ve İtilaf Fırkası
- D) Milli Kongre Cemiyeti

11. TBMM'nin uluslararası alanda kazandığı ilk ve önemli başarı aşağıdakilerden hangisidir?

- A) Moskova Antlaşması
- B) Kars Antlaşması
- C) Gümrü Antlaşması
- D) Mudanya Ateşkes Antlaşması

12. Manda ve himayenin kesin bir biçimde reddedildiği kongre aşağıdakilerden hangisidir?

- A) Balıkesir Kongresi
- B) Sivas Kongresi
- C) Edirne Kongresi
- D) Alaşehir Kongresi

13. Osmanlı Devleti, Kuzey Afrika'daki son topraklarını hangi antlaşma ile kaybetmiştir?

- A) İstanbul Antlaşması
- B) Berlin Antlaşması
- C) Uşi Antlaşması
- D) Atina Antlaşması

14. Anadolu'nun güvenli bir yeri olan Sivas'ta millî bir kongrenin toplanması kararı aşağıdakilerden hangisinde alınmıştır?

- A) Erzurum Kongresi'nde
- B) Amasya Genelgesi'nde
- C) Sivas Kongresi'nde
- D) Misak-ı Millî Kararları'nda

15. Millî Mücadele döneminde Güney Cephesi'nde Türk halkı aşağıdaki devletlerden hangisinin Urfa, Maraş ve Antep illerini işgal etmesine karşı mücadele etmiştir?

- A) İngiltere
- B) Yunanistan
- C) Fransa
- D) Rusya

16. İlk TBMM'nin 20 Ocak 1921'de ilân ettiği "Teşkilât-ı Esasiye Kanunu"nun tanımı aşağıdakilerden hangisidir?

- A) Meclisin çalışma prensipleridir.
- B) Yeni Türk Devleti'nin ilk Anayasası'dır.
- C) Vergi yasasıdır.
- D) İstanbul Hükümeti'ne yazılmış bir mektuptur.

17. Aşağıdaki konulardan hangisi Lozan Barış Konferansı'nda, TBMM Hükümeti'nin görüşmeleri yarıda bırakarak Ankara'ya dönmesine neden olmuştur?

- A) Batı Trakya
- B) Patrikhane
- C) Kapitülasyonlar
- D) Suriye sınırı

18. II.Meşrutiyet'in ilanını sağlayan siyasi kuruluş aşağıdakilerden hangisidir?

- A) İttihat ve Terakki Cemiyeti/Partisi
- B) İttihad-ı Muhammedi Partisi
- C) Osmanlı Ahrar Partisi
- D) Osmanlı Demokrat Partisi

19. Mustafa Kemal, Türk Ordusunu hangi savaşa hazırlamak ve savaş gücünü artırmak için Tekâlif-i Milliye Emirlerini yayınlamıştır?

- A) I. İnönü Muharebesi
- B) Dumlupınar Meydan Savaşı
- C) II. İnönü Muharebesi
- D) Sakarya Meydan Muharebesi

20. Büyük Taarruz'un TBMM ordularının zaferiyle sonuçlanması, aşağıdaki gelişmelerden hangisini sağlamıştır?

- A) Mudanya Ateşkes Antlaşması'nı
- B) Sevr Barış Antlaşması'nı
- C) Mondros Ateşkes Antlaşması'nı
- D) Londra Konferansı'nı

1. Aşağıdaki şehirlerden hangisi liman fonksiyonu sayesinde küresel bir etkiye sahiptir?

- A) Moskova
- B) Milano
- C) Marsilya
- D) Zürih

2. Soğuk iklim bölgelerinde görülen ağaçsız kaya yosunları, likenler, otlar ve bazı çalılardan oluşan bitki topluluğu aşağıdakilerden hangisidir?

- A) Savan
- B) İğne yapraklı ormanlar
- C) Tundra
- D) Ilıman çayırlar

3. Aşağıdakilerden hangisi canlıların yeryüzüne dağılışını etkileyen coğrafi faktörlerden biri değildir?

- A) İklim
- B) Yer şekilleri
- C) Toprak
- D) Ekonomi

4. Aşağıdakilerden hangisi karbondioksitin açığa çıkma yollarından biri değildir?

- A) Kara ve deniz bitkileri tarafından fotosentez yapılması
- B) Canlıların solunum yapması
- C) Orman yangınları ve ölen canlıların çürümesi
- D) Karbonatlı kayaların, fiziksel ve kimyasal yollarla ayrışması

5. Çöl ortasında kurulan ve İslamiyet' le birlikte önem kazanan küçük şehir aşağıdakilerden hangisidir?

- A) Bakü
- B) Mekke
- C) Şam
- D) Halep

6. Aşağıdakilerden hangisi dünya eko sistemini oluşturan unsurlardan biri değildir?

- A) Atmosfer
- B) Hidrosfer
- C) Sitosfer
- D) Litosfer

7. Avrupa'nın en büyük sanayi bölgelerinden biri olan Ruhr Bölgesinde kurulan ve çevresindeki geniş kömür yataklarına bağlı olarak gelişen şehir aşağıdakilerden hangisidir?

- A) Tokyo
- B) Essen
- C) Bayburt
- D) Marsilya

8. Havadaki su buharının sıvı hale geçmesine ne ad verilir?

- A) Yoğuşma
- B) Terleme
- C) Buharlaşma
- D) Yağış

9. Aşağıdakilerden hangisi nüfus artış hızının düşmesinin sağlayacağı yararlarından biri değildir?

- A) Anne ve bebeklerin sağlık düzeylerinin yükselmesi
- B) Eğitim oranının yükselmesi
- C) İş gücüne duyulan ihtiyacın artması
- D) İktisadi gelişmenin iyileşmesi

10. Benzer bitki ve hayvan topluluklarını barındıran bölgelere ne ad verilir?

- A) Biyom
- B) Ekosistem
- C) Tundra
- D) Savan

11. Aşağıdakilerden hangisi tropikal yağmur ormanlarında yaşayan hayvanlardan biri değildir?

- A) Fil
- B) Şempanze
- C) Yarasa
- D) Ren geyiği

12. Ülkemizde güneş enerjisi için en elverişli kesim aşağıdakilerden hangisidir?

- A) Rize ve çevresi
- B) Antalya ve çevresi
- C) İstanbul ve çevresi
- D) Ankara ve çevresi

13. Aşağıdaki şehirlerden hangisi bir liman şehri değildir?

- A) Amsterdam
- B) Varşova
- C) İstanbul
- D) Marsilya

14. Akım ve yatak özellikleri dikkate alındığında aşağıdaki akarsulardan hangisinin hidroelektrik potansiyeli daha yüksektir?

- A) Çoruh Nehri
- B) Küçük Menderes
- C) Asi Nehri
- D) Gediz

15. Aşağıdakilerden hangisi çöllerde yaşayan hayvanlardan biri değildir?

- A) Yılan
- B) Kertenkele
- C) Akbaba
- D) Lama

16. Tundra biyomunun bitki örtüsü aşağıdakilerden hangisidir?

- A) Ağaçsız kaya yosunları, likenler, otlar ve küçük çalılar
- B) İğne yapraklı orman
- C) Tayga, boreal ormanları
- D) Sonbaharda yapraklarını döken ağaçlardan oluşan ormanlar

17. Aşağıdakilerden hangisi şehirlerde en az yürütülen faaliyet alanlarından biridir?

- A) Ticaret
- B) Turizm
- C) Sanayi
- D) Tarım

18. Aşağıdakilerden hangisi Türkiye'deki dağlık ve engebeli bölgelere örnektir?

- A) Konya ve çevresi
- B) Artvin ve çevresi
- C) Adana ve çevresi
- D) Şanlıurfa ve çevresi

19. Nüfus artış hızının düşürülmesi için aşağıdaki önlemlerden hangisi daha etkili ve kalıcıdır?

- A) Küçük yaşta evliliklerin teşvik edilmesi
- B) Az çocuklu ailelere vergi indirimini uygulanması
- C) Aile planlaması ve doğum kontrolünün yaygınlaştırılması
- D) İç göçlerin teşvik edilmesi

20. Bioçeşitlilik açısından aşağıdaki bölgelerden hangisi daha zengindir?

- A) Tundra bölgesi
- B) Step bölgesi
- C) Çöl bölgesi
- D) Ekvatorial bölge

1. $(\forall x, x < 3) \vee (\exists x, x^2 - 3 > 0)$ önermesinin olumsuzu aşağıdakilerden hangisidir?

- A) $(\exists x, x \geq 3) \wedge (\forall x, x^2 - 3 \leq 0)$
- B) $(\exists x, x \leq 3) \wedge (\exists x, x^2 - 3 \leq 0)$
- C) $(\forall x, x < 3) \vee (\exists x, x^2 - 3 > 0)$
- D) $(\forall x, x \geq 3) \vee (\forall x, x^2 - 3 < 0)$

2. D doğru bir önerme, Y yanlış bir önerme ve p, q herhangi iki önermedir.

Buna göre, $[(p \Rightarrow q) \wedge Y] \Leftrightarrow D$ bileşik önermesi aşağıdakilerden hangisine denktir?

- A) D
- B) $p \vee q$
- C) $p \wedge q$
- D) Y

3. $p' \Rightarrow q$ koşullu önermesinin karşıt-tersi aşağıdakilerden hangisidir?

- A) $q \Rightarrow p$
- B) $q' \Rightarrow p$
- C) $q' \vee p'$
- D) $p' \wedge q$

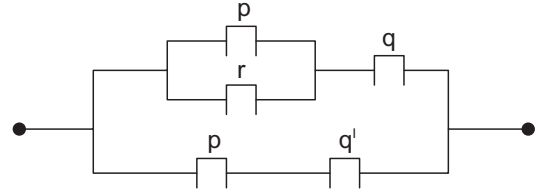
4. $a \wedge [(0 \wedge 1) \wedge (1 \vee 0)]' \equiv 0$ önermesi için, a yerine aşağıdaki önermelerden hangisi gelemez?

- A) $0 \Leftrightarrow 1$
- B) $1 \Rightarrow 0$
- C) $(1 \vee 0)'$
- D) $0 \Leftrightarrow 0$

5. Aşağıdakilerden hangisi bir önerme değildir?

- A) Doktora gidiyorum.
- B) 7, bir çift sayıdır.
- C) Bir ayda otuz gün vardır.
- D) Ay, Dünya'nın uydusudur.

6.



Şekildeki elektrik devresine karşı gelen bileşik önerme aşağıdakilerden hangisidir?

- A) $((p \vee r) \vee q) \vee (p \vee q')$
- B) $((p \vee r) \wedge q) \vee (p \wedge q')$
- C) $((p \wedge r) \vee q) \wedge (p \vee q')$
- D) $((p \wedge r) \wedge q) \wedge (p \wedge q')$

7. $A = \{1, 2, \{3\}, \{4\}, \{5, 6\}\}$ kümesi veriliyor.

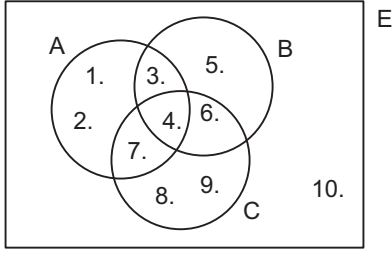
Buna göre, aşağıdakilerden hangisi A'nın bir alt kümesi değildir?

- A) $\{1\}$
- B) $\{2\}$
- C) $\{3\}$
- D) $\{1, 2\}$

8. Verilen 7 önerme için kaç tane doğruluk değeri vardır?

- A) 28
- B) 32
- C) 64
- D) 128

9.



Yukarıda Venn şeması ile verilen E evrensel kümesine göre, $A \setminus (B \cap C)$ kümesi aşağıdakilerden hangisidir?

- A) {4, 6}
 B) {3, 4, 6, 10}
 C) {5, 8, 9, 10}
 D) {4, 5, 6, 8, 10}

10. Bir sınıfta İngilizce bilen 14 kişi, Almanca bilen 9 kişi, Fransızca bilen 3 kişi, İngilizce ve Almanca bilen 6 kişi vardır.

Fransızca bilen başka bir dil bilmediğine göre, bu sınıfta en az kaç kişi vardır?

- A) 17
 B) 20
 C) 26
 D) 30

11. I. $A = \{\text{Bir yıldaki mevsim sayıları}\}$
 II. $B = \{\text{SİLGİ kelimesinin harfleri}\}$
 III. $C = \{k, l, \{m, n\}\}$
 IV. $D = \{1 \text{ ile } 10 \text{ arasındaki asal sayılar}\}$

$s(K)=4$ olduğuna göre, yukarıdaki kümelerden hangileri K kümesine denktir?

- A) Yalnız II
 B) I ve III
 C) II ve IV
 D) I, II ve IV

12. $A=\{11, 12, 13, 14, 15\}$ kümesinin alt kümelerinden kaç tanesinde 12 elemanı bulunur?

- A) 8
 B) 12
 C) 16
 D) 24

13. $(2^{x+2}, 3y-x) = (16, 13)$ olduğuna göre, (x, y) ikilisi aşağıdakilerden hangisidir?

- A) (2, 3)
 B) (2, 4)
 C) (2, 5)
 D) (3, 4)

14. $K = \{x \mid |2x-1| < 7, x \in \mathbb{N}\}$ kümesinin liste yöntemi ile gösterimi aşağıdakilerden hangisidir?

- A) $\{-4, 4\}$
 B) $\{0, 1, 2, 3\}$
 C) $\{-3, -2, -1, 0\}$
 D) $\{-2, -1, 0, 1, 2, 3\}$

15. $f: \mathbb{R} \setminus \{-4\} \rightarrow \mathbb{R} \setminus \{2\}$

$$f(x) = \frac{2x+3}{x+4} \text{ fonksiyonu veriliyor.}$$

Buna göre, $f^{-1}(3)$ değeri aşağıdakilerden hangisidir?

- A) -9
 B) -4
 C) 8
 D) 12

16. \mathbb{R} de tanımlı $\beta = \{(x, y) \mid x^2 - x = y^2 - y\}$ bağıntısı bir denklik bağıntısı olduğuna göre, 1 in denklik sınıfı aşağıdakilerden hangisidir?

- A) $\{-1, 1\}$
 B) $\{0, 1\}$
 C) $\{-1, 0, 1\}$
 D) $\{0, 1, 2\}$

17. $f: \mathbb{R} \rightarrow \mathbb{R}$, $f(x) = 3^{x+3}$ fonksiyonu veriliyor.

Buna göre, $\frac{f(x+1)}{f(x)}$ ifadesinin eşiti aşağıdakilerden hangisidir?

- A) 3
 B) $3x$
 C) $\frac{1}{3^x}$
 D) 3^{x-1}

18. $a \Delta b = a + b + ab$ şeklinde \mathbb{R} de tanımlı bir Δ işlemine göre, 2 nin tersi kaçtır?

- A) -1
 B) $-\frac{1}{2}$
 C) $-\frac{2}{3}$
 D) $\frac{4}{3}$

19.

Δ	a	b	c	d
a	d	c	b	a
b	c	b	a	d
c	b	a	d	c
d	a	d	c	b

$A = \{a, b, c, d\}$ kümesinde tanımlı Δ işleminin tablosu yukarıda verilmiştir.

Buna göre $(c \Delta b) \Delta (a \Delta c)$ işleminin sonucu aşağıdakilerden hangisidir?

- A) c
 B) d
 C) b
 D) a

20. $K = \{a, b\}$, $L = \{5\}$ ve $M = \{7\}$ kümeleri veriliyor.

Buna göre, $K \times L \times M$ kümesi aşağıdakilerden hangisidir?

- A) $\{(5, 7, a)\}$
 B) $\{(a, 5, 7)\}$
 C) $\{(a, b, 5), (a, b, 7)\}$
 D) $\{(a, 5, 7), (b, 5, 7)\}$

1. Ekonomik ve siyasi istikrarsızlıklardan çok çabuk ve önemli düzeyde etkilenen turizm sektörünün kaç yılında gelişme ritmini düşürdüğü gözlemlenmiştir?
- A) 1991
B) 1994
C) 1996
D) 2000
2. Vatandaşlara avcılık yapma olanağı veren, yetkili kurumlardan alınmış sertifikaya ne ad verilir?
- A) Av turizmi izin belgesi
B) Avlanma ruhsatı
C) Av tezkeresi
D) Av bölgelerine giriş sertifikası
3. Türkiye’de bilinçsizce avlanma sonucunda aşağıdaki hayvanlardan hangisinin soyu tükenmiştir?
- A) Anadolu Parsı
B) Telli turnalar
C) Vaşak
D) Kelaynak kuşları
4. Aşağıdakilerden hangisi İlkçağ antik kent kalıntılarının bulunduğu yerlerden biri değildir?
- A) Bergama
B) Milet
C) Çeşme
D) Efes
5. I. Ülkemizin sosyal yapısı, doğal turistik kaynaklarının elverişli olması
II. Okulların tatillerinin turistik geziler için yeterli olması
III. Öğrencilerin, kamuya ait ulaştırma araçlarından indirimli yararlanmaları
- Yukarıdakilerden hangisi ya da hangileri, ülkemizin gençlik turizmine oldukça elverişli olduğunun göstergeleri arasındadır?**
- A) Yalnız I
B) Yalnız II
C) II ve III
D) I, II ve III
6. Mağaraların doğal sağlık verici yapılarından, yayla, dağ, deniz sahili gibi farklı iklim özelliklerinden faydalanılarak yapılan sağlık amaçlı turizm hareketine ne ad verilir?
- A) Spor turizmi
B) Klimatizm
C) Mağara turizmi
D) Sağlık turizmi
7. Av turizmine açılacak avlaklar aşağıdakilerden hangisi tarafından tespit ve ilan edilmektedir?
- A) Kaymakam
B) Orman Müdürlükleri
C) Muhtar
D) Çevre ve Orman Bakanlığı
8. Türkiye’nin şimdiye dek kullanmayı başaramadığı, kıyı turizminin aksine az bulunan bir ürün olması ve getirisinin yüksek olması turizmin hangi önemini ifade etmektedir?
- A) Politik
B) Kültürel
C) Sosyal
D) Çevresel
9. Turistlerin gittikleri ülkelerde yeme, içme, konaklama gibi ihtiyaçlarını karşılamak için yaptıkları harcamaları aşağıdakilerden hangisi kapsamaktadır?
- A) Turizmin politik önemi
B) Turizmin sosyal önemi
C) Turizmin gelir kaynağı olma etkisi
D) Turizmin yatırım kaynağı olma etkisi
10. Özellikle büyük kentlerin psikolojik ve bedensel acıdan yıpratıldığı insanlar, güneş, temiz hava, spor, eğlence gibi etkinliklere ihtiyaç duymaktadırlar. Bu şekilde sağlıklarının bozulmamasını sağlarken, iş ve yaşam şartlarının olumsuzluklarını engellemeleri mümkün olabilmektedir.
- Bu açıklama turizmin sağlık üzerine etkilerinden hangisi için uygundur?**
- A) Sağlığı devam ettirme ve koruma işlevi
B) Sağlık kazandırma işlevi
C) Sağlık hizmetlerinin geliştirilmesi işlevi
D) Diğer sağlık hizmetleriyle ilişkilendirme işlevi

11. İllicaların kaplıcalardan farkı aşağıdakilerden hangisidir?

- A) Su sıcaklığının daha fazla olması
- B) Sularında magnezyum olmaması
- C) Gelen kişi sayısının daha az olması
- D) Üzerinin acık olması

12. Aşağıdakilerden hangisi turizm yatırımlarının doğrudan ulusal gelir üzerinde etkide bulunmasının yanı sıra, olumlu etkide bulunduğu iş alanlarından biri değildir?

- A) Gıda
- B) Demir-çelik
- C) Tarım
- D) Mobilya-dekorasyon

13. Aşağıdakilerden hangisi sağlık turizminin faydalarından biri değildir?

- A) Çeşitli insan gruplarını bir araya getirmesi
- B) İnsanların sinirsel ve bedensel yorgunluklarını gidermesi
- C) Sağlığa yararlı tabii varlıklara ekonomik ürün niteliği kazandırması
- D) Çalışanların işgücü verimliliğini artırması

14. Türkiye’de turizm geliri en fazla olan bölge aşağıdakilerden hangisidir?

- A) Akdeniz Bölgesi
- B) Marmara Bölgesi
- C) Karadeniz Bölgesi
- D) İç Anadolu Bölgesi

15. Aşağıdakilerden hangisi gençlik turizmi imkânları sağlayan kurum ve kurumlardan biri değildir?

- A) YURT-KUR
- B) Milli Eğitim Bakanlığı
- C) Çevre ve Orman Bakanlığı orman içi dinlenme yerleri
- D) Özel Tesisler

16. Türkiye’nin doğu ve batı arasında köprü vazifesi görmesi zengin turizm potansiyelinin ana kaynaklarından hangisi kapsamındadır?

- A) Tarihi konum
- B) Politik konum
- C) Coğrafi konum
- D) Doğal konum

17. Turizm bakımından güçlü çekim alanlarına ve turistik donanımına sahip olan yere ne ad verilir?

- A) Turistik yöre
- B) Turistik bölge
- C) Turizm alanı
- D) Tarihi yerler

18. Şifalı su kaynaklarının tedavide kullanılması amacıyla banyo yapmak için kurulmuş tesislere ne ad verilir?

- A) İllicalar
- B) Doğal sular
- C) Kaynak suları
- D) Kaplıcalar

19. 15-24 yaş grupları arasındaki bireylerin anne, baba ve diğer aile yakınları olmaksızın katıldıkları turizm aşağıdakilerden hangisidir?

- A) Av turizmi
- B) Kitle turizmi
- C) Rekreasyon turizmi
- D) Gençlik turizmi

20. Yol, liman, hava alanı, elektrik yatırımları turizm alanında gerçekleştirilen yatırımlardan hangisi kapsamındadır?

- A) Diğer hizmet tesisleri yatırımları
- B) Konaklama tesisleri yatırımları
- C) Altyapı yatırımları
- D) Teşvik yatırımları

1. Bir taşınır mal veya ekonomik değer taşıyan bir hak ile bir miktar paranın değiştirilmesi aşağıdakilerden hangisine konu olur?
 - A) Karz sözleşmesi
 - B) Taşınır mal satımı
 - C) Hizmet sözleşmesi
 - D) Kira sözleşmesi
2. Kiracıya, kiralanan şeyin kullanma hakkını ve semerelerini toplama hakkını veren kira türü aşağıdakilerden hangisidir?
 - A) Finansal kiralama
 - B) Hasılat kirası
 - C) Taşınır kirası
 - D) Adi kira
3. 6570 sayılı Kira Kanunu'nun boşlukları hangi kanuna göre doldurulur?
 - A) Borçlar Kanunu
 - B) Medeni Kanun
 - C) Ticaret Kanunu
 - D) İş Kanunu
4. Ticari işlere uygulanacak hukuk kurallarında izlenecek sıra içinde aşağıdakilerden hangisi bulunmamaktadır?
 - A) Diğer kanunlarda yer alan ticari işleme ilişkin hukuk kuralları
 - B) Ticari örf ve adet kuralları
 - C) Genel hukuk kuralları
 - D) Hakimin bilgi ve tecrübesiyle edindiği ve uyguladığı kurallar
5. Aşağıdakilerden hangisinde en çok karşılaşılan faiz türleri bir arada verilmiştir?
 - A) Basit-bileşik
 - B) Süreli-süresiz
 - C) Vadeli-vadesiz
 - D) Artan oranlı-azalan oranlı
6. Bilinen bir olay ve olgudan başka bir olay veya olgunun var olduğu sonucunun çıkarılması ve aksi kanıtlanmadıkça bu varsayımın doğru kabul edilmesi haline ne ad verilir?
 - A) Karine
 - B) Teselsül
 - C) Tekeffül
 - D) Gaib
7. Aşağıdakilerden hangisi servet üzerinden alınan vergilerden biri değildir?
 - A) Veraset ve intikal vergisi
 - B) Banka ve sigorta muameleleri vergisi
 - C) Motorlu taşıtlar vergisi
 - D) Taşıt alım vergisi
8. Aşağıdaki üretim faktörüne dayanan hasıla eşleşmelerinden hangisi yanlıştır?
 - A) Memur payı-ikramiye
 - B) Emek payı-ücret
 - C) Sermaye payı-faiz
 - D) Müteşebbis payı-kâr
9. Bedeni ve zihni çalışma veya emeğin bir sermaye ile birleştirilmesiyle sağlanan değerlere ne denir?
 - A) Kazanç
 - B) Safi tutar
 - C) Temettü
 - D) İrat
10. Aşağıdakilerden hangisi kamu hizmetinin niteliklerinden biri değildir?
 - A) Ülkenin veya halkın tamamına veya bir bölümüne yönelik olabilir.
 - B) Kamuya yönelik ve kamuya yararlı olmalıdır.
 - C) Aynı hukuki durumda olanlar hizmetlerden aynı şekilde yararlanamaz.
 - D) Eşitlik esasına göre yürütülür.

11. Vergi, sadece değer üzerinden yapılırsa bu hesaplama yöntemine ne ad verilir?

- A) Spesifik
- B) Katma değer
- C) Advalorem
- D) Dolaysız vergi

12. Aşağıdakilerden hangisi verginin özellikleri arasında yer almaz?

- A) Belirli bir karşılık yoktur.
- B) Devletin egemenlik gücüne dayanır.
- C) Gerçek ve tüzel kişilerden alınır.
- D) Hizmet kalitesine göre oranı belirlenir.

13. Aşağıdakilerden hangisi, iş sözleşmesini fesih dışı nedenlerle sona erdiren sebeplerden biridir?

- A) Süreli fesih bildirim
- B) Süresiz fesih bildirim
- C) Tarafların anlaşamaması
- D) Tarafların anlaşma niyetinin olması

14. Aşağıdakilerden hangisi işçinin borçları arasında yer almaz?

- A) Sadakat borcu
- B) Rekabet etmeme borcu
- C) Hizmet borcu
- D) Ücret ödeme borcu

15. Aşağıdakilerden hangisi ücret şekillerinden biri değildir?

- A) Zamana göre ücret
- B) Akord ücret
- C) Kârdan pay alma
- D) Mekana göre ücret

16. Aşağıdakilerden hangisi sigorta ettirenin borçları arasında yer almaz?

- A) Malın muayenesine izin verme borcu
- B) Poliçe düzenleyerek verme borcu
- C) Koruyucu önlemler alma borcu
- D) Prim ödeme borcu

17. Haksız eylemi işleyen veya onu istihdam eden kişiler tazminat ödemek zorunda kaldıkları zaman uğrayacakları zararı karşılamak için yapılan sigorta hangisidir?

- A) Mükerrer sigorta
- B) Mal sigortası
- C) Mali sorumluluk
- D) Can sigortası

18. Gerçekleşmesi halinde tazminatın ödeneceği, yangın, kaza, hastalık, olum, kuraklık gibi olaylar sigortacılık dilinde aşağıdakilerden hangisiyle adlandırılır?

- A) Menfaat
- B) Prim
- C) Riziko
- D) Sigorta bedeli

19. Aşağıdakilerden hangisi, bonolar için aranan şekil şartlarından biri değildir?

- A) Senedin düzenlendiği tarih yazılmazsa bono geçersizdir.
- B) Bonoyu düzenleyen imzası bulunmazsa bono geçersizdir.
- C) Vade yazılmamışsa bono geçersizdir.
- D) Bonoda yer alan ödeme borcu kayıtsız ve koşulsuzdur.

20. Aşağıdakilerden hangisi kambiyo senedir?

- A) Varant
- B) Emtia senedi
- C) Taşıma işleri senedi
- D) Poliçe

1. "Elifim uğru nakışlı
Yavru balaban bakışlı
Yayla çiçeği kokuşlu
Kokar Elif Elif diye"

Yukarıdaki dizeler kime aittir?

- A) Nefi
B) Baki
C) Karacoğlan
D) Aşık Veysel

2. Aşağıdakilerden hangisi Türk halk şiiri nazım biçimlerinden biri değildir?

- A) Türkü
B) Mani
C) İlahi
D) Tuyuğ

3. Aşağıdakilerden hangisi Türk edebiyatının gelişim sürecinde Tanzimat sonrası oluşan topluluklardan biri değildir?

- A) Tanzimat Edebiyatı
B) Üç Hececiler
C) Serveti Fünun Edebiyatı
D) Fecr-i Âti Edebiyatı

4. Klasik Türk şiirinde hiçbir nazıma bağlı olmayan tek beyitten oluşan nazımlara müfret adı verilir. Bu dizeler kendi aralarında uyaklı ya da uyaksız olabilirler.

Dizeler uyaklı olursa hangi adı alırlar?

- A) Sembol
B) Beyit
C) Musarra
D) Murabba

5. Şiirde tema, yapı, dil, ses ve söyleyiş bir araya getirilerek aşağıdakilerden hangisi oluşturulur?

- A) Cinas
B) Kafiye
C) Ahenk
D) Ritm

6. Koşma, Türk şiirinde kullanılan hangi nazım biçiminin örneğidir?

- A) Divan edebiyatı
B) Klasik Türk şiiri nazım biçimleri
C) Batı etkisinde gelişen Türk edebiyatı
D) Halk Şiiri Nazım biçimleri

7. Bir kişiyi ya da durumu alaya almak için yapılan, sözün gerçek anlamı doğru gibi görünse de asıl olarak ters anlamının anlaşılması amaçlanan durumda aşağıdaki sanatlardan hangisi kullanılır?

- A) Teşbih
B) Kişileştirme
C) Tariz
D) Mecaz

8. Aşağıdakilerden hangisi benzetme sanatının dört temel ögesinden biri değildir?

- A) Benzetme yönü
B) Benzetme merakı
C) Benzetme edatı
D) Kendisine benzetilen

9. Adını Romalıların eskiden yaptıkları halk toplantılarından alan, bir sorun üzerinde bütün ilgililerin görüşlerini öğrenmek için yapılan toplantı türü aşağıdakilerden hangisidir?

- A) Forum
B) Münazara
C) Söyleşi
D) Sempozyum

10. Divan şiiriyle ilgili aşağıdaki ifadelerden hangisi yanlıştır?

- A) Dili halk şiirine göre ağırdır.
B) Nazım birimi beyittir.
C) Arap ve Fars edebiyatlarının etkisi görülür.
D) Hece ölçüsü kullanılır.

11. Yazar, düşünür ve sanatçıların veya kendi alanında uzman kişilerin bir konuyu açıklamak, tanıtmak, bilgi vermek, öğretmek amacıyla yaptıkları konuşmalara ne ad verilir?

- A) Söyleşi
- B) Konferans
- C) Röportaj
- D) Münazara

12. “Öldük ölümden bir şeyler umarak
Bir büyük boşlukta bozuldu büyü”

Yukarıda bir parçası alıntılanan şiirin teması aşağıdakilerden hangisidir?

- A) Ölüm
- B) Tabiat
- C) Acıma
- D) Öfke

13. Pazarda sergicilerin balığı “derya kuzusu” diye satmaları aşağıdakilerden hangisine örnektir?

- A) Tariz
- B) İstiare
- C) İntak
- D) Kinaye

14. “Hepsi tapardı rengine,
Rastlamamıştı dengine,
Hiçbiri mor Teselya’da”

Yukarıdaki şiirin nazım birimi nedir?

- A) Üçlük
- B) Bent
- C) Beyit
- D) Kıta

15. Murabba, Türk şiirinde kullanılan hangi nazım biçiminin örneğidir?

- A) Klasik Türk Şiiri Nazım biçimleri
- B) Divan edebiyatı
- C) Halk şiiri nazım biçimleri
- D) Batı etkisinde gelişen Türk edebiyatı

16. “Sayın jüri üyeleri, değerli arkadaşlarım, Tezimin doğru olduğunu savunmaya eğitim yoluyla savaşların önlenebileceğini ortaya koyan örnekler vererek başlayacağım.”

Yukarıda bir parçası alıntılanan konuşmanın gerçekleştirildiği ortam aşağıdakilerden hangisidir?

- A) Sempozyum
- B) Forum
- C) Panel
- D) Münazara

17. Eserinde hayvanları ve bitkileri konuşturan bir yazar aşağıdaki sanatlardan hangisini kullanmıştır?

- A) Mübalağa
- B) Kinaye
- C) Meczaz
- D) İntak

18. Aşağıdakilerden hangisi başlıca şiir türlerinden biri değildir?

- A) Epik
- B) Trajedik
- C) Lirik
- D) Didaktik

19. Aşağıdakilerden hangisi makalede söylenenlerin bir yargıya bağlandığı bölümdür?

- A) Sonuç
- B) Dipnot
- C) Malzeme
- D) Yöntemler

20. Milli ölçümüz olarak nitelendirilen ve Halk Edebiyatında sıkça kullanılan ölçü aşağıdakilerden hangisidir?

- A) Semai ölçüsü
- B) Aruz ölçüsü
- C) Hece ölçüsü
- D) Kaside ölçüsü

1. Kısa, nükteli ve güldürücü hikâyelere ne ad verilir?
 - A) Methiye
 - B) Fıkra
 - C) Mitos
 - D) İlahi
2. Türk edebiyatının ünlü mesnevilerinden biri olan Risaletü'n Nushiyye kime aittir?
 - A) Süleyman Çelebi
 - B) Fuzuli
 - C) Nabi
 - D) Yunus Emre
3. X. yüzyılda tam bir halk hikayesi biçimini alan, birbirini küçük yaşta seven ama kavuşamayan iki gencin aşkını anlatan mesnevi aşağıdakilerden hangisidir?
 - A) Hüsn ü Aşk
 - B) Leylâ ve Mecnûn
 - C) Harnâme
 - D) Mesnevî
4. XIII. yüzyılda, Anadolu'nun fethedilerek İslamlaştırıldığı dönemde yapılan kahramanlıkların anlatıldığı destan aşağıdakilerden hangisidir?
 - A) Ergenekon
 - B) Alp Er Tunga
 - C) Seyyid Battal Gazi
 - D) Bozkurt
5. Terkibibent adlı eseriyle toplumu içinden çürüten yanlış davranışları yeren sanatçı aşağıdakilerden hangisidir?
 - A) Kemal Paşa
 - B) Mustafa Paşa
 - C) Ahmet Vefik Paşa
 - D) Ziya Paşa
6. Dörder mısralık bentlerden oluşan ve sitem temasını işleyen divan edebiyatı nazım şekli aşağıdakilerden hangisidir?
 - A) Musammat
 - B) Münşeât
 - C) Murabba
 - D) Müstezât
7. Zamanın olaylarını yazmakla görevlendirilen tarihçiye ne ad verilir?
 - A) Kâtip
 - B) Vakanüvist
 - C) Meddah
 - D) Seyyah
8. 'Cömertlikte ve yardım etmede akarsu gibi ol' sözü kime aittir?
 - A) Âşık Paşa
 - B) Fuzulî
 - C) Mevlâna
 - D) Nâbi
9. Attila İlhan'ın gazel biçiminin bazı özelliklerinden yararlanarak yazdığı şiiri aşağıdakilerden hangisidir?
 - A) Hasköy Bahriye Kahvesine Gazel
 - B) Güzel Bir Kıza Gazel
 - C) Ayrılık Sevdaya Dâhil
 - D) Ben Sana Mecburum
10. Aşk, tasavvuf, din, ahlak, tarih, macera, yiğitlik ve mizah temaları içeren divan edebiyatı nazım şekli aşağıdakilerden hangisidir?
 - A) Mersiye
 - B) Mesnevi
 - C) Medhiye
 - D) Hicviye
11. Türk şiirinde gazelden sonra en çok kullanılan nazım şekli aşağıdakilerden hangisidir?
 - A) Rubai
 - B) Kaside
 - C) Mersiye
 - D) Türkü
12. Kırgızların geleneklerini, ahlak ve aile hayatlarını, dünya ve hayat görüşlerini anlatan destan aşağıdakilerden hangisidir?
 - A) Oğuz Destanı
 - B) İlyada Destanı
 - C) Türeyiş Destanı
 - D) Manas Destanı

13. İslami döneme ait ilk eserleri ortaya koyan ilk Müslüman Türk devleti aşağıdakilerden hangisidir?

- A) Emeviler
- B) Uygurlar
- C) Karahanlılar
- D) Göktürkler

14. Kutadgu Bilig ile ilgili aşağıdaki bilgilerden hangisi yanlıştır?

- A) Süslü ve sanatlı bir dille yazılmıştır.
- B) Her beyit kendi içinde uyaklıdır.
- C) Aruzla yazılan ilk eserlerdendir.
- D) Bütünü 6645 beyitten oluşmuştur.

15. Gazelin en güzel beytine ne ad verilir?

- A) Makta beyit
- B) Matla beyit
- C) Musammat gazel
- D) Beytü'l gazel

16. Bilgi ve öğüt vermek için yazılan manzum eserlere ne ad verilir?

- A) Didaktik
- B) Pastoral
- C) Lirik
- D) Epik

17. Tasavvuf edebiyatında ölümden alınacak dersler ve Tanrı düşüncesinin dile getirildiği şiirlere ne ad verilir?

- A) Hikmet
- B) Gazel
- C) İlahi
- D) Tevhit

18. Tabiat güzellikleri, sevgi, aşk, ayrılık vb. konuların işlendiği, özel bir ezgiyle söylenen halk edebiyatı nazım şekli aşağıdakilerden hangisidir?

- A) Semai
- B) Koşma
- C) Koşuk
- D) Mâni

19. Aşağıdaki yazar ve eser eşleştirmelerinden hangisi yanlıştır?

- A) Mevlana Celaleddin-i Rumi - Mevlid
- B) Yusuf Has Hacıp – Kutadgu Bilig
- C) Kaşgarlı Mahmut – Divan-ı Lügat'it Türk
- D) Edip Ahmet – Atabetü'l Hakâyık

20. Aşağıdakilerden hangisi, çağdaş Türk şiirinde rubai biçimini kullanan şairlerden biri değildir?

- A) Nazım Hikmet
- B) Yahya Kemal Beyatlı
- C) Ümit Yaşar Oğuzcan
- D) Edip Cansever

1. "Elhan-ı Şita" adlı şiirinde heceleri müzik düzeyinde kullanan şair, aşağıdakilerden hangisidir?
 - A) Cenap Şehabettin
 - B) Ali Canip
 - C) Hüseyin Suat
 - D) Tevfik Fikret
2. Aşağıdakilerden hangisi sembolizmin özelliklerinden biri değildir?
 - A) Sözcüklerdeki ahenk ve müziğin şiirle birleşmesi
 - B) İlk olarak Fransa'da başlaması
 - C) Doğa değil, onun insan ruhunda bıraktığı izlenimlerin anlatılması
 - D) "Sanat toplum içindir." Anlayışının savunulması
3. Aşağıdakilerden hangisi, Servet-i Fünûn Döneminde şiir alanında eserler vermiştir?
 - A) Ahmet Hikmet Müftüoğlu
 - B) Mehmet Rauf
 - C) Tevfik Fikret
 - D) Hüseyin Cahit Yalçın
4. "Kırmızı Fesler" adlı şiir kitabı aşağıdaki şairlerden hangisine aittir?
 - A) Cenap Şehabettin
 - B) Hüseyin Suat
 - C) Ali Ekrem Bolayır
 - D) Tevfik Fikret
5. Aşağıdakilerden hangisi realist yazarlardan biri değildir?
 - A) Victor Hugo
 - B) Dostoyevski
 - C) Guy de Maupassant
 - D) Honore de Balzac
6. Türk edebiyatında ilk psikolojik roman, aşağıdakilerden hangisidir?
 - A) Yaban
 - B) Eylül
 - C) Zavallı Çocuk
 - D) Karabibik
7. Aşağıdakilerden hangisi Servet-i Fünûn şairlerinden biri değildir?
 - A) Tevfik Fikret
 - B) Hüseyin Suat
 - C) Namık Kemal
 - D) Süleyman Nazif
8. Servet-i Fünûn Döneminin Türk edebiyatına getirdiği en önemli yenilik aşağıdakilerden hangisidir?
 - A) Bireysel konuların öne çıkması
 - B) Nazmın nesre yaklaşması
 - C) Simgelere fazlaca yer verilmesi
 - D) Yalın bir dil kullanılması
9. Cenap Şehabettin'in ilk şiiri hangi gazetede yayımlanmıştır?
 - A) İkdam
 - B) Hizmet
 - C) Saadet
 - D) Vatan
10. Duygudan çok tasvire, düşünceye, biçim ve söyleyiş güzelliğine önem veren "sanat için sanat" görüşünü benimseyen, realizm akımının şiirdeki biçimine ne ad verilir?
 - A) Parnasizm
 - B) Romantizm
 - C) Sembolizm
 - D) Natüralizm
11. Aşağıdakilerden hangisi, Milli Edebiyat akımının temsilcilerinden biri değildir?
 - A) Halit Fahri Ozansoy
 - B) Ali Canip Yöntem
 - C) Ömer Seyfettin
 - D) Mehmet Emin Yurdakul
12. "Kıralık Konak, Nur Baba, Sodem ve Gomore, Hüküm Gecesi" adlı romanlar aşağıdaki yazarlardan hangisine aittir?
 - A) Ahmet Rauf
 - B) Halide Edip Adivar
 - C) Yakup Kadri Karaosmanoğlu
 - D) Halit Ziya Uşaklıgil

13. Aşağıdakilerden hangisi, Milli Edebiyat Döneminin özelliklerinden biri değildir?

- A) Ulusal kaynaklardan yararlanılması
- B) Yakın tarihin, özellikle Osmanlı tarihinin anlatılması
- C) Halkın sorunlarının dile getirilmesi
- D) Hece ölçüsü kullanılması

14. Aşağıdakilerden hangisi, Ahmet Haşim'in şiir sanatının özelliklerinden biri değildir?

- A) Aruz ölçüsünü kullanması
- B) Fecr-i Âtî Topluğunda şiir hayatına başlaması
- C) Saf şiirin önemli temsilcileri içerisinde yer alması
- D) Şiirlerinde daha çok Türklük bilincini işlemesi

15. Türk edebiyatını dönemlere ayıran, bilimsel yöntemlerle inceleyen ilk araştırmacı, aşağıdakilerden hangisidir?

- A) Ahmet Haşim
- B) Fuat Köprülü
- C) Yahya Kemal
- D) Ömer Seyfettin

16. Ziya Gökalp'in sanatıyla ilgili aşağıdaki ifadelerden hangisi yanlıştır?

- A) Türkçülük adı verilen akımı düzenleyip sisteme bağladı.
- B) Halk masallarından, Türk mitolojisinden Dede Korkut Hikâyelerinden yararlandı.
- C) Hece ile yazdığı şiirlerinde düşünceyi ön plana aldı.
- D) Batı dillerinden alınan sözcükleri Türkçeye uyarladı.

17. "Çoban Çeşmesi" adlı şiir aşağıdaki şairlerden hangisine aittir?

- A) Orhan Seyfi Orhon
- B) Yusuf Ziya Ortaç
- C) Yahya Kemal Beyatlı
- D) Faruk Nafiz Çamlıbel

18. Aşağıdakilerden hangisi, Türk edebiyatında "Beş Hececiler" adıyla anılan yazarlar arasında yer almaz?

- A) Reşat Nuri Güntekin
- B) Enis Behiç Koryürek
- C) Yusuf Ziya Ortaç
- D) Faruk Nafiz Çamlıbel

19. "Zannetme ki güldür, ne de lâle
Âteş doludur, tutma yanarsın
Karşısında şu gül-gün piyâle"
gül-gün: gül renkli

Bu dizelere göre, hangisinde, piyâle (içki kadehi) arasında benzerlik ilgisi yoktur?

- A) Ateş
- B) Güneş
- C) Lâle
- D) Gül

20. "Türk Edebiyatında İlk Mutasavvıflar" adlı eser, aşağıdaki yazarlardan hangisine aittir?

- A) Ömer Seyfettin
- B) Halit Fahri Ozansoy
- C) Yahya Kemal Beyatlı
- D) Fuat Köprülü

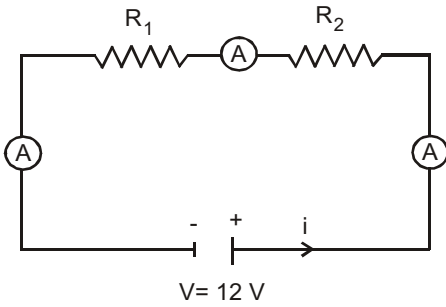
1. 180 m yükseklikte uçmakta olan bir helikopterden bırakılan bir cisim kaç saniye sonra yere çarpar? ($g=10 \text{ m/s}^2$)

A) 3
B) 4
C) 5
D) 6

2. Bir elektrik devresinden 2 dakikada 1.200 C'luk yük geçtiğine göre, devrenin akım şiddeti kaç amperdir?

A) 10
B) 12
C) 15
D) 20

3.



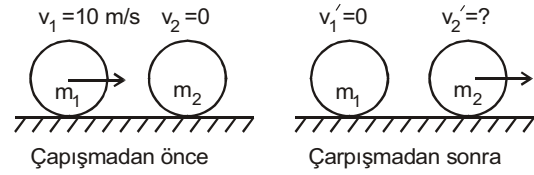
Yukarıdaki devrede $V=12 \text{ V}$, $R_1= 1 \Omega$ ve $R_2= 3\Omega$ ise ampermetrelerde okunan değer kaç amperdir?

A) 2
B) 3
C) 4
D) 6

4. Elektrik akımını ileten çözeltilere ne ad verilir?

A) Anyon
B) Katyon
C) Elektrolit
D) Elektrot

5. Aşağıdaki şekilde eşit kütleli, biri hareketsiz iki bilyeden m_1 kütlelerinin çarpışmadan önceki hızı $v_1=10 \text{ m/s}$, çarpışmadan sonraki hızı $v_1'=0$ dır.



Bu bilgilere göre, m_2 kütlelerinin çarpışmadan sonraki hızı kaç m/s dir?

A) 5
B) 10
C) 15
D) 20

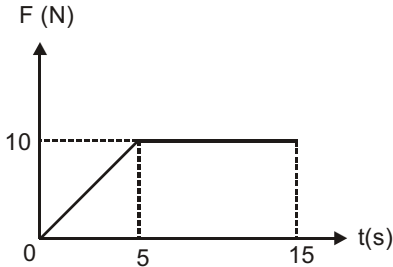
6. 2 saniye süreyle 10 N'luk kuvvet uygulandığında, hızında 5 m/s'lik artış gözlenen cismin kütlesi kaç kg dır?

A) 2
B) 3
C) 4
D) 5

7. 10 m/s hızla ilerlemekte olan 50 kg kütleli bir kayak üzerinde durmakta olan 30 kg kütleli bir çocuk, nehre göre 5 m/s hızla ve ters yönde nehre atarsa, kayığın hızı kaç m/s olur?
- A) 13
B) 14
C) 15
D) 16

8. 2 metre uzunluğundaki bir ipin ucuna bağlı 1 kilogramlık bir cisim yatay düzlemde 2 m/s lik hızla döndürüldüğünde ipteki gerilme kuvveti kaç N olur?
- A) 1
B) 2
C) 3
D) 4

9. Durmakta olan 5 kg kütleli bir cisme aşağıdaki grafikteki gibi zamanla değişen bir kuvvet etki etmektedir.



Bu bilgilere göre, cismin 15 s'deki hız değişiminin büyüklüğü kaç m/s dir?

- A) 15
B) 20
C) 25
D) 30

10. Bir devreye paralel olarak bağlanan ve devrenin iki noktası arasındaki potansiyel farkını ölçmek için aşağıdakilerden hangisi kullanılır?
- A) Voltmetre
B) Ampermetre
C) Reosta
D) Üreteç

11. Gazların iletkenliği aşağıdakilerden hangisiyle ters orantılıdır?
- A) Sıcaklık
B) Hacim
C) Yoğunluk
D) Basınç

12. Bir transformatörün primeri 300, sekonderi 30 sarımlıdır. Primere 240 V'luk alternatif gerilim uygulanırsa sekonderdeki gerilim kaç volt olur?
- A) 20
B) 24
C) 28
D) 32

13. 3 kg kütleli bir tüfeğin ateşlenmesiyle 20 g'lık bir mermi 600 m/s lik hızla tüfeği terk etmiştir.

Buna göre, tüfeğin geri tepme hızı kaç m/s dir?

- A) -1
B) -2
C) -3
D) -4

14. Öz direnci $2.10^{-5} \Omega$ olan 4 m uzunluğundaki 10 m^2 lik gümüş bir levhanın direnci kaç Ω dur?

- A) 4.10^{-6}
 B) 6.10^{-6}
 C) 8.10^{-6}
 D) 10.10^{-6}

15. Hızı 20 m/s olan bir otomobilin yarıçapı 40 m olan bir virajı güvenle dönebilmesi için yolun eğimi ne olmalıdır? ($g=10 \text{ m/s}^2$)

- A) 1
 B) 0,75
 C) 0,50
 D) 0,20

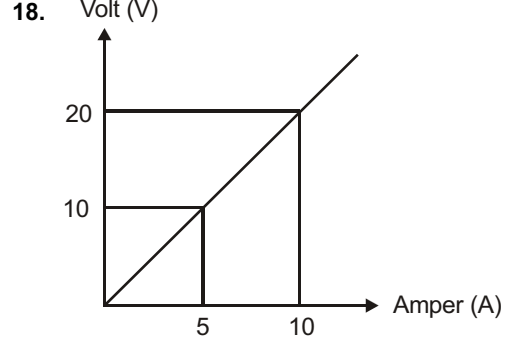
16. $R_1=4\Omega$, $R_2=2\Omega$, $R_3=5\Omega$ ve $R_4=9\Omega$ olan dört direnç seri olarak bağlandığında eşdeğer direnç kaç Ω dir?

- A) 14
 B) 16
 C) 18
 D) 20

17. Bir cisim yerden 40 m yükseklikten 10 m/s'lik hızla düşey olarak aşağıya atılmıştır.

Buna göre, cismin atıldıktan 1 saniye sonra yerden yüksekliği kaç metredir? ($g=10 \text{ m/s}^2$)

- A) 15
 B) 20
 C) 25
 D) 30



Potansiyel farkı akım şiddeti grafiği yukarıdaki şekildeki gibi olan bir iletkenin direnci kaç Ω dur?

- A) 1
 B) 2
 C) 5
 D) 10

19. I. Ebonit
 II. Demir
 III. Altın
 IV. Kağıt

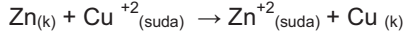
Yukarıdakilerden hangileri iletken değildir?

- A) Yalnız II
 B) Yalnız III
 C) I ve II
 D) I ve IV

20. 2 radyan kaç derecedir? ($\pi=3$)

- A) 120
 B) 150
 C) 180
 D) 240

1. "Bir redoks tepkimesinde yükseltgenen maddeye indirgen madde denir."



tepkimesine göre, indirgen madde aşağıdakilerden hangisidir?

- A) Zn^{+2}
B) Cu^{+2}
C) Zn
D) Cu

2. 25°C'ta 0,5 M CH_3COOH çözeltisindeki H^+ iyonu derişimi kaç mola'dır? (CH_3COOH için $K_a=1,8 \cdot 10^{-5}$)

- A) $3 \cdot 10^{-3}$
B) $2 \cdot 10^{-3}$
C) $1 \cdot 10^{-3}$
D) $5 \cdot 10^{-3}$

3. Metal oksitlerle ilgili aşağıdaki ifadelerden hangisi yanlıştır?

- A) Sulu çözeltileri asidik özellik gösterir.
B) Su ile tepkime vererek çözünürler.
C) Sudaki OH^- iyonları derişimini artırırlar.
D) Oksijenle bileşik oluştururlar.

4. Aşağıdakilerden hangisi derişim pilidir?

- A) $\text{Mg} / \text{Mg}^{+2} (0,1 \text{ M}) // \text{Mg}^{+2} (0,1 \text{ M}) / \text{Mg}$
B) $\text{Zn} / \text{Zn}^{+2} (0,1 \text{ M}) // \text{Cu}^{+2} (0,1 \text{ M}) / \text{Cu}$
C) $\text{Co} / \text{Co}^{+2} (0,2 \text{ M}) // \text{Co}^{+2} (0,4 \text{ M}) / \text{Co}$
D) $\text{Au} / \text{Au}^{+3} (0,2 \text{ M}) // \text{Au}^{+3} (0,6 \text{ M}) / \text{Au}$

5. 0,4 M CH_3NH_2 çözeltisinde OH^- iyonları derişimi $2 \cdot 10^{-3}$ M ise CH_3NH_2 'nin bazlık sabiti (K_b) aşağıdakilerden hangisidir?

- A) $8 \cdot 10^{-4}$
B) $2 \cdot 10^{-4}$
C) $1 \cdot 10^{-5}$
D) $2 \cdot 10^{-5}$

6. $\text{Ni}^{+2}_{(suda)} + \text{Mg}_{(k)} \rightarrow \text{Ni}_{(k)} + \text{Mg}^{+2}_{(suda)}$

tepkimesi ile ilgili aşağıdaki ifadelerden hangisi doğrudur?

- A) Mg, Ni' den daha aktiftir.
B) Mg indirgenmiştir.
C) Tepkime kendiliğinden gerçekleşmez.
D) Elektron akışı daima katottan anoda doğrudur.

7. H_3PO_4 asidinin ve $\text{Ca}(\text{OH})_2$ bazının değeriği aşağıdakilerden hangisidir?



- | | |
|------|---|
| A) 3 | 2 |
| B) 4 | 2 |
| C) 7 | 3 |
| D) 8 | 6 |

8. I. Aktiflik sırasına
II. Elektrotların gerilimine
III. Yükseltgenme basamağına

Bir volta pilinde, elektrodun anot ya da katot olacağı yukarıdakilerden hangilerine bakılarak belirlenebilir?

- A) Yalnız II
B) I ve II
C) I ve III
D) II ve III

9. Aşağıdaki durumların hangisinde çözelti, asidik özellik gösterir?

- A) $OH^- > H^+$
- B) $OH^- = H^+$
- C) $pH > pOH$
- D) $H^+ = 1.10^{-4}M$

10. $(ClO_3)^-$ bileşiminde Cl atomunun yükseltgenme basamağı kaçtır?

- A) +4
- B) +5
- C) +6
- D) +7

11. $ZnO + 2HCl \rightarrow ZnCl_2 + H_2O$
 $ZnO + 2NaOH \rightarrow Na_2ZnO_2 + H_2O$

tepkimelerine göre, aşağıdakilerden hangisi söylenemez?

- A) ZnO, HCl ile tepkimesinde baz özelliği göstermiştir.
- B) ZnO, NaOH ile tepkimesinde asit özelliği göstermiştir.
- C) HCl ve NaOH amfoter özellik gösterir.
- D) Her iki tepkime de nötrleşme tepkimesi özelliği göstermiştir.

12. Şematik gösterimi $Cd / Cd^{+2} // Pb^{+2} / Pb$ şeklinde olan bir pilin katot yarı tepkimesi aşağıdakilerden hangisidir?

- A) $Cd^{+2}_{(suda)} + 2e^- \rightarrow Cd$
- B) $Cd \rightarrow Cd^{+2}_{(suda)} + 2e^-$
- C) $Pb^{+2}_{(suda)} + 2e^- \rightarrow Pb_{(k)}$
- D) $Pb \rightarrow Pb^{+2}_{(suda)} + 2e^-$

13. • HCl
 • H_2SO_4
 • NaOH
 • NH_3

bileşiklerinden hangileri bazdır?

- A) HCl, H_2SO_4
- B) HCl, NH_3
- C) NaOH, H_2SO_4
- D) NaOH, NH_3

14. $HI + H_2O_2 \rightarrow H_2O + I_2$ redoks tepkimesi denkleştirildiğinde HI 'nin katsayısı kaç olur?


- A) 1
- B) 2
- C) 3
- D) 4

15. Aşağıdakilerden hangisi asitlerin genel özelliklerinden biridir?

- A) Çözeltilerinin tadı acıdır.
- B) Renksiz fenolftalein çözeltisini pembeye çevirir.
- C) Ele kayganlık hissi verir.
- D) Mavi turnusol kağıdının rengini kırmızıya çevirir.

16. Oda sıcaklığındaki sulu bir çözelti ile ilgili aşağıdaki ifadelerden hangisi doğrudur?

- A) Mavi turnusolü kırmızıya çevirirse bazdır.
- B) $[OH^-] > 10^{-7}$ ise $pH > 7$ dir.
- C) $pH > 7$ ise çözelti asidiktir.
- D) $pOH > 7$ ise çözelti baziktir.



Bu tepkimede asit özelliği gösteren çift aşağıdakilerden hangisidir?

- A) $C_6H_5NH_3^+_{(s)} - H_2O$
- B) $C_6H_5NH_3^+_{(s)} - OH^-$
- C) $C_6H_5NH_2 - OH^-$
- D) $H_2O - OH^-$

18. I. Suda iyonlaşarak çözünürler.
II. Sulu çözeltileri elektrik akımını iletir.
III. Ele kayganlık hissi verirler.

Yukarıdaki özelliklerden hangileri, hem asitlere hem de bazlara aittir?

- A) Yalnız II
- B) Yalnız III
- C) I ve II
- D) I, II ve III

19. 0,98 gram H_2SO_4 ile 100 mL çözelti hazırlanıyor. Bu çözeltinin H^+ iyonlarının molar derişimi aşağıdakilerden hangisidir? ($H_2SO_4:98$)

- A) 0,05
- B) 0,2
- C) 0,3
- D) 1

20. I. Elektrik akımı yardımıyla gerçekleşir.
II. Kendiliğinden gerçekleşmeyen pil tepkimelerinde kullanılır.
III. Erimiş veya suda çözülmüş tuzlara uygulanabilir.

Elektroliz ile ilgili yukarıdaki ifadelerden hangileri söylenebilir?

- A) Yalnız II doğrudur.
- B) I ve III doğru, II yanlıştır.
- C) I ve II doğru, III yanlıştır.
- D) I, II ve III doğrudur.

1. Aşağıdakilerden hangisi, ekonomi politikasının başlıca hedeflerinden biri değildir?

- A) Ekonomik büyümeyi sağlamak
- B) Dış ödemeler dengesini sağlamak
- C) Gelir dağılımını dengelemek
- D) Tekel piyasalarını arttırmak

2. Aşağıdakilerden hangisi, ekonomi politikasının başlıca vasıtalarından biri değildir?

- A) Nicelik belirleyen vasıtalar
- B) Karma vasıtalar
- C) Nitelik belirleyen vasıtalar
- D) Emredici vasıtalar

3. Ekonomi alanında, belirlenmiş hedeflere ulaşmak için ekonomik yapıyı, düzeni ve ekonomik faaliyetleri yönlendiren önlemlerin bütününe ne ad verilir?

- A) İktisat teorisi
- B) Teorik ekonomi
- C) Ekonomi politikası
- D) Kalkınma politikası

4. Aşağıdakilerden hangisi zorunlu ihtiyaçlara cevap veren mallardan biridir?

- A) Ekmek
- B) Elbise
- C) Konut
- D) Kitap

5. Aşağıdakilerden hangisi, İktisat Kongresinde alınan önemli kararlardan biri değildir?

- A) Koruyucu gümrük vergileri ile sanayinin korunması
- B) Havacılık çalışmaları ile ilgili bir kurumun kurulması
- C) Günlük çalışma süresinin 8 saate indirilmesi
- D) Özel teşebbüse kredi sağlayacak bir devlet bankasının kurulması

6. Aşağıdakilerden hangisi, 1927 yılında sanayi kuruluşlarını teşvik ve korumak amacıyla çıkarılan kanunlardan biridir?

- A) Umumi Hıfzıssıhha Kanunu
- B) Maadin Nizamnamesi
- C) Teşvik-i Sanayi Kanunu
- D) Mecelle

7. Bir vasıtanın mal olabilmesi için gerekli olan özellik aşağıdakilerden hangisidir?

- A) Üretiminin mümkün olması ve sağlanması için çaba harcanması
- B) Herhangi bir ödeme yapılmadan sahip olunması
- C) İnsanların elde etmek için çaba göstermeleri gerekmemesi
- D) Zaman içinde doğada tükenmesi

8. İnsanların ihtiyaçlarını doğrudan doğruya karşılamaya uygun olan, üretilebilen ve doğada belirli miktarda bulunan vasıtalara ne ad verilir?

- A) İhtiyaç
- B) Değer
- C) Emek
- D) Mal

9. Fayda ile ilgili aşağıdaki ifadelerden hangisi yanlıştır?

- A) Fayda objektiftir.
- B) Malın sahip olduğu fayda kişiden kişiye değişir.
- C) Fayda ile malın miktarı arasında ters orantı vardır.
- D) Fayda, tatmin edilecek ihtiyacın şiddeti ile doğru orantılıdır.

10. Malların doğrudan doğruya bir ihtiyacın karşılanması amacıyla kullanılmasına ne ad verilir?

- A) Dolaylı tüketim
- B) Dolaysız tüketim
- C) Marjinal tüketim
- D) Ortalama tüketim

11. Elde etmek için hiçbir ekonomik faaliyette bulunulmayan ve miktarı ihtiyaçtan çok fazla olan mallara ne ad verilir?

- A) Ekonomik mal
- B) Zorunlu mal
- C) Lüks mal
- D) Serbest mal

12. Bir malın tüketiminin sürekli artırılması sonucu ondan sağlanan faydanın azalması durumunu açıklayan ekonomik görüş aşağıdakilerden hangisidir?

- A) Talep Kanunu
- B) İkame Yasası
- C) Gossen Yasası
- D) Arz Kanunu

13. Toprak sahibinin elde ettiği gelire ne ad verilir?

- A) Faiz
- B) Rant
- C) Kâr
- D) Sermaye

14. Aşağıdakilerden hangisi ihtiyaç yasaları içinde yer almaz?

- A) İhtiyaçlar birbirine rakiptir.
- B) İhtiyaçlar yaşla ilgilidir.
- C) İhtiyaçlar değişmektedir.
- D) İhtiyaçların miktarı sınırsızdır.

15. Aşağıdakilerden hangisi, enerji kaynaklarının bir üretim faktörü olarak öneminin artmasının nedenlerinden biri değildir?

- A) Toplumun refah düzeyinin düşmesi
- B) Sanayileşmenin hızlanması
- C) Tarım sektöründeki modernleşme
- D) Hızlı nüfus artışı

16. Üretimi, madde meydana getirmek olarak kabul edenlere göre aşağıdaki sektörlerden hangisi, üretken olarak kabul edilir?

- A) Sanayi
- B) Ticaret
- C) Tarım
- D) Hizmet

17. Aşağıdaki GAP projesinin hangisi tamamen sulama amaçlıdır?

- A) Adıyaman-Kahta Projesi
- B) Sınır Fırat Projesi
- C) Ilısu Projesi
- D) Suruç-Bazıklı Projesi

18. Aşağıdakilerden hangisi, kıt malların faydasını artırarak üretimde bulunmanın yollarından biri değildir?

- A) Emek faydası
- B) Şekil faydası
- C) Zaman faydası
- D) Mülkiyet faydası

19. Aşağıdakilerden hangisi kuruluş yeri seçiminde göz önünde bulundurulacak faktörlerden biri değildir?

- A) Enerji kaynaklarına yakınlık
- B) Su kaynaklarına yakınlık
- C) Hammadde kaynaklarına yakınlık
- D) Kullanılan üretim teknolojisi

20. Aşağıdakilerden hangisi zaman faydası meydana getiren üretim faaliyetleri içinde yer alır?

- A) Sütün peynire veya yoğurda dönüştürülmesi
- B) Kumaşın hazır elbise haline getirilmesi
- C) Taze meyvelerin dondurularak yetiştirilmediği mevsimde piyasaya çıkarılması
- D) Kamu mülkiyetindeki bir kuruluşun özel kuruluşa devredilmesi

1. Aşağıdakilerden hangisi bitkilerde taşıma sistemini oluşturur?
- A) Epidermis
B) Kloroplast
C) Parankima dokusu
D) Odun ve soymuk boruları
2. Aşağıdakilerden hangisi solunum sistemi sağlığı için yapılması gerekenlerden biri değildir?
- A) Sigara içilmemeli, içilen ortamda bulunulmamalı
B) Solunum yolu hastalıklarına karşı gelişigüzel ilaç kullanılmalı
C) Düzenli spor yapmayı alışkanlık haline getirmeli
D) Yaşanılan ortamın havası temiz olmalı
3. Aşağıdaki canlıların hangisinde kalp, bir karıncık ve bir kulakçaktan oluşur?
- A) Kertenkele
B) Balık
C) Timsah
D) Kaplumbağa
4. Aşağıdaki canlılardan hangisi en gelişmiş metanefroz böbreğe sahiptir?
- A) Ergin kurbağa
B) Balık embriyosu
C) Ergin memeli
D) Ergin balık
5. Kalp ile vücut arasında gerçekleşen kan dolaşımı aşağıdakilerden hangisidir?
- A) Lenf dolaşımı
B) Açık dolaşım
C) Büyük kan dolaşımı
D) Kapalı dolaşım
6. İnsanda en az oksijen taşıyan damar aşağıdakilerden hangisidir?
- A) Böbrek atardamarı
B) Akciğer atardamarları
C) Akciğer toplardamarı
D) Koroner damarlar
7. Kan hücresi olan lökositlerin vücuttaki görevi aşağıdakilerden hangisidir?
- A) Oksijen taşıma
B) Besin taşıma
C) Hormon taşıma
D) Mikroplara karşı savunma
8. Amonyanın daha çok üre ve ürik aside dönüştürülerek vücuttan uzaklaştırılması aşağıdakilerden hangisini önlemeye yönelik bir adaptasyondur?
- A) Su kaybını
B) Tuz kaybını
C) Besin kaybını
D) Kan kaybını
9. Aşağıdaki bitki bölümlerinden hangisi suyun yapraklara taşınmasında doğrudan görevlidir?
- A) Kalburlu borular
B) Soymuk boruları
C) Emici tüyler
D) Odun boruları
10. I. Solungaç
II. Deri
III. Akciğer
- Yukarıdaki oksijen alma, solunum şekillerini hayatının değişik evrelerinde yapabilen canlı aşağıdakilerden hangisidir?
- A) Solucan
B) Balık
C) Kurbağa
D) Kaplumbağa
11. Aşağıdaki hayvan - solunum organı eşleştirmelerinden hangisi yanlıştır?
- A) Balık- Solungaç
B) Balina- Solungaç
C) Böcek- Trake
D) Kuş- Akciğer

12. I. Stoma sayısı
II. Yaprak yüzeyi genişliği
III. Yapraklardaki damar sayısı

Bitkilerde gaz alış-verişi, yukarıdaki faktörlerden hangilerine bağlıdır?

- A) Yalnız I
B) I ve II
C) II ve III
D) I, II ve III

13. I. Solungaç solunumu
II. Deri solunumu
III. Akciğer solunumu

Yukarıdakilerden hangileri kurbağaların farklı gelişim dönemlerinde yaptıkları solunum türleridir?

- A) Yalnız I
B) Yalnız II
C) I ve III
D) I, II ve III

14. Aşağıdakilerden hangisi akciğerlerde yer almaz?

- A) Alveol
B) Bronş
C) Trakeol uç hücreleri
D) Bronşçuk

15. Trake solunumu yapan bir böceğin kanında aşağıdakilerden hangisi bulunmaz?

- A) Hemogloblin
B) Hormon
C) Glikoz
D) Ürik asit

16. Aşağıdaki organizma ve solunum sistemi eşleştirmelerinden hangisi doğrudur?

- A) Balina - Solungaç solunumu
B) Örümcek - Deri solunumu
C) Karınca - Trake solunumu
D) Timsah - Deri solunumu

17. I. Metanefroz
II. Mezonefroz
III. Pronefroz

Yüksek yapılı omurgalılarda böbrek oluşumunun evreleri sırasıyla aşağıdakilerden hangisidir?

- A) I, II ve III
B) I, III ve II
C) II, I ve III
D) III, II ve I

18. Aşağıdakilerden hangisi insanlardaki boşaltım sisteminin atıklarından biri değildir?

- A) Karbondioksit
B) Üre
C) Ürik asit
D) Kreatin

19. Sağlıklı bir insanda, Bowman kapsülündeki sıvıda glikoz konsantrasyonu çok olmasına karşın, idrarda hiç glukoz bulunmamasının nedeni aşağıdakilerden hangisidir?

- A) Geri emilme
B) Süzülme
C) Difüzyon
D) Salgılama

20. I. Amonyak
II. Üre
III. Ürik asit

Yukarıda verilen boşaltım maddelerinin organizmadan atılırken kaybettikleri su miktarına göre çoktan aza doğru sıralanışı aşağıdakilerden hangisidir?

- A) I, II ve III
B) I, III ve II
C) II, I ve III
D) III, I ve II

1. 1975 yılında Doğu Bloku ülkelerinin, Avrupa'da güvenlik ve işbirliğini güçlendirmek amacıyla bir konferans toplanması önerisi üzerine, Arnavutluk dışında tüm Avrupa ülkeleri, ABD ve Kanada'nın katılımıyla gerçekleştirilen konferans aşağıdakilerden hangisidir?

- A) Londra Konferansı
- B) Helsinki Konferansı
- C) Camp David Konferansı
- D) Paris Konferansı

2. Aşağıdakilerden hangisi 1970'li yıllarda Türkiye ekonomisinin gerilemesine neden olan faktörlerden biri değildir?

- A) İşçi dövizlerindeki artış
- B) İstikrarsız koalisyon hükümetleri
- C) 1974 Amerikan ambargosu
- D) Enflasyon ve dış ödeme güçlükleri

3. Bağımsızlığına yeni kavuşan Asya ve Afrika ülkelerinin ABD ve SSCB gibi iki büyük nükleer güç karşısında varlıklarını korumak için birlik ve dayanışmalarını sağlamak amacıyla 1955 yılında yapılan konferans aşağıdakilerden hangisidir?

- A) Helsinki Konferansı
- B) Londra Konferansı
- C) Kahire konferansı
- D) Bandung Konferansı

4. Yumuşama Dönemi ile ilgili aşağıdaki ifadelerden hangisi yanlıştır?

- A) Blokların, uluslararası ilişkilerde gerginliği azaltmak için karşılıklı görüşmeleri tercih ettiği bir dönemdir.
- B) Yumuşama politikasının ortaya çıkmasında başlıca etken, nükleer silahlardan konvansiyonel silahlara geçilmesidir.
- C) Bu dönemde izlenen politikalarla, doğu-batı ilişkilerinde çatışma ve gerginlik nispeten azalmıştır.
- D) Yumuşama politikası, barışa varacak yakınlaşma, anlaşma ve işbirliği aşamalarından oluşmaktadır.

- 5. I. Köyden kente göçün artması
- II. İşçi sayısının azalması
- III. Sendikal faaliyetlerin artması
- IV. Gecekondu sayısının azalması

Yukarıdakilerden hangileri 1960-1980 yılları arasında Türkiye'deki toplumsal gelişmelerdir?

- A) Yalnız I
- B) Yalnız II
- C) I ve III
- D) III ve IV

6. Pakistan ile Hindistan arasında 1948 yılından günümüze kadar çözümlemeyen bir sorun olan bölge aşağıdakilerden hangisidir?

- A) Keşmir
- B) Nepal
- C) Tibet
- D) Tayland

7. Aşağıdakilerden hangisi 1974 yılında Helsinki'de yapılan Avrupa Güvenlik ve İşbirliği Konferansı'na (AGİK) katılmamıştır?

- A) Kanada
- B) Arnavutluk
- C) ABD
- D) İngiltere

8. Kıbrıs Barış Harekâtı hangi yıl yapılmıştır?

- A) 1971
- B) 1972
- C) 1973
- D) 1974

9. Yumuşama politikasının ortaya çıkışında en önemli etken aşağıdakilerden hangisidir?

- A) Ekonomik krizler
- B) Uluslararası anlaşmazlıklar
- C) Konvansiyonel silahlardan nükleer silahlara geçiş
- D) Nüfus artışları

10. 1961 Anayasası'nın en önemli özelliği aşağıdakilerden hangisidir?

- A) Devlet yönetiminde ve toplum yaşamında bireye ağırlık verilmesi
- B) Çok partili sistemi geliştirmesi
- C) Ekonomik düzenlemelere ağırlık vermesi
- D) Milletvekili olabilme şartlarını değiştirmesi

11. Türkiye’de 1960-1980 yılları arasında uygulanan ekonomik sistem aşağıdakilerden hangisidir?

- A) Liberal ekonomi
- B) İthal ikameci ekonomi
- C) Karma ekonomi
- D) Serbest piyasa ekonomisi

12. 1991 yılında kurulan Bağımsız Devletler Topluluğu’na 1993 yılında katılan, ancak 2008 Güney Osetya Savaşı sonrasında topluluktan ayrılan devlet aşağıdakilerden hangisidir?

- A) Ukrayna
- B) Belarus
- C) Moldova
- D) Gürcistan

13. Türkiye ile AB arasındaki Gümrük Birliği hangi yıl yürürlüğe girmiştir?

- A) 1992
- B) 1994
- C) 1996
- D) 1998

14. Kazakistan’ı ilk tanıyan devlet aşağıdakilerden hangisidir?

- A) Türkiye
- B) ABD
- C) İngiltere
- D) Azerbaycan

15. Aşağıdakilerden hangisi Camp David Anlaşmaları’nda alınan kararlardan biri değildir?

- A) Gazze ve Batı Şeria’da yaşayan Filistinlilere beş yıllık süre için muhtariyet verilmesi
- B) Filistin halkının meşru haklarının ve adil isteklerinin tanınmasını sağlayacak bir anlaşma yapılması
- C) İsrail ve Ürdün arasında barış müzakereleri yapılması
- D) Muhtariyet döneminde İsrail’in, Gazze ve Batı Şeria’daki asker sayısını artırması

16. Endüstriyel gelişmeye ve kitle iletişim araçlarının yaygınlaşmasına paralel olarak siyasi, kültürel ve ekonomik düzeydeki çok yönlü toplumsal ilişkilerin dünya çapında yaygınlaşmasına ne ad verilir?

- A) Toplumsallaşma
- B) Küreselleşme
- C) Glastnost
- D) Batılılaşma

17. Aşağıdakilerden hangisi Türk Ordusu’nun, TBMM kararları çerçevesinde barışı koruma ve uygulama harekâtlarına barış gücü olarak katıldığı ülkelerden biri değildir?

- A) Arnavutluk
- B) Afganistan
- C) Kuveyt
- D) Bosna-Hersek

18. SSCB’ye bağlı devletlerin tamamına yakınının bağımsızlığını ilan ettiği yıl aşağıdakilerden hangisidir?

- A) 1986
- B) 1988
- C) 1990
- D) 1991

19. Basmacılık adı verilen bağımsızlık mücadelesinin başarısız olmasıyla SSCB’ye bağlanan, SSCB’nin dağılmasıyla bağımsızlığını ilan eden ve bağımsızlığından günümüze kadar başkanlığını İslam Kerimov’un yaptığı devlet aşağıdakilerden hangisidir?

- A) Özbekistan
- B) Türkmenistan
- C) Kazakistan
- D) Kırgızistan

20. Aşağıdakilerden hangisi son 25 yılda dünyada etkili olan salgın hastalıklardan biri değildir?

- A) Kuş gribi
- B) Hepatit
- C) Veba
- D) Domuz gribi

1. I. Koruyucu sağlık hizmetleri
II. Tedavi hizmetleri
III. Rehabilitasyon hizmetleri

Yukarıdakilerden hangileri sağlık hizmetleri arasında yer alır?

- A) Yalnız I
- B) Yalnız II
- C) II ve III
- D) I, II ve III

2. İnsanlarda dengesiz ve düzensiz beslenme alışkanlıklarına bağlı olarak hastalıkların ortaya çıkması, aşağıdaki sağlığa etki eden etmenlerden hangisinin kapsamında yer alır?

- A) Kimyasal etmenler
- B) Fiziksel etmenler
- C) Biyolojik etmenler
- D) Psikolojik etmenler

3. Bir doku, organ ya da sistemin gözle görülebilir, ölçülebilir belirtilerle ortaya çıkan ve kişilerde belirli yakınmalarla kendini belli eden fonksiyon bozukluğuna ne ad verilir?

- A) Enfeksiyon
- B) Sakatlık
- C) Hastalık
- D) Sendrom

4. Hastanın rahatsızlığının uzman doktorlar tarafından teşhis ve tedavi edilmesi için yataklı sağlık kuruluşunda verilen hizmetlere ne ad verilir?

- A) Birinci basamak tedavi hizmeti
- B) İkinci basamak tedavi hizmeti
- C) Tıbbi rehabilitasyon
- D) Birinci aşama koruyucu sağlık hizmeti

5. Aşağıdakilerden hangisi birinci basamaktaki sağlık görevlilerinden biri değildir?

- A) Doktor
- B) Fizyoterapist
- C) Hemşire
- D) Sağlık memuru

6. Burun kıllarının koparılması aşağıdakilerden hangisine yol açar?

- A) İltihaba
- B) Sivilceye
- C) Nezleye
- D) Çıbana

7. Ayak sağlığı ile ilgili aşağıdaki ifadelerden hangisi yanlıştır?

- A) Ayak yapısına uygun olmayan ayakkabılar kan dolaşımı yetersizliğine neden olur.
- B) Ayaklar yıkandıktan sonra, el ve yüz havlusu ile iyice kurulmalıdır.
- C) Ucu sivri ve topuklu ayakkabılar tercih edilmemelidir.
- D) Başkalarının terlik, çorap ve ayakkabıları giyilmemelidir.

8. Yiyeceklerin sindirimi ilk olarak aşağıdakilerden hangisinde başlar?

- A) Ağız
- B) Kalın bağırsak
- C) İnce bağırsak
- D) Mide

9. Aşağıdakilerden hangisi diş eti iltihabı ve çürüklerinin neden olduğu hastalıklardan biri değildir?

- A) Yorgunluk
- B) Miyopi
- C) Kemik iltihapları
- D) Baş ağrısı

10. Ayaklardaki nasır ve topuklarda oluşan sertleşmiş deri tabakası banyo sırasında aşağıdakilerden hangisiyle temizlenir?

- A) Ponza taşı
- B) Mihenk taşı
- C) Jilet
- D) Tırnak makası

11. Aşağıdakilerden hangisi ergenlik döneminde gözlenen ruhsal değişimlerden biri değildir?

- A) Daha fazla sorumluluk almak isteme
- B) Daha çok hayal kurmaya başlama
- C) Kas ve yağ dokusunda artma
- D) Hırçın ve sinirli olma

12. Hücre ve dokuların biyolojik değişimlerinin sonucu organların işlevlerinin belli bir olgunluğa erişmesine ne ad verilir?

- A) Büyüme
- B) Olgunlaşma
- C) Gelişme
- D) Genişleme

13. Çocuklarda tuvalet eğitimine başlamak için en uygun zaman aşağıdakilerden hangisidir?

- A) 6-8 aylar arası
- B) 9-11 aylar arası
- C) 12-15 aylar arası
- D) 16-18 aylar arası

14. Kişinin zihinsel ve duygusal yetilerinde, davranışlarında, çevreye uyumunda görülen bozuklukların incelenmesi, tanımlanması, sınıflandırılması, tedavisi ve korunması ile uğraşan tıbbi uzmanlık alanına ne ad verilir?

- A) Rehabilitasyon
- B) Psikoloji
- C) Ruh bilimi
- D) Psikiyatri

15. Aşağıdakilerden hangisi ruh sağlığını etkileyen çevresel faktörlerden, toplumu etkileyen özel zorlayıcı durumlardan biri değildir?

- A) Boşanmalar
- B) Ekonomik krizler
- C) Doğal afetler
- D) Göçler

16. Sigaranın bağımlılık yapmasına neden olan madde aşağıdakilerden hangisidir?

- A) Nikotin
- B) Aseton
- C) Karbonmonoksit
- D) Katran

17. Aşağıdakilerden hangisi alkol bağımlısı kişilerin yaşadıkları sorunlardan biri değildir?

- A) Aile içinde sıkıntı
- B) Kas kontrolünde zayıflık
- C) Çevreye karşı saldırganlık
- D) Toplumda saygınlık

18. Aşağıdakilerden hangisi alkol bağımlısı kişilerde görülen fiziksel rahatsızlıklardan biridir?

- A) Diyabet
- B) Akciğer kanseri
- C) Astım
- D) Siroz

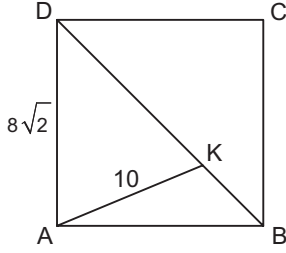
19. Sigaranın sağlığa zararları ile ilgili aşağıdaki ifadelerden hangisi yanlıştır?

- A) Sigara kullanan annelerin bebeklerinde zekâ geriliği riski yüksektir.
- B) Sigara kalp krizi riskini artırır.
- C) Sigara hücre yapısını bozar.
- D) Sigara, rahim ağzı kanserinin en önemli nedenidir.

20. Alkol vücutta aşağıdaki vitaminlerden hangisinin tükenmesine neden olur?

- A) A
- B) B
- C) C
- D) K

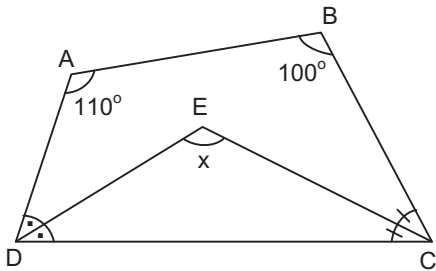
1.



Yukarıdaki ABCD karesinde $|AD|=8\sqrt{2}$ cm, $|AK|=10$ cm ise, $|KB|$ uzunluğu kaç cm dir?

- A) 2
- B) 3
- C) 4
- D) 5

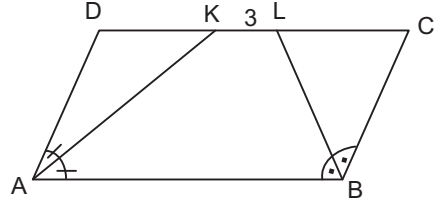
2.



Yukarıdaki ABCD dörtgeninde $[CE]$ ve $[DE]$ sırasıyla \hat{C} ve \hat{D} açılarının açıortayları, $m(\hat{DAB})=110^\circ$ ve $m(\hat{ABC})=100^\circ$ ise, $m(\hat{CED})=x$ kaç derecedir?

- A) 95
- B) 105
- C) 110
- D) 115

3.



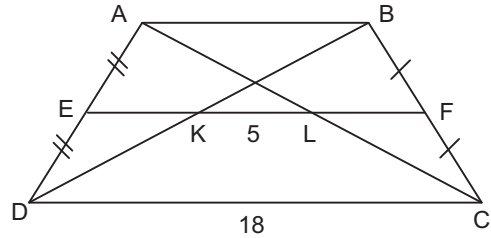
Yukarıdaki ABCD paralelkenarında $[AK]$ ile $[BL]$ sırasıyla \hat{A} ve \hat{B} açılarının açıortaylarıdır. Paralelkenarın çevre uzunluğu 72 cm ve $|KL|=3$ cm ise, $|BC|$ uzunluğu kaç cm dir?

- A) 9
- B) 10
- C) 11
- D) 13

4. Bir dış açısının ölçüsü 36° olan bir düzgün çokgenin köşegen sayısı kaçtır?

- A) 24
- B) 30
- C) 32
- D) 35

5.



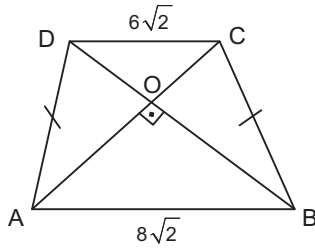
Yukarıdaki ABCD yamuğunda $[EF]$ orta taban $|CD|=18$ cm ve $|KL|=5$ cm ise, $|EK|$ uzunluğu kaç cm dir?

- A) 2
- B) 3
- C) 4
- D) 5

6. Köşegen uzunlukları 12 cm ve 20 cm olan eşkenar dörtgenin çevresi kaç cm dir?

- A) $5\sqrt{34}$
B) $8\sqrt{34}$
C) $12\sqrt{35}$
D) 85

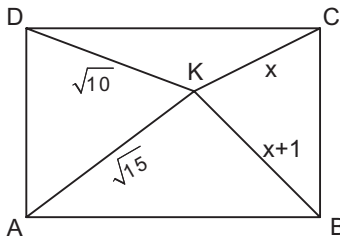
7.



Yukarıdaki ABCD yamuğunda $|AD|=|BC|$ ve köşegenler dik olarak kesişmektedir. $|AB|=8\sqrt{2}$ cm, $|DC|=6\sqrt{2}$ cm ise, $|BC|$ uzunluğu kaç cm dir?

- A) 5
B) 6
C) 8
D) 10

8.



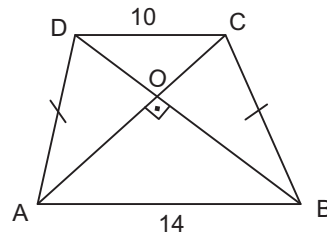
Yukarıdaki ABCD dikdörtgeninde, $|AK|=\sqrt{15}$ cm, $|KC|=x$ cm, $|KB|=x+1$ cm ve $|DK|=\sqrt{10}$ cm ise, $|KB|$ uzunluğu kaç cm dir?

- A) 2
B) 3
C) 4
D) 5

9. Köşegen sayısı 9 olan bir düzgün çokgenin bir iç açısının ölçüsü kaç derecedir?

- A) 120
B) 125
C) 130
D) 135

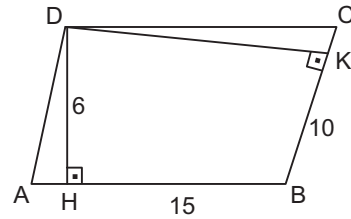
10.



Yukarıdaki ABCD yamuğunda $|AD|=|BC|$ ve köşegenler dik olarak kesişmektedir. $|AB|=14$ cm ve $|DC|=10$ cm ise, yamuğun yüksekliği kaç cm dir?

- A) 8
B) 10
C) 12
D) 13

11.



Yukarıdaki ABCD paralelkenarında, $[DH]\perp[AB]$, $[DK]\perp[BC]$, $|AB|=15$ cm, $|DH|=6$ cm, $|BC|=10$ cm ise, $|DK|$ uzunluğu kaç cm dir?

- A) 6
B) 7
C) 8
D) 9

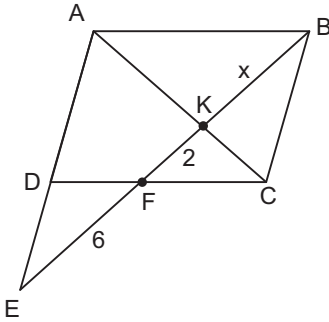
12. İç açılarının ölçüleri toplamı 20 dik açıya eşit olan bir düzgün çokgen kaç kenarlıdır?

- A) 12
- B) 13
- C) 14
- D) 15

13. Köşegen uzunlukları 16 cm ve 30 cm olan eşkenar dörtgenin alanı kaç cm^2 dir?

- A) 230
- B) 236
- C) 240
- D) 248

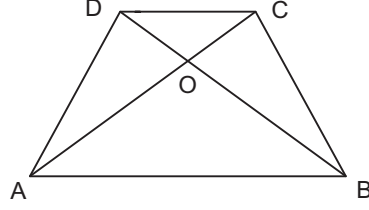
14.



Yukarıdaki ABCD paralelkenarında $|EF|=6$ cm, $|FK|=2$ cm ise, $|KB|=x$ kaç cm dir?

- A) 4
- B) 5
- C) 6
- D) 7

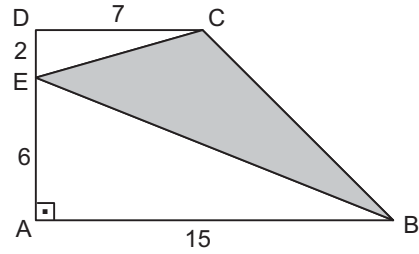
15.



Yukarıdaki ABCD yamuğunda $|OD|=\frac{1}{5}|OB|$ ve $A(COD)=3$ cm^2 ise, $A(ABCD)$ kaç cm^2 dir?

- A) 95
- B) 108
- C) 116
- D) 120

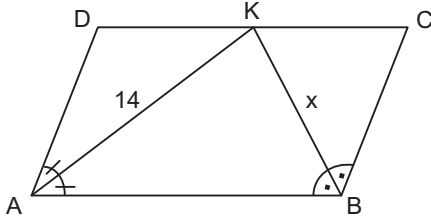
16.



Yukarıdaki ABCD dik yamuğunda $|AE|=6$ cm, $|ED|=2$ cm, $|AB|=15$ cm ve $|DC|=7$ cm ise, taralı alan kaç cm^2 dir?

- A) 36
- B) 39
- C) 42
- D) 52

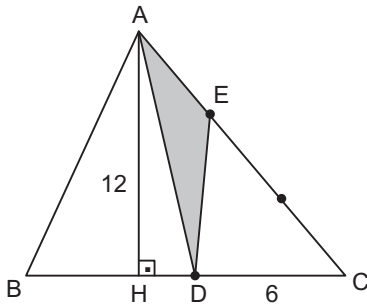
17.



Yukarıdaki ABCD paralelkenarında [AK] ve [BK] sırasıyla \hat{A} ve \hat{B} açılarının açıortayları, $|AK|=14$ cm ve paralelkenarın alanı 112 cm^2 ise, $|KB|=x$ kaç cm dir?

- A) 5
- B) 6
- C) 7
- D) 8

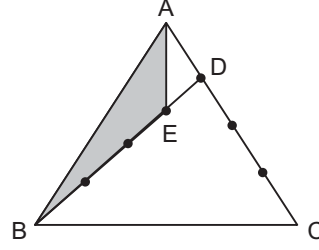
18.



Yukarıdaki ABC üçgeninde $[AH] \perp [BC]$, $|AH|=12$ cm, $|DC|=6$ cm ve $[AC]$ kenarı 3 eşit parçaya ayrıldığına göre, taralı bölge kaç cm^2 dir?

- A) 36
- B) 30
- C) 24
- D) 12

19.

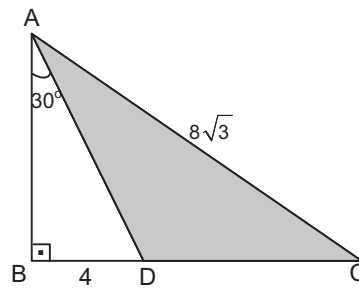


Yukarıdaki ABC üçgeninde $[AC]$ kenarı 4 eşit parçaya, $[BD]$ kenarı 4 eşit parçaya ayrılmıştır.

Buna göre, $\frac{A(ABE)}{A(ABC)}$ oranı kaçtır?

- A) $\frac{1}{16}$
- B) $\frac{3}{16}$
- C) $\frac{3}{14}$
- D) $\frac{1}{4}$

20.



Yukarıdaki ABC üçgeninde $[AB] \perp [BC]$, $m(\widehat{BAD})=30^\circ$, $|BD|=4$ cm ve $|AC|=8\sqrt{3}$ cm ise, taralı alan kaç cm^2 dir?

- A) $20\sqrt{3}$
- B) $18\sqrt{3}$
- C) $16\sqrt{3}$
- D) $14\sqrt{3}$

1. Aşağıdakilerden hangisi müteşebbisin kişisel özellikleri arasında yer almaz?
 - A) Planlama yapmak
 - B) Önder olmak
 - C) Uyumlu olmak
 - D) Riskten kaçmak
2. Aşağıdakilerden hangisi üretim kapasitesini belirleyen en önemli etkenler arasında yer almaz?
 - A) Teknoloji
 - B) Muhasebe sistemi
 - C) Finansman
 - D) Kuruluş yeri
3. Aşağıdakilerden hangisi müteşebbisin işlevlerinden biri değildir?
 - A) Yeni girdi kaynakları bulmak
 - B) Rekabeti azaltmak
 - C) Yeni pazarları keşfetmek
 - D) Daha iyiyi daha ucuza üretmek
4. Aşağıdakilerden hangisi işletmenin genel amaçları içinde yer alır?
 - A) İş güvenliği
 - B) Hizmet kalitesini artırmak
 - C) Kâr elde etmek
 - D) Düşük maliyet
5. Toplam kalite yönetimi ile ilgili aşağıdaki ifadelerden hangisi yanlıştır?
 - A) Müşterinin gereksinim ve beğenileri belirleyicidir.
 - B) Amaç hataların ayıklanmasıdır.
 - C) Sürekli iyileştirme ve geliştirme benimsenir.
 - D) Toplam performansta en yüksek nokta hedeflenir.
6. Aşağıdakilerden hangisi yönetimin temel işlevleri arasında yer almaz?
 - A) Pazarlama
 - B) Denetim
 - C) Organizasyon
 - D) Koordinasyon
7. Aşağıdakilerden hangisi hizmet işletmeleri kapsamında yer almaz?
 - A) İletişim
 - B) Ulaşım
 - C) Sigorta
 - D) Perakendecilik
8. Anonim şirketlerin kurulması için en az kaç ortağa ihtiyaç duyulur?
 - A) 5
 - B) 6
 - C) 7
 - D) 8
9. Köprü, baraj gibi büyük çaplı sermaye gerektiren projeler için birden fazla işletmenin geçici olarak bir araya gelmesi ile oluşan antlaşmalara ne ad verilir?
 - A) Tröst
 - B) Konsorsiyum
 - C) Kartel
 - D) Holding
10. Bir işletmenin, kamu işletmesi sayılabilmesi için, kamu tüzel kişiliğinin sahip olması gereken sermaye miktarı en az yüzde kaçtır?
 - A) 33
 - B) 41
 - C) 48
 - D) 51
11. Limitet şirketlerde ortak sayısı en az kaç kişidir?
 - A) 2
 - B) 3
 - C) 4
 - D) 5
12. Aşağıdakilerden hangisi iktisadi devlet teşekkülleri arasında yer almaz?
 - A) Toprak Mahsulleri Ofisi
 - B) Devlet Malzeme Ofisi
 - C) Tarım Kredi Kooperatifi
 - D) Boru Hatları ile Petrol Taşıma A.Ş

13. Limitet şirketlerde ortak sayısı en fazla kaçtır?

- A) 20
- B) 30
- C) 40
- D) 50

14. Limitet şirketlerin kurulması için gereken en az sermaye miktarı kaç Türk Lirası'dır?

- A) 5.000
- B) 10.000
- C) 20.000
- D) 50.000

15. İki ya da daha fazla işletmenin yöneticilerinin bir ya da birkaç konuda ne yapacaklarını saptayıp geçici olarak işbirliği yapmalarına ne ad verilir?

- A) RİNG
- B) POOL
- C) Merger
- D) Korner

16. İşletmelerin kabul edilen ortak antlaşma ile tek bir mali bünyede birleşmesine ne ad verilir?

- A) Konsern
- B) Konsorsiyum
- C) Merger
- D) Füzyon

17. Pazarlama etkinliklerinin ilk aşaması aşağıdakilerden hangisidir?

- A) Mal ve hizmetlerin niteliklerinin belirlenmesi
- B) Fiyatın belirlenmesi
- C) Gereksinimlerin belirlenmesi
- D) Dağıtımın gerçekleştirilmesi

18. Anonim şirketlerin kurulması için gereken en az sermaye miktarı kaç Türk Lirası'dır?

- A) 50.000
- B) 60.000
- C) 70.000
- D) 90.000

19. En eski ve en etkin satış yöntemi aşağıdakilerden hangisidir?

- A) Televizyon reklamları
- B) Sergi
- C) Kişisel satış
- D) Katalog bastırma

20. Aşağıdakilerden hangisi pazarlama karması elemanlarından biri değildir?

- A) Tutundurma
- B) Fiyat
- C) Tüketici
- D) Dağıtım

SEÇMELİ COĞRAFYA 4

2013 II.DÖNEM 0104-A

A

1. Çay ve kivi yetiştirmek için en uygun toprak aşağıdakilerden hangisidir?
 - A) Kahverengi orman toprağı
 - B) Kırmızı Akdeniz toprağı
 - C) Kahverengi bozkır toprağı
 - D) Kestane renkli bozkır toprağı
2. Türkiye'de aşağıdaki göllerden hangisi yoktur?
 - A) Heyelan set gölleri
 - B) Alüvyal set gölleri
 - C) Tektonik göller
 - D) Moren set gölleri
3. Aşağıdakilerden hangisi, Türkiye'de birbirinden farklı iklim özelliklerinin görülmesine kanıt değildir?
 - A) Turizm mevsiminin güneyde daha erken başlaması
 - B) Dağınık ve toplu yerleşmelerin görülmesi
 - C) Çeşitli tarım ürünlerinin yetiştirilmesi
 - D) Çeşitli akarsu rejimlerinin görülmesi
4. Aşağıdakilerden hangisi azonal topraklardan biridir?
 - A) Terra-Rossa
 - B) Çernezyom
 - C) Regosoller
 - D) Vertizoller
5. Akdeniz ikliminin karakteristik bitki topluluğı olup yaz ve kış yapraklarını dökmeyen, kısa boylu bodur çalılıklar aşağıdakilerden hangisidir?
 - A) Maki
 - B) Savan
 - C) Sedir
 - D) Bozkır
6. Ege Bölgesinde makilerin kıydan iç kesimlere doğru genişlemesinde aşağıdakilerden hangisinin payı fazladır?
 - A) Enlem
 - B) Meridyenler
 - C) Yükselti
 - D) Dağların uzanış yönü
7. Yağışın olduğu yerlerde nüfus yoğunluğunun fazla olması aşağıdaki yerlerden hangisi için geçerli değildir?
 - A) Trabzon
 - B) Antalya
 - C) Menteşe yöresi
 - D) Ege kıyıları
8. Aşağıdakilerden hangisi Türkiye' de nüfus ve yerleşmenin dağılışını etkileyen beşeri faktörlerden biridir?
 - A) Yeryüzü şekilleri
 - B) İklim
 - C) Su kaynakları
 - D) İç ve dış göçler
9. Türkiye'deki şehirleri fonksiyonlarına göre sınıflandırdığımızda aşağıdaki şehirlerden hangisi kültürel şehirler grubuna daha çok uyar?
 - A) Afyon
 - B) Eskişehir
 - C) Şırnak
 - D) Kırşehir
10. Aşağıdakilerden hangisi Türkiye'de kent yerleşmeleri sınıflandırması içine girmez?
 - A) Büyüklüklerine göre yerleşmeler
 - B) Ekonomik fonksiyonlarına göre yerleşmeler
 - C) Devamlı yerleşmeler
 - D) İdari fonksiyonlarına göre yerleşmeler

11. Türkiye'de bir yerleşim alanının nüfusunun artmasında aşağıdakilerden hangisinin etkisi daha fazladır?

- A) Ticaret-sanayi
- B) Maden-turizm
- C) Turizm-hayvancılık
- D) Tarım-turizm

12. Cami, okul, yaylak, baltalık, orman gibi malları bulunan toplu veya dağınık oturan insanların bağ, bahçe ve tarlaları ile oluşturdukları yerleşmelere ne ad verilir?

- A) Çiftlik
- B) Köy
- C) Mahalle
- D) Mezra

13. Türkiye'de 1950'den sonra nüfus artış hızının yükselmesinde aşağıdakilerden hangisinin etkisi olmamıştır?

- A) Beslenme koşullarının iyileşmesi
- B) Bebek ölümlerinin azalması
- C) Hayat standardının yükselmesi
- D) Köyden kente yapılan göçler

14. Bir ülkenin kırsal alanlarında ve kentlerinde bulunan nüfus miktarları, o ülkenin aşağıdaki özelliklerinden hangisini gösterir?

- A) Geleneklerini
- B) Kültürel yapısını
- C) Ekonomik ve sosyal yapısını
- D) Siyasi durumunu

15. Türkiye'de nüfusu 10.000' in altında bulunan yerleşmelerde yaşayan nüfusa ne ad verilir?

- A) Aktif nüfus
- B) İşsiz nüfus
- C) Kırsal nüfus
- D) Şehir nüfusu

16. Aşağıdaki illerimizden hangisinden dışarıya göç verme daha fazla olmaktadır?

- A) Kocaeli
- B) Tunceli
- C) Manisa
- D) İzmir

17. Çin'den başlayan ve Uzak Doğu'nun ipek, kürk, baharat gibi ürünlerini batıya taşıyan tarihi yol aşağıdakilerden hangisidir?

- A) İpek yolu
- B) Baharat yolu
- C) Basra körfezi
- D) Süveyş kanalı

18. Aşağıdakilerden hangisi Muğla ilimiz ve çevresinde sıkça rastlanan İğne yapraklı bitki topluluğudur?

- A) Kocayemişi
- B) Keçiboynuzu
- C) Adaçayı
- D) Kızılcam

19. Kuzey ve Güney Amerika kıtaları arasında yer alan Büyük Okyanus ile Atlas Okyanusu'nu birleştiren kanal aşağıdakilerden hangisidir?

- A) Babülmendep
- B) Panama
- C) Cebeli Tarık
- D) Hürmüz

20. Dünyayı ilk dolaşan ve böylece dünyanın yuvarlak olduğunu kanıtlayan denizci aşağıdakilerden hangisidir?

- A) Macellan
- B) Vasco dö Gama
- C) Ameriko Vespuçi
- D) Kolomb

SEÇMELİ TÜRK EDEBİYATI 5

2013 II.DÖNEM 0104-A

A

1. Noktalama işaretleri ilk kez aşağıdakilerden hangisinde kullanılmıştır?

- A) Mukaddime'de
- B) Eşber'de
- C) Cezmi'de
- D) Telemak'ta

2. Aşağıdaki yazar ve eser eşleştirmelerinden hangisi yanlıştır?

- A) Şinasi – Şair Evlenmesi
- B) Namık Kemal – Afife Anjelik
- C) Recaizâde Mahmut Ekrem – Araba Sevdası
- D) Sami Paşazâde Sezâî – Küçük Şeyler

3. Namık Kemal'in Osmanlı Devleti'nin son dönemlerini anlattığı, vatanın içinde bulunduğu durum karşısında devleti yönetenlerin davranışlarını eleştirdiği şiiri aşağıdakilerden hangisidir?

- A) Vatan Mersiyesi
- B) Müntehabat-ı Eşar
- C) Makber
- D) Zafername

4. Aşağıdakilerden hangisi, ikinci dönem Tanzimat Edebiyatının temsilcilerinden biridir?

- A) Abdülhak Hamit
- B) Şinasi
- C) Ahmet Mithat Efendi
- D) Namık Kemal

5. Toplumun sosyal, siyasi ve tarihi şartlarından yararlanarak meydana getirilen edebiyat eserine ne ad verilir?

- A) Hayali metin
- B) Yazılı metin
- C) Kurmaca metin
- D) Edebi metin

6. Tanzimat Döneminde çıkarılan ilk resmî gazete aşağıdakilerden hangisidir?

- A) Takvim-i Vekayi
- B) Tercüman-ı Ahval
- C) Ceride-i Havadis
- D) Tercüman-ı Hakikât

7. Aşağıdakilerden hangisi, Namık Kemal'in eserleri arasında yer almaz?

- A) Vatan Yahut Silistre
- B) Zafername
- C) Âkif Bey
- D) Zavallı Çocuk

8. 19. yüzyılda Osmanlı Devleti'nin sosyal ve siyasi yapısıyla ilgili aşağıdakilerden hangisi yanlıştır?

- A) Devlet kurumları Batı esaslarına göre yapılandırılmıştır.
- B) Yapılması gereken yenilikler Tanzimat Fermanı ile halka duyurulmuştur.
- C) Orduda yapılan düzenlemeler ile savaşlarda büyük başarılar kazanılmıştır.
- D) Batıda gerçekleşen bilimsel gelişmeler örnek alınmıştır.

9. Sergüzeşt romanı ile ilgili aşağıdaki ifadelerden hangisi doğrudur?

- A) Romantizm akımının etkisiyle yazılmıştır.
- B) Betimlemelere ve ruh çözümlerine çok sık yer verilmiştir.
- C) Tutsaklık ve insan ticareti teması işlenmiştir.
- D) Ele alınan konu gerçek hayattan alınmamıştır.

10. Ziya Paşa, aşağıdaki türlerden hangisinde eser vermemiştir?

- A) Şiir
- B) Makale
- C) Edebiyat tarihi
- D) Tiyatro

11. Namık Kemal'in 1876 yılında Magosa'da sürgünde bulunduğu sırada yazdığı, romantizm akımının etkilerini taşıyan eseri aşağıdakilerden hangisidir?

- A) Harabat
- B) Sergüzeşt
- C) Son Pişmanlık
- D) İntibah

12. Rezaizâde Mahmut Ekrem ile ilgili aşağıdaki bilgilerden hangisi yanlıştır?

- A) Tanzimat edebiyatı şair ve yazarlarından.
- B) Tasvir-i Efkâr gazetesinde yazılar yazmıştır.
- C) Toplumsal konular hakkında eserler vermiştir.
- D) Galatasaray Lisesi'nde edebiyat öğretmenliği yapmıştır.

13. Terkiib-i bend ile ilgili aşağıdaki ifadelerden hangisi yanlıştır?

- A) Bentlerin her birine terkipline adı verilir.
- B) Çağdaş Türk edebiyatının nazım biçimlerindedir.
- C) Dini, felsefi ve sosyal yaşamla ilgili konular işlenir.
- D) Her biri gazel tarzında uyaklanmış 5-10 bentten meydana gelir.

14. Batıdan ilk şiir çevirilerini Tercüme-i Manzuma adıyla yayınlayan yazar aşağıdakilerden hangisidir?

- A) Namık Kemal
- B) Ziya Paşa
- C) Sami Paşazâde Sezâî
- D) Şinasi

15. Şiirlerinde lirik ve epik duyguları işleyen, Sahra, Makber, Bunlar Odur gibi şiirlerin yazarı aşağıdakilerden hangisidir?

- A) Rezaizâde Mahmut Ekrem
- B) Abdülhak Hamit Tarhan
- C) Ahmet Mithat Efendi
- D) Sami Paşazâde Sezaî

16. Aşağıdakilerden hangisi, 'toplum için sanat' anlayışını benimseyen aydınlardan biridir?

- A) Abdülhak Hamit
- B) Rezaizade Mahmut Ekrem
- C) Ziya Paşa
- D) Samipaşazâde Sezaî

17. Türk edebiyatının ilk realist romanı aşağıdakilerden hangisidir?

- A) Araba Sevdası
- B) İntibah
- C) Sergüzeşt
- D) Şair Evlenmesi

18. Aşağıdakilerden hangisi, dünya edebiyatında romantizm akımının öncülerinden biridir?

- A) Moliere
- B) Victor Hugo
- C) Montaigne
- D) La Fontaine

19. İlk çeviri roman olan Terceme-i Telemak kim tarafından çevrilmiştir?

- A) Ziya Paşa
- B) Abdülhak Hamid Tarhan
- C) Yusuf Kamil Paşa
- D) Şemsettin Sami

20. Aşağıdakilerden hangisi, Tanzimat dönemi aydınları arasında yer almaz?

- A) Namık Kemal
- B) Ahmet Mithat
- C) Şinasi
- D) Nazım Hikmet

1. Auf welchen Kontinenten lebt der Elefant?

Welche Antwort passt zur obigen Frage?

Verilen sorunun cevabı aşağıdakilerden hangisidir?

- A) Sie wurden in Indien gefunden.
B) Der Elefant ist groß und stark.
C) Ein Elefant kann sehr schnell laufen.
D) Der Elefant lebt in Afrika und in Asien.

2. meinem Geburtstag habe ich eine Schildkröte bekommen.

Welches Wort passt in die obige Lücke?

Cümlede boş bırakılan yeri aşağıdakilerden hangisi doğru şekilde tamamlar?

- A) Zu
B) Auf
C) Über
D) Von

3. Der Löwe ist der König aller Tiere.

Welche Frage passt zur obigen Antwort?

Verilen cevabı gerektirecek soru aşağıdakilerden hangisidir?

- A) Welche Tiere kennst du?
B) Wo ist der König aller Tiere?
C) Wann geht der König aller Tiere in den Wald?
D) Welches Tier ist der König aller Tiere?

4. **Welches zusammengesetzte Wort ist falsch?**

Verilen birleşik sözcüklerden hangisi yanlıştır?

- A) Der Erdkundetest
B) Die Hauptstadt
C) Das Haustier
D) Der Landmorgen

5. Das Auto steht dem Baum.

Welches Wort passt in die obige Lücke?

Cümlede boş bırakılan yeri aşağıdakilerden hangisi doğru şekilde tamamlar?

- A) zwischen
B) auf
C) hinter
D) in

6. Welches Instrument würdest du kaufen?

Welche Antwort passt zur obigen Frage?

Verilen sorunun cevabı aşağıdakilerden hangisidir?

- A) Ich habe eine Gitarre.
B) Er kann auch sehr gut Geige spielen.
C) Ich würde mir eine Gitarre kaufen.
D) Er möchte Geige spielen lernen.

7. Was bedeutet "der Reim" auf Türkisch?

"der Reim" sözcüğünün Türkçesi aşağıdakilerden hangisidir?

- A) Kafiye
B) Dize
C) Güfte
D) Satır

8. A: Kennst du klassische Musik?
B: Und du?
A: Na ja, ich kenne nur die Popmusik.

Welcher Satz ergänzt den obigen Dialog?

Verilen karşılıklı konuşmayı aşağıdakilerden hangisi tamamlar?

- A) Ja, ich kenne klassische Musik.
B) Ja, die populäre Musik.
C) Nein, ich mag nicht tanzen.
D) Nein, ich kann nicht singen.

9. Tarkan!

Welche Frage passt zur obigen Antwort?

Verilen cevabı gerektirecek soru aşağıdakilerden hangisidir?

- A) Wie heißt dein Lieblingssänger?
- B) Wer ist deine Freundin?
- C) Welches Instrument spielst du?
- D) Was für Musik interessiert dich am meistens?

10., dass ich in einer Band mitspielen kann.

Welcher Satz ergänzt die obige Lücke?

Verilen cümleyi aşağıdakilerden hangisi tamamlar?

- A) Jeder kann das doch spielen
- B) Für die Zukunft wünsche ich mir
- C) Alles Gute für deine Zukunft
- D) Das kleine Kind spielt Blockflöte

11. Weil das Wetter kalt ist, spielen die Kinder in der Wohnung.

Welches Wort passt in die obige Lücke?

Cümlede boş bırakılan yeri aşağıdakilerden hangisi doğru şekilde tamamlar?

- A) draussen
- B) vorne
- C) über
- D) drinnen

12., weil wir somit in Kontakt bleiben.

Welches ergänzt die Lücke im obigen Satz?

Verilen cümleyi aşağıdakilerden hangisi tamamlar?

- A) In Deutschland wird gefeiert
- B) Die Kinder und Enkelkinder können
- C) Familienfeste sind wichtig
- D) Diese Frage ist für mich wichtig

13. Für die Eltern war es wichtig, dass die Mädchen fleißig und gehorsam sind.

Wie lautet der obige Satz auf Türkisch?

Verilen cümlelerin Türkçesi aşağıdakilerden hangisidir?

- A) Aileler kız çocuklarını iyi eğitmek istiyordu.
- B) Aileler için kız çocukların çalışkan ve itaatli olması önemliydi.
- C) Aileler için en önemli konu kız çocukların eğitim durumu.
- D) Aileler kız çocukların daha çalışkan ve itaatli olduklarını savundu.

14. Glück und Unglück sind wie Eimer im Brunnen, zieht man den einen auf, so sinkt der ab.

Welches Wort passt in die obige Lücke?

Cümlede boş bırakılan yeri aşağıdakilerden hangisi doğru şekilde tamamlar?

- A) sondern
- B) jemand
- C) andere
- D) niemand

15. Es gibt viele und bei türkischen und deutschen Familienfesten.

Welche Wörter passen in die obigen Lücken?

Cümlede boş bırakılan yerleri aşağıdakilerden hangileri doğru şekilde tamamlar?

- A) Besprechung / Ehre
- B) Thema / Beispiel
- C) Ähnlichkeiten / Unterschiede
- D) Teil / Ziel

16. A: Was hast du?
B:, ich kann nicht hören.
A: Dann musst du zum Arzt!

Welcher Satz ergänzt den obigen Dialog?

Verilen karşılıklı konuşmayı aşağıdakilerden hangisi tamamlar?

- A) Mein Zahn tut mir weh.
B) Meine Ohren tun mir weh.
C) Mein Hals tut mir weh.
D) Mein Bauch tut mir weh.

17. Abhören / Lungen / die / Arzt / der

Wie kann man mit den obigen Wortgruppen einen sinnvollen und richtigen Satz bilden?

Verilen sözcük gruplarıyla kurulabilecek en anlamlı ve doğru cümle aşağıdakilerden hangisidir?

- A) Der Arzt hört die Lungen ab.
B) Die Lungen abhören der Arzt.
C) Der Arzt die Lungen abhören.
D) Die Lungen der hören ab Arzt.

18. Arzt: Sie haben eine leichte Entzündung!
Patient:
Arzt: Wenn Sie Ihre Medikamente regelmäßig einnehmen, wird es Ihnen besser gehen. Gute Besserung!
Patient: Vielen Dank!

Welcher Satz ergänzt den obigen Dialog?

Verilen karşılıklı konuşmayı aşağıdakilerden hangisi tamamlar?

- A) Ich gebe mein Blut ab, nachdem ich etwas esse.
B) Ich muß meine Medikamente einnehmen!
C) Meine Spritze ist fertig und somit sind auch meine Schmerzen weg.
D) Ich hoffe, daß es mir bald besser geht!

19. Ich gehe jeden Abend laufen.

Welche Frage passt zur obigen Antwort?

Verilen cevabı gerektirecek soru aşağıdakilerden hangisidir?

- A) Wann gehst du zum Arzt?
B) Was hält dich fit?
C) Was hast du denn?
D) Welche Schmerzen hast du?

20. Nabız atışı biraz yüksek.

Wie lautet der obige Satz auf Deutsch?

Verilen cümlenin Almancası aşağıdakilerden hangisidir?

- A) Die Lunge und der Hals ist frei.
B) Der Pulsschlag ist etwas erhöht.
C) Den Puls kann ich nicht fühlen.
D) Der Pulsschlag ist schwer zu hören.

1. Does Onur to have a new mobile phone?

Which of the following completes the sentence above?

Aşağıdakilerden hangisi yukarıdaki cümleyi doğru olarak tamamlar?

- A) want
B) wants
C) wanted
D) wanting

2. A: What kind of music do you like most?
B: I like most.

Which of the following completes the dialogue above?

Aşağıdakilerden hangisi yukarıdaki konuşmayı doğru olarak tamamlar?

- A) documentaries
B) cats
C) rock music
D) violin

3. A: Do you have eggs for the cake?
B: No, we don't. I will buy eggs at the supermarket.

Which of the following completes the dialogue above?

Aşağıdakilerden hangisi yukarıdaki konuşmayı doğru olarak tamamlar?

- A) some/ any
B) any/some
C) any/any
D) much/some

4. A: How often do you brush your teeth a day?
B: I brush my teeth

Which of the following completes the dialogue above?

Aşağıdakilerden hangisi yukarıdaki konuşmayı doğru olarak tamamlar?

- A) last April
B) yesterday
C) last year
D) twice a day

5. A: Are the students an exam now?
B: Yes, they are.

Which of the following completes the dialogue above?

Aşağıdakilerden hangisi yukarıdaki konuşmayı doğru olarak tamamlar?

- A) have
B) has
C) having
D) had

6. A: Would you like to some tea?
B: Yes, please.

Which of the following completes the dialogue above?

Aşağıdakilerden hangisi yukarıdaki konuşmayı doğru olarak tamamlar?

- A) see
B) eat
C) drink
D) bring

7. Our Maths teacher never makes mistakes. She is very

Which of the following completes the sentence above?

Aşağıdakilerden hangisi yukarıdaki cümleyi doğru olarak tamamlar?

- A) careless
B) happy
C) careful
D) angry

8.



The house is the trees.

Which of the following completes the sentence above?

Aşağıdakilerden hangisi yukarıdaki cümleyi resme göre doğru olarak tamamlar?

- A) in front of
- B) on
- C) next to
- D) between

9. Mount Everest is than Mount Uludağ.

Which of the following completes the sentence above?

Aşağıdakilerden hangisi yukarıdaki cümleyi doğru olarak tamamlar?

- A) highest
- B) higher
- C) longer
- D) longest

10. A mechanic is someone who

Which of the following completes the sentence above?

Aşağıdakilerden hangisi yukarıdaki cümleyi doğru olarak tamamlar?

- A) repairs cars
- B) plays an instrument
- C) looks after patients
- D) sells fruit

11. My uncle Thomas sometimes us nice presents on our birthdays.

Which of the following completes the sentence above?

Aşağıdakilerden hangisi yukarıdaki cümleyi doğru olarak tamamlar?

- A) bring
- B) is bringing
- C) has brought
- D) brings

12. There are books on the shelf.

Which of the following completes the sentence above?

Aşağıdakilerden hangisi yukarıdaki cümleyi doğru olarak tamamlar?

- A) some
- B) any
- C) a little
- D) a

13. A: What time does your school on weekdays?
B: At 8.30.

Which of the following completes the dialogue above?

Aşağıdakilerden hangisi yukarıdaki konuşmayı doğru olarak tamamlar?

- A) starts
- B) started
- C) start
- D) starting

14. A: Hello, can you tell me , please?
B: It's half past ten.

Which of the following completes the dialogue above?

Aşağıdakilerden hangisi yukarıdaki konuşmayı doğru olarak tamamlar?

- A) an animal
- B) post office
- C) some food
- D) the time

15.



There is big tiger in the picture.

Which of the following completes the sentence above?

Aşağıdakilerden hangisi yukarıdaki cümleyi resme göre doğru olarak tamamlar?

- A) an
- B) many
- C) two
- D) a

16. Many people don't like studying History.

Which of the following is the Turkish translation of the sentence above?

Aşağıdakilerden hangisi yukarıdaki cümlenin Türkçe karşılığıdır?

- A) Pek çok insan tarih çalışmayı sever.
- B) Pek çok insan tarih çalışmayı sevmez.
- C) Pek çok insan tarih kitapları okur.
- D) Hiç kimse tarih çalışmayı sevmez.

17. This is Selin. These are books on the desk.

Which of the following completes the sentence above?

Aşağıdakilerden hangisi yukarıdaki cümleyi doğru olarak tamamlar?

- A) his
- B) her
- C) their
- D) our

18. I clean my room once a week.

Which of the following is the Turkish translation of the sentence above?

Aşağıdakilerden hangisi yukarıdaki cümlenin Türkçe karşılığıdır?

- A) Odamı haftada bir kez temizlerim.
- B) Odamı haftada iki kez temizlerim.
- C) Odamı haftada bir kez temizliyorum.
- D) Odamı haftada bir kez temizleyeceğim.

19. A: Hello. I am Sarah. How old are you?
B: Hello, my name is John. I

Which of the following completes the dialogue above?

Aşağıdakilerden hangisi yukarıdaki konuşmayı doğru olarak tamamlar?

- A) am fine, thanks
- B) am 15 years old
- C) am not very well
- D) am a student

20. There is new music shop in city centre.

Which of the following completes the sentence above?

Aşağıdakilerden hangisi yukarıdaki cümleyi doğru olarak tamamlar?

- A) a/the
- B) an/a
- C) a/a
- D) the/a

1. Je pense je suis.

Choisissez le mot qui convient.

Cümledeki boşluğu aşağıdakilerden hangisi doğru şekilde tamamlar?

- A) jamais
- B) rien
- C) personne
- D) donc

2. Elle dit qu'elle va venir demain.

Choisissez la traduction qui convient.

Yukarıdaki cümlenin Türkçe karşılığı aşağıdakilerden hangisidir?

- A) Yarın gelmek istediğini söyledi.
- B) Yarın gelmek istiyor.
- C) Yarın geleceğini söylüyor.
- D) O, yarın gelecekti.

3. Il est un étudiant.

Choisissez le mot qui convient.

Cümledeki boşluğu aşağıdakilerden hangisi doğru şekilde tamamlar?

- A) bien
- B) mieux
- C) meilleur
- D) bon

4. - Vous avez changé de style vestimentaire?
- Non, pas de

Choisissez le mot qui convient.

Yukarıdaki konuşmada boş bırakılan yeri aşağıdakilerden hangisi doğru şekilde tamamlar?

- A) changer
- B) changement
- C) changé
- D) changeable

5. Je vous présente mon ami travaille chez Renault.

Choisissez le mot qui convient.

Cümledeki boşluğu aşağıdakilerden hangisi doğru şekilde tamamlar?

- A) qui
- B) que
- C) où
- D) quoi

6. Hier soir, trop chaud.

Choisissez l'expression qui convient.

Cümledeki boşluğu aşağıdakilerden hangisi doğru şekilde tamamlar?

- A) il y avait
- B) il faisait
- C) combien
- D) je préfère

7. Mon père 75 ans.

Choisissez le mot qui convient.

Cümledeki boşluğu aşağıdakilerden hangisi doğru şekilde tamamlar?

- A) a
- B) est
- C) ont
- D) as

8. Cet ordinateur est vieux, il est temps de(d') acheter un neuf.

Choisissez le mot qui convient.

Cümledeki boşluğu aşağıdakilerden hangisi doğru şekilde tamamlar?

- A) lui
- B) en
- C) la
- D) leur

9. I. Il faisait nuit.
II. Tout d'un coup, j'entendais un bruit.
III. J'ai fini mes devoirs.
IV. J'avais très peur.

Chosissez la phrase qui ne convient pas à l'ensemble.

Sırasıyla okunduğunda anlam bütünlüğünü bozan cümle aşağıdakilerden hangisidir?

- A) I
- B) II
- C) III
- D) IV

10. S'il fait beau, nous au pique-nique.

Choisissez le mot qui convient.

Cümledeki boşluğu aşağıdakilerden hangisi doğru şekilde tamamlar?

- A) voulons
- B) allons
- C) sommes
- D) avons

11. Nous allons à l'école métro.

Choisissez le mot qui convient.

Cümledeki boşluğu aşağıdakilerden hangisi doğru şekilde tamamlar?

- A) en
- B) par
- C) dans
- D) au

12. Je cherche un appartement louer.

Choisissez le mot qui convient.

Cümledeki boşluğu aşağıdakilerden hangisi doğru şekilde tamamlar?

- A) en
- B) par
- C) de
- D) à

13. J'en ai assez cet ordinateur.

Choisissez le mot qui convient.

Cümledeki boşluğu aşağıdakilerden hangisi doğru şekilde tamamlar?

- A) pour
- B) que
- C) de
- D) sur

14. Je ne fume plus.

Choisissez la traduction qui convient.

Yukarıdaki cümlelerin Türkçe karşılığı aşağıdakilerden hangisidir?

- A) Artık sigara içmiyorum.
- B) Sigarayı bırakamıyorum.
- C) Sigarayı bıraktım.
- D) Hiç sigara kullanmadım.

15. - Bonjour, je voudrais parler à M. Lenoir.

- Oui,

- De Mme Chantal.

Choisissez l'expression qui convient.

Yukarıdaki konuşmada boş bırakılan yeri aşağıdakilerden hangisi doğru şekilde tamamlar?

- A) c'est moi.
- B) il est là?
- C) c'est de la part de qui?
- D) il est M. Lenoir.

16. Les films d'action; je(j') trouve triste.

Choisissez le mot qui convient.

Cümledeki boşluğu aşağıdakilerden hangisi doğru şekilde tamamlar?

- A) la
- B) lui
- C) en
- D) les

17. La réunion est 20 janvier.

Choisissez le mot qui convient.

Cümledeki boşluğu aşağıdakilerden hangisi doğru şekilde tamamlar?

- A) le
- B) en
- C) au
- D) de la

18. C'est lui parle toute la soirée.

Choisissez le mot qui convient.

Cümledeki boşluğu aşağıdakilerden hangisi doğru şekilde tamamlar?

- A) que
- B) donc
- C) où
- D) qui

19. Le chat de Mme Perrin est perdu. Elle est donc

Choisissez le mot qui convient.

Cümledeki boşluğu aşağıdakilerden hangisi doğru şekilde tamamlar?

- A) joyeuse
- B) triste
- C) colère
- D) peur

20. - livre voulez-vous acheter?

- Celui-ci.

Choisissez le mot qui convient.

Yukarıdaki konuşmada boş bırakılan yeri aşağıdakilerden hangisi doğru şekilde tamamlar?

- A) Laquelle
- B) Lesquels
- C) Lequel
- D) Quelle

1. Klasik Türk şiirinde çeşitli nazım biçimleri kullanılır. Ancak hiçbir nazıma bağlı olmayan tek beyitten oluşan nazımlar da vardır.

Bu hiçbir nazıma bağlı olmayan tek beyitten oluşan nazımlara ne ad verilir?

- A) Berceste
B) Beyit
C) Murabba
D) Müfret

2. Aşağıdakilerden hangisi makalenin okuyucu kitlesine ulaşması bakımından önemli olan ögesidir?

- A) Dipnot
B) Başlık
C) Tartışma
D) Sonuç

3. "Sayın jüri üyeleri, değerli arkadaşlarım, Tezimin doğru olduğunu savunmaya sanat ile sanatkar kelimelerini açıklayarak başlayacağım"

Yukarıda bir parçası alıntılanan konuşmanın gerçekleştirildiği ortam aşağıdakilerden hangisidir?

- A) Sempozyum
B) Forum
C) Panel
D) Münazara

4. Çeşitli konularda uzmanların, dinleyiciler karşısında görüşlerini açıkladıkları toplantılara ne ad verilir?

- A) Röportaj
B) Konferans
C) Açık oturum
D) Söylev

5. Aşağıdakilerden hangisi bilimsel yazılar içerisinde yer almaz?

- A) Tiyatro metinleri
B) Değerlendirme yazıları
C) Bilimsel makaleler
D) Konferans raporları

6. Aşağıdakilerden hangisi kafiye çeşitlerinden biri değildir?

- A) Cinaslı
B) Zengin
C) Ahenkli
D) Tam

7. En belirgin özelliği sosyal bir sorunun geniş kitleler önünde bütün ayrıntılarıyla tartışılması ve dinleyicilerin de bu tartışmanın içinde aktif olarak yer alması olan toplantılara ne ad verilir?

- A) Sempozyum
B) Münazara
C) Söyleşi
D) Forum

8. "Ey bu topraklar için toprağa düşmüş asker! Gökten ecdad, inerek öpse o pak alını değer."

Yukarıda bir parçası alıntılanan şiirin teması aşağıdakilerden hangisidir?

- A) Coşku
B) Tabiat
C) Kahramanlık
D) Yaşama sevinci

9. Aşağıdakilerden hangisi halk şiirlerini saz eşliğinde söyleyenlerden biri değildir?

- A) Gazelhan
B) Ozan
C) Âşık
D) Kam

10. Türkü, Türk şiirinde kullanılan hangi nazım biçiminin örneğidir?

- A) Divan edebiyatı
B) Klasik Türk şiiri nazım biçimleri
C) Halk Şiiri Nazım biçimleri
D) Batı etkisinde gelişen Türk edebiyatı

11. Şiirinde bir nesneyi, olay ya da düşünceyi gördüğünden aşırı büyük gösteren bir ifade kullanan şair aşağıdaki sanatlardan hangisini kullanmıştır?

- A) Benzetme
B) Mübalağa
C) Mecaz
D) Cinaz

12. "Bir gün meşe dedi ki kamaşa:
-Tabiattan şikayet etmekte hakkınız var"

Yukarıda meşeye insan benliği verilerek hangi sanat yapılmıştır?

- A) Kinaye
B) Tenasüp
C) Tevriye
D) Teşhis

13. Aşağıdakilerden hangisi başlıca şiir türlerinden biri değildir?

- A) Epik
B) Estetik
C) Pastoral
D) Dramatik

14. "Elif okuduk ötürü
Pazar eyledük götürü
Yaradılmışı hoş gördük
Yaradan'dan ötürü"

Yukarıdaki dizeler kime aittir?

- A) Nefi
B) Yunus Emre
C) Baki
D) Aşık Veysel

15. Halk şiirine ilişkin aşağıdaki bilgilerden hangisi yanlıştır?

- A) Oldukça ağır bir dil kullanılmıştır.
B) Türklerin İslamiyet'i kabulü öncesinden başlayarak günümüze kadar sürmüştür.
C) Nazım birimi dördlüktür.
D) Konu olarak tabiat güzellikleri, aşk, ayrılık ve gurbet gibi temaları işlemiştir.

16. Aşağıdakilerden hangisi Türk halk şiiri nazım biçimlerinden biri değildir?

- A) Semai
B) Mani
C) Gazel
D) İlahi

17. Aşağıdakilerden hangisi benzetme sanatının dört temel ögesinden biri değildir?

- A) Benzetme isteği
B) Benzeyen
C) Benzetme edatı
D) Kendisine benzetilen

18. "Güzel şeyler düşünelim diye
Yemyeşil oluvermiş ağaçlar"

Şair yukarıdaki dizelerde ağaçların yeşil olmasını tabiata değil de güzel şeyler düşünebilmeye bağlayarak hangi sanatı gerçekleştirmiştir?

- A) Kinaye
B) Hüsn-î Tâil
C) Mecaz
D) İntak

19. "Kim kazanmazsa bu dünyada bir ekmek parası
Dostunun yüz karası düşmanın maskarası"

Yukarıdaki şiirde kullanılan nazım birimi nedir?

- A) Bent
B) Kıta
C) Sone
D) Beyit

20. Mesnevi, Türk şiirinde kullanılan hangi nazım biçiminin örneğidir?

- A) Klasik Türk Şiiri Nazım biçimleri
B) Divan edebiyatı
C) Halk şiiri nazım biçimleri
D) Batı etkisinde gelişen Türk edebiyatı

SINAVDA UYGULANACAK KURALLAR

1. Sınav süresince görevlilerle konuşmak ve soru sormak yasaktır. Aynı şekilde görevlilerin de öğrencilerle yakından ve alçak sesle konuşmaları yasaktır. Yanınızda ve sıranızda dersle ilgili kitap not vb. bulundurmamak yasaktır. Sınav sırasında kopya yapan, yapmaya teşebbüs eden, kopya veren, kopya yapılmasına yardım edenlerin kimlikleri BİREYSEL SINAV İPTAL TUTANAĞINA yazılacak ve bu öğrencilerin sınavları geçersiz sayılacaktır. Görevliler kopya yapmaya veya vermeye kalkışanları uyarmak zorunda değildir, sorumluluk size aittir.
Sınavda yetki verilmiş görevliler, bu salondaki sınavın kurallara uygun biçimde yapılmadığını, toplu kopya girişiminde bulunulduğunu raporlarında bildirdikleri veya üniversite sınav merkezince yapılan incelemeler sonucu toplu kopya yapıldığı saptandığı takdirde, Anadolu Üniversitesinin yetkili organları bu salonda sınava giren öğrencilerin tümünün sınavını geçersiz sayar.
2. Öğrenciler sınav sırasında görevlilerin her türlü uyarılarına uymak zorundadır. Gerektiğinde görevliler oturduğunuz yerleri değiştirebilir. Sınavınızın geçerli sayılması, her şeyden önce sınav kurallarına uymanıza bağlıdır. Kurallara aykırı davranışta bulunanların ve yapılacak uyarılara uymayanların kimlikleri BİREYSEL SINAV İPTAL TUTANAĞINA yazılacak ve sınavları geçersiz sayılacaktır.
3. Sınav sırasında herhangi bir nedenle dışarı çıkmak yasaktır. Sınavın başlamasını izleyen ilk 30 dakika ve sınav süresinin son 5 dakikası içinde, sınavlarını tamamlasalar bile hiçbir öğrencinin salondan çıkmasına izin verilmeyecektir. Sınavın başlamasını izleyen ilk 15 dakikadan sonra hiç bir öğrenci sınava alınmaz.
4. Biraz sonra soru kitapçıkları dağıtılacaktır. Cevaplamaya geçmeden önce size verilecek soru kitapçığının üzerinde ayrılan yere, adınızı, soyadınızı, öğrenci numaranızı ve bu salonun numarasını yazınız. Sınav sonunda soru kitapçıkları toplanacak ve sınav merkezinde tek tek incelenecektir. Soru Kitapçığının bir tek sayfası eksik çıksa bile sınavınız geçersiz sayılacaktır.
5. Size verilen Cevap Kâğıdının üzerinde yazan numara ve ismin size ait olduğunu kontrol ediniz. Cevap Kâğıdı size ait değilse, görevlileri uyarıp size ait Cevap Kâğıdını alınız. Daha sonra Cevap Kâğıdı üzerinde ayrılmış olan yerlere öğrenci numaranızı ve test grubunuzu kodlayınız, adınızı soyadınızı yazınız ve ilgili yeri imzalayınız.
6. Cevap Kâğıdına yazılacak her türlü yazı, rakam ve yapılacak işaretlemeler için siyah kurşun kalem kullanılacaktır. Tükenmez kalem veya dolmakalem kesinlikle kullanılmayacaktır. Cevapların tümü CEVAP KÂĞIDINA İŞARETLENECEKTİR. Soru Kitapçıkları üzerine yapılan işaretlemeler kesinlikle değerlendirilmez. Her dersin cevabı, o dersin isminin yazılı olduğu sütuna işaretlenmelidir. Yanlış sütuna yapacağınız işaretlemeler kesinlikle değerlendirilmez.
7. Soru Kitapçığının sayfalarındaki boş yerleri müsvedde yapmak için kullanabilirsiniz. Başka bir kâğıdı müsvedde olarak kullanmak yasaktır. Bu tür işlemleri yapanların sınavları geçersiz sayılır.
8. Öğrencilerin sorulara verdikleri yanıtları herhangi bir yere yazmaları ve bunu sınav salonundan dışarıya çıkarmaları yasaktır. Bu kurala uymayanların sınavları geçersiz sayılır.
9. Sınav sırasında öğrencilerin birbirinden kalem, silgi vb. şeyleri istemesi kesinlikle yasaktır. Yasağa uymayanların sınavı geçersiz sayılır.
10. Sınav sırasında hesap makinesi kullanılabilir. Ancak, hesap makinesinin sınav sırasında ödünç alınması, verilmesi ve değiştirilmesi yasaktır. (Data Bank vb. gibi özel elektronik donanımlar kullanılamaz.) Bu tür davranışlarda bulunanların sınavları geçersiz sayılır.
11. Öğrenciler sınava gelirken telsiz, cep telefonu, çağrı cihazı vb. iletişim araçları ile görüntü kaydetmeye yarayan fotoğraf makinesi, kamera vb. araçları getirmemeleri konusunda sınava giriş belgelerinde uyarılmışlardır. Buna rağmen yanlarında bu tür cihazları getirenlerin, bunları sınav sonrasında almak üzere salon başkanına teslim etmeleri gerekir. Bu cihazları sınav salonunda yanlarında bulunduran öğrencilerin, cihazları kapalı bile olsa, o oturdaki sınavı geçersiz sayılacaktır. Bu cihazların kaybolmasından Üniversitemiz sorumlu olmayacaktır.
12. Biraz sonra dağıtılacak olan soru kitapçığında test ile ilgili açıklamalar yazılıdır. Bu açıklamaları okumadan ve size "SINAV BAŞLAMIŞTIR" denmeden soruları cevaplamaya başlamayınız.

SINAVLARINIZDA BAŞARILAR DİLERİZ.