



ANADOLU ÜNİVERSİTESİ  
AÇIKÖĞRETİM FAKÜLTESİ  
BA - AÇIKÖĞRETİM OKULLARI

T.C. MİLLİ EĞİTİM BAKANLIĞI  
Hayat Boyu Öğrenme Genel Müdürlüğü  
AÇIK ÖĞRETİM LİSESİ – BATI AVRUPA PROGRAMI  
2012-2013 ÖĞRETİM YILI II.DÖNEM SINAVI  
BEŞİNCİ OTURUM - Cumartesi 16.00

TEST GRUBUNUZ

**A 0105**

CEVAP KÂĞIDINIZA İŞARETLEMİYİ UNUTMAYINIZ.

**ÖĞRENCİNİN**

SOYADI : .....

ADI : .....

ÖĞRENCİ NO : .....

SINAV SALON NO: ..... SIRA NO: .....

*Soyadınızı, adınızı, öğrenci numaranızı, salon ve sıra numaranızı yukarıya yazmayı unutmayınız.*

**GENEL AÇIKLAMA**

1. Bu soru kitapçığındaki testler şunlardır:

Testin Adı	Soru Sayısı	Sayfa No
DİN KÜLTÜRÜ VE AHLAK BİLGİSİ 4	20	2
FELSEFE 2	20	4
TARİH 4	20	6
MATEMATİK 5	20	8
ALMANCA 2	20	11
İNGİLİZCE 2	20	14
FRANSIZCA 2	20	17
PSİKOLOJİ 1	20	19
ALMANCA 5	20	21
İNGİLİZCE 5	20	24
FRANSIZCA 5	20	27
TÜRK EDEBİYATI 3	20	29
TÜRK EDEBİYATI 8	20	31
FİZİK 1	20	33

Testin Adı	Soru Sayısı	Sayfa No
KİMYA 3	20	36
BİYOLOJİ 4	20	38
SAĞLIK BİLGİSİ 2	20	40
GEOMETRİ 3	20	42
GEOMETRİ 8	20	46
SEÇMELİ TARİH 4	20	50
ALMANCA 8	20	52
İNGİLİZCE 8	20	55
FRANSIZCA 8	20	58
SEÇMELİ DİL VE ANLATIM 6	20	60
SEÇMELİ ALMANCA 8	20	62
SEÇMELİ İNGİLİZCE 8	20	65
SEÇMELİ FRANSIZCA 8	20	68
SEÇMELİ DİL VE ANLATIM 7	20	70

2. Bu kitapçıkta yer alan her bir test için cevaplama süresi **30** dakika, toplam sınav süresi **150** dakikadır.
3. Cevaplamaya istediğiniz testin, istediğiniz sorusundan başlayabilirsiniz. Yalnız cevaplarınızı, cevap kâğıdında o test için ayrılmış olan bölümdeki aynı numaralı cevap yerine işaretlemeyi unutmayınız.
4. Cevaplarınızı koyu siyah ve yumuşak bir kurşunkalemle işaretleyiniz. İşaretinizi cevap yerinin dışına taşırmayınız. Tükenmez veya mürekkepli kalem kullanmayınız.
5. Değiştirmek istediğiniz bir cevabı yumuşak bir silgi ile, cevap kâğıdını örselemeden temizce siliniz ve doğru cevabınızı işaretlemeyi unutmayınız.
6. Cevap kâğıdınızı buruşturmayınız, katlamayınız ve üzerine gereksiz hiçbir işaret koymayınız.
7. Bu kitapçıkta her sorunun bir tek doğru cevabı vardır. Bir soru için birden çok cevap yeri işaretlenmişse o soru yanlış cevaplanmış sayılacaktır.
8. Cevaplarınız puanlanırken her doğru cevabınıza eşit puan verilecek, yanlış cevaplarınız dikkate alınmayacaktır. Bu nedenle kitapçıkta tüm sorular için size doğru gelen seçeneği işaretleyerek cevapsız soru bırakmanız yararınıza olacaktır.
9. Kitapçığın sayfalarındaki boş yerleri müsvedde için kullanabilirsiniz.

Anadolu Üniversitesi tarafından hazırlanmış olan bu testlerin her hakkı saklıdır. Hangi amaçla olursa olsun, testlerin tamamının veya bir kısmının Anadolu Üniversitesi'nin yazılı izni olmadan kopya edilmesi, fotoğraflarının çekilmesi, herhangi bir yolla çoğaltılması, yayımlanması ya da kullanılması yasaktır. Bu yasağa uymayanlar gerekli cezai sorumluluğu ve testlerin hazırlanmasındaki mali külfeti peşinen kabullenmiş sayılır.

1. Kişinin kendi inandığı ve gerçek kabul ettiği fikir ve düşüncelere bağlanmak, kendi dışındaki görüşlere söz hakkı tanımamak ve düşmanlık beslemeye ne ad verilir?  
A) Tecessüs  
B) Gıybet  
C) Şirk  
D) Taassup
2. "Hiç bilenlerle bilmeyenler bir olur mu?" ayetiyle hangi temel hakka değinilmiştir?  
A) Yaşam hakkı  
B) İbadet hakkı  
C) Eğitim hakkı  
D) Özel yaşamın gizliliği hakkı
3. "Din lüzumlu bir müessesedir. Dinsiz milletlerin devamına imkân yoktur." Sözü kime aittir?  
A) Mustafa Kemal Atatürk  
B) Mehmet Akif Ersoy  
C) Yunus Emre  
D) Hz. Muhammed
4. Hak ve özgürlüklerin kullanımı ile ilgili aşağıdaki ifadelerden hangisi yanlıştır?  
A) Hak ve özgürlüklerde kimseye ayrıcalık tanınmaz.  
B) Özgürlük sınırlıdır ve sınırlandırılabilir.  
C) Hak ve özgürlükler şahsa bağlıdır, başkasına devredilemez.  
D) Hak ve özgürlükleri kısıtlanan kişi, hakkını kendi almalıdır, devlete bırakmamalıdır.
5. Aşağıdakilerden hangisi taassubun zararlarından biri değildir?  
A) Hoşgörü, sevgi, saygı gibi duyguları artırması  
B) Toplumun birlik ve beraberliğini bozması  
C) İnsanları mutsuz ve huzursuz etmesi  
D) Dini istismar etmesi ve yozlaştırması
6. Aşağıdakilerden hangisi Atatürk'ün din ile ilgili düşüncelerinden biri değildir?  
A) Dinsiz milletlerin devamı olamaz.  
B) Din, bir milletin birlik ve beraberliğini sağlar.  
C) Din, gerekli bir kurumdur.  
D) Din, her türlü siyasi ve şahsi menfaat için alet ve vasıta olarak kullanılmalıdır.
7. Allah'ın peygamberlerine dilediklerini özel bir şekilde bildirmesine ne ad verilir?  
A) Kelâm  
B) Vahiy  
C) Suhuf  
D) İcma
8. Kitabü's Şifa ve El-Kanun fit-Tıp eserlerini yazan ünlü Müslüman tıp bilgini aşağıdakilerden hangisidir?  
A) İbnül Avâm  
B) Kindi  
C) İbn-i Rüşd  
D) İbn-i Sina
9. Aşağıdakilerden hangisi Allah tarafından bağışlanmayacak günahlardan biridir?  
A) Orucu bozmak  
B) Kul hakkı yemek  
C) Namaz vaktini kaçırmak  
D) Zekât vermemek
10. Toplum hayatında kişilerin birbirleriyle ve topluma olan ilişkilerini düzenleyen ve uyulması kanun gücüyle desteklenmiş olan toplumsal kuralların bütününe ne ad verilir?  
A) Örf  
B) Adet  
C) Hukuk  
D) Laiklik

11. Peygamberlere vahiyi bildiren melek aşağıdakilerden hangisidir?

- A) Kiramen katibin
- B) Cebrail
- C) İsrail
- D) Mikail

12. Bedir Savaşı sonunda esir düşen bazı Mekkelilerin, 10 Müslümana okuma yazma öğretileri karşılığında serbest bırakılmaları İslam'ın en çok hangi özelliğini ortaya koymuştur?

- A) Haksızlıklara karşı çıkması
- B) Düşünce özgürlüğüne önem vermesi
- C) Eğitim ve öğretime önem vermesi
- D) Temizliğe önem vermesi

13. Önceleri okuma-yazma öğretiminin verildiği mektep görevini üstlenirken, sonraları çocuklara medrese öncesi eğitim veren ilk mektep olan eğitim kurumu aşağıdakilerden hangisidir?

- A) Küttap
- B) Suffa
- C) Beytül hikme
- D) Rasathane

14. "Birbirinizin gizli ve ayıp hallerini araştırmayınız." ayeti hangi hakla ilgilidir?

- A) Ekonomik
- B) Eğitim
- C) Özel yaşamın gizliliği
- D) Sağlık

15. "Kendi elinizle kendinizi tehlikeye atmayın" ayetiyle hangi temel hakka değinilmiştir?

- A) Eğitim hakkı
- B) Sağlık hakkı
- C) İbadet hakkı
- D) Özel yaşamın gizliliği hakkı

16. Aşağıdakilerden hangisi ekonomik haklardan biri değildir?

- A) Haberleşmenin gizliliği hakkı
- B) Mülkiyet hakkı
- C) Sendika kurma hakkı
- D) Toplu sözleşme ve grev hakkı

17. Selçuklu veziri Nizamülmülk, Nizamiye Medresesi'ni nerede kurmuştur?

- A) Yemen
- B) Bağdat
- C) Kudüs
- D) Şam

18. Kur'anı Kerim'in ilk emri nedir?

- A) Namaz kıl
- B) Kul hakkı gözet
- C) Oku
- D) Çalış

19. "Yiyiniz, içiniz, fakat israf etmeyiniz; çünkü Allah, israf edenleri sevmez." sözleriyle hangi temel hakkın önemi vurgulanmıştır?

- A) Ekonomik
- B) Özel yaşamın gizliliği
- C) Seçme ve seçilme
- D) İbadet

20. Aşağıdakilerden hangisi vatandaşlık görevlerinden biridir?

- A) Bir işte çalışmak
- B) Dürüst olmak
- C) Yardımsever olmak
- D) Seçimlere katılmak

1. “Varolan her şeyin bir yaratıcısı olduğuna, bu yaratıcının mutlak ve sınırsız bir bilgi ve güce sahip olduğuna sarsılmaz bir inanç beslemek” aşağıdakilerden hangisiyle ifade edilir?
  - A) Ateizm
  - B) Deizm
  - C) Teizm
  - D) Agnostisizm
2. “Anarşizm” akımının kurucusu aşağıdakilerden hangisidir?
  - A) Kropotkin
  - B) Proudhon
  - C) Stimer
  - D) Bakunin
3. Bireyin iyi ve doğru eylemlerde bulunmaya mizaç, eğitim ve moral olgunluk açısından yatkın olma durumuna ne ad verilir?
  - A) Sorumluluk
  - B) Etik
  - C) Vicdan
  - D) Erdem
4. İnsanların eylemlerini ve birbirleriyle ilişkilerini düzenlemek amacıyla oluşturulmuş normlar ya da değerler sistemine ne ad verilir?
  - A) Hukuk
  - B) Din
  - C) Felsefe
  - D) Ahlak
5. Güzelliği ve güzel sanatların doğasını inceleyen felsefe dalı aşağıdakilerden hangisidir?
  - A) Etik
  - B) Ahlak
  - C) Estetik
  - D) Mantık
6. Aşağıdakilerden hangisi din felsefesinin temel kavramlarından biri değildir?
  - A) İman
  - B) Bürokrasi
  - C) İbadet
  - D) Vahiy
7. İdeal bir toplum düzeni tasarlayan ilk filozof aşağıdakilerden hangisidir?
  - A) Kant
  - B) Platon
  - C) Farabi
  - D) Spinoza
8. “Yeni Dünya” adlı eser aşağıdakilerden hangisine aittir?
  - A) Huxley
  - B) Orwell
  - C) Campanella
  - D) More
9. Aşağıdakilerden hangisi toplumlarda siyasi iktidarın olası kaynaklarından biri değildir?
  - A) Olumsuz coğrafi koşullar
  - B) İçten gelebilecek tehlikelere karşı korunma düşüncesi
  - C) Birlikte yaşama isteği
  - D) Egemen din anlayışı
10. “Erdemli Toplum” adlı eserinde erdemli bir toplumun erdemli, bilgili yöneticiler aracılığıyla oluşturulabileceğini savunan düşünür aşağıdakilerden hangisidir?
  - A) Gazali
  - B) Fuzuli
  - C) Mevlana
  - D) Farabi
11. “Evrensel ahlak yasasını belirleyen en önemli öge insanın, kendisinin de bir parçası olduğu doğa düzenini anlayarak ve bu bilgiye dayanarak ahlaki bir biçimde davranmasıdır.” görüşünü dile getiren düşünür aşağıdakilerden hangisidir?
  - A) Kant
  - B) Demokritos
  - C) Aristoteles
  - D) Spinoza

12. Ahlak yasasını, Tanrı ve insan sevgisiyle temellendiren, bu çerçevede insanların eşitliğini ve kardeşliğini savunan, iyilik, sevgi, çalışkanlık ve dürüstlüğü ahlaki değer olarak benimseyen düşünür aşağıdakilerden hangisidir?

- A) Hacı Bektaş Veli
- B) Pir Sultan Abdal
- C) Yunus Emre
- D) Mevlana

13. "Mesnevi" adlı eser aşağıdakilerden hangisine aittir?

- A) Hacı Bektaş Veli
- B) Ahmet Yesevi
- C) Mevlana
- D) İbn-i Haldun

14. "Her insan idealar dünyasına yönelmeli ve eylemlerini iyi ideasına uydurmalıdır." görüşünü dile getiren düşünür aşağıdakilerden hangisidir?

- A) Platon
- B) Descartes
- C) Aristoteles
- D) Demokritos

15. Aşağıdakilerden hangisi din felsefesinin konularından biri değildir?

- A) Tanrının varlığı
- B) Güzel ahlak
- C) Evrenin yaratılışı
- D) Ruhun ölümsüzlüğü

16. Din ile felsefeyi birbirinden ayırarak inceleyen ilk düşünür aşağıdakilerden hangisidir?

- A) Huxley
- B) Sartre
- C) Kant
- D) Orwel

17. Yaşadığı dönemin İtalya'sındaki aksaklıklardan yola çıkarak "Güneş Ülkesi" adını verdiği ideal bir toplum düzenini tasarlayan düşünür aşağıdakilerden hangisidir?

- A) Bacon
- B) Bentham
- C) Mill
- D) Campanella

18. "Siyaset hem bir çatışma ve iktidar kavgası hem de toplumun tüm üyelerinin yararına olabilecek bir düzen yaratma aracıdır." görüşünü dile getiren siyaset bilimci aşağıdakilerden hangisidir?

- A) Duverger
- B) Daver
- C) Baumgarten
- D) Smith

19. "İnsan ahlaki eylemlerinde yalnızca kendi hazzını, yararını ve mutluluğunu değil, aşka insanların yararını ve mutluluğunu da düşünmek durumundadır. Çünkü toplumun mutluluğu sağlandığında birey de mutluluğa ulaşır." görüşünü savunan düşünür aşağıdakilerden hangisidir?

- A) Hobbes
- B) Bacon
- C) Mill
- D) Weber

20. Aşağıdakilerden hangisi siyaset felsefesinin temel kavramlarından biri değildir?

- A) Devlet
- B) Ahlak
- C) Toplum
- D) Bürokrasi

1. Fatih döneminden itibaren uygulanan iltizam usulünün kaldırılması aşağıdakilerden hangisi ile gerçekleşmiştir?
  - A) Islahat Fermanı
  - B) Sened-i İttifak
  - C) Kanuniesasi
  - D) Tanzimat Fermanı
2. Aşağıdakilerden hangisi Osmanlı ordu teşkilatındaki "Geri Hizmet Kıtaları" bünyesinde yer alanlardan biridir?
  - A) Müsellemler
  - B) Akıncılar
  - C) Deliler
  - D) Beşliler
3. Osmanlılarda tahta geçme şeklinin kesin bir kaideye bağlanması hangi padişah zamanında gerçekleşmiştir?
  - A) II.Mahmut
  - B) I.Ahmet
  - C) Fatih Sultan Mehmet
  - D) III.Ahmet
4. XIX. yüzyılda çıkarılan ilk Osmanlı gazetesinin adı aşağıdakilerden hangisidir?
  - A) Hürriyet
  - B) Takvimi Vakayi
  - C) Yeniçağ
  - D) Cumhuriyet
5. İlk kez nüfus ve mülk sayımının yapılması hangi padişah zamanında gerçekleşmiştir?
  - A) Osman Bey
  - B) I.Bayezit
  - C) Çelebi Mehmet Efendi
  - D) II.Mahmut
6. Padişahın sofrta hizmetlerine bakanların bulunduğu odaya verilen ad aşağıdakilerden hangisidir?
  - A) Seferli odası
  - B) Hazine odası
  - C) Kiler odası
  - D) Has oda
7. Osmanlı ordusunda havan topu ve el bombası yapan yaya ocağı aşağıdakilerden hangisidir?
  - A) Lağımçı ocağı
  - B) Topçu ocağı
  - C) Humbaracı ocağı
  - D) Cebeci ocağı
8. Kapıkulu ocaklarının oluşturulması hangi padişah zamanında gerçekleşmiştir?
  - A) I.Murat
  - B) I.Ahmet
  - C) Kanuni Sultan Süleyman
  - D) Orhan Bey
9. Aşağıdakilerden hangisi Osmanlı toplumundaki aile yapısıyla ilgili yanlış bir ifadedir?
  - A) Aile reisi erkekti.
  - B) Erkek, genellikle tek kadınla evlenirdi.
  - C) Ailede çocuk, disiplin içinde yetiştirilirdi.
  - D) Yalnızca erkek çocuklar okullara gönderilirdi.
10. "Osmanlı İtibar-ı Milli Bankası" hangi padişahın emriyle kurulmuştur?
  - A) III. Selim
  - B) I. Ahmet
  - C) II. Abdülhamit
  - D) II. Mahmut

11. Osmanlı Devleti'nde dış borçlar konusu hangi antlaşma ile çözüme ulaşmıştır?

- A) Hünkar İskelesi Antlaşması
- B) Mondros Ateşkes Antlaşması
- C) Serv Antlaşması
- D) Lozan Antlaşması

12. XIX. yüzyılda İstanbul, Diyarbakır ve Musul'da hangi ürüne ait fabrikalar bulunmaktaydı?

- A) Çini
- B) Deri
- C) Halı
- D) Kağıt

13. Osmanlı ekonomisinde XIX. Yüzyılda topraktan alınan bütün vergilerin kaldırılması kaç yılında gerçekleşmiştir?

- A) 1858
- B) 1877
- C) 1885
- D) 1894

14. İstanbul'un yiyecek ihtiyacının karşılanması için kurulan hazine türü aşağıdakilerden hangisidir?

- A) Tersane hazinesi
- B) Zahire hazinesi
- C) İrad-ı Cedid hazinesi
- D) Sekban-ı Cedid hazinesi

15. Osmanlı devrinde divan edebiyatının en güçlü olduğu dönem aşağıdakilerden hangisidir?

- A) XVI. yüzyıl
- B) XVII. yüzyıl
- C) XVIII. yüzyıl
- D) XIX. yüzyıl

16. Osmanlılarda seramik ilk kez hangi şehirde yapılmıştır?

- A) İstanbul
- B) Bursa
- C) Edirne
- D) İznik

17. Osmanlılarda XVII. Yüzyılın ünlü hat ustası aşağıdakilerden hangisidir?

- A) Ahmet Karahisarî
- B) Hafız Osman
- C) Mustafa Rakım efendi
- D) Amasyalı Şeyh Hamdullah

18. Aşağıdakilerden hangisi Osmanlı devrinde en bilinen halk şairlerinden biri değildir?

- A) Köroğlu
- B) Pir Sultan Abdal
- C) İbrahim Gülşeni
- D) Karacaoğlan

19. Osmanlılarda bayındırlık işlerinde çalışacak eleman yetiştirmek amacıyla 1883 yılında kurulan mesleki kurum aşağıdakilerden hangisidir?

- A) Mekteb-i Mahrec-i Aklâm okulu
- B) Mekteb-i Tıbbiye-i Mülkiye okulu
- C) Mülkiye Mühendis Mektebi
- D) Baytar Mektebi

20. Osmanlılarda medresede ders veren kişiye verilen ad aşağıdakilerden hangisidir?

- A) Müderris
- B) Suhte
- C) Danişmend
- D) Talebe

1.  $-19i$  karmaşık sayısının eşleniği aşağıdakilerden hangisidir?

- A)  $\frac{1}{19}i$   
 B)  $19i$   
 C)  $-19$   
 D)  $\sqrt{19}$

2. Karmaşık düzlemde  $9 - 3i$  sayısının orijine olan uzaklığı kaç birimdir?

- A) 3  
 B)  $3\sqrt{2}$   
 C)  $5\sqrt{3}$   
 D)  $3\sqrt{10}$

3.  $z_1 = -7+11i$  ve  $z_2 = 13-4i$  karmaşık sayıları veriliyor.

Buna göre  $z_1 - z_2$  sayısı aşağıdakilerden hangisidir?

- A)  $-6+15i$   
 B)  $7+7i$   
 C)  $-20+15i$   
 D)  $20-7i$

4.  $\frac{1-2i}{1+2i}$  işleminin sonucu aşağıdakilerden hangisidir?

- A)  $-\frac{3}{5} - \frac{4}{5}i$   
 B)  $\frac{3}{4}i$   
 C)  $1 + \frac{1}{2}i$   
 D)  $\frac{2}{3} - i$

5. Aşağıdaki eşitliklerden hangisi yanlıştır?

- A)  $\sqrt{-49} = 7i$   
 B)  $i^2 = -1$   
 C)  $\sqrt{25} = 5$   
 D)  $\sqrt{-4} = 4i$

6.  $x, y \in \mathbb{R}$  olmak üzere,  $z_1 = -21 + (y-13)i$  ve  $z_2 = (-9x+6) + i$  karmaşık sayıları veriliyor.

$z_1 = z_2$  ise  $y-x$  kaçtır?

- A)  $-14$   
 B)  $-10$   
 C) 8  
 D) 11



7.  $P(x) = x^{157} + x^{72} - 5x^{19}$  polinomu veriliyor.

Buna göre,  $P(i)$  kaçtır?

- A)  $2-5i$
- B)  $4+4i$
- C)  $1+6i$
- D)  $-3+2i$

8.  $\left| \frac{1-2i}{-3+4i} \right|$  ifadesinin değeri aşağıdakilerden hangisidir?

- A)  $\frac{1}{5}$
- B)  $\frac{\sqrt{5}}{5}$
- C)  $2\sqrt{5}$
- D) 5

9. Karmaşık sayıların kuvveti için;

$$z^k = |z|^k \cdot \cos k\theta + i \sin k\theta \text{ eşitliği vardır.}$$

$z = \cos \frac{\pi}{3} + i \sin \frac{\pi}{3}$  ise,  $z^3$  ün  $x+yi$  şeklindeki yazılışı aşağıdakilerden hangisidir?

- A)  $-3i$
- B)  $1-i$
- C)  $2i$
- D)  $-1$

10.  $z = 3i(1-4i) + (i-1)^2 - 6i + 1$

karmaşık sayısının sanal kısmı aşağıdakilerden hangisidir?

- A)  $-11$
- B)  $-5$
- C) 8
- D) 13

11.  $\log_7 x = 2$

eşitliğini sağlayan  $x$  in değeri kaçtır?

- A) 14
- B) 24
- C) 32
- D) 49

12.  $\log \sqrt[20]{100}$  ifadesinin sonucu aşağıdakilerden hangisidir?

- A)  $\frac{1}{10}$
- B) 2
- C) 10
- D) 20

13.  $f(x) = 10 - \log_5(x-1)$  fonksiyonu veriliyor.

Buna göre,  $f^{-1}(9)$  kaçtır?

- A) 4
- B) 5
- C) 6
- D) 7

14.  $5^{\log_5 45 - \log_5 3}$  ifadesinin değeri aşağıdakilerden hangisidir?

- A) 14
- B) 15
- C) 16
- D) 17

15.  $6^{-2} = \frac{1}{36}$  eşitliğinin, logaritmik ifade olarak yazılışı aşağıdakilerden hangisidir?

- A)  $\log_2 6 = \frac{1}{36}$
- B)  $\log_6 2 = 36$
- C)  $\log_6 \frac{1}{36} = -2$
- D)  $-2 \log \frac{1}{36} = 2$

16.  $\log_{10} (\log_5 (\log_2 32))$  ifadesi aşağıdakilerden hangisine eşittir?

- A) 0
- B) 1
- C) 2
- D) 10

17.  $\log 234 = a$ ,  $\log 2 = b$  ve  $\log 3 = c$  eşitlikleri veriliyor.

Buna göre  $\log 13$  ün değeri aşağıdakilerden hangisidir?

- A)  $a-b-2c$
- B)  $2a+b-c$
- C)  $-a+3b+2c$
- D)  $3a-2b+c$

18.  $\log_8 15 \cdot \log_{15} 12 \cdot \log_{12} 64$  çarpımının sonucu kaçtır?

- A) 0
- B) 1
- C) 2
- D) 3

19.  $f(x) = \log_2 (x^2 + x - 6)$

kuralıyla tanımlanan f fonksiyonunun tanımlı olduğu x gerçel sayılarının kümesi aşağıdakilerden hangisidir?

- A)  $\mathbb{R} - [-3, 2]$
- B)  $\mathbb{R} - [-2, 3]$
- C)  $[3, \infty)$
- D)  $[-2, 5)$

20.  $e^{7x} = e^{15x-8}$  denkleminin çözüm kümesi aşağıdakilerden hangisidir?

- A)  $\{0\}$
- B)  $\{1\}$
- C)  $\{2\}$
- D)  $\{3\}$

1. Der Lehrer sieht den Schüler.

**Wie lautet der obige Satz in der Pluralform?**

**Verilen cümlelerin çoğul hali aşağıdakilerden hangisidir?**

- A) Die Lehrer sehen den Schüler.  
B) Der Lehrer sieht die Schüler.  
C) Der Lehrer sah den Schüler.  
D) Die Lehrer sehen die Schüler.

2. A: Was hältst du von der blau..... Hose?  
B: Nichts! Ich möchte die schwarz..... Hose kaufen!

**Welche Endungen passen in die Lücken im obigen Dialog?**

**Verilen karşılıklı konuşmada boş bırakılan yerleri aşağıdaki soneklerden hangileri tamamlar?**

- A) -es / -en  
B) -e / -em  
C) -en / -e  
D) -em / -e

3. Was bedeutet "kısım" auf deutsch?

**"kısım" sözcüğünün Almancası aşağıdakilerden hangisidir?**

- A) Der Teil  
B) Der Haken  
C) Die Börse  
D) Der Ofen

4. Tasche / liegen / das Geld / in / ein / schwarz

**Wie kann man mit den obigen Wortgruppen einen sinnvollen und richtigen Satz bilden?**

**Verilen sözcük gruplarıyla kurulabilecek en anlamlı ve doğru cümle aşağıdakilerden hangisidir?**

- A) Die Tasche liegt auf dem Geld.  
B) Die Tasche hat im schwarzen Geld gelegen.  
C) Das Geld war nicht in der Tasche.  
D) Das Geld liegt in einer schwarzen Tasche.

5. Meine Mutter ist so ..... wie mein Vater.

**Welches Wort passt nicht in die obige Lücke?**

**Cümlede boş bırakılan yeri aşağıdakilerden hangisi doğru şekilde tamamlamaz?**

- A) falsch  
B) alt  
C) freundlich  
D) groß

6. Welche Aufgaben haben Deutsche Kulturinstitute im Ausland?

**Welche Antwort passt zur obigen Frage?**

**Verilen sorunun cevabı aşağıdakilerden hangisidir?**

- A) Sie haben versucht neue Kulturinstitute im Inland zu entwickeln.  
B) Sie möchten sich jedes Jahr im Ausland an der selben Stelle treffen.  
C) Sie müssen den Kindern die Fremdsprachen lehren und versuchen diese zu erweitern.  
D) Sie sollen die deutsche Sprache im Ausland fördern und die kulturelle Zusammenarbeit unterstützen.

7. In der Schweiz ..... etwa 4,5 Millionen Menschen auf Deutsch .....

**Welche Wörter passen in die obigen Lücken?**

**Cümlede boş bırakılan yeri aşağıdakilerden hangisi doğru şekilde tamamlar?**

- A) kommen / zusammen  
B) sprechen / miteinander  
C) sehen / treffen  
D) fahren / jemanden

8. ...., aber meine Kinder verstehen Deutsch leichter.

**Welches ergänzt die Lücke im obigen Satz?**

**Verilen cümleyi aşağıdakilerden hangisi tamamlar?**

- A) Er hat schnell Deutsch gelernt  
B) Wir benutzen es im Alltag  
C) In Deutschland leben viele Türken  
D) Zu Hause sprechen wir Türkisch

9. Ich ..... mein Deutsch verbessern.

**Welches Wort passt nicht in die obige Lücke?**

**Cümlede boş bırakılan yeri aşağıdakilerden hangisi doğru şekilde tamamlamaz?**

- A) will  
B) muss  
C) soll  
D) habe

10. ...., habe ich bessere Berufschancen.

**Welches ergänzt die Lücke im obigen Satz?**

**Verilen cümleyi aşağıdakilerden hangisi tamamlar?**

- A) Ich bin zweisprachig aufgewachsen  
B) Jetzt besuche ich einen Kurs  
C) Wenn ich die Deutschprüfung bestehe  
D) Weil er Technologie Bücher gerne liebt

11. Mit welchem Geld willst du das Ferienhaus bezahlen?

**Welche Antwort passt zur obigen Frage?**

**Verilen sorunun cevabı aşağıdakilerden hangisidir?**

- A) Sie möchten kein Ferienhaus.  
B) Das Ferienhaus gehört nicht meiner Mutter.  
C) Mit einem Kredit, den die Bank uns gibt.  
D) Ich habe viel Schulden.

12. Wo sind die Männer, ..... wir etwas geben wollten?

**Welches Wort passt in die obige Lücke?**

**Cümlede boş bırakılan yeri aşağıdakilerden hangisi doğru şekilde tamamlar?**

- A) dem  
B) denen  
C) der  
D) die

13. Sabrina wünscht sich einen Bruder, dem sie vertrauen kann.

**Welche Frage passt zur obigen Antwort?**

**Verilen cevabı gerektirecek soru aşağıdakilerden hangisidir?**

- A) Wo ist Sabrinas Bruder?  
B) Was für einen Bruder wünscht sich Sabrina?  
C) Wie alt ist Sabrinas Bruder?  
D) Was wünscht sich Sabrinas Bruder?

14. Ich musste mit dem Taxi zur Arbeit fahren, ..... mein Auto kaputt war.

**Welches Wort passt in die obige Lücke?**

**Cümlede boş bırakılan yeri aşağıdakilerden hangisi doğru şekilde tamamlar?**

- A) wen  
B) warum  
C) weil  
D) was

15. Das ist eine Geschichte. Die Geschichte ist interessant.

**Wie kann man die obigen Sätze verbinden?**

**Verilen cümlelerin birleştirilmiş hali aşağıdakilerden hangisidir?**

- A) Das ist eine Geschichte, die interessant ist.  
B) Das ist meine Geschichte, das ich dir erzählen wollte.  
C) Diese Geschichte, die er erzählt, ist nicht neu.  
D) Die Geschichte, die du kennst, ist intressant.

16. Wenn er die Möglichkeit ....., ..... er nach Berlin fahren.

**Welche Wörter passen in die obigen Lücken?**

**Cümlede boş bırakılan yerleri aşağıdakilerden hangileri doğru şekilde tamamlar?**

- A) hätten / wirst
- B) hatte / wird
- C) hätte / würde
- D) hat / wäre

17. Wenn die Menschen nicht rauchen würden, .....

**Welches ergänzt die Lücke im obigen Satz?**

**Verilen cümleyi aşağıdakilerden hangisi tamamlar?**

- A) sind sie immer krank.
- B) wären sie gesünder.
- C) wollte er nicht rauchen.
- D) wären wir heute bei euch.

18. Das werde ich wohl nie vergessen!

**Wie lautet der obige Satz auf Türkisch?**

**Verilen cümlelerin Türkçesi aşağıdakilerden hangisidir?**

- A) Herhalde bunu hiç unutmuyacağım!
- B) Bunu mutlaka unuturum!
- C) Bu olayı hiç hatırlamak istemem!
- D) Herhalde bunu hemen unuttu!

19. ...., ob ihr mich morgen besuchen werdet.

**Welches ergänzt die Lücke im obigen Satz?**

**Verilen cümleyi aşağıdakilerden hangisi tamamlar?**

- A) Wir sehen abends fern
- B) Ich möchte wissen
- C) Er soll kommen
- D) Sie möchte sofort kommen

20. ...., würde ich mehr lesen.

**Welches ergänzt nicht die Lücke im obigen Satz?**

**Verilen cümleyi aşağıdakilerden hangisi tamamlamaz?**

- A) Wenn ich unbedingt essen möchte
- B) Wenn ich nicht viel arbeiten müsste
- C) Wenn es keinen Fernseher gäbe
- D) Wenn ich mehr Zeit hätte

1. Nurcan asked "Can you play the piano?"  
Nurcan asked me if I .....play the piano.

Which of the following completes the sentence above?

Aşağıdakilerden hangisi yukarıdaki cümleyi doğru olarak tamamlar?

- A) would  
B) could  
C) can  
D) did

2. My brother ..... by the news yesterday.

Which of the following completes the sentence above?

Aşağıdakilerden hangisi yukarıdaki cümleyi doğru olarak tamamlar?

- A) was surprised  
B) would surprise  
C) surprised  
D) will be surprised

3. .... the chicken ..... by your father last night?

Which of the following completes the sentence above?

Aşağıdakilerden hangisi yukarıdaki cümleyi doğru olarak tamamlar?

- A) Does / cooked  
B) Is / cook  
C) Is / cooking  
D) Was / cooked

4. English ..... by Mr. White next year.

Which of the following completes the sentence above?

Aşağıdakilerden hangisi yukarıdaki cümleyi doğru olarak tamamlar?

- A) taught  
B) was taught  
C) will be taught  
D) is teaching

5. He said, "I'm a student."

Which of the following is the reported speech form of the direct speech sentence above?

Aşağıdakilerden hangisi yukarıdaki dolaysız anlatım cümlesinin dolaylı anlatım biçimidir?

- A) He said that he was a student.  
B) He says that he is a student.  
C) He said that he has been a student.  
D) He said that he had been a student.

6. A:I like butter, but I don't like cheese.  
B:What does she say?  
C:She says that she ..... butter but she..... cheese.

Which of the following completes the dialogue above?

Aşağıdakilerden hangisi yukarıdaki konuşmayı doğru olarak tamamlar?

- A) liked / didn't like  
B) likes / doesn't like  
C) has liked / doesn't like  
D) likes / likes

7. A : Why didn't you have your dinner?  
B : Because I had ..... had it.

Which of the following completes the dialogue above?

Aşağıdakilerden hangisi yukarıdaki konuşmayı doğru olarak tamamlar?

- A) until  
B) after  
C) already  
D) by the time

8. A : Why didn't you watch that film last night?  
B : Because, I ..... it.

Which of the following completes the dialogue above?

Aşağıdakilerden hangisi yukarıdaki konuşmayı doğru olarak tamamlar?

- A) should watch  
B) had already watched  
C) watch  
D) didn't watch

9. The dishes ..... by my sister at the moment.

Which of the following completes the sentence above?

Aşağıdakilerden hangisi yukarıdaki cümleyi doğru olarak tamamlar?

- A) are being washed  
B) are washing  
C) were washed  
D) is washed

10. Nazlı first went to Şırmak in 2009. She hadn't ..... there before that.

Which of the following completes the sentence above?

Aşağıdakilerden hangisi yukarıdaki cümleyi doğru olarak tamamlar?

- A) be  
B) being  
C) can be  
D) been

11. After she ..... one week in Antalya she went to Alanya.

Which of the following completes the sentence above?

Aşağıdakilerden hangisi yukarıdaki cümleyi doğru olarak tamamlar?

- A) had spent  
B) spends  
C) spend  
D) have spent

12. Selin had never ..... an elephant before 2002.

Which of the following completes the sentence above?

Aşağıdakilerden hangisi yukarıdaki cümleyi doğru olarak tamamlar?

- A) saw  
B) see  
C) seen  
D) sees

13. Ceyda asked Kemal ..... he was a teacher.

Which of the following completes the sentence above?

Aşağıdakilerden hangisi yukarıdaki cümleyi doğru olarak tamamlar?

- A) whether  
B) who  
C) what  
D) when

14. The teacher cancelled the quiz.

Which of the following is the passive voice of the sentence above?

Aşağıdakilerden hangisi yukarıdaki cümlenin edilgen yapıda kurulmuş biçimidir?

- A) The quiz is cancelled by the teacher.  
B) The quiz has been cancelled by the teacher.  
C) The quiz will be cancelled by the teacher.  
D) The quiz was cancelled by the teacher.

15. A : Had you learnt to ride a bicycle when you were six?  
B : No, I .....

Which of the following completes the dialogue above?

Aşağıdakilerden hangisi yukarıdaki konuşmayı doğru olarak tamamlar?

- A) don't  
B) doesn't  
C) hadn't  
D) haven't

16. A:Here is Ayşe. Ask her where Can is.  
B:Where ..... Can?  
C:He is in the classroom.

Which of the following completes the dialogue above?

Aşağıdakilerden hangisi yukarıdaki konuşmayı doğru olarak tamamlar?

- A) did  
B) is  
C) has been  
D) does

17. Have you ever ..... by a cat?

Which of the following completes the sentence above?

Aşağıdakilerden hangisi yukarıdaki cümleyi doğru olarak tamamlar?

- A) bite  
B) bit  
C) been bitten  
D) have bitten

18. Ayla said "I went to the library yesterday." Ayla said that she ..... to the library .....

Which of the following completes the sentence above?

Aşağıdakilerden hangisi yukarıdaki cümleyi doğru olarak tamamlar?

- A) goes / then  
B) went / the previous night  
C) had gone / the next day  
D) had gone / the day before

19. The film had just finished ..... Gamze arrived.

Which of the following completes the sentence above?

Aşağıdakilerden hangisi yukarıdaki cümleyi doğru olarak tamamlar?

- A) where  
B) whether  
C) while  
D) when

20. Doğan said "I will give Uğur the money tomorrow." He said that he would give Uğur the money .....

Which of the following completes the sentence above?

Aşağıdakilerden hangisi yukarıdaki cümleyi doğru olarak tamamlar?

- A) today  
B) the next day  
C) tomorrow  
D) the day before



1. I. Pour aller au Musée d'Atatürk.  
II. Visiter les musées, c'est intéressant.  
III. Vous traversez cette rue.  
IV. Et vous tournez à gauche.

Choisissez la phrase qui ne convient pas a l'ensemble.

Sırasıyla okunduğunda anlam bütünlüğünü bozan cümle aşağıdakilerden hangisidir?

- A) I  
B) II  
C) III  
D) IV

2. Il faut se dépêcher pour ne pas ..... l'avion.

Choisissez le mot qui convient.

Cümledeki boşluğu aşağıdakilerden hangisi doğru şekilde tamamlar?

- A) manquer  
B) partir  
C) voyager  
D) sortir

3. Quand je lui ai téléphoné, il ..... déjà sorti.

Choisissez le mot qui convient.

Cümledeki boşluğu aşağıdakilerden hangisi doğru şekilde tamamlar?

- A) est  
B) a  
C) était  
D) avait

4. Le match va commencer ..... deux heures.

Choisissez le mot qui convient.

Cümledeki boşluğu aşağıdakilerden hangisi doğru şekilde tamamlar?

- A) en  
B) quand  
C) depuis  
D) combien

5. - Qu'est-ce que tu préfères? Le thé .... le café?  
- Le café, bien sûr.

Choisissez le mot qui convient.

Yukarıdaki konuşmada boş bırakılan yeri aşağıdakilerden hangisi doğru şekilde tamamlar?

- A) et  
B) car  
C) ou  
D) donc

6. .... 29 Octobre est la fête de la République en Turquie.

Choisissez le mot qui convient.

Cümledeki boşluğu aşağıdakilerden hangisi doğru şekilde tamamlar?

- A) En  
B) Au  
C) Quand  
D) Le

7. Ils aiment voyager..... train.

Choisissez le mot qui convient.

Cümledeki boşluğu aşağıdakilerden hangisi doğru şekilde tamamlar?

- A) au  
B) en  
C) à  
D) le

8. Otel otobüs durağının karşısındadır.

Choisissez la traduction qui convient.

Yukarıdaki cümlenin Fransızca karşılığı aşağıdakilerden hangisidir?

- A) À côté de l'arrêt d'autobus, il y a un hôtel.  
B) L'hôtel et l'arrêt d'autobus sont en face.  
C) L'hôtel est en face de l'arrêt d'autobus.  
D) En face de l'arrêt d'autobus, il y a un hôtel.

9. Dites-moi ..... vous aimez.

Choisissez le mot qui convient.

Cümledeki boşluğu aşağıdakilerden hangisi doğru şekilde tamamlar?

- A) ce qui  
B) ce que  
C) où  
D) c'est

10. Nous ..... au bord de la mer la semaine prochaine.

Choisissez le mot qui convient.

Cümledeki boşluğu aşağıdakilerden hangisi doğru şekilde tamamlar?

- A) sommes allés  
B) allons  
C) irons  
D) vont

11. .... hiver, il fait froid.

**Choisissez le mot qui convient.**

**Cümledeki boşluğu aşağıdakilerden hangisi doğru şekilde tamamlar?**

- A) Au
- B) En
- C) De
- D) Le mois

12. - D'où venez-vous?

- .....

**Choisissez la reponse qui convient.**

**Yukarıdaki konuşmada boş bırakılan yeri aşağıdakilerden hangisi doğru şekilde tamamlar?**

- A) De Belgique.
- B) De temps en temps.
- C) J'ai trente ans.
- D) Je suis médecin.

13. Tous les garçons aiment jouer ..... football.

**Choisissez le mot qui convient.**

**Cümledeki boşluğu aşağıdakilerden hangisi doğru şekilde tamamlar?**

- A) à
- B) du
- C) les
- D) au

14. En 2000, j' ..... six ans.

**Choisissez le mot qui convient.**

**Cümledeki boşluğu aşağıdakilerden hangisi doğru şekilde tamamlar?**

- A) avais
- B) suis
- C) avait
- D) étais

15. J'ai cherché mon parapluie partout ..... je ne l'ai pas trouvé.

**Choisissez le mot qui convient.**

**Cümledeki boşluğu aşağıdakilerden hangisi doğru şekilde tamamlar?**

- A) or
- B) car
- C) donc
- D) mais

16. En quelle année sommes-nous?

**Choisissez la traduction qui convient.**

**Yukarıdaki cümlelerin Türkçe karşılığı aşağıdakilerden hangisidir?**

- A) Hangi yıldayız?
- B) Hangi mevsimdeyiz?
- C) Hangi aydayız?
- D) Bugün günlerden ne?

17. Comme elle était malade, elle n'est pas venue à l'école.

**Choisissez la traduction qui convient.**

**Yukarıdaki cümlelerin Türkçe karşılığı aşağıdakilerden hangisidir?**

- A) Hasta olsa bile okula gitmek ister.
- B) Okula gelmedi, çünkü o çok hasta.
- C) Hastalandığından beri okula gelmiyor.
- D) Hasta olduğu için okula gelmedi.

18. - .....?

- Oui, ils y vont.

**Choisissez la question qui convient.**

**Yukarıdaki konuşmada cevabı gerektiren soru aşağıdakilerden hangisidir?**

- A) Qu'est-ce qu'ils pensent
- B) Est-ce qu'ils vont au cinéma
- C) Où est-ce qu'ils viennent
- D) Quand est-ce qu'ils vont partir

19. Je te présente mon ami ..... vit à l'étranger.

**Choisissez le mot qui convient.**

**Cümledeki boşluğu aşağıdakilerden hangisi doğru şekilde tamamlar?**

- A) que
- B) où
- C) ce qui
- D) qui

20. - ..... combien de temps tu travailles dans cette banque?

- Je travaille ici depuis six ans.

**Choisissez le mot qui convient.**

**Yukarıdaki konuşmada boş bırakılan yeri aşağıdakilerden hangisi doğru şekilde tamamlar?**

- A) Comment
- B) Dans
- C) Depuis
- D) Quand

1. Normal koşullarda bir köpeğin et görünce salya salgılaması aşağıdakilerden hangisi ile ilgilidir?
  - A) Koşulsuz tepki
  - B) Koşullu tepki
  - C) Olumlu pekiştirme
  - D) Olumsuz pekiştirme
2. "Gençlerde günler kısa, yıllar uzun; yaşlılarda günler uzun, yıllar çabuk geçer" örneği aşağıdaki algılama türlerinden hangisi ile ilgilidir?
  - A) Objektif zaman algısı
  - B) Sübjektif zaman algısı
  - C) Mekân algısı
  - D) Devinim algısı
3. Çocuklar soyut ilişkiler kurmaya kaç yaşından sonra başlamaktadır?
  - A) 11
  - B) 10
  - C) 9
  - D) 8
4. Susuzluk halinde ağzın kuruması, açlık halinde mide kaslarını kuvvetli bir şekilde gerilip büzülmesi aşağıdakilerden hangisi ile ilgilidir?
  - A) Güdülenme
  - B) Algı
  - C) Sosyolojik denge
  - D) Homeostatik denge
5. Çoktan seçmeli sınavlarda doğru cevabı bulmak aşağıdakilerden hangisi ile ilgilidir?
  - A) Hatırlama
  - B) Tanıma
  - C) Kodlama
  - D) Saklama
6. TV yayınlarının eğitime etkisi konusunda öğrenci, öğretmen ve velilerin görüşlerini almak üzere daha önceden hazırladığı soruları kitlelere yönelten ve sonuçları değerlendiren araştırmacı aşağıdaki yöntemlerden hangisini kullanmıştır?
  - A) Anket
  - B) Örneklem
  - C) Vaka inceleme
  - D) Görüşme
7. Aşağıdakilerden hangisi içgüdülere örnek olarak verilemez?
  - A) Kuşların yuva yapması
  - B) Örümceğin ağını örmesi
  - C) Arıların petek yapması
  - D) Işıқта göz bebeğinin küçülmesi
8. Aşağıdakilerden hangisi fizyolojik ihtiyaçlardan biridir?
  - A) Başarı
  - B) Beğenilme
  - C) Uyku
  - D) Saygı görme
9. Psikoz ve nevrozların çoğunun, kişinin çocukluktan itibaren tatmin edilmemiş olan arzu ve ihtiyaçlarının baskı altında alınmasından, bilinç dışına itilmesinden meydana geldiğini ifade eden bilim insanı aşağıdakilerden hangisidir?
  - A) Weber
  - B) Freud
  - C) Comte
  - D) Marks
10. Bireyin toplumla ilişkilerini ve toplumun bireyi etkilemesi ile ilgili olaylar üzerinde araştırmalar yapan bilim dalı aşağıdakilerden hangisidir?
  - A) Genel psikoloji
  - B) Fizyolojik psikoloji
  - C) Sosyal psikoloji
  - D) Karşılaştırmalı psikoloji
11. Sarsıntı, yüksek ateş, beyin zedelenmesi, baskı gibi nedenlerle hatırlama gücünün bir kısmının ya da tümünün yitirilmesine ne ad verilir?
  - A) Paramnezi
  - B) Histeri
  - C) Sosyometri
  - D) Amnezi

12. Algılama, düşünme, duygulanma gibi içsel eylemlerin hayatta karşılaşılan çeşitli problemlerin çözümlenmesine yardım eden, yardım ederken de daha çok yöntem olarak içgözlem ve gözlemi kullanan ekol aşağıdakilerden hangisidir?

- A) Strüktüralizm
- B) Fonksiyonalizm
- C) Behaviorizm
- D) Gestaltçı

13. “Öğretmenin görevi çocuğa yalnızca bilgi aktarmak değil, ona dünyayı keşfetmesinde rehberlik etmektir” ifadesi aşağıdaki yaklaşımlardan hangisi ile açıklanabilir?

- A) Biyolojik
- B) Bütünlükçü
- C) İşlevsel
- D) Bilişsel

14. “Sütten ağız yanan yoğurdu üfleyerek yer” deyimini aşağıdakilerden hangisine örnek olarak verilebilir?

- A) Koşullanmanın canlanması
- B) Koşullanmanın pekiştirilmesi
- C) Koşullanmanın genellemesi
- D) Koşullanmanın sönmesi

15. Uçan daire gördüğünü söyleyen kişilerin birbirinden çok farklı biçimde uçan daireyi tanımlamaları aşağıdakilerden hangisi ile ilgilidir?

- A) Gütü
- B) Dürtü
- C) Duyum
- D) Doyum

16. Çay bardağına batırılmış bir kaşığın kırılmış gibi algılanması aşağıdakilerden hangisi ile ilgilidir?

- A) Fiziksel illüzyon
- B) Psikolojik illüzyon
- C) Halüsinasyon
- D) Hipnoz

17. Topluların kültürel yapılarını inceleyen bilim dalına ne ad verilir?

- A) Ekoloji
- B) Patoloji
- C) Entomoloji
- D) Etnoloji

18. Aşağıdakilerden hangisi öğrenme stratejilerinden biri değildir?

- A) Çalışma zamanının dağılımı
- B) Konuyu parçalara ayırarak öğrenme
- C) Öğrenmede ilerlemenin belirlenmesi
- D) Okuma ve anlatma

19. Aşağıdakilerden hangisi 6-7 yaşına kadar olan dönemde çocuğun dil gelişimini etkileyen çocuktan kaynaklanan etmenlerinden biri değildir?

- A) Yeterli zekâ düzeyi
- B) Normal işitme
- C) Baskıcı aile ortamı
- D) Dengeli bir sağlıklı yaşam

20. Tıp eğitimi görmüş ve psikiyatri konusunda uzmanlık yapmış kişilere ne ad verilir?

- A) Psikiyatrist
- B) Psikolog
- C) Sosyolog
- D) Aktivist

1. Afrika ist der ..... Kontinent der Welt.

**Welches Wort passt in die obige Lücke?**

**Cümlede boş bırakılan yeri aşağıdakilerden hangisi doğru şekilde tamamlar?**

- A) erste  
B) heißeste  
C) höchste  
D) stärkste

2. Man kann jetzt viel ..... und ..... reisen als zuvor, man kann sich mehr leisten als vor 50 Jahren.

**Welche Wörter passen in die obigen Lücken?**

**Cümlede boş bırakılan yerleri aşağıdakilerden hangisi doğru şekilde tamamlar?**

- A) schwieriger / kleiner  
B) länger / weiter  
C) schneller / gemütlicher  
D) jünger / besten

3. Martin ist 75 Jahre alt. Mehmet ist 85 Jahre alt.

**Welche Schlußfolgerung kann man nach den obigen Sätzen machen?**

**Verilen cümlelere göre, aşağıdaki yargılardan hangisi doğrudur?**

- A) Mehmet ist jünger als Martin.  
B) Mehmet ist am kleinsten.  
C) Martin ist jünger als Mehmet.  
D) Martin ist grösser als Mehmet.

4. Warum gehst du zur Bank?

**Welche Antwort passt zur obigen Frage?**

**Verilen sorunun cevabı aşağıdakilerden hangisidir?**

- A) Ich muss Geld sparen, weil ich ein Auto kaufen will.  
B) Ich gehe zur Bank, weil ich Geld brauche.  
C) Ich konnte kommen aber ich hatte keine Zeit.  
D) Ich durfte nicht kommen, weil ich Hausaufgaben machen muss.

5. Sie geht in die Sprachschule, weil sie Deutsch lernen will.

**Welche Frage passt zur obigen Antwort?**

**Verilen cevabı gerektirecek soru aşağıdakilerden hangisidir?**

- A) Wer geht in die Sprachschule?  
B) Wann geht sie in die Schule?  
C) Wie geht sie in die Schule?  
D) Warum geht sie in die Sprachschule?

6. Die Frauen arbeiten. Die Frauen wollen ihre Familie unterstützen.

**Wie kann man die obigen Sätze verbinden?**

**Verilen cümlelerin birleştirilmiş hali aşağıdakilerden hangisidir?**

- A) Die Frauen hätten ihre Familie unterstützen können, wenn sie arbeiten könnten.  
B) Die Frauen haben gearbeitet, um andere Familien zu unterstützen.  
C) Die Frauen wollen ihre Familie unterstützen, um arbeiten zu können.  
D) Die Frauen arbeiten, weil sie Ihre Familie unterstützen wollen.

7. Was bedeutet "her bakımdan" auf Deutsch?

**"her bakımdan" sözcüğünün Almancası aşağıdakilerden hangisidir?**

- A) Auf Rückblick  
B) In jeder Hinsicht  
C) Aus seiner Sicht  
D) In jedem Moment

8. .... dauert der Film ..... Kino?

**Welche Wörter passen in die obigen Lücken?**

**Cümlede boş bırakılan yerleri aşağıdakilerden hangileri doğru şekilde tamamlar?**

- A) Woher / zum  
B) Wie lange / im  
C) Was / an  
D) Wie / für

9. Die Angestellten müssen um 8.00 Uhr an Ihrer Arbeitsstelle sein.

**Welche Frage passt zur obigen Antwort?**

**Verilen cevabı gerektirecek soru aşağıdakilerden hangisidir?**

- A) Wie lange arbeiten die Angestellten?  
 B) Wann müssen die Angestellten an ihrer Arbeitsstelle sein?  
 C) Wo arbeiten die Angestellten?  
 D) Wozu müssen die Angestellten früh am Morgen zur Arbeit?

10. Die Herbstmonate sind .....

**Welcher Satz ergänzt die obige Lücke?**

**Verilen cümleyi aşağıdakilerden hangisi tamamlar?**

- A) der Juni, der Juli und der August.  
 B) der Dezember, der Januar und der Februar.  
 C) der März, der April und der Mai.  
 D) der September, der Oktober und der November.

11. Man sagt, er ..... aus Erzurum.

**Welches Wort passt in die obige Lücke?**

**Cümlede boş bırakılan yeri aşağıdakilerden hangisi doğru şekilde tamamlar?**

- A) wären  
 B) wart  
 C) wäre  
 D) waren

12. A: War das ein Hotel?  
 B: Ja, das war ein Hotel.  
 A: Ich habe immer gedacht, .....

**Welcher Satz ergänzt die Lücke im obigen Dialog?**

**Verilen karşılıklı konuşmada boş bırakılan yeri aşağıdakilerden hangisi tamamlar?**

- A) es hatte eine kleine Tochter.  
 B) es gibt diese Bücher in der Bibliothek.  
 C) es wäre eine Wohnung gewesen.  
 D) es gefällt uns sehr gut.

13. Tekrar evlendiğini duydum.

**Wie lautet der obige Satz auf Deutsch?**

**Verilen cümlenin Almancası aşağıdakilerden hangisidir?**

- A) Ich dachte, dass du niemals wieder heiraten würdest.  
 B) Ich träumte davon, dass du heiratest.  
 C) Ich habe gehört, du hast wieder geheiratet.  
 D) Ich habe von Freunden gehört, dass du heiraten willst.

14. Was hat dir Silvia über den Film erzählt?

**Welche Antwort passt zur obigen Frage?**

**Verilen sorunun cevabı aşağıdakilerden hangisidir?**

- A) Sie sagte mir, der Film sei von einem weltberühmten Regisseur gedreht worden.  
 B) Sie erzählte, dass ihr die Ferien in der Türkei sehr gut gefallen haben.  
 C) Sie war der Meinung, dass ich gut Klavier spielen kann.  
 D) Sie behauptet, die Versammlung wäre gut verlaufen.

15. Er / die / bestehen / Prüfung / werde

**Wie kann man mit den obigen Wortgruppen einen sinnvollen und richtigen Konjuntivsatz bilden?**

**Verilen sözcük gruplarıyla kurulabilecek en anlamlı ve doğru dolaylı cümle aşağıdakilerden hangisidir?**

- A) Die bestehen er werde Prüfung.  
 B) Bestehen er werde die Prüfung.  
 C) Die Prüfung er werde bestehen.  
 D) Er werde die Prüfung bestehen.

16. Der Reporter sagte, ....., bei dem glücklicherweise keiner verletzt wurde.

**Welches ergänzt die Lücke im obigen Satz?**

**Verilen cümleyi aşağıdakilerden hangisi tamamlar?**

- A) gestern habe es einen Verkehrsunfall gegeben
- B) die Fußballmannschaft werde Erfolg haben
- C) die Geschäfte seien durchgehend geschlossen
- D) gestern war der Verkehr zu überfüllt

17. Die Frau, ....., ist blond.

**Welcher Satz ergänzt nicht die obige Lücke?**

**Verilen cümleyi aşağıdakilerden hangisi tamamlamaz?**

- A) dem du hilfst
- B) die nach Ankara fährt
- C) deren Eltern in Urlaub sind
- D) das sehr alt ist

18. Der Junge freute sich sehr.  
Ich habe ihm Schokolade gekauft.

**Wie kann man die obigen Sätze verbinden?**

**Verilen cümlelerin birleştirilmiş hali aşağıdakilerden hangisidir?**

- A) Der Junge, dem ich Schokolade gekauft habe, freute sich sehr.
- B) Der Junge kauft sich Schokolade und freute sich.
- C) Der Junge kauft sich Schokolade und freut sich.
- D) Der Junge wollte sich Schokolade kaufen und sich freuen.

19. Der Mann, ....., ist unser Nachbar.

**Welches ergänzt die Lücke im obigen Satz?**

**Verilen cümleyi aşağıdakilerden hangisi tamamlar?**

- A) der in der Bäckerei arbeitet
- B) das Fieber hat
- C) den du einen Pullover geschenkt hast
- D) deren Wohnung du kennst

20. Yan tarafta oturan bayan Almanca öğretmeni.

**Wie lautet der obige Satz auf Deutsch?**

**Verilen cümlenin Almancası aşağıdakilerden hangisidir?**

- A) Die Dame, die nebenan wohnt, ist Deutschlehrerin.
- B) Die Dame ist wahrscheinlich eine Deutschlehrerin.
- C) Man sagt, daß die Dame nebenan eine Deutschlehrerin ist.
- D) Man will, daß eine Deutschlehrerin unser Nachbar wird.

1. .... paying the bill,George left the restaurant.

Which of the following completes the sentence above?

Aşağıdakilerden hangisi yukarıdaki cümleyi doğru olarak tamamlar?

- A) As  
B) So  
C) After  
D) Where

2. Selin:Is the cat sleeping at the moment?  
Tolga:No,it isn't.But it usually .....on the sofa.

Which of the following completes the dialogue above?

Aşağıdakilerden hangisi yukarıdaki konuşmayı doğru olarak tamamlar?

- A) sleep  
B) sleeping  
C) sleeps  
D) slept

3. I used to .....two years ago, but now I don't smoke.

Which of the following completes the sentence above?

Aşağıdakilerden hangisi yukarıdaki cümleyi doğru olarak tamamlar?

- A) smoke  
B) is smoking  
C) had smoked  
D) smoked

4. They will construct a new road.

Which of the following is the passive voice of the sentence above?

Aşağıdakilerden hangisi yukarıdaki cümlenin edilgen yapıda kurulmuş biçimidir?

- A) A new road will be constructed by them.  
B) A new road has been constructed by them.  
C) A new road is constructed by them.  
D) A new road is being constructed by them.

5. I haven't seen him ..... years.

Which of the following completes the sentence above?

Aşağıdakilerden hangisi yukarıdaki cümleyi doğru olarak tamamlar?

- A) after  
B) for  
C) ago  
D) now

6. I .....get up at seven three years ago, but now I get up at ten.

Which of the following completes the sentence above?

Aşağıdakilerden hangisi yukarıdaki cümleyi doğru olarak tamamlar?

- A) must have  
B) used to  
C) ought  
D) can

7. Aysun "Do you like music?"  
Nur asked Aysun if she ..... music.

Which of the following completes the sentence above?

Aşağıdakilerden hangisi yukarıdaki cümleyi doğru olarak tamamlar?

- A) like  
B) liking  
C) will like  
D) liked



8. Nazlı drinks coffee every morning.

**Which of the following is the negative form of the sentence above?**

**Aşağıdakilerden hangisi yukarıdaki cümlelerin olumsuz biçimidir?**

- A) Nazlı isn't drinking coffee every morning.  
B) Nazlı didn't drink coffee every morning.  
C) Nazlı doesn't drink coffee every morning.  
D) Nazlı hasn't drunk coffee every morning.

9. Ali told Alper "I will go to Fethiye tomorrow."  
Ali told Alper that he ..... to Fethiye the next day.

**Which of the following completes the sentence above?**

**Aşağıdakilerden hangisi yukarıdaki cümleyi doğru olarak tamamlar?**

- A) is going  
B) had gone  
C) will go  
D) would go

10. .... I was going to theatre, I saw an accident.

**Which of the following completes the sentence above?**

**Aşağıdakilerden hangisi yukarıdaki cümleyi doğru olarak tamamlar?**

- A) While  
B) Who  
C) Which  
D) Where

11. Jill told George, "I have washed your T-shirt."  
Jill told George she ..... his T-shirt.

**Which of the following completes the sentence above?**

**Aşağıdakilerden hangisi yukarıdaki cümleyi doğru olarak tamamlar?**

- A) had washed  
B) will wash  
C) washed  
D) can wash

12. A: I can't find my wallet.  
B: You ..... have left it in the office.

**Which of the following completes the dialogue above?**

**Aşağıdakilerden hangisi yukarıdaki konuşmayı doğru olarak tamamlar?**

- A) ought  
B) can  
C) will  
D) must

13. They are playing football in the garden.....

**Which of the following completes the sentence above?**

**Aşağıdakilerden hangisi yukarıdaki cümleyi doğru olarak tamamlar?**

- A) tomorrow  
B) now  
C) next year  
D) last night

14. Jane: Who translated this letter? You?  
Mary: No.I got my friend ..... it.

**Which of the following completes the dialogue above?**

**Aşağıdakilerden hangisi yukarıdaki konuşmayı doğru olarak tamamlar?**

- A) translate
- B) is translated
- C) to translate
- D) translated

15. I used to ..... in a small town two years ago.

**Which of the following completes the sentence above?**

**Aşağıdakilerden hangisi yukarıdaki cümleyi doğru olarak tamamlar?**

- A) has lived
- B) living
- C) had lived
- D) live

16. I used to ..... milk when I was a child.

**Which of the following completes the sentence above?**

**Aşağıdakilerden hangisi yukarıdaki cümleyi doğru olarak tamamlar?**

- A) is drinking
- B) was drinking
- C) drunk
- D) drink

17. While Mr.White was working in the garden,a burglar ..... into his house.

**Which of the following completes the sentence above?**

**Aşağıdakilerden hangisi yukarıdaki cümleyi doğru olarak tamamlar?**

- A) gets
- B) got
- C) get
- D) have got

18. Suzan repaired her car by .....

**Which of the following completes the sentence above?**

**Aşağıdakilerden hangisi yukarıdaki cümleyi doğru olarak tamamlar?**

- A) herself
- B) themselves
- C) yourself
- D) ourselves

19. Ken used to .....with a toy guitar when he was a child.

**Which of the following completes the sentence above?**

**Aşağıdakilerden hangisi yukarıdaki cümleyi doğru olarak tamamlar?**

- A) playing
- B) played
- C) play
- D) will play

20. Carol has been playing basketball ..... 1995.

**Which of the following completes the sentence above?**

**Aşağıdakilerden hangisi yukarıdaki cümleyi doğru olarak tamamlar?**

- A) from
- B) since
- C) for
- D) ago

1. Il est sorti au dehors ..... au revoir à ses amis.

**Choisissez le mot qui convient.**

**Cümledeki boşluğu aşağıdakilerden hangisi doğru şekilde tamamlar?**

- A) en sortant  
B) marchant  
C) courant  
D) en disant

2. Monique ..... un championnat de ping-pong chaque samedi.

**Choisissez le mot qui convient.**

**Cümledeki boşluğu aşağıdakilerden hangisi doğru şekilde tamamlar?**

- A) veut  
B) organise  
C) passe  
D) va

3. La robe ..... ma mère a choisi coûte 50 euros.

**Choisissez le mot qui convient.**

**Cümledeki boşluğu aşağıdakilerden hangisi doğru şekilde tamamlar?**

- A) que  
B) dernière  
C) où  
D) qui

4. Choisissez le synonyme du verbe "se distraire".

**"Se distraire" fiilinin eşanlamlısı aşağıdakilerden hangisidir?**

- A) se reposer  
B) s'ennuyer  
C) s'amuser  
D) s'intéresser

5. Des enfants obéissants ..... venus.

**Choisissez le mot qui convient.**

**Cümledeki boşluğu aşağıdakilerden hangisi doğru şekilde tamamlar?**

- A) est  
B) sont  
C) étant  
D) ayant

6. Elle joue ..... volley-ball.

**Choisissez le mot qui convient.**

**Cümledeki boşluğu aşağıdakilerden hangisi doğru şekilde tamamlar?**

- A) du  
B) de la  
C) de  
D) au

7. Je vois un homme marchant dans la rue.

**Choisissez la traduction qui convient.**

**Yukarıdaki cümlelerin Türkçe karşılığı aşağıdakilerden hangisidir?**

- A) Sokakta yürüyen bir adam görüyorum.  
B) Bu, dün sokakta gördüğüm adama benziyor.  
C) Bu adamı yürüyüşünden tanıdım.  
D) Sokakta yürüyen bir adamı çiziyorum.

8. Il peut jouer ..... piano.

**Choisissez le mot qui convient.**

**Cümledeki boşluğu aşağıdakilerden hangisi doğru şekilde tamamlar?**

- A) au  
B) du  
C) de la  
D) de

9. Les étudiants marcheront .....

**Choisissez le mot qui convient.**

**Cümledeki boşluğu aşağıdakilerden hangisi doğru şekilde tamamlar?**

- A) chanté  
B) chanteuse  
C) en chantant  
D) chanteront

10. les / j'aime / brillantes / lumières  
I II III IV

**Mettez dans le bon ordre.**

**Yukarıdaki kelimelerin anlamlı ve kurallı bir bütün oluşturan sırası aşağıdakilerin hangisinde doğru olarak verilmiştir?**

- A) II, I, III, IV  
B) II, I, IV, III  
C) III, IV, II, I  
D) III, IV, I, II

11. .... malade, elle n'est pas allée à l'école.

**Choisissez le mot qui convient.**

**Cümledeki boşluğu aşağıdakilerden hangisi doğru şekilde tamamlar?**

- A) Ayant
- B) Marchant
- C) Etant
- D) Faisant

12. Ils se sont rencontrés ..... du cinéma.

**Choisissez le mot qui convient.**

**Cümledeki boşluğu aşağıdakilerden hangisi doğru şekilde tamamlar?**

- A) sortant
- B) regardant
- C) lisant
- D) chantant

13. - .....

- Oui, je joue au basket chaque semaine.

**Choisissez la question qui convient.**

**Yukarıdaki konuşmada cevabı gerektiren soru aşağıdakilerden hangisidir?**

- A) Quel sport aimez-vous?
- B) Vous jouez au tennis?
- C) Vous pratiquez régulièrement un sport?
- D) Pourquoi vous ne pratiquez pas un sport?

14. Elle prend son petit déjeuner en ..... la radio.

**Choisissez le mot qui convient.**

**Cümledeki boşluğu aşağıdakilerden hangisi doğru şekilde tamamlar?**

- A) regardant
- B) écoutant
- C) ayant
- D) partant

15. Yorucu bir işim var.

**Choisissez la traduction qui convient.**

**Yukarıdaki cümlelerin Fransızca karşılığı aşağıdakilerden hangisidir?**

- A) J'ai un travail fatiguant.
- B) J'ai une chose à faire.
- C) J'aime beaucoup travailler.
- D) Je cherche un travail.

16. Il raconte une histoire ..... est amusante.

**Choisissez le mot qui convient.**

**Cümledeki boşluğu aşağıdakilerden hangisi doğru şekilde tamamlar?**

- A) sera
- B) lettre
- C) mon
- D) qui

17. Tu partiras en vacances comment ? ..... ou en famille?

**Choisissez le mot qui convient.**

**Cümledeki boşluğu aşağıdakilerden hangisi doğru şekilde tamamlar?**

- A) Autre
- B) Moi
- C) L'étranger
- D) Seul

18. J'ai vu mon cousin ..... à l'école.

**Choisissez le mot qui convient.**

**Cümledeki boşluğu aşağıdakilerden hangisi doğru şekilde tamamlar?**

- A) venant
- B) souffrants
- C) allant
- D) brillants

19. Chaque ....., ils vont au bord de la mer.

**Choisissez le mot qui convient.**

**Cümledeki boşluğu aşağıdakilerden hangisi doğru şekilde tamamlar?**

- A) été
- B) hiver
- C) seul
- D) comme

20. J'ai vu mon neveu venant de l'école.

**Choisissez la traduction qui convient.**

**Yukarıdaki cümlelerin Türkçe karşılığı aşağıdakilerden hangisidir?**

- A) Yeğenimi okulda gördüm.
- B) Yeğenimle okulda karşılaştık.
- C) Yeğenimi okula götürdüm.
- D) Yeğenimi okuldan gelirken gördüm.

1. Aşağıda verilen Çağdaş Türk edebiyatı destanları ve yazarları ile ilgili eşleştirmelerden hangisi yanlıştır?
- A) Kurtuluş Savaşı Destanı- Nazım Hikmet  
B) Atatürk Kurtuluş Savaşı'nda- Cahit Külebi  
C) Berlin Üçlemesi- Fazıl Hüsnü Dağlarca  
D) Sakarya Meydan Savaşı- Ceyhan Atuf Kansu
2. Deriden kesilmiş insan, hayvan, bitki, eşya vb. gibi birtakım figürlerin arkadan ışık verilerek bir perde üzerine yansıtılması temeline dayanan sahne sanatı aşağıdakilerden hangisidir?
- A) Orta oyunu  
B) Gölge oyunu  
C) Meddahlık  
D) Mim sanatı
3. Türkiye'de tarih ve edebiyat tarihi incelemelerinde bilimsel yöntemleri ilk defa aşağıdaki bilim insanlarından hangisi ortaya koymuştur?
- A) Ziya Gökalp  
B) M. Fuat Köprülü  
C) M. Nihat Özön  
D) Ahmet Hamdi Tanpınar
4. Türklerin en eski savlarının yer aldığı eser aşağıdakilerden hangisidir?
- A) Kutadgu Bilig  
B) Atabetü'l Hakâyık  
C) Göktürk Yazıtları  
D) Divan-ı Lügat'it Türk
5. Aşağıdaki bilim insanlarından hangisi, Edebiyat tarihi çalışmalarında, tarihi yöntemlerden daha çok metin incelemelerine bağlı psikolojik bir yöntemi benimsemiştir?
- A) Mehmet Kaplan  
B) Haluk İpekten  
C) Şükrü Elçin  
D) Ahmet Kabaklı
6. Dede Korkut Hikâyeleri ile ilgili aşağıdaki bilgilerden hangisi yanlıştır?
- A) Türk'ün öz benliğini yansıtan eserlerdir.  
B) Başka edebiyatlardan alınan bölümleri vardır.  
C) Gerçekçi bir anlatımı vardır.  
D) Ayrıntılı tahliller ve özenilmiş tasvirler yoktur.
7. Edebiyat ile ilgili aşağıdaki bilgilerden hangisi yanlıştır?
- A) Edebiyat toplumsal olaylarla ilgili değildir.  
B) Edebiyatın anlatım aracı dildir.  
C) Edebiyat bir söz sanatıdır.  
D) Edebiyat; tarih, felsefe, psikoloji, sosyoloji vb. bilim dallarından yararlanır.
8. Türk Edebiyatında, Kurtuluş Savaşı üzerine yazılan ilk roman aşağıdakilerden hangisidir?
- A) Ateşten Gömlek  
B) Türk'ün Ateşle İmtihanı  
C) Mor Salkımlı Ev  
D) Yorgun Savaşçı
9. Aşağıdakilerden hangisi, sözlü edebiyat ürünleri arasında yer almaz?
- A) Koşuk  
B) Destan  
C) Gazel  
D) Ağıt
10. Aşağıdakilerden hangisi, İslamiyet'ten sonraki Türk destanlarından biridir?
- A) Yaratılış Destanı  
B) Saka Destanları  
C) Manas Destanı  
D) Göktürk Destanları
11. Aşağıdakilerden hangisi, eski Türk şairlerine Türk boyları arasında verilen isimlerden biri değildir?
- A) Baksı  
B) Şaman  
C) Şair  
D) Oyun

12. Dünyanın en eski destanlarından İlyada ve Odysseia kim tarafından derlenip manzum olarak yazıya geçirilmiştir?

- A) Evliya Çelebi
- B) Homeros
- C) Thomsen
- D) Tolstoy

13. Türk Edebiyat tarihinde, 10. yüzyılın ikinci yarısından 19. yüzyılın başlarına kadar devam eden döneme ne ad verilir?

- A) İslamiyet Öncesi Türk Edebiyatı
- B) Tanzimat Dönemi Türk Edebiyatı
- C) Milli Edebiyat
- D) İslami Dönem Türk Edebiyatı

14. Dikili taşlar üzerine yazılmış, Doğu Göktürklerin tarihini anlatan ve 19. yüzyıl sonunda Danimarkalı bilim insanı V. Thomson tarafından okunan yazıtlara ne ad verilir?

- A) Orhun Yazıtları
- B) Yenisey Yazıtları
- C) Talas Yazıtları
- D) Bumin Kağan Anıtları

15. MÖ 3000'lerde Mezopotamya'da doğmuştur. Bilinen en eski destandır. Günümüze ulaşmış en kapsamlı metni Akad dilinde yazılmıştır.

**Yukarıda tanıtılan destan aşağıdakilerden hangisidir?**

- A) Oğuz Kağan Destanı
- B) İlyada Destanı
- C) Şu Destanı
- D) Gılgamış Destanı

16. Bir ulusun yüzyıllarca meydana getirdiği edebi eserleri inceleyerek geçirdiği dönemleri kronolojik bir sıra içinde inceleyen bilim dalı aşağıdakilerden hangisidir?

- A) Edebi metinler
- B) Halk bilimi
- C) Anlam bilimi
- D) Edebiyat tarihi

17. Kahramanların başlarından geçen olağanüstü olayları törensel bir üslupla anlatan ve genellikle birkaç bölümden oluşan uzun manzum eserlere ne ad verilir?

- A) Destan
- B) Güzelleme
- C) Ağıt
- D) Koşuk

18. Ala gözlerini sevdiğim dilber  
Şu gelip geçtiğin yollar öğünsün  
Kadir Mevlâm seni öğmüş yaratmış  
Kısameti olduğun kullar öğünsün

**Yukarıdaki dizelerin sahibi ünlü halk şairi aşağıdakilerden hangisidir?**

- A) Pir Sultan Abdal
- B) Karacaoğlan
- C) Âşık Veysel
- D) Dadaloğlu

19. İslamiyet'ten önce Türklerde sevilen kişilerin ölümüne duyulan üzüntüyü ifade eden ve kopuz eşliğinde söylenen şiirlere ne ad verilir?

- A) Koçaklama
- B) Güzelleme
- C) Sagu
- D) Ağıt

20. Tuna boylarını aşarak Avrupa içlerine akınlar yapan eski Türk akıncılarından söz eden "Akıncılar" adlı şiir aşağıdaki şairlerden hangisine aittir?

- A) Yahya Kemal Beyatlı
- B) Nazım Hikmet
- C) Özdemir Asaf
- D) Ümit Yaşar Oğuzcan

1. Aşağıdakilerden hangisi "İkinci Yeni" de öne çıkan temalardan biri değildir?

- A) Boşluk duygusu
- B) Şüphe
- C) Doğa
- D) Bezginlik

2. Toplum hayatını anlatmak, mahalli bir edebiyat yapmak sanatının en önemli özelliği olan şair, aşağıdakilerden hangisidir?

- A) Ercüment Behzat Lav
- B) Mehmet Akif Ersoy
- C) Arif Nihat Asya
- D) Attila İlhan

3. "Orda bir köy var uzakta  
O köy bizim köyümüzdür"

Yukarıdaki dizeler aşağıdaki şairlerden hangisine aittir?

- A) Ahmet Kutsi Tecer
- B) Necmettin Halil Onan
- C) Behçet Kemal Çağlar
- D) Kemalettin Kamu

4. "Mukaddime, Merdiven, Süvari" adlı şiirler aşağıdaki şairlerden hangisine aittir?

- A) Turgut Uyar
- B) İlhan Berk
- C) Ahmet Haşim
- D) Ahmet Muhip Dıranas

5. Aşağıdaki şiirlerden hangisi Orhan Veli Kanık'a aittir?

- A) Pul pul
- B) Çocukluğumuz
- C) Birdenbire
- D) Acının tarihi

6. Aşağıdaki şair ve şiiri eşleştirmelerinden hangisi doğrudur?

- A) Bedri Rahmi Eyüboğlu-Karadut
- B) Necip Fazıl Kısakürek-Vapur
- C) Nazım Hikmet-Sihirli Değnek
- D) Aşık Veysel-Rüzgâr

7. Aşağıdakilerden hangisi halk şiirinin özelliklerinden biri değildir?

- A) Aşk, doğa, özlem, yığıtlık, din, günlük bireysel ve toplumsal yaşantıların en çok işlenen temalar olması
- B) Hece ölçüsüyle yazılması
- C) Anonim olması
- D) Genellikle yarım uyak kullanılması

8. "Kitabe-i Seng-i Mezar" adlı şiir aşağıdaki şairlerden hangisine aittir?

- A) Kemalettin Kamu
- B) Ahmet Kutsi Tecer
- C) Orhan Veli Kanık
- D) Ahmet Arif

9. Şiir coğrafyasını Türk ve Batı şiiri özelliklerini kendinde birleştirerek oluşturan; serbest tarzda kaleme aldığı şiirlerinde yalnızlık, hüzn, kaçış, ölüm tutkusu temalarını işleyen şair, aşağıdakilerden hangisidir?

- A) İlhan Geçer
- B) Hilmi Yavuz
- C) Behçet Necatigil
- D) Cemal Süreya

10. Aşağıdakilerden hangisi, Yahya Kemal Beyatlı'nın şiir sanatının özelliklerinden biri değildir?

- A) Şiiri "musikiden başka türlü bir musiki" olarak kabul etmesi
- B) Hece ölçüsünü kullanması
- C) Klasik divan şiirini Batı şiirindeki bütünlük anlayışıyla ele alması
- D) Şiirlerinde daha çok aşk, tabiat, deniz, ölüm ve sonsuzluk konularını işlemesi

11. Toplumcu şiire tepki olan "Garip" hareketinin üç temsilcisi, aşağıdakilerin hangisinde birlikte ve doğru olarak verilmiştir?

- A) Mehmet Kemal-Enver Gökçe-Ömer Faruk Toprak
- B) Oktay Rifat-Attila İlhan-A. Kadir
- C) Arif Damar-Şükran Kurdakul-Orhan Veli Kanık
- D) Orhan Veli Kanık- Oktay Rifat-Melih Cevdet Anday

12. İlk şiirinden son şiirine kadar çocuksu duyarlılığını, dünyayı hayranlıkla, şaşkınlıkla bakışını ve şakacı çocuk yaklaşımını yitirmeyen şair, aşağıdakilerden hangisidir?

- A) Ülkü Tamer
- B) Refik Durbaş
- C) Ece Ayhan
- D) Turgut Uyar

13. "Uy Havar" adlı şiir, aşağıdaki şairlerden hangisine aittir?

- A) Melih Cevdet Anday
- B) Ahmet Arif
- C) Oktay Rifat
- D) A. Kadir

14. "Ben Ölürsem Akşamüstü Ölürüm" şiiri aşağıdaki şairlerden hangisine aittir?

- A) İsmet Özel
- B) Ahmet Oktay
- C) Süreyya Berfe
- D) Atıf Behramoğlu

15. "Galata Köprüsü" adlı şiir, aşağıdaki şairlerden hangisine aittir?

- A) Behçet Necatigil
- B) Ahmet Hamdi Tanpınar
- C) Melih Cevdet Anday
- D) Orhan Veli Kanık

16. Aşağıdakilerden hangisi, "Garip" şiirinin temalarından biri değildir?

- A) Bireyin yalnızlığı
- B) Aşk
- C) Çocukluğa dönüş
- D) İnsan sevgisi

17. "Fotoğraf" adlı şiir, aşağıdaki şairlerden hangisine aittir?

- A) Cemal Süreya
- B) Necati Cumalı
- C) Ahmet Oktay
- D) Fazıl Hüsnü Dağlarca

18. Halk şiirinde kişiye, topluma, feleğe, tabiata aşık tarafından yöneltilen yergi, alay, eleştiri içeren şiirlere ne ad verilir?

- A) Ağıt
- B) Güzelleme
- C) Öğüt
- D) Taşlama

19. Aşağıdaki yazar ve eseri eşleştirmelerinden hangisi yanlıştır?


- A) Oğuz Atay-Tutunamayanlar
- B) Nâbizade Nâzım-Karabibik
- C) Peyami Safa-Dokuzuncu Hariciye Koğuşu
- D) Yusuf Atılgan-Yeni Hayat

20. Aşağıdakilerden hangisi "Beş Hececiler" diye anılan şairler arasında yer almaz?

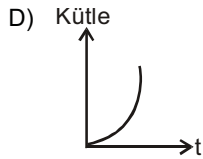
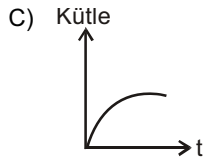
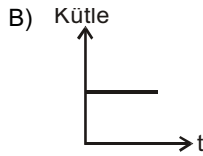
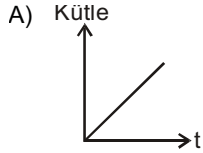
- A) Orhan Seyfi Orhon
- B) Cevdet Kudret
- C) Enis Behiç Koryürek
- D) Faruk Nafiz Çamlıbel



1.



Yukarıdaki şekildeki boş kap sabit debili olan bir muslukla dolduruluyor. Kap dolana kadar kaptaki sıvı kütlesinin zamana bağlı değişiminin grafiği aşağıdakilerden hangisidir?



2. Aşağıdakilerden hangisi cisimdir?

- A) Su
- B) Taş
- C) Altın yüzük
- D) Toprak

3. Ağırlık ölçen araca ne ad verilir?

- A) Barometre
- B) Kalorimetre
- C) Termometre
- D) Dinamometre

4.


Madde	Erime Noktası	Kaynama Noktası
x	35	210
y	0	100
z	-20	70
t	-120	15

Erime ve kaynama noktaları yukarıdaki tabloda verilen maddelerden hangileri oda sıcaklığında (20°C) sıvı haldedir?

- A) x ve y
- B) y ve z
- C) z ve x
- D) z ve t

5. Ele dökülen kolonyanın serinlik hissi vermesindeki fiziksel neden aşağıdakilerden hangisinde gerçekleşir?

- A) Kışın koyu renk elbise giyilmesi
- B) Çaydanlık saplarının plastikten yapılması
- C) Sıcak havada su dolu toprak testinin ıslak beze sarılması
- D) Soğuk günlerde araba camlarının buğulanması

6. İçinde 20 cm<sup>3</sup> su bulunan kaba, özdeş 5 metal küre atılınca, su seviyesi 35 cm<sup>3</sup> e yükseliyor.

Buna göre, metal kürelerden birinin hacmi kaç cm<sup>3</sup> tür?

- A) 3
- B) 5
- C) 7
- D) 9

7. 1 Litre (L) kaç Desimetre küp (dm<sup>3</sup>) eder?

- A) 0,1
- B) 1
- C) 10
- D) 100

8. Bir kaba  $d$  özkütleli sıvıdan  $2V$ ,  $2d$  özkütleli sıvıdan da  $3V$  hacminde sıvı konarak türdeş bir karışım oluşturuluyor.

Buna göre, bu karışımın özkütlesi kaç  $d$  dir?

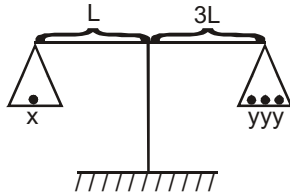
- A) 1,3  
B) 1,4  
C) 1,5  
D) 1,6

9. I. Cisimlerin özkütlesi, sıcaklık azaldıkça artar.  
II. Dünya kutuplardan basıktır.  
III. İki cisim arasındaki çekim kuvveti, aralarındaki uzaklık azaldıkça artar.

Bir cismin ağırlığı ekvatorдан kutuplara gidildikçe artmaktadır. Buna göre, yukarıdaki ifadelerden hangileri doğrudur?

- A) Yalnız I  
B) Yalnız II  
C) I ve II  
D) I ve III

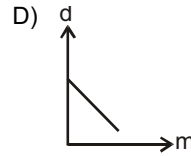
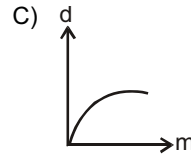
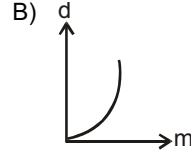
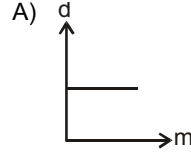
10.



Yukarıdaki şekilde  $x$  cismi 3 tane  $y$  cismi ile dengededir. Sadece  $x$  cismi sağ kefeye konduğunda, yeniden dengenin sağlanması için sol kefeye kaç tane  $y$  cismi konulmalıdır?

- A) 8  
B) 9  
C) 27  
D) 29

11. Sabit sıcaklıkta bir maddenin yoğunluğunu kütlesine bağlayan grafik aşağıdakilerden hangisidir?



12. 0,1 grama duyarlı eşit kollu terazinin sağ kefesine bir cisim konuluyor. Sol kefeye 15 gr koyup, sürgü 5. bölmeye getirilince terazi dengeleniyor.

Buna göre, bu cismin kütlesi kaç gramdır?

- A) 9,5  
B) 10,5  
C) 12,5  
D) 15

13. Bir kap boşken 50 gr, içine tamamen su doldurulduğunda 200 gr gelmektedir. Kapın yarısı su, diğer yarısı başka bir sıvı ile doldurulduğunda ise 500 gr olmaktadır.

Buna göre, sıvının yoğunluğu kaç  $\text{gr}/\text{cm}^3$  tür?

- A) 3  
B) 4  
C) 5  
D) 6

14. İçinde  $50 \text{ cm}^3$  kuru kum bulunan dereceli silindire  $50 \text{ cm}^3$  su eklendiğinde toplam hacim  $80 \text{ cm}^3$  oluyor.

**Buna göre, kuru kumun hacminin yüzde kaçını havadır?**

- A) 80  
B) 60  
C) 50  
D) 40

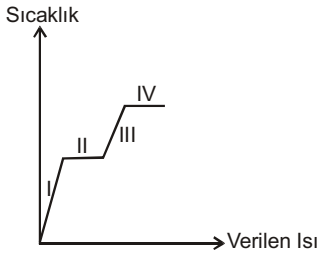
15. Türdeş ve düzgün bir cismin yarısı kesilip alınıyor. Kalan parçanın özkütlesiyle ilgili aşağıdaki ifadelerden hangisi doğrudur?

- A) Değişmez.  
B) Yarıya iner.  
C) İki katına çıkar.  
D) İki katından büyük olur.

16. Maddenin genleşme özellikleriyle ilgili aşağıdaki ifadelerden hangisi **yanlıştır**?

- A) Esnek kaplarda bulunan gazlar ısıtıldıklarında genleşir ve hacmi büyür.  
B) Buz eridiğinde hacmi küçülür.  
C) Gazlar ve sıvılar için genleşme katsayısı ayırt edici bir özellik değildir.  
D) Su donduğunda hacmi büyür.

17. Saf bir maddenin sıcaklık-ısı grafiği aşağıdaki şekilde verilmiştir



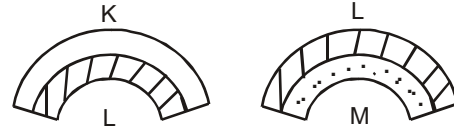
**Buna göre, bu maddenin moleküllerinin ortalama kinetik enerjisi hangi aralıkta değişmiştir?**

- A) I ve III  
B) I ve II  
C) II ve III  
D) II ve IV

18. Aşağıdakilerden hangisi maddenin **ortak** özelliklerinden biridir?

- A) Özkütle  
B) Esneklik  
C) Genleşme  
D) Kütle

19. Birbirine perçinlenmiş KL ve LM metal çiftleri aşağıdaki şekilde verilmiştir. Bu metal çiftleri soğutulduklarında doğrusal hale gelmektedir.



**Buna göre, metallerin yapıldığı maddelerin  $\lambda_K$ ,  $\lambda_L$  ve  $\lambda_M$  uzama katsayıları arasındaki ilişki aşağıdakilerden hangisidir?**

- A)  $\lambda_L > \lambda_K > \lambda_M$   
B)  $\lambda_K > \lambda_L > \lambda_M$   
C)  $\lambda_M > \lambda_K > \lambda_L$   
D)  $\lambda_M > \lambda_L > \lambda_K$

20. Kenar uzunlukları 10 cm, 20 cm ve 30 cm olan dikdörtgenler prizmasının içine bir kenarı 2 cm olan küp şeklindeki cisimlerden kaç tane sığar?

- A) 400  
B) 500  
C) 600  
D) 750

1. 0°C'de 0,5 mol gazın 5600 ml' lik kaba yaptığı basınç kaç atmosferdir? (R=0,082)
- A) 0,02  
B) 0,2  
C) 2  
D) 20
2. Sabit hacimde 27°C de basıncı 1140 mmHg olan bir gazın sıcaklığı 327°C ye çıkarılırsa basıncı kaç atm olur?
- A) 3  
B) 1,5  
C) 0,5  
D) 0,25
3. X ve Y elementlerinden oluşan bileşiğin 1,82 gramı, 0,6 gram Y elementi içerdiğine göre bileşiğin basit formülü nedir?
- A) XY<sub>3</sub>  
B) X<sub>2</sub>Y<sub>3</sub>  
C) XY<sub>2</sub>  
D) X<sub>3</sub>Y<sub>2</sub>
4.  $\text{Cu} + 2\text{H}_2\text{SO}_4 \rightarrow \text{CuSO}_4 + \text{SO}_2 + 2\text{H}_2\text{O}$   
4,8gr Xgr 12gr 4,8 gr 2,7gr  
Yukarıdaki tepkime denkleminde x ile belirtilen H<sub>2</sub>SO<sub>4</sub> miktarı kaç gramdır?
- A) 18  
B) 14,7  
C) 12  
D) 2,7
5. Demir (III) oksit bileşiğinin formülü aşağıdakilerden hangisidir?
- A) Fe<sub>3</sub>O<sub>2</sub>  
B) FeO  
C) Fe<sub>2</sub>O<sub>2</sub>  
D) FeO<sub>2</sub>
6. 0,2 molarlık 200 ml Ca(OH)<sub>2</sub> çözeltisinde kaç gram Ca(OH)<sub>2</sub> çözülmüştür? (Ca(OH)<sub>2</sub>: 74 gr/mol)
- A) 2,96  
B) 1,48  
C) 0,74  
D) 0,04
7.  $18,06 \times 10^{22}$  tane oksijen atomu içeren NaNO<sub>3</sub> kaç moldür?
- A) 3  
B) 1  
C) 0,1  
D) 0,01
8. Kütlece %10'luk 40 gram etilalkol çözeltisine 10 gram etilalkol eklenirse, kütlece yüzde kaçlık hale gelir?
- A) 42  
B) 28  
C) 16  
D) 10
9. Al<sub>2</sub>(SO<sub>4</sub>)<sub>3</sub> bileşiğinin mol kütlesi kaç gr/mol'dür? (Al: 27, S:32, O:16)
- A) 96  
B) 150  
C) 192  
D) 342
10.  $\text{Ca}(\text{OH})_2 + \text{NH}_4\text{Cl} \rightarrow \text{CaCl}_2 + 2\text{NH}_3 + \text{H}_2\text{O}$   
Yukarıdaki tepkime denklemini denkleştirildiğinde, suyun (H<sub>2</sub>O) katsayısı kaç olur?
- A) 4  
B) 3  
C) 2  
D) 1
11. 3 mol oksijen atomu içeren Al<sub>2</sub>(CrO<sub>4</sub>)<sub>3</sub> bileşiği kaç moldür?
- A) 2  
B) 0,5  
C) 0,25  
D) 0,1
12. 21240 sayısı üç anlamlı rakamla ifade edilirse, aşağıdakilerden hangisi doğru olur?
- A)  $2,12 \times 10^4$   
B)  $2,12 \times 10^3$   
C)  $2,12 \times 10^2$   
D)  $2,12 \times 10^1$

13. 273°C de 11,2 litrelik kaba 0,5 atm basınç yapan SO<sub>3</sub> gazı kaç moldur?

- A) 5
- B) 2,5
- C) 1,25
- D) 0,125

14. Aynı sıcaklıkta He gazının yayılma hızı CH<sub>4</sub> gazının yayılma hızının kaç katıdır? (He:4 gr/mol, CH<sub>4</sub>:16 gr/mol)

- A) 1
- B) 2
- C) 4
- D) 6

15. Sabit basınçta, 127°C sıcaklıkta 200 ml hacim kaplayan bir gazın hacminin 600 ml olabilmesi için sıcaklığının kaç °C olması gerekir?

- A) 927
- B) 727
- C) 573
- D) 327

16. Aynı sıcaklıkta x gazının yayılma hızı, SO<sub>2</sub> gazının yayılma hızının iki katı olduğuna göre, x gazının mol kütlesi kaçtır? (SO<sub>2</sub>: 64gr/mol)

- A) 32
- B) 16
- C) 8
- D) 4

17. Aşağıdakilerden hangisi nicel gözlem örneğidir?

- A) Bu kısa bir yol
- B) Bu ince bir örtü
- C) Bu küçük bir kız
- D) Bu 50 m<sup>2</sup> lik bir arsa

18. X<sub>(katı)</sub> + su → Sulu çözelti + Isı denklemindeki X katısının sudaki çözünürlüğünü artırmak için aşağıdaki işlemlerden hangisi uygulanmalıdır?

- A) Su miktarının artırılması
- B) Çözeltinin karıştırılması
- C) Çözeltinin sıcaklığının artırılması
- D) X katısının artırılması

19. Al<sub>4</sub>C<sub>3</sub> + 12H<sub>2</sub>O → 4Al(OH)<sub>3</sub> + 3CH<sub>4</sub> tepkime denkleminde göre 18 gram Al<sub>4</sub>C<sub>3</sub> bileşiğinin kullanılmasıyla, normal şartlar altında kaç litre CH<sub>4</sub> gazı oluşur? (Al: 27, C:12, H:1, O:16)

- A) 44,8
- B) 36,8
- C) 22,4
- D) 8,4

20. Karbontetraklorür bileşiğinin formülü aşağıdakilerden hangisidir?

- A) CCl<sub>4</sub>
- B) C<sub>4</sub>Cl
- C) CCl<sub>5</sub>
- D) C<sub>5</sub>Cl

1. Çiçekli bitkilerde erkek üreme organı aşağıdakilerden hangisidir?
  - A) Stamen
  - B) Pistil
  - C) Filament
  - D) Anter
  
2. Aynı bireyde hem dişi hem de erkek üreme hücresi üreterek, canlının kendi kendini dölleyebildiği üreme şekli aşağıdakilerden hangisidir?
  - A) Konjugasyon
  - B) Partenogenez
  - C) Hermafroditizm
  - D) Heterogami
  
3. Şekil ve büyüklükleri aynı olan gametlerin birleşmesi sonucu görülen üreme şekli aşağıdakilerden hangisidir?
  - A) Heterogami
  - B) İzogami
  - C) Konjugasyon
  - D) Partenogenez
  
4. Aşağıdakilerden hangisi tohumu oluşturan yapılardan biri değildir?
  - A) Tohum kabuğu
  - B) Endosperm
  - C) Tepecik
  - D) Embriyo
  
5. Dişi üreme sisteminde, folikül kesesinde olgunlaşan yumurtanın folikülün çatlamasıyla yumurtalıktan atılarak fallop borusuna geçerek döllenmeye hazır hale geldiği evre aşağıdakilerden hangisidir?
  - A) Korpus luteum
  - B) Folikül
  - C) Menstruasyon
  - D) Ovulasyon
  
6. Aşağıdakilerden hangisi insanda erkek üreme sistemini oluşturan organlardan biri değildir?
  - A) Uterus
  - B) Üretra
  - C) Skrotum
  - D) Epididimis
  
7. Aşağıdakilerden hangisi birden fazla dişi organ ve çiçek tablasından gelişen meyvelerden biridir?
  - A) Armut
  - B) Kiraz
  - C) Erik
  - D) Çilek
  
8. İnsanda yumurta hücresi nerede meydana gelir?
  - A) Uterusta
  - B) Ovaryumlarda
  - C) Fallop borusunda
  - D) Vajinada
  
9. İnsanda döllenme sonucu kaç kromozomlu zigot meydana gelir?
  - A) 16
  - B) 32
  - C) 46
  - D) 52
  
10. Aşağıdakilerden hangisi eşeyli üremenin özelliklerinden biri değildir?
  - A) Ata hücreler ile yavru hücrelerin genetik yapısının tamamen aynı olması
  - B) Mayoz bölünmenin görülmesi
  - C) Yumurta ve spermin birleşmesi sonucu döllenme gerçekleşmesi
  - D) Gametler oluşurken crossing-over olarak adlandırılan parça değişimi gerçekleşmesi

11. İnsanda döllenmeden sonra, 90. günde embriyonel gelişim ne durumdadır?

- A) Bütün organ sistemleri oluşur.
- B) Ana vücutuna bağlanır.
- C) Nörilasyon gerçekleşir.
- D) Sinir sistemi ve kan damarları gelişmeye başlar.

12. Bitkide büyüme ve gelişme için uygun sıcaklık, genellikle kaç °C 'lik aralıkta yer alır?

- A) 0 - 30
- B) 0 - 40
- C) 5 - 45
- D) 10 - 50

13. Aşağıdakilerden bitkilerden hangisi çift çeneklidir?

- A) Buğday
- B) Mısır
- C) Badem
- D) Orkide

14. Organ taslakları oluşmuş embriyoya ne ad verilir?

- A) Zigot
- B) Gamet
- C) Fetüs
- D) Plasenta

15. Aşağıdaki organlardan hangisi ektodermden meydana gelir?

- A) Pankreas
- B) Kalp
- C) Akciğer
- D) Omurilik

16. Canlı organizma tarafından çeşitli nedenlerle kopan veya yaralanan vücut parçalarının ve organlarının yenilenmesine ne ad verilir?

- A) Metamorfoz
- B) Rejenerasyon
- C) Nörilasyon
- D) Blastula

17. Sinir sisteminin geliştiği, beyin omurilik ve duyu organlarının oluştuğu evre aşağıdakilerden hangisidir?

- A) Organogenez
- B) Segmentasyon
- C) Gastrulasyon
- D) Nörilasyon

18. Bitkilerde tomurcuk gelişimi, tohum çimlenmesi ve yaprakların geç yaşlanmasında etkili olan hormon aşağıdakilerden hangisidir?

- A) Oksin
- B) Giberellin
- C) Etilen
- D) Sitokinin

19. Embriyonun azotlu boşaltım maddelerini depo eden ve solunumu sağlayan embriyonik örtü aşağıdakilerden hangisidir?

- A) Allantoyis
- B) Vitellüs kesesi
- C) Koryon
- D) Amniyon kesesi

20. Gelişmenin erken evrelerinde zigotta görülen hızlı mitoz bölünmelere ne ad verilir?

- A) Gastrulasyon
- B) Segmentasyon
- C) Mezoderm
- D) Ektoderm

1. Aşağıdakilerden hangisi aile hayatına etki eden faktörlerden biri değildir?
- A) Eşler arasındaki ilişki  
B) Aile bireylerinin sorumluluklarını üstlenmesi  
C) Akraba evlilikleri  
D) Ailenin diğer sosyal kurumlarla uyumu
2. Aşağıdakilerden hangisi, Türkiye'de çocuklara doğumdan itibaren belirli bir aşı takvimine göre düzenli uygulanan aşılarından biri değildir?
- A) Kuduz aşısı  
B) Çocuk felci aşısı  
C) Difteri aşısı  
D) Verem aşısı
3. Emzirme ile ilgili aşağıdaki ifadelerden hangisi yanlıştır?
- A) Bebek her istediğinde emzirilmelidir.  
B) Emzirme sırasında anne oturur durumda olmalıdır.  
C) Emzirme sırasında bebek tam yatar durumda tutulmalıdır.  
D) Emzirmede her iki memede kullanılmalıdır.
4. Aşağıdakilerden hangisi özellikle süt çocuklarında görülen bir mantar hastalığıdır?
- A) Pamukçuk  
B) Sarılık  
C) Zatürre  
D) İshal
5. Yumurtalıktan serbest bırakılan yumurta hücresi yaklaşık kaç saat hayatta kalır?
- A) 24  
B) 28  
C) 30  
D) 48
6. Gebeliğin kaçınıcı haftadan önce sona ermesi düşük adını alır?
- A) 20.  
B) 23.  
C) 25.  
D) 28.
7. Annenin özellikle gebeliğin ilk aylarında yakalanması halinde bebekte sağırılık, kalp ve sinir sistemi sorularına yol açabilen hastalık aşağıdakilerden hangisidir?
- A) Gastrit  
B) Kolit  
C) Grip  
D) Kızamıkçık
8. Aşağıdakilerden hangisi ishalle birlikte vücuttan çok fazla su ve tuz kaybına bağlı olarak ortaya çıkan belirtilerden biri değildir?
- A) İdrar miktarının azalması  
B) Ağız kuruluğu ve halsizlik görülmesi  
C) Nabzın kuvvetlenip, sayısının azalması  
D) Gözün çukura kaçması
9. Aşağıdakilerden hangisi dış parazitlerden biri değildir?
- A) Uyuz böceği  
B) Bağırsak kurtları  
C) Pire  
D) Bit
10. Aşağıdaki hastalıklardan hangisi, vücudun herhangi bir yerindeki hücresel yapının bozulması sonucu kontrolsüz çoğalması ile oluşur?
- A) Dizanteri  
B) Kanser  
C) Sıtma  
D) Kolera
11. Geçmeyen öksürük, gece terlemeleri, kilo kaybı, kan tükürme, yorgunluk aşağıdaki hastalıklardan hangisinin belirtileridir?
- A) Difteri  
B) Akciğer veremi  
C) Siroz  
D) Kızıl
12. Aşağıdakilerden hangisi metabolik hastalıklardan biridir?
- A) Guatr  
B) Klinefelter sendromu  
C) Hemofili  
D) Gut



13. Kolera'da kuluçka süresi ne kadardır?

- A) Birkaç saat
- B) 1 hafta
- C) 1-3 hafta
- D) 20-60 gün

14. Aşağıdakilerden hangisi bayılma belirtilerinden biri değildir?

- A) Hızlı ve zayıf nabız
- B) Bilinçte bulanıklık
- C) Bacaklarda uyuşma
- D) İdrar kaçırma

15. Aşağıdakilerden hangisi atardamar dış kanamalarının belirtilerinden biridir?

- A) Kanamanın yavaş ve yoğun olması
- B) Kanamanın sızıntı halinde olması
- C) Kanamanın açık renkli ve kalp atışıyla uyumlu kesik kesik olması
- D) Kanamanın koyu renkli ve sürekli akış halinde olması

16. Aşağıdakilerden hangisi solunum durmasının başlıca nedenlerinden biri değildir?

- A) Ses tellerinde şişmeye neden olan alerjik durumlar
- B) Burun kanamaları
- C) Elektrik çarpması
- D) Dilin arkaya kayması

17. Suda boğulmuş kişiye öncelikle yapılması gereken ilkyardım uygulaması aşağıdakilerden hangisidir?

- A) Kalp masajı yapılması
- B) Sağlık kuruluşuna ulaştırılması
- C) Akciğerlerdeki suyun boşaltılması
- D) Yapay solunum yapılması

18. Maden ocağı kazaları aşağıdaki kaza türlerinden hangisine bir örnektir?

- A) Ev kazaları
- B) Spor kazaları
- C) Trafik kazaları
- D) İş kazaları

19. İlkyardımın temel ilkelerinden, birden fazla yaralının olduğu toplu kazalarda ve doğal afetlerde hangi yaralı ve hastaya öncelik verileceğine karar verilmesine ne ad verilir?

- A) Tanı
- B) Ayırma
- C) Taşıma
- D) Tedbir

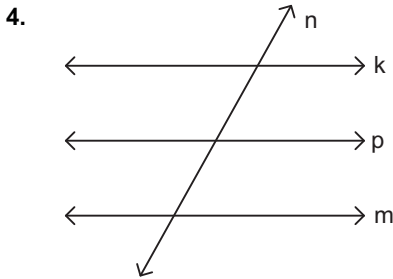
20. Aşağıdakilerden hangisi birinci derece yanıkların özelliklerinden biridir?

- A) Deride içi su dolu kabarcıklar vardır.
- B) Kuru beyaz görünen kısımlar vardır.
- C) Cilt aşırı derecede kırmızıdır.
- D) Yaklaşık 48 saatte iyileşir.

1. Sayı doğrusu üzerinde  $A(-2)$ ,  $B(17)$  noktaları arasındaki uzaklık kaç birimdir?  
 A) 19  
 B) 17  
 C) 15  
 D) 12

2. Sayı doğrusu üzerinde,  $K(-5)$ ,  $L(17)$ ,  $M(-15)$  ve  $N(8)$  noktaları ile ilgili aşağıdaki ifadelerden hangisi doğrudur?  
 A) K noktası, N ile L noktası arasındadır.  
 B) M noktası, K ile L noktası arasındadır.  
 C) L noktası, M ile K noktası arasındadır.  
 D) N noktası, K ile L noktası arasındadır.

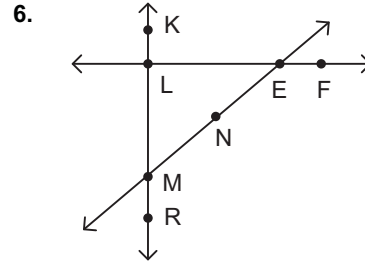
3.  $A(-8)$  ve  $B(12)$  olmak üzere  $[AB]$  üzerinde olan ve  $|AP| = \frac{3}{4} |AB|$  koşulunu sağlayan P noktasının koordinatı kaçtır?  
 A) -6  
 B) -4  
 C) 3  
 D) 7



Yukarıdaki doğrularla ilgili aşağıdaki bilgilerden hangisi yanlıştır?


- A) k doğrusu m doğrusuna paraleldir.  
 B) m doğrusu ile n doğrusu kesişmektedir.  
 C) n doğrusu p doğrusuna paraleldir.  
 D) k doğrusu ile n doğrusu kesişmektedir.

5. Orta noktası  $P(6)$  olan  $[MN]$ 'nin uç noktalarından biri  $N(18)$  ise, diğer uç noktanın koordinatı kaçtır?  
 A) -8  
 B) -6  
 C) -4  
 D) 4



Yukarıdaki şekle göre, aşağıdakilerden hangisinde verilen noktalar doğrusal değildir?

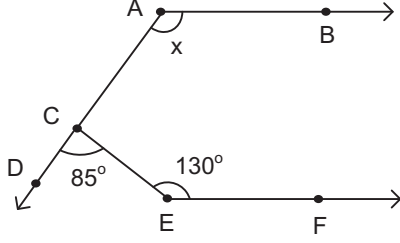
- A) M, N, E  
 B) L, E, F  
 C) L, M, R  
 D) K, M, N



Yukarıdaki şekle göre, aşağıdakilerden hangisinde verilen ışınlar ters ışınlar değildir?

- A)  $[LK]$  ile  $[LM]$   
 B)  $[LM]$  ile  $[KL]$   
 C)  $[KL]$  ile  $[ML]$   
 D)  $[LM]$  ile  $[MK]$

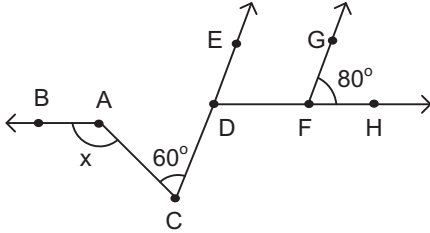
8.



Yukarıdaki şekilde A, C, D noktaları doğrusal,  $[AB]//[EF]$ ,  $m(\widehat{DCE})=85^\circ$ ,  $m(\widehat{CEF})=130^\circ$  ise,  $m(\widehat{CAB})=x$  kaç derecedir?

- A) 135
- B) 120
- C) 115
- D) 110

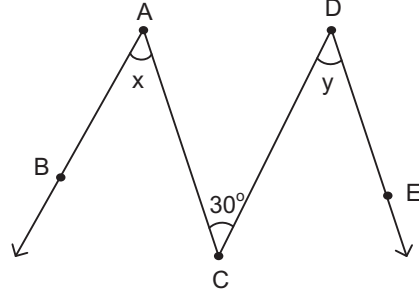
9.



Yukarıdaki şekilde  $[AB]//[DF]$ ,  $[DE]//[FG]$ ,  $m(\widehat{HFG})=80^\circ$  ve  $m(\widehat{ACD})=60^\circ$  ise,  $m(\widehat{BAC})=x$  kaç derecedir?

- A) 125
- B) 130
- C) 140
- D) 150

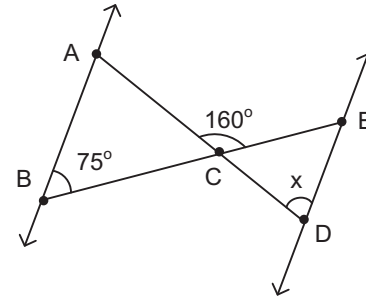
10.



Yukarıdaki şekilde  $[AB]//[DC]$ ,  $[AC]//[DE]$ ,  $m(\widehat{ACD})=30^\circ$ ,  $m(\widehat{BAC})=x$  ve  $m(\widehat{CDE})=y$  ise,  $x+y$  kaç derecedir?

- A) 55
- B) 60
- C) 70
- D) 75

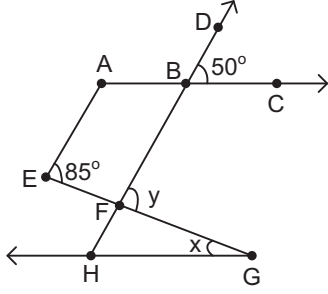
11.



Yukarıdaki şekilde  $AB//DE$ ,  $m(\widehat{ABC})=75^\circ$ ,  $m(\widehat{ACE})=160^\circ$  ise,  $m(\widehat{CDE})=x$  kaç derecedir?

- A) 85
- B) 80
- C) 75
- D) 70

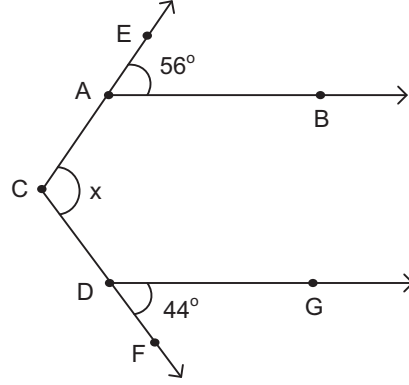
12.



Yukarıdaki şekilde  $[AC]//[GH]$ ,  $[AE]//[HB]$ ,  $m(\widehat{DBC})=50^\circ$ ,  $m(\widehat{AEF})=85^\circ$ ,  $m(\widehat{FGH})=x$ ,  $m(\widehat{BFG})=y$  ise,  $x+y$  kaç derecedir?

- A) 120  
B) 125  
C) 130  
D) 135

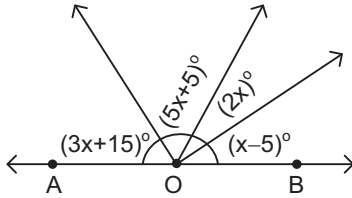
14.



Yukarıdaki şekilde  $[AB]//[DG]$ ,  $m(\widehat{EAB})=56^\circ$ ,  $m(\widehat{FDG})=44^\circ$  ise,  $m(\widehat{ACD})=x$  kaç derecedir?

- A) 120  
B) 115  
C) 110  
D) 100

13.



Yukarıdaki şekilde A, O, B noktaları doğrusal olduğuna göre,  $x$  kaç derecedir?

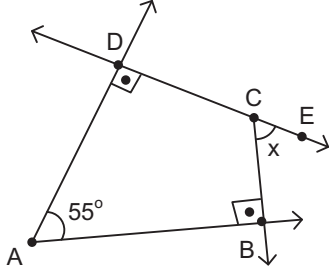
- A) 25  
B) 20  
C) 18  
D) 15

15. I.  $45^\circ$   
II.  $110^\circ$   
III.  $75^\circ$   
IV.  $86^\circ$   
V.  $97^\circ$

Yukarıda ölçüleri verilen açılardan kaç tanesi geniş açıdır?

- A) 2  
B) 3  
C) 4  
D) 5

16.



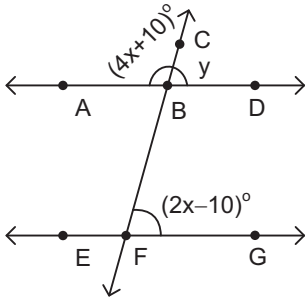
Yukarıdaki şekilde D, C, E noktaları doğrusal,  $[AB \perp [CB$ ,  $[AD \perp DC$  ve  $m(\widehat{BAD}) = 55^\circ$  ise,  $m(\widehat{BCE}) = x$  kaç derecedir?

- A) 35
- B) 45
- C) 55
- D) 60

17. Ölçüsü  $85^\circ$  olan açının bütünler açısının ölçüsü kaç derecedir?

- A) 5
- B) 25
- C) 95
- D) 115

18.



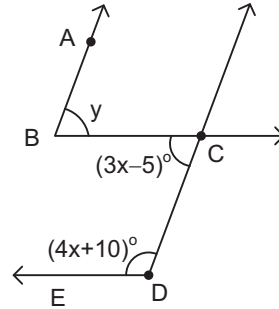
Yukarıdaki şekilde A, B, D noktaları doğrusal,  $AD \parallel EG$ ,  $m(\widehat{ABC}) = (4x+10)^\circ$  ve  $m(\widehat{BFG}) = (2x-10)^\circ$  ise,  $m(\widehat{DBC}) = y$  kaç derecedir?

- A) 46
- B) 50
- C) 55
- D) 68

19. Bütünler açısının ölçüsünün  $\frac{2}{3}$  ü ile tümler açısının ölçüsünün üç katının toplamı  $280^\circ$  olan açı kaç derecedir?

- A) 20
- B) 25
- C) 30
- D) 40

20.



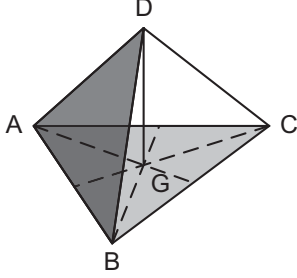
Yukarıdaki şekilde  $[BA \parallel [DC$ ,  $[BC \parallel [DE$ ,  $m(\widehat{BCD}) = (3x-5)^\circ$  ve  $m(\widehat{CDE}) = (4x+10)^\circ$  ise,  $m(\widehat{ABC}) = y$  kaç derecedir?

- A) 65
- B) 70
- C) 75
- D) 80

1. Uzayda, üçü doğrusal olmayan 6 nokta ile en çok kaç tane düzlem oluşturulabilir?

- A) 10
- B) 12
- C) 16
- D) 20

2.



Yukarıdaki şekilde G noktası bir kenar uzunluğu 12 cm olan ABC eşkenar üçgeni ağırlık merkezidir. G noktasından üçgen düzlemine çıkılan dikme üzerinde bir D noktası alınmıştır.  $|DG| = 15$  cm olduğuna göre,  $|DC|$  kaç cm dir?

- A) 16
- B) 17
- C) 18
- D) 19

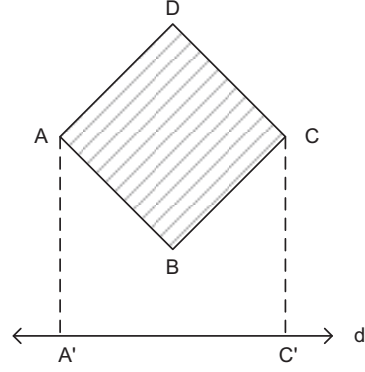
3. Uzayda verilen 3 farklı düzlem, uzayı en az kaç bölgeye ayırır?

- A) 4
- B) 5
- C) 6
- D) 7

4. Aşağıdakilerden hangisi aynı düzlemde bulunan iki doğrunun birbirine göre konumlarından biri olamaz?

- A) Paralel doğrular olabilirler.
- B) Çakışık doğrular olabilirler.
- C) Bir noktada kesişebilirler.
- D) Aykırı doğrular olabilirler.

5.



Yukarıdaki şekilde alanı  $36 \text{ cm}^2$  olan bir ABCD karesinin  $[AC]$  köşegeni d doğrusuna paraleldir. Bu karenin  $[AC]$  köşegeninin d doğrusu üzerindeki dik iz düşümünün uzunluğu ( $|A'C'|$ ) kaç cm dir?

- A) 6
- B)  $6\sqrt{2}$
- C) 12
- D)  $9\sqrt{2}$

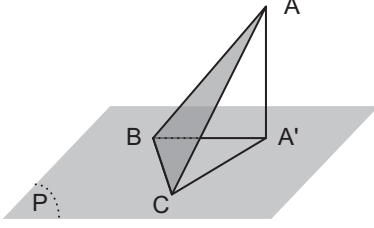
6. Uzayda bir düzlemin belirtilmesiyle ilgili aşağıdaki ifadelerden hangisi yanlıştır?

- A) Uzayda, bir doğru ile dışındaki bir nokta bir düzlem belirtir.
- B) Uzayda kesişen iki doğru bir düzlem belirtir.
- C) Uzayda, aynı doğru üzerinde olmayan farklı iki nokta bir tek düzlem belirtir.
- D) Uzayda paralel iki doğru bir düzlem belirtir.

7. Aynı noktada kesişen 8 doğru en çok kaç düzlem belirtir?

- A) 8
- B) 10
- C) 12
- D) 16

8.

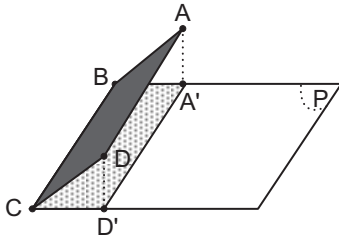


Yukarıdaki şekilde ABC eşkenar üçgeninin bir kenar uzunluğu 8 cm dir. ABC eşkenar üçgeninin A köşesinin P düzlemine dik iz düşümü A' noktasıdır. [BC] doğru parçası P düzleminde ve  $[BA' \perp A'C]$  dir.

**Buna göre,  $A(BCA')$  kaç  $cm^2$  dir?**

- A) 12
- B) 16
- C) 24
- D) 32

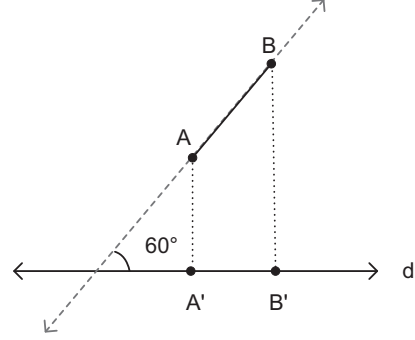
9.



Bir kenarının uzunluğu 10 cm olan ABCD karesinin BC kenarı P düzleminde. Kare düzlemi ile P düzlemi  $60^\circ$  lik açı yapmaktadır. ABCD karesinin P düzlemindeki dik iz düşümü BCD'A' dörtgeni olduğuna göre, BCD'A' dörtgeninin alanı kaç  $cm^2$  dir?

- A) 50
- B) 60
- C) 75
- D) 100

10.

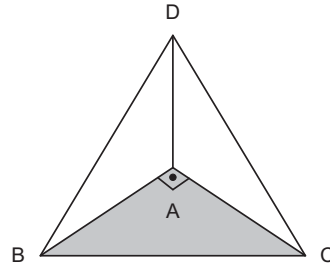


Yukarıdaki şekilde [AB] doğru parçasının d doğrusu üzerindeki dik iz düşümü  $[A'B']$  doğru parçasıdır.

**Buna göre,  $|A'B'| = 5$  cm ise,  $|AB|$  kaç cm dir?**

- A) 7
- B) 8
- C) 9
- D) 10

11.



Yukarıdaki şekilde ABC ikizkenar dik üçgen,  $|BC| = 3\sqrt{2}$  cm dir. A noktasından AD dikmesi çizilmiştir.

**DBC eşkenar üçgen olduğuna göre,  $|AD|$  kaç cm dir?**

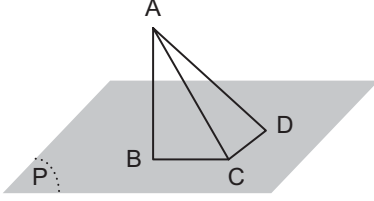
- A) 3
- B) 4
- C) 5
- D) 6

12. Köşegenlerinin uzunlukları 10 cm ve 24 cm olan P düzlemi üzerindeki eşkenar dörtgenin, bir R düzlemi üzerindeki dik izdüşümünün alanı  $60 \text{ cm}^2$  dir.

Buna göre, P ve R düzlemleri arasındaki ölçek açısının ölçüsü kaç derecedir?

- A) 30  
B) 45  
C) 60  
D) 75

13.



Yukarıdaki şekilde  $[AB] \perp P$  ve  $[BC] \perp [CD]$  dir.  $[BC]$  ve  $[CD]$  doğru parçaları P düzleminde.  $|AB| = 8 \text{ cm}$ ,  $|BC| = 6 \text{ cm}$  ve  $|CD| = 10 \text{ cm}$  ise,  $|AD|$  kaç cm dir?

- A)  $8\sqrt{2}$   
B)  $10\sqrt{2}$   
C)  $12\sqrt{2}$   
D)  $16\sqrt{2}$

14. Yer düzlemi ile  $60^\circ$  lik açı yapan kare şeklindeki bir cismin gölgesinin alanı  $50 \text{ cm}^2$  dir.

Buna göre, bu karenin bir kenarının uzunluğu kaç cm dir?

- A) 8  
B) 9  
C) 10  
D) 12

15. Uzunluğu 12 cm olan bir doğru parçası P düzlemi ile  $60^\circ$  lik açı yapacak şekilde orta noktasından kesilmiştir. Bu doğru parçasının uç noktalarından birinin düzleme uzaklığı kaç cm dir?

- A) 3  
B)  $3\sqrt{3}$   
C) 6  
D)  $6\sqrt{3}$

16. Uzayda düzlemlerle ilgili aşağıdaki ifadelerden hangisi yanlıştır?

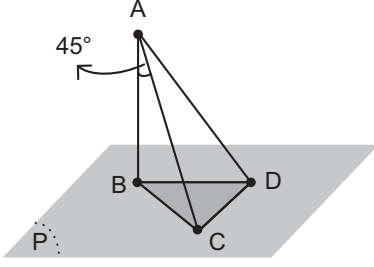
- A) Uzayda, üç düzlem bir doğru boyunca kesişebilir.  
B) Uzayda, düzlemlerin ikisi birbirine paralel olup, diğeri bu düzlemi kesebilir.  
C) Uzayda, bir noktadan geçen yalnız iki düzlem çizilebilir.  
D) Uzayda, üç düzlem birbirine paralel olabilir.

17. P ve R düzlemlerinin ölçek açısının ölçüsü  $30^\circ$  dir. P düzleminde yarıçapının uzunluğu  $6\sqrt{3}$  cm olan bir dairenin, R düzlemi üzerindeki dik izdüşümünün alanı kaç  $\text{cm}^2$  dir? ( $\pi=3$  alınınız.)

- A)  $81\sqrt{3}$   
B) 162  
C)  $162\sqrt{2}$   
D)  $162\sqrt{3}$



18.

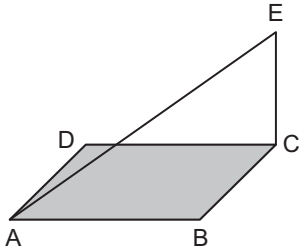


Yukarıdaki şekilde P düzlemi dışındaki bir A noktasından düzleme  $[AB]$  dikmesi çizilmiştir. P düzlemi BCD üçgeninde  $[BC \perp CD]$  ve  $\sphericalangle ABC = 45^\circ$  dir.

Buna göre,  $|AC| = 8\sqrt{2}$  cm ve  $|CD| = 6$  ise,  $A(\widehat{BCD})$  kaç  $\text{cm}^2$  dir?

- A) 18
- B) 20
- C) 22
- D) 24

19.



Bir kenarının uzunluğu  $6\sqrt{2}$  cm olan ABCD karesinin C köşesinden 9 cm uzunluğunda kare düzlemine dik bir  $[CE]$  dikmesi çizilmiştir.

Buna göre,  $|AE|$  kaç cm dir?

- A) 10
- B) 12
- C) 15
- D) 18

20. Düzlemde sabit iki noktaya eşit uzaklıktaki noktaların geometrik yerine ne ad verilir?

- A) Elips
- B) Çember
- C) Işın
- D) Doğru

## SEÇMELİ TARİH 4

A

2013 II.DÖNEM 0105-A

1. XVIII. yüzyılda Nizamı Cedit ordusu hangi padişah döneminde kurulmuştur?
  - A) Abdülmecit
  - B) II. Mahmut
  - C) I. Ahmet
  - D) III. Selim
2. Yaptığı dünya haritası ile Türk denizciliğindeki gelişmeyi bilimsel açıdan ispatlayan denizci aşağıdakilerden hangisidir?
  - A) Turgut Reis
  - B) Seydi Ali Reis
  - C) Kılıç Ali Reis
  - D) Piri Reis
3. Rütbece en yüksek hizmetlilerin bulunduğu yere verilen ad aşağıdakilerden hangisidir?
  - A) Hazine odası
  - B) Has oda
  - C) Kiler odası
  - D) Seferli odası
4. Eyalet Askerleri arasında en yüksek rütbeli komutan aşağıdakilerden hangisidir?
  - A) Beylerbeyi
  - B) Subaşı
  - C) Alaybeyi
  - D) Sancakbeyi
5. Aşağıdakilerden hangisi ilmiye sınıfının divan dışındaki temsilcilerinden biridir?
  - A) Kadı
  - B) Nişancı
  - C) Hâcegân
  - D) Reisülküttap
6. Padişahın camiye gidip, orada namaz kılıp hutbe dinlemesi ve saraya dönmesi törenine verilen ad aşağıdakilerden hangisidir?
  - A) Şenlik
  - B) Kabul
  - C) Selamlık
  - D) Taziye
7. Aşağıdakilerden hangisi Raiyyet statüsünden, askerlik statüsüne geçmenin ya da bulunduğu mevkiden daha üst kademelere yükselmenin belli şartlarından biri değildir?
  - A) Müslüman olmak
  - B) İslamiyeti gerçek anlamda yaşamak
  - C) Arapça bilmek
  - D) Türk töresine sahip çıkmak
8. Aşağıdakilerden hangisi Osmanlılarda büyük ticaret merkezi haline gelen şehirlerden biri değildir?
  - A) Çanakkale
  - B) İstanbul
  - C) Bursa
  - D) Edirne
9. Osmanlılarda darphanede yapılıp piyasaya sürülen paralara verilen ad aşağıdakilerden hangisidir?
  - A) Kaime
  - B) Sikke
  - C) Akçe
  - D) Guruş
10. XIX. yüzyılda kapitülasyonlarla ilgili imzalanan antlaşma aşağıdakilerden hangisidir?
  - A) Kütahya Antlaşması
  - B) Amasya Antlaşması
  - C) Karlofça Antlaşması
  - D) Balta Limanı Antlaşması

11. XIII. yüzyılda seramik sanatının merkezi olan şehir aşağıdakilerden hangisidir?

- A) Eskişehir
- B) Kütahya
- C) Afyon
- D) Uşak

12. Aşağıdakilerden hangisi Osmanlı döneminin klasik dönemi boyunca düşünce hayatında etkili olan başlıca kurumlardan biri değildir?

- A) Tekke
- B) Cami
- C) Medrese
- D) Rasathane

13. Türkçülüğü, laikliği ve meşrutiyeti savunan düşünce adamı aşağıdakilerden hangisidir?

- A) Ali Rıza Bey
- B) Münif Paşa
- C) Namık Kemal
- D) Ali Suavi

14. Aşağıdakilerden hangisi XIX. yüzyıl halk şairlerinden biri değildir?

- A) Dadaloğlu
- B) Öksüz Dede
- C) Seyrani
- D) Bayburtlu Zihni

15. Tarikat mensuplarının oturduğu yere verilen ad aşağıdakilerden hangisidir?

- A) Tekke
- B) Zaviye
- C) Dergah
- D) Cami

16. Aşağıdakilerden hangisi Tekke edebiyatının gelişmesinde katkısı olan tarikat mensuplarından biri değildir?

- A) Hacı Bektaş-ı Veli
- B) Fuzuli
- C) Pir Sultan Abdal
- D) Yunus Emre

17. İlk Osmanlı medresesi hangi padişah zamanında açılmıştır?

- A) Orhan Bey
- B) Fatih Sultan Mehmet
- C) II. Murat
- D) I. Ahmet

18. Aşağıdakilerden hangisi ordunun kurmay subay ihtiyacını karşılamak için 1845 yılında Harp Okulu bünyesinde açılmıştır?

- A) Mekteb-i Bahriye
- B) Mühendishane-i Bahr-i Hümayûn
- C) Erkân-ı Harbiye Sınıfı
- D) Mühendishane-i Berrî-i Hümayûn

19. XVII. yüzyılın en önemli eseri aşağıdakilerden hangisidir?

- A) Sultan Ahmet Camii
- B) Nuru Osmaniye Camii
- C) Süleymaniye Camii
- D) Selimiye Camii

20. Avrupa başkentlerinde sürekli elçiliklerin kurulmasını sağlayan Osmanlı padişahı aşağıdakilerden hangisidir?

- A) II. Mahmut
- B) Fatih Sultan Mehmet
- C) III. Selim
- D) III. Ahmet

1. Ich möchte an der Universität arbeiten, weil ich dort ..... kann.

**Welches Wort passt in die obige Lücke?**

**Cümlede boş bırakılan yeri aşağıdakilerden hangisi doğru şekilde tamamlar?**

- A) warten  
B) schreiben  
C) schlagen  
D) forschen

2. Wir arbeiten ..... einer Firma.

**Welches Wort passt in die obige Lücke?**

**Cümlede boş bırakılan yeri aşağıdakilerden hangisi doğru şekilde tamamlar?**

- A) zu  
B) aus  
C) bei  
D) ab

3. Die Schüler gehen ..... in die Grundschule.

**Welches ergänzt die Lücke im obigen Satz?**

**Verilen cümleyi aşağıdakilerden hangisi tamamlar?**

- A) von der fünften bis zur neunten Klasse  
B) vom Abitur bis zur Universität.  
C) von der ersten bis zur vierten Klasse  
D) vom Gymnasium auf die Gesamtschule.

4. Bu benim hayalim olurdu!

**Wie lautet der obige Satz auf Deutsch?**

**Verilen cümlenin Almancası aşağıdakilerden hangisidir?**

- A) Wir können davon träumen!  
B) Ich möchte auch schlafen und träumen!  
C) Das wäre mein Traum!  
D) Ich habe denselben Traum!

5. Wo kann ein Lehrer arbeiten?

**Welche Antwort passt zur obigen Frage?**

**Verilen sorunun cevabı aşağıdakilerden hangisidir?**

- A) Wir möchten auch studieren.  
B) Wir können im Labor arbeiten.  
C) Er wollte immer eine Biologin werden.  
D) Er kann an einer Universität arbeiten.

6. Schüler, ..... in eine Gesamtschule mit einer Oberstufe gehen, ..... das Abitur machen.

**Welche Wörter passen in die obigen Lücken?**

**Cümlede boş bırakılan yerleri aşağıdakilerden hangileri doğru şekilde tamamlar?**

- A) die / können  
B) der / kann  
C) das / kannst  
D) den / könnte

7. .... ich eine Hausfrau ....., würde ich viel Zeit haben.

**Welche Wörter passen in die obigen Lücken?**

**Cümlede boş bırakılan yerleri aşağıdakilerden hangileri doğru şekilde tamamlar?**

- A) Als / war  
B) Wenn / wäre  
C) Denn / wurde  
D) Dann / wird

8. Ich wollte meine Mutter zu meinen Großeltern bringen, aber ich kann nicht, .....

**Welches ergänzt die Lücke im obigen Satz?**

**Verilen cümleyi aşağıdakilerden hangisi tamamlar?**

- A) weil sie kein Benzin und Wasser brauchen.  
B) weil ich zum Arzt gehen muss.  
C) wenn wir in Zukunft modern aussehen wollen.  
D) wenn ihr Hausaufgaben macht.

9. Was bedeutet das Wort "belastend" auf Türkisch?

**"belastend" sözcüğünün Türkçesi aşağıdakilerden hangisidir?**

- A) heyecanlı  
B) yorucu  
C) sıkıcı  
D) sakinleştirici

10. Wie lautet das Singular von "Die Fahrräder"?

**"Die Fahrräder" sözcüğünün tekil hali aşağıdakilerden hangisidir?**

- A) Das Fahrrad  
B) Der Fahrrad  
C) Die Fahrrad  
D) Den Fahrrad

11. Sie / stolz / das / Hochrad / auf / ist / selbstgebaute

**Wie kann man mit den obigen Wortgruppen einen vollständigen Satz bilden?**

**Verilen sözcük gruplarıyla kurulabilecek en anlamlı ve doğru cümle aşağıdakilerden hangisidir?**

- A) Stolz sie ist auf Hochrad das selbstgebaute.  
B) Sie ist Stolz auf das selbstgebaute Hochrad.  
C) Hochrad sie ist auf das selbstgebaute Stolz.  
D) Auf das selbstgebaute sie ist Stolz Hochrad.

12. Ein Velotaxi braucht kein Benzin, ausserdem .....

**Welches ergänzt nicht die Lücke im obigen Satz?**

**Verilen cümleyi aşağıdakilerden hangisi tamamlamaz?**

- A) kann er ein Taxi bestellen.  
B) wird es meistens in der Innenstadt benutzt.  
C) ist es leise und es hat keine Abgase.  
D) sieht es sehr modern aus.

13. Was bedeutet das Gegenteil von "Ärger"?

**"Ärger" sözcüğünün zıt anlamlısı aşağıdakilerden hangisidir?**

- A) Spannung  
B) Folge  
C) Erinnerung  
D) Spaß

14. Ja, ich stimme zu, dass das Internet ein Müllhaufen ist.

**Welche Frage passt zur obigen Antwort?**

**Verilen cevabı gerektirecek soru aşağıdakilerden hangisidir?**

- A) Meinst du, dass wir heute ins Theater gehen können?  
B) Glaubst du, dass ich das im Internet finden kann?  
C) Wie findest du meinen Computer?  
D) Stimmst du zu, dass das Internet ein Müllhaufen ist?

15. Viele Städte, Burgen und Dörfer liegen ..... am Rhein.

**Welches Wort passt in die obige Lücke?**

**Cümlede boş bırakılan yeri aşağıdakilerden hangisi doğru şekilde tamamlar?**

- A) zeigt  
B) direkt  
C) hat  
D) fließt

16. Das Dorf Keskin liegt nördlich am Porsuk.

**Welche Frage passt zur obigen Antwort?**

**Verilen cevabı gerektirecek soru aşağıdakilerden hangisidir?**

- A) Wo liegt das Dorf Keskin?
- B) Welche Dörfer kennst du?
- C) Von welchem Dorf kommst du?
- D) Wie geht man zu deinem Dorf?

17. Ich möchte ..... Postkarte ..... dem berühmten Dichter.

**Welche Wörter passen in die obigen Lücken?**

**Cümlede boş bırakılan yerleri aşağıdakilerden hangileri doğru şekilde tamamlar?**

- A) ein / für
- B) einen / zu
- C) eine / von
- D) ein / aus

18. Von der Hotelterrasse .....

**Welches ergänzt die Lücke im obigen Satz?**

**Verilen cümleyi aşağıdakilerden hangisi tamamlar?**

- A) kannst du die Geschichte erzählen.
- B) ist es von uns vorgetragen.
- C) hat die Möglichkeit zu den Felsen zu gehen.
- D) hat man den schönsten Blick auf das Rheintal.

19. Durch welche Länder fließt der Rhein?

**Welche Antwort passt zur obigen Frage?**

**Verilen sorunun cevabı aşağıdakilerden hangisidir?**

- A) Der Rhein fließt durch Belgien, Deutschland und die Schweiz.
- B) Er kann durch Basel, Berlin und Bern fließen.
- C) Ja, der Rhein ist der längste Fluß in Deutschland.
- D) Der Rhein fließt nur durch Italien.

20. Die Landkarte zeigt einen kleinen Ausschnitt.

**Wie lautet der obige Satz auf Türkisch?**

**Verilen cümlenin Türkçesi aşağıdakilerden hangisidir?**

- A) Haritanın bir bölümü görülüyor.
- B) Bu bölüm haritanın üst kısmında.
- C) Harita küçük bir bölümü göstermektedir.
- D) Bu bölümün haritada yeri çok karışık.

1. I am ..... than my grandmother.

**Which of the following completes the sentence above?**

**Aşağıdakilerden hangisi yukarıdaki cümleyi doğru olarak tamamlar?**

- A) young  
B) younger  
C) the youngest  
D) the young

2. My family and I had a very big breakfast .....

**Which of the following completes the sentence above?**

**Aşağıdakilerden hangisi yukarıdaki cümleyi doğru olarak tamamlar?**

- A) two hours later  
B) tomorrow  
C) at the moment  
D) two hours ago

3. A: Are Uğur and Selim going to play in the team for the next match?  
B: Yes .....

**Which of the following completes the dialogue above?**

**Aşağıdakilerden hangisi yukarıdaki konuşmayı doğru olarak tamamlar?**

- A) he is  
B) they aren't  
C) they are  
D) we are

4. A: I can't speak English well. What should I do?  
B: .....

**Which of the following completes the dialogue above?**

**Aşağıdakilerden hangisi yukarıdaki konuşmayı doğru olarak tamamlar?**

- A) You should solve more problems  
B) You shouldn't watch films in English  
C) You should practise English as much as possible  
D) You should go to the supermarket

5. Mum: Patricia please tidy your wardrobe.  
Patricia: Don't worry mum. I have ..... tidied it, it's clean now.

**Which of the following completes the dialogue above?**

**Aşağıdakilerden hangisi yukarıdaki konuşmayı doğru olarak tamamlar?**

- A) ever  
B) already  
C) never  
D) yet

6. I was in Italy .....1976.

**Which of the following completes the sentence above?**

**Aşağıdakilerden hangisi yukarıdaki cümleyi doğru olarak tamamlar?**

- A) at  
B) on  
C) from  
D) in

7. My friends and I ..... the new James Bond film.

**Which of the following completes the sentence above?**

**Aşağıdakilerden hangisi yukarıdaki cümleyi doğru olarak tamamlar?**

- A) are going to see  
B) am going to see  
C) are going to clean  
D) is going to see

8. My twin brothers ..... born in Bursa in 2000.

**Which of the following completes the sentence above?**

**Aşağıdakilerden hangisi yukarıdaki cümleyi doğru olarak tamamlar?**

- A) were  
B) are  
C) is  
D) was

9. A: ..... has she had that car?  
B: For two months.

Which of the following completes the dialogue above?

Aşağıdakilerden hangisi yukarıdaki konuşmayı doğru olarak tamamlar?

- A) When  
B) How  
C) How long  
D) Why

10. A: ..... didn't you answer his phone call?  
B: Because he broke my heart.

Which of the following completes the dialogue above?

Aşağıdakilerden hangisi yukarıdaki konuşmayı doğru olarak tamamlar?

- A) Why  
B) What  
C) Where  
D) Who

11. She hasn't bought any books for a year.

Which of the following is the Turkish translation of the sentence above?

Aşağıdakilerden hangisi yukarıdaki cümlenin Türkçe karşılığıdır?

- A) Bir yıldır hiç kitap almadı.  
B) Bir yıldır hep kitap alıyor.  
C) Bir yıl hiç kitap almayacak.  
D) Bir yıl hiç kitap almamalı.

12. I can't find my glasses. I think I ..... them.

Which of the following completes the sentence above?

Aşağıdakilerden hangisi yukarıdaki cümleyi doğru olarak tamamlar?

- A) lost  
B) have lost  
C) have lose  
D) am losing

13. A: ..... you going to ..... in the same place next summer?  
B: Yes, I am.

Which of the following completes the dialogue above?

Aşağıdakilerden hangisi yukarıdaki konuşmayı doğru olarak tamamlar?

- A) Are/working  
B) Do/work  
C) Are/work  
D) Did/work

14. The Queen is the ..... person in England.

Which of the following completes the sentence above?

Aşağıdakilerden hangisi yukarıdaki cümleyi doğru olarak tamamlar?

- A) rich  
B) richer  
C) richest  
D) much rich

15. At five o'clock yesterday afternoon we ..... with some friends.

Which of the following completes the sentence above?

Aşağıdakilerden hangisi yukarıdaki cümleyi doğru olarak tamamlar?

- A) are drinking tea  
B) were drinking tea  
C) have drunk tea  
D) did drank tea

16. He walked through the forest.

Which of the following is the negative form of the sentence above?

Aşağıdakilerden hangisi yukarıdaki cümlenin olumsuz biçimidir?

- A) He wasn't walk through the forest.  
B) He didn't walked through the forest.  
C) He isn't walked through the forest.  
D) He didn't walk through the forest.



17. While she was having a shower, somebody ..... her.

**Which of the following completes the sentence above?**

**Aşağıdakilerden hangisi yukarıdaki cümleyi doğru olarak tamamlar?**

- A) was phoned
- B) is phoning
- C) phones
- D) phoned

18. I ..... at school yesterday. I was ill at home.

**Which of the following completes the sentence above?**

**Aşağıdakilerden hangisi yukarıdaki cümleyi doğru olarak tamamlar?**

- A) am not
- B) wasn't
- C) was
- D) am

19. A: How long have your parents been married?

B: ..... 1970.

**Which of the following completes the dialogue above?**

**Aşağıdakilerden hangisi yukarıdaki konuşmayı doğru olarak tamamlar?**

- A) Since
- B) At
- C) For
- D) In

20. They were singing happily ..... the earthquake happened.

**Which of the following completes the sentence above?**

**Aşağıdakilerden hangisi yukarıdaki cümleyi doğru olarak tamamlar?**

- A) while
- B) by the time
- C) already
- D) when

1. Il peut pleuvoir; n'oubliez pas ..... prendre votre parapluie.

**Choisissez le mot qui convient.**

**Cümledeki boşluğu aşağıdakilerden hangisi doğru şekilde tamamlar?**

- A) en  
B) sans  
C) à  
D) de

2. fait / choix / avez / votre / vous?  
I II III IV V

**Mettez dans le bon ordre.**

**Yukarıdaki kelimelerin anlamlı ve kurallı bir cümle oluşturan sırası aşağıdakilerin hangisinde doğru olarak verilmiştir?**

- A) V, III, I, IV, II  
B) V, IV, II, III, I  
C) III, IV, V, I, II  
D) III, I, V, IV, II

3. - Demain, nous allons partir en Espagne.  
- .....

**Choisissez l'expression qui convient.**

**Yukarıdaki konuşmada boş bırakılan yeri aşağıdakilerden hangisi doğru şekilde tamamlar?**

- A) Bon appétit!  
B) Bonne anniversaire!  
C) Bon voyage!  
D) Bonne nuit!

4. ...., elles sont allées au musée du Louvre.

**Choisissez le mot qui convient.**

**Cümledeki boşluğu aşağıdakilerden hangisi doğru şekilde tamamlar?**

- A) Hier  
B) Chacun  
C) Demain  
D) Quand

5. .... pense à soi-même.

**Choisissez le mot qui convient.**

**Cümledeki boşluğu aşağıdakilerden hangisi doğru şekilde tamamlar?**

- A) Chacun  
B) Comme  
C) Qui  
D) Toi

6. .... j'ai le temps, je peux vous aider.

**Choisissez le mot qui convient.**

**Cümledeki boşluğu aşağıdakilerden hangisi doğru şekilde tamamlar?**

- A) Pour  
B) Contre  
C) Si  
D) À cause de

7. Tu ne penses pas y aller?

**Choisissez la traduction qui convient.**

**Yukarıdaki cümlenin Türkçe karşılığı aşağıdakilerden hangisidir?**

- A) Oraya gitmeyi düşünmez misin?  
B) Oraya gitmeyi düşünüyor musun?  
C) Orada ne kadar kalacaksın?  
D) Oraya nasıl gideceksin?

8. Elle est en retard ..... un accident sur la route.

**Choisissez le mot qui convient.**

**Cümledeki boşluğu aşağıdakilerden hangisi doğru şekilde tamamlar?**

- A) à l'absence d'  
B) pourquoi  
C) qui  
D) à cause d'

9. C'est une ville .....; je l'aime beaucoup.

**Choisissez le mot qui convient.**

**Cümledeki boşluğu aşağıdakilerden hangisi doğru şekilde tamamlar?**

- A) gentil  
B) déçu  
C) intelligent  
D) tranquille

10. Connaissez-vous ce musicien ..... est allemand?

**Choisissez le mot qui convient.**

**Cümledeki boşluğu aşağıdakilerden hangisi doğru şekilde tamamlar?**

- A) donc  
B) qui  
C) où  
D) quel

11. trop / je / fatigué / suis  
I II III IV

**Mettez dans le bon ordre.**

**Yukarıdaki kelimelerin kurallı ve anlamlı bir bütün oluşturan dizilişi aşağıdakilerin hangisinde doğru olarak verilmiştir?**

- A) I, III, II, V  
B) II, I, III, IV  
C) II, III, I, IV  
D) II, IV, I, III

12. Le mois prochain, nous ..... en France.

**Choisissez le mot qui convient.**

**Cümledeki boşluğu aşağıdakilerden hangisi doğru şekilde tamamlar?**

- A) irons  
B) ira  
C) allez  
D) avons

13. Il est en section scientifique ..... il donne plus d'importance aux Maths.

**Choisissez le mot qui convient.**

**Cümledeki boşluğu aşağıdakilerden hangisi doğru şekilde tamamlar?**

- A) trop  
B) ou  
C) donc  
D) bon

14. Elle n'aime pas la campagne. Elle est ..... la ville.

**Choisissez le mot qui convient.**

**Cümledeki boşluğu aşağıdakilerden hangisi doğru şekilde tamamlar?**

- A) contre  
B) pour  
C) sur  
D) par

15. - Il vit en Angleterre?  
- Oui, il ..... travaille.

**Choisissez le mot qui convient.**

**Yukarıdaki konuşmada boş bırakılan yeri aşağıdakilerden hangisi doğru şekilde tamamlar?**

- A) en  
B) dans  
C) le  
D) y

16. La semaine prochaine, il ..... au Portugal.

**Choisissez le mot qui convient.**

**Cümledeki boşluğu aşağıdakilerden hangisi doğru şekilde tamamlar?**

- A) a  
B) était  
C) sera  
D) est allé

17. Elle a invitée ses amis pour ..... anniversaire.

**Choisissez le mot qui convient.**

**Cümledeki boşluğu aşağıdakilerden hangisi doğru şekilde tamamlar?**

- A) ses  
B) ta  
C) son  
D) les

18. Mon ami a de mauvaises notes en littéraires. Il ..... dire la vérité à ses parents.

**Choisissez le mot qui convient.**

**Cümledeki boşluğu aşağıdakilerden hangisi doğru şekilde tamamlar?**

- A) obligé  
B) hésite  
C) pardonnez  
D) encouragement

19. Peux-tu ..... présenter s'il te plait?

**Choisissez le mot qui convient.**

**Cümledeki boşluğu aşağıdakilerden hangisi doğru şekilde tamamlar?**

- A) vous  
B) te  
C) nous  
D) leur

20. - Qu'est-ce que vous préférez? Le cinéma .....  
le théâtre?  
- Le théâtre, bien sûr.

**Choisissez le mot qui convient.**

**Yukarıdaki konuşmada boş bırakılan yeri aşağıdakilerden hangisi doğru şekilde tamamlar?**

- A) avec  
B) ou  
C) que  
D) ni

## 1. Söylevde amaç aşağıdakilerden hangisidir?

- A) Dinleyenlerin kafasında soru işareti yaratmaktır.
- B) Dinleyenleri kendi düşüncesinden yana çekmektir.
- C) Dinleyenlerin mutlu olmasını sağlamaktır.
- D) Dinleyenlere hoşça vakit geçirtmektir.

2. Aşağıdaki cümlelerden hangisinde yapım eki almış bir sözcük yoktur?

- A) Bu mevsim de böyle gider.
- B) Bu belirsizlik bitsin artık.
- C) Mavi kalemlik senin olsun.
- D) Yorgunluğum kalmadı.

3. Aşağıdaki sözcük ve sözcüğün yapısı eşleştirmelerinden hangisi yanlıştır?

- A) Boşluk-basit sözcük
- B) İmambayıldı-birleşik sözcük
- C) Bilgi-türemiş sözcük
- D) Masada-basit sözcük

4. Aşağıdaki sözcüklerden hangisi yapı bakımından diğerlerinden farklıdır?

- A) Karekök
- B) Kalemin
- C) Elmayı
- D) Yarınlar

5. Aşağıdaki sözcüklerden hangisi yapı bakımından diğerlerinden farklıdır?

- A) Bulgu
- B) Algı
- C) Oldu
- D) Sorgu

## 6. Söz ve sesle birleşen bir sanat olarak nitelendirilen, topluluk önünde yapılan etkili ve inandırıcı konuşmalara ne ad verilir?

- A) Mülakat
- B) Mesnevi
- C) Monografi
- D) Hitabet

## 7. Aşağıdaki cümlelerden hangisinde altı çizili sözcük yapı bakımından diğerlerinden farklıdır?

- A) Elbisesine çıtçıt diktirmiş.
- B) Nedendir bilinmez.
- C) Kaygısızın biriydi.
- D) Öyle yorgunum ki.

8. Röportajın özelliklerine ilişkin aşağıdaki ifadelerden hangisi yanlıştır?

- A) Röportaj, tek bir yazıdan da oluşabilir, aynı konuda dizi yazı da olabilir.
- B) Röportajcı geniş bir inceleme yerine yalnızca gördüklerini ve izlenimlerini yazıya döker.
- C) Röportajlarda öğretici, açıklayıcı, betimleyici vb. anlatım türlerinden yararlanılır.
- D) Röportajlar okuyucunun dikkatini çekecek ve onları bazı konularda düşündürecek biçimde düzenlenir.

9. Aşağıdaki sözcük ve sözcüğün yapısı eşleştirmelerinden hangisi yanlıştır?

- A) Tasarı-basit sözcük
- B) Bilgisayar-birleşik sözcük
- C) Bilinç-türemiş sözcük
- D) Bozuk-türemiş sözcük

10. Aşağıdaki sözcüklerden hangisi yapı bakımından diğerlerinden farklıdır?

- A) Geldi
- B) Kapı
- C) Evden
- D) Yapısal

11. Aşağıdakilerden hangisi konularına göre röportaj çeşitlerinden biri değildir?

- A) Eşyayı konu alan
- B) İnsanı konu alan
- C) Bir yeri konu alan
- D) Olayı konu alan

12. Söylevle ilgili aşağıdaki ifadelerden hangisi yanlıştır?

- A) Cumhuriyet döneminin en büyük konuşmacısı Mustafa Kemal Atatürk'tür.
- B) Söylev türünün ilk örnekleri Eski Yunan ve Roma dönemlerinde görülür.
- C) Söylevciye eskiden hatip adı verilirdi.
- D) Görüşme, söylevin diğer adıdır.

13. Aşağıdaki cümlelerden hangisinde birleşik sözcük yoktur?

- A) Bahçeye yaklaşınca nasıl da tüter hanımelleri.
- B) Bu cepkeni Rumeli'den ninem getirmiş.
- C) İlgisizlikten bütün bu kavgacılığı.
- D) Bu çekyatı atma vakti geldi.

14. Aşağıdakilerden hangisi hem yapım hem çekim eki almıştır?

- A) Kargalar
- B) Sözel
- C) Bilincin
- D) Toplumsal

15. Aşağıdakilerden hangisi sadece çekim eki almıştır?

- A) Konuşmacının
- B) Sonsuzlukta
- C) Sözlerde
- D) Görgüsüz

16. Aşağıdaki sözcüklerden hangisi yapı bakımından diğerlerinden farklıdır?

- A) Kalemlikler
- B) Sütçüden
- C) Gittiler
- D) Parmaklıklar

17. Aşağıdakilerden hangisinde birleşik sözcük yoktur?

- A) Alerjimi bilmez gibi kuşburnu almış bana.
- B) Tatile güneşli bir yerlere gitmek istiyordum.
- C) Bozyaplar, en sevdiğim oyuncaklardı.
- D) Bu yaz Gaziantep'e gideceğim.

18. Aşağıdaki sözcüklerden hangisi yapı bakımından diğerlerinden farklıdır?

- A) Gülveren
- B) Aslanağzı
- C) Kapkaç
- D) Sınırsızca

19. Aşağıdakilerden hangisi mülakatın özelliklerinden biri değildir?

- A) Mülakatı hazırlayan, aldığı cevapları yazıya dönüştürürken aynen aktarır, yorum katmaz.
- B) Açık ve yalın bir anlatımdan kaçınmalı, karmaşık ve ağır cümleler tercih edilmelidir.
- C) Alanında tanınmış kişilerle yapılır.
- D) Genelde söyleşmeye bağlı anlatım türü kullanılır.

20. Aşağıdakilerden hangisi hem yapım hem de çekim eki almıştır?

- A) Sorumsuzluk
- B) İşsizler
- C) Sabırsız
- D) Bilinçli

1. ...., würde ich ein Auto erfinden, daß ohne Benzin läuft.

**Welcher Satz ergänzt die obige Lücke?**

**Verilen cümleyi aşağıdakilerden hangisi tamamlar?**

- A) Wenn ich in die Schule gehe  
B) Als ich noch klein war  
C) Als meine Mutter einkaufen ging  
D) Wenn ich eine Erfinderin wäre

2. Die Schüler gehen von der fünften bis zur dreizehnten Klasse .....

**Welches passt in die obige Lücke?**

**Cümlede boş bırakılan yeri aşağıdakilerden hangisi doğru şekilde tamamlar?**

- A) in die Gesamtschule  
B) auf das Gymnasium  
C) in die Grundschule  
D) an eine Universität

3. A: .....  
B: Sie können einen Beruf erlernen!  
A: Können sie auch aufs Gymnasium gehen?  
B: Ja, wenn sie wollen, können sie auch aufs Gymnasium gehen!

**Welcher Satz ergänzt den obigen Dialog?**

**Verilen karşılıklı konuşmayı aşağıdakilerden hangisi tamamlar?**

- A) Was machen die Schüler, die eine Realschule besucht haben?  
B) Auf welche Schule gehst du?  
C) Was willst du nach dem Abitur?  
D) An welche Universität willst du dich anmelden?

4. Weitere Informationen findet ihr im Internet!

**Wie lautet der obige Satz auf Türkisch?**

**Verilen cümlenin Türkçesi aşağıdakilerden hangisidir?**

- A) İnternetsizde arama yapabilirsiniz!  
B) İnternette başka bilgiler bulabilirsiniz!  
C) Diğer bilgileri internetten bulduk!  
D) Diğer bilgilere ancak internet şifresiyle ulaşabilirsiniz!

5. Wer ist Albert Einstein?

**Welche Antwort passt zur obigen Frage?**

**Verilen sorunun cevabı aşağıdakilerden hangisidir?**

- A) Er ist ein weltberühmter genialer Wissenschaftler.  
B) Er ist unser neuer Lehrer an der Schule.  
C) Er ist ein berühmter Ingenieur.  
D) Er kommt aus Spanien.

6. Das Einsteinjahr / Der Pysiker / Der Querdenker / Der Geologe

**Welches Wort passt nicht zu den anderen in der obigen Wortgruppe?**

**Verilen sözcük grubuna uymayan aşağıdakilerden hangisidir?**

- A) Das Einsteinjahr  
B) Der Pysiker  
C) Der Querdenker  
D) Der Geologe

7. Ein / arbeitet / Geologe / in / Natur / der

**Wie kann man mit den obigen Wortgruppen einen sinnvollen und richtigen Satz bilden?**

**Verilen sözcük gruplarıyla kurulabilecek en anlamlı ve doğru cümle aşağıdakilerden hangisidir?**

- A) Der Natur ein Geologe arbeitet in.  
B) Arbeitet ein der Geologe in Natur.  
C) Ein Geologe arbeitet in der Natur.  
D) In ein Geologe der Natur arbeitet.

8. Was bedeutet das Gegenteil von "die Spannung"?

**"die Spannung " sözcüğünün zıt anlamlısı aşağıdakilerden hangisidir?**

- A) Die Aufregung  
B) Der Ärger  
C) Die Entspannung  
D) Die Zufriedenheit

9. In der Stadt gibt es viel Lärm und Abgas.

**Wie lautet der obige Satz in der Pluralform?**

**Verilen cümlelerin çoğul hali aşağıdakilerden hangisidir?**

- A) In den Stadts gab es viele Lärme und Abgasen.  
 B) In den Städten gibt es viel Lärm und Abgase.  
 C) In der Städten hat es viele Lärme und Abgases gegeben.  
 D) In dieser Stadt gibt es vieler Lärmer und Abgasens.

10. .... braucht kein Benzin, es braucht nur menschliche Energie.

**Welches Wort passt in die obige Lücke?**

**Cümlede boş bırakılan yeri aşağıdakilerden hangisi doğru şekilde tamamlar?**

- A) Ein Flugzeug  
 B) Ein Lastwagen  
 C) Ein Zug  
 D) Ein Velotaxi

11. Das Computerzeitalter / Das Internet / Die Suchmaschine / Das Theater

**Welches Wort passt nicht zu den anderen in der obigen Wortgruppe?**

**Verilen sözcük grubuna uymayan aşağıdakilerden hangisidir?**

- A) Das Theater  
 B) Das Computerzeitalter  
 C) Das Internet  
 D) Die Suchmaschine

12. Das ..... Hochrad findet in einigen europäischen Ländern immer ..... Freude.

**Welche Wörter passen in die obigen Lücken?**

**Cümlede boş bırakılan yerleri aşağıdakilerden hangileri doğru şekilde tamamlar?**

- A) kleine / sonst  
 B) andere / denkt  
 C) folgende / bietet  
 D) alte / noch

13. Warum ist ein Velotaxi im Sommer wunderbar für die Besucher?

**Welche Antwort passt zur obigen Frage?**

**Verilen sorunun cevabı aşağıdakilerden hangisidir?**

- A) Weil das Rennen vielen Besuchern Spaß macht.  
 B) Damit die Urlauber sich immer aufregen können.  
 C) Weil sich die Besucher alle Sehenswürdigkeiten in Ruhe anschauen können.  
 D) Damit sie sich kennenlernen können.

14. Warum fahren manche Leute immer noch mit einem Hochrad?

**Welche Antwort passt nicht zur obigen Frage?**

**Aşağıdakilerden hangisi verilen sorunun cevabı olamaz?**

- A) Um die Hausaufgaben zu machen.  
 B) Weil es ihnen Spaß macht.  
 C) Um sich zu entspannen.  
 D) Weil es aufregend ist.

15. Die Stadt Bursa liegt westlich von Eskişehir.

**Welche Frage passt zur obigen Antwort?**

**Verilen cevabı gerektirecek soru aşağıdakilerden hangisidir?**

- A) Hast du Freunde aus Bursa?
- B) Wie gehst du nach Bursa?
- C) Wo liegt die Stadt Bursa?
- D) Gibt es in Bursa viele Moscheen?

16. Was bedeutet "die Quelle" auf Türkisch?

**"die Quelle" sözcüğünün Türkçesi aşağıdakilerden hangisidir?**

- A) Kale
- B) Köy
- C) Kaynak
- D) Kule

17. Heinrich Heine .....

**Welcher Satz ergänzt die obige Lücke?**

**Verilen cümleyi aşağıdakilerden hangisi tamamlar?**

- A) ist der bekannteste Sänger in Deutschland.
- B) ist ein berühmter deutscher Dichter.
- C) heißt das kleine Dorf an der Mündung.
- D) heißt der längste Fluß in Deutschland.

18. Die Landkarte ..... nur einen kleinen Ausschnitt.

**Welches Wort passt in die obige Lücke?**

**Cümlede boş bırakılan yeri aşağıdakilerden hangisi doğru şekilde tamamlar?**

- A) schreibt
- B) fließt
- C) liegt
- D) zeigt

19. Ren, Almanya'nın en uzun nehridir.

**Wie lautet der obige Satz auf Deutsch?**

**Verilen cümlenin Almancası aşağıdakilerden hangisidir?**

- A) Der Rhein ist der längste Fluss Deutschlands.
- B) Der Rhein ist in Deutschland sehr berühmt.
- C) Die Mündung vom Rhein ist am längsten.
- D) Die meisten Dörfer Deutschlands liegen direkt am Rhein.

20. .... die Sage von der schönen Loreley.

**Welches ergänzt die Lücke im obigen Satz?**

**Verilen cümleyi aşağıdakilerden hangisi tamamlar?**

- A) Auf dem Wegweiser
- B) Das Lied erzählt
- C) Für die Geschichte
- D) Von der Burg



1. While Öznur was having a shower, somebody ..... her.

Which of the following completes the sentence above?

Aşağıdakilerden hangisi yukarıdaki cümleyi doğru olarak tamamlar?

- A) was phoned  
B) phoned  
C) is phoning  
D) phones

2. Haluk: ..... has she had that car?  
Pelin: For two months.

Which of the following completes the dialogue above?

Aşağıdakilerden hangisi yukarıdaki konuşmayı doğru olarak tamamlar?

- A) When  
B) How  
C) How long  
D) Why

3. Polat: Are Caner and Serhat going to play in the team for the next match?  
Ahmet: Yes .....

Which of the following completes the dialogue above?

Aşağıdakilerden hangisi yukarıdaki konuşmayı doğru olarak tamamlar?

- A) they are  
B) he is  
C) they aren't  
D) we are

4. My twin sisters ..... born in Muş in 2010.

Which of the following completes the sentence above?

Aşağıdakilerden hangisi yukarıdaki cümleyi doğru olarak tamamlar?

- A) are  
B) is  
C) was  
D) were

5. İsmet: I can't speak English well. What should I do?  
Sezgin: .....

Which of the following completes the dialogue above?

Aşağıdakilerden hangisi yukarıdaki konuşmayı doğru olarak tamamlar?

- A) You should solve more problems  
B) You should practise English as much as possible  
C) You shouldn't watch films in English  
D) You should go to the supermarket

6. My girlfriends and I ..... the new James Bond film.

Which of the following completes the sentence above?

Aşağıdakilerden hangisi yukarıdaki cümleyi doğru olarak tamamlar?

- A) am going to see  
B) are going to clean  
C) is going to see  
D) are going to see

7. I can't find my keys. I think I ..... them.

Which of the following completes the sentence above?

Aşağıdakilerden hangisi yukarıdaki cümleyi doğru olarak tamamlar?

- A) lost  
B) have lose  
C) have lost  
D) am losing

8. Mum: Azra please tidy your wardrobe.  
Azra: Don't worry mum. I have .....  
tidied it, it's clean now.

**Which of the following completes the dialogue above?**

**Aşağıdakilerden hangisi yukarıdaki konuşmayı doğru olarak tamamlar?**

- A) already
- B) ever
- C) never
- D) yet

9. The Queen is the ..... person in England.

**Which of the following completes the sentence above?**

**Aşağıdakilerden hangisi yukarıdaki cümleyi doğru olarak tamamlar?**

- A) rich
- B) richer
- C) richest
- D) much rich

10. Naz: ..... didn't you answer his phone call?  
Nil: Because he broke my heart.

**Which of the following completes the dialogue above?**

**Aşağıdakilerden hangisi yukarıdaki konuşmayı doğru olarak tamamlar?**

- A) What
- B) Why
- C) Where
- D) Who

11. My family and I had a very big breakfast .....

**Which of the following completes the sentence above?**

**Aşağıdakilerden hangisi yukarıdaki cümleyi doğru olarak tamamlar?**

- A) three hours ago
- B) four hours later
- C) tomorrow
- D) at the moment

12. Sırrı: ..... you going to ..... in the same place next summer?  
Nazlı: Yes, I am.

**Which of the following completes the dialogue above?**

**Aşağıdakilerden hangisi yukarıdaki konuşmayı doğru olarak tamamlar?**

- A) Are/work
- B) Are/working
- C) Do/work
- D) Did/work

13. At six o'clock yesterday afternoon we ..... with some friends.

**Which of the following completes the sentence above?**

**Aşağıdakilerden hangisi yukarıdaki cümleyi doğru olarak tamamlar?**

- A) are drinking coffee
- B) have drunk coffee
- C) did drank coffee
- D) were drinking coffee

14. I was in Diyarbakır .....1996.

**Which of the following completes the sentence above?**

**Aşağıdakilerden hangisi yukarıdaki cümleyi doğru olarak tamamlar?**

- A) at
- B) in
- C) on
- D) from

15. Kıvanç and Kenan were singing happily ..... the earthquake happened.

**Which of the following completes the sentence above?**

**Aşağıdakilerden hangisi yukarıdaki cümleyi doğru olarak tamamlar?**

- A) when
- B) while
- C) by the time
- D) already

16. She walked through the forest.

Which of the following is the negative form of the sentence above?

Aşağıdakilerden hangisi yukarıdaki cümlenin olumsuz biçimidir?

- A) She wasn't walk through the forest.
- B) She didn't walk through the forest.
- C) She didn't walked through the forest.
- D) She isn't walked through the forest.

17. A: How long have your parents been married?

B: ..... 1970.

Which of the following completes the dialogue above?

Aşağıdakilerden hangisi yukarıdaki konuşmayı doğru olarak tamamlar?

- A) At
- B) For
- C) Since
- D) In

18. I ..... at work yesterday. I was ill at home.

Which of the following completes the sentence above?

Aşağıdakilerden hangisi yukarıdaki cümleyi doğru olarak tamamlar?

- A) am not
- B) was
- C) wasn't
- D) am

19. Ezgi hasn't bought any books for a year.

Which of the following is the Turkish translation of the sentence above?

Aşağıdakilerden hangisi yukarıdaki cümlenin Türkçe karşılığıdır?

- A) Ezgi bir yıldır hep kitap alıyor.
- B) Ezgi bir yıl hiç kitap almayacak.
- C) Ezgi bir yıl hiç kitap almamalı.
- D) Ezgi bir yıldır hiç kitap almadı.

20. I am ..... than my grandmother.

Which of the following completes the sentence above?

Aşağıdakilerden hangisi yukarıdaki cümleyi doğru olarak tamamlar?

- A) young
- B) the youngest
- C) the young
- D) younger

## SEÇMELİ FRANSIZCA 8

2013 II.DÖNEM 0105-A

A

1. Elle lit 2 livres ..... mois.

**Choisissez le mot qui convient.**

**Cümledeki boşluğu aşağıdakilerden hangisi doğru şekilde tamamlar?**

- A) dans  
B) chacune  
C) par  
D) la

2. te / tôt / devrais / tu / coucher  
I II III IV V

**Mettez dans le bon ordre.**

**Yukarıdaki kelimelerin kurallı ve anlamlı bir bütün oluşturan dizilişi aşağıdakilerin hangisinde doğru olarak verilmiştir?**

- A) IV, I, V, III, II  
B) IV, III, I, V, II  
C) V, IV, I, III, II  
D) V, II, IV, I, III

3. - Tu ne prends pas de boisson?  
- Non, merci, je ne(n') ..... prends pas.

**Choisissez le mot qui convient.**

**Yukarıdaki konuşmada boş bırakılan yeri aşağıdakilerden hangisi doğru şekilde tamamlar?**

- A) y  
B) les  
C) jamais  
D) en

4. Si vous avez soif, ..... de l'eau.

**Choisissez le mot qui convient.**

**Cümledeki boşluğu aşağıdakilerden hangisi doğru şekilde tamamlar?**

- A) mangez  
B) soyez  
C) buvez  
D) oubliez

5. Le serveur : Vous avez fait ..... choix?  
Le client : Oui, je prends un café au lait.

**Choisissez le mot qui convient.**

**Yukarıdaki konuşmada boş bırakılan yeri aşağıdakilerden hangisi doğru şekilde tamamlar?**

- A) ton  
B) nos  
C) vous  
D) votre

6. Il peut pleuvoir; n'oubliez pas ..... prendre votre parapluie.

**Choisissez le mot qui convient.**

**Cümledeki boşluğu aşağıdakilerden hangisi doğru şekilde tamamlar?**

- A) de  
B) en  
C) qui  
D) à

7. - .....  
- Vendredi prochain.

**Choisissez la question qui convient.**

**Yukarıdaki konuşmada cevabı gerektiren soru aşağıdakilerden hangisidir?**

- A) Nous sommes quel jour?  
B) Vous venez d'où?  
C) Quand vous partez?  
D) Vous allez où?

8. .... pense à soi-même.

**Choisissez le mot qui convient.**

**Cümledeki boşluğu aşağıdakilerden hangisi doğru şekilde tamamlar?**

- A) Comme  
B) Qui  
C) Toi  
D) Chacun

9. C'est une ville .....; je l'aime beaucoup.

**Choisissez le mot qui convient.**

**Cümledeki boşluğu aşağıdakilerden hangisi doğru şekilde tamamlar?**

- A) gentil  
B) intelligent  
C) tranquille  
D) patient

10. La noir est une couleur ..... je préfère.

**Choisissez le mot qui convient.**

**Cümledeki boşluğu aşağıdakilerden hangisi doğru şekilde tamamlar?**

- A) qui  
B) où  
C) par  
D) que

11. .... de litres d'eau vous buvez par jour?

**Choisissez le mot qui convient.**

**Cümledeki boşluğu aşağıdakilerden hangisi doğru şekilde tamamlar?**

- A) Chacun
- B) Combien
- C) Dans
- D) Est-ce que

12. Nous avons des amis ..... habitent en Turquie.

**Choisissez le mot qui convient.**

**Cümledeki boşluğu aşağıdakilerden hangisi doğru şekilde tamamlar?**

- A) qui
- B) que
- C) où
- D) dans

13. Si j'ai beaucoup d'argent, je(j') ..... faire un tour de monde.

**Choisissez le mot qui convient.**

**Cümledeki boşluğu aşağıdakilerden hangisi doğru şekilde tamamlar?**

- A) suis allé
- B) vais
- C) allais
- D) en

14. Je suis ..... le théâtre au cinéma.

**Choisissez le mot qui convient.**

**Cümledeki boşluğu aşağıdakilerden hangisi doğru şekilde tamamlar?**

- A) dans
- B) du
- C) qui
- D) pour

15. - Le fondateur de la Turquie, c'est ..... ?  
- C'est Atatürk.

**Choisissez le mot qui convient.**

**Yukarıdaki konuşmada boş bırakılan yeri aşağıdakilerden hangisi doğru şekilde tamamlar?**

- A) quand
- B) qui
- C) comment
- D) où

16. Marie est contre la vie en ville.

**Choisissez la traduction qui convient.**

**Yukarıdaki cümlelerin Türkçe karşılığı aşağıdakilerden hangisidir?**

- A) Marie şehir hayatına karşıdır.
- B) Marie şehirde yaşamak istiyor.
- C) Marie için şehir hayatı zordur.
- D) Marie oturduğu şehri çok seviyor.

17. Il va aller chercher le livre ..... son professeur demande.

**Choisissez le mot qui convient.**

**Cümledeki boşluğu aşağıdakilerden hangisi doğru şekilde tamamlar?**

- A) qui
- B) où
- C) que
- D) sur

18. La cliente : .....

Le serveur : Tout de suite, Madame.

**Choisissez la réplique qui convient.**

**Yukarıdaki konuşmada boş bırakılan yeri aşağıdakilerden hangisi doğru şekilde tamamlar?**

- A) Monsieur, l'addition s'il vous plait!
- B) Vous voulez commander quelque chose?
- C) Chacun paie sa part?
- D) C'est trop pour moi!

19. Elle est en retard ..... un accident sur la route.

**Choisissez le mot qui convient.**

**Cümledeki boşluğu aşağıdakilerden hangisi doğru şekilde tamamlar?**

- A) à l'absence d'
- B) à cause d'
- C) pourquoi
- D) si

20. Je voudrais ..... deux places pour Avatar.

**Choisissez le mot qui convient.**

**Cümledeki boşluğu aşağıdakilerden hangisi doğru şekilde tamamlar?**

- A) réserver
- B) souvenir
- C) dîner
- D) aller

1. Aşağıdakilerden hangisi absürd tiyatronun temsilcilerinden biri değildir?

- A) Sophokles
- B) İonesco
- C) Arthur Adamov
- D) Samel Beckett

2. Aşağıdakilerden hangisi roman sanatının ilk başarılı örneği sayılır?

- A) Don Kişot
- B) Uçurum Halkı
- C) Moby Dick
- D) Vahşetin Çağrısı

3. Türk masallarını derleme, yayımlama ve inceleme çalışmaları ne zaman yoğunlaşmıştır?

- A) Cumhuriyet
- B) Tanzimat
- C) Meşrutiyet
- D) Fetret

4. Aşağıdakilerden hangisi Maupassant tarzı hikayenin özelliklerinden biri değildir?

- A) Hikayelerin büyük ölçüde olay örgüsü üzerine kurulması
- B) Tamamen okuyucunun hayal gücüne bırakılması
- C) Hayatın kusurlu ve üzüntülü taraflarının öne çıkarılması
- D) Çok belirgin bir giriş, gelişme ve sonuç bölümlerini içermesi

5. Biyografi dilimizde hangi sözcükle karşılanmaktadır?

- A) Anı
- B) Deneme
- C) Yaşam öyküsü
- D) Monografi

6. 1950'li yıllardan günümüze kadar Türk romanının gelişimine ilişkin aşağıda verilen bilgilerden hangisi yanlıştır?

- A) Köy enstitülerinden yetişen yazarlar köy ve kasaba yaşamı ve sorunlarını konu dile getirmişlerdir.
- B) 1950 sonrası Türk romanında romantizm egemendir.
- C) Anadolu'yu işleyen romanların yanı sıra Oğuz Atay, Yusuf Atılgan gibi yazarlar bireyin sorunlarından yola çıkan eserler yazmışlardır.
- D) 1970'lerde romanda ağırlık şehirlere kaymıştır.

7. Kökeni kesin bilinmemekle birlikte sözlü gelenekten derlendiği sanılan ilk Türkçe masal kitabı aşağıdakilerden hangisidir?

- A) Mehlika Sultan
- B) Mantıku't Tayr
- C) Billur Köşk Masalları
- D) Keloğlan ve Kırk Haramiler

8. Aşağıdakilerden hangisi orta oyununun tarih boyunca aldığı isimlerden biri değildir?

- A) Kol oyunu
- B) Zuhurî
- C) Meydan oyunu
- D) Hayal oyunu

9. "Gülünç, bayağı, korkunç olaylarla acıklı, ince ve güzel olayları içi çe anlatan bir tiyatro türüdür. Nazım ve nesir şeklinde yazılabilir. Amacı seyirciye gerçeği göstermektir."

Yukarıda anlatılan tiyatro türü aşağıdakilerden hangisidir?

- A) Epik
- B) Absürd
- C) Tragedya
- D) Dram

10. Aşağıdakilerden hangisi Karagöz oyunlarındaki tiplerden biri değildir?

- A) Banker
- B) Zenne
- C) Tuzsuz Deli Bekir
- D) Çelebi

11. Moliere'in "Cimri" eseri hangi komedyadır türünün örneğidir?

- A) Karakter komedyası
- B) Töre komedyası
- C) Yergi komedyası
- D) Entrika komedyası

12. Aşağıdakilerden hangisi Türk tiyatrosundaki başarılı epik deneme örneğidir?

- A) Emekli
- B) Keşanlı Ali Destanı
- C) Müfettiş
- D) Yangın Yerinde Orkideler

13. "Müfettiş" oyunun yazarı aşağıdakilerden hangisidir?

- A) Gogol
- B) Moliere
- C) Brecht
- D) Shakespeare

14. Aşağıdakilerden hangisi tragedyaadaki üç birlik kuralının öğelerinden biri değildir?

- A) Zaman birliği
- B) Karakter birliği
- C) Yer birliği
- D) Olay birliği

15. İçinde "Fare ile Deve" hikâyesi gibi pek çok hikayenin yer aldığı ve çeşitli karakterlerdeki insanları simgeleyen kahramanlara yer verilen Mesnevi kimin eseridir?

- A) Şeyhi
- B) Feridüddin-i Attar
- C) Mevlana
- D) Beydaba

16. Çehov tarzı hikâyenin Türk edebiyatındaki ilk temsilcisi sayılan, hikaye tekniğini Batı'dan almakla beraber bütünüyle yerli bir edebiyatın ürünlerini veren yazar aşağıdakilerden hangisidir?

- A) Adalet Ağaoğlu
- B) Ahmet Hamdi Tanpınar
- C) Memduh Şevket Esendal
- D) Sabahattin Ali

17. Aşağıdakilerden hangisi Türk efsanelerinden hareketle efsanelerin kökenlerini belirlemek için kullanılan açıklamalardan biri değildir?

- A) Efsanelerin kaynağı dinidir.
- B) Efsanelerin kaynağı mitolojidir.
- C) Efsanelerin kaynağı edebi eserlerdir.
- D) Efsaneler gerçek hayatın artıklarıdır.

18. Anı ve gezi yazılarına ilişkin olarak aşağıda verilen bilgilerden hangisi yanlıştır?

- A) Anı yaşanmış olayları anlatır.
- B) Gezi yazıları okuyucunun genel kültürüne önemli katkıda bulunur.
- C) Gezi yazıları tarih, coğrafya ve toplumbilim gibi bilim dalları için yararlı bir kaynaktır.
- D) Bir kişinin başından geçenleri ya da tanık olduğu olayları anlattığı yazı türüne deneme adı verilir.

19. Pertev Naili Boratav'a göre "nesirle söylenmiş, bütünüyle hayal ürünü, gerçekte ilgisiz ve anlattıklarına inandırmak iddiası olmayan kısa anlatıya" ne ad verilir?

- A) Şiir
- B) Masal
- C) Roman
- D) Makale

20. "Yüksek kocaman bir asmaydı geyiğin yurdu. Bu asmanın yaprakları arasındaysalar, Bütün düşmanlarından rahatça korunurdu."

Kişileri hayvanlardan seçilen ve yukarıda bir örneği verilen yazı türü aşağıdakilerden hangisidir?

- A) Deneme
- B) Dram
- C) Tragedya
- D) Fabl

## SINAVDA UYGULANACAK KURALLAR

1. Sınav süresince görevlilerle konuşmak ve soru sormak yasaktır. Aynı şekilde görevlilerin de öğrencilerle yakından ve alçak sesle konuşmaları yasaktır. Yanınızda ve sıranızda dersle ilgili kitap not vb. bulundurmamak yasaktır. Sınav sırasında kopya yapan, yapmaya teşebbüs eden, kopya veren, kopya yapılmasına yardım edenlerin kimlikleri BİREYSEL SINAV İPTAL TUTANAĞINA yazılacak ve bu öğrencilerin sınavları geçersiz sayılacaktır. Görevliler kopya yapmaya veya vermeye kalkışanları uyarmak zorunda değildir, sorumluluk size aittir.  
Sınavda yetki verilmiş görevliler, bu salondaki sınavın kurallara uygun biçimde yapılmadığını, toplu kopya girişiminde bulunulduğunu raporlarında bildirdikleri veya üniversite sınav merkezince yapılan incelemeler sonucu toplu kopya yapıldığı saptandığı takdirde, Anadolu Üniversitesinin yetkili organları bu salonda sınava giren öğrencilerin tümünün sınavını geçersiz sayar.
2. Öğrenciler sınav sırasında görevlilerin her türlü uyarılarına uymak zorundadır. Gerekğinde görevliler oturduğunuz yerleri değiştirebilir. Sınavınızın geçerli sayılması, her şeyden önce sınav kurallarına uymanıza bağlıdır. Kurallara aykırı davranışta bulunanların ve yapılacak uyarılara uymayanların kimlikleri BİREYSEL SINAV İPTAL TUTANAĞINA yazılacak ve sınavları geçersiz sayılacaktır.
3. Sınav sırasında herhangi bir nedenle dışarı çıkmak yasaktır. Sınavın başlamasını izleyen ilk 30 dakika ve sınav süresinin son 5 dakikası içinde, sınavlarını tamamlasalar bile hiçbir öğrencinin salondan çıkmasına izin verilmeyecektir. Sınavın başlamasını izleyen ilk 15 dakikadan sonra hiç bir öğrenci sınava alınamaz.
4. Biraz sonra soru kitapçıkları dağıtılacaktır. Cevaplamaya geçmeden önce size verilecek soru kitapçığının üzerinde ayrılan yere, adınızı, soyadınızı, öğrenci numaranızı ve bu salonun numarasını yazınız. Sınav sonunda soru kitapçıkları toplanacak ve sınav merkezinde tek tek incelenecektir. Soru Kitapçığının bir tek sayfası eksik çıksa bile sınavınız geçersiz sayılacaktır.
5. Size verilen Cevap Kâğıdının üzerinde yazan numara ve ismin size ait olduğunu kontrol ediniz. Cevap Kâğıdı size ait değilse, görevlileri uyarıp size ait Cevap Kâğıdını alınız. Daha sonra Cevap Kâğıdı üzerinde ayrılmış olan yerlere öğrenci numaranızı ve test grubunuzu kodlayınız, adınızı soyadınızı yazınız ve ilgili yeri imzalayınız.
6. Cevap Kâğıdına yazılacak her türlü yazı, rakam ve yapılacak işaretlemeler için siyah kurşun kalem kullanılacaktır. Tükenmez kalem veya dolmakalem kesinlikle kullanılmayacaktır. Cevapların tümü CEVAP KÂĞIDINA İŞARETLENECEKTİR. Soru Kitapçıkları üzerine yapılan işaretlemeler kesinlikle değerlendirilmez. Her dersin cevabı, o dersin isminin yazılı olduğu sütuna işaretlenmelidir. Yanlış sütuna yapacağınız işaretlemeler kesinlikle değerlendirilmez.
7. Soru Kitapçığının sayfalarındaki boş yerleri müsvedde yapmak için kullanabilirsiniz. Başka bir kâğıdı müsvedde olarak kullanmak yasaktır. Bu tür işlemleri yapanların sınavları geçersiz sayılır.
8. Öğrencilerin sorulara verdikleri yanıtları herhangi bir yere yazmaları ve bunu sınav salonundan dışarıya çıkarmaları yasaktır. Bu kurala uymayanların sınavları geçersiz sayılır.
9. Sınav sırasında öğrencilerin birbirinden kalem, silgi vb. şeyleri istemesi kesinlikle yasaktır. Yasağa uymayanların sınavı geçersiz sayılır.
10. Sınav sırasında hesap makinesi kullanılabilir. Ancak, hesap makinesinin sınav sırasında ödünç alınması, verilmesi ve değiştirilmesi yasaktır. (Data Bank vb. gibi özel elektronik donanımlar kullanılamaz.) Bu tür davranışlarda bulunanların sınavları geçersiz sayılır.
11. Öğrenciler sınava gelirken telsiz, cep telefonu, çağrı cihazı vb. iletişim araçları ile görüntü kaydetmeye yarayan fotoğraf makinesi, kamera vb. araçları getirmemeleri konusunda sınava giriş belgelerinde uyarılmışlardır. Buna rağmen yanlarında bu tür cihazları getirenlerin, bunları sınav sonrasında almak üzere salon başkanına teslim etmeleri gerekir. Bu cihazları sınav salonunda yanlarında bulunduran öğrencilerin, cihazları kapalı bile olsa, o oturdaki sınavı geçersiz sayılacaktır. Bu cihazların kaybolmasından Üniversitemiz sorumlu olmayacaktır.
12. Biraz sonra dağıtılacak olan soru kitapçığında test ile ilgili açıklamalar yazılıdır. Bu açıklamaları okumadan ve size "SINAV BAŞLAMISHTIR" denmeden soruları cevaplamaya başlamayınız.

**SINAVLARINIZDA BAŞARILAR DİLERİZ.**