



ANADOLU ÜNİVERSİTESİ  
AÇIKÖĞRETİM FAKÜLTESİ  
BA - AÇIKÖĞRETİM OKULLARI

T.C. MİLLİ EĞİTİM BAKANLIĞI  
Hayat Boyu Öğrenme Genel Müdürlüğü  
AÇIK ÖĞRETİM LİSESİ – BATI AVRUPA PROGRAMI  
2012-2013 ÖĞRETİM YILI II.DÖNEM SINAVI  
ALTINCI OTURUM - Pazar 16.00

TEST GRUBUNUZ

**A** **0106**

CEVAP KÂĞIDINIZA İŞARETLEMİYİ UNUTMAYINIZ.

**ÖĞRENCİNİN**

SOYADI : .....

ADI : .....

ÖĞRENCİ NO : .....

SINAV SALON NO: ..... SIRA NO: .....

*Soyadınızı, adınızı, öğrenci numaranızı, salon ve sıra numaranızı yukarıya yazmayı unutmayınız.*

**GENEL AÇIKLAMA**

1. Bu soru kitapçığındaki testler şunlardır:

| Testin Adı                     | Soru Sayısı | Sayfa No |
|--------------------------------|-------------|----------|
| DİN KÜLTÜRÜ VE AHLAK BİLGİSİ 6 | 20          | 2        |
| DİN KÜLTÜRÜ VE AHLAK BİLGİSİ 8 | 20          | 4        |
| TARİH 2                        | 20          | 6        |
| COĞRAFYA 4                     | 20          | 8        |
| MATEMATİK 2                    | 20          | 10       |
| ALMANCA 3                      | 20          | 13       |
| İNGİLİZCE 3                    | 20          | 16       |
| FRANSIZCA 3                    | 20          | 19       |
| HUKUK 1                        | 20          | 22       |
| DİL VE ANLATIM 3               | 20          | 24       |
| TÜRK EDEBİYATI 7               | 20          | 26       |
| FİZİK 3                        | 20          | 28       |
| FİZİK 4                        | 20          | 33       |
| BİYOLOJİ 1                     | 20          | 37       |

| Testin Adı               | Soru Sayısı | Sayfa No |
|--------------------------|-------------|----------|
| BİYOLOJİ 5               | 20          | 39       |
| BİYOLOJİ 8               | 20          | 41       |
| MANTIK 1                 | 20          | 43       |
| İŞLETME 2                | 20          | 45       |
| GEOMETRİ 6               | 20          | 47       |
| SEÇMELİ ALMANCA 4        | 20          | 51       |
| SEÇMELİ İNGİLİZCE 4      | 20          | 54       |
| SEÇMELİ FRANSIZCA 4      | 20          | 57       |
| SEÇMELİ DİL VE ANLATIM 3 | 20          | 59       |
| SEÇMELİ TÜRK EDEBİYATI 3 | 20          | 61       |
| SEÇMELİ ALMANCA 7        | 20          | 63       |
| SEÇMELİ İNGİLİZCE 7      | 20          | 66       |
| SEÇMELİ FRANSIZCA 7      | 20          | 69       |

2. Bu kitapçıkta yer alan her bir test için cevaplama süresi **30** dakika, toplam sınav süresi **150** dakikadır.
3. Cevaplamaya istediğiniz testin, istediğiniz sorusundan başlayabilirsiniz. Yalnız cevaplarınızı, cevap kâğıdında o test için ayrılmış olan bölümdeki aynı numaralı cevap yerine işaretlemeyi unutmayınız.
4. Cevaplarınızı koyu siyah ve yumuşak bir kurşunkalemle işaretleyiniz. İşaretinizi cevap yerinin dışına taşırmayınız. Tükenmez veya mürekkepli kalem kullanmayınız.
5. Değiştirmek istediğiniz bir cevabı yumuşak bir silgi ile, cevap kâğıdını örselemeden temizce siliniz ve doğru cevabınızı işaretlemeyi unutmayınız.
6. Cevap kâğıdınızı buruşturmayınız, katlamayınız ve üzerine gereksiz hiçbir işaret koymayınız.
7. Bu kitapçıkta her sorunun bir tek doğru cevabı vardır. Bir soru için birden çok cevap yeri işaretlenmişse o soru yanlış cevaplanmış sayılacaktır.
8. Cevaplarınız puanlanırken her doğru cevabınıza eşit puan verilecek, yanlış cevaplarınız dikkate alınmayacaktır. Bu nedenle kitapçıkta tüm sorular için size doğru gelen seçeneği işaretleyerek cevapsız soru bırakmanız yararınıza olacaktır.
9. Kitapçığın sayfalarındaki boş yerleri müsvedde için kullanabilirsiniz.

Anadolu Üniversitesi tarafından hazırlanmış olan bu testlerin her hakkı saklıdır. Hangi amaçla olursa olsun, testlerin tamamının veya bir kısmının Anadolu Üniversitesi'nin yazılı izni olmadan kopya edilmesi, fotoğraflarının çekilmesi, herhangi bir yolla çoğaltılması, yayımlanması ya da kullanılması yasaktır. Bu yasağa uymayanlar gerekli cezai sorumluluğu ve testlerin hazırlanmasındaki mali külfeti peşinen kabullenmiş sayılır.

1. Yahudilikte evlilik ile ilgili aşağıdaki ifadelerden hangisi doğrudur?

- A) Evlilik, Hz. İsa ile kilisenin birliğini temsil eder.
- B) Boşanma, zina sayılır.
- C) Evli çiftler Tanrı tarafından tek bir varlık olarak kabul edilir.
- D) Nikâh, sinagogda dini bir törenle kıyılır.

2. Peygamberimizin hayatını ve mücadelesini anlatan kitaplara ne ad verilir?

- A) Tefsir
- B) Hadis kitapları
- C) Siyer
- D) İlmihal

3. Estetik nedir?

- A) Kişilerde güzellik hissi uyandıran, güzel duygu ve anlamlar içeren sanatla ilgili değer yargısıdır.
- B) Duygu, düşünce ve hayalleri yazıyla ya da sözle güzel ve etkili bir biçimde anlatma sanatıdır.
- C) Duygu, düşünce ve olayları anlatmak amacıyla ölçülü ve ahenkli seslerin bir araya getirilmesi sanatıdır.
- D) Kâğıt ve parşömen üzerine yapılan küçük boyutlu ve renkli resimlerdir.

4. Osmanlı İmparatorluğu zamanında din işleri aşağıdakilerden hangisi tarafından yürütülürdü?

- A) Kazasker
- B) Veziriazam
- C) Yeniçeri Ağası
- D) Şeyhülislam

5. Bireylerde güzellik hissi uyandıran, güzel duygu ve anlamlar içeren, sanatla ilgili değer yargısına ne ad verilir?

- A) Mizanpaj
- B) Estetik
- C) Altın Oran
- D) Denge

6. Darü'l aceze nedir?

- A) Yaşlılar evi
- B) Aş evi
- C) Kimsesizler yurdu
- D) Medrese

7. İslam tarihindeki ilk cami aşağıdakilerden hangisidir?

- A) Kuba mescidi
- B) Mescidi Nebi
- C) Kubbetus Sahra
- D) Kabe

8. Evlilik ile ilgili aşağıdaki ifadelerden hangisi yanlıştır?

- A) Doğal bir ihtiyaçtır.
- B) Hz. Muhammed'le başlayan evlilik günümüze kadar varlığını devam ettirmiştir.
- C) Çoğalma ve neslin devam etmesinin bir şartıdır.
- D) Her toplum evlenmeyi kendi inanç ve kültürüne göre belirler.

9. Aşağıdakilerden hangisi Din İşleri Yüksek Kurulu'nun görevlerinden biri değildir?

- A) Dini konularda araştırmalar yapmak
- B) Din şurası düzenlenmesi ile ilgili çalışmalar yürütmek
- C) Yurt içinde ve dışında İslam dini ile ilgili ilmi faaliyetleri değerlendirmek
- D) Yaygın din eğitimini programlamak

10. "Allah katında en sevimsiz helal,....."

Peygamberimizin yukarıdaki hadisinde boş bırakılan yere aşağıdakilerden hangisi gelmelidir?

- A) Nikâhtır.
- B) Çalışmaktır.
- C) Boşanmadır.
- D) Evlenmektir.

11. Diyanet İşleri Başkanlığının en yüksek karar ve danışma organı olup, dini soruları yanıtlandırma, dini konularda inceleme ve araştırma faaliyetlerinde bulunan birim aşağıdakilerden hangisidir?

- A) Hac Dairesi
- B) Din Hizmetleri Dairesi
- C) Din İşleri Yüksek Kurulu
- D) Mushafları İnceleme Kurulu

12. Aşağıdakilerden hangisi ünlü Türk mimarlarından biridir?

- A) İtri
- B) Sadullah Ağa
- C) Necmettin Okyay
- D) Hayreddin

13. Türkiye'de tüm camilerde hutbeler kaç yılından itibaren Türkçe okutulmaktadır?  
 A) 1938  
 B) 1932  
 C) 1944  
 D) 1948
14. Aşağıdaki camilerden hangisi Edirne'de bulunur?  
 A) Selimiye  
 B) Ayasofya  
 C) Sultan Ahmet  
 D) Hasan Paşa İmaret
15. Gerek kurum içi gerekse kişi ve kuruluşlarca bastırılacak Kur'anların incelenmesi ve hatasız basılmalarını sağlayan birim aşağıdakilerden hangisidir?  
 A) Din İşleri Yüksek Kurulu  
 B) Mushafı İnceleme Kurulu  
 C) Hac Dairesi  
 D) Tasfiye İşleri Genel Müdürlüğü
16. Arap harfleriyle belli ölçüler içerisinde, güzel yazı yazma sanatını icra edenlere ne ad verilir?  
 A) Kufi  
 B) Mimar  
 C) Hattat  
 D) Ebru
17. Aşağıdakilerden hangisi ünlü Türk müzehhiplerinden biridir?  
 A) Farabi  
 B) Yusuf Mısri  
 C) Şeyh Hamdullah Çelebi  
 D) Levni
18. Aşağıdakilerden hangisi Süleyman Çelebinin Mevlididir?  
 A) Vesilatün Necat  
 B) Mesnevi  
 C) Divan-ı Hikmet  
 D) Divan-ı Lugat-i Türk
19. Aşağıdakilerden hangisi Diyanet İşleri Başkanlığı'na bağlı kurum ve kuruluşlardan biri değildir?  
 A) Mushafı İnceleme Kurulu  
 B) Din İşleri Yüksek Kurulu  
 C) Din Hizmetleri Dairesi  
 D) Tasfiye İşleri Genel Müdürlüğü
20. Aşağıdakilerden hangisi bir din görevlisi değildir?  
 A) Vaiz  
 B) Müftü  
 C) Öğretmen  
 D) İmam-Hatip

1. “Sakin ol, kimsenin gönlünü yıkma.”  
Diyerek sevenlerine gönül kırmamalarını  
tavsiye eden İslam âlimi aşağıdakilerden  
hangisidir?

- A) Ahi Evran
- B) Mevlana
- C) Hacı Bektaş Veli
- D) Yunus Emre

2. “Sana kötülük edenlere sen iyilik et.”  
diyerek insanlığın temelinde sevgi,  
bağışlama ve iyiliğin olduğunu anlatan  
İslam âlimi aşağıdakilerden hangisidir?

- A) Hacı Bektaş Veli
- B) Cabbar Kulu
- C) Seyyid Mahmud Hayrani
- D) Mevlana

3. Barışın olduğu bir ortamda aşağıdakilerden  
hangisi ortaya çıkar?

- A) Kalkınma
- B) Kargaşa
- C) Anarşi
- D) Adaletsizlik

4. İslam dinine göre insanlığın atası  
aşağıdakilerden hangisidir?

- A) Hz. Adem
- B) Hz. Muhammed
- C) Hz. Yusuf
- D) Hz. Yakup

5. İslam dininde bireyler arasındaki üstünlük  
aşağıdakilerden hangisindedir?

- A) İrk
- B) Cinsiyet
- C) Dil
- D) Takva

6. “Giderdim gönülden kini, kin tutanın yoktur  
dini. Düşmanımız kindir bizim, biz kimseye  
kin tutmayız.” diyerek insanların barış ve  
huzur içinde yaşaması gerektiğini  
vurgulayan büyük mutasavvıf ve halk şairi  
aşağıdakilerden hangisidir?

- A) Karacaoğlan
- B) Dadaloğlu
- C) Mevlana
- D) Yunus Emre

7. “Yurtta sulh, cihanda sulh” diyerek  
insanların birlikte barış içinde yaşamasına  
verdiği önemi belirten devlet adamı  
aşağıdakilerden hangisidir?

- A) Fatih Sultan Mehmet
- B) Rauf Denktaş
- C) Mustafa Kemal Atatürk
- D) Ebulfez Elçibey

8. Elmalılı Muhammed Hamdi Yazır'ın  
Atatürk'ün yönlendirmesiyle hazırlanmış  
olduğu tefsir kitabı aşağıdakilerden  
hangisidir?

- A) Sahihi Buhari Muhtasarı Tecridi Sarih  
Tercemesi
- B) Amentü Şerhi
- C) Hak Dini Kur'an Dili
- D) İslam Fıkıh İlmî

9. Din işlerinin daha sağlıklı ve ehil kişiler  
tarafından yürütülmesi için Atatürk  
tarafından kurulan birim aşağıdakilerden  
hangisidir?

- A) Diyanet İşleri Başkanlığı
- B) Maarif Vekâleti
- C) Divan-ı Harp
- D) İmam Hatip Liseleri

10. Atatürk'ün toplumun din alanındaki  
bilgisizliğini gidermek ve sağlıklı bir din  
eğitiminin verilmesi adına çıkardığı Tevhid-  
i Tedrisat kanunu kaç yılında kabul  
edilmiştir?

- A) 3 Mart 1924
- B) 29 Ekim 1923
- C) 23 Nisan 1920
- D) 19 Mayıs 1919

11. İsrailoğullarına Allah tarafından, Hz. İsa  
aracılığıyla gönderilen din aşağıdakilerden  
hangisidir?

- A) Yahudilik
- B) Hristiyanlık
- C) Musevilik
- D) Budizm

12. Hristiyanlığın kutsal kitabı aşağıdakilerden hangisidir?

- A) Kur'an-ı Kerim
- B) İncil
- C) Tevrat
- D) Zebur

13. Hinduizmde sebep- sonuç kanunu olan, kişinin kaderini belirleyen iş ve amellere ne ad verilmektedir?

- A) Tenasüh
- B) Karma
- C) Yoga
- D) Reenkarnasyon

14. Hz. Muhammed kaç senesinde doğmuştur?

- A) 575
- B) 591
- C) 595
- D) 571

15. Budizmin kutsal metinlerine ne ad verilir?

- A) Dhamma
- B) Sangha
- C) Tipitaka
- D) Siddhartha

16. Aşağıdakilerden hangisi İslamiyet'teki temel ibadetlerden biri değildir?

- A) Namaz kılmak
- B) Zekât vermek
- C) İlim yapmak
- D) Oruç tutmak

17. Tüccar, esnaf ve çiftçi sınıfı olarak bilinen Kast sistemi sınıfı aşağıdakilerden hangisidir?

- A) Konsüller
- B) Brahmanlar
- C) Sudralar
- D) Vaisyalar

18. Aşağıdakilerden hangisi Hint dinlerinden biridir?

- A) Caynizm
- B) Şintoizm
- C) Taoizm
- D) Konfüçyanizm

19. Aşağıdakilerden hangisi vahye dayalı dinlerden biri değildir?

- A) İslamiyet
- B) Yahudilik
- C) Hristiyanlık
- D) Budizm

20. Musevilikte, sinagog ve havra isimleri verilen ibadethanelerde ibadet kimlerin yönetiminde yapılmaktadır?

- A) Neviim
- B) Haham
- C) Ketuvim
- D) Papaz

1. Endülüs Emevi Devleti aşağıdaki bölgelerden hangisinde yaşamıştır?
  - A) Kuzey Afrika
  - B) İran
  - C) İspanya
  - D) Arap Yarımadası
2. Aşağıdakilerden hangisi İslamiyet'ten önce Arap Yarımadası'nda kurulan devletlerden biri değildir?
  - A) Main Devleti
  - B) Nebat Devleti
  - C) Uygur Devleti
  - D) Seba Devleti
3. İlk İslam parası aşağıdaki devletlerden hangisi tarafından basılmıştır?
  - A) Memlükler
  - B) Emeviler
  - C) Endülüs Emevileri
  - D) Abbasiler
4. Bizans İmparatorluğu'nun en parlak devri aşağıdakilerden hangisinin zamanındadır?
  - A) Jüstinyen
  - B) Oktavianus
  - C) Sezar
  - D) Heraklius
5. Hz. Muhammed'in (s.a.v.) davetini kabul edip ilk Müslüman olan kişi aşağıdakilerden hangisidir?
  - A) Hz. Ebubekir
  - B) Hz. Hatice
  - C) Hz. Zeyd
  - D) Hz. Ali
6. Selçuklularda şehzadeleri eğiten, iyi bir devlet adamı ve komutan olmalarına yardımcı olan bilgili kişilere ne ad verilir?
  - A) Hacıp
  - B) Emir-i alem
  - C) Kapucubaşı
  - D) Atabey
7. Dandanakan Savaşı'nın kazanılmasıyla aşağıdaki devletlerden hangisi kuruluşunu tamamlamıştır?
  - A) Eyyubiler
  - B) Büyük Selçuklular
  - C) Gazneliler
  - D) Harzemşahlar
8. Aşağıdaki Selçuklu Sultanlarının hangisi Malazgirt Savaşı'nda Bizans'ı mağlup etmiştir?
  - A) Tuğrul Bey
  - B) Alparslan
  - C) Melikşah
  - D) Çağrı Bey
9. Büyük Selçuklu Ordusu'nun atlı birliklerine ne ad verilir?
  - A) Beylik askeri
  - B) Melik askeri
  - C) Hassa ordusu
  - D) Sipahi
10. Karahanlıların ilk hükümdarı aşağıdakilerden hangisidir?
  - A) Satuk Buğra Han
  - B) Bilge Kül Kadir Han
  - C) Buğrahan Ali
  - D) Yusuf Kadir Han
11. Türk dilinin Farsça'dan daha zengin olduğunu anlatmak için Ali Şir Nevai tarafından yazılan kitap aşağıdakilerden hangisidir?
  - A) Muhakemetü'l-Lugateyn
  - B) Şecere-i Türki
  - C) Babürname
  - D) Camiül-Elhan
12. Türk-Moğol devletlerinde kullanılan "daruga" kavramının anlamı aşağıdakilerden hangisidir?
  - A) Vilayet
  - B) Vergi
  - C) Silah
  - D) Vezir

13. Bibi Hanım Mescidi ve Gök Saray gibi mimari eserleri aşağıdaki devlet adamlarından hangisi yaptırmıştır?

- A) Şahruh
- B) Uluğ Bey
- C) Gazneli Mahmut
- D) Timur

14. Oğuzların İslamiyet'i kabul etmelerinden sonra İslam tarihçileri tarafından kullanılan "Müslüman Oğuzlar" anlamına gelen sözcük aşağıdakilerden hangisidir?

- A) Türkmen
- B) Başkak
- C) Kazak
- D) Noyan

15. Osmanlılar 1402 Ankara Savaşı'nda aşağıdaki devletlerden hangisi ile savaşmıştır?

- A) Akkoyunlular
- B) Karakoyunlular
- C) Memlükler
- D) Timurlular

16. Pasinler Savaşı aşağıdakilerden hangisi arasında olmuştur?

- A) Sabirler - Abbasiler
- B) İlhanlılar - Safeviler
- C) Akkoyunlular - İlhanlılar
- D) Selçuklular - Bizans

17. Aşağıdakilerden hangisi Anadolu'da kurulan ilk Türk devletlerinden biri değildir?

- A) Artuklular
- B) Mengücekliler
- C) Gazneliler
- D) Danişmentliler

18. Türkiye Selçuklu Devleti aşağıdakilerden hangisi tarafından kurulmuştur?

- A) Ertuğrul Bey
- B) Alparslan
- C) Süleyman Şah
- D) Tuğrul Bey

19. XIII. yy tasavvuf edebiyatında Divan-ı Kebir, Mesnevi, Fihi Mâfih eserlerinin yazarı aşağıdakilerden hangisidir?

- A) Mevlâna Celaleddin Rumi
- B) Yunus Emre
- C) Sultan Veled
- D) İzzettin Ahmed

20. Malazgirt Savaşı'nın en önemli sonucu aşağıdakilerden hangisidir?

- A) Anadolu'da Moğol hâkimiyetinin başlaması
- B) Suriye'nin, Selçukluların elinden çıkması
- C) Anadolu'nun kapısının Türklere açılmış olması
- D) Selçukluların İran'a hâkim olmaları

1. Türkiye de toprak tipleri ve dağılışı üzerinde aşağıdakilerden hangisi etkili değildir?
  - A) Bitki örtüsü
  - B) Heyelanlar
  - C) İklim
  - D) Ana kaya
  
2. Yer şekillerinin engebeli, eğimin fazla olduğu yerlerde aşağıdaki akarsularımızdan hangisinin hidroelektrik potansiyeli daha yüksektir?
  - A) Susurluk
  - B) Gediz
  - C) Fırat
  - D) Sakarya
  
3. Aşağıdakilerden hangisi maki türü değildir?
  - A) Söğüt
  - B) Mersin
  - C) Yabani zeytin
  - D) Kocayemişi
  
4. Akdeniz ve Ege Bölgesi'nde yaygın olarak görülen turuncgil, bağcılık ve zeytin tarımına uygun topraklar aşağıdakilerden hangisidir?
  - A) Bozkır toprakları
  - B) Kırmızı topraklar
  - C) Regosol topraklar
  - D) Tuzlu topraklar
  
5. Ülkemizde maki ve çalılıkların yaygın olarak görüldüğü dağlık alanlarda daha çok hangi tür hayvancılık yapılır?
  - A) Sığır
  - B) Koyun
  - C) Kıl keçisi
  - D) İpek böceği
  
6. Yurdumuzda bir yerleşim alanının nüfusunun artmasında aşağıdakilerden hangisinin etkisi daha fazladır?
  - A) Maden-turizm
  - B) Turizm-hayvancılık
  - C) Tarım-turizm
  - D) Ticaret-sanayi
  
7. Ege kıyılarında yer almasına rağmen yükselti ve engebelenin fazla olması nedeniyle yerleşim alanları sınırlı, nüfus yoğunluğu az olan yöremiz aşağıdakilerden hangisidir?
  - A) Gediz ovası
  - B) Menteşe
  - C) Büyük Menderes vadisi
  - D) Kuşadası
  
8. Aşağıdaki bölgelerimizin hangisinde ormanlar daha geniş yer kaplamaktadır?
  - A) Doğu Karadeniz
  - B) İç Batı Anadolu
  - C) Konya çevresi
  - D) Erzurum çevresi
  
9. Aşağıdakilerden hangisi Türkiye'de yerleşmenin dağılışını etkileyen doğal faktörlerden biridir?
  - A) Ulaşım
  - B) Ekonomi
  - C) Jeolojik yapı
  - D) İç ve dış göçler
  
10. Türkiye'nin bazı yerlerinde nüfusun seyrek olmasında aşağıdakilerden hangisinin etkisi yoktur?
  - A) Ulaşım olanaklarının çok zor olması
  - B) Akarsu havzasının açık olması
  - C) Yağış miktarının az olması
  - D) Ekonomik faaliyetlerin sınırlı olması



11. Çalışma çağındaki nüfus dilimi içinde bulunan belirli bir işi olan nüfusa ne ad verilir?

- A) İşsiz nüfus
- B) Pasif nüfus
- C) Hizmet nüfusu
- D) Aktif nüfus

12. Aşağıdakilerden hangisi Türkiye' de 1927-2000 yılları arasında nüfustaki değişim özelliklerinden biri değildir?

- A) Kadın nüfusunun, erkek nüfusundan fazla olması
- B) Nüfus artışının hızlanması
- C) Nüfusun eğitim düzeyinin artması
- D) Ortalama yaşam süresinin uzaması

13. Türkiye'de 1950'den sonra nüfus artış hızının yükselmesinde aşağıdakilerden hangisinin etkisi olmamıştır?

- A) Köyden kente yapılan göçler
- B) Beslenme koşullarında iyileşmeler
- C) Bebek ölümlerinde azalmalar
- D) Hayat standartlarında yükselmeler

14. Tarihteki önemli ticaret yollarından biri olan İpek Yolu aşağıdaki ülkelerden hangisinden başlamaktaydı?

- A) Mısır
- B) Japonya
- C) Çin
- D) Kanada

15. Elektronik iletişim aşağıdakilerden hangisiyle başlamıştır?

- A) Yazının kullanılmasıyla
- B) Matbaanın icat edilmesiyle
- C) Kağıdın kullanılmasıyla
- D) Telgraf hattının kurulmasıyla

16. Cebeli Tarık Boğazı aşağıdaki denizlerden hangileri arasındaki su yoludur?

- A) Akdeniz-Atlas Okyanusu
- B) Akdeniz-Kızıldeniz
- C) Atlas Okyanusu-Büyük Okyanus
- D) Kızıldeniz-Hint Okyanusu

17. Aşağıdakilerden hangisinin bulunması ile kitap ve gazetelerin geniş kitlelere ulaşması ve toplumda kültür ve eğitimin yaygınlaşması sağlanmıştır?

- A) Telgraf
- B) Telefon
- C) Teleks
- D) Matbaa

18. Coğrafi konumlarından dolayı keşifler öncelikle aşağıdaki ülkelerden hangisinin kontrolünde gelişmiştir?

- A) Hindistan ve Çin
- B) Amerika
- C) Portekiz ve İspanya
- D) İtalya ve Fransa

19. Aşağıdakilerden hangisi dünyayı dolaşan ilk denizcidir?

- A) Marco Polo
- B) Macellan
- C) Amerigo Vespuçi
- D) Vasko dö Gama

20. Hindistan'a deniz yolu ile ilk ulaşan denizci aşağıdakilerden hangisidir?

- A) Bartelmi Diyaz
- B) Kolomb
- C) Macellan
- D) Vasko dö Gama

1. Farkları 5, toplamları 17 olan iki doğal sayının çarpımı kaçtır?

A) 56  
B) 60  
C) 66  
D) 85

2. 24, 40 ve 120 sayılarının en büyük ortak böleni (EBOB) kaçtır?

A) 4  
B) 8  
C) 12  
D) 16

3. Bir araç belli bir yolu 120 km hızla gidiyor ve 168 km hızla geri dönüyor.

**Bu araç 12 saatte gidip geldiğine göre, yolun uzunluğu kaç km dir?**

A) 760  
B) 840  
C) 960  
D) 1020

4.  $|-12| - |15| + |(-9) - (-16)|$

**Yukarıdaki işlemin sonucu kaçtır?**

A) -20  
B) -10  
C) 4  
D) 10

5. a, b, c birer tam sayı olmak üzere;  
 $a \cdot b = -14$   
 $b \cdot c = 20$  olduğuna göre,

**$a+b+c$  ifadesinin alabileceği en küçük değer kaçtır?**

A) -7  
B) -5  
C) -3  
D) 3

6.  $a^2 \cdot b < 0$

$$b^3 \cdot c > 0$$

$$a \cdot b \cdot c^2 < 0$$

olduğuna göre, a, b, c nin işaretleri sırasıyla aşağıdakilerden hangisinde verilmiştir?

A) -, +, -  
B) +, +, -  
C) -, +, +  
D) +, -, -

7.  $Z/6 = \{\bar{0}, \bar{1}, \bar{2}, \bar{3}, \bar{4}, \bar{5}\}$  kümesinde bir f fonksiyonu,  $f(x) = (\bar{2} \oplus x) \odot \bar{5}$  biçiminde tanımlanıyor.

**Buna göre  $f(\bar{3})$  ün denklik sınıfı kaçtır?**

A)  $\bar{0}$   
B)  $\bar{1}$   
C)  $\bar{3}$   
D)  $\bar{5}$

8. Bir doktor 4 günde bir nöbete kalıyor.

**İlk nöbetini Salı günü tutan doktor, 23. nöbetini hangi gün tutar?**

- A) Cumartesi  
B) Cuma  
C) Çarşamba  
D) Salı

9.  $\left(\frac{2}{3} + \frac{1}{4}\right) : \left(\frac{1}{2} - \frac{1}{4}\right)$  bölme işleminin sonucu kaçtır?

- A)  $\frac{1}{3}$   
B)  $\frac{11}{12}$   
C)  $\frac{4}{3}$   
D)  $\frac{11}{3}$

10. Parasının önce  $\frac{3}{5}$  ini, daha sonra da kalan parasının  $\frac{1}{4}$  ünü harcayan Gökhan'ın cebinde 360 lirası kalmışsa, Gökhan'ın harcamadan önce kaç lirası vardı?

- A) 1200  
B) 1750  
C) 2100  
D) 2400

11.  $\frac{7}{8}, \frac{12}{13}, \frac{9}{10}, \frac{11}{12}$  rasyonel sayılarından **en büyüğü** aşağıdakilerden hangisidir?

- A)  $\frac{11}{12}$   
B)  $\frac{9}{10}$   
C)  $\frac{12}{13}$   
D)  $\frac{7}{8}$

12.  $-4 \leq 2x + 6 < 10$  eşitsizliğinin reel sayılardaki çözüm kümesi aşağıdakilerden hangisidir?

- A)  $[-5, 2)$   
B)  $[-4, 1]$   
C)  $[-2, 5]$   
D)  $(-4, 6]$

13. Halil bir işi x günde, Emrah ise aynı işi  $\frac{x}{3}$  günde bitirebilmektedir.

**İkisi birlikte aynı işi 7 günde bitirebildiklerine göre, x kaçtır?**

- A) 22  
B) 24  
C) 26  
D) 28

14.  $\frac{x+6}{x-2} + \frac{a+5x}{4-x} = 2$

Yukarıdaki denklemin bir kökü  $-2$  olduğuna göre,  $a$  kaçtır?

- A) 28  
B) 20  
C) 16  
D) 12

15.  $|3x-5| \leq 2$  eşitsizliğinin çözüm kümesi aşağıdakilerden hangisidir?

- A)  $\left[-\frac{1}{3}, \frac{4}{3}\right]$   
B)  $\left[1, \frac{7}{3}\right]$   
C)  $\left[2, \frac{5}{3}\right]$   
D)  $[-3, 3]$

16.  $x < 0 < y$  olmak üzere;  $|x| + |y-2x| + |x-y|$  ifadesinin eşiti aşağıdakilerden hangisidir?

- A)  $2x+2y$   
B)  $-3x+y$   
C)  $2y-4x$   
D)  $2x-y$

17.  $\frac{12^a + 12^a}{6^a + 6^a + 6^a + 6^a} = 64$  olduğuna göre  $a$  kaçtır?

- A) 4  
B) 5  
C) 6  
D) 7

18.  $\frac{7 \times 10^{11} - 8 \times 10^{10}}{0,31 \times 10^{15}}$  işleminin sonucu kaçtır?

- A)  $0,2 \times 10^{-1}$   
B)  $2 \times 10^{-3}$   
C)  $2 \times 10^{-5}$   
D)  $20 \times 10^{-2}$

19.  $\sqrt{2 - \frac{16}{9}} - \sqrt{3 - \frac{46}{16}} - \sqrt{1 - \frac{23}{25}}$  işleminin sonucu kaçtır?

- A)  $-\frac{5\sqrt{2}}{42}$   
B)  $-\frac{1}{4}$   
C)  $-\frac{7\sqrt{2}}{60}$   
D)  $-\frac{2\sqrt{3}}{15}$

20.  $\sqrt{\sqrt{73 + \sqrt{59 + \sqrt{32 - \sqrt{49}}}}}$  işleminin sonucu kaçtır?

- A) 6  
B) 7  
C) 8  
D) 9

1. Um acht Uhr ..... der Wecker.

**Welches Wort passt in die obige Lücke?**

**Cümlede boş bırakılan yeri aşağıdakilerden hangisi doğru şekilde tamamlar?**

- A) zieht  
B) läutet  
C) stellt  
D) nimmt

2. Die Kinder liegen im Kinderzimmer ..... Teppich und spielen miteinander.

**Welches Wort passt in die obige Lücke?**

**Cümlede boş bırakılan yeri aşağıdakilerden hangisi doğru şekilde tamamlar?**

- A) in der  
B) aus den  
C) zu der  
D) auf dem

3. A: Wohin hast du meine Brille gelegt?  
B: Ich habe sie neben das Telefon gelegt,  
.....

**Welches ergänzt die Lücke im obigen Dialog?**

**Verilen karşılıklı konuşmada boş bırakılan yeri aşağıdakilerden hangisi tamamlar?**

- A) als ich mit Ayfer telefonierte!  
B) weiss ich aber leider nicht!  
C) er schläft gerade!  
D) ich bin total müde!

4. Mein Vater sitzt im Wohnzimmer und .....

**Welches ergänzt die Lücke im obigen Satz?**

**Verilen cümleyi aşağıdakilerden hangisi tamamlar?**

- A) möchte das Essen vorbereiten.  
B) blättert das Fotoalbum durch.  
C) steht am Herd.  
D) will sie abholen.

5. Zu einer Besprechung mit Arbeitskollegen.

**Welche Frage passt zur obigen Antwort?**

**Verilen cevabı gerektirecek soru aşağıdakilerden hangisidir?**

- A) Was macht ihr in der Schule?  
B) Wie gehst du zur Arbeit?  
C) Wann geht ihr zu der Besprechung?  
D) Wohin geht ihr?

6. Aus welcher Stadt kommen Sie?

**Welche Antwort passt zur obigen Frage?**

**Verilen sorunun cevabı aşağıdakilerden hangisidir?**

- A) Ich kommen aus Frankfurt.  
B) Er möchte in Berlin studieren.  
C) Wir können uns im Kino treffen.  
D) Sie lebt in München.

7. Wisse Sie, ..... ich Deutschlehrerin bin?

**Welches Wort passt in die obige Lücke?**

**Cümlede boş bırakılan yeri aşağıdakilerden hangisi doğru şekilde tamamlar?**

- A) ob  
B) wenn  
C) weil  
D) dass

8. Mit der neuen Lernmaschine können Sie jede ..... Fremdsprache ganz einfach lernen.

**Welches Wort passt in die obige Lücke?**

**Cümlede boş bırakılan yeri aşağıdakilerden hangisi doğru şekilde tamamlar?**

- A) berühmt  
B) beliebige  
C) besonders  
D) bestellt

9. Monika ist eine moderne Frau, .....

**Welcher Satz ergänzt die obige Lücke?**

**Verilen cümleyi aşağıdakilerden hangisi tamamlar?**

- A) sie bringt jeden Tag die Post.  
B) denn er weiß alle Fußballspieler.  
C) sie interessiert sich für alle Neuigkeiten.  
D) damit er gut kochen.

10. Was bedeutet "öge" auf deutsch?

**"öge" sözcüğünün Almancası aşağıdakilerden hangisidir?**

- A) Der Kasten  
B) Das Kabel  
C) Der Trichter  
D) Das Element

11. Suche / ein / Spiegel / die / Tasche / für / ich / klein

**Wie kann man mit den obigen Wortgruppen einen sinnvollen und richtigen Satz bilden?**

**Verilen sözcük gruplarıyla kurulabilecek en anlamlı ve doğru cümle aşağıdakilerden hangisidir?**

- A) Ein klein Spiegel ich suche für die Tasche.  
B) Ein kleines Spiegel suchte ich für die Tasche.  
C) Ich suche einen kleinen Spiegel für die Tasche.  
D) Ich habe eine kleine Tasche für die Spiegel.

12. Ich möchte einen ..... Schwamm zum Baden.

**Welches Wort passt in die obige Lücke?**

**Cümlede boş bırakılan yeri aşağıdakilerden hangisi doğru şekilde tamamlar?**

- A) weichen  
B) richtig  
C) freundlich  
D) fremd

13. Ein Schachgenie kann ..... Schach spielen.

**Welches Wort passt nicht in die obige Lücke?**

**Cümlede boş bırakılan yeri aşağıdakilerden hangisi doğru şekilde tamamlamaz?**

- A) fantastisch  
B) gut  
C) modern  
D) super

14. Ich werde bald der berühmte..... und der jünger..... Professor auf der Welt.

**Welche Endungen passen in die obigen Lücken?**

**Cümlede boş bırakılan yerleri aşağıdaki son eklerden hangileri doğru şekilde tamamlar?**

- A) -e / -te  
B) -er / -es  
C) -este / -ste  
D) -st / -st

15. ...., weil es ein paar Wochen dauern kann.

**Welcher Satz ergänzt die obige Lücke?**

**Verilen cümleyi aşağıdakilerden hangisi tamamlar?**

- A) Ich werde schon morgen das Visum beantragen  
B) Ich habe ein Visum beantragt  
C) Wir haben unser Visum schon vor vier Jahren beantragt  
D) Er wollte immer ein Visum beantragen

16. Die Polizei hat mich angehalten und hat nach meinem Führerschein gefragt.

**Wie lautet der obige Satz im Präteritum?**

**Verilen cümlelerin -di li geçmiş zaman şekli aşağıdakilerden hangisidir?**

- A) Die Polizei wollte mich anhalten und mich nach meinem Führerschein fragen.  
 B) Die Polizei hätte uns anhalten können und nach unserem Führerschein fragen können.  
 C) Die Polizei wird uns anhalten und uns nach unserem Führerschein fragen.  
 D) Die Polizei hielt mich an und fragte nach meinem Führerschein.

17. Wir sind um acht Uhr aufgestanden.

**Wie lautet der obige Satz im Futur?**

**Verilen cümlelerin gelecek zaman şekli aşağıdakilerden hangisidir?**

- A) Wir werden um acht Uhr aufstehen.  
 B) Wir hätten um acht Uhr aufstehen können.  
 C) Wir wollen um acht Uhr aufstehen.  
 D) Wir sollten um acht Uhr aufstehen.

18. Musluğu kapatacağım.

**Wie lautet der obige Satz auf Deutsch?**

**Verilen cümlelerin Almancası aşağıdakilerden hangisidir?**

- A) Ich habe den Wasserhahn zuge dreht.  
 B) Ich werde den Wasserhahn zudre hen.  
 C) Ich möchte den Wasserhahn zudre hen.  
 D) Ich soll den Wasserhahn zudre hen.

19. Warum bist du zur Schule zurück gefahren?

**Welche Antwort passt zur obigen Frage?**

**Verilen sorunun cevabı aşağıdakilerden hangisidir?**

- A) Weil ich müde bin.  
 B) Damit ich alles in der Schule sehen kann.  
 C) Weil ich meine Bücher vergessen habe.  
 D) Denn ich wollte sofort schlafen.

20. A: Was macht Karl heute nachmittag?

B: .....

A: Dann kann ich ihn dort sehen, weil ich auch zu dieser Besprechung gehen will.

**Welcher Satz ergänzt den obigen Dialog?**

**Verilen karşılıklı konuşmayı aşağıdakilerden hangisi tamamlar?**

- A) Karl möchte gerne früh schlafen gehen.  
 B) Karl geht heute um halb drei zu einer Besprechung.  
 C) Karl hat heute morgen eingekauft.  
 D) Karl wird morgen früh zum Arzt gehen.

1. I will..... by next week.

Which of the following completes the sentence above?

Aşağıdakilerden hangisi yukarıdaki cümleyi doğru olarak tamamlar?

- A) had retired  
B) have retired  
C) retires  
D) retired

2. I can't find my files. I ..... left them in the office.

Which of the following completes the sentence above?

Aşağıdakilerden hangisi yukarıdaki cümleyi doğru olarak tamamlar?

- A) might have  
B) should have  
C) will have  
D) must

3. A:Where is Filiz?  
B:I don't know where she is. She ..... at library.

Which of the following completes the dialogue above?

Aşağıdakilerden hangisi yukarıdaki konuşmayı doğru olarak tamamlar?

- A) ought to be  
B) could have been  
C) might be  
D) should have been

4. Ayşen didn't come to work yesterday. She ..... been ill.

Which of the following completes the sentence above?

Aşağıdakilerden hangisi yukarıdaki cümleyi doğru olarak tamamlar?

- A) must have  
B) should have  
C) ought to  
D) will have

5. The students will be ..... an exam this time tomorrow.

Which of the following completes the sentence above?

Aşağıdakilerden hangisi yukarıdaki cümleyi doğru olarak tamamlar?

- A) taking  
B) has taken  
C) take  
D) taken

6. What ..... in three years?

Which of the following completes the sentence above?

Aşağıdakilerden hangisi yukarıdaki cümleyi doğru olarak tamamlar?

- A) did you do  
B) would you have done  
C) do you do  
D) will you have done

7. I will be ..... to Aydın this time next week.

Which of the following completes the sentence above?

Aşağıdakilerden hangisi yukarıdaki cümleyi doğru olarak tamamlar?

- A) gone  
B) was going  
C) go  
D) going

8. A:That key isn't mine.  
B:It ..... be my wife's.

Which of the following completes the dialogue above?

Aşağıdakilerden hangisi yukarıdaki konuşmayı doğru olarak tamamlar?

- A) would  
B) must  
C) would have  
D) will



9. Ceylin will be ..... at the end of the week.

**Which of the following completes the sentence above?**

**Aşağıdakilerden hangisi yukarıdaki cümleyi doğru olarak tamamlar?**

- A) works
- B) has worked
- C) worked
- D) working

10. If he doesn't like his salary, he .....find another job.

**Which of the following completes the sentence above?**

**Aşağıdakilerden hangisi yukarıdaki cümleyi doğru olarak tamamlar?**

- A) could have
- B) ought to have
- C) ought to
- D) would

11. A: Who painted the wall?  
B: I don't know. Alper.....painted it by himself.

**Which of the following completes the dialogue above?**

**Aşağıdakilerden hangisi yukarıdaki konuşmayı doğru olarak tamamlar?**

- A) could have
- B) must
- C) should have
- D) ought to

12. I hear the children southing. They ..... be playing basketball.

**Which of the following completes the sentence above?**

**Aşağıdakilerden hangisi yukarıdaki cümleyi doğru olarak tamamlar?**

- A) would
- B) will
- C) must
- D) could

13. Burhan isn't at work. He.....gone the bank.

**Which of the following completes the sentence above?**

**Aşağıdakilerden hangisi yukarıdaki cümleyi doğru olarak tamamlar?**

- A) could
- B) should
- C) must have
- D) can

14. A: Why didn't Ayşe come to the library yesterday?  
B: I don't know. She.....somewhere else.

**Which of the following completes the dialogue above?**

**Aşağıdakilerden hangisi yukarıdaki konuşmayı doğru olarak tamamlar?**

- A) must go
- B) should have gone
- C) could have gone
- D) might go

15. A:Where was Mr. Tufan yesterday? He wasn't in his office.  
B:I don't know. He ..... been at the meeting.

**Which of the following completes the dialogue above?**

**Aşağıdakilerden hangisi yukarıdaki konuşmayı doğru olarak tamamlar?**

- A) will have
- B) might have
- C) must
- D) would

16. He looks very tired. He ..... worked hard.

**Which of the following completes the sentence above?**

**Aşağıdakilerden hangisi yukarıdaki cümleyi doğru olarak tamamlar?**

- A) ought to
- B) will have
- C) could
- D) must have

17. A: What's wrong with you?

B: I have a toothache.

A: Well, you ..... see a dentist.

**Which of the following completes the dialogue above?**

**Aşağıdakilerden hangisi yukarıdaki konuşmayı doğru olarak tamamlar?**

- A) can't
- B) won't
- C) mustn't
- D) should

18. Tekin is going to have a quiz tomorrow. So, he .....go to bed early.

**Which of the following completes the sentence above?**

**Aşağıdakilerden hangisi yukarıdaki cümleyi doğru olarak tamamlar?**

- A) should
- B) have
- C) should have
- D) ought

19. Nilgün ..... her grandparents by this time tomorrow.

**Which of the following completes the sentence above?**

**Aşağıdakilerden hangisi yukarıdaki cümleyi doğru olarak tamamlar?**

- A) visited
- B) will have visited
- C) has visited
- D) visits

20. A: Filiz speaks English very well, doesn't she?

B: Yes, she.....lived abroad.

**Which of the following completes the dialogue above?**

**Aşağıdakilerden hangisi yukarıdaki konuşmayı doğru olarak tamamlar?**

- A) will have
- B) must have
- C) could
- D) should

1. Le sport ..... je pratique est le tennis.

**Choisissez le mot qui convient.**

**Cümledeki boşluğu aşağıdakilerden hangisi doğru şekilde tamamlar?**

- A) qui  
B) ou  
C) puisque  
D) que

2. Paul: - Je voudrais réserver une place.  
L'employé: - .....  
Paul: - Pour Marseille.

**Choisissez la réplique qui convient.**

**Yukarıdaki konuşmada boş bırakılan yeri aşağıdakilerden hangisi doğru şekilde tamamlar?**

- A) Pour où Monsieur?  
B) Pour une personne?  
C) Oui, Monsieur, quel jour?  
D) On part quand?

3. .... nous finissons nos devoirs, nous allons dehors.

**Choisissez le mot qui convient.**

**Cümledeki boşluğu aşağıdakilerden hangisi doğru şekilde tamamlar?**

- A) Depuis que  
B) Dès que  
C) Parce que  
D) Car

4. .... il pleut, je ne sors pas.

**Choisissez le mot qui convient.**

**Cümledeki boşluğu aşağıdakilerden hangisi doğru şekilde tamamlar?**

- A) Car  
B) Depuis  
C) Combien  
D) Comme

5. .... tu n'as pas d'argent, tu ne peux pas aller au cinéma.

**Choisissez le mot qui convient.**

**Cümledeki boşluğu aşağıdakilerden hangisi doğru şekilde tamamlar?**

- A) Puisque  
B) Car  
C) Personne  
D) Pourquoi

6. Quand je buvais du café, je ne pouvais pas dormir.

**Choisissez la traduction qui convient.**

**Yukarıdaki cümlenin Türkçe karşılığı aşağıdakilerden hangisidir?**

- A) Kahve içmeden uyuyamıyorum.  
B) Kahve içince uyku tutmuyor.  
C) Kahve içtiğim zaman uyuyamıyorum.  
D) Uykum gelmesin diye kahve içiyorum.

7. Cette ville historique a été visitée cette année par beaucoup de touristes.

**Choisissez la traduction qui convient.**

**Yukarıdaki cümlenin Türkçe karşılığı aşağıdakilerden hangisidir?**

- A) Bu sene bu tarihi kente birçok turist geldi.  
B) Bu tarihi kent bu yıl birçok turist tarafından ziyaret edildi.  
C) Bu tarihi kent bu sene daha fazla turist çekti.  
D) Bu yıl turistlerin çoğu bu tarihi kente de uğradılar.

8. Bütün turistlerin hayran olduğu bu şehir çok sakinidir.

**Choisissez la traduction qui convient.**

**Yukarıdaki cümlelerin Fransızca karşılığı aşağıdakilerden hangisidir?**

- A) La ville où les touristes habitent est très tranquille.  
B) Cette ville dont tous les touristes admirent est très tranquille.  
C) Cette ville est très tranquille et les touristes habitent ici.  
D) Cette ville est si tranquille que tous les touristes admirent.

9. Robert: - .....  
Michel: - Pas encore, mais dès que j'en trouverai un, je déménagerai.

**Choisissez la question qui convient.**

**Yukarıdaki konuşmada cevabı gerektiren soru aşağıdakilerden hangisidir?**

- A) Qu'est-ce qui t'arrive?  
B) As-tu trouvé un appartement?  
C) Qu'est-ce que tu fais quand tu vois un enfant qui pleure?  
D) As-tu rencontré un homme pauvre dans la rue?

10. .... je joue avec lui, il est très heureux.

**Choisissez le mot qui convient.**

**Cümledeki boşluğu aşağıdakilerden hangisi doğru şekilde tamamlar?**

- A) Depuis  
B) Parce que  
C) Lorsque  
D) Avant

11. .... utilisez-vous cette machine?

**Choisissez le mot qui convient.**

**Cümledeki boşluğu aşağıdakilerden hangisi doğru şekilde tamamlar?**

- A) Comme  
B) Car  
C) Depuis quand  
D) Puisque

12. Lorsque ma fille travaille, .....

**Complétez la phrase avec la proposition qui convient.**

**Yukarıdaki cümleyi aşağıdaki ifadelerden hangisi doğru şekilde tamamlar?**

- A) elle écoute de la musique classique.  
B) elle aime les gens.  
C) il mange trop.  
D) il apprend tout.

13. faites / voulez / ce que / vous  
I II III IV

**Mettez dans le bon ordre.**

**Yukarıdaki kelimelerin anlamlı ve kurallı bir cümle oluşturan sırası aşağıdakilerin hangisinde doğru olarak verilmiştir?**

- A) I, III, IV, II  
B) I, IV, III, II  
C) II, IV, I, III  
D) III, IV, I, II

14. - Tu attends ..... longtemps?  
- Oh, ça fait 20 minutes.

**Choisissez le mot qui convient.**

**Cümledeki boşluğu aşağıdakilerden hangisi doğru şekilde tamamlar?**

- A) quand  
B) depuis  
C) combien  
D) combien de temps

15. C'est lui ..... a fermé la porte.

Choisissez le mot qui convient.

Cümledeki boşluğu aşağıdakilerden hangisi doğru şekilde tamamlar?

- A) qui
- B) que
- C) nous
- D) ou

16. I. Elle arrive quand?

II. À trois heures.

III. Vous avez l'heure?

IV. À trois heures du matin?

Choisissez la phrase qui **ne convient pas** à l'ensemble.

Sırasıyla okunduğunda anlam bütünlüğünü bozan cümle aşağıdakilerden hangisidir?

- A) I
- B) II
- C) III
- D) IV

17. cette / chante / qui / chanson?

I II III IV

Mettez dans le bon ordre.

Yukarıdaki kelimelerin anlamlı bir bütün oluşturan sırası aşağıdakilerin hangisinde doğru olarak verilmiştir?

- A) I, IV, II, III
- B) II, I, IV, III
- C) II, IV, III, I
- D) III, II, I, IV

18. Le voyage a été ..... par nos amis.

Choisissez le mot qui convient.

Cümledeki boşluğu aşağıdakilerden hangisi doğru şekilde tamamlar?

- A) transporté
- B) écrit
- C) organisé
- D) cassé

19. C'est cette maison que je veux acheter.

Choisissez la traduction qui convient.

Yukarıdaki cümlelerin Türkçe karşılığı aşağıdakilerden hangisidir?

- A) Bu evi satın almak istiyorum.
- B) Satın almak için bu evi seçtim.
- C) Satın alacağım ev böyle olmalı.
- D) Satın almak istediğim ev bu.

20. Achetez ..... vous voulez.

Choisissez le mot qui convient.

Cümledeki boşluğu aşağıdakilerden hangisi doğru şekilde tamamlar?

- A) puisque
- B) que
- C) qui
- D) ce que

1. Aşağıdakilerden hangisi yüksek mahkemelerden biri değildir?
  - A) Askeri Yüksek İdare Mahkemesi
  - B) Uyuşmazlık Mahkemesi
  - C) Sayıştay
  - D) Danıştay
2. Mülk edinmeye ilişkin düzenlemeler hangi hukuk dalı içerisinde yer almaktadır?
  - A) Medeni Hukuk
  - B) İş Hukuku
  - C) Devletler Özel Hukuku
  - D) Fikri Hukuk
3. Sosyal hayatı düzenleyen kurallardan hangisi iyiliğe ve vicdani ödevlere ilişkin kurallar bütünü olarak tanımlanır?
  - A) İktisat kuralları
  - B) Hukuk kuralları
  - C) Ahlak kuralları
  - D) Din kuralları
4. "Anayasanın üstünlüğü ilkesi" ne anlama gelir?
  - A) Anayasadan daha üst bir norm getirilemeyeceği
  - B) Anayasanın hükümlerinin değiştirilemeyeceği
  - C) Anayasa değişikliğinin öncelikle görüşülemeyeceği
  - D) Kanunların anayasaya aykırı olamayacağı
5. Kanunların emrettiği durumları düzenlemek için çıkarılan hukuk kaynağı aşağıdakilerden hangisidir?
  - A) Kanun Hükmünde Kararname
  - B) Tüzük
  - C) Yönetmelik
  - D) Tebliğ
6. Bir düzenleyici kurala uygun davranılmadığı takdirde karşılaşıcağımız tepkiye ne ad verilir?
  - A) Yaptırım
  - B) Sosyal düzen kuralı
  - C) Örf
  - D) Görgü
7. Çalışma hayatını, işçilerin ve işverenlerin hak ve yükümlülüklerini düzenleyen hukuk dalı aşağıdakilerden hangisidir?
  - A) Medeni Hukuk
  - B) Borçlar Hukuku
  - C) İş Hukuku
  - D) Ticaret Hukuku
8. Devletin şeklini, yapısını, organların görev ve yetkilerini, birbirleriyle olan ilişkilerini, kişilerin temel hak ve hürriyetlerini düzenleyen kurallar kamu hukukunun hangi bölümünü oluşturur?
  - A) Devletler Genel Hukuku
  - B) Anayasa Hukuku
  - C) Ceza Hukuku
  - D) Yargılama Hukuku
9. "Mahcur" ne demektir?
  - A) Kısıtlı
  - B) Savruk
  - C) Ehliyetli
  - D) Veli
10. Mal topluluğu grubunun en çok rastlanan örneği aşağıdakilerden hangisidir?
  - A) Örgüt
  - B) Sendika
  - C) Dernek
  - D) Vakıf

11. Hukukun tanıdığı hak ve yetkileri kullanabilen, yüklediği yükümlülükleri yüklenen varlığa ne ad verilir?

- A) Kişi
- B) Vasi
- C) Gaip
- D) Kayyum

12. "Mütemmim cüz" ne demektir?

- A) Eklenti
- B) Mülkiyet
- C) Tasarruf
- D) Tamamlayıcı parça

13. Müşterek mülkiyete ilişkin aşağıdaki ifadelerden hangisi doğrudur?

- A) Malın tamamı üzerindeki önemli kararlarda paydaşların eşit oy hakkı vardır.
- B) Her paydaş maldan kendi payı oranında yararlanabilir.
- C) Satış veya biçim değiştirme konularında bir oy fazlalığı karar için yeterlidir.
- D) Paydaş payını ipotek edemez.

14. Aşağıdakilerden hangisi bir şey veya bir malın mülkiyet hakkına konu olabilmesi için gerekli şartlardan biridir?

- A) Ekonomik bir değer taşımaması
- B) Üretilir olması
- C) Egemenlik altına girememesi
- D) Bağımlı bir varlığı olması

15. Sahipsiz bir malın ona sahip olmak niyetiyle ele geçirilmesine ne ad verilir?

- A) İhraz
- B) Tağyir
- C) Zilyetlik
- D) Müruru zaman

16. Aşağıdakilerden hangisi hapis hakkı şartlarından biri değildir?

- A) Alacaklının alacağı muaccel olmalıdır.
- B) Alacaklı, borçlunun mallarını hapis hakkını kullanmak üzere alıkoyduğunu açıkça söylemelidir.
- C) Alacaklının ödeme zamanı gelmemiş olmalıdır.
- D) Alacaklı ile hapis hakkı kullanılan mal arasında tabii bağlantı olmalıdır.

17. Taraflar arasında sözleşmenin yapıldığına kanıt olmak üzere verilen bir miktar paraya ne ad verilir?

- A) Pişmanlık akçesi
- B) Hava parası
- C) Cezai şart
- D) Pey akçesi

18. Borcun ödenmesinde hukukun uygun bulmadığı bir gecikme durumuna ne denir?

- A) İbra
- B) Ahde vefa
- C) Edim
- D) Temerrüt

19. Bir kimsenin bir şey yapmak, bir şey yapmamak veya bir şey vermek biçiminde bir eylemde bulunma yükümlülüğüne ne denir?

- A) Edim
- B) İbra
- C) Tazminat
- D) Borç

20. Bir sözleşmenin oluşabilmesi için gerekli olan irade açıklamasına ne denir?

- A) Teklif
- B) Edim
- C) İcap
- D) Latife

1. Suut Kemal Yetkin'in 'Yokuşa Doğru' adlı eseri aşağıdaki türlerden hangisiyle yazılmıştır?
  - A) Panel
  - B) Tartışma
  - C) Sunum
  - D) Açık oturum
2. Aşağıdakilerden hangisi toplantı sonunda değerlendirme yapılırken dikkat edilmesi gereken ölçülerden biri değildir?
  - A) Toplantı iyi yönetildi mi?
  - B) Konu ile ilişkili yararlı kararlar alındı mı?
  - C) Ortaya konulan sorun yeterince açıklığa kavuşturuldu mu?
  - D) Bildiriler evrensel miydi?
3. Başkanın görevleriyle ilgili aşağıdakilerden hangisi söylenemez?
  - A) Tartışmaya katılanların düşüncelerini rahatlıkla söyleyebilecekleri bir ortam yarattığı
  - B) Duruma ve ortama göre taraflı bir yol izlediği
  - C) Ortaya çıkan düşünceleri oya sunduğu, rapor hazırladığı
  - D) Konu dışına çıkılmasını, tartışmanın kişiselliğe dökülmesini önlediği
4. Dinleyiciler önünde bir söyleşi havasında yapılan, toplumsal sorunların tartışılmasında en sık uygulanan toplantı biçimi aşağıdakilerden hangisidir?
  - A) Panel
  - B) Münakaşa
  - C) Münazara
  - D) Forum
5. Daha önceden belirlenmiş bir konuda farklı görüşlere sahip kişilerin bir araya gelerek konuyu çözümlmek, kendi görüşlerini açıklamak, kanıtlamak, karşı tarafın zayıf noktalarını aramak için yaptıkları söyleşmeye ne ad verilir?
  - A) Sohbet
  - B) Demeç
  - C) Tartışma
  - D) Konferans
6. Bir toplantının asıl amacı aşağıdakilerden hangisidir?
  - A) Bir sorunu çözmek
  - B) Bilgi, görgü ve becerileri sergilemek
  - C) İyi vakit geçirmek
  - D) Hitabet gücünü göstermek
7. Aşağıdakilerden hangisi, basın ve halk önünde gerçekleştirilen tartışma türlerinden biri değildir?
  - A) Münazara
  - B) Panel
  - C) Sempozyum
  - D) Forum
8. Aşağıdakilerden hangisi, sunum esnasında dikkat edilmesi gereken özelliklerden biri değildir?
  - A) Hitap edilecek izleyici hakkında bilgi toplanması
  - B) Sözcüklerin doğru ve yerinde kullanılması
  - C) Seyirciyle vücut diliyle iletişim kurulması
  - D) Jest ve mimiklere özen gösterilmesi
9. Aşağıdakilerden hangisi tartışma kurallarından biri değildir?
  - A) Ortaya çıkan sonucu hoşgörülle karşılamak
  - B) Toplantılara sorunların çözümü için öneriler hazırlayarak gelmek
  - C) Gerçeği uygun ve yararlı olanı bulmaya çalışmak
  - D) Toplantılarda başkanlığın uyarılarını dikkate almamak
10. Aşağıdakilerden hangisi panel ile ilgili yanlış bir ifadedir?
  - A) Panel terimi, Türkçede açık oturum diye adlandırılır.
  - B) Konuşmalarda eleştiri vardır, fakat suçlama yoktur.
  - C) Panelde konu önceden tespit edilir.
  - D) Panelde bir yarışma havası vardır.



## 11. Aşağıdakilerden hangisi panelin tanımıdır?

- A) Bir kişinin bir gruba karşı bir ürün, değişen şirket politikası veya eğitim programının bir yönü hakkında bilgi vermek amacıyla yaptığı konuşmadır.
- B) Bir konunun dinleyiciler önünde söyleşi havasında birkaç kişi tarafından tartışılmasıdır.
- C) Toplantılarda sorunlara çözüm aranırken birbirine karşıt görüşlerin savunulmasıdır.
- D) Herhangi bir sorunu çözümlenmek amacıyla ilgililerin bir araya gelmesidir.

## 12. Tartışmaların topluluk karşısında yapılanlarına ne ad verilir?

- A) Çoklu tartışmalar
- B) Kalabalık tartışmalar
- C) Çoğul tartışmalar
- D) Toplu tartışmalar

13. Aşağıdakilerden hangisi, panelin planında yer almaz?

- A) Panelin sonuca bağlanması
- B) Panelin yapılış nedeni
- C) Bir yarışma havasının hâkimiyeti
- D) Konuşmacılara sorulacak sorular

## 14. Üyelerden bir ya da birkaçı tarafından bir sorunun çözümü için başkanlığa bildirilen görüşe ne ad verilir?

- A) Bildirge
- B) Öngörü
- C) Önerge
- D) Tebliğ

## 15. Bir metni oluşturan söz ve söz öbekleri arasındaki anlam ve mantık bağıntısına ne ad verilir?

- A) Bağdaşıklık
- B) Özgünlük
- C) Tutarlılık
- D) Akıcılık

## 16. Girişten sonra gelen ve onu açıklayan, örneklendiren cümlelerin yer aldığı paragraf aşağıdakilerden hangisidir?

- A) Giriş paragrafı
- B) Sonuç paragrafı
- C) Çözüm paragrafı
- D) Gelişme paragrafı

## 17. Ayrıntısız anlatımın diğer adı aşağıdakilerden hangisidir?

- A) Özet
- B) Tema
- C) Ana fikir
- D) Konu

## 18. Gelişme paragrafı ile ilgili aşağıdaki ifadelerden hangisi doğrudur?

- A) Konu soyutlaştırılır.
- B) Gelişme paragrafında örneklerden, karşıtlıklardan, atasözlerinden yararlanılır.
- C) Uzun yazı türlerinden yararlanılır.
- D) Cümlelerin uzun olmasına özen gösterilir.

19. Aşağıdakilerden hangisi bir metinde bulunması gerekenlerden biri değildir?

- A) Kaba sözcük kullanılmamalıdır.
- B) Kültür dili sözcükleri kullanılmalıdır.
- C) Argo sözcükler ve deyimler kullanılmalıdır.
- D) Sözcükler yanlış yapıyla kullanılmamalıdır.

## 20. Aşağıdaki cümlelerin hangisinde birinci kişi anlatımı vardır?

- A) Çocuklar annelerini gördüler.
- B) Toprak yoldan geldim.
- C) Yavru kediye süt verdiler.
- D) Kız, büyükannesiyile parka gitti.

1. "Alemdağ'da Var Bir Yılan" hikâye kitabında gerçek, rüya ve hayali iç içe ele alan yazar, aşağıdakilerden hangisidir?
  - A) Sait Faik Abasıyanık
  - B) Sabahattin Âli
  - C) Reşat Nuri Güntekin
  - D) Halide Edip Adivar
2. Harf devrimi kaç yılında yapılmıştır?
  - A) 1920
  - B) 1924
  - C) 1928
  - D) 1930
3. "Çalıkuşu" romanı ile yaygın bir ün kazanan, eserlerinde Anadolu kasaba ve şehirlerini fon olarak almış, insanları sorunlarıyla işleyen yazar, aşağıdakilerden hangisidir?
  - A) Peyami Safa
  - B) Reşat Nuri Güntekin
  - C) Sait Faik Abasıyanık
  - D) Sabahattin Âli
4. İspinozlar, 72. Koğuş, Bekçi Murtaza, Kardeş Payı gibi kendi roman ve öykülerinden oyunlaştırdığı eserleriyle Türk tiyatrosunda toplumcu gerçekçi yaklaşımın başarılı örneklerini veren yazar, aşağıdakilerden hangisidir?
  - A) Orhan Kemal
  - B) Ahmet Kutsi Tecer
  - C) Yaşar Kemal
  - D) Oktay Rifat
5. Eserlerinde sosyal konuları tarihi plan içinde ele alan yazar, aşağıdakilerden hangisidir?
  - A) Cevat Şakir Kabaağaçlı
  - B) Haldun Taner
  - C) Kemal Tahir
  - D) Tarık Buğra
6. Aşağıdakilerden hangisi, Güngör Dilmen'in tiyatro eserlerinden biridir?
  - A) İçerdekiler
  - B) Köşe başı
  - C) Ay Işığında Şamata
  - D) Midas'ın Kulakları
7. "Kuyucaklı Yusuf" adlı roman aşağıdaki yazarlardan hangisine aittir?
  - A) Reşat Nuri Güntekin
  - B) Nedim Gürsel
  - C) Leyla Erbil
  - D) Sabahattin Âli
8. Şiirlerinde daha çok büyük şehrin içinde kaybolmuş insanın kırık, karanlık, karmaşık duygularını anlatan şair, aşağıdakilerden hangisidir?
  - A) Behçet Necatigil
  - B) Cahit Külebi
  - C) Fazıl Hüsnü Dağlarca
  - D) Asaf Halef Çelebi
9. Şiirlerinde daha çok ölüm, sonsuzluk, zaman, an, rüya, hülya ve geçmiş zamana duyulan özlemi konu yapan şair, aşağıdakilerden hangisidir?
  - A) Halit Fahri Ozansoy
  - B) Yusuf Ziya Ortaç
  - C) Ahmet Hamdi Tanpınar
  - D) Faruk Nafiz Çamlıbel
10. Aşağıdaki şairlerden hangisi, "Yedi Meşaleciler" topluluğundan biri değildir?
  - A) Yaşar Nabi Nayır
  - B) Ziya Osman Saba
  - C) Yahya Kemal Beyatlı
  - D) Cevdet Kudret
11. Şiirlerinde daha çok "ölüm, kader" gibi temaları işleyen şair aşağıdakilerden hangisidir?
  - A) Ziya Osman Saba
  - B) Muammer Lütfi
  - C) Vasfi Mahir Kocatürk
  - D) Kenan Hulusi Koray

12. "Varlık" dergisinde ölçüsüz, uyaksız, şairanelikten uzak yeni bir şiir akımı başlatan üç şair, aşağıdakilerin hangisinde birlikte ve doğru olarak verilmiştir?

- A) Orhan Veli Kanık-Melih Cevdet Anday-Oktay Rifat
- B) Attila İlhan-Orhan Veli Kanık-Melih Cevdet Anday
- C) Ömer Faruk Toprak-Arif Damar-Ahmet Arif
- D) Rifat Ilgaz-Enver Gökçe- Oktay Rifat

13. Aşağıdaki gazetelerden hangisini İbrahim Şinasi ve Âgah Efendi çıkarmıştır?

- A) Vakit
- B) Ceride-i Havadis
- C) Tercüman-ı Ahval
- D) Takvim-i Vekayi

14. Günlük olayları, yurt sorunlarını veya herhangi bir konuyu belli bir görüş açısından ele alan kısa yazılara ne ad verilir?

- A) Söylev
- B) Fıkra
- C) Anı
- D) Deneme

15. Aşağıdakilerden hangisi makalenin özelliklerinden biri değildir?

- A) Öne sürülen düşüncenin inandırıcı biçimde geliştirilmiş olması ve kanıtlanması
- B) Konu bakımından sınırlı olması
- C) Söz oyunlarına başvurulmaması
- D) Anlatımın yalın ve yoğun olması

16. Bir insanın gezip gördüğü yerlerden edindiği izlenimleri, bilgileri aktardığı yazılara ne ad verilir?

- A) Deneme
- B) Söylev
- C) Fıkra
- D) Gezi yazısı

17. Aşağıdakilerden hangisi, gezi yazısı, anı ve röportaj türünün ortak özelliklerinden biridir?

- A) Konu sınırlamasının olması
- B) Yazarların gözlem, izlenim ve yansımalarına dayanması
- C) İddia ve ispat yazıları olması
- D) Yaşanmakta olan olayların anlatılması

18. Bilim, sanat, kültür ve başka konularda bilgi vermek, bir düşünceyi ortaya koymak ya da savunmak amacıyla yazılan, yazarın kişisel görüşlerini de yansıttığı gazete ve dergi yazılarına ne ad verilir?

- A) Fıkra
- B) Günce
- C) Deneme
- D) Makale

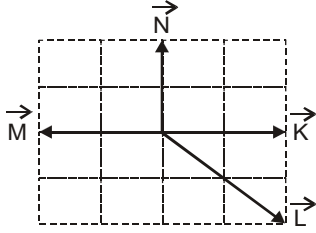
19. Gezi edebiyatının ilk klasik örneğini veren seyyah aşağıdakilerden hangisidir?

- A) Stendhal
- B) Victor Hugo
- C) Dostoyevski
- D) Marco Polo

20. Aşağıdakilerden hangisi "deneme" türünün özelliklerinden biri değildir?

- A) Kısa olması
- B) Belirli bir planla yazılması
- C) Samimi bir dil kullanılması
- D) Düşünceyi kabul ettirme, kesin bir sonuca gitme gibi bir amacının olmaması

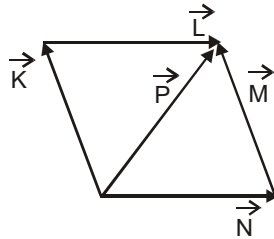
1.



Yukarıdaki şekildeki vektörlerle yapılan  $\vec{R} = \vec{K} - 2\vec{L} - \vec{M} - \vec{N}$  işleminin sonucu kaçtır?

- A) K
- B) L
- C) M
- D) N

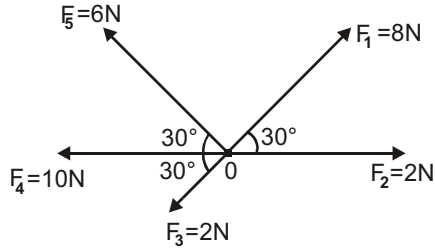
2.



Yukarıdaki şekildeki vektörlerin her birinin değeri  $x$  olduğuna göre, beş vektörün bileşkesinin değeri kaç  $x$  tir?

- A)  $x$
- B)  $2x$
- C)  $3x$
- D)  $4x$

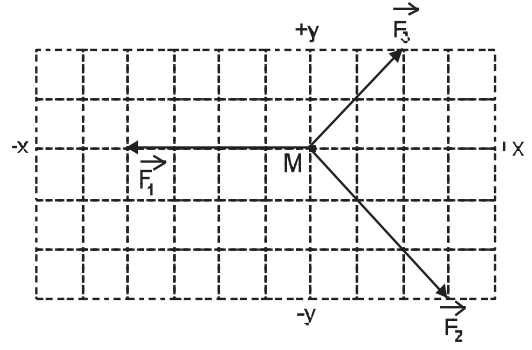
3.



Yukarıdaki şekilde  $O$  noktasına etki eden kuvvetlerin bileşkesi kaç N dur?

- A) 4
- B) 6
- C) 8
- D) 10

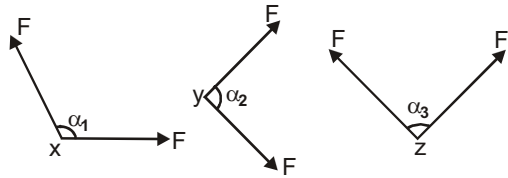
4.



Noktasal  $M$  cisminin  $+x$  yönünde hareket etmesi için hangi yönde, kaç birimlik bir kuvvet daha uygulanmalıdır? (Her bölme bir birimdir)

- A)  $+y$  yönünde 2 birim
- B)  $+y$  yönünde 1 birim
- C)  $-y$  yönünde 2 birim
- D)  $+x$  yönünde 1 birim

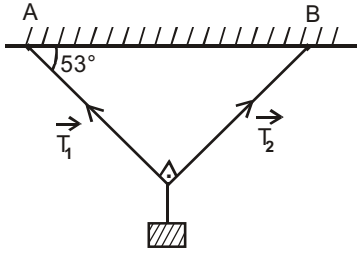
5. Aşağıdaki şekilde eşit büyüklükteki kuvvetler noktasal  $x$ ,  $y$  ve  $z$  cisimlerine  $\alpha_1, \alpha_2$  ve  $\alpha_3$  açılarıyla etki etmektedir.



Bu bilgilere göre,  $R_x \rangle R_y \rangle R_z$  ise, açılar arasındaki ilişki aşağıdakilerden hangisidir?

- A)  $\alpha_1 \rangle \alpha_2 \rangle \alpha_3$
- B)  $\alpha_3 \rangle \alpha_2 \rangle \alpha_1$
- C)  $\alpha_2 \rangle \alpha_1 \rangle \alpha_3$
- D)  $\alpha_2 \rangle \alpha_3 \rangle \alpha_1$

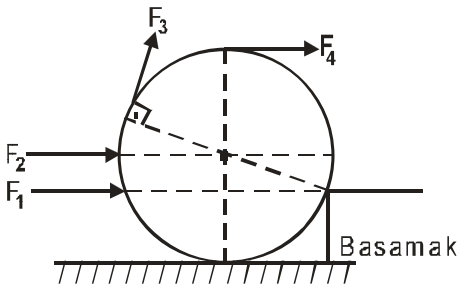
6. Aşağıdaki şekilde 30 N'luk bir yük tavanın A ve B noktalarına şekildeki gibi asılmıştır.



Bu bilgilere göre,  $\vec{T}_1$  ve  $\vec{T}_2$  kuvvetlerinin toplamı  $(\vec{T}_1 + \vec{T}_2)$  kaç N dur? (Sin $53^\circ$ =Cos $37^\circ$ =0,8; Sin $37^\circ$ =Cos $53^\circ$ =0,6; Sin $90^\circ$ =1)

- A) 56  
B) 48  
C) 44  
D) 42

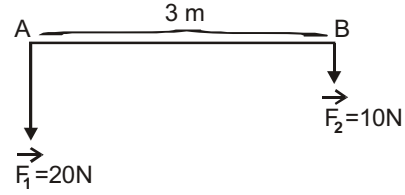
7. Yukarıdaki şekildeki tekeri basamaktan çıkarmak için  $F_1, F_2, F_3, F_4$  ve  $F_5$  kuvvetlerinin ayrı ayrı uygulanması düşünülmektedir.



Buna göre, tekeri basamaktan çıkarabilen en küçük değerli kuvvet aşağıdakilerden hangisidir?

- A)  $F_1$   
B)  $F_2$   
C)  $F_3$   
D)  $F_4$

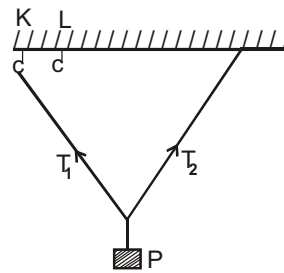
8. Aşağıdaki şekilde ağırlığı önemsiz 3m uzunluğundaki homojen çubuğun uçlarına  $\vec{F}_1=20N$  ve  $\vec{F}_2=10N$ 'luk iki kuvvet etki etmektedir.



Buna göre, sisteme etki eden bileşke kuvvetin büyük kuvvete uzaklığı kaç metredir?

- A) 0,5  
B) 1  
C) 1,5  
D) 2

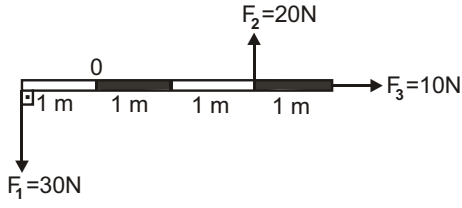
9. P cismi eşit uzunluktaki  $T_1$  ve  $T_2$  iplerine aşağıdaki şekildeki gibi asılarak dengelenmiştir.



Bu bilgilere göre, ip K kancasından L kancasına takıldığında sırayla  $T_1$  ve  $T_2$  iplerindeki gerilme kuvvetleri nasıl değişir?

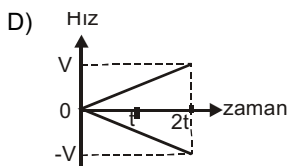
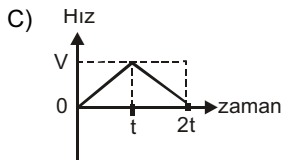
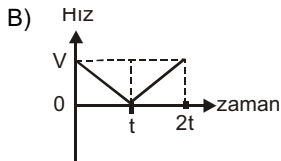
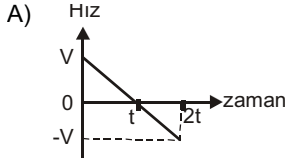
- A) Azalır. - Azalır.  
B) Artar. - Artar.  
C) Artar. - Değişmez.  
D) Azalır. - Değişmez.

10. Her bölümü 1 metre uzunluğundaki bir çubuğa  $F_1, F_2$  ve  $F_3$  kuvvetleri yukarıdaki şekildeki gibi uygulanmaktadır.

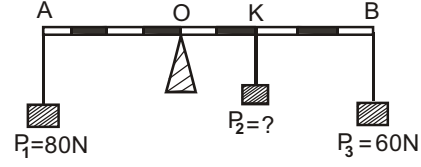


Buna göre, bu kuvvetlerin O eksenine göre  $M_1, M_2$  ve  $M_3$  momentleri büyüklük bakımından sıralanışı aşağıdakilerden hangisidir?

- A)  $M_1 > M_2 > M_3$   
 B)  $M_2 > M_1 > M_3$   
 C)  $M_2 > M_3 > M_1$   
 D)  $M_3 > M_2 > M_1$
11. Bir cisim  $t=0$  anında bulunduğu yere  $2t$  süresi sonunda geri dönmektedir. Bu cismin hız-zaman grafiği aşağıdakilerden hangisi olabilir?



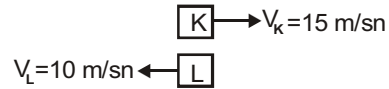
12. Eşit bölmeli türdeş AB çubuğuna  $P_1, P_2$  ve  $P_3$  yükleri aşağıdaki şekildeki gibi asılmıştır.



Buna göre, bu sistemin yatay konumda dengede kalabilmesi için K noktasına asılan  $P_2$  yükünün değeri kaç N olmalıdır? (Çubuk ağırlığı önemsizdir.)

- A) 5  
 B) 10  
 C) 15  
 D) 20

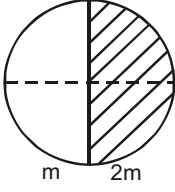
13. Aşağıdaki şekilde  $t=0$  anında yan yana olan K ve L araçları  $V_K=15\text{m/sn}$  ve  $V_L=10\text{m/sn}$  hızla ters yönlere 20 sn hareket etmektedir.



Bu bilgilere göre, 20 sn sonunda K ve L araçlarının aralarındaki uzaklık kaç metredir?

- A) 300  
 B) 400  
 C) 500  
 D) 600

14. Aşağıdaki şekilde kütleleri  $m$  ve  $2m$  olan, kendi içlerinde türdeş iki yarım daire şeklindeki levha birbirine yapıştırılmıştır.



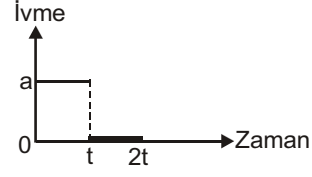
Bu bilgilere göre, cisim aşağıdaki asılma biçimlerinden hangisinde dengede kalabilir?

- A)
- B)
- C)
- D)

15. Büyüklükleri  $3N$ ,  $4N$  ve  $5N$  olan üç kuvvetin bileşkesinin büyüklüğü aşağıdakilerden hangisi olamaz?

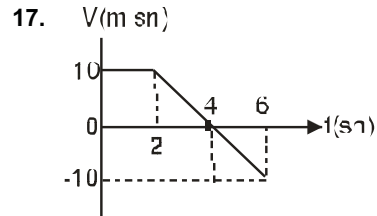
- A) 9  
B) 10  
C) 12  
D) 15

16. Aşağıdaki şekilde durgun halden harekete geçen bir cismin ivme-zaman grafiği verilmiştir.



Buna göre, cismin  $(0-t)$  aralığında aldığı yol  $x$  ise,  $(0-2t)$  aralığında aldığı yol kaç  $x$  olur?

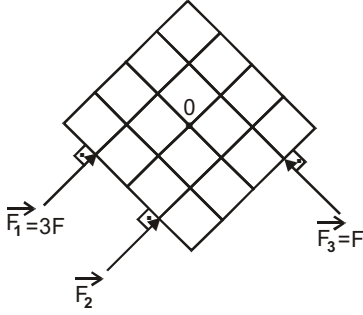
- A)  $x$   
B)  $2x$   
C)  $3x$   
D)  $4x$



Hız-zaman grafiği yukarıdaki şekildeki gibi olan bir cisim  $(0-6)$  sn aralığında yer değiştirmesi kaç metredir?

- A) 20  
B) 30  
C) 40  
D) 50

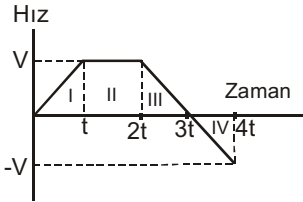
18.



Yukarıdaki şekilde O noktasından etrafında dönebilen bir levhaya  $\vec{F}_1$ ,  $\vec{F}_2$  ve  $\vec{F}_3$  kuvvetleri uygulanmaktadır. Levha dengede olduğuna göre,  $\vec{F}_2$  kuvvetinin büyüklüğü kaç F dir? (Bölmeler eşit aralıktır.)

- A) 1/2
- B) 1
- C) 3/2
- D) 2

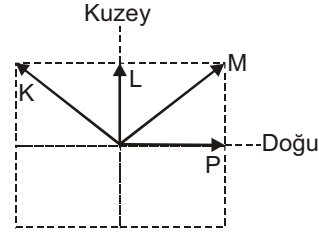
19.



Hız-zaman grafiği yukarıdaki şekilde gibi olan bir cisimle ilgili aşağıdaki ifadelerden hangisi doğrudur?

- A) Cismin II aralığındaki konum değişimi III aralığındakinin iki katıdır.
- B) Cismin II aralığında durmaktadır.
- C) Cismin ivmesi I aralığında düzgün artmaktadır.
- D) Cisim hareketi boyunca 3 kez yön değiştirmiştir.

20. Aşağıdaki şekilde K, L M ve P araçlarının yere göre hızları verilmiştir.

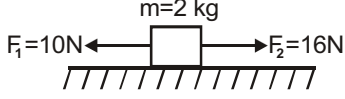


Buna göre, K, L ve P araçlarındaki gözlemcilerden hangileri M aracını doğuya doğru gidiyormuş gibi görür?

- A) Yalnız K
- B) Yalnız L
- C) K ve L
- D) K ve P



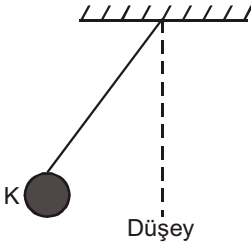
1.



Yukarıdaki şekilde 2 kg kütleli bir cismin, zıt yönlü  $F_1=10\text{N}$  ve  $F_2=16\text{N}$  luk iki kuvvetin etkisi altında kazanacağı ivme kaç  $\text{N/kg}$  dır?

- A) 3
- B) 5
- C) 8
- D) 11

2. Aşağıdaki şekilde bir ucundan tavana tutturulmuş ipin öteki ucuna bağlı K cismi salınım yapmaktadır.



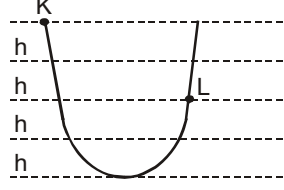
Buna göre, ip şekildeki konumdan düşey konuma gelinceye kadar aşağıdakilerden hangisinde azalma olur?

- A) K cisminin kinetik enerjisinde
- B) K cisminin toplam enerjisinde
- C) K cisminin hızında
- D) K cisminin yere göre potansiyel enerjisinde

3. 2 kg kütleli bir cismin, zıt yönlü 12 N ve 8 N'luk iki kuvvetin etkisi altında kazanacağı ivme kaç  $\text{N/kg}$  dır?

- A) 2
- B) 4
- C) 6
- D) 10

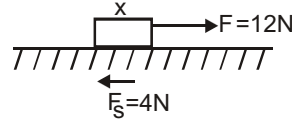
4.



Yukarıdaki şekildeki sürtünmesiz rayın K noktasından serbest bırakılan cismin L noktasındaki kinetik enerjisi kaç  $mgh$  tır?

- A) 0
- B) 1
- C) 2
- D) 3

5. Aşağıdaki şekilde x cismi, sürtünme kuvvetinin büyüklüğü  $F_s=4\text{N}$  olduğu düzgün bir yolda, yol doğrultusuna paralel olan  $F=12\text{N}$  büyüklüğündeki bir kuvvetin etkisiyle hareket etmektedir.



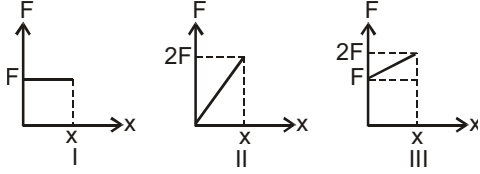
Bu bilgilere göre, net kuvvetin yaptığı iş 40 Joule ise, cisim kaç metre yol almıştır?

- A) 2
- B) 3
- C) 4
- D) 5

6. Kütleli m, hızı V olan x cisminin kinetik enerjisi E dir. Kütleli 2m, hızı 2V olan y cisminin kinetik enerjisi kaç E olur?

- A) 16
- B) 8
- C) 6
- D) 4

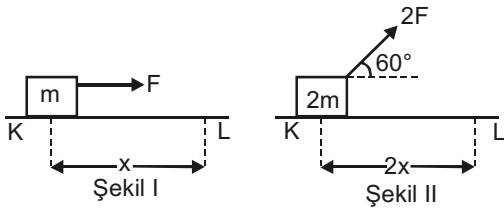
7. Durmakta olan  $m$ ,  $2m$  ve  $m$  kütleli cisimlere uygulanan kuvvet-yer değişimi aşağıdaki grafiklerde verilmiştir.



Bu bilgilere göre, cisimlerin  $x$  yolu sonundaki hızları  $V_1$ ,  $V_2$  ve  $V_3$  arasındaki ilişki aşağıdakilerden hangisidir?

- A)  $V_1 > V_2 > V_3$   
 B)  $V_1 = V_3 > V_2$   
 C)  $V_3 > V_1 > V_2$   
 D)  $V_1 > V_3 > V_2$

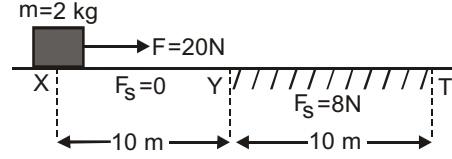
8. Aşağıdaki şekillerde sürtünmesiz olan her iki sistemde, sırasıyla ağırlıkları  $m$  ve  $2m$  olan ve durmakta olan cisimlere  $F$  ve  $2F$  kuvvetleri uygulanarak K den L ye getirilmektedir.



Bu bilgilere göre, kuvvetlerin cisimler üzerine yaptığı işler  $W_1$  ve  $W_2$  ise,  $W_1/W_2$  oranı kaçtır? ( $\sin 30^\circ = 0,5$ )

- A)  $1/4$   
 B)  $1/2$   
 C)  $1$   
 D)  $2$

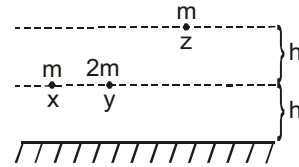
9. Aşağıdaki şekilde yatay yolun  $x$  noktasında durmakta olan cisme  $F=20\text{N}$  luk yatay kuvvet XYT yolu boyunca uygulanmaktadır.



Bu bilgilere göre, cisme YT yolu boyunca  $F_s=8\text{N}$  luk sürtünme kuvveti etki ederse, cisim üzerine yapılan toplam iş kaç Joule dür?

- A) 40  
 B) 80  
 C) 200  
 D) 320

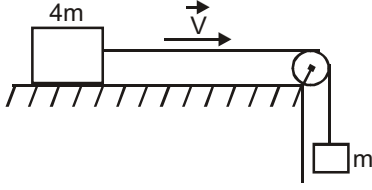
10. Aşağıdaki şekildeki konumlardan serbest bırakılan  $x$ ,  $y$  ve  $z$  cisimlerinin kütleleri sırasıyla  $m$ ,  $2m$  ve  $m$  dir.



Bu bilgilere göre, cisimlerin yere çarptıkları andaki kinetik enerjisi  $E_x$ ,  $E_y$  ve  $E_z$  arasındaki ilişki aşağıdakilerden hangisidir? (Sürtünme yoktur.)

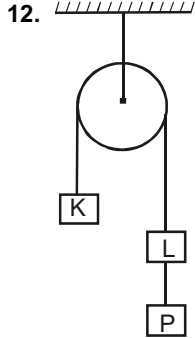
- A)  $E_x > E_y > E_z$   
 B)  $E_z > E_y > E_x$   
 C)  $E_y = E_z > E_x$   
 D)  $E_x = E_z > E_y$

11. Aşağıdaki sistem ok yönünde değişmeyen  $V$  hızıyla hareket etmektedir.



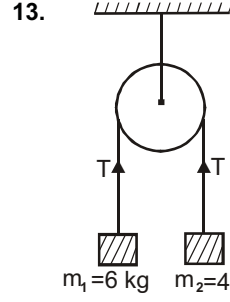
Bu bilgilere göre,  $4m$  kütlesi ile yüzey arasındaki sürtünme katsayısının değeri kaçtır?

- A)  $1/8$   
B)  $1/6$   
C)  $1/5$   
D)  $1/4$



Yukarıdaki şekilde sürtünmesiz bir sistemde K, L ve P cisimlerinin kütleleri eşit ve  $m$  dir. Sistem serbest bırakıldıktan bir süre sonra L ve P cisimleri arasındaki ip kopmuştur. K cisminin bundan sonraki hareketi için aşağıdakilerden hangisi söylenebilir?

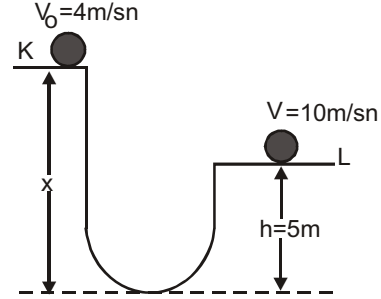
- A) İpin koptuğu andaki hızla hareket eder.  
B) Hareket etmez.  
C) Düzgün yavaşlar, durur.  
D) Daha küçük ivme ile hızlanır.



Yukarıdaki şekilde sürtünmesiz sistem serbest bırakıldığında, sistemin ivmesi kaç  $N/kg$  olur? ( $g=10N/kg$ )

- A)  $0,5$   
B)  $1$   
C)  $2$   
D)  $4$

14. Aşağıdaki şekilde sürtünmesiz ortamda K dan  $V_0=4m/sn$  lik hızla atılan cisim L den  $V=10m/sn$  lik hızla geçmektedir.



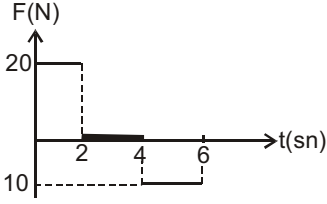
Bu bilgilere göre,  $x$  yüksekliği kaç metredir? ( $g=10m/sn^2$ )

- A)  $10,8$   
B)  $9,2$   
C)  $8$   
D)  $7,2$

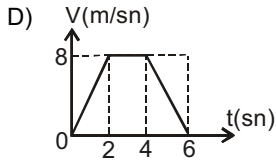
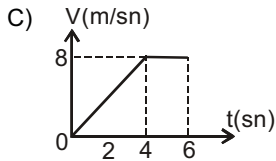
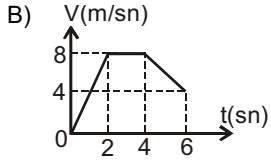
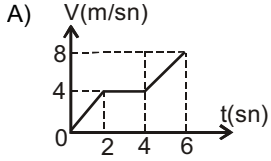
15. Sürtünme kuvvetiyle ilgili aşağıdaki ifadelerden hangisi yanlıştır?

- A) Sürtünme kuvveti, daima hareketi hızlandırır.  
B) Sürtünme kuvveti, sürtünen yüzeylerin cinsine bağlıdır.  
C) Sürtünme kuvveti, daima harekete ters yönde oluşur.  
D) Sürtünme kuvveti, sürtünen yüzeylere dik olan kuvvetle doğru orantılıdır.

16. Sürtünmesiz yatay düzlemde duran 5 kg kütleli bir cisme uygulanan yatay kuvvetin zamana bağlı değişimi aşağıdaki grafikte verilmiştir.



Bu bilgilere göre, cismin hız-zaman grafiği aşağıdakilerden hangisidir?

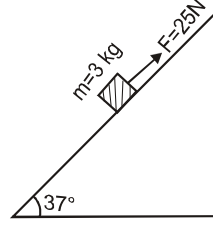


17. Kütleleri  $m_1=m$  ve  $m_2=3m$  olan iki cismin potansiyel enerjileri eşittir.

Buna göre, cisimlerin yükseklikleri  $h_1$  ve  $h_2$  arasındaki ilişki aşağıdakilerden hangisidir?

- A)  $h_1=h_2$   
B)  $h_1=2h_2$   
C)  $h_1=3h_2$   
D)  $2h_1=h_2$

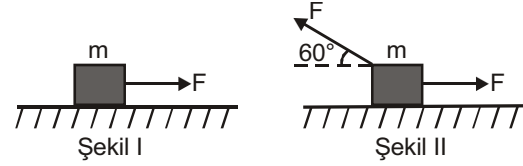
18. Aşağıdaki şekilde eğik düzlem üzerindeki  $m=3$  kg kütleli cisim F kuvveti yönünde sabit hızla hareket etmektedir.



Bu bilgilere göre, cisme etki eden sürtünme kuvveti kaç N dur? ( $\sin 37=0,6$ ;  $\cos 37=0,8$ ;  $g=10\text{m/sn}^2$ )

- A) 7  
B) 12  
C) 18  
D) 25

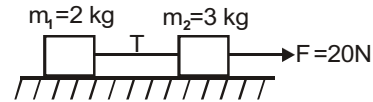
- 19.



Şekil I deki m kütleli cisim F kuvvetinin etkisinde k ivmesini kazanmaktadır. Aynı cisim Şekil II deki kuvvetlerin etkisinde kalırsa ivmesi kaç k olur? ( $\cos 60=0,5$  ve Sürtünme önemsizdir.)

- A)  $k/4$   
B)  $k/2$   
C)  $k$   
D)  $2k$

20. Aşağıdaki şekilde sürtünmesiz yatay düzlemde birbirine ipe bağlanan  $m_1$  ve  $m_2$  kütlelerine  $F=20\text{N}$  luk yatay kuvvet uygulanmaktadır.



Bu bilgilere göre, iptе oluşan T gerilme kuvveti kaç N dur?

- A) 2  
B) 3  
C) 5  
D) 8

1. Vitaminlerle ilgili aşağıdaki ifadelerden hangisi doğrudur?

- A) Bütün vitaminler suda erirler.
- B) A vitamini kan içinde sentezlenir.
- C) Vitaminler sindirime uğramadan, kana geçerler.
- D) Hayvanlar kendi vitaminlerini sentezler.

2. Hayvansal bir hücrenin aşağıdaki organellerinden hangisi parçalanırsa, hücrenin canlılığı sona erebilir?

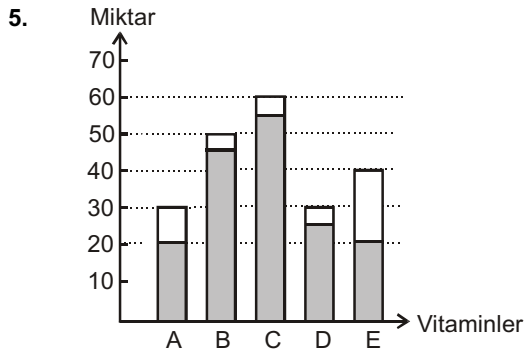
- A) Koful
- B) Sentrozom
- C) Mitokondri
- D) Lizozom

3. Aşağıdakilerden hangisi gelişmiş bütün canlı hücrelerin ortak özelliğidir?

- A) Eşit sayıda ribozom taşıma
- B) Seçici geçirgen bir zarla çevrilmiş olma
- C) Işığa doğru yönelme
- D) Besin sentezleme

4. Aşağıdaki hücrenel organellerden hangisinin kendine özgü DNA'sı ve ribozomları vardır?

- A) Ribozom
- B) Kloroplast
- C) Lizozom
- D) Sentrozom



Sağlıklı bir kimse, bir günde grafikte belirtilen miktarda vitamin almıştır. Aynı kişinin bir günlük vitamin gereksinimi ise taralı olarak belirtilen kadar olduğuna göre, bu kişi en fazla hangi vitaminleri vücuttan dışarı atar?

- A) A – B
- B) C – D
- C) D – E
- D) B – C

6. Aşağıdakilerden hangisi enzimlerin genel özelliklerinden biri değildir?

- A) Cansız ortamda meydana gelirler.
- B) Protein yapılı organik katalizördürler.
- C) Hücre içinde ve dışında aktif olabilirler.
- D) Hücrelerde biyokimyasal tepkimelerin hızını düzenler.

7. Aşağıdaki organellerden hangisinin işlevini yapması doğrudan işiğe bağlıdır?

- A) Hücre zarı
- B) Mitokondri
- C) Kloroplast
- D) Lizozom

8. Memelilerin kanında bulunan akyuvarların sitoplazmik uzantılar (yalancı ayak) oluşturarak mikropları sarması ve yemesi, aşağıdaki olaylardan hangisine örnek gösterilebilir?

- A) Pinositoz
- B) Ekzositoz
- C) Osmoz
- D) Fagositoz

9. Aşağıdakilerden hangisi RNA'nın (ribonükleik asit) bir özelliği değildir?

- A) Azotlu bazlardan Adenin Timinle birleşir.
- B) Tek iplikten oluşmuştur.
- C) Yapısında riboz şekeri bulunur.
- D) Yapısında urasil bazı bulunur.

10. ATG ve AGC nükleotitlerinden oluşan bir DNA ipliğini tamamlayan karşı iplikteki nükleotit dizilişi aşağıdakilerden hangisidir?

- A) UAC UCG
- B) ATG AGC
- C) AUG AGC
- D) TAC TCG

11. Peptit bağı aşağıdaki moleküllerden hangilerinin birleşmesi sonucu oluşur?

- A) Glikoz – Glikoz
- B) Aminoasit – Aminoasit
- C) Glikoz – Aminoasit
- D) Aminoasit – Yağ asidi

12. Aşağıdakilerden hangisi inorganik bileşik yapılıdır?

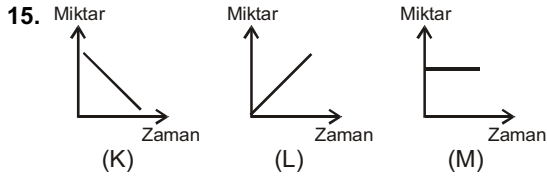
- A) Mineraller
- B) Karbonhidratlar
- C) Proteinler
- D) Yağlar

13. Aşağıdakilerden hangisi Dünya'da doğal kaynakların yok olmasında temel etkindir?

- A) Besin kaynaklarının artışı
- B) Planlı kentleşmenin artışı
- C) Türlerdeki çeşitliliğin artışı
- D) Hızlı nüfus artışı

14. ATP sentezlemek, kendi kendine çoğalmak, DNA içermek gibi özelliklerin tümüne sahip olan organel aşağıdakilerden hangisidir?

- A) Kloroplast
- B) Ribozom
- C) Mitokondri
- D) Sentrozom



Bir bitki hücresinde gerçekleşen polisakarit oluşumunda, tepkimeye giren ve çıkan maddelerin miktarlarındaki değişimi yukarıdaki grafiklerde gösterilmiştir.

K, L ve M grafikleri aşağıdakilerden hangilerine aittir?

| K            | L        | M     |
|--------------|----------|-------|
| A) Aminoasit | Protein  | Enzim |
| B) Glikoz    | Nişasta  | Enzim |
| C) Yağ asidi | Yağ      | Su    |
| D) Su        | Glikojen | Enzim |

16. Canlılarda aşağıdaki maddelerden hangisi proteinleri aminoasitlere dönüştürür?

- A) Enzim
- B) Vitamin
- C) Hormon
- D) Mineral

17. Bir hücrenin, hücre içi ve hücre dışı sıvılarının derişimleri eşitlendiği an, aşağıdaki biyolojik olaylardan hangisinin sona ermesi beklenir?

- A) Karbondioksit üretimi
- B) Oksijen tüketimi
- C) Osmoz
- D) Metabolizma

18. Canlılar, aşağıda belirtilen yaşamsal etkinliklerden hangisini gerçekleştirirken ATP kullanmazlar?

- A) Aktif taşımada
- B) Suyun difüzyonunda
- C) Protein sentezinde
- D) Hücre bölünmesinde

19. Aşağıdakilerden hangisi canlının enerji gereksinimini karşılamaz?

- A) Vitamin
- B) Nişasta
- C) Protein
- D) Yağ

20. Aşağıdakilerden hangisi tüm canlılar için ortak özelliklerden biri değildir?

- A) Hücreli yapıya sahip olma
- B) Uyarılara tepki verme
- C) Kendi besinini sentezleyebilme
- D) Büyüme ve gelişme

1. Tiroid bezi tamamen çıkarılan bir memelide, bu bezin eksikliğine bağlı olarak, aşağıdaki değişikliklerden hangisinin meydana gelmesi beklenemez?
- A) Oksijenle besinlerin hızla yakılması  
B) Besin yıkımında azalma  
C) Metabolik olaylarda azalma  
D) Uyuşuklukta artma
2. Yüksek yapılı (organizasyonlu) hayvanlarda, hücreler arası iletişim ve homeostasis aşağıdakilerden hangi ikisi tarafından gerçekleştirilir?
- A) Sinir sistemi ve kan dolaşımı  
B) Hormonlar ve sinir sistemi  
C) Kas sistemi ve kan dolaşımı  
D) Kas sistemi ve hormonal sistem
3. Aşağıdakilerden hangisi gövde iskeletinde bulunur?
- A) Uyluk kemiği  
B) Alın kemikleri  
C) Parmak kemikleri  
D) Kaburga kemiği
4. Omurgalıların sindirim kanalı boşluğunun herhangi bir bölgesinde, aşağıdaki reaksiyonlardan hangisi meydana gelmez?
- A) Nişasta → Maltoz + Dekstrin  
B) Glukoz → CO<sub>2</sub> + H<sub>2</sub>O  
C) Protein → Peptonlar  
D) Pepton → Peptitler
5. Soymuk boruları ile ilgili aşağıdaki ifadelerden hangisi yanlıştır?
- A) Kalburlu borular da denir.  
B) Hücreler arasında delikler vardır.  
C) Organik maddeler taşınır.  
D) Soymuk borularındaki iletim, odun borularına göre daha hızlıdır.
6. Aşağıdakilerden hangisi kanama olduğunda pıhtılaşmayı sağlayarak kanın vücut dışına akmasını durdurur?
- A) Lenfositler  
B) Trombositler  
C) Lökositler  
D) Eritrositler
7. Gözün yapısında bulunan aşağıdaki kısımlardan hangisi ağ tabakada yer alır?
- A) Kornea  
B) İris  
C) Koni hücreleri  
D) Göz merceği
8. Alyuvarlar ile ilgili aşağıdaki ifadelerden hangisi yanlıştır?
- A) Yaşam suresini tamamlayan alyuvarlar karaciğer ve dalakta parçalanır.  
B) Hemoglobin içerdiğinden kırmızı renktedir.  
C) Yaşam süreleri 2 gündür.  
D) Gaz alışverişini sağlarlar.
9. Aşağıdakilerden hangisi beyincik, omurilik soğani ve omurilik arasında bağlantı kuran, sinirlerin geçtiği ve göz reflekslerinin kontrol edildiği yerdir?
- A) Talamus  
B) Hipotalamus  
C) Orta beyin  
D) Beyincik
10. Aşağıdakilerden hangisi böbreklerde fazla suyun geri emilimini sağlayan hormondur?
- A) Kalsitonin  
B) Parathormon  
C) Prolaktin  
D) Vazopressin
11. I. Uzağı iyi görememe  
II. Yakını iyi görememe  
III. Renkleri ayıramama
- Yukarıdakilerden hangileri miyop hastalığında görülür?
- A) Yalnız I  
B) I ve II  
C) I ve III  
D) II ve III
12. Şeker hastalığı aşağıdaki hormonlardan hangisinin eksikliğinde görülür?
- A) Aldosteron  
B) Kalsitonin  
C) Tiroksin  
D) İnsülin

13. Aşağıdakilerin hangisinde hidrostatik iskelet bulunmaz?

- A) Midye
- B) Denizanası
- C) Hidra
- D) Halkalı solucan

14. Aşağıdakilerden hangisi yassı kemiktir?

- A) Kaval kemiği
- B) El parmak kemikleri
- C) Uyluk kemiği
- D) Kürek kemiği

15. Bitkilerin sıcaklığa bağlı olarak gerçekleştirdiği harekete ne ad verilir?

- A) Fotonasti
- B) Termonasti
- C) Sismonasti
- D) Tigmotropizma

16. İnsanlarda boyun omuru kaç adettir?

- A) 4
- B) 5
- C) 7
- D) 12

17. Aşağıdakilerden hangisi sindirim sisteminde yer almaz?

- A) Dalak
- B) İncebağırsak
- C) Yutak
- D) Yemek borusu

18. Yağları, yağ asitlerine ve gliserole parçalayan enzim aşağıdakilerden hangisidir?

- A) Kimotripsin
- B) Maltaz
- C) Lipaz
- D) Tripsin

19. Kaburgaların altında, karın boşluğunun sol üst bölgesinde bulunan organ aşağıdakilerden hangisidir?

- A) Mide
- B) Safra kesesi
- C) Karaciğer
- D) Kalınbağırsak

20. Aşağıdakilerden hangisi disakkaritlerin, monosakkaritlere parçalandığı yerdir?

- A) Kalınbağırsak
- B) İncebağırsak
- C) Ağız
- D) Mide



1. Cinsiyeti veya eşeyi belirleyen kromozomlara ne ad verilir?
  - A) Otozom
  - B) Genotip
  - C) Gonozom
  - D) Monohibrit
2. Günümüzde gen klonlamasında yaygın olarak kullanılan vektörler aşağıdaki seçeneklerden hangisinde birlikte ve doğru olarak verilmiştir?
  - A) Bitkii DNA'ları ve bakteri plâzmitleri
  - B) Bitki ve virüs DNA'ları
  - C) Bakteri plâzmitleri ve virüs DNA'ları
  - D) Hayvan ve bitki DNA'ları
3. Bir özellik için iki farklı alel içeren bireyin fenotibinde etkisi görülmeyen karaktere ne ad verilir?
  - A) Aktif karakter
  - B) Baskın karakter
  - C) Gerçek karakter
  - D) Çekinik karakter
4. O (sıfır) kan grubundan bir kadınla homozigot B grubundan bir erkeğin doğacak çocuklarının kan plazmasında A antikorunu bulunma olasılığı yüzde kaçtır?
  - A) 100
  - B) 75
  - C) 50
  - D) 25
5. Bazı kimyasal maddeler ve enzimler ile canlı hücrelere ait hücre zarı veya canlı hücre duvarının yıkılıp DNA'nın ortaya çıkarılmasına ne ad verilir?
  - A) RNA izolasyonu
  - B) DNA polimeraz
  - C) RNA polimeraz
  - D) DNA izolasyonu
6. Çevresel faktörlerin etkisiyle genlerin işleyişinde meydana gelen kalıtsal olmayan değişikliklere ne ad verilir?
  - A) Popülasyon
  - B) Modifikasyon
  - C) Heterozigot
  - D) Varyasyon
7. Aşağıdakilerden hangisi popülasyondaki genlerin frekansının değişmesine yol açan faktörlerden biri değildir?
  - A) Transkripsiyon
  - B) Mutasyon
  - C) Seleksiyon
  - D) İzolasyon
8. Mühendislik bilgisi ve teknolojinin tıp veya biyoloji bilimlerine uygulanmasına ne ad verilir?
  - A) Molekül biyolojisi
  - B) Biyoteknoloji
  - C) Nükleer tıp
  - D) Endokrin tıp
9. Bir karakter üzerine ikiden fazla alel gen etki etmesine ne ad verilir?
  - A) Dihibrit
  - B) Monohibrit
  - C) Fenotip
  - D) Çok alellilik
10. AA genotipli bireyden A geni taşıyan gamet üretme olasılığı nedir?
  - A) 1/1
  - B) 1/2
  - C) 1/3
  - D) 1/4
11. DNA molekülü zinciri üzerinde yer alan ortalama 1500nükleotitten oluşan DNA bölümüne ne ad verilir?
  - A) Hücre
  - B) RNA
  - C) Gen
  - D) Alyuvar
12. Canlıya ait özelliklerden sorumlu belirli DNA bölümlerine ne ad verilir?
  - A) Uterus
  - B) Ovül
  - C) Gen
  - D) Pistil

13. Hardy-Weinberg kuralı aşağıdaki hangi popülasyon için geçerlidir?

- A) Dengesiz popülasyonlar
- B) Kararsız popülasyonlar
- C) Kararlı popülasyonlar
- D) Pasif popülasyonlar

14. Bir karakter yönünde melez olan bireyene ad verilir?

- A) Monohibrit
- B) Homozigot
- C) Gamet
- D) Genotip

15. 20.000 kişilik bir popülasyonda 5.000 kişi çekinik karakteri gösteriyorsa bu popülasyonda baskın genin frekansı nedir? (q: çekinik gen frekansı, p: baskın gen frekansı)

- A) 0,5
- B) 0,8
- C) 0,10
- D) 0,15

16. Bir karakter için bir çift gen var ve bu genlerden her biri eşit olasılıkla değişmeden gametlere bağımsız olarak geçer.

Bu olayda anlatılmak istenen aşağıdaki hangi kanunla ilgilidir?

- A) Eşitsizlik Kanunuyla
- B) Bağımsız Dağılım Kanunuyla
- C) Pasif Dağılım Kanunuyla
- D) Parental Bölünme kanunuyla

17. Aşağıdakilerden hangisi kalıtsal hastalıklardan biri değildir?

- A) Hemofili
- B) Renk körlüğü
- C) Yarı damaklılık
- D) Sarılık

18. Kuduz aşısı aşağıdaki bilim insanlarından hangisi tarafından bulunmuştur?

- A) Mendel
- B) Manet
- C) Pattinson
- D) Pasteur

19. Gen frekanslarının değişmesinde ve evrimde rol oynayan en önemli etmen aşağıdakilerden hangisidir?

- A) Doğal seçim
- B) İzolasyon
- C) Mutasyon
- D) Göç

20. Aşağıdaki ailelerin hangisinde kan uyumsuzluğu görülür?

| Anne               | Baba            | Çocuk           |
|--------------------|-----------------|-----------------|
| A) Rh <sup>+</sup> | Rh <sup>+</sup> | Rh <sup>+</sup> |
| B) Rh <sup>-</sup> | Rh <sup>+</sup> | Rh <sup>+</sup> |
| C) Rh <sup>-</sup> | Rh <sup>-</sup> | Rh <sup>-</sup> |
| D) Rh <sup>+</sup> | Rh <sup>-</sup> | Rh <sup>+</sup> |

1. “Düşünüyorum öyleyse varım.” kıyası aşağıdakilerden hangisine bir örnektir.

- A) Zincirleme kıyas
- B) Basit kıyas
- C) İkilem
- D) Entimem

2. Aşağıdaki önermelerden hangisi “Her insan yazardır.” önermesi ile eşdeğerdir?

- A) Her yazar insandır.
- B) Hiçbir insan olmayan yazar değildir.
- C) Her yazar olmayan insan olmayandır.
- D) Her insan yazar olmayandır.

3. Aşağıdaki kavram çiftlerinden hangisi çelişik kavramlara bir örnektir?

- A) Katı - Katı olmayan
- B) Hisli - Duygusuz
- C) Kalabalık - Tenha
- D) Açık - Kapalı

4. Aşağıdakilerden hangisi “olumlu-olumsuz” kavram çiftine bir örnektir?

- A) Zengin-Çalışkan
- B) Kredili-Kredisiz
- C) Koyu-Açık
- D) Kaprisli-İnatçı

5. “Aynı niteliğin, aynı zamanda, aynı özneye, aynı bakımdan hem ait olması, hem de olmaması imkânsızdır.”

Aristotelis’in yukarıdaki sözü mantık ilkelerinden hangisini ifade eder?

- A) Özdeşlik
- B) Çelişmezlik
- C) Üçüncü halin olanaksızlığı
- D) Belirsizlik

6. Önerme ile ilgili aşağıdaki ifadelerden hangisi yanlıştır?

- A) Tikel olumlu bir önermenin ters döndürmesi yoktur.
- B) “Her hakem adildir.” önermesinin ters döndürmesi “Her adil olmayan hakemdir.” önermesidir.
- C) Tikel olumsuz bir önermenin düz döndürmesi yoktur.
- D) “Bazı bitkiler kokusuzdur.” önermesinin düz döndürmesi “Bazı kokusuzlar bitkidir.” önermesidir.

7. Aşağıdakilerden hangisi mantık ile ilgili yanlış bir ifadedir?

- A) Mantık, düşüncelerin gerçekte olup olmadıklarını denetler.
- B) Mantık, tüm bilimlerin temelinde yer almak zorundadır.
- C) Mantıklı düşünmek, doğru akıl yürütmek anlamına gelir.
- D) Mantık, doğru düşünmenin kurallarını araştırır.

8. Aşağıdakilerden hangisi geçerli akıl yürütmeyi ifade eder?

- A) Akıl yürütmenin sonucu ile verilen öncüllerin çelişmesidir.
- B) Akıl yürütmenin sonucu ile verilen öncüllerin çelişmelerinin bir arada tutarlı olmalarıdır.
- C) Hem öncüllerin hem de sonucun doğru önermeler olmalarıdır.
- D) Akıl yürütmenin sonucunun, verilen öncüllerden zorunlu olarak çıkmasıdır.

9. Aşağıdaki kıyaslardan hangisi bir ikilem örneğidir?

- A) Ya bu deveyi güdeceksin ya da bu diyardan gideceksin; bu deveyi gütmeyeceksin; o halde bu diyardan gideceksin.
- B) Dans etmek faydalıdır, çünkü ter atarsın.
- C) Eğer sen bir öğretmensen, ne korkak ne de sertsindir; ama sen hem korkaksın hem de sert; o halde sen iyi bir öğretmen değilsin.
- D) Evren ya sonludur ya da sonsuzdur; evren sonlu değildir; o halde evren sonsuzdur.

10. Aşağıdakilerden hangisi bir önerme değildir?

- A) İnsanlar mutsuzdur.
- B) Karpuzun rengi sarıdır.
- C) Gidelim artık buralardan.
- D) Politikacı olmak için etkili konuşmayı bilmek gerekir.

11. Karşılıklı Karesine göre “Bazı bitkiler kırmızıdır.” önermesinin çelişği olan önerme aşağıdakilerden hangisidir?

- A) Bazı bitki olmayanlar kırmızıdır.
- B) Hiçbir bitki kırmızı değildir.
- C) Bütün bitkiler kırmızıdır.
- D) Bazı bitkiler kırmızı değildir.

12. “Hiçbir insan sağlıklı değildir.” önermesinin altık önermesi aşağıdakilerden hangisidir?

- A) Bazı insanlar sağlıklı değildir.
- B) Tüm insanlar sağlıklıdır.
- C) Bazı sağlıklı olmayanlar insandır.
- D) Hiçbir insan olmayan sağlıklı değildir.

13. Aşağıdaki akıl yürütmelerden hangisi tümdengelime bir örnektir?

- A) Bütün kitapların sayfaları vardır. “Sessiz Ev” bir kitaptır. O halde “Sessiz Ev”in sayfaları vardır.
- B) Demir ısıtılınca genişler. Bakır ısıtılınca genişler. O halde madenler ısıtılınca genişler.
- C) Maymunların ve yunusların gülme yetileri vardır. Maymunların aynı zamanda konuşma yetileri vardır. O halde yunusların da konuşma yetileri vardır.
- D) Türkiye’de iklimler değişiyor. Japonya’da iklimler değişiyor. İngiltere’de iklimler değişiyor. Amerika’da iklimler değişiyor. O halde dünyada iklimler değişiyor.

14. Aşağıdaki önermelerden hangisi özdeşlik ilkesine bir örnek değildir?

- A) İnsan insandır.
- B) Her şey güzel ise her şey güzeldir.
- C) Bitkiler ya canlıdır ya da canlı değildir.
- D) Eğer beş kere beş yirmibeş ediyorsa beş kere beş yirmibeş ediyordur.

15. Aşağıdaki kavram çiftlerinden hangisinde, sırasıyla kolektif kavram ile distribütif kavram verilmiştir?

- A) Aile-Çocuk
- B) İnsan-Hayvan
- C) Ali-Bazı insanlar
- D) Milletvekili-Meclis

16. “Hiçbir cimri dost değildir.” önermesinin düz döndürmesi aşağıdakilerden hangisidir?

- A) Bazı cimriler dosttur.
- B) Tüm dostlar cimridir.
- C) Hiçbir cimri olmayan dost olmayandır.
- D) Hiçbir dost cimri değildir.

17. Özelden genele yapılan akıl yürütme biçimine ne ad verilir?

- A) Tümdengelim
- B) Benzeşim
- C) Analoji
- D) Tümevarım

18. Aşağıdakilerden hangisi mantık ilkelerinden biri değildir?

- A) Yeter neden
- B) Özdeşlik
- C) Çelişmezlik
- D) Benzeşim

19. Aşağıdakilerden hangisi zorunlu (apodiktik) bir önermedir?

- A) Balıklar memeli hayvanlardır.
- B) Bazı insanlar güzel yüzlüdür.
- C) Üçgenin iç açıları toplamı 180 derecedir.
- D) “pi” sayısının (3, 14...) virgülden sonraki 665. rakamı “3”tür.

20. Aşağıdakilerden hangisinde, sırasıyla “beyaz” ve “beyazlık” kavramlarının çeşitleri verilmiştir?

- A) Genel kavram - Tekil kavram
- B) Somut kavram - Soyut kavram
- C) Tekil kavram - Soyut kavram
- D) Açık kavram - Genel kavram

1. Bir işletmede olabildiğince az kaynaktan, olabildiğince çok mal ve hizmet üretimi sağlamaya ne ad verilir?
  - A) Verimlilik
  - B) Fayda
  - C) Kâr
  - D) Hizmet
  
2. Aşağıdakilerden hangisi işletmelerin özel amaçlarından biridir?
  - A) Üretimi devam ettirmek
  - B) İşletme çalışanlarına iyi ücret ödemek
  - C) Verimli olmak
  - D) Mal veya hizmet üretmek
  
3. Bir işletmede insanların çabalarının birleştirilmesi, zaman bakımından ayarlanması ve ortaklaşa amaca varmak için faaliyetlerin birbiri ardı sıra düzenlenerek birbirlerini bütünlemelerinin sağlanması sürecine ne ad verilir?
  - A) Sevk
  - B) Koordinasyon
  - C) Planlama
  - D) İdare
  
4. İnsanların istekleri doğrultusunda üretim yaparken, yeni teknoloji uygulayan, yepyeni ürün geliştiren ve mevcut pazarı genişleten ekonomik birime ne ad verilir?
  - A) Üretim
  - B) Hizmet
  - C) Teknoloji
  - D) Girişim
  
5. Aşağıdakilerden hangisi şahıs işletmelerinin özelliklerinden biri değildir?
  - A) Kârın bölüşülmemekle işletmenin sahibinin elinde toplanması
  - B) İşletme sorunları ve işletmede alınan kararların işletme dışına yayılmaması
  - C) Şirket yönetiminin genellikle uzman kişilere bırakılması
  - D) Kurulmasının kolay olması
  
6. Aşağıdakilerden hangisi ekonomik nedenlerle kurulan kamu işletmelerine örnektir?
  - A) Türkiye şeker fabrikaları
  - B) Devlet hastaneleri
  - C) Kız meslek liseleri
  - D) Otelcilik ve turizm meslek liseleri
  
7. İşletme mülkiyetinin bakanlıklar ve belediyeler gibi devlet kuruluşlarına ait olduğu işletmelere ne ad verilir?
  - A) Kamu işletmeleri
  - B) Sermaye şirketleri
  - C) Şahıs işletmeleri
  - D) Özel işletmeler
  
8. Aşağıdakilerden hangisi dayanıksız mal üreten işletmelere örnektir?
  - A) Buzdolabı fabrikaları
  - B) İş makinesi fabrikaları
  - C) Konserve fabrikaları
  - D) Otomobil fabrikaları
  
9. Bir işletmenin kurulması ve işletilmesi için gerekli para ve kredilerin bulunması ve ekonomik olarak kullanılması işlevine ne ad verilir?
  - A) Muhasebe
  - B) Finans
  - C) Üretim
  - D) Yönetim
  
10. Aşağıdakilerden hangisi bir işletmede organizasyon aşamasında yapılması gereken işlemlerden biri değildir?
  - A) Yapılacak işlerin belirlenerek gruplandırılması
  - B) Uygulamada alınan sonuçların amaçlarla karşılaştırılması
  - C) Çalışma yeri, kullanılacak araç ve yöntemlerin belirlenmesi
  - D) Çalışanların yetki ve sorumluluklarının belirlenmesi

11. Bir işletmede amaçların belirlenmesi ve bu amaçlara ulaşmayı sağlayacak araçların seçimine ne ad verilir?

- A) Politika
- B) Taktik
- C) Strateji
- D) Planlama

12. Aşağıdakilerden hangisi yönetim fonksiyonlarından biri değildir?

- A) Koordinasyon
- B) Pazarlama
- C) Planlama
- D) Denetim

13. Yöneticilerin yapılması gereken işler için, astlarına emir verme ve astların bu emirlere uymalarını bekleme hakkına ne ad verilir?

- A) Yetki
- B) Tecrübe
- C) Sorumluluk
- D) Liderlik

14. Bir işletmede hukuk müşavirinin kullanmış olduğu yetki türü aşağıdakilerden hangisidir?

- A) Sınırsız yetki
- B) Komuta yetkisi
- C) Kurmay yetki
- D) Çapraz yetki

15. Aşağıdakilerden hangisi bir işletmede orta yönetim kademesinde çalışan görevlilerden biridir?

- A) Bölüm müdürleri
- B) Genel müdür
- C) Usta başı
- D) Baş kalfa

16. İşletmelerde uzmanlaşmaya diğerlerine göre daha çok imkân veren bölümlendirme biçimi aşağıdakilerden hangisidir?

- A) Zaman faktörüne göre bölümlendirme
- B) Bölgelere göre bölümlendirme
- C) Üretilen mal ve hizmete göre bölümlendirme
- D) Fonksiyonlara göre bölümlendirme

17. Aşağıdakilerden hangisi, bürolara alınacak ve kullanılacak araç, gereç ve makine seçiminde dikkate alınması gereken ilkelerden biri değildir?

- A) Standart, parçası bulunan, bakımı ve onarımı ülkede yapılan modeller seçilmelidir.
- B) Araç ve gereçlerin hizmet ya da mal üretimine uygun, ucuz, sağlam ve kullanışlı olmasına dikkat edilmelidir.
- C) Alınacak makineyi kullanabilecek, bakım ve onarım yapabilecek servis ve teknisyen bulunmalıdır.
- D) Araç gereç alımında kiralama yöntemi asla düşünülmemeli, her zaman satın alma yoluna gidilmelidir.

18. Bir işletmede çalışanların bölüm yöneticilerine bağlantısı ve bunların da kendi aralarında sınıflandırılışına ne ad verilir?

- A) Sorumluluk
- B) Yetki alanı
- C) Hiyerarşi
- D) Bölümlendirme

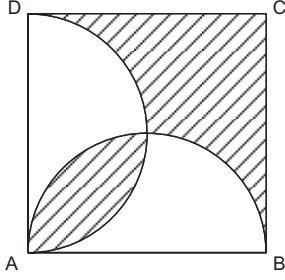
19. İdari teftiş ve hiyerarşik denetim ile ilgili aşağıdaki ifadelerden hangisi yanlıştır?

- A) İdari teşkilatın, idari denetim yoluyla denetlenmesi, hiyerarşik denetim ve idari teftiş şeklinde kendini gösterir.
- B) Hiyerarşik denetim çalışanın iş başarısı durumuna yöneliktir. İdari teftişte ise, genel kanun ve kurallara uyulup uyulmadığına bakılır.
- C) Hiyerarşik denetimde bürolardaki hizmetin yürütülmesi için idarenin kullandığı çeşitli araç ve elemanlar arasında en önemli yeri çalışanlar alır.
- D) İdari teftiş yürütme yetkisi olan müfettişler tarafından yapılır.

20. İşletmelerde büro yerleşimi ile ilgili aşağıdaki ifadelerden hangisi yanlıştır?

- A) Halkla ilişkisi olan çalışanlar giriş katında veya kapıya yakın bulunmalıdır.
- B) Birbirleri ile ilgili ve bağlantılı çalışanlar yakın masa ya da odalarda oturtulmalıdır.
- C) Büro dekorasyonunda koyu renkler kullanılmalıdır.
- D) İşe yaramayan eşyalar büro ve işyerinden atılmalıdır.

1.

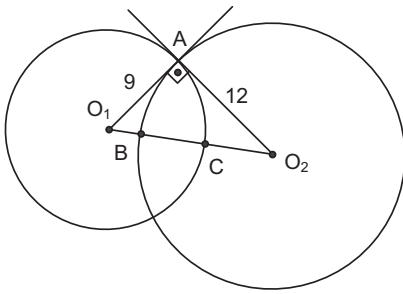


Yukarıda bir kenarı 8 cm olan ABCD karesinin içine AB ve AD çaplı yarım çemberler çizilmiştir.

Buna göre, taralı bölgenin alanı kaç  $\text{cm}^2$  dir?

- A) 20
- B) 24
- C) 28
- D) 32

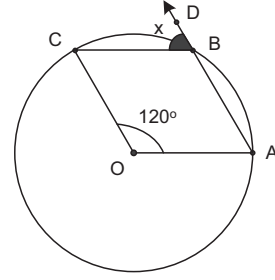
2.



Yukarıdaki şekilde  $O_1$  ve  $O_2$  merkezli çemberler dik olarak kesilmektedir.  $|O_1A| = 9$  cm,  $|O_2A| = 12$  cm olduğuna göre,  $|BC|$  kaç cm dir?

- A) 5
- B) 6
- C) 7
- D) 8

3.

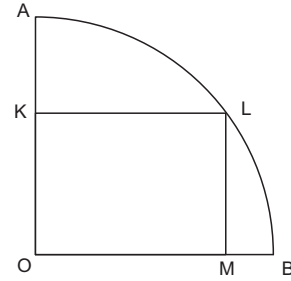


Yukarıdaki O merkezli çemberde  $m(\widehat{AOB}) = 120^\circ$  dir.

Buna göre,  $m(\widehat{CBD}) = x$  kaç derecedir?

- A) 40
- B) 50
- C) 60
- D) 70

4.

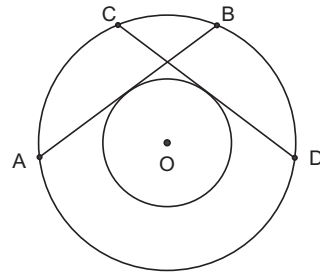


Yukarıdaki şekilde O merkezli dörtte bir çemberin içine OKLM dikdörtgeni çizilmiştir.

$|OM| = 8$  cm ve  $|MB| = 2$  ise,  $A(OKLM)$  kaç  $\text{cm}^2$  dir?

- A) 36
- B) 48
- C) 64
- D) 100

5.

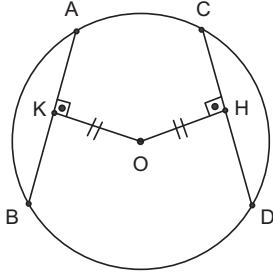


Yukarıdaki şekilde aynı merkezli iki çember verilmiştir.

$|AB| = x$  br ve  $|CD| = 12 - x$  br ise,  $|AB|$  kaç br dir?

- A) 4
- B) 5
- C) 6
- D) 7

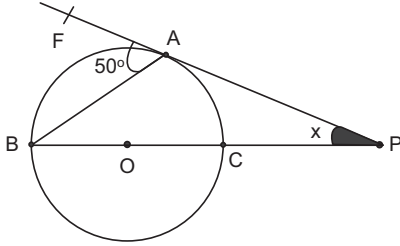
6.



Yukarıdaki  $O$  merkezli çemberde  $[OH] \perp [CD]$ ,  $[OK] \perp [AB]$ ,  $|OH| = |OK| = 4$  cm,  $|CH| = 2x + 4$  ve  $|AK| = 3x - 4$  ise,  $|AB|$  kaç cm dir?

- A) 20
- B) 24
- C) 36
- D) 40

7.

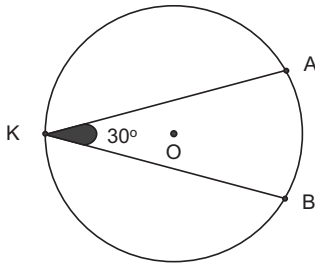


Yukarıdaki  $O$  merkezli çemberde  $PA$  teğet,  $AB$  kiriştir.

$m(\widehat{FAB}) = 50^\circ$  ise,  $m(\widehat{P}) = x$  kaç derecedir?

- A) 8
- B) 10
- C) 12
- D) 15

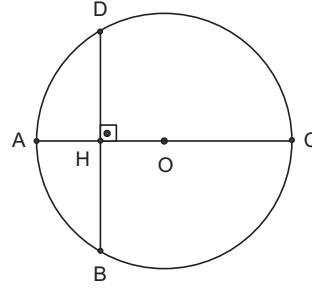
8.



Yukarıdaki  $O$  merkezli çemberin yarıçapı  $r=24$  cm olduğuna göre,  $|\widehat{AB}|$  kaç cm dir?

- A)  $5\pi$
- B)  $6\pi$
- C)  $7\pi$
- D)  $8\pi$

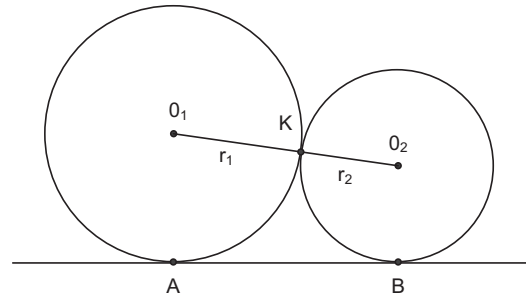
9.



Yukarıdaki  $O$  merkezli çemberde  $[AC] \perp [BD]$ ,  $|AH| = 4$  cm,  $|BD| = 16$  cm ise, çemberin yarıçapı kaç cm dir?

- A) 10
- B) 12
- C) 14
- D) 16

10.



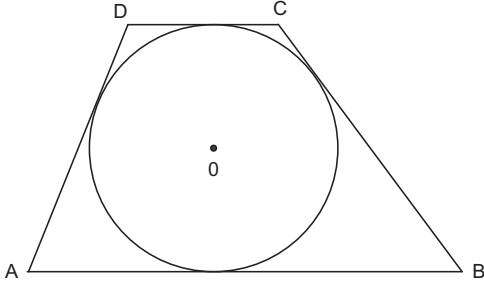
Yukarıdaki şekilde  $K$  noktasında dıştan teğet olan  $O_1$  ve  $O_2$  merkezli çemberlerin ortak teğetleri  $AB$  dir.

Buna göre,  $r_1 + r_2 = 20$  cm ve  $r_1 - r_2 = 12$  cm ise,  $|AB|$  kaç cm dir?

- A) 14
- B) 16
- C) 18
- D) 20



11.

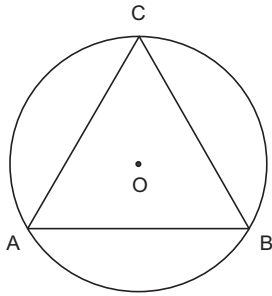


Yukarıdaki ABCD dörtgeni yarıçapı  $r=4$  cm olan O merkezli çemberin teğetler dörtgenidir.

Buna göre,  $|BC|=7$  cm,  $|CD|=5$  cm ve  $|AD|=6$  cm ise,  $A(ABCD)$  kaç  $cm^2$  dir?

- A) 40
- B) 44
- C) 48
- D) 52

12.

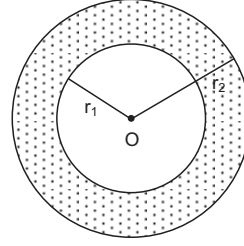


Yukarıdaki şekilde yarıçapı  $r=7$  cm olan O merkezli çember ABC üçgeninin çevrel çemberidir.

Buna göre,  $|AB|=4$  cm,  $|BC|=5$  cm ve  $|AC|=7$  cm olduğuna göre,  $A(\widehat{ABC})$  kaç  $cm^2$  dir?

- A) 5
- B) 6
- C) 7
- D) 8

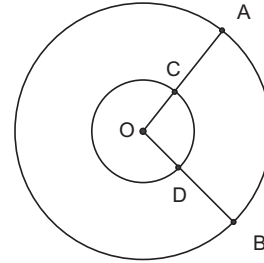
13.



O merkezli iç içe iki çemberden küçük olanın yarıçapı  $r_1=5$  cm, büyük olanın yarıçapı  $r_2=8$  cm olduğuna göre, bu çemberler arasında kalan taralı alan kaç  $cm^2$  dir?

- A)  $36\pi$
- B)  $38\pi$
- C)  $39\pi$
- D)  $40\pi$

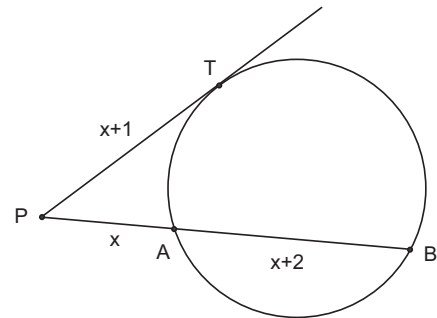
14.



Yukarıdaki şekilde yarıçapları  $r_1=6$  cm ve  $r_2=15$  cm olan aynı merkezli çemberlerde  $|\widehat{AB}|=20$  cm ise,  $|\widehat{DC}|$  kaç cm dir?

- A) 8
- B) 9
- C) 10
- D) 12

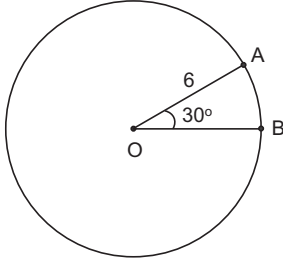
15.



Yukarıdaki şekilde PT teğet,  $|PT|=x+1$  br,  $|PA|=x$  br ve  $|AB|=x+2$  br ise,  $|AB|$  kaç br dir?

- A) 1
- B) 2
- C) 3
- D) 4

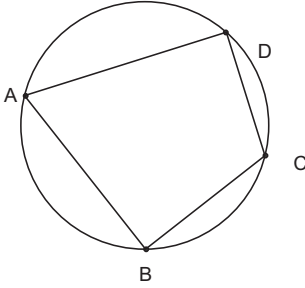
16.



Yukarıdaki şekilde yarıçapı  $r=6$  cm olan O merkezli çemberde  $m(\widehat{AOB}) = 30^\circ$  ise, AOB daire diliminin alanı kaç  $\text{cm}^2$  dir?

- A)  $3\pi$
- B)  $4\pi$
- C)  $5\pi$
- D)  $6\pi$

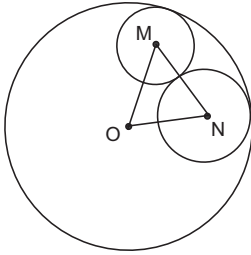
17.



Yukarıdaki çemberde  $m(\widehat{A})=50^\circ+3x$  ve  $m(\widehat{C})=30^\circ+2x$  ise,  $m(\widehat{C})$  kaç derecedir?

- A) 60
- B) 70
- C) 80
- D) 110

18.

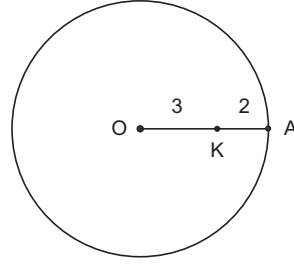


Yukarıdaki şekilde O merkezli çemberin yarıçapı 40 cm, N merkezli çemberin yarıçapı 15 cm ve M merkezli çemberin yarıçapı 10 cm dir.

Buna göre, ONM üçgeninin çevresi kaç cm dir?

- A) 50
- B) 55
- C) 60
- D) 65

19.

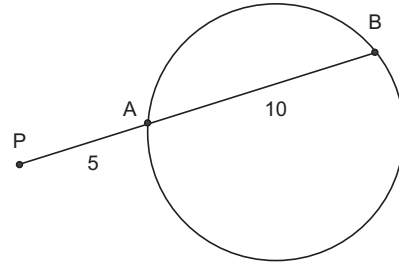


Yukarıdaki O merkezli çemberde  $|OK|=3$  cm ve  $|AK|=2$  cm dir.

Buna göre, K noktasından geçen en kısa kirişin uzunluğu kaç cm dir?

- A) 8
- B) 10
- C) 12
- D) 16

20.



Yukarıdaki şekilde  $|PA|=5$  cm,  $|AB|=10$  cm ise, P noktasının çembere göre kuvveti kaçtır?

- A) 50
- B) 60
- C) 75
- D) 100

1. A: Was hast du denn?  
B: Ahmet nervt mich!  
A: Was hat er denn gemacht?  
B: Ach! Er ist ein dumm..... Esel!

**Welche Endung passt in die obige Lücke im Dialog?**

**Verilen karşılıklı konuşmada boş bırakılan yeri aşağıdaki sonelerden hangisi tamamlar?**

- A) -er  
B) -es  
C) -e  
D) -este

2. Das ist eine ..... Arbeit. Ich muss viel arbeiten!

**Welches Wort passt in die obige Lücke?**

**Cümlede boş bırakılan yeri aşağıdakilerden hangisi doğru şekilde tamamlar?**

- A) schweres  
B) schwer  
C) schwierige  
D) schweren

3. Çevirmen olarak çalışmayı pek sevmiyorum.

**Wie lautet der obige Satz auf Deutsch?**

**Verilen cümlelerin Almancası aşağıdakilerden hangisidir?**

- A) Ich wollte nie als Dolmetscherin arbeiten.  
B) Ich mag die Dolmetscher überhaupt nicht.  
C) Ich mag die Arbeit als Dolmetscherin nicht sehr gern.  
D) Ich würde gerne als Dolmetscherin arbeiten.

4. Ich habe morgen Schule. Ich ..... früh schlafen.

**Welches Wort passt in die obige Lücke?**

**Cümlede boş bırakılan yeri aşağıdakilerden hangisi doğru şekilde tamamlar?**

- A) muß  
B) haben  
C) solltest  
D) könntet

5. Der Lehrer sagt jeden Tag, daß wir viel arbeiten sollen! Er sagt. "....."

**Welcher Satz ergänzt die obige Lücke?**

**Verilen cümleyi aşağıdakilerden hangisi tamamlar?**

- A) Arbeiten vieler!  
B) Arbeitest immer!  
C) Arbeitet immer!  
D) Arbeitet viel!

6. Den Müttern vertrauen.

**Wie lautet der obige Satz in der Imperativ-Form?**

**Verilen cümlelerin emir cümle şekli aşağıdakilerden hangisidir?**

- A) Vertraust deine Mutter!  
B) Vertrauten unsere Mutter!  
C) Vertraust den Müttern!  
D) Vertraut den Müttern!

7. Was möchtest du gern essen?

**Welche Antwort passt zur obigen Frage?**

**Verilen sorunun cevabı aşağıdakilerden hangisidir?**

- A) Ich kann ihn anrufen.  
B) Ich möchte gern eine Portion Pommes-Frites essen.  
C) Wir können in diesem Sommer kommen.  
D) Wir hätten das nicht machen wollen.

8. Ich hätte gern eine neue Hose!

**Wie lautet die Frage für die obige Antwort?**

**Verilen cümleye yönelik soru cümlesi aşağıdakilerden hangisidir?**

- A) Was machst du da?  
B) Was hast du gemacht?  
C) Was hättest du gern?  
D) Warum kommst du nicht mit?

9. Kinder haben immer früh zu schlafen!

**Welcher Satz drückt das gleiche wie der obige aus?**

**Verilen cümle ile aynı anlamı taşıyan cümle aşağıdakilerin hangisinde doğru olarak verilmiştir?**

- A) Die Kinder sind früh eingeschlafen!  
B) Als Kind muß man immer früh schlafen!  
C) Als Kind durfte ich morgens lange schlafen!  
D) Die Kinder schlafen früher als sonst!

10. Er ..... noch schneller zu rennen, wenn er den Zug erreichen will.

**Welches Wort passt in die obige Lücke?**

**Cümlede boş bırakılan yeri aşağıdakilerden hangisi doğru olarak tamamlar?**

- A) habest  
B) sollte  
C) müßt  
D) hat

11. .... mein Freund mich anrief, machte ich meine Hausaufgaben.

**Welches Wort passt in die obige Lücke?**

**Cümlede boş bırakılan yeri aşağıdakilerden hangisi doğru şekilde tamamlar?**

- A) Weil  
B) Damit  
C) Falls  
D) Als

12. .... du Ingenieur werden willst, müßt du studieren.

**Welches Wort passt in die obige Lücke?**

**Cümlede boş bırakılan yeri aşağıdakilerden hangisi doğru şekilde tamamlar?**

- A) Warum  
B) Wenn  
C) Damit  
D) Denn

13. Meine Tante ist ..... meine Mutter.

**Welche Wörter passen nicht in die obigen Lücken?**

**Cümlede boş bırakılan yeri aşağıdakilerden hangisi doğru olarak tamamlamaz?**

- A) hübscher als  
B) mehr als  
C) älter als  
D) jünger als

14. In Ankara gibt es schöne Mädchen aber die ..... Mädchen leben in Eskişehir!

**Welches Wort passt in die obige Lücke?**

**Cümlede boş bırakılan yeri aşağıdakilerden hangisi doğru şekilde tamamlar?**

- A) schönsten  
B) schöner  
C) schöne  
D) schönste

15. Wir lernen Deutsch, .....

**Welches ergänzt nicht den obigen Satz?**

**Cümleyi aşağıdakilerden hangisi doğru olarak tamamlamaz?**

- A) damit ich zum Kurs gehen wollte.
- B) weil wir in Deutschland Urlaub machen wollen.
- C) um die deutschen Fachbücher im Originalen lesen zu können.
- D) weil wir Karriere im Geschäft machen wollen.

16. Wir kaufen uns ein Auto, damit wir schöne Ausflüge machen können.

**Welche Frage passt zur obigen Antwort?**

**Verilen cevabı gerektirecek soru aşağıdakilerden hangisidir?**

- A) Wann habt ihr dieses Auto gesehen?
- B) Was für ein Auto ist das?
- C) Warum kauft ihr euch ein Auto?
- D) Wohin wollt ihr umziehen?

17. A: Seit wann lebst du in Berlin?  
B: Ich lebe seit vier Jahren in Berlin.  
A: Hast du vor, noch lange hier zu wohnen?  
B: .....

**Welches ergänzt die Lücke im obigen Dialog?**

**Verilen karşılıklı konuşmada boş bırakılan yeri aşağıdakilerden hangisi tamamlar?**

- A) Nein, ich war vorher noch nie in Berlin.
- B) Ja, ich lebe auch im Studentenheim.
- C) Ja, ich möchte auch nach meinem Studium hier in Berlin wohnen.
- D) Nein, ich kenne den neuen Lehrer nicht.

18. Ahmet geht jeden Tag schwimmen, das bedeutet er schwimmt .....

**Welches Wort passt in die obige Lücke?**

**Cümlede boş bırakılan yeri aşağıdakilerden hangisi doğru şekilde tamamlar?**

- A) immer
- B) niemals
- C) selten
- D) manchmal

19. Ich habe gesehen, .....

**Welcher Satz ergänzt die obige Lücke?**

**Verilen cümleyi aşağıdakilerden hangisi tamamlar?**

- A) damit ich gut tanzen kann.
- B) daß er ein neues Auto gekauft hat.
- C) weil das Wetter sehr schlecht ist.
- D) wenn wir einkaufen gehen.

20. ...., daß es keine Arbeit gibt.

**Welches ergänzt den obigen Satz?**

**Verilen cümleyi aşağıdakilerden hangisi doğru olarak tamamlar?**

- A) Naturschutz ist
- B) Die Polizei sagt
- C) Europäische Herkunft ist
- D) Arbeitslosigkeit bedeutet

## SEÇMELİ İNGİLİZCE 4

A

2013 II.DÖNEM 0106-A

1. Erkan left the office early. That was a mistake. He wishes he ..... the office early.

Which of the following completes the sentence above?

Aşağıdakilerden hangisi yukarıdaki cümleyi doğru olarak tamamlar?

- A) don't leave  
B) couldn't leave  
C) hadn't left  
D) haven't left

2. If I were you, I ..... buy that expensive car.

Which of the following completes the sentence above?

Aşağıdakilerden hangisi yukarıdaki cümleyi doğru olarak tamamlar?

- A) wouldn't  
B) didn't  
C) doesn't  
D) aren't

3. The State should support the private enterprise.

Which of the following is the Turkish translation of the sentence above?

Aşağıdakilerden hangisi yukarıdaki cümlenin Türkçe karşılığıdır?

- A) Devlet, özel sektörü desteklememelidir.  
B) Devletçilik ilkesi, özel sektöre karşı çıkar.  
C) Devlet, özel sektöre destek vermelidir.  
D) Özel sektör, devleti desteklememelidir.

4. If she had set her alarm, she ..... late for work.

Which of the following completes the sentence above?

Aşağıdakilerden hangisi yukarıdaki cümleyi doğru olarak tamamlar?

- A) could have been  
B) wouldn't have been  
C) mustn't be  
D) can't be

5. If I ..... you, I wouldn't smoke cigarettes.

Which of the following completes the sentence above?

Aşağıdakilerden hangisi yukarıdaki cümleyi doğru olarak tamamlar?

- A) am  
B) is  
C) be  
D) were

6. I told her a lie. That was a mistake. I wish I ..... her a lie.

Which of the following completes the sentence above?

Aşağıdakilerden hangisi yukarıdaki cümleyi doğru olarak tamamlar?

- A) couldn't tell  
B) hadn't told  
C) don't tell  
D) didn't tell

7. If I go to Mardin, I .....him.

Which of the following completes the sentence above?

Aşağıdakilerden hangisi yukarıdaki cümleyi doğru olarak tamamlar?

- A) contacted  
B) will contact  
C) have contacted  
D) would contact

8. If he has a lot of money, he ..... a new piano.

Which of the following completes the sentence above?

Aşağıdakilerden hangisi yukarıdaki cümleyi doğru olarak tamamlar?

- A) will buy
- B) would buy
- C) buy
- D) bought

9. I live in Eskişehir. I wish I ..... in Los Angeles.

Which of the following completes the sentence above?

Aşağıdakilerden hangisi yukarıdaki cümleyi doğru olarak tamamlar?

- A) living
- B) live
- C) lived
- D) have lived

10. If he had known how to repair the toaster, he surely ..... her.

Which of the following completes the sentence above?

Aşağıdakilerden hangisi yukarıdaki cümleyi doğru olarak tamamlar?

- A) will tell
- B) tells
- C) would tell
- D) would have told

11. İnci wishes she .....visited her mother in the hospital.

Which of the following completes the sentence above?

Aşağıdakilerden hangisi yukarıdaki cümleyi doğru olarak tamamlar?

- A) must
- B) can
- C) could have
- D) should

12. I don't have a watch. I wish I ..... a watch.

Which of the following completes the sentence above?

Aşağıdakilerden hangisi yukarıdaki cümleyi doğru olarak tamamlar?

- A) am having
- B) have
- C) will have
- D) had

13. If she ..... pass her exams, she won't get a good job.

Which of the following completes the sentence above?

Aşağıdakilerden hangisi yukarıdaki cümleyi doğru olarak tamamlar?

- A) didn't
- B) doesn't
- C) won't
- D) hasn't

14. If Erdinç had had some money, he..... a new hat.

Which of the following completes the sentence above?

Aşağıdakilerden hangisi yukarıdaki cümleyi doğru olarak tamamlar?

- A) must have bought
- B) must buy
- C) would have bought
- D) could buy

15. If I had time, I ..... go to the library.

Which of the following completes the sentence above?

Aşağıdakilerden hangisi yukarıdaki cümleyi doğru olarak tamamlar?

- A) would
- B) must
- C) should
- D) will

16. Türk Devleti toprağı ve halkı ile bölünmez bir bütündür.

Which of the following is the English translation of the sentence above?

Aşağıdakilerden hangisi yukarıdaki cümlenin İngilizce karşılığıdır?

- A) The modernization of Turkey is dependent on economic and technological development.
- B) The Turkish State is an indivisible whole comprising its territory and people.
- C) It is only the republican regime which can best represent the wishes of people.
- D) The state should support the private enterprise

17. Okan can't speak German. He wishes he ..... German.

Which of the following completes the sentence above?

Aşağıdakilerden hangisi yukarıdaki cümleyi doğru olarak tamamlar?

- A) have spoken
- B) must have spoken
- C) can speak
- D) could speak

18. I missed the bus yesterday. I wish I ..... the bus.

Which of the following completes the sentence above?

Aşağıdakilerden hangisi yukarıdaki cümleyi doğru olarak tamamlar?

- A) can't miss
- B) haven't missed
- C) didn't miss
- D) hadn't missed

19. I would have.....the pyramids if I had been to Egypt.

Which of the following completes the sentence above?

Aşağıdakilerden hangisi yukarıdaki cümleyi doğru olarak tamamlar?

- A) visited
- B) will visit
- C) visits
- D) visiting

20. İbrahim wishes he ..... a pilot.

Which of the following completes the sentence above?

Aşağıdakilerden hangisi yukarıdaki cümleyi doğru olarak tamamlar?

- A) were
- B) should be
- C) are
- D) can be



## SEÇMELİ FRANSIZCA 4

2013 II.DÖNEM 0106-A

A

1. Elle roule rapidement.

**Choisissez l'antonyme du mot souligné.**

**Yukarıdaki cümlede altı çizili sözcüğün zıt anlamısı aşağıdakilerden hangisidir?**

- A) tranquillement  
B) honnêtement  
C) attentivement  
D) lentement

2. Mon père aime aller au cinéma contrairement à mon oncle.

**Choisissez la traduction qui convient.**

**Yukarıdaki cümlenin Türkçe karşılığı aşağıdakilerden hangisidir?**

- A) Babam sinemaya gitmeyi seviyor, fakat amcamsevmiyor.  
B) Amcamın tersine, babam sinemaya gitmeyi seviyor.  
C) Amcama rağmen babam sinemaya gitmek istiyor.  
D) Amcam da babam da sinemaya gitmeyi seviyorlar.

3. Nicolas écoute ..... le professeur.

**Choisissez le mot qui convient.**

**Cümledeki boşluğu aşağıdakilerden hangisi doğru şekilde tamamlar?**

- A) violemment  
B) couramment  
C) rapidement  
D) attentivement

4. ...., nous partirons pour Paris.

**Choisissez le mot qui convient.**

**Cümledeki boşluğu aşağıdakilerden hangisi doğru şekilde tamamlar?**

- A) Demain  
B) Hier  
C) Avant-hier  
D) La semaine dernière

5. .... belles roses; elles sont à combien?

**Choisissez le mot qui convient.**

**Cümledeki boşluğu aşağıdakilerden hangisi doğru şekilde tamamlar?**

- A) Quels  
B) Quel  
C) Quelles  
D) Quelle

6. Le patron ..... de sortir, il n'est pas dans son bureau maintenant.

**Choisissez le mot qui convient.**

**Cümledeki boşluğu aşağıdakilerden hangisi doğru şekilde tamamlar?**

- A) va  
B) a  
C) est  
D) vient

7. Quand elle habitait à Paris, elle ..... dans un magasin.

**Choisissez le mot qui convient.**

**Cümledeki boşluğu aşağıdakilerden hangisi doğru şekilde tamamlar?**

- A) travaillait  
B) travaillant  
C) travaillera  
D) travaillé

8. Quand vous sortirez, vous ..... la porte.

**Choisissez le mot qui convient.**

**Cümledeki boşluğu aşağıdakilerden hangisi doğru şekilde tamamlar?**

- A) aviez fermé  
B) fermeront  
C) fermerez  
D) avez fermé

9. Hier, il faisait très froid, ....., aujourd'hui il fait beau.

**Choisissez le mot qui convient.**

**Cümledeki boşluğu aşağıdakilerden hangisi doğru şekilde tamamlar?**

- A) en revanche  
B) malgré  
C) lorsque  
D) comme

10. Quand je suis arrivé au cinéma, ..... .

**Complétez la phrase avec la proposition qui convient.**

**Yukarıdaki cümlede boş bırakılan yeri aşağıdakilerden hangisi doğru şekilde tamamlar?**

- A) je n'aime pas voir des films comiques  
B) le film vient de commencer  
C) le film était déjà commencé  
D) le film commencera

11. Dans quelques minutes, nous ..... terminer ce travail.

**Choisissez le mot qui convient.**

**Cümledeki boşluğu aşağıdakilerden hangisi doğru şekilde tamamlar?**

- A) avons  
B) allons  
C) sommes  
D) voudrez

12. Nous sommes au printemps, mais bientôt ..... sera l'été.

**Choisissez le mot qui convient.**

**Cümledeki boşluğu aşağıdakilerden hangisi doğru şekilde tamamlar?**

- A) celui  
B) ceux  
C) celle  
D) ce

13. C'est son livre; c'est .....

**Choisissez le mot qui convient.**

**Cümledeki boşluğu aşağıdakilerden hangisi doğru şekilde tamamlar?**

- A) le mien  
B) le sien  
C) la mienne  
D) le leur

14. C'est la plus belle maison de la ville.

**Choisissez la traduction qui convient.**

**Yukarıdaki cümlelerin Türkçe karşılığı aşağıdakilerden hangisidir?**

- A) Bu şehirde evler çok güzeldir.  
B) Bu evler, şehri çok güzelleştirmektedir.  
C) Şehrin en güzel evi budur.  
D) Bu ev, şehrin en güzel yerindedir.

15. Le train est ..... rapide que l'avion.

**Choisissez le mot qui convient.**

**Cümledeki boşluğu aşağıdakilerden hangisi doğru şekilde tamamlar?**

- A) moins  
B) plus  
C) autant  
D) aussi

16. Cécile lui a dit que sa sœur ..... beaucoup.

**Choisissez le mot qui convient.**

**Cümledeki boşluğu aşağıdakilerden hangisi doğru şekilde tamamlar?**

- A) lit  
B) lis  
C) lisez  
D) lisait

17. Ce tableau est magnifique, ..... il coûte cher.

**Choisissez le mot qui convient.**

**Cümledeki boşluğu aşağıdakilerden hangisi doğru şekilde tamamlar?**

- A) malgré  
B) assez  
C) mais  
D) contrairement à

18. Il n'a pas ..... travaillé ses leçons cette année scolaire.

**Choisissez le mot qui convient.**

**Cümledeki boşluğu aşağıdakilerden hangisi doğru şekilde tamamlar?**

- A) doucement  
B) suffisamment  
C) lentement  
D) bizarrement

19. Mehmet: - J'ai trouvé un dictionnaire de français.  
Ayla: - C'est sans doute ..... de ma sœur.

**Choisissez le mot qui convient.**

**Yukarıdaki konuşmada boş bırakılan yeri aşağıdakilerden hangisi doğru şekilde tamamlar?**

- A) celui  
B) celle  
C) ceux  
D) celles

20. Mireille: - .....  
Jacques: - Oui, c'est la mienne.

**Choisissez la question qui convient.**

**Yukarıdaki konuşmada cevabı gerektiren soru aşağıdakilerden hangisidir?**

- A) Est-ce que ce manteau est à lui?  
B) Est-ce que cette clé est à toi?  
C) Est-ce que cette chemise est à Pierre?  
D) Est-ce que ces chats sont à ton fils?

1. Aşağıdakilerden hangisi önerge ile ilgili yanlış bir ifadedir?
- A) Ortaya atılan görüş olumlu ve olumsuz yönleriyle yeteri kadar aydınlanınca oylanır.  
B) Önerge genellikle sözlü biçimde verilir.  
C) Görüşler, oy çoğunluğu ile kabul veya reddedilir.  
D) Bir sorunun çözümü için üyelerin başkanlığa görüş bildirmesidir.
2. Aşağıdakilerden hangisi bir tartışma konusu değildir?
- A) Kütüphanelerden yeterince yararlanabiliyor muyuz?  
B) Türkiye'nin Avrupa'da toprakları vardır.  
C) Televizyon, sinemayı olumlu mu olumsuz mu etkilemiştir?  
D) Öğrencilere kitap okuma alışkanlığı nasıl kazandırılabilir?
3. Sunum ile ilgili aşağıdaki ifadelerden hangisi yanlıştır?
- A) Hitap edilecek izleyici hakkında bilgi toplanması gerekir.  
B) Modern iş ortamının bir iletişim prensibidir.  
C) İyi bir sunumda sadece yazılı gereçler kullanılır.  
D) Sözlü iletişimin en başta gelenlerinden biridir.
4. Şeffaf bir asetat kağıt üzerine çizilmiş bir şekli görüntü olarak bir perde veya duvara yansıtan araçlara ne ad verilir?
- A) Projeksiyon aletleri  
B) Video  
C) Disket  
D) Çok yapraklı pano
5. Aşağıdakilerden hangisi tartışmalarda seçilen konuların özelliklerinden biri değildir?
- A) Tartışmaya değer olmalıdır.  
B) Tartışmaya uygun olmalıdır.  
C) İstenilen zamana sığabilmelidir.  
D) Düşünmeye yol açmamalıdır.
6. Aşağıdakilerden hangisinde kamuoyu yaratma endişesi, konuşmacı-dinleyici ilişkisini belirleyen önemli bir faktördür?
- A) Sunum  
B) Toplantı  
C) Tartışma  
D) Brifing
7. "Herkes benim düşünceme katılırsa yanılmış olmaktan korkarım." sözü aşağıdaki yazarlardan hangisine aittir?
- A) Woodrow Wilson  
B) Suut Kemal Yetkin  
C) Oscar Wilde  
D) Haldun Taner
8. Öğretim alanında kullanılan en eski gereç aşağıdakilerden hangisidir?
- A) Video  
B) Projeksiyon aletleri  
C) Çok yapraklı pano  
D) Yazı tahtası
9. Bir kişinin bir gruba karşı bir ürün, değişen şirket politikası veya eğitim programının bir yönü hakkında bilgi vermek amacıyla yaptığı konuşma ve gösterime ne ad verilir?
- A) Önerge  
B) Panel  
C) Sunum  
D) Tartışma
10. Aşağıdakilerden hangisi tartışma kurallarından biri değildir?
- A) Kendini övmek ve başkalarını yermek  
B) Tartışmayı benlik, kişisel üstünlük sorunu yapmamak  
C) Toplantılarda başkanlığın uyarılarına karşı gelmemek  
D) Aynı konuda üst üste söz almaya çalışmak
11. Ana fikir ile ilgili aşağıdaki ifadelerden hangisi doğrudur?
- A) Ana fikir, konu demektir.  
B) Bir yazının başlığı ile ana fikri arasında bir bağlantı yoktur.  
C) Her eserin, bir tane ana fikri vardır.  
D) Ana fikir, bir yazının özüdür.

12. “Not tutmak, zamanı gelecek için saklamaktır.” sözü aşağıdakilerden hangisine aittir?

- A) Max Jacob
- B) Gustave Flaubert
- C) Andre Gide
- D) Jeann Paul Satre

13. Bir metnin konusu ile ilgili aşağıdaki ifadelerden hangisi **yanlıştır**?

- A) Geniş kapsamlı konulara sınırlı konular denir.
- B) Üzerine söz söylenen, yazı yazılan her şey konu olabilir.
- C) Konular, geniş ve dar kapsamlı olmak üzere iki ayrı görüşle ele alınır.
- D) Atasözü, özdeyiş gibi bir düşünce; sevgi, sabır gibi bir duygu konu olabilir.

14. Aşağıdaki cümlelerin hangisinde gereksiz sözcük vardır?

- A) Bir gece ansızın gelebilirim.
- B) Bilimkurgu kitaplarını nadiren, ara sıra okurum.
- C) Yarın sinemaya gidelim.
- D) Oğlunuzun durumu yarın kurulda görüşülecek.

15. Aşağıdaki cümlelerin hangisinde üçüncü kişi anlatımı vardır?

- A) Geldim işte mevsim gibi kapına.
- B) Yeşil pencereden bir gül at bana.
- C) Yıldızlara bakarak öyle dalmışım ki!
- D) Korkuyorum bu gecelerden.

16. Aşağıdaki cümlelerin hangisinde birinci kişi anlatımı vardır?

- A) Ben ders çalışmak istiyorum.
- B) Yavru köpeğe süt verdiler.
- C) Ahmet, yeni aldığı kitabı okuyor.
- D) Annem, yarın ameliyat olacak.

17. Aşağıdaki cümlelerin hangisinde gereksiz sözcük kullanılmıştır?

- A) Onun yarışlarda birinci olduğuna sevindim.
- B) Bu konuda üç yıldır çalışıyoruz.
- C) Bir hafta sonra tatile çıkıyoruz.
- D) Ayhan Bey, çok içli ve duygulu bir insandı.

18. Bir yazının özü ve omurgası aşağıdakilerden hangisidir?

- A) Ana fikir
- B) Tür
- C) Konu
- D) Kaynak

19. Bir hikâyenin bütününün veya bir parçasının kısaltılmasına ne ad verilir?

- A) Özet çıkarma
- B) Not alma
- C) Kompozisyon yazma
- D) Yazı yazma

20. Aşağıdakilerden hangisi yazılı anlatımda bulunması gereken özelliklerden biri **değildir**?

- A) Sözcüklerin doğru seçilmesi
- B) Yazının çok uzun olması
- C) Cümlelerin gereği gibi kurulması
- D) Bilgilerin doğru olması

1. 19. yüzyıl sonunda Doğu Göktürklerin tarihini anlatan Orhun Yazıtlarını okuyan Danimarkalı bilim insanı kimdir?

- A) J. Tomasson
- B) V. Thomsson
- C) K. Andersson
- D) H. Larsson

2. Eski Türklerde, gözlem ve uzun deneyimlerden süzülen duygu ve düşüncelerin özlü bir anlatımı olarak kabul edilen, dilden dile aktarılan atasözlerine ne ad verilir?

- A) Sagu
- B) Koşuk
- C) Destan
- D) Sav

3. Tarihte Türk sözcüğünün geçtiği ilk metin aşağıdakilerden hangisidir?

- A) Orhun Yazıtları
- B) Battal Gazi Destanı
- C) Danişment Gazi Destanı
- D) Yenisey Yazıtları

4. Aşağıdakilerden hangisi, Batı etkisinde gelişen Türk Edebiyatının bölümlerinden biri değildir?

- A) Milli Edebiyat
- B) Edebiyat-ı Cedide
- C) Anonim Halk Edebiyatı
- D) Fecr-i Âtî Edebiyatı

5. Eski Türklerde, ölen kişinin ardından yapılan, ozanlar ve sıgıtçı adı verilen ağıtçıların ölen kişinin niteliklerini dile getiren ağıtlar yaktıkları büyük yas törenlerine ne ad verilir?

- A) Yuğ
- B) Biş
- C) Sav
- D) Uruk

6. Çağdaş Türk Edebiyatı'nın önemli destan örneklerinden biri olan "Kurtuluş Savaşı Destanı" adlı eserin yazarı aşağıdakilerden hangisidir?

- A) Namık Kemal
- B) Nazım Hikmet
- C) Cahit Külebi
- D) Aras Ören

7. Türk Edebiyatının en önemli eserlerindedir. Eser adını iyi ve kötü düşünceli iki prensten almaktadır. Eserin aslı Sanskritçedir. Dinsel masal niteliği taşımaktadır.

Yukarıda tanıtılan eser aşağıdakilerden hangisidir?

- A) Kutadgu Bilig
- B) Kalyanamkara ve Papamkara
- C) Atabetü'l Hakâyık
- D) İlyada ve Odysseia

8. Türk destan üslubundan izler taşır. Türklerin su sevgisinden, kuşları uğurlu sayan Şaman inanışından yansımalar vardır.

Yukarıda tanıtılan destan aşağıdakilerden hangisidir?

- A) Oğuz Kağan Destanı
- B) İlyada Destanı
- C) Şu Destanı
- D) Gılgamış Destanı

9. Çağdaş Türk Edebiyatı'nın önde gelen isimlerindedir. "Kolları Bağlı Odysseus" adlı kitabı yazarken çeşitli ozanlardan ve kitaplardan yararlanmıştı.

Yukarıda sözü edilen yazar kimdir?

- A) Ahmet Hamdi Tanpınar
- B) Nabizade Nâzım
- C) Recaizade Mahmut Ekrem
- D) Melih Cevdet Anday

10. Uygur ülkesine bereket ve mutluluk veren Kutlu Dağ'ın Çinliler tarafından parça parça taşınmasıyla bozulan Uğur sonucu ülkede görülmemiş bir kıtlık başlar. Yaşam çekilmez hale dönüşür ve Uygur Türkleri güneybatıya göç ederler.

**Yukarıdaki parça hangi destanı anlatır?**

- A) Ergenekon Destanı
- B) Oğuz Kağan Destanı
- C) Göç Destanı
- D) Şu Destanı

11. İslamiyet'ten önceki Türk destanlarının tarihsel sınıflandırması içinde ilk sırada aşağıdaki destanlardan hangisi yer alır?

- A) Yaratılış Destanı
- B) Uygur Destanları
- C) Saka Destanları
- D) Köroğlu Destanı

12. Koşuk ile ilgili aşağıdaki bilgilerden hangisi yanlıştır?

- A) Günümüz halk edebiyatındaki koşmanın ilk biçimidir.
- B) Yazılı edebiyat döneminin ürünüdür.
- C) Divan-ı Lügat'it Türk'te örneklerine rastlanmaktadır.
- D) Tabiat güzellikleri vb. konuları işleyen şiirlerdir.

13. Aşağıdakilerden hangisi, sözlü edebiyatın ürünlerinden biri değildir?

- A) Sagu
- B) Gazel
- C) Destan
- D) Koşuk

14. Türkiye'de Batılı anlamda yapılan ilk kapsamlı çalışma olan ve 1928 yılında Fuad Köprülü tarafından yayımlanan eser aşağıdakilerden hangisidir?

- A) Edebiyat Araştırmaları
- B) Türkiye Tarihi
- C) Edebiyat Tarihi
- D) Edebiyat Araştırmaları Külliyyatı

15. Aşağıdaki sanat eserlerinden hangisi Gılgamış Destanı'ndan esinlenerek hazırlanmamıştır?

- A) Tanrılar ve İnsanlar
- B) Gılgamış Operası
- C) Ölümsüzlük Ardında Gılgamış
- D) Bir Gerçek Hikâye

16. Sagu ile ilgili aşağıdaki ifadelerden hangisi yanlıştır?

- A) Tabiat güzelliklerini anlatan şiirlerdir.
- B) Kopuz çalınarak söylenir.
- C) İslamiyet öncesi döneme aittir.
- D) Her dördüğün ilk 2-3 dizesi kendi arasında uyaklıdır.

17. 13. yüzyıl Moğol tarihçisi Reşiduddin tarafından yazıya geçirilen destan aşağıdakilerden hangisidir?

- A) Göç Destanı
- B) Manas Destanı
- C) Şu Destanı
- D) Ergenekon Destanı

18. Destan dönemi Türk edebiyatında Türkler aşağıdakilerden hangisini kullanmıştır?

- A) Göktürk ve Uygur yazıları
- B) Harezmi Türkçesi
- C) Kıpçak Türkçesi
- D) Eski Oğuzca

19. Edebiyat tarihi ile ilgili aşağıdaki bilgilerden hangisi yanlıştır?

- A) Edebiyat tarihi bir bilimdir.
- B) Edebiyat metinleri üzerinde çalışır.
- C) Çok geniş bir alanı kapsar.
- D) Öğretici bir nitelik taşıdığı için bir sanat eseridir.

20. Aşağıdakilerden hangisi, İslamiyet'ten sonraki Türk destanlarından biridir?

- A) Siyempi Destanları
- B) Saka Destanları
- C) Timur Destanı
- D) Göktürk Destanları

1. Die Giraffe ist groß und hat einen ..... Hals.

Welches Wort passt in die obige Lücke?

Cümlede boş bırakılan yeri aşağıdakilerden hangisi doğru şekilde tamamlar?

- A) groß  
B) laut  
C) langen  
D) leise

2. .... deine Freundin ..... Haustier?

Welche Wörter passen in die obigen Lücken?

Cümlede boş bırakılan yerleri aşağıdakilerden hangileri doğru şekilde tamamlar?

- A) Hast / eine  
B) Hat / ein  
C) Hatte / einen  
D) Hatten / eines

3. A: .....  
B: Italienisch wird in Italien gesprochen.  
A: Ach, das ist interessant!

Welches ergänzt die Lücke im obigen Dialog?

Verilen karşılıklı konuşmada boş bırakılan yeri aşağıdakilerden hangisi tamamlar?

- A) Wart ihr in den Ferien in Italien?  
B) Weißt du, wo Italienisch gesprochen wird?  
C) Wer kommt aus Italien?  
D) Wann möchtest du Italienisch sprechen lernen?

4. Die Geste den Finger auf dem Mund zu bringen benutze ich oft.

Welche Frage passt zur obigen Antwort?

Verilen cevabı gerektirecek soru aşağıdakilerden hangisidir?

- A) Wann winken Sie?  
B) Sprichst du mit deinem Partner?  
C) Welche Geste benutzt du oft?  
D) Lernst du eine zweite Sprache?

5. Ich habe ..... zwei Jahren eine Schildkröte. Ich habe sie sehr gern.

Welches Wort passt in die obige Lücke?

Cümlede boş bırakılan yeri aşağıdakilerden hangisi doğru şekilde tamamlar?

- A) für  
B) bis  
C) seit  
D) zu

6. ...., habe ich angefangen Klavier zu spielen.

Welcher Satz ergänzt die obige Lücke?

Verilen cümleyi aşağıdakilerden hangisi tamamlar?

- A) Als ich zehn Jahre alt war  
B) Ich hatte heute keine Zeit  
C) Wenn ich groß werde  
D) Jeder kann etwas spielen lernen

7. Was bedeutet Kammerorchester?

Welche Antwort passt zur obigen Frage?

Verilen sorunun cevabı aşağıdakilerden hangisidir?

- A) Wir haben die Band neu gegründet.  
B) Das ist ein Instrument, das nur Schüler spielen können.  
C) Wir können uns dort jede Woche treffen.  
D) Das ist ein Orchester, in dem auch Erwachsene spielen.

8. Für die Zukunft wünsche ich mir, .....

Welches ergänzt nicht die Lücke im obigen Satz?

Verilen cümleyi aşağıdakilerden hangisi tamamlamaz?

- A) dass ich dir zuhören konnte war sehr nett von dir.  
B) dass ich Querflöte spielen kann.  
C) dass ich in einer Band mitspielen kann.  
D) dass ich die Prüfung bestehe.

9. Der Film ist ..... einem guten Regisseur gedreht .....

**Welche Wörter passen in die obigen Lücken?**

**Cümlede boş bırakılan yerleri aşağıdakilerden hangileri doğru şekilde tamamlar?**

- A) bei / würden
- B) an / wird
- C) zu / werden
- D) von / worden

10. A: Karin, vielen Dank für .....  
B: Gern geschehen!  
A: Es war sehr interessant etwas ..... deine Musikbegeisterung zu erfahren.

**Welche Wörter ergänzen die Lücken im obigen Dialog?**

**Verilen karşılıklı konuşmada boş bırakılan yerleri aşağıdakilerden hangileri tamamlar?**

- A) das Thema / in
- B) das Interview / über
- C) den Anfang / unter
- D) die Zukunft / aus

11. Wie sollen die Kinder werden?

**Welche Antwort passt nicht zur obigen Frage?**

**Aşağıdakilerden hangisi verilen sorunun cevabı olamaz?**

- A) Sie sollen glückliche, zufriedene und hilfsbereite Menschen werden.
- B) Für uns ist es wichtig, dass die Kinder gehorsam und fleißig werden.
- C) Unser Lehrer plant eine Klassenfahrt.
- D) Die Kinder sollen ein gutes Benehmen haben und selbstständig werden.

12. A: Welche Familienfeste werden in der Türkei gefeiert?

B: .....

A: Ja, das wird auch in Deutschland gefeiert!

**Welches ergänzt nicht den obigen Dialog?**

**Verilen karşılıklı konuşmayı aşağıdakilerden hangisi tamamlamaz?**

- A) Wenn wir unsere Nachbarn besuchen.
- B) Wenn zum Beispiel ein Kind geboren wird.
- C) Wenn eine Hochzeit gefeiert wird.
- D) Wenn jemand Geburtstag hat.

13. Die wichtigste Methode, ....., besteht darin, die negativen Verhalten zu schwächen und die positiven Verhalten zu stärken.

**Welcher Satz ergänzt die obige Lücke?**

**Verilen cümleyi aşağıdakilerden hangisi tamamlar?**

- A) zieht man es herauf
- B) wie leicht bricht das
- C) kann man gute Ergebnisse finden
- D) ein glückliches Leben zu erreichen

14. .... über ein neues Projekt.

**Welches ergänzt nicht die Lücke im obigen Satz?**

**Verilen cümleyi aşağıdakilerden hangisi tamamlamaz?**

- A) Er trägt einen Rucksack
- B) Die Schüler sprechen
- C) Diese Umfrage ist
- D) Der Lehrer diskutiert

15. ...., wenn ihre Kinder zufrieden und freundlich werden.

**Welches ergänzt die Lücke im obigen Satz?**

**Verilen cümleyi aşağıdakilerden hangisi tamamlar?**

- A) Die Eltern sind ein Vorbild
- B) Meine Eltern haben es mir verboten
- C) Mein Bruder fasst mich immer an der Hand
- D) Die Eltern sind glücklich



16. Melda ..... fit, weil sie jeden Tag eine halbe Stunde .....

**Welche Wörter passen in die obigen Lücken?**

**Cümlede boş bırakılan yerleri aşağıdakilerden hangileri doğru şekilde tamamlar?**

- A) wird / hat
- B) bleibt / läuft
- C) sitzt / kommt
- D) hat / meint

17. Der Körper braucht ..... um gesund zu bleiben.

**Welches ergänzt die Lücke im obigen Satz?**

**Verilen cümleyi aşağıdakilerden hangisi tamamlar?**

- A) Arbeit und Ideen
- B) Stunden und Tage
- C) Taschen und Bücher
- D) Vitamine und Mineralien

18. Karnım ağrıyor.

**Wie lautet der obige Satz auf Deutsch?**

**Verilen cümlenin Almancası aşağıdakilerden hangisidir?**

- A) Der Arzt untersucht meinen Bauch.
- B) Mein Bauch ist krank.
- C) Der Bauch tut mir weh.
- D) Ich muss meinen Bauch warm halten.

19. Das Spiel ist zu Ende, wenn alle Körperteile genannt werden.

**Welche Frage passt zur obigen Antwort?**

**Verilen cevabı gerektirecek soru aşağıdakilerden hangisidir?**

- A) Was machst du als Letztes?
- B) Wann ist das Spiel zu Ende?
- C) Wie endet der Film?
- D) Welchen Spaß hat man am Ende?

20. Der Arzt will deine Lunge ..... und deinen Puls .....

**Welche Wörter passen in die obigen Lücken?**

**Cümlede boş bırakılan yerleri aşağıdakilerden hangileri doğru şekilde tamamlar?**

- A) abhören / fühlen
- B) schauen / nehmen
- C) untersuchen / geben
- D) verstehen / gehen

1. My uncle Emre sometimes ..... us nice presents on our birthdays.

Which of the following completes the sentence above?

Aşağıdakilerden hangisi yukarıdaki cümleyi doğru olarak tamamlar?

- A) bring
- B) brings
- C) is bringing
- D) has brought

2. Enver: Would you like to ..... some coffee?  
Nesrin: Yes, please.

Which of the following completes the dialogue above?

Aşağıdakilerden hangisi yukarıdaki konuşmayı doğru olarak tamamlar?

- A) see
- B) eat
- C) drink
- D) bring

3. A mechanic is someone who .....

Which of the following completes the sentence above?

Aşağıdakilerden hangisi yukarıdaki cümleyi doğru olarak tamamlar?

- A) plays an instrumen
- B) looks after patients
- C) sells meats
- D) repairs cars

4.



The house is ..... the trees.

Which of the following completes the sentence above?

Aşağıdakilerden hangisi yukarıdaki cümleyi resme göre doğru olarak tamamlar?

- A) in front of
- B) on
- C) in
- D) between

5. Serpil: Are the students ..... an exam now?  
Berna: Yes, they are.

Which of the following completes the dialogue above?

Aşağıdakilerden hangisi yukarıdaki konuşmayı doğru olarak tamamlar?

- A) have
- B) having
- C) has
- D) had

6. Our History teacher never makes mistakes. He is very .....

Which of the following completes the sentence above?

Aşağıdakilerden hangisi yukarıdaki cümleyi doğru olarak tamamlar?

- A) careful
- B) careless
- C) happy
- D) angry

7. I clean my room once a week.

**Which of the following is the Turkish translation of the sentence above?**

**Aşağıdakilerden hangisi yukarıdaki cümlelerin Türkçe karşılığıdır?**

- A) Odamı haftada bir kez temizlerim.  
B) Odamı haftada iki kez temizlerim.  
C) Odamı haftada iki kez temizledim.  
D) Odamı haftada bir kez temizleyeceğim.

8. Dilek: Hello, can you tell me ..... , please?  
Bülent: It's half past nine.

**Which of the following completes the dialogue above?**

**Aşağıdakilerden hangisi yukarıdaki konuşmayı doğru olarak tamamlar?**

- A) an animal  
B) post office  
C) some food  
D) the time

9. This is Hülya. These are ..... notebooks on the desk.

**Which of the following completes the sentence above?**

**Aşağıdakilerden hangisi yukarıdaki cümleyi doğru olarak tamamlar?**

- A) his  
B) her  
C) their  
D) our

10. Uğur: What time does your school ..... on weekdays?  
Özkan: At 7.30.

**Which of the following completes the dialogue above?**

**Aşağıdakilerden hangisi yukarıdaki konuşmayı doğru olarak tamamlar?**

- A) starts  
B) started  
C) start  
D) starting

11. Does İbrahim ..... to have a new mobile phone?

**Which of the following completes the sentence above?**

**Aşağıdakilerden hangisi yukarıdaki cümleyi doğru olarak tamamlar?**

- A) want  
B) wants  
C) wanted  
D) wanting

- 12.



There is ..... big tiger in the picture.

**Which of the following completes the sentence above?**

**Aşağıdakilerden hangisi yukarıdaki cümleyi resme göre doğru olarak tamamlar?**

- A) much  
B) many  
C) a  
D) two

13. Ayhan: Do you have ..... eggs for the cake?

Uğur: No, we don't. I will buy ..... eggs at the supermarket.

**Which of the following completes the dialogue above?**

**Aşağıdakilerden hangisi yukarıdaki konuşmayı doğru olarak tamamlar?**

- A) some/ any  
B) any/any  
C) much/some  
D) any/some

14. A: Hello. I am Dilek. How old are you?  
B: Hello, my name is İlker. I .....

Which of the following completes the dialogue above?

Aşağıdakilerden hangisi yukarıdaki konuşmayı doğru olarak tamamlar?

- A) am fine, thanks  
B) am not very well  
C) am a student  
D) am 12 years old

15. There are ..... notebooks on the shelf.

Which of the following completes the sentence above?

Aşağıdakilerden hangisi yukarıdaki cümleyi doğru olarak tamamlar?

- A) any  
B) some  
C) a little  
D) a

16. Şennur: What kind of music do you like most?  
Nurgül: I like ..... most.

Which of the following completes the dialogue above?

Aşağıdakilerden hangisi yukarıdaki konuşmayı doğru olarak tamamlar?

- A) documentaries  
B) rock music  
C) cats  
D) violin

17. Many people don't like studying Maths.

Which of the following is the Turkish translation of the sentence above?

Aşağıdakilerden hangisi yukarıdaki cümlenin Türkçe karşılığıdır?

- A) Pek çok insan matematik çalışmayı sever.  
B) Pek çok insan matematiksel işlemleri sever.  
C) Pek çok insan matematik çalışmayı sevmez.  
D) Hiç kimse matematik çalışmayı sevmez.

18. There is ..... new music shop in ..... city centre.

Which of the following completes the sentence above?

Aşağıdakilerden hangisi yukarıdaki cümleyi doğru olarak tamamlar?

- A) an/an  
B) an/a  
C) a/the  
D) the/a

19. Aslı: How often do you brush your teeth a day?  
Belgin: I brush my teeth .....

Which of the following completes the dialogue above?

Aşağıdakilerden hangisi yukarıdaki konuşmayı doğru olarak tamamlar?

- A) twice a day  
B) last May  
C) yesterday  
D) last year

20. Mount Everest is ..... than Mount Kartalkaya.

Which of the following completes the sentence above?

Aşağıdakilerden hangisi yukarıdaki cümleyi doğru olarak tamamlar?

- A) higher  
B) highest  
C) longer  
D) longest

## SEÇMELİ FRANSIZCA 7

A

2013 II.DÖNEM 0106-A

1. Je voudrais payer ..... espèces.

Choisissez le mot qui convient.

Cümledeki boşluğu aşağıdakilerden hangisi doğru şekilde tamamlar?

- A) par  
B) en  
C) dans  
D) pour

2. Elle est contente ..... tous ses professeurs.

Choisissez le mot qui convient.

Cümledeki boşluğu aşağıdakilerden hangisi doğru şekilde tamamlar?

- A) chez  
B) chaque  
C) de  
D) personne

3. Nous allons à l'école ..... métro.

Choisissez le mot qui convient.

Cümledeki boşluğu aşağıdakilerden hangisi doğru şekilde tamamlar?

- A) en  
B) par  
C) dans  
D) au

4. Selim ..... à l'office du tourisme.

Choisissez le mot qui convient.

Cümledeki boşluğu aşağıdakilerden hangisi doğru şekilde tamamlar?

- A) a  
B) est  
C) une  
D) sa

5. Il est un ..... étudiant.

Choisissez le mot qui convient.

Cümledeki boşluğu aşağıdakilerden hangisi doğru şekilde tamamlar?

- A) bon  
B) bien  
C) mieux  
D) meilleur

6. Hier soir, ..... trop chaud.

Choisissez l'expression qui convient.

Cümledeki boşluğu aşağıdakilerden hangisi doğru şekilde tamamlar?

- A) il y avait  
B) combien  
C) il faisait  
D) je préfère

7. .... du sport pour être en bonne santé.

Choisissez le mot qui convient.

Cümledeki boşluğu aşağıdakilerden hangisi doğru şekilde tamamlar?

- A) Payez  
B) Faites  
C) Soyez  
D) Ouvrez

8. Mon père ..... 75 ans.

Choisissez le mot qui convient.

Cümledeki boşluğu aşağıdakilerden hangisi doğru şekilde tamamlar?

- A) est  
B) ont  
C) as  
D) a

9. Qu'est-ce que vous voulez boire?

Choisissez la traduction qui convient.

Yukarıdaki cümlelerin Türkçe karşılığı aşağıdakilerden hangisidir?

- A) Ne içmek istersiniz?  
B) Bir şey alır mısınız?  
C) İçecek olarak ne alırsınız?  
D) İçecek ister misiniz?

10. - Hier soir, vous ..... mangé à quelle heure?  
- À dix-neuf heures.

Choisissez le mot qui convient.

Yukarıdaki konuşmada boş bırakılan yeri aşağıdakilerden hangisi doğru şekilde tamamlar?

- A) a  
B) ont  
C) êtes  
D) avez

11. Le magasin ouvre ..... ?

Choisissez le mot qui convient.

Cümledeki boşluğu aşağıdakilerden hangisi doğru şekilde tamamlar?

- A) combien
- B) quand
- C) en espèces
- D) devant

12. pas / d'alcool / beaucoup / prenez / ne  
I II III IV V

Mettez dans le bon ordre.

Yukarıdaki kelimelerin anlamlı bir bütün oluşturan sırası aşağıdakilerin hangisinde doğru olarak verilmiştir?

- A) V, IV, I, III, II
- B) V, IV, III, II, I
- C) IV, V, I, II, III
- D) IV, III, II, V, I

13. Il sont invités ..... qui?

Choisissez le mot qui convient.

Cümledeki boşluğu aşağıdakilerden hangisi doğru şekilde tamamlar?

- A) où
- B) comment
- C) quand
- D) chez

14. Je n'ai rien compris.

Choisissez la traduction qui convient.

Yukarıdaki cümlelerin Türkçe karşılığı aşağıdakilerden hangisidir?

- A) Hiçbirini tanımıyorum.
- B) Hiç zamanım yok.
- C) Hiçbir şey anlamadım.
- D) Hiçbir şey söylemedim.

15. - .....  
- Ça fait trente euros.

Choisissez la question qui convient.

Yukarıdaki konuşmada cevabı gerektiren soru aşağıdakilerden hangisidir?

- A) Tu pars à quelle heure?
- B) Tu as quel âge?
- C) Ça vous intéresse?
- D) Ça coûte combien?

16. Elle ne prend ..... le train, elle préfère le bus.

Choisissez le mot qui convient.

Cümledeki boşluğu aşağıdakilerden hangisi doğru şekilde tamamlar?

- A) rien
- B) jamais
- C) personne
- D) ni

17. Je pense ..... je suis.

Choisissez le mot qui convient.

Cümledeki boşluğu aşağıdakilerden hangisi doğru şekilde tamamlar?

- A) jamais
- B) rien
- C) trop
- D) donc

18. Elle est ..... de sa maison à sept heures du matin.

Choisissez le mot qui convient.

Cümledeki boşluğu aşağıdakilerden hangisi doğru şekilde tamamlar?

- A) sors
- B) sort
- C) sortie
- D) sortez

19. On est ouvert du lundi ..... vendredi.

Choisissez le mot qui convient.

Cümledeki boşluğu aşağıdakilerden hangisi doğru şekilde tamamlar?

- A) au
- B) dans
- C) la
- D) en

20. I. Il faisait nuit.  
II. Tout d'un coup, j'entendais un bruit.  
III. J'ai fini mes devoirs.  
IV. J'avais très peur.

Chosissez la phrase qui ne convient pas à l'ensemble.

Sırasıyla okunduğunda anlam bütünlüğünü bozan cümle aşağıdakilerden hangisidir?

- A) I
- B) II
- C) III
- D) IV

## SINAVDA UYGULANACAK KURALLAR

1. Sınav süresince görevlilerle konuşmak ve soru sormak yasaktır. Aynı şekilde görevlilerin de öğrencilerle yakından ve alçak sesle konuşmaları yasaktır. Yanınızda ve sıranızda dersle ilgili kitap not vb. bulundurmamak yasaktır. Sınav sırasında kopya yapan, yapmaya teşebbüs eden, kopya veren, kopya yapılmasına yardım edenlerin kimlikleri BİREYSEL SINAV İPTAL TUTANAĞINA yazılacak ve bu öğrencilerin sınavları geçersiz sayılacaktır. Görevliler kopya yapmaya veya vermeye kalkışanları uyarmak zorunda değildir, sorumluluk size aittir.  
Sınavda yetki verilmiş görevliler, bu salondaki sınavın kurallara uygun biçimde yapılmadığını, toplu kopya girişiminde bulunulduğunu raporlarında bildirdikleri veya üniversite sınav merkezince yapılan incelemeler sonucu toplu kopya yapıldığı saptandığı takdirde, Anadolu Üniversitesinin yetkili organları bu salonda sınava giren öğrencilerin tümünün sınavını geçersiz sayar.
2. Öğrenciler sınav sırasında görevlilerin her türlü uyarılarına uymak zorundadır. Gerekliğinde görevliler oturduğunuz yerleri değiştirebilir. Sınavınızın geçerli sayılması, her şeyden önce sınav kurallarına uymanıza bağlıdır. Kurallara aykırı davranışta bulunanların ve yapılacak uyarılara uymayanların kimlikleri BİREYSEL SINAV İPTAL TUTANAĞINA yazılacak ve sınavları geçersiz sayılacaktır.
3. Sınav sırasında herhangi bir nedenle dışarı çıkmak yasaktır. Sınavın başlamasını izleyen ilk 30 dakika ve sınav süresinin son 5 dakikası içinde, sınavlarını tamamlasalar bile hiçbir öğrencinin salondan çıkmasına izin verilmeyecektir. Sınavın başlamasını izleyen ilk 15 dakikadan sonra hiç bir öğrenci sınava alınamaz.
4. Biraz sonra soru kitapçıkları dağıtılacaktır. Cevaplamaya geçmeden önce size verilecek soru kitapçığının üzerinde ayrılan yere, adınızı, soyadınızı, öğrenci numaranızı ve bu salonun numarasını yazınız. Sınav sonunda soru kitapçıkları toplanacak ve sınav merkezinde tek tek incelenecektir. Soru Kitapçığının bir tek sayfası eksik çıksa bile sınavınız geçersiz sayılacaktır.
5. Size verilen Cevap Kâğıdının üzerinde yazan numara ve ismin size ait olduğunu kontrol ediniz. Cevap Kâğıdı size ait değilse, görevlileri uyarıp size ait Cevap Kâğıdını alınız. Daha sonra Cevap Kâğıdı üzerinde ayrılmış olan yerlere öğrenci numaranızı ve test grubunuzu kodlayınız, adınızı soyadınızı yazınız ve ilgili yeri imzalayınız.
6. Cevap Kâğıdına yazılacak her türlü yazı, rakam ve yapılacak işaretlemeler için siyah kurşun kalem kullanılacaktır. Tükenmez kalem veya dolmakalem kesinlikle kullanılmayacaktır. Cevapların tümü CEVAP KÂĞIDINA İŞARETLENECEKTİR. Soru Kitapçıkları üzerine yapılan işaretlemeler kesinlikle değerlendirilmez. Her dersin cevabı, o dersin isminin yazılı olduğu sütuna işaretlenmelidir. Yanlış sütuna yapacağınız işaretlemeler kesinlikle değerlendirilmez.
7. Soru Kitapçığının sayfalarındaki boş yerleri müsvedde yapmak için kullanabilirsiniz. Başka bir kâğıdı müsvedde olarak kullanmak yasaktır. Bu tür işlemleri yapanların sınavları geçersiz sayılır.
8. Öğrencilerin sorulara verdikleri yanıtları herhangi bir yere yazmaları ve bunu sınav salonundan dışarıya çıkarmaları yasaktır. Bu kurala uymayanların sınavları geçersiz sayılır.
9. Sınav sırasında öğrencilerin birbirinden kalem, silgi vb. şeyleri istemesi kesinlikle yasaktır. Yasağa uymayanların sınavı geçersiz sayılır.
10. Sınav sırasında hesap makinesi kullanılabilir. Ancak, hesap makinesinin sınav sırasında ödünç alınması, verilmesi ve değiştirilmesi yasaktır. (Data Bank vb. gibi özel elektronik donanımlar kullanılamaz.) Bu tür davranışlarda bulunanların sınavları geçersiz sayılır.
11. Öğrenciler sınava gelirken telsiz, cep telefonu, çağrı cihazı vb. iletişim araçları ile görüntü kaydetmeye yarayan fotoğraf makinesi, kamera vb. araçları getirmemeleri konusunda sınava giriş belgelerinde uyarılmışlardır. Buna rağmen yanlarında bu tür cihazları getirenlerin, bunları sınav sonrasında almak üzere salon başkanına teslim etmeleri gerekir. Bu cihazları sınav salonunda yanlarında bulunduran öğrencilerin, cihazları kapalı bile olsa, o oturdaki sınavı geçersiz sayılacaktır. Bu cihazların kaybolmasından Üniversitemiz sorumlu olmayacaktır.
12. Biraz sonra dağıtılacak olan soru kitapçığında test ile ilgili açıklamalar yazılıdır. Bu açıklamaları okumadan ve size "SINAV BAŞLAMISHTIR" denmeden soruları cevaplamaya başlamayınız.

**SINAVLARINIZDA BAŞARILAR DİLERİZ.**